

Aula 00

CBM-SE (Soldado) Química

Autor:

Diego Souza

19 de Janeiro de 2023

Índice

1) Noções iniciais sobre química - Teoria	4
2) Noções iniciais sobre química - Questões Comentadas CEBRASPE	29
3) Noções iniciais sobre química - Questões Comentadas Idecap	33
4) Noções iniciais sobre química - Questões Comentadas FGV	38
5) Noções iniciais sobre química - Questões Comentadas Vunesp	42
6) Noções iniciais sobre química - Questões Comentadas - Instituto AOCB	46
7) Noções iniciais sobre química - Questões Comentadas	48
8) Noções iniciais sobre química - Lista de Questões CEBRASPE	57
9) Noções iniciais sobre química - Lista de Questões Idecap	60
10) Noções iniciais sobre química - Lista de Questões FGV	63
11) Noções iniciais sobre química - Lista de Questões Vunesp	66
12) Noções iniciais sobre química - Lista de Questões Instituto AOCB	69
13) Noções iniciais sobre química - Lista de Questões	71
14) Aspectos quantitativos das transformações - Teoria	77
15) Aspectos quantitativos das transformações - Questões Comentadas - CEBRASPE	103
16) Aspectos quantitativos das transformações - Questões comentadas - FGV	109
17) Aspectos quantitativos das transformações - Questões Comentadas Vunesp	116
18) Aspectos quantitativos das transformações - Questões Comentadas - AOCB	121
19) Aspectos quantitativos das transformações - Questões Comentadas Idecap	126
20) Aspectos quantitativos das transformações - Questões comentadas - Multibancas	129
21) Aspectos quantitativos das transformações - Lista de questões - FGV	146
22) Aspectos quantitativos das transformações - Lista de Questões - CEBRASPE	150
23) Aspectos quantitativos das transformações - Lista de Questões Vunesp	153
24) Aspectos quantitativos das transformações - Lista de questões - AOCB	156
25) Aspectos quantitativos das transformações - Lista de Questões Idecap	160
26) Aspectos quantitativos das transformações - Lista de questões - Multibancas - R	163
27) Classificação das Reações - Teoria	172
28) Classificação das reações - Questões comentadas - FGV	177



Índice

29) Classificação das Reações - Questões Comentadas CEBRASPE	180
30) Classificação das Reações - Questões Comentadas Vunesp	183
31) Classificação das Reações - Questões Comentadas Instituto AOCP	184
32) Classificação das reações - Questões comentadas - Multibancas	185
33) Classificação das reações - Lista de questões - FGV	195
34) Classificação das Reações - Lista de Questões CEBRASPE	198
35) Classificação das Reações - Lista de Questões Vunesp	201
36) Classificação das Reações - Lista de Questões Instituto AOCP	203
37) Classificação das Reações - Lista de Questões	205



INTRODUÇÃO À QUÍMICA – NOÇÕES DE QUÍMICA

Considerações Iniciais

Nesta aula, vamos dar início ao estudo da **QUÍMICA**. Hoje vamos apresentar seus conceitos bem iniciais, fazendo uma rápida introdução à disciplina, falando sobre transformações da matéria e outros aspectos relacionados como evidências dessas transformações, diferenciação de fenômenos químicos e físicos, classificação de reações e alguns aspectos quantitativos relacionados.

Sem mais demora, vamos dar início ao que interessa: conteúdo. Desejo-lhe uma boa aula e lembre-se de me procurar caso fique com alguma dúvida.

Bons estudos! Forte abraço!

Noções iniciais de Química

Química, evolução do homem e cotidiano

Entendo que, antes de adentrarmos no conteúdo propriamente dito, você precisa enxergar como a química ajudou na evolução da sociedade e como ela está presente em praticamente todo nosso cotidiano. Por isso, esse primeiro capítulo será dedicado a essas noções iniciais, tornando a química mais palpável para você. Vamos lá?!



Antes de iniciar a leitura dessa aula, você talvez tenha dado uma espiadinha no WhatsApp, não foi? Pois é, naquele momento ocorreu uma **reação química** na bateria do seu *smartphone*, que **liberou energia** por meio de passagem elétrica pelo circuito do aparelho. Essa energia foi utilizada para acender o visor do seu aparelho e também processar os dados (informações) que você leu. Ocorreu, portanto, a transformação de **energia química** em **energia elétrica**. No final do dia, sua bateria já está quase totalmente descarregada, você pluga seu *smartphone* à rede elétrica por meio de um carregador e se inicia o **caminho inverso da reação química**, no qual se utiliza a energia elétrica para carregar a bateria, ou seja, produzir energia química. Pilhas e baterias são dispositivos muito presentes em nosso dia a dia, não é mesmo? Agora mesmo, enquanto digito, estou de olho no nível de bateria do meu notebook.





No exemplo acima, os iniciantes em química podem ter se deparado com vários conceitos ainda novos: **reação química**, **liberação de energia**, **energia química** e **energia elétrica**. Não se preocupe, você estará familiarizado com todos esses conceitos ao final desta aula.


Do atrito entre duas pedras chispam faíscas e, assim, o homem pode ter aprendido a produzir o fogo, que até então só ocorria de forma natural por meio de raios. A produção do fogo foi uma das maiores revoluções já realizadas, não pelo invento em si, mas pelas suas consequências [eu diria benéficas] para o homem. De início, podemos lembrar que o fogo iluminava às noites escuras e espantavam animais grandes. Além disso, o cozimento dos alimentos não só melhorava os sabores dos alimentos como também ajudava em sua preservação. Isto é, alimentos perecíveis como carnes passaram a durar mais tempo armazenados. Só essas vantagens já configurariam uma revolução produzida pelo uso do fogo controlado, já que estamos falando de 7 mil anos a.C., época dos *Homo erectus*, ancestral do *Homo sapiens*.

Mas as consequências do fogo para o homem foram muito além, muito mesmo! Durante o cozimento de um alimento, estão envolvidas várias reações. Uma delas é a transformação da madeira em cinzas, na qual também são liberados vapores para a atmosfera. Entretanto, nesse momento estou interessado em falar do cozimento do alimento propriamente dito, no qual ocorrem reações químicas no alimento, modificando-o quimicamente. Essa modificação melhora a digestibilidade do alimento, ou seja, o alimento é mais facilmente digerido¹ pelo sistema digestivo do homem, melhorando/facilitando a absorção da energia contida pelo nosso organismo. Você pode estar se perguntando: *Professor, mas porque essa maior digestibilidade dos alimentos foi tão revolucionária para a espécie humana?*

Nossas atividades diárias como andar, pegar peso, caçar (atividade típica de nossos ancestrais) e até mesmo pensar consomem energia, a qual é obtida pela alimentação, já que os alimentos contêm energia armazenada. Pois bem, estudos antropológicos demonstram que antes do cozimento dos alimentos, o homem precisava passar boa parte do seu dia mastigando alimentos em geral, já que a digestibilidade dos alimentos era ruim e, desta forma, aproveitava-se (absorvia-se) pouca energia dos mesmos. Após o início do cozimento dos alimentos, a digestibilidade dos alimentos melhorou e o homem passou a absorver com muito mais facilidade a energia contida nos alimentos. A consequência prática é que ele diminuiu drasticamente o tempo destinado à alimentação, podendo dedicar mais

¹ Nesta aula, entenda digestão do alimento como sendo a quebra de moléculas maiores em moléculas menores, a partir das quais o nosso organismo consegue extrair energia.

tempo a outras atividades importantes como pensar e desenvolver novas técnicas. Alguns antropólogos afirmam ainda que junto com o cozimento dos alimentos, o sistema digestivo do homem diminuiu, já que a absorção das calorias dos alimentos foi facilitada, e houve um aumento da massa encefálica (aumento do cérebro). Desta forma, menos energia era destinada a digestão de alimentos e mais energia passou a ser destinada ao raciocínio. De certo, essa consequência, em decorrência do uso controlado do fogo, permitiu ao homem um desenvolvimento tecnológico muito mais rápido por meio do raciocínio.



O uso do fogo também permitiu ao homem a produção de cerâmica a partir de utensílios de barro e a obtenção de metais como cobre e estanho a partir do aquecimento de minérios (rochas), metais esses que quando combinados originam o bronze. A análise do uso do fogo demonstra como a química sempre esteve presente e acompanhou e colaborou para evolução humana. O próprio fogo é resultado de uma reação química de combustão (queima) de um combustível (madeira, capim seco, gasolina, etc), que libera energia na forma de calor.

Esse aproveitamento energético de combustíveis como carvão e petróleo foi o que permitiu, por exemplo, a 1ª e 2ª revoluções industriais. Na 1ª, houve a substituição de métodos artesanais de produção por máquinas. O carvão era queimado e o calor liberado, utilizado para transformar água líquida em vapor de água, o qual era utilizado para mover as engrenagens, mas máquinas produzidas em ferro. Já a 2ª Revolução Industrial foi marcada pela substituição de carvão por petróleo. Essa revolução industrial foi acompanhada de grandes inventos (avião, refrigeração, industrialização de alimentos, produção em massa de produtos e telefone), viabilizados, quase sempre, pelo maior aproveitamento energético que a utilização do petróleo como combustível permitiu. Vale lembrar que a indústria realiza a modificação de matérias primas, em geral, por meio de reações químicas, para obter seus produtos. Além disso, muito do desenvolvimento da indústria farmacêutica se deu por meio da descoberta ou da síntese de novas substâncias químicas.



edition.cnn.com (2018)

Plataforma de petróleo atual



www.noticiasdotrecho.com.br (2018)

Indústria química

Já deve estar claro para você como a química, as reações químicas e os processos químicos estiveram diretamente relacionados ao caminho percorrido pelo homem até a sociedade moderna, não é mesmo? No início desta seção, falei como *Whatsapp* e química se relacionam. Retomando essa vertente, listo na tabela alguns exemplos de como a química está presente em nosso cotidiano. Lembre-se, a tabela abaixo é apenas exemplificativa e não exaustiva, já que seria inviável mencionar todas as possibilidades de se visualizar a química no cotidiano.

Área	Exemplos
Combustíveis	A combustão (queima) de combustíveis é uma reação química que libera energia na forma de calor. Nessa área, podemos lembrar que por meio de processos químicos é possível aumentar a produção de gasolina a partir de uma mesma quantidade de petróleo. Em outro exemplo, temos que a produção do biodiesel se dá a partir de uma reação denominada transesterificação entre um álcool e um éster.
Agricultura	Solos com intensa atividade agrícola podem apresentar esgotamento de nutrientes e, além disso, há tipos de solos que naturalmente são pobres em determinados nutrientes. Nesses casos, utiliza-se fertilizantes (conjunto de substâncias químicas), que têm a função de reequilibrar a quantidade de nutrientes do solo, permitindo novas plantações e produções de alimentos.
Saúde	De início, podemos lembrar da produção de medicamentos que está envolvida em reações e processos químicos. Além disso, toda a parte de insumos para saúde (luvas, equipamentos, seringas, produtos para desinfecção hospitalar, etc) são decorrentes de processos químicos industriais.
Fermentação	Algumas reações químicas da indústria ocorrem sob a ação de bactérias e recebem o nome de fermentação. Dessas reações, temos produtos como pães, cervejas, iogurtes e vinagres.
Metalurgia	Os metais são obtidos dos minérios (rochas), mas, para sair dessa matéria até o produto final (metais e ligas metálicas), são necessários processos químicos e físicos, ramo chamado de metalurgia.
<p><u>Outros exemplos:</u> uso de reagentes químicos no tratamento de água e efluente (esgoto), indústrias químicas em geral (papel, alimentos, pigmentos, vidros, polímeros, cosmético, produtos de limpeza), vestuário (utilização de fibras sintéticas), etc.</p>	

Nós mesmos utilizamos várias substâncias químicas em nosso cotidiano. Usamos o sal de cozinha (cloreto de sódio) para temperar alimentos. Ingerindo bebidas alcoólicas que contém álcool (etanol ou álcool etílico) [ingestão permitida apenas para maiores de 18 anos]. A acetona (propanona) é muito utilizada para remoção de esmaltes de unhas. Quando eu morava com minha mãe, embora eu fosse o químico da residência, era ela que produzia sabão a partir de óleo de cozinha usado e soda cáustica (hidróxido de sódio). Por fim, lembro do exemplo do vinagre, muito utilizado em saladas, o qual apresenta em sua constituição o ácido acético.



Acredito que você já esteja enxergando como a química se relacionou com a evolução da humanidade e como ela se faz tão presente em nosso dia a dia. No entanto, caso este seja um dos seus primeiros contatos com a disciplina química, então você estará com vários pontos de interrogação em mente:

- O que seria a Química?
- O que são substâncias químicas?
- O que são reações químicas?
- O que é energia?
- Qual a diferença de energia química e energia elétrica?

Ao final desta aula, não poderei deixá-lo com nenhuma dessas dúvidas. Então, vamos começar a respondê-las.

Química, matéria, composição, átomos e moléculas

Chegou a hora de deixarmos mais claro muitos conceitos que foram citados na seção anterior e que são fundamentais para o estudo dos diferentes ramos da química. Começo apresentando um conceito de química abaixo. Diferentes autores e sites trazem conceitos ligeiramente diferentes, mas que dizem o mesmo.

***Química** é a ciência que estuda a matéria, avaliando suas propriedades, composição e estrutura. Além disso, a química avalia as transformações sofridas pela matéria e o fluxo (movimento) de energia envolvida nesses processos.*

Nada de se desesperar e decorar os conceitos apresentados nessa seção. O mais produtivo para sua prova é compreendê-los. Então é isso que vamos fazer. Do conceito de química, aparecem novos termos que ainda não foram definidos ou explicados como **matéria, composição química, transformações químicas e energia**. Vamos entendê-los.

Em química, **matéria** é tudo que apresenta massa e volume, ocupando, portanto, um lugar no espaço. Exemplos: um pedaço de madeira, areia, certa quantidade de sal de cozinha (cloreto de sódio), certa quantidade de água e tecidos vivos como o corpo humano.

O que diferencia um pedaço de madeira de um punhado de areia? De certo é a **composição química** que é bem diferente. A composição química de uma madeira extraída de um determinado tipo de árvore será ligeiramente diferente daquela extraída de outro tipo de árvore. Observe a figura abaixo em que três tipos de solos são colocados lado a lado. Note o quanto as colorações desses três solos são diferentes, o que se deve às suas diferentes composições químicas. Por outro lado, solos de um mesmo tipo tendem a apresentar composição química parecida.





Três tipos de solo dispostos paralelamente para evidenciar a diferença de coloração que é decorrente de suas composições químicas divergentes.

A partir dos exemplos acima, notamos como a **composição química** é importante para diferenciar os diferentes materiais (matéria). Mas o que seria essa tal composição química?... Pessoal, aqui vou divergir do normalmente adotado em livros e já vou introduzir o conceito de átomo, elemento químico e moléculas. A ideia não é esgotar esses conceitos aqui, pois teremos outras aulas para discuti-los melhor. Vamos apenas introduzi-los para melhorar a compreensão sobre composição química e reações.



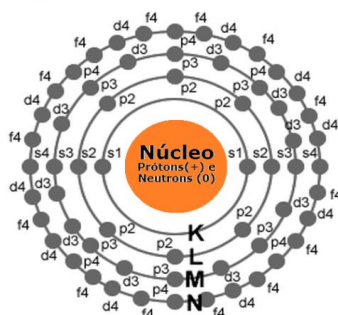
Átomo é a unidade fundamental da matéria. A grosso modo, podemos pensar que, se formos dividindo a matéria, chegará a um ponto que não se pode dividir mais e, então, teremos o átomo. Hoje sabemos que existem várias partículas subatômicas (menores que o átomo e que estão contidas nele), sendo as principais: prótons, elétrons e nêutrons. Entretanto, átomo continua sendo a unidade fundamental da matéria, por preservar características comuns aos outros átomos do mesmo tipo, o que os distingue dos outros tipos de átomos.

Estrutura do átomo (representada na figura abaixo): o átomo apresenta um núcleo positivo que é constituído de partículas positivas (prótons) e partículas neutras (nêutrons). Os elétrons (partículas negativas) estão em constante movimento na eletrosfera (região em torno do núcleo). Esses elétrons estão situados em subníveis eletrônicos (s, p, d e f) de camadas (níveis) eletrônicas denominadas K, L, M, N, O, P e Q. A estabilização dos átomos é possível pela contraposição de forças de repulsão e atração. As forças de repulsão ocorrem entre partículas de mesmo sinal (elétron-elétron ou próton-próton) e as de atração entre partículas de sinais diferentes (prótons e elétrons). Hoje, sabe-se que a eletrosfera não é composta por órbitas circulares em torno do núcleo, parecendo o sistema solar, mas, para a aula de hoje, esse modelo é suficiente e mais didático. Vale lembrar que o átomo é eletricamente neutro, ou seja, a quantidade de cargas positivas é igual à quantidade de cargas negativas (número de prótons é igual ao de elétrons). Quando há



uma variação na quantidade de elétrons essa igualdade chega ao fim e forma-se um novo sistema eletricamente carregado, ao qual damos o nome de **íons**.

Representação geral do átomo



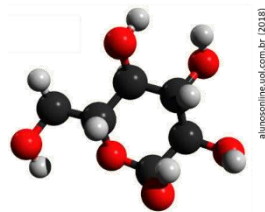
Elemento químico: conjunto de átomos que apresentam o mesmo número de prótons (número atômico). Desta forma, o átomo de um elemento químico é diferente do átomo de outro elemento. Por exemplo, o elemento Ferro apresenta átomos com número atômico 26, os quais são diferentes dos átomos do elemento cobre que apresenta 29 prótons. Como é intuitivo pensar, diferentes elementos químicos apresentam propriedades físicas e químicas diferentes, tais como raio atômico, peso atômico, coloração, dureza e capacidade de conduzir eletricidade. Vale lembrar que a tabela periódica apresenta os vários elementos existentes, sendo a maioria é encontrada na natureza e alguns outros criados artificialmente.

Molécula: formada pela combinação de, em geral, pelo menos, dois átomos, que podem ser de um mesmo elemento ou elementos diferentes. **Cuidado!** Há molécula monoatômica, que é o caso dos gases nobres que, por apresentarem alta estabilidade sozinhos, apresentam-se na natureza na forma de átomos isolados, ex: hélio (He), argônio (Ar), xenônio (Xe), criptônio (Kr) e radônio (Rn). Em geral, é a menor estrutura que guarda as propriedades de uma **substância pura**. Por exemplo: dois átomos de hidrogênio (H) combinam para formar uma molécula de hidrogênio (H₂). Já na molécula de água (H₂O), dois átomos de hidrogênio se ligam ao átomo de oxigênio, ou seja, temos uma molécula formada por elementos diferentes. Nesse sentido, outro exemplo é a molécula de glicose (um tipo de açúcar) C₆H₁₂O₆, que é formada por 6 átomos de carbono (C), 12 de hidrogênio e 6 de oxigênio (O).

Substância: é um material com propriedades conhecidas, definidas e que praticamente não sofrem variação a temperatura e pressão constante. Seguindo essa linha de pensamento, podemos concluir que cada substância apresenta propriedades específicas. Isto é, **substâncias diferentes jamais apresentaram as mesmas propriedades específicas**.

Vale lembrar que, quando mencionamos apenas substância, subentende-se que estamos nos referindo a uma substância pura. Cabe aqui outra consideração, agora sobre os átomos. Embora não possamos dizer que o átomo é uma esfera perfeita, considerá-lo como tal é muito útil para, a partir de modelos moleculares, entendermos a disposição espacial dos átomos em uma molécula. Veja no modelo molecular abaixo como se ligam e se organizam os átomos de uma molécula de glicose (C₆H₁₂O₆), em que as esferas pretas representam os carbonos; as vermelhas, os oxigênios; e as cinza, os hidrogênios.





Após os conceitos trazidos em destaque acima, fica fácil visualizar que a matéria é composta por átomos e moléculas. Uma **substância pura**, por ex: álcool etílico, pode ser composta por apenas uma molécula. Já em outros tipos de materiais, a exemplo do solo, há moléculas diversas e vários elementos químicos e por isso o solo não composto de uma única substância, mas sim de uma **mistura**. E é justamente pela presença de diferentes elementos e também em diferentes proporções que se encontra solos com colorações tão distintas. Sendo assim, podemos dizer que a **composição química** de um material corresponde aos elementos químicos e às moléculas acompanhadas de suas respectivas proporções. Por exemplo, o ouro (Au) 22 quilates é constituído de 91,6% de ouro e os 8,4% restantes corresponde a outros metais; ao passo que o ouro 18 quilates é constituído de apenas 75% de ouro. Note que, mesmo que estejam presentes os mesmos elementos, o ouro 22 quilates e o 18 quilates apresentam composição química diferente, pois a proporção dos diferentes átomos é diferente.

Observando a matéria ao nosso redor, notamos que ela pode se apresentar no **estado físico sólido** (ex: pedaço de madeira); no estado físico **líquido** (ex: água); e no estado físico **gasoso** (ex: ar que respiramos, composto por vários gases, dentre eles o nitrogênio e o oxigênio). Conforme já discutido, a matéria, independente do seu estado físico, pode se transformar ou ser transformada em novos materiais, que é, inclusive, o princípio básico da atividade industrial. A indústria metalúrgica, por exemplo, utiliza minérios (matéria prima) para obter metais que serão destinados às mais diversas aplicações. Por isso, vamos agora conceituar e entender melhor o que é a transformação da matéria.

Agora que entendemos o que é substância, vamos explorar suas subdivisões. Uma substância pode ser classificada como **simples** ou **composta**.



Substâncias simples são constituídas somente por átomos de um mesmo elemento químico. O oxigênio (O_2), por exemplo, é uma substância simples, pois é composto por dois átomos de oxigênio. Vale lembrar que podemos ter substâncias simples que são monoatômica (formada por um único átomo), ou seja, apresentam-se como átomos isolados, a exemplo dos gases nobres. Se pensarmos nos átomos como sendo esferas, o desenho abaixo representa uma substância simples formada por dois átomos iguais.



Substâncias compostas são constituídas por átomos de diferentes elementos químicos. A água (H_2O), por exemplo, é uma substância composta, pois é formada dois átomos de hidrogênio e um de oxigênio. Abaixo temos a representação de uma substância composta, formada por dois átomos de um elemento (cor amarela) e um átomo de outro elemento (cor vermelha)



Tranquilo esse entendimento, não é mesmo?! Agora que você entendeu o que são substâncias, fica fácil entender o que são misturas.

Misturas consistem na combinação de duas ou mais substâncias sem que haja alteração das moléculas ou íons que as compõem.

Com o perdão da redundância, **misturas** são obtidas pela mistura de pelo menos duas substâncias, **sem que haja reação química entre elas**, ou seja, sendo preservado a composição química de cada substância. Para ficar ainda mais claro, devemos lembrar que uma mistura pode ser separada nas substâncias químicas isoladas que a compõe.

Pela própria definição, podemos perceber que as misturas estão bastante presentes na nossa rotina. Por exemplo, na simples ação de adicionar açúcar na água para fazer aquele saboroso cafezinho da tarde, estamos preparando uma mistura.

Uma peculiaridade das misturas é que elas não apresentam as mesmas propriedades que as substâncias que as compõe. Quando misturamos água e cloreto de sódio (principal componente do sal de cozinha), por exemplo, essa mistura apresentará diferentes propriedades como densidade, ponto de fusão e ebulição do que a água e o cloreto de sódio. Por conta disso, nem todas as propriedades das misturas são bem definidas. Além disso, as propriedades de uma mistura, diferente de uma substância, podem variar a uma mesma pressão e temperatura.

Uma mistura pode ser classificada entre mistura **homogênea** e mistura **heterogênea**.



ESCLARECENDO!



Misturas homogêneas são formadas por uma única fase, ou seja, não se nota a olho nu diferenças visuais na mistura. Por exemplo, a mistura de água e açúcar. Após a dissolução do açúcar, só conseguimos visualizar a fase representada pela água.


Misturas heterogêneas são formadas por mais de uma fase, isto é, a olho nu podemos notar diferenças visuais na mistura. Por exemplo, a mistura de água e óleo. Esses dois compostos não se solubilizam e assim é possível observar as fases referente a água e ao óleo. Fique atento ao caso do leite, embora pareça uma mistura homogênea, com um pouco de ampliação da imagem, é possível perceber pequenas gotículas de óleo que não se misturam à solução aquosa do leite. Portanto, o leite é uma mistura heterogênea.

Vale reforçar que fase é cada porção visível do sistema. A presença de diferentes fases é notada pela descontinuidade do material, ou seja, é formada uma interface (divisão) entre as fases. Na mistura homogênea isso não ocorre, pois é como se estivéssemos observando uma substância pura, por exemplo, água e sal nos parece só água (figura da esquerda). Já em misturas heterogêneas, temos, necessariamente mais de uma fase e, por isso, podem ser classificadas em: **(i) bifásica** se apresentar duas fases (ex: água e óleo); **(ii) trifásica** se apresentar três fases (ex: granito que é a mistura de quartzo, feldspato e mica); e **(iii) polifásica** se apresentar mais de três fases.



www.123rf.com (2019)

Mistura homogênea: água e sal.



alunosonline.uol.com.br (2019)

Mistura heterogênea bifásica (sistema bifásica): água e óleo.



escolakids.uol.com.br (2019)

Mistura heterogênea trifásica (sistema trifásico): óleo, água e areia.

FIQUE ATENTO!

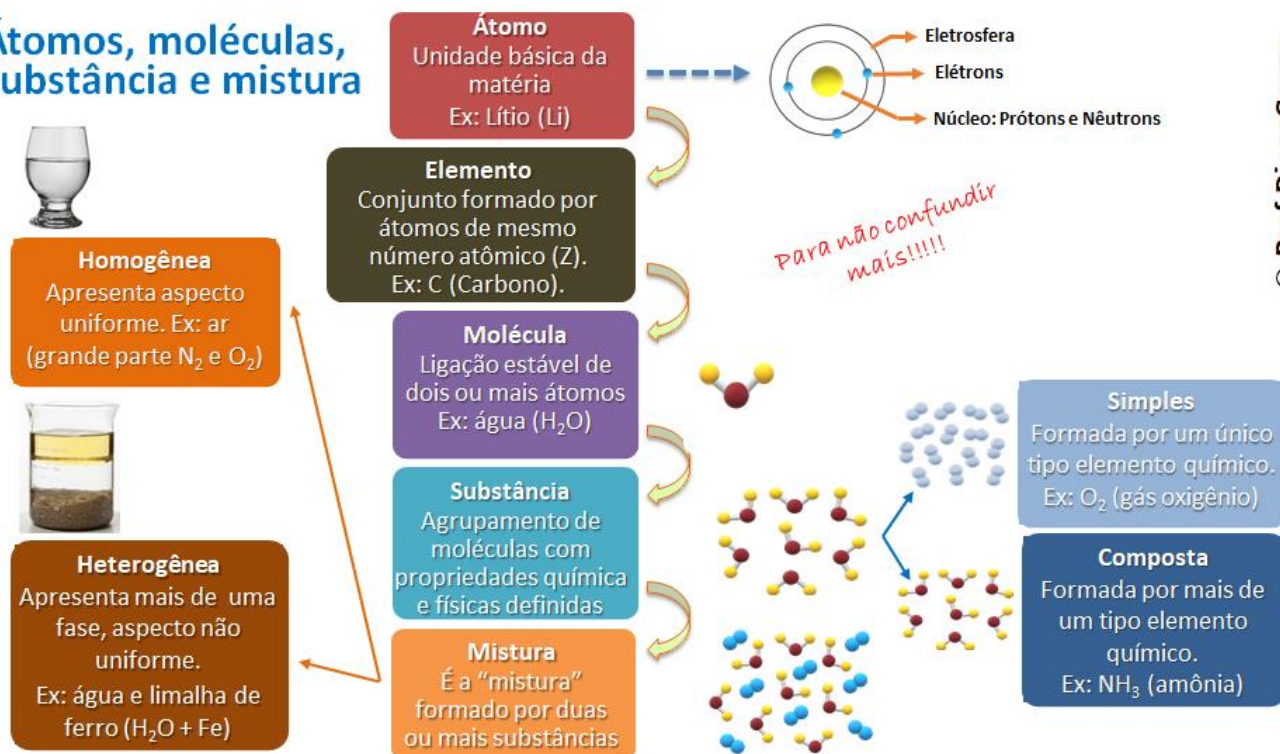


Cuidado com peguinhas! Em um copo com água líquida e água sólida (gelo), embora haja apenas uma substância, temos um sistema bifásico, já que os estados sólido e líquido constituem o sistema e, portanto, há uma interface de separação das duas fases presentes.



Você deve estar pensando, “que professor cruel”, em, já na primeira aula, introduzir tantos assuntos basilares da química: átomo, elemento químico, molécula, substância e misturas. É que precisamos ser objetivos para otimizar seu tempo de estudo. Mas, como colher de chá, preparei o mapa mental abaixo a partir do qual vocês poderão revisar todos esses conceitos de maneira sintética e completa. Lembre-se, mais importante que decorá-los, é compreendê-los.

Átomos, moléculas, substância e mistura



(Instituto Machado de Assis – Químico - Prefeitura Municipal de Fortaleza dos Nogueiras/MA) Sobre os diversos aspectos relacionados à química, observe os itens a seguir.

I. As substâncias são grupos de moléculas iguais. Cada molécula pode ser formada por um grupo de átomos de um mesmo elemento químico ou por elementos diferentes.

II. As reações químicas são alterações que ocorrem nas moléculas, na forma como estão constituídas, como seus átomos estão agrupados, dentre outros.

III. As moléculas podem ser constituídas por um ou mais átomos, podendo chegar a milhares, milhões ou até mais, que são as chamadas macromoléculas. As moléculas (e as macromoléculas) podem constituir agregados maiores, denominados complexos. Podem também constituir agregados ainda maiores, macroscópicos e altamente regulares, que são os cristais.



É correto o que se afirma em:

- (A) III
- (B) II e III
- (C) I e II
- (D) I, II e III

Comentários:


Afirmção I: correta. Apresenta as definições corretas. Relembrando, uma substância é um material com propriedades conhecidas, como a glicose ou o gás oxigênio, por exemplo. O primeiro é formado apenas por moléculas de $C_6H_{12}O_6$, composta por elementos diferentes, enquanto o segundo é formado apenas por moléculas de O_2 , composta pelo mesmo elemento químico.

Afirmção II: correta. As reações químicas são transformações na composição química da matéria. Logo, a afirmção está correta.

Afirmção III: correta. Apresenta a definição correta de macromoléculas. Algumas macromoléculas, como as proteínas, podem se juntar ao redor de um átomo metálico e formar os complexos proteicos. Quanto aos cristais, a definição também está correta, mas ressalto que os cristais covalentes são o tipo de cristal que a questão se refere.

Resposta: letra D

(UERJ - 2019) Novas tecnologias de embalagens visam a aumentar o prazo de validade dos alimentos, reduzindo sua deterioração e mantendo a qualidade do produto comercializado. Essas embalagens podem ser classificadas em Embalagens de Atmosfera Modificada Tradicionais (MAP) e Embalagens de Atmosfera Modificada em Equilíbrio (EMAP). As MAP são embalagens fechadas que podem utilizar em seu interior tanto gases como He, Ne, Ar e Kr, quanto composições de CO_2 e O_2 em proporções adequadas. As EMAP também podem utilizar uma atmosfera modificada formada por CO_2 e O_2 e apresentam microperfurações na sua superfície, conforme ilustrado abaixo.



Adaptado de exclusive.multibriefs.com.



Dentre os gases citados no texto, aquele que corresponde a uma substância composta é simbolizado por:

- A) Kr
- B) O₂
- C) He
- D) CO₂

Comentários:

Vimos anteriormente que **substâncias compostas** são constituídas por átomos de diferentes elementos químicos. Dentre os gases citados no texto, a única substância composta é o CO₂ pois ele é constituído por um átomo de carbono e dois de oxigênio. Portanto, a LETRA D é a alternativa correta.

Resposta: letra D

Transformação da matéria, fenômenos físicos e químicos e reações químicas

Transformação da matéria é qualquer modificação da matéria, a qual pode ocorrer por meio de um ou mais processos. A transformação da matéria também é conhecida como **fenômeno**, que pode ser um **fenômeno físico**, quando não se altera a composição da matéria, ou **fenômeno químico**, em que há alteração da composição química da matéria.

Da definição acima, extraímos que transformação da matéria é sinônimo (mesmo significado) de fenômeno e que essa transformação pode ser física ou química.

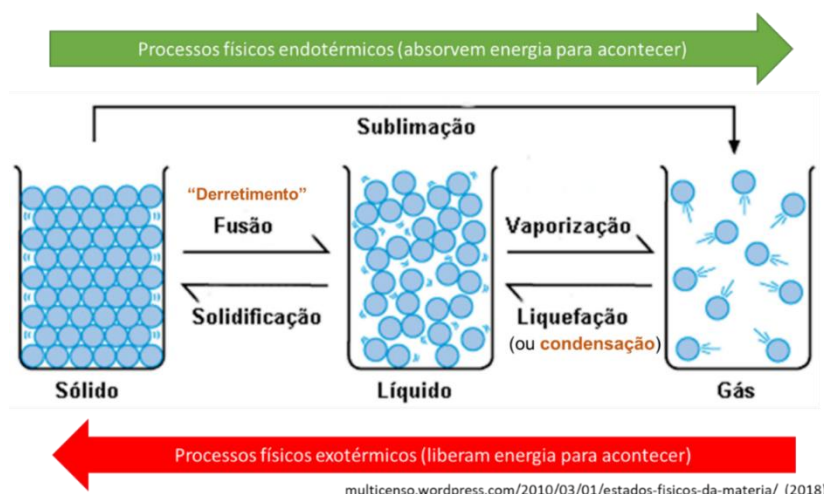


Vamos entender com exemplos quando uma transformação é física e quando será química. Vamos imaginar que cada molécula de água seja uma circunferência azul, conforme ilustrado abaixo. No estado sólido (gelo), as moléculas de água estão muito próximas umas das outras e devidamente organizadas, podemos dizer até que elas estão rígidas o que impede a sua movimentação. Se aquecermos o gelo, as moléculas (circunferências azuis) começam a se afastar e o gelo vai derretendo até todo gelo ter se transformado em líquido, fenômeno conhecido como fusão. Se a água líquida continuar sendo aquecida, as moléculas se afastam ainda mais, evaporando, passando para o estado gasoso, fenômeno esse conhecido por vaporização. A pergunta é: *os processos de fusão e vaporização, discutidos aqui, são fenômenos químicos ou físicos?*

São fenômenos físicos, pois a composição química do material não modificou. No gelo, haviam moléculas de água mais “juntinhas”. No líquido, as mesmas moléculas estavam presentes, modificando apenas o



espaçamento entre elas e o grau de liberdade para se movimentarem. Por fim, no estado gasoso, as moléculas ainda estão presentes, estando, apenas, ainda mais afastadas com uma maior velocidade de movimentação.



Os mesmos conceitos em forma de tabela:

Mudança de estado	Fenômeno físico
Sólido → Líquido	Fusão ou "derretimento"
Líquido → Sólido	Solidificação
Líquido → Gasoso	Vaporização ou ebulição
Gasoso → Líquido	Condensação ou liquefação
Sólido → Gasoso (sem passar pelo estado líquido)	Sublimação
Gasoso → Sólido (sem passar pelo estado líquido)	Sublimação ou Ressublimação

Galera, o mesmo raciocínio pode ser aplicado a qualquer outra substância pura (aquela que não está misturada a nenhuma outra substância). Note na figura acima que já estou adiantando a vocês que os processos de fusão e vaporização são endotérmicos, pois a substância precisa receber energia para poder mudar de fase. Por outro lado, os processos de liquefação e solidificação são exotérmicos, ou seja, liberam energia para acontecer.



(FGV - Professor de Química - SEE-PE - 2016) Um método experimental, para verificar se um material homogêneo é constituído por uma ou por duas ou mais substâncias diferentes, baseia-se no estudo da mudança de estado de agregação desse material em função do tempo. Sendo assim, as mudanças de estado que implicam no aumento da desordem do sistema com absorção de calor são

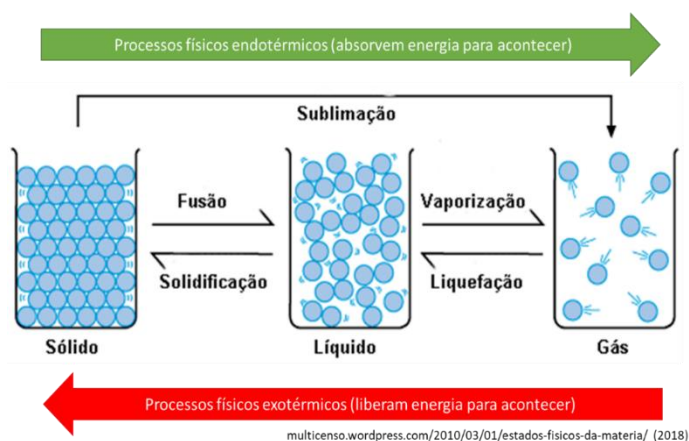
A) solidificação e sublimação.



- B) vaporização e condensação.
- C) fusão e liquefação.
- D) ebulição e fusão.
- E) evaporação e ressublimação.

Comentários:

Os processos de mudança de estado que precisam absorver energia para acontecer são chamados de endotérmicos e podemos identificá-los no esquema a seguir. Note que os processos endotérmicos são: fusão, sublimação e vaporização (também chamado de ebulição). Tendo isto em vista, a alternativa D é a correta.



Resposta: letra D

Nosso foco aqui não é esgotar o tema mudanças de estado da matéria, pois teremos outra aula para discutir o assunto. Vamos a outros exemplos de transformações físicas.

Ao **utilizar uma fibra para produção de roupas**, ocorre um fenômeno físico porque, embora a apresentação visual da matéria se modifique, sua composição química não é modificada. **Quebrar um copo de vidro**, **amassar uma folha de papel** também são fenômenos físicos pelo mesmo motivo. A **dissolução de açúcar em água** também é um fenômeno físico, pois as moléculas de açúcar permanecem no interior do líquido, sendo possível recuperar o açúcar em pó evaporando a água.

Vamos agora entender, com exemplos, os fenômenos químicos, nos quais a composição química é modificada. Ao **queimar pedaços de lenha**, temos como produto final cinzas, além de gases que são liberados na forma de vapor. Note que estamos diante de um fenômeno químico, já que a composição química da cinza e dos gases liberados, durante a queima, é diferente da madeira inicial. Desse exemplo, podemos extrapolar e dizer que toda queima ou combustão de materiais combustíveis (madeira, álcool, carvão, gasolina) são fenômenos químicos.

O **cozimento de alimentos** é outro exemplo de fenômeno químico. Um exemplo bastante ilustrativo é o ovo, que apresenta clara transparente quando cru, mas que adquire cor branca durante o cozimento. A



modificação da cor é a evidência que houve alteração química das moléculas presentes na clara do ovo. Como outros exemplos de fenômenos químicos, podemos citar: **processos fermentativos (produção de álcool a partir do açúcar da cana; amadurecimento de frutas; formação de ferrugem sobre a superfície de peças de ferro)**. Se liga que, em muitos desses processos, temos a mudança de cor associada à ocorrência da reação química.



Exemplos de fenômenos químicos

Precisamos explorar um pouco mais as transformações químicas, pois é a partir delas que podemos introduzir algumas noções que serão úteis para o curso inteiro e, é claro, para você alcançar um alto desempenho em sua prova de química... Já sabemos que ocorre modificação da composição química durante um fenômeno químico, mas não discutimos o que ocorre a nível microscópico, ou seja: *o que acontece a nível de átomos ou moléculas para resultar em uma modificação química?*

ESCLARECENDO!



Durante um fenômeno químico, os átomos que estão combinados (ligados), formando moléculas, são rearranjados formando novas combinações ou novas moléculas. Abro um parêntese para adiantar-lhe que os átomos podem se arranjar em compostos que não são moléculas, mas não entraremos nesse mérito agora. O que você precisa saber é que, durante um fenômeno químico, ligações entre átomos são quebradas e novas ligações são formadas e é, por isso, que ao final teremos novas substâncias químicas diferentes daquelas que a originaram. As moléculas ou átomos isolados antes do fenômeno químico são chamados de **REAGENTES** e as substâncias formadas são **PRODUTOS**. Tomemos como exemplo a transformação química abaixo:



AB e CD são reagentes, enquanto AC e BD são os produtos. Esse fenômeno químico também é conhecido como **reação química**, a qual é representada por reagentes do lado esquerdo que, quando somados (misturados, "+"), resultam ("→") nos produtos. Note que a composição química dos materiais foi modificada, antes havia as substâncias AB e CD, e após a reação temos AC e BD. Considerando cada letra um átomo, notamos que a ligação

entre A e B e a ligação entre C e D foram desfeitas ou quebradas para formar novas ligações, uma entre A e C e a outra entre B e D. Esse rearranjo dos átomos, desfazendo substâncias iniciais para formar novas substâncias finais com propriedades diferentes, é o que configura um fenômeno químico.

Vamos ilustrar a discussão acima com um caso real: a reação de combustão do etanol (C_2H_5OH), molécula composta por 2 carbonos (C), 6 hidrogênios (H) e 1 oxigênio (O). C, H e O estão representados abaixo da reação química por esferas cinzas, brancas e vermelhas, respectivamente. Nessa reação, dizemos que o etanol é o combustível e o gás oxigênio (O_2) é o comburente. Da comparação do arranjo das esferas do lado esquerdo da seta com o lado direito, percebemos que todas as ligações entre esferas cinza e branca foram desfeitas, bem como todas as ligações duplas (=) entre as esferas vermelhas, ou seja, a molécula de etanol e as de oxigênio são desfeitas. Do lado direito, nota-se que novas combinações (ligações) são formadas entre esferas cinza e vermelhas e entre esferas vermelhas e brancas, formando os produtos CO_2 (gás carbônico) e água (H_2O).



Energia associada a transformações da matéria (Termoquímica)

No início da aula, falamos sobre a utilização do *smartphone*, durante a qual ocorre uma reação química na bateria do aparelho, transformando energia química em energia elétrica. Embora o que vamos discutir aqui sejam temas da eletroquímica e termoquímica (assuntos de outras aulas), vamos aqui fazer uma rápida introdução de como os fenômenos físicos e químicos estão associados a fluxos (movimento) de energia para que isso nos ajude a finalizar o entendimento do conceito de química.

Mas o que é Energia?

Energia interna: é a quantidade total de trabalho que um sistema² pode realizar. Um gás comprimido possui uma elevada energia interna, pois pode empurrar um pistão (que é um tipo de trabalho), enquanto um gás não comprimido não possui tal capacidade, apresentando menor energia interna. Do mesmo modo, uma mola comprimida e uma bateria carregada possuem maior energia interna, respectivamente, que uma mola não comprimida e uma bateria descarregada.

Vamos enxergar agora a molécula como sendo um sistema bem pequenininho e que todo resto do universo seja sua vizinhança. A molécula apresenta energia armazenada em sua composição química, mais especificamente em suas ligações interatômicas (entre átomos). Essa energia é chamada de **energia química**. Durante uma reação química, as ligações interatômicas podem ser quebradas, liberando essa energia

² Sistema: é a parte do mundo em que estamos interessados. Pode ser, por exemplo, o béquer em que ocorre uma reação ou o cilindro em que está contido um gás comprimido.



química do sistema (molécula) para a vizinhança. Quando isso acontece, dizemos que os reagentes de uma reação estão em um nível energético superior aos produtos.

Essa energia envolvida na transformação da matéria pode ser aproveitada de diferentes maneiras:

- Pode ser convertida em **energia elétrica**, produzindo a passagem de elétrons em um circuito, a exemplo do que acontece em pilhas e baterias;
- Pode ser convertida em **energia cinética**, aumentando drasticamente a velocidade da molécula, a exemplo do que acontece nas explosões;
- Poder ser convertida em **energia térmica**, aumentando a temperatura da vizinhança. As reações de combustão, por exemplo, liberam energia, aquecendo as proximidades;
- Pode ser convertida em **energia mecânica**, movimentando, por exemplo, os pistões ou engrenagens de uma máquina. No mesmo exemplo anterior, temos que a combustão de combustíveis fósseis é utilizada em veículo para produzir energia mecânica, o que resulta em seu movimento.

Vale lembrar que há transformações em que as moléculas absorvem energia. Discutimos anteriormente os fenômenos físicos de mudança de estado físico como fusão e vaporização. Nesse exemplo, as moléculas no estado sólido precisam absorver energia (serem aquecidas) para se liquefazerem ou fundirem, passando para o estado líquido. O mesmo acontece para que as moléculas no estado líquido cheguem ao estado gasoso. Nesse caso, temos que a energia térmica está sendo transformada em energia cinética. Se pensarmos no caminho inverso, do gasoso para o líquido e do líquido para o sólido, as moléculas estarão perdendo energia para a vizinhança e, nesse caso, sendo resfriadas.

Não vou delongar nesses que são assuntos de outras aulas, mas o importante para hoje é que você entenda que as transformações da matéria estão relacionadas com movimento de energia e, em muitos casos, com transformação dessa energia. Dito isso, podemos retomar a definição de química, pois acredito que já temos bagagem para entendê-la de forma mais completa.

***Química** é a ciência que estuda a matéria, avaliando suas propriedades, composição e estrutura. Além disso, a química avalia as transformações sofridas pela matéria e o fluxo (movimento) de energia envolvida nesses processos.*

Evidências de transformações da matéria


Precisamos desenvolver agora nossa habilidade de observar um experimento e identificar nele as evidências de ocorrência de fenômenos físicos ou químicos.

As principais **evidências dos fenômenos físicos** são:

1. **Alteração de tamanho, formato ou apresentação.** Ex: quebrar um copo de vidro, alterando seu tamanho; amassar um papel; ou utilização de fibras para confecção de roupas, alterando sua apresentação, mas mantendo sua composição química.
2. **Mudança de estado físico.** Conforme já discutido, a estrutura de uma molécula, a exemplo da água (H_2O), é mantida independente se essa está no estado sólido, líquido ou gasoso. Por isso, os fenômenos de mudança de estado (fusão, ebulição, sublimação, condensação e solidificação) são físicos.



- Solubilização ou dissolução de uma substância em outra.** Pode ser a dissolução de uma substância sólida (chamada soluto) como açúcar ou sal, em uma substância líquida (chamada solvente) como água. Gases também podem ser dissolvidos em líquidos, a exemplo do gás carbônico (CO_2) que pode ser dissolvido em água.
- Condução de energia elétrica e energia térmica.** Um fio de cobre, por exemplo, permanece intacto após a passagem de corrente elétrica por ele. O mesmo acontece com uma panela de ferro ao ser utilizada para condução da energia térmica da chama do fogão para o alimento.



Exemplos de fenômenos físicos

As principais **evidências dos fenômenos químicos** são:

- Mudança de cor.** Em reações químicas, é muito comum uma substância reagir com outra e resultar em um produto de coloração diferente. Além disso, podemos lembrar do cozimento do ovo, em que sua clara passa de transparente à coloração branca, resultado da desnaturação de suas proteínas. Em outro exemplo, podemos citar materiais parcialmente carbonizados que apresentam coloração escurecida. Por fim, vale lembrar da formação de ferrugem sobre a superfície de objetos produzidos em ferro. Todos esses são fenômenos químicos.
- Liberação de energia na forma de calor, luz, corrente elétrica.** Podemos citar as reações de combustão em que há liberação de calor e luz.
- Formação de um sólido.** Muitas reações ocorrem em meio aquoso, situações em que os reagentes estão solubilizados em água. Nessas situações, pode ocorrer a formação de um produto sólido, o qual precipita (desce para o fundo do recipiente).
- Liberação de gás (efervescência: aparecimento de bolhas em um líquido).** Quando o bicarbonato de sódio (NaHCO_3), substância antiácida, é adicionado em água, ocorre a formação rápida de gás carbônico (CO_2), o qual é liberado na forma de gás, resultando na efervescência. Existem outros medicamentos que são efervescentes.
- Liberação de fumaça.** Se houver liberação de fumaça sem o material ser aquecido externamente por uma chama ou uma chapa, por exemplo, então será indício de reação química com liberação lenta de gases.



app.emaze.com (2018)



alunosonline.uol.com.br/química (2018)



marcusfabiano.wordpress.com (2018)



alunosonline.uol.com.br/química (2018)

Exemplos de fenômenos químicos

Vale lembrar que algumas reações químicas (fenômenos químicos) poderão ocorrer mesmo sem apresentar essas evidências visíveis ou perceptíveis a olho nu. Por isso, em muitos casos, para se ter mais segurança da ocorrência da reação, será necessário recolher o produto formado (resultado da reação) e levar para o laboratório para medir propriedades físicas como massa, densidade, ponto de fusão, ponto de ebulição, etc. Se essas propriedades forem diferentes dos reagentes (substâncias iniciais), então concluiremos que ocorreu uma reação química.



(Marinha - Colégio Naval - 2017) Considere os seguintes processos:

- I- Atração do ferro pelo ímã.
- II- Combustão da gasolina.
- III- Desaparecimento de bolinhas de naftalina.
- IV- Enferrujamento de um prego.

São processos químicos somente

- A) I e II.
- B) I e III.
- C) II e III.
- D) II e IV.
- E) III e IV.

Comentários:



De início, vale lembrar que, nos processos químicos, ocorre a alteração da composição química dos materiais, o que resulta na modificação de suas propriedades iniciais. Além disso, vale lembrar as principais evidências de fenômenos químicos: mudança de cor; liberação de energia; formação de sólido; liberação de gás; e liberação de fumaça. Essas evidências nos ajudam naqueles casos que ainda possam parecer duvidosos. Dito isso, vamos à classificação dos itens:

Item I: processo físico. Não há modificação da composição química nem do ferro e nem do imã.

Item II: processo químico. Nas combustões em geral ocorre liberação de energia na forma de calor e de luz, que são evidências de fenômenos químicos. No caso específico da gasolina que corresponde a uma coleção de hidrocarbonetos (compostos orgânicos constituídos somente por carbono e hidrogênio), suas moléculas ao reagir com o oxigênio (O_2) atmosférico forma gás carbônico (CO_2) e água.

Item III: processo físico. É o item que mais pode gerar dúvidas, pois alguns alunos poderiam pensar que a naftalina reagiu com o oxigênio por exemplo. No entanto, sabemos que, no processo de desaparecimento da naftalina, não há liberação de energia na forma de calor. Portanto, temos, nesse caso, a sublimação da naftalina, ou seja, passagem direta do estado sólido para o gasoso, o que resulta em seu desaparecimento a olho nu.

Item IV processo químico. A formação de ferrugem corresponde na transformação do ferro metálico, na presença de oxigênio atmosférico, em óxido de ferro III (Fe_2O_3), o que é evidenciado pela mudança de cor.

Resposta: letra D

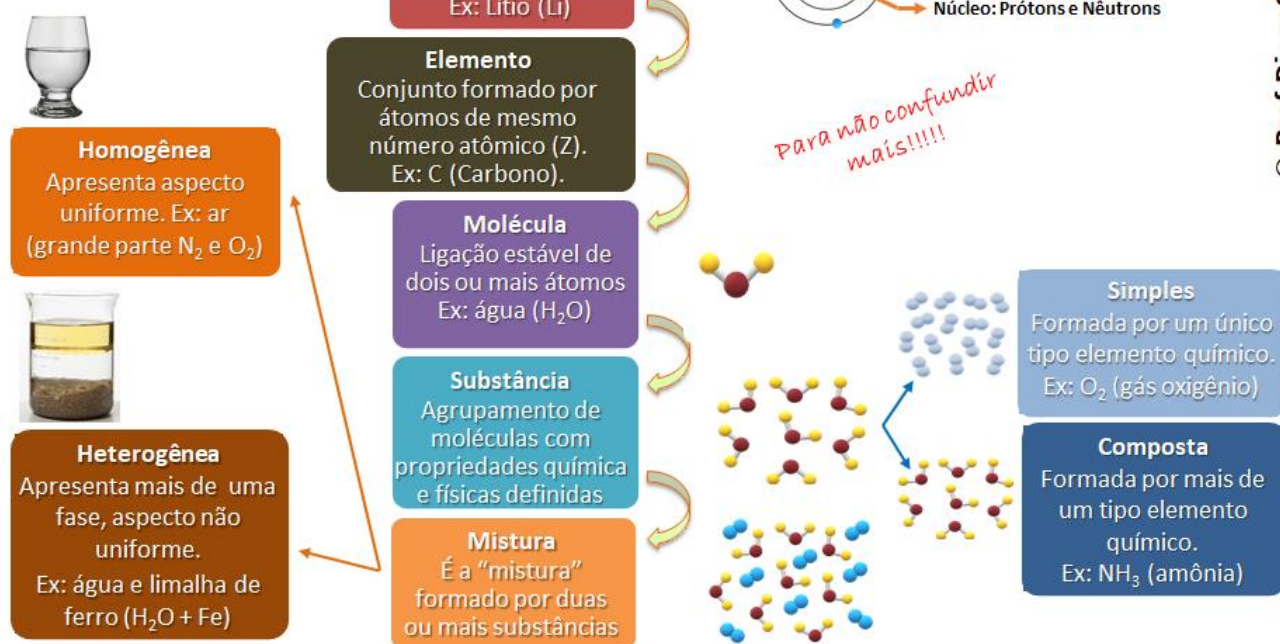


PRINCIPAIS PONTOS DO TÓPICO

Noções iniciais de química

Conceitos iniciais (não os decore, compreenda-os):

Átomos, moléculas, substância e mistura



@ Prof. DiegoSouza

Química é a ciência que estuda a matéria, avaliando suas propriedades, composição e estrutura. Além disso, a química avalia as transformações sofridas pela matéria e o fluxo (movimento) de energia envolvida nesses processos.

Matéria é tudo que apresenta massa e volume, ocupando, portanto, um lugar no espaço. Exemplos: um pedaço de madeira, areia, certa quantidade de sal de cozinha (cloreto de sódio), certa quantidade de água e tecidos vivos como o corpo humano.

Átomo é a unidade fundamental da matéria.

Estrutura do átomo: o átomo apresenta um núcleo positivo que é constituído de partículas positivas (prótons) e partículas neutras (nêutrons). Os elétrons (partículas negativas) estão em constante movimento na eletrosfera (região em torno do núcleo). Esses elétrons estão situados em orbitais eletrônicos (s, p, d e f) de camadas (níveis) eletrônicas denominadas K, L, M, N, O, P e Q. A estabilização dos átomos é possível pela contraposição de forças de repulsão e atração.



Representação geral do átomo



Elemento químico: conjunto de átomos que apresentam o mesmo número de prótons (número atômico). Desta forma, o átomo de um elemento químico é diferente do átomo de outro elemento. Por exemplo, o elemento Ferro apresenta átomos com número atômico 26, os quais são diferentes dos átomos do elemento cobre que apresenta 29 prótons.

Molécula: formada pela combinação de, pelo menos, dois átomos, que podem ser de um mesmo elemento ou elementos diferentes. Em geral, é a menor estrutura que guarda as propriedades de uma substância pura. **Cuidado!** Há molécula monoatômica, que é o caso dos gases nobres que, por apresentarem alta estabilidade sozinhos, apresentam-se na natureza na forma de átomos isolados, ex: hélio (He), argônio (Ar), xenônio (Xe), criptônio (Kr) e radônio (Rn).

Substância: são materiais com propriedades conhecidas, definidas e que praticamente não sofrem variação a temperatura e pressão constante. Seguindo essa linha de pensamento, podemos concluir que cada substância apresenta propriedades específicas. Isto é, **substâncias diferentes jamais apresentaram as mesmas propriedades específicas**.

Composição química de um material corresponde aos elementos químicos e às moléculas acompanhadas de suas respectivas proporções. Por exemplo, o ouro (Au) 22 quilates é constituído de 91,6% de ouro e os 8,4% restantes corresponde a outros metais; ao passo que o ouro 18 quilates é constituído de apenas 75% de ouro. Note que, mesmo que estejam presentes os mesmos elementos, o ouro 22 quilates e o 18 quilates apresentam composição química diferente, pois a proporção dos diferentes átomos é diferente.

Substâncias simples são constituídas somente por átomos de um mesmo elemento químico. O oxigênio (O_2), por exemplo, é uma substância simples, pois é composto por dois átomos de oxigênio. Vale lembrar que podemos ter substâncias simples que são monoatômica (formada por um único átomo), ou seja, apresentam-se como átomos isolados, a exemplo dos gases nobres.

Substâncias compostas são constituídas por átomos de diferentes elementos químicos. A água (H_2O), por exemplo, é uma substância composta, pois é formada dois átomos de hidrogênio e um de oxigênio.

Misturas consistem na combinação de duas ou mais substâncias sem que haja alteração das moléculas ou íons que as compõem.

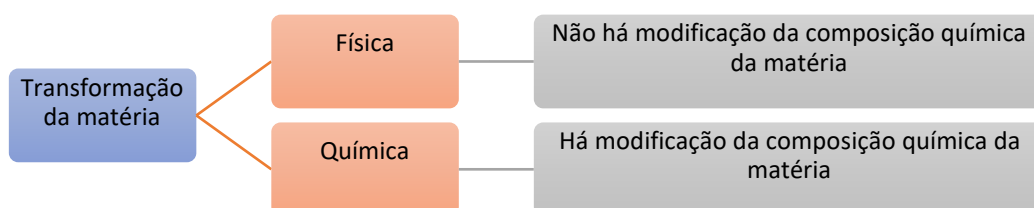
Misturas homogêneas são formadas por uma única fase, ou seja, não se nota a olho nu diferenças visuais na mistura. Por exemplo, a mistura de água e açúcar. Após a dissolução do açúcar, só conseguimos visualizar a fase representada pela água.



Misturas heterogêneas são formadas por mais de uma fase, isto é, a olho nu podemos notar diferenças visuais na mistura. Por exemplo, a mistura de água e óleo. Esses dois compostos não se solubilizam e assim é possível observar as fases referente a água e ao óleo. Fique atento ao seguinte peguinha, o leite é uma mistura heterogênea e não homogênea como parece ser a olho nu.

Transformações da matéria

Transformação da matéria é qualquer modificação da matéria, a qual pode ocorrer por meio de um ou mais processos. A transformação da matéria também é conhecida como **fenômeno**, que pode ser um **fenômeno físico**, quando não se altera a composição da matéria, ou **fenômeno químico**, em que há alteração da composição química da matéria.



Exemplos de fenômenos físicos: utilizar uma fibra para produção de roupas; quebrar um copo de vidro; amassar uma folha de papel; dissolução de açúcar em água.

Exemplos de fenômenos químicos: reações de combustão em geral; cozimento de alimentos; e formação de ferrugem sobre a superfície de peças de ferro.

Durante um fenômeno químico, os átomos que estão combinados (ligados), formando moléculas, são rearranjados formando novas combinações ou novas moléculas. As moléculas ou átomos isolados antes do fenômeno químico são chamados de **REAGENTES** e as substâncias formadas são **PRODUTOS**. Tomemos como exemplo a transformação química abaixo:



Exemplo prático desse rearranjo de átomos (combustão do etanol, C_2H_5OH):



Energia associada a transformações da matéria



Energia interna: é a quantidade total de trabalho que um sistema³ pode realizar. Um gás comprimido possui uma elevada energia interna, pois pode empurrar um pistão (que é um tipo de trabalho), enquanto um gás não comprimido não possui tal capacidade, apresentando menor energia interna. Do mesmo modo, uma mola comprimida e uma bateria carregada possuem maior energia interna, respectivamente, que uma mola não comprimida e uma bateria descarregada.

A molécula apresenta energia armazenada em sua composição química, mais especificamente em suas ligações interatômicas (entre átomos). Essa energia é chamada de **energia química**. Durante uma reação química, as ligações interatômicas podem ser quebradas, liberando essa energia química do sistema (molécula) para a vizinhança.

Essa energia envolvida na transformação da matéria pode ser aproveitada de diferentes maneiras, podendo se transformar em energia elétrica, energia cinética, energia térmica, energia mecânica.

Evidências de transformações da matéria

As principais **evidências dos fenômenos físicos** são:

1. Alteração de tamanho, formato ou apresentação.
2. Mudança de estado físico.
3. Solubilização ou dissolução de uma substância em outra.
4. Condução de energia elétrica e energia térmica.

As principais **evidências dos fenômenos químicos** são:

5. Mudança de cor.
6. Liberação de energia na forma de calor, luz, corrente elétrica
7. Formação de um sólido
8. Liberação de gás (efervescência: aparecimento de bolhas em um líquido).
9. Liberação de fumaça.

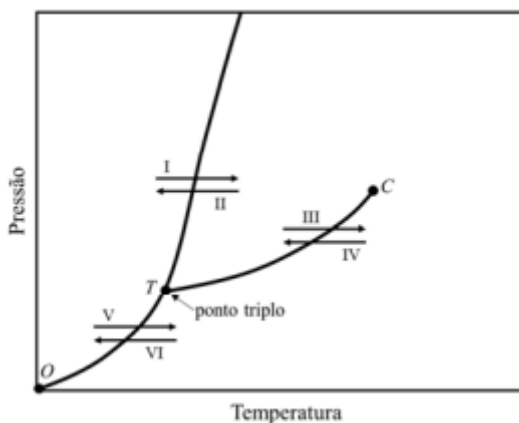
³ Sistema: é a parte do mundo em que estamos interessados. Pode ser, por exemplo, o béquer em que ocorre uma reação ou o cilindro em que está contido um gás comprimido.



QUESTÕES COMENTADAS - CEBRASPE

Noções iniciais de Química

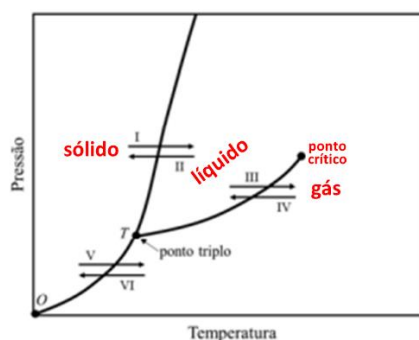
O gráfico seguinte mostra um diagrama de fases genérico de uma substância pura.



1. (CEBRASPE/CESPE - SEDUC-AL - 2021) Com relação a esse gráfico e aos sólidos, líquidos e gases no universo da química, julgue o item seguinte. No gráfico apresentado, o segmento de curva entre os pontos *O* e *T* representa a curva de sublimação, que separa a fase sólida da fase gasosa, e cada ponto desse segmento é uma condição de equilíbrio entre o sólido e o gás.

Comentários:

Exatamente! O diagrama de fases, como é chamado o gráfico mostrado na questão, apresenta a relação de *temperatura vs pressão* para os três estados físicos da matéria (sólido, líquido e gasoso). Cada linha representa o equilíbrio entre duas das três fases, sendo que no ponto triplo *T* as três fases estão em equilíbrio e coexistem, como demonstrado na figura abaixo adaptada do enunciado.



- Entre os pontos *T* e o limite superior está a linha da fusão/solidificação, na qual as fases sólida e líquida se encontram em equilíbrio.
 - A seta I representa a fusão (sólido para líquido).
 - A seta II representa a solidificação (líquido para sólido).
- Entre os pontos *T* e *C* está a linha da ebulição/liquefação, na qual as fases líquida e gasosa estão em equilíbrio.



- A seta III representa a ebulição.
- A seta IV representa a liquefação.
- Entre os pontos O e T está a linha da sublimação/ressublimação, na qual as fases sólida e gasosa estão em equilíbrio.
 - A seta V representa a sublimação.
 - A seta VI representa a ressublimação.

Portanto, a afirmativa está **correta**.

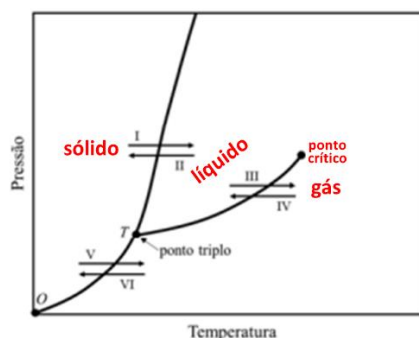
Resposta: Certo

2. (CEBRASPE/CESPE - SEDUC-AL - 2021) Com relação a esse gráfico e aos sólidos, líquidos e gases no universo da química, julgue o item seguinte.

No gráfico apresentado, os processos indicados pelas setas I e IV representam, respectivamente, os processos de vaporização e congelamento da referida substância.

Comentários:

Não, não! As setas I e IV representam, respectivamente, os processos de fusão e liquefação. O diagrama de fases, como é chamado o gráfico mostrado na questão, apresenta a relação de *temperatura vs pressão* para os três estados físicos da matéria (sólido, líquido e gasoso). Cada linha representa o equilíbrio entre duas das três fases, sendo que no ponto triplo T as três fases estão em equilíbrio e coexistem, como demonstrado na figura abaixo adaptada do enunciado.



- Entre os pontos T e o limite superior está a linha da fusão/solidificação, na qual as fases sólida e líquida se encontram em equilíbrio.
 - A seta I representa a fusão (sólido para líquido).
 - A seta II representa a solidificação (líquido para sólido).
- Entre os pontos T e C está a linha da ebulição/liquefação, na qual as fases líquida e gasosa estão em equilíbrio.
 - A seta III representa a ebulição.
 - A seta IV representa a liquefação.
- Entre os pontos O e T está a linha da sublimação/ressublimação, na qual as fases sólida e gasosa estão em equilíbrio.
 - A seta V representa a sublimação.
 - A seta VI representa a ressublimação.



Portanto, a afirmativa está **errada**.

Resposta: Errado

3. (CEBRASPE/CESPE - SEDUC-AL - 2021) Com relação a esse gráfico e aos sólidos, líquidos e gases no universo da química, julgue o item seguinte.

Nos líquidos, a ordem de ligação tem mais curto alcance que nos sólidos cristalinos.

Comentários:

Apesar da terminologia não muito frequente, o examinador compara as energias das ligações/interações em um líquido e em um sólido cristalino. No líquido, as espécies possuem maior energia cinética e por isso estão mais distantes umas das outras, o que significa que qualquer efeito atrativo é menor, ou seja, de mais curto alcance, já que a distância entre as espécies é maior. Nos sólidos cristalinos, por sua vez, as espécies estão mais próximas umas das outras e organizadas, formando, inclusive, um retículo cristalino, com menor energia cinética, menor movimentação e interações mais fortes. Portanto, a afirmativa está **correta**.

Resposta: Certo

4. (CEBRASPE/CESPE - Oficial - PM-MA - 2017) Sabendo que o número atômico do carbono é igual a 6, julgue o item que se segue:

Um átomo neutro do isótopo de carbono-12, no estado fundamental, apresenta, em seu núcleo, 6 prótons e 6 nêutrons; além disso, apresenta 6 elétrons na região extranuclear.

Comentários:

O número 12, após o nome do elemento, representa a massa (A) desse isótopo. O enunciado informa ainda que seu número atômico (Z) é 6, o que também poderia ser verificado na tabela periódica caso não fosse informado. Conhecendo, A e Z, podemos encontrar o número de nêutrons (N) por meio da relação abaixo:

$$A = Z + N$$

$$12 = 6 + N$$

$$N = 6 \text{ nêutrons}$$

Sabendo que o átomo é eletronicamente neutro, podemos afirmar que o seu número de prótons (Z, número atômico), 6, é igual ao número de elétrons, ou seja, o **item certo**. Não se esqueça, prótons e nêutrons são as partículas que estão no núcleo e os elétrons estão em constante movimento na eletrosfera.

Resposta: Certo

5. (CEBRASPE/CESPE - Professor Química I - IFF - 2018) Considerando o gráfico precedente, que ilustra o diagrama de fases para um composto molecular puro, assinale a opção correta.





- a) O trecho **AD** representa as combinações de temperatura e pressão para as quais pode existir equilíbrio entre as fases líquida e sólida.
- b) O ponto **C** representa o ponto de ebulição normal do líquido.
- c) O trecho **AB** indica a existência apenas da fase sólida.
- d) Do gráfico infere-se que, quanto maior for o valor da pressão externa, mais alto será o ponto de fusão do composto.
- e) No ponto **A**, há coexistência entre as fases vapor, líquida e sólida em equilíbrio.

Comentários:

Letra A: incorreta. O trecho AD representa as combinações de temperatura e pressão para as quais pode existir equilíbrio entre as fases líquida e **gasosa**.

Letra B: incorreta. O ponto C representa o ponto de **fusão** normal do líquido, sob pressão de 1 atm.

Letra C: incorreta. O trecho AB indica a **coexistência** das fases **sólida e vapor**.

Letra D: incorreta. Do gráfico, mais especificamente na inclinação AC, infere-se que, quanto maior for o valor da pressão externa, mais **baixo** será o ponto de fusão do composto.

Letra E: correta. Exatamente! No ponto A, há coexistência entre as fases vapor, líquida e sólida em equilíbrio. Esse ponto é chamado de ponto triplo.

Resposta: letra E



QUESTÕES COMENTADAS - IDECAN

Noções iniciais de Química

1. (IDECAN - Per Crim - COGERP SE/Área 7 - 2023) Substâncias explosivas podem ser classificadas como de combustão completa ou combustão incompleta. Explosivos são considerados de combustão completa quando a quantidade de oxigênio presente na molécula é igual ou superior a quantidade necessária para transformar os átomos de carbono e hidrogênio, presentes na molécula, em dióxido de carbono e água, respectivamente, após sua reação de combustão. Assinale a alternativa que contém, respectivamente, a classificação quanto ao tipo de combustão dos compostos nitroglicerina ($C_3H_5O_9N_3$), o TNT ($C_6H_2(NO_2)_3$), o PETN ($[C(CH_2ONO_2)_4]$) e o HMX ($C_4H_8N_8O_8$)

- a) Completa, incompleta, completa e completa.
- b) Completa, incompleta, completa e incompleta.
- c) Completa, incompleta, incompleta e completa.
- d) Completa, incompleta, incompleta e incompleta.
- e) Incompleta, incompleta, incompleta e incompleta.

Comentários:

Para resolver a questão em tela, montamos uma equação geral para combustão completa, em que temos a geração de H_2O e CO_2 :



De acordo com o enunciado, precisamos verificar se a quantidade de oxigênio presente na molécula (z) é igual ou superior a quantidade necessária para transformar os átomos de carbono e hidrogênio, presentes na molécula, em dióxido de carbono e água, respectivamente.

$$z \geq \frac{y}{2} + 2x$$

Portanto, se a quantidade for igual ou superior a combustão será completa, veja os resultados na tabela abaixo.

Compostos	$z \geq \frac{y}{2} + 2x$	Combustão
Nitroglicerina ($C_3H_5O_9N_3$),	$9 \geq \frac{5}{2} + 2 \times 3$ $9 \geq 8,5$	Completa
TNT ($C_6H_2(NO_2)_3$)	$6 \geq \frac{2}{2} + 2 \times 6$ $6 \geq 13$	Incompleta



PETN ($[\text{C}(\text{CH}_2\text{ONO}_2)_4]$)	12 $\geq \frac{8}{2} + 2 \times 5$ $12 \geq 14$	Incompleta
HMX ($\text{C}_4\text{H}_8\text{N}_8\text{O}_8$)	$8 \geq \frac{8}{2} + 2 \times 4$ $8 \geq 12$	Incompleta

Resposta: letra D

2. (IDECAN - IF - PB - 2019) Liofilização ou criodessecação é um processo de desidratação em que o produto é congelado sob vácuo. A liofilização é usada na manufatura do leite em pó instantâneo, do café solúvel e por indústrias farmacêuticas. Assinale o fenômeno físico que explica a remoção de água, nessa técnica.

- a) Condensação
- b) Sublimação
- c) Liquefação
- d) Elevação crioscópica
- e) Elevação ebulioscópica

Comentários:

O produto passa para o estado sólido quando ele é congelado durante a liofilização. A água no estado sólido passa diretamente para o estado gasoso com a aplicação do vácuo, ou seja, a pressão é diminuída e as moléculas de água que estavam unidas no estado sólido passam diretamente para o estado gasoso. Sendo assim, vamos revisar todas as mudanças de estado físico.

- De sólido para líquido → fusão ou “derretimento”.
- De líquido para sólido → solidificação.
- De líquido para gasoso → vaporização ou ebulição.
- De gasoso para líquido → condensação ou liquefação.
- De sólido para gasoso → sublimação.
- De gasoso para sólido → sublimação ou ressublimação.

Portanto, a alternativa B é a correta.

Resposta: letra B

3. (IDECAN - Prefeitura de São Gonçalo do Rio Abaixo - 2017) Um fenômeno é qualquer transformação que ocorre num sistema. Comparando-se os estados inicial e final do sistema envolvido, podemos observar um fenômeno físico ou químico. São considerados exemplos de fenômenos químicos:

- a) Digestão de alimentos e fundição do ferro.



- b) Azedamento do leite e queima da madeira.
- c) Fundição do ferro e combustão da gasolina.
- d) Evaporação da água e explosão de uma bomba.

Comentários:

Um fenômeno químico ocorre quando há mudança na composição química do material. As principais evidências de um fenômeno químico são mudança de cor/textura/odor/sabor, liberação de gás, aquecimento ou resfriamento, geração de luz e formação de precipitado. Essas evidências, entretanto, são apenas indícios e não podem ser utilizadas de forma conclusiva. O mais importante a ser analisado em um fenômeno, para que ele seja considerado químico, é a alteração na composição química do material. Já o fenômeno físico é aquele que ocorre sem a mudança da composição química. Pense na evaporação da água, ela não muda sua fórmula molecular (composição química) quando passa do estado líquido para o gasoso. Ela continua sendo água H_2O , mas agora no estado gasoso. Isso mostra que mudanças de fase são exemplos de fenômenos físicos. Vamos agora analisar as alternativas.

Letra A: Incorreta. A digestão de alimentos é um fenômeno químico, já a fundição do ferro é um fenômeno físico.

Letra B: Correta. O azedamento do leite é um fenômeno químico, gerando outras substâncias que resultam na mudança do cheiro e da cor, assim como a queima da madeira, que é uma reação de combustão produzindo CO_2 e H_2O .

Letra C: Incorreta. A fundição do ferro é um fenômeno físico e a combustão da gasolina é um fenômeno químico.

Letra D: Incorreta. A evaporação da água é um fenômeno físico e a explosão de uma bomba é um fenômeno químico.

Portanto, a **alternativa B** é a alternativa correta.

Resposta: letra B

4. (IDECAN - Prefeitura de São Gonçalo do Rio Abaixo - 2017) Considere os seguintes sistemas:

I. Água e sal. II. Água e gelo. III. Água e areia. IV. Gás carbônico e oxigênio.

A partir disso, assinale a alternativa correta.

- a) Somente o sistema III é constituído por duas fases.
- b) Todos os sistemas constituem misturas, pois apresentam mais de um componente.
- c) Os sistemas II e IV não apresentam superfície de separação, ou seja, apresentam aspecto visual uniforme.



d) O sistema II possui ponto de fusão e ponto de ebulição constantes, sendo, portanto, uma substância pura.

Comentários:

Letra A: Errada. O sistema III (água e areia) realmente é constituído por duas fases, uma das fases é a água e a outra fase é a areia. Entretanto, o sistema II (água e gelo) também possui duas fases, uma das fases é a água líquida e a outra fase é o gelo, água no estado sólido. Portanto, o sistema III não é o único constituído por duas fases.

Letra B: Errada. O sistema II não é uma mistura porque apresenta apenas um componente (água) apesar de apresentar duas fases (água líquida e gelo). Todos os outros sistemas são misturas.

Letra C: Errada. O sistema IV realmente não apresenta superfície de separação e, por isso, é uma mistura homogênea. Entretanto, o sistema II apresenta superfície de separação, já que o aspecto visual não é uniforme, ou seja, é possível visualizar a olho nu duas fases diferentes.

Letra D: Certa. O sistema II apresenta uma única substância (água), sendo assim os pontos de fusão e ebulição são constantes.

Resposta: letra D

5. Sobre as propriedades consideradas organolépticas, analise:

- I. Cor.
- II. Ponto de fusão.
- III. Maleabilidade.
- IV. Odor.
- V. Textura.

Estão corretas apenas as alternativas

- a) I e IV
- b) II e III
- c) III e V
- d) I, IV e V

Comentários:

As propriedades que conseguimos sentir com um dos cinco sentidos do corpo humano (tato, visão, olfato, paladar e audição) são chamadas de propriedades organolépticas. Portanto, dentre as alternativas apresentadas na questão, apenas a cor, o odor e a textura são consideradas organolépticas. Portanto, a **alternativa D** é a correta.



Resposta: letra D



QUESTÕES COMENTADAS – FGV

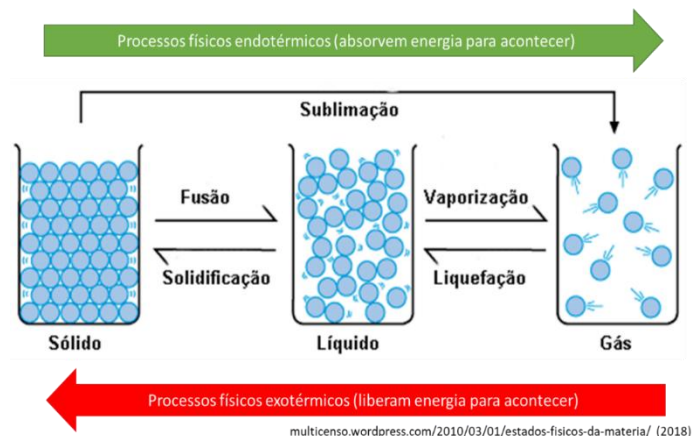
Noções iniciais de Química

1. (FGV - Professor de Química - SEE-PE - 2016) Um método experimental, para verificar se um material homogêneo é constituído por uma ou por duas ou mais substâncias diferentes, baseia-se no estudo da mudança de estado de agregação desse material em função do tempo. Sendo assim, as mudanças de estado que implicam no aumento da desordem do sistema com absorção de calor são

- A) solidificação e sublimação.
- B) vaporização e condensação.
- C) fusão e liquefação.
- D) ebulição e fusão.
- E) evaporação e ressublimação.

Comentários:

Os processos de mudança de estado que precisam absorver energia para acontecer são chamados de endotérmicos e podemos identificá-los no esquema a seguir.



Note que os processos endotérmicos são: fusão, sublimação e vaporização (também chamado de ebulição). Tendo isto em vista, a **alternativa D** é a correta.

Resposta: letra D

2. (FGV - SEDUC- PE - 2016) Um método experimental, para verificar se um material homogêneo é constituído por uma ou por duas ou mais substâncias diferentes, baseia-se no

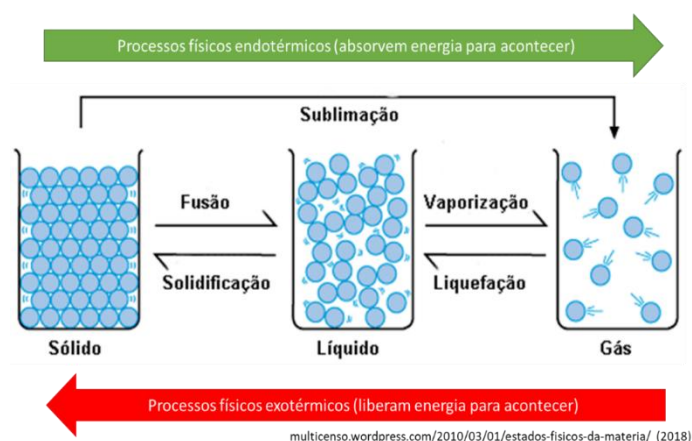


estudo da mudança de estado de agregação desse material em função do tempo. Sendo assim, as mudanças de estado que implicam no aumento da desordem do sistema com absorção de calor são

- a) solidificação e sublimação.
- b) vaporização e condensação.
- c) fusão e liquefação.
- d) ebulição e fusão.
- e) evaporação e ressublimação.

Comentários:

Os processos de mudança de estado que implicam no aumento da desordem do sistema com absorção de calor são os processos endotérmicos, aqueles que aumentam o grau de agitação das moléculas e resultam em um maior afastamento entre elas. Podemos identificá-los no esquema a seguir.



Note que os processos endotérmicos são: fusão, sublimação e vaporização (também chamado de ebulição). Tendo isso em vista, a **alternativa D**, que lista ebulição e fusão, é a correta.

Resposta: letra D

3. (FGV - 2012) Considere os átomos a seguir:

- I. Um átomo com 17 prótons e 18 nêutrons.
- II. Um átomo com um número atômico 16 e uma massa atômica 32.
- III. Um átomo com um número atômico 16 e 18 nêutrons.
- IV. Um átomo com 16 prótons e 18 nêutrons.
- V. Um átomo com 17 prótons e 20 nêutrons.



VI. Um átomo com um número atômico 16 e uma massa atômica 33.

VII. Um átomo com 15 prótons e 16 nêutrons.

Indique, dentre as alternativas a seguir aquela que indica o(s) par(es) isotópico(s).

- a) 2 e 6
- b) 2 e 7
- c) 2 e 3; 2 e 6
- d) 1 e 3, 1 e 4; 2 e 7
- e) 1 e 5; 2 e 3; 2 e 4; 2 e 6; 3 e 6; 4 e 6

Comentários:

Para a resolução dessa questão, o candidato deve se lembrar das três informações básicas:

Isótopos são átomos com mesmo número de prótons.

Número atômico (Z) é o número de prótons de um átomo.

A massa atômica ou número de massa (A) é a soma de Z e número de nêutrons (N), conforme fórmula abaixo:

$$A = Z + N$$

Uma maneira de evitar confusão na resolução dessa questão é montar uma tabela com as **informações fornecidas** e completando as **informações faltantes**, utilizando a equação, como segue:

	Z	N	A
I	17	18	35
II	16	16	32
III	16	18	34
IV	16	18	34
V	17	20	37
VI	16	17	33
VII	15	16	31

Como o enunciado pede os pares de isótopos, devemos buscar todas as combinações 2 a 2 de isótopos (mesmo valor de Z) que são (1 e 5), (2 e 3), (2 e 4), (2 e 6), (3 e 6) e (4 e 6). Cuidado com os “peguinhas”, 3 e 4 possuem o mesmo valor de Z, mas também possuem o mesmo valor de N, portanto, correspondem a mesma espécie atômica, por isso não são um par de isótopos.

Resposta: letra E

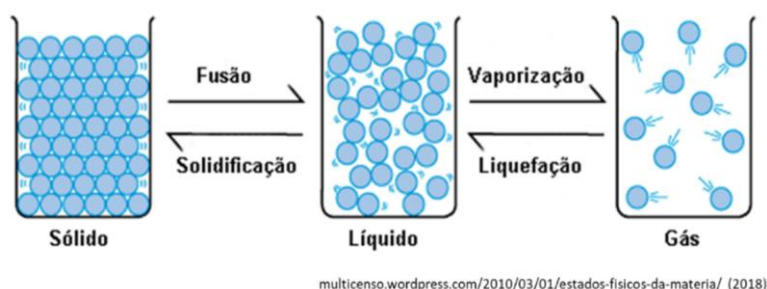


4. (FGV - PC - MA - 2012) Gases, líquidos e sólidos são compostos por partículas microscópicas. Sobre o comportamento dessas partículas em cada uma dessas fases, assinale a afirmativa correta.

- a) Estão mais ordenadas entre si em um líquido do que em um sólido.
- b) Estão mais separadas entre si em um gás do que em um sólido.
- c) Vibram e se movem mais em um sólido do que em um líquido.
- d) Estão mais ordenadas entre si em um gás do que em um líquido.
- e) Vibram mas não apresentam mobilidade alguma em um gás.

Comentários:

O nível de desordem, a distância entre as partículas e a vibração/movimento/mobilidade aumentam com o aumento da temperatura, como ilustrado na imagem abaixo.



Letra A: Errada. Estão **menos** ordenadas entre si em um líquido do que em um sólido.

Letra B: Certa. Estão mais separadas entre si em um gás do que em um sólido.

Letra C: Errada. Vibram e se movem **menos** em um sólido do que em um líquido.

Letra D: Errada. Estão **menos** ordenadas entre si em um gás do que em um líquido.

Letra E: Errada. Vibram e **apresentam alta mobilidade** em um gás.

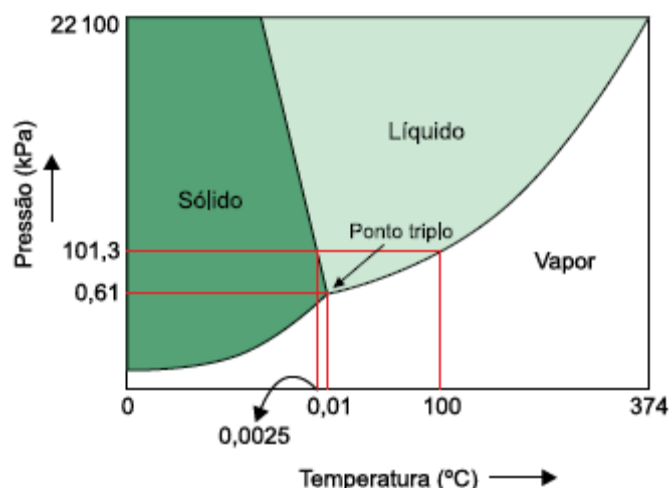
Resposta: letra B



QUESTÕES COMENTADAS – VUNESP

Noções iniciais de Química

1. Analise o diagrama, que representa as fases da água conforme as condições de pressão e temperatura.



(www.researchgate.net. Adaptado.)

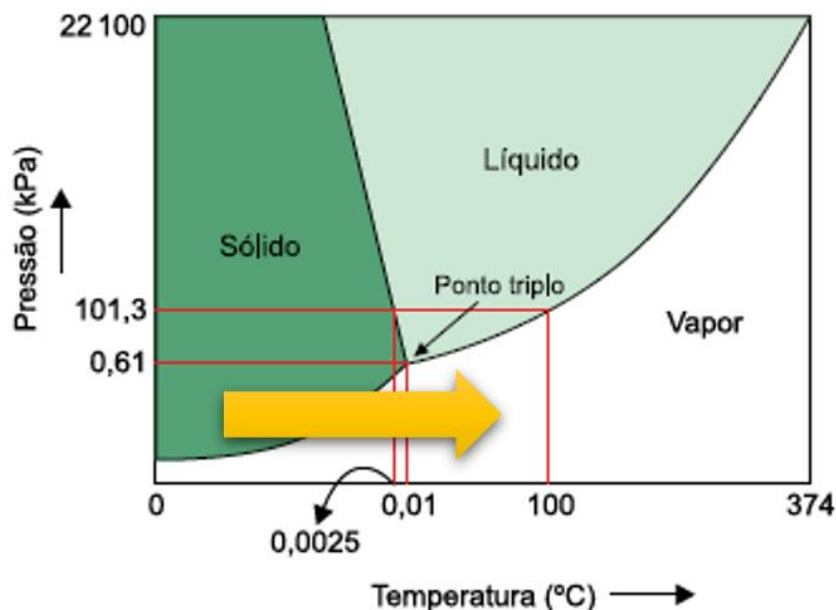
Um dos métodos de conservação de alimentos, conhecido como liofilização, consiste em congelar toda a água neles presente e fazê-la sublimar, ou seja, passar diretamente para o estado gasoso, sem passar pelo estado líquido. São condições de temperatura e pressão em que há possibilidade de ocorrer a sublimação da água:

- temperatura superior a 374 °C e pressão superior a 22 100 kPa.
- temperatura igual a 300 °C e pressão superior a 0,61 kPa.
- temperatura inferior a 0,0025 °C e pressão superior a 101,3 kPa.
- temperatura igual a 0,01 °C e pressão igual a 0,61 kPa.
- temperatura inferior a 0,0025 °C e pressão inferior a 0,61 kPa.

Comentários:

A sublimação da água é, como o próprio enunciado afirma, a passagem do estado sólido diretamente para o estado gasoso. Observe na imagem abaixo, adaptada do enunciado, qual seria a região onde essa transformação física é possível. A seta amarela representa a sublimação. Portanto, a alternativa que possui condições de temperatura e pressão que se encontram nessa região é a **letra E**.





Resposta: letra E

2. (Vunesp - FAMERP - 2016) Durante o ciclo hidrológico ocorrem diversas mudanças de estado físico da água. Um exemplo de mudança de estado denominada sublimação ocorre quando

- a) vapor de água em elevadas altitudes transforma-se em neve.
- b) gotículas de água transformam-se em cristais de gelo no interior das nuvens.
- c) gotículas de água presentes nas nuvens transformam-se em gotas de chuva.
- d) vapor de água em baixas altitudes transforma-se em neblina
- e) vapor de água em baixas altitudes transforma-se em orvalho.

Comentários:

Letra A: Correta. De gasoso diretamente para sólido → **sublimação**.

Letra B: Incorreta. De líquido para sólido → solidificação.

Letra C: Incorreta. De líquido para líquido → não ocorre mudança de estado, apenas uma união de gotículas de água.

Letra D: Incorreta. De gasoso para líquido → condensação ou liquefação.

Letra E: Incorreta. De gasoso para líquido → condensação ou liquefação.

Resposta: letra A

3. (VUNESP - Perito Criminal da PCSP - 2014) Considere as seguintes representações para átomos:





O número de nêutrons de cada átomo é, respectivamente.

- a) 1, 2, 3, 4.
- b) 2, 2, 3, 5.
- c) 0, 0, 0, 0.
- d) 1, 1, 2, 4.
- e) 3, 4, 6, 9.

Comentários:

Questão de resolução simples, basta aplicar a fórmula abaixo:

$$A = Z + N$$

Na representação dos elementos, o índice superior de cada elemento corresponde à massa atômica (A), e o índice inferior é o número atômico ou número de prótons (Z). Os resultados encontrados para o número de nêutrons (N) são 2, 2, 3 e 5, respectivamente para os elementos H, He, Li e Be.

Resposta: letra B

4. (Vunesp - Pref SBC - 2010) De acordo com a definição formal, reação química é uma alteração em que a matéria (reagente ou reagentes) se converte em uma nova substância ou substâncias (produto ou produtos).

Dessa forma, trata-se de uma reação química:

- a) a evaporação da água de um lago.
- b) a digestão enzimática de um alimento.
- c) a sublimação da naftalina.
- d) o derretimento de um cubo de gelo.
- e) a formação de uma geleira.

Comentários:

Letra A: Incorreta. A evaporação da água é apenas uma mudança de estado (transformação física) e não envolve transformação química, ou seja, não é uma reação química (mudança de composição química).

Letra B: Correta. O processo de digestão é uma reação química que converte os compostos presentes no alimento (ex: biomoléculas como polissacarídeos) em substâncias mais simples (ex: monossacarídeos).



Letra C: Incorreta. A sublimação é apenas uma mudança de estado (transformação física) e não envolve transformação química, ou seja, não é uma reação química.

Letra D: Incorreta. O derretimento de um cubo de gelo é um processo de fusão e, por isso, é apenas uma mudança de estado e não envolve transformação química.

Letra E: Incorreta. A formação de uma geleira é um processo de solidificação e, por isso, é apenas uma mudança de estado (transformação física), não envolvendo transformação química.

Resposta: letra B



QUESTÕES COMENTADAS – AOC

Noções iniciais de Química

1. (Instituto AOC - Tec (IF MA)/IF MA - 2023) Para a calibração de uma pipeta volumétrica de 10 mL (volume nominal), encheu-se a pipeta até a marca de aferição com água destilada e, a seguir, pesou-se o conteúdo líquido em uma balança analítica, repetindo-se esse procedimento cinco vezes. A massa média obtida de água destilada dispensada pela pipeta foi de 9,850 g. Sabendo que a temperatura registrada para a água foi de 27,0°C, assinale a alternativa que apresenta o volume real, aproximado, dispensado por essa pipeta.

Dado: densidade água destilada (a 27,0°C) = 0,996 g/mL.

- a) 9,75 mL
- b) 9,77 mL
- c) 9,72 mL
- d) 9,80 mL
- e) 9,89 mL

Comentários:

Nessa questão, basta aplicar a fórmula da densidade para saber o volume real da pipeta.

$$d = \frac{m}{V}$$

Inserindo os valores fornecidos no enunciado na fórmula, tem-se:

$$d = \frac{9,850g}{0,996g/mL} = 9,89mL$$

Portanto, o volume real dispensado pela pipeta é de aproximadamente 9,89 mL.

Resposta: letra E

2. (AOC - UEFS- 2018) Considerando a mudança de estado físico que ocorre quando uma substância sólida é aquecida, informe se é verdadeiro (V) ou falso (F) o que se afirma a seguir e assinale a alternativa com a sequência correta.

() A passagem do estado sólido para o estado líquido denomina-se liquefação. () Durante a fusão, a temperatura é constante. () Uma substância sólida não tem volume definido, assumindo o volume e a



forma do recipiente em que se encontra. () Pode ocorrer a mudança direta do estado sólido para o estado gasoso.

- a) V – F – F – V.
- b) F – V – F – V.
- c) F – F – V – V.
- d) V – V – V – F.
- e) V – F – V – V.

Comentários:

Afirmativa I: Falso. A passagem do estado sólido para o estado líquido denomina-se **fusão**. A mudança de estado denominada **liquefação** é a que ocorre do estado gasoso para o estado líquido.

Afirmativa II: Verdadeiro. Para uma substância pura, as temperaturas de fusão e de ebulição são **constantes** durante o processo.

Afirmativa III: Falso. A definição é válida para uma substância no estado líquido. Uma substância **líquida** não tem volume definido, assumindo o volume e a forma do recipiente em que se encontra. Já uma substância sólida tem volume e forma definidos.

Afirmativa IV: Verdadeiro. A mudança direta do estado sólido para o estado gasoso denomina-se **sublimação**.

Assim, a sequência correta é: F, V, F, V.

Resposta: letra B



QUESTÕES COMENTADAS

Noções iniciais de Química

1. (IDECAN - Per Crim - COGERP SE/Área 7 - 2023) Substâncias explosivas podem ser classificadas como de combustão completa ou combustão incompleta. Explosivos são considerados de combustão completa quando a quantidade de oxigênio presente na molécula é igual ou superior a quantidade necessária para transformar os átomos de carbono e hidrogênio, presentes na molécula, em dióxido de carbono e água, respectivamente, após sua reação de combustão. Assinale a alternativa que contém, respectivamente, a classificação quanto ao tipo de combustão dos compostos nitroglicerina ($C_3H_5O_9N_3$), o TNT ($C_6H_2(NO_2)_3$), o PETN ($[C(CH_2ONO_2)_4]$) e o HMX ($C_4H_8N_8O_8$)

- a) Completa, incompleta, completa e completa.
- b) Completa, incompleta, completa e incompleta.
- c) Completa, incompleta, incompleta e completa.
- d) Completa, incompleta, incompleta e incompleta.
- e) Incompleta, incompleta, incompleta e incompleta.

Comentários:

Para resolver a questão em tela, montamos uma equação geral para combustão completa, em que temos a geração de H_2O e CO_2 :



De acordo com o enunciado, precisamos verificar se a quantidade de oxigênio presente na molécula (z) é igual ou superior a quantidade necessária para transformar os átomos de carbono e hidrogênio, presentes na molécula, em dióxido de carbono e água, respectivamente.

$$z \geq \frac{y}{2} + 2x$$

Portanto, se a quantidade for igual ou superior a combustão será completa, veja os resultados na tabela abaixo.

Compostos	$z \geq \frac{y}{2} + 2x$	Combustão
Nitroglicerina ($C_3H_5O_9N_3$),	$9 \geq \frac{5}{2} + 2 \times 3$ $9 \geq 8,5$	Completa



TNT ($C_6H_2(NO_2)_3$)	$6 \geq \frac{2}{2} + 2 \times 6$ $6 \geq 13$	Incompleta
PETN ($[C(CH_2ONO_2)_4]$)	$12 \geq \frac{8}{2} + 2 \times 5$ $12 \geq 14$	Incompleta
HMX ($C_4H_8N_8O_8$)	$8 \geq \frac{8}{2} + 2 \times 4$ $8 \geq 12$	Incompleta

Resposta: letra D

2. (Instituto AOCP - Tec (IF MA)/IF MA - 2023) Para a calibração de uma pipeta volumétrica de 10 mL (volume nominal), encheu-se a pipeta até a marca de aferição com água destilada e, a seguir, pesou-se o conteúdo líquido em uma balança analítica, repetindo-se esse procedimento cinco vezes. A massa média obtida de água destilada dispensada pela pipeta foi de 9,850 g. Sabendo que a temperatura registrada para a água foi de 27,0°C, assinale a alternativa que apresenta o volume real, aproximado, dispensado por essa pipeta.

Dado: densidade água destilada (a 27,0°C) = 0,996 g/mL.

- a) 9,75 mL
- b) 9,77 mL
- c) 9,72 mL
- d) 9,80 mL
- e) 9,89 mL

Comentários:

Nessa questão, basta aplicar a fórmula da densidade para saber o volume real da pipeta.

$$d = \frac{m}{V}$$

Inserindo os valores fornecidos no enunciado na fórmula, tem-se:

$$d = \frac{9,850g}{0,996g / mL} = 9,89mL$$

Portanto, o volume real dispensado pela pipeta é de aproximadamente 9,89 mL.



Resposta: letra E

3. (VUNESP - Perito Criminal da PCSP - 2014) Considere as seguintes representações para átomos:



O número de nêutrons de cada átomo é, respectivamente.

- a) 1, 2, 3, 4.
- b) 2, 2, 3, 5.
- c) 0, 0, 0, 0.
- d) 1, 1, 2, 4.
- e) 3, 4, 6, 9.

Comentários:

Questão de resolução simples, basta aplicar a fórmula abaixo:

$$A = Z + N$$

Na representação dos elementos, o índice superior de cada elemento corresponde à massa atômica (A), e o índice inferior é o número atômico ou número de prótons (Z). Os resultados encontrados para o número de nêutrons (N) são 2, 2, 3 e 5, respectivamente para os elementos H, He, Li e Be.

Resposta: letra B

4. (FGV - 2012) Considere os átomos a seguir:

- I. Um átomo com 17 prótons e 18 nêutrons.
- II. Um átomo com um número atômico 16 e uma massa atômica 32.
- III. Um átomo com um número atômico 16 e 18 nêutrons.
- IV. Um átomo com 16 prótons e 18 nêutrons.
- V. Um átomo com 17 prótons e 20 nêutrons.
- VI. Um átomo com um número atômico 16 e uma massa atômica 33.
- VII. Um átomo com 15 prótons e 16 nêutrons.

Indique, dentre as alternativas a seguir aquela que indica o(s) par(es) isotópico(s).



- a) 2 e 6
- b) 2 e 7
- c) 2 e 3; 2 e 6
- d) 1 e 3, 1 e 4; 2 e 7
- e) 1 e 5; 2 e 3; 2 e 4; 2 e 6; 3 e 6; 4 e 6

Comentários:

Para a resolução dessa questão, o candidato deve se lembrar das três informações básicas:

Isótopos são átomos com mesmo número de prótons.

Número atômico (Z) é o número de prótons de um átomo.

A massa atômica ou número de massa (A) é a soma de Z e número de nêutrons (N), conforme fórmula abaixo:

$$A = Z + N$$

Uma maneira de evitar confusão na resolução dessa questão é montar uma tabela com as **informações fornecidas** e completando as **informações faltantes**, utilizando a equação, como segue:

	Z	N	A
I	17	18	35
II	16	16	32
III	16	18	34
IV	16	18	34
V	17	20	37
VI	16	17	33
VII	15	16	31

Como o enunciado pede os pares de isótopos, devemos buscar todas as combinações 2 a 2 de isótopos (mesmo valor de Z) que são (1 e 5), (2 e 3), (2 e 4), (2 e 6), (3 e 6) e (4 e 6). Cuidado com os “peguinhas”, 3 e 4 possuem o mesmo valor de Z, mas também possuem o mesmo valor de N, portanto, correspondem a mesma espécie atômica, por isso não são um par de isótopos.

Resposta: letra E

5. (Marinha - EAM - 2015) Considere uma certa quantidade de água, inicialmente no estado sólido. Aquecendo gradativamente de forma homogênea toda essa quantidade de água, ela passa para o estado líquido e, mantendo-se o mesmo regime de aquecimento, a mesma passa do estado líquido para o



gasoso. Sobre as propriedades da água nos referidos estados físicos e sobre os processos de mudança de estado físico pode-se afirmar que:

- A) o processo de mudança do estado sólido para o estado líquido chama-se fusão.
- B) o processo de mudança do estado sólido para o estado líquido chama-se liquefação.
- C) a densidade da água no estado sólido é maior que no estado líquido.
- D) o processo de mudança do estado líquido para o estado gasoso chama-se condensação.
- E) no processo de mudança no estado sólido para o estado líquido, a água perde calor.

Comentários:

Vamos revisar todas as mudanças de estado físico e o fluxo de energia envolvida.

De líquido para sólido → **solidificação** → **libera energia (exotérmico)**.

De gasoso para líquido → **condensação ou liquefação** → **libera energia (exotérmico)**.

De sólido para líquido → **fusão ou “derretimento”** → **absorve energia (endotérmico)**.

De líquido para gasoso → **vaporização ou ebulição** → **absorve energia (endotérmico)**.

Portanto, a **alternativa A** é a única alternativa correta.

Resposta: letra A

6. (Marinha - EAM - 2016) Considere os fenômenos cotidianos apresentados a seguir:

I - Uma bolinha de naftalina esquecida no guarda-roupas.

II - Um pote contendo água colocado no congelador.

III - Uma toalha molhada estendida no varal.

IV - O derretimento de uma bola de sorvete.

Supondo que cada caso seja observado por tempo o bastante para que todos evidenciem alterações na matéria, marque a opção que relaciona corretamente o fenômeno ao nome da mudança de estado físico.

- A) I - Evaporação; II - Solidificação; III - Fusão; IV - Sublimação.
- B) I - Sublimação; II - Congelamento; III - Evaporação; IV - Liquefação.
- C) I - Fusão; II - Sublimação; III - Evaporação; IV - Solidificação.



D) I - Sublimação; II - Solidificação; III - Evaporação; IV - Fusão.

E) I - Evaporação; II - Sublimação; III - Fusão; IV - Solidificação.

Comentários:

I - De sólido para gasoso → sublimação.

II – De líquido para sólido → solidificação.

III – De líquido para gasoso → evaporação.

IV – De sólido para líquido → fusão.

Resposta: letra D

7. (FGV - Professor de Química - SEE-PE - 2016) Um método experimental, para verificar se um material homogêneo é constituído por uma ou por duas ou mais substâncias diferentes, baseia-se no estudo da mudança de estado de agregação desse material em função do tempo. Sendo assim, as mudanças de estado que implicam no aumento da desordem do sistema com absorção de calor são

A) solidificação e sublimação.

B) vaporização e condensação.

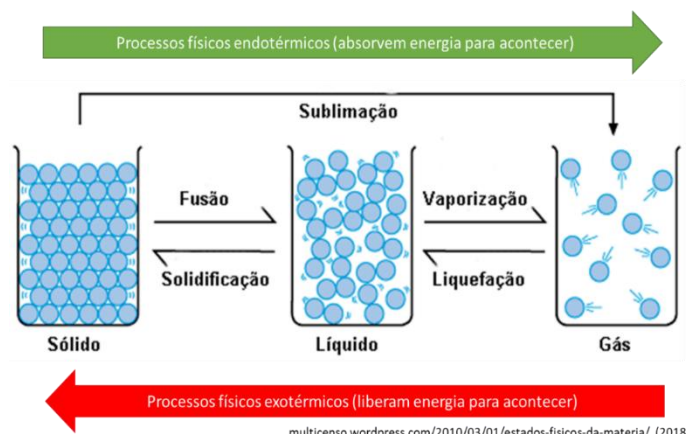
C) fusão e liquefação.

D) ebulição e fusão.

E) evaporação e ressublimação.

Comentários:

Os processos de mudança de estado que precisam absorver energia para acontecer são chamados de endotérmicos e podemos identificá-los no esquema a seguir.



Note que os processos endotérmicos são: fusão, sublimação e vaporização (também chamado de ebulição). Tendo isto em vista, a alternativa D é a correta.

Resposta: letra D

8. (Marinha – EAM - 2012) Observe o diagrama das mudanças de estados físicos da matéria representado abaixo.



Assinale a opção que apresenta o fenômeno correspondente às letras A, B, C e D, nesta ordem.

- A) Sublimação, fusão, ebulição e solidificação.
- B) Solidificação, ebulição, liquefação e sublimação.
- C) Solidificação, condensação, fusão e vaporização
- D) Condensação, liquefação, fusão e ressublimação.
- E) Ressublimação, condensação, liquefação e calefação.

Comentários:

Fenômeno A: de líquido para sólido → **solidificação**.

Fenômeno B: de gasoso para líquido → **condensação ou liquefação**.

Fenômeno C: de sólido para líquido → **fusão ou “derretimento”**.

Fenômeno D: de líquido para gasoso → **vaporização ou ebulição**.

Resposta: letra C

9. (IBFC - PM-MG - 2015) O gelo flutua na água porque sua densidade é menor, o que permite concluir que a densidade da água diminui com sua mudança de fase. Assinale a alternativa correta em relação à mudança de densidade dos materiais quando mudam de fases.

- A) Essa diminuição de densidade ao se solidificar, embora incomum, não é exclusiva apenas da água.
- B) Nos materiais no estado sólidos, a distância entre os átomos ou moléculas é sempre maior de que no estado líquido.



- C) Substâncias sólidas cristalinas serão sempre menos densas no estado sólido do que no estado líquido.
- D) O gelo flutua na água devido mais ao efeito da tensão superficial da água do que à densidade propriamente dita.

Comentários:

Letra A: correta. A diminuição de densidade ao se solidificar é conhecida como **dilatação anômala** ou, no caso da água, **comportamento anômalo da água**. Embora seja incomum, esse comportamento também é observado nos elementos químicos gálio, o germânio, o bismuto e o antimônio.

Letra B: incorreta. Via de regra, no estado sólido as moléculas ficam mais próximas entre si, fazendo com que uma determinada massa de substância ocupe um volume menor, ou seja, resulte em uma densidade maior, já que volume e densidade são inversamente proporcionais.

Letra C: incorreta. Conforme explicado na alternativa anterior.

Letra D: incorreta. A dilatação anômala da água faz com que, entre 0 e 4°C, a densidade da água no estado sólido (gelo) seja menor que a da água líquida e é isso que permite o gelo flutuar em água.

Resposta: letra A

10. (CESPE - Oficial - PM-MA - 2017) Sabendo que o número atômico do carbono é igual a 6, julgue o item que se segue:

Um átomo neutro do isótopo de carbono-12, no estado fundamental, apresenta, em seu núcleo, 6 prótons e 6 nêutrons; além disso, apresenta 6 elétrons na região extranuclear.

Comentários:

O número 12, após o nome do elemento, representa a massa (A) desse isótopo. O enunciado informa ainda que seu número atômico (Z) é 6, o que também poderia ser verificado na tabela periódica caso não fosse informado. Conhecendo, A e Z, podemos encontrar o número de nêutrons (N) por meio da relação abaixo:

$$A = Z + N$$

$$12 = 6 + N$$

$$N = 6 \text{ nêutrons}$$

Sabendo que o átomo é eletronicamente neutro, podemos afirmar que o seu número de prótons (Z, número atômico), 6, é igual ao número de elétrons, ou seja, o **item certo**. Não se esqueça, prótons e nêutrons são as partículas que estão no núcleo e os elétrons estão em constante movimento na eletrosfera.

Resposta: correta



11. (ISAE - Aspirante - PM-AM - 2011) O sódio tem número atômico igual a 11 e número de massa igual a 23. Assim, o número de prótons, o de nêutrons e o de elétrons em um átomo de sódio são respectivamente:

- A) 11, 23, 11;
- B) 11, 11, 23;
- C) 23, 11, 11;
- D) 11, 12, 11.

Comentários:

Não se esqueça que número atômico (Z) é sinônimo de número de prótons, que, nesse caso, é igual a **11**. Se a massa (A) corresponde à soma dos prótons (Z) e nêutrons (N), então:

$$A = Z + N$$

$$23 = 11 + N$$

$$N = \mathbf{12}$$

Por fim, considerando que o átomo é neutro, então número de elétrons é igual ao número de prótons, **11**. Portanto, a sequência para o gabarito é 11, 12 e 11.

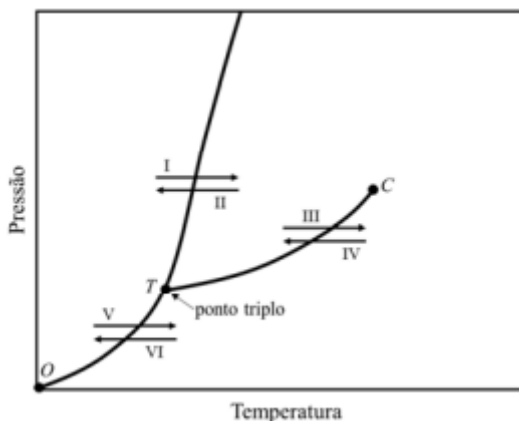
Resposta: letra D



LISTA DE QUESTÕES - CEBRASPE

Noções iniciais de Química

O gráfico seguinte mostra um diagrama de fases genérico de uma substância pura.



1. (CEBRASPE/CESPE - SEDUC-AL – 2021) Com relação a esse gráfico e aos sólidos, líquidos e gases no universo da química, julgue o item seguinte. No gráfico apresentado, o segmento de curva entre os pontos *O* e *T* representa a curva de sublimação, que separa a fase sólida da fase gasosa, e cada ponto desse segmento é uma condição de equilíbrio entre o sólido e o gás.

2. (CEBRASPE/CESPE - SEDUC-AL – 2021) Com relação a esse gráfico e aos sólidos, líquidos e gases no universo da química, julgue o item seguinte.

No gráfico apresentado, os processos indicados pelas setas I e IV representam, respectivamente, os processos de vaporização e congelamento da referida substância.

3. (CEBRASPE/CESPE - SEDUC-AL – 2021) Com relação a esse gráfico e aos sólidos, líquidos e gases no universo da química, julgue o item seguinte.

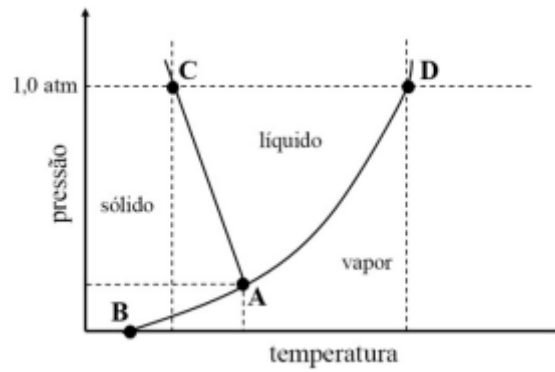
Nos líquidos, a ordem de ligação tem mais curto alcance que nos sólidos cristalinos.

4. (CEBRASPE/CESPE - Oficial - PM-MA - 2017) Sabendo que o número atômico do carbono é igual a 6, julgue o item que se segue:

Um átomo neutro do isótopo de carbono-12, no estado fundamental, apresenta, em seu núcleo, 6 prótons e 6 nêutrons; além disso, apresenta 6 elétrons na região extranuclear.

5. (CEBRASPE/CESPE - Professor Química I - IFF - 2018) Considerando o gráfico precedente, que ilustra o diagrama de fases para um composto molecular puro, assinale a opção correta.





- a) O trecho **AD** representa as combinações de temperatura e pressão para as quais pode existir equilíbrio entre as fases líquida e sólida.
- b) O ponto **C** representa o ponto de ebulição normal do líquido.
- c) O trecho **AB** indica a existência apenas da fase sólida.
- d) Do gráfico infere-se que, quanto maior for o valor da pressão externa, mais alto será o ponto de fusão do composto.
- e) No ponto **A**, há coexistência entre as fases vapor, líquida e sólida em equilíbrio.



GABARITO

GABARITO



- 1 Certo
- 2 Errado
- 3 Certo
- 4 Certo
- 5 E



LISTA DE QUESTÕES - IDECAN

Noções iniciais de Química

1. (IDECAN - Per Crim - COGERP SE/Área 7 - 2023) Substâncias explosivas podem ser classificadas como de combustão completa ou combustão incompleta. Explosivos são considerados de combustão completa quando a quantidade de oxigênio presente na molécula é igual ou superior a quantidade necessária para transformar os átomos de carbono e hidrogênio, presentes na molécula, em dióxido de carbono e água, respectivamente, após sua reação de combustão. Assinale a alternativa que contém, respectivamente, a classificação quanto ao tipo de combustão dos compostos nitroglicerina ($C_3H_5O_9N_3$), o TNT ($C_6H_2(NO_2)_3$), o PETN ($[C(CH_2ONO_2)_4]$) e o HMX ($C_4H_8N_8O_8$)

- a) Completa, incompleta, completa e completa.
- b) Completa, incompleta, completa e incompleta.
- c) Completa, incompleta, incompleta e completa.
- d) Completa, incompleta, incompleta e incompleta.
- e) Incompleta, incompleta, incompleta e incompleta.

2. (IDECAN - IF - PB - 2019) Liofilização ou criodessecação é um processo de desidratação em que o produto é congelado sob vácuo. A liofilização é usada na manufatura do leite em pó instantâneo, do café solúvel e por indústrias farmacêuticas. Assinale o fenômeno físico que explica a remoção de água, nessa técnica.

- a) Condensação
- b) Sublimação
- c) Liquefação
- d) Elevação crioscópica
- e) Elevação ebulioscópica

3. (IDECAN - Prefeitura de São Gonçalo do Rio Abaixo - 2017) Um fenômeno é qualquer transformação que ocorre num sistema. Comparando-se os estados inicial e final do sistema envolvido, podemos observar um fenômeno físico ou químico. São considerados exemplos de fenômenos químicos:

- a) Digestão de alimentos e fundição do ferro.
- b) Azedamento do leite e queima da madeira.



- c) Fundição do ferro e combustão da gasolina.
- d) Evaporação da água e explosão de uma bomba.

4. (IDECAN - Prefeitura de São Gonçalo do Rio Abaixo - 2017) Considere os seguintes sistemas:

I. Água e sal. II. Água e gelo. III. Água e areia. IV. Gás carbônico e oxigênio.

A partir disso, assinale a alternativa correta.

- a) Somente o sistema III é constituído por duas fases.
- b) Todos os sistemas constituem misturas, pois apresentam mais de um componente.
- c) Os sistemas II e IV não apresentam superfície de separação, ou seja, apresentam aspecto visual uniforme.
- d) O sistema II possui ponto de fusão e ponto de ebulição constantes, sendo, portanto, uma substância pura.

5. Sobre as propriedades consideradas organolépticas, analise:

- I. Cor.**
- II. Ponto de fusão.**
- III. Maleabilidade.**
- IV. Odor.**
- V. Textura.**

Estão corretas apenas as alternativas

- a) I e IV
- b) II e III
- c) III e V
- d) I, IV e V



GABARITO

GABARITO



- | | |
|---|---|
| 1 | D |
| 2 | B |
| 3 | B |
| 4 | D |
| 5 | D |



LISTA DE QUESTÕES – FGV

Noções iniciais de Química

1. (FGV - Professor de Química - SEE-PE - 2016) Um método experimental, para verificar se um material homogêneo é constituído por uma ou por duas ou mais substâncias diferentes, baseia-se no estudo da mudança de estado de agregação desse material em função do tempo. Sendo assim, as mudanças de estado que implicam no aumento da desordem do sistema com absorção de calor são

- A) solidificação e sublimação.
- B) vaporização e condensação.
- C) fusão e liquefação.
- D) ebulição e fusão.
- E) evaporação e ressublimação.

2. (FGV - SEDUC- PE - 2016) Um método experimental, para verificar se um material homogêneo é constituído por uma ou por duas ou mais substâncias diferentes, baseia-se no estudo da mudança de estado de agregação desse material em função do tempo. Sendo assim, as mudanças de estado que implicam no aumento da desordem do sistema com absorção de calor são

- a) solidificação e sublimação.
- b) vaporização e condensação.
- c) fusão e liquefação.
- d) ebulição e fusão.
- e) evaporação e ressublimação.

3. (FGV - 2012) Considere os átomos a seguir:

I. Um átomo com 17 prótons e 18 nêutrons.

II. Um átomo com um número atômico 16 e uma massa atômica 32.

III. Um átomo com um número atômico 16 e 18 nêutrons.



IV. Um átomo com 16 prótons e 18 nêutrons.

V. Um átomo com 17 prótons e 20 nêutrons.

VI. Um átomo com um número atômico 16 e uma massa atômica 33.

VII. Um átomo com 15 prótons e 16 nêutrons.

Indique, dentre as alternativas a seguir aquela que indica o(s) par(es) isotópico(s).

a) 2 e 6

b) 2 e 7

c) 2 e 3; 2 e 6

d) 1 e 3, 1 e 4; 2 e 7

e) 1 e 5; 2 e 3; 2 e 4; 2 e 6; 3 e 6; 4 e 6

4. (FGV - PC - MA - 2012) Gases, líquidos e sólidos são compostos por partículas microscópicas. Sobre o comportamento dessas partículas em cada uma dessas fases, assinale a afirmativa correta.

a) Estão mais ordenadas entre si em um líquido do que em um sólido.

b) Estão mais separadas entre si em um gás do que em um sólido.

c) Vibram e se movem mais em um sólido do que em um líquido.

d) Estão mais ordenadas entre si em um gás do que em um líquido.

e) Vibram mas não apresentam mobilidade alguma em um gás.



GABARITO

GABARITO



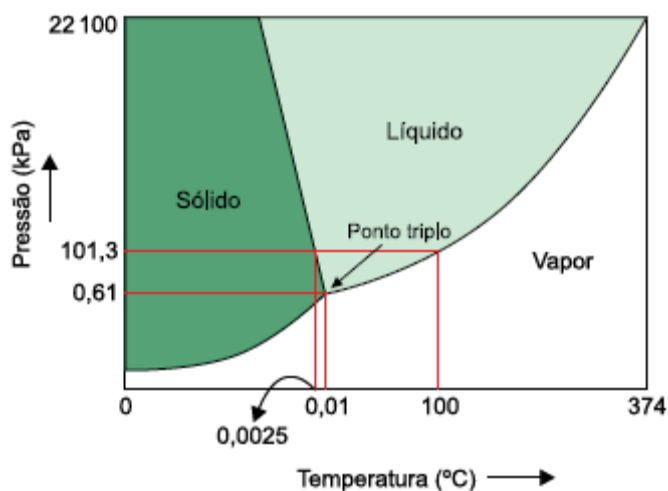
- | | |
|----------|----------|
| 1 | D |
| 2 | D |
| 3 | E |
| 4 | B |



LISTA DE QUESTÕES – VUNESP

Noções iniciais de Química

1. Analise o diagrama, que representa as fases da água conforme as condições de pressão e temperatura.



(www.researchgate.net. Adaptado.)

Um dos métodos de conservação de alimentos, conhecido como liofilização, consiste em congelar toda a água neles presente e fazê-la sublimar, ou seja, passar diretamente para o estado gasoso, sem passar pelo estado líquido. São condições de temperatura e pressão em que há possibilidade de ocorrer a sublimação da água:

- temperatura superior a 374 °C e pressão superior a 22 100 kPa.
- temperatura igual a 300 °C e pressão superior a 0,61 kPa.
- temperatura inferior a 0,0025 °C e pressão superior a 101,3 kPa.
- temperatura igual a 0,01 °C e pressão igual a 0,61 kPa.
- temperatura inferior a 0,0025 °C e pressão inferior a 0,61 kPa.

2. (Vunesp - FAMERP - 2016) Durante o ciclo hidrológico ocorrem diversas mudanças de estado físico da água. Um exemplo de mudança de estado denominada sublimação ocorre quando

- vapor de água em elevadas altitudes transforma-se em neve.
- gotículas de água transformam-se em cristais de gelo no interior das nuvens.
- gotículas de água presentes nas nuvens transformam-se em gotas de chuva.
- vapor de água em baixas altitudes transforma-se em neblina



e) vapor de água em baixas altitudes transforma-se em orvalho.

3. (VUNESP - Perito Criminal da PCSP - 2014) Considere as seguintes representações para átomos:



O número de nêutrons de cada átomo é, respectivamente.

- a) 1, 2, 3, 4.
- b) 2, 2, 3, 5.
- c) 0, 0, 0, 0.
- d) 1, 1, 2, 4.
- e) 3, 4, 6, 9.

4. (Vunesp - Pref SBC - 2010) De acordo com a definição formal, reação química é uma alteração em que a matéria (reagente ou reagentes) se converte em uma nova substância ou substâncias (produto ou produtos).

Dessa forma, trata-se de uma reação química:

- a) a evaporação da água de um lago.
- b) a digestão enzimática de um alimento.
- c) a sublimação da naftalina.
- d) o derretimento de um cubo de gelo.
- e) a formação de uma geleira.



GABARITO

GABARITO



- | | |
|----------|----------|
| 1 | E |
| 2 | A |
| 3 | B |
| 4 | B |



LISTA DE QUESTÕES – AOC

Noções iniciais de Química

1. (Instituto AOC - Tec (IF MA)/IF MA - 2023) Para a calibração de uma pipeta volumétrica de 10 mL (volume nominal), encheu-se a pipeta até a marca de aferição com água destilada e, a seguir, pesou-se o conteúdo líquido em uma balança analítica, repetindo-se esse procedimento cinco vezes. A massa média obtida de água destilada dispensada pela pipeta foi de 9,850 g. Sabendo que a temperatura registrada para a água foi de 27,0°C, assinale a alternativa que apresenta o volume real, aproximado, dispensado por essa pipeta.

Dado: densidade água destilada (a 27,0°C) = 0,996 g/mL.

- a) 9,75 mL
- b) 9,77 mL
- c) 9,72 mL
- d) 9,80 mL
- e) 9,89 mL

2. (AOC - UEFS- 2018) Considerando a mudança de estado físico que ocorre quando uma substância sólida é aquecida, informe se é verdadeiro (V) ou falso (F) o que se afirma a seguir e assinale a alternativa com a sequência correta.

() A passagem do estado sólido para o estado líquido denomina-se liquefação. () Durante a fusão, a temperatura é constante. () Uma substância sólida não tem volume definido, assumindo o volume e a forma do recipiente em que se encontra. () Pode ocorrer a mudança direta do estado sólido para o estado gasoso.

- a) V – F – F – V.
- b) F – V – F – V.
- c) F – F – V – V.
- d) V – V – V – F.
- e) V – F – V – V.



GABARITO

GABARITO



1 E

2 B



LISTA DE QUESTÕES

Noções iniciais de Química

1. (IDECAN - Per Crim - COGERP SE/Área 7 - 2023) Substâncias explosivas podem ser classificadas como de combustão completa ou combustão incompleta. Explosivos são considerados de combustão completa quando a quantidade de oxigênio presente na molécula é igual ou superior a quantidade necessária para transformar os átomos de carbono e hidrogênio, presentes na molécula, em dióxido de carbono e água, respectivamente, após sua reação de combustão. Assinale a alternativa que contém, respectivamente, a classificação quanto ao tipo de combustão dos compostos nitroglicerina ($C_3H_5O_9N_3$), o TNT ($C_6H_2(NO_2)_3$), o PETN ($[C(CH_2ONO_2)_4]$) e o HMX ($C_4H_8N_8O_8$)

- a) Completa, incompleta, completa e completa.
- b) Completa, incompleta, completa e incompleta.
- c) Completa, incompleta, incompleta e completa.
- d) Completa, incompleta, incompleta e incompleta.
- e) Incompleta, incompleta, incompleta e incompleta.

2. (Instituto AOCP - Tec (IF MA)/IF MA - 2023) Para a calibração de uma pipeta volumétrica de 10 mL (volume nominal), encheu-se a pipeta até a marca de aferição com água destilada e, a seguir, pesou-se o conteúdo líquido em uma balança analítica, repetindo-se esse procedimento cinco vezes. A massa média obtida de água destilada dispensada pela pipeta foi de 9,850 g. Sabendo que a temperatura registrada para a água foi de $27,0^\circ C$, assinale a alternativa que apresenta o volume real, aproximado, dispensado por essa pipeta.

Dado: densidade água destilada (a $27,0^\circ C$) = 0,996 g/mL.

- a) 9,75 mL
- b) 9,77 mL
- c) 9,72 mL
- d) 9,80 mL
- e) 9,89 mL

3. (VUNESP - Perito Criminal da PCSP - 2014) Considere as seguintes representações para átomos:





O número de nêutrons de cada átomo é, respectivamente.

- a) 1, 2, 3, 4.
- b) 2, 2, 3, 5.
- c) 0, 0, 0, 0.
- d) 1, 1, 2, 4.
- e) 3, 4, 6, 9.

4. (FGV - 2012) Considere os átomos a seguir:

- I. Um átomo com 17 prótons e 18 nêutrons.
- II. Um átomo com um número atômico 16 e uma massa atômica 32.
- III. Um átomo com um número atômico 16 e 18 nêutrons.
- IV. Um átomo com 16 prótons e 18 nêutrons.
- V. Um átomo com 17 prótons e 20 nêutrons.
- VI. Um átomo com um número atômico 16 e uma massa atômica 33.
- VII. Um átomo com 15 prótons e 16 nêutrons.

Indique, dentre as alternativas a seguir aquela que indica o(s) par(es) isotópico(s).

- a) 2 e 6
- b) 2 e 7
- c) 2 e 3; 2 e 6
- d) 1 e 3, 1 e 4; 2 e 7
- e) 1 e 5; 2 e 3; 2 e 4; 2 e 6; 3 e 6; 4 e 6

5. (Marinha - EAM - 2015) Considere uma certa quantidade de água, inicialmente no estado sólido. Aquecendo gradativamente de forma homogênea toda essa quantidade de água, ela passa para o estado líquido e, mantendo-se o mesmo regime de aquecimento, a mesma passa do estado líquido para o



gasoso. Sobre as propriedades da água nos referidos estados físicos e sobre os processos de mudança de estado físico pode-se afirmar que:

- A) o processo de mudança do estado sólido para o estado líquido chama-se fusão.
- B) o processo de mudança do estado sólido para o estado líquido chama-se liquefação.
- C) a densidade da água no estado sólido é maior que no estado líquido.
- D) o processo de mudança do estado líquido para o estado gasoso chama-se condensação.
- E) no processo de mudança no estado sólido para o estado líquido, a água perde calor.

6. (Marinha - EAM - 2016) Considere os fenômenos cotidianos apresentados a seguir:

I - Uma bolinha de naftalina esquecida no guarda-roupas.

II - Um pote contendo água colocado no congelador.

III - Uma toalha molhada estendida no varal.

IV - O derretimento de uma bola de sorvete.

Supondo que cada caso seja observado por tempo o bastante para que todos evidenciem alterações na matéria, marque a opção que relaciona corretamente o fenômeno ao nome da mudança de estado físico.

- A) I - Evaporação; II - Solidificação; III - Fusão; IV - Sublimação.
- B) I - Sublimação; II - Congelamento; III - Evaporação; IV - Liquefação.
- C) I - Fusão; II - Sublimação; III - Evaporação; IV - Solidificação.
- D) I - Sublimação; II - Solidificação; III - Evaporação; IV - Fusão.
- E) I - Evaporação; II - Sublimação; III - Fusão; IV - Solidificação.

7. (FGV - Professor de Química - SEE-PE - 2016) Um método experimental, para verificar se um material homogêneo é constituído por uma ou por duas ou mais substâncias diferentes, baseia-se no estudo da mudança de estado de agregação desse material em função do tempo. Sendo assim, as mudanças de estado que implicam no aumento da desordem do sistema com absorção de calor são

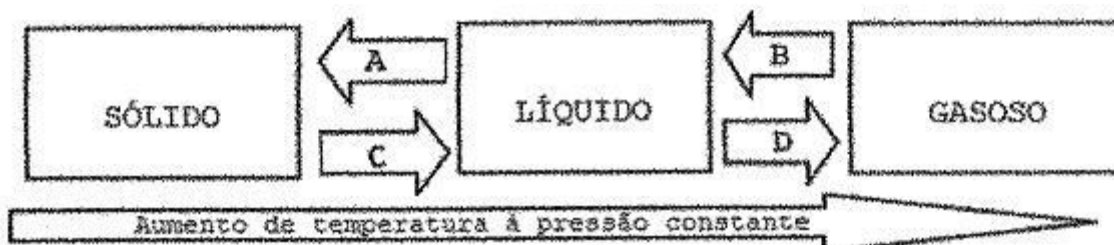
- A) solidificação e sublimação.
- B) vaporização e condensação.
- C) fusão e liquefação.



D) ebulição e fusão.

E) evaporação e ressublimação.

8. (Marinha – EAM - 2012) Observe o diagrama das mudanças de estados físicos da matéria representado abaixo.



Assinale a opção que apresenta o fenômeno correspondente às letras A, B, C e D, nesta ordem.

A) Sublimação, fusão, ebulição e solidificação.

B) Solidificação, ebulição, liquefação e sublimação.

C) Solidificação, condensação, fusão e vaporização

D) Condensação, liquefação, fusão e ressublimação.

E) Ressublimação, condensação, liquefação e calefação.

9. (IBFC - PM-MG - 2015) O gelo flutua na água porque sua densidade é menor, o que permite concluir que a densidade da água diminui com sua mudança de fase. Assinale a alternativa correta em relação à mudança de densidade dos materiais quando mudam de fases.

A) Essa diminuição de densidade ao se solidificar, embora incomum, não é exclusiva apenas da água.

B) Nos materiais no estado sólidos, a distância entre os átomos ou moléculas é sempre maior de que no estado líquido.

C) Substâncias sólidas cristalinas serão sempre menos densas no estado sólido do que no estado líquido.

D) O gelo flutua na água devido mais ao efeito da tensão superficial da água do que à densidade propriamente dita.

10. (CESPE - Oficial - PM-MA - 2017) Sabendo que o número atômico do carbono é igual a 6, julgue o item que se segue:

Um átomo neutro do isótopo de carbono-12, no estado fundamental, apresenta, em seu núcleo, 6 prótons e 6 nêutrons; além disso, apresenta 6 elétrons na região extranuclear.



11. (ISAE - Aspirante - PM-AM - 2011) O sódio tem número atômico igual a 11 e número de massa igual a 23. Assim, o número de prótons, o de nêutrons e o de elétrons em um átomo de sódio são respectivamente:

A) 11, 23, 11;

B) 11, 11, 23;

C) 23, 11, 11;

D) 11, 12, 11.



GABARITO

GABARITO



1	D
2	E
3	B
4	E
5	A
6	D
7	D
8	C
9	A
10	Certo
11	D



ASPECTOS QUANTITATIVOS DAS TRANSFORMAÇÕES QUÍMICAS

Vamos agora fazer uma abordagem mais numérica das reações químicas, abordando um conjunto de conceitos e leis chamado **Teoria Atômico-Molecular**. Ressalto a importância dessa teoria já que servirá de alicerce para vários assuntos da química que estudaremos no decorrer desse curso, a exemplo da tão cobrada estequiometria.

Na indústria, na agricultura, na pesquisa científica, no tratamento de água e em outros campos, nos quais são utilizados produtos químicos, é necessário **calcular as quantidades dos diferentes insumos** que são equacionados por meio de reações químicas. A adição de um produto químico a um meio pode ter diferentes objetivos: precipitar (passar do meio aquoso para a forma sólida) um dado contaminante presente na água; aumentar a produtividade agrícola; identificar a presença de outra substância por meio da formação de uma coloração, dentre outros.

Nos cálculos estequiométricos, que estudaremos em aulas futuras, as quantidades são expressas em massa, número de íons, átomos e/ou moléculas e número de mols. Vamos então começar a entender esses conceitos quantitativos.

Massa atômica

Como podemos presumir pelo nome, **massa atômica é a massa de um átomo**. Esse tipo de massa corresponde à **soma das massas individuais das partículas que compõe um átomo**, as quais são basicamente **prótons** e **nêutrons**, presentes no núcleo, e **elétrons**, presentes na eletrosfera do átomo. A massa do próton ou do nêutron é cerca de 1836 vezes a massa do elétron, por isso vamos considerar (aproximar) **a massa atômica (A) como sendo a soma dos prótons (Z) e nêutrons (N)**, desconsiderando a massa do elétron por ser desprezível perto da massa do átomo.

$$A = Z + N$$

Desse raciocínio, podemos concluir que

Praticamente toda a massa de um átomo está concentrada em seus núcleos, onde estão situados os **prótons** e **nêutrons**.

Os átomos são invisíveis a olho nu e possuem uma massa muitíssimo pequena, o que nos impede de pesá-los individualmente. A alternativa encontrada foi convencionar uma unidade medida relativa, ou seja, determinar a massa de um átomo em relação a outro átomo que teve sua massa previamente convencionada como padrão.



Na prática, adotou-se a massa atômica do isótopo¹ 12 do Carbono (^{12}C) como padrão e convencionou-se que sua massa seria exatamente 12,0 **unidades de massa atômica**. Isso significa que **1 unidade de massa atômica (1 u) corresponde a $\frac{1}{12}$ da massa do ^{12}C** . A figura abaixo ilustra essas relações.



A unidade de massa atômica corresponde a $1,66 \cdot 10^{-24}$ g que é a massa aproximada de um próton ou de um nêutron. A partir da convenção, a unidade "u" passou a ser utilizada para todos os outros elementos. Por exemplo, a massa atômica do Oxigênio é aproximadamente 16u, sendo mais pesada que o átomo de Carbono que tem massa 12u. Podemos dizer ainda que o Oxigênio pesa 16 vezes $\frac{1}{12}$ da massa do ^{12}C .

Galerinha... Mas porque decidiram usar a massa do carbono 12 como padrão?

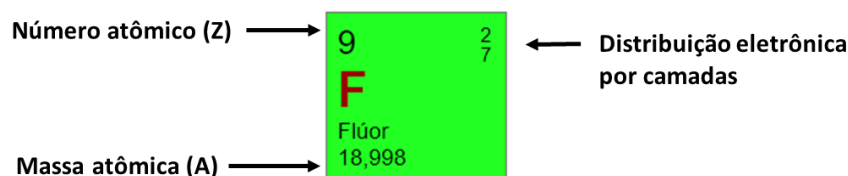
Porque era conveniente já que esse átomo possui número atômico 6 (6 prótons) e número de nêutrons também 6. Considerando que ele possui 6 prótons e 6 nêutrons, temos que seu núcleo é constituído de 12 partículas. Considerando ainda que a massa dos elétrons é desprezível, então, ao convencionarmos "u" (unidade de massa atômica) como sendo $\frac{1}{12}$ da massa do ^{12}C , é o mesmo dizer que "u" é a massa de um próton ou de um nêutron, que são praticamente iguais.

Observe abaixo como localizar na tabela periódica o número atômico (Z) e a massa atômica (A), tendo como exemplo o átomo de flúor. Se você ainda não tem muita intimidade com a Tabela Periódica, não de preocupe, pois aprofundaremos em seu estudo em aula posterior.

Na tabela periódica, já vimos que são fornecidos A e Z. Para encontrar o número de nêutrons (N) é bem fácil, basta subtrair, do valor arredondado de A, o Z, já que, conforme vimos, $A = Z + N$. No caso do flúor, temos $N = 19 - 9 = 10$ nêutrons. Não se preocupe, por enquanto, com a distribuição eletrônica, que será tema em outra aula. Por fim, vale destacar que se a massa do Flúor é 19 u, então esse átomo é mais pesado que o Carbono. Reforço isso para demonstrar que a unidade "u" foi criada para facilitar a discussão de massas tão pequenas e também para compararmos os diferentes elementos.

¹ Isótopos são átomos com o mesmo número de prótons ou número atômico (Z).





Fique atento! Ao ser informado fora da tabela periódica, a massa atômica (A) é apresentada, em geral, na parte superior e o número atômico (Z), na parte inferior, conforme ilustrado abaixo também para o Flúor. Para não confundir, lembre-se que, a exceção do hidrogênio em que $A = Z$, a massa atômica (A) será sempre maior que o número atômico (Z).



Massa atômica da tabela periódica

Na tabela periódica, repare que a massa atômica tabelada geralmente não é um número inteiro em unidades de massa atômica (u). Tomemos como exemplo o elemento Carbono, cuja massa atômica é 12,01u. Esse **valor de massa atômica tabelado corresponde à média ponderada da massa atômica de todos os seus isótopos**, que são átomos com o mesmo número de prótons ou **número atômico (Z)**, mas com diferente **massa atômica (A)**, também conhecida por **número de massa**. Isto significa que os isótopos, apesar de possuir mesmo Z, possuem diferentes número de nêutrons. A abundância do isótopo [de massa atômica] 12 do carbono é de aproximadamente 99%, enquanto a do isótopo 13 é de apenas 1%, calculando a média ponderada, como segue, obtém-se a massa atômica de 12,01u apresentada na tabela.

$$A_{\text{carbono}} \cong \frac{12 \times 99\% + 13 \times 1\%}{100\%} \cong 12,01\text{u}$$

Quase todos os outros elementos possuem isótopos e, por isso, suas massas tabeladas também são calculadas pela média ponderada da massa de seus isótopos. Vamos analisar outro exemplo, o Cloro (Cl), o qual possui dos isótopos: o de massa 35 e o de massa 37, os quais apresentam abundância de 75,4% e 24,6%, respectivamente. Realizando o mesmo cálculo de média ponderada, encontramos a massa atômica (A) indicada na tabela periódica, conforme apresentado abaixo:

$$A_{\text{cloro}} \cong \frac{35 \times 75,4\% + 37 \times 24,6\%}{100\%} \cong 35,45\text{u}$$

Massa molecular

Os átomos podem se ligar formando moléculas (isso já vimos). **A massa molecular (MM) é, portanto, a soma das massas atômicas (A) dos átomos que a constituem**. Tomemos como exemplo a molécula de oxigênio O_2 , o subíndice "2" indica que há dois átomos de oxigênio compondo essa molécula. Sendo assim, a massa de molécula será a soma da massa de dois átomos de oxigênio. Abaixo apresento o cálculo dessa massa molecular (MM) e de outros dois exemplos:





Vale lembrar que muitas substâncias não se apresentam como moléculas, mas sim como compostos iônicos. A diferença principal é que, em compostos iônicos, há espécies iônicas (carregadas eletronicamente) compondo sua estrutura. Não se desespere, falaremos melhor sobre os compostos iônicos em outro momento. Por enquanto, apenas saiba que podemos ter substâncias moleculares e substâncias iônicas, beleza?

Quando se tratar de compostos iônicos, conceito que estudaremos mais adiante, deve-se utilizar o termo **massa fórmula (MF)** em substituição à **massa molecular (MM)**. Por exemplo, o $NaCl$, que é composto por espécies com carga (Na^+Cl^-), apresenta MF 58,5u, que é a soma das massas atômicas do sódio e do cloro (Note que a fórmula de calcular é a mesma da MM). Entretanto, em muitas literaturas e exercícios de química, por conveniência, acaba-se utilizando somente o termo massa molecular (MM) para moléculas e compostos iônicos. Beleza?!



Cuidado com os peguinhas! O exercício pode trazer que a massa de uma molécula de H_2O (água), por exemplo, é 18 g, o que está ERRADO. Assim como átomos, moléculas são unidades muitíssimo pequenas e seu peso é muito menor que 1 g. Nesse caso, a massa da molécula pesa 18 u (unidades de massa atômica). Cada u pesa somente $1,66 \cdot 10^{-24}$ g. O que pesa 18 g é 1 mol de água, que é bem diferente do peso de 1 molécula. Discutiremos o conceito de mol ainda nessa aula.

Contagem de átomos em fórmulas moleculares

Algo que pode parecer um pouco trivial, mas que pode, em alguns casos, gerar confusão no cálculo da massa molecular ou em exercícios de estequiometria é a contagem do número de átomos de uma dada substância química. Essa é uma habilidade imprescindível para estudarmos balanceamento de reações, por exemplo. Por isso, vamos a uma rápida e suficiente abordagem do tema.

Já vimos que o índice (aquele número menor que fica na parte inferior à direita dos átomos) indica o número de átomos. Desta forma, temos que em:

$CaCl_2$: 1 átomo de cálcio e 2 átomos de cloro;

C_2H_5OH : 2 carbonos, 6 (5+1) hidrogênios e 1 oxigênio;



$C_6H_{12}O_6$: 6 C, 12 H e 6 O.

Até aqui, tranquilidade total, certo? E se eu te perguntasse: *quantos átomos de cada elemento existem no composto $Fe_4[Fe(CN)_6]_3$?*



Xiii, já entendi! Complicou, né? Pois bem, temos que ter bastante segurança para responder a esse tipo de questão. Acertar ou não acertar balanceamento e quaisquer outros exercícios de estequiometria dependerá disso. Vamos a um caso mais simples para depois responder à questão que lhe deixou confuso.

$Fe_2(SO_4)_3$ (sulfato de ferro III)

A quantidade de ferro no compostos acima é bem fácil de encontrar pelo índice: 2 átomos. E quanto ao restantes dos elementos, S e O? Entenda que o SO_4 está entre parênteses e que o subíndice 3 do lado de fora está multiplicando tudo que está dentro dos parênteses. Desta forma, podemos dizer que temos 3 x SO_4 . O índice do enxofre é 1 [pois está omitido] x 3, do lado de fora, resulta em 3 átomos de enxofre. O índice do O é 4 x 3, do lado de fora, resulta em 12 átomos. Podemos pensar na fórmula do composto como uma equação matemática, na qual devemos aplicar a propriedade distributiva quando há um número multiplicando do lado de fora, conforme ilustrado abaixo:



Desta forma, temos que em $Fe_2(SO_4)_3$: 2 Fe, 3 S e 12 O. Vamos a outros exemplos apenas para praticar (não se preocupe com nomenclatura de compostos químicos na aula de hoje):

Sulfato de Amônio - $(NH_4)_2SO_4$: 1x2 N, 4x2 H, 1 S e 4 O → 2 N, 8 H, 1 S e 4 O;

Cianeto de Ferro II - $Fe(CN)_2$: 1 Fe, 2x1 C e 2x1 N → 1 Fe, 2 C e 2 N;

Sulfato de cobre pentahidratado - $CuSO_4 \cdot 5H_2O$: 1 Cu, 1 S, 4 O, 5x2 H e 5x1 O → 1Cu, 1 S, 4 O, 10 H e 5 O.

Observação: as moléculas que aparecem na frente de alguns compostos são chamadas **água de hidratação** e correspondem a água presentes no cristal daquele composto. Nesse caso, devemos usar a propriedade distributiva também: $5 \cdot (H_2O) = 5 \cdot 2 H$ e $5 \cdot 1 O$.



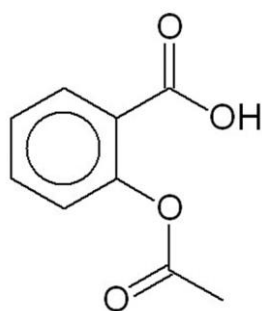
Como não podia faltar, vamos agora contar os átomos em compostos com composição mais complexa, inclusive aquela que havia perguntado e você fez cara de desentendido:

$KCl \cdot MgCl_2 \cdot 6H_2O$: 1K, (1+2)Cl, 1Mg, 6x2 H e 6O \rightarrow 1K, 3Cl, 1Mg, 12H e 6O;

$Fe_4[Fe(CN)_6]_3$: (4+3)Fe, 3x6 C e 3x6 N \rightarrow 7 Fe, 18C e 18N;

$CuSO_4 \cdot 4NH_3 \cdot H_2O$: 1Cu, 1S, (4+1)O, 4N e (4x3+2)H \rightarrow 1Cu, 1S, 5O, 4N e 14H.

Você vai se deparar também com fórmulas estruturais de moléculas orgânicas, constituída essencialmente por carbonos e outros átomos em menor quantidade. No estudo da orgânica, vamos ver como desenhar essas estruturas e a partir delas encontrar os respectivos nomes dessas substâncias. Mas já queria introduzir essa ideia no contexto de fórmula molecular. Tomemos como exemplo a substância orgânica chamada **ácido acetilsalicílico (AAS)** que eu particularmente consumo muito por conta das recorrentes dores de cabeça, já que o AAS é um fármaco analgésico. Sua estrutura está representada abaixo:

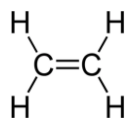


E agora, como encontrar sua fórmula molecular a partir de sua estrutura?

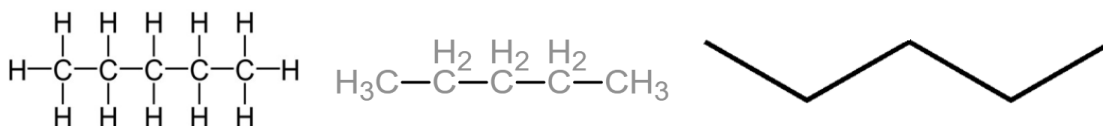
Já lhe adianto que é possível saber quais elementos compõe a molécula, o número de átomos presentes em sua constituição e, também, as proporções entre eles.

Como ainda não estudamos **química orgânica** (química dos compostos orgânicos). Adianto aqui algumas informações úteis para um melhor entendimento da questão levantada:

O carbono é tetravalente, ou seja, realiza 4 ligações. Note o exemplo abaixo, hidrocarboneto eteno, em que há uma dupla ligação entre carbonos, sendo as demais ligações completadas por átomos de hidrogênios que são monovalentes via de regra.



A estrutura dos compostos orgânicos pode ser representada de três maneiras principais. Tomemos como exemplo o hidrocarboneto pentano:



A estrutura **da esquerda** apresenta todos os átomos de carbono (C) e de hidrogênio (H), bem como todas as ligações que os mantêm unidos na forma de uma molécula (lembre-se: via de regra, o CARBONO faz 4 ligações e o HIDROGÊNIO faz apenas 1);

Na representação **do meio**, embora sejam apresentados todos os átomos envolvidos, simplifica-se ao omitir a ligações entre C e H;

Na **da direita**, a mais simples delas, temos a **notação em bastão**, na qual a ligação entre carbonos é representada por traços, e cada ponto de inflexão e as extremidades correspondem a um carbono. Destaco ainda que os hidrogênios são omitidos (ficam subentendidos). Os demais átomos que podem se ligar ao carbono, a exemplo de nitrogênio (N) e oxigênio (O), não serão omitidos na notação em bastão.

Dito isso, voltemos à interpretação da fórmula estrutural da molécula do ASS. Na estrutura é possível identificar o grupo funcional **ácido carboxílico** [o qual estudaremos melhor em química orgânica], comumente representado nas fórmulas moleculares como -COOH.

As arestas representam as ligações químicas C-C e C-O e cada vértice representa um carbono. Os átomos de hidrogênio ficam subentendidos, conforme já mencionado, nessa representação estrutural.

Conforme estudaremos em química orgânica, o hexágono com um círculo no meio corresponde a um **anel aromático**, que na prática é uma estrutura cíclica com ligações simples e duplas alternadas entre carbonos. Unindo todas essas informações, podemos reescrever a estrutura da molécula conforme ilustrado abaixo, evidenciando todos os átomos presentes na estrutura. Por fim, é só contar o número de carbonos, oxigênios e hidrogênios e montar a fórmula molecular.



Fórmula molecular do AAS: C₈O₂H₇COOH

Sanada qualquer dúvida inicial sobre contagem de átomos em moléculas e compostos químicos, vamos praticar.





(Aspirante - CBM-RO - 2014) A tabela periódica fornece os valores das massas atômicas dos elementos expressos em u. De posse desses valores e da fórmula molecular, pode-se calcular facilmente a massa molar das substâncias; basta, para isso, multiplicar o índice de cada elemento na fórmula pela sua respectiva massa atômica, em seguida somar os valores encontrados e expressá-los em g/mol. Dadas as massas atômicas: H = 1, C = 12, O = 16 e N = 14, qual substância apresenta maior massa molar?

- A) N₂
- B) H₂O
- C) C₂H₆O
- D) CH₄N₂O
- E) CH₄

Comentários:

A massa molecular (MM) é a soma das massas atômicas (A) dos átomos que a compõe. Portanto, basta encontrarmos a MM para todas as substâncias apresentadas e identificar a de maior massa molar.

Letra A - N₂: $MM = 2 \times A_N = 2 \times 14 = 28u$

Letra B - H₂O: $MM = 2 \times 1 + 1 \times 16 = 18u$

Letra C - C₂H₆O: $MM = 2 \times 12 + 6 \times 1 + 16 = 46u$

Letra D - CH₄N₂O: $MM = 1 \times 12 + 4 \times 1 + 2 \times 14 + 16 = 60u$

Letra E - CH₄: $MM = 1 \times 12 + 4 \times 1 = 16u$

Como se vê, a substância apresentada na LETRA D apresenta a maior massa molar.

O gabarito é a letra D.

As Leis de Lavoisier e de Proust e a Teoria de Dalton

Com base em estudos e leis científicas passadas, Dalton, em 1808, elaborou sua hipótese que é resumida nos seguintes postulados:



Os **elementos químicos** consistem em partículas de matéria, ou átomos, que não se subdividem e que preservam sua individualidade nas transformações químicas.

Todos os átomos de um mesmo elemento são idênticos e, em particular, têm a mesma massa, caracterizando-se cada elemento pela massa de seu átomo.

Os **compostos químicos** são formados pela união de átomos de diferentes elementos em proporções numéricas simples e determinadas, por exemplo, 1:1, 1:2, 2:3.



Nada de se desesperar e decorar postulados. Perceba que:

O **primeiro postulado** apenas propõe o conceito de átomo como uma unidade indivisível da matéria. Sabemos hoje que o átomo é divisível e que existem partículas menores (subatômicas) como os prótons, nêutrons e elétrons. Mesmo assim, a noção de átomo associada à ideia de individualidade ainda é útil nos dias atuais.

O **segundo postulado** aborda a massa atômica (A) como propriedade que caracteriza ou individualiza cada elemento da tabela periódica, já até falamos disso, não é mesmo?!

Finalmente, o **terceiro postulado** apresenta a formação de moléculas a partir da união de átomos, ideia também já introduzida nesta aula.

Continuemos! A proposição dos postulados de Dalton visava explicar as leis de Lavoisier e de Proust.

A **Lei de Lavoisier**, também conhecida como **Lei da Conservação das Massas**, diz que a massa dos produtos é igual a soma das massas dos reagentes. Talvez você se lembre da famosa frase de Lavoisier “*Na natureza nada se cria, nada se perde, tudo se transforma*”.

Para melhor entendimento dessa lei, lembre-se que uma reação química consiste em um rearranjo dos átomos originais e que nada é perdido, mas sim transformado. Veja dois exemplos que ilustram a Lei da Conservação das Massas:

- ✓ 10g de A reagindo completamente com 20g de B produz 30g do composto AB, por meio da reação $A + B \rightarrow AB$. A massa do produto corresponde à soma da massa dos reagentes.
- ✓ $HCl + NaOH \rightarrow NaCl + H_2O$ (Reação de neutralização entre ácido e base fortes). Nessa reação, ocorre apenas um rearranjo dos átomos.



Por fim,

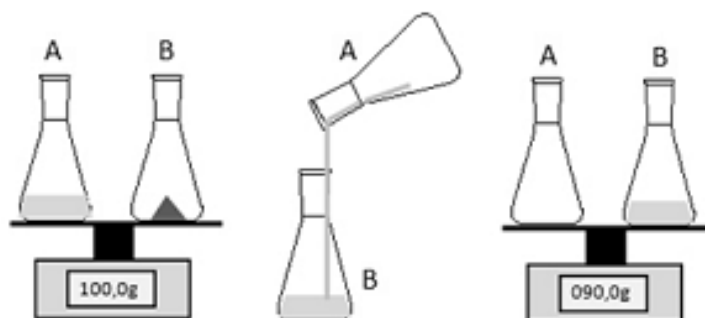
A **Lei de Proust**, também conhecida como **Lei das proporções definidas**, diz que uma substância composta (moléculas, compostos iônicos ou ligas metálicas) é formada por átomos sempre unidos em uma mesma proporção em massa.

Tomemos como exemplo 1 mol de água (H_2O), 2g de hidrogênio (H) se une com 16g de oxigênio (O) para formar 18g de H_2O . Se aumentarmos para 4g de hidrogênio [ou seja, dobrarmos], a massa de O aumentará proporcionalmente para 32g [também dobra], formando 36g de H_2O , respeitando, desta forma, a proporção inicial definida. Mais adiante em nosso curso, aplicaremos essas teorias em cálculos estequiométricos, em que elas parecerão mais úteis.

Alguns desses conceitos basilares da química raramente são cobrados isoladamente em provas de química, quase sempre estão associados a outros conteúdos que ainda estudaremos nas próximas aulas. Desta forma, para não deixarmos de trabalhar exercícios pertinentes, mencionarei e farei uma rápida explicação quando algum conceito ainda não discutido aparecer, sem prejuízo à discussão mais aprofundada na respectiva aula.



(CESPE - Professor Pleno I - 2013) Objetivando estudar a Lei Ponderal de Lavoisier, um estudante realizou o experimento esquematizado a seguir, em que o líquido do frasco A corresponde a uma solução aquosa de ácido sulfúrico (H_2SO_4), e o sólido contido no frasco B representa uma amostra de carbonato de sódio (Na_2CO_3).



Ao final do processo o estudante notou, pela leitura no visor da balança, que a massa resultante era diferente da massa inicial. No contexto do experimento, essa situação foi verificada por que

- a) houve excesso de um dos reagentes empregados, o que não é previsto pela Lei de Lavoisier;
- b) é necessário que o sistema seja fechado, o que não ocorreu no experimento realizado pelo estudante;

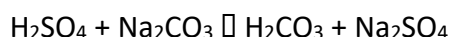


- c) os reagentes devem se encontrar na mesma fase de agregação, o que não ocorreu no experimento realizado pelo estudante;
- d) a Lei de Lavoisier não é válida para reações efetuadas em soluções aquosas;
- e) a Lei de Lavoisier só é válida nas condições padrão de temperatura e pressão.

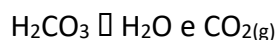
Comentários:

Excelente exercício para complementar nosso estudo teórico. Como se vê, os dois erlenmeyers (frascos) foram mantidos sobre as balanças após a mistura de seus conteúdos. Portanto, era esperado, segundo a **Lei de Lavoisier**, também conhecida como **Lei da Conservação das Massas**, que a massa permanecesse constante, uma vez que a massa dos produtos é igual à soma das massas dos reagentes. *Então, por que a massa se alterou após a reação?*

Estudaremos com mais detalhes o que são ácidos, bases, sais e óxidos em nossa aula sobre funções inorgânicas. Por enquanto, adianto-lhe que o carbonato de sódio (Na_2CO_3) é um sal básico, portanto, reage com o ácido sulfúrico (H_2SO_4), que é um ácido forte, segundo a equação química abaixo:



O ácido carbônico (H_2CO_3), por sua vez, é um ácido fraco, que se decompõe em água (H_2O) e gás carbônico (CO_2), como mostrado na equação a seguir:



Como os frascos estavam abertos, o gás carbônico (CO_2) formado foi perdido. Portanto, para que a massa fosse conservada, concordando com a **Lei de Lavoisier**, os frascos deveriam estar fechados. Isso faz com que a alternativa B esteja correta, pois afirma que o sistema deveria ser (estar) fechado para manutenção da massa.

Você pode estar perguntando: *Professor, então a Lei de Lavoisier não funciona em alguns casos? ERRADO. Ela sempre funciona.* Vale lembrar que tudo depende do referencial, assim, poderíamos considerar o universo como sendo nosso sistema. Desta forma, a massa teria sido conservada, pois o gás carbônico (CO_2) apenas migrou de dentro do recipiente para a parte externa, a atmosfera.

Vamos entender o porquê das demais alternativas estarem incorretas:

Alternativa A: incorreta. O excesso de reagente não é limitante para aplicação da **Lei de Lavoisier**. Imagine uma situação hipotética em que 10g de A reaja com 5g de B para formar 15g de AB. Caso adicionássemos 15g de A e mantivéssemos 5g de B [ou seja, haveria 5g de A em excesso], teríamos, após a reação, 15g de AB e 5g de A, que foi adicionado em excesso. Isso significa que a massa foi conservada, 20g antes e após a reação.

Alternativa B: correta, conforme já explicado.

Alternativa C: incorreta. A **Lei de Lavoisier** é sempre aplicável, independente das fases de cada reagente.



Alternativa D: incorreta, conforme explicação da Alternativa C.

Alternativa D: incorreta. A **Lei de Lavoisier** não faz restrições quanto à temperatura e pressão, sendo válida em diferentes condições ambientais.

O gabarito é a letra B.

(CESGRANRIO - Analista de Comercialização e Logística Júnior - Petrobrás - 2010) Atribui-se ao químico francês Joseph Louis Proust (1754- 1826) a investigação sistemática sobre a composição de numerosas substâncias. Os resultados de suas pesquisas levaram-no à formulação da Lei das Proporções Definidas, também chamada Lei de Proust. Essa Lei é traduzida por qual enunciado?

- a) Os volumes de duas substâncias gasosas que reagem entre si, para dar origem a um determinado produto, guardam uma razão constante de números inteiros e pequenos para o produto em questão.
- b) Há uma razão constante entre as massas de duas ou mais substâncias que reagem entre si, para dar origem a um determinado produto.
- c) Há uma razão de números inteiros e pequenos entre as diferentes massas de uma substância S_1 que, separadamente, reagem com a mesma massa de outra substância S_2 .
- d) Quando duas substâncias gasosas reagem entre si para originar um produto também gasoso, o volume do produto guarda sempre uma razão simples com os volumes dos gases reagentes.
- e) Em um sistema fechado, a massa total permanece constante, independente das reações químicas nele processadas.

Comentários:

Exercício de simples aplicação da nossa discussão sobre a referida lei. Estudamos que a **Lei das Proporções Definidas**, também chamada **Lei de Proust**, diz que uma substância composta (moléculas, compostos iônicos ou ligas metálicas) é formada por átomos sempre unidos em uma mesma proporção em massa. Tomemos como exemplo a molécula de água (H_2O), 2g de hidrogênio (H) se une com 16g de oxigênio (O) para formar 18g de H_2O . Se aumentarmos para 4g de hidrogênio, a massa de O aumentará para 32g, formando 36g de H_2O ,

respeitando, desta forma, a proporção inicial definida. Nosso enunciado da lei não é idêntico à alternativa B, mas o teor das ideias principais é o mesmo. Por isso, reforço que o mais importante é o entendimento de cada lei.

O gabarito é a letra B.

(EDUCA - Agente Fiscal - CRQ - 19ª Região - PB - 2017) No século XVIII, houve um grande estabelecimento da Química como uma ciência bem fundamentada e os cientistas passaram a adotar o “método científico” em seus estudos. Por meio de estudos meticulosos e experiências cuidadosas, foram introduzidas leis importantes que conseguiram explicar como as reações químicas ocorrem e como as substâncias se comportam com uma regularidade de modo geral. Entre essas leis estavam as leis ponderais, que eram aquelas que relacionavam massas dos participantes de uma reação química.



Assinale a alternativa CORRETA que apresenta o nome do criador de uma das Leis Ponderais, denominada de Lei de Conservação das Massas:

- a) Joseph Louis Proust.
- b) Jan Baptist Van Helmont.
- c) Antoine Laurent Lavoisier.
- d) Robert Boyle.
- e) Georg Ernst Stahl.

Comentários:

Postuladas no século XVII, as Leis Ponderais foram essenciais para o estudo dos cálculos estequiométricos, nelas estão incluídas duas leis: Lei de Lavoisier, conhecida como Lei da Conservação das massas e a Lei de Proust, conhecida como Lei das Proporções Constantes

Em experimentos realizados em laboratório, Lavoisier (1774) chegou à conclusão de que a soma das massas das substâncias reagentes em um recipiente fechado é igual à soma das massas dos produtos da reação e formulou a famosa frase: “Na natureza nada se cria, nada se forma, tudo se transforma”.

O gabarito é a letra C.

Massa molar de átomos e moléculas

Se por um lado os átomos são tão ínfimos que suas massas são medidas em unidade de massa atômica (u), por outro lado, os processos que envolvem a manipulação de compostos químicos (ex: processos industriais, tratamento de água) utilizam massas macroscópicas de reagentes químicos, medidas em gramas, quilogramas e, em alguns casos, toneladas. Dessa divergência surgiu a necessidade de agrupar um número de átomos ou número de moléculas em nova unidade de medida chamada **mol**.

Para tanto, determinou-se experimentalmente quantos átomos estavam presentes em 12g do isótopo 12 do carbono e o resultado foi denominado **Número de Avogadro (NA)**:

$$NA = 6,022 \cdot 10^{23}$$

Isso quer dizer que **em 12g do Carbono12 há $6,022 \cdot 10^{23}$ átomos que corresponde a 1 mol**. Esse raciocínio vale para qualquer átomo ou molécula, por exemplo:

- 16g do átomo oxigênio (O) contém $6,022 \cdot 10^{23}$ **átomos** e corresponde a 1 mol de oxigênio;
- 18g de água (H₂O) contém $6,022 \cdot 10^{23}$ **moléculas** ou 1 mol de água.

Desta forma,



Mol é uma unidade de medida muito utilizada na química, o qual corresponde a $6,022 \cdot 10^{23}$ de alguma coisa [ou melhor, de qualquer coisa].



Se você ainda acha obscuro o conceito de mol, pense no seguinte: você sabe que uma dúzia de ovos contém 12 unidades. Então, podemos encarar a dúzia como uma unidade de medida. Comprar 5 dúzias de ovos, por exemplo, corresponde a comprar 60 unidades de ovos. Uma dezena de veículos, por exemplo, é a reunião de 10 carros. Tranquilo até aqui, não é mesmo?

Vamos imaginar que precisássemos de uma unidade de medida que reunisse um número de unidades muitíssimo maior que 12, no caso da dúzia, ou 10, no caso de uma dezena. Imagine que essa quantidade fosse $6,022 \cdot 10^{23}$ unidades. Pronto! Essa nova unidade de medida (que podemos entender facilmente de forma análoga à dúzia e à dezena) é o mol.



Por exemplo, enquanto uma dúzia de ovos contém 12 unidades, um mol de ovos contém $6,022 \cdot 10^{23}$ unidades. Na verdade, esse número é tão grande que nem existiria galinhas o suficiente para botar tantos ovos. Mas o conceito é simples. Lembre-se que mol corresponde a um número absurdamente alto, enquanto em 1 bilhão há nove zeros (1 000 000 000), em 1 mol são 23 zeros após o 6,022. Essa magnitude é necessária porque só “juntando” uma quantidade absurdamente grande de átomos ou moléculas para se obter uma massa macroscópica em gramas. *Entendeu?*

A massa correspondente a 1 mol de um dado átomo, molécula ou composto é denominada **massa molar (M)**. Na prática, se reunirmos $6,022 \cdot 10^{23}$ unidades de alguma coisa, a exemplo de ovos, e pesarmos, vamos obter a **massa molar de ovos**. Reunindo $6,022 \cdot 10^{23}$ de átomos de carbono e levarmos a uma balança de laboratório, obteremos a massa de 12 gramas. Por isso, **M é 12g para o carbono**.

Lembra que calculamos a MM da glicose ($C_6H_{12}O_6$) como sendo 180,156u? Para obter sua M, basta substituir em MM a unidade “u” por “g.mol⁻¹”, ou seja, 1 mol ($6,022 \cdot 10^{23}$ moléculas) de glicose tem peso 180,156g. M é 12g para o átomo Carbono, enquanto que M é 18g para a molécula de água (H_2O). **Reforçando:** se pesarmos 18 g de água pura, obteremos $6,022 \cdot 10^{23}$ moléculas. O **número de mols (n)** presentes, também conhecido como **quantidade de matéria**, em uma dada **massa (m)**, pode ser calculado por meio da seguinte relação:



$$n = \frac{m}{M}$$

ESCLARECENDO!



Por exemplo: quantos mols estão presentes em 100g de gás carbônico (CO₂)?

Primeiro passo (calcular a MM ou M):

$$M = 12,01\text{g} \cdot \text{mol}^{-1} + 2 \times 16\text{g} \cdot \text{mol}^{-1} = 44,01\text{g} \cdot \text{mol}^{-1}$$

Segundo passo (aplicar na fórmula):

$$n = \frac{m}{M} = \frac{100\text{g}}{44,01\text{g} \cdot \text{mol}^{-1}} \cong 2,27\text{mol}$$

Há quem prefira, em substituição ao segundo passo, estruturar uma regra de três simples. O resultado será o mesmo. Veja como fica:

1 mols de CO ₂	_____	44,01g (leia-se: 1 mol de CO ₂ para 44,01g)
x	_____	100,0g

Em seguida, multiplica-se cruzado e isola o x, obtendo como resultado 2,27mol. Isto significa que 100 g de gás carbônico corresponde a 2,27 mol dessa substância.

A relação entre o mol e volume é particularmente importante para situações em que a matéria se encontra no estado gasoso. É possível determinar o volume ou espaço ocupado a partir do número de mols, pois **1 mol ou 6,022.10²³ moléculas de qualquer gás (substância gasosa) sempre apresenta o mesmo volume de 22,4 L** nas condições normais de temperatura e pressão (CNTP) – 0°C e 1 atm. Esse volume fixo é denominado **volume molar**.

Calma! Ante de ir para próxima seção da aula, não esqueça de memorizar desta as seguintes informações:





Número de Avogadro: $6,022 \cdot 10^{23}$
Mol é uma unidade de medida que reúne $6,022 \cdot 10^{23}$ unidades (unitárias) de qualquer coisa “Número de mols” é sinônimo de “quantidade de matéria”
Massa molar (M) é a massa que reúne $6,022 \cdot 10^{23}$ de átomo, molécula ou composto. É expresso em $\text{g} \cdot \text{mol}^{-1}$
O valor numérico de massa molecular (MM) e massa molar (M) são idênticos. A diferença é que aquela é medida em “u” e está em $\text{g} \cdot \text{mol}^{-1}$.
1 mol ou $6,022 \cdot 10^{23}$ moléculas de qualquer gás sempre apresenta o mesmo volume de 22,4 L, chamado volume molar, nas CNTP.



(INSTITUTO AOCP - Perito Criminal - Químico - ITEP-RN - 2018) No mercado joalheiro, a pureza do ouro é dada pela quantidade real desse metal presente na pepita. Quando o nível de pureza é de 99,99%, ele é classificado como 24 quilates. O termo quilates surgiu quando Constantino (272-337 d.C.) mandou cunhar o Solidus; moeda em ouro fino que tinha a massa de 24 sementes de alfarroba, ou 24 quilates, surgindo a expressão “ouro de 24 quilates” para o ouro puro. O número de átomos de ouro presentes em uma joia de massa 10 gramas, feita em ouro 19,2 quilates é, aproximadamente, igual a

- A) $3,00 \times 10^{22}$.
- B) $2,80 \times 10^{22}$.
- C) $2,60 \times 10^{22}$.
- D) $2,40 \times 10^{22}$.
- E) $2,20 \times 10^{22}$.

Comentários:

Esta é uma questão simples e conseguimos resolvê-la a partir do conhecimento do número de Avogadro e algumas regras de três. Tendo em vista que o ouro 24 quilates correspondem a 99,99% de ouro puro, basta fazermos uma regrinha de três para obtermos a porcentagem de ouro contido em 19,2 quilates, conforme abaixo:



24 quilates _____ 99,99 % de ouro

19,2 quilates _____ X

X = 79,99 % de ouro

Desta forma, podemos dizer que em uma joia de 19,2 quilates e massa de 10 g, 8 g será ouro puro. Para encontramos o número de átomos, é necessário sabermos quantos mols de Au equivalem as 8 gramas. Dito isto, relacionamos a massa molar com a massa conhecida do ouro, como descrito abaixo:

1 mol de Au _____ 196,9 g

X _____ 8 g

X = 0,040 mol

Por fim, usamos o número de Avogadro na relação a seguir:

1 mol de Au _____ $6,0 \times 10^{23}$ átomos

0,040 mol de Au _____ X

X = $2,40 \times 10^{22}$ átomos de Au

O gabarito é a letra D.

Grandezas, massa, volume e densidade

Em ciências, dentre elas a química, estamos sempre realizando medidas. Mede-se o tempo, velocidade (distância/tempo), volume, massa, temperatura. Essas medidas também estão muito presentes no cotidiano e, às vezes, nem percebemos. Os produtos líquidos, por exemplo, pagamos valores proporcionais ao volume. Por outro lado, produtos no estado sólido tais como carnes e hortaliças, pagamos o valor proporcional ao peso. Por exemplo, uma embalagem de 2,0L (litro) de refrigerante custa mais que uma embalagem de 500 mL (mililitro) ou 0,5 L. No primeiro dia de aula de inglês, por exemplo, você saiu com antecedência de casa e cronometrou o tempo gasto, em horas ou em minutos, da sua casa até o curso. No segundo dia em diante, você considerou aquele tempo para decidir quantos minutos antes precisa sair de casa para não chegar atrasado à aula. Exemplificamos aqui três tipos de grandezas (peso, volume e tempo), mas é claro que existe uma gama bem diversificada de outras grandezas (ex: temperatura, velocidade, densidade, umidade), sobretudo em química.

Grandeza é tudo que pode ser medido.

Para medirmos essas grandezas, precisamos das chamadas **unidades de medida**. Hora e minutos são duas unidades de medida da grandeza tempo. Quilograma e grama, da grandeza massa. Graus Celsius e Fahrenheit, de temperatura. *Mas com foram encontradas essas unidades?*

As unidades de medidas foram convencionadas, ou seja, escolhidas ao acaso. Por exemplo, mediu um certo intervalo de tempo curto e definiu como sendo s (segundo). Em seguida, definiu-se



arbitrariamente que 1 min (minuto) corresponderia a soma de 60s. Da mesma maneira definiu-se a unidade hora. Em suma: quando alguém lhe perguntar por que 1 min têm 60 s, você pode responder: *Porque alguém quis que fosse assim!*

Com o intuito de padronizar, sempre que possível, as medições, foi estabelecido um conjunto como sendo o **Sistema Internacional de Unidades (SI)**. Veja algumas unidades do SI na tabela abaixo.

Grandeza	Unidade do SI	Símbolo
Massa	Quilograma	Kg
Temperatura	Kelvin	K
Tempo	Segundo	s
Comprimento ou distância	Metro	m
Área	Metro quadrado	m ² (m x m)
Volume	Metro cúbico	m ³ (m x m x m)

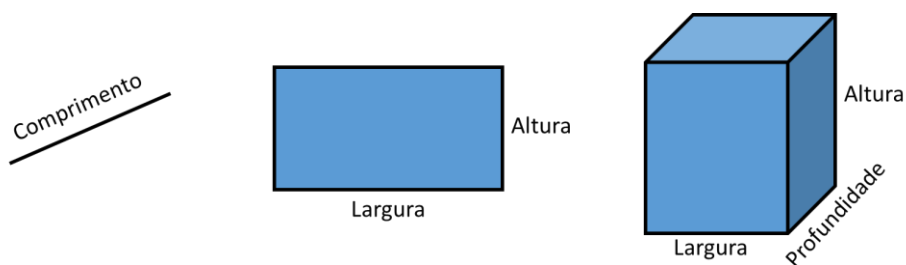
Para medir nossa massa corporal é interessante utilizar a unidade Kg. No entanto, nem sempre é conveniente utilizar as unidades do SI. Vimos que 1 mol de água pesa apenas 18 g (grama). Se fossemos medir essa quantidade em quilogramas teríamos 0,018. Imagine agora medir a massa de 1 molécula em quilograma, seria ainda mais inconveniente. Por isso, diferentes unidades de massa aparecerão em exercícios e você precisará saber interconvertê-las. Para ajudar nessa tarefa, segue algumas relações úteis para unidades de massa:

1 ton (tonelada) = 1000 Kg
1 kg = 1000 g
1 g = 1000 mg (miligrama)
1 mg = 1000 µg (micrograma)

Vimos no SI que comprimento é medido em m; área em m²; e volume em m³. *Mas por que existe essa diferença?*

Acompanhe nossa discussão correlacionando-a com as figuras abaixo. No caso de uma linha, temos apenas uma dimensão (distância) que pode ser medida em metros (m). Já na figura do retângulo, ou qualquer outra figura planar (triângulo, quadrado, etc), temos uma região contida no seu interior, que é denominada área e pode ser medida utilizando apenas 2 dimensões, cada dimensão pode ser medida em m e, por isso, a unidade resultante é m x m ou m². Essa multiplicação ocorre porque para encontrar a área de um quadrado devemos multiplicar sua largura por sua altura [ou lado x lado]. Por fim, em um prisma temos três dimensões (largura, profundidade e altura). Multiplicando as três dimensões, encontramos o volume contido na figura geométrica. Se cada dimensão pode ser medida em m, então a unidade de volume será m x m x m (m³).





Segue algumas relações úteis entre unidades de medida de volume:

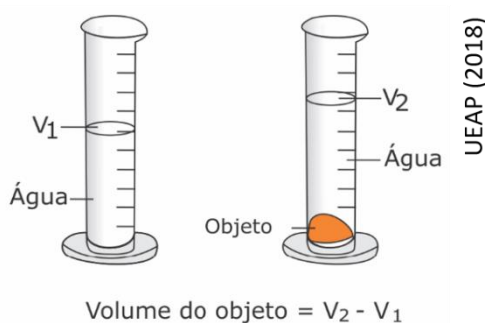
1 m³ = 1000 dm³ (decímetro cúbico) = 1000 L (litro)
1 dm³ = 1 L = 1000 cm³ (centímetro cúbico) = 1000 mL
1 cm³ = 1 mL = 1000 µL (microlitro)

Da relação entre massa e volume, temos uma nova grandeza muito útil em química, a densidade. A **densidade (d)**, também chamada **massa específica**, é a relação entre a massa (m) e volume (V) de um dado corpo:

$$d = \frac{m}{V}$$

A unidade de densidade no SI (Sistema Internacional de Medida) é kg/m³ (kg.m⁻³). Outras unidades usuais são g/cm³, g/mL, kg/dm³ e kg/L. As duas primeiras e as duas últimas são conceitualmente equivalentes entre si, pois **1 cm³ corresponde a 1mL e 1dm³ corresponde a 1L (MEMORIZE ESSAS RELAÇÕES)**. Do ponto de vista numérico, todas as 4 unidades de densidade se equivalem, pois, se pegarmos, por exemplo, g/cm³ e multiplicarmos por 1000 o numerador e denominador, não modificaremos o seu resultado, e obteremos 1000g/1000cm³ que correspondem a 1kg/dm³.

Vale lembrar que toda matéria possui massa e ocupa um volume, independente do seu estado físico (sólido, líquido ou gasoso). Desta forma, a densidade pode ser medida para líquidos, sólidos e gás. Veja o exemplo na figura abaixo. Podemos medir o volume de uma pedra, inserindo-a em uma proveta graduada (recipiente utilizado em laboratórios para medir volumes) com um volume V₁ de água. Após a adição da pedra dentro do líquido, o menisco subirá para um volume maior, V₂, sendo o volume da pedra V₂ - V₁.



A massa (m) da pedra pode ser pesada em uma balança analítica e a densidade obtida pela relação m/V.



Da análise da fórmula da densidade ($d = m/V$), notamos que densidade é diretamente proporcional à massa (m). Isto significa que, quanto maior a massa em um volume fixo, maior será a densidade do material. Por outro lado, na mesma fórmula, notamos que densidade é inversamente proporcional ao volume (V). Sendo assim, considerando uma massa fixa, quanto maior o volume de um objeto, menor será a sua densidade. Tranquilo essas relações, não é mesmo?

Materiais mais densos passam a impressão de serem mais pesados porque eles concentram uma maior massa em um menor volume. Metais, em geral, são materiais densos e, por isso, pequenos pedaços (volumes pequenos) de metais apresentam uma maior massa. Por outro lado, algodão é um material pouco denso e, por isso, grandes volumes desse material estão associados a massa pequena.



Considerando uma mesma substância, a densidade no estado sólido será maior que no estado líquido, que, por sua vez, será maior que no estado gasoso. Isso acontece porque no estado sólido, as moléculas estão o mais próximo possível, condensando a maior massa em um menor volume. Já no estado líquido, as moléculas estão um pouco mais distantes, diminuindo a massa contida em um mesmo volume. Por fim, no estado gasoso, as moléculas estão bem distantes entre si, diminuindo drasticamente a densidade.



Dilatação anômala de materiais

Existem substâncias que, em certa faixa de temperatura, desobedece a essa regra geral: o exemplo mais clássico é a **água**. Via de regra, aquecendo um material, ele tende a dilatar (expandir). É por isso que gases são menos densos que os líquidos, pois precisamos aquecer para vaporizar as substâncias. Acontece que a água quando aquecida, entre 0 e 4°C, contrai-se e não dilata como acontece e é esperado para maioria esmagadora de todas as substâncias. Esse fenômeno é conhecido como **dilatação anômala** ou, no caso da água, **comportamento anômalo da água**. Essa “anomalia” é responsável pelo gelo (água sólida) flutuar na superfície de lagos em regiões muito frias, em que a água líquida está em temperatura entre 0 e 4°C, pois nessas condições a água apresenta densidade maior que a densidade do gelo. Isso é o que permite, por exemplo, existir vida aquática em locais extremamente gelados, a exemplo do polo norte. Vale ressaltar que a **dilatação anômala não é exclusividade da água, outras substâncias também apresentam esse comportamento incomum, a exemplo dos elementos químicos gálio, o germânio, o bismuto e o antimônio.**





Lembre-se, os materiais mais densos vão para o fundo do líquido. É por isso que no experimento anterior, a pedra foi para o fundo do líquido contido na proveta.

Vamos a um exemplo para notarmos como a densidade é útil no dia a dia da química, por exemplo, em um laboratório. Considere que o Ácido sulfúrico (H_2SO_4) concentrado possui densidade $1,84\text{g}/\text{cm}^3$ e massa molar $98\text{g}/\text{mol}$. Caso quiséssemos medir um 1mol desse ácido, em tese, bastaria pesar 98g . Entretanto, não é muito viável pesar o H_2SO_4 por ele ser um reagente no estado líquido a temperatura ambiente. O mais comum é medirmos o volume dos reagentes líquidos. Para o H_2SO_4 , é recomendável a utilização de uma proveta. Nesses casos, devemos utilizar a densidade tabelada para converter a massa desejada em volume, como segue:

$$d = \frac{m}{V} \rightarrow 1,84\text{g} \times \text{cm}^{-3} = \frac{98\text{g}}{V} \rightarrow V = 53,3\text{mL}$$

Assim, ao medir $53,3\text{mL}$ de ácido sulfúrico (H_2SO_4) concentrado, teremos o corresponde a 1mol desse ácido ou $6,022 \cdot 10^{23}$ moléculas.



Situações práticas e/ou experimentais tem sido cobrado, cada vez mais, em provas de química. Nesse sentido, pode aparecer em sua prova a utilização do densímetro para medição de densidade de líquidos. Por isso, vamos falar um pouquinho sobre ele e o seu uso.

O **densímetro** é um instrumento de laboratório destinado a medir a densidade (massa específica) de líquidos. Seu revestimento é fabricado em vidro e seu interior pode ser dividido em duas partes:

1. **a inferior** que é mais pesada, onde normalmente a esferas de chumbo que ajudam o densímetro a mergulhar (afundar) no líquido; e
2. **a superior** que é mais leve, na qual encontra-se a graduação do densímetro e, por isso, onde deve ser realizada a medição.





Sua utilização é tão simples como 2 mais 2 são quatro. Para tanto, realiza-se a seguinte sequência:

- i) coloca-se o líquido de interesse em um recipiente, em geral, utiliza-se uma proveta;
- ii) insere com cuidado o densímetro no interior do líquido (com cuidado para que ele não choque no fundo do recipiente, pois pode quebrar);
- iii) aguarda-se a estabilização do densímetro, evitando que ele encoste nas paredes do recipiente; e
- iv) realiza-se a leitura da densidade na graduação do densímetro no ponto coincidente com a superfície do líquido. A leitura do densímetro já informa diretamente a densidade do líquido examinado.

Quanto menos denso for o líquido, mais a parte pesada do densímetro conseguirá afundar no líquido e uma menor parte da graduação ficará de fora do líquido. Veja a comparação abaixo, na qual foi utilizada o mesmo densímetro para medir a densidade da água e do ácido sulfúrico concentrado.



Outra aplicação bastante popular dos densímetros é medir quanto de água está misturada ao álcool. Como o álcool é menos denso que a água, quanto maior a densidade do líquido (água+álcool), menor será a concentração de álcool na solução.

PRINCIPAIS PONTOS DO TÓPICO

Teoria atômico-molecular (aspectos quantitativos)

Massa atômica: soma dos prótons (Z) e nêutrons (N), desconsiderando a massa do elétron por ser desprezível perto da massa do átomo.

$$A = Z + N$$

Unidade de massa atômica (u): corresponde a $\frac{1}{12}$ da massa do ^{12}C . Em massa, corresponde a $1,66 \cdot 10^{-24}$ g que é a massa aproximada de um próton ou de um nêutron.



Como localizar na tabela periódica o número atômico (Z) e a massa atômica (A)?



Para encontrar o número de nêutrons (N) é bem fácil, basta subtrair, do valor arredondado de A, o Z. No caso do flúor, temos $N = 19 - 9 = 10$ nêutrons.

Massa atômica da tabela periódica: corresponde à média ponderada da massa atômica de todos os seus isótopos, que são átomos com o mesmo número de prótons ou número atômico (Z), mas com diferente massa atômica (A), também conhecida por número de massa. Ex:

$$A_{\text{carbono}} \cong \frac{12 \times 99\% + 13 \times 1\%}{100\%} \cong 12,01\text{u}$$

Massa molecular (M): soma das massas atômicas (A) dos átomos que a constituem. Ex:



$$\text{MM} = 6 \times A_{\text{C}} + 12 \times A_{\text{H}} + 6 \times A_{\text{O}} = 180,156\text{u}$$



Teoria de Dalton:

- ✓ O primeiro postulado apenas propõe o conceito de átomo como uma unidade indivisível da matéria.
- ✓ O segundo postulado aborda a massa atômica (A) como propriedade que caracteriza ou individualiza cada elemento.
- ✓ O terceiro postulado apresenta a formação de moléculas a partir da união de átomos.

Lei de Lavoisier, (também conhecida como Lei da Conservação das Massas): diz que a massa dos produtos é igual a soma das massas dos reagentes (você deve se lembrar da frase de Lavoisier “Na natureza nada se cria, nada se perde, tudo se transforma”). Ex:

10g de A reagindo completamente com 20g de B produz 30g do composto AB, por meio da reação $A + B \rightarrow AB$. A massa do produto corresponde à soma da massa dos reagentes.

Lei de Proust (também conhecida como Lei das proporções definidas): diz que uma substância composta (moléculas, compostos iônicos ou ligas metálicas) é formada por átomos sempre unidos em uma mesma proporção em massa. Ex:

A molécula de água (H_2O), 2g de hidrogênio (H) se une com 16g de oxigênio (O) para formar 18g de H_2O . Se aumentarmos para 4g de hidrogênio [ou seja, dobrarmos], a massa de O aumentará proporcionalmente para 32g [também dobra], formando 36g de H_2O , respeitando, desta forma, a proporção inicial definida

Número de Avogadro (NA): determinado experimentalmente e corresponde ao número de átomos presentes em 12g do isótopo 12 do carbono e o resultado foi:

$$N_A = 6,022 \cdot 10^{23}$$

Isso quer dizer que **em 12g do Carbono12 há $6,022 \cdot 10^{23}$ átomos que corresponde a 1 mol.**

Mol é uma unidade de medida muito utilizada na química, o qual corresponde a $6,022 \cdot 10^{23}$ de alguma coisa [ou melhor, de qualquer coisa].

Número de mols (n): também conhecido como **quantidade de matéria**, corresponde a quanto mols existem em uma dada massa (m) e pode ser calculado por meio da seguinte relação:

$$n = \frac{m}{M}$$

Informações a serem memorizadas:

Número de Avogadro: $6,022 \cdot 10^{23}$
Mol é uma unidade de medida que reúne $6,022 \cdot 10^{23}$ unidades (unitárias) de qualquer coisa
“Número de mols” é sinônimo de “quantidade de matéria”
Massa molar (M) é a massa que reúne $6,022 \cdot 10^{23}$ de átomo, molécula ou composto. É expresso em $g \cdot mol^{-1}$



O valor numérico de massa molecular (MM) e massa molar (M) são idênticos. A diferença é que aquela é medida em “u” e esta em g.mol⁻¹.

1 mol ou 6,022.10²³ moléculas de qualquer gás sempre apresenta o mesmo volume de 22,4 L, chamado **volume molar**, nas CNTP.

Grandezas, massa, volume e densidade

Grandeza	Unidade do SI	Símbolo
Massa	Quilograma	Kg
Temperatura	Kelvin	K
Tempo	Segundo	s
Comprimento ou distância	Metro	m
Área	Metro quadrado	m ² (m x m)
Volume	Metro cúbico	m ³ (m x m x m)

Relações úteis para unidades de massa:

1 ton (tonelada) = 1000 Kg
1 kg = 1000 g
1 g = 1000 mg (miligrama)
1 mg = 1000 µg (micrograma)

Relações úteis entre unidades de medida de volume:

1 m³ = 1000 dm³ (decímetro cúbico) = 1000 L (litro)
1 dm³ = 1 L = 1000 cm³ (centímetro cúbico) = 1000 mL
1 cm³ = 1 mL = 1000 µL (microlitro)

A **densidade (d)**, também chamada **massa específica**, é a relação entre a massa (m) e volume (V) de um dado corpo:

$$d = \frac{m}{V}$$

A unidade de densidade no SI (Sistema Internacional de Medida) é kg/m³ (kg.m⁻³). Outras unidades usuais são g/cm³, g/mL, kg/dm³ e kg/L. As duas primeiras e as duas últimas são equivalentes entre si, pois **1 cm³ corresponde a 1mL e 1dm³ corresponde a 1L (MEMORIZE ESSAS RELAÇÕES)**.


Da análise da fórmula da densidade ($d = m/V$), notamos que densidade é diretamente proporcional à massa (m). Isto significa que, quanto maior a massa em um volume fixo, maior será a densidade do material. Por outro lado, na mesma fórmula, notamos que densidade é inversamente proporcional ao volume (V). Sendo assim, considerando uma massa fixa, quanto maior o volume de um objeto, menor será a sua densidade.

A água quando aquecida, entre 0 e 4°C, contrai-se e não dilata como acontece com todas as outras substâncias. Esse fenômeno é conhecido como **comportamento anômalo da água**. Essa “anomalia” é




responsável pelo gelo (água sólida) flutuar na superfície de lagos em regiões muito frias, em que a água líquida está em temperatura entre 0 e 4°C

Densímetro: um instrumento de laboratório destinado a medir a densidade (massa específica) de líquidos. Seu revestimento é fabricado em vidro e seu interior pode ser dividido em duas partes:



Exemplo do uso do densímetro:



QUESTÕES COMENTADAS - CEBRASPE

Aspectos quantitativos das transformações químicas

1. (CEBRASPE/CESPE - Papiloscopista - POLC AL - 2023) No que se refere a conceitos aplicados à química, julgue o item a seguir.

A lei de Lavoisier estabelece que, em uma substância química pura, os elementos estão sempre presentes em proporções mássicas definidas.

Comentários:

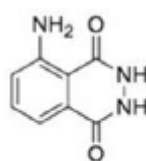
A afirmação está incorreta. A lei referida no enunciado não é a lei de Lavoisier, mas a lei de Proust, também conhecida como lei das proporções definidas ou constantes. A lei de Lavoisier, por sua vez, é a lei da conservação da massa, que estabelece que a massa total dos reagentes é igual à massa total dos produtos em uma reação química.

Resposta: Errado

Texto associado para responder as questões 2 e 3

(CEBRASPE – PM- Al – 2021) O luminol é o mais eficiente detector de sangue oculto em cenas de crime contra a vida, por meio da utilização de borrifadores ou de um luminômetro portátil. Ele reage quimicamente, liberando energia (fótons) sob a forma de uma luz azul, por meio de uma reação denominada quimiluminescência. Ao ser aplicado na detecção de traços de sangue oculto e entrar em contato com o ferro coordenado presente na hemoglobina (não sendo este consumido durante o processo), seguido do tratamento com água oxigenada em meio básico, o luminol promove a formação de fótons sob a forma de uma luz azulada.

Internet: <<https://lasape.iq.ufrj.br>> (com adaptações).



luminol

Internet: <www.infoescola.com>.

Tendo como referência a estrutura do luminol, apresentada anteriormente, e as informações do texto precedente, julgue o item a seguir, considerando que $M_H = 1 \text{ g/mol}$, $M_C = 12 \text{ g/mol}$, $M_N = 14 \text{ g/mol}$ e $M_O = 16 \text{ g/mol}$.

2. A porcentagem, em massa, do carbono na substância luminol é superior a 50%.

Comentários:



Para calcular a porcentagem em massa do carbono, devemos primeiro calcular qual é a massa molar do luminol. Para isso, somamos as massas molares de cada elemento, multiplicado pela quantidade daquele elemento na molécula. Pela estrutura mostrada no enunciado da questão, conseguimos chegar à fórmula molecular do luminol, contando os átomos presentes, $C_8H_7N_3O_2$. Dessa forma, a massa molar do luminol será:

$$MM_{\text{luminol}} = (8 \cdot 12) + (7 \cdot 1) + (3 \cdot 14) + (2 \cdot 16) = 177 \text{ g/mol}$$

Concluimos, então, que a massa de 1 mol de luminol é 177 g. Pela fórmula molecular, sabemos que 1 mol de luminol contém 8 mols de carbono, que possuem uma massa de 96 g. Com esses dados em mãos, podemos calcular a porcentagem, em massa, do carbono no luminol, por meio da seguinte regra de três:

$$\begin{array}{ccc} 177 \text{ g (1 mol de luminol)} & \frac{\quad}{\quad} & 100\% \\ 96 \text{ g (8 mols de carbono)} & \frac{\quad}{\quad} & X \\ & X = 54\% & \end{array}$$

Portanto, a porcentagem em massa de carbono no luminol é de 54 %, maior do que 50 %, como dito na afirmativa. Logo, ela está correta.

Resposta: Certo

3. Em 2 mols de moléculas de luminol, existem 14×10^{23} átomos de hidrogênio.

Comentários:

Para calcular a quantidade de átomos de hidrogênio em 2 mols de luminol, devemos primeiro estabelecer qual é a sua fórmula molecular. Pela estrutura mostrada no enunciado da questão, conseguimos chegar à fórmula molecular do luminol, contando os átomos presentes, $C_8H_7N_3O_2$. Isso nos diz que 1 mol de luminol contém 7 mols de hidrogênio. A quantidade de mols de hidrogênio contidas em 2 mols de luminol pode ser calculada pela seguinte regra de três:

$$\begin{array}{ccc} 1 \text{ mol de luminol} & \frac{\quad}{\quad} & 7 \text{ mols de hidrogênio} \\ 2 \text{ mols de luminol} & \frac{\quad}{\quad} & X \end{array}$$

Se resolvêssemos a regra de três acima, encontraríamos a quantidade de mols de hidrogênio em 2 mols de luminol, fazendo necessário uma nova regra de três para transformar o resultado e número de átomos de hidrogênio. No intuito de você ter mais agilidade no dia da prova, proponho analisarmos uma reescrita da regra de três acima por meio das relações do mol. Você se lembra que 1 mol de átomos agrupa $6,02 \times 10^{23}$ átomos? Então, do lado direito, no lugar de 7 mols de hidrogênio, podemos escrever $7 \times 6,02 \times 10^{23}$ de hidrogênio como correspondentes, concorda? Fazendo isso na regra de três acima, encontramos o resultado em uma única regra de três no lugar de duas. Veja:

$$\begin{array}{ccc} 1 \text{ mol de luminol} & \frac{\quad}{\quad} & 7 \times (6,02 \times 10^{23}) \text{ de hidrogênio} \\ 2 \text{ mols de luminol} & \frac{\quad}{\quad} & X \\ & & X = 8,428 \times 10^{24} \text{ átomos de hidrogênio} \end{array}$$



Sendo assim, existem $8,428 \times 10^{24}$ átomos de hidrogênio em 2 mols de luminol. Portanto, a afirmativa está errada.

Resposta: Errado

4. (CEBRASPE – CBM-AI – 2021) O extintor comercial de pó tipo ABC abafa e resfria o local do incêndio, suprimindo os íons livres da reação em cadeia, para extinguir o fogo rapidamente. A capacidade de absorção de calor, a vaporização e a decomposição das partículas do pó seco são os principais responsáveis pela extinção. Os principais constituintes dos pós ABC são di-hidrogenofosfato de amônio — $\text{NH}_4\text{H}_2\text{PO}_4$ — e sulfato de amônio — $(\text{NH}_4)_2\text{SO}_4$.

A partir das informações do texto apresentado, julgue os itens a seguir, considerando que $M_H = 1,00$ g/mol, $M_N = 14,00$ g/mol, $M_O = 16,00$ g/mol, $M_P = 31,00$ g/mol e $M_S = 32,00$ g/mol.

Em uma solução de $\text{NH}_4\text{H}_2\text{PO}_4$, de concentração 12,0 g/L, a concentração em quantidade de matéria do elemento fósforo é maior que 0,1 mol/L.

Comentários:

Inicialmente precisamos calcular a massa molar dihidrogenofosfato de amônio. As massas molares dos elementos foram fornecidas no enunciado, por isso o que precisamos fazer é multiplicar cada uma pela quantidade daquele elemento na fórmula molecular, $\text{NH}_4\text{H}_2\text{PO}_4$:

$$MM_{\text{NH}_4\text{H}_2\text{PO}_4} = (1 \cdot 14) + (4 \cdot 1) + (2 \cdot 1) + (1 \cdot 31) + (4 \cdot 16) = 115 \text{ g/mol}$$

Agora, precisamos encontrar a concentração em quantidade de matéria de $\text{NH}_4\text{H}_2\text{PO}_4$, a partir da massa molar e da concentração em massa. Esse valor é importante porque a afirmativa apresenta a concentração do elemento fósforo também em quantidade de matéria (mol/L).

$$MM = \frac{m}{n} \rightarrow n = \frac{m}{MM} \rightarrow n = \frac{12 \text{ g}}{115 \text{ g/mol}} \rightarrow n = 0,1043 \text{ mol}$$

Isso quer dizer que a concentração de dihidrogenofosfato de amônio, em quantidade de matéria, é 0,1043 mol/L. Se cada molécula de $\text{NH}_4\text{H}_2\text{PO}_4$ contém um átomo de fósforo, então 1 mol do composto contém 1 mol de fósforo. Usando a mesma relação, se a concentração do $\text{NH}_4\text{H}_2\text{PO}_4$ é de 0,1043 mol/L, então a concentração do átomo de fósforo também é de 0,1043 mol/L. Como o valor é acima de 0,1 mol/L, então a afirmativa está **correta**.

Resposta: Certo

5. (CEBRASPE – SEDF – 2017) Nos últimos anos, tem-se investido intensamente no aproveitamento do biogás gerado a partir da decomposição anaeróbica de resíduos orgânicos. O biogás é uma mistura constituída principalmente por $\text{CH}_4(\text{g})$ — na faixa de 60% a 80% em quantidade de matéria — e $\text{CO}_2(\text{g})$, além de pequenas quantidades de outros componentes. Para a maioria das aplicações, o biogás deve passar por uma etapa de purificação que visa remover contaminantes como, por exemplo, H_2S , H_2O e NH_3 ,



além de reduzir o teor de CO_2 para algo em torno de 1% a 3% em quantidade de matéria. Após esse tratamento, o biogás costuma ser denominado biometano.

Tendo como referência essas informações, julgue o item que se segue, com relação ao biogás e seus componentes.

Considere que uma amostra de biometano seja constituída exclusivamente por CH_4 e CO_2 , com concentração de CO_2 igual a 1,0% em quantidade de matéria. Nessa amostra, a concentração de CO_2 , em porcentagem de massa, é superior a 2,0%.

Comentários:

A primeira informação importante é a de que a amostra contém apenas CO_2 e CH_4 . A segunda informação importante diz que a concentração em quantidade de matéria do CO_2 é de 1%, logo os outros 99% são de CH_4 . Lembre-se que quantidade de matéria é sinônimo de número de mols. Sendo assim, supondo uma quantidade de 100 mols na amostra, 1 mol seria de dióxido de carbono e 99 mols seriam de metano.

- 100 mols de amostra de biometano
 - 1 mol de CO_2
 - 99 mols de CH_4

Convertendo esses valores para massa, utilizando a massa molar de cada composto, e calculando a porcentagem, conseguimos encontrar o parâmetro apresentado na afirmativa. Vamos, então, primeiramente calcular as massas molares (MM):

$$\text{MM}_{\text{CO}_2} = (1 \cdot 12) + (2 \cdot 16) = 44 \text{ g/mol}$$

$$\text{MM}_{\text{CH}_4} = (1 \cdot 12) + (4 \cdot 1) = 16 \text{ g/mol}$$

Agora conseguimos converter na relação dos 100 mols de amostra de biometano, quantos gramas correspondem ao dióxido de carbono e quantos ao metano:

- 1 mol de $\text{CO}_2 = 1 \text{ mol} \times \text{MM}_{\text{CO}_2} = 1 \text{ mol} \times 44 \text{ g/mol} = 44 \text{ g}$
- 99 mols de $\text{CH}_4 = 99 \text{ mols} \times \text{MM}_{\text{CH}_4} = 99 \text{ mols} \times 16 \text{ g/mol} = 1584 \text{ g}$

Esses cálculos nos dizem que 100 mols da amostra (contendo 1 mol de CO_2 e 99 mols de CH_4) possuem a massa de $44 \text{ g} + 1584 \text{ g} = 1628 \text{ g}$. Agora, por meio de uma regra de três, conseguimos calcular qual a porcentagem em massa de CO_2 na amostra.

$$\begin{array}{ccc} 1628 \text{ g de amostra} & \xrightarrow{\text{---}} & 100 \% \\ 44 \text{ g de CO}_2 & \xrightarrow{\text{---}} & X \\ & \text{X} = 2,7 \% & \end{array}$$

Sendo assim, a porcentagem em massa de CO_2 na amostra é de 2,7 %. Como a assertiva afirmou ser acima de 2,0 %, está **correta**.

Resposta: Certo



6. (CEBRASPE – SEDF – 2017) As cores brilhantes observadas durante a queima de fogos de artifício são geradas a partir de elementos metálicos presentes nos fogos. Por exemplo, sais de estrôncio, como o SrCrO_4 , dão origem à luz vermelha; sais de cobre, como o $\text{Cu}(\text{NO}_3)_2$, à luz verde; sais de magnésio, como MgCl_2 , à luz branca. Sabendo que esse fenômeno pode ser explicado com base na estrutura eletrônica dos diferentes elementos metálicos, julgue o próximo item.

O isótopo neutro Ba-88 possui 38 prótons e 50 nêutrons em seu núcleo, além de 38 elétrons na região extranuclear.

Comentários:

A número atômico do bário é 56, então qualquer isótopo dele deve conter também 56 prótons. Só com essa informação, já conseguiríamos "matar" a questão porque ela afirma que o isótopo teria 38 prótons, o que está **errado**. Além disso, se são 56 prótons e massa 88, o número de nêutrons é de 32 (88-56), já que a massa dos elétrons é desprezível quando comparada com as massas de prótons e nêutrons. Como o isótopo, na forma que se apresenta na tabela periódica, é neutro, o número de prótons é igual ao número de elétrons, portanto, ele contém 38 elétrons na região extranuclear, o que, por sinal, é a única informação correta na assertiva. Portanto, a assertiva está **errada**.

Resposta: Errado

7. (CEBRASPE - Aspirante - CBM-DF - 2016) Dez mil litros de uma solução aquosa de ácido sulfúrico (H_2SO_4) vazaram de um caminhão-tanque e o corpo de bombeiros foi acionado para neutralizada o ácido CaO. Considerando a situação hipotética descrita no texto e sabendo que a solução apresentava densidade igual a 1,89 g/mL e concentração igual a 98% massa/massa, julgue o item que se segue:

A quantidade de matéria de H_2SO_4 derramada é superior a 190.000 mol.

Comentários:

Conhecemos o volume de ácido sulfúrico (H_2SO_4) derramado, 10 mil litros, e precisamos converter esse valor para mols. Como é nossa primeira aula, sugiro fazermos esse cálculo em duas etapas: (i) converter volume em massa pela fórmula da densidade; (ii) converter a massa obtida na etapa anterior em número de mols.

(i) Conversão de volume em massa pela fórmula da densidade:

Antes de aplicar os valores na fórmula da densidade, devemos notar que a densidade se encontra em g/mL e o volume em litros. Podemos converter um o outro, mas, nesse caso, é mais produtivo converter o volume 10.000 litros que corresponde a 10.000.000 mL. Agora podemos aplicar na fórmula como segue:

$$d = \frac{m}{V} \rightarrow 1,89\text{g.mL}^{-1} = \frac{m}{10.000.000 \text{ mL}} \rightarrow m = 1,89.10^7 \text{ g}$$

(ii) Conversão da massa obtida na etapa anterior em número de mols (n):



De início, precisamos encontrar a massa molar (M) do H_2SO_4 . Lembre-se, a forma de se calcular massa molecular (MM) e M é a mesma, diferindo apenas a unidade de medida.

$$\text{MM}(\text{H}_2\text{SO}_4) = 2 \cdot (A_{\text{H}}) + A_{\text{S}} + 4 \cdot A_{\text{O}} \cong 2 \cdot 1,0 + 32,0 + 2 \cdot 16,0 \cong 98 \text{ g} \cdot \text{mol}^{-1}$$

Agora podemos aplicar na fórmula do número mols:

$$n = \frac{m}{M} \rightarrow n = \frac{1,89 \cdot 10^7 \text{ g}}{98 \text{ g} \cdot \text{mol}^{-1}} \rightarrow n = 1,93 \cdot 10^5 \text{ mol}$$

Ainda trabalharemos o conceito de concentração e pureza em aulas futuras, mas precisamos notar nesse exercício que a pureza do H_2SO_4 é de 98%, ou seja, 2% do volume derramado não corresponde ao ácido, mas sim a outras substâncias como a água. Sendo assim, precisamos corrigir o número de mols acima, por meio de uma regra de três, como segue:

$$\begin{array}{rcl} 1,93 \cdot 10^5 \text{ mol} & \frac{\quad}{\quad} & 100\% \\ x & \frac{\quad}{\quad} & 98\% \\ \hline x = 1,89 \cdot 10^5 \text{ mol} & & \end{array}$$

Como o número de mols é inferior a 190.000 mol ($1,9 \cdot 10^5$ mol), então o **item está errado**.

Resposta: Errado



QUESTÕES COMENTADAS -FGV

Aspectos quantitativos das transformações químicas

1. (FGV – Professor - Prefeitura J Guararapes - 2023) Com o objetivo de trabalhar com os alunos saberes relacionados à matéria e suas transformações, um professor planejou a observação ou realização das seguintes atividades:

1. Confeção de um bolo;
2. Reciclagem de papel;
3. Amadurecimento e apodrecimento de frutos;
4. Enferrujamento de palha de aço molhada;
5. Transformação de água líquida em vapor.

Das atividades listadas acima, são exemplos de transformações químicas as de número

- a) 1 e 5, pois envolvem o aquecimento dos materiais.
- b) 2 e 3, pois formam novos elementos químicos.
- c) 3 e 4, pois dão origem a novas substâncias.
- d) 2 e 5, pois as substâncias iniciais desaparecem.
- e) 1 e 4, pois produzem uma mistura homogênea.

Comentários:

Letra A: incorreta. Aquecimento de materiais pode resultar em transformações físicas, por exemplo, a transformação de água líquida em vapor é uma transformação física.

Letra B: incorreta. A reciclagem de papel e o amadurecimento de frutos não formam novos elementos químicos.

Letra C: correta. No amadurecimento e apodrecimento de frutos e no enferrujamento de palha de aço molhada ocorrem reações que resultam em novas substâncias, caracterizando transformações químicas.

Letra D: incorreta. Na reciclagem de papel e na transformação de água líquida em vapor as substâncias iniciais não desaparecem, ocorre apenas mudança de estado físico ou alteração na forma, não constituindo uma transformação química.

Letra E: incorreta. A confecção de um bolo e o enferrujamento de palha de aço molhada não resultam necessariamente em uma mistura homogênea.

Resposta: letra C



2. (FGV - Professor – Prefeitura - SP – 2023) Durante uma aula sobre transformações dos materiais, os alunos realizaram a seguinte atividade: colocaram um pouco de vinagre em uma garrafa e prenderam um balão contendo bicarbonato de sódio no gargalo; em seguida, deixaram o bicarbonato cair sobre o vinagre e observaram a mistura borbulhar e o balão encher.

Após compararem as características das substâncias usadas no experimento, antes e depois da transformação, os alunos concluíram, corretamente, que ocorreu um fenômeno

- a) químico, pois o enchimento do balão comprovou que as substâncias iniciais passaram a ocupar maior espaço.
- b) químico, pois ocorreu o surgimento de uma substância gasosa, que não estava presente no início da atividade.
- c) físico, pois é reversível, já que os materiais mantiveram suas propriedades, como a coloração e a textura.
- d) físico, pois os átomos que formavam os materiais iniciais se transformaram em novos átomos.
- e) físico, pois aconteceu a mudança de estado físico das substâncias presentes inicialmente no sistema.

Comentários:

Letra A: Incorreta. O fato de as substâncias passarem a ocupar maior espaço não indica necessariamente que houve uma transformação química. Poderia ser apenas uma expansão física.

Letra B: Correta. O surgimento de uma substância que não estava presente no início da atividade, no caso o gás, indica que houve uma reação química.

Letra C: Incorreta. Não há informações no enunciado que indiquem que a reação é reversível ou que as propriedades dos materiais, como a coloração e a textura, foram mantidas.

Letra D: Incorreta. Os átomos não se transformam em novos átomos em uma transformação física.

Letra E: Incorreta. A mudança de estado físico não indica necessariamente uma transformação física, pois essa também pode ocorrer em reações químicas.

Resposta: letra B

3. (FGV- PM-SP – 2021) A Química Forense surgiu a partir de um crime de grande repercussão cometido na Bélgica, em 1850. O criminoso teria extraído óleo de uma planta e obrigado a vítima a ingerir a substância. Para comprovar o crime, a polícia pediu ajuda a um químico, que desenvolveu um método para detectar a substância nos tecidos do cadáver, o que permitiu a condenação do criminoso.

ÂNGELIS, R. Descubra a importância da química forense. <http://www.ung.br/noticias/descubra-importancia-da-quimica-forense>. Acesso em 10/06/2020. Adaptado.

Dados: massas atômicas (u): H = 1, C = 12, N = 14 e O = 16.

A substância detectada possuía massa molecular 162; portanto, é possível saber que se tratava da



- a) cafeína, de fórmula molecular $C_8H_{10}N_4O_2$.
- b) coniina, de fórmula molecular $C_8H_{17}N$.
- c) morfina, de fórmula molecular $C_{17}H_{19}NO_3$.
- d) nicotina, de fórmula molecular $C_{10}H_{14}N_2$.
- e) teobromina, de fórmula molecular $C_7H_8N_4O_2$.

Comentários: A massa molecular (MM) é a soma da massa dos átomos que a compõe. Portanto, basta encontrarmos a MM para todas as substâncias apresentadas para descobrirmos qual delas possui MM igual 162.

Cafeína - $C_8H_{10}N_4O_2$:

$$MM = 8x A_C + 10x A_H + 4x N_4 + 2x O_2 \rightarrow MM = 8x12u + 10x1u + 4x14 + 2x16 = 194u \text{ (u: unidade de massa atômica)}$$

Coniina - $C_8H_{17}N$:

$$MM = 8x A_C + 17x A_H + 1x A_N \rightarrow MM = 8x12 + 17x1 + 1x14 = 127u$$

Morfina - $C_{17}H_{19}NO_3$:

$$MM = 17x12 + 19x1 + 1x14 + 16x3 = 285u$$

Nicotina - $C_{10}H_{14}N_2$:

$$MM = 10x12 + 14x1 + 2x14 = \mathbf{162u}$$

Teobromina - $C_7H_8N_4O_2$:

$$MM = 7x12 + 8x1 + 4x14 + 2x16 = 180u$$

Como a nicotina possui a MM de 162, ela corresponde à substância detectada.

Resposta: letra D

4. (FGV – Perito Criminal – PC RJ – 2021) No decorrer de suas atividades, a perita depara-se com um composto orgânico desconhecido. Inicialmente a profissional identifica que 57,65% do composto é carbono e 3,84% é hidrogênio. Avançando na identificação, na dosagem do enxofre, 0,333 grama do composto é tratado com BaCl, produzindo 0,3731 grama de BaSO₄ (peso molecular 233).

A partir desses dados, a perita conseguiu determinar a fórmula empírica como sendo:

- a) $C_{10}H_{12}SO_2$.
- b) $C_{10}H_8SO_2$.
- c) $C_8H_8SO_2$.
- d) $C_{10}H_8SO_3$.



e) $C_8H_8(SO_2)_3$.

Comentários:

Primeiramente, vamos calcular a massa de enxofre em 0,3731 g de $BaSO_4$:

$$\begin{array}{rcl} 1 \text{ mol de } BaSO_4 & \text{-----} & 1 \text{ mol de S} \\ 233 \text{ g de } BaSO_4 & \text{-----} & 32 \text{ g de S} \\ 0,3731 & \text{-----} & x \\ & & x = 0,051 \text{ g de S} \end{array}$$

Agora, vamos calcular a porcentagem de S em 0,333g do composto:

$$\%S = \frac{0,051}{0,333} = 15,4\%$$

Sabendo a porcentagem de carbono, hidrogênio e enxofre, podemos determinar a de oxigênio:

$$100\% - (57,65\% + 3,84\% + 15,4\%) = 23,11\% \text{ de O}$$

Considerando 100 g do composto, podemos encontrar o nº de mols de cada elemento:

$$\begin{aligned} n_C &= \frac{m}{MM} = \frac{57,65}{12} = 4,8 \\ n_H &= \frac{m}{MM} = \frac{3,84}{1} = 3,84 \\ n_S &= \frac{m}{MM} = \frac{15,4}{32} = 0,48 \\ n_O &= \frac{m}{MM} = \frac{23,11}{16} = 1,44 \end{aligned}$$

Como o enxofre é o que apresentou o menor valor, este será o elemento que tem apenas 1 unidade na fórmula empírica. Dividindo todos os valores encontrados por 0,48, encontramos

$$\begin{aligned} C &= \frac{4,8}{0,48} = 10 \\ H &= \frac{3,84}{0,48} = 8 \\ S &= \frac{0,48}{0,48} = 1 \\ O &= \frac{1,44}{0,48} = 3 \end{aligned}$$

Logo, a fórmula empírica é $C_{10}H_8SO_3$, letra D.

Resposta: letra B*(Questionável)



5. (FGV – Perito Criminal – PC RJ – 2021) A fórmula molecular de um composto orgânico cuja fórmula centesimal contenha 40,67% de carbono, 8,47% de hidrogênio e 23,73% de nitrogênio é:

- a) $C_2H_6(NO)_2$
- b) $C_2H_5(NO)_2$
- c) C_3H_6NO .
- d) C_2H_5NO .
- e) C_2H_6NO .

Comentários:

Vamos começar calculando a massa de cada elemento em 100 g de composto orgânico:

- 40,67% de carbono significa que há 40,37 g de C;
- 8,47% de hidrogênio significa que há 8,47 g de H;
- 23,73% de nitrogênio significa que há 23,73 g de N;
- $100\% - (40,67 + 8,47 + 23,73) = 27,13\%$ de oxigênio, significa que há 27,13 g de O.

Para encontrar a fórmula molecular, precisamos determinar quantos átomos de cada elemento estão presentes em uma molécula do composto. Para isso, precisamos conhecer sua massa molecular.

$$n_C = \frac{m}{MM} = \frac{40,37}{12} = 3,39$$

$$n_H = \frac{m}{MM} = \frac{8,47}{1} = 8,47$$

$$n_N = \frac{m}{MM} = \frac{23,73}{14} = 1,48$$

$$n_O = \frac{m}{MM} = \frac{27,13}{16} = 1,69$$

Como o nitrogênio é o que apresentou o menor valor, este será o elemento que tem apenas 1 unidade na fórmula empírica. Dividindo todos os valores encontrados por 1,48, encontramos

$$C = \frac{3,39}{1,48} \approx 2$$

$$H = \frac{8,47}{1,48} \approx 5$$

$$N = \frac{1,48}{1,48} = 1$$

$$O = \frac{1,69}{1,48} \approx 1$$

Logo, a fórmula molecular é C_2H_5NO .



Resposta: letra D

6. (Adaptado de FGV - Auxiliar de Perícia Médico-legal - PCMA - 2012) Trinitrato de glicerina (TNG), fórmula molecular $C_3H_5N_3O_9$, também denominado nitroglicerina, é o éster trinitrado do propanotriol (...) O TNG é um líquido oleoso, insolúvel em água e extremamente sensível, não apenas à temperatura, mas também ao choque mecânico, motivo pelo qual deve ser manuseado com extremo cuidado. Sua combustão ao ar está descrita abaixo:



A combustão completa de 1 mol de TNG (Massa molecular=227g) produz um volume de gás carbônico nas Condições Normais de Temperatura e Pressão (CNTP) de:

- a) 11,2L
- b) 22,4L
- c) 33,6L
- d) 44,8L
- e) 67,2L

Comentários:

Devemos utilizar os coeficientes da equação para estruturar nossa regra de três e verificar quantos litros de CO_2 existem na combustão de 1 mol de TNG. Segundo a reação:

$$4 \text{ mols de TNG} \quad \underline{\hspace{2cm}} \quad 12 \text{ mols de } CO_2$$

DICA: Um caminho seria completar a regra de três, utilizando 1 mol de TNG na linha de baixo e encontrando o número de mols produzidos de CO_2 . Em seguida, seria necessário transformar esse número de mols de CO_2 em volume, utilizando a relação em que 1 mol de qualquer gás (substância gasosa) sempre apresenta o volume de 22,4 L nas CNTP. Entretanto, sugiro que substitua "12 mols de CO_2 " por "12 . 22,4L de CO_2 ", pois são equivalentes, não é mesmo? Desta forma, o cálculo fica simplificado e você encontrará o resultado em apenas 1 regra de três.

Ao reescrevermos a relação acima, substituindo cada mol de CO_2 por 22,4L, temos:

$$\begin{array}{r} 4 \text{ mols de TNG} \quad \underline{\hspace{2cm}} \quad 12 \cdot 22,4L \text{ de } CO_2 \\ 1 \text{ mol de TNG} \quad \underline{\hspace{2cm}} \quad x \\ \hline x=67,2L \text{ de } CO_2 \end{array}$$

Resposta: letra E





QUESTÕES COMENTADAS - VUNESP

Aspectos quantitativos das transformações químicas

1. (Vunesp – UNESP – 2021) A decomposição por aquecimento a seco de uma amostra em pó de certo mineral de cobre produziu 1,59 g de óxido de cobre(II), 0,18 g de vapor de água e 0,44 g de dióxido de carbono gasoso. A fórmula mínima desse mineral é:

- a) $\text{Cu}_2\text{H}_2\text{CO}_5$
- b) $\text{Cu}_2\text{H}_2\text{C}_2\text{O}_5$
- c) CuHCO_2
- d) $\text{Cu}_2\text{H}_2\text{C}_2\text{O}_3$
- e) CuHCO

Comentários: Para encontrarmos a fórmula mínima do mineral, precisamos encontrar a menor proporção inteira em mols entre os átomos. Perceba que a partir da decomposição por aquecimento a seco temos como produtos quatro tipos diferentes de átomos (Cu, H, C e O).

O primeiro passo é encontrar a quantidade em mols gerada de cada produto (óxido de cobre (II), vapor de água e dióxido de carbono gasoso), bem como dos átomos constituintes de cada substância:

Óxido de cobre (II) (CuO):

$$n = \frac{m}{M} \rightarrow n = \frac{1,59 \text{ g}}{79,5 \text{ g}\cdot\text{mol}^{-1}} \rightarrow n = 0,02 \text{ mol}$$

Lembre-se: massa molar (M) corresponde à soma das massas atômicas. No caso do CuO, por exemplo, 63,5 do Cu + 16 do O.

Como cada mol de CuO contém um mol de Cu e um mol de O, podemos propor a seguinte relação estequiométrica:



Foram gerados 0,02mol de CuO, logo, pela estequiometria temos:

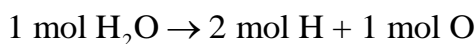


Vapor de água (H₂O):

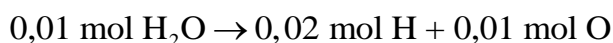


$$n = \frac{m}{M} \rightarrow n = \frac{0,18\text{g}}{18 \text{ g}\cdot\text{mol}^{-1}} \rightarrow n = 0,01 \text{ mol}$$

Como cada mol de H₂O contém dois mols de H e um mol de oxigênio, podemos propor a seguinte relação estequiométrica:



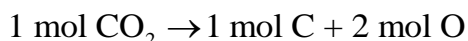
Foram gerados 0,01 mol de H₂O, logo, pela estequiometria, temos:



Dióxido de carbono (CO₂):

$$n = \frac{m}{M} \rightarrow n = \frac{0,44 \text{ g}}{44 \text{ g}\cdot\text{mol}^{-1}} \rightarrow n = 0,01 \text{ mol}$$

Como cada mol de CO₂ contém um mol de C e dois mols de oxigênio, podemos propor a seguinte relação estequiométrica:



Foram gerados 0,01 mol de CO₂, logo, pela estequiometria temos:



Em seguida, somamos a quantidade em mols de cada átomo, considerando as diferentes contribuições. Note que apenas o oxigênio aparece nos três produtos, enquanto o cobre, carbono e hidrogênio aparecem uma única vez:

$$\text{Cu} = 0,02 \text{ mol}$$

$$\text{H} = 0,02 \text{ mol}$$

$$\text{C} = 0,01 \text{ mol}$$

$$\text{O} = 0,02 + 0,01 + 0,02 = 0,05 \text{ mol}$$

Por fim, para encontrar a fórmula mínima dividimos a quantidade em mols de cada átomo pelo menor valor obtido. Nota-se que nesse caso foi **0,01mol**. O valor obtido equivale ao número mínimo de mols de cada elemento na fórmula mínima.



$$\text{Cu} = \frac{0,02 \text{ mol}}{0,01 \text{ mol}} = 2 \text{ mols}$$

$$\text{H} = \frac{0,02 \text{ mol}}{0,01 \text{ mol}} = 2 \text{ mols}$$

$$\text{C} = \frac{0,01 \text{ mol}}{0,01 \text{ mol}} = 1 \text{ mol}$$

$$\text{O} = \frac{0,05 \text{ mol}}{0,01 \text{ mol}} = 5 \text{ mols}$$

Logo, a fórmula mínima é $\text{Cu}_2\text{H}_2\text{CO}_5$.

Resposta: letra A

2. (Vunesp - UFABC - Técnico de Laboratório Química - 2019) ${}^1_1\text{H}$, ${}^2_1\text{D}$ e ${}^3_1\text{T}$ são formas de representação para os isótopos do elemento químico hidrogênio. Esses átomos pertencem ao mesmo elemento químico porque possuem:

- a) mesmo número de nêutrons.
- b) mesmo número de prótons.
- c) diferentes números de massa.
- d) diferentes números de prótons.
- e) diferentes números de nêutrons.

Comentários: Devemos lembrar que o que caracteriza um elemento químico é o seu número de prótons. Podemos confirmar o fato pelo próprio enunciado da questão, onde o examinador apresentou o prótio o deutério e o trítio, os quais correspondem aos isótopos do mesmo elemento químico, no caso, hidrogênio. Percebe-se que eles possuem o **mesmo número de prótons** (1), mas diferentes massas atômicas (1,2 e 3, respectivamente).

Resposta: letra B

3. (Vunesp - UNIFAI/Laboratório - 2019) Assinale a alternativa que apresenta a quantidade de átomos de alumínio presentes em uma liga que tem 540 g desse metal.

Dado: Constante de Avogadro $6,0 \times 10^{23}$ /mol.

- a) $1,2 \times 10^{23}$
- b) $1,2 \times 10^{24}$
- c) $1,2 \times 10^{25}$



d) $6,0 \times 10^{24}$

e) $6,0 \times 10^{25}$

Comentários: Pela lei de Avogadro, sabemos que 1 mol de Alumínio (Al) contém $6,02 \times 10^{23}$ átomos. Além disso, pela massa molar do elemento, sabemos que cada mol pesa 27g. Logo, para descobrirmos a quantidade de átomos em 540g do metal, propomos a seguinte regra de três:

$$\begin{array}{ccc} 27\text{g} & & 6,02 \times 10^{23} \text{ átomos} \\ 540\text{g} & & X \text{ átomos} \\ \hline & & X = 1,2 \times 10^{25} \text{ átomos} \end{array}$$

Resposta: letra C

4. (Vunesp – FAMERP – 2018) Em janeiro de 2018 foi encontrado em uma mina na África o quinto maior diamante (uma variedade alotrópica do carbono) do mundo, pesando 900 quilates. Considerando que um quilate equivale a uma massa de 200 mg, a quantidade, em mol, de átomos de carbono existente nesse diamante é igual a

a) $1,5 \times 10^1$

b) $3,0 \times 10^1$

c) $4,5 \times 10^1$

d) $1,5 \times 10^4$

e) $3,0 \times 10^4$

Comentários: Cada quilate equivale a uma massa de 200mg, então 900 quilates equivalem a

$$200\text{mg} \times 900 = 180000\text{mg} \text{ ou } 180\text{g}$$

Pela lei de Avogadro, sabemos que 1 mol de carbono, seja na sua forma alotrópica grafite, seja na sua forma alotrópica diamante, contém $6,02 \times 10^{23}$ átomos. Além disso, pela massa molar, sabemos que cada mol pesa 12g. Logo, para descobrirmos a quantidade de átomos em 180g do diamante, propomos a seguinte regra de três:

$$\begin{array}{ccc} 12\text{g} & & 1\text{mol} \\ 180\text{g} & & X \text{ mol} \\ \hline & & X = 15\text{mols} \text{ ou } 1,5 \times 10^1 \text{ mols} \end{array}$$

Resposta: letra A

5. (Vunesp – Prefeitura de Presidente Prudente – SP – 2016) Sabendo-se que a massa molecular (u) de uma substância é numericamente igual à soma das massas atômicas de todos os átomos da molécula dessa substância, é correto afirmar que a massa molecular está correta em:

Dados: C = 12; H = 1; S = 32; O = 16

a) $\text{CH}_4 = 5 \text{ u}$



b) $\text{SO}_2 = 48 \text{ u}$

c) $\text{C}_2\text{H}_6 = 98 \text{ u}$

d) $\text{C}_{12}\text{H}_{22}\text{O}_{11} = 342 \text{ u}$

e) $\text{H}_2\text{SO}_4 = 64 \text{ u}$

Comentários: A massa molecular (MM) é a soma da massa dos átomos que a compõe. Portanto, basta encontrarmos a MM para todas as substâncias.

Metano - CH_4 :

$$\text{MM} = 1x\text{A}_\text{C} + 4x\text{A}_\text{H} \rightarrow \text{MM} = 1x12\text{u} + 4x1\text{u} = \mathbf{16\text{u}} \text{ (u: unidade de massa atômica)}$$

Dióxido de enxofre - SO_2 :

$$\text{MM} = 1x\text{A}_\text{S} + 2x\text{A}_\text{O} \rightarrow \text{MM} = 1x32 + 2x16 = 64\text{u}$$

Etano - C_2H_6 :

$$\text{MM} = 2x12 + 6x1 = 30\text{u}$$

Sacarose - $\text{C}_{12}\text{H}_{22}\text{O}_{11}$:

$$\text{MM} = 12x12 + 22x1 + 11x16 = 342\text{u}$$

Ácido sulfúrico - H_2SO_4 :

$$\text{MM} = 2x1 + 1x32 + 4x16 = 98\text{u}$$

Resposta: letra D



QUESTÕES COMENTADAS - AOC

Aspectos quantitativos das transformações químicas

1. (Instituto AOC - Técnico - IF MA - 2023) A realização de um experimento sobre a reação entre metais alcalinos e água, em contato com o ar, provocou deslumbre, nos alunos presentes na aula de laboratório, pelos efeitos visuais causados. O sódio com a água produz gás hidrogênio e soda cáustica. Sobre o experimento em questão e o tipo de reação, é correto afirmar que

- a) a reação é endotérmica e ocorre pela característica pouco inflamável do hidrogênio em contato com o oxigênio.
- b) a reação de formação do gás hidrogênio por meio do sódio metálico com água é uma reação de simples troca ou deslocamento.
- c) a formação de gás e a emissão de calor são evidências de um fenômeno físico e não de uma reação química.
- d) visto que em contato com o ar ocorre uma reação não explosiva, o sódio metálico pode ser armazenado em frascos simples, sem restrições de locais.
- e) ao adicionar gotas de fenolftaleína à solução final, espera-se a cor rosa, já que o meio será ácido pela presença de NaOH.

Comentários:

Letra A: incorreta. A reação entre o sódio e a água é exotérmica, liberando energia na forma de calor, o que é observado pela elevação de temperatura. Além disso, o hidrogênio é altamente inflamável.

Letra B: correta. A reação entre o sódio metálico e a água gera hidrogênio e hidróxido de sódio (NaOH), sendo uma reação de simples troca ou deslocamento. O sódio reage com a água produzindo hidróxido de sódio (NaOH), conhecido como soda cáustica, e gás hidrogênio (H₂). A reação pode ser representada pela equação: $2 \text{Na} + 2 \text{H}_2\text{O} \rightarrow 2 \text{NaOH} + \text{H}_2 \uparrow$.

Letra C: incorreta. A formação de gás e a liberação de calor são indicativos de uma reação química e não de um fenômeno físico. As substâncias iniciais (sódio metálico e água) se transformam em novas substâncias (hidróxido de sódio e gás hidrogênio), caracterizando uma reação química.

Letra D: incorreta. Devido à sua alta reatividade, especialmente em contato com o ar e a umidade, o sódio metálico não deve ser armazenado em frascos simples sem restrições. É comum armazená-lo sob óleo mineral ou em atmosfera inerte para prevenir reações indesejadas.

Letra E: incorreta. A adição de fenolftaleína à solução de hidróxido de sódio resultará em uma solução colorida em rosa, indicativo de um meio básico e não ácido. A fenolftaleína é um indicador que fica incolor em soluções ácidas e rosa em soluções básicas.

Resposta: letra B

2. Instituto AOC - Tec (IF MA)/IF MA/2023) Uma pessoa observou a seguinte situação no laboratório:



- 1) As chamas das velas.
- 2) Gelo derretendo em seu copo com suco.
- 3) Naftalinas em cantos estratégicos.
- 4) Chuva entrando pela janela.

Os fenômenos relacionados com as observações do técnico são respectivamente:

- a) condensação; sublimação; combustão; fusão.
- b) combustão; sublimação; fusão; condensação.
- c) condensação; fusão; sublimação; combustão.
- d) fusão; sublimação; combustão; condensação.
- e) combustão; fusão; sublimação; condensação.

Comentários:

A chama da vela é um processo de combustão (correto), o gelo derretendo é fusão (correto), a naftalina desaparecendo é sublimação (correto) e a chuva entrando pela janela é condensação (correto). A ordem dos processos está correta.

Resposta: Letra E

3. (AOCF- Pref Novo Hamburgo- 2020) O enxofre (do latim sulphur) é um elemento químico de símbolo S, número atômico 16 e de massa atômica 32,1u. Quantos átomos possui, aproximadamente, uma massa igual a 12,0 gramas desse elemento?

- a) $5,13 \times 10^{23}$
- b) $6,02 \times 10^{23}$
- c) $2,25 \times 10^{23}$
- d) $60,20 \times 10^{23}$
- e) $5,10 \times 10^{23}$

Comentários:

Pela lei de Avogadro, sabemos que 1 mol S contém $6,02 \times 10^{23}$ átomos. Sabemos também que a massa molar do enxofre (S) equivale a $32\text{g} \cdot \text{mol}^{-1}$, o que equivale dizer que $6,02 \times 10^{23}$ átomos de enxofre pesam 32g. Dessa forma, para descobrirmos a quantidade de átomos em 12g, propomos a seguinte regra de três:

$$\begin{array}{ccc} 32\text{g de S} & \xrightarrow{\hspace{1.5cm}} & 6,02 \times 10^{23} \text{ átomos} \\ 12\text{g de S} & \xrightarrow{\hspace{1.5cm}} & X \text{ átomos} \\ & \text{X} = 2,25 \times 10^{23} \text{ átomos} & \end{array}$$

Resposta: letra C



4. (AOCP- Pref Betim – 2020) Na natureza nada se perde, nada se cria, tudo se transforma”. Essa clássica frase de Antoine Lavoisier levou ao conhecimento de princípios de grande importância para a temática das transformações químicas. A Lei da Conservação de Massa expõe que:

a) dentro de um recipiente fechado, a massa total não varia, quaisquer que sejam as transformações que venham a ocorrer.

b) na natureza, a energia é transformada ao passar pelos níveis da cadeia alimentar.

c) a massa e o volume são constantes em um ambiente controlado, independentemente das transformações a que estejam sujeitos.

d) a velocidade de transformação altera a massa total, exceto na natureza, onde a massa se mantém constante, independentemente da velocidade da reação.

e) a velocidade da queima de um gás altera significativamente a massa ao final de uma reação.

Comentários:

A Lei da Conservação de massa expõe a igualdade da massa em uma transformação química. Ela afirma que a massa total de produtos sempre será igual à massa total dos reagentes. Outra forma de elucidá-la é apresentada na letra A da questão, mas vamos analisar o motivo de desconsiderarmos as demais alternativas:

Letra B: incorreta. A lei da Conservação de Massas trata da igualdade de matéria em uma transformação química, mas nada fala sobre transformação de energia.

Letra C: incorreta. O volume não precisa ser necessariamente constante em uma transformação. Sabemos, por exemplo, que em uma reação química podemos ter formação ou consumo de gases, o que altera o volume total do sistema.

Letra D: incorreta. A velocidade de transformação não altera a massa total, pois como vimos a massa total é constante e invariável.

Letra E: incorreta. A velocidade de queima do gás não altera a massa total, pois como vimos a massa total é constante e invariável.

Resposta: letra A

5. (Instituto AOCP- Perito (ITEP RN) – 2018) No mercado joalheiro, a pureza do ouro é dada pela quantidade real desse metal presente na pepita. Quando o nível de pureza é de 99,99%, ele é classificado como 24 quilates. O termo quilates surgiu quando Constantino (272-337 dC) mandou cunhar o *Solidus*; moeda em ouro fino que tinha a massa de 24 sementes de alfarroba, ou 24 quilates, surgindo a expressão “ouro de 24 quilates” para o ouro puro. O número de átomos de ouro presentes em uma joia de massa 10 gramas, feita em ouro 19,2 quilates é, aproximadamente, igual a

a) $3,00 \times 10^{22}$

b) $2,80 \times 10^{22}$



c) $2,60 \times 10^{22}$

d) $2,40 \times 10^{22}$

e) $2,20 \times 10^{22}$

Comentários:

Pelo enunciado, percebemos que há uma relação entre a pureza do ouro e o número de quilates. Ou seja, enquanto o ouro 24 quilates possui pureza de 99,99%, uma quantidade menor de quilates (19,2 quilates, nesse caso) possuirá uma pureza menor. Podemos propor a seguinte regra de três para encontrarmos a pureza equivalente a 19,2 quilates:

$$\begin{array}{ccc} 24 \text{ quilates} & \frac{\text{---}}{\text{---}} & 99,99\% \\ 19,2 & \frac{\text{---}}{\text{---}} & \mathbf{X} \\ \text{quilates} & & \end{array}$$

$\mathbf{X} = 80\%$

No caso da questão, uma joia de massa 10g de 19,2 quilates terá pureza 80%. Ou seja, na joia há 8g de ouro.

Pela Lei de Avogadro, sabemos que 1 mol de ouro (Au) contém $6,02 \times 10^{23}$ átomos. Também conhecemos a massa molar do Au ($197\text{g}\cdot\text{mol}^{-1}$), a qual corresponde a massa contida em um mol. Podemos, então, propor a seguinte regra de três:

$$\begin{array}{ccc} 197 \text{ g} & \frac{\text{---}}{\text{---}} & 6,02 \times 10^{23} \text{ átomos} \\ 8\text{g} & \frac{\text{---}}{\text{---}} & \mathbf{Y} \\ & & \mathbf{Y} = 2,40 \times 10^{22} \text{ átomos} \end{array}$$

Resposta: letra D

6. (Instituto AOCP – UFFS/Laboratório – 2016) As massas dos elementos químicos são massas relativas em termos de unidades de massa atômica (u) ou daltons. A unidade de massa atômica está baseada em uma escala relativa cuja referência é o isótopo do carbono ^{12}C , ao qual foi atribuída exatamente a massa de 12u. Assim, a uma é, por definição, 1/12 da massa de um átomo neutro de C^{12} . Então, a massa molar (M) do C^{12} é definida como a massa em gramas de $6,022 \cdot 10^{23}$ átomos ou um mol de átomos do isótopo de carbono-12, ou exatamente 12 g. Assinale a alternativa que apresenta corretamente o número de átomos do isótopo ^{35}Cl do elemento cloro, existentes em 5 mols de cloro gasoso puro (Cl_2). Dados: Isótopos do elemento cloro ($^{35}\text{Cl} \rightarrow 75\%$; $^{37}\text{Cl} \rightarrow 25\%$)

a) $4,5165 \times 10^{24}$

b) $6,022 \times 10^{22}$

c) $12,044 \times 10^{23}$

d) $6,022 \times 10^{25}$

e) $4,5165 \times 10^{26}$

Comentários:

Pela lei de Avogadro, sabemos que 1 mol Cl_2 contém $6,02 \times 10^{23}$ moléculas Cl_2 . Sabemos que em cada molécula existem 2 átomos de cloro (Cl). Dessa forma, existem:



$$2 \times 6,023 \times 10^{23} = 12,04 \times 10^{23} \text{ átomos de cloro em um mol.}$$

Como o isótopo ^{35}Cl possui abundância de 75%, então multiplicando o número de átomos de cloro em um mol pela abundância obtemos o número de átomos do isótopo em questão contidos em um mol:

$$\text{Átomos do isótopo } ^{35}\text{Cu em 1 mol} = 12,04 \times 0,75 = 9,03 \times 10^{23}$$

Como a questão pede a quantidade em 5 mols, basta multiplicar o valor obtido por 5:

$$\text{Átomos do isótopo } ^{35}\text{Cu em 5 mols} = 9,03 \times 10^{23} \times 5 = 4,5165 \times 10^{24}$$

Resposta: letra A



QUESTÕES COMENTADAS – IDECAN

Aspectos quantitativos das transformações químicas

1. (Idecan – PEFOCE – 2021) Um certo tipo de titânio utilizado em implantes na coluna vertebral pesa em média 18g. O número de átomos de titânio presente nesse tipo de parafuso é de

(Considere $N_A = 6,0 \times 10^{23}$ e $M_a(u):Ti = 48$)

- a) $2,25 \times 10^{22}$.
- b) $3,75 \times 10^{22}$.
- c) $2,25 \times 10^{23}$.
- d) $3,75 \times 10^{23}$.
- e) $6,00 \times 10^{23}$.

Comentários:

Sabemos que, pela massa molar do Titânio (48u), cada mol do elemento corresponde a 48g. Além disso, em cada mol existem $6,0 \times 10^{23}$ átomos. Logo, podemos propor a seguinte regra de três:

$$\begin{array}{ccc} 48\text{g de titânio} & \frac{\quad}{\quad} & 6,0 \times 10^{23} \text{ átomos} \\ 18\text{g de titânio} & \frac{\quad}{\quad} & X \text{ átomos} \\ & X = 2,25 \times 10^{23} \text{ átomos} & \end{array}$$

Resposta: letra C

2. (Idecan – PEFOCE – 2021) Analise as afirmativas a seguir, em relação às grandezas químicas:

- I. O número de átomos, íons ou moléculas por mol é aproximadamente $6,0221 \times 10^{23}$.
- II. A massa de um átomo é dada pela média das massas dos isótopos naturais ponderada pela ocorrência de cada isótopo.
- III. A massa molar de uma substância é resultante do somatório do número total de átomos multiplicado pela constante de Avogadro.
- IV. Um mol de espécies contém um determinado número de espécies igual ao número de átomos que existem em precisamente 12g de carbono-12.
- V. O volume molar de um gás é constante e igual a $22,41 \text{ L} \cdot \text{mol}^{-1}$ em quaisquer condições.



Assinale

- a) se apenas as afirmativas II, IV e V forem verdadeiras.
- b) se apenas as afirmativas I, II e IV forem verdadeiras.
- c) se apenas as afirmativas II, III e IV forem verdadeiras.
- d) se apenas as afirmativas I, III e IV forem verdadeiras.
- e) se apenas as afirmativas I, II, IV e V forem verdadeiras.

Comentários:

Afirmativa I: verdadeiro. Correta definição da unidade mol. Um mol contém $6,0221 \times 10^{23}$ entidades elementares que podem ser **átomos, íons ou moléculas**.

Afirmativa II: verdadeiro. A maioria dos elementos é encontrada na natureza como **misturas de isótopos**. A massa atômica de um átomo, de fato, é o resultado da média das massas dos isótopos naturais ponderadas (no cálculo dessa média) pela ocorrência natural de cada isótopo.

Afirmativa III: falso. A massa em gramas de uma substância, expressa em gramas por mol, é conhecida como massa molar da substância. **A massa molar de uma substância corresponde à massa contida em um mol da mesma.** Ou seja, o valor é numericamente igual à massa molecular em unidades de massa atômica (u).

Afirmativa IV: verdadeiro. A unidade de medida mol representa a quantidade de matéria que contenha tantas unidades (átomos, moléculas, ou qualquer objeto que considerarmos) quanto o número de átomos presentes em 12g de carbono-12 isotopicamente puro, que, no caso, são $6,0221 \times 10^{23}$ átomos.

Afirmativa IV: falso. O volume molar do gás é uma função das temperaturas e pressões do ambiente. Logo, se variarmos algum desses parâmetros, o volume molar mudará.

Resposta: letra B

3. (Idecan – CBM DF – 2017) Com o avanço da teoria atômica, os químicos passaram a entender a base da lei da conservação da massa: os átomos não são criados nem destruídos durante qualquer reação química. Assim, o mesmo conjunto de átomos está presente antes e depois da reação. As mudanças que ocorrem durante qualquer reação é simplesmente um rearranjo dos átomos. Diante do exposto, marque V para as afirmativas verdadeiras e F para as falsas.

() O número de átomos de H em 0,350 mol de $C_6H_{12}O_6$ é $1,53 \times 10^{24}$.

() A massa de 0,433 mol de nitrato de cálcio é 71,1 g.

() Existem $1,75 \times 10^{22}$ moléculas de $C_6H_{12}O_6$ em 5,23 g.

A sequência está correta em



- a) F,F,V.
- b) V,V,F.
- c) V,F,V.
- d) F,V,V.

Comentários:

Afirmativa I: falso. Pela lei de Avogadro, sabemos que 1 mol de $C_6H_{12}O$ contem $6,02 \times 10^{23}$ moléculas. Logo, para descobrirmos a quantidade de átomos em 0,350 mol propomos a seguinte regra de três:

$$\begin{array}{ccc} 1 \text{ mol } C_6H_{12}O & \xrightarrow{\hspace{1cm}} & 6,02 \times 10^{23} \text{ moléculas} \\ 0,350 \text{ mol } C_6H_{12}O & \xrightarrow{\hspace{1cm}} & X \text{ moléculas} \end{array}$$

$X = 2,017 \times 10^{23}$ moléculas

Pela fórmula molecular, sabemos que existem 12 átomos de hidrogênio no composto, então multiplicando por 12 obtemos a quantidade de átomos de hidrogênio no composto, temos:

$$\text{Número de átomos de H} = 12 \times 2,017 \times 10^{23} \text{ átomos} = 2,53 \times 10^{24}$$

Afirmativa II: verdadeiro. Inicialmente, calculamos a massa molar do nitrato de cálcio $Ca(NO_3)_2$:

$$MM = 40 + 2 \times (14 + 3 \times 16) = 164 \text{ g/mol}$$

Agora sabendo que 1 mol de $Ca(NO_3)_2$ corresponde a 164g. Por último, propomos a seguinte regra de três para descobrir qual a massa contida em 0,433 mol:

$$\begin{array}{ccc} 1 \text{ mol } Ca(NO_3)_2 & \xrightarrow{\hspace{1cm}} & 164 \text{ g} \\ 0,433 \text{ mol } Ca(NO_3)_2 & \xrightarrow{\hspace{1cm}} & X \text{ g} \end{array}$$

$X = 71 \text{ g de } Ca(NO_3)_2$

Afirmativa III: verdadeiro. Inicialmente, calculamos a massa molar do $C_6H_{12}O_6$:

$$MM = 6 \times 12 + 12 \times 1 + 6 \times 16 = 180 \text{ g/mol}$$

Pela Lei de Avogadro, sabemos que 1 mol de $C_6H_{12}O_6$ contém $6,02 \times 10^{23}$ moléculas e pesa 180g. Sendo assim, propomos a seguinte regra de três para descobrir quantas gramas de $C_6H_{12}O_6$ existem em 5,23g:

$$\begin{array}{ccc} 180 \text{ g de } C_6H_{12}O_6 & \xrightarrow{\hspace{1cm}} & 6,02 \times 10^{23} \text{ moléculas} \\ 5,23 \text{ g de } C_6H_{12}O_6 & \xrightarrow{\hspace{1cm}} & X \text{ moléculas} \end{array}$$

$$X = 1,75 \times 10^{22} \text{ moléculas}$$

Resposta: letra D



QUESTÕES COMENTADAS

Aspectos quantitativos das transformações químicas

1. (FGV – Professor - Prefeitura J Guararapes - 2023) Com o objetivo de trabalhar com os alunos saberes relacionados à matéria e suas transformações, um professor planejou a observação ou realização das seguintes atividades:

1. Confeção de um bolo;
2. Reciclagem de papel;
3. Amadurecimento e apodrecimento de frutos;
4. Enferrujamento de palha de aço molhada;
5. Transformação de água líquida em vapor.

Das atividades listadas acima, são exemplos de transformações químicas as de número

- a) 1 e 5, pois envolvem o aquecimento dos materiais.
- b) 2 e 3, pois formam novos elementos químicos.
- c) 3 e 4, pois dão origem a novas substâncias.
- d) 2 e 5, pois as substâncias iniciais desaparecem.
- e) 1 e 4, pois produzem uma mistura homogênea.

Comentários:

Letra A: incorreta. Aquecimento de materiais pode resultar em transformações físicas, por exemplo, a transformação de água líquida em vapor é uma transformação física.

Letra B: incorreta. A reciclagem de papel e o amadurecimento de frutos não formam novos elementos químicos.

Letra C: correta. No amadurecimento e apodrecimento de frutos e no enferrujamento de palha de aço molhada ocorrem reações que resultam em novas substâncias, caracterizando transformações químicas.

Letra D: incorreta. Na reciclagem de papel e na transformação de água líquida em vapor as substâncias iniciais não desaparecem, ocorre apenas mudança de estado físico ou alteração na forma, não constituindo uma transformação química.



Letra E: incorreta. A confecção de um bolo e o enferrujamento de palha de aço molhada não resultam necessariamente em uma mistura homogênea.

Resposta: letra C

2. (FGV - Professor – Prefeitura - SP – 2023) Durante uma aula sobre transformações dos materiais, os alunos realizaram a seguinte atividade: colocaram um pouco de vinagre em uma garrafa e prenderam um balão contendo bicarbonato de sódio no gargalo; em seguida, deixaram o bicarbonato cair sobre o vinagre e observaram a mistura borbulhar e o balão encher.

Após compararem as características das substâncias usadas no experimento, antes e depois da transformação, os alunos concluíram, corretamente, que ocorreu um fenômeno

- a) químico, pois o enchimento do balão comprovou que as substâncias iniciais passaram a ocupar maior espaço.
- b) químico, pois ocorreu o surgimento de uma substância gasosa, que não estava presente no início da atividade.
- c) físico, pois é reversível, já que os materiais mantiveram suas propriedades, como a coloração e a textura.
- d) físico, pois os átomos que formavam os materiais iniciais se transformaram em novos átomos.
- e) físico, pois aconteceu a mudança de estado físico das substâncias presentes inicialmente no sistema.

Comentários:

Letra A: Incorreta. O fato de as substâncias passarem a ocupar maior espaço não indica necessariamente que houve uma transformação química. Poderia ser apenas uma expansão física.

Letra B: Correta. O surgimento de uma substância que não estava presente no início da atividade, no caso o gás, indica que houve uma reação química.

Letra C: Incorreta. Não há informações no enunciado que indiquem que a reação é reversível ou que as propriedades dos materiais, como a coloração e a textura, foram mantidas.

Letra D: Incorreta. Os átomos não se transformam em novos átomos em uma transformação física.

Letra E: Incorreta. A mudança de estado físico não indica necessariamente uma transformação física, pois essa também pode ocorrer em reações químicas.

Resposta: letra B

3. (Instituto AOCF - Técnico - IF MA - 2023) A realização de um experimento sobre a reação entre metais alcalinos e água, em contato com o ar, provocou deslumbre, nos alunos presentes na aula de



laboratório, pelos efeitos visuais causados. O sódio com a água produz gás hidrogênio e soda cáustica. Sobre o experimento em questão e o tipo de reação, é correto afirmar que

- a) a reação é endotérmica e ocorre pela característica pouco inflamável do hidrogênio em contato com o oxigênio.
- b) a reação de formação do gás hidrogênio por meio do sódio metálico com água é uma reação de simples troca ou deslocamento.
- c) a formação de gás e a emissão de calor são evidências de um fenômeno físico e não de uma reação química.
- d) visto que em contato com o ar ocorre uma reação não explosiva, o sódio metálico pode ser armazenado em frascos simples, sem restrições de locais.
- e) ao adicionar gotas de fenolftaleína à solução final, espera-se a cor rosa, já que o meio será ácido pela presença de NaOH.

Comentários:

Letra A: incorreta. A reação entre o sódio e a água é exotérmica, liberando energia na forma de calor, o que é observado pela elevação de temperatura. Além disso, o hidrogênio é altamente inflamável.

Letra B: correta. A reação entre o sódio metálico e a água gera hidrogênio e hidróxido de sódio (NaOH), sendo uma reação de simples troca ou deslocamento. O sódio reage com a água produzindo hidróxido de sódio (NaOH), conhecido como soda cáustica, e gás hidrogênio (H₂). A reação pode ser representada pela equação: $2 \text{Na} + 2 \text{H}_2\text{O} \rightarrow 2 \text{NaOH} + \text{H}_2\uparrow$.

Letra C: incorreta. A formação de gás e a liberação de calor são indicativos de uma reação química e não de um fenômeno físico. As substâncias iniciais (sódio metálico e água) se transformam em novas substâncias (hidróxido de sódio e gás hidrogênio), caracterizando uma reação química.

Letra D: incorreta. Devido à sua alta reatividade, especialmente em contato com o ar e a umidade, o sódio metálico não deve ser armazenado em frascos simples sem restrições. É comum armazená-lo sob óleo mineral ou em atmosfera inerte para prevenir reações indesejadas.

Letra E: incorreta. A adição de fenolftaleína à solução de hidróxido de sódio resultará em uma solução colorida em rosa, indicativo de um meio básico e não ácido. A fenolftaleína é um indicador que fica incolor em soluções ácidas e rosa em soluções básicas.

Resposta: letra B

4. Instituto AOCF - Tec (IF MA)/IF MA/2023) Uma pessoa observou a seguinte situação no laboratório:

1) As chamas das velas.



2) Gelo derretendo em seu copo com suco.

3) Naftalinas em cantos estratégicos.

4) Chuva entrando pela janela.

Os fenômenos relacionados com as observações do técnico são respectivamente:

a) condensação; sublimação; combustão; fusão.

b) combustão; sublimação; fusão; condensação.

c) condensação; fusão; sublimação; combustão.

d) fusão; sublimação; combustão; condensação.

e) combustão; fusão; sublimação; condensação.

Comentários:

A chama da vela é um processo de combustão (correto), o gelo derretendo é fusão (correto), a naftalina desaparecendo é sublimação (correto) e a chuva entrando pela janela é condensação (correto). A ordem dos processos está correta.

Resposta: Letra E

5. (CEBRASPE/CESPE - Papiloscopista - POLC AL - 2023) No que se refere a conceitos aplicados à química, julgue o item a seguir. A lei de Lavoisier estabelece que, em uma substância química pura, os elementos estão sempre presentes em proporções mássicas definidas.

Comentários:

A afirmação está incorreta. A lei referida no enunciado não é a lei de Lavoisier, mas a lei de Proust, também conhecida como lei das proporções definidas ou constantes. A lei de Lavoisier, por sua vez, é a lei da conservação da massa, que estabelece que a massa total dos reagentes é igual à massa total dos produtos em uma reação química.

Resposta: Errado

6. (AVANÇASP – Professor - Prefeitura Morungaba - 2023) A reação entre 1 mol de Na_2CO_3 e 2 mols de HCl ocorrerá, permitindo a formação de 2 mols de NaCl , 1 mol de H_2O e 1 mol de determinada molécula gasosa. Assinale a alternativa que a identifica corretamente.

a) H_2O_2 (g).

b) O_2 (g).



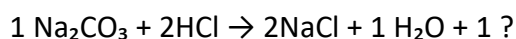
c) CO_6 .

d) O_3 .

e) CO_2 .

Comentários:

Podemos prever a formação dos produtos dessa reação considerando que o ácido clorídrico (HCl) vai reagir com o carbonato de sódio (Na_2CO_3), um sal, originando um novo sal (NaCl), água (H_2O) e um gás. Balanceando a reação temos:



Ainda temos um átomo de carbono e dois átomos de oxigênio restantes no reagente Na_2CO_3 que não foram contabilizados nos produtos, os quais podem formar a molécula de dióxido de carbono (CO_2), um gás. Portanto, a alternativa que identifica corretamente a molécula gasosa formada na reação entre 1 mol de Na_2CO_3 e 2 mols de HCl é a letra E (CO_2).

Resposta: letra E.

7. (AVANÇASP – Professor – Prefeitura SM Arcanjo - 2023) De acordo com a Lei de Lavoisier, a massa total de um sistema químico:

- a) Pode ser criada a partir do nada.
- b) Pode ser destruída e desaparecer completamente.
- c) Permanece constante antes e depois de uma reação química.
- d) É modificada durante uma reação química, sempre resultando em uma diminuição da massa total.
- e) Depende da energia envolvida na reação química e, portanto, pode variar.

Comentários:

Letra A: incorreta. De acordo com a Lei de Lavoisier, ou Lei da Conservação das Massas, “Na natureza, nada se cria, nada se perde, tudo se transforma”. Portanto, a massa total de um sistema químico não pode ser criada a partir do nada.

Letra B: incorreta. A Lei de Lavoisier também estabelece que a massa total de um sistema químico não pode ser destruída e desaparecer completamente.

Letra C: correta. Exato! A Lei de Lavoisier afirma que a massa total de um sistema químico permanece constante antes e depois de uma reação química, independentemente da natureza da reação química.

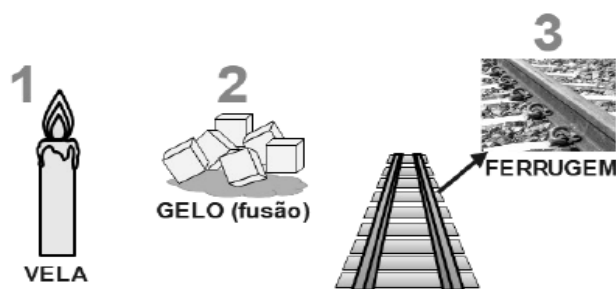
Letra D: incorreta. A afirmativa contradiz diretamente a Lei de Lavoisier, que estabelece a conservação da massa total em um sistema químico durante uma reação química.



Letra E: incorreta. A massa total de um sistema químico não depende da energia envolvida na reação química. A Lei de Lavoisier afirma que a massa total de um sistema químico é conservada, independentemente da energia envolvida na reação química.

Resposta: letra C

8. (AVANÇASP - Professor - Prefeitura Morungaba - 2023) Considerando os conceitos relacionados às transformações químicas e físicas, analise atentamente a imagem e as proposições a seguir.



I. O gelo derretendo ocorre somente a transformação química representada por $\text{H}_2\text{O}(\text{s}) \rightarrow \text{H}_2\text{O}(\text{l})$.

II. Em uma vela acesa ocorre somente transformação de natureza química, a qual pode ser expressa por $\text{Parafina}(\text{s}) + \text{O}_2(\text{g}) \rightarrow \text{CO}_2(\text{g}) + \text{H}_2\text{O}(\text{g})$.

III. Na ferrugem ocorre a corrosão do metal como resultado das reações químicas de oxirredução.

Está correto o que se afirma apenas em:

- a) II.
- b) III.
- c) I e II.
- d) II e III.
- e) I e III.

Comentários:

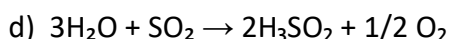
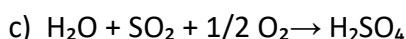
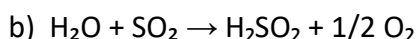
I. Errado. O processo de transformação da água sólida (gelo) para água líquida é uma **transformação física** e não química. Nesse processo, a substância água (H_2O) não sofre alteração em sua composição química, apenas muda de estado físico.

II. Errado. De fato, a combustão da parafina (Cera de vela) na presença de oxigênio é uma transformação de natureza química, que resulta na formação de dióxido de carbono (CO_2) e água (H_2O). Sendo a reação química descrita como: $\text{parafina} + \text{O}_2 \rightarrow \text{CO}_2 + \text{H}_2\text{O}$. No entanto, na queima de uma vela ocorre também uma transformação física: a fusão da parafina.

III. Correto. A corrosão do metal é um exemplo de **transformação química**, que ocorre através de reações de oxirredução. No processo de corrosão, os átomos de metal perdem elétrons (sofrem oxidação) e se transformam em íons, resultando em óxidos, hidróxidos, entre outros compostos.

Resposta: letra B.

9. (Instituto Consulplan – Técnico - IF PA - 2023) Ao preparar os materiais para a aula de reações químicas, o técnico de laboratório observou no roteiro a imagem e a descrição a seguir: Certa quantidade de enxofre é inserida no dispositivo de combustão e a chama é iniciada no bico de Bunsen. Então, ainda com a chama acesa, o dispositivo é inserido em um frasco hermeticamente fechado e o dióxido de enxofre formado fica confinado no recipiente. Este gás, por sua vez, reage com a água contida no fundo do frasco, formando uma solução de ácido sulfuroso. Considerando todas as informações apresentadas e a imagem, a reação que expressa corretamente a formação do ácido sulfuroso é:



Comentários:

Letra A: correta. A reação de formação do ácido sulfuroso a partir de água e dióxido de enxofre é representada por essa equação química.

Letra B: incorreta. Esta equação apresenta a formação de um composto não existente (H_2SO_2) e liberação de oxigênio, o que não ocorre nessa reação.

Letra C: incorreta. Esta equação representa a formação de ácido sulfúrico e não ácido sulfuroso.

Letra D: incorreta. A equação apresenta a formação de um composto não existente (H_3SO_2) e liberação de oxigênio, o que não ocorre na reação de formação do ácido sulfuroso.

Resposta: letra A.

10. (COCP - Professor - IF MT - 2023) “Uma reação química é o processo da mudança química, isto é, a conversão de uma ou mais substâncias em outras substâncias. Os materiais iniciais são chamados reagentes. As substâncias formadas são chamadas de produtos”. Assinale a alternativa que contenha somente evidências de que ocorreu uma reação química:

a) Desprendimento gasoso; formação de precipitado; e energia de ativação.

b) Afinidade química; variação de temperatura (absorção ou liberação de calor); e mudança de cor.



- c) Colisões favoráveis entre moléculas; desprendimento gasoso; e mudança de cor.
- d) Desprendimento gasoso; formação de precipitado; e variação de temperatura.
- e) Superfície de contato entre reagentes; desprendimento gasoso; e formação de complexo.

Comentários:

Letra A: incorreta. A energia de ativação não é uma evidência visível de que ocorreu uma reação química.

Letra B: incorreta. A afinidade química é um fator que influencia a ocorrência de uma reação, mas não é uma evidência visível de que ocorreu uma reação química.

Letra C: incorreta. As colisões favoráveis entre moléculas são um fator que influencia a ocorrência de uma reação, mas não é uma evidência visível de que ocorreu uma reação química.

Letra D: correta. Todas as opções citadas nessa alternativa são evidências visíveis de que ocorreu uma reação química. O desprendimento gasoso, a formação de um precipitado e a variação de temperatura são indícios de que houve uma transformação química.

Letra E: incorreta. A superfície de contato entre reagentes é um fator que influencia a velocidade de uma reação química, mas não é uma evidência visível de que ocorreu uma reação química.

Resposta: letra D

11. (Adaptado de FGV - Auxiliar de Perícia Médico-legal - PCMA - 2012) Trinitrato de glicerina (TNG), fórmula molecular $C_3H_5N_3O_9$, também denominado nitroglicerina, é o éster trinitrado do propanotriol (...). O TNG é um líquido oleoso, insolúvel em água e extremamente sensível, não apenas à temperatura, mas também ao choque mecânico, motivo pelo qual deve ser manuseado com extremo cuidado. Sua combustão ao ar está descrita abaixo:



A combustão completa de 1 mol de TNG (Massa molecular=227g) produz um volume de gás carbônico nas Condições Normais de Temperatura e Pressão (CNTP) de:

- a) 11,2L
- b) 22,4L
- c) 33,6L
- d) 44,8L
- e) 67,2L

Comentários:



Devemos utilizar os coeficientes da equação para estruturar nossa regra de três e verificar quantos litros de CO_2 existem na combustão de 1 mol de TNG. Segundo a reação:



DICA: Um caminho seria completar a regra de três, utilizando 1 mol de TNG na linha de baixo e encontrando o número de mols produzidos de CO_2 . Em seguida, seria necessário transformar esse número de mols de CO_2 em volume, utilizando a relação em que 1 mol de qualquer gás (substância gasosa) sempre apresenta o volume de 22,4 L nas CNTP. Entretanto, sugiro que substitua “12 mols de CO_2 ” por “12 . 22,4L de CO_2 ”, pois são equivalentes, não é mesmo? Desta forma, o cálculo fica simplificado e você encontrará o resultado em apenas 1 regra de três.

Ao reescrevermos a relação acima, substituindo cada mol de CO_2 por 22,4L, temos:

$$\begin{array}{rcl} 4 \text{ mols de TNG} & \underline{\hspace{2cm}} & 12 \cdot 22,4\text{L de CO}_2 \\ 1 \text{ mol de TNG} & \underline{\hspace{2cm}} & x \\ & & x=67,2\text{L de CO}_2 \end{array}$$

Resposta: letra E

12. (Marinha - Colégio Naval - 2016) Qual é a massa (expressa em gramas) de uma amostra com volume de 3 mL de álcool etílico, e cujo valor de sua densidade, nas condições de temperatura e pressão em que se encontra, é de 0,79 g/mL?

- A) 0,26
- B) 2,37
- C) 2,73
- D) 3,79
- E) 8,78

Comentários:

Questão de simples aplicação da fórmula da densidade, como segue:

$$d = \frac{m}{V} \rightarrow 0,79\text{g}\cdot\text{mL}^{-1} = \frac{m}{3,0 \text{ mL}} \rightarrow m = 2,37\text{g}$$

Resposta: letra B



13. (CESPE - Aspirante - CBM-DF - 2016) Dez mil litros de uma solução aquosa de ácido sulfúrico (H_2SO_4) vazaram de um caminhão-tanque e o corpo de bombeiros foi acionado para neutralizada o ácido CaO . Considerando a situação hipotética descrita no texto e sabendo que a solução apresentava densidade igual a $1,89 \text{ g/mL}$ e concentração igual a 98% massa/massa, julgue o item que se segue:

A quantidade de matéria de H_2SO_4 derramada é superior a 190.000 mol.

Comentários:

Conhecemos o volume de ácido sulfúrico (H_2SO_4) derramado, 10 mil litros, e precisamos converter esse valor para mols. Como é nossa primeira aula, sugiro fazermos esse cálculo em duas etapas: (i) converter volume em massa pela fórmula da densidade; (ii) converter a massa obtida na etapa anterior em número de mols.

(i) Conversão de volume em massa pela fórmula da densidade:

Antes de aplicar os valores na fórmula da densidade, devemos notar que a densidade se encontra em g/mL e o volume em litros. Podemos converter um o outro, mas, nesse caso, é mais produtivo converter o volume 10.000 litros que corresponde a 10.000.000 mL. Agora podemos aplicar na fórmula como segue:

$$d = \frac{m}{V} \rightarrow 1,89 \text{ g} \cdot \text{mL}^{-1} = \frac{m}{10.000.000 \text{ mL}} \rightarrow m = 1,89 \cdot 10^7 \text{ g}$$

(ii) Conversão da massa obtida na etapa anterior em número de mols (n):

De início, precisamos encontrar a massa molar (M) do H_2SO_4 . Lembre-se, a forma de se calcular massa molecular (MM) e M é a mesma, diferindo apenas a unidade de medida.

$$\text{MM}(\text{H}_2\text{SO}_4) = 2 \cdot (A_{\text{H}}) + A_{\text{S}} + 4 \cdot A_{\text{O}} \cong 2 \cdot 1,0 + 32,0 + 2 \cdot 16,0 \cong 98 \text{ g} \cdot \text{mol}^{-1}$$

Agora podemos aplicar na fórmula do número mols:

$$n = \frac{m}{M} \rightarrow n = \frac{1,89 \cdot 10^7 \text{ g}}{98 \text{ g} \cdot \text{mol}^{-1}} \rightarrow n = 1,93 \cdot 10^5 \text{ mol}$$

Ainda trabalharemos o conceito de concentração e pureza em aulas futuras, mas precisamos notar nesse exercício que a pureza do H_2SO_4 é de 98%, ou seja, 2% do volume derramado não corresponde ao ácido, mas sim a outras substâncias como a água. Sendo assim, precisamos corrigir o número de mols acima, por meio de uma regra de três, como segue:

$$\begin{array}{rcl} 1,93 \cdot 10^5 \text{ mol} & & 100\% \\ \times & & 98\% \\ \hline x = 1,89 \cdot 10^5 \text{ mol} & & \end{array}$$

Como o número de mols é inferior a 190.000 mol ($1,9 \cdot 10^5 \text{ mol}$), então o **item está errado**.



Resposta: errada.

14. (Marinha - Colégio Naval - 2013) Qual é a massa (expressa em gramas) de uma amostra de um solvente líquido e puro, com volume de 3 mL e cuja densidade absoluta é de aproximadamente 0,78 g/mL?

A) 0, 26

B) 0, 38

C) 2, 21

D) 2, 34

E) 3,85

$$d = \frac{m}{V} \rightarrow 0,78\text{g.mL}^{-1} = \frac{m}{3,0 \text{ mL}} \rightarrow m = 2,34\text{g}$$

Comentários:

Mais uma questão de aplicação direta da fórmula da densidade:

Resposta: letra D

15. (FUNRIO - Assistente de Laboratório - IF-PA - 2016) O cientista francês Antoine Lavoisier que viveu no século XVII é o autor de uma das mais importantes leis relativas as reações químicas, a chamada “Lei de conservação das massas”. Com relação a essa lei podemos afirmar:

a) numa reação química, as massas dos produtos são sempre a metade da massa dos reagentes.

b) numa reação química, não existe relação entre as massas dos reagentes e dos produtos.

c) numa reação química, a soma das massas dos reagentes é igual à soma das massas dos produtos.

d) numa reação química, as massas dos produtos são sempre o dobro das massas dos reagentes.

e) numa reação química, a soma massas dos produtos é sempre inversamente proporcional à soma das massas dos reagentes.

Comentários:

A Lei da Conservação das Massas, proposta por Lavoisier, afirma que, em um recipiente fechado, a soma das massas antes da reação é igual à soma das massas após a reação. Ou seja, quando não há troca de matéria do sistema com as vizinhanças, a soma das massas dos reagentes é igual a soma das massas dos produtos. Ex.



reagente A + reagente B → reagente C + reagente D

$$50 \text{ g} = 50 \text{ g}$$

Resposta: letra C

16. (CONSULPLAN - Aspirante - CBM-SC - 2015) Em uma bancada de um laboratório de química, foi encontrada uma proveta contendo 200 ml de H₂O. Calcule o número de mol de moléculas de água, o número de moléculas de água e o número total de átomos. (Considere: massas atômicas = H = 1,0; O = 16; número de avogadro = 6,0 . 10²³; densidade da água = 1,0 g/ml.)

- A) 10 mol de moléculas de água; 6,66 . 10²³ moléculas de água; e, 18,0.10²³ átomos.
B) 20 mol de moléculas de água; 6,66 . 10²³ moléculas de água; e, 18,0.10²⁴ átomos
C) 10,10 mol de moléculas de água; 6,0.10²⁴ moléculas de água; e, 18,8.10²³ átomos.
D) 11,11 mol de moléculas de água; 6,66.10²⁴ moléculas de água; e, 19,98.10²⁴ átomos.

Comentários:

Como a densidade da água é 1g/mL, então 200 mL de água corresponde a 200g. O primeiro passo para encontrarmos o número de mols é calcular a massa molar da água, como segue:

$$M(\text{H}_2\text{O}) = 2x\text{A}_\text{H} + 1x\text{A}_\text{O} = 2x1 + 1x16 = 18 \text{ g/mol}$$

Aplicando o valor encontrado na formula do número de mols (n), temos:

$$n = \frac{m}{M} \rightarrow n = \frac{200\text{g}}{18} \rightarrow n = 11,11 \text{ mol}$$

Os cálculos apresentados até aqui já são suficientes para encontrar a alternativa correta, pois a alternativa D é a única que apresenta 11,11 mols. No entanto, vamos explorar mais a questão, e encontrar o número de moléculas e átomos também solicitados.

Podemos encontrar o número de moléculas por meio da regra de três abaixo:

$$\begin{array}{ccc} 1 \text{ mol} & \frac{\quad}{\quad} & 6,0 \cdot 10^{23} \text{ moléculas} \\ 11,11 \text{ mol} & \frac{\quad}{\quad} & x \\ \hline & & x = 6,66 \cdot 10^{24} \text{ moléculas} \end{array}$$

Para o cálculo do número de átomos, devemos lembrar que cada molécula de água (H₂O) é composta por 3 átomos (2H e 1O). A partir dessa informação, podemos estruturar a seguinte regra de três:

$$\begin{array}{ccc} 1 \text{ molécula} & \frac{\quad}{\quad} & 3 \text{ átomos} \\ 6,68 \cdot 10^{24} \text{ moléculas} & \frac{\quad}{\quad} & y \\ \hline & & y = 19,99 \cdot 10^{24} \text{ átomos} \end{array}$$



Resposta: letra D

17. (FUNCAB - Aspirante - CBM-RO - 2014) A tabela periódica fornece os valores das massas atômicas dos elementos expressos em u. De posse desses valores e da fórmula molecular, pode-se calcular facilmente a massa molar das substâncias; basta, para isso, multiplicar o índice de cada elemento na fórmula pela sua respectiva massa atômica, em seguida somar os valores encontrados e expressá-los em g/mol. Dadas as massas atômicas: H = 1, C = 12, O = 16 e N = 14, qual substância apresenta maior massa molar?

- A) N₂
- B) H₂O
- C) C₂H₆O
- D) CH₄N₂O
- E) CH₄

Comentários:

A massa molecular (MM) é a soma das massas atômicas (A) dos átomos que a compõe. Portanto, basta encontrarmos a MM para todas as substâncias apresentadas e identificar a de maior massa molar.

Letra A - N₂: $MM = 2 \times A_N = 2 \times 14 = 28u$

Letra B - H₂O: $MM = 2 \times 1 + 1 \times 16 = 18u$

Letra C - C₂H₆O: $MM = 2 \times 12 + 6 \times 1 + 16 = 46u$

Letra D - CH₄N₂O: $MM = 1 \times 12 + 4 \times 1 + 2 \times 14 + 16 = 60u$

Letra E - CH₄: $MM = 1 \times 12 + 4 \times 1 = 16u$

A maior massa é observada, portanto, na [alternativa D](#).

Resposta: letra D

18. (Instituto AOCP - Técnico de Laboratório - CASAN - 2016) De acordo com a seguinte reação $N_2 + 3 H_2 \rightarrow 2 NH_3$, podemos afirmar que são necessários quantos gramas de N₂ para a obtenção de 204g de NH₃? (Massa molar N=14; H=1)

- a) 168
- b) 172



- c) 185
- d) 194
- e) 202

Comentários:

Questão relativamente simples, basta montarmos as correlações entre as massas dos participantes, conforme a reação química fornecida. De acordo com ela, 1 mol de nitrogênio (N_2) resulta em 2 mols de amônia ($2 NH_3$).

De início, precisamos calcular a massa molar (M) dessas substâncias, como segue:


$$M_{(N_2)} = 28 \text{ g/mol}$$

$$M_{(NH_3)} = 17 \text{ g/mol};$$

Como temos 2 mols de NH_3 , basta multiplicarmos a massa molar por 2, para obtermos a massa total, representada na equação.

$$17 \times 2 = 34 \text{ g de } NH_3$$

Agora, vamos à regra de três para encontrar a massa de N_2 produzida.

$28 \text{ g de } N_2$		$34 \text{g } NH_3$
X		204 g
	$X = 168 \text{ g } N_2$	

Note que a primeira linha da regra de três corresponde a dizer que 1 mol de N_2 (28g) está para 2 mols de NH_3 ($2 \times 17 = 34 \text{g}$). Estruturar regras de três dessa maneira deixa o cálculo mais direto, o que pode economizar tempo na hora da prova.

Resposta: letra A

19. (ISAE - Aspirante - PM-AM - 2011) Assinale a opção que apresenta substâncias em ordem crescente de suas massas moleculares.

- A) H_2S ; HNO_2 ; HCl ; H_2SO_3 ;
- B) H_2S ; C_3H_8 ; HNO_2 ; H_2SO_4 ;
- C) H_2O ; H_2SO_3 ; C_4H_{10} ; HCl ;
- D) HNO_2 ; H_2O ; H_2S ; H_2SO_4 .

Comentários:



A massa molecular (MM) é a soma da massa dos átomos que a compõe. Portanto, basta encontrarmos a MM para todas as substâncias apresentadas e ranqueá-las em ordem crescente. Nesses casos, ou será fornecido as massas atômicas (A) de cada elemento ou será necessário consultar a tabela periódica que pode ser fornecida no verso da última página de sua prova. Vamos aos cálculos:

Ácido sulfídrico - H₂S:

$$MM = 2x A_H + 1x A_S \rightarrow MM = 2x1u + 1x32u = \mathbf{34u \text{ (u: unidade de massa atômica)}}$$

Ácido nitroso - HNO₂:

$$MM = 1x A_H + 1x A_N + 2x A_O \rightarrow MM = 1x1 + 1x32 + 2x16 = \mathbf{47u}$$

Ácido clorídrico - HCl:

$$MM = 1x1 + 1x35,5 = 36,5u$$

Ácido sulfuroso - H₂SO₃:

$$MM = 2x1 + 1x32 + 3x16 = 82u$$

Ácido sulfúrico - H₂SO₄:

$$MM = 2x1 + 1x32 + 4x16 = 98u$$

Butano - C₄H₁₀:

$$MM = 4x12 + 10x1 = 58u$$

Propano - C₃H₈:

$$MM = 3x12 + 8x1 = 44u$$

Água - H₂O:

$$MM = 2x1 + 16 = 18u$$

A ordem crescente de massa atômica é, portanto:



Resposta: letra B

20. (CESGRANRIO - Técnico de Operação Júnior - Petrobras - 2011)



Qual a massa, em gramas, de água que é produzida na reação do ácido clorídrico com 50 g de carbonato de cálcio, conforme o processo químico mostrado acima?

(Dados: $mH = 1u$, $mCl = 35,5u$, $mCa = 40u$, $mO = 16u$, $mC = 12u$)

- a) 1,0
- b) 9,0
- c) 18,0
- d) 100,0
- e) 180,0

Comentários:

Questão relativamente simples, como a equação apresentada no enunciado da questão já está balanceada corretamente, basta calcularmos a massa molar do carbonato de cálcio ($CaCO_3$) e relacionarmos com a massa de água que está sendo formada na reação. Desta forma, por meio de uma regra de três, podemos calcular a massa de água (H_2O) produzida ao utilizarmos 50 de $CaCO_3$.

$$M_{(CaCO_3)} = 40 + 12 + 3 \times 16 = 100 \text{ g/mol}$$



Resposta: letra B

21. (FUNECE – Professor/Química – Secretaria da Educação do Estado do Ceará - 2018) A descoberta do oxigênio por Joseph Priestley e Carl Wilhelm Scheele permitiu que Antoine Laurent Lavoisier combatesse uma teoria predominante do flogisto defendida por

- A) Kekulé.
- B) Proust.
- C) Boyle.
- D) Stahl.

Comentários:

A teoria do flogisto defendia que uma substância fundamental e etérea se fazia presente em todas as substâncias inflamáveis, sendo liberada ao longo da combustão ou absorvida durante a calcinação. Esta teoria foi desenvolvida por Stahl em meados de 1659.



Vale a pena citar que Kekulé foi responsável pelos postulados sobre os átomos de carbono, Proust estabeleceu a Lei das proporções definidas e Boyle contribuiu principalmente no estudo dos gases ideais.

Resposta: letra D

22. (Instituto Acesso – Professor Ensino Indígena/Química – SEDUC/AM - 2018) As origens da química e principalmente da alquimia se perdem na história da humanidade, mas muitos estudos apontam para um desenvolvimento da química moderna a partir da alquimia. Dentro do desenvolvimento da química e da alquimia, muitas ideias surgiram. Abaixo segue uma citação de um Alquimista espanhol do século XVI, Arnaldo de Villanova:

"Existe na Natureza certa substância pura que, quando descoberta e levada pela Arte a seu estado perfeito, converterá à perfeição todos os corpos perfeitos em que tocar."

O referido alquimista, nessa citação, se referia a(ao):

- A) Teoria atômica
- B) Elixir da longa vida
- C) Ideia dos quatro elementos
- D) Desenvolvimento da Iatroquímica
- E) Pedra filosofal

Comentários:

Na alquimia, acreditava-se que a pedra filosofal era capaz de transformar qualquer metal em ouro, sendo este o metal perfeito. A citação, de forma mais poética, descreve o poder da pedra filosofal, uma substância lendária que os alquimistas buscavam encontrar em experimentos laboratoriais.

Resposta: letra E



LISTA DE QUESTÕES -FGV

Aspectos quantitativos das transformações químicas

1. FGV - Prof (J Guararapes)/Pref J Guararapes - 2023) Com o objetivo de trabalhar com os alunos saberes relacionados à matéria e suas transformações, um professor planejou a observação ou realização das seguintes atividades:

1. Confeção de um bolo;
2. Reciclagem de papel;
3. Amadurecimento e apodrecimento de frutos;
4. Enferrujamento de palha de aço molhada;
5. Transformação de água líquida em vapor.

Das atividades listadas acima, são exemplos de transformações químicas as de número

- a) 1 e 5, pois envolvem o aquecimento dos materiais.
- b) 2 e 3, pois formam novos elementos químicos.
- c) 3 e 4, pois dão origem a novas substâncias.
- d) 2 e 5, pois as substâncias iniciais desaparecem.
- e) 1 e 4, pois produzem uma mistura homogênea.

2. FGV - Prof (Pref SP) - 2023 Durante uma aula sobre transformações dos materiais, os alunos realizaram a seguinte atividade: colocaram um pouco de vinagre em uma garrafa e prenderam um balão contendo bicarbonato de sódio no gargalo; em seguida, deixaram o bicarbonato cair sobre o vinagre e observaram a mistura borbulhar e o balão encher.

Após compararem as características das substâncias usadas no experimento, antes e depois da transformação, os alunos concluíram, corretamente, que ocorreu um fenômeno

- a) químico, pois o enchimento do balão comprovou que as substâncias iniciais passaram a ocupar maior espaço.
- b) químico, pois ocorreu o surgimento de uma substância gasosa, que não estava presente no início da atividade.
- c) físico, pois é reversível, já que os materiais mantiveram suas propriedades, como a coloração e a textura.
- d) físico, pois os átomos que formavam os materiais iniciais se transformaram em novos átomos.
- e) físico, pois aconteceu a mudança de estado físico das substâncias presentes inicialmente no sistema.



3. (FGV- PM-SP – 2021) A Química Forense surgiu a partir de um crime de grande repercussão cometido na Bélgica, em 1850. O criminoso teria extraído óleo de uma planta e obrigado a vítima a ingerir a substância. Para comprovar o crime, a polícia pediu ajuda a um químico, que desenvolveu um método para detectar a substância nos tecidos do cadáver, o que permitiu a condenação do criminoso.

ÂNGELIS, R. Descubra a importância da química forense. <http://www.ung.br/noticias/descubra-importancia-da-quimica-forense>. Acesso em 10/06/2020. Adaptado.

Dados: massas atômicas (u): H = 1, C = 12, N = 14 e O = 16.

A substância detectada possuía massa molecular 162; portanto, é possível saber que se tratava da

- a) cafeína, de fórmula molecular $C_8H_{10}N_4O_2$.
- b) coniina, de fórmula molecular $C_8H_{17}N$.
- c) morfina, de fórmula molecular $C_{17}H_{19}NO_3$.
- d) nicotina, de fórmula molecular $C_{10}H_{14}N_2$.
- e) teobromina, de fórmula molecular $C_7H_8N_4O_2$.

4. (FGV – Perito Criminal – PC RJ – 2021) No decorrer de suas atividades, a perita depara-se com um composto orgânico desconhecido. Inicialmente a profissional identifica que 57,65% do composto é carbono e 3,84% é hidrogênio. Avançando na identificação, na dosagem do enxofre, 0,333 grama do composto é tratado com BaCl, produzindo 0,3731 grama de BaSO₄ (peso molecular 233).

A partir desses dados, a perita conseguiu determinar a fórmula empírica como sendo:

- a) $C_{10}H_{12}SO_2$.
- b) $C_{10}H_8SO_2$.
- c) $C_8H_8SO_2$.
- d) $C_{10}H_8SO_3$.
- e) $C_8H_8(SO_2)_3$.

5. (FGV – Perito Criminal – PC RJ – 2021) A fórmula molecular de um composto orgânico cuja fórmula centesimal contenha 40,67% de carbono, 8,47% de hidrogênio e 23,73% de nitrogênio é:

- a) $C_2H_6(NO)_2$
- b) $C_2H_5(NO)_2$
- c) C_3H_6NO .
- d) C_2H_5NO .
- e) C_2H_6NO .

6. (Adaptado de FGV - Auxiliar de Perícia Médico-legal - PCMA - 2012) Trinitrato de glicerina (TNG), fórmula molecular $C_3H_5N_3O_9$, também denominado nitroglicerina, é o éster trinitrado do propanotriol



(...) O TNG é um líquido oleoso, insolúvel em água e extremamente sensível, não apenas à temperatura, mas também ao choque mecânico, motivo pelo qual deve ser manuseado com extremo cuidado. Sua combustão ao ar está descrita abaixo:



A combustão completa de 1 mol de TNG (Massa molecular=227g) produz um volume de gás carbônico nas Condições Normais de Temperatura e Pressão (CNTP) de:

- a) 11,2L
- b) 22,4L
- c) 33,6L
- d) 44,8L
- e) 67,2L



GABARITO

GABARITO



- | | |
|---|----|
| 1 | C |
| 2 | B |
| 3 | D |
| 4 | B* |
| 5 | D |
| 6 | E |



LISTA DE QUESTÕES - CEBRASPE

Aspectos quantitativos das transformações químicas

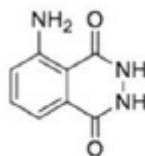
1. (CEBRASPE/CESPE - Papiloscopista - POLC AL - 2023) No que se refere a conceitos aplicados à química, julgue o item a seguir.

A lei de Lavoisier estabelece que, em uma substância química pura, os elementos estão sempre presentes em proporções mássicas definidas.

Texto associado para responder as questões 2 e 3

(CEBRASPE – PM- AI – 2021) O luminol é o mais eficiente detector de sangue oculto em cenas de crime contra a vida, por meio da utilização de borrifadores ou de um luminômetro portátil. Ele reage quimicamente, liberando energia (fótons) sob a forma de uma luz azul, por meio de uma reação denominada quimiluminescência. Ao ser aplicado na detecção de traços de sangue oculto e entrar em contato com o ferro coordenado presente na hemoglobina (não sendo este consumido durante o processo), seguido do tratamento com água oxigenada em meio básico, o luminol promove a formação de fótons sob a forma de uma luz azulada.

Internet: <<https://lasape.iq.ufrj.br>> (com adaptações).



luminol

Internet: <www.infoescola.com>.

Tendo como referência a estrutura do luminol, apresentada anteriormente, e as informações do texto precedente, julgue o item a seguir, considerando que $M_H = 1 \text{ g/mol}$, $M_C = 12 \text{ g/mol}$, $M_N = 14 \text{ g/mol}$ e $M_O = 16 \text{ g/mol}$.

2. A porcentagem, em massa, do carbono na substância luminol é superior a 50%.
3. Em 2 mols de moléculas de luminol, existem 14×10^{23} átomos de hidrogênio.
4. (CEBRASPE – CBM-AI – 2021) O extintor comercial de pó tipo ABC abafa e resfria o local do incêndio, suprimindo os íons livres da reação em cadeia, para extinguir o fogo rapidamente. A capacidade de absorção de calor, a vaporização e a decomposição das partículas do pó seco são os principais responsáveis pela extinção. Os principais constituintes dos pós ABC são di-hidrogenofosfato de amônio — $\text{NH}_4\text{H}_2\text{PO}_4$ — e sulfato de amônio — $(\text{NH}_4)_2\text{SO}_4$.

A partir das informações do texto apresentado, julgue os itens a seguir, considerando que $M_H = 1,00 \text{ g/mol}$, $M_N = 14,00 \text{ g/mol}$, $M_O = 16,00 \text{ g/mol}$, $M_P = 31,00 \text{ g/mol}$ e $M_S = 32,00 \text{ g/mol}$.



Em uma solução de $\text{NH}_4\text{H}_2\text{PO}_4$, de concentração 12,0 g/L, a concentração em quantidade de matéria do elemento fósforo é maior que 0,1 mol/L.

5. (CEBRASPE – SEDF – 2017) Nos últimos anos, tem-se investido intensamente no aproveitamento do biogás gerado a partir da decomposição anaeróbica de resíduos orgânicos. O biogás é uma mistura constituída principalmente por $\text{CH}_4(\text{g})$ — na faixa de 60% a 80% em quantidade de matéria — e $\text{CO}_2(\text{g})$, além de pequenas quantidades de outros componentes. Para a maioria das aplicações, o biogás deve passar por uma etapa de purificação que visa remover contaminantes como, por exemplo, H_2S , H_2O e NH_3 , além de reduzir o teor de CO_2 para algo em torno de 1% a 3% em quantidade de matéria. Após esse tratamento, o biogás costuma ser denominado biometano.

Tendo como referência essas informações, julgue o item que se segue, com relação ao biogás e seus componentes.

Considere que uma amostra de biometano seja constituída exclusivamente por CH_4 e CO_2 , com concentração de CO_2 igual a 1,0% em quantidade de matéria. Nessa amostra, a concentração de CO_2 , em porcentagem de massa, é superior a 2,0%.

6. (CEBRASPE – SEDF – 2017) As cores brilhantes observadas durante a queima de fogos de artifício são geradas a partir de elementos metálicos presentes nos fogos. Por exemplo, sais de estrôncio, como o SrCrO_4 , dão origem à luz vermelha; sais de cobre, como o $\text{Cu}(\text{NO}_3)_2$, à luz verde; sais de magnésio, como MgCl_2 , à luz branca. Sabendo que esse fenômeno pode ser explicado com base na estrutura eletrônica dos diferentes elementos metálicos, julgue o próximo item.

O isótopo neutro Ba-88 possui 38 prótons e 50 nêutrons em seu núcleo, além de 38 elétrons na região extranuclear.

7. (CEBRASPE - Aspirante - CBM-DF - 2016) Dez mil litros de uma solução aquosa de ácido sulfúrico (H_2SO_4) vazaram de um caminhão-tanque e o corpo de bombeiros foi acionado para neutralizada o ácido CaO. Considerando a situação hipotética descrita no texto e sabendo que a solução apresentava densidade igual a 1,89 g/mL e concentração igual a 98% massa/massa, julgue o item que se segue:

A quantidade de matéria de H_2SO_4 derramada é superior a 190.000 mol.



GABARITO

GABARITO



1	E
2	C
3	E
4	C
5	C
6	E
7	E



LISTA DE QUESTÕES - VUNESP

Aspectos quantitativos das transformações químicas

1. (Vunesp – UNESP – 2021) A decomposição por aquecimento a seco de uma amostra em pó de certo mineral de cobre produziu 1,59 g de óxido de cobre(II), 0,18 g de vapor de água e 0,44 g de dióxido de carbono gasoso. A fórmula mínima desse mineral é:

- a) $\text{Cu}_2\text{H}_2\text{CO}_5$
- b) $\text{Cu}_2\text{H}_2\text{C}_2\text{O}_5$
- c) CuHCO_2
- d) $\text{Cu}_2\text{H}_2\text{C}_2\text{O}_3$
- e) CuHCO

2. (Vunesp – UFABC – Técnico de Laboratório Química – 2019) ^1_1H , ^2_1D e ^3_1T são formas de representação para os isótopos do elemento químico hidrogênio. Esses átomos pertencem ao mesmo elemento químico porque possuem:

- a) mesmo número de nêutrons.
- b) mesmo número de prótons.
- c) diferentes números de massa.
- d) diferentes números de prótons.
- e) diferentes números de nêutrons.

3. (Vunesp – UNIFAI/Laboratório – 2019) Assinale a alternativa que apresenta a quantidade de átomos de alumínio presentes em uma liga que tem 540 g desse metal.

Dado: Constante de Avogadro $6,0 \times 10^{23}$ /mol.

- a) $1,2 \times 10^{23}$
- b) $1,2 \times 10^{24}$
- c) $1,2 \times 10^{25}$
- d) $6,0 \times 10^{24}$
- e) $6,0 \times 10^{25}$

4. (Vunesp – FAMERP – 2018) Em janeiro de 2018 foi encontrado em uma mina na África o quinto maior diamante (uma variedade alotrópica do carbono) do mundo, pesando 900 quilates. Considerando



que um quilate equivale a uma massa de 200 mg, a quantidade, em mol, de átomos de carbono existente nesse diamante é igual a

- a) $1,5 \times 10^1$
- b) $3,0 \times 10^1$
- c) $4,5 \times 10^1$
- d) $1,5 \times 10^4$
- e) $3,0 \times 10^4$

5. (Vunesp – Prefeitura de Presidente Prudente – SP – 2016) Sabendo-se que a massa molecular (u) de uma substância é numericamente igual à soma das massas atômicas de todos os átomos da molécula dessa substância, é correto afirmar que a massa molecular está correta em:

Dados: C = 12; H = 1; S = 32; O = 16

- a) $\text{CH}_4 = 5 \text{ u}$
- b) $\text{SO}_2 = 48 \text{ u}$
- c) $\text{C}_2\text{H}_6 = 98 \text{ u}$
- d) $\text{C}_{12}\text{H}_{22}\text{O}_{11} = 342 \text{ u}$
- e) $\text{H}_2\text{SO}_4 = 64 \text{ u}$



GABARITO

GABARITO



- | | |
|---|---|
| 1 | A |
| 2 | B |
| 3 | C |
| 4 | A |
| 5 | D |



LISTA DE QUESTÕES - AOC

Aspectos quantitativos das transformações químicas

1. Instituto AOC - Tec (IF MA) - 2023) A realização de um experimento sobre a reação entre metais alcalinos e água, em contato com o ar, provocou deslumbre, nos alunos presentes na aula de laboratório, pelos efeitos visuais causados. O sódio com a água produz gás hidrogênio e soda cáustica. Sobre o experimento em questão e o tipo de reação, é correto afirmar que

- a) a reação é endotérmica e ocorre pela característica pouco inflamável do hidrogênio em contato com o oxigênio.
- b) a reação de formação do gás hidrogênio por meio do sódio metálico com água é uma reação de simples troca ou deslocamento.
- c) a formação de gás e a emissão de calor são evidências de um fenômeno físico e não de uma reação química.
- d) visto que em contato com o ar ocorre uma reação não explosiva, o sódio metálico pode ser armazenado em frascos simples, sem restrições de locais.
- e) ao adicionar gotas de fenolftaleína à solução final, espera-se a cor rosa, já que o meio será ácido pela presença de NaOH.

2. Instituto AOC - Tec (IF MA)/IF MA/2023) Uma pessoa observou a seguinte situação no laboratório:

- 1) As chamas das velas.
- 2) Gelo derretendo em seu copo com suco.
- 3) Naftalinas em cantos estratégicos.
- 4) Chuva entrando pela janela.

Os fenômenos relacionados com as observações do técnico são respectivamente:

- a) condensação; sublimação; combustão; fusão.
- b) combustão; sublimação; fusão; condensação.
- c) condensação; fusão; sublimação; combustão.
- d) fusão; sublimação; combustão; condensação.
- e) combustão; fusão; sublimação; condensação.

3. (AOC - Pref Novo Hamburgo- 2020) O enxofre (do latim sulphur) é um elemento químico de símbolo S, número atômico 16 e de massa atômica 32,1u. Quantos átomos possui, aproximadamente, uma massa igual a 12,0 gramas desse elemento?



- a) $5,13 \times 10^{23}$
- b) $6,02 \times 10^{23}$
- c) $2,25 \times 10^{23}$
- d) $60,20 \times 10^{23}$
- e) $5,10 \times 10^{23}$

4. (AOCP- Pref Betim – 2020) Na natureza nada se perde, nada se cria, tudo se transforma”. Essa clássica frase de Antoine Lavoisier levou ao conhecimento de princípios de grande importância para a temática das transformações químicas. A Lei da Conservação de Massa expõe que:

- a) dentro de um recipiente fechado, a massa total não varia, quaisquer que sejam as transformações que venham a ocorrer.
- b) na natureza, a energia é transformada ao passar pelos níveis da cadeia alimentar.
- c) a massa e o volume são constantes em um ambiente controlado, independentemente das transformações a que estejam sujeitos.
- d) a velocidade de transformação altera a massa total, exceto na natureza, onde a massa se mantém constante, independentemente da velocidade da reação.
- e) a velocidade da queima de um gás altera significativamente a massa ao final de uma reação.

5. (Instituto AOCP- Perito (ITEP RN) – 2018) No mercado joalheiro, a pureza do ouro é dada pela quantidade real desse metal presente na pepita. Quando o nível de pureza é de 99,99%, ele é classificado como 24 quilates. O termo quilates surgiu quando Constantino (272-337 dC) mandou cunhar o *Solidus*; moeda em ouro fino que tinha a massa de 24 sementes de alfarroba, ou 24 quilates, surgindo a expressão “ouro de 24 quilates” para o ouro puro. O número de átomos de ouro presentes em uma joia de massa 10 gramas, feita em ouro 19,2 quilates é, aproximadamente, igual a

- a) $3,00 \times 10^{22}$
- b) $2,80 \times 10^{22}$
- c) $2,60 \times 10^{22}$
- d) $2,40 \times 10^{22}$
- e) $2,20 \times 10^{22}$

6. (Instituto AOCP – UFFS/Laboratório – 2016) As massas dos elementos químicos são massas relativas em termos de unidades de massa atômica (u) ou daltons. A unidade de massa atômica está baseada em uma escala relativa cuja referência é o isótopo do carbono ^{12}C , ao qual foi atribuída



exatamente a massa de 12u. Assim, a uma é, por definição, 1/12 da massa de um átomo neutro de C^{12} . Então, a massa molar (M) do C^{12} é definida como a massa em gramas de $6,022 \cdot 10^{23}$ átomos ou um mol de átomos do isótopo de carbono-12, ou exatamente 12 g. Assinale a alternativa que apresenta corretamente o número de átomos do isótopo ^{35}Cl do elemento cloro, existentes em 5 mols de cloro gasoso puro (Cl_2). Dados: Isótopos do elemento cloro ($^{35}\text{Cl} \rightarrow 75\%$; $^{37}\text{Cl} \rightarrow 25\%$)

- a) $4,5165 \times 10^{24}$
- b) $6,022 \times 10^{22}$
- c) $12,044 \times 10^{23}$
- d) $6,022 \times 10^{25}$
- e) $4,5165 \times 10^{26}$



GABARITO

GABARITO



- | | |
|---|---|
| 1 | B |
| 2 | E |
| 3 | C |
| 4 | A |
| 5 | D |
| 6 | A |



LISTA DE QUESTÕES - IDECAN

Aspectos quantitativos das transformações químicas

1. (Idecan – PEFOCE – 2021) Um certo tipo de titânio utilizado em implantes na coluna vertebral pesa em média 18g. O número de átomos de titânio presente nesse tipo de parafuso é de

(Considere $N_A = 6,0 \times 10^{23}$ e $M_a(u):Ti = 48$)

- a) $2,25 \times 10^{22}$.
- b) $3,75 \times 10^{22}$.
- c) $2,25 \times 10^{23}$.
- d) $3,75 \times 10^{23}$.
- e) $6,00 \times 10^{23}$.

2. (Idecan – PEFOCE – 2021) Analise as afirmativas a seguir, em relação às grandezas químicas:

I. O número de átomos, íons ou moléculas por mol é aproximadamente $6,0221 \times 10^{23}$.

II. A massa de um átomo é dada pela média das massas dos isótopos naturais ponderada pela ocorrência de cada isótopo.

III. A massa molar de uma substância é resultante do somatório do número total de átomos multiplicado pela constante de Avogadro.

IV. Um mol de espécies contém um determinado número de espécies igual ao número de átomos que existem em precisamente 12g de carbono-12.

V. O volume molar de um gás é constante e igual a 22,41 L.mol⁻¹ em quaisquer condições.

Assinale

- a) se apenas as afirmativas II, IV e V forem verdadeiras.
- b) se apenas as afirmativas I, II e IV forem verdadeiras.
- c) se apenas as afirmativas II, III e IV forem verdadeiras.
- d) se apenas as afirmativas I, III e IV forem verdadeiras.



e) se apenas as afirmativas I, II, IV e V forem verdadeiras.

3. (Idecan – CBM DF – 2017) Com o avanço da teoria atômica, os químicos passaram a entender a base da lei da conservação da massa: os átomos não são criados nem destruídos durante qualquer reação química. Assim, o mesmo conjunto de átomos está presente antes e depois da reação. As mudanças que ocorrem durante qualquer reação é simplesmente um rearranjo dos átomos. Diante do exposto, marque V para as afirmativas verdadeiras e F para as falsas.

() O número de átomos de H em 0,350 mol de $C_6H_{12}O_6$ é $1,53 \times 10^{24}$.

() A massa de 0,433 mol de nitrato de cálcio é 71,1 g.

() Existem $1,75 \times 10^{22}$ moléculas de $C_6H_{12}O_6$ em 5,23 g.

A sequência está correta em

a) F,F,V.

b) V,V,F.

c) V,F,V.

d) F,V,V.



GABARITO

GABARITO



- | | |
|---|---|
| 1 | C |
| 2 | B |
| 3 | D |



LISTA DE QUESTÕES

Aspectos quantitativos das transformações químicas

1. (FGV – Professor - Prefeitura J Guararapes - 2023) Com o objetivo de trabalhar com os alunos saberes relacionados à matéria e suas transformações, um professor planejou a observação ou realização das seguintes atividades:

1. Confeção de um bolo;
2. Reciclagem de papel;
3. Amadurecimento e apodrecimento de frutos;
4. Enferrujamento de palha de aço molhada;
5. Transformação de água líquida em vapor.

Das atividades listadas acima, são exemplos de transformações químicas as de número

- a) 1 e 5, pois envolvem o aquecimento dos materiais.
- b) 2 e 3, pois formam novos elementos químicos.
- c) 3 e 4, pois dão origem a novas substâncias.
- d) 2 e 5, pois as substâncias iniciais desaparecem.
- e) 1 e 4, pois produzem uma mistura homogênea.

2. (FGV - Professor – Prefeitura - SP – 2023) Durante uma aula sobre transformações dos materiais, os alunos realizaram a seguinte atividade: colocaram um pouco de vinagre em uma garrafa e prenderam um balão contendo bicarbonato de sódio no gargalo; em seguida, deixaram o bicarbonato cair sobre o vinagre e observaram a mistura borbulhar e o balão encher.

Após compararem as características das substâncias usadas no experimento, antes e depois da transformação, os alunos concluíram, corretamente, que ocorreu um fenômeno

- a) químico, pois o enchimento do balão comprovou que as substâncias iniciais passaram a ocupar maior espaço.
- b) químico, pois ocorreu o surgimento de uma substância gasosa, que não estava presente no início da atividade.



- c) físico, pois é reversível, já que os materiais mantiveram suas propriedades, como a coloração e a textura.
- d) físico, pois os átomos que formavam os materiais iniciais se transformaram em novos átomos.
- e) físico, pois aconteceu a mudança de estado físico das substâncias presentes inicialmente no sistema.

3. (Instituto AOCP - Técnico - IF MA - 2023) A realização de um experimento sobre a reação entre metais alcalinos e água, em contato com o ar, provocou deslumbre, nos alunos presentes na aula de laboratório, pelos efeitos visuais causados. O sódio com a água produz gás hidrogênio e soda cáustica. Sobre o experimento em questão e o tipo de reação, é correto afirmar que

- a) a reação é endotérmica e ocorre pela característica pouco inflamável do hidrogênio em contato com o oxigênio.
- b) a reação de formação do gás hidrogênio por meio do sódio metálico com água é uma reação de simples troca ou deslocamento.
- c) a formação de gás e a emissão de calor são evidências de um fenômeno físico e não de uma reação química.
- d) visto que em contato com o ar ocorre uma reação não explosiva, o sódio metálico pode ser armazenado em frascos simples, sem restrições de locais.
- e) ao adicionar gotas de fenolftaleína à solução final, espera-se a cor rosa, já que o meio será ácido pela presença de NaOH.

4. Instituto AOCP - Tec (IF MA)/IF MA/2023) Uma pessoa observou a seguinte situação no laboratório:

- 1) As chamas das velas.**
- 2) Gelo derretendo em seu copo com suco.**
- 3) Naftalinas em cantos estratégicos.**
- 4) Chuva entrando pela janela.**

Os fenômenos relacionados com as observações do técnico são respectivamente:

- a) condensação; sublimação; combustão; fusão.
- b) combustão; sublimação; fusão; condensação.
- c) condensação; fusão; sublimação; combustão.
- d) fusão; sublimação; combustão; condensação.
- e) combustão; fusão; sublimação; condensação.



5. (CEBRASPE/CESPE - Papiloscopista - POLC AL - 2023) No que se refere a conceitos aplicados à química, julgue o item a seguir. A lei de Lavoisier estabelece que, em uma substância química pura, os elementos estão sempre presentes em proporções mássicas definidas.

6. (AVANÇASP – Professor - Prefeitura Morungaba - 2023) A reação entre 1 mol de Na_2CO_3 e 2 mols de HCl ocorrerá, permitindo a formação de 2 mols de NaCl , 1 mol de H_2O e 1 mol de determinada molécula gasosa. Assinale a alternativa que a identifica corretamente.

a) $\text{H}_2\text{O}_2(\text{g})$.

b) $\text{O}_2(\text{g})$.

c) $\text{CO}(\text{g})$.

d) $\text{O}_3(\text{g})$.

e) $\text{CO}_2(\text{g})$.

7. (AVANÇASP – Professor – Prefeitura SM Arcanjo - 2023) De acordo com a Lei de Lavoisier, a massa total de um sistema químico:

a) Pode ser criada a partir do nada.

b) Pode ser destruída e desaparecer completamente.

c) Permanece constante antes e depois de uma reação química.

d) É modificada durante uma reação química, sempre resultando em uma diminuição da massa total.

e) Depende da energia envolvida na reação química e, portanto, pode variar.

8. (AVANÇASP - Professor - Prefeitura Morungaba - 2023) Considerando os conceitos relacionados às transformações químicas e físicas, analise atentamente a imagem e as proposições a seguir.



I. O gelo derretendo ocorre somente a transformação química representada por $\text{H}_2\text{O}(\text{s}) \rightarrow \text{H}_2\text{O}(\text{l})$.

II. Em uma vela acesa ocorre somente transformação de natureza química, a qual pode ser expressa por $\text{Parafina}(\text{s}) + \text{O}_2(\text{g}) \rightarrow \text{CO}_2(\text{g}) + \text{H}_2\text{O}(\text{g})$.

III. Na ferrugem ocorre a corrosão do metal como resultado das reações químicas de oxirredução.



Está correto o que se afirma apenas em:

- a) II.
- b) III.
- c) I e II.
- d) II e III.
- e) I e III.

9. (Instituto Consulplan – Técnico - IF PA - 2023) Ao preparar os materiais para a aula de reações químicas, o técnico de laboratório observou no roteiro a imagem e a descrição a seguir: Certa quantidade de enxofre é inserida no dispositivo de combustão e a chama é iniciada no bico de Bunsen. Então, ainda com a chama acesa, o dispositivo é inserido em um frasco hermeticamente fechado e o dióxido de enxofre formado fica confinado no recipiente. Este gás, por sua vez, reage com a água contida no fundo do frasco, formando uma solução de ácido sulfuroso. Considerando todas as informações apresentadas e a imagem, a reação que expressa corretamente a formação do ácido sulfuroso é:

- a) $\text{H}_2\text{O} + \text{SO}_2 \rightarrow \text{H}_2\text{SO}_3$
- b) $\text{H}_2\text{O} + \text{SO}_2 \rightarrow \text{H}_2\text{SO}_2 + 1/2 \text{O}_2$
- c) $\text{H}_2\text{O} + \text{SO}_2 + 1/2 \text{O}_2 \rightarrow \text{H}_2\text{SO}_4$
- d) $3\text{H}_2\text{O} + \text{SO}_2 \rightarrow 2\text{H}_3\text{SO}_2 + 1/2 \text{O}_2$

10. (COCP - Professor - IF MT - 2023) “Uma reação química é o processo da mudança química, isto é, a conversão de uma ou mais substâncias em outras substâncias. Os materiais iniciais são chamados reagentes. As substâncias formadas são chamadas de produtos”. Assinale a alternativa que contenha somente evidências de que ocorreu uma reação química:

- a) Desprendimento gasoso; formação de precipitado; e energia de ativação.
- b) Afinidade química; variação de temperatura (absorção ou liberação de calor); e mudança de cor.
- c) Colisões favoráveis entre moléculas; desprendimento gasoso; e mudança de cor.
- d) Desprendimento gasoso; formação de precipitado; e variação de temperatura.
- e) Superfície de contato entre reagentes; desprendimento gasoso; e formação de complexo.



11. (Adaptado de FGV - Auxiliar de Perícia Médico-legal - PCMA - 2012) Trinitrato de glicerina (TNG), fórmula molecular $C_3H_5N_3O_9$, também denominado nitroglicerina, é o éster trinitrado do propanotriol (...) O TNG é um líquido oleoso, insolúvel em água e extremamente sensível, não apenas à temperatura, mas também ao choque mecânico, motivo pelo qual deve ser manuseado com extremo cuidado. Sua combustão ao ar está descrita abaixo:



A combustão completa de 1 mol de TNG (Massa molecular=227g) produz um volume de gás carbônico nas Condições Normais de Temperatura e Pressão (CNTP) de:

- a) 11,2L
- b) 22,4L
- c) 33,6L
- d) 44,8L
- e) 67,2L

12. (Marinha - Colégio Naval - 2016) Qual é a massa (expressa em gramas) de uma amostra com volume de 3 mL de álcool etílico, e cujo valor de sua densidade, nas condições de temperatura e pressão em que se encontra, é de 0,79 g/mL?

- A) 0,26
- B) 2,37
- C) 2,73
- D) 3,79
- E) 8,78

13. (CESPE - Aspirante - CBM-DF - 2016) Dez mil litros de uma solução aquosa de ácido sulfúrico (H_2SO_4) vazaram de um caminhão-tanque e o corpo de bombeiros foi acionado para neutralizada o ácido CaO . Considerando a situação hipotética descrita no texto e sabendo que a solução apresentava densidade igual a 1,89 g/mL e concentração igual a 98% massa/massa, julgue o item que se segue:

A quantidade de matéria de H_2SO_4 derramada é superior a 190.000 mol.

14. (Marinha - Colégio Naval - 2013) Qual é a massa (expressa em gramas) de uma amostra de um solvente líquido e puro, com volume de 3 mL e cuja densidade absoluta é de aproximadamente 0,78 g/mL?



- A) 0, 26
- B) 0, 38
- C) 2, 21
- D) 2, 34
- E) 3,85

15. (FUNRIO - Assistente de Laboratório - IF-PA - 2016) O cientista francês Antoine Lavoisier que viveu no século XVII é o autor de uma das mais importantes leis relativas as reações químicas, a chamada “Lei de conservação das massas”. Com relação a essa lei podemos afirmar:

- a) numa reação química, as massas dos produtos são sempre a metade da massa dos reagentes.
- b) numa reação química, não existe relação entre as massas dos reagentes e dos produtos.
- c) numa reação química, a soma das massas dos reagentes é igual à soma das massas dos produtos.
- d) numa reação química, as massas dos produtos são sempre o dobro das massas dos reagentes.
- e) numa reação química, a soma massas dos produtos é sempre inversamente proporcional à soma das massas dos reagentes.

16. (CONSULPLAN - Aspirante - CBM-SC - 2015) Em uma bancada de um laboratório de química, foi encontrada uma proveta contendo 200 ml de H₂O. Calcule o número de mol de moléculas de água, o número de moléculas de água e o número total de átomos. (Considere: massas atômicas = H = 1,0; O = 16; número de avogadro = $6,0 \cdot 10^{23}$; densidade da água = 1,0 g/ml.)

- A) 10 mol de moléculas de água; $6,66 \cdot 10^{23}$ moléculas de água; e, $18,0 \cdot 10^{23}$ átomos.
- B) 20 mol de moléculas de água; $6,66 \cdot 10^{23}$ moléculas de água; e, $18,0 \cdot 10^{24}$ átomos
- C) 10,10 mol de moléculas de água; $6,0 \cdot 10^{24}$ moléculas de água; e, $18,8 \cdot 10^{23}$ átomos.
- D) 11,11 mol de moléculas de água; $6,66 \cdot 10^{24}$ moléculas de água; e, $19,98 \cdot 10^{24}$ átomos.

17. (FUNCAB - Aspirante - CBM-RO - 2014) A tabela periódica fornece os valores das massas atômicas dos elementos expressos em u. De posse desses valores e da fórmula molecular, pode-se calcular facilmente a massa molar das substâncias; basta, para isso, multiplicar o índice de cada elemento na fórmula pela sua respectiva massa atômica, em seguida somar os valores encontrados e expressá-los em g/mol. Dadas as massas atômicas: H = 1, C = 12, O = 16 e N = 14, qual substância apresenta maior massa molar?



- A) N₂
- B) H₂O
- C) C₂H₆O
- D) CH₄N₂O
- E) CH₄

18. (Instituto AOCP - Técnico de Laboratório - CASAN - 2016) De acordo com a seguinte reação $N_2 + 3 H_2 \rightarrow 2 NH_3$, podemos afirmar que são necessários quantos gramas de N₂ para a obtenção de 204g de NH₃? (Massa molar N=14; H=1)

- a) 168
- b) 172
- c) 185
- d) 194
- e) 202

19. (ISAE - Aspirante - PM-AM - 2011) Assinale a opção que apresenta substâncias em ordem crescente de suas massas moleculares.

- A) H₂S ; HNO₂ ; HCl ; H₂SO₃ ;
- B) H₂S ; C₃H₈ ; HNO₂ ; H₂SO₄ ;
- C) H₂O ; H₂SO₃ ; C₄H₁₀ ; HCl ;
- D) HNO₂ ; H₂O ; H₂S ; H₂SO₄ .

20. (CESGRANRIO - Técnico de Operação Júnior - Petrobras - 2011)



Qual a massa, em gramas, de água que é produzida na reação do ácido clorídrico com 50 g de carbonato de cálcio, conforme o processo químico mostrado acima?

(Dados: mH = 1u, mCl = 35,5u, mCa = 40u, mO = 16u, mC = 12u)

- a) 1,0
- b) 9,0



- c) 18,0
- d) 100,0
- e) 180,0

21. (FUNECE – Professor/Química – Secretaria da Educação do Estado do Ceará - 2018) A descoberta do oxigênio por Joseph Priestley e Carl Wilhelm Scheele permitiu que Antoine Laurent Lavoisier combatesse uma teoria predominante do flogisto defendida por

- A) Kekulé.
- B) Proust.
- C) Boyle.
- D) Stahl.

22. (Instituto Acesso – Professor Ensino Indígena/Química – SEDUC/AM - 2018) As origens da química e principalmente da alquimia se perdem na história da humanidade, mas muitos estudos apontam para um desenvolvimento da química moderna a partir da alquimia. Dentro do desenvolvimento da química e da alquimia, muitas ideias surgiram. Abaixo segue uma citação de um Alquimista espanhol do século XVI, Arnaldo de Villanova:

"Existe na Natureza certa substância pura que, quando descoberta e levada pela Arte a seu estado perfeito, converterá à perfeição todos os corpos perfeitos em que tocar."

O referido alquimista, nessa citação, se referia a(ao):

- A) Teoria atômica
- B) Elixir da longa vida
- C) Ideia dos quatro elementos
- D) Desenvolvimento da Iatroquímica
- E) Pedra filosofal



GABARITO

GABARITO



1	C
2	B
3	B
4	E
5	E
6	E
7	C
8	B
9	A
10	D
11	E
12	B
13	E
14	D
15	C
16	D
17	D
18	A
19	B
20	B
21	D
22	E



CLASSIFICAÇÃO DAS REAÇÕES

Um outro aspecto basilar sobre as **transformações químicas (reações químicas)**, é sabermos classificá-las. De início, vale lembrar que há diversas maneiras de se classificar as reações químicas, podendo ser considerado, para tanto, o número de reagentes, produtos, a presença ou não de substâncias simples, dentre outros aspectos.

Aqui vamos nos concentrar em classificar as **reações inorgânicas** (aquelas que envolve compostos inorgânicos), as quais podem ser:

1. de síntese ou de adição;
2. de decomposição ou de análise;
3. de descolamento ou simples-troca; ou
4. de dupla troca ou de combinação.

Vamos entender em mais detalhes cada uma delas

Reação de Síntese (de adição)

Ocorre quando dois ou mais reagentes se unem para formar um único produto:

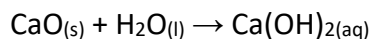


As reações de síntese se subdividem em totais e parciais:

- **Síntese total:** quando o produto se origina apenas de substância simples. No exemplo abaixo: Mg e O₂ são substâncias simples, já que são formadas cada uma por único elemento químico



- **Síntese parcial:** quando o produto se origina de, pelos menos, uma substância composta (aquelas constituídas de mais de um elemento químico). Ex:



Reação de decomposição (de análise)

A reação de decomposição corresponde ao caminho inverso da reação de síntese. Esse tipo de reação ocorre quando há a formação de dois ou mais produtos a partir de um único reagente.



Esse tipo de reação também pode ser total ou parcial:

- **Decomposição total:** nas situações em que os produtos da decomposição sejam apenas substâncias simples.



- **Decomposição parcial:** nas situações em que pelos menos um dos produtos da decomposição sejam substâncias compostas.

As reações de decomposição podem ocorrer por fatores externos e, nesses casos, recebem nomes específicos, vejamos:

Pirólise: “pir” vem do grego pyrós=fogo e lise significa quebra. Sendo assim, a pirólise é a decomposição de compostos a partir de seu aquecimento (Δ). Ex.:

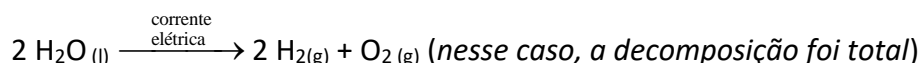


Obs: a reação acima também é classificada como calcinação que é a decomposição térmica tipicamente de carbonatos e hidratos.

Fotólise: decomposição por ação da luz.



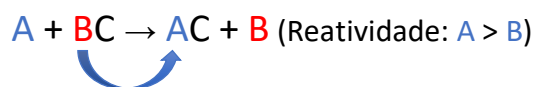
Eletrólise: decomposição por meio da ação (passagem) de uma corrente elétrica.



Essa última reação é muito importante para sua prova, pois ela tem sido vista como uma alternativa para obtenção de um combustível, no caso o gás hidrogênio (H_2), com potencial de substituição dos combustíveis fósseis, os quais tem gerados transtornos ambientais com agravamento do aquecimento global.

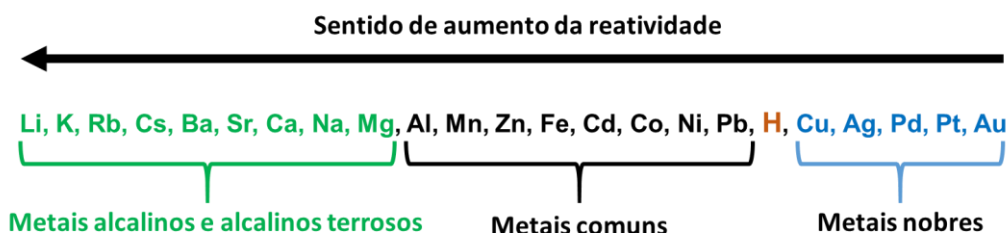
Reação de descolamento (de simples troca)

A reação de deslocamento ocorre quando uma substância simples (geralmente um metal) reage com uma substância composta, formando outra substância simples (geralmente outro metal) e outra substância composta.



Essa reação só ocorre se a reatividade de A, a substância simples inicial, for maior que a reatividade de B, a substância simples final. Por esse motivo, vale a pena memorizar a sequência abaixo, que lhe ajudará a definir se uma dada reação de deslocamento irá ou não ocorrer.





A reação que ocorre ao mergulharmos uma placa de zinco (Zn) em uma solução de sulfato de cobre (CuSO₄) é um bom exemplo da reação de descolamento.



Como podemos consultar na sequência de reatividade dos metais, o cobre (Cu) é um metal mais **nobre** que o zinco (Zn), ou seja, ele é **menos reativo e tende a ficar sozinho**. Ou analisando de outro modo, o Zn é mais reativo que Cu.



Deste modo, ocorre um troca entre os metais participantes do sistema, obtendo como produto o cobre metálico e sulfato de zinco. Como a solução de sulfato de cobre é azulada e a solução de sulfato de zinco não é, então, nota-se uma diminuição da coloração azul a medida que a reação se desenvolve.

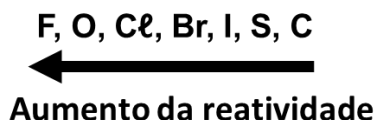
Ao adicionarmos um placa de zinco em uma solução de sulfata de cobre (coloração azul), ocorre a formação de uma solução de sulfato de zinco (incolor). O zinco descola os íons de cobre (Cu²⁺) e este se deposita na placa de zinco como cobre metálico. A placa de zinco por sua vez é consumida, liberando íons de Zn²⁺ em solução.

É importante reforçar que, se a reatividade do elemento da substância simples for menor que a do elemento presente na substância composta, a reação não ocorrerá.

Ex.

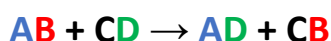


Por fim, lembro ainda que, para descobrir se uma dada reação irá ou não ocorrer, pode ser útil conhecer a ordem de reatividade dos ametais:



Reação de dupla-troca (de combinação)

Por fim, vamos falar da reação de dupla troca. Ela ocorre quando duas substâncias compostas reagem para formar outras duas substâncias compostas. Nesse caso, cátions e ânions são substituídos mutuamente.



Um exemplo específico desse tipo de reação é a **reação de neutralização** entre ácidos e bases, a qual iremos estudar de forma mais aprofundada em outro encontro. Ex:



(CESGRANRIO - Operador Júnior - Petroquímica Suape - 2011) O primeiro explosivo utilizado em larga escala foi a nitroglicerina. Pela estequiometria da reação representada abaixo, um mol de nitroglicerina pode gerar quase 300 litros de gás nas condições normais de temperatura e pressão.



Essa reação química é identificada como:

- a) dupla-troca
- b) simples-troca
- c) combustão
- d) adição
- e) decomposição

Comentários:



Na equação química representada na questão, podemos perceber que um único reagente ($C_3H_5(NO_3)_3(l)$) está formando três diferentes produtos ($H_2(g)$; $NO_2(g)$; $CO(g)$). Esse tipo de reação é conhecido como **reação de decomposição ou reação de análise**.

O gabarito é a letra E.

PRINCIPAIS PONTOS DO TÓPICO

Classificação das reações

As reações inorgânicas podem ser:

- i) de **síntese** ou de **adição**: pode ser total ou parcial.



- ii) de **decomposição** ou de **análise**: também pode ser total ou parcial. Exemplos desse tipo de reação: pirólise, fotólise e eletrólise.



- iii) de **descolamento** ou **simples-troca**.



- iv) de **dupla troca** ou de **combinação**.



Para prever a ocorrência das reações, devemos lembrar da ordem de reatividade entre metais e entre alguns ametais, como segue:



QUESTÕES COMENTADAS - FGV

Classificação das reações

1. (FGV - Professor - Prefeitura - SP - 2023) “Transfira 3 gotas da solução de nitrato de chumbo para o tubo de ensaio e adicione 3 gotas da solução de iodeto de potássio. Observe o que acontece na mistura das soluções.” A aula experimental em laboratório de química configura uma atividade cujo objetivo é exercitar a observação e evidenciar a transformação química, seja pela mudança de coloração, formação de precipitados ou liberação de gases. O trecho foi extraído de uma apostila de aulas experimentais de química. Nesse experimento, o aluno deverá perceber a formação de um precipitado amarelo.

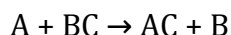
Com o desenvolvimento dessa atividade, o aluno poderá perceber e concluir sobre a possível ocorrência de uma reação

- a) de deslocamento.
- b) de dupla troca.
- c) de oxi-redução.
- d) ácido-base.
- e) de decomposição.

Comentários:

Reação: $\text{Pb}(\text{NO}_3)_2 + \text{KI} \rightleftharpoons \text{PbI}_2 + \text{KNO}_3$

Letra A: incorreta. A reação de deslocamento ou simples troca ocorre quando um elemento químico de uma substância simples desloca um elemento de uma substância composta, formando uma nova substância composta e um novo elemento simples. No entanto, nesse caso, não há deslocamento de elementos.



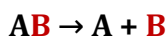
Letra B: correta. A reação de dupla troca ou de combinação ocorre quando dois reagentes compostos formam dois produtos compostos, trocando entre si os seus cátions ou os seus ânions. Nesse experimento, o nitrato de chumbo ($\text{Pb}(\text{NO}_3)_2$) reage com o iodeto de potássio (KI), formando o iodeto de chumbo (PbI_2), um precipitado amarelo, e nitrato de potássio (KNO_3).

Letra C: incorreta. A reação de oxi-redução é aquela em que ocorre transferência de elétrons entre os reagentes, na qual um se oxida (doa elétrons) e o outro se reduz (ganha elétrons). Nesse experimento, não há transferência de elétrons.

Letra D: incorreta. A reação ácido-base é aquela que envolve a transferência de um próton (H^+) do ácido para a base. Nesse experimento, não há transferência de prótons.

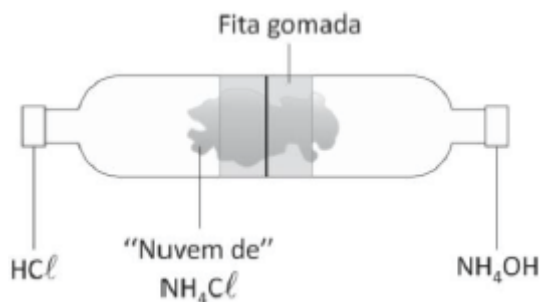
Letra E: incorreta. A reação de decomposição é aquela em que uma substância composta se decompõe em duas ou mais substâncias mais simples. Nesse experimento, não há decomposição de substâncias.





Resposta: letra B.

2. (FGV – Prefeitura SP – 2016) Duas garrafas pet de 500 mL tiveram o fundo retirado e foram encaixadas, formando um tubo, como mostrado na figura.



Em uma das tampas foi colocado um algodão embebido em ácido clorídrico (HCl) e, na outra, um algodão embebido em hidróxido de amônio (NH₄OH). As tampas foram atarraxadas e, em alguns segundos, os alunos foram surpreendidos com a formação de uma "nuvem" esbranquiçada, próximo ao centro da montagem. O professor explicou que a nuvem correspondia a uma espécie de poeira de cloreto de amônio (NH₄Cl).

O experimento pode ser utilizado para demonstrar uma reação de

- a) síntese.
- b) decomposição.
- c) troca simples.
- d) dupla-troca.
- e) substituição.

Comentários:

A resposta correta para a questão é a **reação de dupla-troca**. Infelizmente, a banca não anulou a questão, porém o gabarito correto é D.

No experimento descrito, ocorre uma reação química entre o ácido clorídrico (HCl) e o hidróxido de amônio (NH₄OH), resultando na formação de cloreto de amônio (NH₄Cl). Essa reação é classificada como uma dupla-troca, pois ocorre a troca de íons entre os reagentes para formar os produtos.

O ácido clorídrico reage com o hidróxido de amônio da seguinte forma:



A formação da "nuvem" esbranquiçada próxima ao centro da montagem é devida à liberação do cloreto de amônio no ar, que se condensa formando uma espécie de poeira.

Resposta: letra A* questionável



3. (FGV – SEDUC- AM – 2014) As chuvas em regiões onde o ar é considerado não poluído costumam apresentar pH em torno de 5,6. Convencionou-se, então, chamar de chuva ácida aquela cujo pH é menor que 5,6. A chuva ácida, definida dessa maneira, pode ocorrer tanto devido a processos naturais como devido a atividades humanas. O ácido nítrico forma-se naturalmente durante as tempestades. Num primeiro estágio, os raios fornecem energia elétrica propiciando a reação:

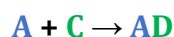


Essa equação representa uma reação que pode ser classificada como

- a) Simples-troca
- b) Dupla-troca
- c) Síntese
- d) Análise
- e) Dimerização

Comentários:

Na reação apresentada no enunciado, temos duas substâncias reagindo e formando uma substância composta, do lado dos produtos, o que configura uma reação de síntese ou adição, **alternativa C**. Segue paralelo em cores entre a representação genérica de uma reação de adição e a reação do enunciado:



Resposta: letra C



QUESTÕES COMENTADAS - CEBRASPE

Classificação das reações

1. (CEBRASPE – CBM Al – 2021) O extintor comercial de pó tipo ABC abafa e resfria o local do incêndio, suprimindo os íons livres da reação em cadeia, para extinguir o fogo rapidamente. A capacidade de absorção de calor, a vaporização e a decomposição das partículas do pó seco são os principais responsáveis pela extinção. Os principais constituintes dos pós ABC são di-hidrogenofosfato de amônio — $\text{NH}_4\text{H}_2\text{PO}_4$ — e sulfato de amônio — $(\text{NH}_4)_2\text{SO}_4$.

A partir das informações do texto apresentado, julgue os itens a seguir, considerando que $M_H = 1,00$ g/mol, $M_N = 14,00$ g/mol, $M_O = 16,00$ g/mol, $M_P = 31,00$ g/mol e $M_S = 32,00$ g/mol.

Na reação de dupla troca do $(\text{NH}_4)_2\text{SO}_4$ com o CaCl_2 , um dos compostos gerados é o sulfato de cálcio, de fórmula CaSO_4 .

Comentários:

Devemos lembrar que nas reações de dupla troca cátions e ânions são substituídos mutuamente. A reação de dupla troca do $(\text{NH}_4)_2\text{SO}_4$ com o CaCl_2 tem como produtos os sais NH_4Cl e CaSO_4 .

Resposta: Certo

2. (CEBRASPE - SEED-PR- 2021) A exposição à radiação ultravioleta pode causar queimadura na pele, lesão em células epiteliais, alteração do DNA, inflamação, dilatação dos vasos sanguíneos, câncer, entre outros fatores adversos. O ozônio (O_3) existente na estratosfera atua como um filtro dos raios ultravioletas provenientes do Sol. Antigamente, muitos *sprays* utilizavam clorofluorcarbonos (CFCs) em sua composição. Esses CFCs ficavam na atmosfera e reagem com o ozônio, decompondo-o. Em 1989, foi assinado um acordo internacional denominado Protocolo de Montreal, por meio do qual mais de 130 países, incluído o Brasil, comprometeram-se a eliminar progressivamente o uso dessas substâncias em *sprays* e outras aplicações.

Um dos CFCs mais comuns possui fórmula CF_2Cl_2 . Na estratosfera, sob luz ultravioleta, ele sofre a seguinte reação.



O átomo livre de cloro ($\text{Cl}\bullet$), por sua vez, pode desencadear uma cascata de reações, como, por exemplo, as apresentadas a seguir.





Ainda a partir do texto 10A2-I, é correto afirmar que o mecanismo de reação apresentado entre a espécie química $\text{Cl}\cdot$ e o O_3 é um exemplo de

- a) reação de substituição.
- b) catálise homogênea.
- c) catálise heterogênea.
- d) reação de dupla troca.
- e) reação de simples troca.

Comentários:

A partir das reações apresentadas, notamos que o radical livre $\text{Cl}\cdot$ aparece tanto nos reagentes como nos produtos, indicando participar da reação como um catalisador. Além disso, podemos notar que tanto os reagentes como o catalisador ($\text{Cl}\cdot$) se encontram na mesma fase durante a reação (fase gasosa). Diante disso, podemos concluir que se trata de um exemplo de uma reação de catálise homogênea.

Resposta: letra B

3. (CESPE - Soldado - CBM-AL - 2017) Com relação a reações químicas e a substâncias, julgue o item subsequente:

Nas reações químicas, os átomos se reorganizam para formar os produtos.

Comentários:

Durante um fenômeno químico, os átomos que estão combinados (ligados), formando moléculas, são rearranjados formando novas combinações ou novas moléculas, conforme ilustrado na reação de combustão do álcool etílico abaixo:

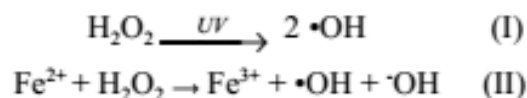


Resposta: correto.

4. (CESPE - Soldado - CBM-ES - 2011) Embora o peróxido de hidrogênio (H_2O_2) não seja considerado um radical livre, ele é responsável, direta ou indiretamente, por diversas patologias. Em termos químicos, esse óxido é fracamente reativo, porém exerce papel deletério no organismo, por ser capaz de transpor



facilmente membranas celulares e gerar o radical hidroxil ($\bullet\text{OH}$), seja por meio de exposição à luz ultravioleta (equação I), seja por interação com metais de transição, como o ferro, por meio do processo conhecido como reação de fenton (equação II)



Química Nova, vol. 33, n.º 10, 2010, p. 2202-10 (com adaptações).

Considerando as informações acima, julgue o item a seguir.

A equação I é um exemplo de reação química de decomposição, dado que representa a reação que forma o radical hidroxil por meio da exposição do peróxido de hidrogênio à luz ultravioleta.

Comentários:

A reação de decomposição ou de análise corresponde ao caminho inverso da reação de síntese. Esse tipo de reação ocorre quando há a formação de dois ou mais produtos a partir de um único reagente como acontece na reação I, mesmo que sejam formados dois produtos iguais [2 radicais hidroxil $\bullet\text{OH}$]. A referida é um decomposição do tipo específico fotólise, ou seja, decomposição por ação da luz.

Resposta: Correto



QUESTÕES COMENTADAS - VUNESP

Classificação das reações

1. (Vunpes - PC- SP - 2014) A eletrólise, processo em que uma reação química é realizada por meio da passagem de corrente elétrica, é utilizada, por exemplo, na produção de alumínio a partir da bauxita e de hidróxido de sódio a partir do cloreto de sódio.

Classifica-se uma reação de eletrólise como uma reação de

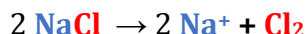
- a) dupla troca.
- b) dissociação
- c) decomposição
- d) hidrólise.
- e) síntese

Comentários:

A reação de decomposição ocorre quando há a formação de **dois ou mais produtos** a partir de **um único reagente**, representada pela equação genérica:



A eletrólise é uma reação de decomposição que ocorre pela passagem de eletricidade por um líquido iônico. Por exemplo, formam-se o sódio metálico e o gás cloro ao passar corrente elétrica pelo sal de cozinha (cloreto de sódio) fundido.



Dentre as opções, a **alternativa C** é a única que obedece a essa representação geral, conforme ilustrado em cores acima.

Resposta: letra C



QUESTÕES COMENTADAS – AOCP

Classificação das reações

1. (AOCP – UFRB/Técnico – 2019) A seguinte reação consiste em uma reação de



- a) combustão.
- b) análise ou decomposição.
- c) dupla troca.
- d) deslocamento ou simples troca.

Comentários:

Na reação apresentada, temos um único reagente ($\text{Cu}(\text{NO}_3)_2(\text{s})$) formando três produtos diferentes ($\text{CuO}(\text{s})$, $\text{NO}_2(\text{g})$, $\text{O}_2(\text{g})$). Logo, trata-se de uma reação de **análise** ou **decomposição**.

Resposta: letra B

2. (Instituto AOCP - Perito Criminal - ITEP-RN - 2018) A reação $\text{HCl} + \text{NaOH} \rightarrow \text{NaCl} + \text{H}_2\text{O}$ é de

- a) análise
- b) simples troca
- c) dupla troca.
- d) deslocamento.
- e) síntese

Comentários:

Na reação apresentada, temos um ácido (HCl) reagindo com uma base (NaOH), formando um sal (NaCl) e água (H_2O). Trata-se de uma reação de neutralização, um exemplo específico de reação de dupla troca. Vale salientar que as classificações não são excludentes, por isso, a reação é classificada tanto como reação de dupla troca como reação de neutralização.

Resposta: letra C



QUESTÕES COMENTADAS

Classificação das reações

1. (FGV – Professor - Prefeitura – SP – 2023) “Transfira 3 gotas da solução de nitrato de chumbo para o tubo de ensaio e adicione 3 gotas da solução de iodeto de potássio. Observe o que acontece na mistura das soluções.” A aula experimental em laboratório de química configura uma atividade cujo objetivo é exercitar a observação e evidenciar a transformação química, seja pela mudança de coloração, formação de precipitados ou liberação de gases. O trecho foi extraído de uma apostila de aulas experimentais de química. Nesse experimento, o aluno deverá perceber a formação de um precipitado amarelo.

Com o desenvolvimento dessa atividade, o aluno poderá perceber e concluir sobre a possível ocorrência de uma reação

- a) de deslocamento.
- b) de dupla troca.
- c) de oxi-redução.
- d) ácido-base.
- e) de decomposição.

2. (GUALIMP – Professor – Prefeitura Bom Jardim - 2023) As reações químicas são classificadas em quatro tipos:

- (1) Síntese ou combinação;
- (2) Análise ou decomposição;
- (3) Simples-troca ou deslocamento;
- (4) Dupla-troca ou metátese.

Identifique as reações abaixo e assinale a alternativa que traz a sequência correta:



- a) 2 - 4 - 1 - 3.
- b) 4 - 1 - 2 - 3.
- c) 1 - 2 - 3 - 4.
- d) 3 - 2 - 1 - 4.

Comentários:

O primeiro passo é identificar o tipo de cada reação:

1 - $2\text{Cu}(\text{NO}_3)_2 \rightarrow 2\text{CuO} + 4\text{NO}_2 + \text{O}_2$: nesta reação, um único composto ($2\text{Cu}(\text{NO}_3)_2$) se decompõe para formar três diferentes compostos (2CuO , 4NO_2 , O_2). Portanto, esta é uma **reação de análise ou decomposição (2)**.

2 - $\text{HCl} + \text{NaOH} \rightarrow \text{NaCl} + \text{H}_2\text{O}$: nesta reação, dois compostos (HCl , NaOH) reagem entre si para formar dois novos compostos (NaCl , H_2O). Portanto, esta é uma **reação de dupla-troca ou metátese (4)**.

3 - $\text{CaO} + \text{H}_2\text{O} \rightarrow \text{Ca}(\text{OH})_2$: nesta reação, dois compostos (CaO , H_2O) reagem entre si para formar um único composto ($\text{Ca}(\text{OH})_2$). Portanto, esta é uma **reação de síntese ou combinação (1)**.

4 - $\text{Zn} + \text{H}_2\text{SO}_4 \rightarrow \text{ZnSO}_4 + \text{H}_2$: nesta reação, um elemento (Zn) reage com um composto (H_2SO_4) para formar um novo composto e liberar outro elemento (H_2). Portanto, esta é uma **reação de simples-troca ou deslocamento (3)**.

Portanto, a sequência correta é 2 - 4 - 1 - 3.

Resposta: letra A.

3. (UFPA - Técnico de Laboratório - UFPA - 2017)

A reação química $2 \text{H}_2(\text{g}) + 2 \text{NO}(\text{g}) \rightarrow \text{N}_2(\text{g}) + 2 \text{H}_2\text{O}(\text{g})$ ocorre em duas etapas:

Etapla 1: $\text{H}_2(\text{g}) + \text{NO}(\text{g}) + \text{NO}(\text{g}) \rightarrow \text{N}_2\text{O}(\text{g}) + \text{H}_2\text{O}(\text{g})$

Etapla 2: $\text{H}_2(\text{g}) + \text{N}_2\text{O}(\text{g}) \rightarrow \text{N}_2(\text{g}) + \text{H}_2\text{O}(\text{g})$

Sobre essas reações químicas, é **CORRETO** afirmar que na etapa:

- a) 1 o número de moléculas reagentes é igual ao número de moléculas formadas.
- b) 2 a massa de reagentes é diferente da massa de produtos formados.
- c) 1 há dois reagentes e dois produtos, todos no mesmo estado físico.
- d) 1 ocorre reação de síntese, enquanto na 2 ocorre análise.
- e) 2 ocorre reação de análise, enquanto na 2 ocorre síntese.



Comentários:

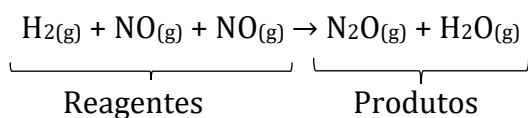
Para resolução dessa questão iremos jogar cada alternativa.

Letra A: incorreta. Na etapa 1, podemos perceber que existem três moléculas do lado dos reagentes ($\text{H}_2(\text{g})$; $\text{NO}(\text{g})$; $\text{NO}(\text{g})$) e apenas duas moléculas do lado dos produtos ($\text{N}_2\text{O}(\text{g})$; H_2O). Portanto, o número de moléculas reagentes e formadas não são iguais.

Letra B: incorreta. Na etapa 2, somatória de massa das espécies químicas nos reagentes é a mesma dos produtos.



Letra C: correta. Na etapa 1, existem dois reagentes e dois produtos, ambas as espécies estão no estado gasoso.



Note, que $\text{NO}(\text{g})$ se repete e trata-se da mesma espécie química, podendo ser representado como $2 \text{NO}(\text{g})$.

Letra D e E: incorreta. A etapa 2 trata-se de uma reação de simples troca ou descolamento.

Resposta: letra C

4. (Marinha - EAM - 2013) Assinale a opção que apresenta o gás atmosférico que se comporta como comburente nas reações de combustão.

- A) Hélio.
- B) Neônio.
- C) Oxigênio.
- D) Carbônico.
- E) Nitrogênio.

Comentários:

Estudamos que a combustão é um tipo processo químico e que libera energia na forma do calor. No entanto, para responder tal questão, precisamos compreender os personagens necessário para se iniciar uma combustão, conhecidos como triângulo do fogo, representado no desenho abaixo.






Podemos citar álcool, gasolina, madeira, etc como exemplos de combustíveis. O principal comburente é o oxigênio atmosférico, gabarito da nossa questão. Por fim, vale mencionar que é necessária uma energia inicial para o desencadeamento do fogo. Isso porque podemos ter álcool em contato com o oxigênio do ar sem ocorrer a combustão, sendo necessário para iniciá-la uma faísca ou um aquecimento inicial.

Resposta: letra C

5. (Exército - EspCEX - 2011) Abaixo são fornecidos os resultados das reações entre metais e sais.



De acordo com as reações acima equacionadas, a ordem decrescente de reatividade dos metais envolvidos em questão é:

A) Al, Fe e Ag.

B) Ag, Fe e Al.

C) Fe, Al e Ag.

D) Ag, Al e Fe.

E) Al, Ag e Fe.

Comentários:

As reações de substituição só ocorrem se a substância sozinha, nesse caso o metal no estado sólido (Ex: $\text{Ag}(\text{s})$ e $\text{Fe}(\text{s})$), apresentar maior reatividade que o átomo que se deseja substituir na substância



composta (Ex: $\text{FeSO}_{4(\text{aq})}$ e $\text{AgNO}_{3(\text{aq})}$). Sabendo disso, podemos deduzir a ordem reatividade dos metais a partir dos resultados observados em cada uma das reações. Veja:

Se a 1ª reação não ocorre, então Ag é menos reativo que Fe, o que é confirmado pela ocorrência da 2ª reação; e

Se a 3ª reação ocorre, então Al é mais reativo que Fe, o que é confirmada pela não ocorrência da 4ª reação.

Sendo assim, temos a seguinte ordem decrescente de reatividade:

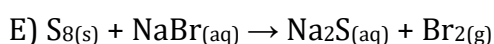
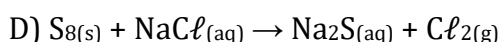
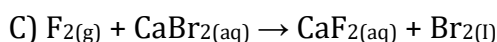
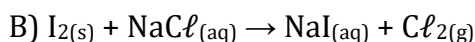
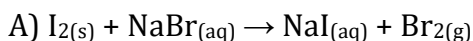


Resposta: letra A.

6. (Exército - ESPCEX - 2008) Fila de Reatividade dos Ametais, em ordem decrescente de reatividade:



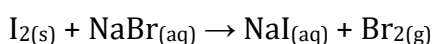
Analisando a Fila de Reatividade acima, a equação que representa a reação química que ocorre espontaneamente é:



Comentários:

É informado no próprio enunciado a ordem de reatividade. Portanto, basta verificar, em cada uma das reações, do lado esquerdo da reação (reagentes) qual dos ametais está como substância simples e é mais reativo que o ametal presente na substância composta.

Para ilustrar, iniciemos nossa análise pela alternativa A:



Do lado esquerdo, o iodo na forma de substância simples (formada por apenas um tipo de átomo) é menos reativo que bromo (Br) presente em NaBr. Portanto, essa reação não ocorre espontaneamente (sem ação de influência externa).

A **alternativa C** é única alternativa em que o ametal da substância simples é mais reativo que o da substância composta.





Isso porque o flúor (F) é mais reativo que o Br.

Resposta: letra C

7. (CESPE - Soldado - CBM-AL - 2017) Com relação a reações químicas e a substâncias, julgue o item subsequente:

Nas reações químicas, os átomos se reorganizam para formar os produtos.

Comentários:

Durante um fenômeno químico, os átomos que estão combinados (ligados), formando moléculas, são rearranjados formando novas combinações ou novas moléculas, conforme ilustrado na reação de combustão do álcool etílico abaixo:



Resposta: correto.

8. (FUNCAB - CBM-AC - 2015) Uma reação de dupla troca é apresentada na alternativa:

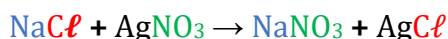
- A) $\text{C} + \text{O}_2 \rightarrow \text{CO}_2$
- B) $2 \text{H}_2\text{O} \rightarrow 2 \text{H}_2 + \text{O}_2$
- C) $\text{Zn} + \text{H}_2\text{SO}_4 \rightarrow \text{ZnSO}_4 + \text{H}_2$
- D) $\text{NaCl} + \text{AgNO}_3 \rightarrow \text{NaNO}_3 + \text{AgCl}$
- E) $\text{Fe} + \text{CuSO}_4 \rightarrow \text{FeSO}_4 + \text{Cu}$

Comentários:

A reação de dupla troca ocorre quando duas substâncias compostas reagem para formar outras duas substâncias compostas. É representada pela equação genérica:



Dentre as opções, a **alternativa D** é a única que obedece a essa representação geral, conforme ilustrado em cores abaixo:



Resposta: letra D

9. (FUNCAB - Soldado - PM-MT - 2014) Uma das etapas do tratamento das águas para consumo residencial consiste na adição sulfato de alumínio e hidróxido de cálcio, essa etapa é conhecida como floculação, pois forma "flocos" gelatinosos insolúveis em água que vão "agarrando" as partículas que estão sendo arrastadas pela água.

Abaixo é mostrada a reação entre essas duas substâncias.

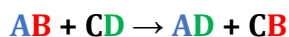


Como pode ser classificada essa reação?

- A) adição
- B) dupla-troca
- C) análise
- D) simples-troca
- E) combustão

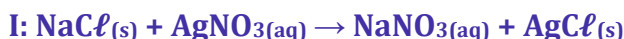
Comentários:

Na reação apresentada no enunciado, temos duas substâncias compostas reagindo e formando duas outras duas substâncias compostas, do lado dos produtos, o que configura uma reação de dupla troca, **alternativa B**. Segue paralelo em cores entre a representação genérica de uma reação de dupla troca e a reação do enunciado:



Resposta: letra B

10. (FUNCAB - Aspirante - CBM-RO - 2014) O suor humano apresenta quantidades razoáveis de cloreto de sódio. Há, também, traços de ácido láctico, entre outras substâncias. Quando tocamos algum objeto, deixamos nele nossas impressões digitais, que são impregnadas de suor e, portanto, impregnadas de cloreto de sódio. Para visualizar essas impressões, uma das maneiras é borrifar uma solução de nitrato de prata nos objetos analisados. Isso leva à formação de precipitado de cloreto de prata (reação I) que, por posterior fotólise, leva à formação de prata metálica, que revela as linhas da impressão digital na forma de um sólido de cor prateada (reação II). Observe as reações abaixo:





As reações apresentadas são classificadas, respectivamente, como:

- A) simples troca e síntese.
- B) dupla troca e decomposição.
- C) síntese e simples troca.
- D) decomposição e análise.
- E) dupla troca e simples troca.

Comentários:

I: Dupla troca. Duas substâncias compostas do lado dos reagentes e também do lado dos produtos.

II: Análise (decomposição). Duas substâncias obtidas (produtos) a partir de um único reagente.

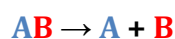
Resposta: letra B

11. (FSADU - Aspirante - CBM-GO - 2010) O Carbonato de Cálcio, cuja fórmula química é CaCO_3 , é muito difundido na natureza e consiste em um sólido branco que é muito pouco solúvel na água. Dentre suas principais propriedades químicas, quando é aquecido forma CaO (cal viva), com desprendimento de CO_2 (gás carbônico), de acordo com a seguinte reação: $\text{CaCO}_3 \rightarrow \text{CaO} + \text{CO}_2$. Esta é uma reação conhecida por:

- A) Síntese.
- B) Oxirredução.
- C) Análise.
- D) Deslocamento.
- E) Ônica.

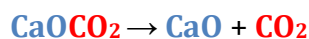
Comentários:

Observe que temos do lado esquerdo, dos reagentes, apenas uma substância e, do lado direito (produtos), duas substâncias, o que configura uma **reação de decomposição** ou **de análise**, **alternativa C**, que pode ser representada como segue:



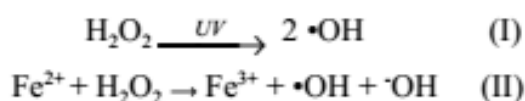
Veja a comparação em cores da representação geral acima com a reação do enunciado:





Resposta: letra C

12. (CESPE - Soldado - CBM-ES - 2011) Embora o peróxido de hidrogênio (H_2O_2) não seja considerado um radical livre, ele é responsável, direta ou indiretamente, por diversas patologias. Em termos químicos, esse óxido é fracamente reativo, porém exerce papel deletério no organismo, por ser capaz de transpor facilmente membranas celulares e gerar o radical hidroxil ($\bullet\text{OH}$), seja por meio de exposição à luz ultravioleta (equação I), seja por interação com metais de transição, como o ferro, por meio do processo conhecido como reação de fenton (equação II)



Química Nova, vol. 33, n.º 10, 2010, p. 2202-10 (com adaptações).

Considerando as informações acima, julgue o item a seguir.

A equação I é um exemplo de reação química de decomposição, dado que representa a reação que forma o radical hidroxil por meio da exposição do peróxido de hidrogênio à luz ultravioleta.

Comentários:

A reação de decomposição ou de análise corresponde ao caminho inverso da reação de síntese. Esse tipo de reação ocorre quando há a formação de dois ou mais produtos a partir de um único reagente como acontece na reação I, mesmo que sejam formados dois produtos iguais [2 radicais hidroxil $\bullet\text{OH}$]. A referida é uma decomposição do tipo específico fotólise, ou seja, decomposição por ação da luz.

Resposta: Correto

13. (Exército - ESPECEX - 2011) O quadro a seguir relaciona ordem, equação química e onde as mesmas ocorrem:

Ordem	Equação Química	Ocorrem
I	$3 \text{Ca}(\text{OH})_2(\text{aq}) + \text{Al}_2(\text{SO}_4)_3(\text{s}) \rightarrow 2 \text{Al}(\text{OH})_3(\text{s}) + 3 \text{Ca}(\text{SO}_4)_2(\text{aq})$	Tratamento de água
II	$2 \text{Mg}(\text{s}) + \text{O}_2(\text{g}) \rightarrow 2 \text{MgO}(\text{s})$	Flash fotográfico
III	$\text{Zn}(\text{s}) + 2 \text{HCl}(\text{aq}) \rightarrow \text{ZnCl}_2(\text{aq}) + \text{H}_2(\text{g})$	Ataque do ácido clorídrico a lâminas de zinco
IV	$\text{NH}_4\text{HCO}_3(\text{s}) \rightarrow \text{CO}_2(\text{g}) + \text{NH}_3(\text{g}) + \text{H}_2\text{O}(\text{l})$	Fermento químico

As equações químicas I, II, III e IV correspondem, nessa ordem, aos seguintes tipos de reação:



- A) I-síntese; II-análise; III-deslocamento e IV-dupla troca
- B) I-dupla troca; II-síntese; III-deslocamento e IV-análise
- C) I-análise; II-síntese; III-deslocamento e IV-dupla troca
- D) I-síntese; II-análise; III-dupla troca e IV-deslocamento
- E) I-deslocamento; II-análise; III-síntese e IV-dupla troca

Comentários:

I- Dupla troca. Duas substâncias compostas estão reagindo para formar outras duas substâncias compostas.

II- Síntese (adição). Dois ou mais reagentes estão se unindo para formar um único produto

III- Simples troca (deslocamento). Reação de uma substância simples com uma substância composta, formando outra substância simples.

IV- Análise (decomposição). Formação de três produtos a partir de um único reagente.

A sequência correta é, portanto, apresentada na LETRA B.

Resposta: letra B



LISTA DE QUESTÕES - FGV

Classificação das reações

1. (FGV – Professor - Prefeitura – SP – 2023) “Transfira 3 gotas da solução de nitrato de chumbo para o tubo de ensaio e adicione 3 gotas da solução de iodeto de potássio. Observe o que acontece na mistura das soluções.” A aula experimental em laboratório de química configura uma atividade cujo objetivo é exercitar a observação e evidenciar a transformação química, seja pela mudança de coloração, formação de precipitados ou liberação de gases. O trecho foi extraído de uma apostila de aulas experimentais de química. Nesse experimento, o aluno deverá perceber a formação de um precipitado amarelo.

Com o desenvolvimento dessa atividade, o aluno poderá perceber e concluir sobre a possível ocorrência de uma reação

- a) de deslocamento.
- b) de dupla troca.
- c) de oxi-redução.
- d) ácido-base.
- e) de decomposição.

2. (FGV – Prefeitura SP – 2016) Duas garrafas pet de 500 mL tiveram o fundo retirado e foram encaixadas, formando um tubo, como mostrado na figura.



Em uma das tampas foi colocado um algodão embebido em ácido clorídrico (HCl) e, na outra, um algodão embebido em hidróxido de amônio (NH_4OH). As tampas foram atarraxadas e, em alguns segundos, os alunos foram surpreendidos com a formação de uma “nuvem” esbranquiçada, próximo ao centro da montagem. O professor explicou que a nuvem correspondia a uma espécie de poeira de cloreto de amônio (NH_4Cl).

O experimento pode ser utilizado para demonstrar uma reação de



- a) síntese.
- b) decomposição.
- c) troca simples.
- d) dupla-troca.
- e) substituição.

3. (FGV - SEDUC- AM - 2014) As chuvas em regiões onde o ar é considerado não poluído costumam apresentar pH em torno de 5,6. Convencionou-se, então, chamar de chuva ácida aquela cujo pH é menor que 5,6. A chuva ácida, definida dessa maneira, pode ocorrer tanto devido a processos naturais como devido a atividades humanas. O ácido nítrico forma-se naturalmente durante as tempestades. Num primeiro estágio, os raios fornecem energia elétrica propiciando a reação:



Essa equação representa uma reação que pode ser classificada como

- a) Simples-troca
- b) Dupla-troca
- c) Síntese
- d) Análise
- e) Dimerização



GABARITO

GABARITO



- | | |
|----------|----------|
| 1 | B |
| 2 | A |
| 3 | C |



LISTA DE QUESTÕES - CEBRASPE

Classificação das reações

1. (CEBRASPE – CBM AI – 2021) O extintor comercial de pó tipo ABC abafa e resfria o local do incêndio, suprimindo os íons livres da reação em cadeia, para extinguir o fogo rapidamente. A capacidade de absorção de calor, a vaporização e a decomposição das partículas do pó seco são os principais responsáveis pela extinção. Os principais constituintes dos pós ABC são di-hidrogenofosfato de amônio — $\text{NH}_4\text{H}_2\text{PO}_4$ — e sulfato de amônio — $(\text{NH}_4)_2\text{SO}_4$.

A partir das informações do texto apresentado, julgue os itens a seguir, considerando que $M_H = 1,00$ g/mol, $M_N = 14,00$ g/mol, $M_O = 16,00$ g/mol, $M_P = 31,00$ g/mol e $M_S = 32,00$ g/mol.

Na reação de dupla troca do $(\text{NH}_4)_2\text{SO}_4$ com o CaCl_2 , um dos compostos gerados é o sulfato de cálcio, de fórmula CaSO_4 .

2. (CEBRASPE - SEED-PR- 2021) A exposição à radiação ultravioleta pode causar queimadura na pele, lesão em células epiteliais, alteração do DNA, inflamação, dilatação dos vasos sanguíneos, câncer, entre outros fatores adversos. O ozônio (O_3) existente na estratosfera atua como um filtro dos raios ultravioletas provenientes do Sol. Antigamente, muitos *sprays* utilizavam clorofluorcarbonos (CFCs) em sua composição. Esses CFCs ficavam na atmosfera e reagiam com o ozônio, decompondo-o. Em 1989, foi assinado um acordo internacional denominado Protocolo de Montreal, por meio do qual mais de 130 países, incluído o Brasil, comprometeram-se a eliminar progressivamente o uso dessas substâncias em *sprays* e outras aplicações.

Um dos CFCs mais comuns possui fórmula CF_2Cl_2 . Na estratosfera, sob luz ultravioleta, ele sofre a seguinte reação.



O átomo livre de cloro ($\text{Cl}\bullet$), por sua vez, pode desencadear uma cascata de reações, como, por exemplo, as apresentadas a seguir.



Ainda a partir do texto 10A2-I, é correto afirmar que o mecanismo de reação apresentado entre a espécie química $\text{Cl}\bullet$ e o O_3 é um exemplo de

a) reação de substituição.



- b) catálise homogênea.
- c) catálise heterogênea.
- d) reação de dupla troca.
- e) reação de simples troca.

3. (CESPE - Soldado - CBM-AL - 2017) Com relação a reações químicas e a substâncias, julgue o item subsequente:

Nas reações químicas, os átomos se reorganizam para formar os produtos.

4. (CESPE - Soldado - CBM-ES - 2011) Embora o peróxido de hidrogênio (H_2O_2) não seja considerado um radical livre, ele é responsável, direta ou indiretamente, por diversas patologias. Em termos químicos, esse óxido é fracamente reativo, porém exerce papel deletério no organismo, por ser capaz de transpor facilmente membranas celulares e gerar o radical hidroxil ($\bullet OH$), seja por meio de exposição à luz ultravioleta (equação I), seja por interação com metais de transição, como o ferro, por meio do processo conhecido como reação de fenton (equação II)



Química Nova, vol. 33, n.º 10, 2010, p. 2202-10 (com adaptações).

Considerando as informações acima, julgue o item a seguir.

A equação I é um exemplo de reação química de decomposição, dado que representa a reação que forma o radical hidroxil por meio da exposição do peróxido de hidrogênio à luz ultravioleta.



GABARITO

GABARITO



- | | |
|---|---|
| 1 | C |
| 2 | B |
| 3 | C |
| 4 | C |



LISTA DE QUESTÕES - VUNESP

Classificação das reações

1. (Vunpes - PC- SP - 2014) A eletrólise, processo em que uma reação química é realizada por meio da passagem de corrente elétrica, é utilizada, por exemplo, na produção de alumínio a partir da bauxita e de hidróxido de sódio a partir do cloreto de sódio.

Classifica-se uma reação de eletrólise como uma reação de

- a) dupla troca.
- b) dissociação
- c) decomposição
- d) hidrólise.
- e) síntese



GABARITO

GABARITO



1 C



LISTA DE QUESTÕES - AACP

Classificação das reações

1. (AACP - UFRB/Técnico - 2019) A seguinte reação consiste em uma reação de



- a) combustão.
- b) análise ou decomposição.
- c) dupla troca.
- d) deslocamento ou simples troca.

2. (Instituto AACP - Perito Criminal - ITEP-RN - 2018) A reação $\text{HCl} + \text{NaOH} \rightarrow \text{NaCl} + \text{H}_2\text{O}$ é de

- a) análise
- b) simples troca
- c) dupla troca.
- d) deslocamento.
- e) síntese



GABARITO

GABARITO



1 B
2 C



LISTA DE QUESTÕES

Classificação das reações

1. (FGV – Professor - Prefeitura – SP – 2023) “Transfira 3 gotas da solução de nitrato de chumbo para o tubo de ensaio e adicione 3 gotas da solução de iodeto de potássio. Observe o que acontece na mistura das soluções.” A aula experimental em laboratório de química configura uma atividade cujo objetivo é exercitar a observação e evidenciar a transformação química, seja pela mudança de coloração, formação de precipitados ou liberação de gases. O trecho foi extraído de uma apostila de aulas experimentais de química. Nesse experimento, o aluno deverá perceber a formação de um precipitado amarelo.

Com o desenvolvimento dessa atividade, o aluno poderá perceber e concluir sobre a possível ocorrência de uma reação

- a) de deslocamento.
- b) de dupla troca.
- c) de oxi-redução.
- d) ácido-base.
- e) de decomposição.

2. (GUALIMP – Professor - Prefeitura Bom Jardim - 2023) As reações químicas são classificadas em quatro tipos:

- (1) Síntese ou combinação;
- (2) Análise ou decomposição;
- (3) Simples-troca ou deslocamento;
- (4) Dupla-troca ou metátese.

Identifique as reações abaixo e assinale a alternativa que traz a sequência correta:



- a) 2 - 4 - 1 - 3.
- b) 4 - 1 - 2 - 3.
- c) 1 - 2 - 3 - 4.
- d) 3 - 2 - 1 - 4.

3. (UFPA - Técnico de Laboratório - UFPA - 2017)

A reação química $2 \text{H}_2(\text{g}) + 2 \text{NO}(\text{g}) \rightarrow \text{N}_2(\text{g}) + 2 \text{H}_2\text{O}(\text{g})$ ocorre em duas etapas:

Etapa 1: $\text{H}_2(\text{g}) + \text{NO}(\text{g}) + \text{NO}(\text{g}) \rightarrow \text{N}_2\text{O}(\text{g}) + \text{H}_2\text{O}(\text{g})$

Etapa 2: $\text{H}_2(\text{g}) + \text{N}_2\text{O}(\text{g}) \rightarrow \text{N}_2(\text{g}) + \text{H}_2\text{O}(\text{g})$

Sobre essas reações químicas, é **CORRETO** afirmar que na etapa:

- a) 1 o número de moléculas reagentes é igual ao número de moléculas formadas.
- b) 2 a massa de reagentes é diferente da massa de produtos formados.
- c) 1 há dois reagentes e dois produtos, todos no mesmo estado físico.
- d) 1 ocorre reação de síntese, enquanto na 2 ocorre análise.
- e) 2 ocorre reação de análise, enquanto na 2 ocorre síntese.

4. (Marinha - EAM - 2013) Assinale a opção que apresenta o gás atmosférico que se comporta como comburente nas reações de combustão.

- A) Hélio.
- B) Neônio.
- C) Oxigênio.
- D) Carbônico.
- E) Nitrogênio.

5. (Exército - EsPCEX - 2011) Abaixo são fornecidos os resultados das reações entre metais e sais.

$\text{FeSO}_4(\text{aq}) + \text{Ag}(\text{s}) \rightarrow$ não ocorre a reação

$2 \text{AgNO}_3(\text{aq}) + \text{Fe}(\text{s}) \rightarrow \text{Fe}(\text{NO}_3)_2(\text{aq}) + 2 \text{Ag}(\text{s})$

$3 \text{Fe}(\text{SO}_4)(\text{aq}) + 2 \text{Al}(\text{s}) \rightarrow \text{Al}_2(\text{SO}_4)_3(\text{aq}) + 3 \text{Fe}(\text{s})$



$\text{Al}_2(\text{SO}_4)_3(\text{aq}) + \text{Fe}(\text{s}) \rightarrow$ não ocorre a reação

De acordo com as reações acima equacionadas, a ordem decrescente de reatividade dos metais envolvidos em questão é:

- A) Al, Fe e Ag.
- B) Ag, Fe e Al.
- C) Fe, Al e Ag.
- D) Ag, Al e Fe.
- E) Al, Ag e Fe.

6. (Exército - ESPCEX - 2008) Fila de Reatividade dos Ametais, em ordem decrescente de reatividade:



Analisando a Fila de Reatividade acima, a equação que representa a reação química que ocorre espontaneamente é:

- A) $\text{I}_2(\text{s}) + \text{NaBr}(\text{aq}) \rightarrow \text{NaI}(\text{aq}) + \text{Br}_2(\text{g})$
- B) $\text{I}_2(\text{s}) + \text{NaCl}(\text{aq}) \rightarrow \text{NaI}(\text{aq}) + \text{Cl}_2(\text{g})$
- C) $\text{F}_2(\text{g}) + \text{CaBr}_2(\text{aq}) \rightarrow \text{CaF}_2(\text{aq}) + \text{Br}_2(\text{l})$
- D) $\text{S}_8(\text{s}) + \text{NaCl}(\text{aq}) \rightarrow \text{Na}_2\text{S}(\text{aq}) + \text{Cl}_2(\text{g})$
- E) $\text{S}_8(\text{s}) + \text{NaBr}(\text{aq}) \rightarrow \text{Na}_2\text{S}(\text{aq}) + \text{Br}_2(\text{g})$

7. (CESPE - Soldado - CBM-AL - 2017) Com relação a reações químicas e a substâncias, julgue o item subsequente:

Nas reações químicas, os átomos se reorganizam para formar os produtos.

8. (FUNCAB - CBM-AC - 2015) Uma reação de dupla troca é apresentada na alternativa:

- A) $\text{C} + \text{O}_2 \rightarrow \text{CO}_2$
- B) $2 \text{H}_2\text{O} \rightarrow 2 \text{H}_2 + \text{O}_2$
- C) $\text{Zn} + \text{H}_2\text{SO}_4 \rightarrow \text{ZnSO}_4 + \text{H}_2$
- D) $\text{NaCl} + \text{AgNO}_3 \rightarrow \text{NaNO}_3 + \text{AgCl}$





9. (FUNCAB - Soldado - PM-MT - 2014) Uma das etapas do tratamento das águas para consumo residencial consiste na adição sulfato de alumínio e hidróxido de cálcio, essa etapa é conhecida como floculação, pois forma "flocos" gelatinosos insolúveis em água que vão "agarrando" as partículas que estão sendo arrastadas pela água.

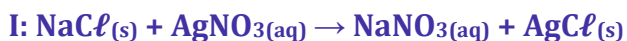
Abaixo é mostrada a reação entre essas duas substâncias.



Como pode ser classificada essa reação?

- A) adição
- B) dupla-troca
- C) análise
- D) simples-troca
- E) combustão

10. (FUNCAB - Aspirante - CBM-RO - 2014) O suor humano apresenta quantidades razoáveis de cloreto de sódio. Há, também, traços de ácido láctico, entre outras substâncias. Quando tocamos algum objeto, deixamos nele nossas impressões digitais, que são impregnadas de suor e, portanto, impregnadas de cloreto de sódio. Para visualizar essas impressões, uma das maneiras é borrifar uma solução de nitrato de prata nos objetos analisados. Isso leva à formação de precipitado de cloreto de prata (reação I) que, por posterior fotólise, leva à formação de prata metálica, que revela as linhas da impressão digital na forma de um sólido de cor prateada (reação II). Observe as reações abaixo:



As reações apresentadas são classificadas, respectivamente, como:

- A) simples troca e síntese.
- B) dupla troca e decomposição.
- C) síntese e simples troca.
- D) decomposição e análise.



E) dupla troca e simples troca.

11. (FSADU - Aspirante - CBM-GO - 2010) O Carbonato de Cálcio, cuja fórmula química é CaCO_3 , é muito difundido na natureza e consiste em um sólido branco que é muito pouco solúvel na água. Dentre suas principais propriedades químicas, quando é aquecido forma CaO (cal viva), com desprendimento de CO_2 (gás carbônico), de acordo com a seguinte reação: $\text{CaCO}_3 \rightarrow \text{CaO} + \text{CO}_2$. Esta é uma reação conhecida por:

A) Síntese.

B) Oxirredução.

C) Análise.

D) Deslocamento.

E) Ônica.

12. (CESPE - Soldado - CBM-ES - 2011) Embora o peróxido de hidrogênio (H_2O_2) não seja considerado um radical livre, ele é responsável, direta ou indiretamente, por diversas patologias. Em termos químicos, esse óxido é fracamente reativo, porém exerce papel deletério no organismo, por ser capaz de transpor facilmente membranas celulares e gerar o radical hidroxil ($\bullet\text{OH}$), seja por meio de exposição à luz ultravioleta (equação I), seja por interação com metais de transição, como o ferro, por meio do processo conhecido como reação de fenton (equação II)



Química Nova, vol. 33, n.º 10, 2010, p. 2202-10 (com adaptações).

Considerando as informações acima, julgue o item a seguir.

A equação I é um exemplo de reação química de decomposição, dado que representa a reação que forma o radical hidroxil por meio da exposição do peróxido de hidrogênio à luz ultravioleta.

13. (Exército - EsPECEEx - 2011) O quadro a seguir relaciona ordem, equação química e onde as mesmas ocorrem:



Ordem	Equação Química	Ocorrem
I	$3 \text{Ca}(\text{OH})_{2(aq)} + \text{Al}_2(\text{SO}_4)_{3(s)} \longrightarrow 2 \text{Al}(\text{OH})_{3(s)} + 3 \text{Ca}(\text{SO}_4)_{(aq)}$	Tratamento de água
II	$2 \text{Mg}_{(s)} + \text{O}_{2(g)} \longrightarrow 2 \text{MgO}_{(s)}$	Flash fotográfico
III	$\text{Zn}_{(s)} + 2 \text{HCl}_{(aq)} \longrightarrow \text{ZnCl}_{2(aq)} + \text{H}_{2(g)}$	Ataque do ácido clorídrico a lâminas de zinco
IV	$\text{NH}_4\text{HCO}_{3(s)} \longrightarrow \text{CO}_{2(g)} + \text{NH}_{3(g)} + \text{H}_2\text{O}_{(l)}$	Fermento químico

As equações químicas I, II, III e IV correspondem, nessa ordem, aos seguintes tipos de reação:

- A) I-síntese; II-análise; III-deslocamento e IV-dupla troca
- B) I-dupla troca; II-síntese; III-deslocamento e IV-análise
- C) I-análise; II-síntese; III-deslocamento e IV-dupla troca
- D) I-síntese; II-análise; III-dupla troca e IV-deslocamento
- E) I-deslocamento; II-análise; III-síntese e IV-dupla troca



GABARITO

GABARITO



- | | |
|----|-------|
| 1 | B |
| 2 | A |
| 3 | C |
| 4 | C |
| 5 | A |
| 6 | C |
| 7 | Certo |
| 8 | D |
| 9 | B |
| 10 | B |
| 11 | C |
| 12 | Certo |
| 13 | B |



ESSA LEI TODO MUNDO CONHECE: PIRATARIA É CRIME.

Mas é sempre bom revisar o porquê e como você pode ser prejudicado com essa prática.



1 Professor investe seu tempo para elaborar os cursos e o site os coloca à venda.



2 Pirata divulga ilicitamente (grupos de rateio), utilizando-se do anonimato, nomes falsos ou laranjas (geralmente o pirata se anuncia como formador de "grupos solidários" de rateio que não visam lucro).



3 Pirata cria alunos fake praticando falsidade ideológica, comprando cursos do site em nome de pessoas aleatórias (usando nome, CPF, endereço e telefone de terceiros sem autorização).



4 Pirata compra, muitas vezes, clonando cartões de crédito (por vezes o sistema anti-fraude não consegue identificar o golpe a tempo).



5 Pirata fere os Termos de Uso, adultera as aulas e retira a identificação dos arquivos PDF (justamente porque a atividade é ilegal e ele não quer que seus fakes sejam identificados).



6 Pirata revende as aulas protegidas por direitos autorais, praticando concorrência desleal e em flagrante desrespeito à Lei de Direitos Autorais (Lei 9.610/98).



7 Concurseiro(a) desinformado participa de rateio, achando que nada disso está acontecendo e esperando se tornar servidor público para exigir o cumprimento das leis.



8 O professor que elaborou o curso não ganha nada, o site não recebe nada, e a pessoa que praticou todos os ilícitos anteriores (pirata) fica com o lucro.



Deixando de lado esse mar de sujeira, aproveitamos para agradecer a todos que adquirem os cursos honestamente e permitem que o site continue existindo.