

Aula 00

MP-AM (Agente de Apoio - Programador)

Banco de Dados

Autor:

**Equipe Informática e TI, Thiago
Rodrigues Cavalcanti**

17 de Dezembro de 2022

Índice


1) Modelagem Conceitual de Dados	3
2) Modelo Entidade Relacionamento - ER	13
3) Relacionamentos	23
4) Entidade Forte x Entidade Fraca	28
5) Outras Representações Conceituais	37
6) Questões Comentadas - Modelo Conceitual - Cebraspe	45
7) Questões Comentadas - Modelo Conceitual - Cesgranrio	69
8) Questões Comentadas - Modelo Conceitual - Vunesp	119
9) Questões Comentadas - Modelo Conceitual - FGV	127
10) Questões Comentadas - Modelo Conceitual - Multibancas	156
11) Lista de Questões - Modelo Conceitual - Cebraspe	158
12) Lista de Questões - Modelo Conceitual - Cesgranrio	171
13) Lista de Questões - Modelo Conceitual - Vunesp	210
14) Lista de Questões - Modelo Conceitual - FGV	215
15) Lista de Questões - Modelo Conceitual - Multibancas	234



MODELAGEM CONCEITUAL DE DADOS (MODELO DE ENTIDADES E RELACIONAMENTOS)

Projeto de Banco de dados

O desenvolvimento de uma aplicação de banco de dados é uma tarefa complexa que envolve várias etapas, entre elas o projeto de um **esquema de banco de dados**. O esquema é a forma do bolo. Ele estabelece a definição dos objetos que serão armazenados em um banco de dados. Uma tabela, por exemplo, é descrita em função dos seus atributos e outras restrições de integridades.



Para evoluir dentro do processo de definição de um banco de dados, as necessidades dos usuários desempenham um papel fundamental. Essas necessidades vão **estabelecer os requisitos do nosso esquema de banco de dados**. Visando capturar de forma consistente as funcionalidades esperadas pelos usuários devemos definir um **esquema conceitual de dados**.

Nesta aula, nosso foco será na definição de um **esquema** que esteja em **um nível de abstração que possa ser entendido pelos usuários** do sistema. Utilizamos um **esquema conceitual** para representar as informações percebidas pelo usuário, retirando do modelo as informações técnicas envolvidas. Desta forma, é possível debater e evoluir o modelo com as pessoas que vão de fato utilizar os dados armazenados.

Essas ações levam a construção de um projeto de banco de dados mais robusto e adequado para a organização. O projetista de banco de dados precisa interagir com os usuários da aplicação para entender suas demandas. Essas demandas vão dar origem a um diagrama que representa as informações de forma simples, em **alto nível**.

Esse diagrama geralmente utiliza **notações gráficas** para representar as **entidades, relacionamentos e atributos** que serão armazenados em um banco de dados. Esse tipo de construção consegue estabelecer uma semântica para os dados. Partindo dessa representação



do modelo de dados podemos refinar o diagrama, diminuindo a abstração do modelo.

Uma abstração similar pode ser observada quando pensamos na construção de uma casa ou prédio. Para entender melhor os requisitos do cliente, um arquiteto pode se utilizar de uma planta baixa ou de uma simulação em três dimensões, ambas são abstrações ou representações da casa. Assim, o futuro morador pode decidir sobre a disposição dos móveis em um ambiente, cores e tamanhos.



Perceba que a casa real é uma implementação do modelo abstrato descrito na planta baixa ou no modelo em três dimensões. Essa ideia também vale para bancos de dados, o banco de dados será a implementação de um modelo abstrato que apresenta os requisitos e as definições necessárias. Para chegarmos ao nível de implementação precisamos começar no nível conceitual dos modelos de dados, definindo um esquema conceitual.

Perceba que no modelo de dados conceitual os queremos definir quais dados serão armazenados. Neste momento, pouco importa como os dados serão armazenados fisicamente. Por isso, podemos dizer que os modelos de dados conceituais são independentes de hardware e software. Eles não estão associados a um SGBD específico e possuem o mais alto nível de abstração.

Depois de estabelecermos um modelo conceitual, podemos incorporar mais informações a respeito das restrições e tipos de dados presentes em cada entidade ou relacionamento. Assim, reduzimos o nível de abstração do modelo, definindo um modelo lógico ou de implementação para os dados. A relação ou tabela é a estrutura básica que define um modelo lógico, mais especificamente um modelo lógico relacional.

Nesta etapa já é possível termos detalhes suficientes para estruturarmos nosso banco de dados. Podemos, portanto, utilizar a linguagem SQL para definição das tabelas. O comando SQL é recebido pelo SGBD que se encarrega de criar a estrutura física para armazenamento dos dados. Ao final da execução dos comandos SQL temos um esquema físico de banco de dados.

O fluxo do projeto de banco de dados possui algumas etapas mais importantes que aparecem com frequência em provas de concursos: projeto (ou modelagem) conceitual, projeto lógico e projeto físico. A figura a seguir apresenta um fluxo simplificado para construção de um projeto de banco de dados. Peço que preste atenção nos elementos ao lado direito da figura. Tente observar as etapas que acabamos de descrever.

ESQUEMATIZANDO

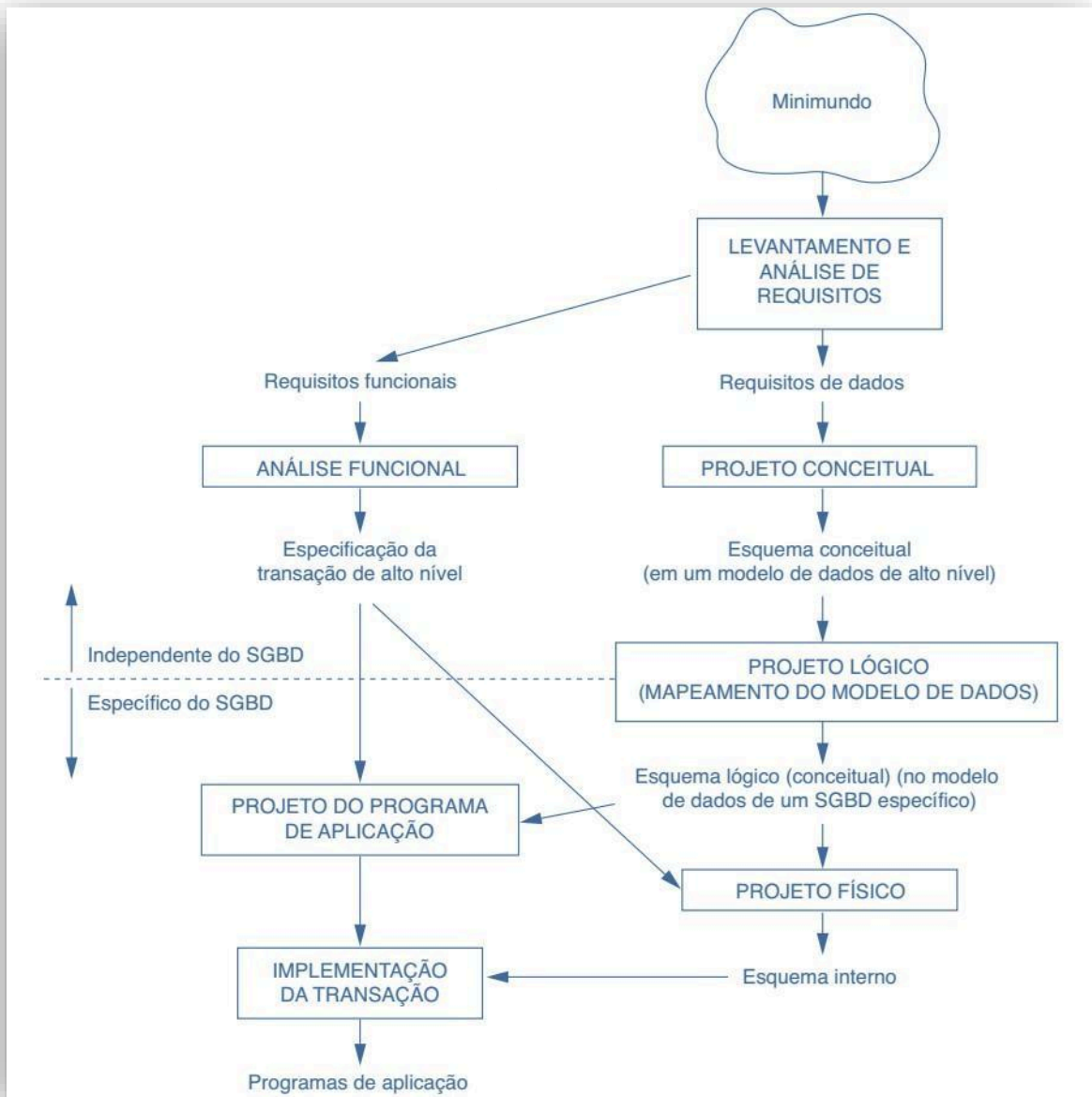


Figura 1 - Projeto de banco de dados

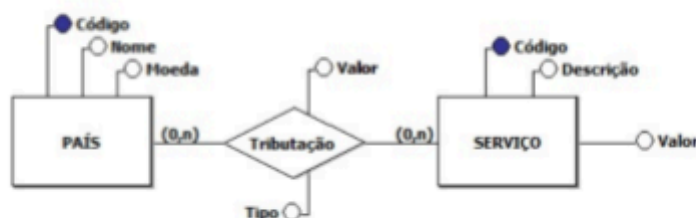


Perceba que cada projeto gera como resultado um esquema. Nesta aula nosso foco será entender as possíveis estruturas notacionais para definição de um esquema conceitual. O modelo **entidade-relacionamento (ER)** será o primeiro a ser estudado, em seguida veremos algumas notações alternativas para representação gráfica do modelo conceitual.

É importante perceber que essa representação utiliza elementos gráficos para apresentar uma **semântica simples e de entendimento rápido**. Para que essa interação com o diagrama seja feita a contento é preciso entender os componentes que se fazem presentes na elaboração do esquema de dados usando a **modelagem conceitual**.

A sequência do processo, seguido para o desenvolvimento de um projeto de banco de dados, nos apresenta o projeto lógico que, de forma prática, está associado ao modelo relacional. Perceba que neste nível existe uma dependência de um tipo específico de SGBD. Esse assunto será visto em outra aula. Vejamos uma questão sobre o assunto.

(Ministério da Economia – Especialista em Gestão de Projetos - 2020)



Com relação às informações contidas no modelo conceitual precedente, julgue o próximo item.

O modelo em tela, da forma como está apresentado, não poderá ser implementado, porque, além de ser um modelo conceitual, contém um relacionamento n:n.

Comentários: O modelo em questão apresenta uma estrutura abstrata e conceitual. Para que seja implementado é necessário baixar o nível do modelo para um modelo lógico, pois precisamos de detalhes como tipos de dados e restrições de integridade para que o SGBD crie (implemente) o modelo.

Gabarito: CERTO

Antes de falarmos um pouco mais sobre a modelo entidade relacionamento, queria que você voltasse os olhos para a figura anterior e percebesse que ao lado esquerdo temos uma sequência de ações que acontecem em paralelo ao projeto de banco de dados. Essas ações vão descrever as funcionalidades do sistema. Gostaria de falar um pouco sobre a análise funcional, que pode ser vista como o um processo simplificado de engenharia de software. Vamos, então, dar continuidade a nossa explicação focando nossa atenção nos conceitos de **análise funcional**.

Análise Funcional

Ainda sobre a figura vista anteriormente, podemos observar que, em paralelo com a **especificação de requisitos de dados**, é útil determinar os **requisitos funcionais** da aplicação. Os requisitos funcionais estão ligados ao processo de engenharia de software e vão definir as



funcionalidades do sistema. Eles consistem em operações (ou transações) definidas pelos usuários que serão aplicadas ao banco de dados.

No projeto de desenvolvimento de um sistema, é comum usar diagrama de fluxo de dados, diagrama de sequência, cenários e outras técnicas para especificar os requisitos funcionais. Neste sentido, o ciclo de vida de um sistema de informação pode ser denominado de **ciclo de vida macro**, este inclui as fases de análise de viabilidade, levantamento e análise de requisitos, projeto, implementação, validação e teste de aceitação e implantação, operação e manutenção.

Figura 2 - Ciclo de vida de um sistema de informação.



Já as atividades do **ciclo de vida micro**, que focalizam o sistema de banco de dados, incluem:

Definição do sistema. O escopo do sistema de banco de dados, seus usuários e suas aplicações são definidos. As interfaces para diversas categorias de usuários, as restrições do tempo de resposta e as necessidades de armazenamento são identificadas.

Projeto de banco de dados. Um projeto lógico e físico completo do sistema de banco de dados no SGBD escolhido é preparado.

Implementação do banco de dados. Isso compreende o processo de especificar as definições de banco de dados conceituais, externas e internas, criar os arquivos de banco de dados (vazios) e implementar as aplicações de software.

Carga ou conversão de dados. O banco de dados é preenchido ou pela carga dos dados diretamente ou pela conversão de arquivos existentes para o formato do sistema de banco de dados.

Conversão de aplicação. Quais quer aplicação de software de um sistema anterior são convertidas para o novo sistema.

Teste e validação. O novo sistema é testado e validado. O teste e a validação dos programas exigem várias técnicas que normalmente são abordadas pela engenharia de software.

Operação. O sistema de banco de dados e suas aplicações são colocados em operação. Normalmente, os sistemas antigos e os novos são operados em paralelo por um período.

Monitoramento e manutenção. Durante a fase operacional, o sistema é constantemente monitorado e mantido. O crescimento e a expansão podem ocorrer no conteúdo de dados e nas aplicações. Importantes modificações podem ser necessárias de tempos em tempos.

As fases de projeto e implementação de um grande banco de dados podem ser visualizadas na figura abaixo:

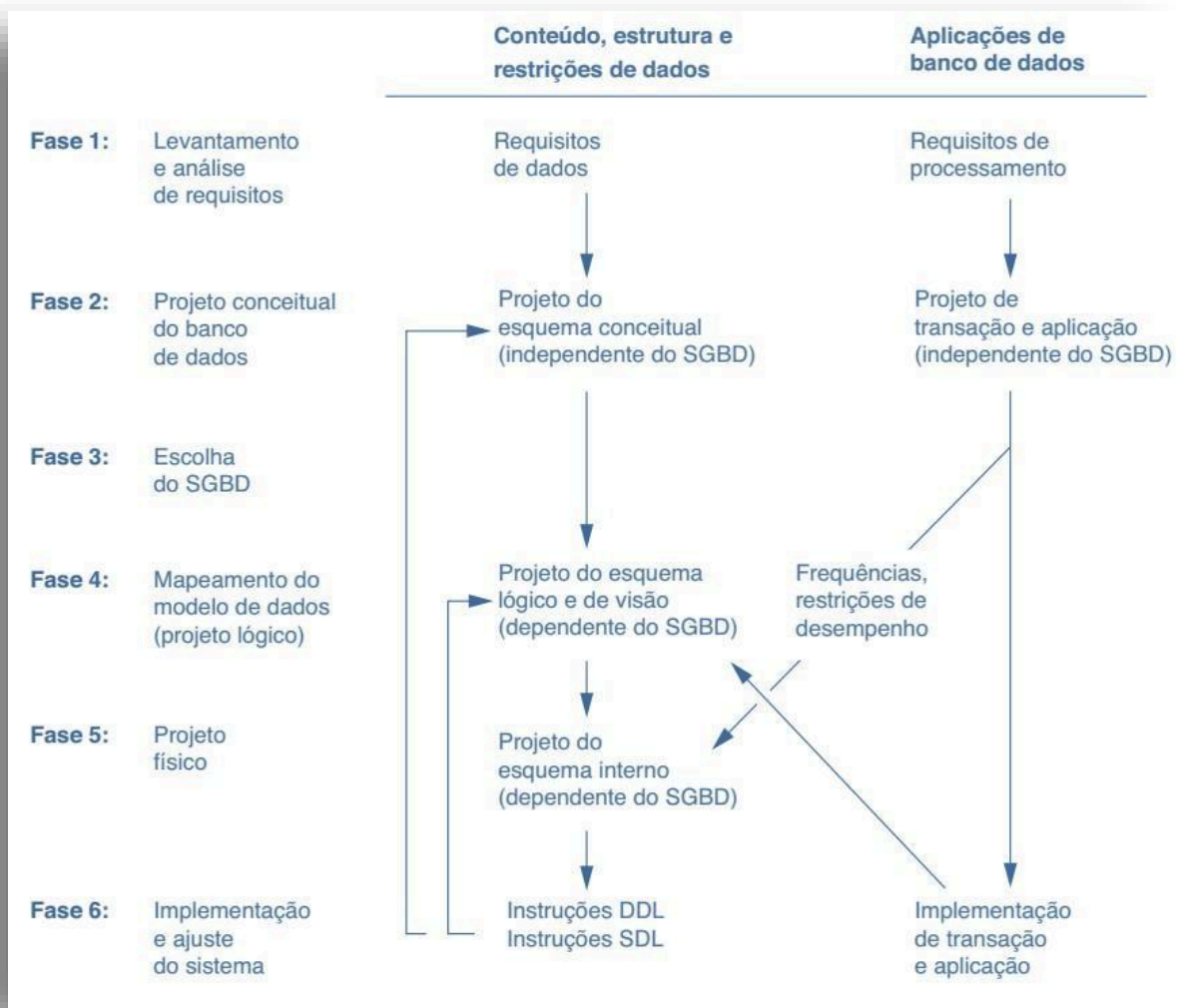


Figura 3 - Fases do projeto e implementação de banco de dados

A fase de escolha de um SGBD deve considerar alguns aspectos relacionados ao custo de aquisição do software, manutenção, aquisição de hardware, criação ou conversão de dados, pessoal, treinamento e operacional.

Contudo, quando estamos analisando o problema do ponto de vista do sistema de informação, muitas vezes existe a necessidade de uma linguagem comum para comunicar os requisitos e demais ações que são feitas durante as fases da elaboração de um sistema. Para tentar apresentar um pouco do que seria essa linguagem vamos mostrar nas próximas linhas o conceito de UML.

UML - Unified Modeling Language

A necessidade de um técnica-padrão que visa cobrir todas as etapas de desenvolvimento de um sistema de informação. O espectro que vai da análise de requisitos, passando pela modelagem, projeto, implementação até chegar à implantação. Um destas técnicas é conhecida como *UML* –



Unified Modeling Language. Ela oferece um mecanismo na forma de notação diagramática e sintaxe de linguagem associada para cobrir todo o ciclo de vida.

A UML combina conceitos comumente aceitos de muitos métodos e metodologias orientados a objetos (O-O). Ela é genérica independente de linguagem e plataforma. A UML tem muitos tipos diagramas que podem ser divididos em duas categorias:

Diagramas estruturais. Estes descrevem os relacionamentos estruturais ou estáticos entre objetos de esquema, objetos de dados componentes de software. Incluem os diagramas de classes, de objetos, de componentes e de implementação.

Diagramas comportamentais. Sua finalidade é descrever o comportamento ou relacionamento dinâmico entre componentes. Incluem diagramas de caso de uso, de sequência, de colaboração, de estados e de atividades.

Pense que um sistema tem aspectos estáticos e dinâmicos, esses dois tipos de diagrama descrevem essas características. Vamos dar um exemplo de cada um dos tipos de diagrama apenas para ajudar você na fixação do conteúdo. O **Diagrama de Classes** oferece um ótimo exemplo do tipo de diagrama estrutural e fornece um conjunto inicial de elementos de notação que todos os outros diagramas de estrutura usam. O propósito do diagrama de classes é mostrar os tipos que estão sendo modelados no sistema.

Uma classe é representada na forma de um retângulo, contendo duas linhas que separam 3 partes. A primeira contém no nome da classe, a segunda os atributos da classe e a última os métodos. Vejamos uma figura que ajude a entender melhor esses conceitos:

DESPENCA NA PROVA!



Concurseiro
nome: String concursoAlvo: String identidade: Integer dataDeNascimento: Date
getConcursoAlvo() : String getIdade(): Integer



Observe a classe acima, temos a classe Concurseiro com os atributos nome, concursoAlvo, indetidade e dataDeNascimento. Veja que cada atributo tem um tipo de dado associado. Por fim, o retângulo mostra as operações que podem ser executadas com os dados desta classe, conhecidos como métodos.

O diagrama comportamental que usaremos como exemplo é o diagrama de Casos de Uso. O diagrama de casos de uso tem o objetivo de **auxiliar a comunicação entre os analistas e o cliente**. Ele descreve um cenário que mostra as funcionalidades do sistema do ponto de vista do usuário. O cliente deve ver no diagrama de casos de uso as principais funcionalidades de seu sistema.

O diagrama de Caso de Uso é representado por atores, casos de uso e relacionamentos entre estes elementos. Um **ator** é representado por um boneco e um rótulo com o nome do ator. Um ator é um usuário do sistema, que pode ser um usuário humano ou um outro sistema computacional. Um **caso de uso** é representado por uma elipse e um rótulo com o nome do caso de uso. Um caso de uso define uma grande função do sistema. Os relacionamentos ajudam a descrever casos de uso. A figura abaixo descreve um diagrama de caso de uso. Nela temos os atores Paciente, Secretária, Doutor e Balconista que fazem acesso a diferentes macro funcionalidades do sistema, ou seja, os casos de uso.

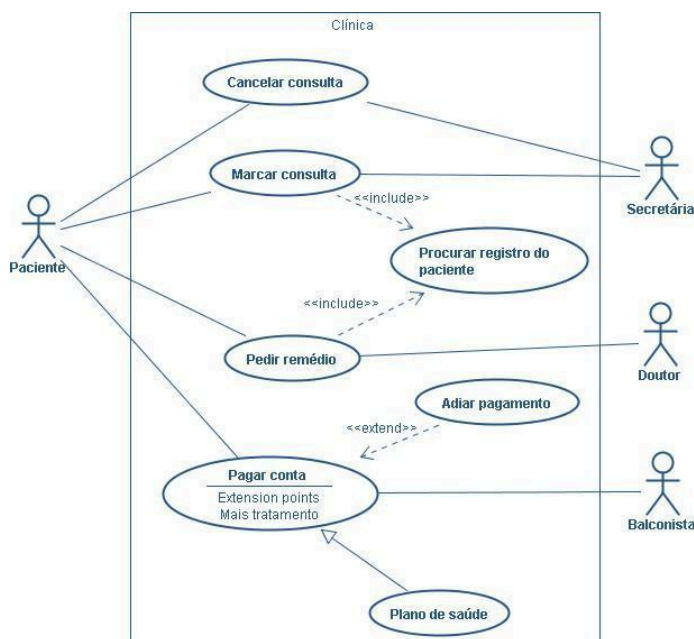


Figura 4 - Diagrama de caso de uso

Antes de você pergunte o que são os termos <<include>> e <<extends>> na figura acima, deixa eu tentar explicar de uma forma bem simples. O <<include>> afirma que um caso de uso depende do outro, tente observar na figura, para marcar uma consulta é necessário ter os dados do paciente. Já o <<extends>> inclui uma funcionalidade extra que não é obrigatória, por exemplo, adiar pagamento é uma possibilidade na ação de pagar conta.

Administração de dados

Você deve se lembrar da diferença entre o administrador de banco de dados e o administrador de dados que vimos em uma aula anterior do nosso curso. O nosso objetivo agora é olhar para a **administração dos dados** de forma mais sistêmica. A atividade de administração de dados traz



em seu cerne a preocupação em tornar claro o entendimento das informações que estão sendo armazenadas, caracterizado pelo bom entendimento do negócio da organização, pelo projeto adequado das bases de dados, pelo compartilhamento de informações e pela integração entre os sistemas de informação.

A implantação de uma política de Administração de Dados (AD) visa minimizar riscos quanto à complexidade da informação armazenada. O resultado da análise do atual cenário, benchmarking e boas práticas tem por objetivo suprir as necessidades de informação proveniente dos sistemas de informação. Esse processo envolve diversas perspectivas ou ações:

Modelagem de dados corporativos - analisa a modelagem de dados quando aplicada aos requisitos de dados globais ou totais de uma empresa, em vez de ser aplicada ao conjunto menor de requisitos que devem ser atendidos por um único sistema de informações. É importante ter em mente que os modelos de dados corporativos são necessários e devem ser modelados e documentados em todos os níveis de abstração. Assim, o desenvolvimento de um modelo de dados corporativos pode ser abordado em função de seis princípios:

Desenvolver o modelo "top-down".
Dar primazia ao core business.
Cobrir toda a organização
Tentar prever o futuro no seu modelo.
Desenvolver cooperativamente;
Obtenha consenso, não perfeição.

Definição de dados e nomenclatura – essas ações visam a definição de dados chave e os padrões de nomenclatura usados pelos gerenciadores ou projetistas de dados.

Metadados – mais uma vez no curso temos o conceito de "dados sobre dados" que são usados de forma especial na estruturação de qualquer modelo de dados.

Qualidade de dados – você deve ter uma visão clara dessa importante área. Observamos que os dados de baixa qualidade podem afetar um negócio. Devemos, portanto, procurar entender as causas associadas aos dados de baixa qualidade e usarmos técnicas para melhorar a qualidade deles.

Acessibilidade de dados – essa perspectiva pode ser relacionada à segurança de dados, proteção do banco de dados contra usuários não autorizados, integridade de dados, proteção do banco de dados contra usuários autorizados e recuperação de dados, trazendo o banco de dados a um estado consistente utilizável após uma falha.

Gerenciamento de dados mestre – Os dados mestres são os dados globais padronizados e utilizados por toda a empresa. Eles evitam que os dados sejam armazenados em bases de dados distintas.

Todos esses fatores estão associados à governança de dados, definida como a orquestração formal de pessoas, processos e tecnologia para permitir que uma organização aproveite os dados como um ativo corporativo.

O administrador de dados, também conhecido como projetista de dados, tem um trabalho de natureza estratégica em relação aos dados corporativos. Sua principal preocupação é entender as



necessidades de informações e contribuir para a disponibilidade dos dados. Perceba que o objetivo do AD envolve planejar e controlar o gerenciamento dos dados corporativos. Vejamos uma questão que aborda esse tema.

PRESTE MAIS ATENÇÃO!



(Questão/CESPE/BASA)

O dicionário de dados é uma das principais ferramentas para a administração dos dados corporativos. Por meio da engenharia reversa, pode-se armazenar os modelos de dados, as estruturas de dados, seus relacionamentos e toda a documentação necessária para garantir facilidade na localização e manipulação dos dados. Acerca dos papéis do administrador de dados (AD) e dos dicionários de dados, julgue os itens a seguir.

Enquanto o AD se preocupa com o gerenciamento dos dados como patrimônio da empresa, o administrador de banco de dados (ABD) é responsável pelo gerenciamento físico e dos acessos ao banco de dados.

Comentário:

Lembre-se o administrador de dados (AD) atua para: (1) obter um melhor conhecimento do contexto de negócio;

(2) projetar adequadamente a base de dados; (3) permitir o compartilhamento dos dados e a integração dos sistemas; e (4) contribuir para a unificação da visão que a empresa tem dos dados.

Gabarito: C.

A partir do próximo tópico, vamos nos preocupar com a **construção de um modelo de dados conceitual** utilizando o **diagrama entidade relacionamento**. Veja que essa etapa do projeto de banco de dados é tipicamente uma atividade realizada pelo administrador de dados. Vamos em frente!



MODELO ENTIDADE RELACIONAMENTO - ER

Na fase de projeto de banco de dados, é importante usar um modelo de dados conceitual de alto nível com as seguintes características:

1. **Expressividade.** O modelo de dados deve ser expressivo o suficiente para distinguir diferentes tipos de dados, relacionamentos e restrições.
2. **Simplicidade e compreensão.** O modelo deve ser simples o suficiente para que usuários típicos não especialista compreendam e usem seus conceitos.
3. **Minimalismo.** O modelo deve ter um pequeno número de conceitos básicos, que são distintos e não sobrepostos.
4. **Representação diagramática.** O modelo deverá ter uma notação diagramática para exibir um esquema conceitual que seja fácil de interpretar.
5. **Formalidade.** Um esquema conceitual expresso no modelo de dados deve representar uma especificação não ambígua forma dos dados (precisão e não ambiguidade).

Você vai perceber que o modelo conceitual se encaixa como uma luva nestas características. A modelagem conceitual é uma fase crucial no planejamento de uma aplicação de banco de dados. Ela vai permitir a **descrição de um modelo de dados associados a um contexto de negócio ou requisitos de um processo** em alto nível de abstração. Ou seja, essa descrição tende a ser simples, com poucos elementos diagramáticos.

Uma abordagem tradicional de modelagem de dados engloba as estruturas e restrições do banco de dados. Os elementos diagramáticos são responsáveis por descrever essas estruturas e restrições aos usuários de negócio. As estruturas representam entidades e atributos cujos valores são interpretações de objetos do mundo real e suas propriedades.

Imagine um carro. Ele tem alguns atributos que podem ser definidos para cada instância de carro. Ou, de forma mais simples, para todos os carros que você pensar, será possível definir características como cor, marca, modelo e peso. A figura abaixo apresenta atributos associados a entidade carro.



Atributos

Marca
Color
Modelo
Peso

Neste sentido, queremos apresentar os conceitos ou elementos presentes no modelo Entidade-Relacionamento (ER). Este é um modelo de dados conceitual de alto nível extremamente popular. A modelagem ER foi proposta por **Peter Chen**, em março de 1976, no artigo *The Entity-Relationship Model: Toward the unified view of data*. A literatura especializada afirma que o modelo tem como



embasamento a formalização do óbvio. O esquema a seguir descreve as características básicas do modelo ER.

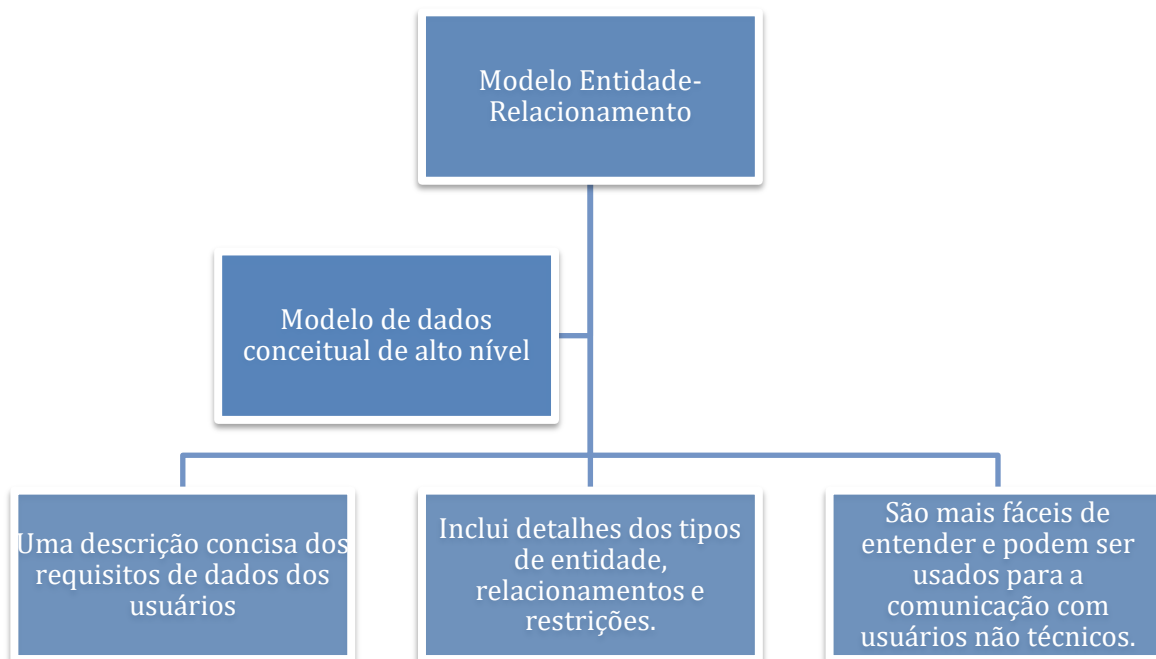


Figura 1 - Conceitos básicos do modelo Entidade-Relacionamento.

A abordagem é composta por uma técnica de diagramação e um conjunto de conceitos. A técnica é **um meio de representação dos próprios conceitos** por ela manipulados: **entidades**, **relacionamentos** e **atributos**. Cada um deles é representado por uma figura geométrica. Entidades são definidas por **retângulos**, relacionamentos são denotados por **losango**¹ e atributos são referenciados por meio de **elipses**. Vamos agora entender a definição de cada um desses elementos.

ENTIDADES

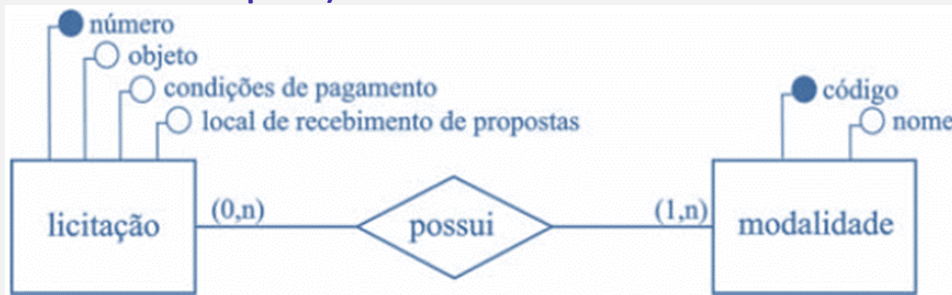
Entidades são objetos do “mundo real” sobre os quais se deseja manter informações no banco de dados. Cada entidade deve ser a representação abstrata de um objeto. **Atributos** são as propriedades que descrevem essas entidades. **Relacionamentos** são as associações entre entidades. Cada tipo de entidade que participa de um tipo de relacionamento executa um papel no relacionamento.

De posse dos conceitos que vimos até aqui vamos tentar analisar a primeira questão do CESPE desta nossa aula.



¹ A forma correta é losango. Esta palavra entrou na língua portuguesa através do francês *losange*. É uma palavra grave, isto é, com acento tônico na penúltima sílaba. Em geral, as palavras graves não levam acento gráfico.

(Ano: 2016 Banca: CESPE Órgão: TCE-PA Prova: Auditor de Controle Externo - Área Informática - Analista de Suporte)



Considerando a figura apresentada, que ilustra o modelo de um banco de dados hipotético, julgue o item que se segue.

[1] A figura expõe um modelo lógico, uma vez que ele contém detalhes de implementação e é independente de um sistema gerenciador de banco de dados (SGBD).

Comentário: Analisando a figura acima podemos verificar que o diagrama apresenta características gráficas com alto nível de abstração. Esse tipo de modelo é conhecido como conceitual. Perceba que a assertiva diz que esse é um modelo lógico, o que não é verdade. Por isso podemos afirmar que a afirmação está incorreta.

Gostaria ainda de aproveitar o diagrama para fazer um comentário a respeito da notação dos atributos. Percebam que os atributos, associados a cada uma das entidades, estão representados por bolas e os nomes ou descrição deles aparecem fora da mesma. Essa é uma das notações alternativas para representação dos atributos.

Gabarito: E.

Agora vamos voltar a teoria sobre o assunto. A figura abaixo foi retirada do artigo original do Peter Chen. Apresenta um diagrama simples do modelo entidade-relacionamento.

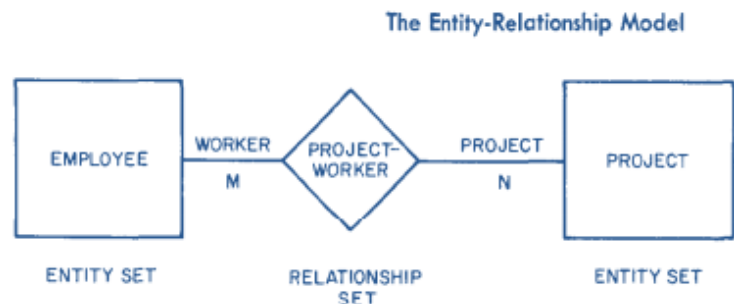


Figura 2 - Figura do artigo original do Peter Chen

Nesse diagrama, podemos observar a presença das entidades *EMPREGADO* e *PROJETO*, e do relacionamento trabalha-no-projeto. Na figura, é possível visualizar também o termo **conjunto** (set) de Entidade e de Relacionamento. Quando vamos definir uma entidade, geralmente, usamos uma instância do mundo real. Por exemplo, o funcionário Thiago Cavalcanti com o CPF 045034045-12. Essa instância vai ser usada para definir um Tipo de Entidade, neste caso, FUNCIONÁRIO.

O termo conjunto tentar expor o conceito de que a entidade FUNCIONÁRIO, por exemplo, deve ser uma descrição de um conjunto de funcionários de uma empresa em um determinado momento do tempo. Você se lembra do conceito de instância? O **entity set** vai representar o conjunto de instâncias da entidade empregado.



Esse termo contribui para a formalização do modelo. Ele descreve, basicamente, o conjunto de objetos do mesmo tipo que são instanciados para cada **tipo de entidade ou relacionamento**. Perceba que o tipo representa a descrição da entidade funcionário (em termos de restrições e atributos), enquanto o conjunto trata das instâncias. Em nosso estudo não vamos nos preocupar muito com esse rigor. Usaremos a palavra entidade para definir uma abstração que representa um objeto sobre o qual queremos armazenar informações na nossa base de dados.

A entidades individuais que fazem parte de um conjunto são denominadas **extensão** de um conjunto de entidades. Assim, todos os funcionários de uma empresa são uma extensão do conjunto de entidades funcionários. Uma entidade pode ser **concreta**, como uma pessoa ou um livro, ou pode ser **abstrata**, como um feriado ou um conceito.

O mais importante da figura acima é observar que o modelo define **um retângulo** para representação de uma **entidade** e **um losango** para representação de um **relacionamento**. Temos ainda os **atributos**, que, embora não estejam desenhados na figura, são representados por uma **elipse**. Para finalizar, utilizamos linhas para fazer a ligação entre os elementos dos modelos.

Vejamos um exemplo de duas entidades (cliente e empréstimo) com seus respectivos atributos na figura abaixo.

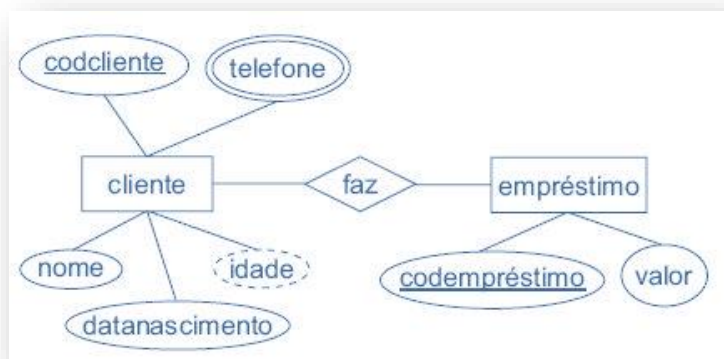


Figura 3 - Diagrama entidade relacionamento

ATRIBUTOS

Já sabemos que os atributos são representados **por elipses** e que eles apresentam as propriedades ou características das entidades ou dos relacionamentos. É importante saber que os atributos também podem ser representados por círculos, ou ainda não serem representados para não sobrecarregar o diagrama.

Até aqui tratamos apenas dos elementos gráficos básicos do modelo, vamos, então, observar quais são as classificações de cada um dos elementos e como essa classificação influencia ou altera a representação gráfica de cada elemento. Começaremos pelos **atributos**, que podem ser:

Identificador ou Não Identificador

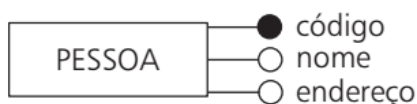


Toda entidade, **normalmente**, possui um conjunto de um ou mais atributos que são usados para identificar univocamente cada instância da entidade. Cada atributo que compõe esse conjunto é denominado **atributo-chave ou identificador**. Na notação padrão do diagrama ER o nome aparece sublinhado dentro da elipse. Quando o diagrama utiliza círculos para representar os atributos, o círculo aparece preenchido conforme observamos na figura a seguir:



Figura 4 - Exemplo de identificadores simples e composto

Perceba que, se o conjunto de atributos identificadores for composto por apenas um atributo, denominamos ele de **identificador simples**. Por outro lado, se o conjunto possuir dois ou mais atributos, como na entidade prateleira da figura acima, denominamos esse conjunto de **identificador composto**. Resumindo:



Identificador de entidade

Conjunto de um ou mais atributos cujos valores servem para distinguir uma ocorrência da entidade das demais ocorrências da mesma entidade.

Pode ser simples ou composto.

Figura 5 - Identificador de entidade.

Existem algumas entidades que não possuem **atributos suficientes** para que cada uma das suas instâncias seja identificada de forma unívoca. Falaremos sobre esse tipo de entidade, denominada entidade fraca, a seguir ... por enquanto, lembre-se que essa exceção existe. Agora, perceba que eu falei que a entidade fraca não possui atributos suficientes, logo, ela pode ter um atributo que fará parte da chave, mas que não a compõe totalmente. Esse atributo é de é denominado chave parcial e a notação gráfica é descrita abaixo:





Figura 6 - Notação gráfica para chave parcial.

Simples ou Compostos

Quando classificamos os atributos em **relação a sua estrutura**, podemos dividi-los em simples e compostos. **Simples** são aqueles atributos considerados atômicos ou indivisíveis. Em outras palavras, eles não são divididos em subpartes. Os **compostos** podem ser divididos em partes menores, essas partes representam atributos básicos com significados independentes.

Um exemplo de atributo **simples** seria **CPF**, um valor único e indivisível. Por outro lado, como representante dos atributos **compostos** podemos apresentar o **endereço**. Perceba que um endereço pode ser dividido em várias partes: nome da rua, número, complemento, CEP, bairro, cidade e país.

Monovalorados ou Multivalorados

Monovalorados são atributos que possuem **apenas um valor** para uma instância da entidade (exemplo: Idade). **Multivalorados** possuem **mais de um valor** para cada elemento de uma entidade. Perceba que esses valores estão associados ao mesmo domínio. (Exemplo: Telefones (88787981, 34141242, 46578741)).

Quando o projetista julgar necessário, ele pode impor limites inferiores e superiores para um determinado atributo multivalorado. Por exemplo, um banco pode limitar o número de telefones armazenados para um único cliente. Essa restrição não fica explícita na modelagem conceitual.

Armazenados ou Derivados

Atributos armazenados definem aqueles atributos que efetivamente são gravados no banco de dados. Já os atributos **derivados** são os atributos que podem ser obtidos a partir de um dado armazenado (exemplo: calcular a idade utilizando a data de nascimento).

Obrigatórios ou Opcionais

Atributos cujo valor seja exigido em todas as instâncias da entidade são denominados **obrigatórios**. Caso não seja, eles são denominados **opcionais**. Todos os atributos, no geral, são considerados obrigatórios e monovalorados. Essas propriedades podem ser descritas por dois valores entre parênteses (1,1). O primeiro valor refere-se à obrigatoriedade do atributo, já o segundo ao fato de só termos um valor no máximo. Vamos dar outro exemplo para você entender melhor ... observe a figura abaixo:



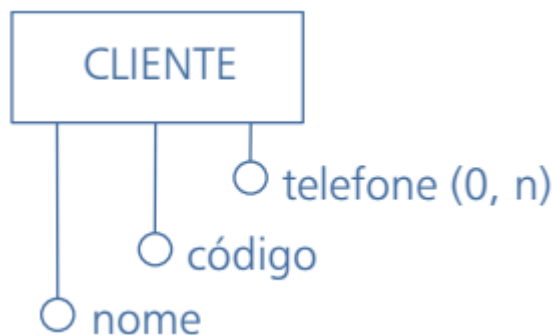


Figura 7 - Exemplo de atributo não obrigatório e multivalorado.

Na figura acima, telefone possui cardinalidade mínima 0, o que denota que ele é opcional. O atributo possui ainda cardinalidade máxima n o que significa que ele é multivalorado. Já os atributos código e nome são considerados obrigatórios e monovalorados, perceba que a notação (1,1) é omitida dos diagramas.

Descritivos, nominativos e referenciais

Uma outra forma de definir os atributos é quanto a finalidade ou função relacionada a uma entidade, estes podem ser classificados e identificados como:

Atributos descritivos: atributo que seja capaz de demonstrar, ou representar, características formadoras, ou pertencentes, a um objeto. (Ex: Data de nascimento, idade, sexo.)

Atributos Nominativos: atributo que além de cumprirem a função de descritivos, também servem como definidores de nomes ou rótulos de identificação aos objetos aos quais pertencem. Perceba que **todo atributo nominativo também é descritivo**. (Ex: código do..., matrícula, número.)

Atributos Referenciais: atributo que não pertencem propriamente a entidade onde estão, mas fazem algum tipo de referência dessa entidade com outra entidade. (Ex: Imagine uma entidade PRODUTO como um atributo ID_FABRICANTE).

Antes de continuar, gostaria de apresentar um rápido resumo dessas características vistas até aqui:



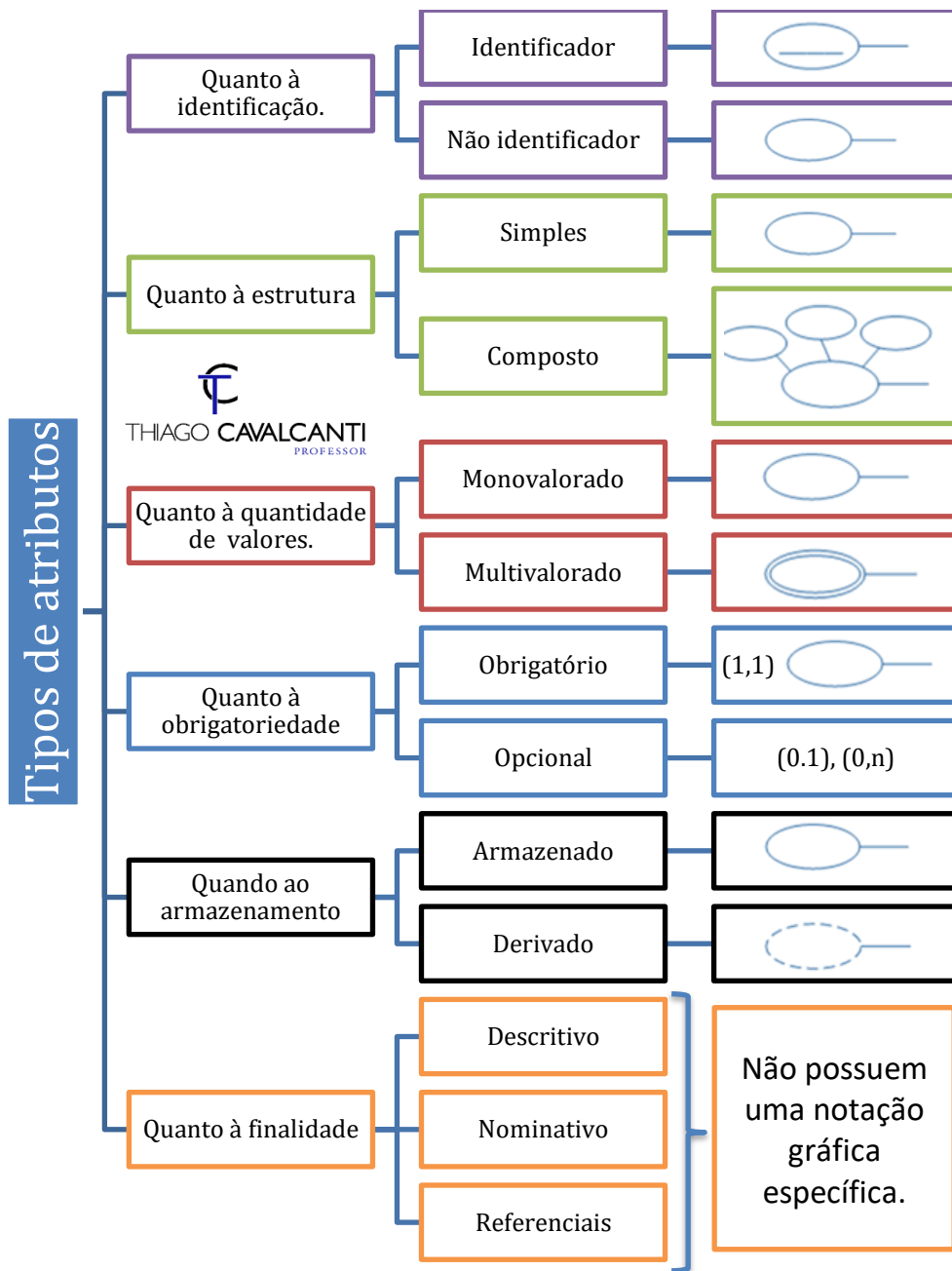


Figura 8 - Atributos no modelo entidade relacionamento.

Seguimos a nossa jornada através dos atributos. Nosso objetivo agora é entender o que são valores nulos e tratar de uma composição especial dos atributos: os atributos complexos.

Atributos nulos

Em alguns casos, uma entidade em particular pode não ter um valor aplicável para um atributo. Por exemplo, o atributo **Numero_apartamento** de um endereço só se aplica a endereços que estão em



prédios de apartamento, e não a outros tipos de residências, como casas. De modo semelhante, um atributo **Formacao_academica** só se aplica a pessoas com esse tipo de formação.

Para tais situações, foi criado um valor especial, chamado NULO (NULL). Um endereço de uma casa teria NULL para seu atributo Numero_apartamento, e uma pessoa sem formação acadêmica teria NULL para Formacao_academica. NULL também pode ser usado quando não conhecemos o valor de um atributo para determinada entidade.

Resumindo, usamos o atributo nulo quando o valor para o atributo em questão é **não aplicável** ou **desconhecido**.

Atributos complexos

Em geral, os atributos compostos e multivalorados podem ser aninhados arbitrariamente. Podemos representar o aninhamento arbitrário ao agrupar componentes de um atributo composto entre parênteses () e separá-los com vírgulas, e ao exibir os atributos multivalorados entre chaves { }. Esses atributos são chamados de **atributos complexos**. Vejamos um exemplo:

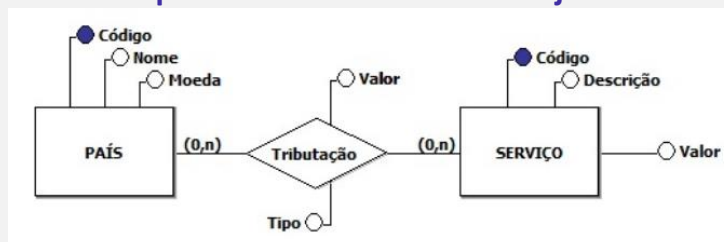
```
{Endereço_telefone({Telefone(Codigo_area, Numero_telefone)},Endereco(Logradouro  
(Numero,Rua,Numero_apartamento),Cidade,Estado,Cep))}
```

Vejam a seguir as representações gráficas dos atributos no modelo entidade-relacionamento. Observe que o segundo tipo se refere a atributo chave. Esse tipo de atributo é caracterizado pela linha usada para sublinhar o atributo dentro da elipse. A ideia é que ele sirva como referência para encontramos uma instância específica de um conjunto de entidades.

CPF é um bom exemplo de chave. Se você me informar seu número de CPF e eu tiver acesso à base de dados da receita, eu conseguirei obter diversas informações a seu respeito. Neste caso CPF é um atributo monovalorado, simples e armazenado.



(Ministério da Economia – Especialista em Gestão de Projetos - 2020)



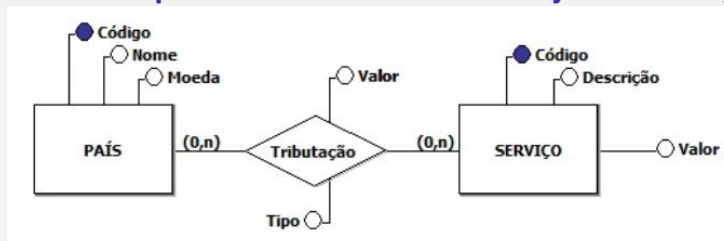
Com relação às informações contidas no modelo conceitual precedente, julgue o próximo item.

O modelo em questão apresenta um erro de construção, porque existem atributos declarados com nomes idênticos, o que impossibilita transformá-lo em um modelo lógico.

Comentários: Não existe nenhum erro no modelo em questão. É perfeitamente possível que, em entidades distintas, existam atributos com o mesmo nome.

Gabarito: ERRADO

(Ministério da Economia – Especialista em Gestão de Projetos - 2020)



Com relação às informações contidas no modelo conceitual precedente, julgue o próximo item.

No tipo de modelo apresentado, é permitido que atributos sejam declarados tanto em entidade quanto em relacionamento.

Comentários: Os atributos são descrições ou características dos objetos e dos relacionamentos em um modelo conceitual. Logo, podemos incorporar ou associar os atributos às entidades e aos relacionamentos.

Gabarito: CERTO



RELACIONAMENTOS

Agora vamos tratar dos **relacionamentos** que são usados para associações entre as entidades. No diagrama ER, os relacionamentos são representados por losangos. Observe a figura abaixo, ela representa um relacionamento entre duas entidades.



Figura 1 - Exemplo de relacionamento.

Perceba que cada departamento pode ter várias pessoas. Cada par que relaciona uma instância de pessoa a um departamento específico é denominado **ocorrência**.

Eles podem ser classificados das seguintes formas:



Quanto ao **grau** que representa o **número de entidades** que participam desse relacionamento. Podendo ser unário, binário, ternário ..

Quanto à **razão de cardinalidade** quando, analisando um relacionamento binário, podemos especificar o número máximo de instâncias de cada entidade presente no relacionamento, este valor é definido como razão de cardinalidade. Podendo receber os seguintes valores: 1:1, 1:N, N:1 e M:N.

A **cardinalidade** pode ser visualizada no diagrama conforme a figura abaixo. O diagrama apresenta entre parênteses dois números naturais. O primeiro representa a **cardinalidade mínima** e o segundo a **cardinalidade máxima**. Perceba que se o primeiro número for zero teremos um relacionamento **opcional**, caso seja maior ou igual que um teremos um relacionamento **obrigatório**.





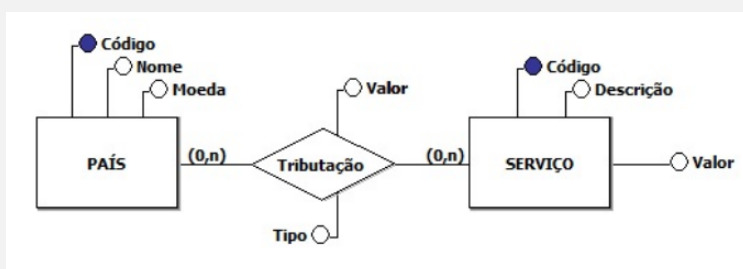
"Uma editora **pode** publicar N livros.
Um livro é **obrigatoriamente** publicado por no máximo 1 editora."

Vamos agora fazer mais uma questão sobre o assunto:

HORA DE PRATICAR!



Ministério da Economia – Especialista em Gestão de Projetos - 2020)



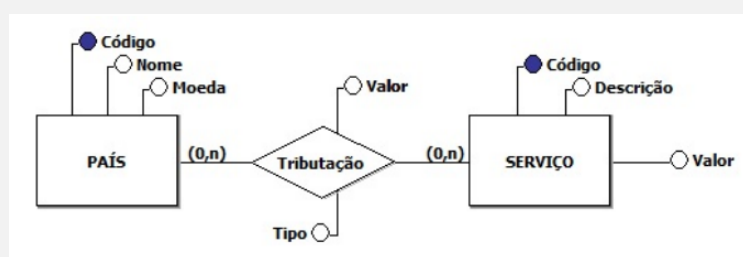
Com relação às informações contidas no modelo conceitual precedente, julgue o próximo item.

Um PAÍS pode, ou não, tributar um SERVIÇO.

Comentários: A cardinalidade mínima do relacionamento é zero, desta forma, é possível existir um país que não tribute determinado serviço.

Gabarito: CERTO

(Ministério da Economia – Especialista em Gestão de Projetos - 2020)



Com relação às informações contidas no modelo conceitual precedente, julgue o próximo item.



Todos os serviços, independentemente do tipo de cada um deles, são tributados por todos os países

Comentários: Perceba que essa é uma questão de interpretação da cardinalidade mínima do relacionamento. Para todos os serviços serem tributados o relacionamento deveria ser obrigatório, quando na realidade é opcional. Assim, cada serviços pode ou não ser tributado dependendo da legislação tributária do país em questão. Logo, temos uma alternativa errada.

Gabarito: ERRADO.

(Ano: 2017 Banca: CESPE Órgão: TRE-PE Prova: Analista Judiciário - Análise de Sistemas)
Assinale a opção que corresponde ao tipo de restrição de integridade expressa no próprio diagrama de entidades e relacionamentos no modelo relacional.

dependência

enumeração

normas de aceitação

cardinalidade

repetição

Comentário: Observe que, pelas definições que acabamos de explicar a alternativa que se adequa melhor a nossa questão está na letra D.

Gabarito: D.

Autorrelacionamento ou relacionamento recursivo.

Outra situação importante que podemos encontrar em um modelo conceitual é o **auto relacionamento**. Neste caso o diagrama representa um relacionamento entre uma entidade e ela mesma. Ou seja, quando um tipo entidade participa mais de uma vez de um relacionamento em **papéis diferentes**. O papel de entidade em relacionamento é a função que uma instância da entidade cumpre dentro de uma instância do relacionamento. Vejamos um exemplo de papéis em um auto relacionamento:



Figura 2 - Auto Relacionamento com papéis.



Um outro exemplo desta afirmação é o relacionamento gerência do tipo de entidade empregado. Para entender melhor esta situação vamos fazer uma questão do CESPE sobre o assunto:

HORA DE PRATICAR!



(Ano: 2016 Banca: CESPE Órgão: TRE-PI Prova: Analista Judiciário - Análise de Sistemas)

Considere que existe uma entidade PESSOA com um relacionamento denominado CASAMENTO que pode associar diversas ocorrências na mesma entidade PESSOA. De acordo com as propriedades do diagrama entidade-relacionamento, o conceito desse relacionamento (CASAMENTO) pode ser definido como generalização.

relacionamento binário.

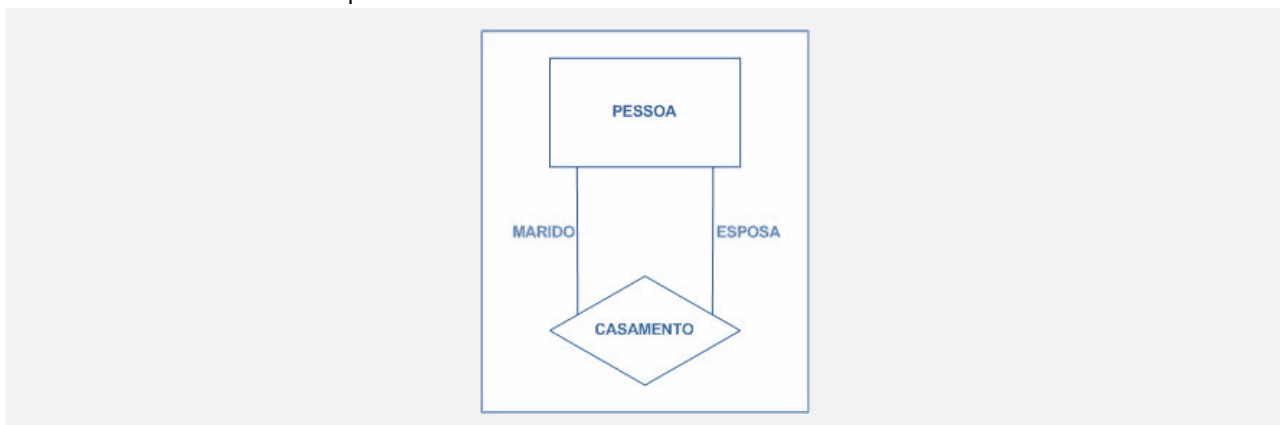
autorrelacionamento.

entidade associativa.

especialização.

Comentário:

Observamos que CASAMENTO é um relacionamento que envolve duas ocorrências da entidade PESSOA. Para facilitar o entendimento, em geral costumamos identificar o papel de cada entidade no relacionamento (para o exemplo, marido e esposa). Veja a figura abaixo para fixar ainda mais o conteúdo em questão:



Após essa rápida análise, podemos assinalar o gabarito na alternativa C.

Gabarito: C.

Agora vamos fazer mais um esquema para descrever os relacionamentos



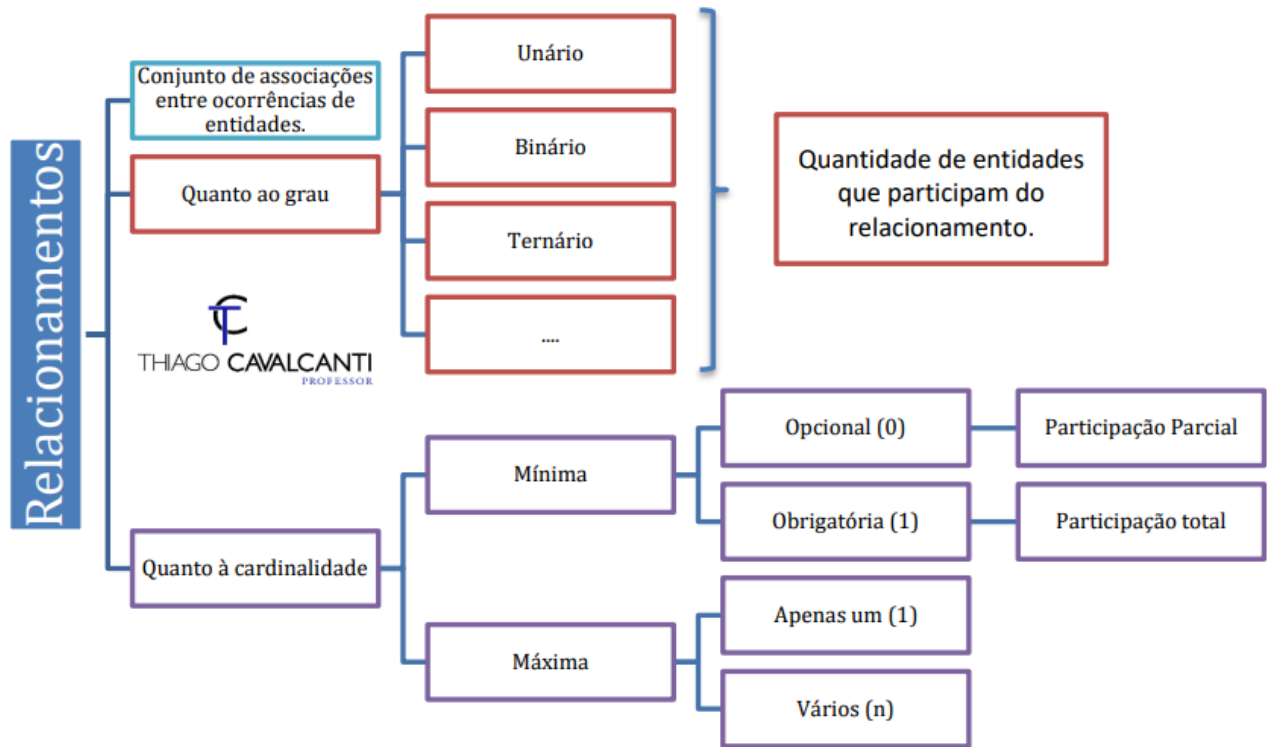


Figura 3 - Resumo dos relacionamentos



ENTIDADE FORTE X ENTIDADE FRACA

Vamos agora tratar do conceito de entidade fraca e forte.

Uma **entidade fraca** não possui entre seus próprios atributos um conjunto que possa ser definido como chave primária. São identificadas por estarem relacionadas a entidades específicas de outro tipo entidade conhecidas como **entidade forte**. Geralmente um atributo da entidade forte faz parte da chave primária da entidade fraca.

Obs.: Veja que a entidade fraca pode ter um atributo-chave, que vai fazer parte da chave primária no modelo relacional (veremos isso na próxima aula) contudo para compor a sua chave primária, que consegue identificar univocamente uma instância da entidade, você precisa da ajuda de um ou mais atributos da entidade forte.

Entidade forte ou **identificador/proprietária**. Pode ser definida como uma entidade que consegue especificar sua chave primária dentro do conjunto dos seus atributos. Uma observação importante é que chamamos o tipo relacionamento entre a entidade fraca e seu tipo proprietário de **relacionamento identificador**.

Vejam um exemplo de entidade fraca e relacionamento identificador. O exemplo abaixo mostra que o conjunto de entidades *Ementa* só existe se existirem *Disciplinas*, portanto, a participação no relacionamento *Possui* é obrigatória.

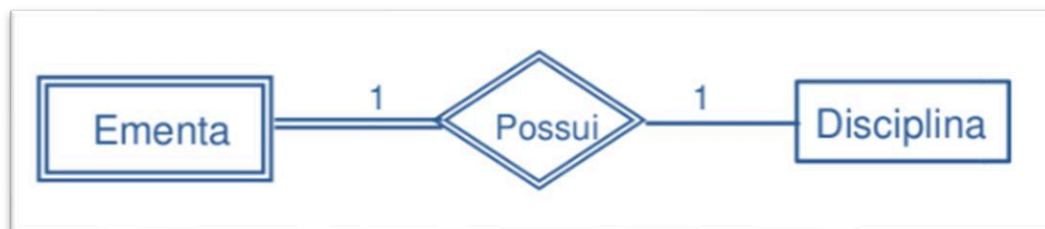


Figura 1 - Relacionamento identificador e entidade fraca

Antes de darmos continuidade ao nosso assunto, vamos ver como a FCC já cobrou esse assunto em provas anteriores.

HORA DE PRATICAR!



BANCA: FCC ANO: 2015 ÓRGÃO: TRT - 15ª REGIÃO (CAMPINAS-SP) PROVA: TÉCNICO JUDICIÁRIO - TECNOLOGIA DA INFORMAÇÃO

O modelo E-R utiliza alguns conceitos básicos como entidades, atributos e relacionamentos. Os atributos podem ser classificados em obrigatórios, opcionais, monovalorados, multivalorados, simples ou compostos. Nesse contexto, uma entidade chamada Empregado possui os atributos ID, Nome, TelefonesContato, CNH e Endereço. Os atributos TelefonesContato e Endereço são classificados, respectivamente, em

A monovalorado e multivalorado.

B simples e multivalorado.

C multivalorado e composto.

D obrigatório e opcional.

E composto e multivalorado.

Comentário:

Essa questão está avaliando o entendimento de atributos em modelos ER. A questão fala de dois atributos específicos: TelefonesContato e Endereço.

Começando pelo TelefonesContato, imagine uma lista de telefones pertencentes a uma determinada pessoa: 6134432323, 6134564343, 6132423234. Veja que eles são um conjunto de valores do mesmo tipo. Esse tipo de atributo é conhecido como multivalorado.

O outro atributo é o Endereço, pense no endereço da sua casa. Ele geralmente é composto de um nome de rua, número, bairro, cidade e cep. Veja que o atributo possui uma sequência de valores de tipos diferentes, por isso chamamos ele de composto.

Considerando os dois parágrafos anteriores temos multivalorado e composto como resposta para a questão.

Gabarito: C.

Melhorias no Modelo E-R

Os diagramas ER discutidos até agora representam **os conceitos básicos de um esquema de banco de dados**. No entanto, alguns aspectos de um banco de dados, tais como herança entre os vários tipos de entidade não podem ser expressos utilizando o modelo básico ER. Estes aspectos podem ser expressos através de uma evolução do modelo ER. Os diagramas resultantes são conhecidos como diagramas ER estendido e o modelo é chamado de modelo EER.

O modelo básico ER pode representar os aplicativos de banco de dados tradicionais, tais como a aplicação de processamento de dados típico de uma organização. Por outro lado, o modelo EER é usado para representar as aplicações novas e complexas de banco de dados, tais como telecomunicações, Sistemas de Informação Geográfica (GIS), etc. Esta seção discute os recursos dos modelos ER estendido, incluindo especialização, generalização e agregação e sua representação utilizando EER diagramas.



Especialização e generalização

Em algumas situações, um tipo de entidade pode ser visto como agrupamentos de outras entidades, de tal maneira as entidades de nível inferior possuem todas as características da entidade de nível superior. Por exemplo, o tipo de entidade BOOK (livro) pode ser classificado em três tipos, a saber, TEXTBOOK, LANGUAGE_BOOK, e NOVEL. Estes tipos de entidade são descritos por um conjunto de atributos que inclui todos os atributos do tipo de entidade livro e um conjunto adicional de atributos que os diferenciam uns dos outros.

Estes atributos adicionais são também conhecidos como **atributos locais ou específicos**. Por exemplo, o tipo de entidade TEXTBOOK pode ter o atributo adicional Assunto (por exemplo, Computação, Matemática, Ciências, etc.), LANGUAGE_BOOK pode ter o atributo Idioma (por exemplo, francês, alemão, japonês, etc.), e a entidade do tipo NOVEL (romance) pode ter um atributo TIPO (Ficção, Mistério, Fantasia, etc.). Este processo de definir os subgrupos de um determinado tipo de entidade é chamado especialização.

O tipo de entidade que contém os atributos comuns é conhecido como **superclasse**, e o tipo de entidade que é um subconjunto da superclasse, é conhecida como a sua **subclasse**. Por exemplo, o tipo de entidade livro é uma superclasse e os tipos de entidade TEXTBOOK, LANGUAGE_BOOK e NOVEL são suas subclasses. Este processo de refinar os tipos de entidade de nível superior (superclasse) em tipos de entidade de nível inferior (subclasse), adicionando alguns recursos adicionais para cada um deles é uma abordagem de projeto *top-down*.

O processo de design também pode seguir uma abordagem *bottom-up* no qual vários tipos de entidade de nível mais baixo são combinados com base em características comuns para formar os tipos de entidade de nível superior. Por exemplo, o designer de banco de dados pode identificar primeiro o tipo de entidade TEXTBOOK e em seguida os tipos LANGUAGE_BOOK e NOVEL e, por fim, combinar os atributos comuns destes tipos de entidades para formar uma entidade de nível superior BOOK. Este processo é conhecido como generalização.

TOME NOTA!



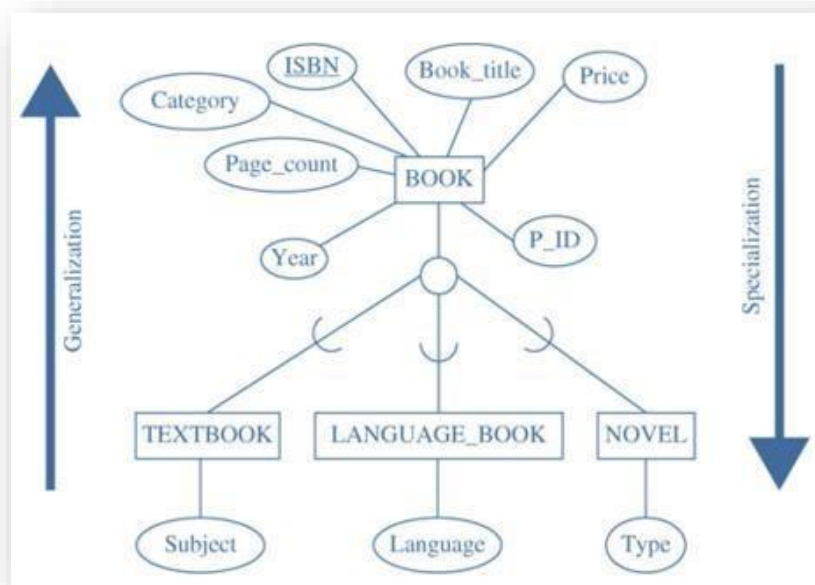
Em termos simples, a **generalização** é o inverso da **especialização**.

As duas abordagens são diferentes em termos de partida e ponto final. Especialidade começa com um único tipo de entidade de nível mais alto e termina com um conjunto de tipos de entidades de nível inferior que têm alguns atributos adicionais que as distinguem umas das outras.

Generalização, por outro lado, inicia-se com a identificação de um número de tipos de entidade de nível mais baixo e termina com o agrupamento dos atributos comuns para formar um único tipo de entidade de nível mais alto. A generalização representa as semelhanças entre os tipos de entidade de nível inferior. No entanto, suprime as suas diferenças.



Especialização e generalização podem ser representadas graficamente, com a ajuda de um diagrama ERE em que a superclasse está ligada por uma linha a um círculo, que por sua vez está ligado por uma linha a cada subclasse que foi definida. O símbolo em forma de 'U' em cada linha que liga uma subclasse ao círculo indica que a subclasse é um subconjunto da superclasse. O círculo pode ser vazio ou pode conter um símbolo "d" (para disjunção) ou "o" (para sobreposição). Vejam a figura abaixo para esclarecer a nossa explicação.



Antes de falarmos mais detalhes sobre disjunção e sobreposição vamos definir o que vem a ser atributo de herança. Como discutido anteriormente, os tipos de entidade de nível superior e de nível inferior são criados com base em seus atributos. O tipo de entidade de nível superior (ou superclasse) tem os atributos que são comuns a todos os seus tipos de entidade de nível mais baixo (ou subclasses). Esses atributos comuns da superclasse são herdados por todas as suas subclasses. Esta propriedade é conhecida como **atributo de herança**.

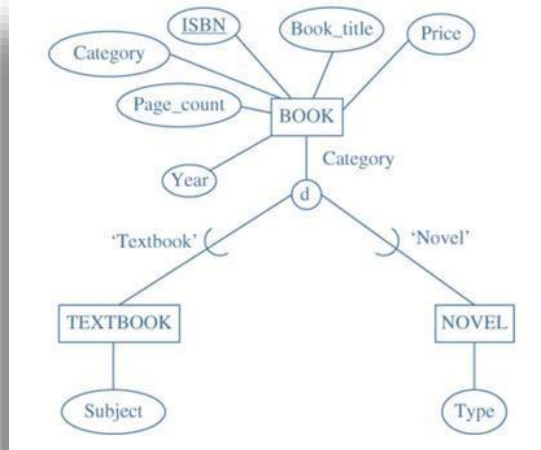
Disjunção e sobreposição

Dois tipos de restrições, denominados, disjunção e sobreposição, podem ser aplicados a uma especialização. Estas restrições determinam se uma instância de entidade de nível superior pode ou não pertencer a mais de um tipo de entidade de nível mais baixo dentro de uma única especialização.

Restrição de disjunção: Esta restrição define que a mesma instância de entidades de nível superior **não pode pertencer a mais de um tipo de entidade** de nível inferior. Isto é, a subclasse de qualquer superclasse deve ser separada. Por exemplo, uma entidade do tipo BOOK pode pertencer a um TEXTBOOK ou NOVEL, mas não a ambos. Uma especialização definida por um atributo em que na definição deste atributo ele possua um valor único implica em uma restrição de disjunção. A restrição de disjunção é representada por um símbolo "d" escrito em um círculo num diagrama ERE como mostrado na figura.

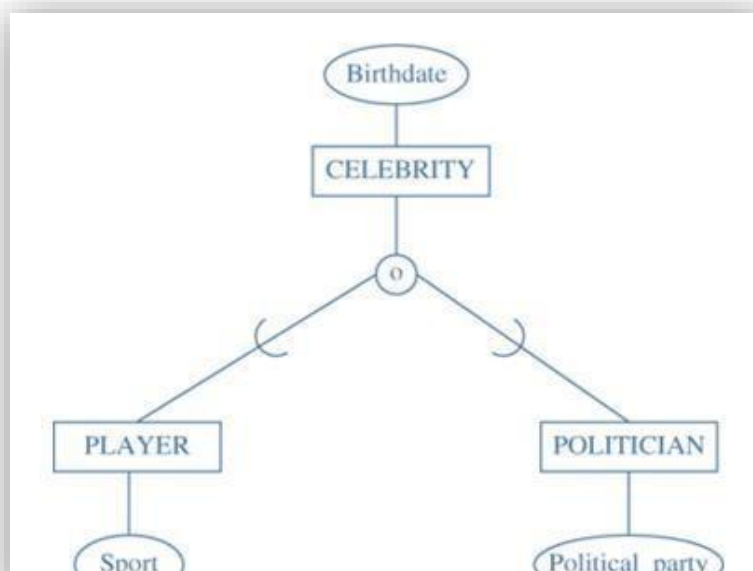


FIQUE ATENTO!



Restrição de sobreposição: Esta restrição estabelece que a mesma instância de entidades de nível superior **pode pertencer a mais de um tipo de entidade** de nível inferior. Isto é, as subclasses de qualquer superclasse não precisam ser separadas e as entidades podem se sobrepor uma à outra.

Em termos de diagrama ERE, a restrição de sobreposição é representada por um símbolo 'o' escrito em um círculo que une à superclasse com suas subclasses. Por exemplo, os tipos de entidade PLAYER e POLITICIAN mostram uma restrição de sobreposição, uma celebridade pode ser um jogador bem como um político (ver figura). Da mesma forma, uma entidade do tipo BOOK pode pertencer a ambos TEXTBOOK e LANGUAGE_BOOK, desde que o livro sobre idioma também possa ser um livro prescrito em uma disciplina.



HORA DE PRATICAR!



(Ano: 2016 Banca: CESPE Órgão: TRE-PI Prova: Técnico Judiciário - Operação de Computadores)
Acerca do modelo entidade-relacionamento estendido, assinale a opção correta.

Uma restrição de disjunção pode ser aplicada a uma especialização, na qual deve ser especificado que as subclasses da especialização devem ser mutuamente exclusivas.

A generalização é o resultado da separação de um tipo-entidade de nível mais alto — superclasse — e forma vários tipos-entidades de nível mais baixo — subclasse.

Uma entidade, que é membro de uma subclasse, nem sempre herda todos os atributos da entidade como um membro da superclasse.

O modelo em questão incorpora conceitos de modelagem entidade-relacionamento, herança, encapsulamento e polimorfismo.

A simbologia do referido modelo é a mesma do modelo entidade-relacionamento, não havendo novas representações.

Comentário. Observem que essa questão trata do assunto que acabamos de estudar. A restrição de disjunção afirma que uma instância de entidade só pode ser especializada para apenas um dos subtipos. Já a sobreposição permite que uma instância possua as características de mais de uma classe filha. Analisando as alternativas acima podemos afirmar que o gabarito se encontra na alternativa A.

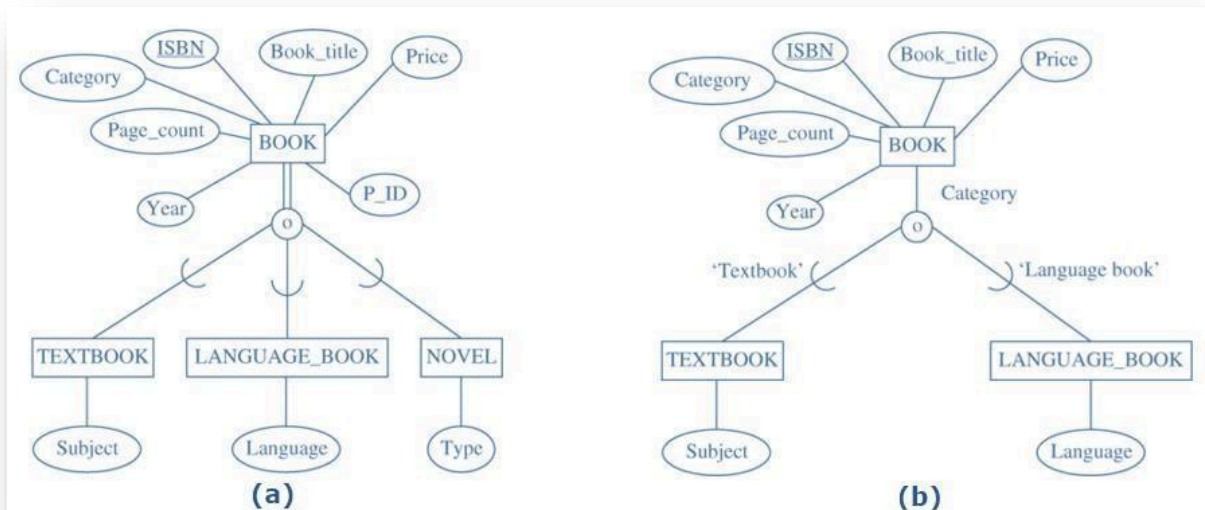
Gabarito: A

A última restrição que pode ser aplicada à generalização ou especialização, é a restrição à participação ou integralidade. Ela determina se uma entidade no conjunto de entidades de nível superior deve ou não pertencer a, pelo menos, um dos conjuntos de entidades de nível inferior. A restrição de participação pode ser total ou parcial.

Especialização Total: Especifica que cada entidade de nível superior deve pertencer a, pelo menos um, dos tipos de entidade de nível inferior na especialização. A Figura (a) mostra a especialização total do tipo de entidade BOOK. Aqui, cada elemento da entidade livro deve pertencer a um ou outro TEXTBOOK ou LANGUAGE BOOK ou NOVEL. A especialização total é representada por linhas duplas que ligam a superclasse com o círculo.

Especialização parcial: Ela permite que algumas das instâncias de tipo de entidade de nível superior não pertençam a qualquer um dos tipos de entidade de nível inferior. A figura (b) mostra a especialização parcial do tipo de entidade BOOK, como todos os livros não necessariamente pertencem às categorias TEXTBOOK ou LANGUAGE BOOK, alguns podem pertencer à categoria NOVEL, por exemplo.





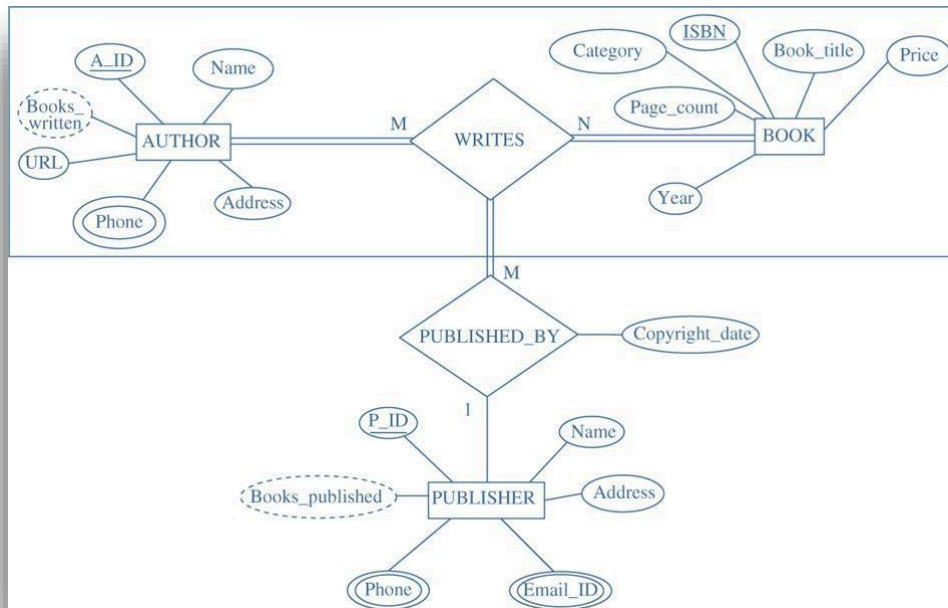
Agregação/Entidade Associativa

Os diagramas ER discutidos até agora representam as relações entre duas ou mais entidades. Um diagrama de ER não pode representar os relacionamentos entre relacionamentos. No entanto, em algumas situações, é necessário utilizar algum artifício para representar uma relação entre os relacionamentos. A melhor forma de representar estes tipos de situações é por meio da **agregação**. O processo através do qual podemos tratar os relacionamentos como entidades de nível superior é conhecido como agregação.

Por exemplo, em um banco de dados de livros (BOOK), o relacionamento ESCREVE, entre as entidades autor e livros, pode ser tratado como uma entidade de nível superior chamada ESCREVE (WRITES). O relacionamento ESCREVE e as entidades autor e livros são agregados em um único tipo de entidade para mostrar o fato de que uma vez que o autor escreveu um livro só então o livro poderá ser publicado.

O tipo de relacionamento PUBLISHED_BY pode ser mostrado entre o tipo de entidade editor e ESCREVE como mostrado na figura abaixo. O tipo de relacionamento PUBLISHED_BY é um relacionamento muitos-para-um. Isso implica que um livro escrito por um grupo de autores pode ser publicado por uma única editora; no entanto, um editor pode imprimir muitos livros escritos por diferentes autores.





(Ministério da Economia – Especialista em Gestão de Projetos - 2020)

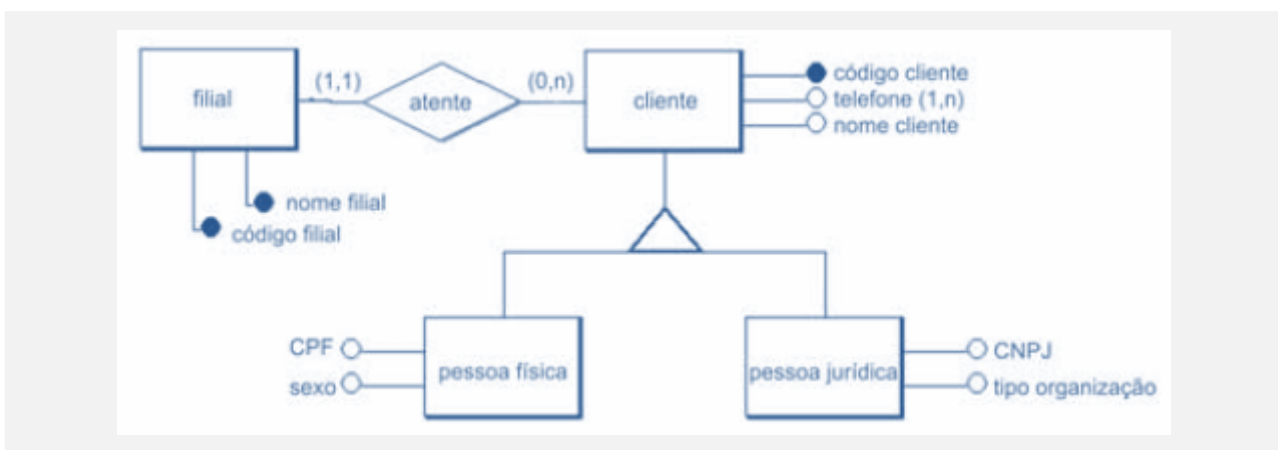
Com relação às informações contidas no modelo conceitual precedente, julgue o próximo item.

A entidade SERVIÇO é um exemplo clássico de entidade associativa ou entidade fraca.

Comentários: No modelo em questão não temos nenhuma entidade fraca ou associativa.

Gabarito: ERRADO

(BANCA: CESPE ANO: 2010 ÓRGÃO: INMETRO PROVA: PESQUISADOR - GOVERNANÇA DE TI)



Considerando a figura acima, que ilustra um modelo conceitual, assinale a opção correta. As entidades pessoa física e pessoa jurídica são exemplos de generalização/especialização, conceito que envolve a ideia de herança de propriedades. Herdar propriedades significa que



cada ocorrência da entidade especializada possui, além de suas propriedades (atributos, relacionamentos e generalizações ou especializações), também as propriedades de ocorrência da entidade genérica correspondente.

B A cardinalidade do relacionamento entre filial e cliente define que pode existir filial sem clientes, e ainda, que os clientes podem existir sem estar vinculados a nenhuma filial.

C Telefone é exemplo de atributo opcional.

D No modelo apresentado, entidades, relacionamentos, cardinalidade e identificadores estão corretos e consistentes.

E As entidades cliente, pessoa física e pessoa jurídica apresentam relacionamento do tipo ternário ou de grau maior, que são modelados usando-se uma entidade associada, por meio de relacionamentos binários, a cada uma das entidades que participam do relacionamento ternário.

Comentário. Primeiramente gostaria de fazer um comentário sobre o diagrama da questão. Quando apresentamos esse tipo de notação, os círculos pretos representam atributos chave das entidades e os círculos brancos representam atributos não chave. Outro ponto é a presença da restrição estrutural definindo os valores mínimos e máximos de cada entidade no relacionamento. Feito as considerações vamos analisar as alternativas, começando pela letra A que é a nossa resposta. Vejam que o examinador quer saber se você entende que, quando temos especializações dentro de um diagrama conceitual, as entidades que são subclasses herdam os atributos e relacionamentos das suas superclasses.

A letra B faz uma leitura errada do relacionamento entre cliente e filial. O correto seria dizer que uma filial atende a zero até n clientes e um cliente é atendido por uma e apenas uma filial.

Para responder a alternativa C precisamos entender o que significa o " (1,n) " ao lado do atributo telefone da entidade cliente. Podemos dizer que ele representa um atributo multivalorado, pois um cliente pode ter mais de um telefone obrigatório, pois cada cliente precisa ter, no mínimo, um telefone.

Na alternativa D temos que encontrar um erro no diagrama. Precisamos verificar que o nome filial está grafado como chave primária da entidade filial, o que não faz sentido. Portanto o diagrama não está 100% correto.

Por fim, a alternativa E, as entidades listadas não representam um relacionamento ternário, é sim uma relação de generalização/especialização.

Gabarito: A.



OUTRAS REPRESENTAÇÕES CONCEITUAIS

Apresentaremos abaixo outras opções de notações conceituais que estão presentes na maioria das ferramentas de modelagem. Optei por mantê-las aqui apenas para que você possa usar como fonte de consulta rápida quando estiver resolvendo questões sobre modelagem conceitual.

Notação de Barker

Nós usamos o termo notação de Barker (*Barker Notation*) para a notação conceitual discutida no tratamento clássico de Richard Barker (1990). Essa notação tem sua origem no final da década de 1980 no *CACI* no Reino Unido, a notação foi adotada mais tarde pela Oracle Corporation em suas ferramentas de projeto (*CASE - Computer-Aided Software Engineering*).

A Oracle agora suporta UML - *Unified Modeling Language* - como uma alternativa para a notação Barker ER, embora para aplicações de banco de dados, muitos projetistas ainda preferem a notação Barker em vez de UML. A Embarcadero adicionou suporte básico para a notação Barker em seu produto EA/Studio. Embora existam dezenas de dialetos ou notações alternativas ao modelo ER, consideramos a notação Barker pode ser uma das melhores notações de ER, pois tem amplo apoio na indústria.

As convenções básicas estão ilustradas na figura abaixo. Tipos de entidade são mostrados como retângulos de cantos arredondados com seu nome em letras maiúsculas. Os atributos são escritos abaixo do nome do tipo de entidade. Algumas informações de restrição podem aparecer antes de um nome de atributo. Um "#" indica que o atributo é a chave primária da entidade, ou um componente da chave.

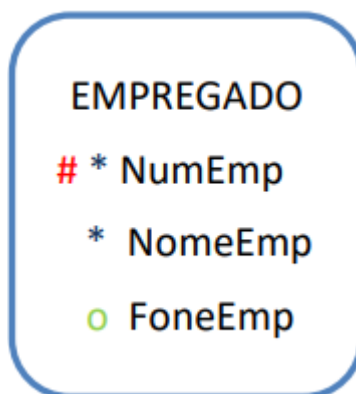


Figura 1 - Entidade na notação de Barker

O "*" ou ponto escuro "•" indica que o atributo é **obrigatório** (ou seja, cada instância na população banco de dados do tipo de entidade deve ter um valor **não nulo** registrado para este atributo). Um "o" indica que o atributo é **opcional**. Alguns projetistas utilizam um ponto "." para indicar que o atributo não é parte do identificador ou da chave. Outra característica é que os nomes dos atributos não podem se repetir na mesma entidade.

As relações são restritas a relacionamentos binários (sem unários, ternários ou relacionamentos mais longos) e são descritos por linhas, que podem ser contínuas ou tracejadas, com um nome que representa o papel da entidade no relacionamento. Esta colocação de nome supera o problema de ambiguidade na descrição do relacionamento. Assim, ambas as leituras da direita

para a esquerda ou em sentido inverso podem ser exibidas e descritas em uma relação binária, cada qual em uma das extremidades da linha. Isso faz com que a notação Barker seja superior a UML para verbalizar relacionamentos. Vejam um exemplo na figura abaixo:

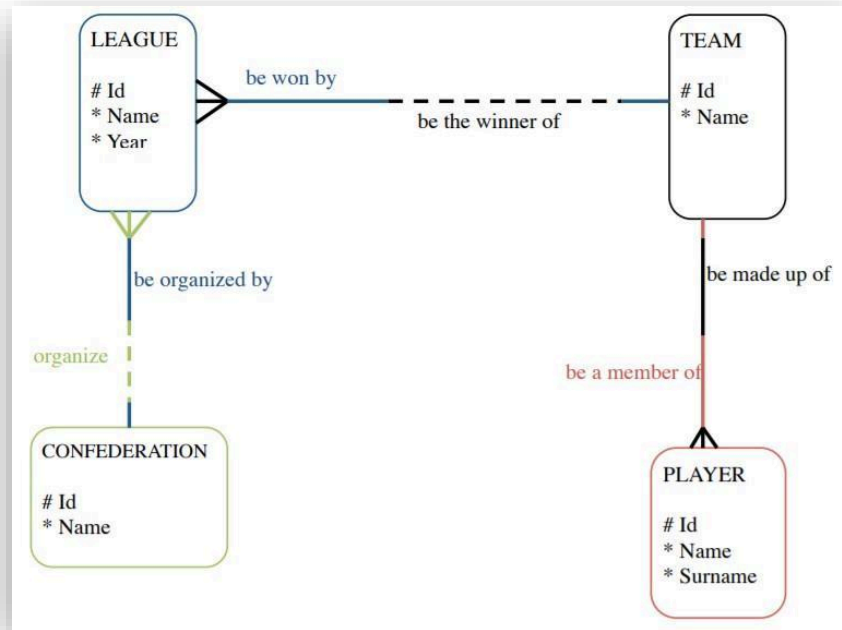


Figura 2 - Notação de Barker

Na figura acima podemos observar uma linha tracejada e uma linha contínua. Os relacionamentos são classificados da seguinte forma:

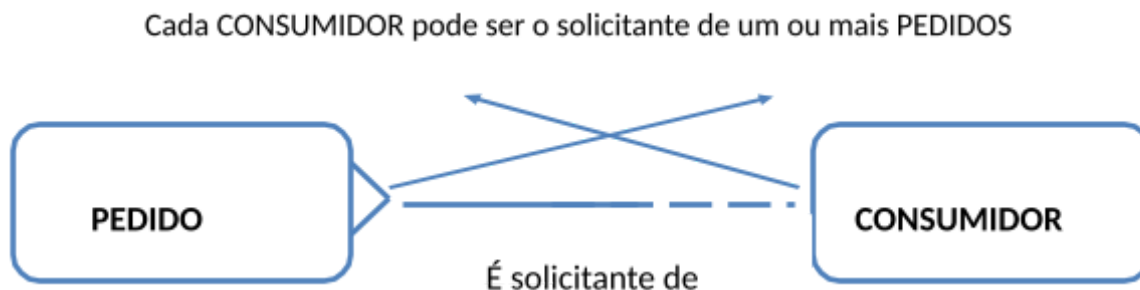
1. **Relacionamento Obrigatório:** Um relacionamento obrigatório especifica que cada instância de uma entidade deve estar relacionada a outra instância. Isso é representado por uma linha reta. Veja o caso entre times e jogadores. Cada jogador deve ser membro de um time. E um time deve ter pelo menos um jogador.
2. **Relacionamento Opcional:** Um relacionamento opcional especifica que cada instância de uma entidade pode estar relacionada a outra instância. Isso é representado por uma linha tracejada. Nesta situação, uma confederação pode organizar uma ou várias ligas, contudo, uma liga deve ser organizada (OBRIGATORIAMENTE) por uma confederação associadas a mesma.

Uma coisa interessante da notação de Barker é a leitura das cardinalidades mínima e máxima. Perceba na figura abaixo:

Cada PEDIDO deve ser feito por um e apenas um COSUMIDOR



Talvez não tenha ficado tão claro ainda. Vamos ver um exemplo com um relacionamento de cardinalidade máxima N (muitos). O que eu quero que você perceba, é que, diferentemente da cardinalidade mínima do modelo E-R tradicional, na notação de Barker a obrigatoriedade e a cardinalidade máxima estão de lados opostos da figura.

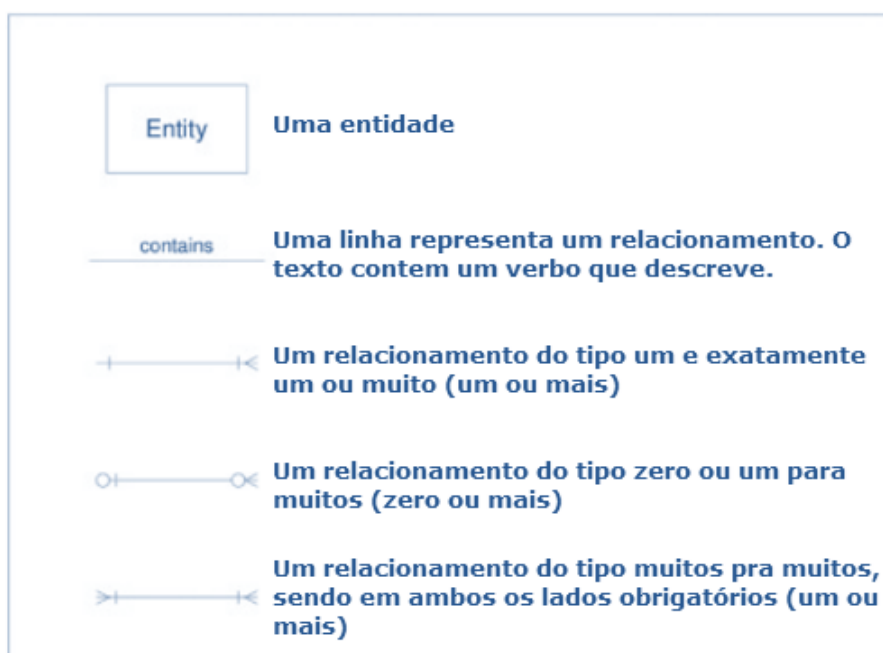


A figura acima apresenta um relacionamento com uma **cardinalidade opcional** e com **múltiplos valores**. Portanto, uma **linha tracejada** é desenhada do lado da entidade consumidor e a sentença de relação "é solicitante de" que descreve o papel é escrita abaixo desta linha. Um **pé de galinha** é desenhado ao lado da entidade PEDIDO para mostrar a relação de **múltiplos valores**. Já um pedido **deve** (linha contínua) ser solicitado por um e apenas um consumidor.

A notação de Barker apareceu muito pouco em provas de concursos. Use o texto acima como referência para seus estudos. Vamos em frente!

Notação de Pé-de-galinha

Outras notações podem ser usadas para representar modelos conceituais, uma das opções mais conhecidas é muito usada para representar relacionamento entre entidades. Conhecida no português como diagrama pé-de-galinha ou, no inglês, *crows feet notation*. Apresentamos a seguir uma explicação gráfica dos principais elementos desta notação.

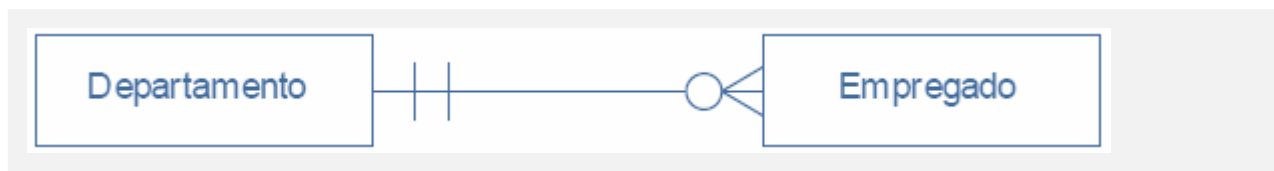


HORA DE PRATICAR!



(BANCA: FCC ANO: 2015 ÓRGÃO: TRT - 15ª REGIÃO (CAMPINAS-SP) PROVA: TÉCNICO JUDICIÁRIO - TECNOLOGIA DA INFORMAÇÃO)

Para representar o relacionamento entre entidades no modelo E-R, várias notações foram criadas, como a da Engenharia da Informação, criada por James Martin. Com relação a esta notação, considere o relacionamento abaixo.



Neste relacionamento,

A podem haver departamentos cadastrados sem nenhum empregado relacionado a ele. B todo departamento cadastrado deverá ter, obrigatoriamente, pelo menos, um empregado.

C um mesmo empregado pode estar associado a muitos departamentos. D somente dois departamentos poderão ser cadastrados.

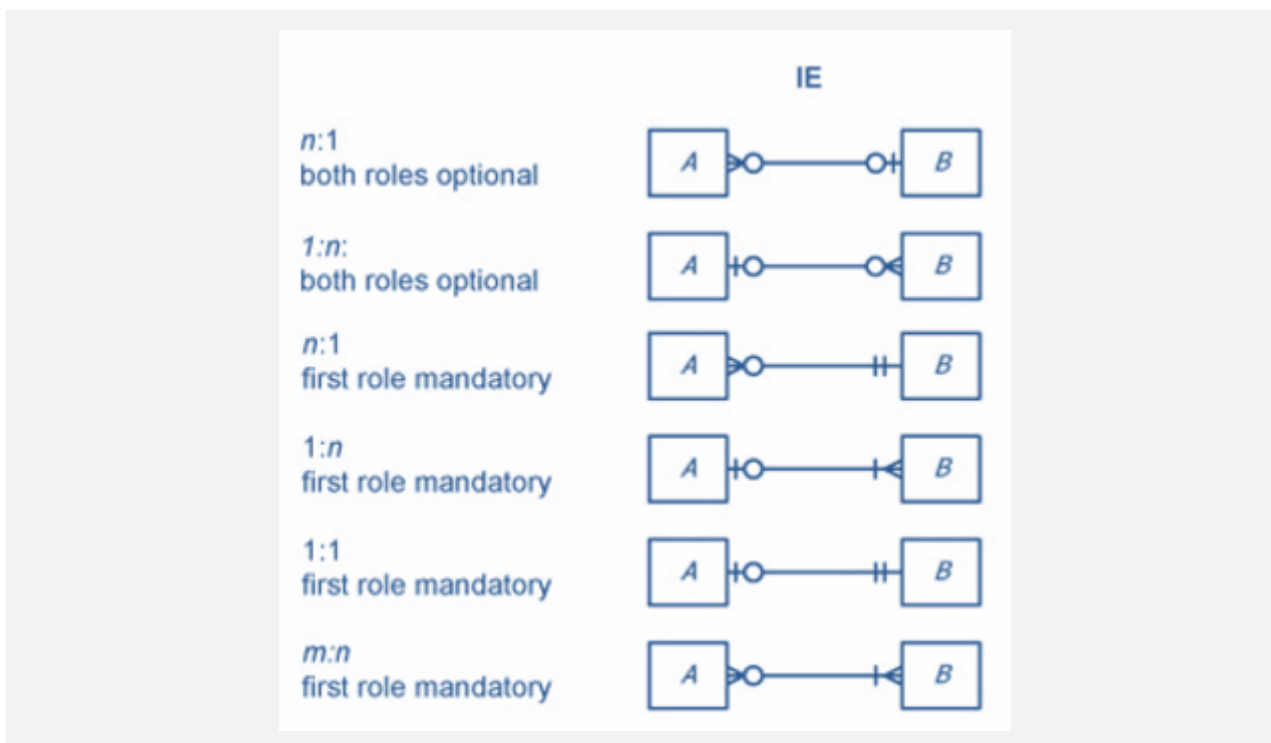
E somente três empregados poderão ser relacionados a cada departamento.

Comentário.

Vamos aproveitar a questão para falar de outra notação conceitual. A abordagem de Engenharia da Informação (EI) ou sistemas de informação começou com o trabalho de Clive Finkelstein na Austrália e do CACI no Reino Unido, mais tarde foi adaptada por James Martin. James ficou conhecido como responsável pelo sucesso e propagação da notação. Existem diferentes versões de notações para EI, sem um padrão único. De uma forma ou outra, a EI é suportada por muitas ferramentas de modelagem de dados e é uma das notações mais populares para o projeto de banco de dados.

A notação de EI é semelhante à notação de Barker, ela apresenta a frequência máxima de um papel através da marcação na extremidade da linha do relacionamento. Mas, ao contrário da notação Barker, a notação da EI apresenta também a possibilidade de configuração opcional/obrigatória. O elemento gráfico mais próximo da entidade representa o número máximo de elementos: apenas um no caso da barra vertical (|) ou vários (\geq ou \leq). O outro elemento gráfico representa a obrigação (|) ou opção (o). Veja a figura abaixo.





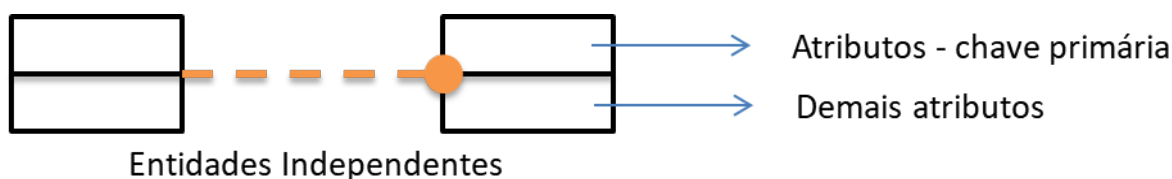
Vejam que pela figura acima podemos inferir do diagrama da questão que pode haver departamento cadastrado sem nenhum empregado associado a ele. Ou ainda, cada departamento possui de zero até n empregados. Agora, por outro lado, cada empregado participa de um e apenas um departamento. Não existe a opção de um empregado existir sem um departamento relacionado. Sendo assim confirmamos nossa resposta na alternativa A.

Gabarito: A

Notação IDEF1X

Vamos aproveitar para apresentar outra notação bastante utilizada em provas de concursos: a **notação IDEF1X**. Embora aplicada no nível conceitual, incorpora em suas raízes muitas características de projeto de banco de dados (modelagem lógica). Sua diagramação depende de conceitos como chaves e dependências de identificação. Seus elementos podem ser divididos em **entidades**, **relacionamentos**, **atributos** e **subtipos/supertipos**.

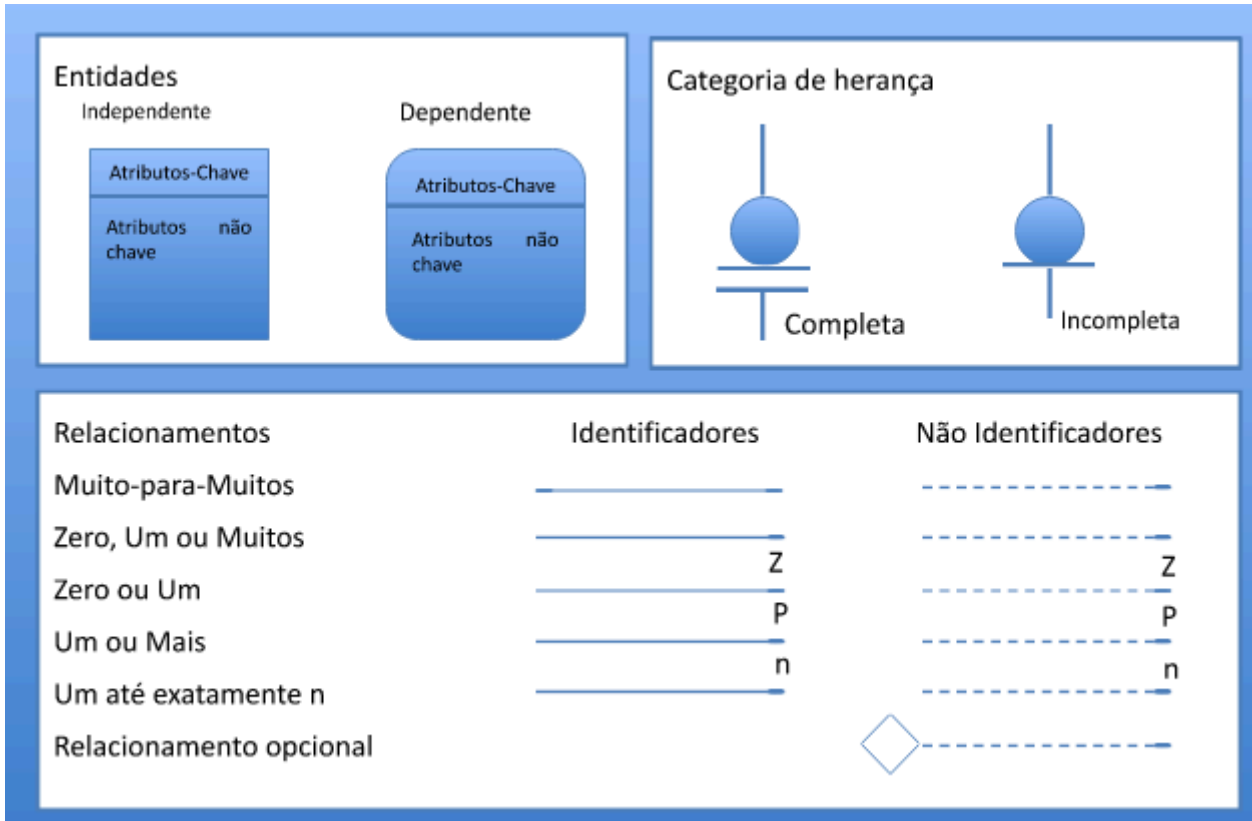
Abaixo temos um exemplo de duas entidades independentes, um relacionamento entre elas e uma descrição dos espaços onde devem aparecer os atributos chaves e os demais atributos em uma entidade.



A figura a seguir mostra como os elementos são definidos para construção de diagramas na notação IDEF1X. Observem que as entidades podem ser segmentadas em **independentes** e

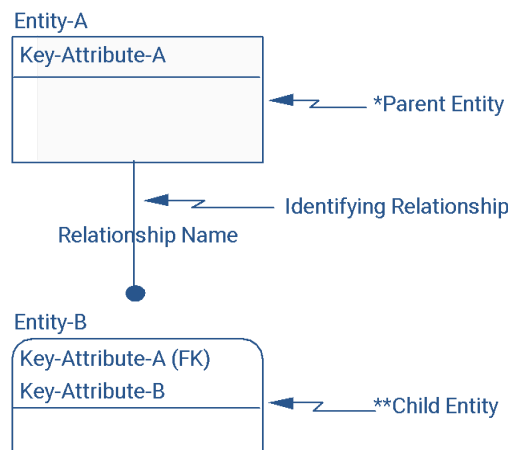


dependentes. Esse conceito se baseia no fato da existência de uma entidade depender da existência de outra (s) entidade (s). Uma entidade dependente precisa de outra entidade independente para existir. Uma entidade **independente**, representada por um retângulo, é aquela que possui existência e identificador (chave) próprio, isto é, não composto por qualquer outro identificador de outra entidade.



Já uma entidade **dependente**, representada por um retângulo com os cantos arredondados, pode ser dependente de identificador ou dependente de existência. A **dependência de identificador** significa que uma entidade necessita para formar sua própria chave identificadora, da chave de outra entidade. Já a **dependência de existência** implica que, para que uma ocorrência de uma entidade filha exista, deverá existir, relacionada a ela, obrigatoriamente, uma ocorrência de entidade pai.

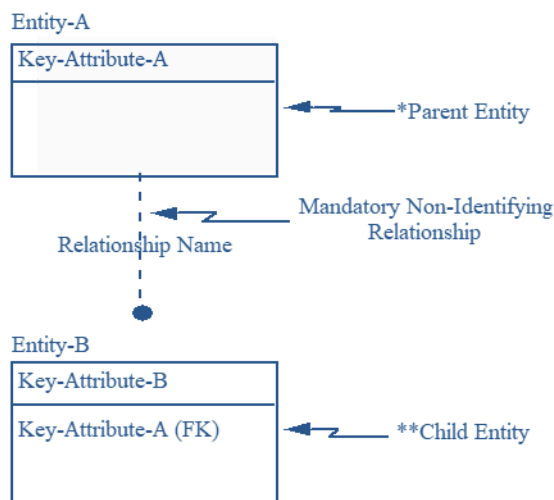
Veja que existe uma sutileza aqui. Para resolver essa diferença vamos observar algumas figuras.



Na figura ao lado, a entidade A “empresta” sua chave primária para a entidade B. Logo, temos um relacionamento identificador, e, logicamente uma dependência de identificador.

Observe que nessa situação a linha que liga as duas entidades é contínua. Isso demonstra a obrigatoriedade do relacionamento.

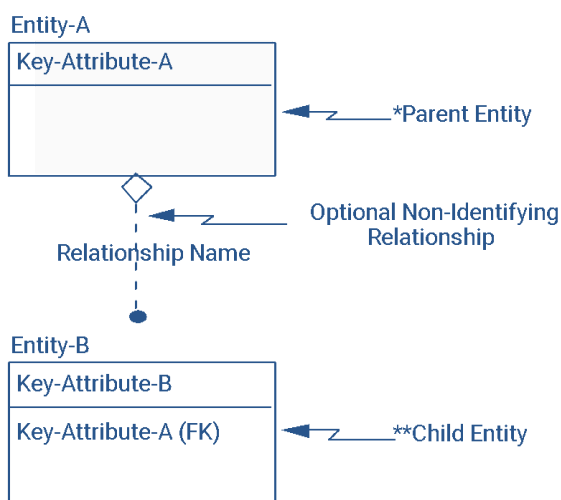
Assim, neste exemplo, a chave primária da entidade pai participa da chave primária da entidade filha!



Uma entidade pai em um **relacionamento não identificado mandatório** pode ser uma entidade independente de identificador (como mostrado na entidade A da figura) ou uma entidade dependente de identificador dependendo dos outros relacionamentos (que não aparece na figura).

A entidade filha em um **relacionamento não identificado mandatório** será sempre uma entidade independente de identificador ao menos que a entidade seja também uma entidade filha em algum outro relacionamento identificador.

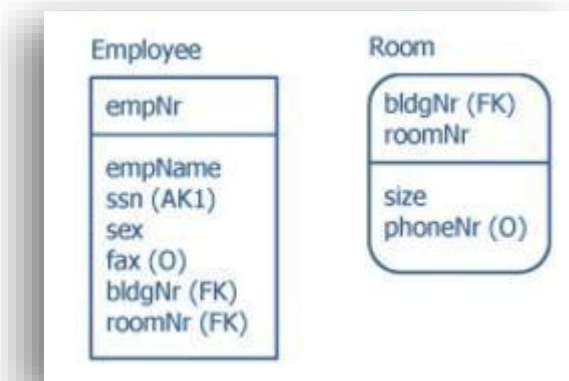
Neste caso, a chave primária da entidade pai **não participa da chave primária da entidade filha, mas é um atributo obrigatório!**



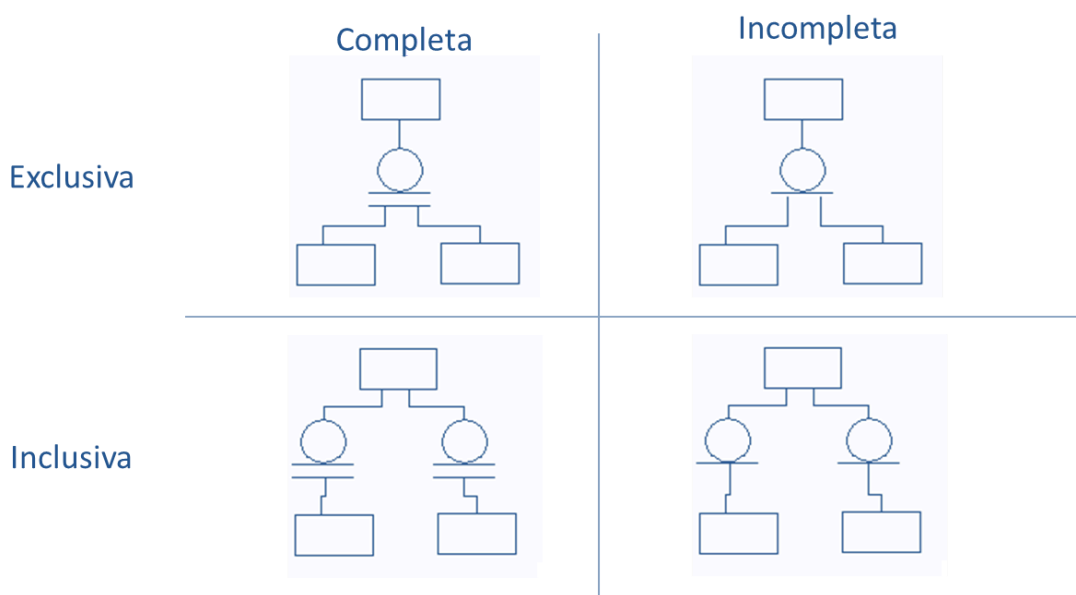
Para finalizar vamos apresentar o **relacionamento opcional não identificado**. Neste caso, a chave primária da entidade pai não participa da chave primária da entidade filha e é um atributo opcional.

Dentro de cada entidade podem aparecer os atributos. Os atributos chave aparecem acima da linha que corta o desenho horizontalmente e os demais atributos aparecem abaixo dessa linha. Podemos colocar após a definição do nome dos atributos os termos (FK), (PK), (AKn), (O). Os três primeiros se referem, respectivamente, a chave estrangeira, chave primária e chave alternativa. O 'n' representa uma numeração atribuída à chave alternativa.

O último termo (O) representa que o atributo em questão é opcional. Vejam a figura abaixo com o exemplo desta nomenclatura.



Na primeira figura apresentamos também a notação de cardinalidade dos relacionamentos e se eles são identificadores ou não. Por fim, abaixo temos uma figura que mostra como o comportamento de herança é descrito. Vejam que temos dois conceitos. O fato de ser uma herança completa ou incompleta, diz respeito ao fato de todos os elementos terem uma especialização. Outro ponto é ser exclusivo ou inclusivo, neste caso analisamos se é permitido ou não que uma entidade tenha mais de uma especialização dentro das possibilidades.



Com isso terminamos nosso estudo de modelagem conceitual, a modelagem conceitual juntamente com o projeto lógico e físico são as principais etapas de um projeto de banco de dados. Veremos os aspectos do projeto lógico quando tratarmos do modelo relacional.


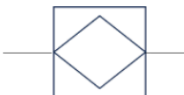

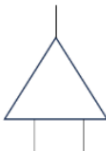



QUESTÕES COMENTADAS - CESPE

1. ISS São José dos Campos/2024/FGV/Auditor

A modelagem de dados é tradicionalmente utilizada em organizações públicas e privadas. As ferramentas de design são baseadas em diagramas ER que adotam, por exemplo, a notação Chen ou a notação pé de galinha.

O símbolo gráfico utilizado para representar uma entidade associativa no diagrama ER, considerando a notação Chen, é

- (A) 
- (B) 
- (C) 
- (D) 
- (E) 

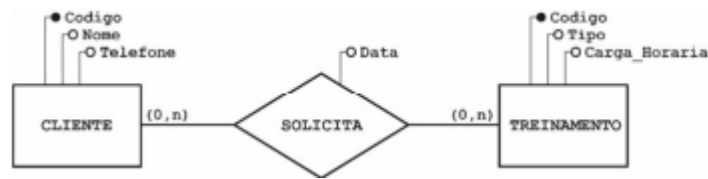
Comentário:

Uma entidade associativa é uma abstração através da qual um tipo de relacionamentos entre duas entidades é tratado como um tipo de entidades em um nível mais alto. Essa “nova entidade”, a entidade associativa, pode, então, relacionar-se com outras entidades do modelo. No modelo padrão, o elemento que representa uma entidade associativa é representado por um retângulo com um losango no meio. Logo, temos a nossa resposta na alternativa B.

Gabarito: B

2. CEBRASPE (CESPE) - AIS (EMPREL)/EMPREL/Banco de Dados/2023





Com relação ao modelo entidade-relacionamento (MER) ilustrado na figura precedente, assinale a opção correta.

- a) Um treinamento pode ser solicitado por no máximo um cliente.
- b) O relacionamento SOLICITA é classificado como ternário.
- c) Um cliente pode solicitar vários treinamentos.
- d) O modelo está representado de forma incorreta, pois não se admite, em um MER, o uso de atributos em relacionamentos.
- e) Na entidade CLIENTE, o atributo Nome é do tipo identificador.

Comentário:

Vamos analisar cada uma das alternativas:

- a) ERRADA! A cardinalidade $(0, n)$ ao lado da entidade cliente indica que um treinamento pode ser solicitado por vários clientes, mas não necessariamente por todos.
- b) ERRADA! O relacionamento SOLICITA é classificado como binário, pois conecta exatamente duas entidades.
- c) A opção está correta. Um cliente pode solicitar vários treinamentos, conforme indicado pela cardinalidade $(1, n)$ do lado do cliente.
- d) ERRADA! No modelo ER, é possível associar atributos a um relacionamento, não apenas a entidades. Essa é uma prática aceitável.
- e) ERRADA! O atributo identificador na entidade CLIENTE é "Codigo", não o atributo "Nome". O atributo identificador é usado para identificar de forma única cada instância da entidade, e no caso dado, "Codigo" desempenha esse papel na entidade CLIENTE.

Gabarito: C

3. CEBRASPE (CESPE) - AIS (EMPREL)/EMPREL/Banco de Dados/2023



Na notação IDEF1X, uma entidade é dependente sempre que sua chave (também conhecida como chave primária) contém a chave completa de pelo menos outra entidade. Nesse contexto, a entidade dependente é representada por

- a) retângulos com os cantos vivos (90 graus).
- b) retângulos com os cantos arredondados.
- c) uma linha pontilhada.
- d) linhas rotuladas com um verbo ou uma frase verbal.
- e) uma linha dupla.

Comentário:

Na notação IDEF1X, entidades dependentes são frequentemente representadas por retângulos com os cantos arredondados. Logo, temos a nossa resposta na alternativa B.

Gabarito: B

4. CEBRASPE (CESPE) - Ana (MPE RO)/MPE RO/Programador/2023



Com relação ao modelo entidade-relacionamento (MER) precedente, assinale a opção correta.

- a) No modelo apresentado existem duas entidades, cinco atributos e dois relacionamentos.
- b) Na entidade PROMOTORIA_JUSTIÇA, o atributo Área de Atuação é do tipo identificador.
- c) Em uma entidade COMARCA, deve existir somente uma entidade PROMOTORIA_JUSTIÇA.
- d) Uma entidade PROMOTORIA_JUSTIÇA pode estar localizada em várias entidades COMARCA.
- e) O modelo em questão apresenta erro de construção, pois em um MER não se pode representar atributos com acentuação.



Comentário:

A partir do texto observa-se um relacionamento N-N (muitos para muitos) entre Promotoria e Comarca. Com isso, uma instância da entidade promotoria_justica pode estar associada a varias instâncias da entidade comarca. Logo, a nossa resposta encontra-se na alternativa D.

Gabarito: D

5. Cebraspe – Técnico – Analista de Sistemas – Desenvolvimento de Sistemas (BNB)/2022

No que se refere aos conceitos de modelagem de dados, julgue o seguinte item.

Modelo físico é o modelo de dados que representa a estrutura de dados de um banco de dados conforme vista pelo usuário do sistema de gerenciamento de banco de dados.

Comentário:

A afirmativa está incorreta. O modelo físico de dados não representa a estrutura de dados de um banco de dados conforme vista pelo usuário do sistema de gerenciamento de banco de dados. O modelo físico é uma representação detalhada da forma como os dados são armazenados fisicamente no sistema de gerenciamento de banco de dados. Ele se preocupa com questões como o esquema de armazenamento, a organização de índices, alocação de espaço em disco e outras otimizações de desempenho.

Por outro lado, o modelo de dados que representa a estrutura de dados conforme vista pelo usuário do sistema de gerenciamento de banco de dados é chamado de modelo conceitual ou lógico. O modelo lógico descreve a estrutura dos dados em termos de entidades, atributos, relacionamentos e restrições, mas não aborda detalhes de armazenamento físico. Ele se concentra na representação dos dados de maneira independente do sistema de gerenciamento de banco de dados subjacente.

Portanto, o modelo físico de dados está mais relacionado com a implementação física dos dados no sistema, enquanto o modelo conceitual ou lógico é o que reflete a visão do usuário sobre a estrutura dos dados.

Gabarito: Errado

6. Cebraspe – Analista de Contas Públicas – Especialidade: Administração (MPC-SC)/2022

Em um diagrama entidade-relacionamento (DER), uma entidade, cuja definição é um conjunto de objetos da realidade modelada, é representada graficamente por meio de um retângulo.

Comentário:

A afirmação está correta. Em um diagrama Entidade-Relacionamento (DER), as entidades são representadas graficamente por meio de retângulos. Cada retângulo representa uma entidade, que é uma classe de objetos da realidade modelada. Dentro do retângulo, o nome da entidade é colocado para identificá-la.

O diagrama Entidade-Relacionamento é uma ferramenta visual amplamente utilizada no projeto de banco de dados para representar as entidades (que correspondem a tabelas no banco de dados) e os relacionamentos entre essas entidades. Além das entidades, outras notações gráficas



são usadas para representar relacionamentos, atributos e chaves primárias, entre outros conceitos, tornando-o uma ferramenta eficaz para a modelagem de dados em um sistema de banco de dados.

Gabarito: Certo

7. Cebraspe – Desenvolvimento de Sistemas (BANRISUL)/2022

No modelo entidade × relacionamento, os atributos determinantes identificam um valor específico na tabela, podendo existir mais de um valor simultaneamente.

Comentário:

A afirmação está errada. No modelo Entidade-Relacionamento (ER), os atributos determinantes, também conhecidos como atributos-chave ou atributos identificadores, são aqueles que identificam unicamente uma entidade ou uma ocorrência de uma entidade. Cada valor do atributo determinante deve ser único dentro da entidade.

Assim, parte da afirmação que diz "podendo existir mais de um valor simultaneamente" não está correta. Os atributos determinantes não podem ter mais de um valor simultaneamente para identificar exclusivamente uma entidade.

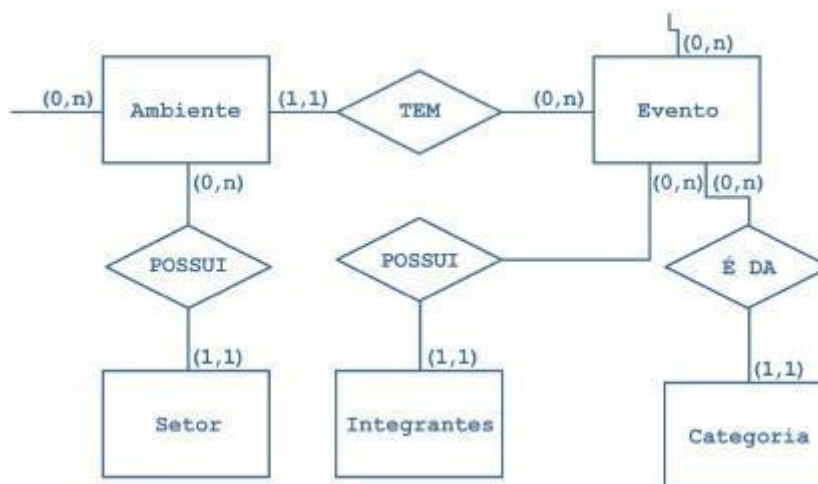
Por exemplo, em uma entidade "Pessoa", o atributo determinante poderia ser "CPF" (Cadastro de Pessoa Física) ou "ID". Cada pessoa teria um valor único para o CPF ou ID, e esses valores não podem ser repetidos em outra instância dentro da mesma entidade.

Portanto, os atributos determinantes identificam valores específicos e únicos para identificar entidades ou ocorrências, e não podem ter mais de um valor simultaneamente para a mesma entidade.

Gabarito: Errado

8. CEBRASPE (CESPE) - Auditor de Finanças e Controle de Arrecadação da Fazenda Estadual (SEFAZ AL) /2020

Com relação a banco de dados, julgue o item seguinte.



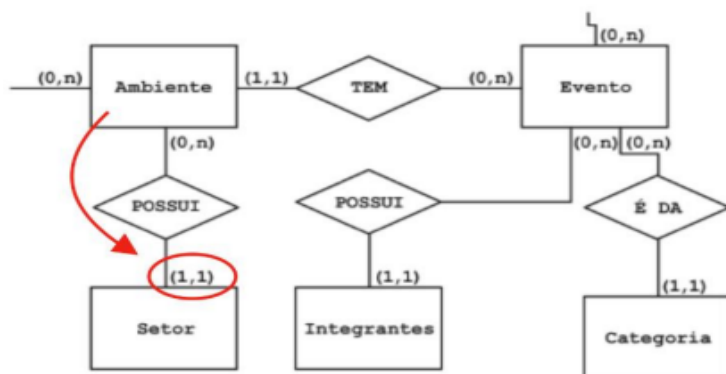
Com base no diagrama a seguir, é correto afirmar que um item na entidade Ambiente pode não



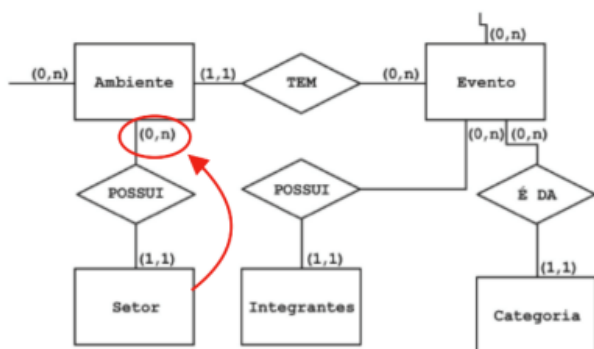
relacionar-se com nenhum item na entidade Setor ou pode relacionar-se com vários itens nesta entidade, enquanto um item na entidade Setor pode relacionar-se somente com um item na entidade Ambiente.

Comentário:

Essa questão trata da cardinalidade descrita pelos valores entre parênteses na figura acima. Primeiro vamos analisar a cardinalidade do relacionamento POSSUI partindo da entidade Ambiente. É importante atentar para algo que confunde muitos candidatos: a cardinalidade sempre está do lado oposto da entidade, devendo ser encontrada da seguinte forma:



Daí tiramos que uma instância da entidade Ambiente deve relacionar-se com um e somente um elemento na entidade Setor. Agora, vamos analisar partindo da entidade Setor:



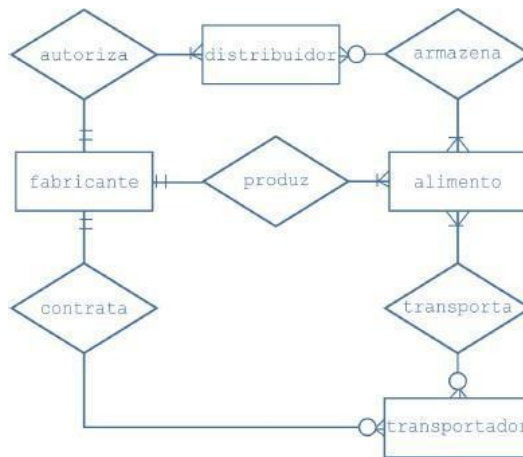
Um item da entidade Setor pode relacionar-se com nenhum ou com vários itens da entidade Ambiente. Agora, vamos corrigir a assertiva:

Com base no diagrama a seguir, é correto afirmar que um item na entidade Ambiente deve relacionar-se com um e somente um item na entidade Setor, enquanto um item na entidade Setor pode relacionar-se somente com nenhum ou vários itens na entidade Ambiente. Concluímos, assim, que a assertiva está errada.

Gabarito: Errado

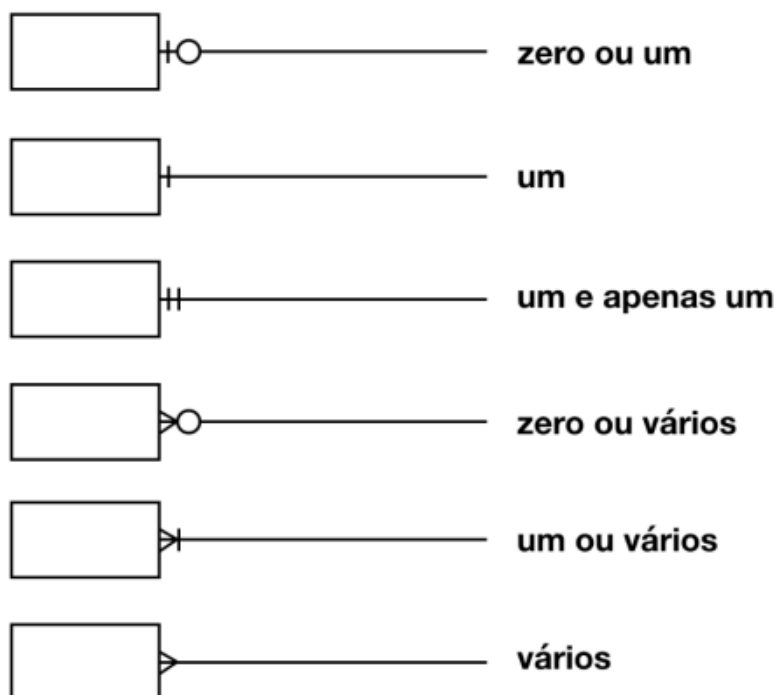


9. CEBRASPE (CESPE) - Ana Min (MPE CE)/MPE CE/Ciências da Computação/2020



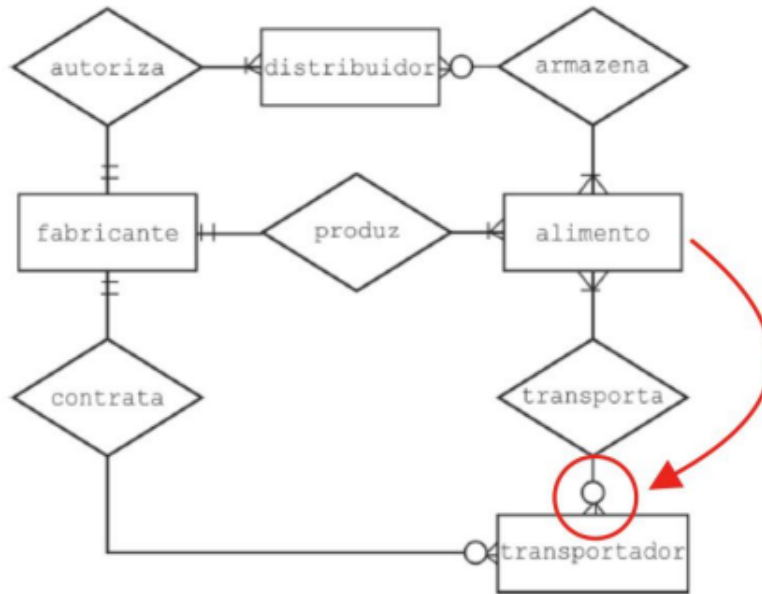
Considerando o diagrama entidade- relacionamento precedente e os múltiplos aspectos que a modelagem de dados oferece ao analista para examinar os dados no contexto de uma aplicação de software, julgue o item subsequente.

No diagrama apresentado, a modalidade obrigatória que conecta transportador e transporta indica que, para todo alimento fabricado, é necessária uma ação de transporte. Comentário: Essa questão reforça a importância de entender as notações complementares à notação ER. Neste caso, temos que lembrar de relembrar da notação pé-de-galinha.



A questão pediu para analisarmos a cardinalidade do relacionamento transporta partindo de alimento. Lembre-se que temos que olhar para o símbolo oposto à entidade que estamos analisando:

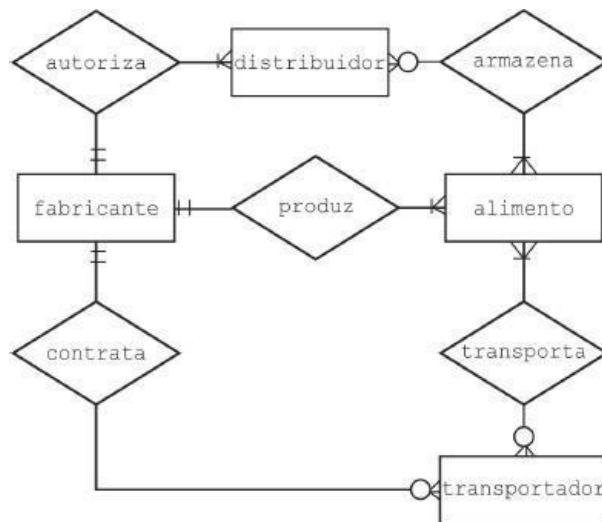




Note que um alimento fabricado pode ser transportado por nenhum ou vários transportadores. Dessa forma, não é necessária uma ação de transporte para todo alimento fabricado. Concluimos, assim, que a assertiva está errada.

Gabarito: Errado

10. CEBRASPE (CESPE) - Ana Min (MPE CE)/MPE CE/Ciências da Computação/2020



Considerando o diagrama entidade- relacionamento precedente e os múltiplos aspectos que a modelagem de dados oferece ao analista para examinar os dados no contexto de uma aplicação de software, julgue o item subsequente.

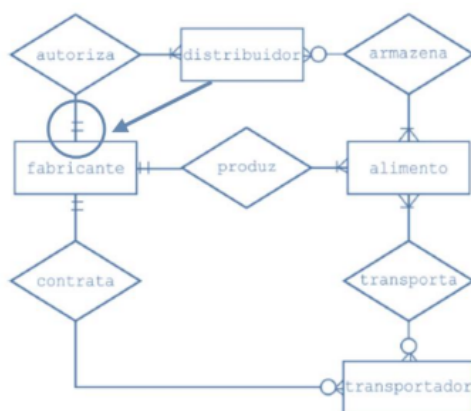
A cardinalidade e a modalidade apresentada para a entidade fabricante mostram que obrigatoriamente um fabricante inicializa a ação de solicitação de distribuição, contratação de transporte e produção de alimento, o que caracteriza uma relação 1 x n.

Comentário:



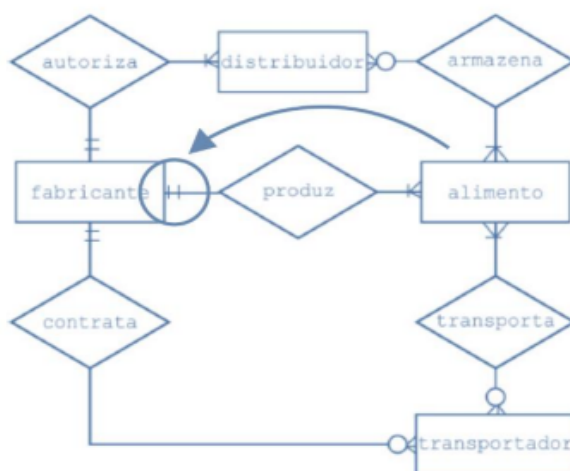
Vamos analisar os relacionamentos que a entidade fabricante participa. Lembre-se que temos que olhar para o símbolo oposto à entidade que estamos analisando.

Relacionamento autoriza



Um distribuidor é autorizado obrigatoriamente por um fabricante, enquanto um fabricante autoriza um ou vários distribuidores. Como é de costume representar a cardinalidade apenas pelos valores máximos, desprende-se que o relacionamento é do tipo 1:N.

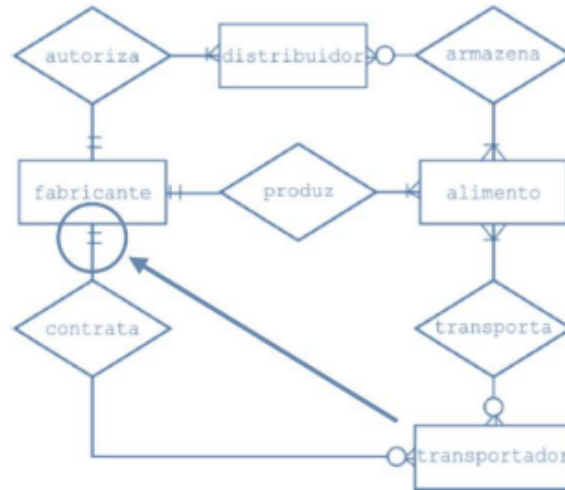
Relacionamento produz



Um alimento é produzido obrigatoriamente por um fabricante, enquanto um fabricante produz um ou vários alimentos. A cardinalidade do relacionamento também é 1:N.

Relacionamento contrata





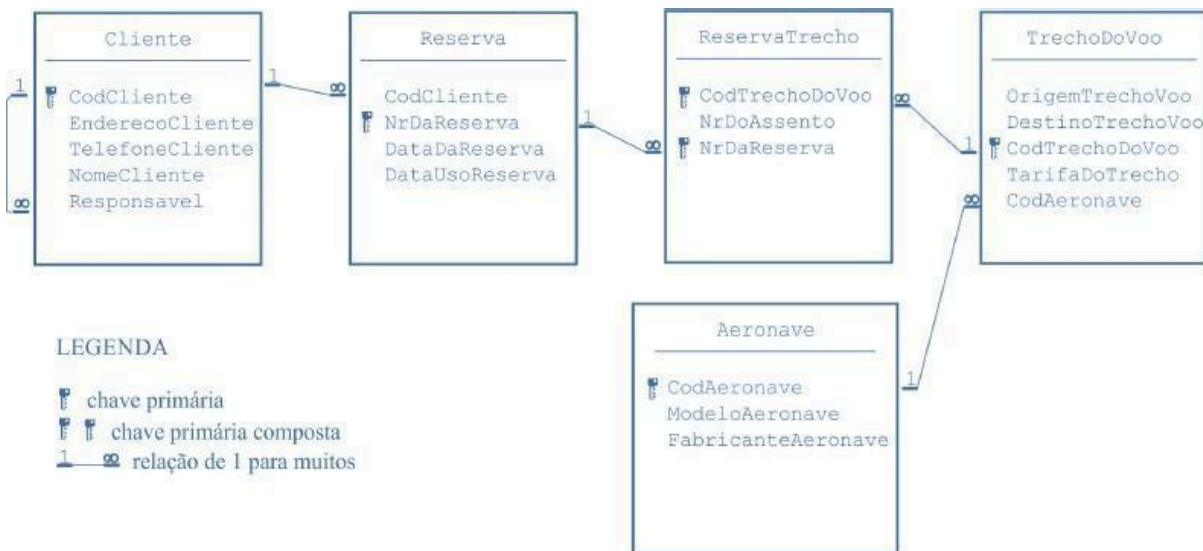
Um transportador é contratado obrigatoriamente por um fabricante, enquanto um fabricante contrata nenhum ou vários transportadores. A cardinalidade do relacionamento, mais uma vez, é 1:N.

Perceba que, em todos os relacionamentos, a presença do fabricante é obrigatória: um distribuidor é autorizado obrigatoriamente por um fabricante; um alimento é obrigatoriamente produzido por um fabricante; e um transportador é obrigatoriamente contratado por um fabricante. Em todos os casos, o relacionamento é 1:N. Concluimos, assim, que a assertiva está correta.

Gabarito: Certo

11. CEBRASPE (CESPE) - Ass Min (MPC TCE-PA)/TCE-PA/Informática/2019

As seguintes informações foram extraídas de um diagrama de entidades-relacionamento no contexto de um banco de dados relacional.



De acordo com as informações do texto 9A1-I, assinale a opção correta, com relação à leitura das regras do negócio representadas no modelo apresentado.

a. Ao realizar uma reserva, o cliente pode escolher um ou vários trechos de voo. Existem



várias opções de aeronaves para o trecho reservado.

- b. Ao realizar uma reserva, o cliente pode escolher um ou vários trechos de voo, mas existe apenas uma aeronave alocada para o trecho reservado.
- c. Ao realizar uma reserva, o cliente pode escolher apenas um trecho de voo, mas existem várias opções de aeronaves para o trecho reservado.
- d. Um trecho de voo está relacionado a apenas uma reserva.
- e. Ao realizar uma reserva, o cliente recebe um único número de assento, válido para todos os trechos que forem reservados.

Comentário:

A questão acima apresenta um diagrama de entidades-relacionamento no contexto de um banco de dados. Vamos analisar cada uma das alternativas da questão:

Errado. A primeira parte está correta, o cliente pode escolher um ou vários trechos de voo. Porém, analisando os relacionamentos entre as entidades, não existem várias opções de aeronaves para o trecho reservado.

Correto. Conforme vimos na LETRA A. A primeira parte está correta e a segunda também.

Errado. O cliente pode escolher um ou vários trechos de voo. E não existem várias opções de aeronaves para o trecho reservado.

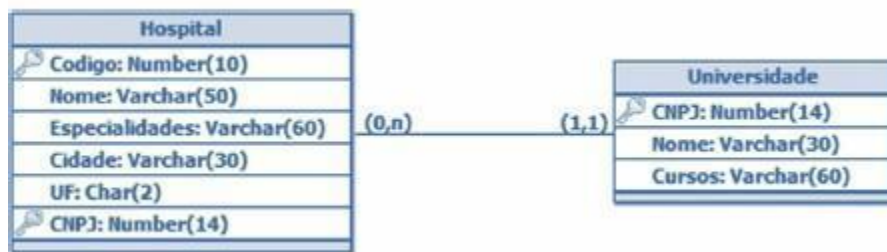
Errado. Temos um relacionamento um para muitos. Um trecho de voo está relacionado a muitas reservas.

Errado. Ao realizar uma reserva, o cliente recebe um único número de reserva. O número do assento está relacionado a reserva do trecho, o cliente irá receber um número de assento para cada trecho escolhido.

Assim, podemos encontrar nossa resposta na alternativa B

Gabarito: B

12. CEBRASPE (CESPE) - Tec (EBSERH)/EBSERH/Informática/2018



Tendo como referência o modelo lógico precedente, julgue o item a seguir.

A partir do modelo apresentado, infere-se que um hospital pode estar vinculado a várias universidades, pois a tabela Hospital apresenta cardinalidade (0, n).

Comentário:



Um modelo lógico é um modelo de dados que representa a estrutura de dados de um banco de dados conforme vista pelo usuário do SGBD. Lembremos também que a cardinalidade expressa o comportamento (número de ocorrências) de uma entidade associada a uma ocorrência da entidade em apreço através do relacionamento. A cardinalidade é expressa como Número (Mínimo, Máximo) pode ser mínima ou máxima:

Máxima: informa a quantidade máxima de ocorrências de determinada entidade, associada a uma ocorrência da entidade em apreço, usando o relacionamento;

Mínima: informa a quantidade mínima de ocorrências de determinada entidade, associada a uma ocorrência da entidade em apreço, usando o relacionamento.

Além disto, a cardinalidade é representada no lado oposto. Pela figura acima, (0,n) faz referência a Universidade, e (1,1) faz referência a Hospital, o que já nos permite concluir que O ITEM ESTÁ ERRADO, pois a cardinalidade de Hospital é (1,1).

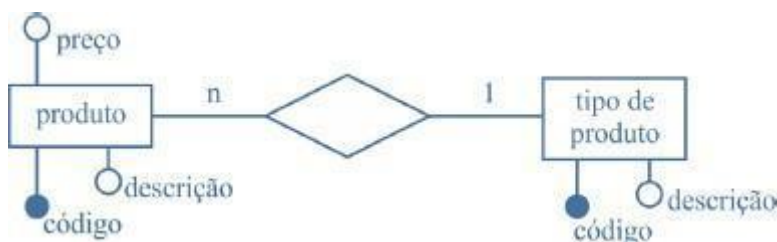
O modelo apresentado nos permite concluir que:

Uma ocorrência de Universidade pode estar associada a várias ocorrências de Hospital (determinada Universidade pode possuir vários Hospitais) e pode ainda não ter nenhuma correspondência;

Uma ocorrência de Hospital está associada a apenas uma ocorrência de Universidade (determinado Hospital está vinculado a apenas uma Universidade). Aqui vemos, portanto, OUTRO ERRO no item.

Gabarito: Errado

13. CEBRASPE (CESPE) - APF/PF/2018



Considerando o modelo entidade-relacionamento (ER) precedente, julgue o seguinte item, relativo a banco de dados.

Conforme o modelo ER em questão, um tipo de produto pode estar associado a somente 1 produto e cada produto possui um preço e uma descrição.

Comentário:

Temos que lembrar que a leitura da cardinalidade do relacionamento entre duas entidades é feita de forma "cruzada", neste caso, cada produto está associado a um tipo de produto e cada tipo de produto pode estar associado a vários produtos. Logo, temos uma alternativa incorreta.

Gabarito: Errado

14. CEBRASPE (CESPE) - Ana Min (MPE PI)/MPE PI/Tecnologia da Informação/2018

Tendo em vista que, ao se desenvolver um sistema de vendas e compras para um cliente, devem-se descrever os produtos, as entradas, as saídas, o controle de estoque e o lucro das



vendas, julgue o item subsequente, relativo à modelagem de dados para a aplicação descrita.
No sistema implementado, o cliente terá de cadastrar cada produto nos módulos de vendas e compras, pois a redundância será controlada pelo usuário, e não pela modelagem do banco de dados.

Comentário:

A intenção de criar qualquer sistema computacional é, geralmente, automatizar e facilitar uma determinada atividade do negócio. A modelagem de dados serve justamente para evitar a redundância dos dados, mantendo a unicidade dos dados para que não haja dados conflitantes no sistema. Uma possível correção para a assertiva seria:

“No sistema implementado, o cliente não terá de cadastrar cada produto nos módulos de vendas e compras, pois a redundância será tratada na fase da modelagem do banco de dados”

Logo, temos uma alternativa incorreta.

Gabarito: Errado

15. CEBRASPE (CESPE) - AFA (SEFAZ RS)/SEFAZ RS/2018

No modelo entidade-relacionamento, as propriedades particulares que descrevem uma entidade são denominadas

- a. valores.
- b. atributos.
- c. chaves primárias.
- d. relacionamentos.
- e. instâncias.

Comentário:

A questão trata dos conceitos básicos do modelo entidade- relacionamento. Os atributos caracterizam uma entidade, por exemplo, uma entidade "Pessoa" e alguns atributos como nome, CPF, Identidade, Endereço, Data de nascimento. Consegue perceber que esses atributos estão descrevendo uma pessoa? Desta forma, já podemos marcar nossa resposta na alternativa B, mas vamos analisar as alternativas:

a) Valores são as instâncias ou os dados que serão efetivamente preenchidos para cada atributo. Por exemplo, o atributo data de nascimento pode conter o valor "05/10/1995".

Chaves primárias identificam unicamente uma instância numa determinada entidade ou relacionamento.

Relacionamentos associam uma ou mais entidades de acordo com a realidade que se quer modelar.

Instâncias são ocorrências em uma determinada estrutura de banco de dados, podemos ter instância do banco de dados, de uma tabela ou de um atributo desta tabela.

Gabarito: B



16. CEBRASPE (CESPE) - Tec (FUB)/FUB/Tecnologia da Informação/2018

Julgue o item seguinte, a respeito dos conceitos de modelagem de dados e níveis de abstração.

No modelo de entidade-relacionamento, uma entidade se caracteriza por um objeto do mundo real que possui um conjunto de propriedades; os valores de um subconjunto dessas propriedades podem identificar de maneira única a entidade.

Comentário:

No geral, todas as entidades possuem um conjunto de atributos identificadores que conseguem identificar univocamente cada instância da mesma. Esse conjunto de atributos é chamado de chave primária por alguns autores. Logo, temos uma afirmativa correta.

Gabarito: Certo

17. CEBRASPE (CESPE) - Tec (FUB)/FUB/Tecnologia da Informação/2018

Julgue o item seguinte, a respeito dos conceitos de modelagem de dados e níveis de abstração.

Na cardinalidade de mapeamento entre o conjunto de entidades X e Y de uma associação um-para-um, uma entidade em X é associada, no máximo, a uma entidade em Y, e uma entidade em Y é associada, no máximo, a uma entidade em X.

Comentário:

Certo!! Na cardinalidade 1-1 cada elemento dos conjuntos de entidades que participam do relacionamento só pode estar associado a um elemento da outra entidade. Lembre-se do relacionamento entre armário e funcionário. Cada funcionário tem apenas um armário e cada armário é possuído por apenas um empregado. Afinal, você não vai querer compartilhar um local onde você guarda sua roupa de academia que você fez antes de ir pro trabalho com outra pessoal. :)

Gabarito: Certo

18. Ano: 2018 Banca: CESPE Órgão: STJ Cargo: Técnico Judiciário – Suporte Técnico

Acerca de banco de dados, julgue os itens que se seguem.

75 Em um diagrama MER, a entidade representa uma coisa concreta do mundo real, enquanto as coisas abstratas são representadas pelo relacionamento entre as entidades.

Comentário:

Os nomes ou as coisas do mundo real ou imaginário são sempre entidades no modelo entidade-relacionamento. O que representa os relacionamentos são os verbos ou ações associadas a cada entidade. Desta forma, temos a afirmação acima como incorreta.

Gabarito: Errado

19. Ano: 2018 Banca: CESPE Órgão: STJ Cargo: Técnico Judiciário – Desenvolvimento de Sistemas Questão: 64 e 65

Julgue os itens a seguir, referentes à modelagem de dados.

64 Generalização é o processo de definição de um tipo de entidade a partir de duas ou mais



entidades que possuem atributos em comum — por exemplo, as entidades carro e ônibus podem ser generalizadas na superclasse veículo.

Comentário:

Sabemos que quando pensamos em um modelo de dados, uma possível hierarquia entre os dados pode ser construída de forma que a entidade pai tenha os atributos comuns as suas respectivas entidades filhas. A esse conceito dar-se o nome de generalização, que é justamente o mesmo conceito descrito na questão. Logo, a alternativa está correta.

Gabarito: Certo

20. Ano: 2018 Banca: CESPE Órgão: TCM-BA Cargo: Auditor de Contas Questão: 10

A respeito de entidades, relacionamentos e tipos de chave, assinale a opção correta.

- A) Uma entidade fraca não possui seus próprios atributos chave.
- B) Toda relação deve possuir somente uma chave primária de atributo único.
- C) Um identificador ou chave é usado para determinar exclusivamente uma instância de um relacionamento entre entidades.
- D) A abordagem entidade-relacionamento permite somente relacionamentos binários e dos tipos 1:1 e 1:n.
- E) Uma entidade forte existe no banco de dados e possui atributos que a identificam sem que ela precise estar associada a outra entidade identificadora.

Comentário:

Vejam que essa questão apresenta um conceito associado ao modelo entidade-relacionamento. Uma entidade forte significa que possui atributos suficientes para identificar de forma unívoca cada instancia ou elemento de um conjunto de entidade. Logo, podemos marcar a resposta na alternativa E. Vamos agora procurar os erros das demais alternativas.

A) Uma entidade pode ter um atributo que seja chave, contudo, ele sozinho não consegue identificar um elemento da entidade. Para compor a chave ele precisa de um atributo que vai ser definido na entidade forte a ele associada. Sendo assim, temos uma alternativa incorreta.

A chave primária de uma relação pode ser classificada em simples, quando possuir apenas um atributo, ou composta, quando tiver dois ou mais atributos. Sendo assim, temos mais uma alternativa incorreta.

Uma instância de relacionamento é uma associação entre entidades, que inclui exatamente uma entidade de cada tipo de entidade participante. A identificação do relacionamento é feita pela associação entre as chaves das entidades participantes do relacionamento.

Os relacionamentos binários admitem cardinalidade máxima 1:1, 1:N e N:M. Logo temos mais uma afirmação errada.

Gabarito: E.

21. Ano: 2018 Banca: CESPE Órgão: STM Cargo: Programação de Sistemas Questão: 61 a 65

Acerca dos conceitos de normalização de dados e dos modelos de dados, julgue os itens subsequentes.



63 O modelo conceitual, que reflete uma estrutura simplificada do banco de dados, é responsável por registrar como os dados estão armazenados no sistema de gerenciamento de banco de dados (SGBD).

64 Comparativamente aos usados pelos usuários leigos, os modelos de dados utilizados por programadores são considerados menos abstratos, pois contêm mais detalhes de como as informações estão organizadas internamente no banco de dados.

Comentário:

Vamos comentar cada uma das alternativas acima.

Quem descrever como os dados são armazenados no sistema de gerenciamento de banco de dados é o modelo físico, ele o faz descrevendo o modo como os dados são salvos em meios de armazenamentos, como discos e fitas, sendo exigido a definição tanto dos dispositivos de armazenamento físico como dos métodos de acesso (físico) necessários para se chegar aos dados nesse dispositivos, o que o torna dependente tanto de software como de hardware. Novamente, temos mais uma alternativa incorreta.

Essa alternativa está correta. Quando descemos na hierarquia dos modelos de dado, aumentamos o nível detalhamento.

Gabarito: Errado Certo

22. BANCA: CESPE ANO: 2014 ÓRGÃO: ANATEL PROVA: ANALISTA ADMINISTRATIVO - DESENVOLVIMENTO DE SISTEMAS DE INFORMAÇÃO

Com base nos modelos de banco de dados, julgue os itens subsequentes.

[89] São empregados no projeto de aplicações de um banco de dados o modelo entidade-relacionamento (MER), que é um modelo representacional, e suas variações.

[90] O modelo de dados físico é considerado de baixo nível, o que significa que somente os sistemas gerenciadores de banco de dados conseguem interpretá-lo.

Comentário:

Vimos ao longo da nossa aula que os modelos considerados representacionais, de implementação ou lógicos são os modelos em rede, hierárquico e relacional. Alternativa 89 está incorreta.

Os modelos de dados físicos definem a forma como os dados são armazenados nos discos. Não podemos restringir o seu entendimento ao SGBD, outros componentes, como o sistema operacional, devem ser capazes de ler ou interpretar os dados. Sendo assim, a alternativa 90 também está errada.

Gabarito: Errado Errado.

23. Ano: 2015 Banca: CESPE Órgão: TRE-PI Cargo: Operação de computadores – Questão 40



De acordo com a notação para diagramas entidade-relacionamento, assinale a opção que descreve a representação acima disposta.

- A) entidade, atributo, atributo composto e atributo derivado
- B) relacionamento, atributo, atributo fraco e atributo multivalorado
- C) entidade fraca, atributo-chave, atributo multivalorado e atributo derivado
- D) entidade, atributo-chave, atributo multivalorado e atributo derivado
- E) entidade forte, atributo, atributo composto e atributo fraco

Comentários:

Essa questão nos ajuda a lembrar a notação gráfica definida pelo modelo entidade-relacionamento. Os símbolos acima representam, respectivamente:

Uma entidade fraca, que significa que as instâncias dessas entidades não conseguem existir dentro do modelo sem a existência de uma instância na entidade pai, conhecida também como forte, proprietária ou identificadora.

Um atributo-chave, neste caso, todos os atributos que são caracterizados com essa linha sublinhada abaixo do seu nome fazem parte da chave da entidade. Quando apenas um atributo for sublinhado a chave é conhecida como simples. Caso mais de um atributo seja sublinhado a chave é dita composta.

As elipses concêntricas representam um atributo multivalorado. Neste contexto você pode ter várias instâncias de atributos associadas a uma única instância da entidade. O caso clássico de atributo multivalorado é telefone.

Um atributo derivado, ele pode ser calculado a partir de um ou mais atributos armazenados na base de dados. Desta forma, ele não precisa ser gravado na base de dados.

Após analisar cada uma das representações podemos encontrar nossa resposta na alternativa C

Gabarito: C

24. Ano: 2015 Banca: CESPE Órgão: TRE-PI Cargo: Operação de computadores – Questão 41
Acerca do modelo entidade-relacionamento estendido, assinale a opção correta.

- A) Uma restrição de disjunção pode ser aplicada a uma especialização, na qual deve ser especificado que as subclasses da especialização devem ser mutuamente exclusivas.
- B) A generalização é o resultado da separação de um tipo-entidade de nível mais alto — superclasse — e forma vários tipos-entidades de nível mais baixo — subclasse.
- C) Uma entidade, que é membro de uma subclasse, nem sempre herda todos os atributos da entidade como um membro da superclasse.
- D) O modelo em questão incorpora conceitos de modelagem entidade-relacionamento, herança, encapsulamento e polimorfismo.
- E) A simbologia do referido modelo é a mesma do modelo entidade-relacionamento, não havendo novas representações.

Comentários:



Vimos durante a aula que temos duas opções para herança no modelo entidade-relacionamento estendido. A disjunção, onde as entidades são mutuamente exclusivas e a sobreposição, esta restrição específica que a mesma instância de entidades de nível superior pode pertencer a mais de um tipo de entidade de nível inferior.

Gabarito: A.

25. Ano: 2015 Banca: CESPE Órgão: TRE-PI – Questão 57

Considere que existe uma entidade PESSOA com um relacionamento denominado CASAMENTO que pode associar diversas ocorrências na mesma entidade PESSOA.

De acordo com as propriedades do diagrama entidade-relacionamento, o conceito desse relacionamento (CASAMENTO) pode ser definido como

- A) generalização.
- B) relacionamento binário.
- C) autorrelacionamento.
- D) entidade associativa.
- E) especialização.

Comentários:

Vamos analisar o conceito associado a cada uma das alternativas.

Generalização se refere ao processo funcionalmente inverso da especialização no qual se identificam as características comuns que passarão a caracterizar uma nova superclasse que generaliza as entidades-tipo originais.

Relacionamento binário trata do relacionamento entre duas entidades.

Auto relacionamento trata do relacionamento de uma entidade com ela mesma, o exemplo clássico é o relacionamento gerencia entre um empregado e outro. Também se refere ao contexto da resposta da nossa questão

Por fim, entidade associativa que substitui a associação entre relacionamentos, a qual não é prevista pelo modelo ER, é um relacionamento que passa a ser tratado como entidade, permitindo o uso de relacionamento opcional.

Gabarito: C

26. BANCA: CESPE ANO: 2015 ÓRGÃO: MPOG PROVA: ANALISTA - ANALISTA EM TECNOLOGIA DA INFORMAÇÃO

A respeito de modelo entidade-relacionamento e normalização, julgue os itens subsequentes.

[113] Em relações normalizadas, na primeira forma normal, toda tupla em toda relação contém apenas um único valor, do tipo apropriado, em cada posição de atributo.

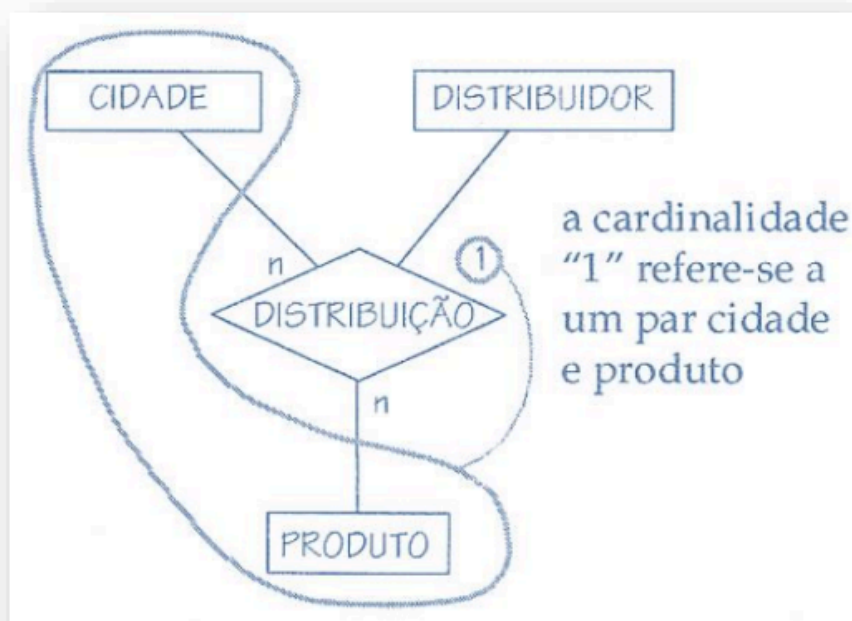
[114] Sabendo que, nos relacionamentos ternários, a cardinalidade refere-se a pares de entidades, em um relacionamento ternário R entre três entidades A, B e C, a cardinalidade máxima de A e B dentro de R indica quantas ocorrências de C podem estar associadas a um par de ocorrências de A e B.



Comentário:

A primeira forma normal diz que todo atributo deve ser atômico. Ou de outra forma, nenhum atributo pode ser composto ou multivalorado. A partir dessa definição podemos definir que em toda tupla cada um dos seus atributos deve ter apenas um valor de um tipo apropriado. A alternativa 113 está correta. Aproveitando para dizer que a primeira forma normal é parte da definição do modelo relacional. Ou seja, se eu disser que uma tabela do modelo relacional ela está automaticamente na primeira forma normal.

Uma propriedade importante de um relacionamento é de quantas ocorrências de uma entidade podem estar associadas a uma determinada ocorrência através do relacionamento. Esta propriedade é chamada de Cardinalidade. Num relacionamento ternário a cardinalidade é definida pelo relacionamento de uma entidade com as demais conjuntamente. Vejam a figura abaixo:



Gabarito: Certo Certo.

27. BANCA: CESPE ANO: 2015 ÓRGÃO: TRE-GO PROVA: TÉCNICO DO JUDICIÁRIO - PROGRAMAÇÃO DE SISTEMAS

Julgue os seguintes itens, a respeito da modelagem de dados.

[65] Considere a seguinte situação hipotética. Em um banco de dados referente a um curso, um aluno pode estar em mais de um curso ao mesmo tempo. Além disso, na tabela de cursos realizados por aluno, estão presentes as chaves estrangeiras aluno e curso. Nessa situação, tanto o código do curso como o código do aluno são chaves primárias nas tabelas curso e aluno, respectivamente.

[66] Ao se excluir uma tupla de um banco de dados, pode-se violar a integridade referencial desse banco por uma chave primária.

[67] Um conjunto de entidades que não possuem atributos suficientes para formar uma chave primária é definido como um conjunto de entidades fortes.



[68] Uma chave primária identifica um único valor de uma tupla no banco de dados e não possui mais de um atributo na tabela.

Comentário:

Analisando a alternativa 65 podemos observar que trata de uma narrativa consistente e, portanto, correta.

Na questão 66 temos um erro ao disser que a exclusão de uma linha pode violar a integridade referencial por meio da chave primária, o certo seria dizer que pode existir uma violação de integridade por meio da chave estrangeira. Em outras palavras podemos pensar da seguinte forma: eu só posso excluir uma linha da tabela A se não existir nenhuma referência a ela em outra tabela X. Essa referência é feita por meio de uma chave estrangeira, presente na outra tabela X.

Na questão 67 o erro é atribuir a entidade forte o conceito de entidade fraca.

A alternativa 68 trata da chave primária de uma tabela. Essa pode ser definida sobre um ou vários atributos. Quando definida sobre mais de um atributo é necessário que a informação contida no conjunto de atributos da chave seja única para cada linha da tabela. Sendo assim podemos assinalar a alternativa como incorreta.

Gabarito: Certo; Errado; Errado; Errado.

28. BANCA: CESPE ANO: 2015 ÓRGÃO: STJ PROVA: TÉCNICO JUDICIÁRIO - TECNOLOGIA DA INFORMAÇÃO

A respeito da modelagem de dados e da qualidade de software, julgue os itens subsecutivos.

[84] O relacionamento no modelo entidade-relacionamento é uma associação intuitiva entre entidades, cujo número de entidades envolvidas é conhecido como hierarquia.

[86] Entidade-relacionamento é uma modelagem semântica cujo modelo resultante é estendido, e as entidades, nesse modelo, são definidas como um ente que pode ser distintamente identificado.

Comentário:

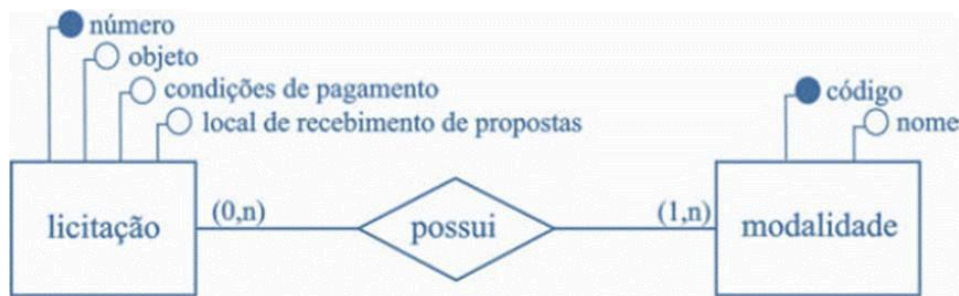
A alternativa 84 foge de qualquer definição saudável ou característica do modelo entidade-relacionamento. Um modelo entidade-relacionamento é um modelo de dados para descrever os dados, informações de um domínio de negócio ou seus processos, de forma abstrata. Os principais componentes do modelo ER são as entidades e os relacionamentos que podem existir entre eles. Foi desenvolvido por Peter Chen e publicado em um artigo em 1976.

A questão 86, embora com um texto rebuscado, diz, basicamente, que o modelo ER utiliza elementos com significados específicos para representar seus conceitos, por exemplo, um retângulo representa uma entidade. O modelo carece de detalhes que são inseridos quando saímos da modelagem conceitual para um modelo lógico. Quanto nós analisamos uma modelagem conceitual cada entidade define algum objeto ou aspecto do mundo real que possui um escopo específico dentro do projeto. Cada entidade é única dentro do modelo.

Gabarito: [84] Errado [86] Certo.



29. Ano: 2016 Banca: CESPE Órgão: TCE-PA Prova: Auditor de Controle Externo - Área Informática - Analista de Suporte



Considerando a figura apresentada, que ilustra o modelo de um banco de dados hipotético, julgue o item que se segue.

[1] A figura expõe um modelo lógico, uma vez que ele contém detalhes de implementação e é independente de um sistema gerenciador de banco de dados (SGBD).

Comentário:

Analisando a figura acima podemos verificar que o diagrama apresenta características gráficas com alto nível de abstração. Esse tipo de modelo é conhecido como conceitual. Perceba que a assertiva diz que esse é um modelo lógico, o que não é verdade. Por isso podemos afirmar que a afirmação está incorreta.

Gostaria ainda de aproveitar o diagrama para fazer um comentário a respeito da notação dos atributos. Percebam que os atributos, associados a cada uma das entidades, estão representados por bolas e os nomes ou descrição deles aparecem fora da mesma. Essa é uma das notações alternativas para representação dos atributos.

Gabarito: Errado.

30. Ano: 2017 Banca: CESPE Órgão: TRE-PE Prova: Analista Judiciário - Análise de Sistemas

Assinale a opção que corresponde ao tipo de restrição de integridade expressa no próprio diagrama de entidades e relacionamentos no modelo relacional.

- dependência
- enumeração
- normas de aceitação
- cardinalidade
- repetição

Comentário:

Observe que, pelas definições que acabamos de explicar a alternativa que se adequa melhor a nossa questão está na letra D.

Gabarito: D.

31. Ano: 2016 Banca: CESPE Órgão: TRE-PI Prova: Analista Judiciário - Análise de Sistemas

Considere que existe uma entidade PESSOA com um relacionamento denominado CASAMENTO que pode associar diversas ocorrências na mesma entidade PESSOA. De acordo

com as propriedades do diagrama entidade-relacionamento, o conceito desse relacionamento (CASAMENTO) pode ser definido como

- generalização.
- relacionamento binário.
- autorrelacionamento.
- entidade associativa.
- especialização.

Comentário:

Observamos que CASAMENTO é um relacionamento que envolve duas ocorrências da entidade PESSOA. Para facilitar o entendimento, em geral costumamos identificar o papel de cada entidade no relacionamento (para o exemplo, marido e esposa). Veja a figura abaixo para fixar ainda mais o conteúdo em questão:



Após essa rápida análise, podemos assinalar o gabarito na alternativa C.

Gabarito: C.

32. Ano: 2016 Banca: CESPE Órgão: TRE-PI Prova: Técnico Judiciário - Operação de Computadores

Acerca do modelo entidade-relacionamento estendido, assinale a opção correta.

- Uma restrição de disjunção pode ser aplicada a uma especialização, na qual deve ser especificado que as subclasses da especialização devem ser mutuamente exclusivas.
- A generalização é o resultado da separação de um tipo-entidade de nível mais alto — superclasse — e forma vários tipos-entidades de nível mais baixo — subclasse.
- Uma entidade, que é membro de uma subclasse, nem sempre herda todos os atributos da entidade como um membro da superclasse.
- O modelo em questão incorpora conceitos de modelagem entidade-relacionamento, herança, encapsulamento e polimorfismo.
- A simbologia do referido modelo é a mesma do modelo entidade-relacionamento, não havendo novas representações.

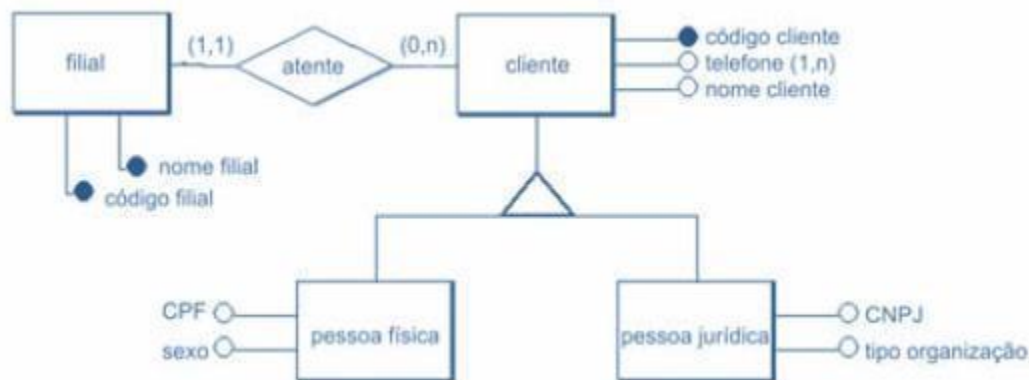
Comentário.



Observem que essa questão trata do assunto que acabamos de estudar. A restrição de disjunção afirma que uma instância de entidade só pode ser especializada para apenas um dos subtipos. Já a sobreposição permite que uma instância possua as características de mais de uma classe filha. Analisando as alternativas acima podemos afirmar que o gabarito se encontra na alternativa A.

Gabarito: A

33. BANCA: CESPE ANO: 2010 ÓRGÃO: INMETRO PROVA: PESQUISADOR - GOVERNANÇA DE TI



Considerando a figura acima, que ilustra um modelo conceitual, assinale a opção correta.

- A) As entidades pessoa física e pessoa jurídica são exemplos de generalização/especialização, conceito que envolve a ideia de herança de propriedades. Herdar propriedades significa que cada ocorrência da entidade especializada possui, além de suas propriedades (atributos, relacionamentos e generalizações ou especializações), também as propriedades de ocorrência da entidade genérica correspondente.
- B) A cardinalidade do relacionamento entre filial e cliente define que pode existir filial sem clientes, e ainda, que os clientes podem existir sem estar vinculados a nenhuma filial.
- C) Telefone é exemplo de atributo opcional.
- D) No modelo apresentado, entidades, relacionamentos, cardinalidade e identificadores estão corretos e consistentes.
- E) As entidades cliente, pessoa física e pessoa jurídica apresentam relacionamento do tipo ternário ou de grau maior, que são modelados usando-se uma entidade associada, por meio de relacionamentos binários, a cada uma das entidades que participam do relacionamento ternário.

Comentário.

Primeiramente gostaria de fazer um comentário sobre o diagrama da questão. Quando apresentamos esse tipo de notação, os círculos pretos representam atributos chave das entidades e os círculos brancos representam atributos não chave. Outro ponto é a presença da restrição estrutural definindo os valores mínimos e máximos de cada entidade no relacionamento.

Feito as considerações vamos analisar as alternativas, começando pela letra A que é a nossa resposta. Vejam que o examinador quer saber se você entende que, quando temos especializações dentro de um diagrama conceitual, as entidades que são subclasses herdam os atributos e relacionamentos das suas superclasses.



A letra B faz uma leitura errada do relacionamento entre cliente e filial. O correto seria dizer que uma filial atende a zero até n clientes e um cliente é atendido por uma e apenas uma filial.

Para responder a alternativa C precisamos entender o que significar o " (1,n) " ao lado do atributo telefone da entidade cliente. Podemos dizer que ele representa um atributo multivalorado, pois um cliente pode ter mais de um telefone e obrigatório, pois cada cliente precisa ter, no mínimo, um telefone.

Na alternativa D temos que encontrar um erro no diagrama. Precisamos verificar que o nome filial está grafado como chave primária da entidade filial, o que não faz sentido. Portanto o diagrama não está 100% correto.

Por fim, a alternativa E, as entidades listadas não representam um relacionamento ternário, é sim uma relação de generalização/especialização.

Gabarito: A.



QUESTÕES COMENTADAS - CESGRANRIO

1. CESGRANRIO/IPEA/2024/Infraestrutura/Modelo Entidade Relacionamento

Em um diagrama de entidades e relacionamentos (DER), as entidades são representadas por meio de retângulos, e os relacionamentos, por meio de losangos. No DER, um retângulo representa um conjunto de entidades. Tanto as entidades quanto os relacionamentos podem possuir atributos. Todas as entidades em um DER precisam possuir um atributo especial, denominado atributo identificador. Nesse contexto, considere que uma entidade PESQUISADOR, em um DER, representa um conjunto de pessoas que são pesquisadores.

Nesse caso, o atributo identificador da entidade PESQUISADOR

- (A) informa a versão do DER.
- (B) deve, necessariamente, ser o atributo CPF.
- (C) viabiliza a identificação de categorias de pesquisadores.
- (D) permite identificar unicamente uma pessoa na entidade PESQUISADOR.
- (E) caracteriza o relacionamento da entidade PESQUISADOR com outra entidade.

Comentário:

A opção correta é: (D) permite identificar unicamente uma pessoa na entidade PESQUISADOR. O atributo identificador em uma entidade de um Diagrama de Entidade-Relacionamento (DER) é aquele que permite identificar de forma única cada instância (ou linha) da entidade. No contexto da entidade PESQUISADOR, o atributo identificador provavelmente seria algo como um número de identificação único para cada pesquisador, como um ID de funcionário, um número de registro acadêmico ou um código interno de identificação. Esses atributos permitem que cada pesquisador seja identificado de forma única dentro da entidade PESQUISADOR. O CPF não é necessariamente o atributo identificador, pois nem todos os pesquisadores podem possuir CPF, dependendo do contexto do sistema ou do banco de dados, por exemplo, um pesquisador estrangeiro.

Gabarito: D


2. CESGRANRIO - Ana Desenv (AgeRIO)/AgeRIO/Tecnologia da Informação/2023

Uma empresa de turismo que opera na Web vai realizar uma grande promoção para tentar vender mais hospedagens para o próximo verão. Ela irá conceder um bônus (em reais) para a compra de passagens aéreas para todos os seus clientes que fizerem reservas para os meses de janeiro e fevereiro.

A empresa resolveu criar um banco de dados especialmente para essa promoção. Nele serão registrados os clientes que fizerem pelo menos uma reserva, além de todos os hotéis e companhias aéreas com os quais a empresa de turismo opera.



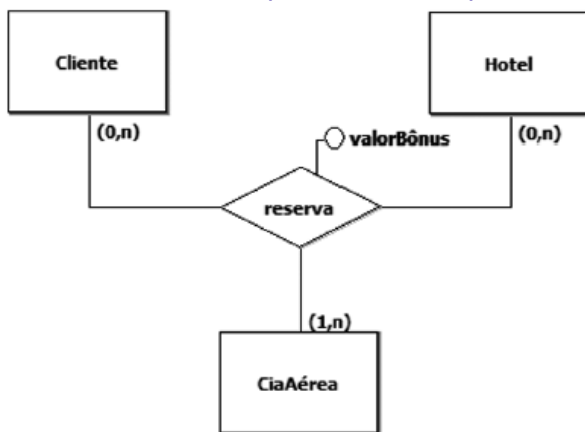
No modelo conceitual desse banco de dados, os participantes serão representados pelas entidades a seguir.



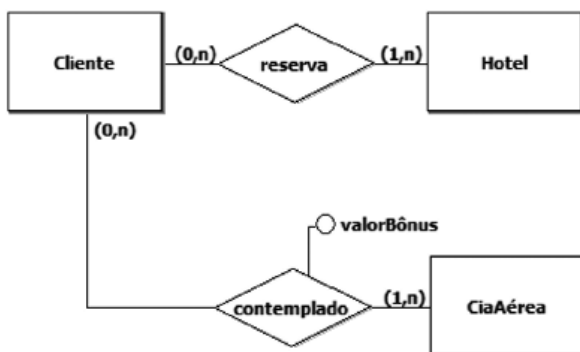
As regras para a concessão dos bônus são as seguintes:

- Só participará da promoção o cliente que fizer, pelo menos, uma reserva até a data de término da promoção;
- Um cliente poderá fazer reservas em vários hotéis;
- Uma reserva será associada a, pelo menos, uma companhia aérea;
- O banco de dados terá de ser capaz de informar a qual reserva um bônus está associado;
- O bônus de uma reserva poderá ser usado em qualquer uma das companhias aéreas associadas à reserva;
- Alguns hotéis e algumas companhias aéreas, embora presentes no banco de dados, poderão ficar ausentes da promoção.

Qual modelo E-R representa adequadamente as regras de negócio dessa promoção?

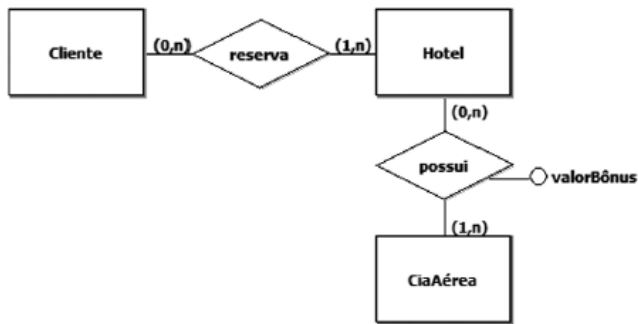


a)

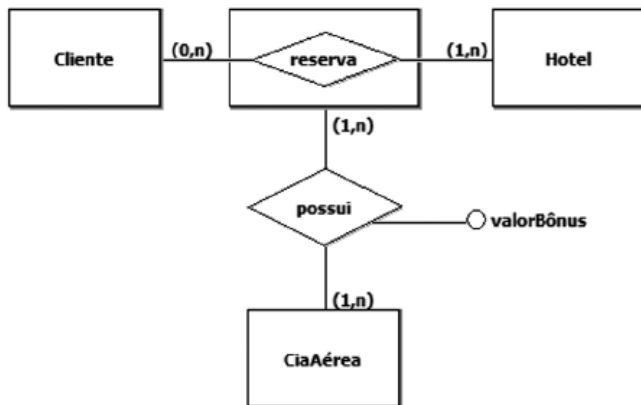


b)

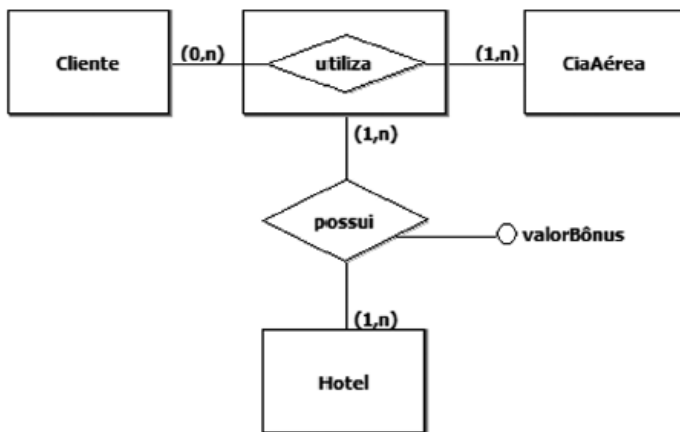




c)



d)



e)

Comentário:

Vamos revisar as regras:

1. Somente participará da promoção o cliente que realizar, no mínimo, uma reserva até a data de término da promoção.
 - Caso o cliente exista, participará da promoção com o relacionamento Reserva.
2. Um cliente poderá fazer reservas em vários hotéis.
 - A palavra "poderá" pode sugerir uma cardinalidade 0:n em relação ao hotel.
3. Uma reserva será associada a, pelo menos, uma companhia aérea.
 - "Pelo menos uma" pode indicar uma cardinalidade 1:n em relação à ciaAerea.
4. O banco de dados deve ser capaz de informar a qual reserva um bônus está associado.
 - Isso é feito pelo atributo Bonus na reserva.
5. O bônus de uma reserva poderá ser usado em qualquer uma das companhias aéreas associadas à reserva.
6. Alguns hotéis e algumas companhias aéreas, embora presentes no banco de dados, poderão ficar ausentes da promoção.



- Relacionamento 0:n é opcional.

A melhor abordagem para resolver essa questão é por eliminação, identificando os erros mais evidentes nas alternativas. A criação de um modelo conceitual pode ser subjetiva, e encontrar os erros nas outras opções torna mais fácil chegar a uma resposta.

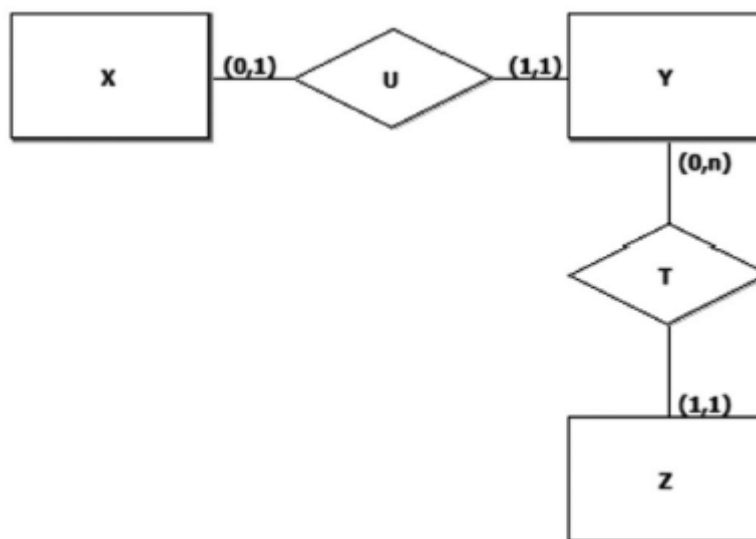
Analisando os erros nas outras alternativas:

- LETRA B: O valor do Bônus está na reserva e não em "contemplado".
- LETRA C: Uma reserva deve possuir pelo menos uma companhia aérea e pode estar associada a vários hotéis. Portanto, a reserva também deve estar ligada à companhia aérea diretamente.
- LETRA D: O valor do bônus deve estar na reserva. Além disso, um cliente PODE estar associado a vários hotéis, portanto, seria um relacionamento do tipo (0,n) com cliente.
- LETRA E: O valor do bônus deve estar na reserva, e a LETRA E retirou a reserva do modelo. Além disso, um cliente PODE estar associado a vários hotéis, portanto, seria um relacionamento do tipo (0,n) com cliente.

Gabarito: A

3. CESGRANRIO - PTNM (TRANSPETRO)/TRANSPETRO/Informática/2023

Na Figura a seguir, é mostrado um diagrama E-R.



Admita que os conjuntos a seguir façam parte de um banco de dados cujo esquema foi gerado a partir do modelo E-R acima.

$X = \{ x1, x2, x3 \}$

$Y = \{ y1, y2, y3, y4 \}$

$Z = \{ z1, z2, z3 \}$

NÃO violam as restrições de cardinalidade presentes nas respectivas relações do modelo E-R acima os seguintes conjuntos U e T:

a) $U = \{ (x1, y2), (x2, y2), (x3, y2) \}$ $T = \{ (y1, z1), (y2, z1), (y3, z1), (y4, z1) \}$



- b) $U = \{ (x1, y1), (x2, y2), (x3, y3) \}$ $T = \{ (y1, z1), (y2, z1), (y3, z1) \}$
c) $U = \{ (x1, y1), (x2, y2), (x3, y2) \}$ $T = \{ \}$
d) $U = \{ (x1, y2), (x2, y2), (x3, y1) \}$ $T = \{ (y1, z1), (y2, z2), (y3, z3) \}$
e) $U = \{ (x1, y2), (x2, y4), (x3, y1) \}$ $T = \{ (y1, z1), (y2, z1), (y3, z1), (y4, z1) \}$

Comentário:

Para resolver essa questão precisamos observar que cada instância de X deve estar associada a uma e somente uma instância de Y. Logo, o conjunto cada instâncias de U deve ter um relacionamento para x1, x2 e x3. Ademais, cada instância de Y só pode estar relacionada a no máximo 1 instância de X. Assim, eliminamos as alternativas A, C e D, pois existem elementos de Y que aparecem mais de uma vez no conjunto de relacionamentos.

Já no relacionamento T, temos que todo elemento de Y deve estar associado a 1 e somente 1 elemento de Z. Neste caso, cada elemento de Z pode estar associado a vários elementos de Y. Analisando as alternativas B e E, percebemos que apenas a alternativa E apresenta todos os elementos de Y nos relacionamentos. Logo, a letra E é a nossa resposta.

Gabarito: E

4. CESGRANRIO - PTNS (TRANSPETRO)/TRANSPETRO/Análise de Sistemas/Infraestrutura/2023.

Durante o desenvolvimento de um banco de dados, é possível construir uma representação gráfica de uma estrutura de dados, ilustrando as entidades, seus atributos e os relacionamentos entre elas. Tal representação gráfica é a(o)

- a) auditoria de dados
b) linguagem de consulta
c) normalização de dados
d) índice de tabelas
e) diagrama Entidade- Relacionamento

Comentário:

Durante o desenvolvimento de um banco de dados, é possível construir uma representação gráfica de uma estrutura de dados, ilustrando as entidades, seus atributos e os relacionamentos entre elas. Tal representação gráfica é o e) diagrama Entidade-Relacionamento.

O Diagrama Entidade-Relacionamento (ER) é uma representação gráfica utilizada no projeto de bancos de dados para visualizar e modelar as relações entre entidades. Ele emprega símbolos padronizados para representar entidades, atributos e os vínculos entre as entidades, conhecidos como relacionamentos. As entidades são objetos do mundo real, como clientes ou produtos, enquanto os relacionamentos delineiam as interconexões entre essas entidades, indicando como elas se associam. A modelagem ER proporciona uma visão visual e intuitiva da estrutura de dados, auxiliando os desenvolvedores na compreensão e design eficiente de bancos de dados.

Gabarito: E

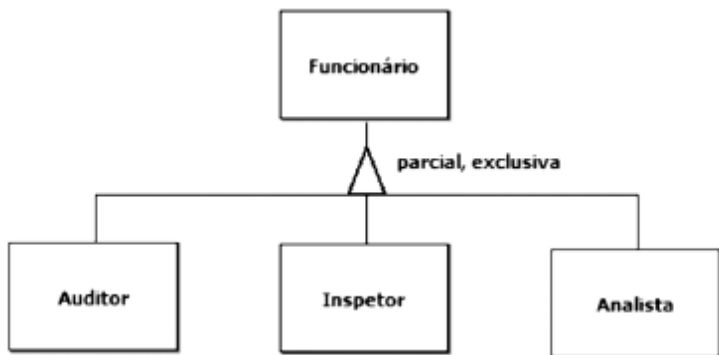
5. CESGRANRIO - PTNS (TRANSPETRO)/TRANSPETRO/Análise de Sistemas/SAP - Finanças e Contabilidade/2023



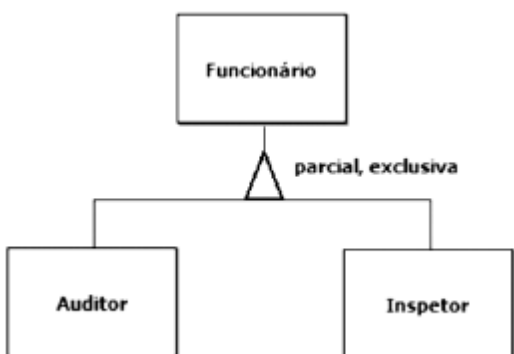
Uma agência reguladora é composta por três categorias de funcionários: analistas, auditores e inspetores. De modo geral, um funcionário deve pertencer a uma única categoria, porém alguns auditores também exercem a função de inspetor.

Qual diagrama E-R retrata, fidedignamente, a estrutura administrativa dessa agência reguladora?

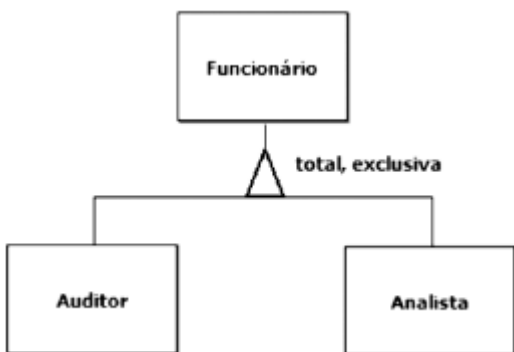
a)



b)

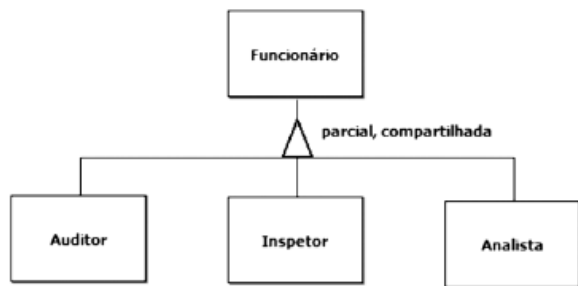


c)

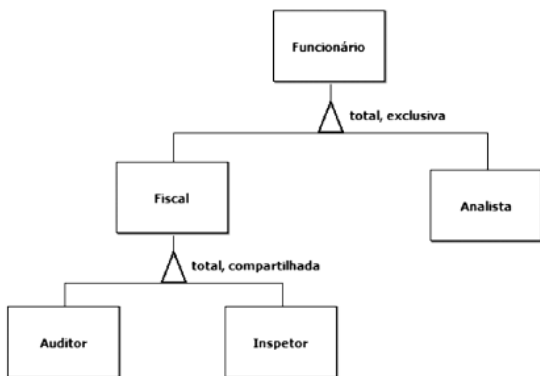


d)





e)



Comentário:

Primeiramente, todos os funcionários são Analistas ou da área fiscal. Isso nos leva a primeira divisão ou especialização que será total e exclusiva. Quando se está na área fiscal é possível ser auditor ou inspetor com responsabilidade compartilhada. Assim temos uma segunda especialização total e compartilhada. Logo, a nossa resposta encontra-se na alternativa E.

Gabarito: E

6. CESGRANRIO - PTNS (TRANSPETRO)/TRANSPETRO/Análise de Sistemas/Processos de Negócios/2023

Sejam A, B e D conjuntos não vazios, diferentes entre si e que atendam às seguintes propriedades:

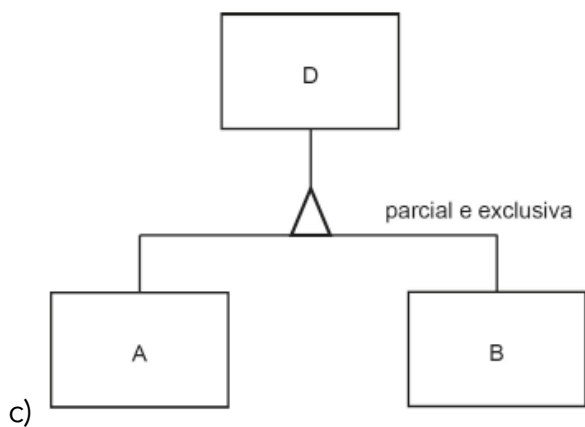
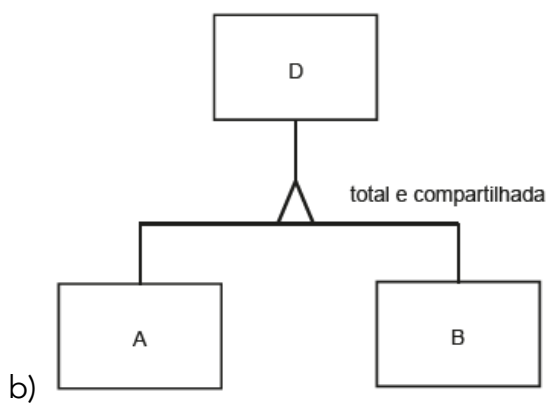
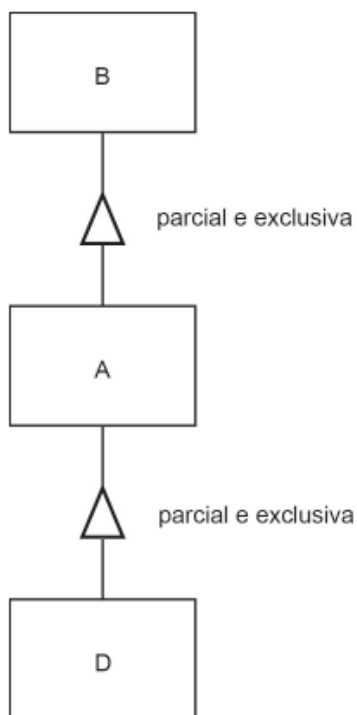
1. $A \subset D$
2. $B \subset D$
3. $B \cap A \neq \emptyset$
4. $B \cup A \neq D$

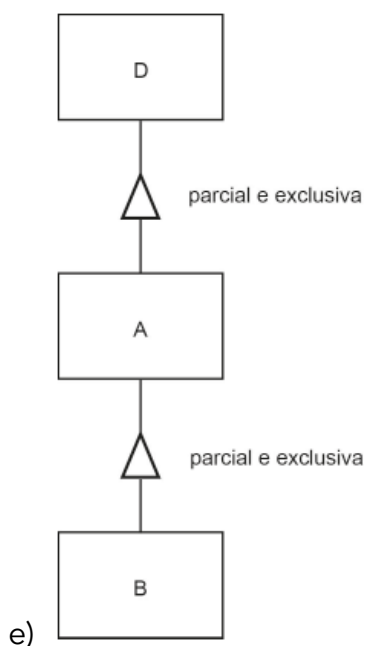
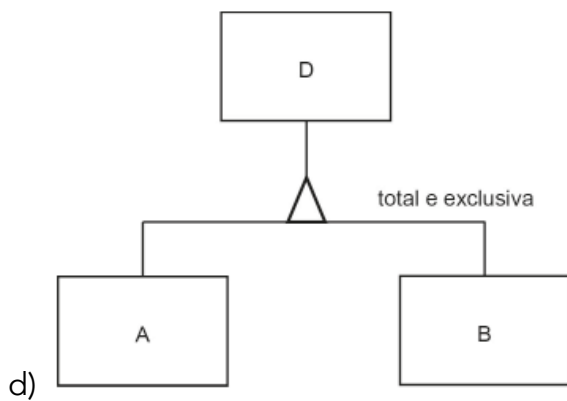
Admita, ainda, que esses conjuntos correspondam às entidades de mesmo nome de um diagrama Entidade-Relacionamento (E-R).

Qual diagrama E-R satisfaz todas as propriedades apresentadas?

a)







Comentário:

Vamos analisar as alternativas:

A - RESPOSTA ERRADA - A alternativa A está incorreta, pois o diagrama apresentado contradiz as regras estabelecidas. O correto seria A estar contido em D, e B estar contido em A, mas o diagrama mostra D contido em A e A contido em B.

B - RESPOSTA ERRADA - A alternativa B também está incorreta, pois o diagrama impõe uma restrição de totalidade, o que entra em conflito com a regra 4 ($BUA \neq D$). Em casos de restrição de totalidade, $A \cup B$ deve ser sempre igual a D, mas a regra 4 fala que BUA é diferente de D.

C - RESPOSTA ERRADA - A alternativa C está incorreta, pois o diagrama indica uma restrição de exclusividade, o que vai contra a regra 3. Em situações de exclusividade, $A \cap B$ deve ser igual a \emptyset , mas o diagrama não respeita essa condição.



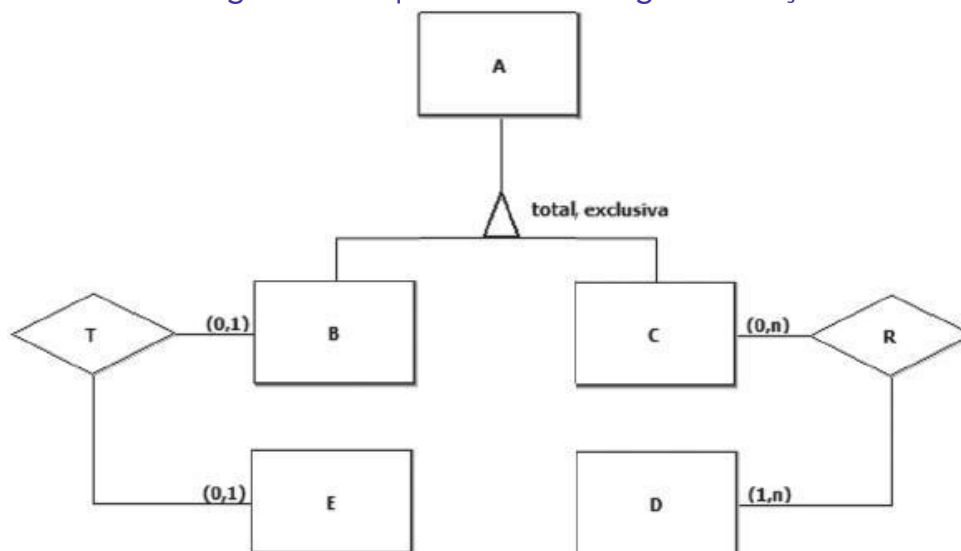
D - RESPOSTA ERRADA - A alternativa D apresenta as mesmas inconsistências que a alternativa B. O diagrama contradiz as regras estabelecidas, incluindo uma restrição de totalidade que não condiz com a regra 4.

E - RESPOSTA CORRETA - A única opção que respeita todas as regras. O diagrama mostra que A é uma especialização de D, B é uma especialização de A, e existe a possibilidade de valores em D que não pertencem nem a A nem a B. Isso está em conformidade com as regras estabelecidas.

Gabarito: E

7. CESGRANRIO - PNS (ELETRONUCLEAR)/ELETRONUCLEAR/Analista de Sistemas/Aplicações e Segurança de TIC/2022

A Figura a seguir exibe um diagrama ER, que contém uma generalização total e exclusiva.



Um banco de dados relacional, cujo esquema tem por base o modelo conceitual acima, é composto pelos conjuntos A, B, C, D, E, R e T. Uma parte desse banco de dados é exibida a seguir.

$A = \{ a1, a2, a3, a4, a5, a6 \}$

$D = \{ d1, d2 \}$

$E = \{ e1, e2 \}$

$R = \{ (a1, d1), (a1, d2), (a2, d1), (a2, d2), (a4, d2) \}$

$T = \{ (a5, e1), (a6, e2) \}$

Para que esse banco de dados seja coerente com as relações definidas no modelo ER acima, o conjunto B tem de ser formado pelos elementos

- a) $\{ \}$
- b) $\{ a1, a2, a3, a4 \}$
- c) $\{ a1, a2, a3, a4, a5, a6 \}$
- d) $\{ a3, a5, a6 \}$
- e) $\{ a5, a6 \}$



Comentário:

Dessa forma, iremos analisar os elementos fornecidos:

$$A=\{a1,a2,a3,a4,a5,a6\}$$

$$D=\{d1,d2\}$$

$$E=\{e1,e2\}$$

$$R=\{(a1,d1),(a1,d2),(a2,d1),(a2,d2),(a4,d2)\}$$

$$T=\{(a5,e1),(a6,e2)\}$$

O conjunto $A=\{a1,a2,a3,a4,a5,a6\}$ deve estar associado com B ou C. Considerando que o relacionamento R entre C e D é do tipo $(0,N:1,M)$, ele implica a existência de uma tabela associativa, onde todo elemento de C estará em R devido à obrigação do relacionamento entre C e D. A presença dos elementos $a1,a2$, e $a4$ em R indica que a entidade B terá, no mínimo, os elementos $a3$, $a5$ e $a6$. Isso é uma decorrência da exclusão mútua, onde os elementos de A devem estar em B ou em C. Portanto, B deve conter $a3,a5$ e $a6$.

Assim, a alternativa correta é a LETRA D.

Gabarito: D

8. CESGRANRIO - Tec Cien (BASA)/BASA/Tecnologia da Informação/2022

No banco de dados de um banco comercial, há uma tabela TRANSFERENCIA onde são registrados a data, a hora, o minuto e o segundo da transferência, além do valor transferido entre duas contas-correntes desse banco. Essa tabela tem, adicionalmente, duas chaves estrangeiras (FKs) que apontam para a tabela CONTA-CORRENTE. Considere que há, no máximo, uma transferência por segundo entre duas contas-correntes.

A chave primária (PK) da tabela TRANSFERENCIA (data, hora, minuto, segundo, valor, conta-origem, conta-destino) deve ser formada exatamente

- pelas duas FKs
- por todos os atributos
- pelas duas FKs e a data
- pela data, hora e minuto
- por todos os atributos exceto o valor

Comentário:

A chave primária (PK) de uma tabela é única para identificar de forma inequívoca cada registro na tabela. Dada a descrição da tabela TRANSFERENCIA, a combinação dos atributos data, hora, minuto, segundo, conta-origem e conta-destino pode formar uma chave primária única para cada registro, pois:

- Data, hora, minuto e segundo: Esses atributos garantem a unicidade no nível do segundo, conforme especificado na condição de "no máximo, uma transferência por segundo".
- Conta-origem e conta-destino: Garantem a unicidade no contexto das contas-correntes envolvidas.



Portanto, a resposta correta é:

e) por todos os atributos exceto o valor.

Gabarito: E

9. CESGRANRIO - Tec Cien (BASA)/BASA/Tecnologia da Informação/2021

Um site da Web é especializado em aluguel de casas e apartamentos por temporada. Tanto os clientes (locadores) interessados em disponibilizar seus imóveis para aluguel quanto os clientes interessados em alugar (locatários) um imóvel para seu uso devem ser registrados no site. Vale ressaltar que mesmo aqueles que oferecem seus imóveis para aluguel também podem usar os serviços do site para encontrar um imóvel para passar suas férias ou para usar em viagens de negócios.

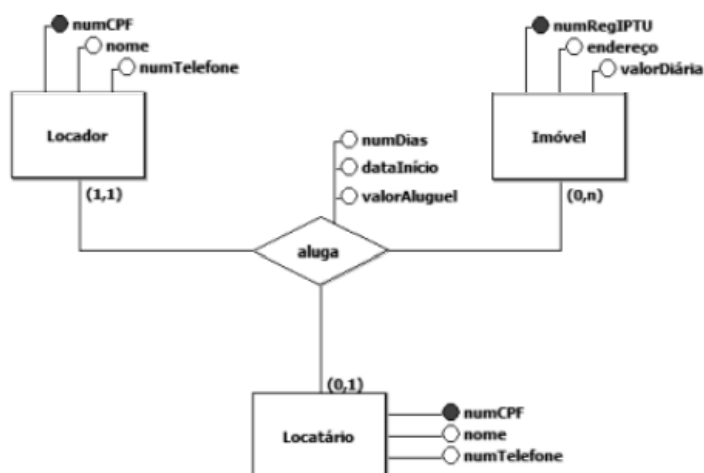
Os responsáveis pelo site desejam contratar o desenvolvimento de um sistema de informação que lhes permita saber o seguinte:

- Quais imóveis estão disponíveis para alugar?
- Quais se encontram alugados em determinado momento?
- Quais estarão disponíveis nos próximos 15 dias?
- Quem é o locador que ofereceu determinado imóvel para aluguel?
- Quais são os imóveis que determinado locatário reservou para aluguel nos próximos 90 dias?

Vale ressaltar, ainda, que os responsáveis pelo site desejam que o registro de um aluguel seja fisicamente excluído do banco de dados tão logo esse aluguel se encerre. Além disso, querem que o banco de dados não contenha redundâncias de dados desnecessárias.

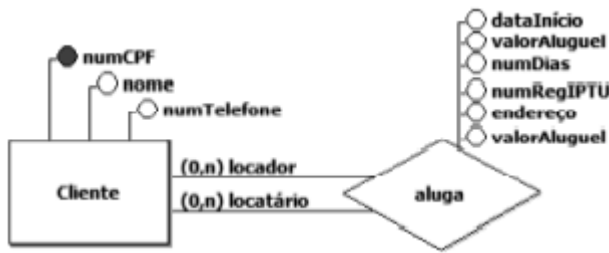
Qual modelo conceitual de dados atende aos requisitos apresentados?

a)

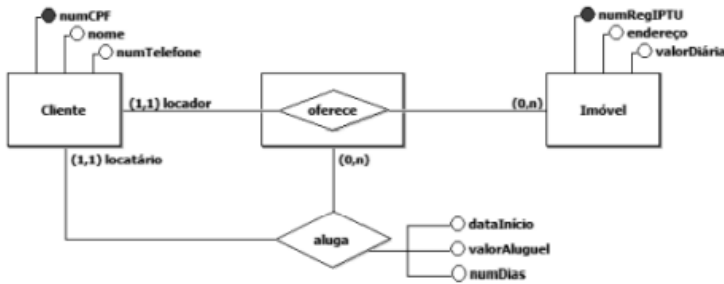


b)

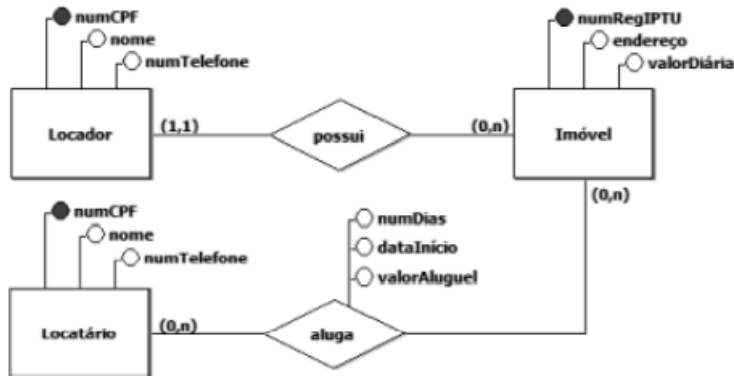




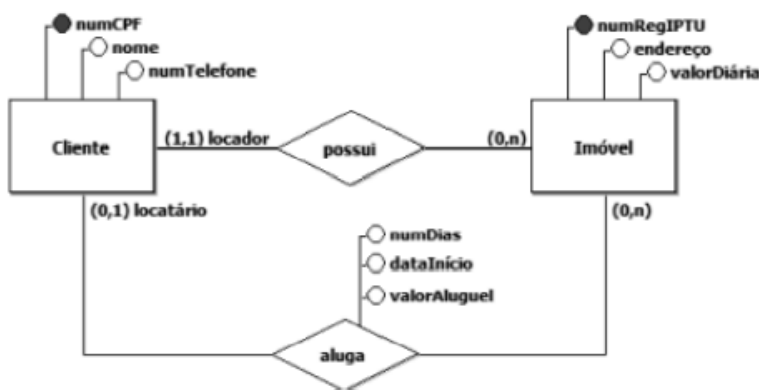
c)



d)



e)



Comentário:

É possível notar que a alternativa E cumpre com todos os requisitos da questão, pois da forma como foi estruturado o diagrama, os clientes podem ser tanto locatários quanto locadores, não apresentando duplicidades no banco. A exclusão do aluguel, após o seu término, não implica em nenhum problema, como a exclusão de algum outro dado importante. E através de SELECTs, é

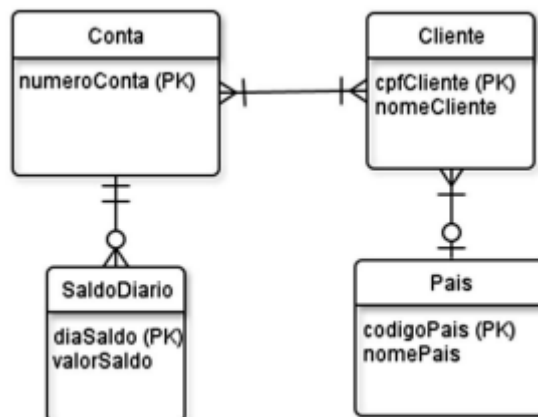


possível recuperar todos os dados solicitados pela questão. Logo, a resposta correta encontra-se na alternativa E.

Gabarito: E

10. CESGRANRIO - Tec Cien (BASA)/BASA/Tecnologia da Informação/2021

O seguinte diagrama, feito segundo o Modelo Entidades e Relacionamentos, indica entidades, relacionamento e atributos e, ainda, as chaves primárias das entidades de um pequeno banco de dados que guarda o saldo atual de várias contas, que podem pertencer a um ou a mais clientes que residem, possivelmente, em países distintos.



Foi feita uma transformação desse diagrama em tabelas relacionais para a terceira forma normal, na qual o sublinhado indica chaves primárias e não são usadas chaves substitutas ou artificiais (surrogate keys). Qual a melhor representação dessa transformação?

a)

Conta(numeroConta,cpfCliente)

Cliente(cpfCliente,nomeCliente,codigoPais)

SaldoDiario(numeroConta,diaSaldo,valorSaldo)

Pais(codigoPais,nomePais)

b)

Conta(numeroConta,cpfCliente,diaSaldo)

Cliente(cpfCliente,nomeCliente,codigoPais,numeroConta)

SaldoDiario(diaSaldo,valorSaldo,numeroConta)

Pais(codigoPais,nomePais,cpfCliente)



c)

Conta(numeroConta,cpfCliente,diaSaldo)

Cliente(cpfCliente,nomeCliente,numeroConta,codigoPais)

ContaCliente(numeroConta,cpfCliente)

SaldoDiario(numeroConta,diaSaldo,valorSaldo)

Pais(codigoPais,nomePais,cpfCliente)

d)

Conta(numeroConta)

Cliente(cpfCliente,nomeCliente)

ContaCliente(numeroConta,cpfCliente)

SaldoDiario(numeroConta,cpfCliente,diaSaldo,valorSaldo)

Pais(codigoPais,nomePais,cpfCliente)

e)

Conta(numeroConta)

Cliente(cpfCliente,nomeCliente,codigoPais)

ContaCliente(numeroConta,cpfCliente)

SaldoDiario(numeroConta,diaSaldo,valorSaldo)

Pais(codigoPais,nomePais)

Comentário:

Percebemos que nossa estrutura apresenta problemas significativos de dependência, notando a relação muito para muitos ("pé de galinha") entre conta e cliente. Para resolver esse problema, é necessário criar uma nova tabela associativa, resultando em um total de cinco tabelas. Com essa análise, eliminamos as opções A e B. As demais assertivas propõem a criação da tabela ContaCliente, que deve utilizar as chaves primárias das relações originárias. Além disso, para eliminar as dependências nas tabelas Saldodiario e Pais é preciso inserir chaves estrangeiras nas tabelas principais. Dessa forma, as tabelas Conta e Cliente devem incluir os atributos codigopais e numeroconta.



Portanto, ao final, teremos as seguintes tabelas:

Conta(numeroConta),
Cliente(cpfCliente, nomeCliente, codigoPais),
ContaCliente(numeroConta, cpfCliente),
SaldoDiario(numeroConta, diaSaldo, valorSaldo), e
Pais(codigoPais, nomePais).

O que nos leva a resposta na alternativa E.

Gabarito: E

11. CESGRANRIO - Esc BB/BB/Agente de Tecnologia/2021

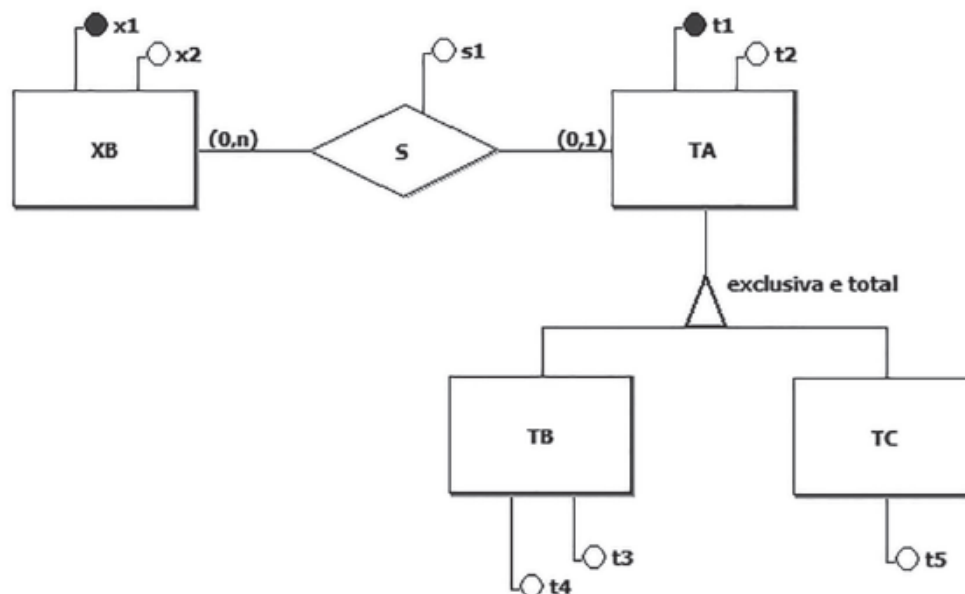
Esquemas de bancos de dados relacionais podem ser descritos por meio de notações alternativas à linguagem SQL.

Em uma dessas notações, uma tabela (relação) é descrita por meio de um nome e de um conjunto de nomes de colunas (atributos), separadas por vírgulas.

Os demais elementos de uma tabela são os seguintes:

- Colunas sublinhadas compõem a chave primária.
- Colunas que admitem o valor nulo são exibidas entre colchetes.
- Chaves estrangeiras são representadas por meio da cláusula REF:<lista_de_colunas> REF <nome_de_tabela>

Nesse contexto, considere a Figura a seguir, que exibe um diagrama E-R.



- a) XB(x1, x2, t1, s1)
t1 REF TA
TA(t1, t2, tipo, t3, t4, t5)



b)
XB(x1, x2)
TA(t1, t2, tipo)
TB(t1, t3, t4)
t1 REF TA
TC(t1, t5)
t1 REF TA
S(x1, t1, s1)
x1 REF XB
t1 REF TA

c)
XB(x1, x2)
TA(t1, t2, tipo, [t3], [t4], [t5])
S(x1, t1, s1)
x1 REF XB
t1 REF TA

d)
XB(x1, x2)
TA(t1, t2, tipo, [t3], [t4], [t5])
S(x1, t1, s1)
x1 REF XB
t1 REF TA

e)
XB(x1, x2, t1, s1)
t1 REF TA
TA(t1, t2, tipo)
TB(t1, t3, t4)
t1 REF TA
TC(t1, t5)
t1 REF TA

Comentário:

Vamos analisar as opções:

LETRA A:

XB(x1, x2, t1, s1)
t1 REF TA
TA(t1, t2, tipo, t3, t4, t5)

Estamos lidando com uma especialização/generalização exclusiva, onde uma entidade pode pertencer, no máximo, a uma das subclasses da especialização. A tabela TA contém atributos que são membros de TB e TC, violando essa regra. Além disso, a tabela XB pode ter o atributo s1 como um relacionamento (cardinalidade 1:n).



Portanto, não está de acordo com o Diagrama E-R. Afirmativa INCORRETA.

LETRA B:

XB(x1, x2)
TA(t1, t2, tipo)
TB(t1, t3, t4)
t1 REF TA
TC(t1, t5)
t1 REF TA
S(x1, t1, s1)
x1 REF XB
t1 REF TA

Correto! Aqui, cada entidade do modelo conceitual tornou-se uma tabela, incluindo a tabela de relacionamento S. Esta opção está de acordo com o Diagrama E-R. O gabarito correto dado pela banca é a LETRA B.

LETRA C:

XB(x1, x2)
TA(t1, t2, tipo, [t3], [t4], [t5])
S(x1, t1, s1)
x1 REF XB
t1 REF TA

Estamos novamente diante de uma especialização/generalização exclusiva, e a tabela TA contém atributos membros de TB e TC, violando a regra. Portanto, não está de acordo com o Diagrama E-R. Afirmativa INCORRETA.

LETRA D:

XB(x1, x2)
TA(t1, t2, tipo, [t3], [t4], [t5])
S(x1, t1, s1)
x1 REF XB
t1 REF TA

Como nas anteriores, estamos tratando de uma especialização/generalização exclusiva, e a tabela TA contém atributos membros de TB e TC. Portanto, não está de acordo com o Diagrama E-R. Afirmativa INCORRETA.

LETRA E:

XB(x1, x2, t1, s1)
t1 REF TA
TA(t1, t2, tipo)



TB(t1, t3, t4)
t1 REF TA
TC(t1, t5)
t1 REF TA

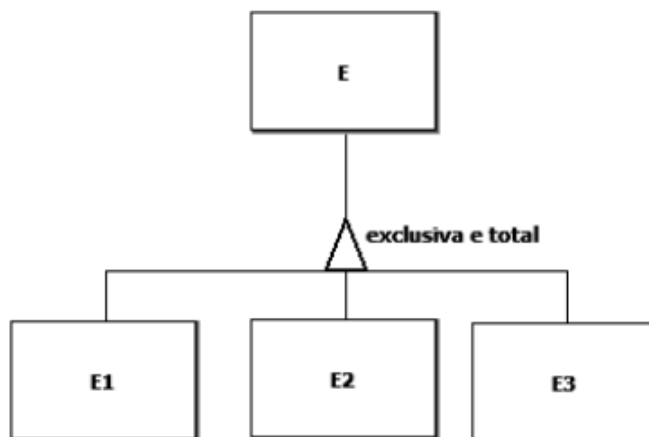
O problema aqui está na cardinalidade mínima do relacionamento S. Como o relacionamento é opcional, pode existir um elemento em XB que não se relacione com TA, resultando em um valor vazio para T1. Embora não esteja incorreto do ponto de vista lógico, a resposta não está correta de acordo com o Diagrama E-R.

Portanto, o gabarito correto é a LETRA B.

Gabarito: B

12. CESGRANRIO - Tec Cien (BASA)/BASA/Tecnologia da Informação/2021

O modelo conceitual de dados apresentado a seguir exibe uma generalização exclusiva e total.



Um banco de dados é composto por um conjunto cujos elementos são instâncias da entidade E presente no diagrama acima.

$E = \{e1, e2, e3, e4, e5, e6, e7, e8, e9, e10\}$

Nesse cenário, quais subconjuntos de E NÃO violam as propriedades dessa generalização?

a)

$E1 = \{\}$

$E2 = \{\}$

$E3 = \{\}$

b)



$E1 = \{e1, e2, e3\}$

$E2 = \{e4, e5, e6\}$

$E3 = \{e7, e8, e9\}$

c)

$E1 = \{e1, e3, e5, e7, e9\}$

$E2 = \{e2, e4, e6, e8, e10\}$

$E3 = \{e3, e6\}$

d)

$E1 = \{e1, e3, e5, e7, e9\}$

$E2 = \{e2, e4, e6, e8, e10\}$

$E3 = \{\}$

e)

$E1 = \{e1, e2, e3, e4, e5, e6, e7, e8, e9\}$

$E2 = \{e10\}$

$E3 = \{e10\}$

Comentário:

A única alternativa que divide as instâncias entre as entidades E1, E2 e E3 sem repetição e sem "esquecer" de ninguém é a letra D. As demais deixam de colocar alguém nos conjuntos, o que fere a especialização total, ou repetem elementos em mais de um conjunto, o que fere a especialização exclusiva.

Gabarito: D

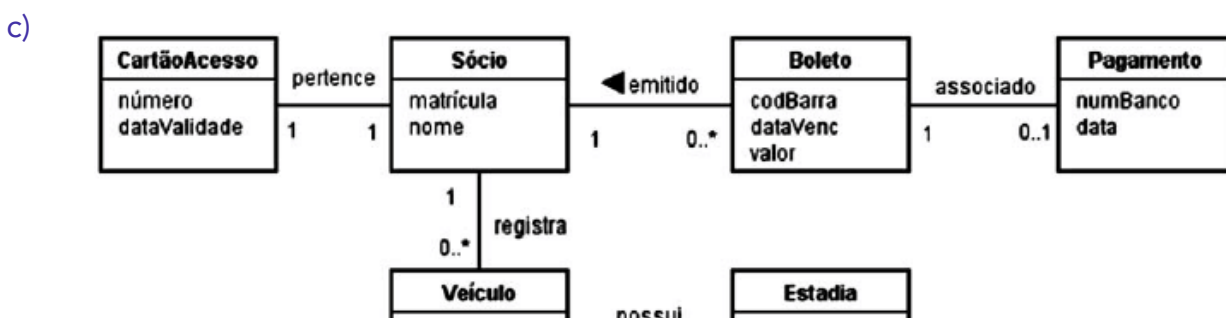
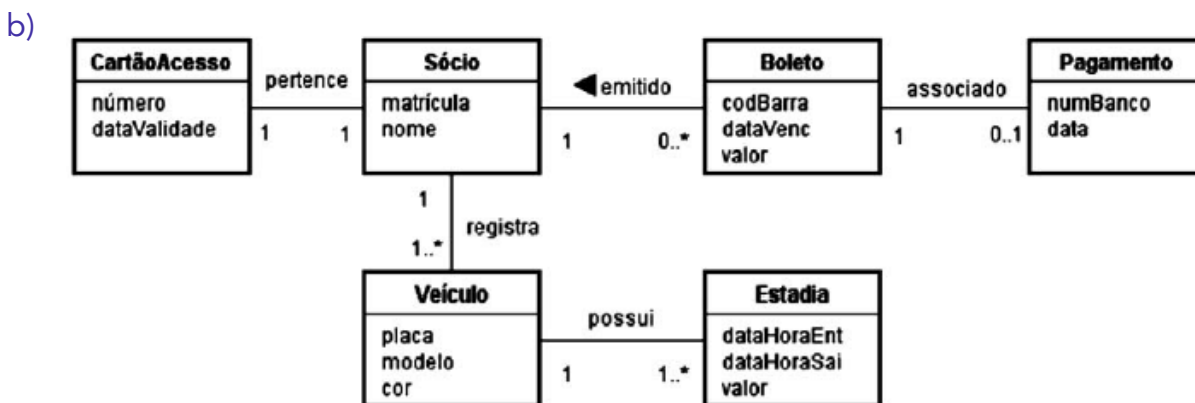
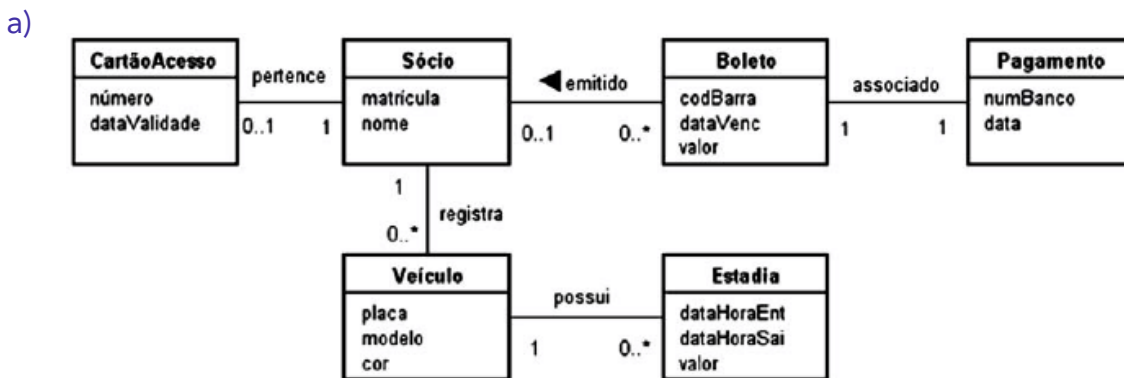
13. CESGRANRIO - Técnico (UNIRIO)/Tecnologia da Informação/2019

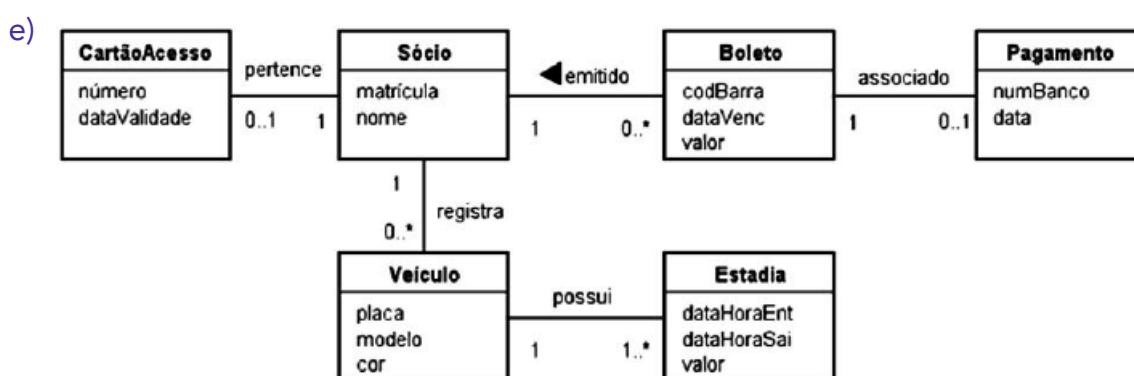
A empresa que irá administrar o estacionamento de um clube decidiu desenvolver um sistema de informação específico para isso. Apenas os sócios poderão ter acesso ao estacionamento. Assim sendo, o sócio que tiver interesse em usar o estacionamento terá de procurar o balcão da empresa para se registrar no sistema. No ato do registro, serão informados o nome do sócio e a sua matrícula no clube, além de ser gerado, automaticamente, o número do cartão de acesso ao



estacionamento e a data de validade desse cartão. Cada cartão só poderá ser usado por um único sócio. Após ser cadastrado no sistema, um sócio poderá registrar os dados (placa, modelo e cor) dos veículos que ele irá estacionar. Um veículo só pode ser registrado por um único sócio. O cadastramento dos veículos é obrigatório, pois uma câmera de vídeo irá capturar os caracteres das placas para verificar se eles estão devidamente cadastrados. Caso não o estejam, a cancela que dá acesso ao estacionamento não será aberta. Após a saída de um veículo, o sistema irá registrar o período em que ele ficou no estacionamento. Esse registro irá conter a data e a hora de entrada, a data e a hora de saída, e o valor a ser pago pela estadia. No final do mês, será gerado um boleto para cada sócio que utilizou o estacionamento durante o mês em questão. O boleto terá um número de código de barra, a data de vencimento e o valor a ser pago. Quando o boleto for pago, será inserido no sistema um registro de pagamento, que irá informar o número do banco em que o boleto foi pago e a data do pagamento.

Qual diagrama de classes conceituais representa adequadamente os conceitos envolvidos no negócio descrito acima e as relações entre esses conceitos?





Comentário:

Essa é uma questão que verifica o seu entendimento sobre cardinalidade. Perceba que:

Cada cartão de acesso está associado a 1 sócio e cada sócio possui apenas 1 cartão de acesso.

Cada sócio pode registrar zero ou mais veículos, mas cada veículo só pode pertencer a 1 sócio.

Cada veículo pode ter zero ou várias estadias, mas cada estadia deve ser associada a apenas 1 veículo.

Todos os meses os sócios pagarão seus respectivos boletos, mas cada boleto só pode pertencer a 1 sócio.

Todo boleto possui zero ou 1 pagamento. Veja que o pagamento só é registrado depois que é feito. Logo, até o pagamento o boleto não estará associado a nenhum pagamento.

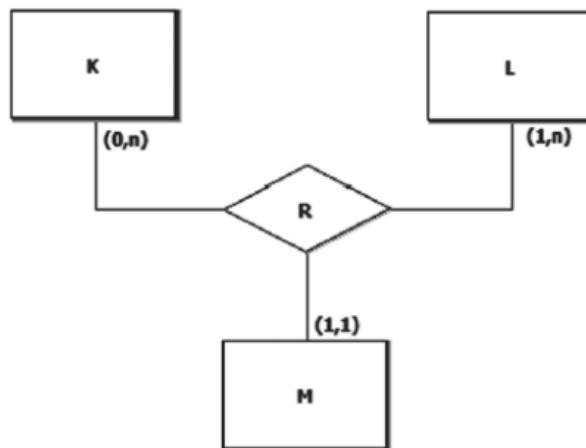
A partir destas descrições, chegamos na resposta correta na alternativa D.

Gabarito: D

14. CESGRANRIO - Técnico (UNIRIO)/Tecnologia da Informação/2019

A Figura a seguir representa um diagrama E-R.





Seja x uma instância de K , y uma instância de L e z uma instância de M . A cardinalidade máxima exibida logo abaixo da entidade L significa que

- A) um par (x,z) pode estar associado a muitas instâncias de L .
- B) a entidade L possui muitas instâncias que participam de R .
- C) uma instância de K pode estar associada a muitas instâncias L .
- D) uma instância de M pode estar associada a, no máximo, uma instância de L .
- E) a relação R possui muitas instâncias de L .

Comentário:

A questão demonstra um relacionamento com 3 entidades (ternário). Neste caso, devemos avaliar as cardinalidades através de pares de relacionamento. Assim, neste caso, as entidades K e M (em pares) podem ser relacionadas com 1 ou muitas entidades de L , conforme mencionado na Letra A.

Vamos comentar as demais alternativas:

ERRADA. A entidade L pode possuir 1 ou muitas instâncias participantes de R .

ERRADA. Em tese, estaria certo se o relacionamento não fosse ternário. Todavia, a entidade M possui um relacionamento obrigatório $(1,1)$. Assim, uma instância de K e M (em conjunto) só poderia se associar a instâncias de L .

ERRADA. A questão inverteu os relacionados. De M para L , é 1 ou muitas, como vimos. Por outro lado, de L para M , é 1 e apenas 1 (relacionamento obrigatório).

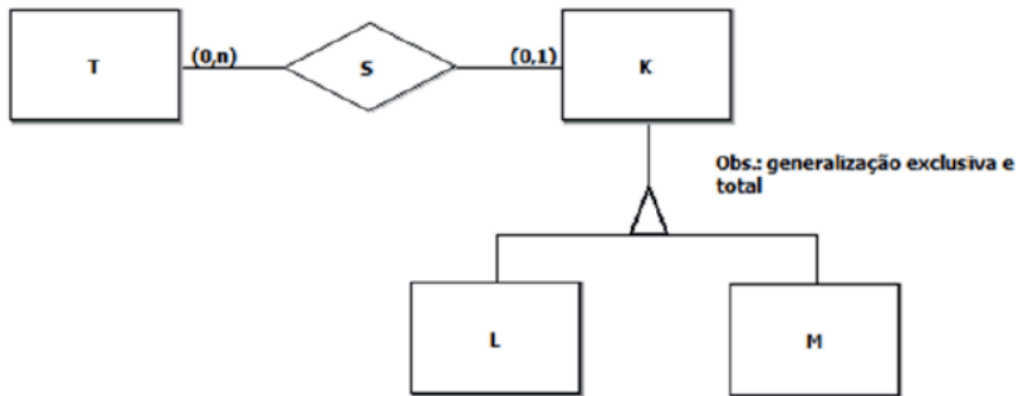
ERRADA. Pode possuir 1 ou muitas.

Gabarito: A.

15. CESGRANRIO - Analista (UNIRIO)/Tecnologia da Informação/2019

O diagrama E-R, exibido pela Figura abaixo, representa o modelo conceitual de um banco de dados.





Suponha que os elementos do conjunto T a seguir sejam instâncias da entidade de mesmo nome, presente no diagrama E-R acima.

$T = \{t1, t2, t3, t4, t5\}$

Quais conjuntos completam esse banco de dados de modo que as regras definidas no modelo E-R não sejam violadas?

A $K = \{k1, k2, k3, k4, k5, k6\}$

$L = \{k1, k2, k3, k4, k5, k6\}$ $M = \{ \}$

$S = \{(t1, k1), (t2, k1), (t3, k1), (t4, k1)\}$ B $K = \{k1, k2, k3, k4, k5, k6\}$

$L = \{k1, k2, k3, k4\}$

$M = \{k4, k5, k6\}$ $S = \{ \}$

C $K = \{k1, k2, k3, k4, k5, k6\}$

$L = \{k1, k2, k3, k4\}$

$M = \{k4, k5, k6\}$ $S = \{(t1, k1), (t2, k2), (t4, k6)\}$ D $K = \{k1, k2, k3, k4, k5, k6\}$ $L = \{k1, k2\}$ $M = \{k3, k4, k5, k6\}$

$S = \{(t2, k1), (t3, k1), (t4, k1), (t4, k6)\}$ E $K = \{k1, k2, k3, k4, k5, k6\}$ $L = \{k1, k2\}$

$M = \{k4, k5, k6\}$ $S = \{(t1, k6), (t2, k5), (t3, k4), (t4, k3), (t5, k2)\}$

Comentário:

Para resolver essa questão temos que olhar para as regras descritas do modelo:

1. Cardinalidade: Cada instância da entidade K deve estar associada a zero ou várias instâncias da entidade de T. Já cada instância da entidade T pode estar associada a no mínimo zero e no máximo uma instância de K.
2. Herança, que é descrita como uma generalização total e exclusiva, ou seja, todos os elementos da classe pai devem pertencer a 1 e apenas uma das classes filhas.

De posse dessas informações, podemos observar que o conjunto das instâncias de T foi informado. Pelas regras acima, cada elemento de T pode aparecer no máximo 1 vez no relacionamento S. Por outro lado, cada elemento de K pode aparecer várias vezes. Assim, analisando a letra A, percebemos que os relacionamentos presentes em S estão corretos.

A $K = \{k1, k2, k3, k4, k5, k6\}$

$L = \{k1, k2, k3, k4, k5, k6\}$ $M = \{ \}$



$$S = \{(t1, k1), (t2, k1), (t3, k1), (t4, k1)\}$$

Agora vamos analisar a lista de elementos presentes em K. Cada elemento de K deve estar presente em L ou M, mas nunca nos dois ao mesmo tempo. Se observarmos a letra A, todos os elementos de K pertencem a L, e nenhuma M. Isso é perfeitamente possível. Logo, a nossa resposta já está na alternativa A. Vamos entender os problemas presentes nas demais alternativas:

k4 aparece em L e M. Isso não pode acontecer pois a especialização é exclusiva.

Mais uma vez, k4 aparece em L e M. Isso não pode acontecer pois a especialização é exclusiva.

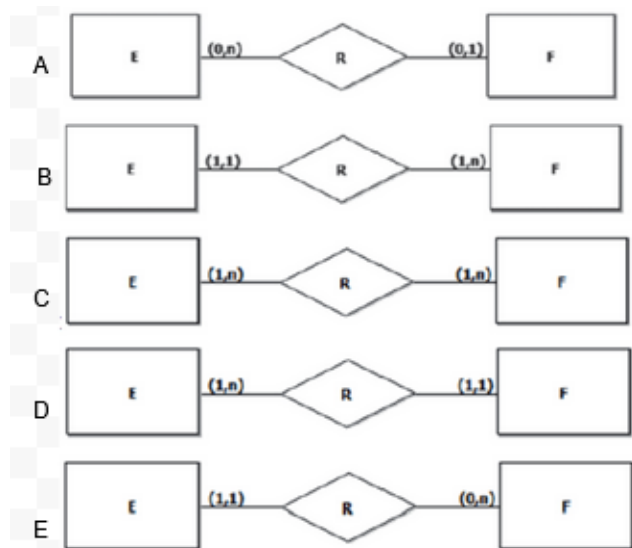
t4 está associado a dois elementos de K (k1 e k6) o que não é possível pois a cardinalidade máxima é 1.

k3 não aparece nem em L nem em M o que não é possível pois a especialização é total

Gabarito: A

16. CESGRANRIO - Analista (UNIRIO)/Tecnologia da Informação/2019

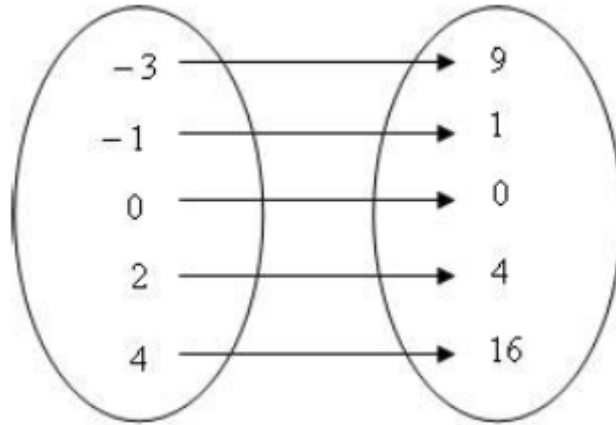
Em qual diagrama E-R a relação R define uma função de E em F?



Comentário.

Função é uma relação entre dois conjuntos A e B, não vazios, de forma que todo elemento de A tem um elemento correspondente em B e um elemento de A só possui um único correspondente no conjunto B. ("lei do cada" e "lei do todo"). Tendo então uma função $Y = X^2$, podemos enxergar isso como:



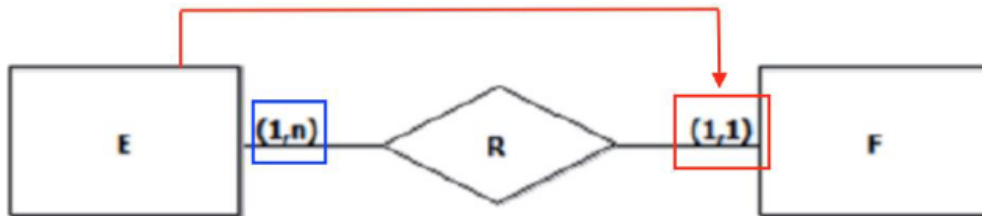


Então, para encontrarmos o diagrama, temos que achar uma relação onde que todo elemento de E tem um elemento correspondente em F e um elemento de E só possui um único correspondente no conjunto F.

Então temos que definir uma cardinalidade que corresponda com essa condição da função.

- A cardinalidade de E->F tem que ser de no mínimo 1 e no máximo 1 correspondente, o que gerará: [1,1]
- E a cardinalidade de F-> E tem que ser de no mínimo 1 e no máximo 1 ou n correspondente, o que gerará: [1, (1 ou n)]

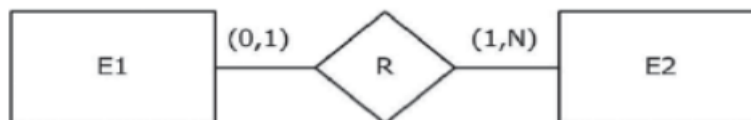
A única opção que satisfaz as duas condições é o diagrama:



Gabarito: D

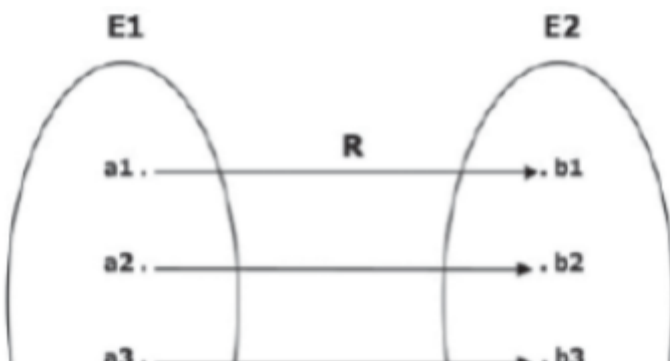
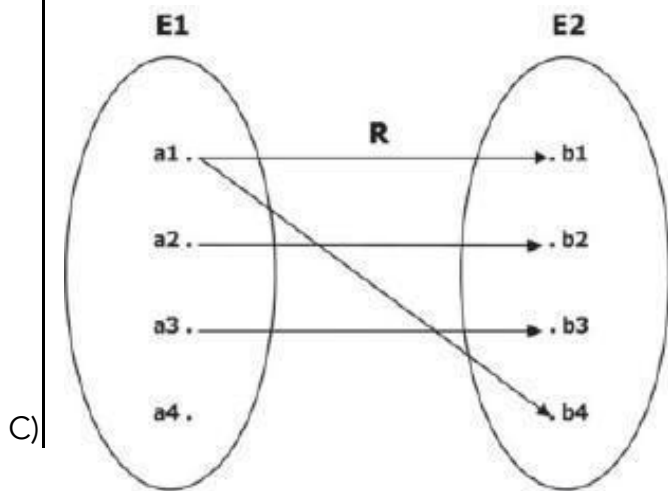
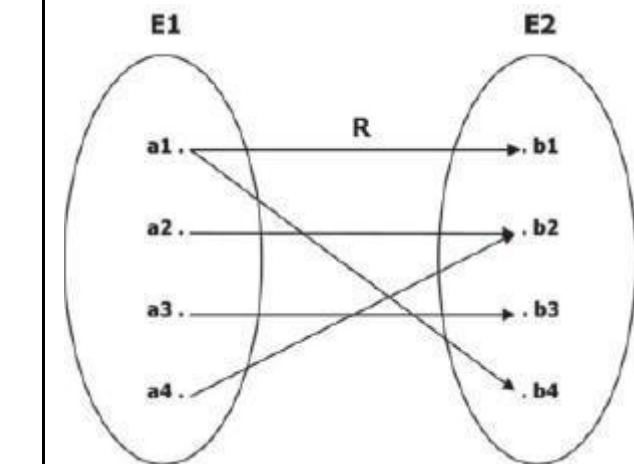
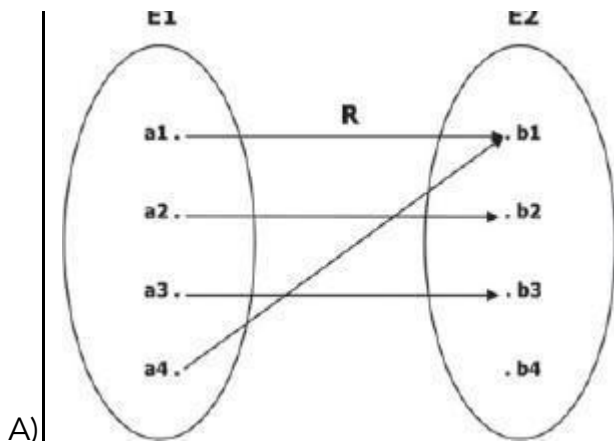
17. CESGRANRIO - Analista de Sistemas Júnior (TRANSPETRO)/ Processos de Negócio/2018

A Figura a seguir exibe um modelo E-R composto por duas entidades e uma relação.



Qual diagrama de Venn contém uma relação que atende às regras de multiplicidade definidas no modelo E-R acima?





D)

E)

Comentário.

O relacionamento R apresentado na questão tem cardinalidade 1:N. Analisando a figura, temos duas regras que devem ser respeitadas:

- uma instância da entidade E1 pode se relacionar com uma ou várias instâncias da entidade E2; e
- uma instância da entidade E2 pode se relacionar com nenhuma ou no máximo uma instância de E1.

Vamos analisar as alternativas:

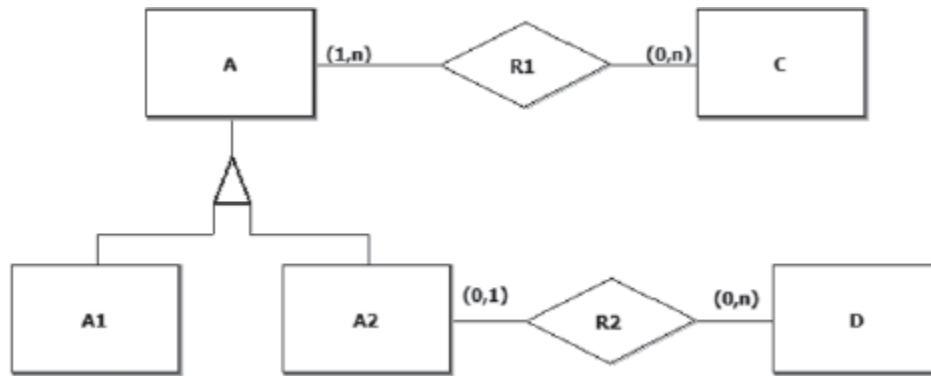
- ERRADA. Note que b1 se relaciona com mais de uma instância de E1, violando a regra 2.
- ERRADA. Note que b2 se relaciona com mais de uma instância de E1, violando a regra 2.
- ERRADA. Note que a4 não se relaciona com nenhuma instância de E1, violando a regra 1.
- CORRETA. Para cada instância de E1 e E2, as regras 1 e 2 são respeitadas.
- ERRADA. Note que b1 se relaciona com mais de uma instância de E1, violando a regra 2.

Gabarito: D

18. CESGRANRIO - Escriturário (BB)/"Sem Área"/2018

Um banco de dados possui um modelo conceitual cuja descrição é feita pelo diagrama E-R a seguir.





Admita-se que o estado desse banco de dados seja definido, em parte, pelos seguintes conjuntos:

$A = \{a1, a2, a3, a4, a5, a6\}$ $A1 = \{a2, a3, a4\}$

$A2 = \{a1, a5, a6\}$

$C = \{c1, c2\}$ $D = \{d1, d2, d3, d4\}$

Os elementos desses conjuntos representam instâncias das entidades presentes no diagrama E-R do banco de dados em questão.

As relações que completam o estado desse banco de dados, sem que nenhuma regra de cardinalidade ou generalização seja violada, são

A) $R1 = \{(a1, c1), (a2, c1)\}$ $R2 = \{\}$

B) $R1 = \{\}$

$R2 = \{\}$

C) $R1 = \{(a1, c1), (a1, c2)\}$ $R2 = \{(a2, d1), (a5, d2), (a6, d4)\}$

D) $R1 = \{(c1, a5), (c1, a2), (c2, a5), (c2, a2)\}$

$R2 = \{(a5, d1), (a6, d2), (a5, d3), (a5, d4)\}$

E) $R1 = \{(a5, c1), (a2, c1), (a5, c2), (a2, c2)\}$

$R2 = \{(a5, d1), (a6, d2), (a5, d3), (a5, d4), (a6, d4)\}$

Comentário.

Nesta questão temos que olhar para a cardinalidade. O primeiro ponto é que o relacionamento de C com A é obrigatório, ou seja, R1 não pode ser um conjunto vazio e deve apresentar pelo



menos 1 relacionamento para as instâncias c1 e c2. Isso anula as alternativas A e B. A letra A não apresenta relacionamento par a c2, enquanto a letra B não apresenta nenhum relacionamento.

O segundo ponto a ser observado é que apenas as instâncias de A2 podem ser relacionar com a entidade D. Ou seja, não pode haver relacionamento a2, a3 e a4 com os elementos de D. Isso tornar incorreta a alternativa C, que tenta relacionar a2 a d1.

Por fim, não podemos ter elementos de D associados a mais de um elemento de A2. Perceba que na letra E, d4 está associado a a5 e a6, o que não é possível.

Assim, chegamos a nossa resposta na alternativa D. Verifique as regras acima nestes relacionamentos. Perceba que todas as regras são respeitadas.

Gabarito: D.

19. CESGRANRIO - Profissional (LIQUIGÁS)/Analista de Sistemas/Júnior TI/2018/Edital 02

Os conjuntos a seguir representam um banco de dados relacional.

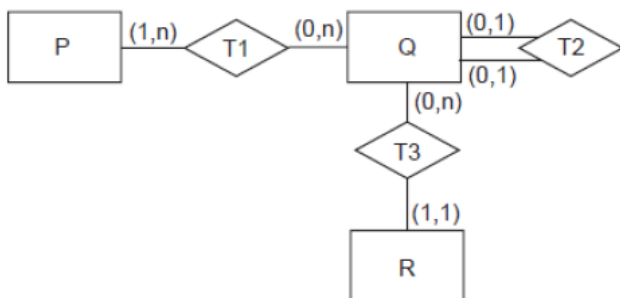
$P = \{p1, p2, p3\}$

$Q = \{q1, q2, q3\}$

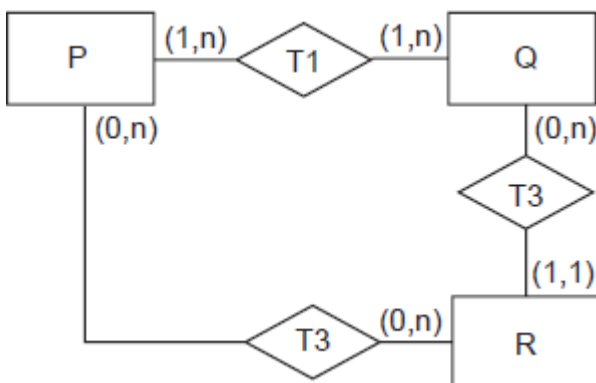
$R = \{r1, r2, r3, r4\}$ $T1 = \{(p1, q1), (p1, q2), (p1, q3)\}$ $T2 = \{ \}$ $T3 = \{(q1, r1), (q2, r3), (q3, r4)\}$

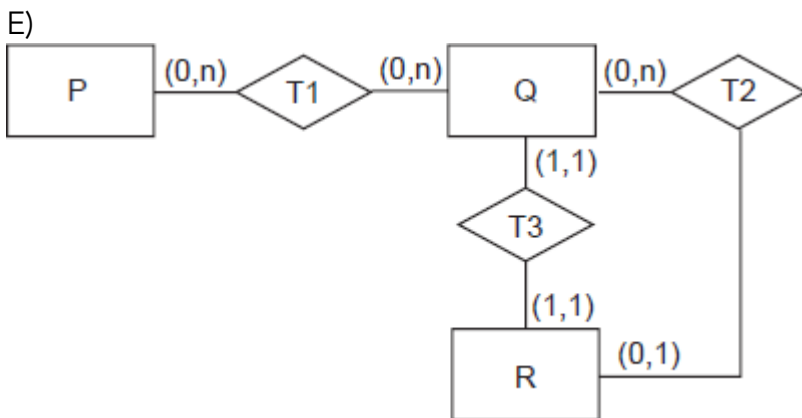
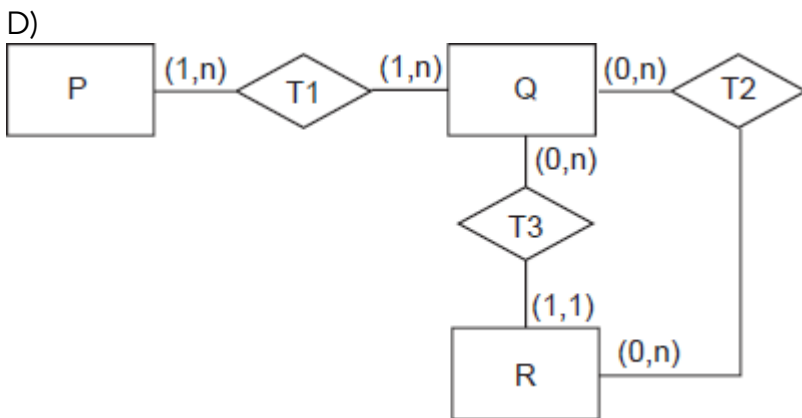
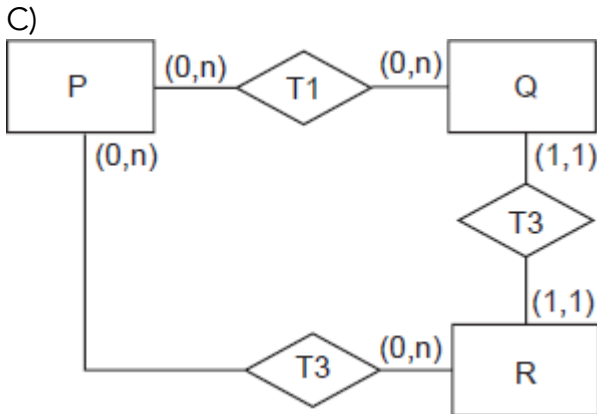
Qual modelo E-R define regras de cardinalidade compatíveis com esse banco de dados?

A)



B)





Comentário.

Vamos analisar cada alternativa e identificar inconsistências no modelo E-R que não devem existir neste banco de dados.

a) CORRETO. O que podemos inferir de acordo com o que nos foi dado na questão: O relacionamento T1 existe entre as entidades P e Q. Temos a instância p1 se relacionando com três instâncias de Q (q1, q2, q3). Podemos concluir, com certeza, que a entidade P se relaciona no máximo com N instâncias de Q e no mínimo com 0 (zero), porque existem instâncias de P que não estão relacionadas com Q. A entidade Q pode se relacionar no mínimo com uma instância de P, cardinalidade mínima 1.

O relacionamento T2 não é obrigatório, então possui cardinalidade mínima 0.



E, no relacionamento T3, a entidade R pode se relacionar ou não com a entidade Q, ou seja, cardinalidade mínima 0, porque a instância r_2 não se relaciona com a entidade Q. A entidade Q possui relacionamento obrigatório com R, cardinalidade mínima 1.

b) **ERRADO.** Podemos eliminar essa alternativa porque não existe o relacionamento T3 entre P e R. A entidade P pode se relacionar ou não com a entidade Q, temos um relacionamento opcional, então a cardinalidade mínima é 0.

c) **ERRADO.** Também eliminamos esta alternativa porque não existe o relacionamento T3 entre P e R. A cardinalidade mínima de Q em relação a P é 1, porque todas as instâncias de Q estão relacionadas a alguma instância de P. E, a cardinalidade mínima de R em relação a Q é 0, porque r_2 não está relacionada com a entidade Q.

d) **ERRADO.** No relacionamento T1, existem instâncias de P que não estão relacionadas com instâncias de Q, por isso a cardinalidade mínima é 0.

e) **ERRADO.** No relacionamento T1, Q tem que estar relacionada no mínimo com uma instância de P (cardinalidade mínima 1), porque todas as instâncias de Q estão relacionadas a alguma instância de P. E, no relacionamento T3, como r_2 não está relacionada com alguma instância de Q, a cardinalidade mínima de R em relação a Q é 0.

Gabarito: A.

20. CESGRANRIO - Profissional (LIQUIGÁS)/Arquiteto de Soluções/Júnior TI/2018/Edital 02

O modelo de Entidades e Relacionamentos (ER) é bastante utilizado na modelagem conceitual de bancos de dados. Além de utilizar entidades e seus relacionamentos para descrição dos dados, o modelo ER inclui também alguns atributos que descrevem as características de cada entidade.

Já um relacionamento também pode ter atributos

- A) se as cardinalidades máximas forem $1 \times N$, independentemente das cardinalidades mínimas.
- B) se as cardinalidades máximas forem $N \times N$, independentemente das cardinalidades mínimas.
- C) se as cardinalidades mínimas do relacionamento forem maiores que zero, independentemente das cardinalidades máximas.
- D) somente se estiver participando de uma entidade associativa.
- E) independentemente das cardinalidades do relacionamento.

Comentário.

Sabemos que a existência de atributos no relacionamento independe da cardinalidade. Logo, temos a nossa resposta na alternativa E.

Gabarito: E.

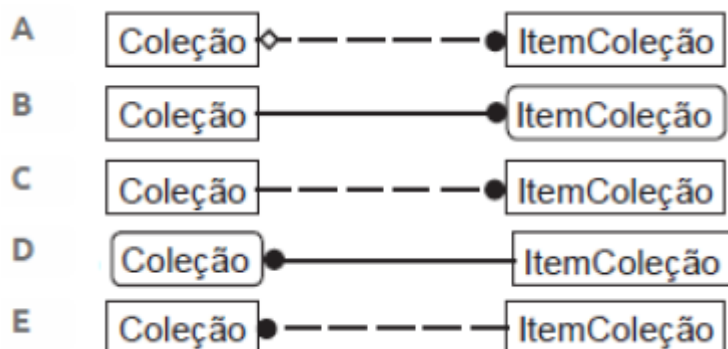


21. BANCA: CESGRANRIO ANO: 2014 ÓRGÃO: PETROBRAS PROVA: TÉCNICO - TÉCNICO DE INFORMÁTICA

O diagrama a seguir apresenta um modelo de entidades e relacionamentos segundo a notação da Engenharia de Informação.



A notação equivalente em IDEF1X é



Comentário.

Veja que o losango representa um relacionamento opcional e a bola preta representa zero, um ou vários. A linha tracejada representa um relacionamento não identificador. Isso acontece quando temos duas entidades independentes ou representadas por retângulos.

Curiosidade: A notação IDEF1X (*Integrated DEFinition for Information Modelling*) foi desenvolvida no final da década de 70 para a força aérea norte-americana. Esta metodologia faz parte de um conjunto de técnicas (IDEF) para a modelagem completa de um sistema, incluindo modelagem de processos, dados, simulação e descrição de procedimentos. A metodologia IDEF1X é um padrão do birô federal de processamento de informações norte-americano (padrão FIPS 184) e de uso público e livre.

Gabarito: A

22. Ano: 2016 Banca: CESGRANRIO Órgão: IBGE Prova: Supervisor de Pesquisas - Tecnologia de Informação e Comunicação

A KWX é uma empresa do varejo que atua exclusivamente na Web. Ela está desenvolvendo um sistema de informação para registrar os pedidos de seus clientes e controlar todo o processo de entrega de mercadorias. Um pedido é entregue por uma das transportadoras conveniadas com a empresa. Quando o novo sistema estiver em funcionamento, todas elas serão devidamente cadastradas, tendo em vista melhorar a gestão de entregas pelo setor responsável. O custo de transporte varia de transportadora para transportadora, além de levar em conta o endereço de entrega de um pedido. Visando a reduzir o tempo de entrega, a diretoria de vendas determinou que a definição da transportadora tem de ser feita até 48h após um pedido ter sido inserido no sistema.



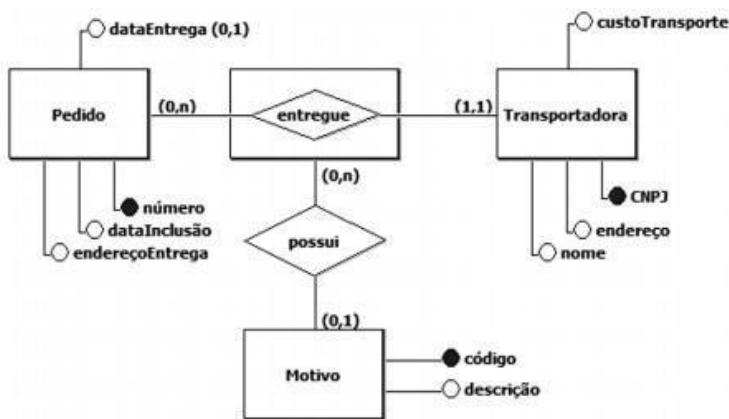
No ato do recebimento de um pedido, o cliente irá conferir se todos os produtos comprados estão corretos e se não houve avarias durante o transporte. Caso esteja tudo em ordem, o cliente irá assinar o recibo de entrega, pondo a data em que ela foi feita. Essa informação será posteriormente inserida no sistema por um funcionário do setor de entregas. Caso o cliente encontre algum problema, ele poderá recusar o recebimento dos produtos, informando o motivo pelo qual a entrega foi recusada. O motivo da devolução deve ser assinalado no próprio documento de entrega, que contém uma lista de motivos extraída do sistema. Um motivo possui código e descrição.

O sistema deve, também, atender a alguns requisitos adicionais. São eles:

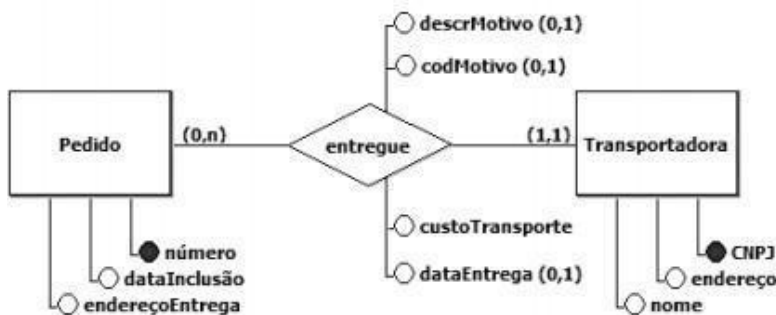
- o cliente deve informar o endereço de entrega no momento em que inserir um pedido;
- um pedido possui um número e a data em que foi realizado;
- uma transportadora precisa ter registrados o número do CNPJ, o nome e o endereço.

Qual diagrama E-R descreve adequadamente os elementos envolvidos no negócio da empresa KWX?

a)

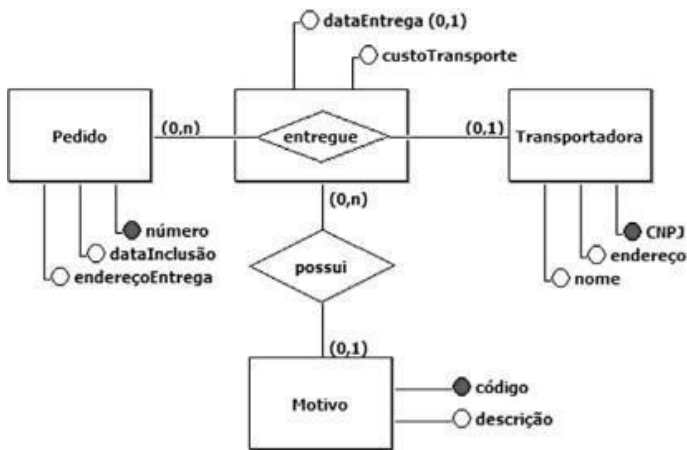


b)

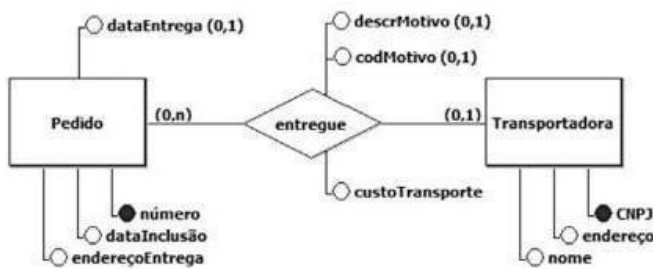


c)

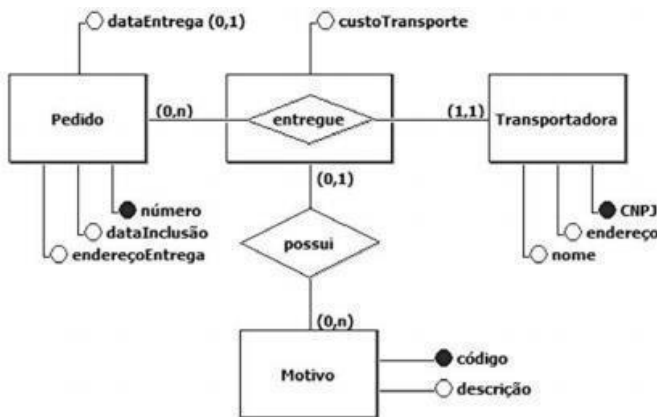




d)



e)



Comentário:

A chave para responder à questão está na frase: “Um pedido é entregue por uma das transportadoras conveniadas com a empresa.” Veja que se cada pedido possui apenas uma transportadora, logo precisamos compor uma agregação entre as entidades pedido e transportadora. Essa entidade associativa “entregue” vai agora poder se relacionar com a entidade

Motivo de forma parcial, caso exista algum motivo para a não aceitação da entrega.

Veja que agora precisamos alocar os atributos nas suas respectivas entidades ou relacionamentos. Assim temos:

Pedido (número, dataInclusão, endereçoEntrega) Transportadora (CNPJ, endereço, nome)



Entrega (dataEntrega, custoTransporte) Motivo (código, descrição)

A última etapa é verificar a cardinalidade dos relacionamentos. Primeiro, cada pedido ao ser feito ainda não possui uma transportadora associada, contudo para ser entregue ele tem que ter uma transportadora e apenas uma, assim temos para a cardinalidade mínima e máxima os valores (0,1). Já uma transportadora pode não ter transportado nenhum pedido, ou fazer várias entregas. Neste caso, temos uma cardinalidade (0,n). O outro relacionamento entre Entrega e Motivo pode ser descrito da seguinte forma: se a entrega for aceita não temos motivo, entretanto se ela for negada, temos 1 e apenas 1 motivo (0,1). Por outro lado, um motivo pode estar associado a várias entregas diferentes. Por exemplo, o produto quebrado pode ser o motivo de devolução de várias entregas distintas (0,n).

Após compilar todas essas informações acima, podemos marcar nossa resposta na alternativa C.

Gabarito: C

23. Ano: 2016 Banca: CESGRANRIO Órgão: UNIRIO Prova: Técnico em Tecnologia da Informação

Considere as Tabelas a seguir para responder a questão.

Essas Tabelas fazem parte do esquema de um banco de dados usado por uma associação de criadores de cães para organizar informações sobre os torneios que ela promove.

```
CREATE TABLE CAO (
  COD          NUMBER(5)      NOT NULL,
  NOME         VARCHAR2(50)   NOT NULL,
  RACA         VARCHAR2(50)   NOT NULL,
  NOME_PAI    VARCHAR2(50),
  NOME_PROPR  VARCHAR2(50)   NOT NULL,
  CONSTRAINT CAO_PK PRIMARY KEY (COD)
)
CREATE TABLE COMPETICAO (
  COD          NUMBER(5)      NOT NULL,
  DESCR       VARCHAR2(50)   NOT NULL,
  CONSTRAINT COMPETICAO_PK PRIMARY KEY (COD)
)
CREATE TABLE ARBITRO (
  COD          NUMBER(5)      NOT NULL,
  NOME         VARCHAR2(50)   NOT NULL,
  CONSTRAINT ARBITRO_PK PRIMARY KEY (COD)
)
CREATE TABLE PARTICIPACAO (
  COD_CAO     NUMBER(5)      NOT NULL,
  COD_COMP    NUMBER(5)      NOT NULL,
  COLOCACAO   NUMBER(4)      NOT NULL,
  CONSTRAINT PARTICIPACAO_PK PRIMARY KEY
    (COD_CAO,COD_COMP),
  CONSTRAINT PARTICIPACAO_FK1 FOREIGN KEY (COD_CAO)
    REFERENCES CAO (COD),
  CONSTRAINT PARTICIPACAO_FK2 FOREIGN KEY (COD_COMP)
    REFERENCES COMPETICAO (COD)
)
CREATE TABLE AVALIACAO (
  COD_CAO     NUMBER(5)      NOT NULL,
  COD_COMP    NUMBER(5)      NOT NULL,
  COD_ARBTR   NUMBER(5)      NOT NULL,
  NOTA_ARBTR  NUMBER(3,1)    NOT NULL,
  CONSTRAINT AVALIACAO_PK PRIMARY KEY
    (COD_CAO,COD_COMP,COD_ARBTR),
  CONSTRAINT AVALIACAO_FK1 FOREIGN KEY (COD_CAO)
    REFERENCES CAO (COD),
  CONSTRAINT AVALIACAO_FK2 FOREIGN KEY (COD_COMP)
    REFERENCES COMPETICAO (COD),
  CONSTRAINT AVALIACAO_FK3 FOREIGN KEY (COD_ARBTR)
    REFERENCES ARBITRO (COD)
)
```

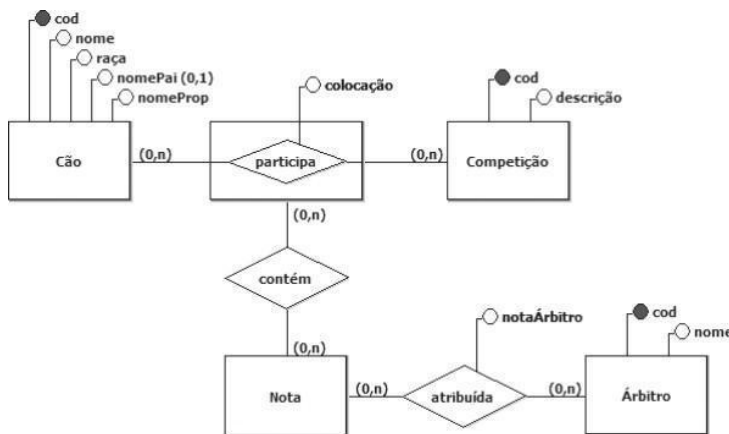
Observações:



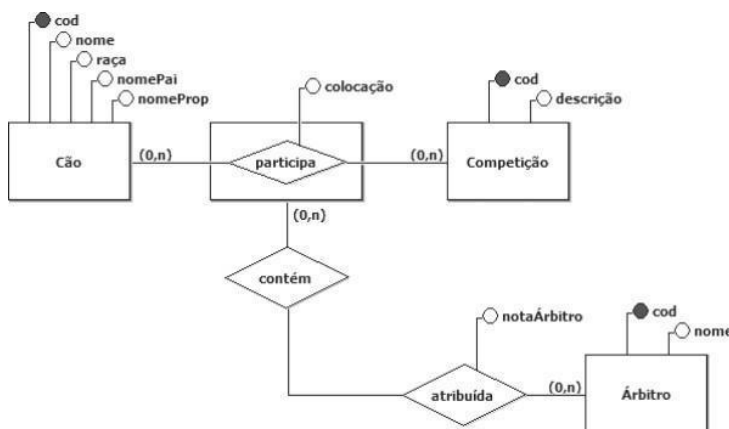
- A Tabela CAO contém os dados dos cães inscritos na referida associação. A coluna NOME_PA I indica o nome do pai de um cão, a coluna RACA indica a raça do mesmo, e a coluna NOME_PROPR indica o nome do seu proprietário. As demais colunas são autoexplicativas.
- A Tabela COMPETICAO contém informações sobre as competições patrocinadas pela associação. Suas colunas são autoexplicativas.
- A Tabela PARTICIPACAO informa as competições das quais participaram os cães registrados na associação. Cada linha dessa tabela indica a colocação obtida por um cão em uma determinada competição. Suas colunas são autoexplicativas.
- A Tabela ARBITRO contém os dados dos árbitros que julgam os cães que participam de competições. Suas colunas são autoexplicativas.
- Cada linha da Tabela AVALIACAO representa a nota atribuída a um cão, por um determinado árbitro em uma determinada competição. Suas colunas são autoexplicativas.

Qual diagrama E-R contém um modelo conceitual compatível com as tabelas do banco de dados da associação de criadores de cães?

a)

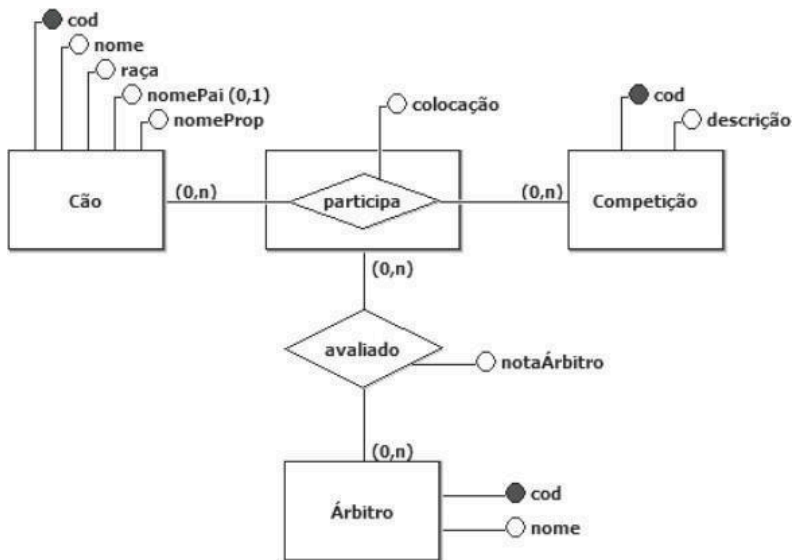


b)

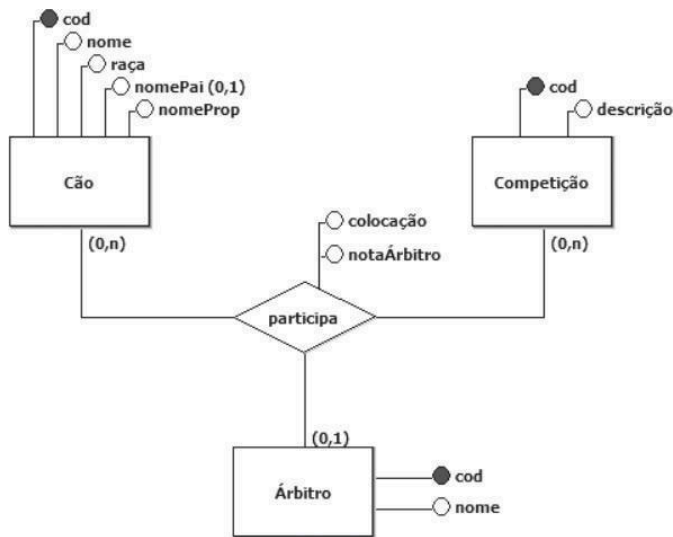


c)

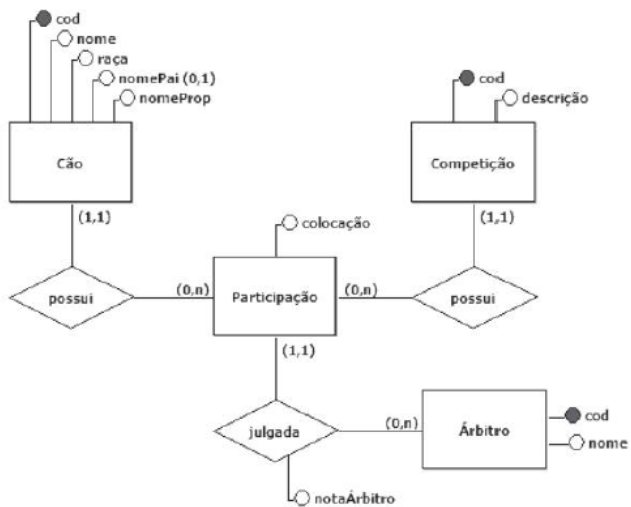




d)



e)



Comentário:



Essa é mais uma questão que nos remete a existência de uma entidade associativa, desta vez um cão pode participar de várias competições e cada competição pode ter vários cães. Essa participação pode ser avaliada por vários árbitros diferentes. Em uma competição os árbitros devem avaliar diversos cães. Veja que a colocação é um atributo associado à participação, já a nota, que deve ser atribuída por um árbitro, torna-se um atributo do relacionamento avaliação.

Outra informação relevante é que o nome do pai é o único atributo do código SQL que pode ser nulo. Na representação conceitual o examinador optou por representar tal fato colocando um "(0,1)" ao lado do atributo.

Analisando o texto e as alternativas, podemos encontrar [nossa resposta na alternativa C](#). Veja que as demais alternativas, ou o diagrama não expressa semanticamente o contexto descrito no enunciado, ou possui a cardinalidade denotada incorretamente, como é o caso da alternativa E.

Gabarito: C

24. Ano: 2016 Banca: CESGRANRIO Órgão: UNIRIO Prova: Técnico em Tecnologia da Informação

Uma empresa que atua no ramo de entrega de encomendas precisa de um sistema de informação para controlar sua principal atividade. Durante o levantamento dos requisitos desse sistema, as seguintes informações sobre o pagamento de entregas foram fornecidas por um funcionário da empresa:

Uma entrega é identificada internamente por um código. Além disso, é necessário registrar o peso e as dimensões do objeto a ser entregue, o endereço de entrega e o custo da operação de entrega;

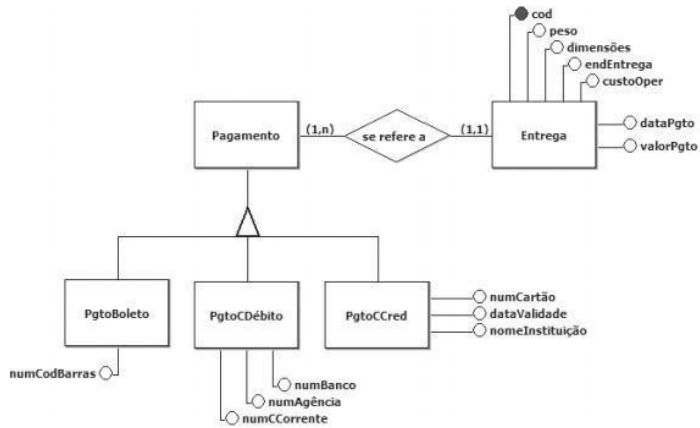
Uma entrega pode ser paga através de cartão de crédito, cartão de débito ou boleto bancário. Visando a atender às demandas de seus clientes, uma entrega pode ser paga usando-se qualquer combinação desses três meios de pagamento;

- Em relação a um pagamento com cartão de crédito, o sistema deve registrar a data de pagamento, o valor pago, o número do cartão, sua data de validade e a instituição que o emitiu;
- Em relação a um pagamento com cartão de débito, o sistema deve registrar a data de pagamento, o valor pago, o número do banco e os números da agência e da conta corrente às quais o cartão está vinculado;
- Em relação a um pagamento com boleto bancário, o sistema deve registrar a data de pagamento, o valor pago e o número do código de barras do boleto;
- Cada pagamento registrado se refere a uma única entrega
- Não há entrega registrada no sistema que não tenha, pelo menos, um pagamento associado a ela.

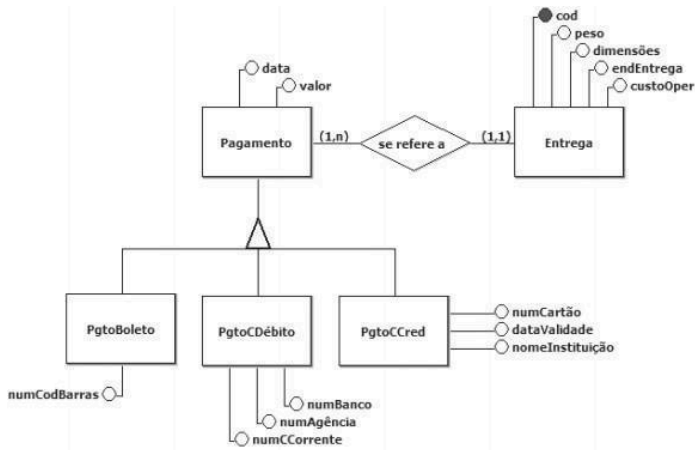
Qual diagrama E-R representa corretamente os elementos e as regras presentes na descrição dos requisitos listados acima, sem que haja perda de informações ou redundância de dados, além de observar as boas práticas de modelagem conceitual de dados?



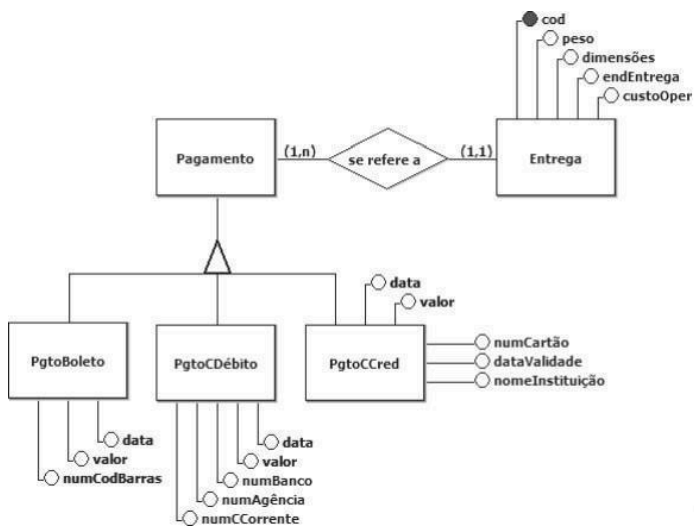
a)



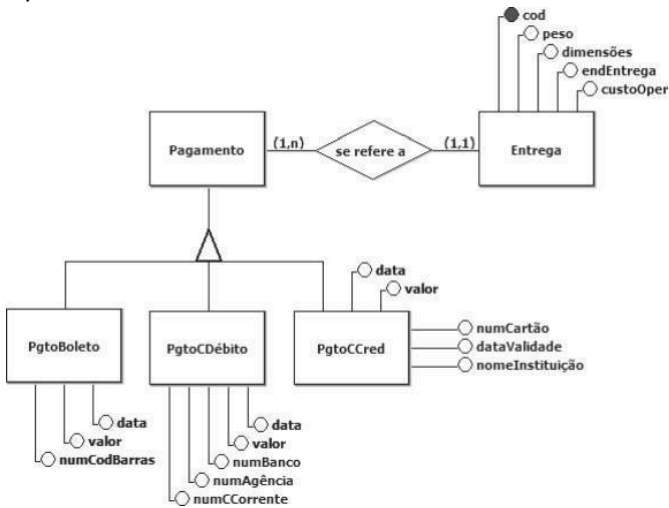
b)



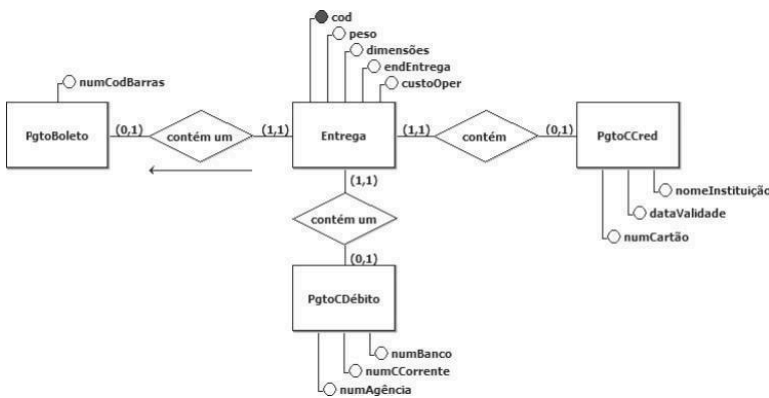
c)



d)



e)



Comentário:

Após ler o enunciado da questão, podemos observar que o Pagamento possui 3 subtipos: Boleto, Cartão de Crédito e Cartão de Débito. Vejam que essas 4 entidades serão organizadas em uma estrutura de generalização/especialização. Nela, os atributos data e valor estão associados à entidade pai, e os outros atributos, específicos de cada entidade filha, devem ser associados de acordo com o texto do enunciado.

Em seguida, podemos observar que a existência de um pagamento deve estar relacionada como uma Entrega. Desta forma, devemos criar a entidade entrega e um relacionamento total ou obrigatório em ambos os lados do relacionamento. Uma entrega pode ser associada a vários pagamentos, e um pagamento pode ser associado a uma e somente uma entrega.

Dito isto, podemos marcar nossa resposta na alternativa C.

Gabarito: C

25. Ano: 2014 Banca: CESGRANRIO Órgão: Petrobras Prova: Técnico(a) de Exploração de Petróleo Júnior - Informática



ALUNO (cpf : string , nome : string , endereco : string, telefone : string) MATRICULA (cpf : string , cod-cad : string)

CADEIRA (cod-cad : string , nome : string , credits : number)

A representação do esquema relacional acima, segundo um diagrama de entidades e relacionamentos, deve representar ALUNO, MATRICULA e CADEIRA, respectivamente, como

- a) entidade, relacionamento nxm e entidade
- b) entidade, relacionamento 1xn e entidade
- c) entidade, entidade e atributo
- d) entidade, entidade e relacionamento nxm
- e) entidade, atributo e entidade

Comentário:

Vejam que essa questão pede para fazer uma engenharia reversa, partir do modelo relacional e chegar ao modelo entidade relacionamento. De cara, podemos observar que as relações ALUNO e CADEIRA são entidades do modelo. A próxima etapa é perceber que a relação MATRICULA possui as chaves das duas relações. Neste caso, temos um relacionamento n:m. Logo, nossa resposta está na alternativa A.

Gabarito: A

26. Ano: 2014 Banca: CESGRANRIO Órgão: CEFET-RJ Prova: Analista de Tecnologia da Informação

Uma das características do Modelo de Entidade e Relacionamentos é que

- a) cada domínio de possíveis valores possui um atributo.
- b) dois conjuntos de entidades são sempre disjuntos.
- c) toda chave candidata é uma chave primária.
- d) todos os atributos em determinado conjunto de atributos têm o mesmo conjunto de entidades.
- e) um conjunto de relacionamentos pode ser considerado um conjunto de n-tuplas.

Comentário:

Vamos analisar cada uma das alternativas acima. Primeiramente, o domínio restringe os valores possíveis de um atributo. A alternativa a) fala algo que se opõe a esse conceito, logo está errada.

Dois conjuntos de entidades, ou de valores armazenados em uma entidade específica, podem ser iguais, disjuntos ou sobrepostos. Logo, a alternativa B também está incorreta.

A chave primária é um conceito que vai aparecer de verdade no modelo relacional. Quando falamos do modelo entidade relacionamento estamos falando de chave ou atributo identificador. Ainda assim, uma relação pode ter várias chaves candidatas e uma delas é escolhida para ser chave primária da relação. Logo, a afirmação da alternativa c) não é válida.

Na alternativa d) temos mais uma troca de conceitos, na realidade todas as entidades em um determinado conjunto de entidades têm o mesmo conjunto de atributos.

Por fim, nossa resposta, um conjunto de relacionamentos pode ser considerado um conjunto de

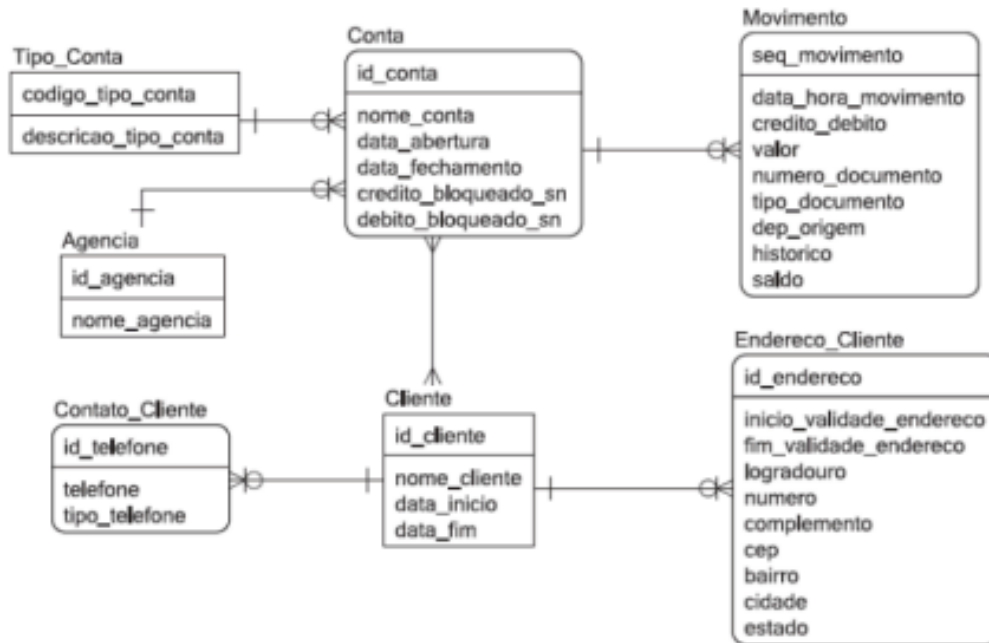


n- tuplas. Ou, em outras palavras, o conjunto de relacionamento é formado pelas diversas instâncias deste relacionamento. Sendo assim, nossa resposta está na alternativa E.

Gabarito: E

27. Ano: 2014 Banca: CESGRANRIO Órgão: Banco da Amazônia Prova: Técnico Científico - Banco de Dados

Para responder à questão, tenha como referência o diagrama de entidades e relacionamentos, apresentado abaixo, que representa parte do modelo de dados de uma instituição financeira.



Que representação gráfica do modelo ER proposta pela notação IDEF1X representa relacionamento existente entre Conta e Cliente?

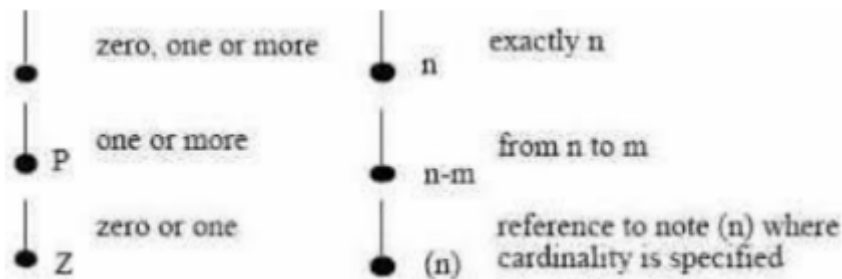
- a)
- b)
- c)
- d)



Comentário:

Temos que observar que a questão trata especificamente da ligação entre as duas entidades ou do relacionamento entre elas. Observe que os cantos arredondados da entidade Conta, e os cantos retos da entidade Cliente são reflexos diretos do diagrama original. Fato é que conta é uma entidade dependente da entidade independente cliente.

Vejam agora que temos um pé de galinha em ambos os lados do diagrama original. Logo, estamos falando de um relacionamento n:n, que no modelo IDEF1X é designado por uma bola fechada. Veja na figura abaixo:

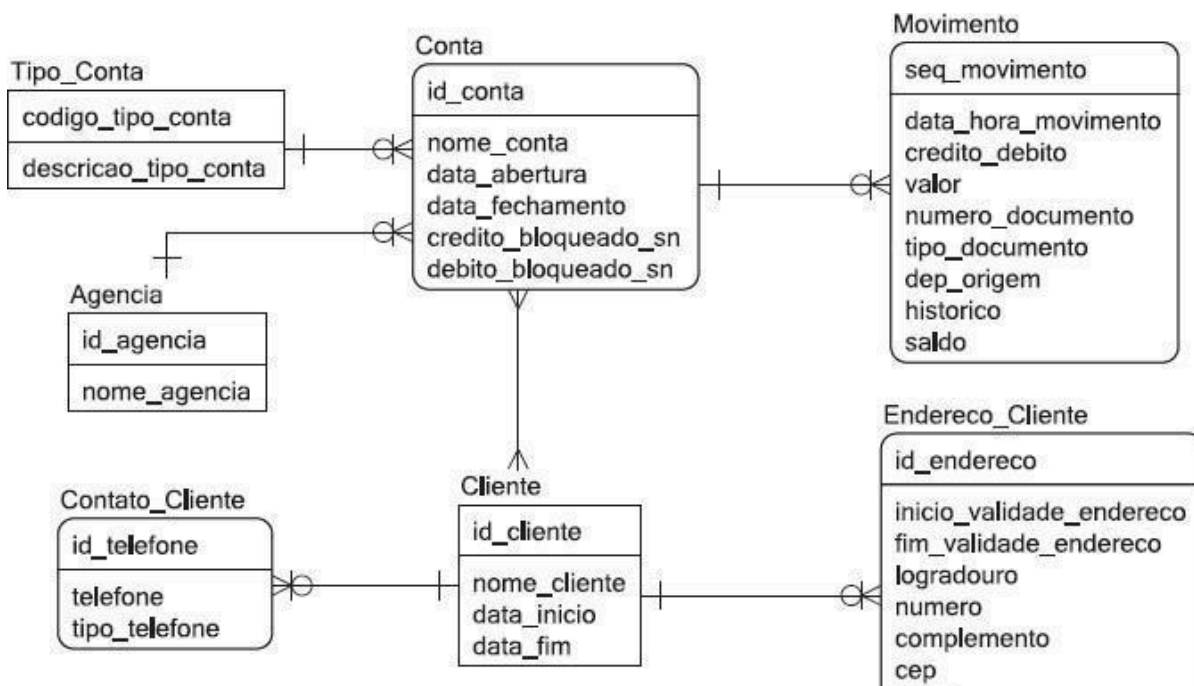


Sendo assim, podemos marcar nossa resposta na alternativa B.

Gabarito: B

28. Ano: 2014 Banca: CESGRANRIO Órgão: Banco da Amazônia Prova: Técnico Científico - Banco de Dados

Para responder à questão, tenha como referência o diagrama de entidades e relacionamentos, apresentado abaixo, que representa parte do modelo de dados de uma instituição financeira.



Sendo feita a transformação desse modelo de dados em um modelo diretamente equivalente a um modelo relacional, de maneira a manter o número mínimo de Tabelas necessárias, e sendo feita a migração das chaves para constituir as chaves externas, sem o uso de chaves substitutas, quantos campos serão adicionados ao modelo?

- a) 7
- b) 8
- c) 9
- d) 11
- e) 13

Comentário:

Devemos lembrar que no caso da entidade Conta, esta representa uma entidade fraca, devido sua forma arredondada, neste caso, ela irá herdar as chaves primárias das outras tabelas e estas chaves irão compor sua chave primária, sendo assim a entidade Conta terá como chave primária os atributos:

(id_conta, id_agencia, codigo_tipo_conta) 3 atributos sendo 2 atributos FK

A entidade Movimento terá a chave estrangeira através da composição da chave primária da entidade Conta, vejamos:

Movimento (id_movimento, id_conta, id_agencia, codigo_tipo_conta) 4 atributos chave sendo 3 chaves FK

Agora vamos analisar as demais entidades: Endereco_Cliente (id_cliente) - 1 atributo FK
Contato_Cliente (id_cliente) - 1 atributo FK

Falta apenas avaliarmos o relacionamento entre Conta e Cliente. Conta_Cliente (id_conta, id_agencia, codigo_tipo_conta, id_cliente)

4 atributos FK

Logo, as chaves externas são:

2 Conta + 3 Movimento + 1 Endereco_Cliente + 4 Conta_Cliente +
1 Contato_Cliente = 11 chaves externas.

Desta forma, nossa resposta encontra-se na alternativa D.

Gabarito: D

29. Ano: 2014 Banca: CESGRANRIO Órgão: Banco da Amazônia Prova: Técnico Científico - Análise de Sistemas

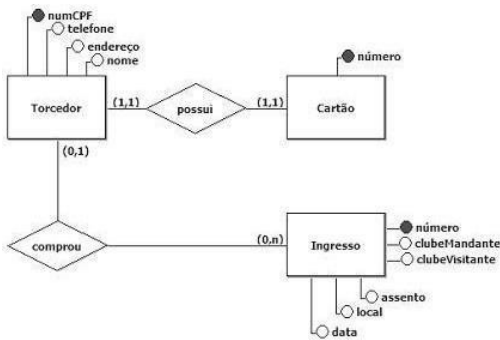
A federação de futebol de um estado brasileiro resolveu criar uma nova forma de vender ingressos para os jogos do seu campeonato estadual. Lotes de cartões com chip, semelhantes a cartões de crédito, serão enviados para lojas credenciadas. O torcedor que queira comprar ingressos para os jogos terá de se cadastrar, antecipadamente, na federação e dirigir-se a uma das lojas para adquirir um desses cartões e carregá-lo com ingressos para os jogos a que desejar comparecer. A entrada nos estádios será feita mediante a apresentação do cartão contendo os



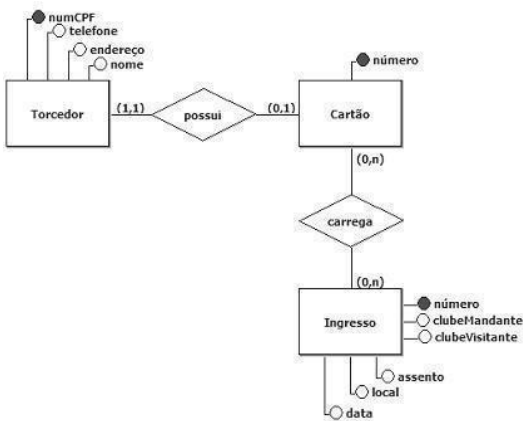
ingressos que o torcedor comprou. Cada torcedor poderá possuir um único cartão. O controle será feito pelo número do CPF do torcedor. Um cartão terá um número, que o identificará. Esse número será gravado no chip pelo fabricante dos cartões, e registrado no sistema da federação, antes que o cartão seja enviado para uma loja credenciada.

Qual diagrama E-R descreve, adequadamente, as regras de negócio apresentadas acima, além de observar os preceitos de um bom modelo conceitual de dados?

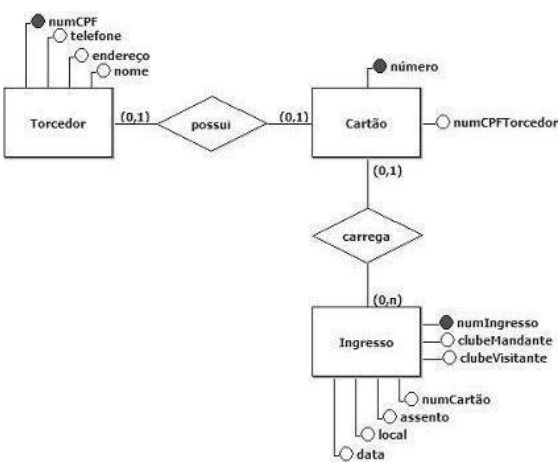
a)

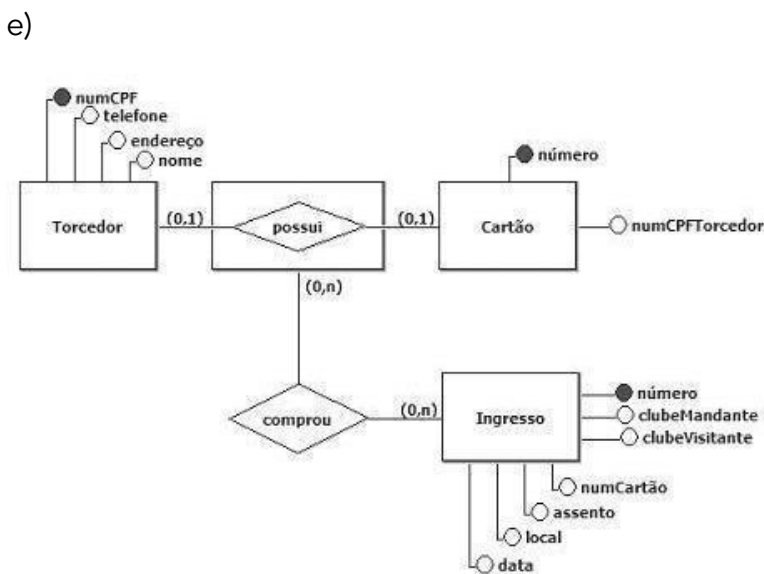
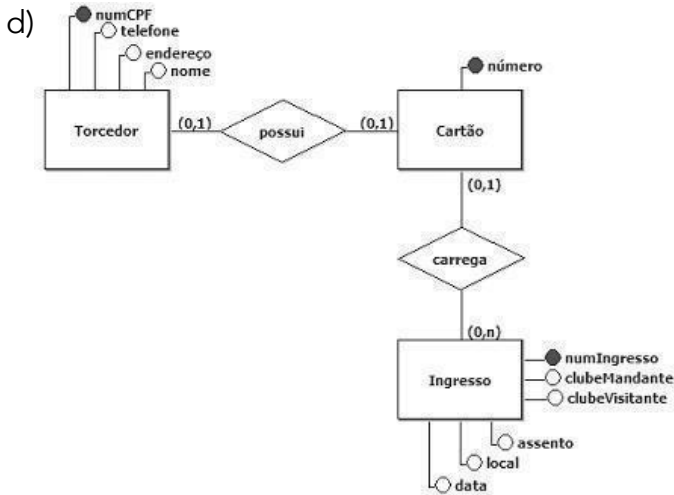


b)



c)





Comentário:

A primeira informação importante, no meu ponto de vista, para resolver a questão é que o torcedor carrega o cartão com ingressos para os jogos. Outro ponto importante é que esse cartão pode estar carregado com 0 ou vários jogos, representados pelo ingresso do jogo. Cada ingresso, logicamente, dá direito a entrar em 1 e apenas 1 jogo e só poderá estar associado a um cartão.

De posse desse cartão, o torcedor consegue entrar em diversos jogos, mas veja que o relacionamento entre cartão e torcedor é 1:1. Lembre-se que cada torcedor tem 1 cartão e cada cartão só pode pertencer a um torcedor, o número do CPF do torcedor nos ajuda nesta unicidade. Lembrando ainda que, um torcedor pode ou não ter um cartão, e um cartão pode estar associado ou não a um torcedor. Assim, temos uma restrição de participação parcial, que nos leva uma cardinalidade mínima de 0 nos dois lados do relacionamento.

Depois desta descrição, podemos **marcar nossa resposta na alternativa D**. Agora vamos verifica o que está errado nas demais alternativa.

Na alternativa a), não existe o relacionamento carrega e a cardinalidade torcedor cartão é (0,1), pois "Cada torcedor poderá possuir um único cartão"



Já na letra b), o erro, mais uma vez, está na cardinalidade cartão-torcedor(1,1) e também na cardinalidade ingresso-cartão(0,n). Verifique a cardinalidade correta na alternativa D.

Seguindo para a letra c), a cardinalidade n sinaliza a criação de um atributo de chave estrangeira (referencial) no modelo relacional. Não é preciso representá-lo na Entidade Ingresso pelo atributo numcartão.

Por fim, na alternativa e) não deveria existir o relacionamento carrega, pois o mesmo não é descrito no enunciado.

Gabarito: D

30. Ano: 2014 Banca: CESGRANRIO Órgão: FINEP Prova: Analista - Desenvolvimento de Sistemas

Um país irá leiloar blocos de exploração de petróleo e precisa de um sistema de informação para controlar o registro dos consórcios que participarão dos leilões, os lances que serão realizados e o vencedor de cada leilão. Todos os consórcios que irão disputar os leilões terão que ser previamente cadastrados no sistema. Um consórcio é formado por uma ou mais empresas.

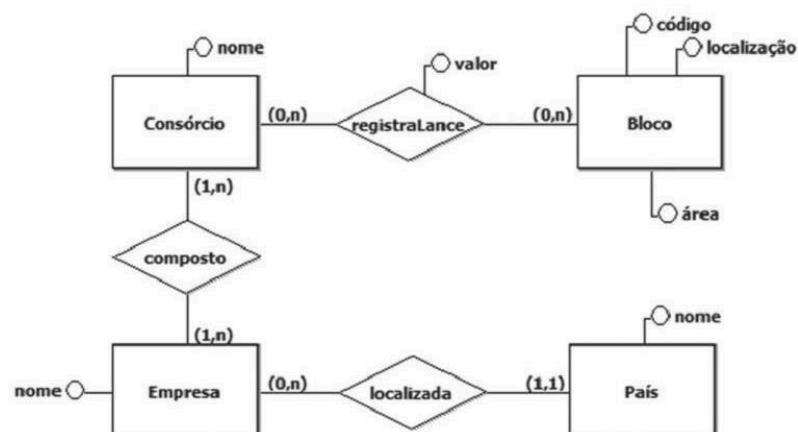
O objeto de cada leilão é um bloco de exploração. Os consórcios poderão registrar vários lances para cada bloco disputado. Os lances, entretanto, terão de ser maiores ou iguais a um valor mínimo, que será fixado, para cada bloco, antes de cada leilão.

Além de atender aos requisitos acima, o sistema de informação em questão deve responder às seguintes questões:

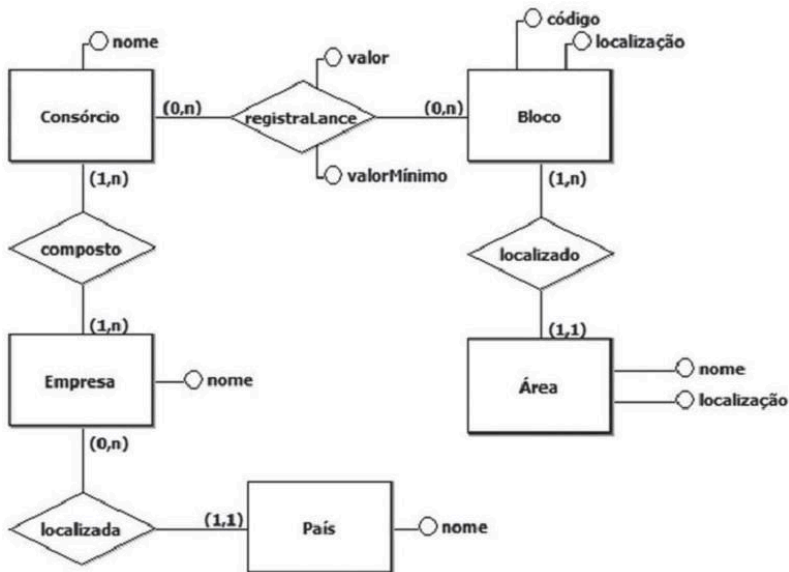
- Qual é o nome do consórcio vencedor?
- Quais são as empresas que integram um determinado consórcio?
- Qual é o país de origem de uma determinada empresa?
- Qual é o nome de uma determinada área de exploração? Onde ela está localizada?
- Qual é o código de um determinado bloco de exploração? Onde ele está localizado? A que área de exploração ele pertence?

Qual diagrama E-R atende a todos os requisitos descritos acima?

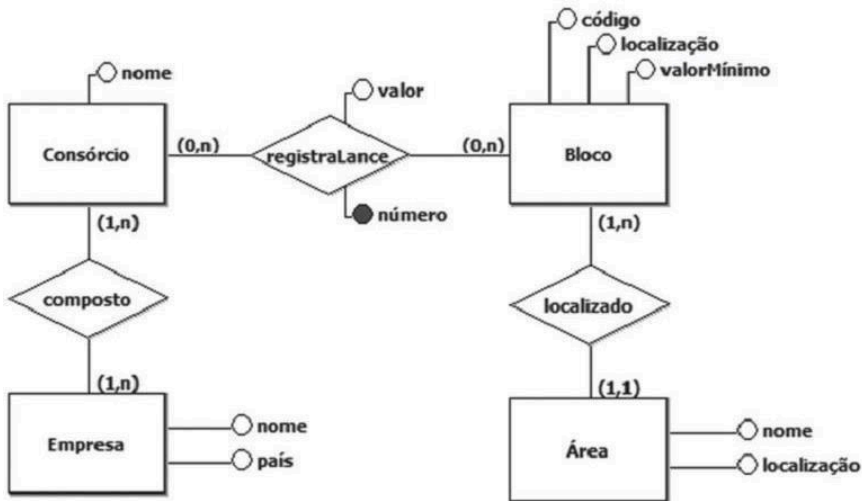
a)



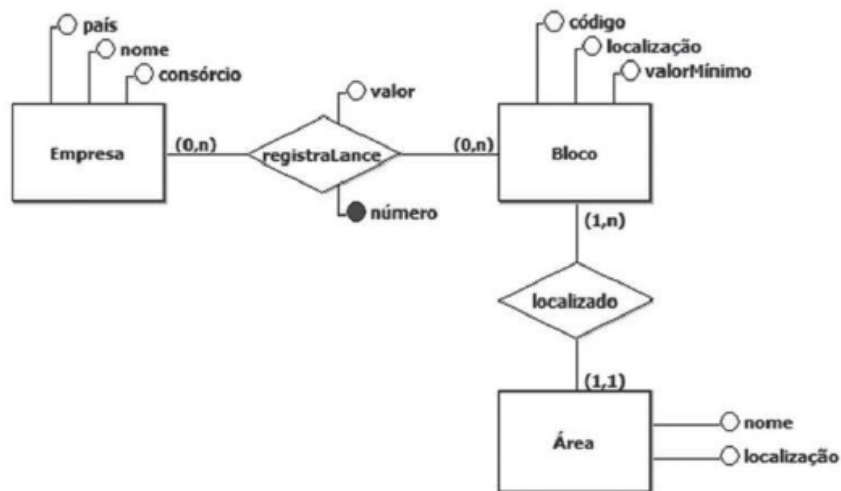
b)



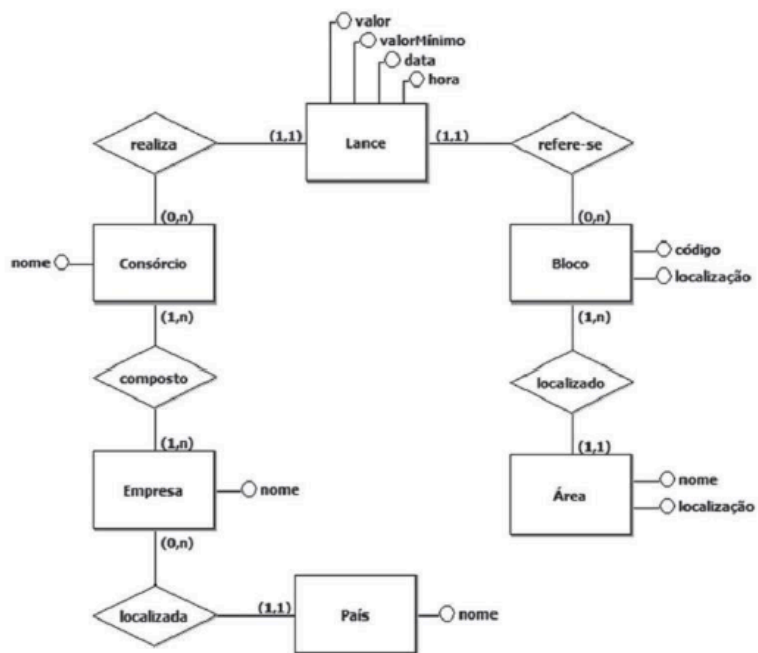
c)



d)



e)



Comentário:

Observem que o ponto crucial para responder a essa questão é o fato de uma empresa estar localizada em apenas um país. Logo, não existe a necessidade de construirmos o relacionamento localizada. Com isso, eliminamos as alternativas a), b) e e). Agora, entre as alternativas c) e d), verificamos que a letra d) não possui a entidade "consórcio". Ficamos, portanto, com a **nossa resposta na alternativa c)** que consegue responder plenamente às perguntas listadas e reflete a descrição do enunciado.

Gabarito: C



QUESTÕES COMENTADAS - MODELAGEM CONCEITUAL

1. (VUNESP - ATCE (TCM SP)/TCM SP/Técnico de Informática/2023)

Constitui uma importante tarefa na modelagem de bancos de dados relacionais a definição dos atributos componentes dos conjuntos de entidades, bem como o tipo desses atributos.

Considerando os diversos tipos de atributos possíveis, é correto afirmar que

- a) a um atributo do tipo multivalorado pode-se atribuir mais de um valor para uma mesma entidade.
- b) um atributo do tipo composto é aquele que possui uma fração que será utilizada como chave primária.
- c) um atributo do tipo monovalorado ou de valor único deve, obrigatoriamente, ser do tipo numérico.
- d) um atributo do tipo composto é formado por pelo menos duas partes, cada uma pertencente a um conjunto de entidades distintas.
- e) um atributo do tipo derivado é aquele que está presente, simultaneamente, em pelo menos dois conjuntos de entidades.

Comentário:

Vamos analisar cada alternativa da questão:

- a) Verdadeiro. Um atributo do tipo multivalorado pode ter mais de um valor para uma mesma entidade. Isso é útil quando uma entidade pode ter múltiplos valores para um determinado atributo.
- b) Falso. Um atributo do tipo composto é aquele que é formado por partes menores, mas não necessariamente uma fração. Além disso, não é obrigatório que uma parte do atributo composto seja utilizada como chave primária.
- c) Falso. Um atributo do tipo monovalorado ou de valor único não precisa ser necessariamente do tipo numérico. Pode ser de qualquer tipo, como texto, data, etc.
- d) Falso. Um atributo do tipo composto é formado por partes que pertencem ao mesmo conjunto de entidades, não a conjuntos distintos.



e) Falso. Um atributo do tipo derivado é aquele cujo valor é derivado de outros atributos no banco de dados, não estando presente simultaneamente em diferentes conjuntos de entidades.

Portanto, a alternativa correta é a letra a).

Gabarito: A

2. (VUNESP - ADP (DPE SP)/DPE SP/Analista de Suporte/2023)

Um dos conceitos importantes na modelagem de um banco de dados relacional consiste na especificação do domínio de um atributo de um conjunto de entidades, que significa especificar o

- a) tempo máximo a ser utilizado no armazenamento de cada valor do atributo.
- b) conjunto de valores válidos e aceitos para esse atributo.
- c) número máximo de entidades permitido em cada caso.
- d) número máximo de vezes que os valores dos atributos podem ser alterados.
- e) tipo de mídia que deve ser utilizado para o armazenamento de cada atributo.

Comentário:

Vamos analisar cada alternativa da questão:

- a) Falso. O domínio de um atributo não está relacionado ao tempo máximo de armazenamento, mas sim aos valores que esse atributo pode assumir.
- b) Verdadeiro. O domínio de um atributo especifica o conjunto de valores válidos e aceitos para esse atributo. Define quais valores podem ser atribuídos a um determinado atributo.
- c) Falso. O domínio não se refere ao número máximo de entidades, mas aos valores que um atributo pode assumir.
- d) Falso. O domínio não está relacionado ao número máximo de vezes que os valores dos atributos podem ser alterados, mas sim aos valores aceitáveis para o atributo.
- e) Falso. O domínio não especifica o tipo de mídia para o armazenamento, mas sim os valores permitidos para o atributo.

Portanto, a alternativa correta é a letra b).

Gabarito: B

3. (VUNESP - PTIC (UNICAMP)/UNICAMP/Programador de Sistemas de Informação/2023)



Referindo-se ao modelo entidade-relacionamento de bancos de dados relacionais, um conjunto de relacionamentos binário corresponde a

- a) definir uma associação entre dois atributos pertencentes a conjuntos de entidades distintos.
- b) declarar dois atributos para cada conjunto de entidades.
- c) limitar a dois o número de relacionamentos de um modelo completo de um banco de dados.
- d) declarar até dois tipos de atributos distintos nos conjuntos de entidades.
- e) definir uma associação entre dois conjuntos de entidades distintos.

Comentário:

Um conjunto de relacionamentos binário no modelo entidade-relacionamento de bancos de dados relacionais corresponde a:

- a) Definir uma associação entre dois atributos pertencentes a conjuntos de entidades distintos. - Isso não é correto. Relacionamentos binários geralmente envolvem a associação entre duas entidades, não atributos diretamente.
- b) Declarar dois atributos para cada conjunto de entidades. - Isso não é correto. A definição de relacionamentos binários não envolve a declaração de atributos duplicados.
- c) Limitar a dois o número de relacionamentos de um modelo completo de um banco de dados. - Isso não é correto. O número de relacionamentos não é limitado a dois em um modelo de banco de dados.
- d) Declarar até dois tipos de atributos distintos nos conjuntos de entidades. - Isso não é correto. Relacionamentos binários não estão relacionados à declaração de tipos de atributos.
- e) Definir uma associação entre dois conjuntos de entidades distintos. - Correto. Relacionamentos binários representam associações entre dois conjuntos de entidades distintos no modelo entidade-relacionamento.

Portanto, a alternativa correta é a letra e).

Gabarito: E

4. (VUNESP - PTIC (UNICAMP)/UNICAMP/Programador de Sistemas de Informação/2023)

Em um modelo entidade-relacionamento de um banco de dados relacional, cada conjunto de entidades pode possuir diversos atributos, sendo correto que um atributo cujo valor pode ser obtido a partir do(s) valor(es) de outro(s) atributo(s) denomina-se atributo



- a) parcial.
- b) indireto.
- c) chaveado.
- d) derivado.
- e) secundário.

Comentário:

Em um modelo entidade-relacionamento de um banco de dados relacional, um atributo cujo valor pode ser obtido a partir do(s) valor(es) de outro(s) atributo(s) denomina-se atributo:

- a) Parcial. - Isso não é correto. Um atributo parcial é um atributo que representa uma parte de um atributo composto.
- b) Indireto. - Isso não é uma terminologia comum para descrever esse tipo de atributo.
- c) Chaveado. - Isso não é uma terminologia comum para descrever esse tipo de atributo.
- d) Derivado. - Correto. Um atributo derivado é aquele cujo valor pode ser derivado de outros atributos no banco de dados.
- e) Secundário. - Isso não é uma terminologia comum para descrever esse tipo de atributo.

Portanto, a alternativa correta é a letra d).

Gabarito: D

5. (VUNESP - ADP (DPE SP)/DPE SP/Administrador de Redes/2023)

Os diagramas entidade-relacionamento representam uma maneira gráfica para a modelagem de bancos de dados relacionais. Um dos símbolos utilizados nesses diagramas é um retângulo desenhado com linhas duplas, que representa um

- a) atributo do tipo derivado.
- b) atributo de valores múltiplos.
- c) conjunto de entidades forte.
- d) conjunto de entidades fraco.
- e) conjunto de relacionamentos.



Comentário:

Um retângulo desenhado com linhas duplas em um diagrama entidade-relacionamento representa um:

- a) Atributo do tipo derivado. - Isso não é correto. Um atributo derivado geralmente é representado por um oval no diagrama.
- b) Atributo de valores múltiplos. - Isso não é correto. A representação de atributos de valores múltiplos varia, mas geralmente não é feita com um retângulo de linhas duplas.
- c) Conjunto de entidades forte. - Isso não é correto. Um conjunto de entidades forte geralmente é representado por um retângulo simples.
- d) Conjunto de entidades fraco. - Correto. Um conjunto de entidades fraco é representado por um retângulo de linhas duplas em um diagrama entidade-relacionamento.
- e) Conjunto de relacionamentos. - Isso não é correto. Conjuntos de relacionamentos são representados por losangos no diagrama.

Portanto, a alternativa correta é a letra d).

Gabarito: D

6. (VUNESP - ADP (DPE SP)/DPE SP/Analista Desenvolvedor/2023)

Considerando o modelo entidade-relacionamento utilizado no projeto de bancos de dados relacionais, é correto que

- a) um conjunto de relacionamentos recursivo reúne, no mínimo, três conjuntos de entidades distintos.
- b) um conjunto de relacionamentos pode possuir exclusivamente atributos do tipo numérico.
- c) um conjunto de relacionamentos binário envolve dois conjuntos de entidades distintos.
- d) um conjunto de relacionamentos não pode possuir atributos descritivos.
- e) todos conjuntos de relacionamentos em um modelo entidade-relacionamento devem possuir a mesma cardinalidade.

Comentário:

Vamos analisar cada alternativa da questão:



- a) Falso. Um conjunto de relacionamentos recursivo envolve apenas dois conjuntos de entidades, mas esses conjuntos são os mesmos. Não são necessários três conjuntos distintos.
- b) Falso. Um conjunto de relacionamentos pode possuir atributos de vários tipos, não apenas numéricos. A natureza dos atributos depende dos requisitos do sistema.
- c) Verdadeiro. Um conjunto de relacionamentos binário envolve dois conjuntos de entidades distintos. Isso é uma definição básica de um relacionamento binário.
- d) Falso. Um conjunto de relacionamentos pode possuir atributos descritivos, e isso é comum na prática. A presença de atributos descritivos ajuda a fornecer informações adicionais sobre o relacionamento.
- e) Falso. Não é necessário que todos os conjuntos de relacionamentos em um modelo entidade-relacionamento tenham a mesma cardinalidade. A cardinalidade pode variar de acordo com os requisitos do sistema.

Portanto, a alternativa correta é a letra c).

Gabarito: C

7. (VUNESP - CFO/QC (EsFCEEx)/EsFCEEx/Informática/2023)

Na modelagem de bancos de dados relacionais, uma importante ferramenta é constituída pelo diagramas entidade- -relacionamento (DER). Tais diagramas implementam notações para a representação de artefatos da modelagem de bancos de dados relacionais, sendo correto que a notação para representar

- a) conjuntos de relacionamentos consiste de triângulos com cantos vivos e linhas simples de contorno.
- b) especialização de conjuntos de entidades consiste de losangos com cantos vivos e linhas duplas de contorno.
- c) conjuntos de entidades fracas consiste de hexágonos com cantos vivos e linhas duplas de contorno.
- d) conjuntos de entidades fortes consiste de retângulos com cantos vivos e linhas simples de contorno.
- e) atributos consiste de hexágonos com cantos arredondados e linhas simples de contorno.

Comentário:



A notação padrão para representar artefatos da modelagem de bancos de dados relacionais em diagramas entidade-relacionamento (DER) é a seguinte:

- a) Conjuntos de relacionamentos: Não são representados por triângulos. Geralmente, os conjuntos de relacionamentos são representados por losangos.
- b) Especialização de conjuntos de entidades: Errado. A especialização de conjuntos de entidades é frequentemente representada por triângulos.
- c) Conjuntos de entidades fracas: Não são representados por hexágonos. Geralmente, conjuntos de entidades fracas são representados por retângulos duplos.
- d) Conjuntos de entidades fortes: Correto. Conjuntos de entidades fortes são geralmente representados por retângulos com cantos vivos e linhas simples de contorno.
- e) Atributos: Não são representados por hexágonos com cantos arredondados. A notação tradicional para atributos é um oval.

Portanto, a alternativa correta é a letra d).

Gabarito: D

8. (VUNESP - ATI (UFABC)/UFABC/2023)

No modelo entidade-relacionamento, a função desempenhada por um conjunto de entidades em um conjunto de relacionamentos recebe a denominação de

- a) domínio do conjunto de relacionamentos.
- b) redutor do conjunto de relacionamentos.
- c) fonte do conjunto de relacionamentos.
- d) papel do conjunto de relacionamentos.
- e) índice do conjunto de relacionamentos.

Comentário:

No modelo entidade-relacionamento, a função desempenhada por um conjunto de entidades em um conjunto de relacionamentos é denominada: d) papel do conjunto de relacionamentos.

Cada entidade em um relacionamento pode desempenhar um papel específico, indicando a função ou o papel que ela desempenha nesse contexto particular de relacionamento. Por exemplo, em um relacionamento entre as entidades "Estudante" e "Curso", um estudante pode



desempenhar o papel de "Aluno" e um curso pode desempenhar o papel de "Disciplina", indicando suas funções específicas na relação.

Gabarito: D

9. (VUNESP - Téc Lab (UFABC)/UFABC/Informática/2023)

Na modelagem de bancos de dados relacionais é comum utilizar-se dos diagramas entidade-relacionamento. Uma das notações empregadas nesse tipo de diagrama refere-se aos conjuntos de entidades fracas, representado por

- a) uma elipse com linhas simples em seu contorno.
- b) uma elipse com linhas tracejadas em seu contorno.
- c) um losango com linhas duplas em seu contorno.
- d) um retângulo com linhas tracejadas em seu contorno.
- e) um retângulo com linhas duplas em seu contorno.

Comentário:

Na notação de diagramas entidade-relacionamento, os conjuntos de entidades fracas são representados por um retângulo com linhas duplas em seu contorno. Portanto, a opção correta é: e) um retângulo com linhas duplas em seu contorno.

Na modelagem de diagramas entidade-relacionamento, a notação visual é uma forma de representar diferentes elementos do banco de dados e suas relações. Para identificar conjuntos de entidades fracas, utiliza-se um retângulo para representar as entidades, e quando se trata de entidades fracas, esse retângulo é desenhado com linhas duplas.

Entidades fracas são aquelas que não têm uma chave primária própria e dependem de uma entidade forte (ou proprietária) para existir. A linha dupla indica essa dependência. Em contraste, as entidades fortes (ou independentes) têm linhas simples ao redor do retângulo.

Essa convenção visual facilita a compreensão do modelo e ajuda a identificar a natureza das entidades no diagrama, destacando a dependência entre elas.

Gabarito: E



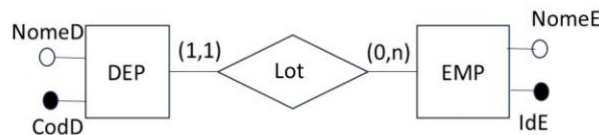
QUESTÕES COMENTADAS - MODELAGEM CONCEITUAL

Começamos aqui a resolução de questões. Apresentaremos apenas questões da FGV. Num primeiro momento as questões são apresentadas com os comentários, em seguida as questões são apresentadas sem o gabarito para que você possa refazer sem ler as respostas. Minha sugestão é que você imprima a lista de exercícios sem comentários para treinar na semana antes da prova. Qualquer dúvida estou às ordens.

É importante perceber que a banca navega entre as diversas notações. Cobra conceitos como relacionamento identificador e não identificador que só está especificado em notações como a IDEF1X. Vejamos as questões e os comentários! Forte abraço e bons estudos!

1. Câmara Municipal de São Paulo/FGV/2024

Analise o diagrama Entidade e Relacionamento na notação de Chen e responda



Assinale a opção que mostra a representação gráfica do diagrama semanticamente equivalente na notação Engenharia de Informações, também conhecida por "pé de de galinha".

- a)
- b)
- c)
- d)
- e)

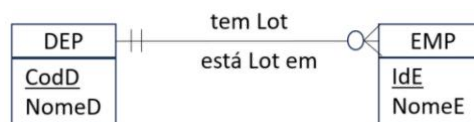


Comentário:

Vejam como as restrições do diagrama ER são representadas pela notação pé-de-galinha. A figura abaixo apresenta todas as opções de mapeamento considerando a definição das cardinalidades mínima e máxima:

Restrições	Representação
1 : 1	
1 : N	
0 : 1	
0 : N	

Desta forma, podemos observar a resposta na alternativa E.

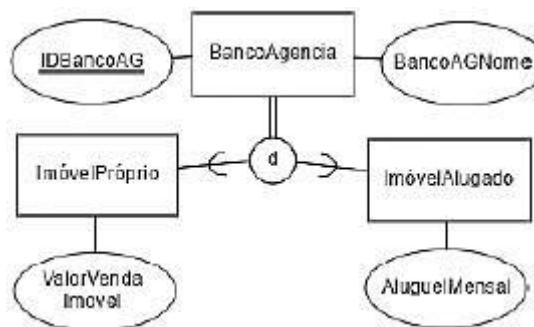


Veja que cada funcionários deve pertencer a um e somente um departamento, mas cada departamento pode ter zero ou vários funcionários.

Gabarito: E

2. FGV - Aud Est (CGE SC)/CGE SC/Ciências da Computação/2023 - TI - Banco de Dados - Conceitos Iniciais de Bancos de Dados

O diagrama a seguir representa especialização total e subclasses desmembradas.



A partir do diagrama, assinale a opção que descreve os requisitos de banco de dados.

a) Cada agência bancária possui um identificador único e um nome. Sobre a situação do imóvel, há um valor venda e um valor de aluguel mensal.



- b) Cada agência bancária possui um identificador único e um nome. Existem instâncias de agência situadas em imóveis próprios e alugados. Não há instância de agência que não seja em imóvel próprio e alugado. O imóvel próprio possui um valor de venda. O imóvel alugado possui um valor mensal de aluguel.
- c) Cada agência bancária possui um identificador único e um nome. Existem instâncias de agência situadas em imóveis próprios e alugados. Há instância de agência que não é nem em imóvel próprio nem em alugado. O imóvel próprio possui um valor de venda. O imóvel alugado possui um valor mensal de aluguel.
- d) Cada agência bancária possui um identificador único e um nome. Existem instâncias de agência situadas em imóveis próprios ou alugados. Não há instância de agência que não seja em imóvel próprio ou alugado. O imóvel próprio possui um valor de venda. O imóvel alugado possui um valor mensal de aluguel.
- e) Cada agência bancária possui um identificador único e um nome. Existem instâncias de agência situadas em imóveis próprios ou alugados. Há instância de agência que não é nem em imóvel próprio nem em alugado. O imóvel próprio possui um valor de venda. O imóvel alugado possui um valor mensal de aluguel.

Comentário:

Para abordar essa questão, é essencial ter um entendimento das restrições de disjunção/sobreposição e das restrições de participação total/pacial.

Restrição de Disjunção: Essa restrição estabelece que uma mesma instância de entidades de nível superior não pode pertencer simultaneamente a mais de um tipo de entidade de nível inferior. Ela é representada pela letra (d) dentro de um círculo.

Restrição de Sobreposição: Ao contrário da disjunção, essa restrição permite que a mesma instância de entidades de nível superior pertença a mais de um tipo de entidade de nível inferior. Ela é representada pela letra (o) dentro de um círculo.

Restrição de Participação Total: Esta restrição determina que cada entidade de nível superior deve pertencer, no mínimo, a um dos tipos de entidade de nível inferior na especialização. Sua representação inclui uma linha duplicada.

Restrição de Participação Parcial: Em contrapartida, a participação parcial permite que algumas instâncias dos tipos de entidade de nível superior não pertençam a nenhum dos tipos de entidade de nível inferior. Sua representação utiliza uma linha simples.

Na figura apresentada, podemos observar a presença do símbolo (d) dentro de um círculo, acompanhado pela linha duplicada. Isso indica claramente uma restrição de disjunção total. Logo, podemos chegar a resposta na alternativa D: Cada agência bancária possui um identificador único e um nome. Existem instâncias de agência situadas em imóveis próprios ou alugados. Não há instância de agência que não seja em imóvel próprio ou alugado. O imóvel próprio possui um valor de venda. O imóvel alugado possui um valor mensal de aluguel.

Gabarito: D

3. FGV - Tec (BBTS)/BBTS/Perfil Interno/2023 - TI - Banco de Dados - Conceitos e Fases de Projeto e Modelagem de Dados



Em projetos de banco de dados, os modelos conceituais são elaborados para descrever, necessariamente,

- a) os aspectos de software e de hardware que serão utilizados para armazenamento de dados.
- b) as chaves de acesso, os controles de chaves duplicadas e a integridade referencial.
- c) a visão geral dos principais dados e suas relações, independentemente das restrições de implementação.
- d) as entidades, os relacionamentos, os índices e o sistema gerenciador de banco de dados escolhido.
- e) as necessidades e as preocupações para normalização das estruturas de dados.

Comentário:

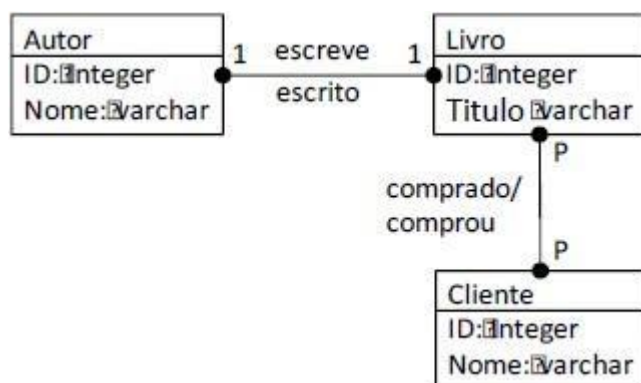
Em projetos de banco de dados, os modelos conceituais são elaborados para descrever: c) a visão geral dos principais dados e suas relações, independentemente das restrições de implementação.

O modelo conceitual se concentra na representação abstrata dos dados e suas relações, sem entrar em detalhes sobre como os dados serão armazenados ou implementados no nível de software ou hardware. Ele fornece uma visão de alto nível dos dados e suas interações, independentemente das preocupações de implementação específicas.

Gabarito: C

4. FGV - AJ (TJ RN)/TJ RN/Apoio Especializado/Análise de Suporte/2023 - TI - Banco de Dados - Modelo Entidade-Relacionamento (MER)

Observe o seguinte Modelo Entidade Relacionamento a seguir.



O modelo ilustrado atende a regra de negócio:

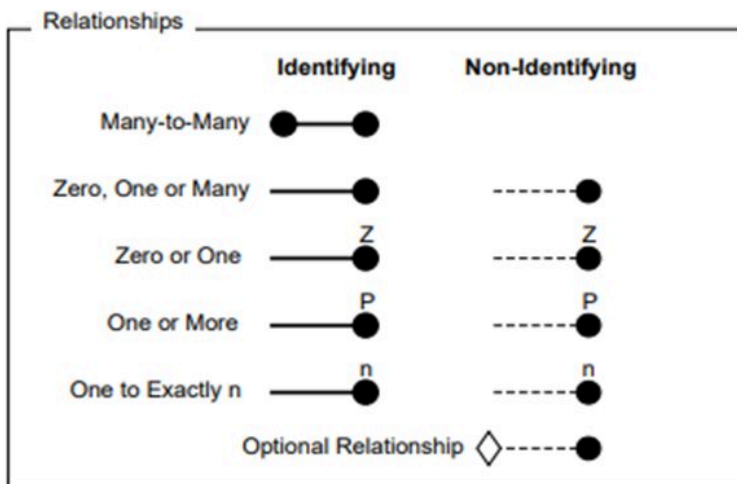
- a) um autor pode escrever diversos livros;
- b) cada livro pode ser escrito por diversos autores;
- c) para se tornar cliente, é necessário pelo menos uma compra;
- d) cliente e autor são especializações da entidade pessoa;



e) os atributos ID podem armazenar letras, números e símbolos.

Comentário:

A questão apresenta uma notação IDEF1X para relacionamentos. Para responder à questão é preciso ter em mente a seguinte situação:



Veja que o P indica obrigatoriedade, logo a resposta correta está na alternativa C.

Gabarito: C

5. FGV - 2023 - Técnico (DPE RS)/Apoio Especializado/Programador

Em um Modelo Entidade-Relacionamento (MER), os objetos básicos de um determinado contexto são modelados como entidades. Considere o seguinte contexto de uma empresa imobiliária:

“Um cliente aluga um imóvel. Um vendedor vende o imóvel de um cliente. A alocação do funcionário é em um setor. Um cliente tem um imóvel.”

No contexto apresentado, o objeto básico que representa uma entidade é:

- a) Alocação;
- b) Cliente;
- c) Aluga;
- d) Venda;
- e) Tem.

Comentário:

Cliente é uma pessoa ou organização que compra ou utiliza os serviços ou produtos de outra pessoa ou organização. No contexto da empresa imobiliária, cliente é um objeto básico que possui propriedades (como nome, endereço, telefone, etc.) e se relaciona com outras entidades (como imóvel, vendedor, etc.). Portanto, cliente é uma entidade.

Gabarito: B



6. FGV - 2023 - Analista (DPE RS)/Apoio Especializado (TI)/Desenvolvimento de Sistemas

Um Modelo Entidade-Relacionamento (MER) é composto basicamente por entidades e seus relacionamentos, assim como por atributos que descrevem suas propriedades. Considere Pessoa como uma entidade que possui diversos dependentes, como: filhos, pai, mãe, enteado etc.

Para modelar "Dependentes" como uma propriedade da entidade "Pessoa", deve-se usar o atributo do tipo:

- a) chave;
- b) composto;
- c) derivado;
- d) multivalorado;
- e) monovalorado.

Comentário:

Um atributo multivalorado permite que uma entidade possua vários valores para esse atributo. Neste caso, "Dependentes" é um atributo que pode ter múltiplos valores, pois uma pessoa pode ter vários dependentes, como filhos, pai, mãe, enteado, etc. Portanto, a opção correta é a letra D: "multivalorado".

Gabarito: D

7. FGV - 2019 - Técnico Superior Especializado (DPE RJ)/Tecnologia da Informação

Considere um diagrama IDEF1X contendo um relacionamento identificador, 1:N, onde do lado 1 está a entidade Empresa e, do lado N, a entidade Filial.

Num banco de dados que implemente esse relacionamento, a restrição de integridade referencial entre as tabelas Empresa e Filial, que correspondem respectivamente às entidades citadas, NÃO é possível que a chave estrangeira na tabela Filial:

- a) faça parte de um índice;
- b) tenha um valor default declarado;
- c) admita valores nulos;
- d) seja alvo de uma operação update do SQL;
- e) possa ser simultaneamente definida como chave estrangeira para outro relacionamento da entidade Filial.

Comentário:

O ponto fundamental desta questão é notar que, dado que temos um relacionamento identificador de 1:N, estamos lidando com uma situação em que uma empresa não é obrigada a ter uma filial, mas uma filial deve obrigatoriamente estar vinculada a uma empresa.

De forma geral, chaves estrangeiras podem, sim, conter valores nulos. No entanto, neste contexto, como explicado anteriormente, não podemos permitir que uma chave estrangeira seja nula, pois isso implicaria na existência de uma filial sem uma empresa associada.



8. FGV - 2018 - Analista Legislativo (ALERO)/Tecnologia da Informação/Análise e Desenvolvimento de Sistemas

Na representação de esquemas para bancos de dados relacionais por meio da notação IDEF1X, os relacionamentos podem ser identificadores ou não identificadores.

Sobre a consequência do uso de relacionamentos identificadores, assinale a afirmativa correta.

- a) Uma tabela não pode participar em mais de um relacionamento identificador.
- b) A cardinalidade de um relacionamento identificador deve ser 1:1.
- c) A tabela do lado N do relacionamento deve possuir uma chave primária que independa da chave estrangeira decorrente do relacionamento.
- d) A chave estrangeira decorrente do relacionamento deve fazer parte da chave primária da tabela.
- e) A chave estrangeira decorrente do relacionamento deve permitir a preenchimento com valores nulos.

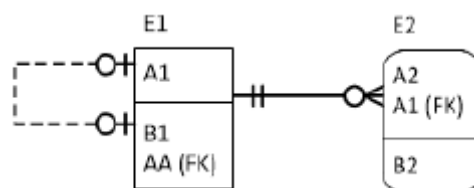
Comentário:

Vamos comentar cada uma das alternativas:

- a) Errada. Uma tabela pode participar em mais de um relacionamento identificador.
- b) Errada. Não há restrição quanto à cardinalidade do relacionamento identificador.
- c) Errada. A chave estrangeira decorrente do relacionamento faz parte da chave primária da tabela.
- d) Correta. A chave estrangeira decorrente do relacionamento deve fazer parte da chave primária da tabela.
- e) Errada. A chave estrangeira decorrente do relacionamento não pode receber valores nulos, pois faz parte da chave primária.

Assim, o gabarito correto é a letra D.

9. FGV - 2018 - Analista Legislativo (ALERO)/Tecnologia da Informação/Banco de Dados



Considere o relacionamento estabelecido entre as entidades E1 e E2 no diagrama IDEF1X. Assinale a opção que apresenta a leitura correta que deve ser feita dessa representação.



- a) A cada elemento de E1 está associado um e somente um elemento de E2.
- b) A cada elemento de E1 estão associados entre 1 e N elementos de E2.
- c) A cada elemento de E2 está associado um e somente um elemento de E1.
- d) A cada elemento de E2 estão associados entre 1 e N elementos de E1.
- e) A cada elemento de E2 podem estar associados zero ou um elemento de E1.

Comentário:

A questão nos trouxe as seguintes leituras para o relacionamento entre E1 e E2:

Uma ocorrência de E1 pode estar associada a nenhuma ou várias ocorrências de E2, enquanto uma ocorrência de E2 deve estar associada a uma e somente uma ocorrência de E1. É um relacionamento 1:N.

Temos ainda um auto relacionamento. Assim, a entidade E1 também participa de um auto relacionamento de cardinalidade 1:1, ou seja, uma ocorrência de E1 pode se relacionar, no máximo, com outra ocorrência de E1.

Logo, a única alternativa correta é a letra C.

Gabarito: C

10. Ano: 2018 Banca: FGV Órgão: SEFIN-RO Prova: Auditor Fiscal de Tributos Estaduais

Considere um banco de dados que registre informações sobre alunos, disciplinas e professores em uma faculdade. Sabe-se que um aluno pode cursar uma ou mais disciplinas, que cada disciplina é ministrada por um único professor e que cada disciplina aceita inscrições de um ou mais alunos.

Nesse contexto, analise as afirmativas a seguir.

- I. Alunos e professores têm relação N:M ente si.
- II. Professores e disciplinas têm uma relação 1:N entre si.
- III. Cada professor ministra, necessariamente, apenas uma disciplina.

Está correto o que se afirma em

- a) I, apenas.
- b) II, apenas.
- c) III, apenas.
- d) I e II, apenas.
- e) I, II e III.

Comentário:

Podemos observar que o enunciado nos fornece a cardinalidade máxima dos relacionamentos. Primeiramente, um aluno pode cursar várias disciplinas e cada disciplina é lecionada por um professor. Logo, um aluno pode ter vários professores. Analogamente, em uma disciplina, cada professore possui vários alunos, assim temos uma cardinalidade de N:M entre aluno e professor. Portanto, a afirmação I está correta.



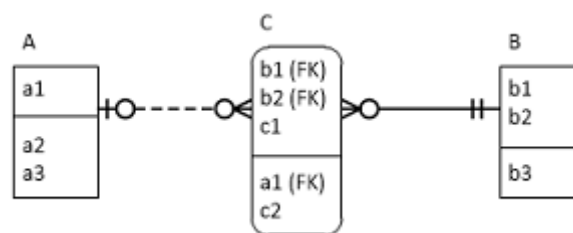
Já a segunda afirmação diz que o relacionamento entre professores e disciplina tem cardinalidade 1:N. Assim, cada disciplina pode ser lecionada por apenas um professor e um professor pode ensinar várias disciplinas. Desta forma, podemos concluir que a afirmação II está certa.

Por fim, a última afirmativa diz que um professor vai ensinar necessariamente uma disciplina. Isso nos leva a pensar na restrição de participação ou cardinalidade mínima. Não temos como afirmar isso a partir dos dados presentes no enunciado. Sendo, portanto, a afirmação falsa. Logo temos, a nossa resposta, após avaliar as afirmações, na alternativa D.

Gabarito: D

11. Ano: 2017 Banca: FGV Órgão: MPE-BA Prova: Analista Técnico - Tecnologia

Analisar o diagrama a seguir.



Num banco de dados corretamente derivado desse diagrama, é correto afirmar que:

- a) a coluna a1 da tabela C não deve permitir valores nulos;
- b) a coluna b1 da tabela C deve permitir valores nulos;
- c) o relacionamento entre as tabelas B e C é não identificador;
- d) a coluna c1 não faz parte do identificador da tabela C;
- e) as tabelas A e B têm um relacionamento n:m entre si.

Comentário:

Questão interessantíssima! Vamos falar dos erros de cada uma das alternativas. Precisamos lembrar primeiramente que se um atributo faz parte da chave primária ele estará acima do traço que divide o retângulo. E, nesta situação, ele não pode conter valores nulos por conta das restrições de integridade. Com essa informação já podemos avaliar as alternativas a) e b). Vejam que a1 é um atributo que não faz parte da chave de C, logo pode permitir valores nulos. Já b1 faz parte da chave de C, sendo assim não pode receber valores nulos.

Vejam agora a alternativa c). Observe que a linha que liga a entidade B a entidade C é contínua, esse fato faz com que o relacionamento seja identificador. Este fato pode ser confirmado quando observamos que os atributos chaves de B (b1 e b2) fazem parte da chave de C.

Como identificador da tabela C temos ainda um atributo que é próprio de C, no caso c1. Assim, podemos afirmar que a alternativa d) está incorreta. Observe ainda que o valor de a1 está presente na entidade C, mas não é chave. Desta forma o relacionamento entre as entidades A e C é não identificador, isso pode ser observado pela linha tracejada entre elas.



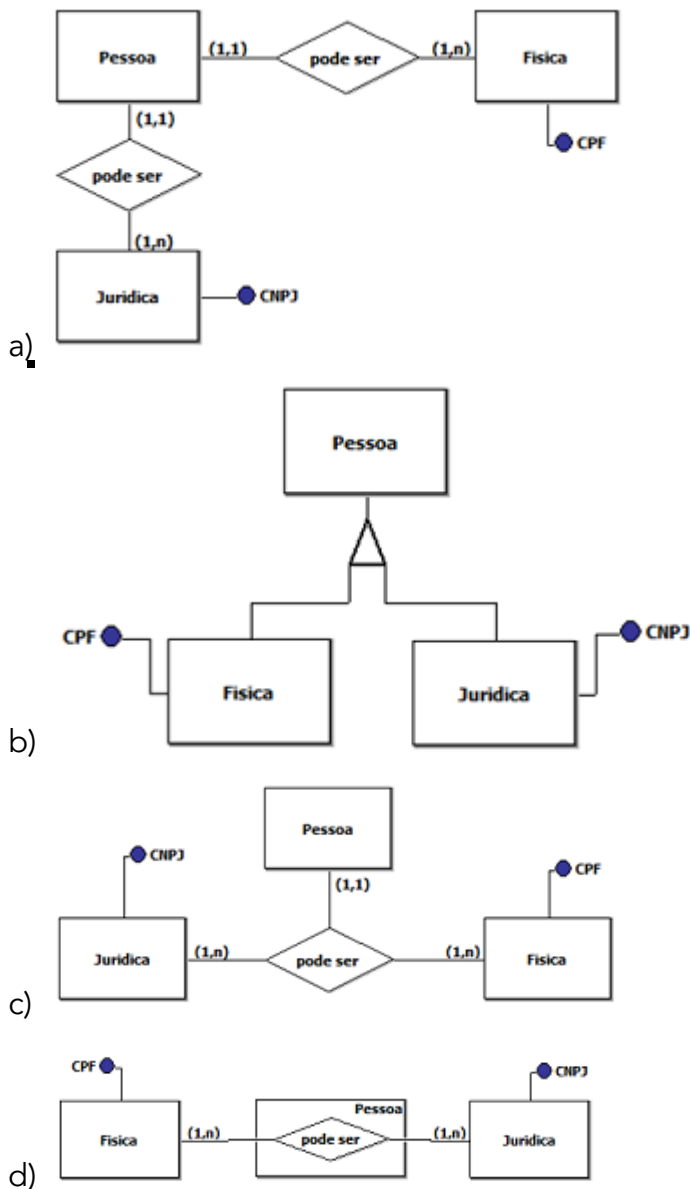
Por fim, nossa resposta é que a entidade C faz o relacionamento N:M entre A e B. Observa-se isso pela notação pé-de-galinha presente em cada um dos lados da entidade C. Logo, a alternativa e) está perfeitamente correta.

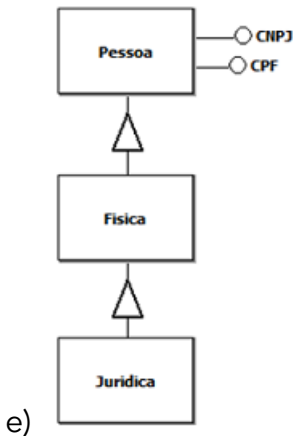
Gabarito: E.

12. Ano: 2017 Banca: FGV Órgão: IBGE Prova: Analista Censitário - Análise de Sistemas - Desenvolvimento de Aplicações

Daniel foi designado para fazer a modelagem conceitual de dados utilizando a abordagem de entidades e relacionamentos. Um dos requisitos levantados para o sistema a ser desenvolvido apresenta o conceito de que uma pessoa pode ser classificada como pessoa física ou pessoa jurídica.

A alternativa que ilustra a modelagem conceitual de dados para o conceito apresentado é:





e)

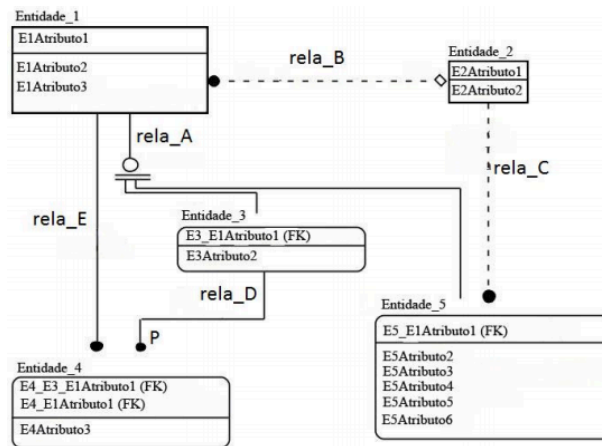
Comentário:

Observando as alternativas a única que apresenta a notação correta de um esquema com herança é a alternativa B.

Gabarito: B

13. Ano: 2017 Banca: FGV Órgão: ALERJ Prova: Especialista Legislativo - Tecnologia da Informação

Observe a figura a seguir, que representa um Modelo de Entidades e Relacionamentos utilizando a notação IDEF1X (Integrated DEfinition for Information Modelling).



Com base na sintaxe da notação utilizada no modelo, é correto afirmar que:

- a) "Entidade_1" é uma entidade dependente;
- b) "rela_A" indica que o conjunto de entidades que representam um subtipo ou subclassificação da "Entidade_1" está incompleto;
- c) "rela_C" é um relacionamento onde cada instância da entidade filho está relacionada a zero ou a uma instância da entidade pai;
- d) "rela_D" indica que "Entidade_3" se relaciona com uma ou mais "Entidade_4";
- e) "rela_B" é um relacionamento onde cada instância da entidade filho está relacionada a uma ou mais instâncias da entidade pai.

Comentário:



Questão interessante, temos que lembrar que a bolinha preta preenchida com um P ao lado indica cardinalidade (1,N), ou seja, um ou mais. É justamente isso que acontece com o relacionamento *rela_D*. Sendo assim, a afirmação D está correta. Essa questão merece ainda um comentário de cada uma das alternativas.

Na letra A temos a afirmação que a entidade_1 é dependente. Lembre-se que o que caracteriza a dependência no modelo em questão é o fato das pontas do retângulo serem arredondadas. Sendo assim, as entidades 3, 4 e 5 são dependentes.

Já na alternativa B temos a notação representa uma herança completa (dois traços abaixo do círculo) e exclusiva (apenas um círculo). Sendo assim não podemos dizer que a Entidade_1 está incompleto.

A relação "rela_C" representa um relacionamento 1:N opcional. Sendo assim, a alternativa C também se encontra incorreta.

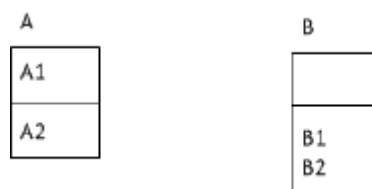
O erro da alternativa E está em dizer que cada instância da entidade filho está relacionado a uma ou mais instâncias da entidade pai. Quando na realidade a ideia é justamente o contrário. Pense que um Pai pode ter vários filhos, mais um filho só deve ter apenas um pai.

A letra D apresenta um relacionamento apresenta um relacionamento obrigatório 1:N. Está é a nossa resposta!

Gabarito: D.

14. Ano: 2015 Banca: FGV Órgão: TJ-RO Cargo: Analista de Sistemas

Considere o diagrama ER, representado pela notação IDEF1X e contendo as entidades A e B, mostrado a seguir.



Considere ainda a figura de um relacionamento a seguir.



A conexão dessas entidades por meio do relacionamento mostrado, na direção em que se encontra, nesse caso provoca o estabelecimento, entre as duas entidades A e B, de um relacionamento:

- a) 1:1
- b) 1:N
- c) N:1
- d) N:M
- e) 1:0

Comentário:



A entidade B não possui chave primária, lembrem-se que na notação IDEF1X o atributo chave-primária fica na divisão superior da entidade. Por isso, a única chave que identifica ela na relação B é a chave estrangeira vinda de A. Então, mesmo com o símbolo de muitos, a relação é 1 para 1 porque não há como fazer uma relação de 1 para muitos sem chave primária em B.

Gabarito: A.

15. Ano: 2015 Banca: FGV Órgão: TCE-SE Cargo: Analista de Tecnologia da Informação

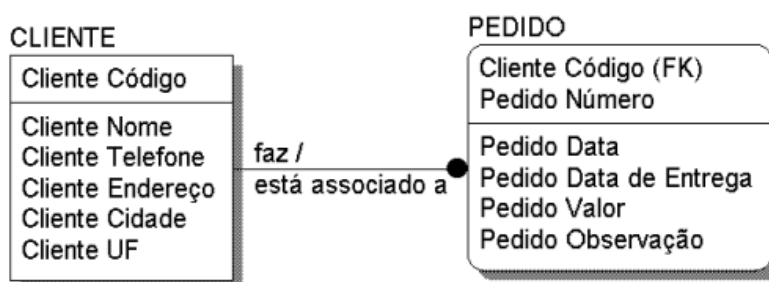
Diagramas entidade-relacionamento na notação IDEF1X distinguem relacionamentos identificadores e não identificadores. A presença de um relacionamento identificador faz com que:

- a) os atributos que compõem a chave estrangeira correspondente possam assumir valores nulos;
- b) a cardinalidade do relacionamento torne-se, obrigatoriamente, 1:1;
- c) os atributos que compõem a chave estrangeira correspondente passem a compor a chave primária da tabela estrangeira;
- d) os atributos que compõem a chave estrangeira constituam, por si só, uma chave candidata da tabela estrangeira;
- e) seja estabelecida uma relação de especialização entre as duas entidades conectadas.

Comentário:

O relacionamento identificador entre duas entidades E1 e E2 (neste sentido) indica que uma instância da entidade E2 não pode ser completamente identificada sem que se conheça a instância da entidade E1 a que ela está associada. Por exemplo, considere que em uma determinada empresa de vendas no atacado os pedidos sejam identificados da seguinte forma: para cada novo cliente os pedidos são numerados a partir do número 1. Assim existirão tantos pedidos com o número "1" quantos forem os clientes da empresa.

Veja o exemplo abaixo:



A indicação FK no atributo "Cliente Código" da entidade PEDIDO indica que aquele atributo é uma chave-primária em outra entidade relacionada (no caso, FUNCIONÁRIO). Então, o atributo é denominado uma chave-estrangeira (Foreign Key), ou seja, uma chave que "migrou" para a outra entidade devido ao relacionamento.

Partindo do exemplo acima, podemos encontrar nossa resposta na alternativa C.

Gabarito: C



16. Ano: 2014 Banca: FGV Órgão: TJ-GO Cargo: Analista Judiciário - Análise de Sistemas

Em algumas das questões que seguem desta disciplina, o banco de dados simplificado, denominado COPA_BD, será utilizado como referência.

DESCRIÇÃO DO BANCO DE DADOS COPA_BD

O banco de dados armazena informações sobre os jogos de um grupo de países na fase de classificação da Copa do Mundo, na qual os times jogam entre si. É constituído por quatro tabelas, cujos atributos e instâncias são as que seguem.

País		Jogo		Participação			
nomePaís	País	IdJogo	dataJogo	nomePaís	IdJogo	papel	pontos
Brasil	Brasil	1	12/06/2014	Brasil	1	M	3
Croácia	Croácia	2	13/06/2014	Croácia	1	V	0
Camarões	Camarões	3	17/06/2014	México	2	M	3
México	México	4	18/06/2014	Camarões	2	V	0
		5	23/06/2014	Brasil	3	M	1
		6	23/06/2014	México	3	V	1
				Camarões	4	M	0
				Croácia	4	V	3
				Croácia	5	M	0
				México	5	V	3
				Camarões	6	M	0
				Brasil	6	V	3

Gol				
IdJogo	nomePaís	nomeAutor	tempo	natureza
1	Brasil	Neymar	28	N
1	Brasil	Neymar	70	N
1	Croácia	Marcelo	10	C
1	Brasil	Oscar	90	N
2	México	Peralta	85	N
4	Croácia	Ollic	15	N
4	Croácia	Perisic	19	N
4	Croácia	Mandzukic	40	N
4	Croácia	Mandzukic	76	N
5	Croácia	Perisic	80	N
5	México	R Márquez	34	N
5	México	J Hernandez	78	N
5	México	Guardado	85	N
6	Brasil	Neymar	15	N
6	Brasil	Neymar	23	N
6	Brasil	Fernandinho	60	N
6	Brasil	Fred	70	N
6	Camarões	Matip	35	N

Observações:

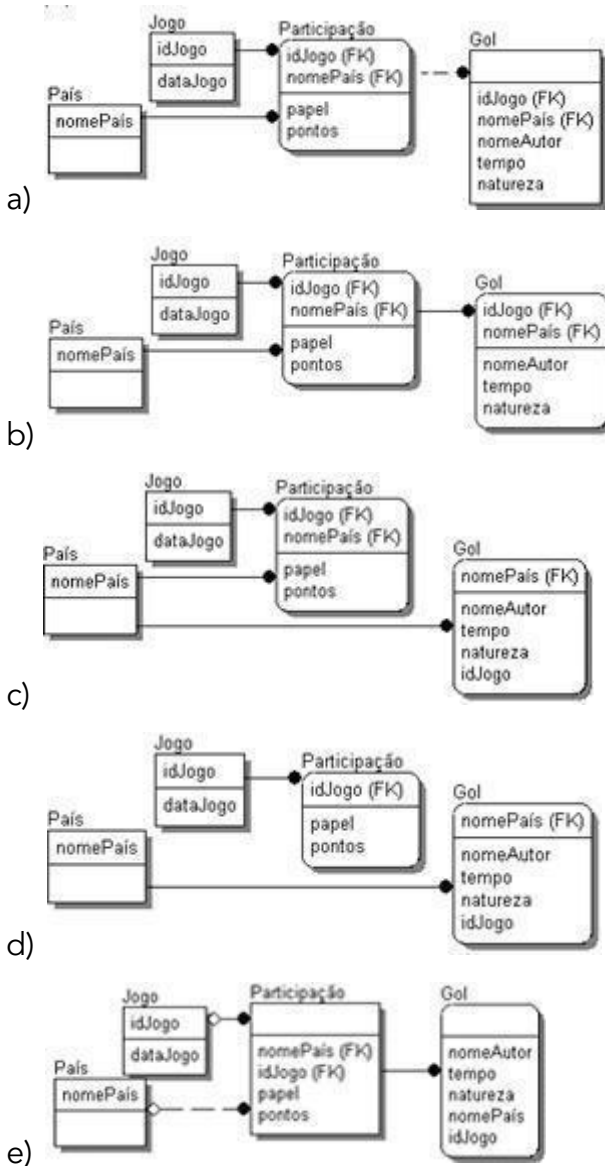
Cada registro na tabela Participação representa um dos times que participaram de um determinado jogo, no papel de mandante ou visitante, juntamente com o número de pontos obtidos no jogo (um gol pode ser normal ou contra);

Cada registro na tabela Gol representa um gol, contra ou a favor, feito pelo jogador no tempo indicado;

Chaves primárias, candidatas e estrangeiras ainda não foram estabelecidas.

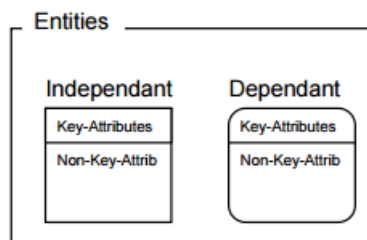
O diagrama ER que melhor representa o banco de dados COPA_BD, considerando-se sua descrição e instâncias, é:





Comentário:

Analisando o diagrama é possível definir alguns aspectos interessantes. Primeiramente gostaria de lembrar do conceito de entidade dependente e independente. Vejam que os cantos da figura que definem como a entidade está classificada:

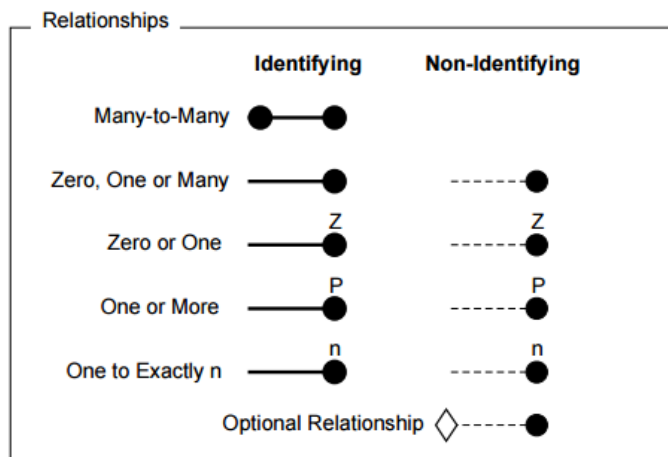


Outro ponto importante é que a chave primária da tabela Participação é formada pelos atributos idJogo e nomeDoPaís, que são chaves estrangeiras, respectivamente das tabelas Jogo e País.

Podemos identificar ainda que os atributos da entidade Gol não tem a capacidade de ser caracterizados como chave primária da relação. Vejam que idJogo e nomeDoPaís que são FKs em Gol não conseguem identificar unicamente uma linha da tabela.



Quando analisamos o relacionamento, observamos que o relacionamento entre Participação e as tabelas Jogo e País temo um relacionamento identificador, visualizado pela linha contínua entre as duas entidades. Já entre a entidade Gol e a Participação tem uma linha tracejada, caracterizando um relacionamento não identificador. Vejamos abaixo as descrições dos relacionamentos na notação IDEF1X.

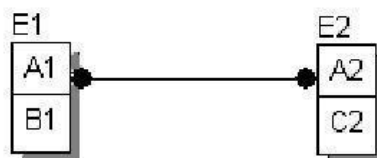


Após pontuar os aspectos listados acima, podemos marcar nossa resposta na alternativa A.

Gabarito: A.

17. Ano: 2014 Banca: FGV Órgão: DPE-RJ Cargo: Técnico Superior Especializado - Administração de Dados

Observe o diagrama apresentado a seguir.



Na implementação desse modelo num banco de dados relacional, é preciso

- eliminar o relacionamento entre E1 e E2 e criar uma hierarquia de generalização.
- especificar precisamente a cardinalidade do relacionamento entre E1 e E2.
- migrar os atributos de E1 e E2 para uma nova entidade, haja vista a presença do relacionamento N:M.
- migrar os atributos de E2 para E1, haja vista a existência do relacionamento 1:1.
- resolver o relacionamento N:M, por meio da criação de uma entidade intermediária.

Comentário:

Se lembrarmos da representação de relacionamentos vista na questão anterior podemos perceber na figura um relacionamento N:M. Nestas situações, quando estamos passando do modelo conceitual para o relacional, optamos pela criação de uma tabelas auxiliar para



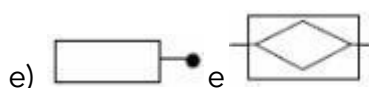
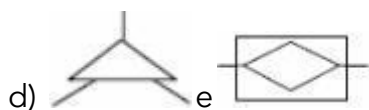
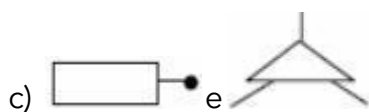
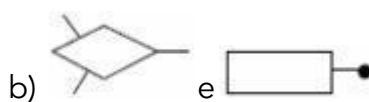
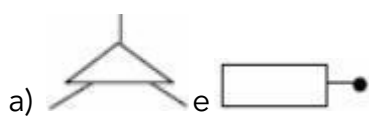
comportar as chaves primárias das duas entidade e fazer a ligação entre os elementos das duas entidades. Essas tabelas intermediárias são conhecidas como tabela de ligação.

Gabarito: E

18. Ano: 2009 Banca: FGV Órgão: MEC Cargo: Analista de Sistemas

O Modelo de dados é representado através de um modelo entidade-relacionamento - modeloER, enquanto que o - diagrama entidade-relacionamento (DER) constitui a representação gráfica do modeloER.

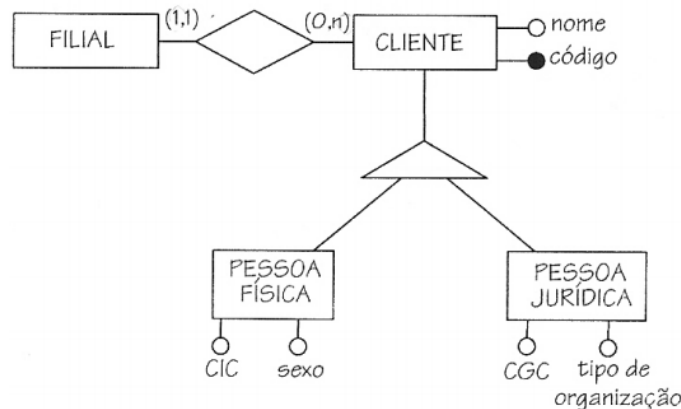
No que diz respeito à simbologia utilizada, para globalização /especialização e entidade associativa são empregados, respectivamente, os seguintes símbolos:



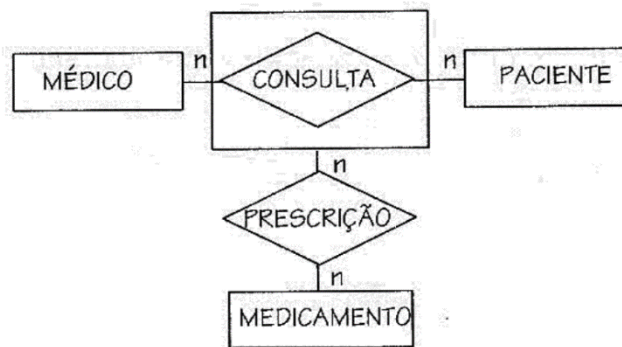
Comentário:

Além de relacionamentos e atributos, propriedades podem ser atribuídas a entidades através do conceito de generalização/especialização. O símbolo para se representar generalização/especialização em um DER é um triângulo. Vejam o exemplo abaixo, nele a entidade CLIENTE é dividida em dois subconjuntos, as entidades PESSOA FÍSICA e PESSOA JURÍDICA, cada uma com propriedades particulares.





Um relacionamento é uma associação entre entidades. No modelo ER não foi prevista a possibilidade de se associar uma entidade com um relacionamento ou então associar dois relacionamentos entre si. Para isto criou-se um conceito especial, o de entidade associativa. Ele nada mais é do que uma redefinição de um relacionamento para que ele seja tratado também como uma entidade. Graficamente, traça-se um retângulo em volta do losango do relacionamento. Se você tem dúvidas a respeito entidade associativa, sugiro que leia esse resumo. Aproveitando, vamos apresentar um exemplo de diagrama com uma entidade associativa.



Gabarito: D.

19. Ano: 2010 Banca: FGV Órgão: DETRAN-RN Cargo: Programador de computador

Sobre o modelo de entidade-relacionamento, assinale a alternativa correta:

- a) Uma entidade é um objeto no mundo real que pode ser identificada de forma unívoca em relação a todos os outros objetos.
- b) Define-se por "conjunto de entidades", entidades de tipos diferentes com propriedades diferentes.
- c) Uma entidade é uma associação entre vários relacionamentos.
- d) As entidades são utilizadas unicamente para efetuar o mapeamento das cardinalidades.
- e) Uma única entidade pode conter somente relacionamentos "um para um".

Comentário:



Para responder a contento essa questão precisamos revisar o conceito de entidade. Segundo Navathe, o objeto básico que o modelo ER representa é uma entidade, que é algo no mundo real com existência independente. Uma entidade pode ser um objeto com existência física, ou pode ser um objeto com existência conceitual.

Um banco de dados em geral contém grupos de entidades que são semelhantes, por exemplo, uma empresa que emprega centenas de funcionários pode querer armazenar informações semelhantes com relação a cada um deles. Cada funcionário tem seus próprios valores para cada atributo. Um tipo de entidade define uma coleção (ou conjunto) de entidades que têm os mesmos atributos. Cada tipo de entidade é descrito por seu nome e atributos.

A coleção de todas as entidades de determinado tipo de entidade no banco de dados, em qualquer momento no tempo, é chamada de conjunto de entidades.

Analisando cada uma das alternativas, podemos observar nossa resposta na alternativa A.

Gabarito: A.

20. Ano: 2010 Banca: FGV Órgão: DETRAN-RN Cargo: Programador de computador

Assinale a alternativa que corresponde ao recurso do modelo de entidade-relacionamento, cuja definição é "ser um conjunto de um ou mais atributos que, tomados coletivamente, permite-se identificar de maneira unívoca uma entidade em um conjunto de entidades":

- a) Chave primária.
- b) Superchave.
- c) Especialização.
- d) Generalização.
- e) Herança de atributo.

Comentário:

Como sabemos, existem alguns conceitos relacionados a chave. O primeiro deles é o de superchave, uma superchave de um esquema de relação $R = \{A_1, A_2, \dots, A_n\}$ é um conjunto de atributos $S \subset R$ (S está contido em R) que contenha a propriedade na qual não haverá duas tuplas t_1 e t_2 , em qualquer estado válido da relação r de R , cuja $t_1[S] = t_2[S]$. Em outras palavras uma superchave é um conjunto de atributos que tem a característica de restringir o conjunto de tuplas de uma relação a apenas uma linha.

Essa superchave pode ser considerada apenas uma chave. Neste caso, a chave é defendida como uma superchave mínima (K), qualquer remoção de atributo de K fará com que K deixe de ser superchave da relação. Se um esquema tiver mais de uma chave, cada uma delas é chamada de chave candidata. Entre as chaves uma delas é escolhida para ser a chave da relação e é denominada de chave primária. As demais são renegadas e são denominadas de chaves secundárias.

Percebam que a questão traz uma definição de superchave. Desta forma, nosso gabarito encontra-se na alternativa B.

Gabarito: B.



21. Ano: 2010 Banca: FGV Órgão: DETRAN-RN Cargo: Administrador de banco de dados
Para um conjunto de relacionamentos R BINÁRIO entre os conjuntos de entidades A e B, o mapeamento das cardinalidades deve seguir, EXCETO:

- a) Um para um.
- b) Um para muitos.
- c) Um para ele mesmo.
- d) Muitos para muitos.
- e) Muitos para um.

Comentário:

A restrição razão de cardinalidade especifica a quantidade de instâncias de relacionamento que uma entidade pode participar. No tipo de relacionamento binário TRABALHA-PARA entre as entidades DEPARTAMENTO e EMPREGADO temos a razão de cardinalidade 1:N. Isto significa que cada entidade departamento pode estar relacionada a inúmeras entidades empregado (muitos empregados podem trabalhar para um departamento) mas uma entidade EMPREGADO pode estar relacionada a apenas um departamento (um empregado pode trabalhar apenas para um departamento). As razões de cardinalidade mais comuns para tipos de relacionamento binário são 1:1, 1:N e M:N.

Observamos que a alternativa C não faz parte das cardinalidades possíveis para relacionamentos binários.

Gabarito: C.

22. Ano: 2009 Banca: FGV Órgão: MEC Cargo: Administrador de banco de dados
Um atributo, em um modelo de entidade-relacionamento, possui "sub-atributos" em sua nomenclatura que podem ou não ser do mesmo tipo e que são agregados a ele no mundo real.

Esse atributo é definido como:

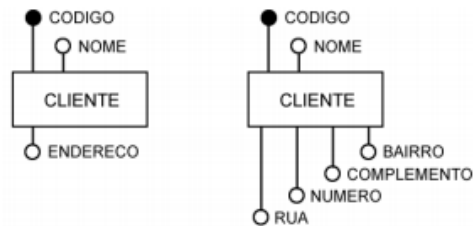
- a) um atributo chave.
- b) um atributo derivado.
- c) um atributo composto.
- d) um atributo multivalorado.
- e) um atributo monovalorado.

Comentário:

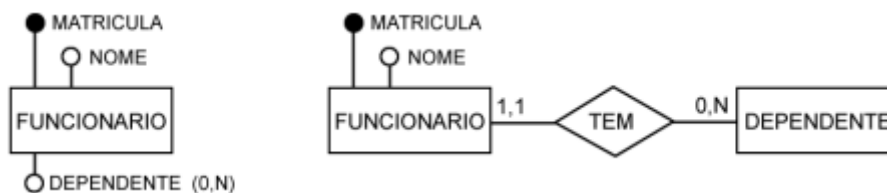
Vejamos um pouco da teoria de atributos compostos e multivalorados:

ATRIBUTOS COMPOSTOS. Chamamos que atributos compostos àqueles nos quais vários itens menores. Por exemplo, ENDEREÇO é composto por: nome do logradouro, número, complemento (exemplo: apartamento), bairro, cidade, estado, etc. Vejam o exemplo do atributo ENDEREÇO e sua decomposição em atributos atômicos na figura abaixo:





ATRIBUTOS MULTIVALORADOS. Denominamos atributos multivalorados àqueles nos quais o conteúdo é formado por mais de um valor. Um exemplo pode ser visto na entidade FUNCIONARIO com o atributo DEPENDENTE. Para atributos multivalorados recomenda-se a solução apresentada na figura:



Pela explicação acima podemos marcar nossa resposta na alternativa C.

Gabarito: C.

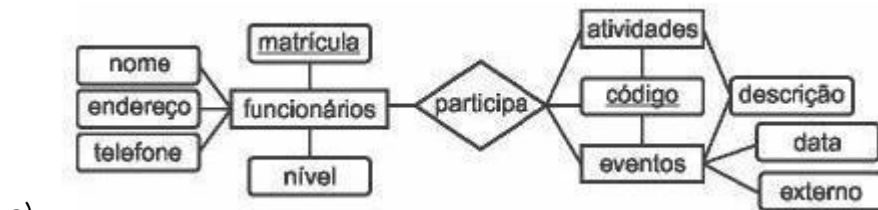
23. Ano: 2008 Banca: FGV Órgão: Senado Federal Cargo: Analista de Suporte de Sistemas

O Senado Federal deseja manter informações sobre seus funcionários e, para isso, estabeleceu as premissas abaixo listadas:

- Cada funcionário possui um único número de matrícula, nome, endereço e telefone. Os funcionários podem participar de atividades como cursos de autoaperfeiçoamento e palestras e dos eventos realizados pelo Senado Federal.
- Os eventos podem ser externos ou internos. Todos os funcionários podem participar dos eventos, considerando o nível funcional e mediante apreciação do órgão responsável.
- As atividades são identificadas por um código, sendo desejável que se armazene também o nome da atividade. Cada evento também é identificado por um código. É necessário que se saiba a descrição e a data de cada evento. É importante ainda que o Senado Federal conheça a participação de cada funcionário em cada atividade ou evento.

O Diagrama Entidade-Relacionamento está indicado em:

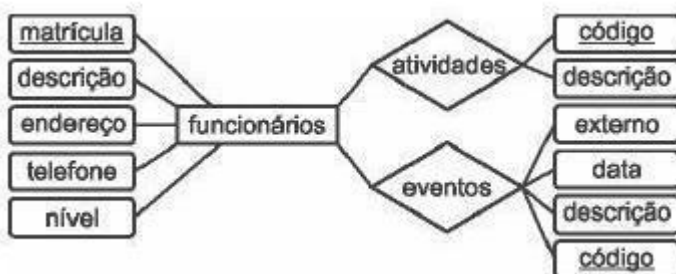




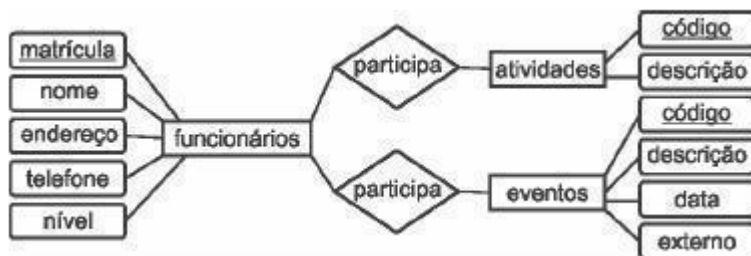
a)



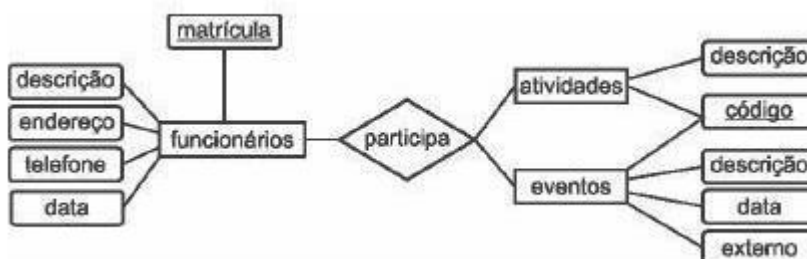
b)



c)



d)



e)

Comentário:

Essa questão é legal para treinarmos a construção de um diagrama ER a partir de uma descrição textual. A dica para resolver a questão é criar as entidades separadamente com seus atributos. Depois vamos juntar essas entidades por meio dos relacionamentos.

Veja que existe uma possibilidade de atividades e eventos serem herdados de uma entidade pai comum, mas nenhum das alternativas refletem essa característica. Desta forma nos resta



relacionar FUNCIONARIO as entidades ATIVIDADES e EVENTOS por meio de diferentes relacionamentos. Construindo desta forma, podemos visualizar um diagrama correto na alternativa D.

Veja que o compartilhamento de atributos da alternativa E não existe, não é uma possibilidade do modelo ER. Também precisamos prestar atenção às notações gráficas que representam os relacionamentos e as entidades. Na questão temos uma falta de preciosismo quanto ao uso dos atributos. Eles deveriam ser representados por elipses.

Gabarito: D.

24. Ano: 2009 Banca: FGV Órgão: MEC Cargo: Administrador de banco de dados

A respeito dos conceitos básicos do Modelo de Entidade-Relacionamento, analise as afirmativas a seguir:

- I. A chave primária de uma entidade é o conjunto mínimo de atributos (um ou mais) que permitem identificar unicamente uma entidade em um conjunto de entidades.
- II. Entidades Fortes são aquelas que não possuem atributos suficientes para formar uma chave primária.
- III. As entidades fortes dependem existencialmente de entidades fracas.

Assinale:

- a) se somente a afirmativa I estiver correta.
- b) se somente as afirmativas I e II estiverem corretas.
- c) se somente as afirmativas I e III estiverem corretas.
- d) se somente as afirmativas II e III estiverem corretas.
- e) se todas as afirmativas estiverem corretas.

Comentário:

Essa questão revisa alguns conceitos do modelo ER, primeiramente fala sobre a chave primária. Uma restrição importante das entidades de um tipo de entidades é a chave ou restrição de exclusividade sobre os atributos. A definição da questão, descrita no item I, está teoricamente perfeita.

No item II, a definição proposta para Entidade Forte está errada! Na realidade essa definição da questão está associada ao termo Entidade Fraca.

Mais uma vez, uma restrição ao termo entidade forte é descrita de forma incorreta no item III. O correto seria dizer que "as entidades fracas dependem existencialmente de entidades forte".

Sendo assim temos a alternativa A como a nossa resposta, pois afirma que apenas o item I está correto.

Gabarito: A.

25. Ano: 2009 Banca: FGV Órgão: MEC Cargo: Administrador de banco de dados

Com relação a um Banco de Dados, analise as afirmativas a seguir:



- I. Uma tabela no banco de dados relacional pode ser derivada de uma entidade ou de um relacionamento N:M (muitos para muitos), a partir de um modelo entidade-relacionamento.
- II. Quando um banco de dados relacional possui nomes idênticos de colunas dentro de uma tabela, estabelece-se um relacionamento hierárquico entre essas colunas.
- III. As regras de derivação de um modelo entidade-relacionamento para o modelo físico são idênticas para bancos de dados relacionais, em rede ou hierárquicos.

Assinale:

- a) se somente a afirmativa I estiver correta.
- b) se somente as afirmativas I e II estiverem corretas.
- c) se somente as afirmativas I e III estiverem corretas.
- d) se somente as afirmativas II e III estiverem corretas.
- e) se todas as afirmativas estiverem corretas.

Comentário:

Vamos analisar cada uma das alternativas de forma rápida, os aspectos mais aprofundados do modelo relacional serão vistos na próxima aula.

Na alternativa I, o examinador afirma que é possível derivar uma tabela a partir de uma entidade ou de um relacionamento N:M. Isso é perfeitamente possível! Analisaremos o passo-a-passo para mapeamento do modelo E-R no relacional na próxima aula.

No item II, temos uma definição incorreta. No modelo relacional os nomes dos diversos atributos em uma tabela têm que ser obrigatoriamente distintos. Da mesma forma que o nome de tabelas dentro do mesmo esquema.

O item III fala sobre regras de derivação, que seria o mesmo de fazer um mapeamento. A questão afirma que as regras são idênticas para derivação do MER para o modelo físico são idênticas para os bancos de dados relacionais, em rede ou hierárquico, isso não é verdade pois as formas de representação física dos modelos são diferentes.

Desta forma, apenas o item I está correto, o que leva nosso gabarito a ser marcado na alternativa A.

Gabarito: A.

26. Ano: 2010 Banca: FGV Órgão: BADESC Cargo: Analista de Sistemas

No intuito de determinar, entre duas entidades, se um relacionamento do tipo N:M possui um atributo, aplica-se um teste com a descrição do referido atributo.

Esse teste deve:

- a) conter somente a entidade que deve conter o atributo.
- b) conter as duas entidades que participam do relacionamento.
- c) conter nenhuma das entidades participantes do relacionamento.
- d) conter somente a entidade em que o atributo não deve se encontrar.



e) conter apenas uma das entidades que participa do relacionamento.

Comentário:

Mais uma questão sobre o modelo entidade-relacionamento, desta vez analisamos um atributo presente no relacionamento entre duas entidades. O que acontece quando temos o relacionamento. Pense no caso das entidades Médico e Paciente e o relacionamento Consulta. O atributo hora da consulta é claramente um atributo do relacionamento. Ele só vai existir quando um paciente marcar uma consulta. Sendo assim ele deve conter as duas entidades que participam do relacionamento.

Gabarito: B.

27. Ano: 2010 Banca: FGV Órgão: BADESC Cargo: Analista de Sistemas

Assinale a alternativa que apresenta as características de uma entidade fraca.

- a) Possui identificação própria ou sua existência depende de uma outra denominada de forte.
- b) Não possui identificação própria ou sua existência depende de uma outra denominada de forte.
- c) Possui identificação própria ou sua existência não depende de uma outra denominada de forte.
- d) Possui identificação própria ou sua existência depende de uma outra não denominada de forte.
- e) Não possui identificação própria ou sua existência não depende de uma outra denominada de forte.

Comentário:

Já falamos de entidade fraca em questões anteriores. Analisando as alternativas da questão podemos concluir que a resposta é não possui identificação própria ou sua existência depende de uma outra denominada de forte, presente na alternativa B.

Gabarito: B.

28. Ano: 2010 Banca: FGV Órgão: BADESC Cargo: Analista de Sistemas

A chave estrangeira se encontra na própria tabela de um autorelacionamento do(s) tipo(s):

- a) 1:1 e 1:N
- b) 1:1 e N:N
- c) 1:N e N:N
- d) somente N:N
- e) 1:1, 1:N e N:N

Comentário:



Somente é possível fazer autorelacionamento dos tipos 1:1 e 1:N, Um exemplo de 1:1 seria "casado com" e um exemplo de 1:N seria o relacionamento "gerencia".

Gabarito: A.

29. Ano: 2010 Banca: FGV Órgão: DETRAN-RN Cargo: Administrador de banco de dados "Mapeamento estabelecido entre duas classes de coisas, ou objetos que são visualizados através da abstração". Tal afirmativa refere-se:

- a) Agregação binária.
- b) Agregação de abstração.
- c) Generalização de abstração.
- d) Cardinalidade.
- e) Vetorizar.

Comentário:

A agregação binária estabelece um mapeamento entre os elementos de duas classes. Por exemplo, utiliza é uma agregação binária entre as classes pessoa e apartamento, possui é uma outra agregação binária entre as classes pessoa e apartamento. Vejam que esse conceito está de acordo com o enunciado, portanto a alternativa A é a nossa resposta.

Gabarito: A.

30. Ano: 2014 Banca: FGV Órgão: DPE-RJ Cargo: Técnico Superior Especializado - Administração de Dados

Banco de dados BD_EXEMPLO - descrição

O banco de dados é constituído pelas tabelas *Candidato*, *Prova* e *Avaliação*, cujas colunas e respectivas instâncias são mostradas a seguir. NULL representa um valor não preenchido.

Candidato	
inscrição	candidatoNome
101	João
102	Maria
105	Gabriela
106	João

Prova	
provaNome	data
Português	12/01/2014
Matemática	12/01/2014
Prática	19/01/2014

Avaliação		
inscrição	provaNome	nota
101	Português	10
102	Português	8
105	Português	3
106	Português	5
101	Matemática	7
102	Matemática	4
105	Matemática	8
101	Prática	5
102	Prática	5
105	Prática	NULL
106	Prática	4



Esquema relacional:

Candidato (inscrição, candidatoNome)

Prova (provaNome, data)

Avaliação (inscrição, provaNome, nota)

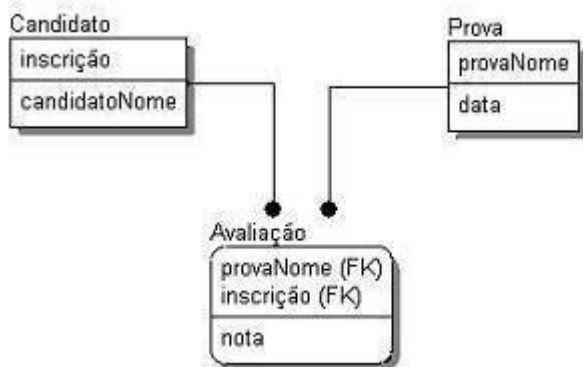
Chaves primárias (primary keys):

- a coluna **inscrição** constitui a chave primária da tabela **Candidato**;
- a coluna **provaNome** constitui a chave primária
- as colunas **inscrição** e **provaNome**, em conjunto, constituem a chave primária da tabela **Avaliação**.

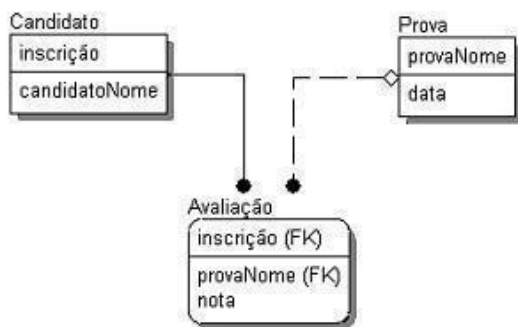
Chaves estrangeiras (foreign keys):

- a coluna **inscrição**, da tabela **Avaliação**, constitui uma chave estrangeira que referencia a tabela **Candidato**;
- a coluna **provaNome**, da tabela **Avaliação**, constitui uma chave estrangeira que referencia a tabela **Prova**.

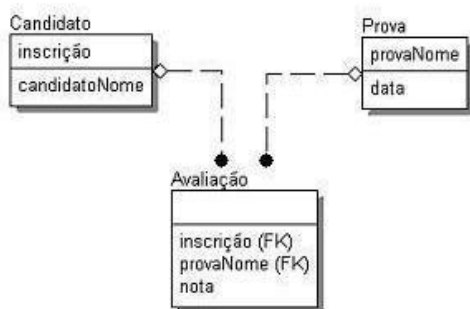
O diagrama que melhor representa o esquema do banco é



a)

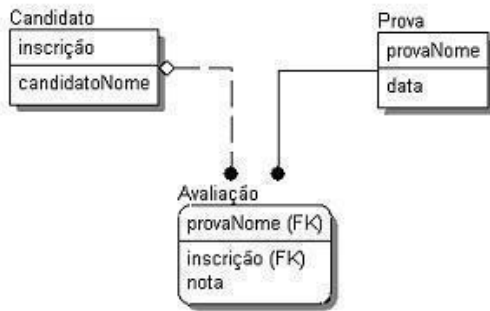


b)

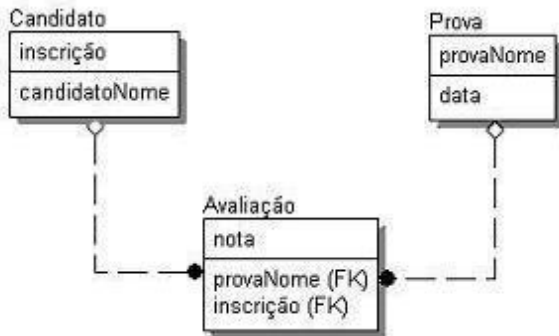


c)





d)

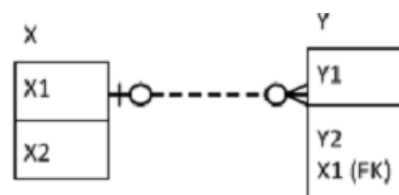


e)

Comentário: Ao analisar os aspectos definidos no enunciado podemos verificar que Avaliação depende da existência de um candidato e uma prova, sendo uma entidade dependente com chave primária composta pelos atributos provaNome e inscrição, ambos também são chaves estrangeiras. Vejam que a única alternativa que coloca os campos corretos na parte superior da relação Avaliação é a alternativa A, sendo esta a nossa resposta.

Gabarito: A

31. Ano: 2015 Banca: FGV Órgão: TJ-PI Cargo: Analista Judiciário
Analisar o diagrama ER construído sob a notação IDEF1X.



Está correto concluir que:

- a) cada instância de X está relacionada a uma única instância de Y;
- b) cada instância de X está relacionada a zero, uma ou mais instâncias de Y;
- c) cada instância de Y está relacionada a uma única instância de X;
- d) cada instância de Y está relacionada a zero, uma ou mais instâncias de X;
- e) cada instância de Y está relacionada a uma ou mais instâncias de X.

Comentário:

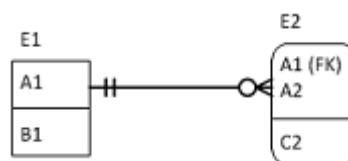


Veja que essa é mais uma questão sobre a notação pé-de-galinha. Lembrando que o círculo representa opcionalidade e o "pé" representa cardinalidade N, assim podem concluir que cada instância de X está relacionada a zero, uma ou mais instâncias de Y. Do outro lado a barra mais próxima à entidade representa cardinalidade máxima igual a 1, sendo assim tenho que cada instância de Y está relacionada com zero ou uma instancia de X.

Gabarito: B

32. Ano: 2016 Banca: FGV Órgão: CODEBA Cargo: Analista - Tecnologia da Informação

Em geral, os gerenciadores de bancos de dados relacionais permitem que seja estabelecido o procedimento a ser adotado quando um registro referenciado por uma chave estrangeira (foreign key) é deletado, ou tem seu valor alterado (update). No diagrama IDEF1X mostrado a seguir, representado com anotação pé-de-galinha, as tabelas E1 e E2 possuem um relacionamento entre si.



Assinale a combinação que seria adequada na implementação do relacionamento da figura.

- a) On delete cascade; on update set null.
- b) On delete set null; on update cascade.
- c) On delete cascade; on update cascade.
- d) On delete set null; on update set null.
- e) On delete restrict; on update set null.

Comentário:

Como o atributo A1 da relação E1 compõe a chave primária da relação E2, ele não pode ser nulo. Portanto, CASCADE em ambos os casos.

Gabarito: C



QUESTÕES COMENTADAS - MULTIBANCAS

1. FUNDATEC - ANC (PROCERGS)/PROCERGS/Administração de Dados/2023

Assinale a alternativa que NÃO é um tipo de atributo presente em bancos de dados.

- a) Atributo derivado.
- b) Atributo composto.
- c) Atributo chave.
- d) Atributo redundante.
- e) Atributo multivalorado.

Comentário:

Na opção correta, d) "Atributo redundante", temos um tipo de atributo que não está presente em bancos de dados tradicionais, pelo menos não intencionalmente. A redundância de dados, embora possa ser usada em alguns contextos para otimizar consultas ou processos de recuperação de dados, não é considerada uma prática recomendada na modelagem de banco de dados relacional devido aos problemas potenciais de integridade e consistência dos dados.

Gabarito: D

2. FUNDATEC - ANC (PROCERGS)/PROCERGS/Administração de Dados/2023

Qual a diferença entre as abordagens bottom-up e top-down na modelagem de banco de dados?

- a) Bottom-up: parte de entidades individuais para relacionamentos. Top-down: parte dos relacionamentos para entidades individuais.
- b) Bottom-up: é mais indicada para modelos complexos. Top-down: é mais indicada para modelos simples.
- c) Bottom-up: é mais rápido e fácil de implementar. Top-down: é mais demorado e complexo de implementar.
- d) Bottom-up: é mais indicada para bancos de dados relacionais. Top-down: é mais indicada para bancos de dados NoSQL.



e) Bottom-up: é mais eficiente para consultas complexas. Top-down: é mais eficiente para consultas simples.

Comentário:

A diferença entre as abordagens bottom-up e top-down na modelagem de banco de dados é: a) Bottom-up: parte de entidades individuais para relacionamentos. Top-down: parte dos relacionamentos para entidades individuais.

Na abordagem bottom-up, começa-se identificando as entidades individuais e, em seguida, define-se os relacionamentos entre elas. Por outro lado, na abordagem top-down, começa-se identificando os relacionamentos e, em seguida, as entidades individuais que participam desses relacionamentos.

Gabarito: A


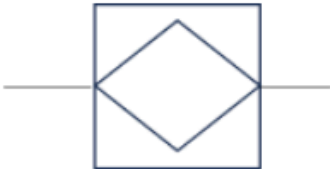

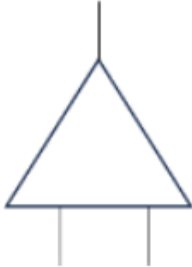



LISTA DE QUESTÕES

1. ISS São José dos Campos/2024/FGV/Auditor

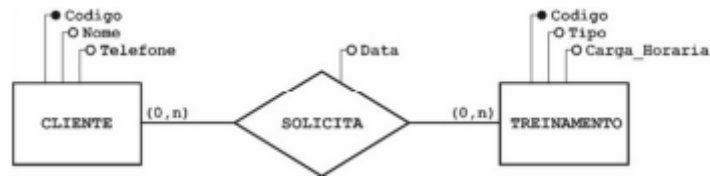
A modelagem de dados é tradicionalmente utilizada em organizações públicas e privadas. As ferramentas de design são baseadas em diagramas ER que adotam, por exemplo, a notação Chen ou a notação pé de galinha.

O símbolo gráfico utilizado para representar uma entidade associativa no diagrama ER, considerando a notação Chen, é

- (A) 
- (B) 
- (C) 
- (D) 
- (E) 

2. CEBRASPE (CESPE) - AIS (EMPREL)/EMPREL/Banco de Dados/2023





Com relação ao modelo entidade-relacionamento (MER) ilustrado na figura precedente, assinale a opção correta.

- a) Um treinamento pode ser solicitado por no máximo um cliente.
- b) O relacionamento SOLICITA é classificado como ternário.
- c) Um cliente pode solicitar vários treinamentos.
- d) O modelo está representado de forma incorreta, pois não se admite, em um MER, o uso de atributos em relacionamentos.
- e) Na entidade CLIENTE, o atributo Nome é do tipo identificador.

3. CEBRASPE (CESPE) - AIS (EMPREL)/EMPREL/Banco de Dados/2023

Na notação IDEF1X, uma entidade é dependente sempre que sua chave (também conhecida como chave primária) contém a chave completa de pelo menos outra entidade. Nesse contexto, a entidade dependente é representada por

- a) retângulos com os cantos vivos (90 graus).
- b) retângulos com os cantos arredondados.
- c) uma linha pontilhada.
- d) linhas rotuladas com um verbo ou uma frase verbal.
- e) uma linha dupla.

4. CEBRASPE (CESPE) - Ana (MPE RO)/MPE RO/Programador/2023



- Com relação ao modelo entidade-relacionamento (MER) precedente, assinale a opção correta.
- a) No modelo apresentado existem duas entidades, cinco atributos e dois relacionamentos.
 - b) Na entidade PROMOTORIA_JUSTIÇA, o atributo Área de Atuação é do tipo identificador.
 - c) Em uma entidade COMARCA, deve existir somente uma entidade PROMOTORIA_JUSTIÇA.
 - d) Uma entidade PROMOTORIA_JUSTIÇA pode estar localizada em várias entidades COMARCA.
 - e) O modelo em questão apresenta erro de construção, pois em um MER não se pode representar atributos com acentuação.

5. Cebraspe – Técnico – Analista de Sistemas – Desenvolvimento de Sistemas (BNB)/2022

No que se refere aos conceitos de modelagem de dados, julgue o seguinte item.

Modelo físico é o modelo de dados que representa a estrutura de dados de um banco de dados conforme vista pelo usuário do sistema de gerenciamento de banco de dados.

6. Cebraspe – Analista de Contas Públicas – Especialidade: Administração (MPC-SC)/2022

Em um diagrama entidade-relacionamento (DER), uma entidade, cuja definição é um conjunto de objetos da realidade modelada, é representada graficamente por meio de um retângulo.

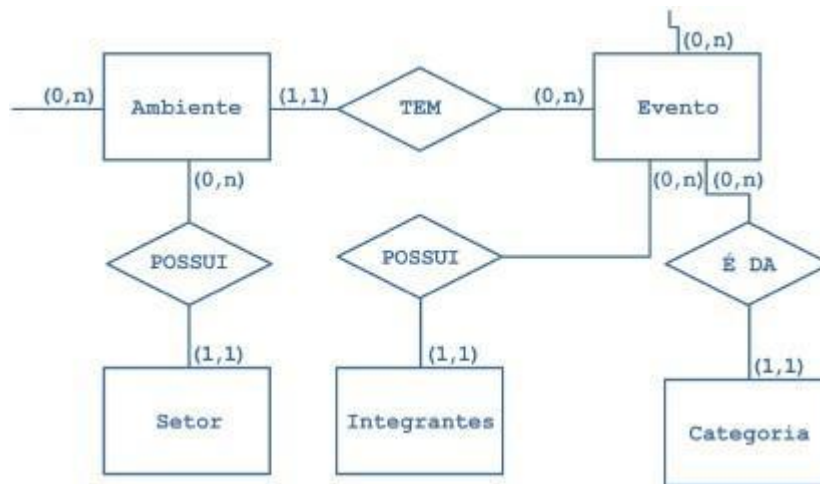
7. Cebraspe – Desenvolvimento de Sistemas (BANRISUL)/2022

No modelo entidade × relacionamento, os atributos determinantes identificam um valor específico na tabela, podendo existir mais de um valor simultaneamente.

8. CEBRASPE (CESPE) - Auditor de Finanças e Controle de Arrecadação da Fazenda Estadual (SEFAZ AL)/2020

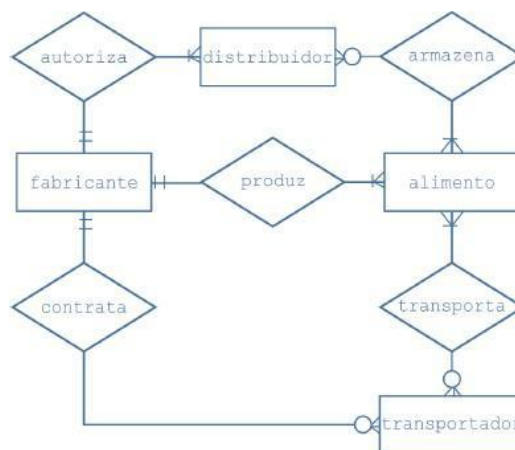
Com relação a banco de dados, julgue o item seguinte.





Com base no diagrama a seguir, é correto afirmar que um item na entidade Ambiente pode não relacionar-se com nenhum item na entidade Setor ou pode relacionar-se com vários itens nesta entidade, enquanto um item na entidade Setor pode relacionar-se somente com um item na entidade Ambiente.

9. CEBRASPE (CESPE) - Ana Min (MPE CE)/MPE CE/Ciências da Computação/2020

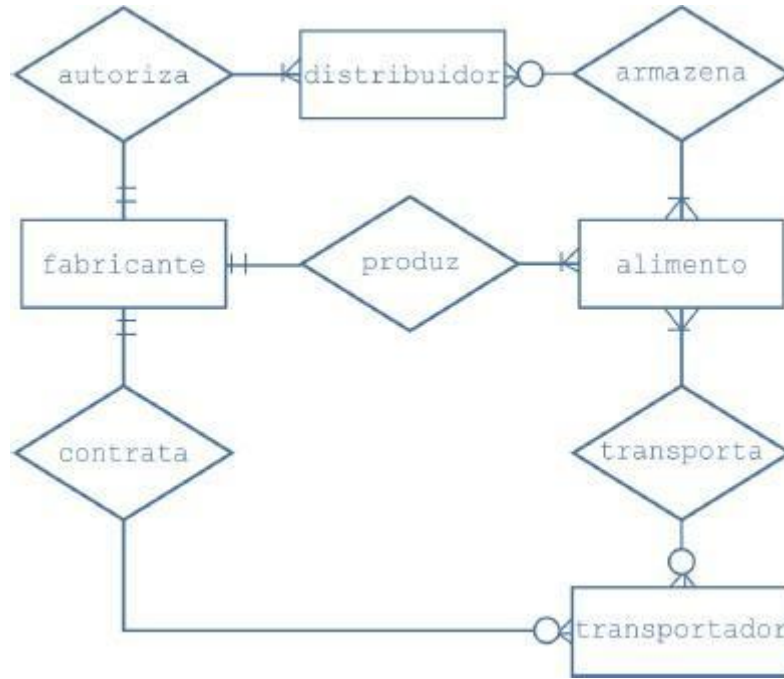


Considerando o diagrama entidade- relacionamento precedente e os múltiplos aspectos que a modelagem de dados oferece ao analista para examinar os dados no contexto de uma aplicação de software, julgue o item subsequente.

No diagrama apresentado, a modalidade obrigatória que conecta transportador e transporta indica que, para todo alimento fabricado, é necessária uma ação de transporte.

10. CEBRASPE (CESPE) - Ana Min (MPE CE)/MPE CE/Ciências da Computação/2020



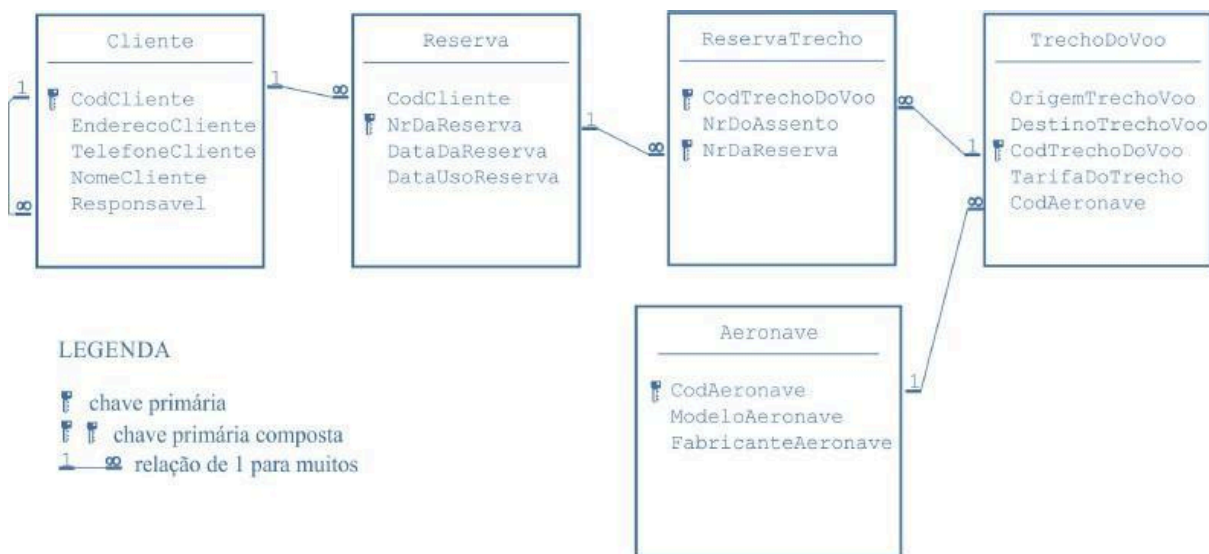


Considerando o diagrama entidade- relacionamento precedente e os múltiplos aspectos que a modelagem de dados oferece ao analista para examinar os dados no contexto de uma aplicação de software, julgue o item subsequente.

A cardinalidade e a modalidade apresentada para a entidade fabricante mostram que obrigatoriamente um fabricante inicializa a ação de solicitação de distribuição, contratação de transporte e produção de alimento, o que caracteriza uma relação 1 x n.

11. CEBRASPE (CESPE) - Ass Min (MPC TCE-PA)/TCE-PA/Informática/2019

As seguintes informações foram extraídas de um diagrama de entidades- relacionamento no contexto de um banco de dados relacional.



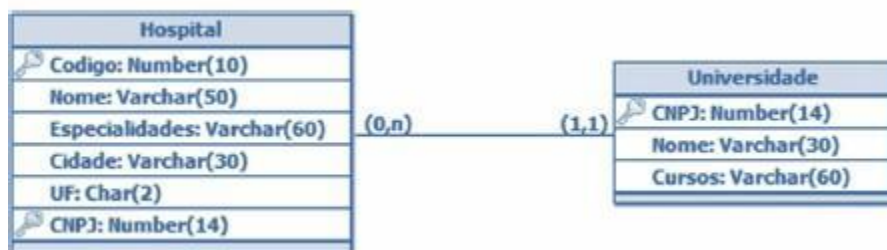
De acordo com as informações do texto 9A1-I, assinale a opção correta, com relação à leitura



das regras do negócio representadas no modelo apresentado.

- Ao realizar uma reserva, o cliente pode escolher um ou vários trechos de voo. Existem várias opções de aeronaves para o trecho reservado.
- Ao realizar uma reserva, o cliente pode escolher um ou vários trechos de voo, mas existe apenas uma aeronave alocada para o trecho reservado.
- Ao realizar uma reserva, o cliente pode escolher apenas um trecho de voo, mas existem várias opções de aeronaves para o trecho reservado.
- Um trecho de voo está relacionado a apenas uma reserva.
- Ao realizar uma reserva, o cliente recebe um único número de assento, válido para todos os trechos que forem reservados.

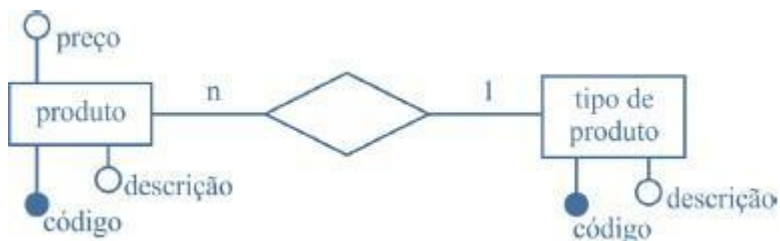
12. CEBRASPE (CESPE) - Tec (EBSERH)/EBSERH/Informática/2018



Tendo como referência o modelo lógico precedente, julgue o item a seguir.

A partir do modelo apresentado, infere-se que um hospital pode estar vinculado a várias universidades, pois a tabela Hospital apresenta cardinalidade (0, n).

13. CEBRASPE (CESPE) - APF/PF/2018



Considerando o modelo entidade-relacionamento (ER) precedente, julgue o seguinte item, relativo a banco de dados.

Conforme o modelo ER em questão, um tipo de produto pode estar associado a somente 1 produto e cada produto possui um preço e uma descrição.

14. CEBRASPE (CESPE) - Ana Min (MPE PI)/MPE PI/Tecnologia da Informação/2018

Tendo em vista que, ao se desenvolver um sistema de vendas e compras para um cliente, devem-se descrever os produtos, as entradas, as saídas, o controle de estoque e o lucro das vendas, julgue o item subsequente, relativo à modelagem de dados para a aplicação descrita.

No sistema implementado, o cliente terá de cadastrar cada produto nos módulos de vendas e



compras, pois a redundância será controlada pelo usuário, e não pela modelagem do banco de dados.

15. CEBRASPE (CESPE) - AFA (SEFAZ RS)/SEFAZ RS/2018

No modelo entidade-relacionamento, as propriedades particulares que descrevem uma entidade são denominadas

- a. valores.
- b. atributos.
- c. chaves primárias.
- d. relacionamentos.
- e. instâncias.

16. CEBRASPE (CESPE) - Tec (FUB)/FUB/Tecnologia da Informação/2018

Julgue o item seguinte, a respeito dos conceitos de modelagem de dados e níveis de abstração. No modelo de entidade-relacionamento, uma entidade se caracteriza por um objeto do mundo real que possui um conjunto de propriedades; os valores de um subconjunto dessas propriedades podem identificar de maneira única a entidade.

17. CEBRASPE (CESPE) - Tec (FUB)/FUB/Tecnologia da Informação/2018

Julgue o item seguinte, a respeito dos conceitos de modelagem de dados e níveis de abstração. Na cardinalidade de mapeamento entre o conjunto de entidades X e Y de uma associação um-para-um, uma entidade em X é associada, no máximo, a uma entidade em Y, e uma entidade em Y é associada, no máximo, a uma entidade em X.

18. Ano: 2018 Banca: CESPE Órgão: STJ Cargo: Técnico Judiciário – Suporte Técnico

Acerca de banco de dados, julgue os itens que se seguem.

75 Em um diagrama MER, a entidade representa uma coisa concreta do mundo real, enquanto as coisas abstratas são representadas pelo relacionamento entre as entidades.

19. Ano: 2018 Banca: CESPE Órgão: STJ Cargo: Técnico Judiciário – Desenvolvimento de Sistemas Questão: 64 e 65

Julgue os itens a seguir, referentes à modelagem de dados.

64 Generalização é o processo de definição de um tipo de entidade a partir de duas ou mais entidades que possuem atributos em comum — por exemplo, as entidades carro e ônibus podem ser generalizadas na superclasse veículo.

20. Ano: 2018 Banca: CESPE Órgão: TCM-BA Cargo: Auditor de Contas Questão: 10



A respeito de entidades, relacionamentos e tipos de chave, assinale a opção correta.

- A) Uma entidade fraca não possui seus próprios atributos chave.
- B) Toda relação deve possuir somente uma chave primária de atributo único.
- C) Um identificador ou chave é usado para determinar exclusivamente uma instância de um relacionamento entre entidades.
- D) A abordagem entidade-relacionamento permite somente relacionamentos binários e dos tipos 1:1 e 1:n.
- E) Uma entidade forte existe no banco de dados e possui atributos que a identificam sem que ela precise estar associada a outra entidade identificadora.

21. Ano: 2018 Banca: CESPE Órgão: STM Cargo: Programação de Sistemas Questão: 61 a 65
Acerca dos conceitos de normalização de dados e dos modelos de dados, julgue os itens subsequentes.

63 O modelo conceitual, que reflete uma estrutura simplificada do banco de dados, é responsável por registrar como os dados estão armazenados no sistema de gerenciamento de banco de dados (SGBD).

64 Comparativamente aos usados pelos usuários leigos, os modelos de dados utilizados por programadores são considerados menos abstratos, pois contêm mais detalhes de como as informações estão organizadas internamente no banco de dados.

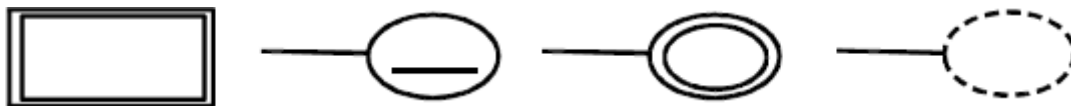
22. BANCA: CESPE ANO: 2014 ÓRGÃO: ANATEL PROVA: ANALISTA ADMINISTRATIVO - DESENVOLVIMENTO DE SISTEMAS DE INFORMAÇÃO

Com base nos modelos de banco de dados, julgue os itens subsequentes.

[89] São empregados no projeto de aplicações de um banco de dados o modelo entidade-relacionamento (MER), que é um modelo representacional, e suas variações.

[90] O modelo de dados físico é considerado de baixo nível, o que significa que somente os sistemas gerenciadores de banco de dados conseguem interpretá-lo.

23. Ano: 2015 Banca: CESPE Órgão: TRE-PI Cargo: Operação de computadores – Questão 40



De acordo com a notação para diagramas entidade-relacionamento, assinale a opção que descreve a representação acima disposta.

- A) entidade, atributo, atributo composto e atributo derivado
- B) relacionamento, atributo, atributo fraco e atributo multivalorado
- C) entidade fraca, atributo-chave, atributo multivalorado e atributo derivado



- D) entidade, atributo-chave, atributo multivalorado e atributo derivado
- E) entidade forte, atributo, atributo composto e atributo fraco

24. Ano: 2015 Banca: CESPE Órgão: TRE-PI Cargo: Operação de computadores – Questão 41
Acerca do modelo entidade-relacionamento estendido, assinale a opção correta.

- A) Uma restrição de disjunção pode ser aplicada a uma especialização, na qual deve ser especificado que as subclasses da especialização devem ser mutuamente exclusivas.
- B) A generalização é o resultado da separação de um tipo-entidade de nível mais alto — superclasse — e forma vários tipos-entidades de nível mais baixo — subclasse.
- C) Uma entidade, que é membro de uma subclasse, nem sempre herda todos os atributos da entidade como um membro da superclasse.
- D) O modelo em questão incorpora conceitos de modelagem entidade-relacionamento, herança, encapsulamento e polimorfismo.
- E) A simbologia do referido modelo é a mesma do modelo entidade-relacionamento, não havendo novas representações.

25. Ano: 2015 Banca: CESPE Órgão: TRE-PI – Questão 57

Considere que existe uma entidade PESSOA com um relacionamento denominado CASAMENTO que pode associar diversas ocorrências na mesma entidade PESSOA. De acordo com as propriedades do diagrama entidade-relacionamento, o conceito desse relacionamento (CASAMENTO) pode ser definido como

- A) generalização.
- B) relacionamento binário.
- C) autorrelacionamento.
- D) entidade associativa.
- E) especialização.

26. BANCA: CESPE ANO: 2015 ÓRGÃO: MPOG PROVA: ANALISTA - ANALISTA EM TECNOLOGIA DA INFORMAÇÃO

A respeito de modelo entidade-relacionamento e normalização, julgue os itens subsequentes.

[113] Em relações normalizadas, na primeira forma normal, toda tupla em toda relação contém apenas um único valor, do tipo apropriado, em cada posição de atributo.

[114] Sabendo que, nos relacionamentos ternários, a cardinalidade refere-se a pares de entidades, em um relacionamento ternário R entre três entidades A, B e C, a cardinalidade máxima de A e B dentro de R indica quantas ocorrências de C podem estar associadas a um par de ocorrências de A e B.

27. BANCA: CESPE ANO: 2015 ÓRGÃO: TRE-GO PROVA: TÉCNICO
DO JUDICIÁRIO - PROGRAMAÇÃO DE SISTEMAS



Julgue os seguintes itens, a respeito da modelagem de dados.

[65] Considere a seguinte situação hipotética. Em um banco de dados referente a um curso, um aluno pode estar em mais de um curso ao mesmo tempo. Além disso, na tabela de cursos realizados por aluno, estão presentes as chaves estrangeiras aluno e curso. Nessa situação, tanto o código do curso como o código do aluno são chaves primárias nas tabelas curso e aluno, respectivamente.

[66] Ao se excluir uma tupla de um banco de dados, pode-se violar a integridade referencial desse banco por uma chave primária.

[67] Um conjunto de entidades que não possuem atributos suficientes para formar uma chave primária é definido como um conjunto de entidades fortes.

[68] Uma chave primária identifica um único valor de uma tupla no banco de dados e não possui mais de um atributo na tabela.

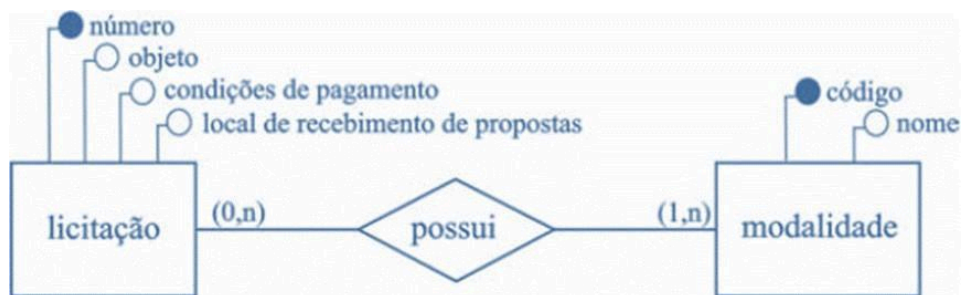
28. BANCA: CESPE ANO: 2015 ÓRGÃO: STJ PROVA: TÉCNICO JUDICIÁRIO - TECNOLOGIA DA INFORMAÇÃO

A respeito da modelagem de dados e da qualidade de software, julgue os itens subsecutivos.

[84] O relacionamento no modelo entidade-relacionamento é uma associação intuitiva entre entidades, cujo número de entidades envolvidas é conhecido como hierarquia.

[86] Entidade-relacionamento é uma modelagem semântica cujo modelo resultante é estendido, e as entidades, nesse modelo, são definidas como um ente que pode ser distintamente identificado.

29. Ano: 2016 Banca: CESPE Órgão: TCE-PA Prova: Auditor de Controle Externo - Área Informática - Analista de Suporte



Considerando a figura apresentada, que ilustra o modelo de um banco de dados hipotético, julgue o item que se segue.

[1] A figura expõe um modelo lógico, uma vez que ele contém detalhes de implementação e é independente de um sistema gerenciador de banco de dados (SGBD).

30. Ano: 2017 Banca: CESPE Órgão: TRE-PE Prova: Analista Judiciário - Análise de Sistemas

Assinale a opção que corresponde ao tipo de restrição de integridade expressa no próprio diagrama de entidades e relacionamentos no modelo relacional.

a. dependência



- b. enumeração
- c. normas de aceitação
- d. cardinalidade
- e. repetição

31. Ano: 2016 Banca: CESPE Órgão: TRE-PI Prova: Analista Judiciário - Análise de Sistemas

Considere que existe uma entidade PESSOA com um relacionamento denominado CASAMENTO que pode associar diversas ocorrências na mesma entidade PESSOA. De acordo com as propriedades do diagrama entidade-relacionamento, o conceito desse relacionamento (CASAMENTO) pode ser definido como

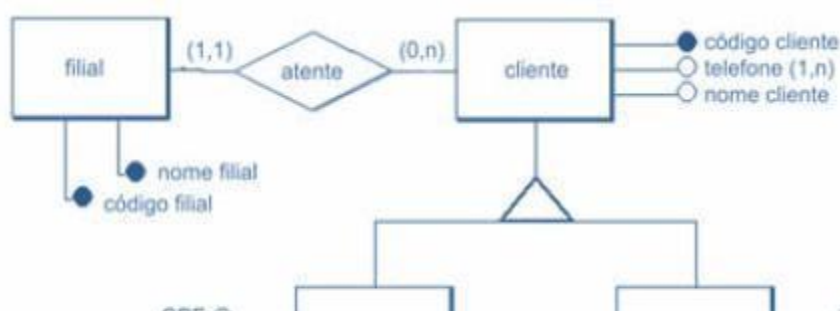
- f. generalização.
- g. relacionamento binário.
- h. autorrelacionamento.
- i. entidade associativa.
- j. especialização.

32. Ano: 2016 Banca: CESPE Órgão: TRE-PI Prova: Técnico Judiciário - Operação de Computadores

Acerca do modelo entidade-relacionamento estendido, assinale a opção correta.

- k. Uma restrição de disjunção pode ser aplicada a uma especialização, na qual deve ser especificado que as subclasses da especialização devem ser mutuamente exclusivas.
- l. A generalização é o resultado da separação de um tipo-entidade de nível mais alto — superclasse — e forma vários tipos-entidades de nível mais baixo — subclasse.
- m. Uma entidade, que é membro de uma subclasse, nem sempre herda todos os atributos da entidade como um membro da superclasse.
- n. O modelo em questão incorpora conceitos de modelagem entidade-relacionamento, herança, encapsulamento e polimorfismo.
- o. A simbologia do referido modelo é a mesma do modelo entidade-relacionamento, não havendo novas representações.

33. BANCA: CESPE ANO: 2010 ÓRGÃO: INMETRO PROVA: PESQUISADOR - GOVERNANÇA DE TI



Considerando a figura acima, que ilustra um modelo conceitual, assinale a opção correta.

- A) As entidades pessoa física e pessoa jurídica são exemplos de generalização/especialização, conceito que envolve a ideia de herança de propriedades. Herdar propriedades significa que cada ocorrência da entidade especializada possui, além de suas propriedades (atributos, relacionamentos e generalizações ou especializações), também as propriedades de ocorrência da entidade genérica correspondente.
- B) A cardinalidade do relacionamento entre filial e cliente define que pode existir filial sem clientes, e ainda, que os clientes podem existir sem estar vinculados a nenhuma filial.
- C) Telefone é exemplo de atributo opcional.
- D) No modelo apresentado, entidades, relacionamentos, cardinalidade e identificadores estão corretos e consistentes.
- E) As entidades cliente, pessoa física e pessoa jurídica apresentam relacionamento do tipo ternário ou de grau maior, que são modelados usando-se uma entidade associada, por meio de relacionamentos binários, a cada uma das entidades que participam do relacionamento ternário.



GABARITO

01	02	03	04	05	06
B	C	B	D	Errado	Certo
07	08	09	10	11	12
Errado	Errado	Errado	Certo	B	Errado
13	14	15	16	17	18
Errado	Errado	B	Certo	Certo	E
19	20	21	22	23	24
C	E	E/C	E/E	C	A
25	26	27	28	29	30
C	C/C	C/E/E/E	E/C	E	D
31	32	33			
C	A	A			



LISTA DE QUESTÕES - CESGRANRIO

1. CESGRANRIO/IPEA/2024/Infraestrutura/Modelo Entidade Relacionamento

Em um diagrama de entidades e relacionamentos (DER), as entidades são representadas por meio de retângulos, e os relacionamentos, por meio de losangos. No DER, um retângulo representa um conjunto de entidades. Tanto as entidades quanto os relacionamentos podem possuir atributos. Todas as entidades em um DER precisam possuir um atributo especial, denominado atributo identificador. Nesse contexto, considere que uma entidade PESQUISADOR, em um DER, representa um conjunto de pessoas que são pesquisadores.

Nesse caso, o atributo identificador da entidade PESQUISADOR

- (A) informa a versão do DER.
- (B) deve, necessariamente, ser o atributo CPF.
- (C) viabiliza a identificação de categorias de pesquisadores.
- (D) permite identificar unicamente uma pessoa na entidade PESQUISADOR.
- (E) caracteriza o relacionamento da entidade PESQUISADOR com outra entidade.

2. CESGRANRIO - Ana Desenv (AgeRIO)/AgeRIO/Tecnologia da Informação/2023

Uma empresa de turismo que opera na Web vai realizar uma grande promoção para tentar vender mais hospedagens para o próximo verão. Ela irá conceder um bônus (em reais) para a compra de passagens aéreas para todos os seus clientes que fizerem reservas para os meses de janeiro e fevereiro.

A empresa resolveu criar um banco de dados especialmente para essa promoção. Nele serão registrados os clientes que fizerem pelo menos uma reserva, além de todos os hotéis e companhias aéreas com os quais a empresa de turismo opera.

No modelo conceitual desse banco de dados, os participantes serão representados pelas entidades a seguir.



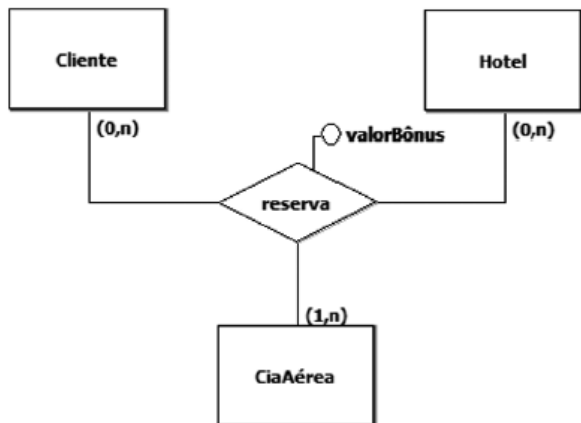
As regras para a concessão dos bônus são as seguintes:

- Só participará da promoção o cliente que fizer, pelo menos, uma reserva até a data de término da promoção;
- Um cliente poderá fazer reservas em vários hotéis;

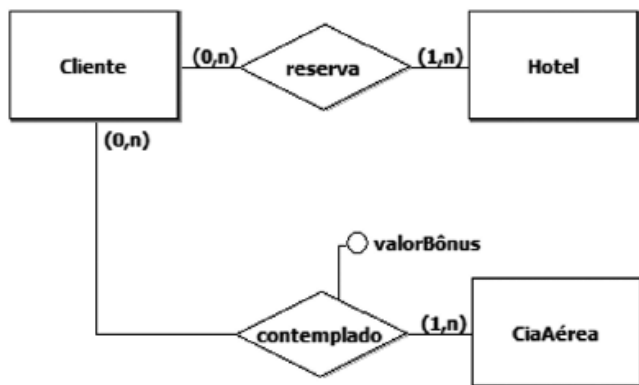


- Uma reserva será associada a, pelo menos, uma companhia aérea;
- O banco de dados terá de ser capaz de informar a qual reserva um bônus está associado;
- O bônus de uma reserva poderá ser usado em qualquer uma das companhias aéreas associadas à reserva;
- Alguns hotéis e algumas companhias aéreas, embora presentes no banco de dados, poderão ficar ausentes da promoção.

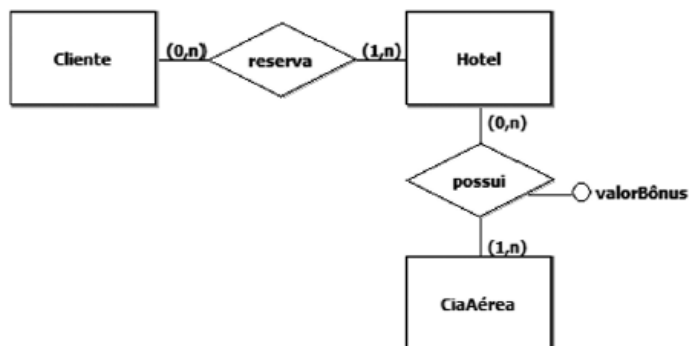
Qual modelo E-R representa adequadamente as regras de negócio dessa promoção?



a)

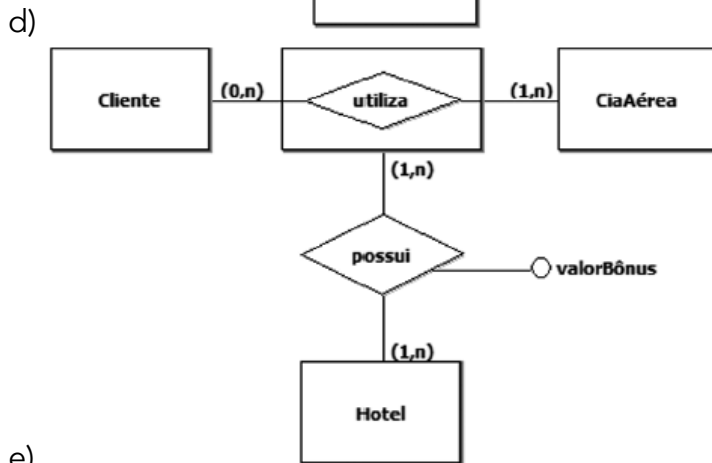
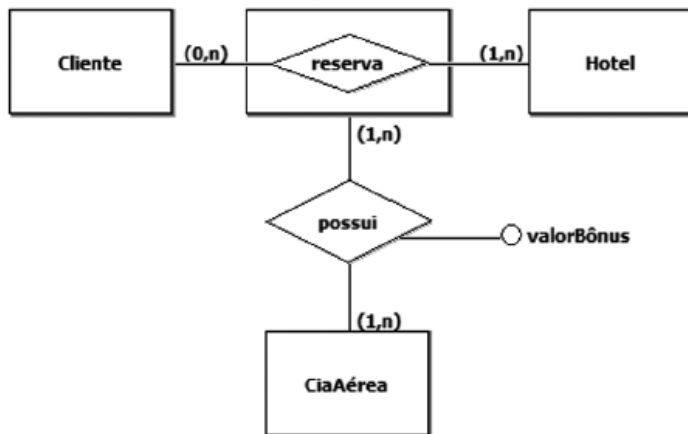


b)



c)

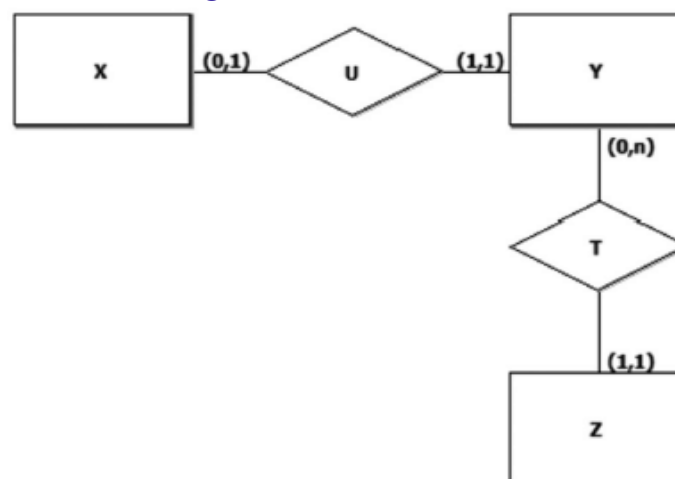




e)

3. CESGRANRIO - PTNM (TRANSPETRO)/TRANSPETRO/Informática/2023

Na Figura a seguir, é mostrado um diagrama E-R.



Admita que os conjuntos a seguir façam parte de um banco de dados cujo esquema foi gerado a partir do modelo E-R acima.

$$X = \{ x_1, x_2, x_3 \}$$

$$Y = \{ y_1, y_2, y_3, y_4 \}$$

$$Z = \{ z_1, z_2, z_3 \}$$



NÃO violam as restrições de cardinalidade presentes nas respectivas relações do modelo E-R acima os seguintes conjuntos U e T:

- a) $U = \{(x1, y2), (x2, y2), (x3, y2)\}$ $T = \{(y1, z1), (y2, z1), (y3, z1), (y4, z1)\}$
- b) $U = \{(x1, y1), (x2, y2), (x3, y3)\}$ $T = \{(y1, z1), (y2, z1), (y3, z1)\}$
- c) $U = \{(x1, y1), (x2, y2), (x3, y2)\}$ $T = \{\}$
- d) $U = \{(x1, y2), (x2, y2), (x3, y1)\}$ $T = \{(y1, z1), (y2, z2), (y3, z3)\}$
- e) $U = \{(x1, y2), (x2, y4), (x3, y1)\}$ $T = \{(y1, z1), (y2, z1), (y3, z1), (y4, z1)\}$

4. CESGRANRIO - PTNS (TRANSPETRO)/TRANSPETRO/Análise de Sistemas/Infraestrutura/2023

Durante o desenvolvimento de um banco de dados, é possível construir uma representação gráfica de uma estrutura de dados, ilustrando as entidades, seus atributos e os relacionamentos entre elas. Tal representação gráfica é a(o)

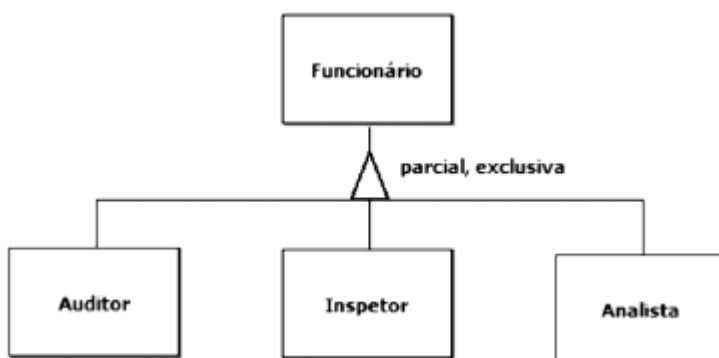
- a) auditoria de dados
- b) linguagem de consulta
- c) normalização de dados
- d) índice de tabelas
- e) diagrama Entidade- Relacionamento

5. CESGRANRIO - PTNS (TRANSPETRO)/TRANSPETRO/Análise de Sistemas/SAP - Finanças e Contabilidade/2023

Uma agência reguladora é composta por três categorias de funcionários: analistas, auditores e inspetores. De modo geral, um funcionário deve pertencer a uma única categoria, porém alguns auditores também exercem a função de inspetor.

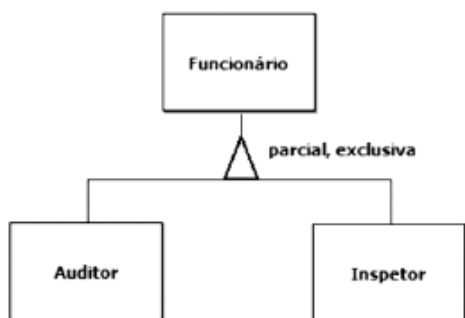
Qual diagrama E-R retrata, fidedignamente, a estrutura administrativa dessa agência reguladora?

a)

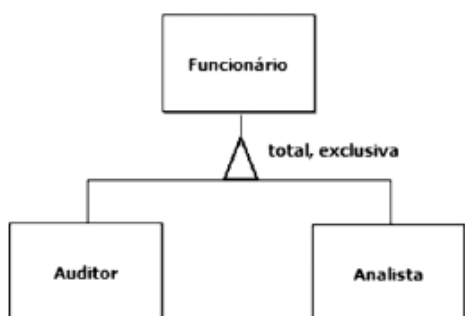


b)

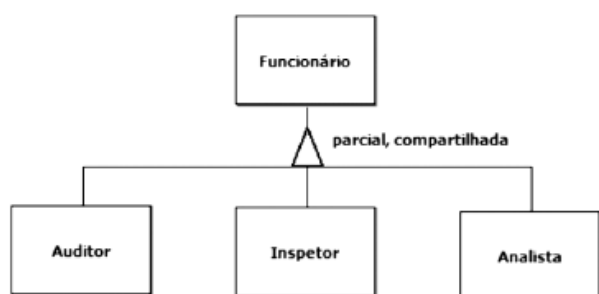




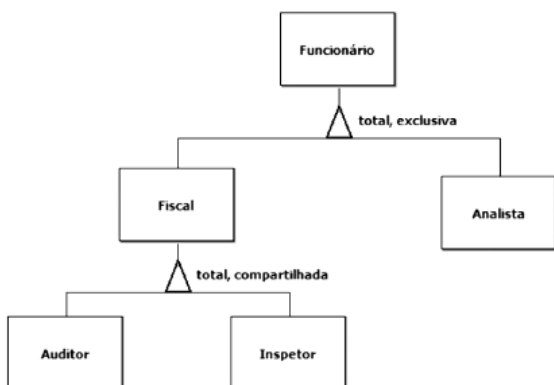
c)



d)



e)



6. CESGRANRIO - PTNS (TRANSPETRO)/TRANSPETRO/Análise de Sistemas/Processos de Negócios/2023

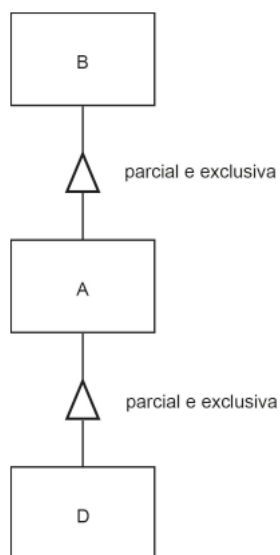
Sejam A, B e D conjuntos não vazios, diferentes entre si e que atendam às seguintes propriedades:

1. $A \subset D$
2. $B \subset D$
3. $B \cap A \neq \emptyset$
4. $B \cup A \neq D$

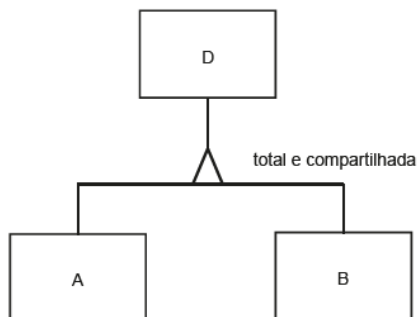
Admita, ainda, que esses conjuntos correspondam às entidades de mesmo nome de um diagrama Entidade-Relacionamento (E-R).

Qual diagrama E-R satisfaz todas as propriedades apresentadas?

a)

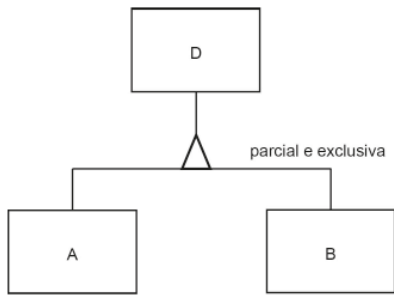


b)

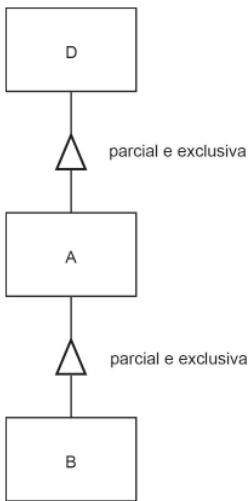
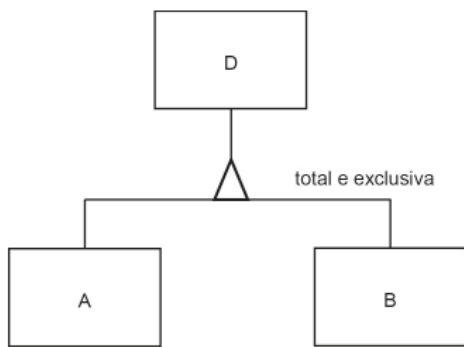


c)





d)

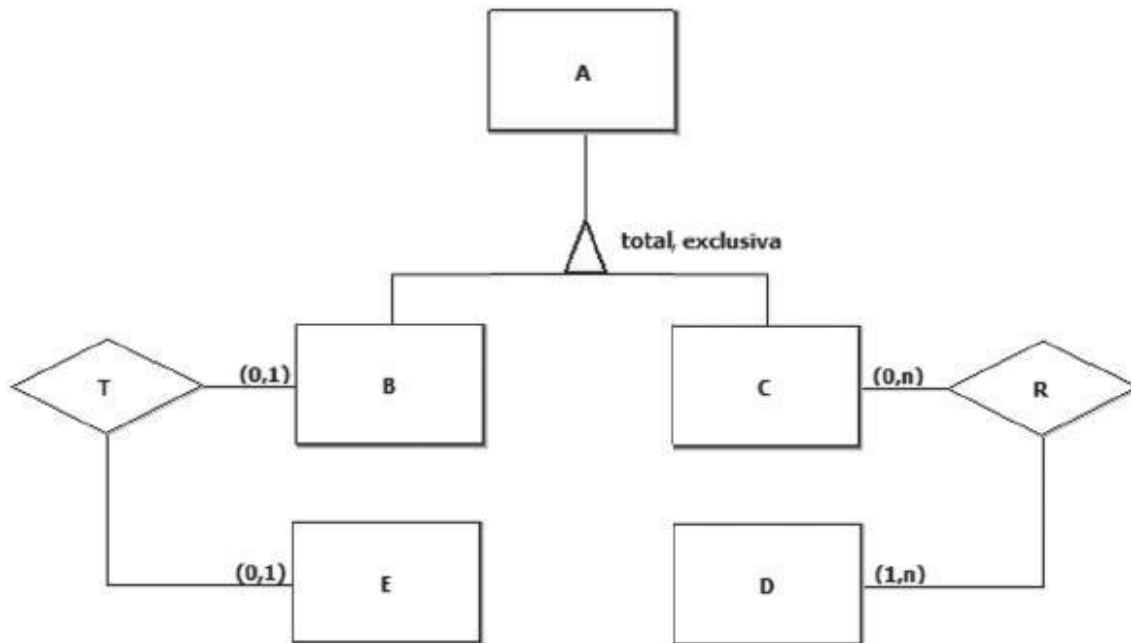


e)

7. CESGRANRIO - PNS (ELETRONUCLEAR)/ELETRONUCLEAR/Analista de Sistemas/Aplicações e Segurança de TIC/2022

A Figura a seguir exibe um diagrama ER, que contém uma generalização total e exclusiva.





Um banco de dados relacional, cujo esquema tem por base o modelo conceitual acima, é composto pelos conjuntos A, B, C, D, E, R e T. Uma parte desse banco de dados é exibida a seguir.

$A = \{ a1, a2, a3, a4, a5, a6 \}$

$D = \{ d1, d2 \}$

$E = \{ e1, e2 \}$

$R = \{ (a1, d1), (a1, d2), (a2, d1), (a2, d2), (a4, d2) \}$

$T = \{ (a5, e1), (a6, e2) \}$

Para que esse banco de dados seja coerente com as relações definidas no modelo ER acima, o conjunto B tem de ser formado pelos elementos

- a) $\{ \}$
- b) $\{ a1, a2, a3, a4 \}$
- c) $\{ a1, a2, a3, a4, a5, a6 \}$
- d) $\{ a3, a5, a6 \}$
- e) $\{ a5, a6 \}$

8. CESGRANRIO - Tec Cien (BASA)/BASA/Tecnologia da Informação/2022

No banco de dados de um banco comercial, há uma tabela TRANSFERENCIA onde são registrados a data, a hora, o minuto e o segundo da transferência, além do valor transferido entre duas contas-correntes desse banco. Essa tabela tem, adicionalmente, duas chaves estrangeiras (FKs) que apontam para a tabela CONTA-CORRENTE. Considere que há, no máximo, uma transferência por segundo entre duas contas-correntes.

A chave primária (PK) da tabela TRANSFERENCIA (data, hora, minuto, segundo, valor, conta-origem, conta-destino) deve ser formada exatamente

- a) pelas duas FKs
- b) por todos os atributos
- c) pelas duas FKs e a data



- d) pela data, hora e minuto
- e) por todos os atributos exceto o valor

9. CESGRANRIO - Tec Cien (BASA)/BASA/Tecnologia da Informação/2021

Um site da Web é especializado em aluguel de casas e apartamentos por temporada. Tanto os clientes (locadores) interessados em disponibilizar seus imóveis para aluguel quanto os clientes interessados em alugar (locatários) um imóvel para seu uso devem ser registrados no site. Vale ressaltar que mesmo aqueles que oferecem seus imóveis para aluguel também podem usar os serviços do site para encontrar um imóvel para passar suas férias ou para usar em viagens de negócios.

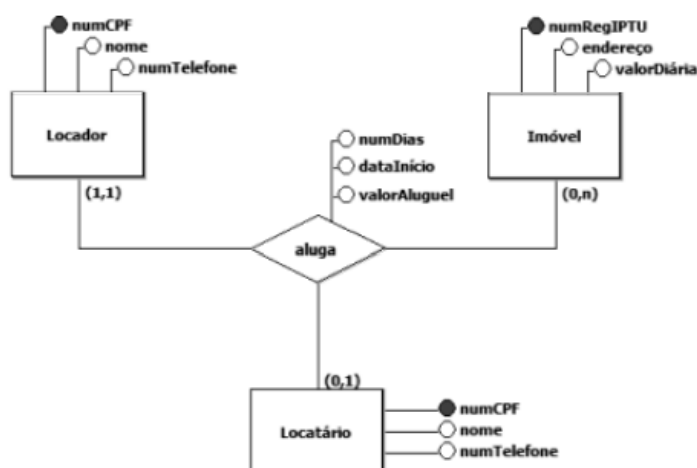
Os responsáveis pelo site desejam contratar o desenvolvimento de um sistema de informação que lhes permita saber o seguinte:

- Quais imóveis estão disponíveis para alugar?
- Quais se encontram alugados em determinado momento?
- Quais estarão disponíveis nos próximos 15 dias?
- Quem é o locador que ofereceu determinado imóvel para aluguel?
- Quais são os imóveis que determinado locatário reservou para aluguel nos próximos 90 dias?

Vale ressaltar, ainda, que os responsáveis pelo site desejam que o registro de um aluguel seja fisicamente excluído do banco de dados tão logo esse aluguel se encerre. Além disso, querem que o banco de dados não contenha redundâncias de dados desnecessárias.

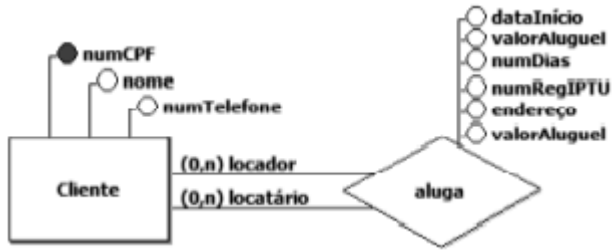
Qual modelo conceitual de dados atende aos requisitos apresentados?

a)

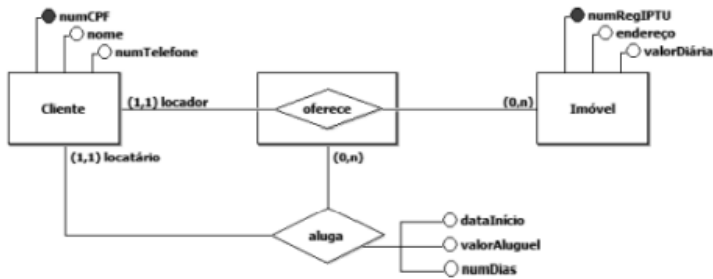


b)

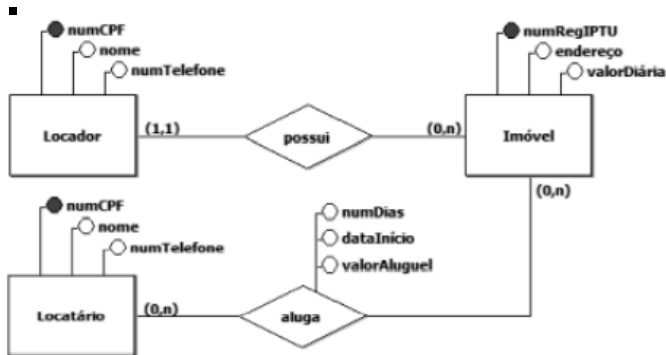




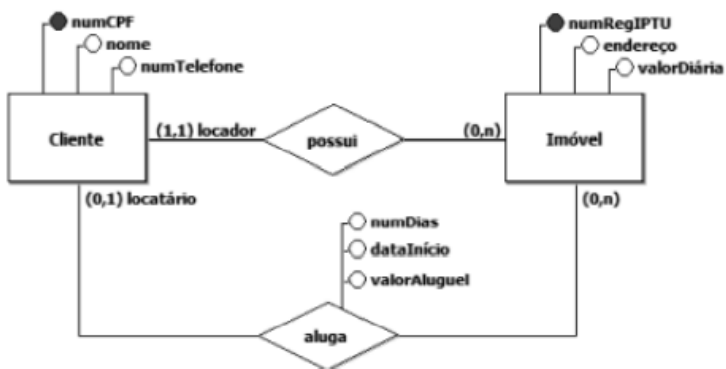
c)



d)

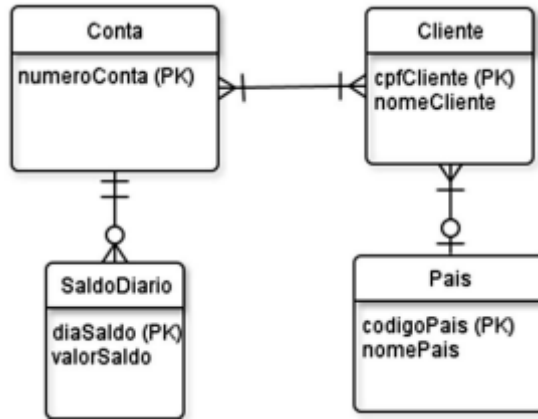


e)



10. CESGRANRIO - Tec Cien (BASA)/BASA/Tecnologia da Informação/2021

O seguinte diagrama, feito segundo o Modelo Entidades e Relacionamentos, indica entidades, relacionamento e atributos e, ainda, as chaves primárias das entidades de um pequeno banco de dados que guarda o saldo atual de várias contas, que podem pertencer a um ou a mais clientes que residem, possivelmente, em países distintos.



Foi feita uma transformação desse diagrama em tabelas relacionais para a terceira forma normal, na qual o sublinhado indica chaves primárias e não são usadas chaves substitutas ou artificiais (surrogate keys). Qual a melhor representação dessa transformação?

a)

Conta(numeroConta,cpfCliente)

Cliente(cpfCliente,nomeCliente,codigoPais)

SaldoDiario(numeroConta,diaSaldo,valorSaldo)

Pais(codigoPais,nomePais)

b)

Conta(numeroConta,cpfCliente,diaSaldo)

Cliente(cpfCliente,nomeCliente,codigoPais,numeroConta)

SaldoDiario(diaSaldo,valorSaldo,numeroConta)

Pais(codigoPais,nomePais,cpfCliente)

c)

Conta(numeroConta,cpfCliente,diaSaldo)



Cliente(cpfCliente,nomeCliente,numeroConta,codigoPais)

ContaCliente(numeroConta,cpfCliente)

SaldoDiario(numeroConta,diaSaldo,valorSaldo)

Pais(codigoPais,nomePais,cpfCliente)

d)

Conta(numeroConta)

Cliente(cpfCliente,nomeCliente)

ContaCliente(numeroConta,cpfCliente)

SaldoDiario(numeroConta,cpfCliente,diaSaldo,valorSaldo)

Pais(codigoPais,nomePais,cpfCliente)

e)

Conta(numeroConta)

Cliente(cpfCliente,nomeCliente,codigoPais)

ContaCliente(numeroConta,cpfCliente)

SaldoDiario(numeroConta,diaSaldo,valorSaldo)

Pais(codigoPais,nomePais)

11. CESGRANRIO - Esc BB/BB/Agente de Tecnologia/2021

Esquemas de bancos de dados relacionais podem ser descritos por meio de notações alternativas à linguagem SQL.

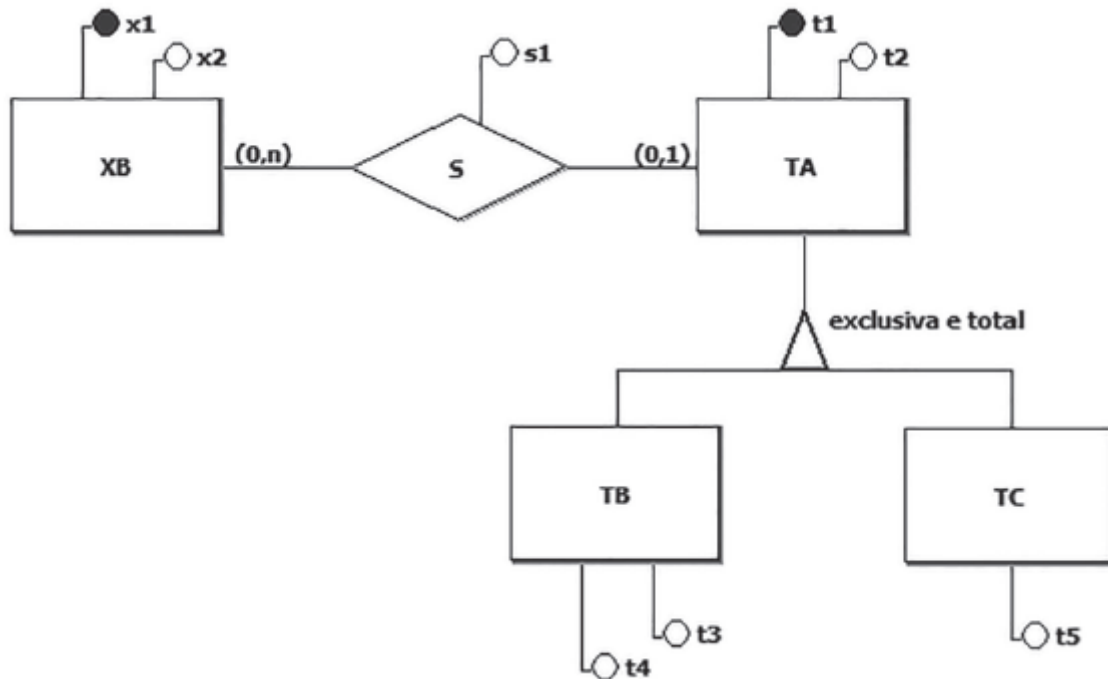
Em uma dessas notações, uma tabela (relação) é descrita por meio de um nome e de um conjunto de nomes de colunas (atributos), separadas por vírgulas.

Os demais elementos de uma tabela são os seguintes:

- Colunas sublinhadas compõem a chave primária.
- Colunas que admitem o valor nulo são exibidas entre colchetes.
- Chaves estrangeiras são representadas por meio da cláusula REF:<lista_de_colunas> REF <nome_de_tabela>



Nesse contexto, considere a Figura a seguir, que exibe um diagrama E-R.



a) XB(x1, x2, t1, s1)
t1 REF TA
TA(t1, t2, tipo, t3, t4, t5)

b) XB(x1, x2)
TA(t1, t2, tipo)
TB(t1, t3, t4)
t1 REF TA
TC(t1, t5)
t1 REF TA
S(x1, t1, s1)
x1 REF XB
t1 REF TA

c) XB(x1, x2)
TA(t1, t2, tipo, [t3], [t4], [t5])
S(x1, t1, s1)
x1 REF XB
t1 REF TA

d) XB(x1, x2)
TA(t1, t2, tipo, [t3], [t4], [t5])
S(x1, t1, s1)
x1 REF XB
t1 REF TA

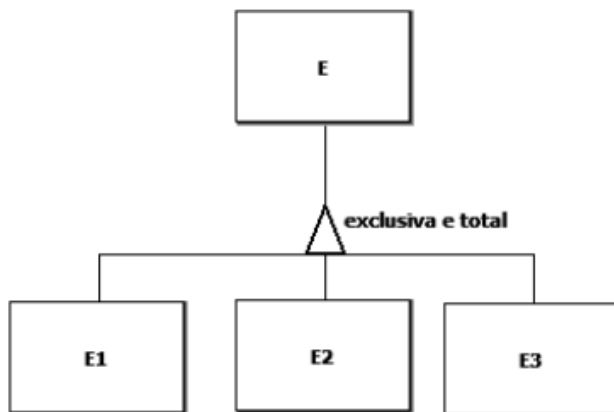
e) XB(x1, x2, t1, s1)
t1 REF TA



TA(t1, t2, tipo)
TB(t1, t3, t4)
t1 REF TA
TC(t1, t5)
t1 REF TA

12. CESGRANRIO - Tec Cien (BASA)/BASA/Tecnologia da Informação/2021

O modelo conceitual de dados apresentado a seguir exibe uma generalização exclusiva e total.



Um banco de dados é composto por um conjunto cujos elementos são instâncias da entidade E presente no diagrama acima.

$E = \{e1, e2, e3, e4, e5, e6, e7, e8, e9, e10\}$

Nesse cenário, quais subconjuntos de E NÃO violam as propriedades dessa generalização?

a)

$E1 = \{\}$

$E2 = \{\}$

$E3 = \{\}$

b)

$E1 = \{e1, e2, e3\}$

$E2 = \{e4, e5, e6\}$

$E3 = \{e7, e8, e9\}$

c)



$E1 = \{e1, e3, e5, e7, e9\}$

$E2 = \{e2, e4, e6, e8, e10\}$

$E3 = \{e3, e6\}$

d)

$E1 = \{e1, e3, e5, e7, e9\}$

$E2 = \{e2, e4, e6, e8, e10\}$

$E3 = \{\}$

e)

$E1 = \{e1, e2, e3, e4, e5, e6, e7, e8, e9\}$

$E2 = \{e10\}$

$E3 = \{e10\}$

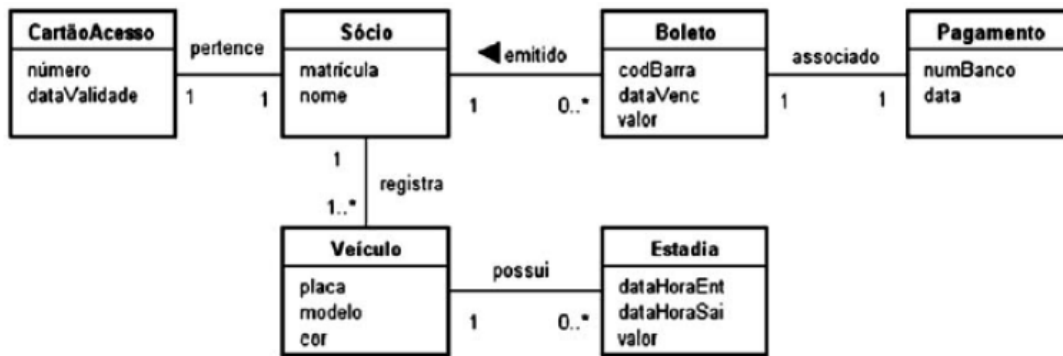
13. CESGRANRIO - Técnico (UNIRIO)/Tecnologia da Informação/2019

A empresa que irá administrar o estacionamento de um clube decidiu desenvolver um sistema de informação específico para isso. Apenas os sócios poderão ter acesso ao estacionamento. Assim sendo, o sócio que tiver interesse em usar o estacionamento terá de procurar o balcão da empresa para se registrar no sistema. No ato do registro, serão informados o nome do sócio e a sua matrícula no clube, além de ser gerado, automaticamente, o número do cartão de acesso ao estacionamento e a data de validade desse cartão. Cada cartão só poderá ser usado por um único sócio. Após ser cadastrado no sistema, um sócio poderá registrar os dados (placa, modelo e cor) dos veículos que ele irá estacionar. Um veículo só pode ser registrado por um único sócio. O cadastramento dos veículos é obrigatório, pois uma câmera de vídeo irá capturar os caracteres das placas para verificar se eles estão devidamente cadastrados. Caso não o estejam, a cancela que dá acesso ao estacionamento não será aberta. Após a saída de um veículo, o sistema irá registrar o período em que ele ficou no estacionamento. Esse registro irá conter a data e a hora de entrada, a data e a hora de saída, e o valor a ser pago pela estadia. No final do mês, será gerado um boleto para cada sócio que utilizou o estacionamento durante o mês em questão. O boleto terá um número de código de barra, a data de vencimento e o valor a ser pago. Quando o boleto for pago, será inserido no sistema um registro de pagamento, que irá informar o número do banco em que o boleto foi pago e a data do pagamento.

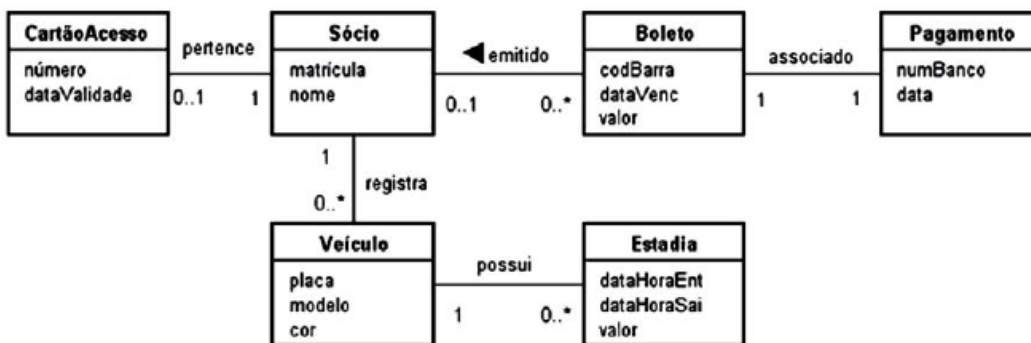
Qual diagrama de classes conceituais representa adequadamente os conceitos envolvidos no negócio descrito acima e as relações entre esses conceitos?



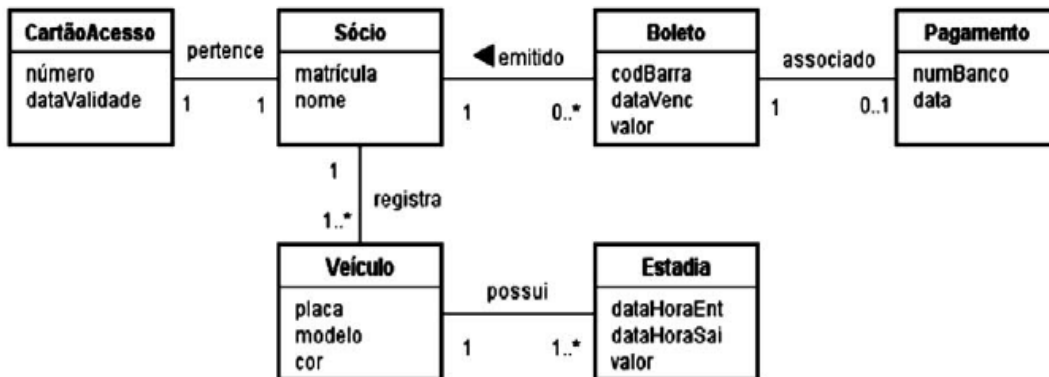
a)



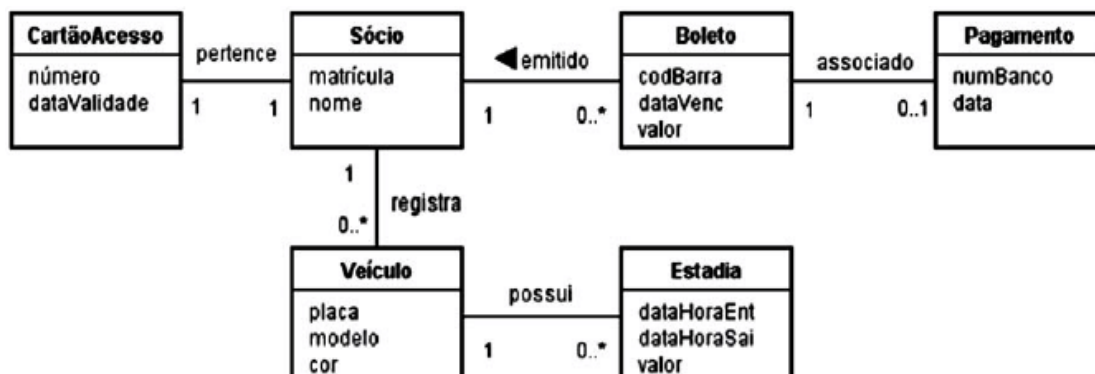
b)



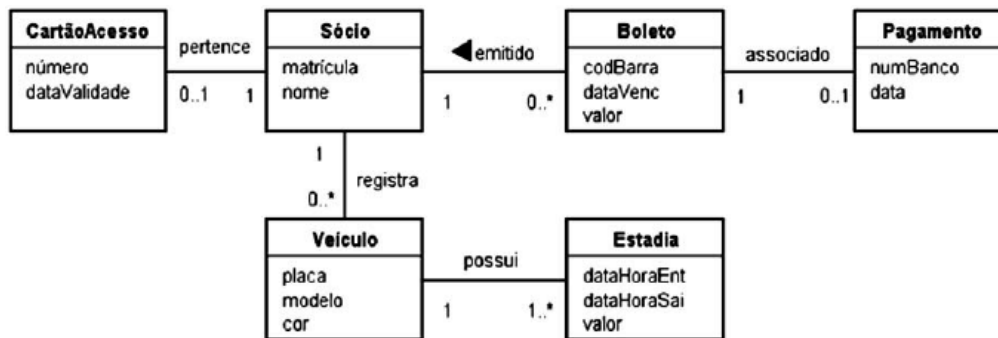
c)



d)

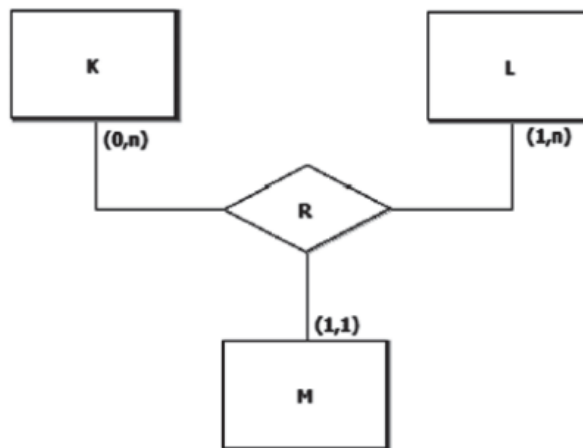


e)



14. CESGRANRIO - Técnico (UNIRIO)/Tecnologia da Informação/2019

A Figura a seguir representa um diagrama E-R.



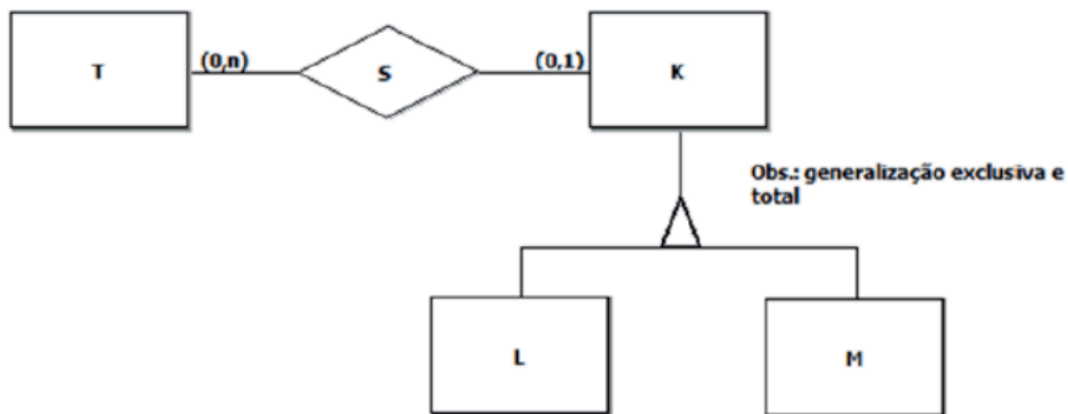
Seja x uma instância de K, y uma instância de L e z uma instância de M. A cardinalidade máxima exibida logo abaixo da entidade L significa que

- A) um par (x,z) pode estar associado a muitas instâncias de L.
- B) a entidade L possui muitas instâncias que participam de R.
- C) uma instância de K pode estar associada a muitas instâncias L.
- D) uma instância de M pode estar associada a, no máximo, uma instância de L.
- E) a relação R possui muitas instâncias de L.

15. CESGRANRIO - Analista (UNIRIO)/Tecnologia da Informação/2019

O diagrama E-R, exibido pela Figura abaixo, representa o modelo conceitual de um banco de dados.





Suponha que os elementos do conjunto T a seguir sejam instâncias da entidade de mesmo nome, presente no diagrama E-R acima.

$T = \{t1, t2, t3, t4, t5\}$

Quais conjuntos completam esse banco de dados de modo que as regras definidas no modelo E-R não sejam violadas?

A) $K = \{k1, k2, k3, k4, k5, k6\}$

$L = \{k1, k2, k3, k4, k5, k6\}$ $M = \{\}$

$S = \{(t1, k1), (t2, k1), (t3, k1), (t4, k1)\}$

B) $K = \{k1, k2, k3, k4, k5, k6\}$

$L = \{k1, k2, k3, k4\}$

$M = \{k4, k5, k6\}$ $S = \{\}$

C) $K = \{k1, k2, k3, k4, k5, k6\}$

$L = \{k1, k2, k3, k4\}$

$M = \{k4, k5, k6\}$ $S = \{(t1, k1), (t2, k2), (t4, k6)\}$

D) $K = \{k1, k2, k3, k4, k5, k6\}$ $L = \{k1, k2\}$ $M = \{k3, k4, k5, k6\}$

$S = \{(t2, k1), (t3, k1), (t4, k1), (t4, k6)\}$

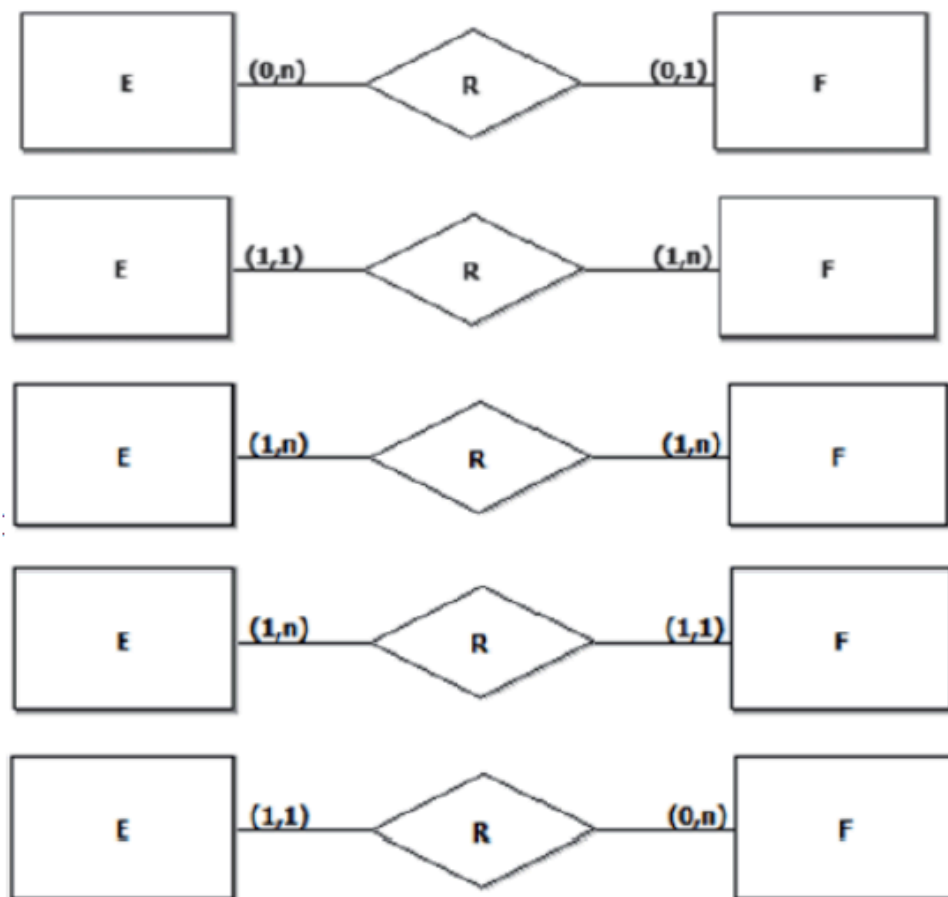
E) $K = \{k1, k2, k3, k4, k5, k6\}$ $L = \{k1, k2\}$

$M = \{k4, k5, k6\}$ $S = \{(t1, k6), (t2, k5), (t3, k4), (t4, k3), (t5, k2)\}$

16. CESGRANRIO - Analista (UNIRIO)/Tecnologia da Informação/2019

Em qual diagrama E-R a relação R define uma função de E em F?



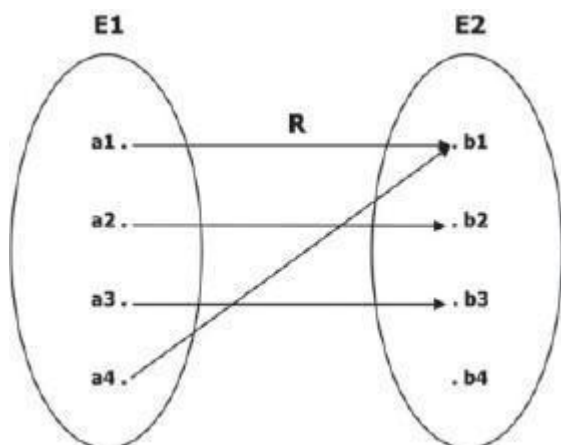


17. CESGRANRIO - Analista de Sistemas Júnior (TRANSPETRO)/ Processos de Negócio/2018

A Figura a seguir exibe um modelo E-R composto por duas entidades e uma relação.



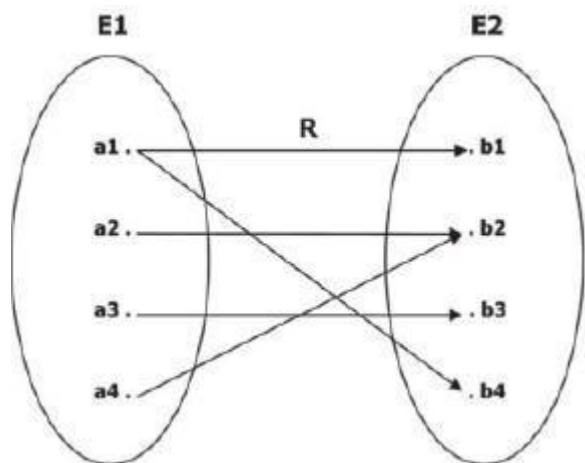
Qual diagrama de Venn contém uma relação que atende às regras de multiplicidade definidas no modelo E-R acima?



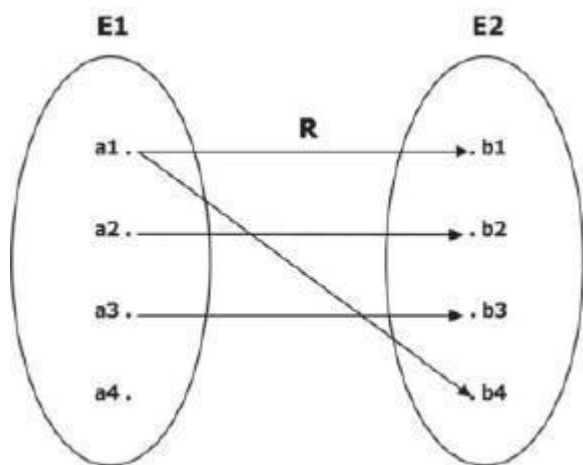
A)

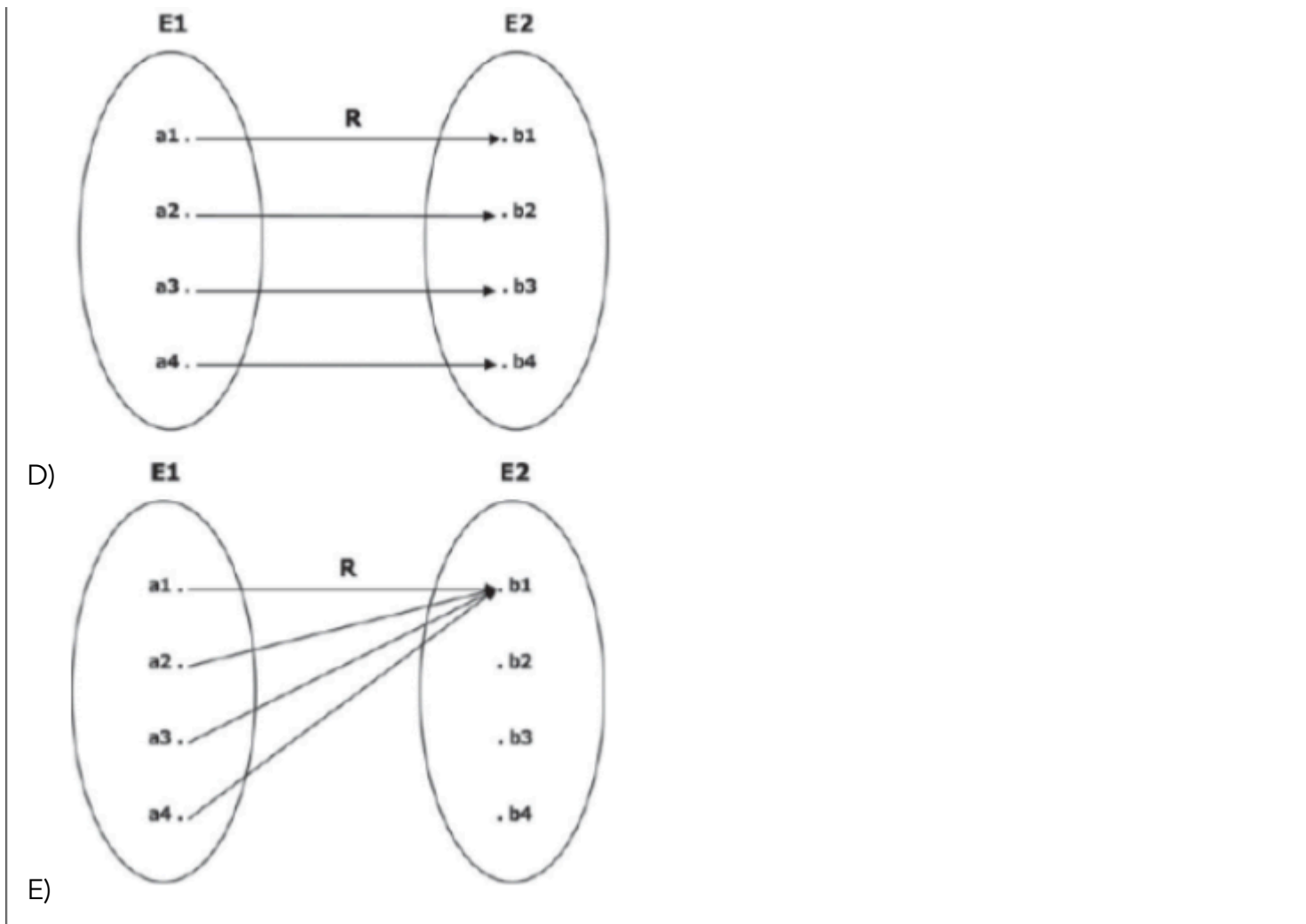


B)



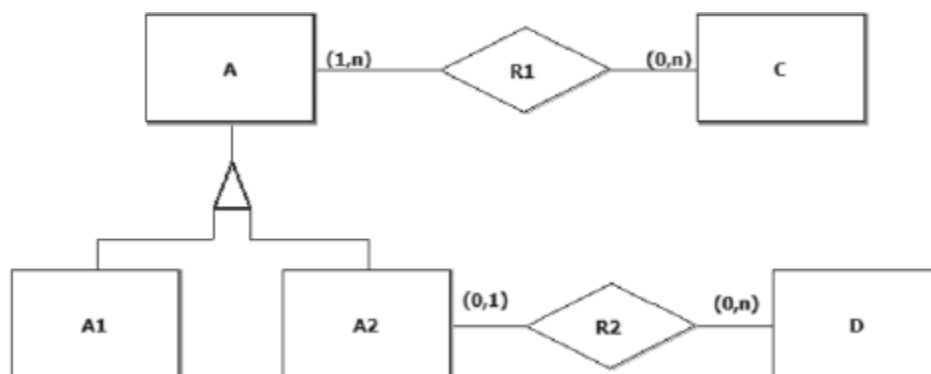
C)





18. CESGRANRIO - Escriturário (BB)/"Sem Área"/2018

Um banco de dados possui um modelo conceitual cuja descrição é feita pelo diagrama E-R a seguir.



Admita-se que o estado desse banco de dados seja definido, em parte, pelos seguintes conjuntos:

$$A = \{a1, a2, a3, a4, a5, a6\} \quad A1 = \{a2, a3, a4\}$$



$A2 = \{a1, a5, a6\}$

$C = \{c1, c2\}$ $D = \{d1, d2, d3, d4\}$

Os elementos desses conjuntos representam instâncias das entidades presentes no diagrama E-R do banco de dados em questão.

As relações que completam o estado desse banco de dados, sem que nenhuma regra de cardinalidade ou generalização seja violada, são

A) $R1 = \{(a1, c1), (a2, c1)\}$ $R2 = \{ \}$

B) $R1 = \{ \}$

$R2 = \{ \}$

C) $R1 = \{(a1, c1), (a1, c2)\}$ $R2 = \{(a2, d1), (a5, d2), (a6, d4)\}$

D) $R1 = \{(c1, a5), (c1, a2), (c2, a5), (c2, a2)\}$

$R2 = \{(a5, d1), (a6, d2), (a5, d3), (a5, d4)\}$

E) $R1 = \{(a5, c1), (a2, c1), (a5, c2), (a2, c2)\}$

$R2 = \{(a5, d1), (a6, d2), (a5, d3), (a5, d4), (a6, d4)\}$

19. CESGRANRIO - Profissional (LIQUIGÁS)/Analista de Sistemas/Júnior TI/2018/Edital 02

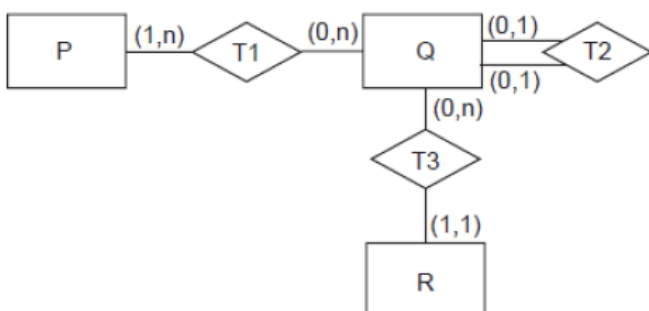
Os conjuntos a seguir representam um banco de dados relacional.

$P = \{p1, p2, p3\}$

$Q = \{q1, q2, q3\}$

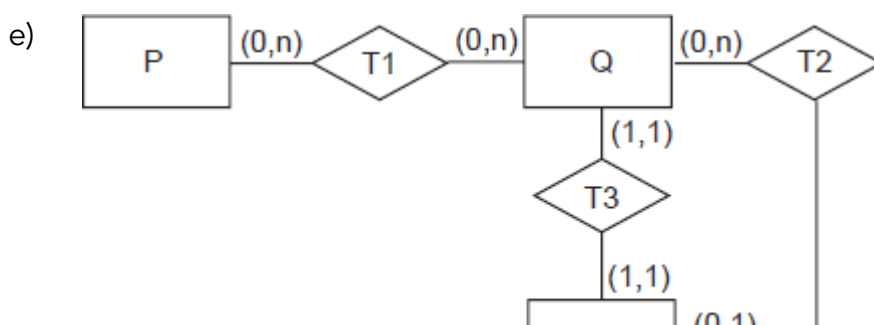
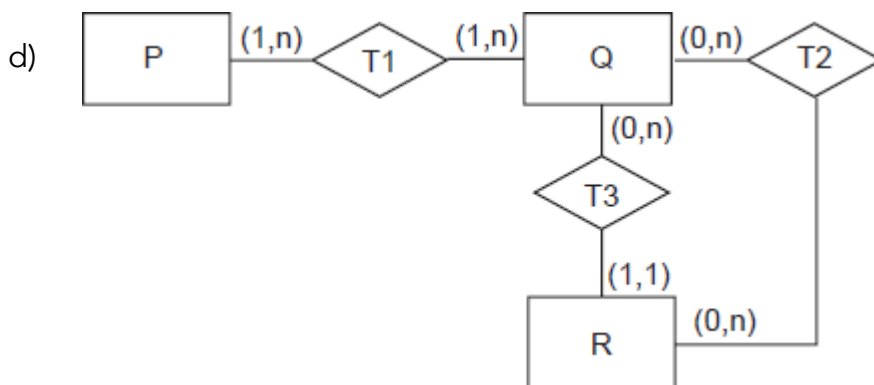
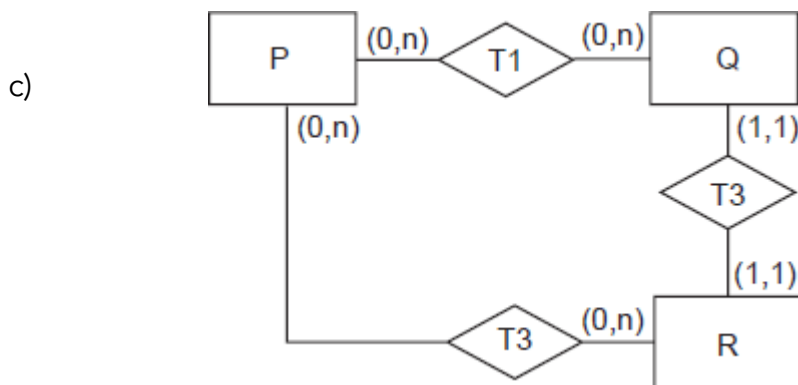
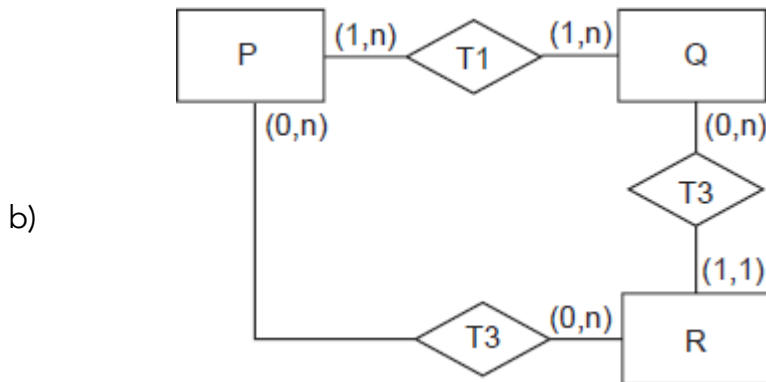
$R = \{r1, r2, r3, r4\}$ $T1 = \{(p1, q1), (p1, q2), (p1, q3)\}$ $T2 = \{ \}$ $T3 = \{(q1, r1), (q2, r3), (q3, r4)\}$

Qual modelo E-R define regras de cardinalidade compatíveis com esse banco de dados?



a) .





20. CESGRANRIO - Profissional (LIQUIGÁS)/Arquiteto de Soluções/Júnior TI/2018/Edital 02

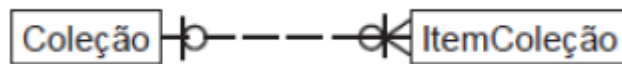
O modelo de Entidades e Relacionamentos (ER) é bastante utilizado na modelagem conceitual de bancos de dados. Além de utilizar entidades e seus relacionamentos para descrição dos dados, o modelo ER inclui também alguns atributos que descrevem as características de cada entidade.

Já um relacionamento também pode ter atributos

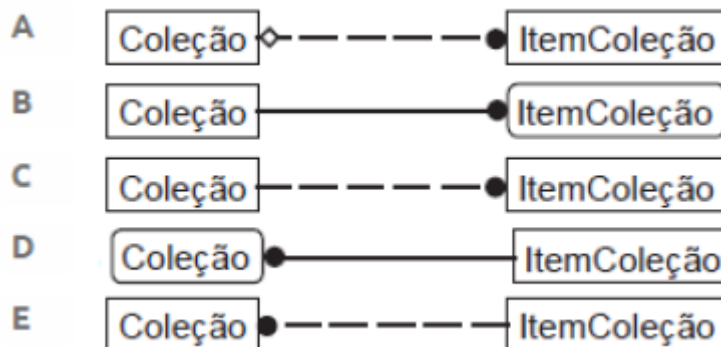
- A) se as cardinalidades máximas forem 1xN, independentemente das cardinalidades mínimas.
- B) se as cardinalidades máximas forem NxN, independentemente das cardinalidades mínimas.
- C) se as cardinalidades mínimas do relacionamento forem maiores que zero, independentemente das cardinalidades máximas.
- D) somente se estiver participando de uma entidade associativa. E independentemente das cardinalidades do relacionamento.

21. BANCA: CESGRANRIO ANO: 2014 ÓRGÃO: PETROBRAS PROVA: TÉCNICO - TÉCNICO DE INFORMÁTICA

O diagrama a seguir apresenta um modelo de entidades e relacionamentos segundo a notação da Engenharia de Informação.



A notação equivalente em IDEF1X é



22. Ano: 2016 Banca: CESGRANRIO Órgão: IBGE Prova: Supervisor de Pesquisas - Tecnologia de Informação e Comunicação

A KWX é uma empresa do varejo que atua exclusivamente na Web. Ela está desenvolvendo um sistema de informação para registrar os pedidos de seus clientes e controlar todo o processo de entrega de mercadorias. Um pedido é entregue por uma das transportadoras conveniadas com a empresa. Quando o novo sistema estiver em funcionamento, todas elas serão devidamente cadastradas, tendo em vista melhorar a gestão de entregas pelo setor responsável. O custo de transporte varia de transportadora para transportadora, além de levar em conta o endereço de entrega de um pedido. Visando a reduzir o tempo de entrega, a diretoria de vendas determinou



que a definição da transportadora tem de ser feita até 48h após um pedido ter sido inserido no sistema.

No ato do recebimento de um pedido, o cliente irá conferir se todos os produtos comprados estão corretos e se não houve avarias durante o transporte. Caso esteja tudo em ordem, o cliente irá assinar o recibo de entrega, pondo a data em que ela foi feita. Essa informação será posteriormente inserida no sistema por um funcionário do setor de entregas. Caso o cliente encontre algum problema, ele poderá recusar o recebimento dos produtos, informando o motivo pelo qual a entrega foi recusada. O motivo da devolução deve ser assinalado no próprio documento de entrega, que contém uma lista de motivos extraída do sistema. Um motivo possui código e descrição.

O sistema deve, também, atender a alguns requisitos adicionais. São eles:

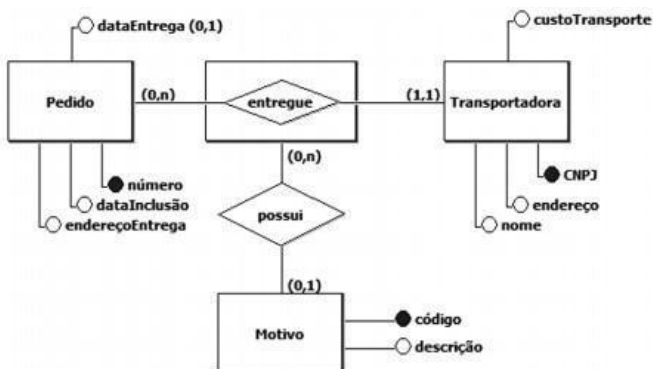
o cliente deve informar o endereço de entrega no momento em que inserir um pedido;

um pedido possui um número e a data em que foi realizado;

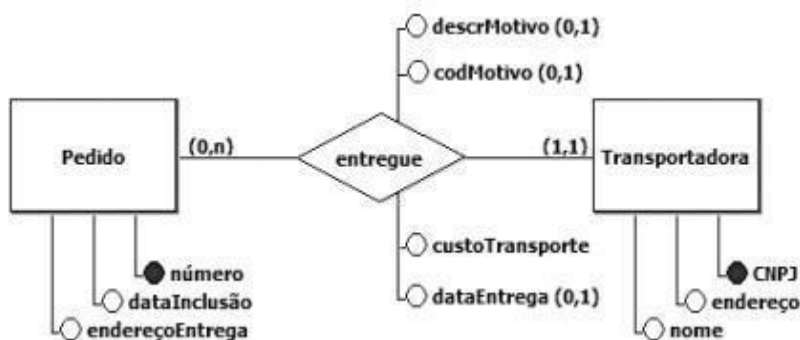
uma transportadora precisa ter registrados o número do CNPJ, o nome e o endereço.

Qual diagrama E-R descreve adequadamente os elementos envolvidos no negócio da empresa KWX?

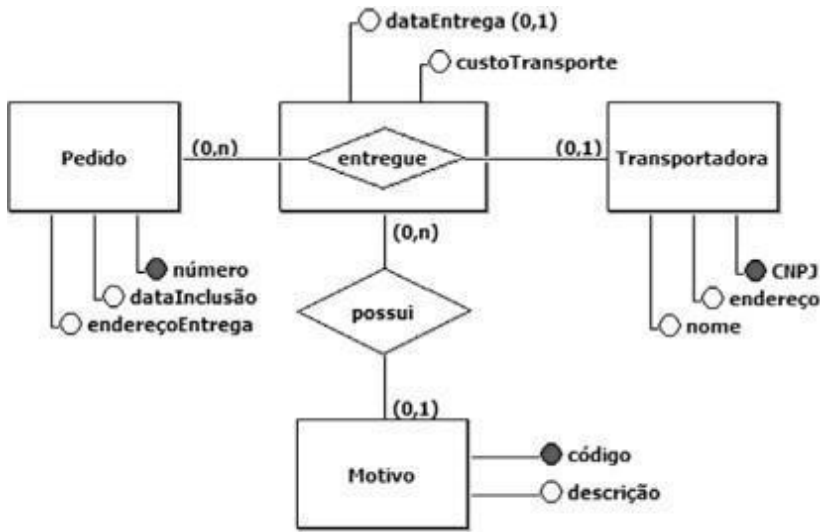
a)



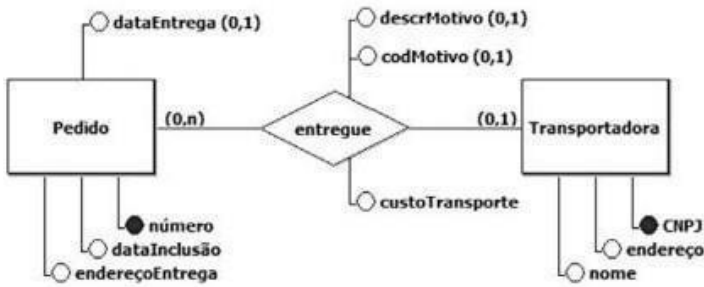
b)



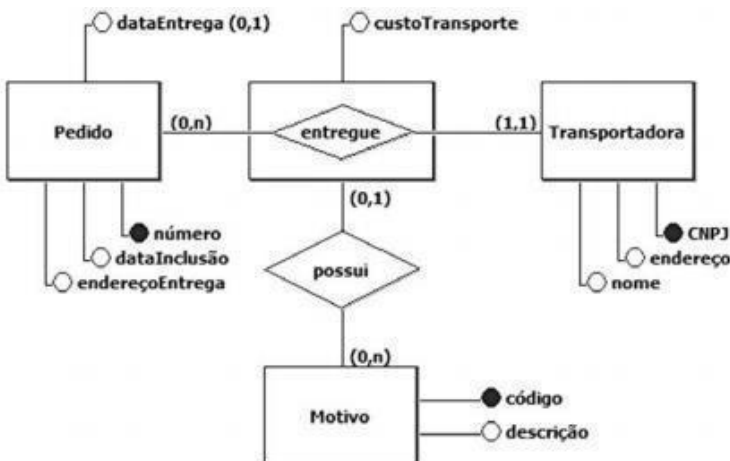
c)



d)



e)



23. Ano: 2016 Banca: CESGRANRIO Órgão: UNIRIO Prova: Técnico em Tecnologia da Informação

Considere as Tabelas a seguir para responder a questão.

Essas Tabelas fazem parte do esquema de um banco de dados usado por uma associação de criadores de cães para organizar informações sobre os torneios que ela promove.



```
CREATE TABLE CAO (  
  COD          NUMBER(5)      NOT NULL,  
  NOME         VARCHAR2(50)   NOT NULL,  
  RACA         VARCHAR2(50)   NOT NULL,  
  NOME_PAI    VARCHAR2(50),  
  NOME_PROPR  VARCHAR2(50)   NOT NULL,  
  CONSTRAINT CAO_PK PRIMARY KEY (COD)  
)  
CREATE TABLE COMPETICAO (  
  COD          NUMBER(5)      NOT NULL,  
  DESCR       VARCHAR2(50)   NOT NULL,  
  CONSTRAINT COMPETICAO_PK PRIMARY KEY (COD)  
)  
CREATE TABLE ARBITRO (  
  COD          NUMBER(5)      NOT NULL,  
  NOME         VARCHAR2(50)   NOT NULL,  
  CONSTRAINT ARBITRO_PK PRIMARY KEY (COD)  
)  
CREATE TABLE PARTICIPACAO (  
  COD_CAO     NUMBER(5)      NOT NULL,  
  COD_COMP    NUMBER(5)      NOT NULL,  
  COLCACAO    NUMBER(4)      NOT NULL,  
  CONSTRAINT PARTICIPACAO_PK PRIMARY KEY  
    (COD_CAO, COD_COMP),  
  CONSTRAINT PARTICIPACAO_FK1 FOREIGN KEY (COD_CAO)  
    REFERENCES CAO (COD),  
  CONSTRAINT PARTICIPACAO_FK2 FOREIGN KEY (COD_COMP)  
    REFERENCES COMPETICAO (COD)  
)  
CREATE TABLE AVALIACAO (  
  COD_CAO     NUMBER(5)      NOT NULL,  
  COD_COMP    NUMBER(5)      NOT NULL,  
  COD_ARBTR   NUMBER(5)      NOT NULL,  
  NOTA_ARBTR  NUMBER(3,1)    NOT NULL,  
  CONSTRAINT AVALIACAO_PK PRIMARY KEY  
    (COD_CAO, COD_COMP, COD_ARBTR),  
  CONSTRAINT AVALIACAO_FK1 FOREIGN KEY (COD_CAO)  
    REFERENCES CAO (COD),  
  CONSTRAINT AVALIACAO_FK2 FOREIGN KEY (COD_COMP)  
    REFERENCES COMPETICAO (COD),  
  CONSTRAINT AVALIACAO_FK3 FOREIGN KEY (COD_ARBTR)  
    REFERENCES ARBITRO (COD)  
)
```

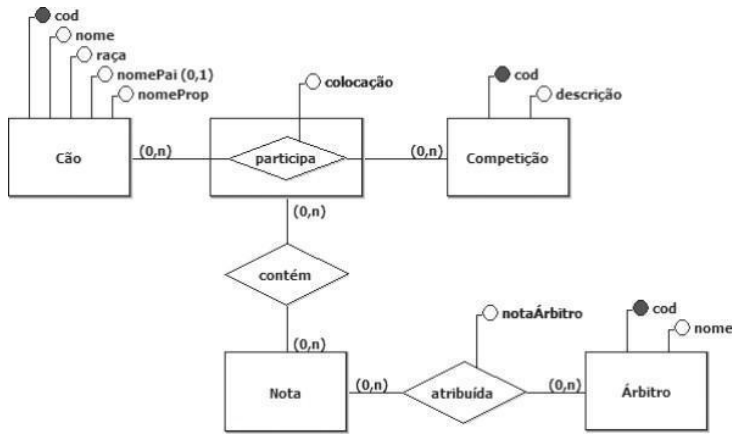
Observações:

- A Tabela CAO contém os dados dos cães inscritos na referida associação. A coluna NOME_PAI indica o nome do pai de um cão, a coluna RACA indica a raça do mesmo, e a coluna NOME_PROPR indica o nome do seu proprietário. As demais colunas são autoexplicativas.
- A Tabela COMPETICAO contém informações sobre as competições patrocinadas pela associação. Suas colunas são autoexplicativas.
- A Tabela PARTICIPACAO informa as competições das quais participaram os cães registrados na associação. Cada linha dessa tabela indica a colocação obtida por um cão em uma determinada competição. Suas colunas são autoexplicativas.
- A Tabela ARBITRO contém os dados dos árbitros que julgam os cães que participam de competições. Suas colunas são autoexplicativas.
- Cada linha da Tabela AVALIACAO representa a nota atribuída a um cão, por um determinado árbitro em uma determinada competição. Suas colunas são autoexplicativas.

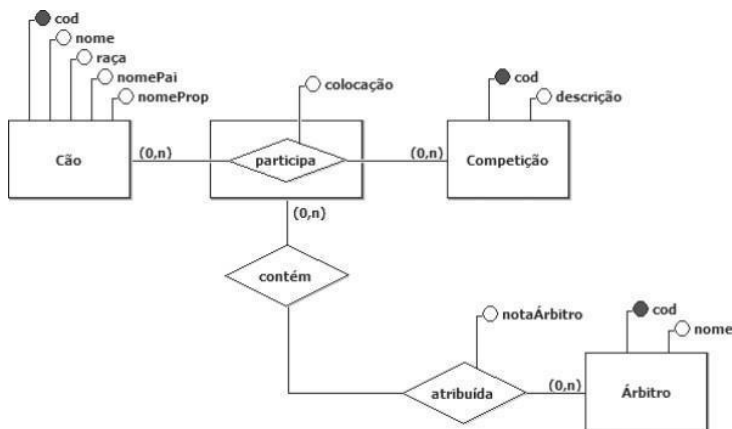
Qual diagrama E-R contém um modelo conceitual compatível com as tabelas do banco de dados da associação de criadores de cães?

a)

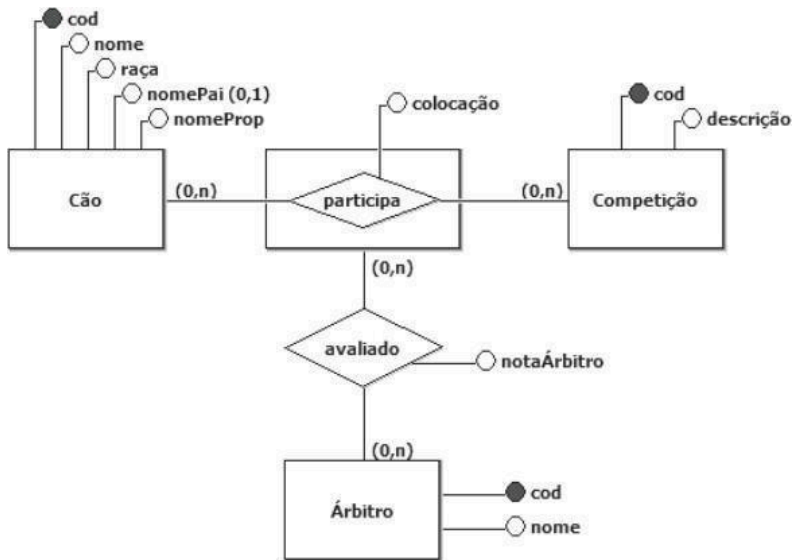




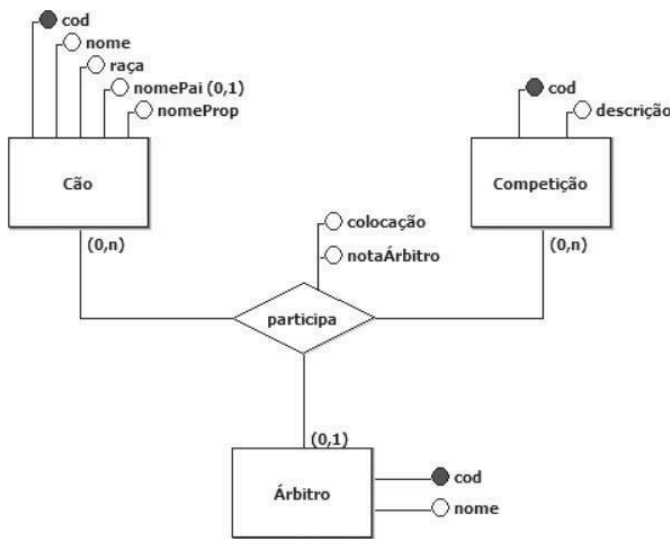
b)



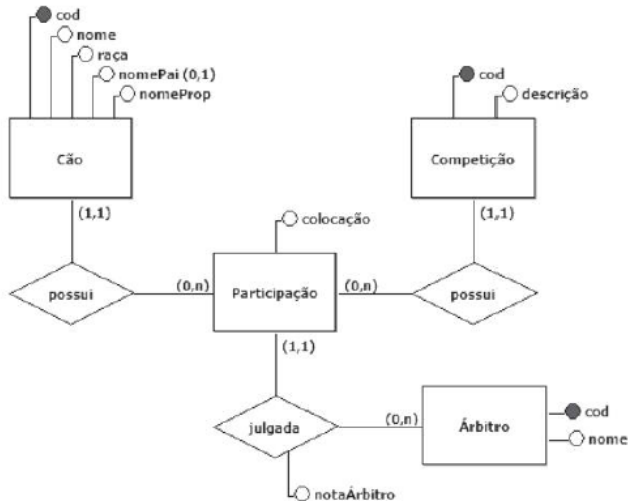
c)



d)



e)



24. Ano: 2016 Banca: CESGRANRIO Órgão: UNIRIO Prova: Técnico em Tecnologia da Informação

Uma empresa que atua no ramo de entrega de encomendas precisa de um sistema de informação para controlar sua principal atividade. Durante o levantamento dos requisitos desse sistema, as seguintes informações sobre o pagamento de entregas foram fornecidas por um funcionário da empresa:

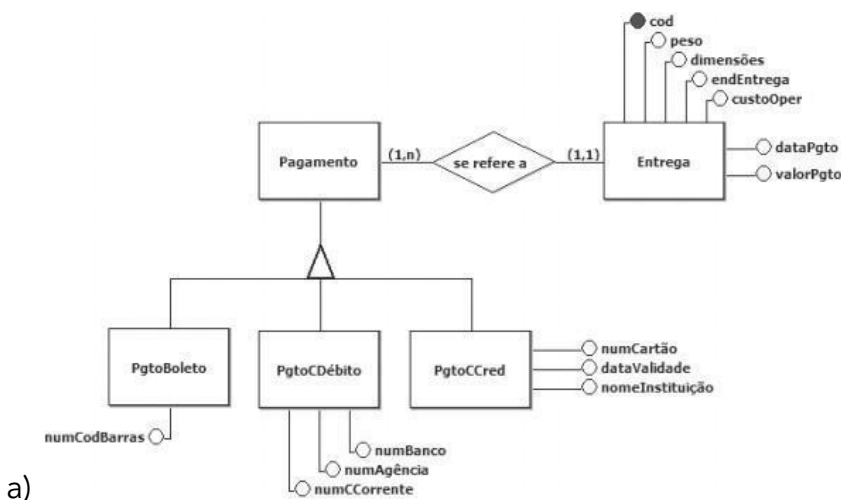
Uma entrega é identificada internamente por um código. Além disso, é necessário registrar o peso e as dimensões do objeto a ser entregue, o endereço de entrega e o custo da operação de entrega;

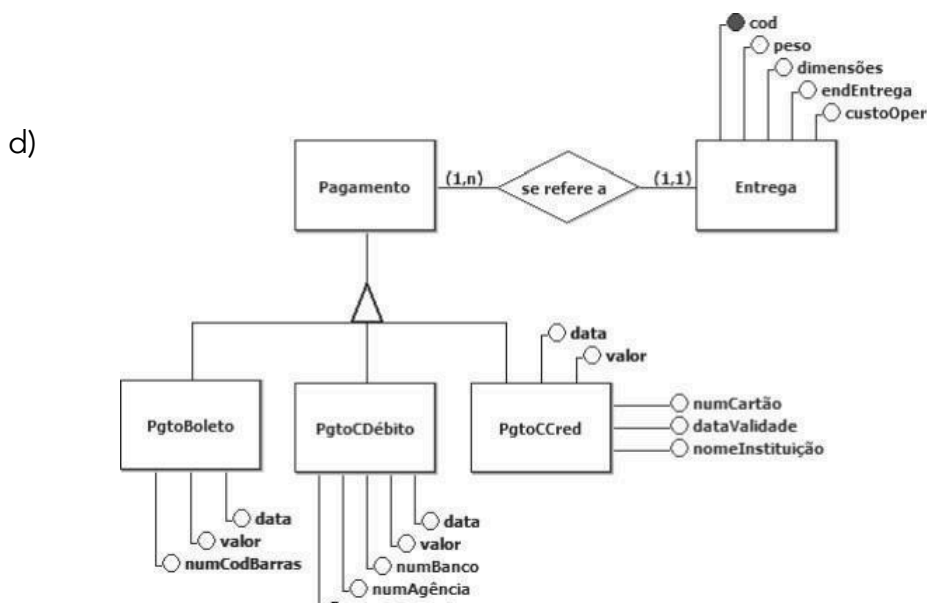
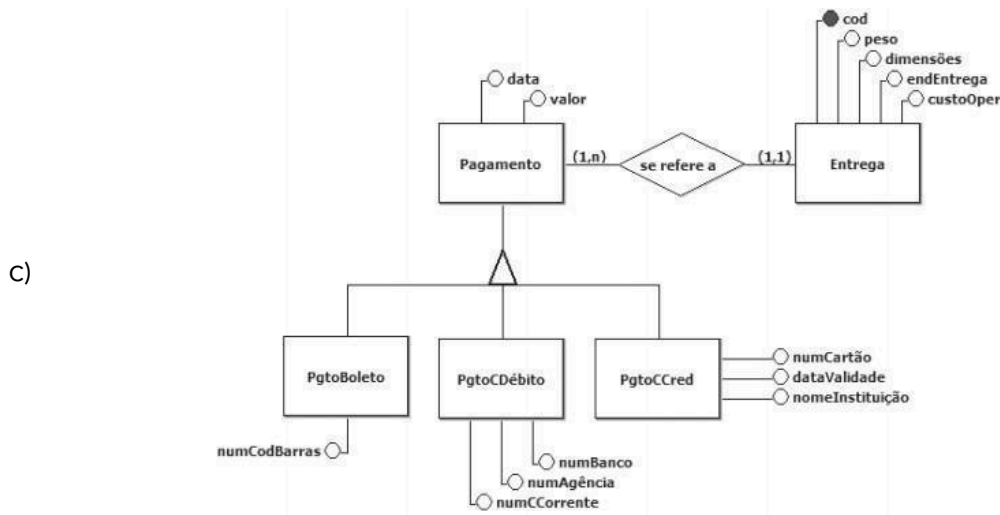
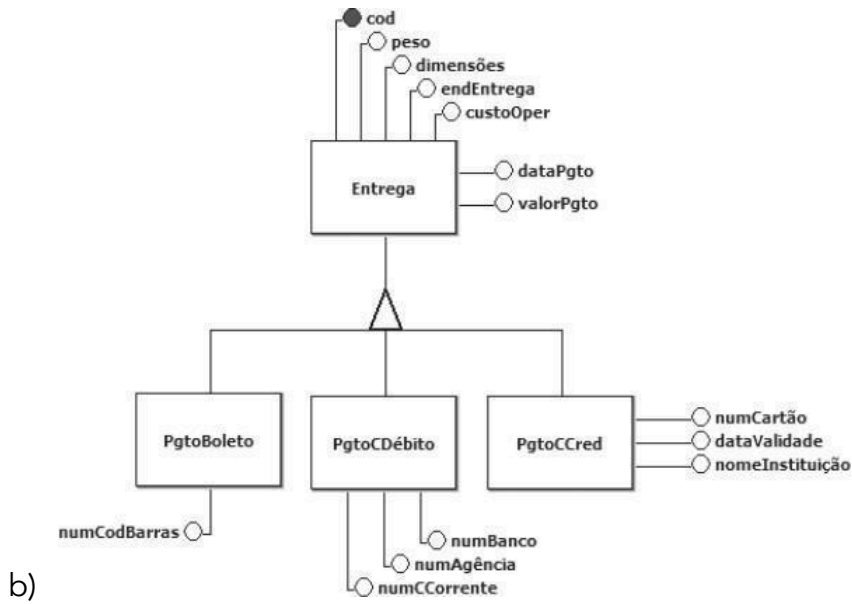


- Uma entrega pode ser paga através de cartão de crédito, cartão de débito ou boleto bancário. Visando a atender às demandas de seus clientes, uma entrega pode ser paga usando-se qualquer combinação desses três meios de pagamento;
- Em relação a um pagamento com cartão de crédito, o sistema deve registrar a data de pagamento, o valor pago, o número do cartão, sua data de validade e a instituição que o emitiu;
- Em relação a um pagamento com cartão de débito, o sistema deve registrar a data de pagamento, o valor pago, o número do banco e os números da agência e da conta corrente às quais o cartão está vinculado;
- Em relação a um pagamento com boleto bancário, o sistema deve registrar a data de pagamento, o valor pago e o número do código de barras do boleto;
- Cada pagamento registrado se refere a uma única entrega

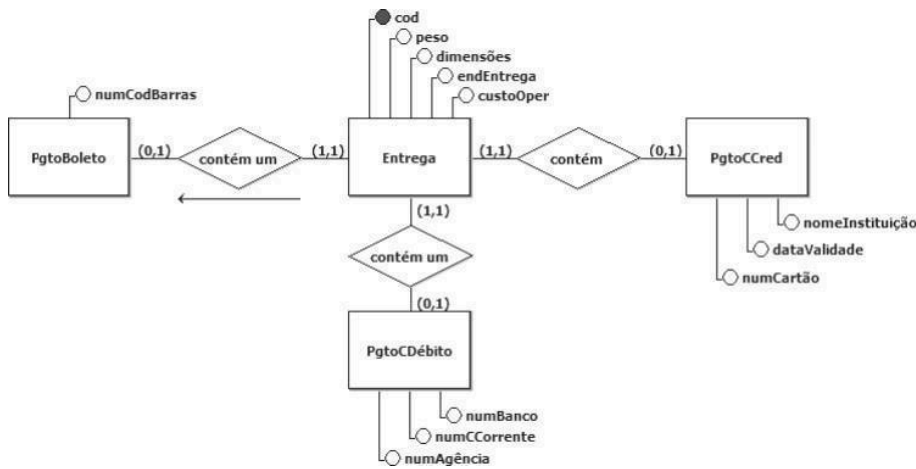
Não há entrega registrada no sistema que não tenha, pelo menos, um pagamento associado a ela.

- Qual diagrama E-R representa corretamente os elementos e as regras presentes na descrição dos requisitos listados acima, sem que haja perda de informações ou redundância de dados, além de observar as boas práticas de modelagem conceitual de dados?





e)



25. Ano: 2014 Banca: CESGRANRIO Órgão: Petrobras Prova: Técnico(a) de Exploração de Petróleo Júnior - Informática

ALUNO (cpf : string , nome : string , endereco : string, telefone : string) MATRICULA (cpf : string , cod-cad : string)

CADEIRA (cod-cad : string , nome : string , credits : number)

A representação do esquema relacional acima, segundo um diagrama de entidades e relacionamentos, deve representar ALUNO, MATRICULA e CADEIRA, respectivamente, como

- a) entidade, relacionamento nxm e entidade
- b) entidade, relacionamento 1xn e entidade
- c) entidade, entidade e atributo
- d) entidade, entidade e relacionamento nxm
- e) entidade, atributo e entidade

26. Ano: 2014 Banca: CESGRANRIO Órgão: CEFET-RJ Prova: Analista de Tecnologia da Informação

Uma das características do Modelo de Entidade e Relacionamentos é que

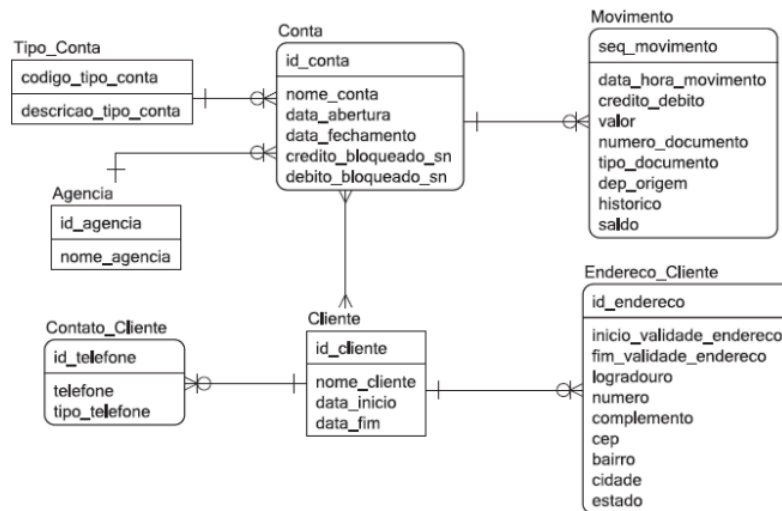
- a) cada domínio de possíveis valores possui um atributo.
- b) dois conjuntos de entidades são sempre disjuntos.
- c) toda chave candidata é uma chave primária.
- d) todos os atributos em determinado conjunto de atributos têm o mesmo conjunto de entidades.



e) um conjunto de relacionamentos pode ser considerado um conjunto de n-tuplas.

27. Ano: 2014 Banca: CESGRANRIO Órgão: Banco da Amazônia Prova: Técnico Científico - Banco de Dados

Para responder à questão, tenha como referência o diagrama de entidades e relacionamentos, apresentado abaixo, que representa parte do modelo de dados de uma instituição financeira.



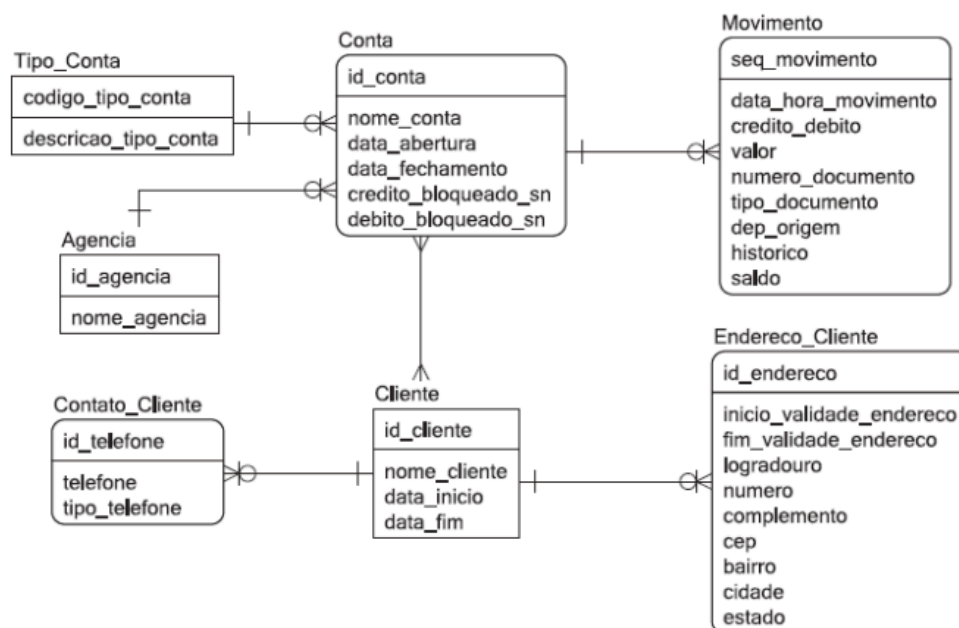
Que representação gráfica do modelo ER proposta pela notação IDEF1X representa relacionamento existente entre Conta e Cliente?

- a)
- b)
- c)
- d)
- e)



28. Ano: 2014 Banca: CESGRANRIO Órgão: Banco da Amazônia Prova: Técnico Científico - Banco de Dados

Para responder à questão, tenha como referência o diagrama de entidades e relacionamentos, apresentado abaixo, que representa parte do modelo de dados de uma instituição financeira.



Sendo feita a transformação desse modelo de dados em um modelo diretamente equivalente a um modelo relacional, de maneira a manter o número mínimo de Tabelas necessárias, e sendo feita a migração das chaves para constituir as chaves externas, sem o uso de chaves substitutas, quantos campos serão adicionados ao modelo?

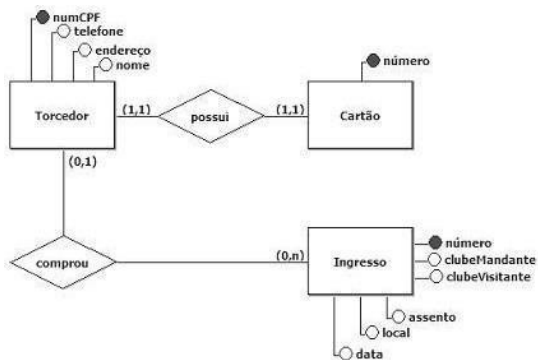
- a) 7
- b) 8
- c) 9
- d) 11
- e) 13

29. Ano: 2014 Banca: CESGRANRIO Órgão: Banco da Amazônia Prova: Técnico Científico - Análise de Sistemas

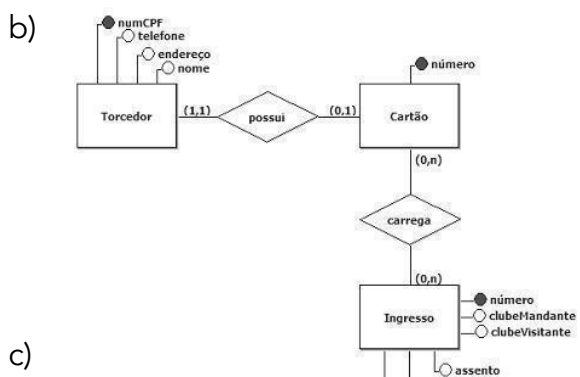
A federação de futebol de um estado brasileiro resolveu criar uma nova forma de vender ingressos para os jogos do seu campeonato estadual. Lotes de cartões com chip, semelhantes a cartões de crédito, serão enviados para lojas credenciadas. O torcedor que queira comprar ingressos para os jogos terá de se cadastrar, antecipadamente, na federação e dirigir-se a uma das lojas para adquirir um desses cartões e carregá-lo com ingressos para os jogos a que desejar comparecer. A entrada nos estádios será feita mediante a apresentação do cartão contendo os ingressos que o torcedor comprou. Cada torcedor poderá possuir um único cartão. O controle será feito pelo número do CPF do torcedor. Um cartão terá um número, que o identificará. Esse número será gravado no chip pelo fabricante dos cartões, e registrado no sistema da federação, antes que o cartão seja enviado para uma loja credenciada.



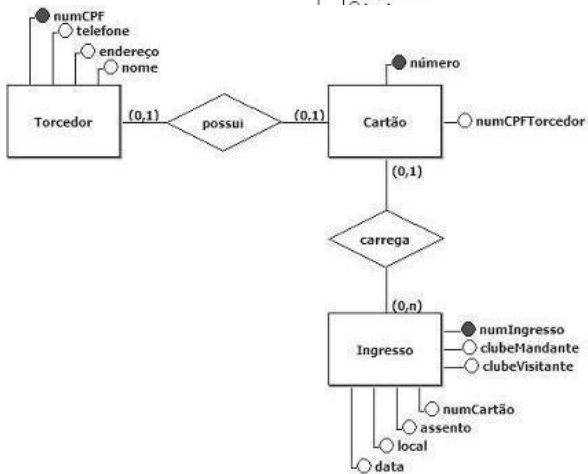
Qual diagrama E-R descreve, adequadamente, as regras de negócio apresentadas acima, além de observar os preceitos de um bom modelo conceitual de dados?



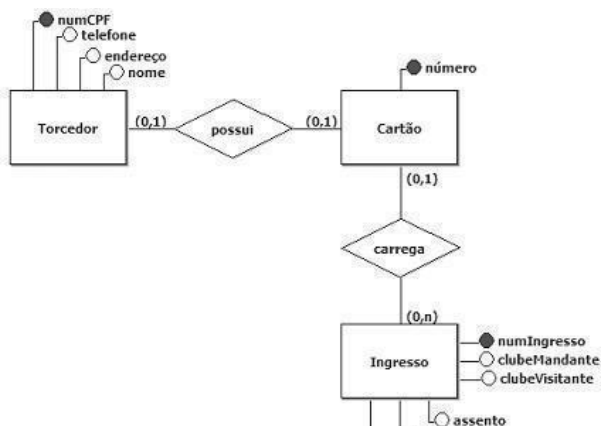
a)



b)

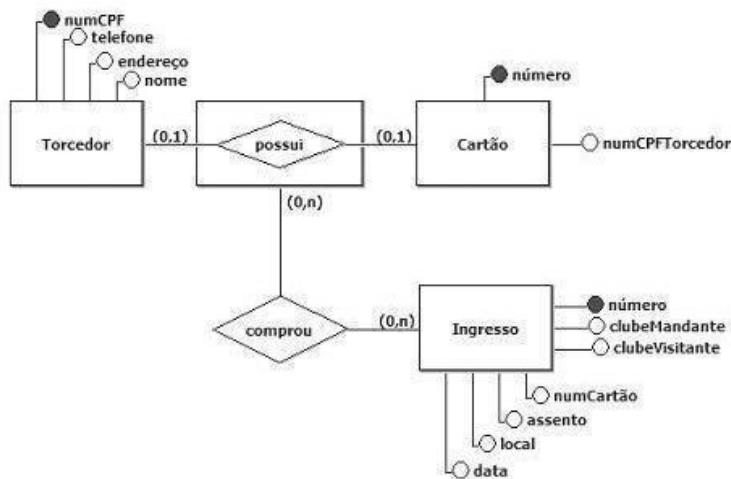


c)



d)





e)

30.Ano: 2014 Banca: CESGRANRIO Órgão: FINEP Prova: Analista - Desenvolvimento de Sistemas

Um país irá leiloar blocos de exploração de petróleo e precisa de um sistema de informação para controlar o registro dos consórcios que participarão dos leilões, os lances que serão realizados e o vencedor de cada leilão. Todos os consórcios que irão disputar os leilões terão que ser previamente cadastrados no sistema. Um consórcio é formado por uma ou mais empresas.

O objeto de cada leilão é um bloco de exploração. Os consórcios poderão registrar vários lances para cada bloco disputado. Os lances, entretanto, terão de ser maiores ou iguais a um valor mínimo, que será fixado, para cada bloco, antes de cada leilão.

Além de atender aos requisitos acima, o sistema de informação em questão deve responder às seguintes questões:

Qual é o nome do consórcio vencedor?

Quais são as empresas que integram um determinado consórcio?

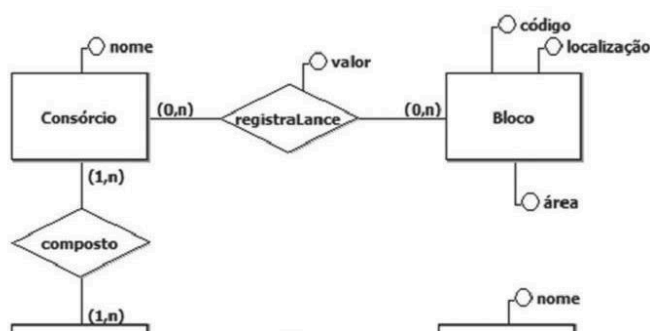
Qual é o país de origem de uma determinada empresa?

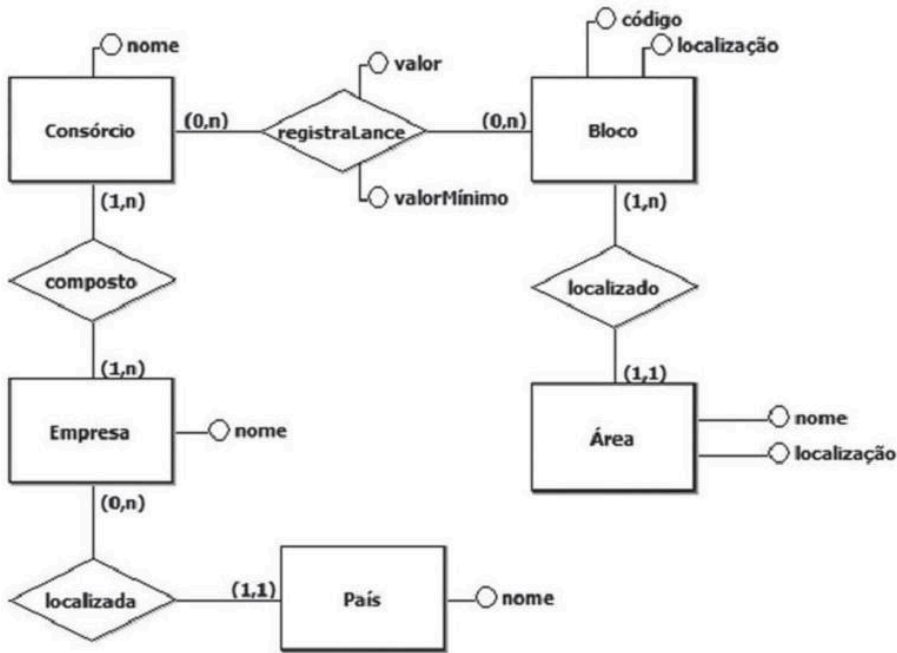
Qual é o nome de uma determinada área de exploração? Onde ela está localizada?

Qual é o código de um determinado bloco de exploração? Onde ele está localizado? A que área de exploração ele pertence?

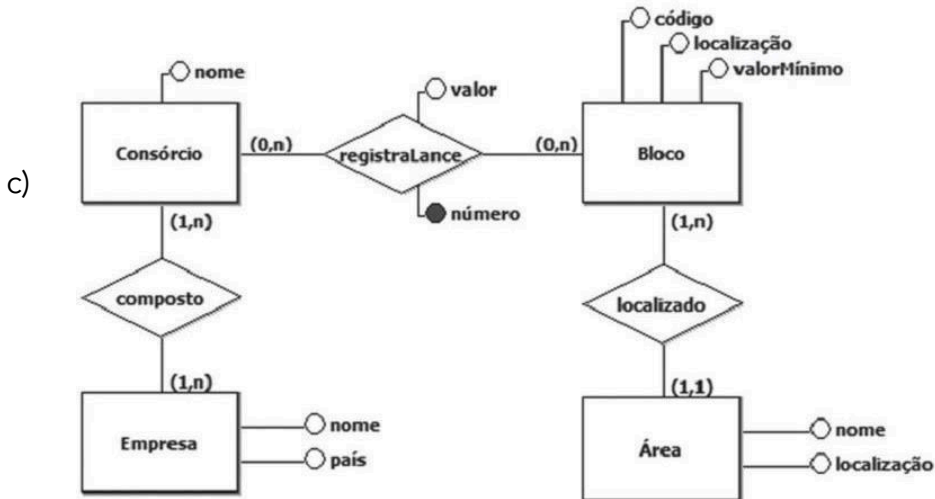
Qual diagrama E-R atende a todos os requisitos descritos acima?

a)

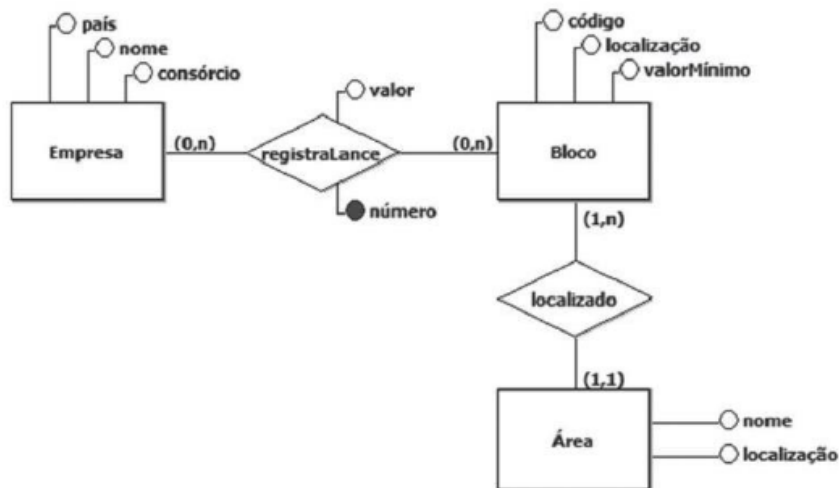




b)

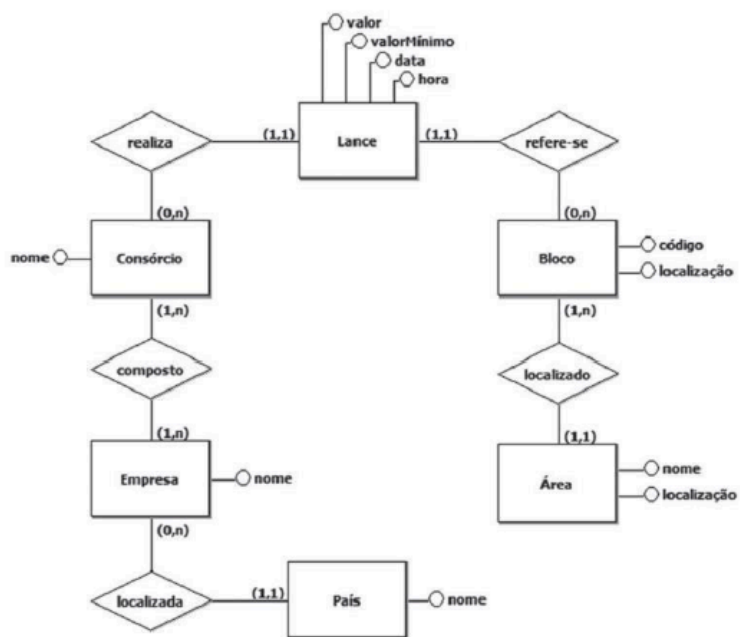


c)



d)





e)



GABARITO

01	02	03	04	05
D	A	E	E	E
06	07	08	09	10
E	D	E	E	E
11	12	13	14	15
B	D	D	A	A
16	17	18	19	20
D	D	D	A	E
21	22	23	24	25
A	C	C	C	A
26	27	28	29	30
E	B	D	D	C



LISTA DE QUESTÕES - MODELAGEM CONCEITUAL

1. (VUNESP - ATCE (TCM SP)/TCM SP/Técnico de Informática/2023)

Constitui uma importante tarefa na modelagem de bancos de dados relacionais a definição dos atributos componentes dos conjuntos de entidades, bem como o tipo desses atributos.

Considerando os diversos tipos de atributos possíveis, é correto afirmar que

- a) a um atributo do tipo multivalorado pode-se atribuir mais de um valor para uma mesma entidade.
- b) um atributo do tipo composto é aquele que possui uma fração que será utilizada como chave primária.
- c) um atributo do tipo monovalorado ou de valor único deve, obrigatoriamente, ser do tipo numérico.
- d) um atributo do tipo composto é formado por pelo menos duas partes, cada uma pertencente a um conjunto de entidades distintas.
- e) um atributo do tipo derivado é aquele que está presente, simultaneamente, em pelo menos dois conjuntos de entidades.

2. (VUNESP - ADP (DPE SP)/DPE SP/Analista de Suporte/2023)

Um dos conceitos importantes na modelagem de um banco de dados relacional consiste na especificação do domínio de um atributo de um conjunto de entidades, que significa especificar o

- a) tempo máximo a ser utilizado no armazenamento de cada valor do atributo.
- b) conjunto de valores válidos e aceitos para esse atributo.
- c) número máximo de entidades permitido em cada caso.
- d) número máximo de vezes que os valores dos atributos podem ser alterados.
- e) tipo de mídia que deve ser utilizado para o armazenamento de cada atributo.

3. (VUNESP - PTIC (UNICAMP)/UNICAMP/Programador de Sistemas de Informação/2023)



Referindo-se ao modelo entidade-relacionamento de bancos de dados relacionais, um conjunto de relacionamentos binário corresponde a

- a) definir uma associação entre dois atributos pertencentes a conjuntos de entidades distintos.
- b) declarar dois atributos para cada conjunto de entidades.
- c) limitar a dois o número de relacionamentos de um modelo completo de um banco de dados.
- d) declarar até dois tipos de atributos distintos nos conjuntos de entidades.
- e) definir uma associação entre dois conjuntos de entidades distintos.

4. (VUNESP - PTIC (UNICAMP)/UNICAMP/Programador de Sistemas de Informação/2023)

Em um modelo entidade-relacionamento de um banco de dados relacional, cada conjunto de entidades pode possuir diversos atributos, sendo correto que um atributo cujo valor pode ser obtido a partir do(s) valor(es) de outro(s) atributo(s) denomina-se atributo

- a) parcial.
- b) indireto.
- c) chaveado.
- d) derivado.
- e) secundário.

5. (VUNESP - ADP (DPE SP)/DPE SP/Administrador de Redes/2023)

Os diagramas entidade-relacionamento representam uma maneira gráfica para a modelagem de bancos de dados relacionais. Um dos símbolos utilizados nesses diagramas é um retângulo desenhado com linhas duplas, que representa um

- a) atributo do tipo derivado.
- b) atributo de valores múltiplos.
- c) conjunto de entidades forte.
- d) conjunto de entidades fraco.
- e) conjunto de relacionamentos.



6. (VUNESP - ADP (DPE SP)/DPE SP/Analista Desenvolvedor/2023)

Considerando o modelo entidade-relacionamento utilizado no projeto de bancos de dados relacionais, é correto que

- a) um conjunto de relacionamentos recursivo reúne, no mínimo, três conjuntos de entidades distintos.
- b) um conjunto de relacionamentos pode possuir exclusivamente atributos do tipo numérico.
- c) um conjunto de relacionamentos binário envolve dois conjuntos de entidades distintos.
- d) um conjunto de relacionamentos não pode possuir atributos descritivos.
- e) todos conjuntos de relacionamentos em um modelo entidade-relacionamento devem possuir a mesma cardinalidade.

7. (VUNESP - CFO/QC (EsFCEEx)/EsFCEEx/Informática/2023)

Na modelagem de bancos de dados relacionais, uma importante ferramenta é constituída pelo diagramas entidade- -relacionamento (DER). Tais diagramas implementam notações para a representação de artefatos da modelagem de bancos de dados relacionais, sendo correto que a notação para representar

- a) conjuntos de relacionamentos consiste de triângulos com cantos vivos e linhas simples de contorno.
- b) especialização de conjuntos de entidades consiste de losangos com cantos vivos e linhas duplas de contorno.
- c) conjuntos de entidades fracas consiste de hexágonos com cantos vivos e linhas duplas de contorno.
- d) conjuntos de entidades fortes consiste de retângulos com cantos vivos e linhas simples de contorno.
- e) atributos consiste de hexágonos com cantos arredondados e linhas simples de contorno.

8. (VUNESP - ATI (UFABC)/UFABC/2023)

No modelo entidade-relacionamento, a função desempenhada por um conjunto de entidades em um conjunto de relacionamentos recebe a denominação de



- a) domínio do conjunto de relacionamentos.
- b) redutor do conjunto de relacionamentos.
- c) fonte do conjunto de relacionamentos.
- d) papel do conjunto de relacionamentos.
- e) índice do conjunto de relacionamentos.

9. (VUNESP - Téc Lab (UFABC)/UFABC/Informática/2023)

Na modelagem de bancos de dados relacionais é comum utilizar-se dos diagramas entidade-relacionamento. Uma das notações empregadas nesse tipo de diagrama refere-se aos conjuntos de entidades fracas, representado por

- a) uma elipse com linhas simples em seu contorno.
- b) uma elipse com linhas tracejadas em seu contorno.
- c) um losango com linhas duplas em seu contorno.
- d) um retângulo com linhas tracejadas em seu contorno.
- e) um retângulo com linhas duplas em seu contorno.



GABARITO

01	02	03	04	05	06	07	08	09
A	B	E	D	D	C	D	D	E

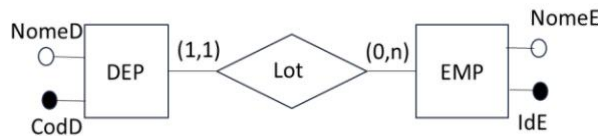


LISTA DE QUESTÕES - MULTIBANCAS

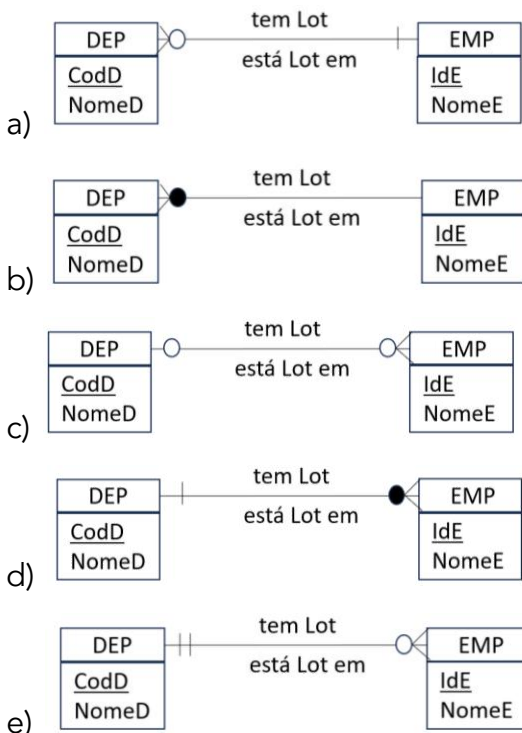
Agora temos as mesmas questões acima sem comentário:

1. Câmara Municipal de São Paulo/FGV/2024

Analise o diagrama Entidade e Relacionamento na notação de Chen e responda



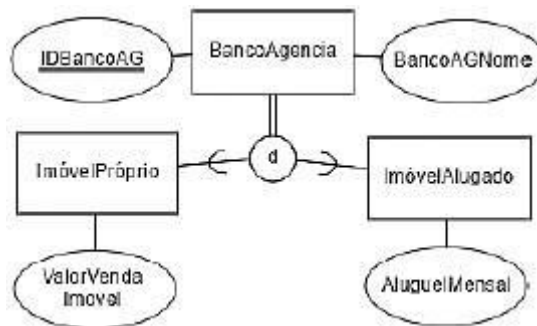
Assinale a opção que mostra a representação gráfica do diagrama semanticamente equivalente na notação Engenharia de Informações, também conhecida por "pé de de galinha".



2. FGV - Aud Est (CGE SC)/CGE SC/Ciências da Computação/2023 - TI - Banco de Dados - Conceitos Iniciais de Bancos de Dados

O diagrama a seguir representa especialização total e subclasses desmembradas.





A partir do diagrama, assinale a opção que descreve os requisitos de banco de dados.

- Cada agência bancária possui um identificador único e um nome. Sobre a situação do imóvel, há um valor venda e um valor de aluguel mensal.
- Cada agência bancária possui um identificador único e um nome. Existem instâncias de agência situadas em imóveis próprios e alugados. Não há instância de agência que não seja em imóvel próprio e alugado. O imóvel próprio possui um valor de venda. O imóvel alugado possui um valor mensal de aluguel.
- Cada agência bancária possui um identificador único e um nome. Existem instâncias de agência situadas em imóveis próprios e alugados. Há instância de agência que não é nem em imóvel próprio nem em alugado. O imóvel próprio possui um valor de venda. O imóvel alugado possui um valor mensal de aluguel.
- Cada agência bancária possui um identificador único e um nome. Existem instâncias de agência situadas em imóveis próprios ou alugados. Não há instância de agência que não seja em imóvel próprio ou alugado. O imóvel próprio possui um valor de venda. O imóvel alugado possui um valor mensal de aluguel.
- Cada agência bancária possui um identificador único e um nome. Existem instâncias de agência situadas em imóveis próprios ou alugados. Há instância de agência que não é nem em imóvel próprio nem em alugado. O imóvel próprio possui um valor de venda. O imóvel alugado possui um valor mensal de aluguel.

3. FGV - Tec (BBTS)/BBTS/Perfil Interno/2023 - TI - Banco de Dados - Conceitos e Fases de Projeto e Modelagem de Dados

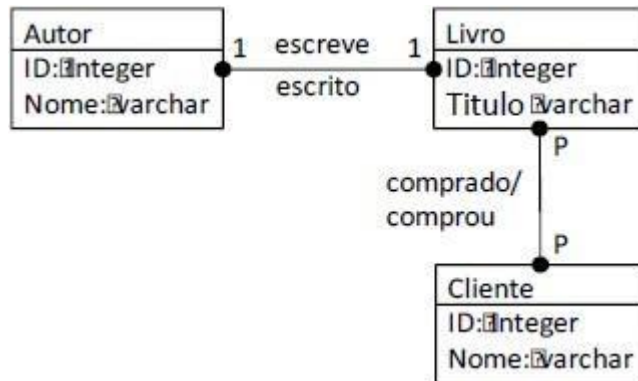
Em projetos de banco de dados, os modelos conceituais são elaborados para descrever, necessariamente,

- os aspectos de software e de hardware que serão utilizados para armazenamento de dados.
- as chaves de acesso, os controles de chaves duplicadas e a integridade referencial.
- a visão geral dos principais dados e suas relações, independentemente das restrições de implementação.
- as entidades, os relacionamentos, os índices e o sistema gerenciador de banco de dados escolhido.
- as necessidades e as preocupações para normalização das estruturas de dados.



4. FGV - AJ (TJ RN)/TJ RN/Apoio Especializado/Análise de Suporte/2023 - TI - Banco de Dados - Modelo Entidade-Relacionamento (MER)

Observe o seguinte Modelo Entidade Relacionamento a seguir.



O modelo ilustrado atende a regra de negócio:

- a) um autor pode escrever diversos livros;
- b) cada livro pode ser escrito por diversos autores;
- c) para se tornar cliente, é necessário pelo menos uma compra;
- d) cliente e autor são especializações da entidade pessoa;
- e) os atributos ID podem armazenar letras, números e símbolos.

5. FGV - 2023 - Técnico (DPE RS)/Apoio Especializado/Programador

Em um Modelo Entidade-Relacionamento (MER), os objetos básicos de um determinado contexto são modelados como entidades. Considere o seguinte contexto de uma empresa imobiliária:

“Um cliente aluga um imóvel. Um vendedor vende o imóvel de um cliente. A alocação do funcionário é em um setor. Um cliente tem um imóvel.”

No contexto apresentado, o objeto básico que representa uma entidade é:

- A) Alocação;
- B) Cliente;
- C) Aluga;
- D) Venda;
- E) Tem.

6. FGV - 2023 - Analista (DPE RS)/Apoio Especializado (TI)/Desenvolvimento de Sistemas

Um Modelo Entidade-Relacionamento (MER) é composto basicamente por entidades e seus relacionamentos, assim como por atributos que descrevem suas propriedades. Considere Pessoa como uma entidade que possui diversos dependentes, como: filhos, pai, mãe, enteado etc.



Para modelar "Dependentes" como uma propriedade da entidade "Pessoa", deve-se usar o atributo do tipo:

- A) chave;
- B) composto;
- C) derivado;
- D) multivalorado;
- E) monovalorado.

7. FGV - 2019 - Técnico Superior Especializado (DPE RJ)/Tecnologia da Informação

Considere um diagrama IDEF1X contendo um relacionamento identificador, 1:N, onde do lado 1 está a entidade Empresa e, do lado N, a entidade Filial.

Num banco de dados que implemente esse relacionamento, a restrição de integridade referencial entre as tabelas Empresa e Filial, que correspondem respectivamente às entidades citadas, NÃO é possível que a chave estrangeira na tabela Filial:

- A) faça parte de um índice;
- B) tenha um valor default declarado;
- C) admita valores nulos;
- D) seja alvo de uma operação update do SQL;
- E) possa ser simultaneamente definida como chave estrangeira para outro relacionamento da entidade Filial.

8. FGV - 2018 - Analista Legislativo (ALERO)/Tecnologia da Informação/Análise e Desenvolvimento de Sistemas

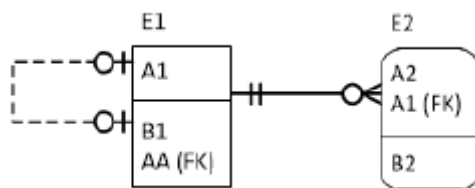
Na representação de esquemas para bancos de dados relacionais por meio da notação IDEF1X, os relacionamentos podem ser identificadores ou não identificadores.

Sobre a consequência do uso de relacionamentos identificadores, assinale a afirmativa correta.

- A) Uma tabela não pode participar em mais de um relacionamento identificador.
- B) A cardinalidade de um relacionamento identificador deve ser 1:1.
- C) A tabela do lado N do relacionamento deve possuir uma chave primária que independa da chave estrangeira decorrente do relacionamento.
- D) A chave estrangeira decorrente do relacionamento deve fazer parte da chave primária da tabela.
- E) A chave estrangeira decorrente do relacionamento deve permitir a preenchimento com valores nulos.

9. FGV - 2018 - Analista Legislativo (ALERO)/Tecnologia da Informação/Banco de Dados





Considere o relacionamento estabelecido entre as entidades E1 e E2 no diagrama IDEF1X. Assinale a opção que apresenta a leitura correta que deve ser feita dessa representação.

- A) A cada elemento de E1 está associado um e somente um elemento de E2.
- B) A cada elemento de E1 estão associados entre 1 e N elementos de E2.
- C) A cada elemento de E2 está associado um e somente um elemento de E1.
- D) A cada elemento de E2 estão associados entre 1 e N elementos de E1.
- E) A cada elemento de E2 podem estar associados zero ou um elemento de E1.

10. Ano: 2018 Banca: FGV Órgão: SEFIN-RO Prova: Auditor Fiscal de Tributos Estaduais

Considere um banco de dados que registre informações sobre alunos, disciplinas e professores em uma faculdade. Sabe-se que um aluno pode cursar uma ou mais disciplinas, que cada disciplina é ministrada por um único professor e que cada disciplina aceita inscrições de um ou mais alunos.

Nesse contexto, analise as afirmativas a seguir.

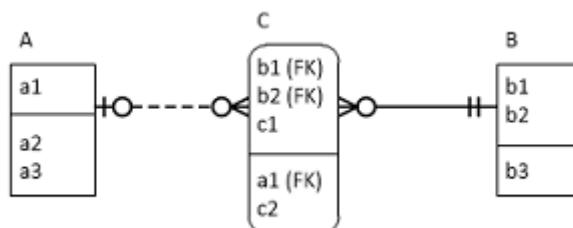
- I. Alunos e professores têm relação N:M ente si.
- II. Professores e disciplinas têm uma relação 1:N entre si.
- III. Cada professor ministra, necessariamente, apenas uma disciplina.

Está correto o que se afirma em

- a) I, apenas.
- b) II, apenas.
- c) III, apenas.
- d) I e II, apenas.
- e) I, II e III.

11. Ano: 2017 Banca: FGV Órgão: MPE-BA Prova: Analista Técnico - Tecnologia

Analisar o diagrama a seguir.



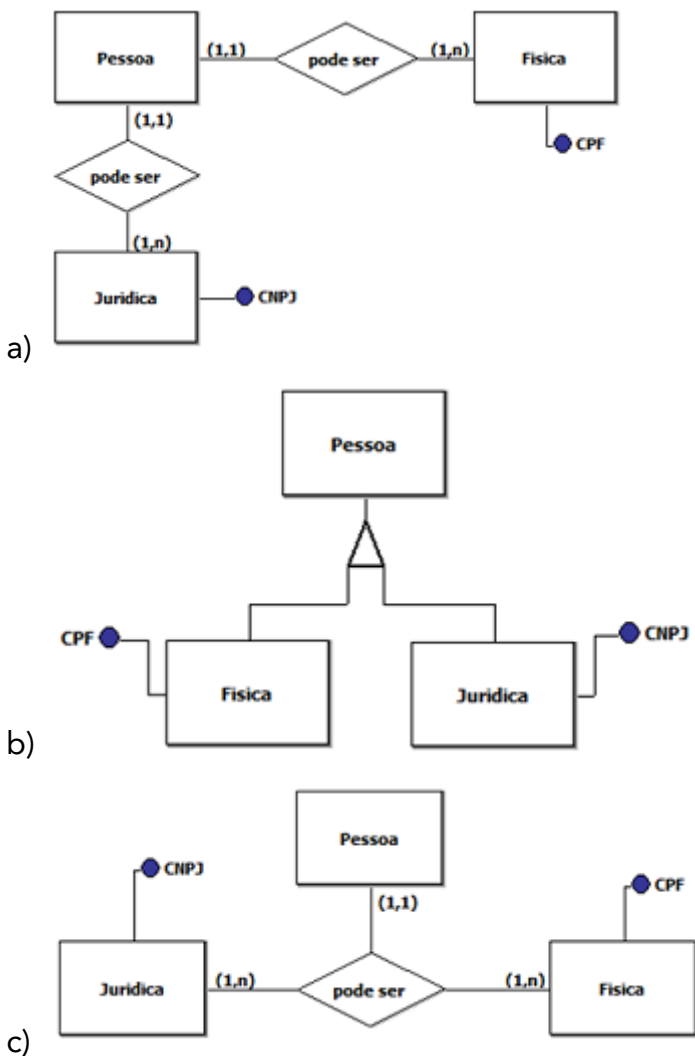
Num banco de dados corretamente derivado desse diagrama, é correto afirmar que:

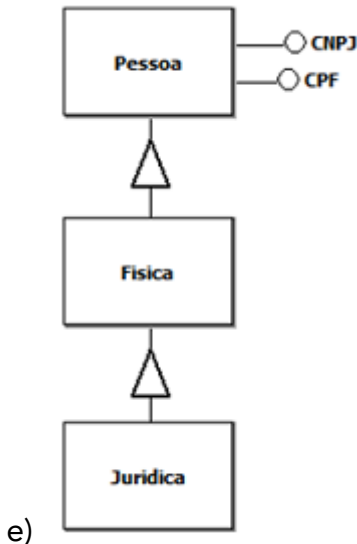
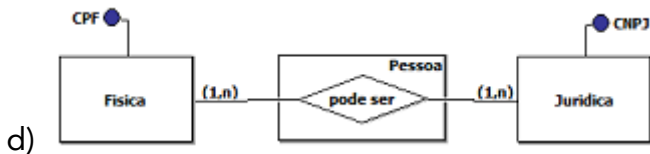
- a) a coluna a1 da tabela C não deve permitir valores nulos;
- b) a coluna b1 da tabela C deve permitir valores nulos;
- c) o relacionamento entre as tabelas B e C é não identificador;
- d) a coluna c1 não faz parte do identificador da tabela C;
- e) as tabelas A e B têm um relacionamento n:m entre si.

12. Ano: 2017 Banca: FGV Órgão: IBGE Prova: Analista Censitário - Análise de Sistemas - Desenvolvimento de Aplicações

Daniel foi designado para fazer a modelagem conceitual de dados utilizando a abordagem de entidades e relacionamentos. Um dos requisitos levantados para o sistema a ser desenvolvido apresenta o conceito de que uma pessoa pode ser classificada como pessoa física ou pessoa jurídica.

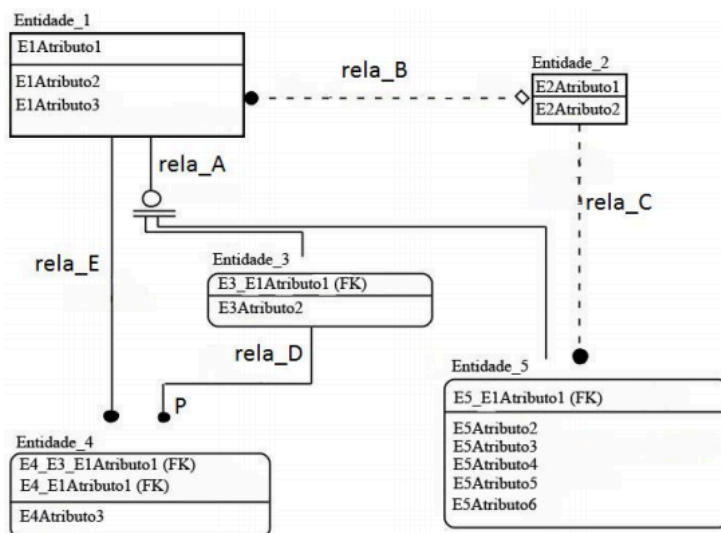
A alternativa que ilustra a modelagem conceitual de dados para o conceito apresentado é:





13. Ano: 2017 Banca: FGV Órgão: ALERJ Prova: Especialista Legislativo - Tecnologia da Informação

Observe a figura a seguir, que representa um Modelo de Entidades e Relacionamentos utilizando a notação IDEF1X (Integrated DEFinition for Information Modelling).



Com base na sintaxe da notação utilizada no modelo, é correto afirmar que:

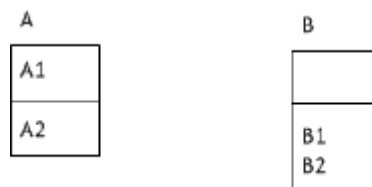
- a) "Entidade_1" é uma entidade dependente;
- b) "rela_A" indica que o conjunto de entidades que representam um subtipo ou subclassificação da "Entidade_1" está incompleto;
- c) "rela_C" é um relacionamento onde cada instância da entidade filho está relacionada a zero ou a uma instância da entidade pai;



- d) "rela_D" indica que "Entidade_3" se relaciona com uma ou mais "Entidade_4";
e) "rela_B" é um relacionamento onde cada instância da entidade filho está relacionada a uma ou mais instâncias da entidade pai.

14. Ano: 2015 Banca: FGV Órgão: TJ-RO Cargo: Analista de Sistemas

Considere o diagrama ER, representado pela notação IDEF1X e contendo as entidades A e B, mostrado a seguir.



Considere ainda a figura de um relacionamento a seguir.



A conexão dessas entidades por meio do relacionamento mostrado, na direção em que se encontra, nesse caso provoca o estabelecimento, entre as duas entidades A e B, de um relacionamento:

- A) 1:1
- B) 1:N
- C) N:1
- D) N:M
- E) 1:0

15. Ano: 2015 Banca: FGV Órgão: TCE-SE Cargo: Analista de Tecnologia da Informação

Diagramas entidade-relacionamento na notação IDEF1X distinguem relacionamentos identificadores e não identificadores. A presença de um relacionamento identificador faz com que:

- A) os atributos que compõem a chave estrangeira correspondente possam assumir valores nulos;
- B) a cardinalidade do relacionamento torne-se, obrigatoriamente, 1:1;
- C) os atributos que compõem a chave estrangeira correspondente passem a compor a chave primária da tabela estrangeira;
- D) os atributos que compõem a chave estrangeira constituam, por si só, uma chave candidata da tabela estrangeira;
- E) seja estabelecida uma relação de especialização entre as duas entidades conectadas.

16. Ano: 2014 Banca: FGV Órgão: TJ-GO Cargo: Analista Judiciário - Análise de Sistemas

Em algumas das questões que seguem desta disciplina, o banco de dados simplificado, denominado COPA_BD, será utilizado como referência.



DESCRIÇÃO DO BANCO DE DADOS COPA_BD

O banco de dados armazena informações sobre os jogos de um grupo de países na fase de classificação da Copa do Mundo, na qual os times jogam entre si. É constituído por quatro tabelas, cujos atributos e instâncias são as que seguem.

País		Jogo		Participação				Gol				
nomePaís		idJogo	dataJogo	nomePaís	idJogo	papel	pontos	idJogo	nomePaís	nomeAutor	tempo	natureza
Brasil		1	12/06/2014	Brasil	1	M	3	1	Brasil	Neymar	28	N
Croácia		2	13/06/2014	Croácia	1	V	0	1	Brasil	Neymar	70	N
Camarões		3	17/06/2014	México	2	M	3	1	Croácia	Marcelo	10	C
México		4	18/06/2014	Camarões	2	V	0	1	Brasil	Oscar	90	N
		5	23/06/2014	Brasil	3	M	1	2	México	Peralta	85	N
		6	23/06/2014	Croácia	4	M	0	4	Croácia	Olic	15	N
				Croácia	4	V	3	4	Croácia	Perisic	19	N
				México	5	M	0	4	Croácia	Mandzukic	40	N
				Camarões	6	M	0	4	Croácia	Mandzukic	76	N
				Brasil	6	V	3	5	Croácia	Perisic	80	N
								5	México	R Márquez	34	N
								5	México	J Hernandez	78	N
								5	México	Guardado	85	N
								6	Brasil	Neymar	15	N
								6	Brasil	Neymar	23	N
								6	Brasil	Fernandinho	60	N
								6	Brasil	Fred	70	N
								6	Camarões	Matip	35	N

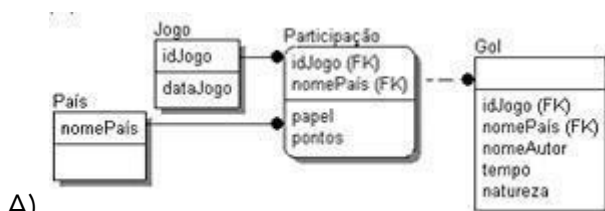
Observações:

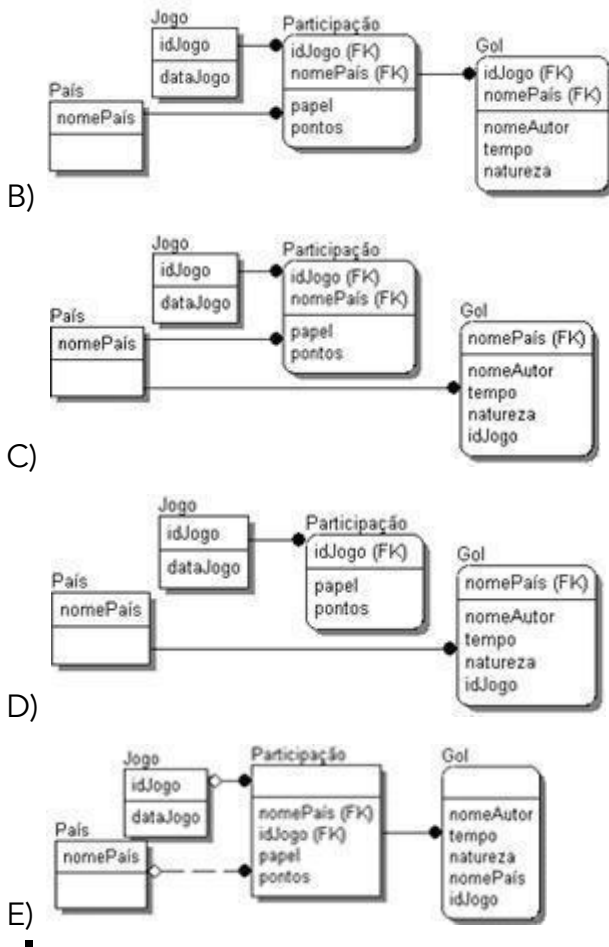
Cada registro na tabela Participação representa um dos times que participaram de um determinado jogo, no papel de mandante ou visitante, juntamente com o número de pontos obtidos no jogo (um gol pode ser normal ou contra);

Cada registro na tabela Gol representa um gol, contra ou a favor, feito pelo jogador no tempo indicado;

Chaves primárias, candidatas e estrangeiras ainda não foram estabelecidas.

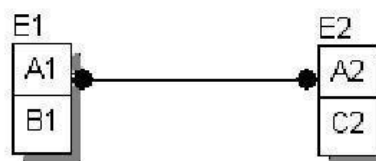
O diagrama ER que melhor representa o banco de dados COPA_BD, considerando-se sua descrição e instâncias, é:





17. Ano: 2014 Banca: FGV Órgão: DPE-RJ Cargo: Técnico Superior Especializado - Administração de Dados

Observe o diagrama apresentado a seguir.



Na implementação desse modelo num banco de dados relacional, é preciso

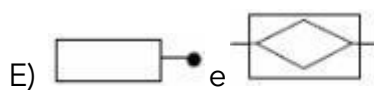
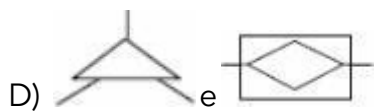
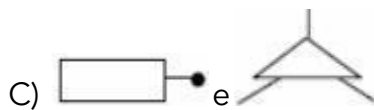
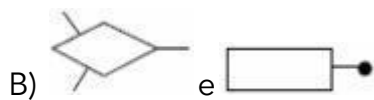
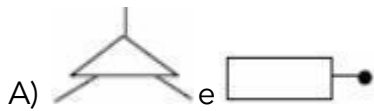
- A) eliminar o relacionamento entre E1 e E2 e criar uma hierarquia de generalização.
- B) especificar precisamente a cardinalidade do relacionamento entre E1 e E2.
- C) migrar os atributos de E1 e E2 para uma nova entidade, haja vista a presença do relacionamento N:M.
- D) migrar os atributos de E2 para E1, haja vista a existência do relacionamento 1:1.
- E) resolver o relacionamento N:M, por meio da criação de uma entidade intermediária.

18. Ano: 2009 Banca: FGV Órgão: MEC Cargo: Analista de Sistemas



O Modelo de dados é representado através de um modelo entidade-relacionamento - modeloER, enquanto que o - diagrama entidade-relacionamento (DER) constitui a representação gráfica do modeloER.

No que diz respeito à simbologia utilizada, para globalização /especialização e entidade associativa são empregados, respectivamente, os seguintes símbolos:



19. Ano: 2010 Banca: FGV Órgão: DETRAN-RN Cargo: Programador de computador

Sobre o modelo de entidade-relacionamento, assinale a alternativa correta:

- A) Uma entidade é um objeto no mundo real que pode ser identificada de forma unívoca em relação a todos os outros objetos.
- B) Define-se por "conjunto de entidades", entidades de tipos diferentes com propriedades diferentes.
- C) Uma entidade é uma associação entre vários relacionamentos.
- D) As entidades são utilizadas unicamente para efetuar o mapeamento das cardinalidades.
- E) Uma única entidade pode conter somente relacionamentos "um para um".

20. Ano: 2010 Banca: FGV Órgão: DETRAN-RN Cargo: Programador de computador

Assinale a alternativa que corresponde ao recurso do modelo de entidade-relacionamento, cuja definição é "ser um conjunto de um ou mais atributos que, tomados coletivamente, permite-se identificar de maneira unívoca uma entidade em um conjunto de entidades":

- A) Chave primária.
- B) Superchave.



- C) Especialização.
- D) Generalização.
- E) Herança de atributo.

21. Ano: 2010 Banca: FGV Órgão: DETRAN-RN Cargo: Administrador de banco de dados

Para um conjunto de relacionamentos R BINÁRIO entre os conjuntos de entidades A e B, o mapeamento das cardinalidades deve seguir, EXCETO:

- A) Um para um.
- B) Um para muitos.
- C) Um para ele mesmo.
- D) Muitos para muitos.
- E) Muitos para um.

22. Ano: 2009 Banca: FGV Órgão: MEC Cargo: Administrador de banco de dados

Um atributo, em um modelo de entidade-relacionamento, possui "sub-atributos" em sua nomenclatura que podem ou não ser do mesmo tipo e que são agregados a ele no mundo real.

Esse atributo é definido como:

- A) um atributo chave.
- B) um atributo derivado.
- C) um atributo composto.
- D) um atributo multivalorado.
- E) um atributo monovalorado.

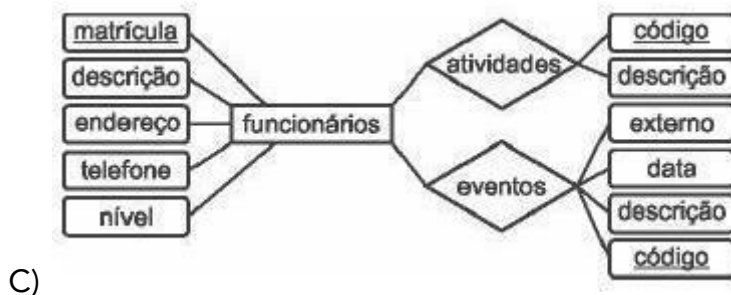
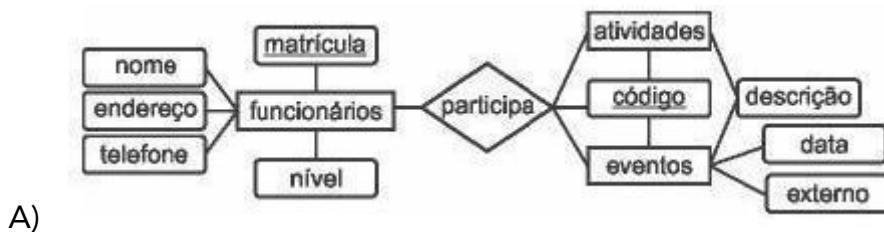
23. Ano: 2008 Banca: FGV Órgão: Senado Federal Cargo: Analista de Suporte de Sistemas

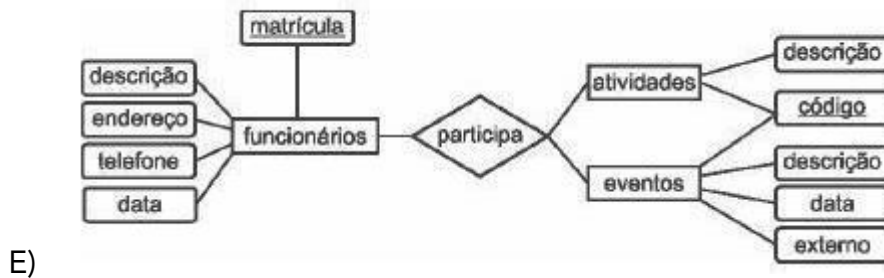
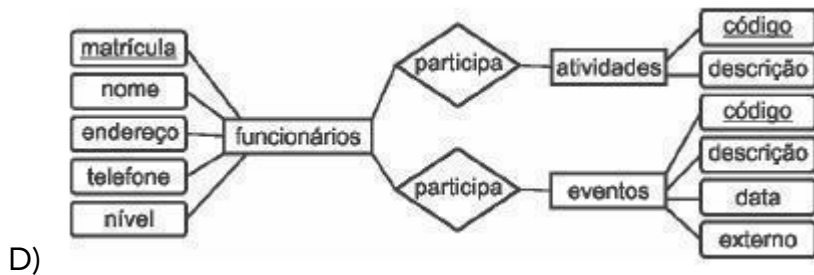
O Senado Federal deseja manter informações sobre seus funcionários e, para isso, estabeleceu as premissas abaixo listadas:



- Cada funcionário possui um único número de matrícula, nome, endereço e telefone. Os funcionários podem participar de atividades como cursos de autoaperfeiçoamento e palestras e dos eventos realizados pelo Senado Federal.
- Os eventos podem ser externos ou internos. Todos os funcionários podem participar dos eventos, considerando o nível funcional e mediante apreciação do órgão responsável.
- As atividades são identificadas por um código, sendo desejável que se armazene também o nome da atividade. Cada evento também é identificado por um código. É necessário que se saiba a descrição e a data de cada evento. É importante ainda que o Senado Federal conheça a participação de cada funcionário em cada atividade ou evento.

O Diagrama Entidade-Relacionamento está indicado em:





24. Ano: 2009 Banca: FGV Órgão: MEC Cargo: Administrador de banco de dados

A respeito dos conceitos básicos do Modelo de Entidade-Relacionamento, analise as afirmativas a seguir:

- I. A chave primária de uma entidade é o conjunto mínimo de atributos (um ou mais) que permitem identificar unicamente uma entidade em um conjunto de entidades.
- II. Entidades Fortes são aquelas que não possuem atributos suficientes para formar uma chave primária.
- III. As entidades fortes dependem existencialmente de entidades fracas.

Assinale:

- A) se somente a afirmativa I estiver correta.
- B) se somente as afirmativas I e II estiverem corretas.
- C) se somente as afirmativas I e III estiverem corretas.
- D) se somente as afirmativas II e III estiverem corretas.
- E) se todas as afirmativas estiverem corretas.

25. Ano: 2009 Banca: FGV Órgão: MEC Cargo: Administrador de banco de dados

Com relação a um Banco de Dados, analise as afirmativas a seguir:

- I. Uma tabela no banco de dados relacional pode ser derivada de uma entidade ou de um relacionamento N:M (muitos para muitos), a partir de um modelo entidade-relacionamento.
- II. Quando um banco de dados relacional possui nomes idênticos de colunas dentro de uma tabela, estabelece-se um relacionamento hierárquico entre essas colunas.
- III. As regras de derivação de um modelo entidade-relacionamento para o modelo físico são idênticas para bancos de dados relacionais, em rede ou hierárquicos.



Assinale:

- A) se somente a afirmativa I estiver correta.
- B) se somente as afirmativas I e II estiverem corretas.
- C) se somente as afirmativas I e III estiverem corretas.
- D) se somente as afirmativas II e III estiverem corretas.
- E) se todas as afirmativas estiverem corretas.

26. Ano: 2010 Banca: FGV Órgão: BADESC Cargo: Analista de Sistemas

No intuito de determinar, entre duas entidades, se um relacionamento do tipo N:M possui um atributo, aplica-se um teste com a descrição do referido atributo.

Esse teste deve:

- A) conter somente a entidade que deve conter o atributo.
- B) conter as duas entidades que participam do relacionamento.
- C) conter nenhuma das entidades participantes do relacionamento.
- D) conter somente a entidade em que o atributo não deve se encontrar.
- E) conter apenas uma das entidades que participa do relacionamento.

27. Ano: 2010 Banca: FGV Órgão: BADESC Cargo: Analista de Sistemas

Assinale a alternativa que apresenta as características de uma entidade fraca.

- A) Possui identificação própria ou sua existência depende de uma outra denominada de forte.
- B) Não possui identificação própria ou sua existência depende de uma outra denominada de forte.
- C) Possui identificação própria ou sua existência não depende de uma outra denominada de forte.
- D) Possui identificação própria ou sua existência depende de uma outra não denominada de forte.
- E) Não possui identificação própria ou sua existência não depende de uma outra denominada de forte.

28. Ano: 2010 Banca: FGV Órgão: BADESC Cargo: Analista de Sistemas

A chave estrangeira se encontra na própria tabela de um autorelacionamento do(s) tipo(s):

- A) 1:1 e 1:N
- B) 1:1 e N:N
- C) 1:N e N:N
- D) somente N:N
- E) 1:1, 1:N e N:N



29. Ano: 2010 Banca: FGV Órgão: DETRAN-RN Cargo: Administrador de banco de dados
"Mapeamento estabelecido entre duas classes de coisas, ou objetos que são visualizados através da abstração". Tal afirmativa refere-se:

- A) Agregação binária.
- B) Agregação de abstração.
- C) Generalização de abstração.
- D) Cardinalidade.
- E) Vetorizar.

30. Ano: 2014 Banca: FGV Órgão: DPE-RJ Cargo: Técnico Superior Especializado -
Administração de Dados

Banco de dados BD_EXEMPLO - descrição

O banco de dados é constituído pelas tabelas *Candidato*, *Prova* e *Avaliação*, cujas colunas e respectivas instâncias são mostradas a seguir. NULL representa um valor não preenchido.

Candidato	
inscrição	candidatoNome
101	João
102	Maria
105	Gabriela
106	João

Prova	
provaNome	data
Português	12/01/2014
Matemática	12/01/2014
Prática	19/01/2014

Avaliação		
inscrição	provaNome	nota
101	Português	10
102	Português	8
105	Português	3
106	Português	5
101	Matemática	7
102	Matemática	4
105	Matemática	8
101	Prática	5
102	Prática	5
105	Prática	NULL
106	Prática	4

Esquema relacional:

Candidato (inscrição, candidatoNome)

Prova (provaNome, data)

Avaliação (inscrição, provaNome, nota)

Chaves primárias (primary keys):

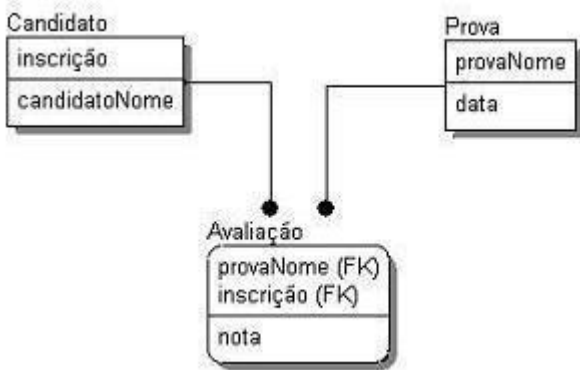
- a coluna **inscrição** constitui a chave primária da tabela **Candidato**;
- a coluna **provaNome** constitui a chave primária
- as colunas **inscrição** e **provaNome**, em conjunto, constituem a chave primária da tabela **Avaliação**.

Chaves estrangeiras (foreign keys):

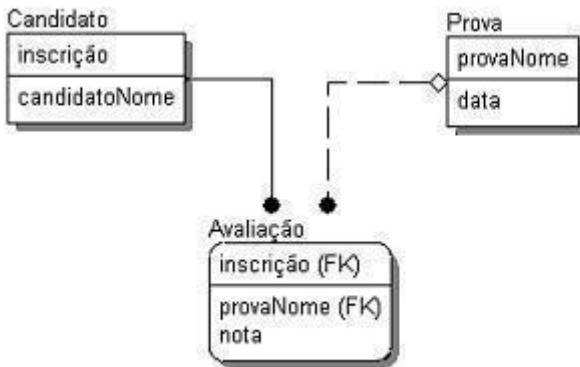
- a coluna **inscrição**, da tabela **Avaliação**, constitui uma chave estrangeira que referencia a tabela **Candidato**;
- a coluna **provaNome**, da tabela **Avaliação**, constitui uma chave estrangeira que referencia a tabela **Prova**.



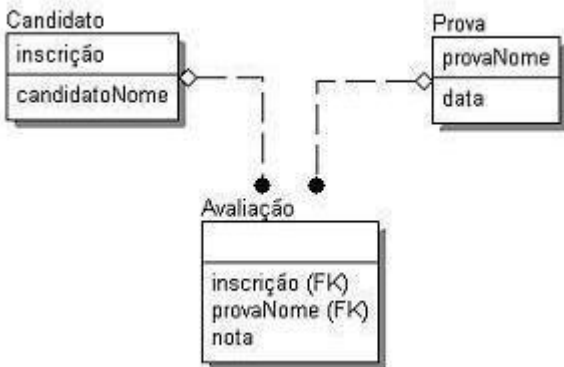
O diagrama que melhor representa o esquema do banco é



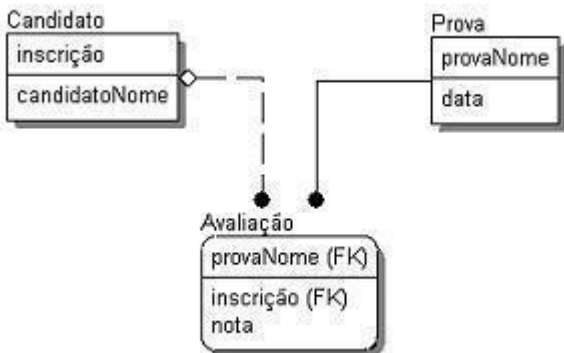
A)



B)

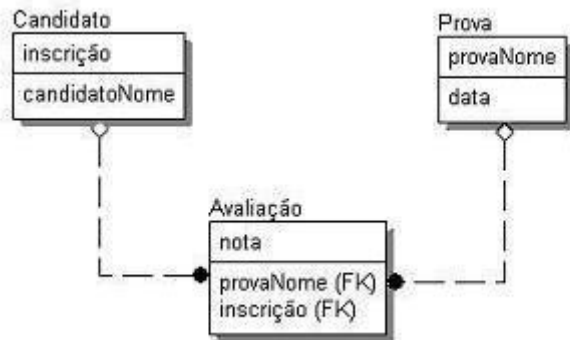


C)



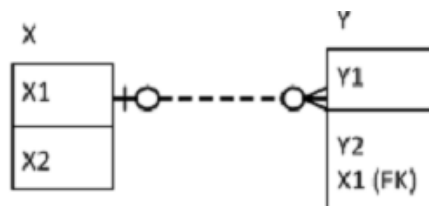
D)





E)

31. Ano: 2015 Banca: FGV Órgão: TJ-PI Cargo: Analista Judiciário
Analisar o diagrama ER construído sob a notação IDEF1X.

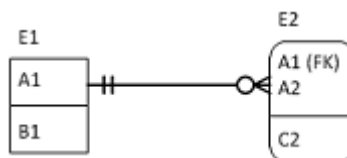


Está correto concluir que:

- A) cada instância de X está relacionada a uma única instância de Y;
- B) cada instância de X está relacionada a zero, uma ou mais instâncias de Y;
- C) cada instância de Y está relacionada a uma única instância de X;
- D) cada instância de Y está relacionada a zero, uma ou mais instâncias de X;
- E) cada instância de Y está relacionada a uma ou mais instâncias de X.

32. Ano: 2016 Banca: FGV Órgão: CODEBA Cargo: Analista - Tecnologia da Informação

Em geral, os gerenciadores de bancos de dados relacionais permitem que seja estabelecido o procedimento a ser adotado quando um registro referenciado por uma chave estrangeira (foreign key) é deletado, ou tem seu valor alterado (update). No diagrama IDEF1X mostrado a seguir, representado com anotação pé-de-galinha, as tabelas E1 e E2 possuem um relacionamento entre si.



Assinale a combinação que seria adequada na implementação do relacionamento da figura.

- A) On delete cascade; on update set null.
- B) On delete set null; on update cascade.
- C) On delete cascade; on update cascade.
- D) On delete set null; on update set null.



E) On delete restrict; on update set null.

GABARITO

01	02	03	04	05	06
E	D	C	C	B	D
07	08	09	10	11	12
D	C	C	D	E	B
13	14	15	16	17	18
D	A	C	A	E	D
19	20	21	22	23	24
A	B	C	C	D	A
25	26	27	28	29	30
A	B	B	A	A	A
31	32				
B	C				



LISTA DE QUESTÕES - MULTIBANCAS

1. FUNDATEC - ANC (PROCERGS)/PROCERGS/Administração de Dados/2023

Assinale a alternativa que NÃO é um tipo de atributo presente em bancos de dados.

- a) Atributo derivado.
- b) Atributo composto.
- c) Atributo chave.
- d) Atributo redundante.
- e) Atributo multivalorado.

2. FUNDATEC - ANC (PROCERGS)/PROCERGS/Administração de Dados/2023

Qual a diferença entre as abordagens bottom-up e top-down na modelagem de banco de dados?

- a) Bottom-up: parte de entidades individuais para relacionamentos. Top-down: parte dos relacionamentos para entidades individuais.
- b) Bottom-up: é mais indicada para modelos complexos. Top-down: é mais indicada para modelos simples.
- c) Bottom-up: é mais rápido e fácil de implementar. Top-down: é mais demorado e complexo de implementar.
- d) Bottom-up: é mais indicada para bancos de dados relacionais. Top-down: é mais indicada para bancos de dados NoSQL.
- e) Bottom-up: é mais eficiente para consultas complexas. Top-down: é mais eficiente para consultas simples.



GABARITO

01	02
D	A



ESSA LEI TODO MUNDO CONHECE: PIRATARIA É CRIME.

Mas é sempre bom revisar o porquê e como você pode ser prejudicado com essa prática.



1 Professor investe seu tempo para elaborar os cursos e o site os coloca à venda.



2 Pirata divulga ilicitamente (grupos de rateio), utilizando-se do anonimato, nomes falsos ou laranjas (geralmente o pirata se anuncia como formador de "grupos solidários" de rateio que não visam lucro).



3 Pirata cria alunos fake praticando falsidade ideológica, comprando cursos do site em nome de pessoas aleatórias (usando nome, CPF, endereço e telefone de terceiros sem autorização).



4 Pirata compra, muitas vezes, clonando cartões de crédito (por vezes o sistema anti-fraude não consegue identificar o golpe a tempo).



5 Pirata fere os Termos de Uso, adultera as aulas e retira a identificação dos arquivos PDF (justamente porque a atividade é ilegal e ele não quer que seus fakes sejam identificados).



6 Pirata revende as aulas protegidas por direitos autorais, praticando concorrência desleal e em flagrante desrespeito à Lei de Direitos Autorais (Lei 9.610/98).



7 Concurseiro(a) desinformado participa de rateio, achando que nada disso está acontecendo e esperando se tornar servidor público para exigir o cumprimento das leis.



8 O professor que elaborou o curso não ganha nada, o site não recebe nada, e a pessoa que praticou todos os ilícitos anteriores (pirata) fica com o lucro.



Deixando de lado esse mar de sujeira, aproveitamos para agradecer a todos que adquirem os cursos honestamente e permitem que o site continue existindo.