

**Aula 00 - Prof. Leandro
Signori**

*Prefeitura de Caraíbas-BA -
Conhecimentos Gerais - 2024
(Pós-Edital)*

Autor:
Leandro Signori, Sergio Henrique

18 de Dezembro de 2024

Índice

1) Apresentação do Curso de Atualidades	10
2) Apresentação do Curso de Conhecimentos Gerais	13
3) Globalização	15
4) Blocos Econômicos	23
5) Descobertas e Inovações Científicas na Atualidade e seus Impactos na Sociedade Contemporânea	30
6) Guerra Fria 2.0	37
7) Estados Unidos	40
8) China	47
9) Resumo - Globalização	53
10) Resumo - Blocos Econômicos	55
11) Descobertas e Inovações Científicas na Atualidade e seus Impactos na Sociedade Contemporânea - Resum	57
12) Resumo - Guerra Fria 2	59
13) Resumo - Estados Unidos	60
14) Resumo - China	62
15) Questões Comentadas - Globalização - Multibancas	63
16) Questões Comentadas - Blocos Econômicos - Multibancas	91
17) Questões Comentadas - Guerra Fria 2.0 - Multibancas	106
18) Questões Comentadas - Estados Unidos - Multibancas	113
19) Questões Comentadas - China - Multibancas	115
20) Lista de Questões - Globalização - Multibancas	125
21) Lista de Questões - Blocos Econômicos - Multibancas	136
22) Lista de Questões - Guerra Fria 2.0 - Multibancas	144
23) Lista de Questões - Estados Unidos - Multibancas	148
24) Lista de Questões - China - Multibancas	150
25) Islamismo, Mundo Árabe e Oriente Médio	155
26) A Questão Israel-Palestina	171
27) Afeganistão	175
28) Terrorismo	179



Índice

29) Resumo - Islamismo, Mundo Árabe e Oriente Médio	182
30) Resumo - A Questão Israel-Palestina	186
31) Resumo - Afeganistão	187
32) Resumo - Terrorismo	188
33) Questões Comentadas - Islamismo, Mundo Árabe e Oriente Médio - Multibancas	189
34) Questões Comentadas - A Questão Israel-Palestina - Multibancas	202
35) Questões Comentadas - Afeganistão - Multibancas	211
36) Questões Comentadas - Terrorismo - Multibancas	214
37) Lista de Questões - Islamismo, Mundo Árabe e Oriente Médio - Multibancas	216
38) Lista de Questões - A Questão Israel-Palestina - Multibancas	223
39) Lista de Questões - Afeganistão - Multibancas	226
40) Lista de Questões - Terrorismo - Multibancas	228
41) Migrações	229
42) Organismos, Organizações e Grupos Internacionais	235
43) Guerra entre Rússia e Ucrânia	245
44) América Latina	253
45) Separatismos na Europa	260
46) Pandemia de Covid-19	262
47) Resumo - Migrações	266
48) Resumo - Organismos, Organizações e Grupos Internacionais	268
49) Resumo - Guerra entre Rússia e Ucrânia	271
50) Resumo - América Latina	272
51) Resumo - Separatismos na Europa	274
52) Resumo - Pandemia de Covid-19	275
53) Questões Comentadas - Migrações - Multibancas	276
54) Questões Comentadas - Organismos, Organizações e Grupos Internacionais - Multibancas	294
55) Questões Comentadas - Guerra entre Rússia e Ucrânia - Multibancas	307
56) Questões Comentadas - América Latina - Multibancas	332



Índice

57) Questões Comentadas - Separatismos na Europa - Multibancas	341
58) Questões Comentadas - Pandemia de Covid-19 - Multibancas	344
59) Lista de Questões - Migrações - Multibancas	367
60) Lista de Questões - Organismos, Organizações e Grupos Internacionais - Multibancas	374
61) Lista de Questões - Guerra entre Rússia e Ucrânia - Multibancas	380
62) Lista de Questões - América Latina - Multibancas	390
63) Lista de Questões - Separatismos na Europa - Multibancas	395
64) Lista de Questões - Pandemia de Covid-19 - Multibancas	397
65) Tópicos Sobre Economia Brasileira	407
66) Agropecuária e Agronegócio	415
67) Indústria	419
68) Transportes	421
69) Energia	426
70) Resumo - Tópicos Sobre Economia Brasileira	441
71) Resumo - Agropecuária e Agronegócio	443
72) Resumo - Transportes	445
73) Resumo - Energia	446
74) Questões Comentadas - Tópicos Sobre Economia Brasileira - Multibancas	448
75) Questões Comentadas - Agropecuária e Agronegócio - Multibancas	458
76) Questões Comentadas - Indústria - Multibancas	464
77) Questões Comentadas - Transportes - Multibancas	467
78) Questões Comentadas - Energia - Multibancas	472
79) Lista de Questões - Tópicos Sobre Economia Brasileira - Multibancas	487
80) Lista de Questões - Agropecuária e Agronegócio - Multibancas	492
81) Lista de Questões - Indústria - Multibancas	495
82) Lista de Questões - Transportes - Multibancas	497
83) Lista de Questões - Energia - Multibancas	500
84) Organização do Estado Brasileiro	507



Índice

85) Censo Demográfico	512
86) O Brasil e a Questão Migratória	524
87) IDH	527
88) Resumo - Organização do Estado Brasileiro	528
89) Censo Demográfico - Resumo	530
90) Resumo - O Brasil e a Questão Migratória	531
91) Resumo - IDH	532
92) Questões Comentadas - Organização do Estado brasileiro - Multibancas	533
93) Questões Comentadas - Censo Demográfico - Multibancas	538
94) Questões Comentadas - O Brasil e a Questão Migratória - Multibancas	543
95) Questões Comentadas - IDH - Multibancas	547
96) Lista de Questões - Organização do Estado brasileiro - Multibancas	549
97) Lista de Questões - Censo Demográfico - Multibancas	552
98) Lista de Questões - O Brasil e a Questão Migratória - Multibancas	554
99) Lista de Questões - IDH - Multibancas	557
100) Doenças Infecciosas no Brasil	559
101) Violência e Segurança Pública	563
102) Educação Brasileira	579
103) Resumo - Doenças Infecciosas no Brasil	587
104) Resumo - Violência e Segurança Pública	588
105) Resumo - Educação Brasileira	592
106) Questões Comentadas - Doenças Infecciosas no Brasil - Multibancas	594
107) Questões Comentadas - Violência e Segurança Pública - Multibancas	599
108) Questões Comentadas - Educação Brasileira - Multibancas	607
109) Lista de Questões - Doenças Infecciosas no Brasil - Multibancas	612
110) Lista de Questões - Violência e Segurança Pública - Multibancas	615
111) Lista de Questões - Educação Brasileira - Multibancas	619
112) Desenvolvimento Sustentável	622



Índice

113) Mudanças Climáticas	632
114) A Importância da Amazônia	639
115) A Questão Hídrica	645
116) Agrotóxicos	652
117) A Questão Indígena no Brasil	658
118) Resumo - Desenvolvimento Sustentável	664
119) Resumo - Mudanças Climáticas	667
120) Resumo - Amazônia	669
121) Resumo - A Questão Hídrica	670
122) Resumo - Agrotóxicos	671
123) Resumo - A Questão Indígena	673
124) Questões Comentadas - Desenvolvimento Sustentável - Multibancas	674
125) Questões Comentadas - Mudanças Climáticas - Multibancas	685
126) Questões Comentadas - Amazônia - Multibancas	715
127) Questões Comentadas - A Questão Hídrica - Multibancas	731
128) Questões Comentadas - Agrotóxicos - Multibancas	735
129) Questões Comentadas - A Questão Indígena - Multibancas	739
130) Lista de Questões - Desenvolvimento Sustentável - Multibancas	745
131) Lista de Questões - Mudanças Climáticas - Multibancas	750
132) Lista de Questões - Amazônia - Multibancas	763
133) Lista de Questões - A Questão Hídrica - Multibancas	770
134) Lista de Questões - Agrotóxicos - Multibancas	772
135) Lista de Questões - A Questão Indígena - Multibancas	775
136) Retrospectiva de Atualidades	779
137) Retrospectivas de Atualidades - Outubro de 2024	780
138) Apresentação - Simulado de Atualidades	809
139) Simulados de Atualidades	810
140) Simulado de Atualidades - Janeiro 2022	811



Índice

141) Simulado de Atualidades - Fevereiro 2022	822
142) Simulado de Atualidades - Março 2022	830
143) Simulado de Atualidades - Abril 2022	839
144) Simulado de Atualidades - Maio 2022	848
145) Simulado de Atualidades - Junho 2022	857
146) Simulado de Atualidades - Julho 2022	867
147) Simulado de Atualidades - Agosto de 2022	875
148) Simulado de Atualidades - Setembro de 2022	886
149) Simulado de Atualidades - Outubro de 2022	897
150) Simulado de Atualidades - Novembro de 2022	907
151) Simulado de Atualidades - Dezembro de 2022	915
152) Simulado de Atualidades - Janeiro de 2023	932
153) Simulado de Atualidades - Fevereiro de 2023	942
154) Simulado de Atualidades - premiação do Oscar 2023	959
155) Simulado de Atualidades - Março de 2023	964
156) Simulado de Atualidades - Abril de 2023	980
157) Simulado de Atualidades - Maio de 2023	992
158) Simulado de Atualidades - Junho de 2023	1007
159) Simulado de Atualidades - Julho de 2023	1020
160) Simulado de Atualidades - Agosto de 2023	1034
161) Simulado de Atualidades - Setembro de 2023	1044
162) Simulado de Atualidades - Outubro de 2023	1054
163) Simulado de Atualidades - Novembro de 2023	1067
164) Simulado de Atualidades - Dezembro de 2023	1079
165) Simulado de Atualidades - Janeiro de 2024 - Lista de Questões	1091
166) Simulado de Atualidades - Janeiro de 2024 - Questões Comentadas	1099
167) Simulado de Atualidades - Fevereiro de 2024 - Lista de Questões	1119
168) Simulado de Atualidades - Março de 2024 - Lista de Questões	1133



Índice

169) Simulado de Atualidades - Abril de 2024 - Lista de Questões	1142
170) Simulado de Atualidades - Abril de 2024 - Questões Comentadas	1150
171) Simulado de Atualidades - Maio de 2024 - Lista de Questões	1170
172) Simulado de Atualidades - Junho de 2024	1185
173) Simulado de Atualidades - Julho de 2024 - Lista de Questões	1194
174) Simulado de Atualidades - Agosto a Outubro de 2024	1205
175) Simulado de Atualidades - Outubro de 2024 - Lista de Questões	1217
176) Cultura Brasileira	1228
177) Cultura Internacional	1253
178) Questões Comentadas - Cultura Brasileira - Multibancas	1258
179) Questões Comentadas - Cultura Internacional - Multibancas	1273
180) Lista de Questões - Cultura Brasileira - Multibancas	1278
181) Lista de Questões - Cultura Internacional - Multibancas	1286
182) Ética e Cidadania	1290
183) Questões Comentadas - Ética e Cidadania - Multibancas	1294
184) Lista de Questões - Ética e Cidadania - Multibancas	1305
185) Copa do Mundo de Futebol de 2022	1312
186) Questões Comentadas - Copa do Mundo de Futebol de 2022 - Multibancas	1316
187) Lista de Questões - Copa do Mundo de Futebol de 2022 - Multibancas	1318
188) Chuvas extremas, enchentes e deslizamentos de encostas no Brasil	1320
189) Eleições de 2022 no Brasil	1325
190) Questões Comentadas - Eleições de 2022 no Brasil - Multibancas	1340
191) Lista de Questões - Eleições de 2022 no Brasil - Multibancas	1345
192) Movimentos Sociais	1347
193) Terremoto na Turquia e Síria	1352
194) Varíola dos macacos	1357
195) Questões Comentadas - Varíola dos Macacos - Multibancas	1361
196) Lista de Questões - Varíola dos Macacos - Multibancas	1363



APRESENTAÇÃO DO CURSO DE ATUALIDADES

Caros alunos,

É com imenso prazer que nos encontramos no **ESTRATÉGIA CONCURSOS** para esta jornada em busca de um excelente resultado neste concurso público.

Sou o **Professor Leandro Signori**, ingressei no serviço público com 21 anos e já trabalhei nas três esferas da administração pública – municipal, estadual e federal - o que tem sido de grande valia para a minha formação profissional – servidor e docente. Nas Prefeituras de Porto Alegre e São Leopoldo, desenvolvi minhas atividades nas respectivas secretarias municipais de meio ambiente; na administração estadual, fui servidor da Companhia Riograndense de Saneamento (CORSAN), estatal do governo do Rio Grande do Sul.

Durante muitos anos, fui também servidor público federal, atuando como geógrafo no Ministério da Integração Nacional, onde trabalhei com planejamento e desenvolvimento territorial e regional.

Graduei-me em **Geografia – Licenciatura** - pela Universidade Federal do Rio Grande do Sul (UFRGS) e – **Bacharel** - pelo UNICEUB em Brasília. A oportunidade de exercer a docência e poder alcançar o conhecimento necessário para a aprovação dos meus alunos me inspira diariamente e me traz grande satisfação. Como professor em cursos preparatórios *on line* e presencial, ministro as disciplinas de Atualidades, Conhecimentos Gerais, Realidade Brasileira, Geografia e Conhecimentos Regionais dos Estados e Municípios.

Junto comigo, no Fórum de Dúvidas e em outras atividades do curso, está o **Professor Matheus Signori**, Bacharel em Geografia pela Universidade Federal do Rio Grande do Sul (UFRGS).

Feita a apresentação, agora vamos falar do curso.

Atualidades é uma disciplina que deve ser estudada como as demais, fazendo um curso preparatório, compreendendo a teoria e resolvendo centenas de questões da matéria.

Digo isso porque muitos concurseiros pensam que para estar preparado para a prova de Atualidades é só acompanhar o noticiário, ler jornais e revistas. Ledo engano! No momento da prova, percebem o quanto estavam errados.

Uma boa preparação na disciplina começa por conhecer o contexto, os conceitos e as vinculações históricas de temas relevantes que conformam o complexo mundo em que vivemos. No nosso curso, vamos trazer estes temas e lhe ensinar nesse enfoque pedagógico.

Atualidades também não é o show do milhão ... 😊 ... em que o candidato tem que saber de tudo, ser uma enciclopédia ambulante. Embora a disciplina seja vasta, há um grupo de assuntos que comumente são cobrados nas provas.

– E o que fazemos no curso?

– Ora! Com a experiência que temos, selecionamos os assuntos contextuais e factuais que as bancas gostam de cobrar na prova.

Dessa forma, **ao final do curso, você terá o suporte intelectual necessário para alcançar um excelente desempenho em Atualidades, na hora da prova.**

Além de estudar a teoria, é fundamental que você resolva muitas questões. Assim, até o final deste curso, teremos mais de 300 questões comentadas de diversas bancas, no estilo certo/errado e múltipla escolha.



Utilizamos questões de diversas bancas, não somente da banca do seu concurso, por que, como o nome diz, a nossa disciplina é Atualidades, na qual a maioria das questões se desatualizam rapidamente. Poucos meses, às vezes dias, após o concurso, a questão já está desatualizada.

Também utilizamos questões de anos anteriores, para termos uma maior quantidade de questões. Sim, pois temos muitas questões de anos anteriores que não se desatualizaram. São questões que cobraram aspectos contextuais e/ou conceituais, que permanecem atuais nos dias de hoje.

Se colocarmos no curso somente questões do ano atual e do ano anterior e do estilo da banca do seu concurso, vamos ter poucas questões, assim, muitos alunos vão reclamar da pouca quantidade de questões.

Desta forma, com questões de diversas bancas, dos dois estilos, de anos recentes e de anos anteriores (mas atualizadas) conseguimos ter um bom número de questões para vocês praticarem.

No entanto, se algum aluno não concordar, está livre para resolver somente questões do ano atual e anterior, somente da banca do seu concurso e no estilo da banca do seu concurso. É uma escolha de cada aluno. É só escolher as que quer resolver e as que não quer resolver.

De minha parte, recomendo que resolvam todas, pois foram criteriosamente selecionadas e são úteis para o estudo de vocês. Se não fossem, não estariam no nosso curso.

Na parte teórica seremos objetivos, todavia, sem deixar de fora nenhum conteúdo e sem nos esquecermos dos detalhes cobrados pelas bancas. Vamos ver as pegadinhas e as cascas de banana que são colocadas para escorregarmos na questão. Também vou usar figuras, tabelas, gráficos e mapas de forma a sintetizar e esquematizar o conteúdo.

Contudo, Atualidades é uma disciplina extremamente dinâmica, especialmente no que ocorre no seu dia a dia. É uma tarefa hercúlea manter um curso de Atualidades sempre atualizado. Para suprir essa lacuna, mensalmente realizamos um aulão ao vivo, gratuito, de retrospectiva do mês anterior. Essas aulas são realizadas pelo canal do Estratégia Concursos no YouTube. Elas ocorrem entre o dia 1º e o dia 03 de cada mês. Uma semana antes, começam a ser divulgadas no site do Estratégia Concursos. Assim, é só você acompanhar a divulgação e se inscrever para participar da aula.

Portanto, caro aluno, além das apostilas e das videoaulas, você tem que necessariamente assistir aos meus aulões mensais de retrospectiva do mês anterior.

Para quem não conseguir assistir ou quiser assistir as aulas já realizadas, é só acessar o meu canal do YouTube. Abaixo de cada vídeo tem um link onde você pode baixar o pdf da aula. Aproveite e inscreva-se no meu canal.

Os aulões também são editados e postados neste curso enquanto ele permanecer ativo para o professor. Depois disso não é mais possível fazer a postagem.

Sem mais delongas, vamos aos estudos, porque o nosso objetivo é que você tenha um excelente desempenho em Atualidades.

Para isso, além de estudar, você não pode ficar com nenhuma dúvida. Portanto, não as deixe para depois. Surgindo a dúvida, não hesite em contatar-me no nosso Fórum.

Estou aqui neste curso, muito motivado, caminhando junto com você, procurando passar o melhor conhecimento para a sua aprendizagem e sempre à disposição no Fórum de Dúvidas.

Quem quiser também pode me seguir nas minhas redes sociais: **Instagram: [profleandrosignori](#)**, **Telegram: <https://t.me/profleandrosignori>** e **YouTube: [Leandro Signori](#)**. Nelas, divulgo gabaritos extraoficiais de provas, publico artigos, compartilho notícias e informações importantes do mundo atual.



Ótimos estudos e fiquem com Deus!

Forte Abraço,

Professor Leandro Signori

“Tudo posso naquele que me fortalece.”

(Filipenses 4:13)



APRESENTAÇÃO DO CURSO DE CONHECIMENTOS GERAIS

Caros alunos,

É com imenso prazer que nos encontramos no **ESTRATÉGIA CONCURSOS** para esta jornada em busca de um excelente resultado neste concurso público.

Sou o **Professor Leandro Signori**, ingressei no serviço público com 21 anos e já trabalhei nas três esferas da administração pública – municipal, estadual e federal - o que tem sido de grande valia para a minha formação profissional – servidor e docente. Nas Prefeituras de Porto Alegre e São Leopoldo, desenvolvi minhas atividades nas respectivas secretarias municipais de meio ambiente; na administração estadual, fui servidor da Companhia Riograndense de Saneamento (CORSAN), estatal do governo do Rio Grande do Sul.

Durante muitos anos, fui também servidor público federal, atuando como geógrafo no Ministério da Integração Nacional, onde trabalhei com planejamento e desenvolvimento territorial e regional.

Graduei-me em **Geografia – Licenciatura** - pela Universidade Federal do Rio Grande do Sul (UFRGS) e – **Bacharel** - pelo UNICEUB em Brasília. A oportunidade de exercer a docência e poder alcançar o conhecimento necessário para a aprovação dos meus alunos me inspira diariamente e me traz grande satisfação. Como professor em cursos preparatórios *on line* e presencial, ministro as disciplinas de Atualidades, Conhecimentos Gerais, Realidade Brasileira, Geografia e Conhecimentos Regionais dos Estados e Municípios.

Junto comigo, no Fórum de Dúvidas e em outras atividades do curso, está o **Professor Matheus Signori**, Bacharel em Geografia pela Universidade Federal do Rio Grande do Sul (UFRGS).

Como o nome da disciplina já diz, são conhecimentos gerais, um conteúdo amplo. Mas também não é o show do milhão ... 😊 ... em que o candidato tem que saber de tudo, ser uma enciclopédia ambulante. Embora a disciplina seja vasta, há um grupo de assuntos que comumente são cobrados nas provas.

– E o que fazemos no curso?

– Ora! Com a experiência que temos, selecionamos os assuntos que as bancas mais gostam de cobrar na prova.

Dessa forma, **ao final do curso, você terá o suporte intelectual necessário para alcançar um excelente desempenho na disciplina, na hora da prova.**

Além de estudar a teoria, é fundamental que você resolva muitas questões. Assim, até o final deste curso, teremos mais de 300 questões comentadas no estilo certo/errado e múltipla escolha.

Para termos um número maior de questões, utilizamos questões de diversas bancas, não somente da banca do seu concurso. Também utilizamos questões de anos anteriores, para termos uma maior quantidade de questões. Sim, pois temos muitas questões de anos anteriores que não se desatualizaram. São questões que cobram aspectos contextuais e/ou conceituais, que permanecem atuais nos dias de hoje.

Se colocarmos no curso somente questões do ano atual e do ano anterior e do estilo da banca do seu concurso, vamos ter poucas questões, assim, muitos alunos vão reclamar da pouca quantidade de questões.

Desta forma, com questões de diversas bancas, dos dois estilos, de anos recentes e de anos anteriores (mas atualizadas) conseguimos ter um bom número de questões para vocês praticarem.



No entanto, se algum aluno não concordar, está livre para resolver somente questões do ano atual e anterior, somente da banca do seu concurso e no estilo da banca do seu concurso. É uma escolha de cada aluno. É só escolher as que quer resolver e as que não quer resolver.

De minha parte, recomendo que resolvam todas, pois foram criteriosamente selecionadas e são úteis para o estudo de vocês. Se não fossem, não estariam no nosso curso.

Na parte teórica seremos objetivos, todavia, sem deixar de fora nenhum conteúdo e sem nos esquecermos dos detalhes cobrados pelas bancas. Vamos ver as pegadinhas e as cascas de banana que são colocadas para escorregarmos na questão. Também vou usar figuras, tabelas, gráficos e mapas de forma a sintetizar e esquematizar o conteúdo.

Contudo a nossa disciplina é extremamente dinâmica, especialmente no que ocorre no seu dia a dia. É uma tarefa hercúlea manter um curso de Conhecimentos Gerais sempre atualizado. Para suprir essa lacuna, mensalmente realizamos um aulão ao vivo, gratuito, de retrospectiva do mês anterior. Essas aulas são realizadas pelo canal do Estratégia Concursos no YouTube. Elas ocorrem entre o dia 1º e o dia 03 de cada mês. Uma semana antes, começam a ser divulgadas no site do Estratégia Concursos. Assim, é só você acompanhar a divulgação e se inscrever para participar da aula.

Portanto, caro aluno, além das apostilas e das videoaulas, você tem que necessariamente assistir aos meus aulões mensais de retrospectiva do mês anterior.

Para quem não conseguir assistir ou quiser assistir as aulas já realizadas, é só acessar o meu canal do YouTube. Abaixo de cada vídeo tem um link onde você pode baixar o pdf da aula. Aproveite e inscreva-se no meu canal.

Os aulões também são editados e postados neste curso enquanto ele permanecer ativo para o professor. Depois disso não é mais possível fazer a postagem.

Sem mais delongas, vamos aos estudos, porque o nosso objetivo é que você tenha um excelente desempenho em Atualidades.

Para isso, além de estudar, você não pode ficar com nenhuma dúvida. Portanto, não as deixe para depois. Surgindo a dúvida, não hesite em contatar-me no nosso Fórum.

Estou aqui neste curso, muito motivado, caminhando junto com você, procurando passar o melhor conhecimento para a sua aprendizagem e sempre à disposição no Fórum de Dúvidas.

Quem quiser também pode me seguir nas minhas redes sociais: **Instagram: profleandrosignori**, **Telegram: <https://t.me/profleandrosignori>** e **YouTube: Leandro Signori**. Nelas, divulgo gabaritos extraoficiais de provas, publico artigos, compartilho notícias e informações importantes do mundo atual.

Ótimos estudos e fiquem com Deus!

Forte Abraço,

Professor Leandro Signori

“Tudo posso naquele que me fortalece.”

(Filipenses 4:13)



GLOBALIZAÇÃO E DESGLOBALIZAÇÃO

Ainda se fala bastante sobre globalização na atualidade. Sob o aspecto econômico, esse processo teve seu auge na década de 1990 até a crise econômica mundial de 2008. A partir dessa crise, o mundo entrou em um processo de desglobalização, ou de enfraquecimento da globalização, como preferem abordar alguns autores.

A **globalização** pode ser entendida como o **processo de integração entre povos, empresas, governos e mercadorias ao redor do planeta**. Um mundo globalizado é aquele em que **eventos políticos, econômicos, culturais e sociais estão interconectados e onde um acontecimento em um lugar tem a capacidade de ecoar por outros cantos do globo**.

O aspecto econômico é o que tem maior destaque, também o que enfrenta os maiores questionamentos e por onde caminha fundamentalmente o que se entende por desglobalização. As disputas por mercados e por influência política entre as grandes potências, notadamente os Estados Unidos e a China, têm aumentado as travas ao comércio entre os países. Decisões sobre economia e investimentos externos são bastante influenciadas pela geopolítica, ou seja, pela projeção de influência dos países pelo mundo e por seus interesses políticos nas relações internacionais.

Mas a globalização não é somente econômica, é também tecnológica, cultural e informacional. O extraordinário desenvolvimento tecnológico da atualidade, espalha inovações pelo mundo e a informação circula velozmente pelo planeta. Culturas diferentes se difundem, alcançando lugares distantes e interagindo com outras culturas.

Histórico da Globalização

A globalização é um fenômeno antigo. Os primeiros passos rumo à conformação de um mercado mundial e de uma economia global remontam aos séculos XV e XVI, com a **expansão ultramarina europeia**. A chegada de Cristóvão Colombo à América, em 1492, deu início ao que alguns historiadores chamam de primeira globalização.

O **desenvolvimento do mercantilismo** estimulou a procura de diferentes rotas comerciais da Europa para a Ásia e a África, gerando grande quantidade de riquezas para alguns países e para a grande burguesia europeia. Esses lucros, somados ao ouro e à prata extraídos das minas do continente americano forneceram a base para a Revolução Industrial no fim do século XVIII.

Por sua vez, a **Revolução Industrial** desenvolveu o trabalho assalariado e o mercado consumidor. As **descobertas científicas** e as **invenções** provocaram grande expansão dos setores industrializados e possibilitaram a exportação de produtos mundo afora.

No fim do século XIX, começam a surgir as **corporações multinacionais**, industriais e financeiras, que vão se reforçar e crescer durante o século XX. O mercado mundial estava, então, atingindo todos os continentes.



Porém a **interdependência econômica** entre os países vai ficar evidente com a depressão norte-americana de 1929 – quebra da Bolsa de Valores de Nova York - que teve consequências negativas no mundo todo.

A partir dos anos 1990, acentua-se a integração da economia global por meio da **revolução tecnológica**, especialmente no setor de telecomunicações. A internet, a rede mundial de computadores, revelou-se a mais inovadora tecnologia de comunicação e informação do planeta. As trocas de informações (dados, voz e imagens) tornaram-se quase instantâneas, o que acelerou em muito a integração das atividades econômicas.

A **revolução tecnológica possibilitou ao capital uma veloz circulação pelo globo**, facilitando os investimentos diretos e os movimentos especulativos. As cadeias produtivas se espalharam pelo mundo, com empresas transferidas (relocalizadas) para países com menor custo de produção (salários, impostos etc.).

Com avanços e freios, a globalização segue seu curso, sendo **comandada pelas principais economias ricas e desenvolvidas e pela China**, um país emergente, a segunda maior economia do mundo. Esses países são também **grandes desenvolvedores de tecnologia**, pela ação estatal ou por empresas que neles estão sediadas. As **grandes empresas transnacionais** também comandam a globalização. Com o seu poder econômico influenciam as decisões de governos e de organismos internacionais. Muitas dessas empresas são economicamente maiores que dezenas de países no mundo, com um poder que ultrapassa cada vez mais o poder das economias nacionais. O grande capital financeiro (bancos, bolsas de valores, especuladores, financistas etc.) hegemôniza o capital produtivo. Ambos estão cada vez mais entrelaçados.

A característica central desse período globalizante é a **interdependência** entre os atores econômicos globais – governos, empresas e movimentos sociais. Cabe destacar que o **desmantelamento do sistema socialista** foi um importante fator que contribuiu para a globalização e a expansão mundial do capitalismo. A derrocada dos regimes do socialismo real, a partir de 1989, fez com que os antigos países socialistas se integrassem ao mercado global capitalista nos anos subsequentes.

Nas últimas décadas, a expansão do comércio global resultou na intensificação do fluxo de capitais entre os países. A busca de maior lucratividade levou as empresas a investirem cada vez mais no mercado financeiro, que se tornou o centro da economia globalizada.

A atual mobilidade do mercado mundial permite também que grandes empresas façam a **relocalização de suas fábricas** – nome que se dá ao fechamento de unidades de produção em um local e sua abertura em outra região ou outro país. Esse mecanismo é globalmente usado para cortar gastos com mão de obra, encerrando a produção em países nos quais os salários são maiores, para organizar a produção onde há menos custos – também de impostos e infraestrutura produtiva. À medida que as nações reduzem suas barreiras comerciais no contexto da globalização, a fabricação em qualquer ponto do mundo e a exportação para outros mercados tornam-se cada vez mais rentáveis.

Características da fase atual da globalização:

- **Diminuição do poder dos Estados nacionais** em detrimento às grandes corporações multinacionais/transnacionais – Essas corporações operam em dezenas de países, empregam direta ou indiretamente, cada uma, dezenas ou centenas de milhares de trabalhadores e movimentam bilhões de dólares anualmente. No mundo globalizado, possuem grande poder de negociação e de influência sobre decisões governamentais e de organismos internacionais e atuam em prol dos seus interesses



econômicos. Podem tomar decisões que vão afetar a vida de milhares de pessoas e a economia de uma região ou regiões de um país ou do próprio país.

- **Multipolaridade** – Com distintos centros de poder, exercendo influência no campo político, econômico e militar: Estados Unidos, União Europeia, China e Japão.
- **Nova Divisão Internacional do Trabalho** – É a divisão produtiva em âmbito mundial, direcionando o que cada país ou região produz em determinado momento histórico. Na nova DIT, os países subdesenvolvidos industrializados (inclui os emergentes) fornecem produtos primários, produtos industrializados, capitais, remessas de lucros e royalties para as sedes das multinacionais e juros da dívida. Os países desenvolvidos fornecem produtos industrializados (em geral de tecnologia superior), tecnologia e capitais (empréstimos, investimentos produtivos e especulativos nos mercados financeiros). Essa divisão é a regra geral, mas não pode ser vista de forma absoluta ou estanque. Exemplo: O Brasil é um exportador de aviões de alta tecnologia, mas não é a característica predominante da sua participação na DIT, que é a dos países emergentes.
- **Predomínio do capitalismo financeiro** – O grande comércio e a grande indústria são controlados pelo poderio econômico dos bancos comerciais e outras instituições financeiras.
- **Predomínio de práticas neoliberais** – Visam a uma maior liberdade econômica e a menor participação possível do estado nas atividades econômicas e na regulação da economia.
- **Integração mundial do mercado financeiro** – A revolução nas telecomunicações propiciou a realização on-line de operações financeiras e a interdependência do segmento financeiro que opera de forma unificada pelo mundo.
- **Troca instantânea de informações** – Que também foi possibilitada pela revolução nas telecomunicações.
- **Aumento do comércio mundial**, que cresce em níveis maiores do que o PIB mundial.
- **Proliferação de blocos econômicos** – Sob a economia globalizada, esses grupos reforçam a tendência de abrir as fronteiras das nações ao livre fluxo de mercadorias e capitais, ao reduzir barreiras alfandegárias e coibir práticas protecionistas e regulamentações nacionais.
- **Seletividade das migrações** – Com muitos obstáculos à migração de trabalhadores de baixa renda em direção aos países ricos, e uma facilidade de ingresso e residência de mão de obra altamente qualificada, como cientistas e reconhecidos professores universitários, bem como de pessoas ricas que vão investir nesses países.
- **Aumento das desigualdades entre países e desigualdades sociais** – A distância que separa os países ricos dos países pobres aumentou e há uma maior concentração de riqueza em um número muito pequeno de pessoas no mundo.
- **Emergência de uma sociedade civil global** – Os problemas passam a ser vistos globalmente, o que leva a atuação em rede e com pautas globais por organizações da sociedade civil.

O Neoliberalismo

Pode-se afirmar que a atual fase da globalização tem como pilar econômico o neoliberalismo. Trata-se de um conjunto de ideias políticas e econômicas capitalistas que defende a não participação ou mínima participação do estado na economia. Segundo seus defensores, a presença do Estado na economia inibe o setor privado e freia o desenvolvimento.



Entre os princípios formadores da ideologia neoliberal presentes na globalização econômica, destacam-se:

a) Liberdade de mercado: Consiste na eliminação de todos os dispositivos que atrapalhem o livre funcionamento dos investimentos e do comércio, tais como excesso de impostos, de leis e de regras que inibam as transações financeiras ou limitem fusões e incorporações de empresas.

b) Mínima participação do Estado na economia: Traduz a crença de que o Estado é ineficiente, atrapalha o livre funcionamento dos mercados, administra mal os recursos e, ao não se modernizar no mesmo ritmo das empresas privadas, suas empresas geram menos lucros e ofertam produtos de pior qualidade. Por isso, essas empresas devem ser privatizadas (vendidas para particulares), incentivando a concorrência, barateando preços e melhorando a qualidade dos serviços e das mercadorias.

c) Redução de subsídios e gastos sociais por parte dos governos: O Estado desperdiça muito dinheiro com direitos sociais, como saúde, educação, aposentadorias, amparo aos desempregados, entre outros. Isso provoca aumento de impostos, que serão pagos pela sociedade a fim de gerar recursos destinados à assistência aos mais pobres. Na visão neoliberal, a manutenção desses gastos do Estado significa premiar os fracassados e punir com impostos os competentes.

d) Livre circulação de capitais: Visa garantir a livre entrada e saída de capitais em qualquer país e permitir que o mesmo dinheiro seja aplicado e remunerado em operações financeiras, como, por exemplo, na bolsa de valores, e não somente na produção ou na geração de empregos.

e) Flexibilização do mercado de trabalho: A doutrina neoliberal entende que essa medida dinamiza a economia e possibilita que os empresários invistam na produção e ampliem a oferta de empregos. Com a flexibilização, pode-se contratar e demitir livremente os empregados e reduzir o dispêndio das empresas com seus funcionários.

f) Abertura dos mercados internos para produtos estrangeiros: Significa a eliminação de qualquer protecionismo econômico. Em outras palavras, nenhum país deve coibir a livre concorrência, e a melhor maneira para garanti-la é preservar a competição entre as empresas, independentemente de sua origem nacional ou estrangeira. Quem vai definir qual a melhor mercadoria a ser adquirida é o próprio consumidor, que ainda será beneficiado com uma maior variedade de artigos ofertados e a preços cada vez mais baixos e acessíveis.

Consequências da Globalização

A produção e o comércio mundial crescem com a globalização. Mas a riqueza concentra-se num pequeno grupo de países, e isso reforça a **desigualdade entre as nações**.

A redução dos impostos de importação é um dos motivos que explicam essa concentração de renda, que beneficiou muito mais os produtos exportados pelos mais ricos. Os mais pobres têm dificuldades para exportar produtos agrícolas para os mais ricos, pois estes subsidiam a produção interna.



Em períodos de crise econômica, os resultados da globalização são dramáticos para os países pobres, pois geram um **custo social altíssimo**. Ocorre o barateamento da mão de obra, o aumento do desemprego e da exclusão social. Outra consequência da globalização é o **aumento da migração** de pessoas dos países pobres para os países ricos.

A globalização não beneficiou a todos. A riqueza concentra-se nas mãos de poucos. Os grupos com rendimentos mais elevados tornaram-se muito mais ricos e as desigualdades sociais aumentaram.

Uma Ordem Antiglobal

No início da década de 90 do século passado, o mundo parecia ter entrado em uma fase de amplas oportunidades para todos. Com o fim da Guerra Fria e a consolidação de uma Nova Ordem Mundial, sob a liderança hegemônica dos Estados Unidos, nada parecia deter o processo de globalização e as novas possibilidades de desenvolvimento que ele prometia. Sem o antagonismo comunista representado pela então União Soviética, o capitalismo passou a reinar absoluto no planeta.

As políticas neoliberais deram a sustentação econômica à globalização, enquanto o avanço da tecnologia da informação, particularmente da internet, tornou viável a interconexão e aproximação entre as diversas nações. Ao longo do tempo, porém, esse sistema começou a mostrar algumas fissuras. Ao contrário do que pregavam alguns dos principais teóricos da globalização, **o aumento da integração mundial e a ampliação do comércio não promoveram o bem-estar geral dos indivíduos e a redução das desigualdades entre as nações**. A globalização fez alguns vencedores, mas deixou muitos perdedores pelo caminho. E é nesse fosso de desigualdade que começam a surgir as reações ao sistema de integração econômica mundial.

O questionamento ao livre-comércio

A crise econômica mundial de 2008 trouxe à tona os problemas da globalização. A recessão causada por essa crise levou diversos países a rever suas políticas econômicas. Para proteger os empregos e a produção local, muitos governos passaram a **questionar o livre-comércio**, mais especificamente os benefícios dos blocos econômicos.

A abertura comercial expõe os países à competitividade típica do capitalismo e do liberalismo econômico. Ao eliminar as barreiras à importação, os bens que entram no país disputam mercado com os produtos nacionais. Aquele que tem maior vantagem competitiva, seja por cobrar menos impostos, por pagar baixos salários ou por dispor de um câmbio mais favorável para as exportações, vai se dar melhor na conquista pelo mercado consumidor. E, dependendo do tipo de acordo comercial, a entrada de produtos estrangeiros pode afetar todo um setor da economia de um país.

Nacionalismo

A participação de um país em um bloco econômico e em acordos comerciais faz com que cada um ceda um pouco em seus interesses nacionais em prol de acordos coletivos que prometem gerar maior prosperidade para todos, por meio do livre comércio.



Contudo, parcelas expressivas dos trabalhadores perceberam que, com a globalização, a manutenção de um padrão de vida, de aumento da renda e a perspectiva de ascensão social tornou-se mais difícil. Por outro lado, a crise econômica de 2008 também levou a um aumento do desemprego em vários países pelo mundo.

A crise ampliou a disputa por empregos e renda entre os trabalhadores e muitos passaram a identificar nos estrangeiros que residem e trabalham nos seus países como competidores que estão roubando os empregos dos nacionais e contribuindo para uma redução das suas rendas.

Entretanto, as causas da crise não residem nos trabalhadores nacionais, nem nos estrangeiros, mas na excessiva liberdade que foi concedida ao mercado financeiro norte-americano, cujas instituições realizaram operações de elevado risco de calote. Tudo isso em busca de um maior lucro. Como o mundo está cada vez mais globalizado e interdependente, a crise se espalhou pelo planeta.

Esse cenário de questionamento ao livre comércio e à livre circulação de pessoas reacendeu sentimentos de identidade nacional, conhecidos como nacionalismos.

O **nacionalismo** expressa um sentimento cívico, de lealdade à pátria. Nesse sentido, etnia, língua, religião e história são vistos como elementos unificadores de uma nação. Contudo, o nacionalismo também pode expressar uma ideologia, que se fundamenta nos valores de identidade nacional para alcançar objetivos políticos. Nacionalistas, **defendem a tese de que a solução para os problemas econômicos e sociais de um país está em menos integração, mais protecionismo e maior restrição ao ingresso de trabalhadores estrangeiros no país.** As relações com outras nações acabam sendo definidas mais em termos de competição, onde prevalecem as rivalidades nacionais. Para especialistas, a eleição de Donald Trump e o fenômeno do Brexit são exemplos de ascensão do nacionalismo político.

A xenofobia

Um dos pilares da globalização é a livre circulação de capitais (dinheiro), bens, serviços e pessoas. Contudo, **o livre trânsito de pessoas sempre foi um aspecto frágil da globalização.** O desenvolvimento tecnológico dos últimos anos proporcionou enormes avanços nos meios de transporte, o que ajudou a intensificar os movimentos migratórios em diversas partes do mundo. O desenvolvimento das telecomunicações, por sua vez, facilitou as transferências bancárias, permitindo a um imigrante africano que mora na Europa enviar parte de seu salário mensalmente para ajudar os familiares que vivem em sua terra natal.

Mas, **enquanto o fluxo de capitais e mercadorias sempre foi estimulado pelos defensores do mundo globalizado, a imigração foi e continua sendo um tema polêmico, principalmente nos países economicamente desenvolvidos.** No pós-guerra, quando havia necessidade de mão de obra nos principais países europeus, como Reino Unido, Alemanha e França, a entrada de imigrantes de países pobres até era facilitada, e eles chegaram em peso ao continente.

Contudo, a integração desses contingentes à nova situação nem sempre foi tranquila. Muitos argelinos que vivem na França, turcos moradores da Alemanha ou jamaicanos residentes na Inglaterra sentem-se marginalizados, vivendo nas periferias das grandes cidades e com acesso restrito ao mercado de trabalho. Esse é um dos fatores que explicam as revoltas de adolescentes em subúrbios franceses, frequentes nos últimos anos.



Em uma situação de crise, os ânimos nacionalistas tendem a se aflorar. Muitos nacionais de países desenvolvidos, por exemplo, não aceitam que uma pessoa que veio de outro país possa compartilhar os mesmos direitos de quem nasceu ali. E esse nacionalismo pode descambar para a **xenofobia**.

O termo, derivado do grego, significa literalmente “**medo do estrangeiro**” e é usado para definir o **receio e a hostilidade que muitas pessoas sentem em relação a cidadãos de outras nacionalidades que vivem em uma mesma cidade ou país**. Além da questão econômica, principalmente relacionada ao mercado de trabalho, o estranhamento em relação a hábitos culturais ou costumes religiosos diferentes pode acirrar esses sentimentos xenófobos. Muitas vezes terminam em ódio e violência.

No entanto, a imigração e a exposição a diferentes hábitos e culturas fazem parte da história da humanidade. Muitas nações construíram suas identidades a partir do contato com outras culturas e cresceram economicamente com o esforço do trabalhador imigrante. Mesmo na Europa atual, com as taxas de natalidade em declínio, projeções apontam que faltará mão de obra no futuro para sustentar o crescimento econômico. E, nesse sentido, a aceitação do trabalhador imigrante seria fundamental para driblar essa encruzilhada demográfica.



O termo **globalismo** tem sido citado por Donald Trump, ex-presidente dos Estados Unidos, por Jair Bolsonaro, ex-presidente do Brasil, por Ernesto Araújo, ex-Ministro das Relações Exteriores brasileiro e por lideranças e ativistas políticos da direita internacional e brasileira. É um termo polissêmico, isto é, possui vários significados a depender do contexto em que é utilizado.

Para a linha crítica do fenômeno da globalização, **o globalismo significa um governo mundial formado por órgãos supranacionais**, ou seja, **acima da administração de cada país**. Por isso o questionamento a instituições internacionais, como a Organização das Nações Unidas (ONU), e a determinados tratados e acordos internacionais, que estariam a serviço da implantação do governo mundial e do enfraquecimento dos estados nacionais.

"Boa parte da direita internacional defende que o globalismo é um esquema organizado, um projeto de dominação global", afirmou ao G1 David Magalhães, professor de relações internacionais da Fundação Armando Alvares Penteado (Faap).

O **conceito de globalismo se difere de globalização** – este último está relacionado à economia. "A globalização é uma ordem espontânea, voluntária, enquanto o globalismo envolve uma ação coordenada, com organização", comparou Adriano Gianturco, coordenador do curso de relações internacionais do Ibmec-MG.



Comércio Internacional

Um elemento central da globalização é o **livre-comércio**, ou seja, a criação de um sistema em que bens e serviços são comercializados sem restrições tarifárias.

O comércio internacional nunca foi tão intenso, como nas décadas recentes, mas as exportações dos países ricos cresceram muito mais do que as dos países pobres. Atualmente, apenas dez países (dos 195 do planeta) monopolizam mais da metade de todo o comércio internacional.

Um dos instrumentos desse crescimento foi a criação da **Organização Mundial do Comércio (OMC)**, em 1995, com o objetivo de abrir as economias nacionais, eliminar o **protecionismo** (quando um país impõe taxas para restringir a importação de produtos e proteger a produção interna) e facilitar o livre trânsito de mercadorias.

A OMC funciona com rodadas de discussão sobre temas, que chegam ao final quando se fecham os acordos. A Rodada Doha, aberta em 2001 (com prazo previsto até 2006), entrou num impasse não resolvido até hoje. Os países ricos querem maior acesso de seus produtos aos países em desenvolvimento. Esses, por sua vez, buscam restringir as vantagens econômicas, como os subsídios (auxílio financeiro) que os países ricos dão a seus agricultores, e não se chega a um acordo.



Outra função muito importante na OMC é o sistema de resolução de controvérsias. Este mecanismo foi criado para solucionar os conflitos gerados pela aplicação dos acordos sobre o comércio internacional entre os membros da OMC. As disputas surgem quando um país adota uma medida de política comercial ou faz algo que um ou mais membros da OMC considerem que viole os acordos da própria organização. Exemplo de aplicação deste mecanismo é o contencioso do algodão entre Brasil e Estados Unidos.

Em 2004, o Brasil venceu na OMC uma disputa contra os subsídios recebidos por produtores de algodão dos EUA, ficando com o direito de impor sanções contra produtos norte-americanos no valor de US\$ 830 milhões. O Brasil concordou em suspender a punição, caso os EUA depositassem dinheiro em um fundo de assistência para produtores brasileiros de algodão.

Os EUA pagavam a compensação em parcelas mensais, suspensas em outubro de 2013, o que levou o governo brasileiro a ameaçar impor impostos mais altos para produtos norte-americanos. Em outubro de 2014, os dois países chegaram a um novo acordo. Os Estados Unidos concordaram em pagar aos produtores brasileiros de algodão mais US\$ 300 milhões para encerrar a disputa.

BLOCOS ECONÔMICOS

Um pilar importante da globalização e do livre-comércio é a formação de **blocos econômicos**. Sob a economia globalizada, esses grupos reforçam a tendência de abrir as fronteiras das nações ao livre fluxo de mercadorias, ao reduzirem barreiras alfandegárias e coibir práticas protecionistas e regulamentações nacionais.

A formação de blocos econômicos acelerou o comércio mundial. Antes, qualquer produto importado chegava ao consumidor com um valor significativamente mais alto, em função das taxas impostas pelos países ao passar pelas suas alfândegas. Os acordos entre os países reduziram e, em alguns casos, acabaram com essas barreiras comerciais, processo conhecido como liberalização comercial.

Existem quatro modelos básicos de bloco econômico:

- **Área de livre-comércio** – Um grupo de países concorda em eliminar ou em reduzir os impostos e taxas de importação, quotas e preferências que recaem sobre a maior parte das (ou todas as) mercadorias importadas e exportadas entre esses países.
- **União aduaneira** – É uma área de livre comércio, na qual, além de abrir o mercado interno, os países-membros definem regras para o comércio com nações de fora do bloco. Uma **tarifa externa comum** (TEC) é adotada para boa parte – ou a totalidade – das mercadorias provenientes de outros países, ou seja, todos cobram os mesmos impostos de importação de terceiros.
- **Mercado comum** – É uma união aduaneira na qual, além de mercadorias, serviços, capitais e trabalhadores também podem circular livremente.
- **União econômica e monetária** – É o estágio final de integração econômica entre países. Além do livre-comércio, da tarifa externa comum e da livre circulação de mercadorias, serviços, capitais e trabalhadores, os países-membros adotam uma moeda comum e a mesma política de desenvolvimento.

Na sequência, vamos estudar a União Europeia, a mais exitosa experiência de integração regional, e o MERCOSUL, bloco regional do qual o Brasil faz parte.

União Europeia

A União Europeia (UE) representa o estágio mais avançado do processo de formação de blocos econômicos no contexto da globalização. Constitui-se em uma união econômica e monetária, com 27 países membros (Estados-partes): Alemanha, Áustria, Bélgica, Bulgária, Chipre, Croácia, Dinamarca, Eslováquia, Eslovênia, Espanha, Estônia, Finlândia, França, Grécia, Holanda, Hungria, Irlanda, Itália, Letônia, Lituânia, Luxemburgo, Malta, Polônia, Portugal, República Tcheca, Romênia e Suécia.



Estados-Membros da União Europeia em 2022



Fonte: União Europeia

As origens da União Europeia remontam à Comunidade Europeia do Carvão e do Aço (CECA), criada em 1951, por Alemanha Ocidental (na época, a atual Alemanha estava dividida em Alemanha Ocidental e Alemanha Oriental), França, Itália, Bélgica, Holanda e Luxemburgo. Em 1957, esses países criaram a Comunidade Econômica Europeia (CEE). Nos anos que se seguiram, o território da UE foi aumentando de dimensão por meio da adesão de novos Estados-membros, ao mesmo tempo que aumentava a sua esfera de influência por meio da inclusão de novas competências políticas. O Tratado de Maastricht, assinado em 1992, que entrou em vigor em 1993, instituiu a denominação atual de União Europeia.

O **Euro**, moeda única, é adotado por 20 dos 27 países do bloco: Alemanha, Áustria, Bélgica, Chipre, Croácia, Eslováquia, Eslovênia, Espanha, Estônia, Finlândia, França, Grécia, Itália, Letônia, Lituânia, Luxemburgo, Malta, Países Baixos, Portugal e República da Irlanda.





No dia 31 de dezembro de 2022, a **Croácia** adotou o Euro como moeda, tornando-se o 20º país da União Europeia a adotar a moeda única do bloco econômico. No mesmo dia, a Croácia passou a integrar o Espaço Schengen, tornando-se o 27º país a fazer parte dessa zona europeia de livre circulação de pessoas.

No âmbito da União Europeia vigora a **livre circulação de pessoas**. Os cidadãos do bloco econômico têm o direito de residir noutro país para procurar emprego e trabalhar sem necessitar de uma autorização de trabalho; permanecer noutro país da UE mesmo após ter deixado trabalhar e de usufruir do mesmo tratamento que os nacionais do país em questão no que se refere ao acesso ao emprego, condições de trabalho e todos os outros benefícios sociais e fiscais. Os controles de passaporte foram abolidos no âmbito da UE. Um cidadão europeu pode entrar e sair livremente de um país do bloco, ali residir e trabalhar.

Contudo, há algumas restrições a esses direitos e em casos excepcionais podem ser retomados o controle das fronteiras pelos países.

Há também o **Espaço Schengen**, formado por 27 países, onde também vigora a **livre circulação de pessoas**. A diferença é que fazem parte dessa zona quatro países que não são membros da União Europeia e quatro países membros do bloco econômico não participam dela. No Espaço Schengen foram abolidos os controles de passaporte. Os cidadãos de Schengen podem viajar livremente sem ter que se submeter a controles nas fronteiras.

O fim dos controles das fronteiras internas da União Europeia e de Schengen foi acompanhado por um reforço das fronteiras externas: os Estados-membros que se localizam na linha de frente têm a responsabilidade de realizar rigorosos controles em suas fronteiras e fornecer, dependendo do caso, vistos de curta permanência.

ESCLARECENDO!



Países que integram o Espaço Schengen

Estados-membros da União Europeia: Alemanha, Áustria, Bélgica, Croácia, Dinamarca, Eslováquia, Eslovênia, Espanha, Estônia, Finlândia, França, Grécia, Hungria, Itália, Letônia, Lituânia, Luxemburgo, Malta, Países Baixos, Polônia, Portugal, República Tcheca e Suécia.

Estados não membros da União Europeia: Islândia, Liechtenstein, Noruega e Suíça.



Estados da União Europeia que não integram o Espaço Schengen: Bulgária, Romênia, Chipre e Irlanda.

A crise econômica mundial de 2008 trouxe enormes desafios à integridade do bloco econômico. A Grécia, envolvida em uma grave crise econômica, ameaçou sair da União Europeia. O grande afluxo de migrantes vindo da África e da Ásia, a partir de 2014, em direção à Europa também tenciona as relações internas. Vários países resistem a receber e dar asilo à parcela desses migrantes.

Neste ambiente de crise – econômica e migratória - cresceu o discurso de partidos nacionalistas de extrema-direita eurocéticos, com resistências a várias das políticas comuns do bloco. Alguns partidos de extrema direita defendem a saída de seus países do bloco. Em vários países europeus, o segmento político da extrema direita tem crescido nas eleições parlamentares e presidenciais.

Brexit

Brexit é o nome dado ao processo de **saída do Reino Unido da União Europeia**. Em um plebiscito votado no dia 23 de junho de 2016, em uma apertada maioria, os britânicos votaram para que o país deixasse de ser membro do bloco regional. Foi um longo processo que envolveu complexas negociações entre o Reino Unido e a União Europeia sobre os termos da saída e várias votações no parlamento britânico até que os termos das negociações fossem aprovados. A saída oficial ocorreu no dia **31 de janeiro de 2020** no governo do ex-primeiro-ministro **Boris Johnson**, do Partido Conservador.

Foi uma saída inédita, a primeira vez que um país membro saiu do bloco econômico. Com isso, o Reino Unido deixou de fazer parte do mercado único e da zona de livre circulação do bloco.



Reino Unido é um país?

Sim, o Reino Unido é um Estado nacional soberano formado por quatro países: Inglaterra, Escócia, País de Gales e Irlanda do Norte. Essas quatro nações têm seus próprios governos e identidades distintas, mas juntas formam o Reino Unido. O termo "país" pode ser usado para se referir tanto ao Reino Unido como um todo quanto a cada uma de suas nações constituintes individualmente.

Para efetivar a saída, uma série de termos econômicos, comerciais e migratórios tiveram de ser negociados entre o Reino Unido e a União Europeia. O tema mais polêmico foi sobre a **fronteira entre a Irlanda e a Irlanda do Norte**.

A ilha da Irlanda está localizada a oeste da ilha da Grã-Bretanha. Nessa ilha, existem dois países: a República da Irlanda e a Irlanda do Norte. Ao longo do século XX, grupos nacionalistas defenderam a reunificação entre as duas Irlandas, resultando em conflitos violentos, atentados terroristas e divisões profundas na sociedade



irlandesa. Destacou-se a atuação da organização terrorista **Exército Republicano Irlandês (IRA)**, que lutou pela independência da Irlanda do Norte do Reino Unido e a sua reanexação à República da Irlanda.

Para pacificar a situação foi assinado em 10 de abril de 1998 o **Acordo de Belfast**, também conhecido como Acordo da Sexta-Feira Santa, que pôs fim as hostilidades entre o IRA e o Reino Unido.

O acordo acabou com o controle da fronteira, permitindo a livre circulação de pessoas, do comércio, de serviços e de capitais entre os dois países, visando uma maior integração entre os irlandeses da ilha da Irlanda. A saída do Reino Unido da União Europeia implicaria na retomada do controle de fronteiras entre ambos, pois a República da Irlanda é um país membro da União Europeia. Havia um temor de que este controle de fronteira na ilha da Irlanda pudesse reavivar o movimento separatista na Irlanda do Norte.

Contudo, na negociação, o Reino Unido se comprometeu a não estabelecer uma "fronteira dura" (com postos de controle) entre a República da Irlanda e a Irlanda do Norte. A livre circulação de pessoas, mercadorias e serviços continuará em vigor entre os dois países. Exemplo: uma mercadoria poderá sair da Irlanda e entrar livremente na Irlanda do Norte. Mas se essa mesma mercadoria sair da Irlanda do Norte em direção à Inglaterra, Escócia ou País de Gales terá que passar pelo controle alfandegário britânico. O mesmo vale para um cidadão irlandês ou da União Europeia. Na ilha da Irlanda ele poderá circular livremente, mas se sair da Irlanda do Norte em direção aos demais países do Reino Unido vai passar pelo controle de migração e pelas regras migratórias britânicas.

MERCOSUL

Fundado em 1991, o Mercosul foi a mais abrangente iniciativa de integração econômica regional da América Latina, surgida no contexto da redemocratização e reaproximação entre os países da região ao final da década de 1980. Os **Estados Partes** e membros fundadores são a **Argentina**, o **Brasil**, o **Paraguai** e o **Uruguai**. A **Venezuela** ingressou no bloco como Estado Parte em 2012, mas foi suspensa no ano de 2016. A **Bolívia** ingressou no bloco regional em 2024. Assim, o Mercosul tem os seguintes membros: Argentina, Brasil, Paraguai, Uruguai, Bolívia e Venezuela (suspensa).

A suspensão da Venezuela decorreu do fato de o país não adequar a sua legislação aos acordos e tratados do bloco econômico no prazo estabelecido de quatro anos, a partir de sua adesão. Uma nova suspensão foi aplicada à Venezuela no ano seguinte, em 2017, com base na cláusula democrática, constante do Protocolo de Ushuaia do Mercosul, a qual determina que, para ser membro do bloco com os direitos de votar, ser votado, exercer a presidência rotativa e participar das reuniões, o país deve ser uma democracia. O bloco entende que há uma ruptura na ordem democrática venezuelana e que os poderes não estão funcionando de modo harmônico e independente.

O Mercosul conta, ainda, com **Estados Associados** (membros associados) e os **Estados Observadores** (membros observadores). Os Estados Associados são o **Chile**, o **Equador**, o **Peru**, a **Colômbia**, a **Guiana** e o **Suriname**. Observe que o bloco regional abrange todos os países da América do Sul, seja como Estados Partes ou Observadores. México e Nova Zelândia também são Estados Observadores.



Os membros associados fazem parte da área de livre comércio, mas não adotam a Tarifa Externa Comum (TEC). Logo, não participam integralmente do bloco, aderem, apenas, a alguns acordos comerciais e não têm poder de voto nas decisões do Mercosul. Podem participar na qualidade de convidado nas reuniões de organismos do bloco e podem assinar acordos sobre matérias comuns.

Um membro observador é aquele que apenas participa das reuniões do bloco, no sentido de melhor acompanhar o andamento das discussões, mas sem poder de participação ou voto.

Uma das críticas ao Mercosul são os poucos acordos de livre-comércio com outros países ou blocos econômicos. O bloco regional só tem acordos comerciais com o Egito, Israel, Palestina e Singapura, países de pouca representação no comércio mundial. O acordo comercial com Singapura é recente, foi assinado em dezembro de 2023, rompendo com um ciclo de mais de uma década sem a assinatura de um novo acordo pelo bloco regional.

O bloco econômico negocia desde 1999 um acordo comercial com a UE. O acordo teve a parte comercial concluída em 2019 e, em 2020, as partes políticas e de cooperação. Desde então, está em fase de revisão. Por algumas vezes, chegou a ser anunciado que estava prestes a ser concluído, o que não ocorreu até o presente. A finalização do acordo esbarra na resistência de produtores rurais de alguns países europeus, que pressionam os governos de países como a França, temerosos de perder mercado para produtos da agropecuária do Mercosul, notadamente do Brasil, que entrariam na UE a preços mais competitivos do que os da produção local.

Outro acordo comercial que o Mercosul anunciou a celebração em 2019 foi com a **Associação Europeia de Livre Comércio (EFTA)**, formada por Noruega, Suíça, Liechtenstein e Islândia. A região da EFTA tem o maior PIB *per capita* do mundo e um PIB conjunto de US\$ 1,1 trilhão, duas vezes o PIB da Argentina, que é um dos principais parceiros comerciais do Brasil. Como a EFTA é formada por países europeus, o avanço no acordo ficou em espera, aguardando a evolução das tratativas do bloco sul-americano com a UE.

Outros blocos econômicos

Até aqui estudamos a União Europeia e o Mercosul em tópicos separados e em profundidade por serem os dois blocos econômicos que mais têm sido cobrados nas provas ao longo dos últimos anos. Entretanto, vez ou outra, tem aparecido questões perguntando sobre outros blocos econômicos. Assim, vamos sinteticamente estudar outros blocos regionais que também são importantes no cenário econômico mundial e que devemos ter conhecimento.

USMCA (United States – Mexico – Canada Agreement)

O USMCA (Acordo Estados Unidos - México - Canadá) constitui-se em um acordo comercial entre os países da América do Norte: Estados Unidos, Canadá e México. O acordo substituiu o antigo **Nafta**, vigente até 2020. Essa mudança foi proposta pelo então presidente norte-americano Donald Trump, e manteve alguns dos principais tópicos do Nafta, mas trouxe algumas atualizações, como novas regras para o comércio digital, a proteção da propriedade intelectual, trabalho, meio ambiente e comércio de produtos automotivos.



APEC (Asian-Pacific Economic Cooperation)

A APEC (Cooperação Econômica Ásia-Pacífico) é um dos maiores blocos econômicos do mundo, engloba 21 diferentes nações que são banhadas pelo Oceano Pacífico, situadas na Ásia, Oceania, América do Norte, América Central e América do Sul. Entre os membros, estão os Estados Unidos, China e Japão, as três maiores economias do planeta. O bloco representa cerca de 60% do PIB mundial e mais de 40% da população global, mas enfrenta dificuldades na implementação de acordos devido às disputas comerciais e divergências entre seus membros, sobretudo EUA e China.

Asean (Association of Southeast Asian Nations)

A ASEAN (Associação de Nações do Sudeste Asiático) é composta pelos países do sudeste asiático: Tailândia, Filipinas, Malásia, Singapura, Indonésia, Brunei, Vietnã, Mianmar, Laos e Camboja. O principal objetivo do bloco é o estreitamento dos laços entre os países membros visando o desenvolvimento econômico, social, cultural da região. Desde 1992, o bloco possui uma área de livre comércio.

Comunidade Andina de Nações

Anteriormente chamado de Pacto Andino, é um importante bloco sul-americano, formado por Bolívia, Colômbia, Equador e Peru. Além de buscar a integração econômica, busca também a integração política e a redução das desigualdades e possui facilidades para a circulação de pessoas entre os países do bloco, com a permissão da circulação de pessoas entre os países sem necessidade de visto. Assim como o Mercosul, a Comunidade Andina apresenta países associados, como o Brasil.

SADC (Southern Africa Development Community)

A SADC (Comunidade para o Desenvolvimento da África Austral) é o principal bloco econômico do continente africano, composto por 16 países do sul do continente, como a África do Sul e Angola. Além da integração econômica, a comunidade busca ser um meio de desenvolvimento para a região, diminuindo a pobreza e as desigualdades. Por fim, o bloco debate há vários anos a implementação de uma moeda única comum, mas ainda se encontra longe de sua efetivação.

Comunidade dos Estados Independentes (CEI)

A CEI é composta por dez países que formavam a antiga União das Repúblicas Socialistas Soviéticas (URSS), como Armênia, Belarus, Cazaquistão e a própria Rússia. Até 2014, a Ucrânia fazia parte do grupo.

Apesar de geralmente estar dentro da classificação dos blocos econômicos, a CEI não possui muitos acordos que objetivem diminuir tarifas alfandegárias entre os integrantes. Foi criada com o intuito de ocupar o espaço deixado pela extinta União das Repúblicas Socialistas Soviéticas, pois os seus países apresentavam uma grande dependência dos laços gerados durante a URSS.



DESCOBERTAS E INOVAÇÕES CIENTÍFICAS NA ATUALIDADE E SEUS IMPACTOS NA SOCIEDADE CONTEMPORÂNEA

O surgimento das fábricas revolucionou nossas vidas, mudou profundamente a vida em sociedade e subverteu radicalmente todas as antigas formas de organização e funcionamento da economia. Todas essas mudanças estão em um período da história denominado **Revolução Industrial**.

A ciência e a tecnologia, entre os seus muitos avanços, têm elevado a expectativa de vida – por meio do desenvolvimento da medicina e da saúde –, melhorado a produtividade, as comunicações, os transportes, a moradia e a difusão do conhecimento e de culturas.

Atividades penosas, anteriormente executadas pelo homem, são agora executadas por máquinas e robôs que também penetram e executam tarefas em lugares perigosos para os seres humanos, como campos minados, ambientes de temperaturas extremas ou mesmo o fundo dos oceanos. As tecnologias atuais vêm tornando o processo de produção mais rápido, flexível e eficiente.

Muito provavelmente, em algum momento de sua vida escolar, você estudou sobre a Primeira, a Segunda e a Terceira Revoluções Industriais. A primeira marcou o ritmo da mudança da produção manual para a mecanizada, entre 1760 e 1830. A segunda, por volta de 1850, trouxe a eletricidade e permitiu a manufatura em massa. E a terceira aconteceu em meados do século 20, com a chegada da eletrônica, da tecnologia da informação e das telecomunicações.

Atualmente, vivemos o período da **Quarta Revolução Industrial**, ou **Indústria 4.0**. Para o notório economista alemão **Klaus Schwab**, fundador do Fórum Econômico Mundial, essa revolução se distingue das demais pela velocidade, amplitude, profundidade e pela fusão de tecnologias e a interação entre os domínios físicos, digitais e biológicos.

"Estamos a bordo de uma revolução tecnológica que transformará fundamentalmente a forma como vivemos, trabalhamos e nos relacionamos. Em sua escala, alcance e complexidade, a transformação será diferente de qualquer coisa que o ser humano tenha experimentado antes", afirmou Klaus Schwab, autor do livro *A Quarta Revolução Industrial*, publicado em 2016.

Entre as principais inovações tecnológicas dessa Revolução, estão as nanotecnologias, as neurotecnologias, os robôs, a inteligência artificial, a biotecnologia, os sistemas de armazenamento de energia, os drones e as impressoras 3D.

Para Schwab, a Quarta Revolução Industrial tem o potencial de elevar os níveis globais de rendimento e melhorar a qualidade de vida de populações inteiras. Os países mais desenvolvidos adotarão as mudanças com mais rapidez, mas os especialistas destacam que as economias emergentes são as que mais podem se beneficiar. Obviamente, o processo de transformação só beneficiará quem for capaz de inovar e se adaptar.

Como as anteriores, a Quarta Revolução também tem suas críticas. A parte mais controversa está relacionada ao **mundo do trabalho**. Inúmeras profissões e milhões de **postos de trabalho têm sido extintos pelas contínuas inovações tecnológicas**. O caso dos serviços bancários é emblemático, pois operações que há poucas décadas demandavam o atendimento presencial, atualmente são realizadas pela internet ou por



meio de caixas automáticos. Muitos outros profissionais correm riscos: trabalhadores da construção civil, empregados domésticos, garis, trabalhadores do campo, caixas e vendedores, operadores de *telemarketing*, cozinheiros e até mesmo profissionais de atividades consideradas mais complexas, como engenheiros e estatísticos.

Por outro lado, **surgem novas profissões ligadas à área tecnológica**. Trata-se de um mercado de trabalho aquecido, com baixíssimo desemprego ou até com a falta de profissionais para diversas áreas desse segmento.

Outro aspecto está relacionado à **precarização das relações de trabalho**, ou seja, a redução ou a prestação de trabalho sem direitos trabalhistas. É o caso dos prestadores de serviços por aplicativo, também conhecidos como trabalhadores plataformizados. Popularizou-se o termo "**uberização do trabalho**", em alusão a uma das empresas mais famosas desse segmento, a Uber.

O conceito de uberização do trabalho pode ser definido como um novo modelo de trabalho, que, na teoria, se coloca como mais flexível, no qual o profissional presta serviços conforme a demanda. Ele próprio faz o seu horário, mas pode ter que trabalhar até 12 horas por dia, para poder garantir uma renda que garanta minimamente a sua sobrevivência, devido à baixa remuneração por serviço prestado. Além disso, as empresas exercem formas de controle e de pressão sobre dias e horas de trabalho, produção etc.

Vários países debatem a implementação de direitos trabalhistas para os trabalhadores plataformizados. Estados Unidos, União Europeia, Reino Unido e Japão já têm legislações nesse sentido.

Os avanços tecnológicos permitiram que as empresas que operam na internet possam coletar os **dados dos seus usuários** e processá-los para obter uma multiplicidade de informações sobre eles que podem ser utilizados para diversas finalidades. São muito utilizados para o fornecimento de publicidade de precisão para os usuários. Diz-se que os dados sobre as pessoas são o bem mais precioso da atualidade, o "novo petróleo", nas palavras do matemático britânico Clive Humby, que utilizou essa expressão pela primeira vez.

Os dados são considerados uma nova commodity e quem controla o fluxo desses dados, a navegação das pessoas na internet e processa todas essas informações **detém um grande poder**, como a Alphabet (Google, Youtube), Meta (Facebook, WhatsApp e Instagram), Microsoft, Amazon e Apple, que estão entre as maiores empresas do mundo.

A Quarta Revolução Industrial é um processo em curso, que está transformando a sociedade global de modo rápido, com consequências positivas e negativas. Vejamos, a seguir, as principais invenções desse período:

Internet das Coisas

Para explicar o que é a Internet das Coisas (IoT), vamos utilizar uma historinha, livremente adaptada de sites da internet:

É fim de tarde, em uma terça-feira, e você está dirigindo para casa, tranquilo, voltando do trabalho. Um sinal na tela multimídia do seu veículo lhe informa que você deve passar no supermercado no caminho e comprar mais leite. O aviso foi enviado pela Lucy, a central de gerenciamento da sua casa, que, integrada à sua geladeira, já sabe o que você precisa comprar. Essa central está ligada ao GPS do seu carro, que localiza um supermercado no caminho do seu trabalho para casa.



Após fazer as compras, você se aproxima do caixa, saca seu celular e efetua o pagamento por meio de um aplicativo que substitui sua carteira.

Parece um filme de ficção? Sim, porém, tecnologia que torna essa cena de Hollywood possível já existe. Não uma tecnologia, mas várias, interligadas pela internet em todas as coisas.

Isso é a “Internet das Coisas”, a revolução tecnológica que está em curso e que tem como objetivo **conectar os itens que usamos no nosso dia a dia à rede mundial de computadores**. Cada vez mais surgem eletrodomésticos, meios de transporte e até mesmo tênis, roupas e maçanetas conectadas à internet e a outros dispositivos, como computadores e smartphones.

A internet conectou pessoas. A internet das coisas vai conectar pessoas e coisas. Sim, já estamos em uma nova revolução tecnológica. 😊 😊

Internet 5G

A Internet 5G é a mais recente geração de conectividade móvel, oferecendo velocidades de internet significativamente mais rápidas e maior capacidade de dados em comparação com suas versões anteriores. Ela utiliza frequências mais altas e tecnologias avançadas de transmissão de dados para permitir transferências de dados ultrarrápidas e tempos de resposta quase instantâneos.

Com a Internet 5G, espera-se uma revolução em áreas como a Internet das Coisas (IoT), a realidade virtual, o streaming de alta definição e as tecnologias emergentes, impulsionando o desenvolvimento de aplicativos e serviços inovadores que exigem altos níveis de desempenho de rede.

Além das velocidades de download e upload mais rápidas, a Internet 5G é projetada para reduzir a latência, oferecendo tempos de resposta incrivelmente rápidos, essenciais para aplicações que exigem comunicação em tempo real, como jogos online, cirurgias remotas e veículos autônomos.

Inteligência artificial

A inteligência artificial (IA) é um campo da ciência da computação que se concentra no desenvolvimento de sistemas capazes de **realizar tarefas que normalmente exigiriam inteligência humana**. Isso inclui atividades como reconhecimento de padrões, aprendizado, raciocínio, resolução de problemas e tomada de decisões.

A IA abrange uma ampla gama de aplicações, desde assistentes virtuais e carros autônomos até diagnóstico médico, previsões financeiras e muito mais, revolucionando a forma como interagimos com a tecnologia e automatizamos processos.

Para Bill Gates, um dos fundadores da Microsoft, o desenvolvimento da IA é o avanço tecnológico mais importante em décadas. *"Isso mudará a maneira como as pessoas trabalham, aprendem, viajam, obtêm assistência médica e se comunicam umas com as outras"*, disse ele em postagem em seu blog.

Uma das principais ferramentas de inteligência artificial da atualidade é o **ChatGPT**, que ganhou grande popularidade ao longo do ano de 2023. Desenvolvido pela **OpenAI**, empresa fundada em 2015 por **Elon Musk**, o ChatGPT é um **chatbot** que se utiliza da IA para atender aos comandos que recebe.





Um **chatbot** é um programa de computador que tenta simular um ser humano na conversação com as pessoas. O objetivo é responder às perguntas de tal forma que as pessoas tenham a impressão de estar conversando com outra pessoa e não com um programa de computador. Esses bots são projetados para interpretar perguntas dos usuários e responder de maneira apropriada e útil. Um exemplo é a Lu, o chatbot da Magazine Luiza.

O ChatGPT, que responde a perguntas variadas, realiza tarefas por escrito, conversa de maneira fluida e inclusive dá conselhos sobre problemas pessoais. As possibilidades de geração de conteúdo são imensas. Mas esse não é o único chatbot com IA disponível. O **Google** também lançou a sua própria ferramenta de inteligência artificial, o **Bard**.

Impressão 3D

A impressão 3D é uma tecnologia que permite a criação de objetos tridimensionais a partir de modelos digitais.

Utilizando uma variedade de materiais, como plástico, metal, resina e até mesmo tecidos biológicos, essa tecnologia revolucionária funciona por meio de camadas sucessivas de material depositado de acordo com as especificações do modelo. Isso oferece uma flexibilidade incrível na fabricação, permitindo a produção de peças complexas e personalizadas com precisão milimétrica.

A impressão 3D tem aplicações em uma ampla variedade de setores, desde a indústria manufatureira até a medicina e a arte, revolucionando a forma como projetamos, prototipamos e produzimos objetos.

Big Data

A expressão "dados são o novo petróleo" ficou bem conhecida recentemente, conforme o acesso à internet e a utilização de redes sociais se expandiram, o que aumentou exponencialmente o número de dados gerados todos os dias.

Essa frase, que muitos atribuem a autoria a Douglas Laney, vice-presidente e analista da Gartner – uma das principais empresas mundiais especializadas em pesquisa e consultoria em tecnologia da informação –, indica o quanto **dados são preciosos e precisam ser bem armazenados**.

O volume de dados gerado atualmente por meio das redes sociais, aplicativos de mensagens, vídeos, streaming, GPS, entre outras fontes que estão capturando, processando e armazenando novos dados é gigantesco. Cada clique que é dado em uma página ou aplicativo é automaticamente guardado para que possa ser analisado.

A partir dessa noção é que surgiu a ideia de **Big Data**, que pode ser definida como a área do conhecimento que estuda como tratar, analisar e obter informações a partir de conjuntos de dados muito grandes.



A capacidade de lidar com grandes volumes de dados e extrair informações significativas deles é fundamental para entender o comportamento do mercado, prever tendências futuras, melhorar a tomada de decisões e impulsionar a inovação em várias indústrias. O Big Data desempenha um papel essencial na era digital, permitindo que as organizações compreendam melhor os padrões de consumo, otimizem processos empresariais, personalizem experiências do cliente e desenvolvam estratégias competitivas baseadas em insights precisos e abrangentes.

Os dados coletados permitem a elaboração de **perfis dos usuários** a partir de algoritmos, que podem aprender padrões de comportamento e influenciar as escolhas dos usuários, personalizando os anúncios e conteúdos de suas plataformas. Desse modo, o armazenamento e a utilização de dados pessoais podem se tornar um grande problema, se utilizados de forma indiscriminada.

É o que ocorreu no Brexit (processo de saída do Reino Unido da União Europeia) e nas eleições presidenciais de 2016 dos Estados Unidos, que elegeram Donald Trump.

Em março de 2018, veio à tona a informação de que cerca de 87 milhões de usuários do Facebook tiveram as suas informações utilizadas sem consentimento para uso político e eleitoral pela empresa britânica **Cambridge Analytica**. Os dados foram coletados na rede social por meio de um aplicativo de teste de personalidade. Eles foram utilizados para promover publicidade e política de precisão em favor de Donald Trump e influenciaram diretamente as eleições norte-americanas.

O escândalo do Facebook chamou novamente a atenção para o tema da privacidade e da proteção dos dados pessoais coletados por empresas de tecnologia e/ou por meio da tecnologia da informação e da comunicação.

Os dados que compartilhamos nas redes sociais e nas ferramentas de busca, o que navegamos, lemos vemos e ouvimos na internet alimentam um banco de dados detalhado a nosso respeito. Essas informações são a base do modelo de negócios de empresas como o Facebook e o Google. Elas utilizam esse banco para vender publicidade direcionada.

Com o objetivo de proteger o cidadão, debate-se a necessidade do estabelecimento de legislação para a privacidade e a proteção de dados pessoais na internet em diversos países e no Brasil. Defensores da privacidade na internet entendem que as informações dos cidadãos não podem ser registradas e usadas para além daquilo que foi autorizado inicialmente. Eles defendem o direito de saber quais dados são retidos e como se dá a permissão.

Na União Europeia, por exemplo, foi aprovada e já está em vigor a **General Data Protection Regulation**, (Regulamentação Geral de Proteção de Dados), desde 2016. O principal objetivo dessa lei é regulamentar o tratamento de dados pessoais dos usuários, buscando proteger a privacidade do cidadão. Todas as empresas que se relacionam com o bloco, ou que coletem dados de residentes europeus, precisam se adaptar.

A GDPR estabeleceu o **princípio do consentimento** pelo qual um dado pessoal só pode ser usado se existir o consentimento do usuário. Qualquer entidade que queira usar os dados pessoais de alguém terá de pedir autorização dela e explicar a finalidade. E no caso de crianças, os pais ou responsáveis legais devem dar a autorização.



Com a lei, as pessoas têm direito de saber se seus dados serão usados para gerar propagandas, se as informações serão geradas para construir perfis ou se as empresas que coletam dados venderão esses dados a terceiros. O usuário também tem o direito de acessar, alterar ou excluir os seus dados que foram fornecidos às empresas, entre outras questões.

No Brasil, também foi aprovada legislação semelhante em 2018, a **Lei Geral de Proteção de Dados (LGPD)**. A lei brasileira é abertamente inspirada na lei de proteção de dados da União Europeia e estabelece, dentre diversos aspectos, que organizações públicas e privadas, bem como pessoais físicas, só poderão coletar dados pessoais, como nome, endereço, e-mail, idade, estado civil e situação patrimonial, se tiverem consentimento do titular.

Moedas digitais e criptomoedas

Moedas digitais e criptomoedas são termos frequentemente usados como sinônimos, mas há uma pequena distinção entre eles.

Moedas digitais são essencialmente qualquer forma de dinheiro digital. Elas podem ser centralizadas ou descentralizadas, sendo representações digitais de dinheiro fiduciário tradicional, como dólares americanos ou euros, que são armazenados e transferidos eletronicamente. Exemplos comuns de moedas digitais incluem dinheiro em contas bancárias online, como o **PayPal** e outras formas de dinheiro eletrônico emitido por governos ou instituições financeiras.

Por outro lado, **criptomoedas** são um tipo específico de moeda digital que utiliza a **criptografia** para garantir transações e controlar a criação de novas unidades. Elas são tipicamente descentralizadas e operam utilizando a tecnologia **blockchain** para registrar e verificar todas as transações.

Exemplos bem conhecidos de criptomoedas incluem **Bitcoin**, **Ethereum**, **Cardano** e muitas outras que ganharam popularidade nos últimos anos.

Portanto, enquanto todas as criptomoedas são consideradas moedas digitais, nem todas as moedas digitais são necessariamente criptomoedas.

Fontes:

O que é a 4ª revolução industrial - e como ela deve afetar nossas vidas

<https://www.bbc.com/portuguese/geral-37658309>

Como uma nova revolução na indústria pode mudar o mundo

<https://www.bbc.com/portuguese/geral-47993749>

<https://www.bbc.com/portuguese/articles/cy9q17w9ojo>

<https://www.bbc.com/portuguese/articles/cqz6w6nzt10>



<https://www.bbc.com/portuguese/articles/c25w1pozezjo>

<https://www.bbc.com/portuguese/articles/c9rw9z9po46o>

<https://www.bbc.com/portuguese/resources/idt-74697280-e684-43c5-a782-29e9d11fecf3>

<https://www.bbc.com/portuguese/geral-64297796>



GUERRA FRIA 2.0

A crescente tensão entre Estados Unidos e China, - as duas maiores economias do planeta -, tem sido denominada **Guerra Fria 2.0**.

Só para nos lembrarmos: a Guerra Fria “original” foi uma disputa entre duas superpotências na segunda metade do século XX: **Estados Unidos e União das Repúblicas Socialistas Soviéticas (URSS)**, liderando um bloco de países capitalistas e socialistas, respectivamente. Este período de intensa competição geopolítica, teve início em 1947, logo após o término da 2ª Guerra Mundial, e terminou em 1991, com a dissolução da União Soviética.

Não houve um conflito armado direto entre as duas superpotências. Por isso o nome: Guerra Fria, ou seja, o conflito não chegou a “esquentar” e ir para o campo de batalha. Os dois países foram os grandes vencedores da 2ª Guerra Mundial e buscavam aumentar sua área de influência, tanto por meios materiais – através da economia e do poder bélico – quanto por suas distintas ideologias.

A disputa atual, chamada Guerra Fria 2.0, não tem a característica de iminência de um conflito armado. Afinal, a maioria dos países já percebeu ao longo da história que, em se tratando de superpotências que possuem grande capacidade de destruição nuclear, isso não é benéfico para nenhum dos lados. Mas à semelhança daquele conflito, **a Guerra Fria 2.0 envolve uma disputa de poder geopolítico entre os dois países, sobretudo através do desenvolvimento econômico e tecnológico.**

No seu processo de transformação para a grande potência que é hoje, nas décadas de 80 e 90, a China virou a “fábrica do mundo”, “roubando” muitos empregos norte-americanos. O país também expandiu sua influência geopolítica para áreas que até então estavam sob influência norte-americana, conquistando novos mercados e aliados que até então estavam sob influência dos norte-americanos.

O discurso anti-China, que já era presente durante o governo de Barack Obama (2009-2017), chegou à um nível muito mais elevado com Donald Trump (2017-2021), que se elegeu com um discurso de ser mais rígido com a China. No poder, Trump deu início à uma série de retaliações comerciais à China, no que ficou conhecido como **Guerra Comercial**.

Trump acusava o país de suposto roubo de propriedade intelectual, manipulação cambial e de que o governo chinês subsidia a produção de bens de alta tecnologia. Mas o ponto principal era o elevado e crescente **déficit comercial** dos Estados Unidos para com a China.

Como medidas, os EUA elevaram tarifas de importação sobre mais de US\$ 450 bilhões em produtos chineses. A China, por sua vez elevou as tarifas sobre bens americanos em um valor de mais de US\$ 110 bilhões.

Em janeiro de 2020, os dois países chegaram a um acordo para aliviar a guerra comercial. Denominado de Fase 1, o documento assinado prevê que a China compre mais US\$ 200 bilhões em produtos e serviços dos EUA ao longo de dois anos para reduzir o déficit comercial bilateral.

Mas isso não tornou pacíficas as relações entre os dois países. Ao longo do ano de 2020, Donald Trump endureceu as medidas anti-China. A seguir, listo alguns fatos importantes que ocorreram ao longo daquele ano:



- O ex-presidente desferiu críticas frequentes e contundentes à China na questão da pandemia, responsabilizando o país pela demora no controle sanitário, deixando de evitar, assim, o espraiamento do surto do coronavírus de seu território para o resto do mundo.
- Em julho de 2020, Donald Trump ordenou fechamento do consulado chinês em Houston, sob justificativa de espionagem econômica e roubo de propriedade intelectual. Em resposta às medidas tomadas pelos Estados Unidos, a China fechou o consulado americano na cidade de Chengdu.
- Em abril, maio e julho, os EUA realizaram exercícios militares no Mar do Sul da China, área estratégica, por onde passam boa parte das exportações chinesas.
- Outro ponto de tensão se deu em relação ao aplicativo **TikTok**, a rede social chinesa que dominou o mundo, ganhando também muito espaço nos Estados Unidos. Trump ameaçou banir o aplicativo, sob o pretexto de que a rede não protege (ou até vaza) os dados dos seus usuários. Como a proposta não se apresentou atraente para os investidores norte-americanos, não houve seguimento.
- Em resposta à nova lei de segurança anunciada por Pequim para Hong Kong, Trump revogou o status de parceiro comercial preferencial, que facilitava negócios, à Hong Kong. Reino Unido, Austrália e Canadá, parceiros dos EUA, também tomaram a mesma medida.

Muitos analistas políticos fazem a leitura de que Trump endureceu o jogo em 2020 para conseguir melhorar sua imagem para a disputa das eleições presidenciais daquele ano, que se desgastou devido à má gestão do ex-presidente sobre a pandemia de Covid-19 no país.

No governo de Joe Biden, não houve mudança de postura. O que há é uma mudança de estratégia. Os Estados Unidos continuam tentando barrar o crescimento da influência geopolítica da China pelo mundo. Conter o expansionismo chinês é uma pauta bipartidária, defendida tanto por democratas quanto por republicanos.

Isso porque, para além de simples questões comerciais, a disputa entre Estados Unidos e China envolve também questões tecnológicas, como a **batalha pelo 5G**, que é a evolução da atual rede de internet, com velocidade muito maior do que a atual 4G.

A tecnologia 5G possibilitará uma enorme ampliação da tendência mundial da **“internet das coisas”**, abrindo um leque enorme de inúmeras possibilidades para o desenvolvimento tecnológico, com carros, casas e cidades cada vez mais inteligentes e conectadas.

A empresa chinesa **Huawei** é a maior fornecedora de sistemas 5G e a maior fabricante de equipamentos de telecomunicações do planeta. Os Estados Unidos não possuem uma grande empresa no setor 5G e estão atrás de outros países na corrida de mercado desta fronteira tecnológica. Estão promovendo uma campanha de boicote à líder mundial, com diversas acusações contra a Huawei, que as nega.

A Casa Branca acusa a empresa chinesa de roubar propriedade intelectual de empresas norte-americanas; de vender produtos com tecnologia norte-americana a países que sofrem embargo (como Irã e Coreia do Norte); e, também alegam que a Huawei colabora com governo chinês para espionar outros países, colocando em risco a sua segurança nacional.



Com suas acusações, os EUA conseguiram que Nova Zelândia e Austrália proibissem o uso de tecnologia e equipamentos da empresa por razões de segurança. Canadá, Alemanha, Japão e Coreia do Sul colocaram a empresa sob avaliação.

Além disso, o governo norte-americano abriu uma ação contra a Huawei e a executiva **Meng Wangzhou** - filha do fundador da empresa –, acusada de fraude por violar sanções ao Irã impostas pelos EUA. Wangzhou chegou a ficar 11 dias presa no Canadá, em dezembro de 2018, até ter o seu pedido de liberdade condicional aceito.

E, desde 17 de maio de 2019, a Huawei perdeu o acesso a softwares e componentes produzidos nos Estados Unidos e que eram necessários para fabricar seus produtos. A medida também impacta negócios emergentes da empresa, como a oferta de computação em nuvem.

Os ataques norte-americanos à Huawei são apenas o sustentáculo de uma guerra estadunidense contra a empresa que é o carro-chefe da ambição chinesa de se tornar uma superpotência tecnológica. A disputa entre Estados Unidos e China transcende o campo comercial. É a principal batalha pelo poder neste milênio – dentro e fora do mundo digital. O domínio na área das telecomunicações é essencial para o domínio político e econômico na atualidade.



ESTADOS UNIDOS

Por ser a maior economia do mundo e a maior potência militar do planeta, o que ocorre nos Estados Unidos interessa bastante ao mundo como um todo. O país também é o mais importante ator da política internacional, e o seu poder, a sua influência e a sua liderança se espalham por todo o globo.

Por isso, vamos estudar, na sequência, as eleições presidenciais estadunidenses, realizadas em 5 de novembro de 2024, com a vitória de **Donald Trump**, do **Partido Republicano**, que derrotou **Kamala Harris**, do **Partido Democrata**. Vamos entender como funciona o sistema eleitoral, os principais fatos da campanha eleitoral e as projeções para o próximo mandato presidencial.

O Sistema Eleitoral

Ao contrário do que ocorre no Brasil, a eleição do presidente dos Estados Unidos é indireta, decidida por meio de delegados, que são os eleitores que formam o Colégio Eleitoral. O voto popular, que escolhe os delegados de cada estado, é facultativo.

BRASIL	EUA
Eleição direta	Colégio eleitoral
Voto obrigatório	Voto facultativo
Urna eletrônica	Papel e urnas eletrônicas
Cada partido escolhe como define seu candidato	Candidatos disputam prévias eleitorais
Sistema multipartidário	Sistema multipartidário com apenas dois partidos fortes

Sistema de Colégio Eleitoral

Colégio Eleitoral é o sistema pelo qual o presidente e o vice-presidente dos Estados Unidos são eleitos. Trata-se de um modelo diferente do voto direto, comum em muitas outras democracias. Esse sistema envolve a



seleção de delegados, conhecidos como eleitores, que representam cada estado e que, por sua vez, são os responsáveis por votar diretamente no candidato à presidência e vice-presidência.

Cada estado tem um número específico de eleitores, proporcional à sua população, determinado pelo número de senadores e de representantes que o estado tem na Câmara dos Representantes. Cada um tem um número diferente de delegados de acordo com seus representantes no Congresso: um para cada membro da Câmara dos Deputados (435) e do Senado (100). Ainda há mais três no Distrito de Columbia. Atualmente, o Colégio Eleitoral tem um total de 538 eleitores. Para ser eleito, um candidato deve obter a maioria dos votos no Colégio Eleitoral, ou seja, pelo menos 270 votos.

Atribuição dos votos dos delegados

A maioria dos estados adota o sistema "winner-takes-all" (o vencedor leva tudo), o que significa que o candidato que obtém mais votos populares em um estado receberá todos os votos dos delegados desse estado. Há duas exceções dentre os 50 estados norte-americanos. Maine e Nebraska, em que a escolha dos delegados eleitores segue a proporcionalidade dos votos populares.

O sistema frequentemente gera debates. Por exemplo, é possível que um candidato perca no voto popular nacional, mas ainda assim ganhe a presidência ao somar o maior número de delegados no Colégio Eleitoral. Essa situação já ocorreu em várias eleições, sendo as mais recentes em 2000 e 2016, o que motiva discussões sobre a representatividade do Colégio Eleitoral e propostas para substituí-lo pelo voto direto.

O dia oficial do voto popular ocorre sempre na primeira terça-feira após a primeira segunda-feira de novembro, em anos pares, a cada quatro anos. Nessa eleição, os eleitores vão às urnas para escolher seus candidatos, embora, tecnicamente, estejam escolhendo os eleitores do Colégio Eleitoral. Em 2024, o dia oficial do voto popular foi 5 de novembro.

Há uma regra geral nacional para as eleições presidenciais, porém, os estados têm mais poder para definir como será a votação em cada um deles. Em alguns estados, a votação é em cédula de papel, em outros urna eletrônica; há estados em que se pode votar antecipadamente e outros permitem ainda o envio do voto pelo correio.

O sistema do Colégio Eleitoral convergiu para a hegemonia de dois grandes partidos políticos: Republicanos (conservadores, direita) e Democratas (liberal, esquerda). Contudo, há vários outros partidos políticos no país, mas que não têm chances de eleger delegados em algum estado.

Ao longo de décadas de eleições presidenciais, na maioria dos estados, consolidou-se uma preferência em sucessivas eleições para um dos dois grandes partidos políticos americanos. Por exemplo: na Califórnia, sempre vence o candidato Democrata, no Texas, o Republicano. Por isso, a campanha eleitoral se concentra nos poucos "Swing States" (estados-pêndulos), que oscilam nas eleições entre os Democratas e os Republicanos. Em 2024, foram sete estados-pêndulos. Donald Trump venceu em todos eles.



Reunião do Colégio Eleitoral, Declaração do Resultado e Posse Presidencial

Os eleitores do Colégio Eleitoral se reúnem em seus estados em dezembro, após a eleição geral, para votar oficialmente no presidente e vice-presidente. Cada eleitor vota no candidato ao qual está comprometido a apoiar, embora em alguns estados seja permitido que o eleitor vote de maneira diferente (esse eleitor é conhecido como "faithless elector" ou "eleitor infiel").

Os votos dos eleitores são enviados para o Congresso e contados em uma sessão conjunta no dia 6 de janeiro. O presidente do Senado (o vice-presidente dos EUA) preside a sessão e declara os resultados oficialmente. O candidato que obtiver pelo menos 270 votos no Colégio Eleitoral é declarado vencedor e assume o cargo em 20 de janeiro, dia da posse presidencial.

Críticas ao Sistema do Colégio Eleitoral

O sistema do Colégio Eleitoral é alvo de críticas e debates. Alguns dos principais pontos de crítica incluem:

- **Desproporcionalidade:** estados menos populosos têm uma representação proporcionalmente maior no Colégio Eleitoral em comparação aos estados mais populosos;
- **Possibilidade de Eleição sem Voto Popular:** um candidato pode vencer no Colégio Eleitoral sem ter a maioria dos votos populares nacionais;
- **Sistema "Winner-Takes-All":** esse sistema reduz a relevância dos eleitores que votam em estados dominados por um partido específico e aumenta a importância dos "swing states" (estados-pêndulo), onde o resultado é imprevisível.

Conclusão

O sistema eleitoral presidencial dos Estados Unidos é único e reflete um equilíbrio histórico entre os interesses dos estados e a população nacional. Embora tenha sido criado para promover uma representação equilibrada entre estados pequenos e grandes, ele é, frequentemente, alvo de discussões e propostas de reforma devido às suas peculiaridades e possíveis disparidades na representatividade do voto popular.

Principais polêmicas das eleições de 2024

As eleições presidenciais de 2024 nos Estados Unidos foram marcadas por eventos significativos e controvérsias que influenciaram o cenário político do país.

Desistência de Joe Biden e ascensão de Kamala Harris

Joe Biden vinha sendo criticado na campanha por sua idade elevada (81), preocupações com sua saúde física e por lapsos de memória em momentos públicos como presidente do país. O fraco desempenho no primeiro debate com Trump, em 27 de junho de 2024, ampliou sobremaneira as críticas e as preocupações sobre a



sua capacidade de vencer as eleições. Em 21 de julho de 2024, diante de pressões cada vez maiores, Biden renunciou a sua candidatura. Os Democratas escolheram a sua vice-presidente, Kamala Harris, para ser a candidata do partido.

Tentativas de assassinato contra Donald Trump

Durante a campanha, Trump foi alvo de várias tentativas de assassinato. Em 13 de julho de 2024, durante um comício na Pensilvânia, ele foi atingido de raspão na orelha por um tiro disparado por um atirador que matou um participante e feriu outros dois. O atirador foi morto por agentes do Serviço Secreto.

Em 15 de setembro de 2024, Trump sobreviveu a outra tentativa de assassinato enquanto jogava golfe na Flórida. O suspeito, Ryan Wesley Routh, foi preso após ser encontrado com um rifle semiautomático nas proximidades do campo de golfe.

Além disso, em novembro de 2024, autoridades dos EUA frustraram um complô iraniano para assassinar Trump durante a reta final da campanha. Três indivíduos foram acusados de planejar o ataque, que foi detectado pelo FBI.

Condenação de Donald Trump

Em maio de 2024, Trump foi condenado por falsificação de registros comerciais de sua empresa relacionados a pagamentos ocultos para comprar o silêncio de uma ex-atriz pornô com quem teria tido uma relação extraconjugal. No mês seguinte, contudo, obteve uma vitória na Suprema Corte e enfraqueceu os outros processos penais contra ele.

Eleição de Donald Trump

Donald Trump volta à Casa Branca chancelado por mais força nas urnas do que em sua primeira eleição. O presidente eleito recebeu 50,2% dos votos populares, contra 48,2% de Kamala Harris.

Isso representa quatro pontos percentuais a mais do que ele recebeu há oito anos e é também a melhor votação de um republicano desde 2004, quando George W. Bush foi reeleito e superou o democrata John Kerry por 50,7% a 48,3%, segundo esse parâmetro.

É a primeira vez desde aquele ano que o Partido Republicano ganha em votos totais. Mesmo quando venceu, em 2016, Trump foi pior do que Hillary Clinton, se contabilizado o número de eleitores que depositaram seu voto na urna: registrou 46,1%, contra 48,2% da adversária.

O mesmo aconteceu com George W. Bush em 2000, contra o democrata Al Gore.

Em quantidade de votos absolutos, o ex-presidente pode creditar seu retorno a pelo menos 76,1 milhões de eleitores, 13,1 milhões a mais do que recebeu em sua primeira eleição e 3,9 milhões a mais do que a rival. Joe Biden venceu, quatro anos atrás, com 81,3 milhões.

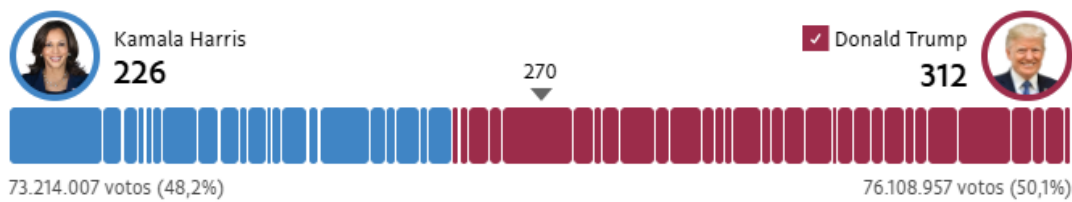


Desde 1860, os dois partidos se enfrentaram em 42 eleições, com candidatos republicanos vencendo 25 vezes e os democratas 17.

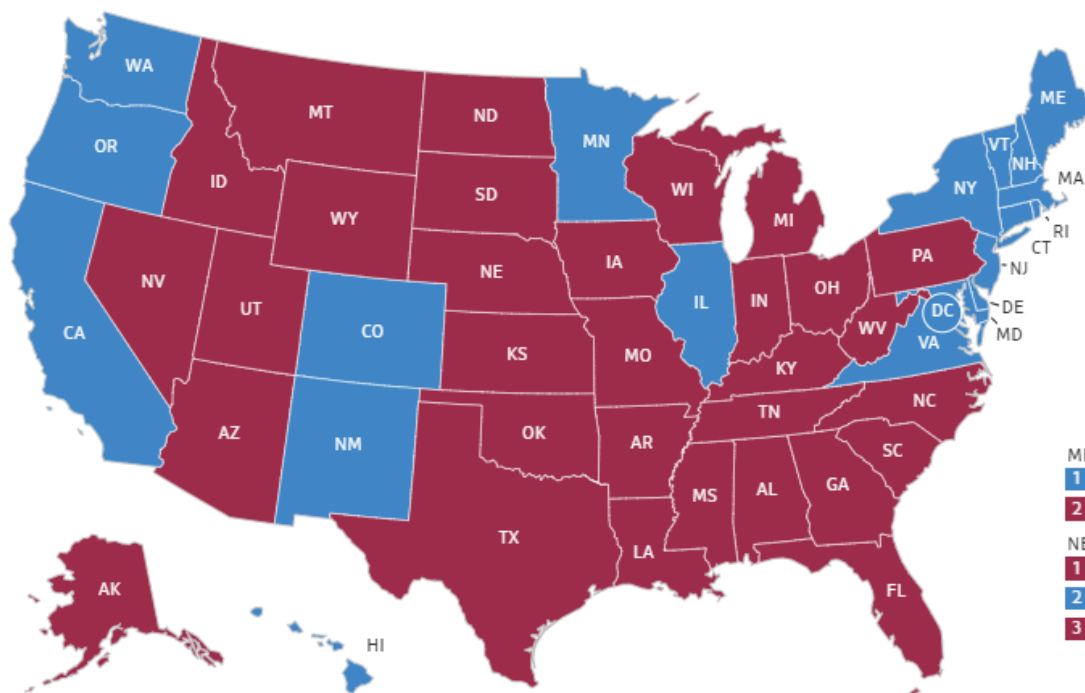
Donald Trump terá 312 votos no Colégio Eleitoral, contra 226 de Kamala Harris. Ele venceu também em todos os "swing states": Michigan, Nevada, Pensilvânia, Wisconsin, Arizona, Geórgia, Carolina do Norte e Flórida.

Também governará com maioria no Congresso Nacional. Os Republicanos elegeram a maioria dos Deputados e Senadores.

Acompanhe a eleição presidencial



Mapa Nacional



Atualizado 15 de nov. de 2024, 18:54

Fonte: <https://www1.folha.uol.com.br/mundo/2024/11/trump-tem-maior-votacao-popular-de-um-republicano-em-20-anos.shtml>



Perspectivas para o Governo Trump

O retorno de Donald Trump à presidência dos Estados Unidos em 2024 traz consigo uma série de propostas que prometem impactar diversas áreas, desde a imigração até as relações internacionais. A seguir, uma análise detalhada de suas principais iniciativas e das críticas associadas.

Imigração

Trump planeja reinstaurar políticas rígidas de imigração, incluindo a retomada do programa "Remain in Mexico" e a implementação de deportações em massa de imigrantes ilegais. Além disso, propõe o fim da cidadania por nascimento para filhos de imigrantes ilegais (<https://encurtador.com.br/38hqo>).

Críticas: Especialistas argumentam que tais medidas podem violar direitos humanos e sobrecarregar o sistema judicial. Organizações de direitos civis temem que essas políticas aumentem a discriminação e prejudiquem a imagem internacional dos EUA.

Meio Ambiente

O presidente eleito pretende reverter políticas ambientais da administração anterior, incentivando a produção de combustíveis fósseis e retirando novamente os Estados Unidos do Acordo do Clima de Paris. Além disso, planeja revogar incentivos governamentais de estímulo à produção e aquisição de veículos elétricos (<https://encurtador.com.br/soNmQ>).

Críticas: Ambientalistas alertam que essas ações podem agravar as mudanças climáticas e comprometer a liderança dos EUA em questões ambientais globais. A reversão de avanços na energia limpa pode também afetar negativamente a economia verde emergente.

Economia

Trump propõe estender os cortes de impostos implementados em 2017, como a redução da carga tributária para as empresas. No entanto, na campanha eleitoral, colocou mais ênfase em novas propostas voltadas para os americanos de classe média e trabalhadora, como isentar do imposto de renda as gorjetas recebidas, os salários da Previdência Social e os ganhos das horas extras.

Além disso, pretende aumentar os impostos de importação sobre uma grande variedade de produtos importados pelos EUA e aprofundar mais as sanções à China em setores considerados ameaçadores à economia norte-americana.

Críticas: Economistas apontam que cortes de impostos sem compensações podem aumentar o déficit fiscal. Os Estados Unidos são o país mais endividado do mundo. O aumento das tarifas de importação pode desencadear retaliações comerciais, e elevar os preços para consumidores americanos e aumentar a inflação.



Redução da Burocracia Estatal

A proposta de Donald Trump para a redução da burocracia estatal é uma extensão de suas políticas anteriores, visando a centralizar o poder no Executivo e a limitar a influência de agências reguladoras e outras instituições federais. No escopo está a desregulamentação de vários setores, a reorganização e a extinção de órgãos federais, cortes de gastos públicos e redução do número de funcionários públicos (<https://encurtador.com.br/38hqo>).

Críticas: A implementação das propostas pode comprometer proteções ambientais, de saúde e de defesa do consumidor. A centralização de poder no Executivo levanta preocupações sobre a erosão de freios e contrapesos democráticos.

Guerra Rússia x Ucrânia

Trump afirma que encerrará o conflito entre Rússia e Ucrânia em 24 horas, sugerindo uma reavaliação do apoio financeiro dos EUA à Ucrânia e solicitando que países europeus aumentem a sua contribuição.

Críticas: Analistas questionam a viabilidade de uma resolução tão rápida e temem que a redução do apoio à Ucrânia possa fortalecer a posição da Rússia e desestabilizar a segurança europeia.

Oriente Médio

O presidente eleito expressou apoio incondicional a Israel, especialmente no contexto do conflito com o Hamas, e propôs barrar a entrada de residentes de Gaza nos EUA.

Críticas: Especialistas em relações internacionais alertam que tais medidas podem exacerbar tensões no Oriente Médio e dificultar esforços de paz na região.

Relações Internacionais

Trump planeja reavaliar a participação dos EUA na OTAN, questionando o compromisso com a defesa de aliados que não cumpram com o estabelecido pela aliança militar de destinar 2% do PIB em gastos militares. Além disso, sugere uma postura mais isolacionista na política externa, ou seja, de menos proatividade e intervenção na geopolítica internacional.

Críticas: Diplomatas e analistas temem que essa abordagem possa enfraquecer alianças históricas, reduzir a influência global dos Estados Unidos e criar vácuos de poder que adversários geopolíticos possam explorar.

Em suma, as propostas de Donald Trump para seu novo mandato refletem uma continuidade de suas políticas anteriores, com ênfase em nacionalismo econômico e redução do papel dos EUA nas relações internacionais. No entanto, essas iniciativas enfrentam críticas significativas que apontam para possíveis consequências negativas tanto no cenário doméstico quanto internacional.



CHINA

A civilização chinesa tem mais de quatro mil anos. Após um longo período imperial e uma breve república, uma revolução liderada pelo Partido Comunista Chinês (PCCh), de Mao Tsé-Tung, deu origem à **República Popular da China**, em 1949. O país foi reorganizado nos moldes socialistas.

Com a morte de Mao, em 1976, a China implementou um modelo, ainda vigente, chamado por seus dirigentes de socialismo de mercado. O país manteve o controle estatal das fábricas e da terra, mas permitiu a abertura ao mercado mundial em determinadas regiões, denominadas Zonas Econômicas Especiais.

Nessas zonas se instalaram empresas multinacionais, para produzir artigos para a exportação, atraídas por incentivos fiscais e pela barata e numerosa mão de obra chinesa. Posteriormente, o governo autorizou a propriedade privada em algumas situações e fez maciços investimentos em tecnologia para aperfeiçoar a sua indústria.

Com essas medidas, o país inundou o planeta com seus produtos “made in China”, tornando-se o maior exportador mundial. Se a princípio os produtos chineses eram associados à baixa qualidade, hoje eles já possuem maior valor agregado, como eletroeletrônicos e automóveis. Paralelamente, para suprir sua demanda por alimentos, energia e matérias-primas, a China tornou-se um grande importador de commodities, como petróleo e minério de ferro.

Com essas ações, a China atrelou seu crescimento à economia de outras nações, firmando parcerias com países da África e da América Latina, incluindo o Brasil. Na crise mundial iniciada em 2008, por exemplo, a queda na demanda chinesa por commodities foi um dos fatores que afetaram a economia brasileira.

Atualmente, o país é a **segunda maior economia do mundo**, respondendo por mais de 11% do PIB mundial, atrás apenas dos **Estados Unidos**.

Por ter uma economia voltada para o comércio exterior, a China passou a ser um dos grandes defensores da globalização e do livre-comércio.

Para além das questões econômicas, a China quer se firmar como uma liderança global, capaz de não apenas ser uma potência regional, mas de ameaçar a hegemonia mundial dos EUA. O fato é que se trata de dois aspectos praticamente indissociáveis: com o poder econômico e a expansão comercial, o país cria uma relação de interdependência com os mercados globais, o que aumenta o seu peso nas principais decisões mundiais.

Na tentativa de projetar sua influência pelo mundo, a China investe na chamada “diplomacia econômica”. Com projetos de financiamento, aquisição de matérias-primas e obras de infraestrutura, o país aposta no poder de sua economia para angariar aliados. É uma forma de estabelecer uma relação na qual os outros países se tornem cada vez mais dependentes do capital chinês. A presença chinesa é cada vez maior na América Latina, África, Ásia e Europa.

O projeto mais ambicioso da China responde pelo nome de **“Nova Rota da Seda”**. O objetivo é criar um corredor econômico, composto por estradas, ferrovias, oleodutos e cabos de fibra ótica, que irá conectar, por via terrestre e marítima, a China à Europa e à África. O corredor atravessará a Ásia Central, o Oriente



Médio e o Oceano Índico. Para desenvolver este projeto de integração eurásiana, a China criou um fundo com dezenas de bilhões de dólares, que serão investidos em obras de infraestrutura nos países vizinhos. A rota da seda foi um corredor econômico que uniu Oriente e Ocidente no primeiro milênio de nossa era.



Apesar do vertiginoso crescimento econômico, o país convive com problemas que causam instabilidade ao atual modelo político-econômico: significativa desigualdade social, corrupção, degradação ambiental e crescente descontentamento popular.

A China é uma ditadura que **reprime a liberdade de expressão e viola os direitos humanos**. No entanto, há uma resistência interna, e diversos dissidentes desafiam o regime. O país é o principal parceiro comercial e destino das exportações do Brasil.

O atual presidente Xi Jinping já é considerado o homem mais poderoso da China, desde Mao Tsé-Tung. Xi foi reeleito para um segundo mandato presidencial de cinco anos, no período de 2018 a 2023, como chefe da Comissão Militar Central e como secretário-geral do Partido Comunista Chinês.

Em uma alteração constitucional histórica, o parlamento chinês aboliu o limite de dois mandatos presidenciais consecutivos de cinco anos. Com isso, Xi Jinping poderá permanecer no poder por tempo indeterminado. O “Pensamento de Xi Jinping sobre o Socialismo com Características Chinesas na Nova Época”, a teoria do presidente sobre o futuro do país, foi incluído na constituição do PCCh e na constituição do país.

Mar do Sul da China

O **Mar do Sul da China** é, atualmente, o foco de maior tensão no Sudeste Asiático. A área é reivindicada pela China, que alega ter precedência histórica com base em um pedido feito em 1947. No entanto, além das Filipinas, países como Vietnã, Brunei, Malásia e Taiwan também disputam a soberania sobre a região e querem negociar com base na convenção da ONU sobre o Direito do Mar, que define zonas de 200 milhas



para cada país. O problema é que, devido à proximidade entre essas nações, as fronteiras marítimas não são bem definidas.

O Mar do Sul da China é fundamental para a indústria da pesca, rica em reservas de petróleo e estratégica para o transporte marítimo. Mesmo com a indefinição das fronteiras, a China ampliou a ofensiva para consolidar a ocupação da área em 2014, ao construir ilhas artificiais em Spratly e instalar plataformas para a exploração de petróleo na região. Essa iniciativa chinesa é vista como uma forma de impor sua hegemonia no Sudeste Asiático.

A disputa foi parar na Corte Permanente de Arbitragem da ONU, que decidiu que a China não tinha base legal para reivindicar “direitos históricos” sobre o Mar do Sul da China. O governo de Pequim não reconheceu e não acatou a decisão.

O país também disputa com o Japão a posse das ilhas de Senkaku, para os japoneses, ou Diaoyu, para os chineses, localizadas no Mar da China Oriental.

Taiwan

Outro foco de divergência é sobre a questão da ilha de **Taiwan**, que a China considera uma **província rebelde** e quer reintegrar ao país.



Localização da ilha de Taiwan

Antes da chegada ao poder de Mao Tsé-Tung, em 1949, a China era governada pelo Partido Nacionalista, que foi derrotado, tendo os seus líderes fugidos para a ilha de Taiwan. A China, governada pelo Partido Comunista Chinês passou a se denominar República Popular da China (RPC). Taiwan seguiu utilizando a denominação anterior do país: República da China.



Quando a Organização das Nações Unidas (ONU) foi criada, em 1945, a China foi um de seus membros fundadores. Mas após o fim da guerra civil, em 1949, foi Taiwan que passou a ocupar o assento destinado à China na ONU.

Essa situação durou até 1971, quando a República Popular da China ingressou na ONU, obrigando Taiwan a deixar a instituição. Desde então, o poder político e econômico da China se impõe, obrigando todos os países com quem mantém relações diplomáticas a cortarem os laços oficiais com Taiwan.

Mas esse isolamento político não significa isolamento econômico. Taiwan possui uma economia dinâmica e se tornou um dos principais exportadores da Ásia, mantendo relações comerciais com todo o mundo e participando de blocos econômicos regionais. Atualmente, a ilha domina a produção global de **chips** para computador, um componente extremamente importante para as cadeias globais de produção.

Na prática, Taiwan tem todas as condições que o definem como um país: um governo próprio eleito democraticamente, instituições sólidas, uma moeda nacional, forças armadas e um território delimitado.

Em busca de uma solução pacífica, contudo, a China propõe o conceito de "um país, dois sistemas": o socialista no continente e o capitalista em Taiwan. Em tese, isso permitiria a Taiwan adotar as suas políticas econômicas e manter as suas instituições, com relativa autonomia. **Contudo, a maioria da população da ilha é simpática à causa separatista, embora até hoje a independência não tenha sido declarada.**

O governo chinês em Pequim tem pressionado militar, econômica e diplomaticamente Taiwan para atingir seu objetivo de longo prazo de "Uma China": um único país unificado, incluindo a ilha. Mas Taiwan recebe apoio internacional, sobretudo, dos Estados Unidos. A situação da ilha tem sido usada de forma estratégica para os EUA pressionarem a China no cenário das disputas geopolíticas entre esses dois países.

Em setembro de 2022, as tensões entre os dois países se elevaram com a viagem da Presidente da Câmara dos Representantes (Câmara dos Deputados) dos EUA, **Nancy Pelosi**, à ilha de Taiwan. Atualmente, ela é a principal voz do Legislativo americano. A parlamentar sempre defendeu uma atitude dura dos Estados Unidos em relação à China.

A China vê as visitas de autoridades americanas à Taiwan como um sinal encorajador para o campo pró-independência na ilha democrática e autogovernada. Pequim considera Taiwan parte de seu território e nunca renunciou ao uso da força para colocar a ilha sob seu controle. Taiwan rejeita as reivindicações de soberania da China e diz que apenas seu povo pode decidir o futuro da ilha.

Embora não tenha relações diplomáticas formais com Taiwan, assim como a maioria dos países do mundo, os EUA são o mais importante financiador internacional e principal fornecedor de armas do território, o que causa imenso desgosto à China, que tem adotado uma postura belicista na tentativa de controlar a situação.

Um dia após sua visita, a China disparou vários mísseis ao redor da ilha, o que foi considerado o maior movimento militar já realizado pela China no Estreito de Taiwan.

A pressão que os Estados Unidos tem estabelecido para com a China e a favor de Taiwan – assim como fez nos acontecimentos de Hong Kong -, tem um contexto muito mais profundo, que é o da disputa tecnológica e econômica entre esses dois países.



Essa crescente tensão entre Estados Unidos e China, - as duas maiores economias do planeta -, tem sido denominada Guerra Fria 2.0. É uma disputa geopolítica e por áreas de influência no mundo, sobretudo uma disputa de poder econômico, com tentativas de dificultar a evolução do oponente também no desenvolvimento de novas tecnologias, sobretudo na área de informação e comunicação.

Hong Kong

O território de Hong Kong, localizado na costa sul da China, é uma **Região Administrativa Especial** do país. Com uma pequena área e uma população de cerca de sete milhões de pessoas, é uma das áreas mais densamente povoadas do mundo e um dos principais centros financeiros internacionais, possuindo um dos maiores PIB per capita do mundo.

Macau, ex-colônia de Portugal, também detém o status de Região Administrativa Especial da China.



Localização de Hong Kong. Elaboração: G1.

A região passou para o domínio britânico, em 1842, tornando-se um importante centro econômico do Reino Unido no continente asiático. Em 1997, Hong Kong voltou a fazer parte da China, com base **Declaração Conjunta Sino-Britânica** e sob o princípio de "**um país, dois sistemas**".

O princípio estabeleceu que o sistema socialista não vigoraria na Região Administrativa Especial de Hong Kong, vigorando o sistema capitalista, que ficaria intacto por um período de 50 anos.

A região possui um alto grau de autonomia, exceto em assuntos estrangeiros e de defesa. Hong Kong tem seu próprio sistema legal, seus próprios partidos e direitos que, na China, não existem, como o de liberdade de reunião e liberdade de expressão, garantido no seu documento que tem valor de constituição, a Lei Básica de Hong Kong.

Esta "autonomia" é objeto de questionamento por parte de seus cidadãos, pois o seu governante é eleito por um pequeno comitê eleitoral que é controlado por Pequim. Assim, todos os governantes de 1997 até então tem apresentado uma política pró-República Popular da China, aprovando leis que são bastante favoráveis ao governo central chinês.

Em 2014, frente à insatisfação do povo honconguês com a escolha de seus governantes, a China apoiou a realização de eleições para Hong Kong no mesmo ano, mas só entre um grupo de candidatos que ela mesma escolhesse.

A resposta local foi com grandiosos protestos com a exigência do direito de eleger livremente seu próprio líder. Conhecida como **Movimento Guarda-Chuva**, as manifestações duraram várias semanas e acabaram fracassando sem concessões de Pequim. A utilização dos guarda-chuvas tinha como objetivo se proteger das bombas de gás lançadas pelas forças policiais.

Em fevereiro de 2019, o governo local apresentou ao legislativo uma proposição para permitir a extradição de cidadãos de Hong Kong para serem julgados na China Continental, o que foi considerado como uma tentativa de aumento da influência central chinesa na região, uma redução da sua autonomia e das liberdades, bem como uma possibilidade de perseguição de opositores do regime chinês ali residentes.

Nos meses subsequentes, multidões foram às ruas protestar contra esse projeto de lei e pela renúncia do chefe do executivo local, Carrie Lam. Em agosto de 2019, o governo local cedeu e retirou definitivamente o projeto de lei do poder legislativo, mas a chefe do executivo continuou no cargo.

Em maio de 2020, durante a Assembleia Popular Nacional ou Congresso Nacional do Povo, o maior organismo governamental do legislativo chinês, foi apresentada uma **nova lei de segurança nacional** para Hong Kong. O anúncio da lei desencadeou uma nova onda de grandes protestos na região.

A nova lei, já em vigor, endurece o controle, a repressão e estabelece penalidades mais severas para qualquer ação que ameace de maneira grave a segurança nacional, como o separatismo, a subversão, a preparação ou a execução de atividades terroristas, assim como as atividades de forças estrangeiras que constituem uma interferência nos assuntos de Hong Kong. Também prevê autorização para que os organismos vinculados ao governo chinês estabeleçam em Hong Kong escritórios com autoridade em termos de segurança nacional.

O movimento pró-democracia de Hong Kong afirma que a medida abre o caminho para um retrocesso sem precedentes das liberdades locais. Com base nessa lei, ativistas políticos foram presos e estão sendo processados e órgãos de imprensa têm sido alvo de repressão das autoridades chinesas.



RESUMO

Globalização

Processo de integração entre povos, empresas, governos e mercadorias ao redor do planeta. Um mundo globalizado é aquele em que **eventos políticos, econômicos, culturais e sociais estão interconectados e onde um acontecimento em um lugar tem a capacidade de ecoar por todo o globo.**

Origem da globalização remonta as grandes navegações e ao colonialismo europeu do século XV.

A partir dos anos 1990, acentua-se a integração da economia global por meio da revolução tecnológica, especialmente no setor de telecomunicações, que possibilitou uma veloz circulação do capital e das informações pelo globo.

Globalização atual é um processo em curso, uma nova fase do capitalismo financeiro, comandada pelos países ricos e por grandes empresas transnacionais.

Características da fase atual da globalização

Diminuição do poder dos Estados nacionais em detrimento às grandes corporações multinacionais/transnacionais.

Multipolaridade, com distintos centros de poder, exercendo influência no campo político, econômico e militar: Estados Unidos, União Europeia, China e Japão.

Nova Divisão Internacional do Trabalho: Os países subdesenvolvidos industrializados (inclui os emergentes) fornecem produtos primários, produtos industrializados, capitais, remessas de lucros e royalties para as sedes das multinacionais e juros da dívida. Os países desenvolvidos fornecem produtos industrializados (em geral de tecnologia superior), tecnologia e capitais (empréstimos, investimentos produtivos e especulativos nos mercados financeiros).

Predomínio do capitalismo financeiro: O grande comércio e a grande indústria são controlados pelo poderio econômico dos bancos comerciais e outras instituições financeiras.

Predomínio de práticas neoliberais que visam a uma maior liberdade econômica e a menor participação possível do estado nas atividades econômicas e na regulação da economia.

Integração mundial do mercado financeiro, possibilitada pela revolução nas telecomunicações que propiciou a realização on-line de operações financeiras e a interdependência do segmento financeiro.

Troca instantânea de informações, que também foi possibilitada pela revolução nas telecomunicações.

Aumento do comércio mundial, que cresce em níveis maiores do que o PIB mundial.

Proliferação de blocos econômicos

Seletividade das migrações, com muitos obstáculos, a migração de trabalhadores de baixa renda e qualificação em direção aos países ricos e uma facilidade de ingresso e residência de mão de obra altamente qualificada, nesses países.

Aumento das desigualdades entre países e desigualdades sociais: A distância que separa os países ricos dos países pobres aumentou e há uma maior concentração de riqueza em um número muito pequeno de pessoas no mundo.



Emergência de uma sociedade civil global. Os problemas passam a ser vistos globalmente, o que leva a atuação em rede e com pautas globais por organizações da sociedade civil.

Neoliberalismo

Conjunto de ideias políticas e econômicas capitalistas que defende a não participação ou mínima participação do estado na economia.

Princípios:

a) Liberdade de mercado com a eliminação de todos os dispositivos que atrapalhem o livre funcionamento dos investimentos e do comércio.

b) Mínima participação do Estado na economia: Crença de que o Estado é ineficiente, atrapalha o livre funcionamento dos mercados, administra mal os recursos e, ao não se modernizar no mesmo ritmo das empresas privadas, suas empresas geram menos lucros e ofertam produtos de pior qualidade.

c) Redução de subsídios e gastos sociais por parte dos governos: Crença de que o Estado desperdiça muito dinheiro com direitos sociais, o que provoca aumento de impostos, que serão pagos pela sociedade a fim de gerar recursos destinados à assistência aos mais pobres. A manutenção desses gastos do Estado significa premiar os fracassados e punir com impostos os competentes.

d) Livre circulação de capitais, visando garantir a livre entrada e saída de capitais em qualquer país e permitir que o mesmo dinheiro seja aplicado e remunerado em operações financeiras, como, por exemplo, na bolsa de valores, e não somente na produção ou na geração de empregos.

e) Flexibilização do mercado de trabalho, podendo-se contratar e demitir livremente os empregados e reduzir o dispêndio das empresas com seus funcionários.

f) Abertura dos mercados internos para produtos estrangeiros com a eliminação de qualquer protecionismo econômico.

Contestações à globalização

A globalização não beneficiou a todos. A pobreza diminuiu, mas aumentou a desigualdade entre os países e as pessoas. Um grupo reduzido de países e de pessoas concentram a maior parte da riqueza mundial.

A crise econômica mundial de 2008 trouxe à tona os problemas da globalização. A recessão causada por essa crise levou diversos países a rever suas políticas econômicas. Para proteger os empregos e a produção local, muitos governos passaram a **questionar o livre-comércio, os blocos econômicos, a livre circulação de pessoas, a imigração, os estrangeiros.** A crise ampliou a disputa por empregos e renda entre os trabalhadores e muitos passaram a identificar nos estrangeiros que residem e trabalham nos seus países como competidores que estariam “roubando” os empregos dos nacionais e contribuindo para uma redução das suas rendas.

A resposta de muitos governos à crise foi a adoção de políticas nacionalistas, baseadas na exploração do sentimento de identidade nacional para se posicionar na disputa global com outros países. Nesse contexto, partidos e segmentos de extrema direita crescem na Europa, nos Estados Unidos e em outros países pelo mundo. A plataforma dessas agremiações e segmentos privilegia a soberania sobre a economia e as fronteiras e um discurso anti-imigratório e, especialmente, em favor da saída dos países e/ou mudanças substanciais nos blocos econômicos que fazem parte.



RESUMO

Blocos Econômicos

A globalização ampliou largamente a formação de blocos econômicos, que são organizações criadas por países para promover a integração econômica; o crescimento econômico e a competitividade internacional dos países-membros.

Existem quatro modelos básicos de bloco econômico:

- **Área de livre-comércio** – Um grupo de países concorda em eliminar ou reduzir os impostos e taxas de importação, quotas e preferências que recaem sobre a maior parte das (ou todas as) mercadorias importadas e exportadas entre esses países.

- **União aduaneira** – Além do livre comércio, os países-membros definem regras para o comércio com nações de fora do bloco. Uma tarifa externa comum (TEC) é adotada para boa parte – ou a totalidade – das mercadorias provenientes de outros países, ou seja, todos cobram os mesmos impostos de importação de terceiros.

- **Mercado comum** – Caracteriza-se pela livre circulação de mercadorias, serviços, capitais e trabalhadores e pela adoção da tarifa externa comum.

- **União econômica e monetária** – É o estágio final de integração econômica entre países. Além da livre circulação de mercadorias, serviços, capitais e trabalhadores e a tarifa externa comum, os países-membros adotam uma moeda comum e a mesma política de desenvolvimento.

União Europeia

Constitui-se em uma união econômica e monetária, com 27 países-membros. O **Euro**, moeda comum, é adotado por 20 dos 27 países membros. Países que não adotam o euro: Bulgária, Dinamarca, Hungria, Polônia, República Checa, Romênia e Suécia. No âmbito da União Europeia vigora a livre circulação de pessoas.

Há também o **Espaço Schengen**, uma zona de livre circulação de pessoas, onde os controles fronteiriços foram eliminados, exceto em circunstâncias excepcionais. É composto por 27 países e conta com 23 dos 27 membros da União Europeia.

Brexit - é como se denomina o processo de saída do Reino Unido da União Europeia. Teve início em 2016, por meio de um plebiscito, onde a população votou por sair do bloco, e se concluiu em janeiro de 2020, com a saída formal do país do bloco regional. Foi uma saída inédita, a primeira vez que um país membro saiu do bloco econômico.

Mercosul

Membros fundadores: Argentina, Brasil, Paraguai e Uruguai. A Bolívia ingressou no bloco em 2024 e a Venezuela em 2012, porém, atualmente encontra-se suspensa, com base na cláusula democrática, constante do Protocolo de Ushuaia do MERCOSUL. O bloco entende que há uma ruptura na ordem democrática do país e que os poderes não estão funcionando de modo harmônico e independente.



Estados associados: são os demais países da América do Sul: Chile, Equador, Peru, Colômbia, Guiana e Suriname. Estados observadores: México e Nova Zelândia.

O bloco econômico negocia desde 1999 um acordo comercial com a **União Europeia**. O acordo teve a parte comercial concluída em 2019 e, em 2020, as partes políticas e de cooperação. Desde então, está em fase de revisão. A finalização do acordo esbarra na resistência de produtores rurais de alguns países europeus, notadamente da França, que pressionam os seus governos, temerosos de perderem mercado para produtos da agropecuária do Mercosul, notadamente do Brasil, que entrariam na UE a preços mais competitivos do que os da produção local.

Outros blocos econômicos

USMCA (United States - Mexico - Canada Agreement): Acordo comercial entre Estados Unidos, México e Canadá, que substituiu o antigo Nafta. O acordo aborda temas como comércio digital, propriedade intelectual, trabalho, meio ambiente e comércio automotivo.

APEC (Asian-Pacific Economic Cooperation): Bloco econômico composto por 21 nações banhadas pelo Oceano Pacífico, incluindo Estados Unidos, China e Japão. Representa uma grande parte do PIB mundial e da população global, mas enfrenta desafios devido a disputas comerciais e divergências entre seus membros.

ASEAN (Association of Southeast Asian Nations): Bloco formado por países do sudeste asiático, com o objetivo de promover o desenvolvimento econômico, social e cultural da região. Possui uma área de livre comércio desde 1992.

Comunidade Andina de Nações: Bloco sul-americano composto por Bolívia, Colômbia, Equador e Peru, que busca integração econômica, política e redução das desigualdades. Permite a circulação de pessoas entre os países membros.

SADC (Southern Africa Development Community): Principal bloco econômico da África, composto por 16 países do sul do continente. Busca o desenvolvimento da região, diminuindo a pobreza e as desigualdades. Debate a implementação de uma moeda única comum.

CEI (Comunidade dos Estados Independentes): Composta por países que faziam parte da antiga União das Repúblicas Socialistas Soviéticas (URSS). Criada para preencher o vazio deixado pela URSS, mas possui menos acordos comerciais entre seus membros.



RESUMO

Descobertas e Inovações Científicas na Atualidade e seus Impactos na Sociedade Contemporânea

A ciência e a tecnologia, entre os seus muitos avanços, têm elevado a expectativa de vida das pessoas, melhorado a produtividade, as comunicações, os transportes, a moradia e a difusão do conhecimento e de culturas.

Atividades penosas, anteriormente executadas pelo homem, são agora executadas por máquinas e robôs que também penetram e executam tarefas em lugares perigosos para os seres humanos. As tecnologias atuais vêm tornando o processo de produção mais rápido, flexível e eficiente.

A humanidade vivencia a **Quarta Revolução Industrial** ou **Indústria 4.0**. Assim como as revoluções anteriores, essa nova era tecnológica está transformando a economia, o mercado de trabalho e a vida em sociedade de maneira profunda.

Segundo Klaus Schwab, essa revolução se distingue das demais pela velocidade, amplitude, profundidade e pela fusão de tecnologias e a interação entre os domínios físicos, digitais e biológicos.

Como as anteriores, a Quarta Revolução também tem suas críticas. A parte mais controversa está relacionada ao **mundo do trabalho**. Inúmeras profissões e milhões de **postos de trabalho têm sido extintos pelas contínuas inovações tecnológicas**. Por outro lado, **surgem novas profissões ligadas à área tecnológica**, com alta demanda de profissionais e baixos níveis de desemprego.

Outro aspecto está relacionado à **precarização das relações de trabalho**, ou seja, a redução ou a prestação de trabalho sem direitos trabalhistas. É o caso dos prestadores de serviços por aplicativo, também conhecidos como trabalhadores plataformizados. Popularizou-se o termo "**uberização do trabalho**", em alusão a uma das empresas mais famosas desse segmento, a Uber.

Os **dados são considerados uma nova commodity** e quem controla o fluxo desses dados, a navegação das pessoas na internet e processa todas essas informações detém um grande poder. Empresas como Google, Facebook, Amazon e outras controlam grandes volumes de dados, que são usados para publicidade direcionada e análise detalhada de perfis dos usuários.

A **coleta massiva de dados suscita preocupações sobre privacidade**, como exemplificado no escândalo da Cambridge Analytica, que envolveu o uso indevido de dados de milhões de usuários do Facebook.

Regulações como a Regulamentação Geral de Proteção de Dados (**GDPR**) na União Europeia e a Lei Geral de Proteção de Dados (**LGPD**) no Brasil visam a proteger os cidadãos, estabelecendo diretrizes para o uso e proteção de dados pessoais.

Principais inovações tecnológicas em destaque:

- **Internet das Coisas (IoT)**: refere-se à interconexão de dispositivos e objetos do cotidiano à internet, permitindo maior integração e automação em nossas vidas;
- **Internet 5G**: nova geração de conectividade móvel, oferecendo velocidades mais rápidas e menores tempos de resposta, essenciais para áreas como veículos autônomos e cirurgias remotas;
- **Inteligência Artificial (IA)**: sistemas capazes de **realizar tarefas que normalmente exigiriam inteligência humana**. Isso inclui atividades como reconhecimento de padrões, aprendizado,



raciocínio, resolução de problemas e tomada de decisões. A IA abrange uma ampla gama de aplicações, desde assistentes virtuais e carros autônomos até diagnóstico médico, previsões financeiras e muito mais, revolucionando a forma como interagimos com a tecnologia e automatizamos processos;

- **Impressão 3D:** permite a criação de objetos tridimensionais a partir de modelos digitais, com aplicações em uma ampla variedade de setores, desde a indústria manufatureira até a medicina e a arte, revolucionando a forma como projetamos, prototipamos e produzimos objetos;
- **Big Data:** capacidade de coletar, armazenar, organizar, analisar e interpretar dados de grande volume, variedade e velocidade, para extrair insights valiosos, identificar padrões e tomar decisões mais precisas e informadas;
- **Moedas digitais e criptomoedas:** que possibilitam transações financeiras globais rápidas, seguras e descentralizadas, promovendo a inclusão financeira, especialmente em regiões sem acesso a serviços bancários. As criptomoedas introduziram uma nova classe de ativos para investimento e especulação.



RESUMO

Guerra Fria 2.0

A Guerra Fria “original” foi uma disputa entre duas superpotências na segunda metade do século XX, que disputavam áreas de influência no mundo e apoiavam militarmente países e grupos aliados. Os Estados Unidos, liderando o bloco de países capitalistas, e a União das Repúblicas Socialistas Soviéticas (URSS), liderando o bloco de países socialistas. Este período de intensa competição geopolítica, teve início em 1947, logo após o término da 2ª Guerra Mundial, e terminou em 1991, com a dissolução da União Soviética.

A crescente tensão entre Estados Unidos e China, - as duas maiores economias do planeta -, tem sido denominada Guerra Fria 2.0. Também é uma disputa geopolítica e por áreas de influência no mundo, mas não tem como cenário principal a disputa ideológica entre capitalismo e socialismo. É sobretudo uma disputa de poder econômico, com tentativas de dificultar a evolução do oponente também no desenvolvimento de novas tecnologias e inteligência artificial.



RESUMO

Estados Unidos

Por ser a maior economia do mundo e a maior potência militar do planeta, o que ocorre nos Estados Unidos interessa bastante ao mundo como um todo. O país também é o mais importante ator da política internacional, e o seu poder, a sua influência e a sua liderança se espalham por todo o globo.

Nas eleições presidenciais, realizadas em 05 de novembro de 2024, **Donald Trump**, do **Partido Republicano**, sagrou-se vencedor, derrotando **Kamala Harris**, do **Partido Democrata**.

Sistema Eleitoral

- As eleições presidenciais nos EUA são indiretas, realizadas por meio do Colégio Eleitoral.
- Cada estado possui um número de delegados proporcional à sua população. Ao todo, são 538 delegados, sendo necessários 270 para vencer.
- A maioria dos estados adota o sistema "winner-takes-all", em que o vencedor do voto popular em um estado recebe todos os delegados daquele estado. As exceções são Maine e Nebraska.
- O sistema é alvo de críticas devido à desproporcionalidade e à possibilidade de eleger um presidente que não tenha maioria no voto popular.

Eleições de 2024

- **Resultados:** Donald Trump venceu Kamala Harris (Democrata) com 312 votos no Colégio Eleitoral e 50,2% dos votos populares.
- **Campanha e Controvérsias:**
 - Joe Biden desistiu da candidatura à reeleição devido as críticas e preocupações sobre a sua capacidade de vencer as eleições. No seu lugar assumiu como candidata Kamala Harris, sua vice-presidente.
 - Trump sofreu três tentativas de assassinato durante a campanha.
 - Em maio de 2024, Trump foi condenado por falsificação de registros comerciais ligados a pagamentos para silenciar uma ex-atriz pornô, mas em junho obteve vitória na Suprema Corte, enfraquecendo outros processos penais.

Perspectivas para o Governo Trump

- **Imigração:** Retomada de políticas rígidas de controle de imigração e deportações em massa de imigrantes ilegais.
- **Meio Ambiente:** Reversão de políticas ambientais do governo Biden, incentivar a produção de combustíveis fósseis e retirar novamente os Estados Unidos do Acordo do Clima de Paris.
- **Economia:** Cortes de impostos para empresas e americanos de classe média e trabalhadores. Aumento de tarifas de importação e aprofundamento das sanções à China em setores considerados ameaçadores à economia norte-americana.
- **Redução da Burocracia:** Centralizar o poder no Executivo e limitar a influência de agências reguladoras e outras instituições federais. Desregulamentação de vários setores, reorganização e



extinção de órgãos federais, cortes de gastos públicos e redução do número de funcionários públicos.

- **Relações Internacionais:** Foco isolacionista, reavaliação da participação na OTAN e apoio a Israel no Oriente Médio.
- **Guerra Rússia x Ucrânia:** Promessa de resolução rápida do conflito e reavaliação do apoio à Ucrânia.



RESUMO

China

Em valores totais, o PIB da China é o segundo maior do mundo, atrás dos Estados Unidos. O país chegou a essa condição em poucas décadas, após as reformas econômicas implantadas na década de 70 do século passado. O modelo vigente é denominado de “socialismo de mercado”.

O país é um grande exportador de produtos industrializados e um grande importador de commodities. É um grande investidor em países de todos os continentes, criando uma relação de interdependência entre os países e a China.

A “Nova Rota da Seda” é o projeto mais ambicioso. O objetivo é criar um corredor econômico, composto por estradas, ferrovias, oleodutos e cabos de fibra ótica, que irá conectar, por via terrestre e marítima, a China à Europa e à África. O corredor atravessará a Ásia Central, o Oriente Médio e o Oceano Índico. A rota da seda foi um corredor econômico que uniu Oriente e Ocidente no primeiro milênio de nossa era.

O regime de governo é considerado uma **ditadura que reprime a liberdade de expressão e viola os direitos humanos**.

O **Mar do Sul da China** é uma área de disputa de soberania entre os chineses e as Filipinas, Vietnã, Brunei, Malásia e Taiwan. A China vem impondo a sua soberania, inclusive com a construção de ilhas artificiais e a instalação de plataformas para a exploração de petróleo na região.

Taiwan é considerada uma província rebelde que a China quer reintegrar ao país. Em busca de uma solução pacífica, contudo, a China propõe o conceito de "um país, dois sistemas": o socialista no continente e o capitalista em Taiwan. Em tese, isso permitiria a Taiwan adotar as suas políticas econômicas e manter as suas instituições, com relativa autonomia.

Mas Taiwan recebe certo apoio internacional, sobretudo, dos Estados Unidos. A situação da ilha tem sido usada de forma estratégica pelos EUA para pressionarem a China no cenário das disputas geopolíticas entre esses dois países. Em setembro de 2022, a Presidente da Câmara dos Representantes dos EUA, Nancy Pelosi, fez uma visita à ilha de Taiwan. Após a visita, a China fez vários dias de exercícios militares ao redor da ilha, o que foi considerado o **maior movimento militar** já realizado pela China relacionado à Taiwan.

Hong Kong é uma **Região Administrativa Especial** que possui um alto grau de autonomia, exceto em assuntos estrangeiros e de defesa. Grandes protestos ocorreram na região, entre fevereiro de 2019 e março de 2020, contra uma proposição legislativa para permitir a extradição de cidadãos de Hong Kong para serem julgados na China Continental. O governo local cedeu e retirou definitivamente o projeto de lei do poder legislativo, mas a chefe do executivo continuou no cargo.

Em maio de 2020, a China instituiu uma **nova lei de segurança nacional** para Hong Kong, que desencadeou uma nova onda de grandes protestos na região. Com base nessa lei, ativistas políticos foram presos e estão sendo processados e órgãos de imprensa têm sido alvo de repressão das autoridades chinesas.



QUESTÕES COMENTADAS – MULTIBANCAS GLOBALIZAÇÃO E DESGLOBALIZAÇÃO

1. (INSTITUTO VERBENA/TJ-AC/2024) Leia a charge a seguir.



O conceito de globalização surge na década de 1980 e se populariza ao longo do tempo traduzindo aspectos diversos como a divisão de tecnologias na área de comunicação, circulação de informações e fluxos financeiros. Esse fenômeno mundial tem vários efeitos sobre a sociedade, a cultura e a economia mundial. Diante do exposto, a charge apresentada se insere nesse contexto ao expor

- A) as dificuldades de acesso à internet entre pessoas que moram em áreas de morro devido as condições de relevo.
- B) o acesso desigual de internet das pessoas mais pobres desmistificando que a globalização seja igual para todos.
- C) as péssimas condições de moradia nas áreas urbanas das grandes cidades onde muitas vezes se tem escassez da rede técnica dificultando e acesso à internet.
- D) o analfabetismo tecnológico que atinge a vida dos mais pobres por falta de renda para acessar a internet.

COMENTÁRIOS: A globalização, como fenômeno complexo que engloba a interconexão econômica, cultural e social em escala global, muitas vezes é percebida como uma força homogeneizadora que beneficia a todos de maneira igual.

Na charge, observe que a palavra sinal está com cifrões: \$\$\$INAL. Ou seja, o motivo de não haver internet é a falta de dinheiro para pagar por esse serviço. Assim, a charge destaca que o acesso à internet, uma das principais ferramentas da globalização, não é igual para todos, evidenciando as desigualdades socioeconômicas que persistem no mundo contemporâneo.



Portanto, a alternativa correta é a letra "B", que ressalta o acesso desigual à internet das pessoas mais pobres, desmistificando a ideia de que a globalização beneficia todos de forma igualitária.

Gabarito: B.

2. (CEBRASPE/TJ-SC/2023) A globalização caracteriza-se por vários aspectos, entre os quais se inclui

- a) o fechamento das fronteiras nacionais como forma de defesa das economias locais.
- b) o desestímulo à formação de blocos econômicos regionais ou continentais.
- c) o uso constante da ciência e do conhecimento, que demanda incessantes inovações tecnológicas.
- d) o fim do uso do dólar como principal moeda para as transações comerciais.
- e) a exclusão econômica de diversas regiões do planeta por não terem matéria prima e possibilidade de produção.

COMENTÁRIOS:

a) Incorreta. A globalização envolve a abertura das fronteiras para o comércio internacional e o fluxo de pessoas, capital e informações entre os países. Embora algumas nações possam adotar medidas protecionistas em determinados momentos, o fechamento das fronteiras como uma característica da globalização é contraditório.

b) Incorreta. A formação de blocos econômicos regionais ou continentais, como a União Europeia e o Mercosul, é uma das características da globalização. Os blocos visam a facilitar o comércio entre os países membros e a fortalecer a sua posição na economia global.

c) Correta. Um dos aspectos fundamentais da globalização é a rápida disseminação do conhecimento científico e tecnológico, impulsionando o desenvolvimento de novas tecnologias e inovações.

d) Incorreta. O dólar americano continua sendo a principal moeda de reserva e das transações comerciais e financeiras internacionais. Apesar de existirem outras moedas importantes, como o euro, o dólar mantém a sua posição de destaque no sistema financeiro global.

e) Incorreta. Mesmo que a globalização possa gerar disparidades econômicas entre regiões, ela também oferece oportunidades para o desenvolvimento econômico, até em áreas que podem ter recursos limitados. A globalização pode facilitar o acesso a mercados globais e a transferência de tecnologia, permitindo que países com recursos limitados se integrem à economia global.

Gabarito: C

3. (FCC/PM BA/2023) A partir de 2020 teve início a expansão de Covid-19 por todos os continentes. Recentemente, a varíola dos macacos (Monkeypox) passou a ser diagnosticada em diferentes países do mundo. Novas epidemias podem surgir e se difundir. Esta situação ocorre devido



- a) ao pequeno avanço da medicina, mesmo nos países desenvolvidos.
- b) ao grande número de habitantes do mundo, que, atualmente, conta com 8 milhões de pessoas.
- c) à deficiente rede de comunicações entre os países mais pobres.
- d) às diferenças econômicas, pois a população dos países ricos não é atingida pelas pandemias.
- e) à globalização, que facilita a movimentação das pessoas pelo mundo.

COMENTÁRIOS:

O aumento dos fluxos de transporte internacional, de migração, de turismo e de intercâmbio comercial, facilitados pela globalização, cria condições propícias para a rápida propagação de doenças. A covid-19 foi o grande exemplo de como a interconexão global pode acelerar a propagação rápida de doenças.

Desse modo, a globalização também cria desafios na coordenação de respostas de saúde, exigindo cooperação internacional entre países e organizações para enfrentar ameaças à saúde global.

Portanto, está correta a alternativa "E". Vamos analisar o erro das demais alternativas:

a) Incorreta. O pequeno avanço da medicina não foi a causa da difusão da covid-19. O vírus atingiu com grande intensidade diversos países desenvolvidos e com medicina avançada, como os Estados Unidos, que registrou o maior número de mortes decorrentes do vírus.

b) Incorreta. Não é correto afirmar que o tamanho da população é a causa direta da disseminação de doenças, como a covid-19. O impacto da propagação de doenças está mais relacionado à densidade populacional, à movimentação e à interação entre as pessoas do que ao número total de habitantes.

c) Incorreta. Embora a deficiência na rede de comunicações possa ser um fator que contribua para a disseminação de doenças, a população deixar de obter informações relevantes sobre causas e prevenções não é o principal motivo para a disseminação de epidemias.

d) Incorreta. As diferenças econômicas não estão necessariamente relacionadas à disseminação de doenças. A população de muitos países ricos e desenvolvidos foi seriamente afetada pela pandemia de covid-19.

Gabarito: E

4. (QUADRIX/CRO-TO/2023) A globalização implica abertura dos mercados cuja produção não cessa de crescer.

COMENTÁRIOS:

A globalização, em seu sentido econômico, implica a abertura dos mercados e uma crescente interconexão entre as economias ao redor do mundo. Esse fenômeno é caracterizado pela liberalização do comércio, investimentos internacionais, fluxo de informações e movimento de pessoas.



Quando a questão menciona a "abertura dos mercados", refere-se ao processo de remover barreiras comerciais, como tarifas e restrições que facilitam a troca de bens e serviços entre os países. A globalização tem sido acompanhada por um aumento significativo na produção e troca de mercadorias em escala global.

A ideia de que a produção não cessa de crescer está relacionada ao aumento da interconexão global, que permite que as empresas acessem mercados mais amplos e aproveitem as vantagens comparativas de diferentes regiões. Essa expansão da produção e dos mercados muitas vezes leva a uma maior eficiência econômica e ao crescimento econômico.

No entanto, vale ressaltar que a globalização também é um fenômeno complexo e multifacetado, com impactos sociais, políticos e ambientais. Nem todos os setores ou regiões se beneficiam igualmente; há inclusive debates sobre os impactos positivos e negativos desse processo.

Gabarito: Certo

5. (QUADRIX/CRO-TO/2023) Na prática, no atual estágio da economia mundial, o protecionismo não existe mais, ou seja, nenhum país encontra dificuldade para exportar e importar.

COMENTÁRIOS:

O protecionismo refere-se às práticas comerciais que visam a proteger os produtores domésticos da concorrência estrangeira. Essas práticas podem incluir a imposição de tarifas, cotas de importação, subsídios às indústrias locais e outras medidas que dificultam ou encarecem as importações.

Apesar da tendência à globalização e do aumento do comércio internacional, muitos países ainda aplicam políticas protecionistas para salvaguardar setores considerados estratégicos, proteger empregos locais e equilibrar suas balanças comerciais.

Gabarito: Errado

6. (QUADRIX/CRO-TO/2023) Com o crescimento da economia mundial, o desemprego deixou de existir.

COMENTÁRIOS:

Uma afirmação absurda. O desemprego não deixou de existir em nenhum país do mundo. Esse problema ainda é uma realidade em muitos lugares, mesmo com o crescimento da economia mundial. No sistema capitalista, sempre haverá desemprego, por menor que seja.

O crescimento econômico mundial não garante automaticamente a eliminação do desemprego. Existem vários fatores estruturais, sociais e econômicos que contribuem para essa situação, como as mudanças tecnológicas, as flutuações cíclicas, as desigualdades sociais e outros.

Gabarito: Errado

7. (QUADRIX/CRO-TO/2023) A palavra globalização é normalmente utilizada para definir o atual estágio da economia mundial, um processo que se estende no tempo, mas que se acelerou nas últimas décadas.



COMENTÁRIOS:

A globalização diz respeito ao processo de interconexão e de interdependência crescentes entre países, economias, culturas e sociedades em todo o mundo. Esse fenômeno não é recente, tendo se desenvolvido ao longo do tempo. Para boa parte dos estudiosos do tema, a globalização se iniciou com as Grandes Navegações (Era dos Descobrimentos), entre o século XV e início do século XVII.

Embora a globalização tenha raízes históricas, sua forma contemporânea é frequentemente associada à intensificação das interações globais nas últimas décadas. Avanços em tecnologia, comunicações e transporte aceleraram significativamente esse processo.

Gabarito: Certo

8. (QUADRIX/CRO-TO/2023) As incessantes inovações tecnológicas, assentadas no conhecimento em constante expansão, são decisivas para assegurar a ampliação da capacidade produtiva dos atores econômicos.

COMENTÁRIOS:

Nesta questão, o examinador se utilizou de termos técnicos para passar uma ideia, com o objetivo de dificultar a questão.

Simplificando-a, ressalta-se que o constante desenvolvimento de novas tecnologias, impulsionado pelo contínuo crescimento do conhecimento, é fundamental para garantir que empresas e outros participantes da economia consigam aumentar a quantidade de bens e serviços que produzem e, com isso, contribuir para o crescimento de sua economia. Isso está correto.

Gabarito: Certo

9. (QUADRIX/CRO-TO/2023) Hoje, mais que em outras épocas, o domínio do conhecimento é uma condição essencial para que um país assuma posição de destaque na economia global.

COMENTÁRIOS:

Atualmente, mais do que em épocas passadas, o domínio do conhecimento desempenha um papel fundamental para que um país se destaque na economia global.

Essa tendência reflete a transição para uma sociedade baseada no conhecimento, na qual a inovação, a educação e a capacidade de se adaptar às mudanças tecnológicas desempenham papéis cruciais no desenvolvimento econômico. Países que investem em educação, pesquisa e tecnologia tendem a ter vantagens competitivas e maior relevância no cenário político e econômico global.

Gabarito: Certo

10. (CEBRASPE/TJ-SC/2023) Comumente definida como o atual estágio da economia mundial, a globalização



- A) representa a ampliação desmedida do Estado na atividade econômica, reduzindo e, em alguns casos, até impedindo a atuação da iniciativa privada.
- B) implica a abertura dos mercados para escoar uma produção que tende a se ampliar continuamente, apesar da persistência de certo protecionismo.
- C) não admite a mediação de organismos multilaterais nas atividades mercantis globais.
- D) enrijece sobremaneira a noção clássica e tradicional de fronteiras nacionais, para impedir a concorrência externa aos produtos nacionais.
- E) dificulta a introdução de métodos mais modernos no sistema produtivo dos países, por temor a um aumento incontrollável das taxas de desemprego.

COMENTÁRIOS:

A questão aborda o conceito de globalização, atual estágio da economia mundial. A globalização implica a integração econômica e interconexão entre países, facilitando a circulação de bens, serviços, capital e informações.

Alternativa a: incorreta. A globalização não representa uma ampliação desmedida do Estado na atividade econômica. As bases ideológicas da globalização pressupõem uma reduzida participação do Estado na economia, a doutrina conhecida como neoliberalismo.

Alternativa b: correta. A globalização implica a abertura dos mercados para escoar uma produção que tende a se ampliar continuamente, mesmo com a persistência de certo protecionismo. Isso significa que, apesar das barreiras comerciais e políticas protecionistas, a globalização busca promover a liberalização econômica, visando à ampliação do comércio internacional.

Alternativa c: incorreta. A globalização envolve a mediação de organismos multilaterais nas atividades mercantis globais, como a Organização Mundial do Comércio (OMC), que tem como objetivo estabelecer regras e promover a cooperação comercial entre os países.

Alternativa d: incorreta. A globalização não altera a fronteira política dos países, mas flexibiliza a noção clássica e tradicional das fronteiras nacionais, em que há elevado protecionismo e o “fechamento das fronteiras” para dificultar ou impedir a concorrência externa aos produtos nacionais. A globalização promove a abertura econômica, a integração das cadeias produtivas e a competição entre os países.

Alternativa e: incorreta. A globalização, ao contrário, tende a facilitar a introdução de métodos mais modernos no sistema produtivo dos países, impulsionando a inovação e a eficiência produtiva. O desemprego é um problema estrutural do capitalismo, ora ele aumenta, ora ele diminui nos países e no mundo, em função das conjunturas econômicas globais e locais e da lógica desse sistema. O acelerado processo de inovação tecnológica na sociedade capitalista tem levado a uma precarização das relações de trabalho. O desemprego pode aumentar se um país não planejar bem a sua inserção na economia tecnológica e no mundo globalizado. Contudo, se for se fechar para a inovação tecnológica, fica para trás no acompanhamento do desenvolvimento econômico global.

Gabarito: B



11. (CEBRASPE/TJ-SC/2023) Quanto à realidade da atual era do conhecimento, ou era da informação, assinale a opção correta.

- A) Na atualidade, há consenso de que, conceitual e tecnicamente, conhecimento e informação são rigorosamente sinônimos.
- B) A revolução tecnológica em curso é inédita e não tem nenhum vínculo com séculos anteriores.
- C) O avanço da ciência, com sua aplicação em tecnologia, foi fundamental para a eliminação da desigualdade entre os povos.
- D) Apesar dos seus inegáveis benefícios, os modernos meios de comunicação também são úteis ao crime organizado, que deles faz uso em sua atuação global.
- E) Ainda é reduzido o impacto da tecnologia da informação, em suas variadas manifestações, no sistema produtivo.

COMENTÁRIOS:

Alternativa a: incorreta. Embora conhecimento e a informação estejam relacionados, não são sinônimos rigorosos. O conhecimento envolve a compreensão e a aplicação de informações de forma significativa, enquanto a informação é apenas um conjunto de dados.

Alternativa b: incorreta. A revolução tecnológica em curso tem vínculos e evoluções em relação a séculos anteriores. Apesar de os avanços recentes serem notáveis, eles são construídos sobre as bases estabelecidas anteriormente.

Alternativa c: incorreta. Ainda que o avanço da ciência e da tecnologia tenha contribuído para melhorias em diversas áreas e redução de desigualdades em alguns aspectos, existem desafios significativos relacionados à desigualdade entre os povos.

Alternativa d: correta. Os modernos meios de comunicação, mesmo que tragam inegáveis benefícios, também são utilizados pelo crime organizado em sua atuação global. A facilidade de comunicação e troca de informações possibilitada pelos avanços tecnológicos também pode ser explorada de forma negativa.

Alternativa e: incorreta. O impacto da tecnologia da informação nas suas várias manifestações no sistema produtivo é considerável. A tecnologia da informação tem transformado a forma como os negócios são conduzidos, impulsionando a eficiência, a produtividade e a inovação em diversos setores da economia.

Gabarito: D

12. (VUNESP/EPC/2023) Atualmente, a indústria se baseia na transformação digital, simbolizada pela combinação de tecnologias inovadoras, como a internet das coisas, a inteligência artificial e a robótica, bem como a cibersegurança, a computação em nuvem e a análise de dados, o que resulta em novas soluções que aumentam a produtividade e conectam o mundo da indústria tradicional ao mundo virtual.

(Correio Braziliense. <https://bit.ly/3DXOBdM>. 03.06.2022)



O excerto descreve a

- A) indústria interativa.
- B) quarta revolução industrial.
- C) indústria 5.0.
- D) terceira revolução industrial.
- E) indústria corporativa.

COMENTÁRIOS:

O enunciado faz referência a um fenômeno importante no campo industrial que combina tecnologias inovadoras, como a internet das coisas, a inteligência artificial, a robótica, a cibersegurança, a computação em nuvem e a análise de dados. Essa descrição se relaciona com o conceito de "Quarta Revolução Industrial", ou Indústria 4.0. A invenção e a disseminação de todas essas tecnologias geraram uma grande automação do processo produtivo.

Recentemente, também passou a se falar em Quinta Revolução Industrial, ou Indústria 5.0, que se caracteriza pela criação de invenções que combinem todas essas tecnologias, mas inserindo o ser humano junto às tecnologias automatizadas, criando um campo onde ambos se complementam.

Ela se caracteriza pela criação de invenções que trabalhem a favor do ser humano, das empresas e da sociedade, inserindo-se também o conceito de sustentabilidade no processo.

Na Indústria 4.0, ou Quarta Revolução Industrial, que foi proporcionada pelos avanços tecnológicos trazidos principalmente pelo advento da internet, o foco das fábricas era a automatização máxima do processo. Em outras palavras, quanto menos intervenção humana no processo de fabricação, melhor.

Já a Indústria 5.0 tem uma nova visão para esse processo de automatização, tornando-o menos mecânico e mais sincrônico entre a mente humana e as tecnologias utilizadas na produção.

Uma é a evolução natural da outra, tendo em vista que, na Quarta Revolução, o ser humano ainda aprende a lidar com as tecnologias e, na Quinta Revolução, alcança um maior domínio e traz de volta o potencial criativo para o processo industrial.

Gabarito: B

13. (FGV/CÂMARA MUNICIPAL DE TAUBATÉ/2022) “Nos últimos anos, ela se tornou uma das tecnologias mais importantes do século XXI. Agora que podemos conectar objetos do cotidiano - eletrodomésticos, carros, termostatos, babás eletrônicas - à Internet por meio de dispositivos incorporados, é possível uma comunicação perfeita entre pessoas, processos e outras coisas. Por meio da computação de baixo custo, nuvem, big data, análise avançada e tecnologias móveis, coisas físicas podem compartilhar e coletar dados com o mínimo de intervenção humana. Nesse mundo hiperconectado, os sistemas digitais podem gravar, monitorar e ajustar cada interação entre itens conectados. O mundo físico



encontra o mundo digital, e eles trabalham em conjunto. Os especialistas preveem que 22 bilhões de dispositivos estejam conectados em 2025.”

(<https://www.oracle.com/>)

O texto fala sobre a

- (A) rede mundial de computadores.
- (B) internet das coisas (IoT).
- (C) web profunda.
- (D) impressão 3D.
- (E) nanotecnologia.

COMENTÁRIOS:

O texto fala sobre a internet das coisas, também chamada de “IoT – internet of things”.

A Internet das Coisas refere-se à interconexão de objetos do cotidiano à Internet, permitindo que eles se comuniquem e coletem dados por meio de dispositivos incorporados. Esses objetos podem ser eletrodomésticos, carros, termostatos, babás eletrônicas e muitos outros, que, por meio de sensores e dispositivos de comunicação, podem trocar informações entre si e com sistemas digitais, com pouco ou nenhum envolvimento humano.

Essa conexão dos objetos ao ambiente digital proporciona uma maior eficiência e conveniência em diversos setores da sociedade, como a automação residencial, a indústria, a saúde e a agricultura etc. A IoT tem o potencial de melhorar a qualidade de vida das pessoas, de otimizar processos produtivos e de promover a sustentabilidade.

Gabarito: B

14. (FGV/CÂMARA MUNICIPAL DE TAUBATÉ/2022) Na América Latina, na última década, ocorreram alterações estruturais nos principais setores produtivos, acompanhadas por uma tendência de aumento da informalidade no mercado de trabalho. Assinale a opção que exemplifica corretamente essa tendência.

- (A) Ampliação da subcontratação de mão de obra feminina no setor de serviços.
- (B) Incremento da demanda de jovens para vagas de estágio temporário.
- (C) Adesão progressiva à categoria de Microempreendedor Individual (MEI).
- (D) Crescimento do número de trabalhadores com jornada de trabalho flexível.
- (E) Aumento de trabalhadores sem cobertura da Previdência Social.



COMENTÁRIOS:

Muita atenção a essa questão, que pede para assinalar a opção que exemplifica corretamente “essa tendência”, que está relacionada ao aumento da informalidade no mercado de trabalho, descrito no enunciado.

O aumento da informalidade no mercado de trabalho, com pessoas trabalhando sem uma contratação formal, como a assinatura da carteira de trabalho, leva ao aumento de trabalhadores sem cobertura da Previdência Social.

Vamos analisar as demais alternativas:

Alternativa A: a subcontratação de mão de obra feminina é um problema não apenas na América Latina, mas no mundo inteiro. De modo geral, mulheres encontram mais dificuldades de inserção no mercado de trabalho do que homens. Isso não é propriamente um problema relacionado à informalidade no mercado de trabalho, e sim um problema estrutural do mercado de trabalho relacionado às desigualdades de gênero.

Alternativa B: pode-se entrar na discussão se oportunidades de trabalho por estágio temporário são benéficas ou não para os trabalhadores, contudo, elas estão inseridas dentro do sistema formal de trabalho.

Alternativa C: a adesão ao modelo Microempreendedor Individual (MEI) é um método de formalização do trabalho, muito embora trabalhadores dessa categoria ainda enfrentem problemas ligados à informalidade. Ao estabelecer um modelo de contrato MEI, o trabalhador também realiza uma contribuição para a Previdência Social, para sua futura aposentadoria. Portanto, essa alternativa não exemplifica diretamente o aumento da informalidade.

Alternativa D: a jornada de trabalho flexível pode estar relacionada a diferentes modalidades de emprego, mas não necessariamente indica aumento da informalidade.

Gabarito: E

15. (FGV/CÂMARA MUNICIPAL DE TAUBATÉ/2022) Nos anos 2000 e 2010 a internet era vista como um instrumento que concretizaria os sonhos de criar uma “aldeia global”, um mundo com poucas fronteiras, comunicação rápida e incessante, diminuição de conflitos e ampla liberdade de expressão. Em 2022 o cenário é outro, marcado pelo ceticismo e pela desconfiança em relação às mídias digitais.

A respeito das principais razões para essa mudança de perspectiva, avalie as afirmativas a seguir e assinale (V) para a verdadeira e (F) para a falsa.

() O monitoramento de redes sociais, para identificar tendências de consumo e comportamento, tem sido denunciado como um instrumento de vigilância que potencializa a mercantilização do ciberespaço.

() A difusão de discursos de ódio pelas redes sociais e o uso de dados pessoais dos usuários para fins de propaganda política têm levado a uma crise de fidedignidade da mídia digital, a favor da mídia impressa.

() A desregulamentação do funcionamento das Big Techs nas grandes potências, ocidentais e orientais, em função da pandemia de Covid-19, tem gerado temores sobre o controle estatal dos dados pessoais dos usuários.



Assinale a opção correta, de cima para baixo:

- (A) V – V – F.
- (B) F – V – V.
- (C) V – F – F.
- (D) F – V – F.
- (E) V – V – V.

COMENTÁRIOS:

I - Verdadeiro. O monitoramento de redes sociais para identificar tendências de consumo e de comportamento sido objeto de críticas e denúncias por parte de ativistas, especialistas em privacidade e organizações de defesa dos direitos digitais.

As preocupações em torno dessa prática estão relacionadas ao respeito à privacidade e ao uso ético dos dados pessoais. Muitas vezes, os usuários não estão cientes de como suas informações são coletadas, armazenadas e utilizadas, o que pode comprometer a sua segurança e autonomia na rede. Além disso, o uso desses dados para fins comerciais pode criar um ambiente de vigilância digital, no qual os indivíduos se sentem constantemente monitorados e manipulados.

Essas questões têm levado a debates sobre a necessidade de uma regulamentação mais rigorosa e transparente no que diz respeito à coleta e ao uso de dados pelas empresas de tecnologia. Iniciativas como a Lei Geral de Proteção de Dados (LGPD), no Brasil, e o Regulamento Geral de Proteção de Dados (GDPR), na União Europeia, buscam estabelecer diretrizes para a proteção da privacidade dos cidadãos e a responsabilização das empresas que lidam com dados pessoais.

II - Falso. Embora a difusão de discursos de ódio pelas redes sociais e o uso dessas plataformas para fins de propaganda política possam ser problemáticos, não se pode afirmar que isso tenha levado a uma crise de fidedignidade da mídia digital em favor da mídia impressa. A utilização de mídias digitais cresce progressivamente no mundo, tomando espaço das mídias impressas.

III - Falso. Big Techs são grandes empresas de tecnologia, como Google, Microsoft, Apple, Meta, e outras. Não tem ocorrido um processo de desregulamentação do funcionamento dessas empresas em função da pandemia de covid-19. Pelo contrário, muitas vezes, tem-se levantado preocupações sobre a falta de controle e regulação dessas empresas com relação ao uso de dados dos usuários, motivando ações para a regulamentação da coleta e do uso de dados dos usuários por essas empresas.

Gabarito: C

(QUADRIX/CFFA/2022) Com relação a tópicos atuais de diversas áreas, julgue os itens.

16. A economia globalizada pressupõe, entre outros aspectos, a abertura comercial, que tende a subverter o conceito clássico de fronteiras nacionais; todavia, medidas protecionistas não deixam de existir.



COMENTÁRIOS:

A economia globalizada pressupõe a abertura comercial. Para existir um mercado global, é necessário que haja um fluxo constante de trocas de mercadorias e serviços entre os países, o que também requer a existência de uma maior abertura comercial nas fronteiras nacionais.

Por isso, na economia global da atualidade, costuma-se dizer, de forma metafórica, que a globalização “derrubou” as fronteiras entre as nações. Ainda existe forte controle e segurança de fronteiras, mas a entrada de produtos e serviços se tornou muito mais flexível.

Contudo, medidas protecionistas não deixam de existir. Muitos países têm retomado esse tipo de medida como uma forma de proteger a economia interna da concorrência estrangeira, como fez o ex-presidente dos Estados Unidos, Donald Trump, em um movimento de colocar sobretaxas a uma série de produtos importados pelos EUA.

Gabarito: Certo

17. A Revolução Industrial, iniciada há mais de dois séculos, contribuiu decisivamente para o desenvolvimento científico-tecnológico que, atualmente, está na base do sistema produtivo mundial.

COMENTÁRIOS:

A Revolução Industrial, iniciada por volta de 1760, na Inglaterra, criou as bases para o desenvolvimento científico-tecnológico que, atualmente, está na base do sistema produtivo mundial.

O nascimento da indústria causou grandes transformações na economia mundial, assim como no estilo de vida da humanidade, uma vez que acelerou a produção de mercadorias e a exploração dos recursos da natureza. Além disso, foi responsável por grandes transformações no processo produtivo e nas relações de trabalho.

Gabarito: Certo

18. A expansão da economia contemporânea resultou na ampliação dos postos de trabalho, na redução das taxas inflacionárias e na significativa diminuição da desigualdade entre os países.

COMENTÁRIOS:

O desenvolvimento tecnológico modifica os processos produtivos e as formas de trabalho. Cada vez mais, as máquinas substituem o trabalho humano, levando à extinção de profissões e à criação de outras. A produtividade aumenta extraordinariamente e o número de pessoas necessárias para produzir determinada quantidade de produto ou serviço diminui. Como a população segue aumentando e a economia se expandindo, traçando uma linha histórica, o número de postos de trabalho cresceu; sob o prisma tecnológico, porém, vem diminuindo.

Sobre a questão da redução das taxas inflacionárias, esse é um aspecto que deve ser analisado de acordo com cada período e com cada região. Não se pode dizer de forma generalizada que a expansão da economia contemporânea resultou na redução das taxas inflacionárias. No período atual da economia global, verifica-



se um grande aumento das taxas de inflação, em decorrência, principalmente, dos impactos da pandemia de covid-19 e da guerra entre Rússia e Ucrânia.

Por fim, ao longo das décadas recentes, estatísticas mostram que está ocorrendo uma ampliação das desigualdades entre os países. Países que estão no topo da economia global estão cada vez mais se distanciando dos que estão na base da economia global. As desigualdades entre nações seguem uma tendência de aumento.

Gabarito: Errado

19. (IBFC/PC-BA/2022) “A tecnologia 5G é um novo padrão para dispositivos móveis que trará mudanças tanto quantitativas quanto qualitativas na forma como as pessoas utilizam esses aparelhos. De acordo com a União Internacional de Telecomunicações, o 5G, ou quinta geração da telefonia móvel, é uma nova tecnologia de transporte de dados em redes envolvendo dispositivos móveis. Ele sucede gerações anteriores, mas autoridades e especialistas apontam que terá melhorias não apenas incrementais, mas qualitativas” (AGÊNCIA BRASIL, 2020).

Analise as afirmativas abaixo.

- I. A tecnologia 5G permitirá a interconexão de diversos outros equipamentos em casa ou no escritório.
- II. Ter um aparelho com 5G possibilitará um melhor tempo de processamento de downloads e uploads.
- III. A rede 5G permitirá a possibilidade de estudos e trabalho remoto com maior qualidade nas videoconferências.
- IV. As ondas de 5G têm maior alcance em relação à 4G e, por isso, será preciso a construção de poucas antenas para espalhar o sinal em todo o país.

Estão corretas as afirmativas:

- a) II e III apenas
- b) I e II apenas
- c) I, II e III apenas
- d) I e IV apenas
- e) II, III e IV apenas

COMENTÁRIOS:

I - Correta. A grande melhoria no sinal de internet, fornecida pela tecnologia da 5G, permitirá a interconexão de vários equipamentos em casa ou no escritório, possibilitando o acesso a produtos inovadores e utilidades domésticas que ainda não são utilizados no país pela baixa capacidade de conexão.



II - Correta. A tecnologia da 5G apresenta um tempo de resposta muito menor do que da atual rede de internet (4G). Com isso, a utilização dessa tecnologia possibilitará melhor tempo de processamento de downloads e uploads.

III - Correta. Uma das áreas que será beneficiada pela tecnologia 5G será a da educação, pois a maior velocidade da conexão à internet propiciada pelo 5G permitirá que os estudos e trabalhos remotos sejam realizados com mais qualidade nas videoconferências. A tendência é de que o mercado de ensino remoto e de que o trabalho remoto se expandam nos próximos anos, graças a essa tecnologia.

IV- Incorreta. O 5G, em comparação com o 4G, usa uma faixa de frequência mais alta, que permite a conexão de mais aparelhos usando seus dados. Entretanto, seu alcance é menor, já que as ondas eletromagnéticas usadas na tecnologia são as conhecidas como “ondas milimétricas”.

Mas não precisamos conhecer a fundo a parte física dessa tecnologia, apenas mencionei essa explicação para fins de conhecimento. O erro dessa alternativa é bastante claro, ao afirmar que “será preciso a construção de poucas antenas para espalhar o sinal em todo o país”. Claramente isso está incorreto. Para disponibilizar a tecnologia, vultuosos recursos financeiros estão sendo alocados na construção e na expansão de redes de fibra ótica e de antenas, para permitir a transmissão e a recepção do sinal.

Gabarito: C

20. (CEBRASPE/FUNPRES-P-2022 – ANALISTA) Em meio à circulação da variante Ômicron, países ricos e de média renda apressam a aplicação da dose de reforço das vacinas. Enquanto isso, os mais pobres têm menos de 10% de suas populações com uma dose e dependem de doações para acelerar a imunização. No entanto, 2022 começa com menos de 50% das vacinas prometidas entregues em 2021. Apenas pelo mecanismo Covax, criado pela Organização Mundial da Saúde (OMS), a meta era entregar 2 bilhões de doses doadas pelos países ricos às nações de baixa renda. Menos de 30% foram entregues.

O Estado de S. Paulo, 2/1/2022, p. A9 (com adaptações).

Tendo o texto acima como referência inicial e considerando aspectos marcantes do cenário mundial contemporâneo, julgue o item seguinte.

Infere-se do texto que a globalização, além de ter propiciado a extraordinária expansão do sistema produtivo e a volumosa circulação de bens e capitais, também promoveu significativa redução da desigualdade entre nações e sociedades.

COMENTÁRIOS:

De fato, a globalização propiciou extraordinária expansão do sistema produtivo e a volumosa circulação de bens e capitais. Contudo, com a globalização, a distância que separa os países ricos dos países pobres aumentou e há uma maior concentração de riqueza em um número muito pequeno de pessoas no mundo.

O texto mostra essa desigualdade, manifestada na distribuição de vacinas e na vacinação das populações de países ricos e pobres. A vacinação ocorre de forma desigual no mundo, concentrada nos países ricos, que também são os principais produtores de vacinas.

Gabarito: Errado



21. (QUADRIX/CREFITO 6ª REGIÃO/2022 – RECEPCIONISTA) Bastante difundida e conhecida nos dias atuais, a palavra globalização é normalmente utilizada para identificar o(a)

- (A) crise geral do sistema socialista.
- (B) estágio atual da economia mundial.
- (C) renascer do feudalismo medieval.
- (D) expansão das práticas mercantilistas.
- (E) declínio do sistema financeiro.

COMENTÁRIOS:

O termo globalização é normalmente utilizado para identificar o estágio atual da economia mundial.

A globalização é uma das principais características da economia e da sociedade mundial na atualidade. Pode ser definida como a integração entre povos, empresas, governos e mercadorias ao redor do planeta.

A globalização deve ser vista como um processo, não como um evento estático. É um processo que começou nos séculos XV e XVI, com a expansão ultramarina europeia. O seu grande impulso, contudo, ocorreu nos anos 1990, com a queda do regime do socialismo real e com a revolução tecnológica que possibilitou a troca de informações de maneira quase instantânea, acelerando em muito a integração das atividades econômicas.

O comércio internacional nunca foi tão intenso como nas últimas décadas, tanto em quantidade de mercadorias quanto em valores.

Por isso, rotula-se o atual estágio da economia mundial com o nome de globalização.

Gabarito: B

(QUADRIX/CRECI-RO/2022 – FISCAL) Nos dias atuais, as mudanças ocorrem rápida e profundamente. As transformações acontecem dia após dia, atingindo os mais variados setores. Considerando esse cenário tão dinâmico, tanto no Brasil quanto no mundo, julgue os itens:

22. A globalização é o nome que geralmente se dá ao atual estágio da economia mundial.

COMENTÁRIOS:

A globalização é uma das principais características da economia e da sociedade mundial na atualidade. Pode ser definida como a integração entre povos, empresas, governos e mercadorias ao redor do planeta.

A globalização deve ser vista como um processo, não como um evento estático. É um processo que iniciou nos séculos XV e XVI, com a expansão ultramarina europeia. O seu grande impulso, contudo, ocorreu nos anos 1990, com a queda do regime do socialismo real e com a revolução tecnológica que possibilitou a troca



de informações de maneira quase instantânea, acelerando em muito a integração das atividades econômicas.

O comércio internacional nunca foi tão intenso como nas últimas décadas, tanto em quantidade de mercadorias quanto em valores.

Por isso, costuma-se rotular o atual estágio da economia mundial de globalização.

Gabarito: Certo

23. Hoje, no Brasil e no mundo, a desigualdade social praticamente não mais existe.

COMENTÁRIOS:

Na atualidade, a desigualdade social é um problema presente em todos os países do mundo.

Há lugares em que esse problema é mais evidente, por exemplo, nos países africanos, os quais estão entre os mais desiguais do mundo. Já nos países escandinavos, quase não há diferença entre as classes sociais devido às políticas socioeconômicas governamentais.

O Brasil está entre os países mais desiguais do mundo. Em 2020, em um levantamento com base no Índice de Gini divulgado pelo Programa das Nações Unidas para o Desenvolvimento (Pnud), o Brasil foi classificado como o 8º país com a maior desigualdade de renda.

Gabarito: Errado

24. (QUADRIX/CRECI-RO/2022 – FISCAL) Uma característica marcante da atual economia globalizada é a significativa redução das desigualdades sociais e entre os países.

COMENTÁRIOS:

Ao longo das últimas décadas, tem-se verificado um aumento das desigualdades sociais no mundo, tanto entre pessoas quanto entre países, que têm sido expostas por diversos estudos, principalmente da Organização das Nações Unidas (ONU) e da Oxfam.

O crescimento das desigualdades é frequentemente apontado como uma das características da atual economia globalizada.

Gabarito: Errado

25. (PM-PI/NUCEPE/2022 – SOLDADO) “O coronavírus é um fenômeno mundial e atua como agente que contamina o conjunto do sistema, e se transmite com muita eficiência e com uma taxa e crescimento exponencial. O que inicialmente foi uma epidemia localizada na região de Wuhan, China, progressivamente se expandiu e se converteu em pandemia de difícil controle para os sistemas nacionais de saúde pública. O lugar de origem do vírus diz muito sobre a globalização: uma sociedade onde convivem a maior dinâmica econômica do planeta e práticas tradicionais das populações em seu relacionamento com os bosques e espécies silvestres; mercados onde essas espécies são vendidas, situados em cidades com milhões de habitantes e interconectadas com o planeta.



[...]

O vírus demorou a chegar à América Latina. Enquanto o foco da infecção estava na China, não apareceram casos na região. A situação mudou quando o vírus se ativou nos países europeus, com os quais a região mantém intenso intercâmbio. A multiplicação acelerada de casos confirmados forçou a implementação progressiva de medidas de restrição à entrada de pessoas vindas do exterior, e de reclusão domiciliar para segmentos importantes da população.”

Fonte ECHEVERRÍA, Julio. O coronavírus e a globalização. Folha de São Paulo, 1 de abril de 2020. Disponível em: <https://www1.folha.uol.com.br/mundo/2020/04/ocoronavirus-e-a-globalizacao.shtml>

Sobre a relação entre a pandemia de covid-19 e o processo de globalização, é CORRETO afirmar que

a) a globalização não atinge a América Latina, isolando, por conseguinte, seus países no contexto das trocas internacionais, o que leva ao não aparecimento do novo Coronavírus nos países da região.

b) a chegada do novo Coronavírus à Europa deve-se, exclusivamente, às condições ambientais, como as baixas temperaturas, não havendo, portanto, relação com as relações econômicas entre o continente europeu e o asiático.

c) a intensificação e a velocidade dos fluxos internacionais de pessoas, proporcionadas pelos progressos técnicos relacionados a circulação e aos transportes que caracterizam o mundo globalizado, contribuíram para um rápido alastramento da covid-19 pelo mundo.

d) a relação conflituosa entre os Estados Unidos da América e a China evitou que os casos de covid-19 se multiplicassem naquele país, o que explica o pequeno número de mortes causadas pela doença.

e) a propagação do novo Coronavírus por todo o mundo é decorrente da expansão das redes digitais, principalmente da tecnologia 5G de internet móvel.

COMENTÁRIOS:

a) Incorreto. A globalização atinge todos os continentes, embora de maneiras desiguais. A América Latina participa do contexto das trocas internacionais, mas, por ser uma região menos desenvolvida economicamente, não tem fluxos comerciais tão intensos quanto outros continentes. O Coronavírus atingiu a região, sobretudo o Brasil, que é um dos países com maior número de casos e mortes no mundo.

b) Incorreto. O Coronavírus se mostrou ser um vírus muito resistente e adaptável às diferentes condições climáticas. Propagou-se de forma rápida tanto em climas frios quanto em climas quentes. Na Europa, onde ocorreu o primeiro grande surto no mundo, o vírus chegou devido ao grande fluxo de pessoas e mercadorias entre esse continente e a Ásia, que se situam muito próximos.

c) Correto. A intensificação e a velocidade dos fluxos internacionais de pessoas, proporcionadas pelos progressos técnicos relacionados à circulação e aos transportes que caracterizam o mundo globalizado, contribuíram para um rápido alastramento da covid-19 pelo mundo. Buscando conter a propagação do vírus, entre as medidas mais adotadas por países ao redor do mundo foram o fechamento de fronteiras e a suspensão de serviços de transportes, justamente pelo fato de os fluxos internacionais de pessoas ser um dos principais responsáveis pela disseminação do vírus.



d) Incorreto. A relação conflituosa entre Estados Unidos e China não impediu a propagação do vírus nos EUA. Apesar dos atritos entre os dois países, seus fluxos comerciais e de pessoas são muito intensos. Pouco tempo após seu surgimento, o Coronavírus rapidamente se disseminou pelos Estados Unidos, que é o país com maior número de mortes causadas pelo vírus.

e) Incorreto. A propagação do novo Coronavírus por todo o mundo não é decorrente da expansão das redes digitais. A transmissão de doenças e vírus ocorre fisicamente, por meio do contato com pessoas e animais infectados ou pelo contato com superfícies ou objetos utilizados pela pessoa infectada. Os vírus que causam doenças não são transmitidos por redes digitais.

Gabarito: C

(QUADRIX/CRP-10/2022 – ASSISTENTE ADMINISTRATIVO) O mundo contemporâneo, além de complexo, é contraditório. Exemplos não faltam: os sucessivos recordes na produção de alimentos convivem com a fome, que atinge grandes contingentes populacionais; esforços pela paz mundial sucumbem ante guerras, que se multiplicam; a revolução tecnológica, como se vê nas redes de comunicação, não alcança a todos e, para além dos inegáveis benefícios das redes sociais, elas também são utilizadas por grupos criminosos.

Considerando essas informações e aspectos relevantes do mundo atual, julgue os itens.

26. Uma demonstração dos avanços possibilitados pela tecnologia é a existência da rede mundial de computadores, a Internet.

COMENTÁRIOS:

A internet é um sistema global de redes de computadores interligados. A sua existência é derivada dos avanços tecnológicos. O primeiro projeto do que seria posteriormente a internet surgiu na década de 1960, e foi desenvolvido ao longo das décadas seguintes, principalmente a partir da década de 1970, com a Revolução Tecnológica.

A internet é uma das maiores demonstrações dos avanços possibilitados pela tecnologia.

Gabarito: Certo

27. A pronta atuação dos governos, em escala global, impede a utilização da Internet para fins ilegais.

COMENTÁRIOS:

A internet é muito utilizada para realização de crimes, que envolvem, desde o furto de dados, de documentos e desvios de dinheiro, até o tráfico internacional de drogas, de armas e de pessoas.

O fato de tornar possível a conexão com qualquer lugar do mundo, sendo uma rede na qual não existem fronteiras, e a dificuldade de rastreamento e controle dos usuários no sistema, que podem esconder o seu ponto de acesso, além das informações veiculadas na rede, tornam a internet muito propícia à realização de práticas criminosas.



Além disso, muitos aplicativos de trocas de mensagens, de dados e de informações na atualidade utilizam serviços de criptografia, em que nem mesmo os próprios provedores do serviço conseguem quebrar o segredo. Dessa forma, governos têm dificuldade de atuar prontamente na internet para impedir crimes.

O combate ao crime organizado pela internet por parte dos Estados nacionais tem se tornado uma pauta de relevância na atualidade. Todavia, isso significa também ampliar o acesso dos governos às informações civis, o que gera resistência de grupos da sociedade que defendem uma menor interferência estatal no tratamento de dados pessoais.

Gabarito: Errado

28. A expressão “fake news”, hoje tão conhecida, liga-se à divulgação de notícias falsas ou mentirosas.

COMENTÁRIOS:

A tradução literal da expressão “fake news”, do inglês para o português, é “notícias falsas”. O termo é usado para se referir a notícias com informações ou dados inventados para alterar a interpretação e opinião das pessoas sobre determinados assuntos.

A prática consiste em espalhar uma notícia com mentiras, mas veiculá-la como verdade. Sua divulgação e disseminação podem interferir negativamente em vários setores da sociedade, como política, saúde e segurança. O avanço da tecnologia e a facilidade no compartilhamento de informações por meio das redes sociais potencializaram ainda mais as “fake news”.

Apesar de ter ganhado destaque recentemente, a expressão já existe desde o final do século XIX.

Gabarito: Certo

29. O avanço da ciência e da tecnologia praticamente eliminou a desigualdade no mundo.

COMENTÁRIOS:

Os extraordinários avanços da ciência e da tecnologia não conseguiram eliminar a desigualdade no mundo. Ao longo das últimas décadas, a distância que separa os países ricos dos países pobres aumentou e há uma maior concentração de riqueza em um número muito pequeno de pessoas no mundo.

A desigualdade é intrínseca ao capitalismo; logo, nesse sistema, ela não será eliminada. Extinguir a desigualdade é uma utopia. A inovação tecnológica tem apoiado o crescimento econômico, mas isso não se reverteu na diminuição das desigualdades.

Gabarito: Errado

30. A educação de qualidade é essencial para se assegurar a revolução tecnológica em curso no mundo.

COMENTÁRIOS:



A Revolução Tecnológica só foi possível devido aos avanços no conhecimento técnico e científico. Portanto, baseia-se muito na evolução do conhecimento e na promoção de serviços educacionais de qualidade. Sendo assim, educação de qualidade é essencial para se assegurar a revolução tecnológica em curso no mundo.

Gabarito: Certo

31. Uma das características marcantes da atual economia globalizada é o aumento da produção e do comércio mundial.

COMENTÁRIOS:

A globalização é o processo de integração do espaço mundial devido aos avanços técnicos nos setores da comunicação e dos transportes, oriundos da Terceira Revolução Industrial. A globalização transformou o mundo, sobretudo, na área econômica, em que se observou um aumento nos fluxos internacionais de capitais, mercadorias, pessoas e informações.

Uma das características marcantes da atual economia globalizada é o aumento da produção e do comércio mundial.

Gabarito: Certo

32. (FGV/PREFEITURA MUNICIPAL DE PAULÍNIA/2021 – FARMACÊUTICO) Um novo estudo da Universidade de Oxford mostrou que as *fake news* e textos de ódio de cunho político distribuídos nas redes sociais em 2018, nos EUA, quando aconteceram eleições legislativas, já era maior que o fluxo desses materiais durante a corrida presidencial que consagrou Trump como o novo presidente americano dois anos antes.

Adaptado de: <https://exame.com/mundo/nos-eua-uso-de-fake-news-naseleicoes-2018-ja-superou-trump-em-2016/>

Considerando o trecho acima e o uso de *fake news* na atualidade, assinale a afirmativa correta.

- (A) Os factoides fragilizam os sistemas democráticos, polarizando o debate por meio de notícias falsas.
- (B) As notícias falsas circulam predominantemente nas redes sociais, o que restringe seu impacto político.
- (C) As eleições de Trump estabeleceram uma nova normalidade, servindo de modelo para divulgação de notícias políticas.
- (D) Os textos de ódio fazem parte da disputa eleitoral, igualando os recursos e fortalecendo os governos representativos.
- (E) Os ataques midiáticos estimulam o debate polêmico, o que fortalece o exercício da liberdade individual e de expressão.

COMENTÁRIOS:



a) Correta. A veiculação de notícias falsas influencia diretamente a opinião popular, polarizando o debate público. Dessa forma, podem ocasionar mudanças em processos democráticos de eleição. Assim, naturalmente, o sistema democrático perde força por meio da manipulação da população.

b) Incorreta. Pelo fato de terem grande fluidez e alcance, além de deixarem menos vestígios sobre a sua origem - sobretudo devido à criação de perfis e identidades falsas -, as notícias falsas circulam predominantemente nas redes sociais. Contudo, isso não restringe seu impacto político, pois boa parte da população está ativa nas redes sociais. Fato disso é que as notícias falsas disseminadas pelas redes sociais polarizaram as eleições de 2016 nos Estados Unidos, como aborda o enunciado.

c) Incorreta. As eleições de 2016, que elegeram Donald Trump como presidente dos Estados Unidos, não estabeleceram uma nova normalidade, mas mostraram a necessidade de se combater notícias falsas e a necessidade de sempre averiguar a veracidade das notícias.

d) Incorreta. Textos de ódio são manifestações que incluem teor xenofóbico, racista, homofóbico, de intolerância religiosa e de apologia ou de incitação à violência. São uma realidade atualmente e aparecem na disputa eleitoral, porém, não igualam os recursos, tumultuam as sociedades democráticas e o exercício da cidadania. São crimes que devem ser combatidos, já que contribuem para gerar confusão e enfraquecer governos representativos.

e) Incorreto. Há uma contradição na questão. Ataques midiáticos enfraquecem o exercício da liberdade individual e de expressão, pois a liberdade de imprensa insere-se dentro da liberdade individual e de expressão.

Gabarito: A

(QUADRIX/CREFONO 4ª REGIÃO/2021 – FONOAUDIÓLOGO FISCAL) Tudo indica que o que foi dito em relação ao século XX – “uma era dos extremos” – também se aplica às duas primeiras décadas do século XXI. As mudanças se processam com extrema rapidez e convivem com um extraordinário avanço científico e com exemplos dramáticos de intolerância, desigualdade e fanatismo. Relativamente ao cenário mundial da atualidade, julgue os itens a seguir.

33. A denominada globalização resulta de um processo histórico que atravessa séculos, cujo início pode ser identificado na expansão comercial e marítima europeia do início da Idade Moderna (séculos XV e XVI).

COMENTÁRIOS:

A globalização pode ser entendida como o processo de integração entre povos, empresas, governos e mercadorias ao redor do planeta.

Os primeiros passos rumo à conformação de um mercado mundial e de uma economia global remontam aos séculos XV e XVI, início da Idade Moderna, com a expansão comercial e marítima europeia. A chegada de Cristóvão Colombo à América, em 1492, deu início ao que alguns historiadores chamam de primeira globalização.

Gabarito: Certo



34. A partir da Revolução Industrial, o moderno capitalismo se disseminou pelo mundo afora e, impulsionado pela corrida imperialista, foi moldando o mundo aos seus interesses e às suas necessidades, gerando o que hoje é chamado de globalização.

COMENTÁRIOS:

A Revolução Industrial criou as bases para que mais tarde o capitalismo se estabelecesse como o sistema econômico dominante em praticamente todo o planeta.

As inovações tecnológicas da Revolução Industrial aumentaram a produção fabril, o que gerou a necessidade de novos mercados consumidores para esses produtos e uma corrida por matérias-primas.

A corrida imperialista, ou imperialismo, período no qual as grandes nações europeias lançaram-se na colonização de territórios da África e da Ásia em busca de matérias-primas e novos mercados consumidores, consolidou ainda mais o capitalismo.

Esses processos também contribuíram com a globalização, na medida em que interligaram distantes regiões do globo.

Gabarito: Certo

35. Entre as principais características da ordem global dos dias atuais, avulta a grande circulação de capitais, mercadorias e pessoas, diluindo, em certa medida, o antigo conceito de fronteiras nacionais.

COMENTÁRIOS:

A ordem econômica e política global atual tem como um de seus pilares a ideia de globalização, marcada pela livre circulação de capitais, mercadorias e pessoas, diluindo, figurativamente, o conceito de fronteiras nacionais. Diz-se figurativamente, pois as fronteiras ainda continuam existindo, mas a ideia de formação dos blocos econômicos tem como um de seus objetivos finais a diluição das fronteiras nacionais, a exemplo do que ocorre na União Europeia, onde praticamente não há controle de fronteiras entre os países do bloco.

É importante destacar também que essa noção tem sido muito contestada na atualidade, com países estabelecendo políticas antiglobalização, protecionistas e nacionalistas.

Gabarito: Certo

36. Há consenso de que o domínio do conhecimento é essencial nesta ordem global, o que explica a fundamental importância da ciência e da tecnologia no presente estágio da economia mundial.

COMENTÁRIOS:

O domínio do conhecimento é essencial na ordem global atual. O conhecimento é fundamental para o desenvolvimento tecnológico, que, por sua vez, impulsiona o desenvolvimento econômico e militar de um país. Não é por acaso que os países mais desenvolvidos e com maior PIB são aqueles onde há maior produção de conhecimento, mais pesquisa e investimentos na ciência.

Gabarito: Certo



37. (CEBRASPE/IBGE/2021 - AGENTE DE PESQUISAS POR TELEFONE) O termo globalização gera intenso debate quanto ao seu significado e suas características centrais. Em meio a essa acalorada discussão, no entanto, foi possível chegar a alguns consensos e um deles refere-se ao fato de que, apesar de a globalização ser um fenômeno mundial, seus impactos são locais e regionais, impulsionando mudanças que se desenvolvem de diferentes formas e com intensidade variada.

Internet: <www.scielo.br> (com adaptações).

A globalização como um fenômeno mundial, mas de rebatimentos locais e regionais, tem como consequências

- A) o pleno emprego e o crescimento econômico, com a minimização das desigualdades.
- B) a competitividade e o consumo, com a geração de maiores danos ao meio ambiente.
- C) o atraso tecnológico e maior fluidez nas comunicações internas.
- D) a alimentação mais natural e saudável e o surgimento de muitos vírus com mais poder de contágio.
- E) o fechamento dos países ao investimento externo e o bloqueio econômico.

COMENTÁRIOS:

a) Incorreto. Pleno emprego não é algo comum no capitalismo. As desigualdades sociais e entre países aumentaram na globalização. A distância que separa os países ricos dos países pobres aumentou e há uma maior concentração de riqueza em um número muito pequeno de pessoas no mundo.

b) Correto. A abertura dos mercados e sua interconexão, promovidos pela globalização, aumentou a competitividade entre os países, uma vez que o mercado passou a ser global, e não mais local ou regional. Com isso, o desenvolvimento tecnológico e a inovação se intensificaram, aumentando a competitividade entre empresas e países.

A expansão dos mercados e a evolução nas telecomunicações e nos transportes intensificou o comércio global, conseqüentemente, também intensificou o consumo.

Nesta corrida por maiores resultados, intensificaram-se os danos ao meio ambiente. Uma das principais problemáticas relacionadas à globalização é a existência de uma legislação ambiental ainda deficiente, limitada e pouco rígida em muitos países. Dessa forma, empresas multinacionais buscam instalar filiais em países que apresentam suas legislações ambientais mais brandas, de modo a otimizar sua produção. Isso ocorre geralmente nos países subdesenvolvidos.

c) Incorreto. A globalização promoveu um rápido e intenso desenvolvimento tecnológico, sobretudo na área das telecomunicações e dos transportes, o que propiciou maior fluidez nas comunicações, tanto internas, quanto globais.

d) Incorreto. Atrélado à globalização, ocorreu um grande desenvolvimento no setor de biotecnologia, com destaque para o desenvolvimento de pesticidas agrícolas (também chamados de agrotóxicos) e de alimentos transgênicos. A disseminação destes produtos pelo mundo, visando o aumento da produtividade agrícola,



tornou a alimentação menos natural e saudável. Verifica-se também uma grande disseminação dos alimentos industrializados, como os embutidos e enlatados, e dos *fast foods*.

A segunda parte da alternativa está correta. Pelo fato de intensificar os deslocamentos entre países e as migrações, a globalização tende a ocasionar surgimento de muitos vírus com mais poder de contágio. A disseminação do coronavírus Sars-Cov-2, vírus da Covid-19, se deu de forma muito acelerada devido a esse aspecto do mundo globalizado. Tanto é que, para conter a disseminação do vírus, muitos países fecharam suas fronteiras.

e) Incorreto. Um dos pilares da globalização é defesa de uma maior liberdade econômica e a menor participação possível do estado nas atividades econômicas e na regulação da economia. Nesse sentido, os países passaram a receber muitos investimentos externos, sobretudo das multinacionais.

Gabarito: B

38. (CEBRASPE/TJDFT/2019) Acerca de aspectos relacionados ao impacto da tecnologia no mercado de trabalho, julgue os itens que se seguem.

I - Os impactos da tecnologia no mundo do trabalho não são necessariamente imediatos, mas, a longo prazo, podem implicar no desaparecimento de determinadas profissões.

II - Projeções sobre o futuro do mercado de trabalho dão destaque às profissões de índole criativa no mercado de trabalho dominado pela tecnologia.

III - As revoluções tecnológicas demandam capacidade de inovação para estimular a competitividade, aspecto que tem sido explorado por políticas públicas brasileiras que elevaram a posição do Brasil no ranking internacional de competitividade.

IV - Devido aos impactos resultantes da tecnologia no mercado de trabalho, a maioria das escolas brasileiras da rede privada e pública já tem em seus currículos disciplinas relacionadas a programação e robótica.

Estão certos apenas os itens

- a) I e II.
- b) I e IV.
- c) III e IV.
- d) I, II e III.
- e) II, III e IV.

COMENTÁRIOS:

I – **Certo.** Novas tecnologias quase sempre acabam gerando alguma alteração no mundo de trabalho, mas não necessariamente de forma imediata. As novas tecnologias também podem implicar o desaparecimento de determinadas profissões. Na verdade, essa é quase que uma constante durante a nossa história. Várias



profissões desapareceram, algumas muito antigas, como o radar humano, caçador de ratos, acendedor de lâmpadas e quebrador de gelo, outras menos antigas, como telefonista, datilógrafo, tipógrafo, digitadores, editores de textos, vendedor de enciclopédias, armador de pinos e operador de telégrafo. Porém, não são só profissões que são extintas, as novas tecnologias também levam ao surgimento de novas profissões. Algumas profissões novas que surgiram são a do analista de big data, gestor de mídias sociais, desenvolvedor de aplicativos móveis, analista de SEO, creator e desenvolvedor de automação e robótica.

II – **Certo.** Analistas e projeções sobre o futuro do mercado de trabalho apontam a criatividade como sendo um fator determinante para que o trabalhador mantenha as suas boas colocações no mercado de trabalho, frente à crescente automatização dos postos de serviço.

III – **Errado.** As revoluções tecnológicas demandam capacidade de inovação para estimular a competitividade. Em outras palavras, a inovação e a competitividade são pilares fundamentais para o desenvolvimento tecnológico. Na década de 1990, a globalização da economia e o conseqüente crescimento do comércio mundial impuseram novos modelos de participação no mercado. As políticas de competitividade passaram a ser imprescindíveis para as empresas sustentarem ou ampliarem as vendas. Por meio do desenvolvimento tecnológico, procurou-se aumentar a eficiência e reduzir os custos dos processos produtivos. Dessa forma, as inovações tecnológicas se tornaram um grande fator de competitividade. É um campo que tem sido insuficientemente explorado por políticas públicas brasileiras. O Brasil não possui uma indústria muito inovadora e competitiva. No Brasil, as iniciativas de incentivo à pesquisa para que se tenha uma maior capacidade de inovação desenvolveram-se tardiamente. Nas indústrias brasileiras, a taxa de inovação fica em torno dos 35%. Em países europeus, o índice chega a 60%.

IV – **Errado.** Qualquer pessoa que conheça minimamente a realidade brasileira sabe que, no Brasil, ainda é uma seleta minoria de escolas, sobretudo aquelas da rede privada, que possuem em seus currículos disciplinas relacionadas à programação e robótica. Entretanto, a tendência é que disciplinas desse tipo venham a crescer e a ganhar seu espaço, devido aos impactos resultantes da tecnologia no mercado de trabalho e na sociedade em geral.

Gabarito: A

(QUADRIX/CRESS-GO/2019 – AGENTE FISCAL) Importa notar que as reformas por que passa o Estado no Brasil estão em um contexto socioeconômico mundial de profundas implicações para o País. O neoliberalismo acompanhou o processo de globalização e de implantação de novas tecnologias produtivas – que desencadearam o chamado processo de “reestruturação produtiva”.

Internet: <www.egov.ufsc.br:8080>.

Tendo o texto acima apenas como referência inicial e refletindo sobre diversos aspectos da economia brasileira e mundial, julgue os itens.

39. Tornando o mundo mais homogêneo em diversos aspectos, a globalização contribui, de modo geral, para uma profunda redução das disparidades econômicas entre os países e também no âmbito interno desses países.

COMENTÁRIOS:



Com a maior interconexão econômica, política e cultural entre os países promovida pela globalização, o mundo se tornou mais homogêneo em diversos aspectos. A utilização do dólar como moeda de referência mundial, o surgimento de movimentos sociais globais presentes em dezenas de países e a padronização cultural são expressões dessa homogeneização.

Entretanto, de modo geral, a globalização aumentou as disparidades econômicas entre os países. Os países ricos acumularam mais riquezas e os países pobres, menos. A desigualdade econômica do mundo aumentou muito nas últimas décadas.

Gabarito: Errado

40. O comércio internacional viveu momento significativo em dezembro de 2018, quando uma reunião do G20 promoveu profundas mudanças na Organização Mundial do Comércio (OMC), que serão totalmente implementadas em 2019.

COMENTÁRIOS:

A questão refere-se à 13ª reunião de Cúpula do G20, realizada em dezembro de 2018, em Buenos Aires, capital da Argentina. Os pontos mais importantes abordados no encontro foram a questão das mudanças climáticas e dos tratados comerciais entre países. Também foram tratados temas como a igualdade de gênero e fluxos migratórios.

A reforma na Organização Mundial do Comércio (OMC) é uma das demandas do sistema político internacional, mas, nessa cúpula, esse assunto foi tratado de forma genérica, sem implementar mudanças. A OMC há tempos é questionada por ter “parado no tempo” e não se mostrar mais adequada e alinhada aos desafios socioeconômicos atuais, sobretudo após os impasses da Rodada Doha. Donald Trump, presidente dos Estados Unidos, é um dos grandes críticos da organização.

Gabarito: Errado

41. No Brasil de hoje, caminha-se para um papel cada vez mais restrito do Estado como mediador das relações de trabalho, sendo as ocupações informais de baixa qualidade consideradas como “a incorporação possível” ao mundo do trabalho.

COMENTÁRIOS:

A diminuição do papel do Estado como mediador das relações de trabalho é uma das características do neoliberalismo, que passou a ter grande influência no contexto político-econômico global nas últimas décadas. Não somente no Brasil, mas no mundo todo verifica-se o crescimento das ocupações informais de baixa qualidade, diminuição dos direitos trabalhistas e da atuação dos sindicatos.

Gabarito: Certo

42. Assim como a globalização, a chamada “reestruturação produtiva” favorece a precarização do trabalho, na medida em que objetiva a maximização dos lucros em prejuízo da criação ou da preservação de vagas de trabalho.

COMENTÁRIOS:



O processo de reestruturação produtiva consiste em mudanças na estrutura produtiva industrial que emergiu a partir da década de 1970, baseado em características como a modernização tecnológica, utilização de máquinas poupadoras de mão de obra e flexibilização do trabalho, onde o mesmo empregado executa várias funções diferentes numa empresa. Além disso, o ritmo de produção obedece à demanda do mercado, evitando, assim, a estocagem de mercadorias.

A reestruturação produtiva objetiva a maximização dos lucros em prejuízo da criação ou preservação de vagas de trabalho. Com a utilização de máquinas poupadoras de mão de obra (principalmente a menos qualificada), houve redução do pessoal ocupado na indústria. A abertura comercial, promovida desde as últimas décadas do século XX, também auxiliou nesse processo: permitiu a importação de máquinas e equipamentos de alta tecnologia, que substituí trabalho humano, principalmente o menos qualificado. Por outro lado, esse mesmo processo abriu postos de serviços qualificados e especializados, por exemplo, na manutenção de máquinas sofisticadas.

Gabarito: Certo

43. (CEBRASPE/FUB/2018 – CARGOS DE NÍVEL MÉDIO) Com a revolução técnico-científica, o uso das telecomunicações perdeu relevância e os fluxos materiais tornaram-se mais densos e volumosos que os fluxos imateriais.

COMENTÁRIOS:

A revolução técnico-científica é um conceito diferente utilizado por alguns autores para se referir às transformações que ocorreram no mundo, sobretudo em relação ao desenvolvimento tecnológico que começa a partir da década de 1970. De forma simplificada, é um outro nome utilizado para se designar a Terceira Revolução Industrial.

Com a revolução técnico-científica, o uso das telecomunicações ganhou muita relevância e os fluxos materiais tornaram-se menos densos e volumosos que os fluxos imateriais. A utilização das tecnologias de telecomunicações é crescente, e propiciou a globalização da forma que vivenciamos hoje, com a interconexão instantânea entre todas as regiões da Terra.

Os fluxos imateriais, isto é, as informações que são transmitidas pelas tecnologias de telecomunicações, tornaram-se mais densos. As informações podem circular por diversos veículos de comunicação em e meios: jornais, revistas, rádio, televisão, internet, smartphones etc. Hoje em dia, quase o mundo todo está interligado por cabos de fibras ópticas e os satélites de comunicação permitem conectar qualquer lugar que tenha uma antena parabólica para captar ondas de rádio, televisão e telefonia celular. A internet aumentou as possibilidades de acesso a diversos serviços, como troca de mensagens, pesquisas em bancos de dados, compra de produtos, e a informações, mudando até mesmo as concepções de tempo e espaço.

Por meio das tecnologias de telecomunicações, fluxos financeiros são processados de forma instantânea, o que viabiliza a constituição e o fortalecimento de mercados financeiros mundializados. Estes se tornam progressivamente determinantes para as relações econômicas e podem causar impactos substanciais em todos os lugares.

Gabarito: Errado



(QUADRIX/CFBio/2018 - TÉCNICO EM TI) Cada vez mais, nesta Copa do Mundo, torna se evidente: a globalização do futebol é uma realidade. Basta ver como as equipes europeias tradicionais incluem jogadores originários de famílias de outros países, sobretudo árabes ou africanos. O mesmo ocorre no campo da cultura, das artes e do espetáculo. Esse panorama confirma que a revolução tecnológica trouxe mais informação, interação e conhecimento mútuo, mas também é característico de um momento da História em que as viagens são mais viáveis e não dá para segurar a vontade de subir na vida e ter melhores condições de sobrevivência.

Ana Maria Machado. Desespero e migrações. In: O Globo, 7/7/2018, p. 12 (com adaptações).

Tendo o fragmento de texto acima como referência inicial e considerando a amplitude do tema por ele focalizado, a globalização, elemento marcante e definidor dos tempos atuais, julgue os itens.

44. A globalização econômica vivida pelo mundo no tempo presente implica, entre outros aspectos, a incessante circulação de capitais, de mercadorias e de pessoas.

COMENTÁRIOS:

O desenvolvimento de tecnologias nas áreas dos transportes, das telecomunicações e a interconexão entre os bancos e centros financeiros ao redor do mundo são, ao mesmo tempo, uma consequência e uma causa da globalização. Esses fatores fazem com que a incessante circulação de capitais, mercadorias e pessoas seja uma das principais, senão a principal, característica da globalização e do nosso mundo contemporâneo.

Gabarito: Certo

45. Sob o ponto de vista da economia, a atual globalização é resultante de um longo processo histórico, que foi impulsionado pelas diversas fases da Revolução Industrial.

COMENTÁRIOS:

Sob o ponto de vista da economia, a globalização começou há muito tempo. Os primeiros passos rumo à conformação de um mercado mundial e de uma economia global remontam aos séculos XV e XVI, com a expansão ultramarina europeia e a chegada de Cristóvão Colombo à América, em 1492.

Entretanto, é por meio das Revoluções Industriais que esse processo foi impulsionado. Com a criação de novas máquinas e o seu aperfeiçoamento, a produção tornou-se cada vez maior e mais veloz. A melhoria gradativa do sistema de transportes consolidava a conexão entre cidades e países distantes, aumentando o fluxo de mercadorias e alterando a percepção de tempo e espaço.

Gabarito: Certo



QUESTÕES COMENTADAS – BLOCOS ECONÔMICOS – MULTIBANCAS

1. (QUADRIX/CRO-TO/2023) A formação de blocos de países, como a União Europeia e o Mercosul, é característica da economia globalizada.

COMENTÁRIOS:

A formação de blocos de países, como a União Europeia (UE) e o Mercado Comum do Sul (Mercosul), é uma característica da economia globalizada. Esses blocos econômicos são formados por países que buscam integrar as suas economias para promover a cooperação e facilitar o comércio regional.

A globalização econômica envolve a interconexão crescente das economias em todo o mundo, e os blocos regionais são uma resposta a esse fenômeno. Eles buscam fortalecer a competitividade dos países membros, remover barreiras comerciais internas, promover a livre circulação de bens, serviços, capitais e, em alguns casos, de pessoas.

Gabarito: Certo

2. (QUADRIX/CRO-TO/2023) O Brasil recusou-se a permanecer no Mercosul devido à tradicional rivalidade com a Argentina.

COMENTÁRIOS:

O Brasil continua como membro e país líder do Mercosul. No passado, Argentina e Brasil foram rivais políticos e econômicos na América do Sul. Todavia, a criação do Mercosul, em 1986, foi um marco para a superação de rivalidades históricas e para iniciativas de cooperação entre os dois países, as quais se aprofundaram nas décadas subsequentes.

Gabarito: Errado

3. (QUADRIX/CRO-TO/2023) O euro foi adotado como moeda comum da União Europeia.

COMENTÁRIOS:

A União Europeia é caracterizada como um bloco econômico do tipo união econômica e monetária. Nesse bloco, que é o estágio final da integração econômica, adota-se uma moeda única, o euro.

O gabarito da questão está certo, mas existe uma imprecisão. Creio que não teve recurso ou, se teve, ele não foi provido.

Moeda comum significa que o bloco econômico passa a ter uma moeda para o comércio entre os países. Entretanto, os países continuam com suas moedas nacionais. A moeda única, que é o caso da União Europeia, implica deixar de utilizar as moedas nacionais. Como exemplo, a Alemanha não utiliza mais o marco alemão, a França o franco francês e a Itália a Lira italiana.



O euro é a moeda oficial de 20 dos 27 países da União Europeia, que constituem conjuntamente a chamada zona ou área do euro. Nem todos os países da União Europeia adotaram o euro como sua moeda.

Gabarito: Certo

4. (FGV/CÂMARA MUNICIPAL DE TAUBATÉ/2022) “Um novo mural do controverso e misterioso artista britânico Banksy apareceu na cidade de Dover, na Inglaterra. Na gravura, é possível ver um operário que retira uma das estrelas que compõe a bandeira da União Europeia.”

(Revista Galileu, maio de 2017)



O mural mostra um operário a martelar e destruir uma estrela da bandeira da União Europeia. Ele trata, de modo crítico,

- (A) da possibilidade de os países membros da União Europeia caírem, um a um, nas mãos do Estado Islâmico.
- (B) da iminência da guerra Rússia – Ucrânia, ocasionada pelo desejo da Ucrânia ingressar na União Europeia.
- (C) da ameaça da Hungria, sob um governo nacionalista, sair da União Europeia.
- (D) do “Brexit”, a saída do Reino Unido do bloco econômico europeu.
- (E) do temor de que a França saísse da União Europeia devido ao protagonismo da Alemanha de Angela Merkel nas decisões econômicas do bloco.

COMENTÁRIOS:

O artista britânico Banksy é conhecido por suas obras de arte urbana que frequentemente tematizam questões sociais e políticas.

Nessa obra, ele aborda de forma crítica a decisão histórica do Reino Unido de se separar da União Europeia, após um referendo realizado em 2016, retirando uma das estrelas que compõe a bandeira do bloco econômico, simbolizando a saída de um dos países membros.

Gabarito: D



5. (FGV/TRT-PB/2022) Recentemente, algumas nações europeias foram sacudidas por crises políticas que afetaram vivamente seus Parlamntos. Um caso particularmente importante é o do Reino Unido, onde sucessivas crises sacudiram o Parlamento após a saída da União Europeia, no episódio conhecido como brexit.

Em relação ao tema, avalie se as descrições a seguir são falsas (F) ou verdadeiras (V):

I. A Primeira-Ministra Theresa May, do Partido Trabalhista, esteve à frente do governo por ocasião das intensas negociações com a União Europeia que culminaram no brexit. Vitoriosa no brexit, deixou o cargo de Primeira-Ministra pouco depois, dando por encerrada sua exitosa gestão.

II. O poderoso Primeiro-Ministro Boris Johnson, do Partido Conservador, sucedeu Theresa May. No cargo, Johnson tentou desfazer o brexit. Com isso, administrou crise após crise até ser acusado de comportamento inadequado em dois episódios: no primeiro, foi acusado de promover uma festa na residência oficial e escritório do Primeiro-Ministro, bem no auge da pandemia; um segundo episódio, no qual promoveu a vice-chefe da bancada do governo no parlamento uma pessoa acusada reiteradas vezes de assédio sexual, causou a renúncia de vários ministros e acabou por levar à renúncia de Johnson, em 2021.

III. Johnson foi sucedido por Liz Truss, que serviu como Primeira-Ministra do Reino Unido por cerca de seis meses, sem, entretanto, ocupar o cargo de líder do Partido Conservador nesse período. Caiu por conta de uma desastrosa política econômica, agravada pelos efeitos da pandemia e da guerra Rússia-Ucrânia. As descrições são, respectivamente,

(A) F – F – F.

(B) F – F – V.

(C) V – F – F.

(D) V – V – V.

(E) F – V – V.

COMENTÁRIOS:

I - Falso. Theresa May, do Partido Conservador, foi primeira-ministra do Reino Unido entre 2016 e 2019. Ela negociou o Brexit com a União Europeia, mas não conseguiu aprovar o acordo no parlamento britânico. Desgastada politicamente, renunciou ao cargo. Foi sucedida por Boris Johnson, do Partido Conservador, que retomou as negociações do Brexit com a União Europeia e conseguiu aprovar o acordo no parlamento britânico. A saída oficial do Reino Unido do bloco europeu ocorreu em janeiro de 2020.

II - Falso. Em nenhum momento de seu governo, Boris Johnson tentou desfazer o Brexit. Apesar do sucesso em retirar o país do bloco econômico, sua gestão foi marcada por sucessivas crises, que são corretamente mencionadas na afirmativa.

III - Falso. Johnson foi sucedido por Liz Truss. Ela permaneceu apenas 45 dias no cargo, caindo por conta de uma desastrosa política econômica. Com isso, Liz Truss se tornou a primeira-ministra do Reino Unido com



menos tempo no cargo. Foi sucedida por Rishi Sunak, o primeiro britânico de etnia indiana a ser primeiro-ministro do país.

Gabarito: A

(QUADRIX/CFFA/2022) Com relação a tópicos atuais de diversas áreas, julgue os itens.

6. Durante a Guerra Fria, formaram-se blocos de países com objetivos militares; atualmente, os blocos são formados a partir de interesses econômicos, como um modo de inserção mais vantajoso no mercado global.

COMENTÁRIOS:

Durante a Guerra Fria, formaram-se dois grandes blocos de países, com objetivos militares. O bloco capitalista, liderado pelos Estados Unidos, e o bloco socialista, liderado pela União das Repúblicas Socialistas Soviéticas (URSS). Com o fim da Guerra Fria e da URSS, esses blocos deixaram de existir, embora muitas alianças políticas e militares desse período ainda se mantêm, como a Otan.

Atualmente, contudo, o principal objetivo da criação de blocos de países deriva dos interesses econômicos comuns entre seus membros, com o objetivo de inserirem-se de uma forma mais vantajosa e competitiva no mercado global.

Gabarito: Certo

7. A frustrada experiência do Mercosul levou o Brasil e a Argentina a desistirem de nele permanecer, decisão conjunta tomada em 2022.

COMENTÁRIOS:

Brasil e Argentina não desistiram de permanecer no Mercosul. Os dois países, assim como seus demais membros – Uruguai, Paraguai e Venezuela –, continuam no bloco.

Gabarito: Errado

8. (FGV/PREFEITURA DE MANAUS/2022 – ANALISTA DE BANCO DE DADOS) Assinale a opção que indica corretamente a associação que reúne os países do círculo do Pacífico para promover e facilitar o livre comércio e a cooperação econômica e técnica.

- (A) Grupo dos BRICS.
- (B) Comunidade Andina (CAN).
- (C) Mercado Comum do Sul (MERCOSUL).
- (D) Fórum Econômico Ásia-Pacífico (APEC).
- (E) União de Nações Sul-Americanas (UNASUL).



COMENTÁRIOS:

“Promover e facilitar o livre comércio e a cooperação econômica e técnica” são objetivos específicos de blocos econômicos. Dentre as alternativas apresentadas, temos três blocos econômicos:

- A Comunidade Andina (CAN), formada por Bolívia, Colômbia, Equador, Peru, Chile e Venezuela.
- O Mercado Comum do Sul (MERCOSUL), formado por Brasil, Argentina, Uruguai, Paraguai, Bolívia e Venezuela (atualmente suspensa).
- O Fórum Econômico Ásia-Pacífico (APEC), formado por 21 países da bacia do Pacífico, dentre eles os Estados Unidos, Austrália, Rússia, Japão, Canadá, China e Chile.

O enunciado está se referindo à APEC; a dica está na menção que é feita aos países do Círculo do Pacífico.

A APEC é formada por países muito distintos, econômica, política, social e culturalmente. Atualmente, engloba quase metade da população mundial, cerca de 3 bilhões de pessoas. Seu PIB é de aproximadamente US\$ 19 trilhões, 60% do PIB mundial, sendo responsável por cerca de 50% do comércio mundial.

Gabarito: D

9. (PM-PI/NUCEPE/2022 – SOLDADO) Recentemente, a União Europeia sofreu uma grande rachadura: um de seus doze membros fundadores deixou de fazer parte do mencionado grupo. O processo que levou a isso ficou conhecido como Brexit, e resultou numa série de mudanças na relação entre o Estado-membro que deixou o Bloco e os demais que continuam formando a União Europeia, por exemplo, o fim da livre circulação de pessoas. Sobre o Brexit, é CORRETO afirmar que

- a) diz respeito à saída de Portugal da União Europeia.
- b) diz respeito à saída da Bélgica da União Europeia.
- c) diz respeito à saída da Bulgária da União Europeia.
- d) diz respeito à saída do Reino Unido da União Europeia.
- e) diz respeito à saída da França da União Europeia.

COMENTÁRIOS:

Brexit é a junção das palavras inglesas “british” (britânico) e exit (saída). O Brexit é o processo de saída do Reino Unido da União Europeia, iniciado em 2016, em um plebiscito no qual 52% dos eleitores votaram por sair. A partir disso, uma série de negociações foram feitas, buscando acertar os diversos aspectos econômicos e políticos da futura relação entre o Reino Unido e a União Europeia. O processo foi concluído em 31 de janeiro de 2020, quando finalmente o Reino Unido acertou todos os termos e saiu oficialmente, por meio de meios legais e democráticos, do bloco econômico. O primeiro-ministro Boris Johnson foi responsável por aprovar o acordo de saída.

Gabarito: D



10. (CEBRASPE/IBGE/2021 - AGENTE DE PESQUISAS POR TELEFONE) A formação de blocos regionais que surgiram através da integração econômica se caracteriza, na verdade, como um processo, o qual, normalmente, se distingue por várias etapas. Quando tais etapas são projetadas para o âmbito social e político dão à formação do bloco a característica de união total. Internet: <trilhante.com.br> (com adaptações).

Acerca da formação e da integração econômica dos blocos regionais, assinale a opção correta.

- A) Os blocos possuem o intuito de fortalecer a economia nacional e proporcionar mútua assistência, formando um mercado comum forte e competitivo no âmbito mundial.
- B) A finalidade é sempre chegar a uma união aduaneira, último estágio da formação de um bloco, que permite a circulação de produtos, pessoas, bens, capitais e força de trabalho.
- C) Atualmente o bloco em estágio mais avançado é a União Europeia, com destaque para o Reino Unido, sua maior potência econômica.
- D) A estabilidade política e econômica do Mercosul chama a atenção do mundo para seus membros efetivos: Brasil, Argentina, Paraguai, Uruguai e Venezuela.
- E) O Brasil, devido a sua riqueza mineral e natural e seu maior parceiro comercial ser a China, faz parte do bloco regional que envolve países da Ásia e do Pacífico.

COMENTÁRIOS:

a) Correta. Os blocos possuem o intuito de fortalecer a economia nacional e proporcionar mútua assistência, formando um mercado comum forte e competitivo no âmbito mundial.

b) Incorreta. Existem diferentes estágios da integração econômica, alguns mais simples, outros, mais avançados e integrados. O último estágio é a **união econômica e monetária**, onde, além do livre-comércio, adoção de uma tarifa externa comum, livre circulação de mercadorias, serviços, capitais e trabalhadores, os países-membros adotam uma moeda comum e a mesma política de desenvolvimento. Na união aduaneira, os países adotam somente a livre circulação de mercadorias e a tarifa externa comum.

c) Incorreta. Atualmente o bloco em estágio mais avançado é a União Europeia, que chegou ao estágio final da integração econômica, a união econômica e monetária. Contudo, o Reino Unido não faz mais parte da União Europeia. O país saiu do bloco no processo chamado de Brexit. Foi o primeiro país a deixar a União Europeia.

d) Incorreta. Não se pode dizer que há uma estabilidade econômica nos últimos anos. As duas maiores economias, mais de 90% do PIB passaram e passam por crises econômicas: Brasil e Argentina. Diferenças políticas entre os presidentes do Brasil e da Argentina têm gerado tensionamentos políticos. Assim, há uma certa instabilidade política no Mercosul. Por fim, os membros efetivos ou plenos fundadores do Mercosul são a Argentina, o Brasil, o Paraguai e o Uruguai. A Venezuela ingressou no bloco em 2012, mas se encontra suspensa de todos os direitos e obrigações inerentes à sua condição de Estado Parte do Mercosul.



e) Incorreta. O bloco regional referido pela alternativa é a Cooperação Econômica da Ásia e do Pacífico (Apec), um dos principais blocos econômicos do mundo, que conta com gigantes como Estados Unidos, China, Canadá e Austrália. O Brasil não faz parte desse bloco.

Gabarito: A

11. (CESGRANRIO/BASA/2021 – TÉCNICO CIENTÍFICO) As negociações entre o Reino Unido e a União Europeia sobre o pós-Brexit chegam sem definição hoje ao prazo convencionado pelo premiê Boris Johnson e pela presidente da Comissão Europeia, Ursula Von der Leyen, para um acerto. A três semanas da data limite, as discussões estagnadas preocupam empresas e autoridades, diante da possibilidade de haver escassez de produtos, engarrafamentos, portos bloqueados e fábricas fechadas. Desde o início da semana, federações industriais alertaram sobre o que pode ocorrer a partir de janeiro.

Empresas Reagem a Indefinição do Brexit. Jornal O Estado de São Paulo, Internacional, 13 dez. 2020, p. A11. Adaptado.

Em 1º de janeiro de 2021, o Reino Unido tomou a seguinte decisão em relação à União Europeia:

- (A) manter seus representantes no Parlamento Europeu.
- (B) realizar novo referendo junto aos cidadãos britânicos.
- (C) deixar a condição de país-membro do bloco regional.
- (D) liberar a exigência de visto para trabalhadores do bloco.
- (E) adotar novas medidas para ingresso na zona do euro.

COMENTÁRIOS:

O Reino Unido já estava politicamente fora da União Europeia desde 31 de janeiro de 2020, porém, continuou seguindo as regras comerciais do bloco regional.

De 1º de fevereiro de 2020 a 31 de dezembro de 2020, vigorou um período de transição, no qual foi negociado pelas partes um acordo comercial específico. Em 1º de janeiro de 2021, esse acordo comercial entrou em vigor e o Reino Unido deixou de seguir as regras comerciais do bloco, estando, sob esse aspecto, também fora do bloco europeu. O país passou a ter soberania para negociar acordos comerciais específicos com outros países e blocos econômicos e estabelecer regras econômicas internas, de forma independente da União Europeia.

O comando da questão está mal formulado, já que a decisão do Reino Unido de deixar de ser membro da União Europeia foi tomada em um plebiscito, em junho de 2016. Faz parte, mas quem estudou o assunto, não errou essa questão.

Gabarito: C

12. (VUNESP/PREFEITURA DE SOROCABA/2020 – AUXILIAR DE EDUCAÇÃO) Após a saída da União Europeia, em 31 de janeiro de 2020, a mudança, anunciada nesta quarta-feira (19.fev) pelo Ministério do



Interior, é um reflexo do Brexit – uma das principais bandeiras dos partidários do “sair” desde o início do processo.

(Folha de S. Paulo – <https://bit.ly/2Y7LQ3Z>. Publicado em 19.fev.2020 – Acesso em 04.jun.2020. Adaptado)

A mudança

- (A) estabelece novas regras de estímulo ao comércio entre o Reino Unido e os países europeus e asiáticos.
- (B) estipula regras rígidas para a entrada de imigrantes europeus ou de qualquer outra região do mundo.
- (C) propõe a criação de um novo bloco econômico formado apenas por países de língua e cultura inglesa.
- (D) determina que as relações comerciais com Alemanha e França sejam incentivadas a partir de 2021.
- (E) estabelece o status de associado aos outros países europeus recém-desligados da União Europeia.

COMENTÁRIOS:

O enunciado fala sobre uma mudança aprovada pelo Reino Unido que esteve dentre as principais bandeiras dos que defenderam a saída do país da União Europeia, no processo chamado de Brexit. Neste caso, não era necessário saber o fato específico, mas o seu contexto. Dito isto, vamos analisar as alternativas:

a) Incorreto. Invenção do examinador. Não é o que foi estabelecido pela mudança citada no fragmento da notícia que introduz a questão.

b) Correto. A questão da migração de cidadãos europeus ao Reino Unido foi um dos temas polêmicos do Brexit. Três milhões de migrantes de países do bloco do leste europeu residem e trabalham no país. O argumento utilizado pelos defensores da saída é de que esses migrantes tiram o emprego dos britânicos e têm acesso ao sistema de proteção social, prejudicando a qualidade dos serviços para os nacionais. Para os defensores do Brexit, deve-se endurecer as regras de imigração. Isso de fato ocorreu no mês de fevereiro. O Reino Unido endureceu as regras à entrada de migrantes poucos qualificados. O enunciado utiliza esse fato como base para a questão.

O novo "sistema de migração baseado em pontos" dará prioridade máxima àqueles que tiverem "as mais altas qualificações e os maiores talentos", incluindo cientistas, engenheiros e acadêmicos. Os candidatos deverão comprovar serem qualificados na área em que trabalham, seu nível de inglês, a profissão que exercem e que receberam uma proposta de emprego de uma empresa britânica que ofereça um salário anual mínimo de 25.600 libras (cerca de R\$ 145.000, ou R\$ 12.100 por mês).

Esse piso salarial pode ser maior, dependendo da ocupação do postulante —quanto maior o nível de qualificação, maior o valor mínimo da remuneração.

O sistema de pontos permite compensações entre alguns requisitos. Um candidato que não tenha doutorado pode substituir os dez pontos atribuídos a essa categoria por uma oferta de salário mais alta que o piso, por exemplo. No entanto, três requisitos devem obrigatoriamente ser atendidos e não podem ser compensados por pontos extras nos demais: ter fluência mínima de inglês para o trabalho que exercerá, ter recebido uma



oferta de emprego e que o cargo ofertado seja compatível com o nível de qualificação. Solicitantes de baixa qualificação seguirão as mesmas regras — não haverá um processo específico para eles.

c) Incorreto. A criação de um novo bloco econômico formado apenas por países de língua e cultura inglesa não esteve entre as bandeiras em prol do Brexit.

d) Incorreto. O incentivo às relações comerciais com a França e a Alemanha não esteve entre as bandeiras a favor do Brexit. O Reino Unido já realiza um significativo fluxo comercial com França e Alemanha, que figuram dentre seus principais parceiros comerciais.

e) Incorreto. Nenhum outro país saiu da União Europeia. O Reino Unido foi o primeiro. Foi uma saída inédita. Questão sem fundamento. Mais uma invenção do examinador.

Gabarito: B

13. (IBADE/IDAF-AC/2020 – TÉCNICO EM DEFESA AGROPECUÁRIA E FLORESTAL) “Brexit” é a junção das palavras em inglês “British” e “exit” e significa “saída britânica”. O termo é usado para se referir à saída do Reino Unido da União Europeia (UE). A defesa do Brexit inclui argumentos que apontam que a saída do Reino Unido do bloco é positiva porque irá, por exemplo:

I. restringir a entrada de imigrantes no país;

II. aumentar os recursos públicos disponíveis exclusivamente para os britânicos, com o fim dos valores repassados ao EU;

III. reduzir lucros devido à cobrança de tarifas de exportação para os países europeus, destino de grande parte dos produtos britânicos exportados;

IV. melhorar as possibilidades de negociação em acordos bilaterais com outros países.

(G1, 13/12/2019. Disponível em: < [http:// https://glo.bo/2Sr7kWz](http://https://glo.bo/2Sr7kWz)>. Adaptado)

São argumentos favoráveis ao Brexit:

(A) I e IV, apenas.

(B) I, II e III.

(C) II e III.

(D) I, II e IV.

(E) I, II, III, IV.

COMENTÁRIOS:



I - Correto. A restrição da entrada de imigrantes no país foi um dos argumentos utilizados pelos defensores do Brexit, com o argumento de que os migrantes tiravam o emprego dos britânicos e têm acesso ao sistema de proteção social do país, prejudicando a qualidade dos serviços para os nacionais.

II - Correto. A União Europeia possui um orçamento comum, para o qual cada país contribui proporcionalmente ao tamanho da sua economia. Os defensores do Brexit argumentavam que o Reino Unido enviaria mais dinheiro para a União Europeia do que recebia de volta em investimentos. Saindo do bloco europeu, sobraria mais dinheiro para ser investido no país.

III - Incorreto. Reduzir lucros devido à cobrança de tarifas de exportação para os países europeus, destino de grande parte dos produtos britânicos exportados, não foi um argumento utilizado pelos que defendem o Brexit. Não faria sentido ser a favor da redução de lucros de seu país. A redução dos lucros de exportação foi um dos argumentos utilizados pelos que foram contrários ao Brexit, já que o país não estará mais isento de taxas de exportação e importação no comércio com os países europeus.

IV - Correto. Melhorar as possibilidades de negociação em acordos bilaterais com outros países é um dos argumentos utilizados pelos defensores do Brexit. Os defensores da saída alegam que o crescimento da União Europeia diminuiu a importância e a soberania britânica. O país tem que seguir regulações nas áreas de economia, política, migrações, entre outras, decididas pelo bloco econômico.

Gabarito: D

14. (QUADRIX/CRN 9/2019 – AUXILIAR OPERACIONAL) A União Europeia é o segundo maior comprador do agronegócio brasileiro, tendo sido o destino de 17,6% das exportações do setor neste ano, que geraram US\$ 9,9 bilhões até julho, ficando atrás apenas da China.

Internet: <<https://g1.globo.com>> (com adaptações).

Tendo o texto acima apenas como referência inicial, julgue o item.

Em junho último, o Brasil assinou um tratado de livre comércio com a União Europeia, com vigência total e imediata, que permitiu a isenção de tarifas de produtos agrícolas destinados à Europa.

COMENTÁRIOS:

Em 28 junho de 2019, o Mercosul e a União Europeia assinaram um acordo de livre comércio. Não foi um acordo do Brasil com a União Europeia, foi do Mercosul com a União Europeia.

A vigência do acordo não é total e imediata. Para começar a ter vigência, deve ser aprovado no Parlamento Europeu e nos parlamentos nacionais de todos os países dos dois blocos econômicos e ser ratificado pelos poderes executivos.

Após as aprovações e ratificações, a redução de tarifas entre os blocos entra em vigor, mas de forma gradativa, ao longo de dez anos.

Um dos pontos do acordo é a isenção de tarifas de vários produtos agrícolas destinados ao bloco europeu.

Gabarito: Errado



15. (FUNDATEC/PREFEITURA DE SÃO BORJA-RS/2019 – CIRURGIÃO DENTISTA) Entre os países citados abaixo, qual NÃO faz parte da União Europeia?

- a) Bélgica.
- b) Finlândia.
- c) Rússia.
- d) Lituânia.
- e) Suécia.

COMENTÁRIOS:

Dentre os países listados, somente a Rússia não faz parte da União Europeia.

Gabarito: C

16. (FUNDATEC/PREFEITURA DE SÃO BORJA-RS/2019 – CIRURGIÃO DENTISTA) No Mercosul, além dos países membros e dos países associados, dois países possuem o status de “observadores”, são eles:

- a) Estados Unidos e Canadá.
- b) Nova Zelândia e México.
- c) Panamá e Suriname.
- d) Equador e Honduras.
- e) Coreia do Sul e Japão.

COMENTÁRIOS:

Os países com o status de Estados Observadores do Mercosul são o México e a Nova Zelândia. Um membro observador apenas participa das reuniões do bloco, para melhor acompanhar o andamento das discussões, sem possuir poder de participação ou voto.

Gabarito: B

17. (VUNESP/PREFEITURA DE GUARATINGUETÁ-SP/2019 – ESCRITURÁRIO) O MERCOSUL e a Associação Europeia de Livre-Comércio (EFTA, na sigla em inglês) fecharam ontem (23.08.2019), em Buenos Aires, um acordo de livre-comércio. Integrantes da equipe econômica consideraram esse acordo mais abrangente e ambicioso do que o firmado com a União Europeia no fim de junho.

(IstoÉ. Disponível em <https://bit.ly/2kzSCQ9>. Acesso em 07.09.2019. Adaptado)

Sobre esse acordo, é correto afirmar:



- a) pelo MERCOSUL, assinaram o acordo o Brasil, a Argentina, o Paraguai, o Uruguai e a Venezuela.
- b) atualmente, a EFTA é formada pela Suécia, Noruega, Islândia e Áustria.
- c) os países da EFTA também fazem parte da União Europeia.
- d) o montante de negócios do MERCOSUL com a EFTA superará os valores dos negócios com a União Europeia.
- e) pela EFTA, assinaram o acordo a Suíça, a Noruega, a Islândia e Liechtenstein.

COMENTÁRIOS:

a) Incorreto. Desde agosto de 2017, a Venezuela está suspensa do Mercosul. A suspensão do bloco é política, afetando o direito do país de votar, de ser votado e de exercer a presidência rotativa do bloco. Não afetam as trocas comerciais entre a Venezuela e os demais países do bloco. Os acordos comerciais continuam em vigor. Sendo assim, a Venezuela não participou da assinatura do acordo.

b) Incorreto. O EFTA é formado por Noruega, Suíça, Liechtenstein e Islândia.

c) Incorreto. Nenhum país do EFTA faz parte da União Europeia. Entretanto, os quatro países fazem parte do Espaço Schengen, de livre circulação de pessoas no continente europeu.

d) Incorreto. O montante de negócios entre o Mercosul e a União Europeia apresenta valores muito superiores do que os valores de negócios entre o Mercosul e o EFTA. A corrente de comércio Mercosul-União Europeia foi de mais de US\$ 90 bilhões em 2018. Por sua vez, o comércio entre o MERCOSUL e os países da EFTA é em média de 7 bilhões de dólares anuais, até 2019. Pelo fato de possuir muito mais membros dentro do seu bloco econômico, dentre os quais estão algumas das grandes economias do mundo, como Alemanha e França, o montante de negócios do Mercosul com a União Europeia não será superado pelos valores dos negócios com o EFTA.

e) Correto. Pela EFTA, assinaram o acordo a Suíça, a Noruega, a Islândia e Liechtenstein, os quatro países que compõem esse bloco econômico.

Gabarito: E

18. (CEBRASPE/PGE PE/2019 – ASSISTENTE DE PROCURADORIA) Uma questão preocupante para o governo britânico com relação à concretização do Brexit é a fronteira entre Irlanda do Norte e a República da Irlanda.

COMENTÁRIOS:

O Reino Unido saiu da União Europeia em 31/01/2020. O tema da fronteira entre as duas Irlandas foi o que mais gerou discordância dentro do Reino Unido durante o processo do Brexit.

Essa fronteira é a única ligação terrestre entre a União Europeia e o Reino Unido.



O Acordo de Belfast, 1988, pôs fim a décadas de luta armada do IRA pela independência da Irlanda do Norte do Reino Unido e a sua reanexação à Irlanda. Uma das medidas determinantes para o término do conflito foi o fim do controle da fronteira entre a Irlanda do Norte e a República da Irlanda, permitindo a livre circulação de pessoas, o que propiciou uma maior integração entre os irlandeses da ilha. Atualmente, milhares de pessoas atravessam a fronteira irlandesa todos os dias, e bens e serviços passam entre as duas jurisdições sem restrições.

No acordo ficou decidido que não haverá uma "fronteira dura" (com postos de controle) entre a Irlanda e a Irlanda do Norte.

Gabarito: Certo

19. (VUNESP/PREFEITURA DE ARUJÁ/2019 – AUXILIAR ADMINISTRATIVO) A primeira-ministra do Reino Unido, Theresa May, enfrentará nesta quarta-feira (12 de dezembro) um voto de desconfiança de seus próprios correligionários do Partido Conservador, em nova reviravolta da barroca trama política que mobiliza o país. A imprensa local notícia que ao menos 48 parlamentares da legenda submeteram a um comitê partidário cartas nas quais questionam a liderança de May.

(Folha de S.Paulo, 12 dez.18. Adaptado)

O impasse entre a primeira-ministra e os membros de seu próprio partido teve como pano de fundo

- a) a crise econômica que vive o Reino Unido e o conseqüente aumento do desemprego.
- b) a possível abertura do país aos imigrantes em geral e, em especial, aos refugiados sírios.
- c) o veto imposto pela chefe de governo ao Orçamento pouco enxuto proposto pelo Parlamento.
- d) a defesa que a líder conservadora fez de pautas historicamente associadas aos trabalhistas.
- e) a dificuldade do Reino Unido em negociar e aprovar a sua saída da União Europeia.

COMENTÁRIOS:

A notícia do enunciado fala de uma “trama política que mobiliza o país”. A trama política que mobilizou o Reino Unido nos últimos anos foi o Brexit, a saída britânica da União Europeia. O fato presente no enunciado diz respeito a uma votação realizada para decidir se Theresa May continuaria sendo líder de seu partido e se continuaria no posto de primeira-ministra, que assumiu em 2016, após a aprovação da saída do Reino Unido da União Europeia. Naquela votação, ela continuou tendo a confiança do Partido Conservador, e continuou como primeira-ministra até a sua queda em julho de 2019.

Gabarito: E

20. (FCC/AFAP/2019 - ASSISTENTE ADMINISTRATIVO) O processo complicado chamado de Brexit teve início em junho de 2016, cujos desdobramentos continuaram em 2017 e 2018, prossegue em 2019 com muitas polêmicas entre as partes atingidas. Sobre o Brexit é correto afirmar que



- a) em um referendo, mais da metade dos britânicos decidiu pela saída do Reino Unido da União Europeia; após a decisão tiveram início as difíceis negociações para a saída do bloco, antevendo-se problemas políticos e econômicos para ambos os lados.
- b) o movimento de saída do Reino Unido da União Europeia está relacionado ao fato de o país ter sido impedido de utilizar o euro como moeda oficial; a negativa tem sido apontada como fator dificultador para ampliar as exportações britânicas.
- c) a saída do Reino Unido da União Europeia tem sido apontada como o estopim para a continuidade do bloco econômico, pois vários países, como a Alemanha e a França, têm referendos programados para decidir o caminho a seguir no próximo ano.
- d) a recente decisão de sair do bloco econômico provocou muitos conflitos internos no Reino Unido, abalando, inclusive, a liderança da Família Real, que teve grande participação quando da entrada do Reino Unido na União Europeia.
- e) o principal motivo da saída do Reino Unido do bloco econômico europeu está relacionado à forte pressão dos britânicos no sentido de barrar a chegada de imigrantes africanos e asiáticos, considerados pouco preparados para o mercado de trabalho britânico.

COMENTÁRIOS:

- a) **Correto**. Uma imprecisão do examinador, foi por meio de um plebiscito que os britânicos escolheram decidiram saída do Reino Unido da União Europeia. Após a decisão tiveram início as difíceis negociações para a saída do bloco, antevendo-se problemas políticos e econômicos para ambos os lados.
- b) **Incorreto**. O Brexit não tem relação com o país ter sido impedido de utilizar o Euro como moeda oficial. O Reino Unido não utiliza o Euro por uma escolha própria, não por uma imposição da União Europeia. Sua moeda é a libra esterlina.
- c) **Incorreto**. A saída do Reino Unido da União Europeia não tem sido apontada como o estopim para a continuidade do bloco econômico. Não há nenhum plebiscito ou referendo marcado em nenhum outro país do bloco para decidirem sobre a continuidade ou não na União Europeia.
- d) **Incorreto**. A recente decisão de sair do bloco econômico provocou muitos conflitos internos no Reino Unido, é verdade. Entretanto, não abalou a liderança da Família Real. A Família Real não teve grande participação quando da entrada do Reino Unido na União Europeia.
- e) **Incorreto**. É uma invenção do examinador. Em maior ou menor escala, a grande maioria dos países da União Europeia são bastante resistentes a entrada no bloco europeu e nos seus países de imigrantes africanos e asiáticos.

Gabarito: A

21. (FCC/PM AP/2017 – SOLDADO) Em 21 de julho, o presidente Michel Temer participou de reunião com presidentes de outros países sul-americanos, em Mendoza, na Argentina. Entre os temas discutidos na reunião estava a atual situação da Venezuela. O encontro marcou a entrada do Brasil na presidência temporária do bloco pelos próximos seis meses.



(Adaptado de: goo.gl. Acessado em 21/07/2017)

O bloco mencionado na notícia é

- a) o Nafta.
- b) o Mercosul.
- c) a União Europeia.
- d) a Unasul.
- e) a Comunidade do Pacífico.

COMENTÁRIOS:

O Brasil não era membro do Nafta nem da União Europeia. A Comunidade do Pacífico é uma entidade que congrega países e territórios situados no Oceano Pacífico. A Unasul não é um bloco econômico, mas uma entidade que congrega os países da América do Sul. Por exclusão, a resposta é o Mercosul. O bloco possui uma presidência rotativa. Por ordem alfabética, a cada seis meses um Estado-parte assume a presidência do bloco.

Gabarito: B



QUESTÕES COMENTADAS – GUERRA FRIA 2.0 - MULTIBANCAS

1. (CEBRASPE/TJ-SC/2023) Considerando que as relações internacionais são múltiplas e centradas no poder, sobretudo na economia internacional contemporânea, assinale a opção correta.

- a) A China, potência mundial ascendente, abriu mão de explorar a África para não suscitar conflito com as metrópoles europeias colonialistas.
- b) Os EUA renunciaram à sua influência sobre os rumos políticos e econômicos da América Latina, convencidos de que o futuro de sua hegemonia mundial está na Europa.
- c) A disputa atual pela economia global se dá entre EUA e China, ancorada em seus interesses econômicos individuais.
- d) No Oriente Médio, Israel abandonou os territórios árabes que passou a ocupar após vitórias militares em diversas guerras.
- e) O reconhecimento formal do Estado da Palestina, ocorrido em 2022, devolveu a paz ao Oriente Médio e possibilitou sua cooperação econômica com Israel.

COMENTÁRIOS:

Está correta a alternativa "C", que afirma que a disputa atual pela economia global se dá entre EUA e China, ancorada em seus interesses econômicos individuais. Essa afirmativa está alinhada com a realidade geopolítica atual, na qual Estados Unidos e China competem por influência econômica e política em todos os "cantos", continentes e oceanos do nosso planeta.

É a disputa da primeira metade do século XXI, a China buscando se tornar a maior economia do mundo e os Estados Unidos atuando para continuarem a serem a maior economia do mundo. Nessa disputa, ambos os países estabelecem alianças e parcerias estratégicas com outras nações, estruturam prioridades e utilizam dos meios que dispõem para alcançarem os seus objetivos.

Vamos analisar aos erros das demais alternativas:

a) Incorreta. Nas décadas recentes, a China tem aumentado significativamente seu envolvimento econômico e político na África, buscando recursos naturais, mercados para exportação e influência geopolítica.

b) Incorreta. Os Estados Unidos continuam a exercer considerável influência sobre os assuntos políticos e econômicos da América Latina. A região continua sendo uma área de interesse estratégico para os EUA, tanto em termos de segurança quanto de comércio. As potências hegemônicas disputam influência em todo o mundo. Não abrem mão de nenhum pedaço do nosso planeta. O que elas fazem é dar maior ou menor importância para determinadas áreas. A Europa é altamente estratégica para os interesses americanos. Todavia, o mundo e os Estados Unidos sabem que a principal disputa do século XXI está na Ásia. É esse continente que recebe a principal atenção americana no período atual.



d) Incorreta. Israel se retirou da península do Sinai, da Faixa de Gaza e de alguns territórios na Cisjordânia. Afora isso, continua ocupando os demais territórios destinados a um futuro Estado palestino que conquistou nas guerras que travou e venceu.

e) Incorreta. Até o presente, Israel não reconhece o direito de os palestinos terem o seu Estado nacional conforme as decisões da ONU. Já são mais de sete décadas de um conflito sem solução.

Gabarito: C

(QUADRIX/CRP-11/2022) A China e os Estados Unidos da América (EUA), os dois gigantes da economia global, vivem, nos últimos anos, um ambiente que tornou as relações ainda mais agudas. A era Donald Trump aprofundou o clima de animosidade e a troca de acusações. A pandemia foi o empurrão para amplificar as desconfianças.

Internet: <<https://www.cnnbrasil.com.br>> (com adaptações).

Acerca da referida disputa entre os EUA e a China e seus possíveis desdobramentos, julgue os itens.

2. Um dos fatores que originou a guerra comercial entre os EUA e a China foi o chamado protecionismo econômico, tendo o governo norte-americano tomado medidas de proteção do mercado interno sob o argumento de buscar reverter o déficit comercial sofrido.

COMENTÁRIOS:

Um dos fatores que originou a guerra comercial entre os EUA e a China foram as medidas protecionistas tomadas pelo ex-presidente norte-americano, Donald Trump. No poder, Trump deu início à uma série de retaliações comerciais à China, elevando tarifas de importação para uma série de produtos chineses.

Apesar da pauta ter sido encabeçada por Trump, o combate econômico aos chineses é um tema central da política externa norte-americana na atualidade, em que tanto republicanos quanto democratas concordam.

Gabarito: Certo

3. A ameaça de invasão da China a Taiwan fez os EUA declararem neutralidade quanto a isso, externada por uma declaração do presidente Joe Biden, o que gerou protestos da população na capital Taipé.

COMENTÁRIOS:

A China frequentemente faz ameaças militares à Taiwan, pois busca desestimular movimentos separatistas na região e almeja anexá-la ao seu território de forma efetiva.

Os Estados Unidos adotam a política conhecida como “ambiguidade estratégica”.

Reconhecem a política de “somente uma China” continental, do governo da República Popular da China (RPC). Essa política preconiza que não há duas Chinas, a continental e a insular. Há somente uma China, que engloba Taiwan, que é parte da RPC.



Para que um país tenha relações diplomáticas com a RPC, não pode haver relações diplomáticas com Taiwan. Na prática, os EUA têm relações diplomáticas com Taiwan, mas não oficialmente. Não há uma embaixada norte-americana na ilha, mas um escritório de relações comerciais.

Os EUA, contudo, têm uma legislação conhecida como a Lei de Taiwan, pela qual os americanos se comprometem a defender a ilha em caso de um ataque chinês continental. Assim, os americanos se balancam na sua política de “ambiguidade estratégica”.

Quando há ameaças militares continentais, fazem críticas e declaram apoio à ilha.

Gabarito: Errado

4. Além da guerra comercial em curso, existe uma disputa cibernética na tentativa de invadir servidores de diversos setores, a ponto de o diretor do FBI (Federal Bureau of Investigation) estadunidense e a Organização do Tratado do Atlântico Norte (Otan) terem acusado o governo chinês de estar por trás dos ataques.

COMENTÁRIOS:

A disputa cibernética é um dos componentes das disputas geopolíticas da atualidade. Estados Unidos, China, Rússia, Coreia do Norte, Israel e outros se utilizam da espionagem cibernética e ataques de hacker nas suas atividades de inteligência e nos seus interesses internacionais.

Gabarito: Certo

5. Conforme as estimativas e o entendimento da maior parte dos especialistas, a China vai ultrapassar os EUA em meados do século XXI, alcançando o maior produto interno bruto (PIB) e tornando-se a maior economia global.

COMENTÁRIOS:

Conforme as estimativas e o entendimento da maior parte dos especialistas, o produto interno bruto (PIB) China deverá ultrapassar o PIB dos EUA até o final da década de 2030.

Para ser mais preciso, deverá ultrapassar os EUA em 2028. É o que previu o Centro de Pesquisa Econômica e de Negócios (CEBR, na sigla em inglês), um renomado centro de estudos britânico.

A questão diz que esse é um entendimento da maior parte dos especialistas. Quem seriam todos eles? Talvez esse seja o erro da afirmativa, ou a informação de que essa ultrapassagem ocorrerá em meados do século XXI.

A palavra “meados” se refere a algo que se situa ao meio ou próximo à metade. Podemos considerar que 2028 ainda está um pouco longe da metade do século XXI, que é o ano de 2050. Essa é uma pegadinha que já foi feita em outras questões.

Gabarito: Errado



6. No espectro da disputa entre os EUA e a China, está claro que os dois países estão em lados opostos no que se refere ao contexto geopolítico da invasão russa a Ucrânia, de modo que os EUA apoiam a Ucrânia e a China, a Rússia.

COMENTÁRIOS:

Estados Unidos e China encontram-se em lados opostos no que se refere ao contexto geopolítica da invasão russa à Ucrânia.

Os EUA são os principais apoiadores da Ucrânia, fornecendo armas, serviços de inteligência, empréstimos e encabeçando a liderança ocidental que impôs milhares de sanções políticas e econômicas à Rússia.

Já a China, de outro lado, é uma grande aliada política e econômica da Rússia. Embora não esteja fornecendo apoio militar aos russos, não aplicou nenhuma sanção política ou econômica ao país. O comércio entre China e Rússia aumentou significativamente após o início da guerra.

Oficialmente a China se mantém neutra no conflito, mas, na prática, é aliada da Rússia, de forma comedida e não ostensiva.

Gabarito: Certo

7. (QUADRIX/CREFITO 6ª REGIÃO/2022 – RECEPCIONISTA) Nestas décadas iniciais do século XXI, os Estados Unidos da América, mesmo ainda mantendo a posição de maior potência mundial, sofrem a crescente concorrência de um país asiático, especialmente em termos econômicos. Esse país é o(a)

- (A) Japão.
- (B) Coreia do Sul.
- (C) China.
- (D) Coreia do Norte.
- (E) Irã.

COMENTÁRIOS:

O país mencionado pelo enunciado é a China. O gigante asiático tem passado, ao longo das últimas décadas, por uma enorme expansão econômica, marcada por forte desenvolvimento tecnológico e socioeconômico, tornando-se o primeiro rival de peso para os Estados Unidos desde o fim da Guerra Fria, quando sua hegemonia global era disputada com a URSS. Estimativas apontam que, até 2030, a China deve superar os EUA como maior economia do mundo.

Para fazer frente ao país asiático, governos norte-americanos têm adotado uma série de medidas. Esse processo se intensificou durante o governo de Donald Trump (2017–2021), com a adoção de uma série de sanções econômicas à China, que se mantêm durante o governo de Joe Biden.

Gabarito: C.



(QUADRIX/CRF-ES/2019 – FARMACÊUTICO) Nordeste vira palco de guerra fria tecnológica entre Estados Unidos e China. Com o Brasil sob pressão para barrar investimentos chineses, país oriental estreita laços com a região.

Internet: <www1.folha.uol.com.br.>

Tendo o texto acima apenas como referência inicial, julgue os itens a seguir.

8. A pressão a que o texto faz referência tem o intuito de barrar investimentos de empresas militares chinesas no Brasil, daí o uso da expressão “guerra fria”.

COMENTÁRIOS:

A pressão que o texto fala se refere a investimentos tecnológicos chineses, no contexto da “guerra fria” tecnológica entre Estados Unidos e China. Não são investimentos de empresas militares chinesas no Brasil.

A “guerra fria” da atualidade ocorre entre China e Estados Unidos, no plano econômico e tecnológico, com grande destaque sobre a implementação e a expansão da tecnologia 5G.

Gabarito: E

9. Empresas chinesas de tecnologia, como a Huawei, têm se tornado grandes fornecedoras de serviços e equipamentos para órgãos de segurança do governo norte-americano, sem sanções.

COMENTÁRIOS:

Além de maior produtora mundial de equipamentos de telecomunicação, a empresa Huawei detém o maior número de patentes da tecnologia 5G, fundamental para o avanço da telefonia móvel e para a consequente evolução industrial.

No contexto da guerra tecnológica entre Estados Unidos e China, os EUA passaram a boicotar a Huawei. Sob acusação de representarem ameaça à segurança dos Estados Unidos, empresas chinesas como a Huawei e a ZTE, entre outras, vêm sofrendo algum tipo de embargo por parte dos EUA. Assim, a Huawei não é uma fornecedora de serviços e equipamentos para órgãos de segurança do governo norte-americano.

Gabarito: E

10. (FCC/SABESP/2019) O Google, cujo sistema operacional Android está instalado na grande maioria dos smartphones do mundo, anunciou que cortou as relações com a Huawei. A decisão tem graves consequências para a empresa, que não poderá oferecer mais o Gmail ou Google Maps em novos aparelhos.

(Disponível em: <https://g1.globo.com>. Adaptado)

Um dos motivos para o corte no relacionamento entre o Google e a Huawei é

a) a proibição de negócios entre empresas dos Estados Unidos e a empresa chinesa, sob alegação de riscos para a segurança nacional.



- b) a permissão para que outros sistemas operacionais funcionem em smartphones da Huawei, incentivando, com isso, o livre mercado.
- c) a legalização de smartphones produzidos por pequenos produtores nos Estados Unidos incentivando, com isso, a indústria nacional.
- d) o protecionismo nacional incentivado por Donald Trump, que pretende frear a expansão de empresas europeias nos Estados Unidos.
- e) a desativação do sistema Android, que gradativamente será substituído por um sistema operacional criado pelo governo de Donald Trump.

COMENTÁRIOS:

A Huawei é uma grande empresa chinesa, maior fabricante de equipamentos de telecomunicações do planeta e fornecedora de serviço 5G.

Em meio ao cenário da guerra comercial que travam China e Estados Unidos, a Huawei foi acusada pelo governo dos Estados Unidos de roubar propriedade intelectual de empresas norte-americanas; de vender produtos com tecnologia norte-americana a países que sofrem embargo (como Irã e Coreia do Norte); e, também, que a Huawei colabora com governo chinês para espionar outros países, colocando em risco a sua segurança nacional. Com isso, o governo norte-americano proibiu negócios entre empresas dos Estados Unidos e a empresa chinesa. Por isso, a Google, uma empresa norte-americana, cortou relações com a Huawei.

Como podemos ver, além da guerra comercial que se desenrola entre os dois países, está em jogo também uma guerra tecnológica. O domínio da tecnologia da 5G permitirá que as tecnologias se conectem de uma forma nunca vista antes, com um tempo de latência mínimo. O país que conseguir antes dominar plenamente a tecnologia 5G obterá, por meio dele, um grande crescimento tecnológico e econômico, aumentando seu poder geopolítico.

Gabarito: A

11. (VUNESP/CÂMARA DE PIRACICABA/2019) Meng Wanzhou, chefe de operações financeiras da Huawei, gigante chinesa de telecomunicações, foi presa em Vancouver, no Canadá, e deve ser extraditada para os Estados Unidos. Os detalhes da prisão, efetuada em 1º de dezembro de 2018, não foram divulgados, mas a empresa chinesa virou alvo de desconfiança em vários países do mundo.

(BBC – <https://bbc.in/2RF5KyG> – Acesso em 29.04.19. Adaptado)

Com relação à gigante chinesa Huawei, foram levantadas suspeitas de que

- a) a empresa seria a grande fornecedora de equipamentos utilizados pela Coreia do Norte para produzir mísseis de médio alcance.
- b) os acordos comerciais e financeiros que ela desenvolve com ditaduras africanas a tornariam hostil às nações democráticas.



c) a tecnologia utilizada na produção dos equipamentos 5G é resultado de espionagem industrial contra o Reino Unido.

d) seus equipamentos seriam usados pelo governo da China para espionar as pessoas e instituições ao redor do mundo.

e) a empresa teria fraudado os estudos que mostram que a matéria-prima utilizada na produção de seus equipamentos é cancerígena.

COMENTÁRIOS:

A empresa chinesa Huawei é a maior fornecedora de sistemas 5G na atualidade e também a maior fabricante de equipamentos de telecomunicações do planeta. Em meio ao cenário de guerra comercial, os Estados Unidos, que não possuem uma grande empresa no setor 5G, acusam a empresa chinesa de roubar propriedade intelectual de empresas norte-americanas, de vender produtos com tecnologia norte-americana a países que sofrem com embargo norte-americano (como o Irã e a Coreia do Norte), e também alegam que a Huawei colabora com o governo chinês para espionar os outros países.

Frente a tais acusações, o governo norte-americano abriu uma ação contra a Huawei e a executiva Meng Wangzhou, filha do fundador da empresa, ficou 11 dias presa no Canadá em dezembro de 2018.

Gabarito: D

(QUADRIX/CREF-SE/2019 - ASSISTENTE ADMINISTRATIVO) O G20 reconheceu, no dia 1.º de dezembro de 2018, que a Organização Mundial de Comércio (OMC) não consegue cumprir com seus objetivos atualmente e, por isso, defendeu, na declaração final aprovada na cúpula realizada desde ontem, em Buenos Aires, na Argentina, uma reforma para revitalizar o comércio mundial.

Internet: <<https://noticias.uol.com.br>> (com adaptações).

Tendo a reunião do G20, mencionada no texto acima, apenas como referência inicial, julgue o item.

12. Não obstante a divergência ideológica entre Donald Trump e o regime chinês, as relações comerciais entre os dois países vivem momento excepcional, sem quaisquer restrições ao livre comércio.

COMENTÁRIOS:

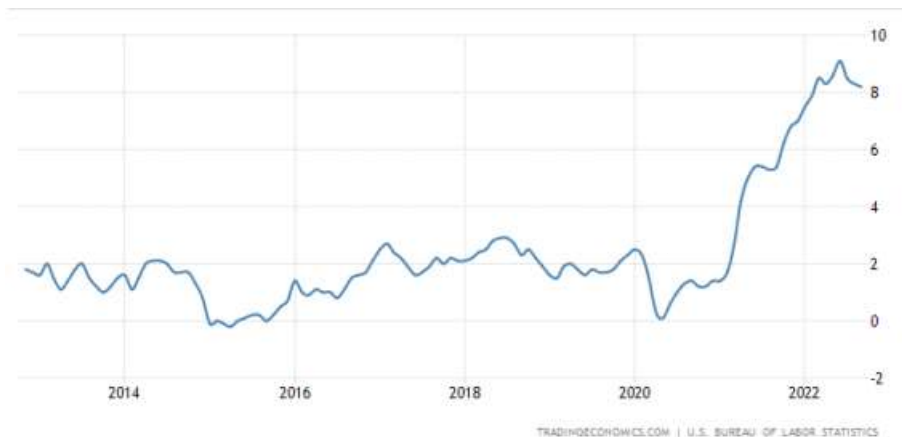
Estados Unidos e China travam, atualmente, uma guerra comercial, com restrições ao livre comércio. As relações comerciais entre os dois países passam por um período de forte tensionamento.

Gabarito: Errado



QUESTÕES COMENTADAS – ESTADOS UNIDOS - MULTIBANCAS

1. (FGV/TRT-PB/2022) O mundo tem acompanhado o que acontece com a inflação nos Estados Unidos da América. Recentemente, a inflação por lá saiu de um platô de cerca de 2% ao ano e atualmente gira em torno de 8 a 9%. Na zona do euro, vemos acontecer fenômeno similar. Economias emergentes também sentem os efeitos negativos de uma inflação mais alta.



Avalie se, entre as causas do aumento recente da inflação nos EUA, podem ser citados:

- I. O movimento de alta nas taxas de juros.
- II. Os incentivos econômicos concedidos aos americanos (pessoas e empresas) durante a pandemia do coronavírus.
- III. As paralisações nas cadeias produtivas por conta dos surtos de Covid.
- IV. A invasão da Ucrânia pela Rússia.

Estão corretos os itens

- (A) I e II, apenas.
- (B) III e IV, apenas.
- (C) I, II e III, apenas.
- (D) II, III e IV, apenas.
- (E) I, II, III e IV.

COMENTÁRIOS:

Ao longo do ano de 2022 e de 2023, a inflação cresceu nos Estados Unidos, em países da União Europeia e em outras grandes e importantes economias no mundo. A principal razão para isso foi a guerra entre Rússia



e Ucrânia, que diminuiu disponibilidade de importantes commodities no mercado global, sobretudo o petróleo e o trigo. Além disso, para a União Europeia, a energia encareceu muito, pois a Rússia era o principal fornecedor de gás natural para o bloco econômico, que reduziu significativamente as importações desse recurso energético como forma de retaliar a invasão russa. Dito isso, vamos analisar as alternativas:

I - Incorreta. O aumento das taxas de juros é uma medida adotada pelo Federal Reserve (Banco Central dos Estados Unidos) para conter a alta da inflação, tornando o crédito mais caro e desestimulando o consumo. Essa elevação pode impactar o custo de financiamento das empresas e das famílias, o que pode contribuir para conter a inflação. Portanto, esse movimento não é responsável pela inflação, mas tem o objetivo de contê-la.

II - Correta. Durante a pandemia, o governo dos Estados Unidos adotou uma série de medidas de estímulo econômico, como a distribuição de auxílio emergencial e a concessão de créditos para empresas. Essas ações, embora tenham sido importantes para mitigar os efeitos da crise, também podem ter impulsionado o consumo e a demanda, contribuindo para o aumento da inflação.

III - Correta. A pandemia da covid-19 causou interrupções significativas nas cadeias produtivas globais, afetando o fornecimento de matérias-primas e produtos acabados. Essas paralisações geraram escassez de alguns produtos e aumentaram os preços, contribuindo para o aumento da inflação.

IV - Correta. A invasão da Ucrânia pela Rússia teve enormes impactos econômicos e políticos no mundo e está diretamente relacionada ao aumento da inflação nos Estados Unidos no ano de 2022, conforme exposto no início desse comentário.

Gabarito: D



QUESTÕES COMENTADAS – CHINA – MULTIBANCAS

1. (FGV/PREFEITURA DE SÃO JOSÉ DOS CAMPOS – SP/2023) Avalie se as afirmativas a seguir descrevem corretamente a posição do atual governo brasileiro em relação à China.

I. A China é o principal parceiro comercial do Brasil, tendo preenchido o lugar antes ocupado pelos EUA.

II. A China é uma potência e lidera o BRICS, motivo pelo qual a aproximação diplomática é uma oportunidade para o Brasil discutir temas globais.

III. O Brasil reiterou o princípio de uma só China, o reconhecimento da República Popular da China e o entendimento de que Taiwan é parte do território chinês.

Está correto o que se afirma em:

A) I, apenas.

B) I e II, apenas.

C) I e III, apenas.

D) II e III, apenas.

E) I, II e III.

COMENTÁRIOS:

I - Correto. Em 2009, a China superou os Estados Unidos e se tornou o principal parceiro comercial do Brasil. Os norte-americanos desbancaram a Inglaterra, em 1930, e por 79 anos foram o principal parceiro comercial do Brasil. Atualmente, são o segundo maior parceiro comercial do nosso país.

II - Correto. A China é uma potência global e lidera o BRICS. A aproximação diplomática com a China oferece ao Brasil a oportunidade de discutir questões globais em conjunto com outros países emergentes influentes.

III - Correto. O Brasil, em sua política externa, segue o princípio de "uma só China," o que significa que reconhece a República Popular da China como o governo legítimo da China e que Taiwan faz parte do território chinês.

Gabarito: E

2. (QUADRIX/CRT-BA/2023) A estimativa da meta de crescimento do PIB chinês é a de que ele ultrapasse o dos Estados Unidos e a China se torne a maior economia do planeta no próximo ano.

COMENTÁRIOS:



O PIB da China é o segundo maior do mundo, ficando atrás somente dos Estados Unidos. Tem crescido rapidamente nas últimas décadas e muitas são as projeções que indicam que o PIB chinês ultrapassará, em um futuro próximo, o PIB dos Estados Unidos.

Contudo, as estimativas apontam que isso ocorrerá por volta da década de 2030, e não “no próximo ano”, que, no caso dessa questão, seria em 2024, uma vez que a prova foi aplicada em 2023.

Gabarito: Errado

3. (VUNESP/EPC/2023) Em um contexto internacional de alta tensão, muitos receiam que os dois países tenham iniciado um caminho que pode levar a uma crise diplomática, política e até militar, como já aconteceu no passado. A viagem da parlamentar à ilha que um dos países considera parte do seu território, uma província “rebelde”, aumentou a tensão até níveis que não eram vistos há décadas.

(UOL. <https://bit.ly/3YKjMkM>. 09.08.2022. Adaptado)

A notícia faz referência à tensão entre

- A) Japão e China.
- B) Índia e Estados Unidos.
- C) Inglaterra e Índia.
- D) Japão e Inglaterra.
- E) Estados Unidos e China.

COMENTÁRIOS:

A notícia retrata um contexto internacional de alta tensão entre dois países que se preocupam com a possibilidade de uma crise diplomática, política e até militar. Dentre as alternativas apresentadas, os únicos países que estão em um contexto internacional de alta tensão são Estados Unidos e China.

A grande pista da questão está na referência à viagem da parlamentar a uma ilha que um dos países considera parte de seu território. Trata-se da viagem da ex-presidente da Câmara dos Representantes (deputados) norte-americana, Nancy Pelosi, à ilha de Taiwan, no mês de agosto de 2022.

Gabarito: E

4. (FGV/CÂMARA MUNICIPAL DE TAUBATÉ/2022) Em agosto de 2022, a presidente da Câmara dos Representantes dos EUA, Nancy Pelosi, visitou Taipei, capital de Taiwan, gerando tensão diplomática entre americanos e chineses. A respeito do status da ilha do sudeste asiático, assinale a afirmativa correta.





- (A) É uma região autônoma da China com governante eleito por voto direto da população da ilha.
- (B) Destaca-se economicamente pelo turismo e pela indústria naval, em função de sua posição.
- (C) É considerada rebelde por Pequim por ter abrigado adversários políticos do regime comunista.
- (D) Os americanos reconhecem sua soberania e abriram representação diplomática em Taipei.
- (E) O Brasil não reconhece a jurisdição da república Popular Chinesa sobre o território taiwanês.

COMENTÁRIOS:

Taiwan é uma ilha localizada na região da Ásia Oriental e tem uma situação política delicada. Após a Guerra Civil Chinesa, em 1949, o governo nacionalista da China foi derrotado pelo Partido Comunista, e o líder nacionalista, Chiang Kai-shek, refugiou-se em Taiwan com seu governo e seguidores, onde continuou a se autoproclamar como o verdadeiro governo da China.

Atualmente, Taiwan se autogoverna como uma democracia com instituições políticas próprias, mas a República Popular da China (China continental) reivindica a ilha como parte de seu território, considerando-a uma província rebelde que, em suas leis, ainda pertence ao país. Pequim adota uma política de "uma só China", pressionando por reconhecimento internacional de sua soberania sobre Taiwan e considerando qualquer movimento de independência como uma ameaça à estabilidade regional.

Feito esse comentário, vamos analisar o erro de cada uma das alternativas:

a) Incorreta. Taiwan tem governo próprio, eleito democraticamente, instituições independentes, moeda nacional e forças armadas. Seu governante é eleito por voto direto da população da ilha. O erro da alternativa está em afirmar que é uma região autônoma da China. Os taiwaneses se consideram independentes e autônomos, mas essa não é a posição da China e nem da comunidade internacional. A República Popular da China (ou China continental) considera Taiwan como parte de seu território e não reconhece sua autonomia.

b) Incorreta. Taiwan tem uma indústria naval forte e é um destino turístico popular. O grande destaque de sua economia está no setor de alta tecnologia, sobretudo de semicondutores, de eletroeletrônicos em geral, de equipamentos mecânicos e de produtos ópticos e médicos.

c) Correta. A República Popular da China considera Taiwan como uma província rebelde por ter abrigado adversários políticos do regime comunista. Os membros do partido nacionalista Kuomintang destituídos do poder e derrotados na Guerra Civil Chinesa recusaram-se a se submeter ao Partido Comunista e se refugiaram na ilha.

d) Incorreta. Embora os Estados Unidos mantenham relações não oficiais e não diplomáticas com Taiwan, não reconhecem a sua soberania oficialmente.

e) Incorreta. O Brasil também segue a política de "uma só China" e não reconhece oficialmente Taiwan como um Estado soberano, mantendo relações diplomáticas com a República Popular da China (China continental). Ou seja, o Brasil reconhece a jurisdição da república Popular Chinesa sobre o território taiwanês.

Gabarito: C

5. (QUADRIX/CRP-10/2022 – ASSISTENTE ADMINISTRATIVO) Por causa de sua enorme população e por seguir os padrões ocidentais, a China é considerada, hoje, como a maior democracia do mundo.

COMENTÁRIOS:

Com aproximadamente 1,4 bilhão de habitantes, o que representa cerca de 18% da população global, a China é o país mais populoso do mundo. Ela não segue padrões ocidentais. É um país oriental, pois se situa no oriente do globo, e tem uma cultura tipicamente oriental.

Discussões acerca do sistema político chinês são polêmicas. Muitos críticos consideram que o país não pode ser considerado uma democracia, uma vez que seu governo é dirigido por um único partido, o Partido Comunista da China.

A revista inglesa *The Economist* criou um índice para avaliar o estado da democracia em países do mundo. Segundo esse índice, o governo da China é considerado como um regime autoritário. Esse índice avalia cinco critérios: processo eleitoral e pluralismo, funcionamento do governo, participação política, cultura política e liberdades civis, com cada um dos itens recebendo notas que vão de 0 a 10.

Denúncias sobre censura e redução da liberdade de expressão também são frequentemente feitas ao governo chinês.

Gabarito: Errado

6. (QUADRIX/CRECI-RO/2022 – FISCAL) Na atualidade, a China perdeu sua importância econômica e deixou de participar do comércio mundial.

COMENTÁRIOS:

Essa questão foi um presente do examinador. Somente alguém que está muito desconectado da realidade para não saber da importância econômica que a China tem na atualidade. É o segundo país com a maior



economia no mundo, atrás somente dos Estados Unidos, e caminha a passos largos para superá-lo, sendo um dos principais atores do comércio mundial.

Gabarito: Errado.

7. (FGV/PREFEITURA MUNICIPAL DE PAULÍNIA/2021 – FARMACÊUTICO) Shenzhen, na China, é um dos principais exemplos de cidades planejadas e inteligentes que brotam mundo afora. São áreas escolhidas a dedo pelos países para que sirvam como modelo de desenvolvimento nas mais diversas frentes, notadamente em inovação e sustentabilidade.

A receita é sempre parecida: em uma região em dificuldades econômicas são feitos pesados investimentos em infraestrutura urbana e em telecomunicações, são concedidos incentivos financeiros e tributários para atrair empresas e criados centros de pesquisa e inovação. Se tudo der certo, as cidades conseguirão caminhar com as próprias pernas em alguns anos ou décadas. Se tudo der muito certo, estenderão sua influência por dezenas de quilômetros, criando um polo de desenvolvimento.

Revista Exame. Esta cidade antecipa o que a China quer ser em 20 anos, 2017.

A respeito do papel das inovações científicas no desenvolvimento econômico, analise as afirmativas a seguir e assinale (V) para a verdadeira e (F) para a falsa.

- () Nas últimas décadas, o crescimento econômico chinês está alicerçado em vultosos investimentos em tecnologia.
- () O uso de tecnologia pode promover novos modelos de sustentabilidade.
- () Na atualidade, os investimentos em ciência favorecem o avanço tecnológico dos respectivos países.

As afirmativas são, na ordem apresentada, respectivamente,

- (A) V – F – V.
- (B) F – V – V.
- (C) F – V – F.
- (D) V – V – F.
- (E) V – V – V.

COMENTÁRIOS:

I - Verdadeiro. A banca considerou essa afirmativa verdadeira, mas a considero falsa. De quais últimas décadas a questão está falando? Segundo o pesquisador Marcelo José Braga Nonnemberg, “uma das principais características do desenvolvimento econômico da China nos últimos 30 anos foi o expressivo aumento do comércio exterior”. Ou seja, foi por meio da exportação de produtos industrializados, especialmente de baixa e média tecnologia. Até poucos anos, a China era bastante conhecida por ser uma



grande exportadora de produtos pirateados, falsificados e similares a originais. Na atualidade, é uma grande desenvolvedora de inovações tecnológicas, mas esse é um processo recente.

II - Verdadeiro. O uso de tecnologia pode promover novos modelos de sustentabilidade. Atualmente, muitas empresas e muitos profissionais estão focados em desenvolver soluções tecnológicas em prol da sustentabilidade para reduzir, diminuir e até mesmo reverter impactos ambientais com o uso da tecnologia e inovação. Carros elétricos, painéis solares, materiais biodegradáveis, novas tecnologias de tratamento e aproveitamento de resíduos são alguns exemplos dessas inovações.

III- Verdadeiro. O desenvolvimento científico está diretamente relacionado ao avanço e à inovação tecnológicos. Não à toa que os países mais desenvolvidos e ricos do mundo são aqueles mais investem em ciência e em pesquisa. Na atualidade, os investimentos em ciência favorecem o avanço tecnológico dos respectivos países.

Gabarito: E

8. (QUADRIX/CRB-1/2020 – BIBLIOTECÁRIO FISCAL) A dependência de muitos países, até mesmo os ricos, como os Estados Unidos, em relação aos suprimentos médicos produzidos pela China ficou patente durante a pandemia.

COMENTÁRIOS:

A China é o maior fabricante de produtos industrializados do mundo. Ao lado da Índia, o país é tradicionalmente um grande fornecedor global de princípios ativos para a fabricação de remédios. Mesmo antes da pandemia, a China já era a principal fornecedora internacional de escudos faciais de proteção, roupas, equipamento de proteção para boca e nariz, luvas e óculos.

A pandemia expôs a significativa dependência global para com a China, de suprimentos fundamentais para o enfrentamento da Covid-19, como o de respiradores mecânicos.

Nos meses de março e abril, quando o vírus se propagou aceleradamente pelos Estados Unidos, esse país comprou uma grande quantidade de equipamentos médicos chineses, oferecendo preços elevados para tê-los prioritariamente em relação a outros países que também necessitavam, como a França e o Canadá. Assim, rompeu as barreiras da então guerra comercial travada entre ambos, tornando patente a dependência americana de suprimentos médicos produzidos pela China.

Gabarito: Certo

9. (IBADE/IDAF-AC/2020 – ENGENHEIRO AGRÔNOMO) O plano foi visto como uma ameaça às liberdades individuais no território autônomo e acabou revogado. O movimento passou a englobar outras demandas do povo, que vê interferência crescente do regime chinês e também pede a responsabilização de agentes que atacam manifestantes durante os atos, os maiores ocorridos ali desde 1997.

(Folha, 02/11/2019. Disponível em: <http://bit.ly/39iWbxM>>. Adaptado)

A notícia trata das manifestações ocorridas em Hong Kong no segundo semestre de 2019, sobre estes episódios é correto afirmar que:



- (A) as manifestações começaram com o aumento da tarifa do transporte público.
- (B) a revolta começou após sucessivos escândalos de corrupção e cortes no fornecimento de combustível.
- (C) os atos de protesto começaram a partir da imposição de restrições à propriedade privada.
- (D) a revolta começou após o anúncio de um projeto de lei que facilitaria a extradição de suspeitos para serem julgados na China continental.
- (E) os protestos começam após a China apresentar um projeto de lei que sobretaxaria os produtos de Hong Kong.

COMENTÁRIOS:

As grandes manifestações ocorridas em Hong Kong, no segundo semestre de 2019, começaram após o anúncio de um projeto de lei que facilitaria a extradição de seus cidadãos suspeitos para serem julgados na China continental, pelo Judiciário da China, e não mais de Hong Kong. O governo local suspendeu a apreciação do projeto por tempo indeterminado e depois o retirou em definitivo do Poder Legislativo. Contudo, os protestos continuaram com outras pautas, como a manutenção e garantia das liberdades democráticas de Hong Kong, incluindo a liberdade de expressão, a independência da justiça, o sufrágio universal para todas as eleições locais e pela renúncia da chefe do executivo, Carrie Lam.

As medidas de restrição de circulação adotadas em função da pandemia de Covid-19 levaram ao fim a sequência de meses de protestos neste importante centro econômico e financeiro da Ásia.

Gabarito: D

10. (FGV/PM SALVADOR/2019) A respeito da iniciativa chinesa conhecida como "Um Cinturão e Uma Rota" (One Belt One Road – Obor), são corretas as afirmativas a seguir, à exceção de uma. Assinale-a.

- (A) Pode reconfigurar o comércio global e revolucionar as dinâmicas geopolíticas da Ásia e de seu entorno.
- (B) Inspira-se na histórica Rota da Seda, à qual acrescentou uma rota marítima para os países do Oceano Índico.
- (C) Anuncia a abertura da China para uma economia de mercado, passando a ser o primeiro país socialista com livre iniciativa.
- (D) Possui um eixo terrestre, da China até a Escandinávia, e um marítimo, do Sul da China ao Mediterrâneo.
- (E) Inclui países da Ásia, África e Europa, englobando boa parte do PIB mundial e da população do planeta.

COMENTÁRIOS:

A iniciativa chinesa "Um Cinturão e Uma Rota" (One Belt One Road - OBOR) é um projeto ambicioso lançado pela China em 2013, também conhecido como "Nova Rota da Seda". Ele tem como objetivo criar uma rede de infraestrutura e comércio que conecte a China a países da Ásia, da África e da Europa, visando a



impulsionar o desenvolvimento econômico e facilitar o comércio entre essas regiões. Vamos analisar cada uma das afirmativas:

a) Correta. O projeto OBOR tem o potencial de alterar significativamente as rotas comerciais e os fluxos de comércio global, fortalecendo a posição da China como um ator-chave no cenário geopolítico.

b) Correta. O nome "Um Cinturão e Uma Rota" remete à Rota da Seda, uma antiga via comercial que conectava a China ao Oriente Médio e ao Mediterrâneo. A iniciativa OBOR expande essa ideia ao incluir tanto uma rota terrestre (cinturão) quanto marítima para os países do Oceano Índico.

c) Incorreta. O projeto OBOR é uma iniciativa de desenvolvimento econômico e comercial da China com ênfase na expansão de suas relações comerciais e investimentos em infraestrutura no exterior. Muito se debate sobre a natureza político-econômica da China. Capitalismo de Estado ou socialismo de mercado? Para o Partido Comunista Chinês, nem um, nem outro. A organização cunhou o termo de "socialismo com características chinesas". O fato é que o projeto não anunciou, nem trouxe nenhuma mudança com relação à natureza político-econômica da China, um país socialista com abertura relativa para a economia de mercado.

d) Correta. O projeto OBOR consiste em duas partes principais: o Cinturão Econômico da Rota da Seda, que é um eixo terrestre que liga a China à Europa através da Ásia Central e da Rússia, e a Rota da Seda Marítima do Século XXI, que é um eixo marítimo que conecta a China ao Sudeste da Ásia, África e Europa via Oceano Índico.

e) Correta. O OBOR abrange um grande número de países da Ásia, África e Europa, envolvendo uma vasta área geográfica e representando uma parcela significativa do PIB mundial e da população global.

Gabarito: C

11. (VUNESP/PREFEITURA DE GUARATINGUETA-SP/2019 – ENGENHEIRO CIVIL) Atendendo a uma demanda dos manifestantes que ocupam as ruas de Hong Kong desde junho, a chefe do Executivo local, Carrie Lam, anunciou, nesta quarta-feira (04.09), o cancelamento do projeto de lei que deu origem aos protestos na região administrativa especial chinesa. O aceno de Lam, entretanto, não deverá ser suficiente para satisfazer os opositores, que mantêm outras quatro reivindicações.

(O Globo, 04.09.2019. Disponível em <<https://tinyurl.com/y52tsle2>>. Acesso em: 28.09.2019. Adaptado)

O tema do projeto de lei cancelado e uma nova reivindicação dos manifestantes são, correta e respectivamente,

- a) o controle do Banco de Pequim sobre a região e a adoção de uma moeda diferente do yuan chinês.
- b) a adoção de tarifas protecionistas pela China e um acordo com os EUA para encerrar a guerra comercial.
- c) a extradição para a China continental e a democratização por meio de eleições diretas na região.
- d) a limitação do acesso à internet e uma política de estímulo ao ingresso dos jovens no mercado de trabalho.
- e) a representatividade no Partido Comunista e a plena autonomia da região frente à China continental.



COMENTÁRIOS:

O projeto de lei que inicialmente motivou os protestos em Hong Kong previa a extradição de cidadãos de Hong Kong para serem julgados na China Continental.

Após meses de protestos, o projeto foi retirado, mas as manifestações continuaram com novas reivindicações, como a manutenção e garantia das liberdades democráticas de Hong Kong, incluindo a liberdade de expressão, a independência da justiça, o sufrágio universal em todas as eleições locais, a democratização por meio de eleições diretas na região e a renúncia da chefe do executivo local, Carrie Lam.

Gabarito: C

12. (CEBRASPE/FUB/2018 – CARGOS DE NÍVEL SUPERIOR) A parceria de países da América Latina com a China faz parte da geopolítica de aumento da influência desse país asiático no cenário internacional.

COMENTÁRIOS:

Por ser a segunda maior economia do mundo, atrás somente dos EUA, a China é, atualmente, um grande ator no cenário geopolítico mundial. Mas, para além das questões econômicas, a China quer se firmar como uma liderança global, capaz de não apenas ser uma potência regional, mas de ameaçar a hegemonia mundial dos EUA.

Historicamente, os Estados Unidos sempre possuíram uma forte influência no cenário político e econômico da América Latina. Por isso, no século XXI, a China tem buscado expandir a sua área de influência na América Latina, por meio de projetos de financiamento, aquisição de matérias-primas e obras de infraestrutura na região. A China aplica essa mesma política na África e na Ásia.

Gabarito: Certo

13. (CESGRANRIO/2018/BASA – TÉCNICO CIENTÍFICO) Na Ásia, os últimos cinco anos podem ter sido apenas o começo de uma longa Era Xi. Em uma decisão histórica foi aprovada emenda constitucional que acaba com o limite de mandatos presidenciais. Com isso, o atual chefe de Estado, Xi Jinping, no poder desde 2013, poderá permanecer no cargo indefinidamente, além de 2023, data em que termina o seu segundo governo de cinco anos. Este é mais um passo para confirmar o status de líder mais poderoso desde Mao Tsé-Tung, há 42 anos.

OSWALD, V. Sem prazo para a Era Xi. O Globo, Mundo, 12 mar. 2018, p. 19. Adaptado.

O líder político mencionado no texto acima é o atual presidente de qual país asiático?

- a) Laos.
- b) Japão.
- c) China.
- d) Coreia do Sul.



e) Coreia do Norte.

COMENTÁRIOS:

Xi Jinping é o chefe de estado da República Popular da China. O texto também faz alusão a Mao Tsé-Tung, líder da Revolução Chinesa, que instaurou o comunismo no país, em 1949.

A notícia do enunciado se refere a uma alteração constitucional histórica na China, onde o parlamento aboliu o limite de dois mandatos presidenciais consecutivos de cinco anos. Com isso, Xi Jinping poderá permanecer no poder por tempo indeterminado. Em 2017, Xi foi reeleito para um segundo mandato presidencial de cinco anos, no período de 2018 a 2023.

Gabarito: C



LISTA DE QUESTÕES – MULTIBANCAS GLOBALIZAÇÃO E DESGLOBALIZAÇÃO

1. (INSTITUTO VERBENA/TJ-AC/2024) Leia a charge a seguir.



O conceito de globalização surge na década de 1980 e se populariza ao longo do tempo traduzindo aspectos diversos como a divisão de tecnologias na área de comunicação, circulação de informações e fluxos financeiros. Esse fenômeno mundial tem vários efeitos sobre a sociedade, a cultura e a economia mundial. Diante do exposto, a charge apresentada se insere nesse contexto ao expor

- A) as dificuldades de acesso à internet entre pessoas que moram em áreas de morro devido as condições de relevo.
- B) o acesso desigual de internet das pessoas mais pobres desmistificando que a globalização seja igual para todos.
- C) as péssimas condições de moradia nas áreas urbanas das grandes cidades onde muitas vezes se tem escassez da rede técnica dificultando e acesso à internet.
- D) o analfabetismo tecnológico que atinge a vida dos mais pobres por falta de renda para acessar a internet.

2. (CEBRASPE/TJ-SC/2023) A globalização caracteriza-se por vários aspectos, entre os quais se inclui

- a) o fechamento das fronteiras nacionais como forma de defesa das economias locais.
- b) o desestímulo à formação de blocos econômicos regionais ou continentais.
- c) o uso constante da ciência e do conhecimento, que demanda incessantes inovações tecnológicas.



- d) o fim do uso do dólar como principal moeda para as transações comerciais.
- e) a exclusão econômica de diversas regiões do planeta por não terem matéria prima e possibilidade de produção.

3. (FCC/PM BA/2023) A partir de 2020 teve início a expansão de Covid-19 por todos os continentes. Recentemente, a varíola dos macacos (Monkeypox) passou a ser diagnosticada em diferentes países do mundo. Novas epidemias podem surgir e se difundir. Esta situação ocorre devido

- a) ao pequeno avanço da medicina, mesmo nos países desenvolvidos.
- b) ao grande número de habitantes do mundo, que, atualmente, conta com 8 milhões de pessoas.
- c) à deficiente rede de comunicações entre os países mais pobres.
- d) às diferenças econômicas, pois a população dos países ricos não é atingida pelas pandemias.
- e) à globalização, que facilita a movimentação das pessoas pelo mundo.

4. (QUADRIX/CRO-TO/2023) A globalização implica abertura dos mercados cuja produção não cessa de crescer.

5. (QUADRIX/CRO-TO/2023) Na prática, no atual estágio da economia mundial, o protecionismo não existe mais, ou seja, nenhum país encontra dificuldade para exportar e importar.

6. (QUADRIX/CRO-TO/2023) Com o crescimento da economia mundial, o desemprego deixou de existir.

7. (QUADRIX/CRO-TO/2023) A palavra globalização é normalmente utilizada para definir o atual estágio da economia mundial, um processo que se estende no tempo, mas que se acelerou nas últimas décadas.

8. (QUADRIX/CRO-TO/2023) As incessantes inovações tecnológicas, assentadas no conhecimento em constante expansão, são decisivas para assegurar a ampliação da capacidade produtiva dos atores econômicos.

9. (QUADRIX/CRO-TO/2023) Hoje, mais que em outras épocas, o domínio do conhecimento é uma condição essencial para que um país assuma posição de destaque na economia global.

10. (CEBRASPE/TJ-SC/2023) Comumente definida como o atual estágio da economia mundial, a globalização

A) representa a ampliação desmedida do Estado na atividade econômica, reduzindo e, em alguns casos, até impedindo a atuação da iniciativa privada.

B) implica a abertura dos mercados para escoar uma produção que tende a se ampliar continuamente, apesar da persistência de certo protecionismo.



- C) não admite a mediação de organismos multilaterais nas atividades mercantis globais.
- D) enrijece sobremaneira a noção clássica e tradicional de fronteiras nacionais, para impedir a concorrência externa aos produtos nacionais.
- E) dificulta a introdução de métodos mais modernos no sistema produtivo dos países, por temor a um aumento incontrollável das taxas de desemprego.

11. (CEBRASPE/TJ-SC/2023) Quanto à realidade da atual era do conhecimento, ou era da informação, assinale a opção correta.

- A) Na atualidade, há consenso de que, conceitual e tecnicamente, conhecimento e informação são rigorosamente sinônimos.
- B) A revolução tecnológica em curso é inédita e não tem nenhum vínculo com séculos anteriores.
- C) O avanço da ciência, com sua aplicação em tecnologia, foi fundamental para a eliminação da desigualdade entre os povos.
- D) Apesar dos seus inegáveis benefícios, os modernos meios de comunicação também são úteis ao crime organizado, que deles faz uso em sua atuação global.
- E) Ainda é reduzido o impacto da tecnologia da informação, em suas variadas manifestações, no sistema produtivo.

12. (VUNESP/EPC/2023) Atualmente, a indústria se baseia na transformação digital, simbolizada pela combinação de tecnologias inovadoras, como a internet das coisas, a inteligência artificial e a robótica, bem como a cibersegurança, a computação em nuvem e a análise de dados, o que resulta em novas soluções que aumentam a produtividade e conectam o mundo da indústria tradicional ao mundo virtual.

(Correio Braziliense. <https://bit.ly/3DXOBdM>. 03.06.2022)

O excerto descreve a

- A) indústria interativa.
- B) quarta revolução industrial.
- C) indústria 5.0.
- D) terceira revolução industrial.
- E) indústria corporativa.

13. (FGV/CÂMARA MUNICIPAL DE TAUBATÉ/2022) “Nos últimos anos, ela se tornou uma das tecnologias mais importantes do século XXI. Agora que podemos conectar objetos do cotidiano - eletrodomésticos, carros, termostatos, babás eletrônicas - à Internet por meio de dispositivos incorporados, é possível uma comunicação perfeita entre pessoas, processos e outras coisas. Por meio da



computação de baixo custo, nuvem, big data, análise avançada e tecnologias móveis, coisas físicas podem compartilhar e coletar dados com o mínimo de intervenção humana. Nesse mundo hiperconectado, os sistemas digitais podem gravar, monitorar e ajustar cada interação entre itens conectados. O mundo físico encontra o mundo digital, e eles trabalham em conjunto. Os especialistas preveem que 22 bilhões de dispositivos estejam conectados em 2025.”

(<https://www.oracle.com/>)

O texto fala sobre a

- (A) rede mundial de computadores.
- (B) internet das coisas (IoT).
- (C) web profunda.
- (D) impressão 3D.
- (E) nanotecnologia.

14. (FGV/CÂMARA MUNICIPAL DE TAUBATÉ/2022) Na América Latina, na última década, ocorreram alterações estruturais nos principais setores produtivos, acompanhadas por uma tendência de aumento da informalidade no mercado de trabalho. Assinale a opção que exemplifica corretamente essa tendência.

- (A) Ampliação da subcontratação de mão de obra feminina no setor de serviços.
- (B) Incremento da demanda de jovens para vagas de estágio temporário.
- (C) Adesão progressiva à categoria de Microempreendedor Individual (MEI).
- (D) Crescimento do número de trabalhadores com jornada de trabalho flexível.
- (E) Aumento de trabalhadores sem cobertura da Previdência Social.

15. (FGV/CÂMARA MUNICIPAL DE TAUBATÉ/2022) Nos anos 2000 e 2010 a internet era vista como um instrumento que concretizaria os sonhos de criar uma “aldeia global”, um mundo com poucas fronteiras, comunicação rápida e incessante, diminuição de conflitos e ampla liberdade de expressão. Em 2022 o cenário é outro, marcado pelo ceticismo e pela desconfiança em relação às mídias digitais.

A respeito das principais razões para essa mudança de perspectiva, avalie as afirmativas a seguir e assinale (V) para a verdadeira e (F) para a falsa.

- () O monitoramento de redes sociais, para identificar tendências de consumo e comportamento, tem sido denunciado como um instrumento de vigilância que potencializa a mercantilização do ciberespaço.
- () A difusão de discursos de ódio pelas redes sociais e o uso de dados pessoais dos usuários para fins de propaganda política têm levado a uma crise de fidedignidade da mídia digital, a favor da mídia impressa.



() A desregulamentação do funcionamento das Big Techs nas grandes potências, ocidentais e orientais, em função da pandemia de Covid-19, tem gerado temores sobre o controle estatal dos dados pessoais dos usuários.

Assinale a opção correta, de cima para baixo:

(A) V – V – F.

(B) F – V – V.

(C) V – F – F.

(D) F – V – F.

(E) V – V – V.

(QUADRIX/CFFA/2022) Com relação a tópicos atuais de diversas áreas, julgue os itens.

16. A economia globalizada pressupõe, entre outros aspectos, a abertura comercial, que tende a subverter o conceito clássico de fronteiras nacionais; todavia, medidas protecionistas não deixam de existir.

17. A Revolução Industrial, iniciada há mais de dois séculos, contribuiu decisivamente para o desenvolvimento científico-tecnológico que, atualmente, está na base do sistema produtivo mundial.

18. A expansão da economia contemporânea resultou na ampliação dos postos de trabalho, na redução das taxas inflacionárias e na significativa diminuição da desigualdade entre os países.

19. (IBFC/PC-BA/2022) “A tecnologia 5G é um novo padrão para dispositivos móveis que trará mudanças tanto quantitativas quanto qualitativas na forma como as pessoas utilizam esses aparelhos. De acordo com a União Internacional de Telecomunicações, o 5G, ou quinta geração da telefonia móvel, é uma nova tecnologia de transporte de dados em redes envolvendo dispositivos móveis. Ele sucede gerações anteriores, mas autoridades e especialistas apontam que terá melhorias não apenas incrementais, mas qualitativas” (AGÊNCIA BRASIL, 2020).

Analise as afirmativas abaixo.

I. A tecnologia 5G permitirá a interconexão de diversos outros equipamentos em casa ou no escritório.

II. Ter um aparelho com 5G possibilitará um melhor tempo de processamento de downloads e uploads.

III. A rede 5G permitirá a possibilidade de estudos e trabalho remoto com maior qualidade nas videoconferências.

IV. As ondas de 5G têm maior alcance em relação à 4G e, por isso, será preciso a construção de poucas antenas para espalhar o sinal em todo o país.

Estão corretas as afirmativas:



- a) II e III apenas
- b) I e II apenas
- c) I, II e III apenas
- d) I e IV apenas
- e) II, III e IV apenas

20. (CEBRASPE/FUNPRESP-EXE/2022 – ANALISTA) Em meio à circulação da variante Ômicron, países ricos e de média renda apressam a aplicação da dose de reforço das vacinas. Enquanto isso, os mais pobres têm menos de 10% de suas populações com uma dose e dependem de doações para acelerar a imunização. No entanto, 2022 começa com menos de 50% das vacinas prometidas entregues em 2021. Apenas pelo mecanismo Covax, criado pela Organização Mundial da Saúde (OMS), a meta era entregar 2 bilhões de doses doadas pelos países ricos às nações de baixa renda. Menos de 30% foram entregues.

O Estado de S. Paulo, 2/1/2022, p. A9 (com adaptações).

Tendo o texto acima como referência inicial e considerando aspectos marcantes do cenário mundial contemporâneo, julgue o item seguinte.

Infere-se do texto que a globalização, além de ter propiciado a extraordinária expansão do sistema produtivo e a volumosa circulação de bens e capitais, também promoveu significativa redução da desigualdade entre nações e sociedades.

21. (QUADRIX/CREFITO 6ª REGIÃO/2022 – RECEPCIONISTA) Bastante difundida e conhecida nos dias atuais, a palavra globalização é normalmente utilizada para identificar o(a)

- (A) crise geral do sistema socialista.
- (B) estágio atual da economia mundial.
- (C) renascer do feudalismo medieval.
- (D) expansão das práticas mercantilistas.
- (E) declínio do sistema financeiro.

(QUADRIX/CRECI-RO/2022 – FISCAL) Nos dias atuais, as mudanças ocorrem rápida e profundamente. As transformações acontecem dia após dia, atingindo os mais variados setores. Considerando esse cenário tão dinâmico, tanto no Brasil quanto no mundo, julgue os itens:

- 22. A globalização é o nome que geralmente se dá ao atual estágio da economia mundial.**
- 23. Hoje, no Brasil e no mundo, a desigualdade social praticamente não mais existe.**



24. (QUADRIX/CRECI-RO/2022 – FISCAL) Uma característica marcante da atual economia globalizada é a significativa redução das desigualdades sociais e entre os países.

25. (PM-PI/NUCEPE/2022 – SOLDADO) “O coronavírus é um fenômeno mundial e atua como agente que contamina o conjunto do sistema, e se transmite com muita eficiência e com uma taxa e crescimento exponencial. O que inicialmente foi uma epidemia localizada na região de Wuhan, China, progressivamente se expandiu e se converteu em pandemia de difícil controle para os sistemas nacionais de saúde pública. O lugar de origem do vírus diz muito sobre a globalização: uma sociedade onde convivem a maior dinâmica econômica do planeta e práticas tradicionais das populações em seu relacionamento com os bosques e espécies silvestres; mercados onde essas espécies são vendidas, situados em cidades com milhões de habitantes e interconectadas com o planeta.

[...]

O vírus demorou a chegar à América Latina. Enquanto o foco da infecção estava na China, não apareceram casos na região. A situação mudou quando o vírus se ativou nos países europeus, com os quais a região mantém intenso intercâmbio. A multiplicação acelerada de casos confirmados forçou a implementação progressiva de medidas de restrição à entrada de pessoas vindas do exterior, e de reclusão domiciliar para segmentos importantes da população.”

Fonte ECHEVERRÍA, Julio. O coronavírus e a globalização. Folha de São Paulo, 1 de abril de 2020. Disponível em: <https://www1.folha.uol.com.br/mundo/2020/04/ocoronavirus-e-a-globalizacao.shtml>

Sobre a relação entre a pandemia de covid-19 e o processo de globalização, é CORRETO afirmar que

- a) a globalização não atinge a América Latina, isolando, por conseguinte, seus países no contexto das trocas internacionais, o que leva ao não aparecimento do novo Coronavírus nos países da região.
- b) a chegada do novo Coronavírus à Europa deve-se, exclusivamente, às condições ambientais, como as baixas temperaturas, não havendo, portanto, relação com as relações econômicas entre o continente europeu e o asiático.
- c) a intensificação e a velocidade dos fluxos internacionais de pessoas, proporcionadas pelos progressos técnicos relacionados a circulação e aos transportes que caracterizam o mundo globalizado, contribuíram para um rápido alastramento da covid-19 pelo mundo.
- d) a relação conflituosa entre os Estados Unidos da América e a China evitou que os casos de covid-19 se multiplicassem naquele país, o que explica o pequeno número de mortes causadas pela doença.
- e) a propagação do novo Coronavírus por todo o mundo é decorrente da expansão das redes digitais, principalmente da tecnologia 5G de internet móvel.

(QUADRIX/CRP-10/2022 – ASSISTENTE ADMINISTRATIVO) O mundo contemporâneo, além de complexo, é contraditório. Exemplos não faltam: os sucessivos recordes na produção de alimentos convivem com a fome, que atinge grandes contingentes populacionais; esforços pela paz mundial sucumbem ante guerras, que se multiplicam; a revolução tecnológica, como se vê nas redes de comunicação, não alcança a todos e, para além dos inegáveis benefícios das redes sociais, elas também são utilizadas por grupos criminosos.



Considerando essas informações e aspectos relevantes do mundo atual, julgue os itens.

26. Uma demonstração dos avanços possibilitados pela tecnologia é a existência da rede mundial de computadores, a Internet.
27. A pronta atuação dos governos, em escala global, impede a utilização da Internet para fins ilegais.
28. A expressão “fake news”, hoje tão conhecida, liga-se à divulgação de notícias falsas ou mentirosas.
29. O avanço da ciência e da tecnologia praticamente eliminou a desigualdade no mundo.
30. A educação de qualidade é essencial para se assegurar a revolução tecnológica em curso no mundo.
31. Uma das características marcantes da atual economia globalizada é o aumento da produção e do comércio mundial.
32. (FGV/PREFEITURA MUNICIPAL DE PAULÍNIA/2021 – FARMACÊUTICO) Um novo estudo da Universidade de Oxford mostrou que as *fake news* e textos de ódio de cunho político distribuídos nas redes sociais em 2018, nos EUA, quando aconteceram eleições legislativas, já era maior que o fluxo desses materiais durante a corrida presidencial que consagrou Trump como o novo presidente americano dois anos antes.

Adaptado de: <https://exame.com/mundo/nos-eua-uso-de-fake-news-naseleicoes-2018-ja-superou-trump-em-2016/>

Considerando o trecho acima e o uso de *fake news* na atualidade, assinale a afirmativa correta.

- (A) Os factoides fragilizam os sistemas democráticos, polarizando o debate por meio de notícias falsas.
- (B) As notícias falsas circulam predominantemente nas redes sociais, o que restringe seu impacto político.
- (C) As eleições de Trump estabeleceram uma nova normalidade, servindo de modelo para divulgação de notícias políticas.
- (D) Os textos de ódio fazem parte da disputa eleitoral, igualando os recursos e fortalecendo os governos representativos.
- (E) Os ataques midiáticos estimulam o debate polêmico, o que fortalece o exercício da liberdade individual e de expressão.

(QUADRIX/CREFONO 4ª REGIÃO/2021 – FONOAUDIÓLOGO FISCAL) Tudo indica que o que foi dito em relação ao século XX – “uma era dos extremos” – também se aplica às duas primeiras décadas do século XXI. As mudanças se processam com extrema rapidez e convivem com um extraordinário avanço científico e com exemplos dramáticos de intolerância, desigualdade e fanatismo. Relativamente ao cenário mundial da atualidade, julgue os itens a seguir.

33. A denominada globalização resulta de um processo histórico que atravessa séculos, cujo início pode ser identificado na expansão comercial e marítima europeia do início da Idade Moderna (séculos XV e XVI).



34. A partir da Revolução Industrial, o moderno capitalismo se disseminou pelo mundo afora e, impulsionado pela corrida imperialista, foi moldando o mundo aos seus interesses e às suas necessidades, gerando o que hoje é chamado de globalização.

35. Entre as principais características da ordem global dos dias atuais, avulta a grande circulação de capitais, mercadorias e pessoas, diluindo, em certa medida, o antigo conceito de fronteiras nacionais.

36. Há consenso de que o domínio do conhecimento é essencial nesta ordem global, o que explica a fundamental importância da ciência e da tecnologia no presente estágio da economia mundial.

37. (CEBRASPE/IBGE/2021 - AGENTE DE PESQUISAS POR TELEFONE) O termo globalização gera intenso debate quanto ao seu significado e suas características centrais. Em meio a essa acalorada discussão, no entanto, foi possível chegar a alguns consensos e um deles refere-se ao fato de que, apesar de a globalização ser um fenômeno mundial, seus impactos são locais e regionais, impulsionando mudanças que se desenvolvem de diferentes formas e com intensidade variada.

Internet: <www.scielo.br> (com adaptações).

A globalização como um fenômeno mundial, mas de rebatimentos locais e regionais, tem como consequências

A) o pleno emprego e o crescimento econômico, com a minimização das desigualdades.

B) a competitividade e o consumo, com a geração de maiores danos ao meio ambiente.

C) o atraso tecnológico e maior fluidez nas comunicações internas.

D) a alimentação mais natural e saudável e o surgimento de muitos vírus com mais poder de contágio.

E) o fechamento dos países ao investimento externo e o bloqueio econômico.

38. (CEBRASPE/TJDFT/2019) Acerca de aspectos relacionados ao impacto da tecnologia no mercado de trabalho, julgue os itens que se seguem.

I - Os impactos da tecnologia no mundo do trabalho não são necessariamente imediatos, mas, a longo prazo, podem implicar no desaparecimento de determinadas profissões.

II - Projeções sobre o futuro do mercado de trabalho dão destaque às profissões de índole criativa no mercado de trabalho dominado pela tecnologia.

III - As revoluções tecnológicas demandam capacidade de inovação para estimular a competitividade, aspecto que tem sido explorado por políticas públicas brasileiras que elevaram a posição do Brasil no ranking internacional de competitividade.

IV - Devido aos impactos resultantes da tecnologia no mercado de trabalho, a maioria das escolas brasileiras da rede privada e pública já tem em seus currículos disciplinas relacionadas a programação e robótica.

Estão certos apenas os itens



- a) I e II.
- b) I e IV.
- c) III e IV.
- d) I, II e III.
- e) II, III e IV.

(QUADRIX/CRESS-GO/2019 – AGENTE FISCAL) Importa notar que as reformas por que passa o Estado no Brasil estão em um contexto socioeconômico mundial de profundas implicações para o País. O neoliberalismo acompanhou o processo de globalização e de implantação de novas tecnologias produtivas – que desencadearam o chamado processo de “reestruturação produtiva”.

Internet: <www.egov.ufsc.br:8080>.

Tendo o texto acima apenas como referência inicial e refletindo sobre diversos aspectos da economia brasileira e mundial, julgue os itens.

39. Tornando o mundo mais homogêneo em diversos aspectos, a globalização contribui, de modo geral, para uma profunda redução das disparidades econômicas entre os países e também no âmbito interno desses países.

40. O comércio internacional viveu momento significativo em dezembro de 2018, quando uma reunião do G20 promoveu profundas mudanças na Organização Mundial do Comércio (OMC), que serão totalmente implementadas em 2019.

41. No Brasil de hoje, caminha-se para um papel cada vez mais restrito do Estado como mediador das relações de trabalho, sendo as ocupações informais de baixa qualidade consideradas como “a incorporação possível” ao mundo do trabalho.

42. Assim como a globalização, a chamada “reestruturação produtiva” favorece a precarização do trabalho, na medida em que objetiva a maximização dos lucros em prejuízo da criação ou da preservação de vagas de trabalho.

43. (CEBRASPE/FUB/2018 – CARGOS DE NÍVEL MÉDIO) Com a revolução técnico-científica, o uso das telecomunicações perdeu relevância e os fluxos materiais tornaram-se mais densos e volumosos que os fluxos imateriais.

(QUADRIX/CFBio/2018 - TÉCNICO EM TI) Cada vez mais, nesta Copa do Mundo, torna se evidente: a globalização do futebol é uma realidade. Basta ver como as equipes europeias tradicionais incluem jogadores originários de famílias de outros países, sobretudo árabes ou africanos. O mesmo ocorre no campo da cultura, das artes e do espetáculo. Esse panorama confirma que a revolução tecnológica trouxe mais informação, interação e conhecimento mútuo, mas também é característico de um momento da História em que as viagens são mais viáveis e não dá para segurar a vontade de subir na vida e ter melhores condições de sobrevivência.



Ana Maria Machado. Desespero e migrações. In: O Globo, 7/7/2018, p. 12 (com adaptações).

Tendo o fragmento de texto acima como referência inicial e considerando a amplitude do tema por ele focalizado, a globalização, elemento marcante e definidor dos tempos atuais, julgue os itens.

44. A globalização econômica vivida pelo mundo no tempo presente implica, entre outros aspectos, a incessante circulação de capitais, de mercadorias e de pessoas.

45. Sob o ponto de vista da economia, a atual globalização é resultante de um longo processo histórico, que foi impulsionado pelas diversas fases da Revolução Industrial.

GABARITO



- | | | |
|-------|-------|-------|
| 1. B | 16. C | 31. C |
| 2. C | 17. C | 32. A |
| 3. E | 18. E | 33. C |
| 4. C | 19. C | 34. C |
| 5. E | 20. E | 35. C |
| 6. E | 21. B | 36. C |
| 7. C | 22. C | 37. B |
| 8. C | 23. E | 38. A |
| 9. C | 24. E | 39. E |
| 10. B | 25. C | 40. E |
| 11. D | 26. C | 41. C |
| 12. B | 27. E | 42. C |
| 13. B | 28. C | 43. E |
| 14. E | 29. E | 44. C |
| 15. C | 30. C | 45. C |



LISTA DE QUESTÕES - BLOCOS ECONÔMICOS – MULTIBANCAS

1. (QUADRIX/CRO-TO/2023) A formação de blocos de países, como a União Europeia e o Mercosul, é característica da economia globalizada.
2. (QUADRIX/CRO-TO/2023) O Brasil recusou-se a permanecer no Mercosul devido à tradicional rivalidade com a Argentina.
3. (QUADRIX/CRO-TO/2023) O euro foi adotado como moeda comum da União Europeia.
4. (FGV/CÂMARA MUNICIPAL DE TAUBATÉ/2022) “Um novo mural do controverso e misterioso artista britânico Banksy apareceu na cidade de Dover, na Inglaterra. Na gravura, é possível ver um operário que retira uma das estrelas que compõe a bandeira da União Europeia.”

(Revista Galileu, maio de 2017)



O mural mostra um operário a martelar e destruir uma estrela da bandeira da União Europeia. Ele trata, de modo crítico,

- (A) da possibilidade de os países membros da União Europeia caírem, um a um, nas mãos do Estado Islâmico.
- (B) da iminência da guerra Rússia – Ucrânia, ocasionada pelo desejo da Ucrânia ingressar na União Europeia.
- (C) da ameaça da Hungria, sob um governo nacionalista, sair da União Europeia.
- (D) do “Brexit”, a saída do Reino Unido do bloco econômico europeu.
- (E) do temor de que a França saísse da União Europeia devido ao protagonismo da Alemanha de Angela Merkel nas decisões econômicas do bloco.

5. (FGV/TRT-PB/2022) Recentemente, algumas nações europeias foram sacudidas por crises políticas que afetaram vivamente seus Parlamentos. Um caso particularmente importante é o do Reino Unido, onde



sucessivas crises sacudiram o Parlamento após a saída da União Europeia, no episódio conhecido como brexit.

Em relação ao tema, avalie se as descrições a seguir são falsas (F) ou verdadeiras (V):

I. A Primeira-Ministra Theresa May, do Partido Trabalhista, esteve à frente do governo por ocasião das intensas negociações com a União Europeia que culminaram no brexit. Vitoriosa no brexit, deixou o cargo de Primeira-Ministra pouco depois, dando por encerrada sua exitosa gestão.

II. O poderoso Primeiro-Ministro Boris Johnson, do Partido Conservador, sucedeu Theresa May. No cargo, Johnson tentou desfazer o brexit. Com isso, administrou crise após crise até ser acusado de comportamento inadequado em dois episódios: no primeiro, foi acusado de promover uma festa na residência oficial e escritório do Primeiro-Ministro, bem no auge da pandemia; um segundo episódio, no qual promoveu a vice-chefe da bancada do governo no parlamento uma pessoa acusada reiteradas vezes de assédio sexual, causou a renúncia de vários ministros e acabou por levar à renúncia de Johnson, em 2021.

III. Johnson foi sucedido por Liz Truss, que serviu como Primeira-Ministra do Reino Unido por cerca de seis meses, sem entretanto ocupar o cargo de líder do Partido Conservador nesse período. Caiu por conta de uma desastrosa política econômica, agravada pelos efeitos da pandemia e da guerra Rússia-Ucrânia. As descrições são, respectivamente,

(A) F – F – F.

(B) F – F – V.

(C) V – F – F.

(D) V – V – V.

(E) F – V – V.

(QUADRIX/CFFA/2022) Com relação a tópicos atuais de diversas áreas, julgue os itens.

6. Durante a Guerra Fria, formaram-se blocos de países com objetivos militares; atualmente, os blocos são formados a partir de interesses econômicos, como um modo de inserção mais vantajoso no mercado global.

7. A frustrada experiência do Mercosul levou o Brasil e a Argentina a desistirem de nele permanecer, decisão conjunta tomada em 2022.

8. (FGV/PREFEITURA DE MANAUS/2022 – ANALISTA DE BANCO DE DADOS) Assinale a opção que indica corretamente a associação que reúne os países do círculo do Pacífico para promover e facilitar o livre comércio e a cooperação econômica e técnica.

(A) Grupo dos BRICS.

(B) Comunidade Andina (CAN).



- (C) Mercado Comum do Sul (MERCOSUL).
- (D) Fórum Econômico Ásia-Pacífico (APEC).
- (E) União de Nações Sul-Americanas (UNASUL).

9. (PM-PI/NUCEPE/2022 – SOLDADO) Recentemente, a União Europeia sofreu uma grande rachadura: um de seus doze membros fundadores deixou de fazer parte do mencionado grupo. O processo que levou a isso ficou conhecido como Brexit, e resultou numa série de mudanças na relação entre o Estado-membro que deixou o Bloco e os demais que continuam formando a União Europeia, por exemplo, o fim da livre circulação de pessoas. Sobre o Brexit, é CORRETO afirmar que

- a) diz respeito à saída de Portugal da União Europeia.
- b) diz respeito à saída da Bélgica da União Europeia.
- c) diz respeito à saída da Bulgária da União Europeia.
- d) diz respeito à saída do Reino Unido da União Europeia.
- e) diz respeito à saída da França da União Europeia.

10. (CEBRASPE/IBGE/2021 - AGENTE DE PESQUISAS POR TELEFONE) A formação de blocos regionais que surgiram através da integração econômica se caracteriza, na verdade, como um processo, o qual, normalmente, se distingue por várias etapas. Quando tais etapas são projetadas para o âmbito social e político dão à formação do bloco a característica de união total. Internet: <trilhante.com.br> (com adaptações).

Acerca da formação e da integração econômica dos blocos regionais, assinale a opção correta.

- A) Os blocos possuem o intuito de fortalecer a economia nacional e proporcionar mútua assistência, formando um mercado comum forte e competitivo no âmbito mundial.
- B) A finalidade é sempre chegar a uma união aduaneira, último estágio da formação de um bloco, que permite a circulação de produtos, pessoas, bens, capitais e força de trabalho.
- C) Atualmente o bloco em estágio mais avançado é a União Europeia, com destaque para o Reino Unido, sua maior potência econômica.
- D) A estabilidade política e econômica do Mercosul chama a atenção do mundo para seus membros efetivos: Brasil, Argentina, Paraguai, Uruguai e Venezuela.
- E) O Brasil, devido a sua riqueza mineral e natural e seu maior parceiro comercial ser a China, faz parte do bloco regional que envolve países da Ásia e do Pacífico.

11. (CESGRANRIO/BASA/2021 – TÉCNICO CIENTÍFICO) As negociações entre o Reino Unido e a União Europeia sobre o pós-Brexit chegam sem definição hoje ao prazo convencionado pelo premiê Boris Johnson e pela presidente da Comissão Europeia, Ursula Von der Leyen, para um acerto. A três semanas



da data limite, as discussões estagnadas preocupam empresas e autoridades, diante da possibilidade de haver escassez de produtos, engarrafamentos, portos bloqueados e fábricas fechadas. Desde o início da semana, federações industriais alertaram sobre o que pode ocorrer a partir de janeiro.

Empresas Reagem a Indefinição do Brexit. Jornal O Estado de São Paulo, Internacional, 13 dez. 2020, p. A11. Adaptado.

Em 1º de janeiro de 2021, o Reino Unido tomou a seguinte decisão em relação à União Europeia:

- (A) manter seus representantes no Parlamento Europeu.
- (B) realizar novo referendo junto aos cidadãos britânicos.
- (C) deixar a condição de país-membro do bloco regional.
- (D) liberar a exigência de visto para trabalhadores do bloco.
- (E) adotar novas medidas para ingresso na zona do euro.

12. (VUNESP/PREFEITURA DE SOROCABA/2020 – AUXILIAR DE EDUCAÇÃO) Após a saída da União Europeia, em 31 de janeiro de 2020, a mudança, anunciada nesta quarta-feira (19.fev) pelo Ministério do Interior, é um reflexo do Brexit – uma das principais bandeiras dos partidários do “sair” desde o início do processo.

(Folha de S. Paulo – <https://bit.ly/2Y7LQ3Z>. Publicado em 19.fev.2020 – Acesso em 04.jun.2020. Adaptado)

A mudança

- (A) estabelece novas regras de estímulo ao comércio entre o Reino Unido e os países europeus e asiáticos.
- (B) estipula regras rígidas para a entrada de imigrantes europeus ou de qualquer outra região do mundo.
- (C) propõe a criação de um novo bloco econômico formado apenas por países de língua e cultura inglesa.
- (D) determina que as relações comerciais com Alemanha e França sejam incentivadas a partir de 2021.
- (E) estabelece o status de associado aos outros países europeus recém-desligados da União Europeia.

13. (IBADE/IDAF-AC/2020 – TÉCNICO EM DEFESA AGROPECUÁRIA E FLORESTAL) “Brexit” é a junção das palavras em inglês “British” e “exit” e significa “saída britânica”. O termo é usado para se referir à saída do Reino Unido da União Europeia (UE). A defesa do Brexit inclui argumentos que apontam que a saída do Reino Unido do bloco é positiva porque irá, por exemplo:

I. restringir a entrada de imigrantes no país;

II. aumentar os recursos públicos disponíveis exclusivamente para os britânicos, com o fim dos valores repassados ao EU;



III. reduzir lucros devido à cobrança de tarifas de exportação para os países europeus, destino de grande parte dos produtos britânicos exportados;

IV. melhorar as possibilidades de negociação em acordos bilaterais com outros países.

(G1, 13/12/2019. Disponível em: < [http:// https://glo.bo/2Sr7kWz](http://https://glo.bo/2Sr7kWz)>. Adaptado)

São argumentos favoráveis ao Brexit:

(A) I e IV, apenas.

(B) I, II e III.

(C) II e III.

(D) I, II e IV.

(E) I, II, III, IV.

14. (QUADRIX/CRN 9/2019 – AUXILIAR OPERACIONAL) A União Europeia é o segundo maior comprador do agronegócio brasileiro, tendo sido o destino de 17,6% das exportações do setor neste ano, que geraram US\$ 9,9 bilhões até julho, ficando atrás apenas da China.

Internet: <<https://g1.globo.com>> (com adaptações).

Tendo o texto acima apenas como referência inicial, julgue o item.

Em junho último, o Brasil assinou um tratado de livre comércio com a União Europeia, com vigência total e imediata, que permitiu a isenção de tarifas de produtos agrícolas destinados à Europa.

15. (FUNDATEC/PREFEITURA DE SÃO BORJA-RS/2019 – CIRURGIÃO DENTISTA) Entre os países citados abaixo, qual NÃO faz parte da União Europeia?

a) Bélgica.

b) Finlândia.

c) Rússia.

d) Lituânia.

e) Suécia.

16. (FUNDATEC/PREFEITURA DE SÃO BORJA-RS/2019 – CIRURGIÃO DENTISTA) No Mercosul, além dos países membros e dos países associados, dois países possuem o status de “observadores”, são eles:

a) Estados Unidos e Canadá.



- b) Nova Zelândia e México.
- c) Panamá e Suriname.
- d) Equador e Honduras.
- e) Coreia do Sul e Japão.

17. (VUNESP/PREFEITURA DE GUARATINGUETÁ-SP/2019 – ESCRITURÁRIO) O MERCOSUL e a Associação Europeia de Livre-Comércio (EFTA, na sigla em inglês) fecharam ontem (23.08.2019), em Buenos Aires, um acordo de livre-comércio. Integrantes da equipe econômica consideraram esse acordo mais abrangente e ambicioso do que o firmado com a União Europeia no fim de junho.

(IstoÉ. Disponível em <https://bit.ly/2kzSCQ9>. Acesso em 07.09.2019. Adaptado)

Sobre esse acordo, é correto afirmar:

- a) pelo MERCOSUL, assinaram o acordo o Brasil, a Argentina, o Paraguai, o Uruguai e a Venezuela.
- b) atualmente, a EFTA é formada pela Suécia, Noruega, Islândia e Áustria.
- c) os países da EFTA também fazem parte da União Europeia.
- d) o montante de negócios do MERCOSUL com a EFTA superará os valores dos negócios com a União Europeia.
- e) pela EFTA, assinaram o acordo a Suíça, a Noruega, a Islândia e Liechtenstein.

18. (CEBRASPE/PGE PE/2019 – ASSISTENTE DE PROCURADORIA) Uma questão preocupante para o governo britânico com relação à concretização do Brexit é a fronteira entre Irlanda do Norte e a República da Irlanda.

19. (VUNESP/PREFEITURA DE ARUJÁ/2019 – AUXILIAR ADMINISTRATIVO) A primeira-ministra do Reino Unido, Theresa May, enfrentará nesta quarta-feira (12 de dezembro) um voto de desconfiança de seus próprios correligionários do Partido Conservador, em nova reviravolta da barroca trama política que mobiliza o país. A imprensa local notícia que ao menos 48 parlamentares da legenda submeteram a um comitê partidário cartas nas quais questionam a liderança de May.

(Folha de S.Paulo, 12 dez.18. Adaptado)

O impasse entre a primeira-ministra e os membros de seu próprio partido teve como pano de fundo

- a) a crise econômica que vive o Reino Unido e o consequente aumento do desemprego.
- b) a possível abertura do país aos imigrantes em geral e, em especial, aos refugiados sírios.
- c) o veto imposto pela chefe de governo ao Orçamento pouco enxuto proposto pelo Parlamento.



- d) a defesa que a líder conservadora fez de pautas historicamente associadas aos trabalhistas.
- e) a dificuldade do Reino Unido em negociar e aprovar a sua saída da União Europeia.

20. (FCC/AFAP/2019 - ASSISTENTE ADMINISTRATIVO) O processo complicado chamado de Brexit teve início em junho de 2016, cujos desdobramentos continuaram em 2017 e 2018, prossegue em 2019 com muitas polêmicas entre as partes atingidas. Sobre o Brexit é correto afirmar que

- a) em um referendo, mais da metade dos britânicos decidiu pela saída do Reino Unido da União Europeia; após a decisão tiveram início as difíceis negociações para a saída do bloco, antevendo-se problemas políticos e econômicos para ambos os lados.
- b) o movimento de saída do Reino Unido da União Europeia está relacionado ao fato de o país ter sido impedido de utilizar o euro como moeda oficial; a negativa tem sido apontada como fator dificultador para ampliar as exportações britânicas.
- c) a saída do Reino Unido da União Europeia tem sido apontada como o estopim para a continuidade do bloco econômico, pois vários países, como a Alemanha e a França, têm referendos programados para decidir o caminho a seguir no próximo ano.
- d) a recente decisão de sair do bloco econômico provocou muitos conflitos internos no Reino Unido, abalando, inclusive, a liderança da Família Real, que teve grande participação quando da entrada do Reino Unido na União Europeia.
- e) o principal motivo da saída do Reino Unido do bloco econômico europeu está relacionado à forte pressão dos britânicos no sentido de barrar a chegada de imigrantes africanos e asiáticos, considerados pouco preparados para o mercado de trabalho britânico.

21. (FCC/PM AP/2017 – SOLDADO) Em 21 de julho, o presidente Michel Temer participou de reunião com presidentes de outros países sul-americanos, em Mendoza, na Argentina. Entre os temas discutidos na reunião estava a atual situação da Venezuela. O encontro marcou a entrada do Brasil na presidência temporária do bloco pelos próximos seis meses.

(Adaptado de: goo.gl. Acessado em 21/07/2017)

O bloco mencionado na notícia é

- a) o Nafta.
- b) o Mercosul.
- c) a União Europeia.
- d) a Unasul.
- e) a Comunidade do Pacífico.



GABARITO



- 1. C
- 2. E
- 3. C
- 4. D
- 5. A
- 6. C
- 7. E

- 8. D
- 9. D
- 10. A
- 11. C
- 12. B
- 13. D
- 14. E

- 15. C
- 16. B
- 17. E
- 18. C
- 19. E
- 20. A
- 21. B



LISTA DE QUESTÕES – GUERRA FRIA 2.0 – MULTIBANCAS

1. (CEBRASPE/TJ-SC/2023) Considerando que as relações internacionais são múltiplas e centradas no poder, sobretudo na economia internacional contemporânea, assinale a opção correta.

a) A China, potência mundial ascendente, abriu mão de explorar a África para não suscitar conflito com as metrópoles europeias colonialistas.

b) Os EUA renunciaram à sua influência sobre os rumos políticos e econômicos da América Latina, convencidos de que o futuro de sua hegemonia mundial está na Europa.

c) A disputa atual pela economia global se dá entre EUA e China, ancorada em seus interesses econômicos individuais.

d) No Oriente Médio, Israel abandonou os territórios árabes que passou a ocupar após vitórias militares em diversas guerras.

e) O reconhecimento formal do Estado da Palestina, ocorrido em 2022, devolveu a paz ao Oriente Médio e possibilitou sua cooperação econômica com Israel.

(QUADRIX/CRP-11/2022) A China e os Estados Unidos da América (EUA), os dois gigantes da economia global, vivem, nos últimos anos, um ambiente que tornou as relações ainda mais agudas. A era Donald Trump aprofundou o clima de animosidade e a troca de acusações. A pandemia foi o empurrão para amplificar as desconfianças.

Internet: <<https://www.cnnbrasil.com.br>> (com adaptações).

Acerca da referida disputa entre os EUA e a China e seus possíveis desdobramentos, julgue os itens.

2. Um dos fatores que originou a guerra comercial entre os EUA e a China foi o chamado protecionismo econômico, tendo o governo norte-americano tomado medidas de proteção do mercado interno sob o argumento de buscar reverter o déficit comercial sofrido.

3. A ameaça de invasão da China a Taiwan fez os EUA declararem neutralidade quanto a isso, externada por uma declaração do presidente Joe Biden, o que gerou protestos da população na capital Taipé.

4. Além da guerra comercial em curso, existe uma disputa cibernética na tentativa de invadir servidores de diversos setores, a ponto de o diretor do FBI (Federal Bureau of Investigation) estadunidense e a Organização do Tratado do Atlântico Norte (Otan) terem acusado o governo chinês de estar por trás dos ataques.

5. Conforme as estimativas e o entendimento da maior parte dos especialistas, a China vai ultrapassar os EUA em meados do século XXI, alcançando o maior produto interno bruto (PIB) e tornando-se a maior economia global.



6. No espectro da disputa entre os EUA e a China, está claro que os dois países estão em lados opostos no que se refere ao contexto geopolítico da invasão russa a Ucrânia, de modo que os EUA apoiam a Ucrânia e a China, a Rússia.

7. (QUADRIX/CREFITO 6ª REGIÃO/2022 – RECEPCIONISTA) Nestas décadas iniciais do século XXI, os Estados Unidos da América, mesmo ainda mantendo a posição de maior potência mundial, sofrem a crescente concorrência de um país asiático, especialmente em termos econômicos. Esse país é o(a)

- (A) Japão.
- (B) Coreia do Sul.
- (C) China.
- (D) Coreia do Norte.
- (E) Irã.

(QUADRIX/CRF-ES/2019 – FARMACÊUTICO) Nordeste vira palco de guerra fria tecnológica entre Estados Unidos e China. Com o Brasil sob pressão para barrar investimentos chineses, país oriental estreita laços com a região.

Internet: <www1.folha.uol.com.br>

Tendo o texto acima apenas como referência inicial, julgue os itens a seguir.

8. A pressão a que o texto faz referência tem o intuito de barrar investimentos de empresas militares chinesas no Brasil, daí o uso da expressão “guerra fria”.

9. Empresas chinesas de tecnologia, como a Huawei, têm se tornado grandes fornecedoras de serviços e equipamentos para órgãos de segurança do governo norte-americano, sem sanções.

10. (FCC/SABESP/2019) O Google, cujo sistema operacional Android está instalado na grande maioria dos smartphones do mundo, anunciou que cortou as relações com a Huawei. A decisão tem graves consequências para a empresa, que não poderá oferecer mais o Gmail ou Google Maps em novos aparelhos.

(Disponível em: <https://g1.globo.com>. Adaptado)

Um dos motivos para o corte no relacionamento entre o Google e a Huawei é

a) a proibição de negócios entre empresas dos Estados Unidos e a empresa chinesa, sob alegação de riscos para a segurança nacional.

b) a permissão para que outros sistemas operacionais funcionem em smartphones da Huawei, incentivando, com isso, o livre mercado.



- c) a legalização de smartphones produzidos por pequenos produtores nos Estados Unidos incentivando, com isso, a indústria nacional.
- d) o protecionismo nacional incentivado por Donald Trump, que pretende frear a expansão de empresas europeias nos Estados Unidos.
- e) a desativação do sistema Android, que gradativamente será substituído por um sistema operacional criado pelo governo de Donald Trump.

11. (VUNESP/CÂMARA DE PIRACICABA/2019) Meng Wanzhou, chefe de operações financeiras da Huawei, gigante chinesa de telecomunicações, foi presa em Vancouver, no Canadá, e deve ser extraditada para os Estados Unidos. Os detalhes da prisão, efetuada em 1º de dezembro de 2018, não foram divulgados, mas a empresa chinesa virou alvo de desconfiança em vários países do mundo.

(BBC – <https://bbc.in/2RF5KyG> – Acesso em 29.04.19. Adaptado)

Com relação à gigante chinesa Huawei, foram levantadas suspeitas de que

- a) a empresa seria a grande fornecedora de equipamentos utilizados pela Coreia do Norte para produzir mísseis de médio alcance.
- b) os acordos comerciais e financeiros que ela desenvolve com ditaduras africanas a tornariam hostil às nações democráticas.
- c) a tecnologia utilizada na produção dos equipamentos 5G é resultado de espionagem industrial contra o Reino Unido.
- d) seus equipamentos seriam usados pelo governo da China para espionar as pessoas e instituições ao redor do mundo.
- e) a empresa teria fraudado os estudos que mostram que a matéria-prima utilizada na produção de seus equipamentos é cancerígena.

(QUADRIX/CREF-SE/2019 - ASSISTENTE ADMINISTRATIVO) O G20 reconheceu, no dia 1.º de dezembro de 2018, que a Organização Mundial de Comércio (OMC) não consegue cumprir com seus objetivos atualmente e, por isso, defendeu, na declaração final aprovada na cúpula realizada desde ontem, em Buenos Aires, na Argentina, uma reforma para revitalizar o comércio mundial.

Internet: <<https://noticias.uol.com.br>> (com adaptações).

Tendo a reunião do G20, mencionada no texto acima, apenas como referência inicial, julgue o item.

12. Não obstante a divergência ideológica entre Donald Trump e o regime chinês, as relações comerciais entre os dois países vivem momento excepcional, sem quaisquer restrições ao livre comércio.



GABARITO



- 1. C
- 2. C
- 3. E
- 4. C

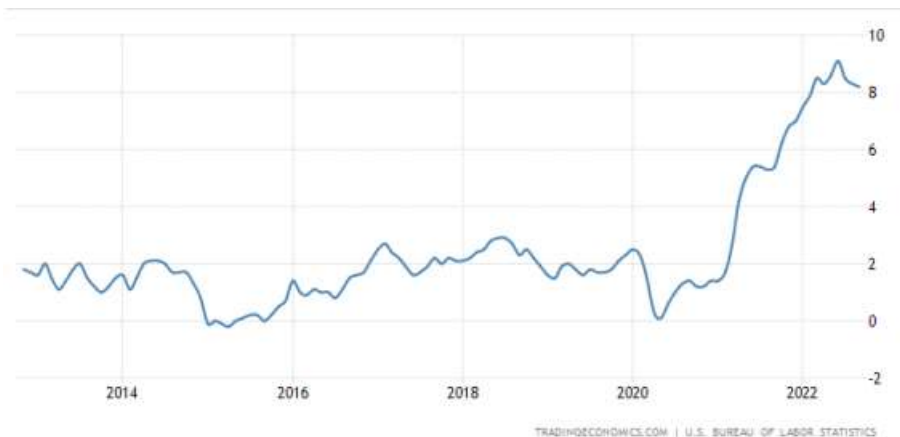
- 5. E
- 6. C
- 7. C
- 8. E

- 9. E
- 10. A
- 11. D
- 12. E



LISTA DE QUESTÕES – ESTADOS UNIDOS – MULTIBANCAS

1. (FGV/TRT-PB/2022) O mundo tem acompanhado o que acontece com a inflação nos Estados Unidos da América. Recentemente, a inflação por lá saiu de um platô de cerca de 2% ao ano e atualmente gira em torno de 8 a 9%. Na zona do euro, vemos acontecer fenômeno similar. Economias emergentes também sentem os efeitos negativos de uma inflação mais alta.



Avalie se, entre as causas do aumento recente da inflação nos EUA, podem ser citados:

- I. O movimento de alta nas taxas de juros.
- II. Os incentivos econômicos concedidos aos americanos (pessoas e empresas) durante a pandemia do coronavírus.
- III. As paralisações nas cadeias produtivas por conta dos surtos de Covid.
- IV. A invasão da Ucrânia pela Rússia.

Estão corretos os itens

- (A) I e II, apenas.
- (B) III e IV, apenas.
- (C) I, II e III, apenas.
- (D) II, III e IV, apenas.
- (E) I, II, III e IV.



GABARITO



1. D



LISTA DE QUESTÕES – CHINA – MULTIBANCAS

1. (FGV/PREFEITURA DE SÃO JOSÉ DOS CAMPOS – SP/2023) Avalie se as afirmativas a seguir descrevem corretamente a posição do atual governo brasileiro em relação à China.

I. A China é o principal parceiro comercial do Brasil, tendo preenchido o lugar antes ocupado pelos EUA.

II. A China é uma potência e lidera o BRICS, motivo pelo qual a aproximação diplomática é uma oportunidade para o Brasil discutir temas globais.

III. O Brasil reiterou o princípio de uma só China, o reconhecimento da República Popular da China e o entendimento de que Taiwan é parte do território chinês.

Está correto o que se afirma em:

A) I, apenas.

B) I e II, apenas.

C) I e III, apenas.

D) II e III, apenas.

E) I, II e III.

2. (QUADRIX/CRT-BA/2023) A estimativa da meta de crescimento do PIB chinês é a de que ele ultrapasse o dos Estados Unidos e a China se torne a maior economia do planeta no próximo ano.

3. (VUNESP/EPC/2023) Em um contexto internacional de alta tensão, muitos receiam que os dois países tenham iniciado um caminho que pode levar a uma crise diplomática, política e até militar, como já aconteceu no passado. A viagem da parlamentar à ilha que um dos países considera parte do seu território, uma província “rebelde”, aumentou a tensão até níveis que não eram vistos há décadas.

(UOL. <https://bit.ly/3YKjMkM>. 09.08.2022. Adaptado)

A notícia faz referência à tensão entre

A) Japão e China.

B) Índia e Estados Unidos.

C) Inglaterra e Índia.

D) Japão e Inglaterra.

E) Estados Unidos e China.



4. (FGV/CÂMARA MUNICIPAL DE TAUBATÉ/2022) Em agosto de 2022, a presidente da Câmara dos Representantes dos EUA, Nancy Pelosi, visitou Taipei, capital de Taiwan, gerando tensão diplomática entre americanos e chineses. A respeito do status da ilha do sudeste asiático, assinale a afirmativa correta.



- (A) É uma região autônoma da China com governante eleito por voto direto da população da ilha.
- (B) Destaca-se economicamente pelo turismo e pela indústria naval, em função de sua posição.
- (C) É considerada rebelde por Pequim por ter abrigado adversários políticos do regime comunista.
- (D) Os americanos reconhecem sua soberania e abriram representação diplomática em Taipei.
- (E) O Brasil não reconhece a jurisdição da república Popular Chinesa sobre o território taiwanês.

5. (QUADRIX/CRP-10/2022 – ASSISTENTE ADMINISTRATIVO) Por causa de sua enorme população e por seguir os padrões ocidentais, a China é considerada, hoje, como a maior democracia do mundo.

6. (QUADRIX/CRECI-RO/2022 – FISCAL) Na atualidade, a China perdeu sua importância econômica e deixou de participar do comércio mundial.

7. (FGV/PREFEITURA MUNICIPAL DE PAULÍNIA/2021 – FARMACÊUTICO) Shenzhen, na China, é um dos principais exemplos de cidades planejadas e inteligentes que brotam mundo afora. São áreas escolhidas a dedo pelos países para que sirvam como modelo de desenvolvimento nas mais diversas frentes, notadamente em inovação e sustentabilidade.

A receita é sempre parecida: em uma região em dificuldades econômicas são feitos pesados investimentos em infraestrutura urbana e em telecomunicações, são concedidos incentivos financeiros e tributários para atrair empresas e criados centros de pesquisa e inovação. Se tudo der certo, as cidades conseguirão caminhar com as próprias pernas em alguns anos ou décadas. Se tudo der muito certo, estenderão sua influência por dezenas de quilômetros, criando um polo de desenvolvimento.



Revista Exame. Esta cidade antecipa o que a China quer ser em 20 anos, 2017.

A respeito do papel das inovações científicas no desenvolvimento econômico, analise as afirmativas a seguir e assinale (V) para a verdadeira e (F) para a falsa.

() Nas últimas décadas, o crescimento econômico chinês está alicerçado em vultosos investimentos em tecnologia.

() O uso de tecnologia pode promover novos modelos de sustentabilidade.

() Na atualidade, os investimentos em ciência favorecem o avanço tecnológico dos respectivos países.

As afirmativas são, na ordem apresentada, respectivamente,

(A) V – F – V.

(B) F – V – V.

(C) F – V – F.

(D) V – V – F.

(E) V – V – V.

8. (QUADRIX/CRB-1/2020 – BIBLIOTECÁRIO FISCAL) A dependência de muitos países, até mesmo os ricos, como os Estados Unidos, em relação aos suprimentos médicos produzidos pela China ficou patente durante a pandemia.

9. (IBADE/IDAF-AC/2020 – ENGENHEIRO AGRÔNOMO) O plano foi visto como uma ameaça às liberdades individuais no território autônomo e acabou revogado. O movimento passou a englobar outras demandas do povo, que vê interferência crescente do regime chinês e também pede a responsabilização de agentes que atacaram manifestantes durante os atos, os maiores ocorridos ali desde 1997.

(Folha, 02/11/2019. Disponível em: <http://bit.ly/39iWbxM>>. Adaptado)

A notícia trata das manifestações ocorridas em Hong Kong no segundo semestre de 2019, sobre estes episódios é correto afirmar que:

(A) as manifestações começaram com o aumento da tarifa do transporte público.

(B) a revolta começou após sucessivos escândalos de corrupção e cortes no fornecimento de combustível.

(C) os atos de protesto começaram a partir da imposição de restrições à propriedade privada.

(D) a revolta começou após o anúncio de um projeto de lei que facilitaria a extradição de suspeitos para serem julgados na China continental.



(E) os protestos começam após a China apresentar um projeto de lei que sobretaxaria os produtos de Hong Kong.

10. (FGV/PM SALVADOR/2019) A respeito da iniciativa chinesa conhecida como "Um Cinturão e Uma Rota" (One Belt One Road – Obor), são corretas as afirmativas a seguir, à exceção de uma. Assinale-a.

- (A) Pode reconfigurar o comércio global e revolucionar as dinâmicas geopolíticas da Ásia e de seu entorno.
- (B) Inspira-se na histórica Rota da Seda, à qual acrescentou uma rota marítima para os países do Oceano Índico.
- (C) Anuncia a abertura da China para uma economia de mercado, passando a ser o primeiro país socialista com livre iniciativa.
- (D) Possui um eixo terrestre, da China até a Escandinávia, e um marítimo, do Sul da China ao Mediterrâneo.
- (E) Inclui países da Ásia, África e Europa, englobando boa parte do PIB mundial e da população do planeta.

11. (VUNESP/PREFEITURA DE GUARATINGUETA-SP/2019 – ENGENHEIRO CIVIL) Atendendo a uma demanda dos manifestantes que ocupam as ruas de Hong Kong desde junho, a chefe do Executivo local, Carrie Lam, anunciou, nesta quarta-feira (04.09), o cancelamento do projeto de lei que deu origem aos protestos na região administrativa especial chinesa. O aceno de Lam, entretanto, não deverá ser suficiente para satisfazer os opositores, que mantêm outras quatro reivindicações.

(O Globo, 04.09.2019. Disponível em <<https://tinyurl.com/y52tsle2>>. Acesso em: 28.09.2019. Adaptado)

O tema do projeto de lei cancelado e uma nova reivindicação dos manifestantes são, correta e respectivamente,

- a) o controle do Banco de Pequim sobre a região e a adoção de uma moeda diferente do yuan chinês.
- b) a adoção de tarifas protecionistas pela China e um acordo com os EUA para encerrar a guerra comercial.
- c) a extradição para a China continental e a democratização por meio de eleições diretas na região.
- d) a limitação do acesso à internet e uma política de estímulo ao ingresso dos jovens no mercado de trabalho.
- e) a representatividade no Partido Comunista e a plena autonomia da região frente à China continental.

12. (CEBRASPE/FUB/2018 – CARGOS DE NÍVEL SUPERIOR) A parceria de países da América Latina com a China faz parte da geopolítica de aumento da influência desse país asiático no cenário internacional.

13. (CESGRANRIO/2018/BASA – TÉCNICO CIENTÍFICO) Na Ásia, os últimos cinco anos podem ter sido apenas o começo de uma longa Era Xi. Em uma decisão histórica foi aprovada emenda constitucional que acaba com o limite de mandatos presidenciais. Com isso, o atual chefe de Estado, Xi Jinping, no poder desde 2013, poderá permanecer no cargo indefinidamente, além de 2023, data em que termina o seu segundo governo de cinco anos. Este é mais um passo para confirmar o status de líder mais poderoso desde Mao Tsé-Tung, há 42 anos.



OSWALD, V. Sem prazo para a Era Xi. O Globo, Mundo, 12 mar. 2018, p. 19. Adaptado.

O líder político mencionado no texto acima é o atual presidente de qual país asiático?

- a) Laos.
- b) Japão.
- c) China.
- d) Coreia do Sul.
- e) Coreia do Norte.

GABARITO



- | | | |
|------|-------|-------|
| 1. E | 6. E | 11. C |
| 2. E | 7. E | 12. C |
| 3. E | 8. C | 13. C |
| 4. C | 9. D | |
| 5. E | 10. C | |



ISLAMISMO, MUNDO ÁRABE E ORIENTE MÉDIO

Ao lado do Cristianismo e do Judaísmo, o Islamismo é uma das três grandes religiões monoteístas, ou seja, que acreditam na existência de um único Deus. A palavra Islã significa “submeter-se” e exprime a obediência à lei e à vontade de Alá (Allah, Deus em árabe). O livro sagrado do Islamismo é o Alcorão, que consiste na coletânea das revelações divinas recebidas por Maomé de 610 a 632. Os seguidores da religião são conhecidos como muçulmanos. Atualmente, o Islã é a religião que mais se expande no mundo, está presente em mais de 80 países e compreende mais de um bilhão de fiéis.

Após a morte do profeta Maomé, em 632, criou-se a figura do califa, ou seja, o líder da comunidade muçulmana no mundo e chefe do Estado muçulmano. A divisão do Islã entre sunitas e xiitas remonta ao século VII e tem origem na disputa sobre a sucessão do Profeta. Os sunitas defendiam que o chefe do Estado muçulmano deveria reunir virtudes como honra, respeito pelas leis e capacidade de trabalho. Qualquer fiel poderia ser o líder, desde que fosse aceito pela comunidade muçulmana. Os xiitas defendiam que a chefia do Estado muçulmano só poderia ser ocupada por alguém que fosse descendente da linhagem familiar do profeta Maomé ou que possuísse algum vínculo de parentesco com ele. Nos séculos seguintes, essa divisão passou a incluir também agravos e diferenças teológicas.

Os sunitas são a grande maioria, mais de 80%, dos muçulmanos no mundo. Os xiitas são maioria apenas no Irã, no Iraque e no Azerbaijão; nos dois primeiros, os presidentes são dessa ramificação. Os alauítas são uma variação moderada dos xiitas, presentes sobretudo na Síria, tendo o presidente Bashar al-Assad como um dos seus seguidores.

O grupo guerrilheiro Hezbollah é de orientação xiita. O Hamas e a Al-Qaeda, por sua vez, são sunitas. O Estado Islâmico (EI) também é sunita e luta pelo retorno do califado islâmico. O último califado foi o Império Otomano, abolido pelo nacionalista e secular líder turco Mustafa Kemal Atatürk em 1924.

O califado é uma forma de governo centrada na figura do califa, que seria um sucessor da autoridade política do profeta Maomé, com atribuições de chefe de Estado e líder político do mundo islâmico.

Mundo Árabe e Oriente Médio

A civilização árabe tem origem na península Arábica. No século VII, as tribos da região unificaram-se em torno da língua árabe e do Islamismo. A partir da unificação, os árabes formaram um vasto império que se expandiu até a Índia, o norte da África e a península Ibérica, com apogeu em 750 d.C. O mundo árabe ocupa a área que vai do oceano Atlântico ao golfo Pérsico, abrangendo o norte da África e boa parte do Oriente Médio (veja no mapa a seguir).

Os contornos dos atuais países existentes no mundo árabe são, até certo ponto, arbitrários e resultam do domínio das potências estrangeiras sobre a região no início do século XX. Com fortes interesses no controle das grandes reservas de petróleo, governos estrangeiros negociaram a independência de suas colônias ou áreas sob seu controle para que fossem governadas por aliados ou colaboradores.

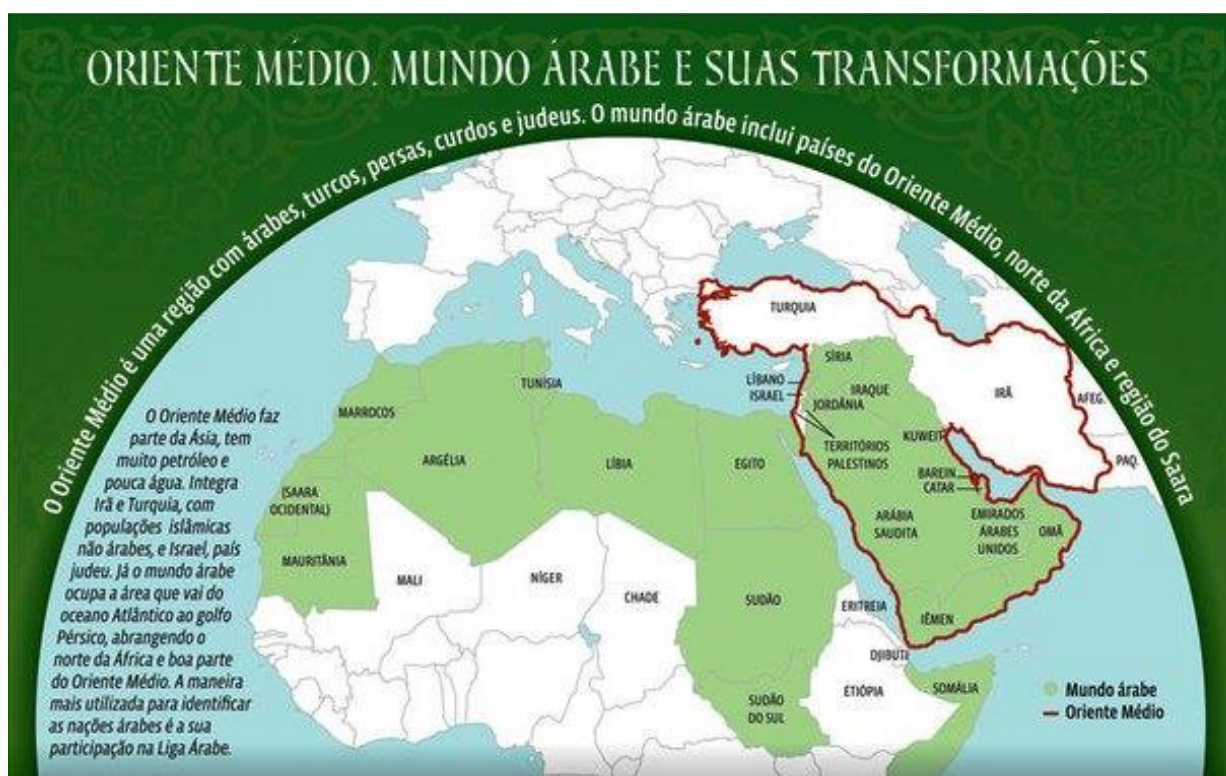
O Oriente Médio não deve ser confundido com o mundo árabe. É uma região que faz parte da Ásia, tem muito petróleo e pouca água. Integra Irã e Turquia, com populações islâmicas não árabes, e Israel, país judeu.



Os curdos habitam vários países do Oriente Médio, região onde também vivem várias minorias, como os assírios e os caldeus.

Mas não é em todo o Oriente Médio que há petróleo. O óleo está bastante concentrado em reservas na região do Golfo Pérsico e na Mesopotâmia.

Irã e Arábia Saudita são rivais, disputam hegemonia e influência no Oriente Médio. Possuem diferenças étnicas e religiosas: os iranianos são persas e muçulmanos xiitas, os árabes são sunitas. Essas diferenças fazem com que apoiem governos e grupos armados de acordo com a orientação religiosa de cada país. Como exemplo, temos a Síria, onde o Irã apoia o governo do xiita Assad e a Arábia Saudita apoia grupos rebeldes sunitas, e também o Iêmen, onde o Irã apoia os houthis (xiitas) e a Arábia Saudita grupos sunitas ligados ao ex-presidente Hadi.



A Primavera Árabe

Em 2011, o mundo árabe se viu diante de uma série de revoltas populares, que ficaram conhecidas como Primavera Árabe, em alusão à Primavera de Praga. O palco dos conflitos foi a África do Norte e o Oriente Médio, região formada por países de maioria árabe e muçulmana. As revoltas ocorreram em países com regimes autoritários e tiveram como resultado a deposição dos ditadores da **Tunísia**, **Egito**, **Líbia** e **Iêmen**. Na **Síria**, a revolta se transformou em uma sangrenta **guerra civil**.

A Tunísia foi onde se iniciou a Primavera Árabe, com a Revolução de Jasmim, sendo o único país em que a revolta popular alcançou o objetivo da democracia. Nos demais países onde os ditadores foram derrubados



– Egito, Líbia e Iêmen – a Primavera se transformou num tenebroso “Inverno Árabe”, além da Síria, que descambou para a guerra civil.

O fundamentalismo Islâmico

Ainda que o fundamentalismo esteja atualmente muito associado aos islâmicos, grupos fundamentalistas existem em todas as religiões. Os agrupamentos políticos fundamentalistas buscam impor seus dogmas religiosos como base da organização do Estado e da sociedade. É uma posição obscurantista, que recusa a democracia e se opõe à perspectiva secular adotada desde a Revolução Francesa (1789), quando os negócios de Estado se separaram das convicções religiosas.

A enorme maioria dos adeptos da religião islâmica é constituída por pessoas comuns que professam uma crença religiosa. Por isso é um erro grave, que tem origem em preconceito religioso ou social, associar grupos terroristas que dizem agir em nome do Islamismo com os hábitos e crenças das populações muçulmanas em geral.

O fundamentalismo islâmico é contrário ao Estado democrático e laico, e sua perspectiva é a do Estado teocrático, como no Irã, onde o chefe do Estado é o líder religioso supremo, o aiatolá. Defendem a implantação da **Sharia** – o conjunto de leis e códigos de conduta extraídos do livro sagrado, o **Alcorão**, e da **Suna** (obra que narra a vida e os caminhos de Maomé), como lei, rejeitando o princípio da separação entre religião e Estado.

O fundamentalismo islâmico é a fonte inspiradora de vários grupos armados e terroristas do mundo islâmico, que lutam pela tomada do poder nos países em que atuam. Os mais conhecidos são a Al-Qaeda, o Estado Islâmico e o Boko Haram.

Al Qaeda

O saudita Osama bin Laden fundou a Al-Qaeda em 1988, no Afeganistão, quando lutava ao lado dos guerrilheiros islâmicos contra a ocupação soviética, com equipamentos e recursos vindos das potências ocidentais, principalmente dos Estados Unidos. Mas, após a Guerra do Golfo, em 1990, quando tropas lideradas pelos EUA atacaram o Iraque, a jihad (guerra santa) da Al-Qaeda passa a ter como inimigo o Ocidente, em especial os Estados Unidos, devido à sua crescente presença militar no Oriente Médio.

Na década de 1990, Bin Laden foi responsabilizado por vários ataques terroristas a alvos norte-americanos, até realizar o atentado terrorista de 11 de setembro de 2001, contra os EUA. Então, Bin Laden ganhou fama mundial. Vários grupos anunciaram sua ligação com a Al-Qaeda, o que permitiu ao grupo expandir seu alcance para se tornar uma rede terrorista com ramificações internacionais.

Na última década, porém, a Al-Qaeda Central (AQC), no Afeganistão e no Paquistão, foi duramente atingida pelas ações militares dos EUA. O trabalho de espionagem e os ataques com drones mataram seus líderes e reduziram sua capacidade de ação e comunicação com as “filiais”. A morte de Bin Laden por uma equipe da Marinha dos EUA, em 2011, enfraqueceu o grupo.



Estado Islâmico

A origem do Estado Islâmico está na invasão do Iraque pelos Estados Unidos, em 2003. Naquele ano, foi fundada a “Al Qaeda no Iraque”, para lutar contra a invasão norte-americana no país.

O grupo espalhou o terror contra as forças de ocupação e os xiitas, até ser praticamente aniquilado após a morte de seu comandante, Abu Musab al-Zarqawi, em 2006. Rebatizado Estado Islâmico do Iraque (EII), o grupo renasceu a partir de 2010 sob um novo líder, Abu Bakr al-Baghdadi.

O vácuo de segurança criado pela retirada militar dos EUA, o clima de revolta dos sunitas com o governo pró-xiita do Iraque e o caos da guerra civil síria criaram condições para que o EI prosperasse. Ao expandir as atividades para a Síria, onde infiltrou militantes para abocanhar dinheiro e armas, recrutar guerrilheiros e instalar bases, em 2013, o grupo mudou o nome para Estado Islâmico do Iraque e do Levante (EIIIL). E, após dominar territórios no norte da Síria e do Iraque, o grupo anunciou a criação de um Califado, em junho de 2014, autodenominando-se Estado Islâmico (EI).

O Califado é uma referência aos antigos impérios islâmicos surgidos após a morte de Maomé, que seguiam rigorosamente a Sharia, a lei islâmica – dos quais o mais notório é o Império Árabe. O califa, considerado sucessor do profeta, é a autoridade política e religiosa máxima. Al-Baghdadi foi proclamado o califa do EI.

O grupo se expandiu conquistando territórios no Iraque e na Síria, e consolidou-se como a mais poderosa organização extremista islâmica em atividade.

Nas áreas que conquistou, o EI assumiu o controle sobre bases militares, bancos, hidrelétricas e campos de petróleo e instaurou um governo próprio, com ministérios, cortes islâmicas e aparato de segurança. A cobrança de taxas e impostos, junto com a venda ilegal de petróleo, os sequestros e as extorsões, garantiam ao grupo recursos para se autofinanciar.

No plano social, o código moral é severo. Um traço marcante do EI é o emprego de táticas tão bárbaras que até a Al-Qaeda o renegou. O grupo promoveu execuções em massa, às vezes contra comunidades inteiras, e mortes coletivas por crucificação, decapitação e enforcamento. Além de ser uma estratégia de guerra, visando submeter populações locais pelo terror, a violência indiscriminada, também direcionada aos “infiéis” (minorias étnicas e religiosas e ocidentais), constituiu-se numa mensagem poderosa para atrair muçulmanos desiludidos de todas as partes do mundo, inclusive do Ocidente, que passaram a lutar em suas fileiras e aniquilar inimigos do islã com a promessa da salvação.

Mais de 30 grupos extremistas islâmicos sunitas de vários países da África e Ásia juraram lealdade ao autoproclamado califa do Estado Islâmico. Esses grupos cometeram uma série de atentados terroristas, principalmente na Líbia, na Tunísia, no Egito, no Iêmen e no Afeganistão.

O Estado Islâmico também se notabilizou pela destruição de esculturas, monumentos, palácios e templos do patrimônio cultural e arqueológico de cidades históricas do Iraque e da Síria, nas áreas conquistadas. O EI justificou a destruição dizendo que as obras cultuavam outras divindades e por isso eram demoníacas, ferindo, portanto, os princípios do Islã.

O EI é bastante ativo na internet. Utiliza intensamente a web para divulgar suas atividades, recrutar novos combatentes e invadir sites de organizações governamentais e privadas.



Os métodos, as práticas e as mensagens dessa organização causaram grande perplexidade no mundo e o EI passou a ser combatido por forças regionais e locais, apoiadas pelos Estados Unidos e outros países. Aos poucos foi perdendo as vastas áreas territoriais que tinha conquistado no Iraque e na Síria. Na atualidade, não controla mais nenhum território, nenhuma cidade, foi praticamente extinto enquanto força militar e política nesses dois países.

Com o revés em combates no terreno, o Estado Islâmico passou a realizar atentados terroristas em vários países europeus e nos Estados Unidos. A grande maioria desses atos terroristas foram realizados pelos chamados “lobos solitários”, nome dado a terroristas que, autonomamente, perpetraram atentados individuais, menos letais, mas mais difíceis de serem detectados pelas forças de segurança. Geralmente são pessoas que, quando se radicalizaram, residiam no país em que cometeram o atentado. Ou eram nascidos no país, portanto, nacionais, ou residiam legalmente no país. Não são terroristas que foram treinados pelo Estado Islâmico em seus campos de treinamento.

Exemplos de atentados com estas características são os seguintes: roubo de caminhões ou van; atropelamento de pessoas em lugares movimentados na cidade onde cometeram o atentado; ou, ainda, ataque e morte de pessoas a facadas.

Muitos combatentes do Estado Islâmico, que combateram na Síria e no Iraque, que eram provenientes de outros países, com a derrota do grupo, retornaram para os seus países, deixando uma preocupação de que possam fomentar o terrorismo, o radicalismo e cometerem atentados terroristas nesses países.

Um exemplo disso seriam os atentados terroristas de 21 de abril de 2019, domingo de Páscoa, no Sri Lanka, um país da Ásia. Bombas explodiram em hotéis de luxo e três igrejas católicas deixando pelo menos 359 mortos e mais de 500 feridos. Para o governo do país os atentados foram realizados por um grupo islâmico local. Porém, devido a sofisticação dos ataques teriam recebido ajuda externa na sua preparação. O Estado Islâmico reivindicou a autoria dos atentados terroristas.

Abu Bakr al-Baghdadi, morreu durante uma operação militar dos Estados Unidos, na província de Idlib, no noroeste da Síria, em 27 de outubro de 2019. Baghdadi fugiu por um túnel no imóvel onde se encontrava, sendo perseguido por cachorros, encurralado explodiu um colete. Parte do túnel desabou. Três crianças que estavam com ele, também morreram.

Boko Haram

Boko Haram significa “educação ocidental é pecado”. Atua na Nigéria e realiza incursões no Chade, Níger e Camarões. Criado em 2002, na Nigéria, desde 2009 pratica atos de violência com o objetivo de impor nesse país uma versão mais radical da Sharia (a lei islâmica), que veta a adoção de vários aspectos da cultura ocidental, como a educação laica. A maioria dos muçulmanos não concorda com essa visão do grupo. O Boko Haram, que era aliado da rede terrorista Al-Qaeda, vinculou-se em 2015 ao Estado Islâmico.

Al-Shabaab

Al-Shabab significa, em árabe, 'A Juventude'. Fundado em 2004, o grupo é filiado à rede Al-Qaeda e atua na Somália. A partir de 2013, o grupo passou a ser mais conhecido em função do atentado que cometeu em um shopping center em Nairóbi, capital do Quênia.



Nas áreas sobre seu controle, impôs uma versão rígida da sharia (lei islâmica), desde o apedrejamento até a morte das mulheres acusadas de adultério, passando pela amputação dos acusados de roubo.

Desde 2007, uma força de paz composta por vários países da União Africana (UA) atua ao lado de forças do governo somali no combate ao Al-Shabaab, o que tem imposto várias derrotas e enfraquecido a milícia.

Taleban

Também chamado de Talibã, Talebã ou Taliban, são muçulmanos sunitas. Estiveram no poder no Afeganistão, onde governaram o país de 1996 a 2001. Após os atentados de setembro de 2001, nos Estados Unidos, foram acusados de dar proteção a Osama Bin Laden, que se escondia no Afeganistão. Os norte-americanos lideraram uma força internacional que combateu a milícia e os retirou do poder. Mas, no ano de 2021, com a retirada das tropas norte-americanas do país, o Taleban voltou ao poder.

A guerra civil na Síria

A guerra civil na Síria completou nove anos em março de 2020. O conflito começou como um levante pacífico contra o regime do presidente Bashar al-Assad, em março de 2011. Nos meses seguintes, as manifestações se sucederam, sendo duramente reprimidas pelo governo.

Em muitas ocasiões, as forças do governo abriram fogo contra a multidão que protestava. Dezenas de manifestantes morreram nos protestos. Diante da dura repressão, civis opositores e soldados desertores se organizaram em diversos grupos armados com o objetivo de se defender das forças do regime.

Em pouco tempo, as brigadas rebeldes passaram a lutar contra as forças de segurança pelo domínio de seus territórios. Em agosto de 2011, surge o Exército Livre da Síria (ELS), dirigido pela oposição moderada, que iniciou os combates contra as forças de Assad. Tinha início, assim, a guerra civil que engolfou o país e gerou grande instabilidade no Oriente Médio, com reflexos em todo o planeta.

Com o tempo, a disputa adquiriu contornos sectários, opondo muçulmanos sunitas (maioria da população síria) a alauítas, ramo do islamismo xiita ao qual pertence Assad. O caráter religioso do confronto arrastou potências regionais para ele, dando-lhe uma nova dimensão. A disputa rapidamente ganhou escala e adquiriu uma complexa feição.

Confira a seguir as principais forças participantes do conflito:

Governo Sírio – De um lado está o regime sírio, liderado pelo ditador Bashar al-Assad, que luta para se manter no poder. Desde 1970, quando seu pai deu um golpe de Estado, a família Assad comanda no país um regime brutal de partido único, o Baath. Apesar de serem alauítas, os Assad mantêm um regime laico, que separa a religião do Estado. As minorias cristãs e alauítas e parte da elite sunita apoiam Assad.

Grupos Rebeldes – Os sunitas foram uma das primeiras forças a se alinhar contra o regime. Eles se dividem em dezenas de grupos, com agendas distintas, mas com um objetivo em comum: depor Assad e ocupar o poder. Entre os chamados “rebeldes moderados”, que recebem esse nome por não serem adeptos do radicalismo islâmico, a maior expressão é o Exército Livre da Síria (ELS).



Extremistas Islâmicos – Além dos “rebeldes moderados”, jihadistas (combatentes islâmicos) fragmentados em várias facções também querem derrubar Assad. Os principais grupos são o Estado Islâmico (EI) e a Fatah Al-Sham (ex-braço sírio da Al Qaeda). Além de combater as tropas do regime de Assad, os extremistas islâmicos também se opõem aos “rebeldes moderados”.

Curdos – Esse povo é uma etnia apátrida (sem Estado e território próprios). Eles vivem em diversos países, inclusive na Síria, e reivindicam a criação de um Estado para o seu povo – o Curdistão. Desde o início do conflito na Síria, uma milícia chamada Unidade de Proteção do Povo (YPG) foi formada para defender as regiões habitadas pelos curdos no norte do país e se fortaleceu tanto que hoje toma conta de um grande território perto da fronteira turca.

Para o regime de Assad, tornaram-se bastante úteis, porque a milícia se opõe tanto aos rebeldes moderados como aos extremistas do Estado Islâmico. Foram apoiados pelos Estados Unidos na sua luta contra o Estado Islâmico, mas não no pleito de criação do seu país.

A intervenção estrangeira

Além das forças internas envolvidas no conflito, a Guerra da Síria se transformou em um intrincado tabuleiro geopolítico, a partir do envolvimento de outras nações. Mas nem sempre é claro perceber qual é o interesse de cada uma das potências envolvidas.

O **governo da Síria é apoiado pela Rússia, pelo Irã e pelo grupo xiita libanês Hezbollah**. A Rússia é uma aliada histórica da Síria, a quem sempre prestou apoio diplomático e militar. A única instalação militar russa no Mediterrâneo é a base naval de Tartus, no litoral sírio. E os russos não querem correr o risco de perdê-la caso Assad seja alijado do poder.

Além disso, a Rússia quer reconquistar um papel relevante no Oriente Médio e voltar a ser encarada como uma superpotência global, recuperando o protagonismo perdido após a dissolução da União Soviética. Vencer a guerra ao lado de Assad pode ajudar nesse objetivo.

O Irã é o principal aliado de Assad no Oriente Médio e tradicional adversário da Arábia Saudita e Israel. A ele se soma a milícia libanesa Hezbollah – financiada pelo regime de Teerã. Ambos são xiitas e se opõem historicamente aos EUA e a Israel. Ao Irã interessa ter um aliado em Damasco que lhe facilite acesso ao Líbano, base dos guerrilheiros do Hezbollah, e ao Mar Mediterrâneo, local estratégico do ponto de vista comercial e militar.

A Arábia Saudita, nação muçulmana de maioria sunita, é uma forte opositora do regime sírio. O motivo é simples: Assad é apoiado pelo Irã, rival histórico dos sauditas na região. Os sauditas, aliados históricos dos EUA, temem que a permanência de Assad no poder fortaleça a influência do Irã na Síria e no Líbano.

Os **EUA e as potências europeias se posicionam contra Assad**. Contudo, a prioridade dos norte-americanos era a de derrotar os terroristas do Estado Islâmico, objetivo que foi alcançado armando e apoiando grupos na região e com ataques aéreos ao EI.

A **Turquia** era aliada de Assad antes do conflito, com a guerra se colocou contra o ditador. O regime turco apoia tanto os rebeldes sunitas moderados como os mais radicais, ligados à Al Qaeda.



Por que a Guerra está durando tanto?

Um fator chave para a longevidade da guerra é justamente a intervenção de potências regionais e internacionais. O apoio militar, financeiro e político tanto para o governo quanto para a oposição tem contribuído diretamente para a longevidade do conflito e transformou a Síria em campo para uma guerra indireta.

A intervenção externa também é responsabilizada por fomentar o sectarismo no que costumava ser um Estado até então secular (imparcial em relação às questões religiosas). As divisões entre a maioria sunita e a minoria alauita no poder alimentou atrocidades de ambas as partes, não apenas causando a perda de vidas, mas também a destruição de comunidades, afastando a esperança de uma solução pacífica.

Tragédia humanitária

O enviado da Organização das Nações Unidas (ONU) para a Síria, Steffan de Mistura, estimou que a guerra já matou mais de 400 mil pessoas. Para a organização Observatório Sírio de Direitos Humanos, sediada em Londres, a cifra de mortos passa de 465 mil. Já o Centro Sírio para Pesquisa de Políticas, outro grupo de estudos, calcula que o conflito já tenha causado a morte de mais de 470 mil pessoas.

A ONU também considera o conflito como “a maior crise humanitária do século XXI”. Por causa da guerra, mais de 5 milhões de pessoas tiveram que fugir do país - a maioria mulheres e crianças. São os **refugiados**. Além deles, outros 6,5 milhões foram deslocados pelo interior da Síria. O total de 11,5 milhões de pessoas forçadas a sair de suas casas equivale à metade da população do país. Os refugiados foram principalmente para a Turquia, o Líbano e a Jordânia. Cerca de 10% deles buscaram refúgio na Europa, provocando divisões entre os países do bloco europeu sobre como dividir essas responsabilidades.

Situação atual

A guerra civil ainda não terminou. O regime de Bashar al-Assad, que exerce o controle de grande parte do território sírio habitado e onde se produz economicamente, é o vitorioso. O apoio da Rússia tem sido determinante para a vitória do regime sírio. Os grupos de oposição estão enfraquecidos, mas ainda controlam algumas áreas do país.

O Estado Islâmico está derrotado. Não controla mais nenhuma cidade ou localidade do país. Raqqa, que era a sua capital na Síria, foi conquistada pelas Forças Democráticas da Síria (FDS), uma aliança entre curdos e grupos armados árabes.

Os curdos exercem o controle do Curdistão sírio e de algumas outras regiões do país.

Iraque

O Iraque é um país muito instável, mergulhado em disputas políticas e religiosas. A maioria da população do Iraque é xiita, os sunitas são minoritários. O nordeste do país é habitado por curdos. A democracia do país é frágil. O governo de maioria xiita privilegia este segmento da população, o que acirra as tensões com os



sunitas e curdos. O Curdistão iraquiano é uma região com grande autonomia política e administrativa, mas os curdos almejam a independência.

Em 2003, os Estados Unidos invadiram o Iraque e derrubaram do poder Saddam Hussein, da minoria sunita, permanecendo com suas tropas no país até 2011, quando se retiraram. A queda Saddam Hussein levou ao ressurgimento de antigas disputas políticas internas, que ficaram abafadas pelo seu regime ditatorial e sanguinário.

Assim como na Síria, aproveitando-se do caos institucional e das rivalidades entre sunitas e xiitas, o Estado Islâmico conquistou vastas áreas do território iraquiano em 2014 e 2015. No entanto, a partir de 2016, o governo iraquiano, apoiado pelos Estados Unidos, curdos iraquianos, milícias xiitas e sunitas, reorganizou-se e reagiu conquistando todas as áreas que estavam sob controle do Estado Islâmico, que foi derrotado no Iraque. Um dos símbolos dessa retomada foi a conquista de Mossul, a segunda maior cidade do país, que permaneceu sob controle do grupo de 2014 a julho de 2017.

Mesmo com a vitória sobre o Estado Islâmico, as tropas norte-americanas permaneceram no país. Contudo, com o assassinato do general iraniano Qassem Soleimani, em janeiro de 2020, o Iraque exigiu a retirada dessas tropas do país - o Iraque é um dos principais aliados do Irã na região do Oriente Médio. Em resposta, o presidente Donald Trump ameaçou impor sanções econômicas contra o Iraque e cobrar do país o investimento feito em bases militares.

Após conversas e negociações, os dois países chegaram a um acordo para manter as tropas no país, por "motivos de segurança". Atualmente, estão no Iraque, cerca de 5.200 militares norte-americanos.

Curdistão

Os curdos constituem a maior etnia sem Estado. As estimativas demográficas variam entre 25 milhões e 40 milhões de curdos espalhados por uma área contínua de 500 mil quilômetros quadrados que abrange territórios da Turquia, do Iraque, da Síria, do Irã, da Armênia e do Azerbaijão (veja no mapa a seguir). A construção do seu próprio país é um histórico desejo desse povo.

A etnia curda baseia sua identidade em uma língua e cultura em comum, de uma população que sempre habitou aquela região resistindo à ocupação tribal dos árabes. Embora sejam, em maioria, muçulmanos, os curdos não são identificados com uma religião específica.

A questão da independência curda surge nos tratados assinados após o fim da Primeira Guerra Mundial. Em 1923, o Tratado de Lausanne foi assinado pelos vencedores do conflito, liderados pelo Reino Unido e França. Nele são desenhadas as fronteiras modernas do Oriente Médio, no que antes representava o Império Otomano, sem que a população curda recebesse um território para si.

Desde então, os governos dos Estados constituídos se opõem à criação do Curdistão. Um dos grandes motivos é o petróleo: grande parte das reservas da Turquia e da Síria, bem como um quarto das reservas do Iraque, estão em terras que os curdos reivindicam para si.



O projeto de um Estado curdo ganhou força no final do século XX, sobretudo na Turquia e no Iraque, países nos quais o movimento foi violentamente reprimido. A resistência dos curdos no Iraque e na Síria contra o Estado Islâmico e as várias derrotas que infligiram ao grupo deu mais força à ideia de um Estado independente para esse povo.

No Iraque, os curdos gozam de grande autonomia na região do Curdistão iraquiano. Contam, inclusive, com um exército próprio. Em 2017, realizaram um plebiscito (apenas na região curda) que decidiu pela independência do Curdistão iraquiano, com apoio de 92% dos eleitores, o que não foi reconhecido pelo Iraque. No Irã, os curdos expressam sua identidade cultural livremente, mas os direitos de governo e autoadministração são negados.

Na Síria, habitam a região multiétnica de Rojava, na fronteira com a Turquia. Não possuem autonomia política, mas conquistaram uma autonomia de fato, em função da resistência e por serem decisivos na derrota do Estado Islâmico.

Na Turquia, o Partido dos Trabalhadores do Curdistão (PKK), desenvolvia a luta armada contra o Estado turco. Em 2013, o partido declarou um cessar-fogo. Contudo, em julho de 2015, o governo da Turquia atacou redutos do PKK no Curdistão iraquiano, próximo à fronteira turca. O PKK reagiu e as hostilidades se sucederam de lado a lado.

O principal partido político, o PYD (Partido da União Democrática), e a principal força armada, a YPG (Unidades de Proteção do Povo), dos curdos sírios são aliados do turco PKK (Partido dos Trabalhadores do Curdistão).

A Turquia não vê com simpatia o fortalecimento dos curdos na Síria e teme a influência deles nos movimentos separatistas e autonomistas dos curdos da Turquia. Em janeiro de 2018, o exército turco chegou a realizar bombardeios aéreos e a avançar colunas de tanques, infantaria e peças de artilharia numa zona de 30 quilômetros para dentro do território sírio, por uma extensão de 400 quilômetros, forçando um recuo curdo na região. Foi uma manobra para criar uma “zona segura” evitando qualquer contato e movimentação entre o YPG e o PKK na área.

Em outubro de 2019, a Turquia iniciou uma nova operação de ataque aos curdos, invadindo novamente a região da fronteira com a Síria. O motivo alegado pela Turquia é o mesmo de 2018, o estabelecimento de uma zona segura, entre a fronteira com a Turquia e o interior da Síria, livre do controle da milícia curda do YPG.

Os curdos foram os principais aliados dos Estados Unidos no combate ao Estado Islâmico. No início de outubro de 2019, o presidente dos Estados Unidos, Donald Trump, ordenou a retirada das tropas americanas, de cerca de 1.000 militares, do norte da Síria, na região curda. Esses militares assessoravam o YPG e não eram importantes pelo seu número, que era pequeno, mas sim pelo significado do apoio e de uma certa proteção da maior potência militar do mundo aos curdos sírios. A saída dos efetivos norte-americanos abriu o caminho para a incursão das forças armadas da Turquia no norte da Síria.





Fonte: Dictionnaire de Geopolitique

Iêmen

O Iêmen está em uma guerra civil desde 2014. A população é dividida em 56% de sunitas e 44% de xiitas. O país é pobre – 80% dos cidadãos dependem de assistência humanitária, de acordo com as Nações Unidas –, mas tem localização geopolítica privilegiada. Ele fica na rota de escoamento de petróleo bruto e na fronteira com a Arábia Saudita, que é uma das maiores potências econômicas e militares do Oriente Médio.

No conflito atual, opõe-se, de um lado, os rebeldes houthis (xiitas) apoiados pelo Irã, e do outro, grupos ligados ao atual presidente Abdrabbuh Mansour Hadi, apoiado pela Arábia Saudita.

O Iêmen foi um dos países sacudidos pela Primavera Árabe. Os protestos levaram à saída do então presidente Ali Abduillah Saleh, em 2012, que governava o país desde 1978. No seu lugar, assumiu como presidente o então vice-presidente Abd Rabbo Mansur Hadi.

Os rebeldes xiitas houthis, que participaram dos protestos da Primavera Árabe em 2011, contra o então presidente, aproveitaram-se de um vácuo no poder para expandir seu controle territorial por regiões do país. Em setembro de 2014, conquistaram a capital, Sanaa. No início de 2015, o presidente Abd Rabbo Mansur Hadi foi forçado a fugir para outra cidade do Iêmen e depois para a Arábia Saudita. Os houthis dissolveram o Parlamento e formaram um conselho presidencial para governar.

Em março de 2015, a Arábia Saudita passou a liderar uma aliança de países sunitas para conter o avanço dos houthis. A aliança tem o apoio dos Estados Unidos e faz bombardeios aéreos constantes às áreas dominadas



pelos rebeldes. No entanto, até hoje não conseguiu recapturar Sanaa. Em resposta os houthis, lançam ataques com mísseis contra o território saudita.

Além dos houthis, apoiados pelo Irã, e do presidente Hadi, apoiado pela Arábia Saudita, a disputa de poder no Iêmen inclui tribos sunitas, a Al-Qaeda e até o Estado Islâmico.

Em setembro de 2019, duas grandes instalações petrolíferas da Arábia Saudita foram alvo de um ataque com drones, o que levou a redução pela metade da produção de petróleo saudita nos dias seguintes, o que significou uma redução de 5% na produção mundial de petróleo. A Arábia Saudita é o maior exportador mundial de petróleo.

Os houthis disseram ter mobilizado 10 drones para fazer o ataque. A Arábia Saudita e os Estados Unidos acusaram o Irã de ter sido o responsável pelos ataques e de que ele não teria partido do Iêmen. O Irã negou qualquer envolvimento no ataque.

Independente da autoria, o ataque revelou a fragilidade da segurança das instalações petrolíferas sauditas em caso de ataques militares e até onde poderá chegar à tensão no Oriente Médio em caso de um conflito militar entre o Irã e aliados versus a Arábia Saudita e aliados.

Irã

O Irã ocupa lugar central no xadrez do Oriente Médio. O regime define-se desde a Revolução de 1979 como uma república islâmica e segue a vertente xiita do Islamismo. Posiciona-se frontalmente contra Israel e é aliado do regime sírio de Bashar al-Assad, exercendo também influência sobre partidos xiitas que estão no governo do Iraque. Dessa forma, busca formar um arco xiita de poder, centrado na oposição a Israel e às monarquias sunitas do Golfo Pérsico, como a Arábia Saudita.

Desde 2003, a Agência Internacional de Energia Atômica (AIEA), os Estados Unidos e países europeus tentavam impedir o avanço do programa nuclear iraniano. Eles acusavam o país de desenvolver a tecnologia de enriquecimento de urânio com a intenção de fabricar armas nucleares. O Irã negava.

A ONU exigia que o Irã parasse de enriquecer urânio e autorizasse o acesso irrestrito da AIEA às suas instalações. Diante da negativa do Irã, foram aprovadas quatro rodadas de sanções econômicas contra o país, entre 2006 e 2010.

Os EUA e a União Europeia, em 2011, decretaram o embargo ao petróleo iraniano e punições financeiras contra nações que compravam petróleo do país. Foram também estabelecidas sanções contra o sistema bancário do Irã. O embargo levou à queda expressiva nas exportações de petróleo iraniano, comprometendo a obtenção de divisas externas e sufocou a economia do país.

Em 2015, o Irã e o grupo de países denominado de 5+1 (EUA, França, Reino Unido, Rússia e China + Alemanha) chegaram a um acordo sobre o seu programa nuclear. O acordo limitou e condicionou o programa, de forma que não fosse possível ao país desenvolver armas nucleares, em troca da retirada das sanções internacionais que asfixiavam a sua economia. O acordo autorizou o Irã a prosseguir com um programa nuclear civil e abriu o caminho para uma normalização da presença do país no cenário



internacional. O Irã também concordou que a AIEA passasse a realizar inspeções regulares e profundas em suas instalações, de modo a verificar o cumprimento do acordo.

Em maio de 2018, os Estados Unidos anunciaram a sua retirada do acordo. Desde quando era pré-candidato a presidente, Donald Trump vinha criticando o texto, articulado pelo antecessor Barack Obama.

Com a saída do acordo, os EUA retomaram a aplicação de sanções econômicas ao Irã em seu mais alto nível. Por essas sanções, empresas privadas e cidadãos norte-americanos ficam proibidos de realizar qualquer negócio com o Irã (governo, empresas e cidadãos). Outros países (governo, empresas e cidadãos) que realizarem negócios com o governo, empresas e cidadãos iranianos podem ser punidos com a proibição da realização de negócios nos Estados Unidos. Dessa forma, entre o Irã e a maior economia do mundo, é obvio que a preferência será pelos norte-americanos. Assim, as sanções têm causado grandes prejuízos a economia iraniana.

Os demais países e o Irã continuam no acordo. Porém, a economia iraniana tem sofrido com as sanções econômicas americanas. O país, em função disso, tem crescentemente violado restrições no acordo sobre o seu programa nuclear.

As tensões se elevaram entre o Irã e os Estados Unidos, após a saída norte-americana do Acordo. O ano de 2019, foi de acirramento de acusações entre as partes e movimentos militares, que quase desembocam em um conflito bélico direto.

Em junho de 2019, dois navios petroleiros – um japonês e o outro norueguês -, foram danificados no Golfo de Omã. O governo norte-americano responsabilizou o Irã pelo ataque, que negou o ocorrido. Em maio, os Estados Unidos já haviam acusado o regime em Teerã de estar por trás de ataques a dois petroleiros sauditas no Golfo Pérsico.

Na sequência, o Pentágono anunciou o envio de cerca de mil militares norte-americanos a mais para a região do Golfo, e o presidente, Donald Trump, ameaçou “aniquilar o Irã” em sua conta no Twitter.

Ainda no mês de junho, a Guarda Revolucionária do Irã abateu um drone dos EUA no Golfo Pérsico, alegando que o mesmo teria invadido o espaço aéreo iraniano. Washington negou que o veículo aéreo não tripulado invadira o espaço aéreo iraniano. Em retaliação, os norte-americanos realizaram um ataque cibernético derrubou computadores militares do Irã.

Em setembro, instalações petrolíferas da Arábia Saudita foram alvo de um ataque com mísseis lançados por drones, elevando temporariamente os preços do petróleo. O grupo Houthi, do Iêmen, assumiu a responsabilidade pelo ataque, mas os EUA atribuíram a responsabilidade ao Irã.

Em dezembro, o ataque a uma base estadunidense no Iraque, deixou morto um funcionário terceirizado das forças armadas norte-americanas. Os EUA apontaram como responsável uma milícia xiita iraquiana apoiada pelo Irã, Kata'ib Hezbollah. Alegando resposta, os EUA proferiram ataques que mataram 24 pessoas em bases da milícia no Iraque e na Síria. Na sequência, membros da milícia iraquianos atacaram a embaixada estadunidense em Bagdá, durante 24h – não houve mortes.

Todos esses eventos contribuíram e culminaram com o assassinato do general **Qasem Soleimani**, em janeiro de 2020, por ordem de Donald Trump, em um ataque com drones perto do aeroporto da capital iraquiana, Bagdá.



O general comandava a Força Al Quds, unidade especial da Guarda Revolucionária do Irã, e apontado como o cérebro por trás da estratégia militar e geopolítica do país. Ele era muito próximo do aiatolá Ali Khamenei e sobreviveu a diversas tentativas de assassinato nas últimas décadas.

Após o ocorrido, o presidente iraniano, Hassan Rouhani, disse que o país estará mais determinado a resistir aos EUA e previu vingança. A Casa Branca alegou que o assassinato foi para evitar uma guerra e que mais americanos fossem mortos no Oriente Médio.

Em resposta, **o Irã anunciou que não mais cumprirá o acordo nuclear de 2015** - que fixava o processo de enriquecimento em 3,6% - e que sua produção não terá mais limites.

Ato contínuo, as tropas iranianas lançam mísseis contra duas bases que abrigam tropas americanas no Iraque, mas sem deixar vítimas. No mesmo dia, no Irã, cai um Boeing 737-800 da Ukraine International Airlines, matando 167 passageiros e nove tripulantes. O Irã admitiu que o abate do avião ucraniano foi acidental. Segundo militares, a defesa antiaérea o atacou por engano durante um momento de alerta máximo, logo após o ataque a alvos americanos no Iraque.

Turquia

A Turquia está localizada entre a Europa e o Oriente Médio, posição que sempre lhe conferiu um papel estratégico e histórico relevante. O país foi o centro irradiador de poder dos impérios Bizantino (330–1453) e Otomano (1281–1918). O Islamismo é a religião de 99% da população.

Alçada à condição de grande potência emergente na primeira década do século XXI, a Turquia atualmente enfrenta grandes desafios. O país foi alvo nos últimos anos de atentados terroristas do Estado Islâmico e dos separatistas curdos; vive a tensão interna entre o secularismo e a islamização; a vizinha Síria está em guerra civil e abriga milhões de refugiados sírios, que fugiram desse conflito.

As bases da Turquia moderna começaram a ser estabelecidas com a dissolução do Império Otomano, após a derrota na I Guerra Mundial, em 1918. A crise política e econômica do pós-guerra deu origem a um movimento nacionalista liderado pelo general Mustafa Kemal, que adotou o codinome de “Ataturk”, ou “pai dos turcos”.

Ataturk aboliu o califado islâmico e separou a religião islâmica do Estado. Essa separação é chamada de secularismo. A medida provocou profundas alterações na estrutura social do país. As forças políticas acompanharam a polarização na sociedade e se dividiram entre aqueles que defendiam os valores seculares de Ataturk e os favoráveis a um papel maior da religião islâmica na vida pública.

O atual presidente, Recep Tayyip Erdogan, foi primeiro-ministro entre 2003 e 2014. Como presidente, Erdogan vem adotando uma agenda autoritária, retirando poderes do Judiciário, minando a influência dos militares no país e prendendo jornalistas críticos ao seu governo.

Nos últimos anos, as ações de Erdogan para ampliar o papel do islã na vida pública dividiram o país. De um lado, uma base de eleitores conservadores e defensores do islamismo garante suporte ao presidente. Do outro, uma classe média ocidentalizada rejeita a guinada autoritária e religiosa de Erdogan.



Como guardiões do secularismo, os militares derrubaram sucessivos governantes que tinham um perfil mais religioso, nos anos de 1960, 1971, 1980 e 1997. Essa divisão da sociedade e da política e o histórico papel do exército na defesa do secularismo ajudam a entender a tentativa de golpe militar de julho de 2016. Setores leais ao presidente Erdogan frustraram a investida dos militares de tomarem o poder.

Em referendo, realizado em abril de 2017, a Turquia aprovou a substituição do sistema parlamentarista pelo presidencialista. Previstas para 2019, as eleições para o novo sistema presidencialista foram antecipadas para junho de 2018. Erdogan foi reeleito presidente e ficará no poder até 2023, desta vez como chefe de estado e chefe de governo.

Os curdos, maior etnia do mundo sem pátria, habitam o leste do país e lutam pela independência do seu território. O principal grupo separatista é o Partido dos Trabalhadores do Curdistão (PKK), que iniciou a luta armada em 1984. Com o tempo, passaram a exigir apenas mais autonomia nas regiões onde vivem, e as negociações levaram a um cessar-fogo em 2013. Este foi rompido em 2015; o governo turco tem atacado alvos dos curdos na Síria, no Iraque e na Turquia.

Qatar

O Qatar é uma ex-colônia britânica que conquistou a sua independência em 1971. A partir daí, passou a estar na esfera de influência e de controle político da Arábia Saudita.

Em 1995, o então emir Khalifa, que reinava por mais de 20 anos, foi deposto por seu próprio filho, Hamad. O novo líder adotou uma nova política para o país. Ele queria ter mais liberdade perante a Arábia Saudita para poder se desenvolver economicamente, uma vez que o Qatar está localizado sobre a maior reserva de gás natural do mundo. Mas, ao mesmo tempo, por ser territorialmente insignificante, precisava se proteger dos sauditas.

A tática adotada pelo novo emir foi de buscar apoio de qualquer aliado que conseguisse. Entre eles estavam Israel, Irã, grupos islâmicos espalhados por países da região que não estavam no poder de seus países e, por fim, os próprios EUA. No país está sediada uma grande base militar e o comando militar central dos EUA no Oriente Médio, além de uma grande base militar da Turquia.

Ao mesmo tempo, desenvolveram a indústria de extração de gás natural e se tornaram o país com o maior PIB per capita do mundo. Com o Irã, rival da Arábia Saudita no Oriente Médio, dividem a exploração de gás natural no golfo Pérsico. Renomadas universidades europeias e norte-americanas instalaram campus universitários no país, que também vai sediar a Copa do Mundo de 2022.

Em 1996, o Qatar lançou a rede de notícias Al Jazeera, com um canal de TV via satélite fundada pelo governo, mas com produção independente. Dessa forma, passou a influenciar a opinião pública na região, uma vez que boa parte do Golfo Pérsico passou a ter acesso a uma fonte de notícias sem controle dos governos nacionais, acessível por meio de uma antena e da internet.

Com a Primavera Árabe em 2010 e as sucessivas quedas de governos na região, o Qatar passou a apoiar de forma mais incisiva os grupos árabes que buscavam tomar o poder em países com instabilidade interna, rivalizando com a Arábia Saudita, que sempre teve a mesma estratégia.



Com todo esse processo histórico, os qataris conseguiram equilibrar sua segurança interna e evitar um avanço saudita em seu território.

A Arábia Saudita e aliados (Bahrein, Egito, Iêmen, Emirados Árabes Unidos, ilhas Maldivas e um dos dois governos existentes na Líbia) romperam relações com o Qatar em julho de 2017. O argumento foi de que o país vem, há tempos, patrocinando grupos terroristas e trabalhando para desestabilizar a paz na região árabe. É uma alusão às boas relações do país com o Irã. O governo qatari se mostrou surpreso com o rompimento, que julgou ser “baseado em várias alegações fabricadas e em mentiras”.

Além da ruptura das relações diplomáticas, a maioria dos países fecharam o espaço aéreo, os acessos terrestres e marítimos, proibiram viagens de seus cidadãos ao Qatar e a entrada de cidadãos do Qatar nos seus países.



A QUESTÃO ISRAEL-PALESTINA

A Palestina, uma região historicamente disputada, corresponde aos territórios do Estado de Israel, Cisjordânia e Faixa de Gaza. Conforme a tradição Bíblica, os judeus chegam a Canaã em 2000 a.C. As duas diásporas judaicas (expulsões forçadas) levaram o povo judeu a se espalhar pelo mundo. Geralmente se atribui o início da primeira diáspora judaica ao ano de 586 a.C., quando o Imperador Nabucodonosor, da Babilônia, destrói Jerusalém e deporta os judeus para a Mesopotâmia. A segunda diáspora judaica, ocorre em 70 d.C, quando o general romano Tito destrói Jerusalém, fazendo com que os judeus se espalhem pela Ásia, Europa e África. Os árabes chegam depois, vão ocupar a Palestina em 636 d.C.

O Estado de Israel tem sua origem no sionismo (de Sion, colina da antiga Jerusalém), movimento surgido na Europa no século XIX, com objetivo de criar uma pátria para o povo judeu. Colonos judeus da Europa Central e Oriental, onde o antissemitismo (discriminação contra os judeus) era mais intenso, instalaram-se na Palestina, que tinha então população majoritariamente árabe.

O apoio internacional à criação de um Estado judaico aumentou depois da II Guerra Mundial, ao ser revelado o genocídio de cerca de 6 milhões de judeus nos campos de extermínio nazistas, o Holocausto. Em 1947, a Organização das Nações Unidas aprovou a partilha da Palestina em dois Estados – um para os judeus, com 53% do território, outro para os árabes, com 47%. A cidade de Jerusalém permaneceria sob administração internacional. Estes últimos rejeitaram o plano.

Em 14 de maio de 1948, foi criado o Estado de Israel. Imediatamente, cinco países árabes – Egito, Síria, Transjordânia (atual Jordânia), Iraque e Líbano – enviaram tropas para impedir sua fundação. Com o respaldo dos Estados Unidos e da União Soviética, Israel conseguiu derrotar esses exércitos, e a guerra se encerrou com um armistício assinado em janeiro de 1949.

O novo Estado ampliou seus domínios em relação às fronteiras originais aprovadas pela ONU. Com a vitória, Israel passou a ocupar 75% da Palestina, e mais de 700 mil árabes palestinos foram expulsos. Esses acontecimentos são lembrados até hoje por eles como a *nakba*, palavra árabe que significa “catástrofe”.

Ao fim da guerra, além da expansão de Israel, o Egito havia ocupado a Faixa de Gaza e a Transjordânia anexara Jerusalém Oriental e Cisjordânia (o nome do país passou a ser Jordânia). Com isso, os palestinos ficaram sem território, tornando-se refugiados na Cisjordânia, na Faixa de Gaza e nos países árabes vizinhos, ou migrando para longe.

Em 1967, diante da aliança militar entre Egito, Síria e Jordânia, Israel, fortemente armado pelos EUA, atacou os três países na Guerra dos Seis Dias. Passou, então, a controlar a Cisjordânia e Jerusalém Oriental, a Faixa de Gaza e a Península do Sinai (que seria devolvida ao Egito em 1982), além das Colinas de Golã, território da Síria ocupado até hoje.

A população árabe-palestina passou a lutar pela configuração de novas fronteiras e pelo reconhecimento de um Estado palestino independente. Em 1964, exilados no Líbano fundaram a Organização para a Libertação da Palestina (OLP). Em 1988, autoproclamaram seu Estado com o nome de Autoridade Nacional Palestina (ANP).



Depois de muitas guerras e duas intifadas (rebeliões palestinas), os acordos de paz assinados entre os países afirmaram a autonomia dos palestinos na Faixa de Gaza e em parte da Cisjordânia.

Os Acordos de Oslo (1993-1995), assinados entre palestinos e israelenses, com mediação dos EUA, traçaram a meta de dois Estados: um judeu (Israel) e um palestino, formado pela Faixa de Gaza e pela Cisjordânia, ambas ocupadas pelos israelenses em 1967. Definiram ainda a criação da Autoridade Nacional Palestina, como embrião do futuro Estado.

Evolução territorial

■ Área histórica da Palestina ■ Estado árabe ■ Estado judeu

1921

Domínio britânico



Sob controle britânico desde o final da I Guerra Mundial, o território árabe da Palestina recebe importante imigração de judeus. O movimento sionista se propõe a fundar um Estado judeu na região.

1947

Proposta da ONU



Após a II Guerra Mundial, a ONU aprova a proposta de partilha da região em dois Estados: um judeu e um árabe.

1948

Fundação de Israel



Ao final da Guerra de Independência, Israel ocupa a maior parte da Palestina, e os palestinos ficam sem Estado.

1967

Após a Guerra dos Seis Dias



Na Guerra dos Seis Dias, Israel derrota Egito, Síria e Jordânia e ocupa territórios vizinhos: as Colinas de Golã (Síria), a Cisjordânia (Jordânia), a Faixa de Gaza e a Península do Sinai (Egito). Em 1982, devolve o Sinai.

1993

Tratado de Oslo



Com os acordos de Oslo, os palestinos passam a ter autonomia relativa em partes da Cisjordânia e da Faixa de Gaza.

Nos primeiros anos, após a assinatura dos Acordos, houve alguns avanços na sua implementação. Posteriormente, a situação voltou a se deteriorar e a implementação dos Acordos de Oslo não se viabilizaram mais, havendo, inclusive, retrocessos.

O Estado palestino independente ainda não se concretizou e os palestinos estão separados, de Israel e entre si, em 21 enclaves. Essa situação perturbou todas as atividades econômicas, pois, decorridos mais de 70 anos, os territórios palestinos ocupados apresentam grande deterioração econômica e baixa qualidade de vida.

Apesar de ter sido considerado ilegal pela Assembleia Geral da ONU, **Israel construiu um muro na Cisjordânia com mais de 9 metros de altura, controlando a entrada de não judeus em território israelense.** Esse paredão restringe o direito de ir e vir, anexa áreas palestinas a Israel e impede a circulação normal de pessoas na cidade de Jerusalém.

Atualmente, os palestinos do Hamas (grupo mais radical, com um braço armado, fortemente hostil a Israel) controlam a faixa de Gaza, enquanto a Autoridade Palestina (menos refratária ao Ocidente e a acordos de paz com Israel) domina partes da Cisjordânia, entre elas a cidade de Belém.

Desde 1967, Israel implanta **colônias judaicas na Cisjordânia**, onde hoje vivem cerca de 500 mil judeus em mais de cem assentamentos, em meio a 3 milhões de palestinos. Israel também tem instalado **colônias judaicas no setor oriental de Jerusalém** para justificar a sua soberania sobre a área. Colonos israelenses instalam-se, expulsam os palestinos e formam povoações. **Os palestinos consideram inaceitáveis a continuidade, a ampliação dos assentamentos e o confisco de suas terras na região.**



Ponto de honra para os árabes nas negociações é o **direito ao retorno dos palestinos expulsos de Israel e seus descendentes pelas guerras** de 1948 e dos Seis Dias (1967). O governo israelense não aceita sequer debater a sua volta, pois o eventual regresso colocaria em xeque a própria existência de Israel tal como é hoje.

São mais de 5 milhões de pessoas que vivem de forma precária em campos de refugiados superpovoados. Segundo a ONU, é o maior contingente de refugiados do mundo. Os países árabes onde se situam os campos mal garantem o mínimo para sua sobrevivência. Os palestinos continuam reivindicando o retorno às antigas casas e a devolução de suas posses, mas Israel resiste em aceitar a ideia.

A questão demográfica preocupa o país, pois o número de palestinos residentes em Israel e nos territórios palestinos somados já ultrapassou o número de judeus israelenses.

Em 2012, a ONU concedeu à Palestina a condição de “Estado observador não membro”. Mais de 140 Estados, inclusive o Brasil, reconhecem o Estado da Palestina.

A questão de Jerusalém

Jerusalém é uma cidade sagrada para as três grandes religiões monoteístas do mundo: cristianismo, islamismo e judaísmo. Na parte oriental está a cidade velha que abriga o Muro das Lamentações (ruínas do antigo Templo de Salomão), local sagrado do Judaísmo; a Esplanada das Mesquitas, onde se localizam a mesquita de Al-Aqsa e o Domo da Rocha e a Igreja do Santo Sepulcro (local onde Jesus Cristo teria sido crucificado, sepultado e ressuscitado).

Segundo a tradição islâmica, na noite da destinação, Maomé foi transportado de Meca para Jerusalém, no local onde se encontra o Domo da Rocha, ascendeu aos céus, conversou com os profetas e recebeu o Alcorão. Desceu novamente ao local onde se encontra o Domo da Rocha, foi transportado para Meca e ali anunciou a nova religião. Isso faz de Jerusalém, a terceira cidade mais sagrada para o Islamismo, atrás de Meca e de Medina, na Arábia Saudita.

Os judeus denominam a Esplanada das Mesquitas de Monte do Templo, pois elas foram construídas exatamente no local onde se situava o antigo Templo de Salomão.

Após a partilha da Palestina, pela ONU, em 1948, Jerusalém foi colocada sob administração internacional. Na guerra da independência, Israel conquistou a parte ocidental da cidade. A parte oriental ficou sob o controle da Jordânia.

Em 1967, na Guerra dos Seis Dias, Israel conquistou a parte oriental da cidade. Em Jerusalém estão sediados os poderes executivo, legislativo e judiciário de Israel, que a considera como a capital eterna e indivisível dos judeus.

A ONU considera que Israel ocupa ilegalmente a totalidade de Jerusalém e orienta que nenhum país instale a sua embaixada na cidade. Os **palestinos consideram Jerusalém como a capital de um futuro Estado próprio, reivindicando para isso a parte oriental da cidade.**

Em dezembro de 2017, o então presidente dos Estados Unidos, Donald Trump, reconheceu Jerusalém como capital de Israel e anunciou a transferência da embaixada americana de Tel Aviv, primeira capital israelense,



para a cidade. A decisão dos Estados Unidos levou a muitas manifestações contrárias da comunidade internacional e da unanimidade dos países islâmicos. A embaixada, em Jerusalém, foi inaugurada em maio de 2018, no mesmo dia em que se comemorou os 70 anos de fundação do Estado de Israel.

Além dos Estados Unidos, a Guatemala, a Romênia e Honduras também transferiram a sua embaixada para Jerusalém, reconhecendo a cidade como capital de Israel.

A resistência de grupos palestinos

Desde a resolução da ONU, de 1947, da partilha da Palestina há milícias palestinas-islâmicas armadas que não aceitam a criação do Estado de Israel, os avanços territoriais de Israel e a situação a qual é submetido o povo palestino por parte do Estado israelense.

Destacam-se o Hamas e a Jihad Islâmica, de orientação sunita, baseados na Faixa de Gaza. No Líbano destaca-se o Hezbollah, de orientação xiita. Ao longo dos anos ocorreram vários conflitos armados entre o Hamas e o Estado de Israel (2008, 2012, 2014, 2018 e 2021) e a Jihad Islâmica (2022).

Em outubro de 2023, novo conflito foi deflagrado após o Hamas realizar uma ofensiva surpresa contra cidades israelenses próximas da Faixa de Gaza. Pelo menos dois mil mísseis foram disparados da Faixa de Gaza, matando pelo menos 200 israelenses. O ataque pegou os israelenses de surpresa. Os serviços de inteligência de Israel não conseguiram antecipar que uma ofensiva dessa magnitude estava sendo preparada.

Em reação ao ataque, o primeiro-ministro israelense, Benjamin Netanyahu, afirmou que Israel "está em guerra" contra o Hamas. Desde então, as forças militares de Israel têm realizado ataques frequentes a Faixa de Gaza. Israel também impôs cerco total impedindo acesso a eletricidade, comida, água e gás à região.



AFEGANISTÃO

O Afeganistão é um país localizado na Ásia central. Faz fronteira com o Paquistão ao sul e ao leste, com o Irã ao oeste, com o Turcomenistão, Uzbequistão e Tadjiquistão ao norte e com China no nordeste. Seu território é montanhoso e o país não possui conexão com o oceano. Veja sua localização na figura abaixo:



Fonte: Nexo Jornal

O Taliban é uma milícia islâmica fundamentalista, da vertente sunita. A maioria de seus membros são pashtuns, o maior grupo étnico do país. O nome Taliban significa “**estudantes**” em pashto, a língua mais falada no Afeganistão.

Suas origens estão na invasão da União Soviética ao Afeganistão, em 1979, quando, para conter o avanço do bloco socialista, os EUA financiaram milícias religiosas islâmicas, denominados **mujahedin**, para combater os invasores. Combatentes deste período fundaram a milícia armada em 1994, que chegou ao poder em 1996, ao conquistar a capital, Cabul.



No poder, o Taliban instituiu um rígido regime, baseado em uma versão radical da **Sharia**, a lei islâmica. As mulheres não tinham permissão para trabalhar ou estudar e deveriam ficar confinadas em casa. Elas só poderiam sair se estivessem acompanhadas de um homem. Era obrigatório o uso da burca, cobrindo todo o corpo, da cabeça aos pés, e mulheres acusadas de adultério eram apedrejadas na rua. O Talibã também proibiu música, filmes, televisão e livros.

O Taliban deu abrigo e proteção à rede terrorista **Al Qaeda**, liderada por **Osama bin Laden**. Ofereceu porções de seu território para o estabelecimento de campos de treinamento para guerrilheiros e refúgio para terroristas do grupo.

Em 11 de setembro de 2001, a Al Qaeda realiza os atentados às torres gêmeas do World Trade Center, em Nova York, e ao Pentágono, em Washington, deixando centenas de mortos e milhares de feridos.

Com a recusa do governo do Taliban em entregar Osama Bin Laden, em resposta aos atentados terroristas, o presidente americano, George W. Bush, com apoio internacional, inicia a chamada “guerra ao terror” e invade o Afeganistão, ainda no ano de 2001.

A ação resultou na derrubada do Taliban, e o grupo passou a agir como insurgente desde então. **Bin Laden foi morto em 2011, no Paquistão, em uma ação de forças especiais dos Estados Unidos**. Mas a ocupação estrangeira foi incapaz de derrotar o grupo, que seguiu controlando regiões do interior do país e enfrentando os americanos.

Em 2020, após 19 anos de conflito armado, os EUA (governo Donald Trump) e o Taliban assinaram um acordo de paz em Doha, no Catar, que estabeleceu a retirada progressiva das tropas norte-americanas do país. Em contrapartida, o Taliban deveria interromper suas conexões com grupos terroristas internacionais e impedir que eles utilizem o Afeganistão para realizar ataques contra os EUA.

A Guerra do Afeganistão foi o mais longo conflito militar em que os EUA estiveram envolvidos. No auge da sua presença, mais de 100 mil militares americanos lutavam no país. Estima-se que morreram no conflito 65 mil membros das forças de segurança afegãs, 3.500 da coalizão dos EUA, 72 mil combatentes do Taliban e aliados e 38 mil civis afegãos. Estima-se também que os Estados Unidos gastaram mais de 2 trilhões de dólares no Afeganistão nos últimos 20 anos. O valor é maior que o PIB do Brasil (câmbio de abril de 2021).

Pelo acordo, a saída total das tropas estava prevista para até 1º de maio de 2021, mas foi adiada para 11 de setembro de 2001, coincidindo com a lembrança simbólica dos 20 anos dos bárbaros atentados terroristas. Por fim, as últimas tropas deixaram o país em 30 de agosto de 2021, encerrando a mais longa guerra dos Estados Unidos.

À medida que as tropas estrangeiras foram deixando o país, o Taliban foi avançando. Em poucos meses, conquistou grande parte do território afegão. O exército nacional ofereceu pouca resistência. No dia 15 de agosto de 2021, chegou na capital, Cabul, e retomou o poder no país.

O retorno do Taliban ao poder levou dezenas de milhares de pessoas a fugirem do Afeganistão. O ex-presidente, Ashraf Ghani, também deixou o país.

No poder, o Taliban declarou que o Afeganistão passa a se chamar **Emirado Islâmico do Afeganistão**, mesmo nome adotado pelo grupo fundamentalista quando assumiu o poder pela primeira vez, em 1996. A



lei será a Sharia, sistema jurídico baseado no Alcorão. Mas apresentou um discurso mais moderado, afirmando que os direitos das mulheres serão respeitados dentro do código religioso, que buscará inserir mulheres no poder e dialogar com outros países de forma diplomática. Contudo, tem perseguido opositores e jornalistas.

A retirada dos Estados Unidos do país mudará completamente a geopolítica do Afeganistão e da região. O **vácuo de poder** deixado pelos americanos no país abre o caminho para China e Rússia ampliarem a sua influência na Ásia Central. A China sinalizou o reconhecimento à tomada de poder pelo Taliban e anunciou que está disposta a manter “relações amistosas” com o grupo, desde que não apoiem de nenhuma forma os separatistas islâmicos uigures de Xingiang, na fronteira com o Afeganistão.





TERRORISMO

O **terrorismo** é o uso de violência física ou psicológica, por meio de ataques localizados a elementos ou instalações de um governo ou da população governada, de modo a incutir medo, terror, e, assim, obter efeitos psicológicos que ultrapassem largamente o círculo das vítimas, alargando-se para a população do território.

Contudo, não há uma definição ou conceito único de terrorismo. A Organização das Nações Unidas, por exemplo, define o terrorismo da seguinte forma:

“Atos criminosos pretendidos ou calculados para provocar um estado de terror no público em geral [...]”.

(Declaração sobre Medidas para Eliminar o Terrorismo Internacional - Resolução nº 49/60 da Assembleia Geral).

Dessa forma, de acordo com a definição ONU, para que se possa diferenciar uma ação terrorista de outras ações violentas, é preciso analisar o contexto geral em que tal ação foi tomada. Geralmente, terroristas não têm como finalidade atingir as vítimas diretas de seus ataques. O que realmente importa é que o ato seja chocante o suficiente para aterrorizar o resto da sociedade, movimentando a imprensa, as redes sociais e os órgãos governamentais.

No final das contas, um ato terrorista serve como uma vitrine para grupos terroristas se promoverem, mostrarem força e desafiar seus inimigos. O grupo terrorista consegue, dessa forma, chamar atenção para suas causas políticas, que geralmente são bastante radicais.

De maneira semelhante, o governo dos Estados Unidos também traz uma definição explícita do considera terrorismo: “[...] violência premeditada e politicamente motivada, perpetrada contra alvos não-combatentes e praticada por grupos ou agentes clandestinos, normalmente com a intenção de influenciar um público”. Ou seja, os ataques terroristas teriam alguns fatores em comum, que seriam:

Premeditação: são planejados previamente pelos seus perpetradores;

Fim político: o grupo pretende causar algum efeito político, como motivar governantes a fazerem ou deixarem de fazer alguma coisa;

Vítimas são civis: atos terroristas não acontecem em campo de batalha, onde conflito e violência já são esperados; o terrorismo ocorre de maneira inadvertida em espaços públicos de grande circulação (prédios, praças, shoppings, voos comerciais, aeroportos, boates etc.);

Grupos são clandestinos: os grupos políticos que realizam ataques terroristas existem sem reconhecimento e respaldo legal: não são partidos políticos, entidades governamentais, intergovernamentais. Normalmente são grupos que procuram justamente derrubar governos ou até mesmo a ordem internacional;

Objetivo é obter audiência: o ato terrorista serve tanto para aterrorizar a população quanto para convencer outras a aderirem às causas do grupo.



Outra forma de terrorismo é o **terrorismo de Estado**, que consiste em um regime de violência instaurado por um governo, em que o grupo político que detém o poder se utiliza do terror como instrumento de governabilidade. Caracteriza-se pelo uso da máquina de repressão do Estado como organização criminosa, restringindo os direitos humanos e as liberdades individuais.

Na segunda metade do século XX, em muitos países da América Latina, chegaram ao poder ditaduras militares que estabeleceram regimes de exceção com restrições democráticas aos direitos humanos e às liberdades individuais. Contra esses regimes, levantaram-se oposições civis e grupos armados. Como método de dissuasão e combate às oposições, os regimes autoritários muitas vezes se utilizaram do terrorismo de Estado. Alguns especialistas apresentam como exemplo de terrorismo de Estado a atuação do DOPS durante a ditadura militar brasileira, cuja tortura e acúmulo sistemático de informações sobre cidadãos considerados suspeitos de subversão potencializaram um processo de terror.

Por outro lado, a segunda metade do século XX também foi pródiga no surgimento e na atuação de grupos guerrilheiros e terroristas na América Latina que utilizavam métodos violentos – como sequestros, assassinatos e atentados à bomba - para o enfrentamento aos governos que se opunham.

Historicamente, atos que seriam tidos como terroristas foram considerados heroicos quando associados à luta contra a opressão ou pela libertação nacional. É o caso da Resistência Francesa, que lutou contra a ocupação nazista na II Guerra Mundial (1939-1945).

A retórica da “guerra ao terror” do ex-presidente norte-americano George W. Bush levou muitos a associarem o terrorismo ao islamismo. Na verdade, há **grupos fundamentalistas** em todas as religiões. São os que enxergam nos textos sagrados de sua crença a orientação para a organização do Estado e da sociedade. É uma posição que recusa a democracia e se opõe à perspectiva adotada pela Revolução Francesa (1789) de separação entre religião e Estado.

O **terrorismo islâmico** é uma forma de terrorismo religioso cometido por extremistas islâmicos. Fundamenta-se numa leitura dogmática e literal de trechos do Alcorão, o livro sagrado do Islã. São grupos armados que não contam com o apoio e a adesão da maioria da população islâmica. É um erro associar mecanicamente o Islã ao fenômeno do terror político contemporâneo.

O fundamentalismo islâmico é a fonte inspiradora de vários grupos armados do mundo islâmico, que lutam pela tomada do poder nos países em que atuam. Os mais conhecidos são a Al-Qaeda, o Estado Islâmico e o Boko Haram.

O terrorismo, por definição e por sua própria natureza, não aceita o contrário e, em vez de assumir o confronto de ideias, parte para a eliminação do adversário, considerado como um inimigo irreconciliável. Os valores democráticos caracterizam-se como o oposto dessa visão autoritária e estreita do terrorismo.

Na esfera internacional e no âmbito interno dos países, o terrorismo pode ser combatido pelo uso rigoroso e firme de mecanismos legais de repressão e pela cooperação internacional.

O uso de mecanismo legais de repressão deve ocorrer no âmbito do estado de direito, com a preservação de direitos humanos e democráticos da população dos países. A cooperação internacional propicia a realização de um esforço conjunto entre países e organismos internacionais, com vistas ao aperfeiçoamento dos



mecanismos de segurança e inteligência internacional, para que se tenham melhores condições de êxito na luta contra o terrorismo.

Por fim, cabe destacar o papel da opinião pública, que, por diversas formas, tem se posicionado frontalmente contrária às ideias, atos e atitudes de organizações terroristas.



RESUMO

Islamismo

Ao lado do Cristianismo e do Judaísmo, o **Islamismo** é uma das três grandes religiões monoteístas, ou seja, que acreditam na existência de um único Deus. **Alá** (Allah, Deus em árabe). Livro sagrado: Alcorão. Seguidores da religião são conhecidos como **muçulmanos**.

Divisão em dois grandes ramos, **sunitas** e **xiitas**, remonta ao século VII e tem origem na disputa sobre a sucessão do profeta. Nos séculos seguintes, essa divisão passou a incluir também agravos e diferenças teológicas. Sunitas defendiam que o chefe do Estado muçulmano (califa) deveria reunir virtudes como honra, respeito pelas leis e capacidade de trabalho, porém, não achavam que ele deveria ser infalível ou impecável em suas ações. São a grande maioria, mais de 80% dos muçulmanos no mundo.

Xiitas defendiam que a chefia do Estado muçulmano só poderia ser ocupada por alguém que fosse descendente do profeta Maomé ou que possuísse algum vínculo de parentesco com ele. São maioria apenas no Irã, Iraque e Azerbaijão; nos dois primeiros, os presidentes são dessa ramificação. Alauítas são uma variação moderada dos xiitas, presentes, sobretudo na Síria, tendo o presidente Bashar al-Assad como um dos seus seguidores.

Mundo Árabe

Região de maioria étnica árabe e religião islâmica, remanescentes do grande Império Árabe. Sua área vai do oceano Atlântico ao golfo Pérsico, abrangendo o norte da África e boa parte do Oriente Médio.

Oriente Médio

Região que faz parte da Ásia, com muito petróleo e pouca água. Integra Irã e Turquia, com populações islâmicas não árabes, e Israel, país judeu. Os curdos habitam vários países do Oriente Médio, região onde também vivem várias minorias, como os assírios e os caldeus. Irã (persas e xiitas) e Arábia Saudita (árabes e sunitas) são rivais, disputam hegemonia e influência na região.

Primavera Árabe

Revoltas em países de população com maioria árabe e com regimes autoritários, teve como resultado a deposição dos ditadores da Tunísia, Egito, Líbia e Iêmen. Na Síria, a revolta se transformou em uma sangrenta guerra civil. Tunísia é o único país em que a revolta popular alcançou o objetivo da democracia.

Fundamentalismo Islâmico

Contrário ao Estado democrático e laico, buscam o Estado teocrático, onde o chefe do Estado é o líder religioso supremo. Defende a implantação da **Sharia** – o conjunto de leis e códigos de conduta extraídos do Alcorão e da Suna. Fonte inspiradora de vários grupos armados e terroristas do mundo islâmico, que lutam pela tomada do poder nos países em que atuam, como Al-Qaeda, Estado Islâmico, Boko Haram, Al-Shabaab e Taleban.



Al Qaeda - Fundada pelo saudita Osama bin Laden. Realizou os famosos atentados terroristas de 11 de setembro de 2001 nos Estados Unidos. A morte de Bin Laden por uma equipe da Marinha dos EUA, em 2011, enfraqueceu o grupo.

Estado Islâmico - O Estado Islâmico chegou a conquistar vastas áreas da Síria e Iraque. Foi derrotado nesses dois países, onde praticamente não controla mais nenhum território. Realizou ataques terroristas em países europeus, nos Estados Unidos e em outros continentes. O autoproclamado califa do grupo, Abu Bakr al-Baghdadi, morreu durante uma operação militar dos Estados Unidos, na província de Idlib, na Síria, em 27 de outubro de 2019.

Boko Haram - Boko Haram significa "educação ocidental é pecado". Atua na Nigéria e realiza incursões no Chade, Níger e Camarões. Criado na Nigéria, pratica atos de violência com o objetivo de impor nesse país uma versão mais radical da Sharia (a lei islâmica), que veta a adoção de vários aspectos da cultura ocidental, como a educação laica.

Al-Shabaab - Atua na Somália, é mais um grupo que realiza bárbaros atentados terroristas em nome da sua interpretação radical do Islã e da imposição de uma versão rígida da sharia.

Taleban - Surgiu no Paquistão Estiveram no poder no Afeganistão, de 1996 a 2001. Os Estados Unidos lideraram uma força internacional que combateu a milícia e os retirou do poder. Apesar disso, o Taleban existe até hoje, controla territórios no Afeganistão e realiza bárbaros atentados terroristas no país.

Guerra Civil na Síria

Começou como um levante pacífico contra o regime do presidente Bashar al-Assad, em 2011. As manifestações se sucederam, sendo duramente reprimidas pelo governo. Com o tempo, a disputa adquiriu contornos sectários e religiosos, opondo muçulmanos sunitas (maioria da população síria) a alauítas, ramo do islamismo xiita ao qual pertence Assad.

Participam do conflito o Governo Sírio, grupos armados da oposição moderada, extremistas islâmicos e curdos. Além da Rússia, Irã, Hezbollah, países árabes, Turquia, Estados Unidos e alguns países europeus. O governo da Síria é apoiado pela Rússia, pelo Irã e pelo grupo xiita libanês Hezbollah. Os EUA e países europeus se posicionam contra Assad e apoiam grupos armados da oposição moderadas e curdos. A Arábia Saudita e países árabes de maioria sunita apoiam grupos de oposição ao regime sírio. Os curdos mantêm neutralidade no conflito, combateram e derrotaram seu principal inimigo, o Estado Islâmico. O interesse dos curdos é a criação de um país independente. A Turquia apoia grupos de oposição ao regime e combate os curdos.

A intervenção estrangeira é um fator chave para a longevidade da guerra que se encaminha para uma vitória do regime da Bashar al-Assad, que exerce o controle de grande parte do território sírio. O Estado Islâmico foi derrotado. O apoio da Rússia tem sido determinante para a vitória do regime sírio. Grupos de oposição estão enfraquecidos, mas ainda controlam algumas áreas do país.

Iraque

País instável, mergulhado em disputas políticas e religiosas. A maioria da população é composta por muçulmanos xiitas, com uma minoria sunita. Curdos habitam o nordeste do país e almejam independência. O governo, de maioria xiita, privilegia este segmento da população, o que acirra as tensões com os sunitas e curdos.

Em 2003, os EUA invadiram o país e depuseram Saddam Hussein, permanecendo ali com suas tropas até 2011, quando se retiraram. Em 2016, voltaram ao país para combater o Estado Islâmico, que havia



conquistado vastas áreas do território iraquiano em 2014 e 2015. Com apoio dos curdos iraquianos, milícias xiitas e sunitas, o Estado Islâmico foi derrotado.

As tropas norte-americanas permaneceram no país, mas, com o assassinato do general iraniano Qassem Soleimani, em 2020, o Iraque exigiu sua retirada. Os EUA responderam, ameaçando impor sanções econômicas ao país. No fim, chegaram a um acordo para manter tropas no país.

Curdistão

Curdos são a maior etnia sem Estado no mundo. Habitam uma área contínua que abrange territórios da Turquia, do Iraque, da Síria, do Irã, da Armênia e do Azerbaijão. São muçulmanos sunitas moderados. A construção do seu próprio país é um histórico desejo dos curdos.

Em busca de sua autonomia, atuam em várias frentes armadas, principalmente na Síria e na Turquia. No Iraque e na Síria, ajudaram a combater o Estado Islâmico, dando mais força à ideia de um Estado independente. O curdistão iraquiano é uma região com grande autonomia.

Iêmen

País pobre, localizado na fronteira com a Arábia Saudita, que é assolado por uma guerra civil desde 2014. A população é dividida em 56% de sunitas e 44% de xiitas. No conflito atual, opõe-se, de um lado, os rebeldes houthis (xiitas), apoiados pelo Irã, e do outro, grupos ligados ao atual presidente Abdrabbuh Mansour Hadi, apoiado pela Arábia Saudita. A disputa de poder no Iêmen inclui também tribos sunitas, a Al-Qaeda e até o Estado Islâmico.

A Arábia Saudita lidera uma aliança de países sunitas que combate os houthis.

Irã

País de vertente xiita, posiciona-se frontalmente contra Israel e é aliado do regime sírio de Bashar al-Assad, exercendo também influência sobre partidos xiitas que estão no governo do Iraque. Dessa forma, busca formar um arco xiita de poder, centrado na oposição a Israel e às monarquias sunitas do Golfo Pérsico, como a Arábia Saudita.

Em 2015, o Irã e o grupo de países denominado de 5+1 (EUA, França, Reino Unido, Rússia e China + Alemanha) chegaram a um acordo sobre o seu programa nuclear. O acordo limitou e condicionou o programa, de forma que não fosse possível ao Irã desenvolver armas nucleares, em troca da retirada das sanções internacionais que asfixiavam a economia iraniana.

Em 2018, Donald Trump retirou os EUA do acordo e retomou as sanções econômicas ao Irã em seu mais alto nível. Os demais países e o Irã continuam no acordo. Porém, a economia iraniana tem sofrido com as sanções econômicas americanas. O país, em função disso, tem crescentemente violado restrições constantes no acordo sobre o seu programa nuclear.

O ano de 2019 foi marcado por elevação das tensões entre o Irã e os EUA, com diversas acusações e movimentos militares de ambos os lados, gerando temores sobre a deflagração de uma guerra direta entre os dois países.

Os EUA culpam o Irã pela danificação de quatro navios petroleiros no Golfo de Omã, pelo abate de um drone estadunidense, e por ataques a instalações petrolíferas sauditas, além do ataque a uma base estadunidense no Iraque que matou um funcionário terceirizado das forças armadas norte-americanas.



Em resposta, a derrubada do drone militar, realizaram um ataque cibernético que derrubou computadores militares do Irã. O país também realizou ataques que mataram 24 pessoas em bases de uma milícia xiita pro-Irã no Iraque e na Síria.

Em janeiro de 2020, por ordem de Donald Trump, um ataque com drones assassinou o general **Qasem Soleimani**, perto do aeroporto da capital iraquiana, Bagdá. Qasem era o grande cérebro por trás da estratégia militar e geopolítica do Irã, e muito próximo do aiatolá Ali Khamenei. O Irã respondeu ao assassinato prometendo vingança, e anunciou **que não mais cumprirá o acordo nuclear de 2015** - que fixava o processo de enriquecimento em 3,6% - e que sua produção não terá mais limites.

Turquia

País de grande maioria islâmica e alçada à condição de grande potência emergente na primeira década do século XXI, a Turquia atualmente enfrenta grandes desafios. Nos últimos anos, as ações de Erdogan (atual presidente e ex-primeiro ministro) para ampliar o papel do islã na vida pública dividiram o país. De um lado, uma base de eleitores conservadores e defensores do islamismo garante suporte ao presidente. Do outro, uma classe média ocidentalizada rejeita a guinada autoritária e religiosa de Erdogan.

Erdogan vem adotando uma agenda autoritária, retirando poderes do Judiciário, minando a influência dos militares no país e prendendo jornalistas críticos ao seu governo. Em 2016, os militares tentaram derrubar o governo de Erdogan, mas o golpe fracassou.

Em 2017, a Turquia aprovou a substituição do sistema parlamentarista pelo presidencialista. Erdogan foi reeleito presidente e ficará no poder até 2023, desta vez como chefe de estado e chefe de governo.

Os curdos habitam o leste do país e lutam pela independência do seu território. O governo turco tem atacado alvos dos curdos na Síria, no Iraque e na Turquia.

Qatar

País que esteve por muito tempo sob influência e controle político da Arábia Saudita, o Qatar desenvolveu uma milionária indústria de extração de gás natural, que alavancou o crescimento econômico do país que possui o maior PIB per capita do mundo.

A Arábia Saudita e alguns países aliados romperam relações com o Qatar em julho de 2017. O argumento foi de que o país vem, há tempos, patrocinando grupos terroristas e trabalhando para desestabilizar a paz na região árabe. É uma alusão às boas relações do país com o Irã. O governo qatari se mostrou surpreso com o rompimento, que julgou ser “baseado em várias alegações fabricadas e em mentiras”.

Além da ruptura das relações diplomáticas, a maioria dos países fecharam o espaço aéreo, os acessos terrestres e marítimos, proibiram viagens de seus cidadãos ao Qatar e a entrada de cidadãos do Qatar nos seus países.



RESUMO

A questão Israel-Palestina

Em 1947, a (ONU) aprovou a partilha da Palestina em dois Estados – um para os judeus, com 53% do território, outro para os árabes, com 47%.

Em 14 de maio de 1948, foi criado o Estado de Israel. Cinco países árabes – Egito, Síria, Transjordânia (atual Jordânia), Iraque e Líbano – combateram o nascente Estado judeu. Israel venceu a guerra e se expandiu territorialmente passando a ocupar 75% da Palestina. Além disso, ao fim da guerra, o Egito e a Transjordânia ocuparam às áreas palestinas. Com isso, os palestinos ficaram sem território, tornando-se refugiados na Cisjordânia, na Faixa de Gaza e nos países árabes vizinhos, ou migrando para longe.

Em 1967, na Guerra dos Seis Dias, Israel passa a controlar a Cisjordânia, Jerusalém Oriental e a Faixa de Gaza. Com os palestinos deteriorados e divididos, a população árabe-palestina passou a lutar pela configuração de novas fronteiras e pelo reconhecimento de um Estado palestino independente. Em 1988, proclamaram seu Estado com o nome de Autoridade Nacional Palestina (ANP).

Depois de muitas guerras e duas intifadas (rebeliões palestinas), os acordos de paz (1993-1995) assinados entre Israel e a ANP traçaram a meta de dois Estados: um judeu (Israel) e um palestino, formado pela Faixa de Gaza e pela Cisjordânia. A implementação do acordo teve um sucesso inicial, mas fracassou posteriormente. O Estado palestino independente ainda não se concretizou e os palestinos estão separados, de Israel e entre si, em 21 enclaves que apresentam grande deterioração econômica e baixa qualidade de vida.

O Hamas controla a faixa de Gaza e a ANP, partes da Cisjordânia.

Nos últimos anos, a perspectiva de “dois Estados” é a que tem guiado as negociações de paz. Na prática, porém, não houve avanços. O atual governo israelense defende posições que os palestinos consideram inaceitáveis, como a continuidade e a ampliação dos assentamentos israelenses na Cisjordânia.

Outro problema é sobre o status da cidade de Jerusalém. Os palestinos defendem que a parte oriental da cidade, ocupada pelos israelenses desde 1967, seja a capital de seu futuro Estado. Israel não aceita essa divisão, reivindicando a cidade inteira como a sua própria capital.

Em dezembro de 2017, o então presidente dos Estados Unidos, Donald Trump, reconheceu Jerusalém como capital de Israel e anunciou a transferência da embaixada americana de Tel Aviv, primeira capital israelense, para a cidade. A embaixada, em Jerusalém, foi inaugurada em maio de 2018, no mesmo dia em que se comemorou os 70 anos de fundação do Estado de Israel.

Devido a todas essas divergências entre Israel, os palestinos e países árabes próximos, com regularidade ocorrem conflitos bélicos entre Israel e milícias armadas hostis, como o Hamas e a Jihad Islâmica.



RESUMO

Afeganistão

O Taliban é uma milícia islâmica fundamentalista, da vertente sunita. Foi fundado em 1994 e chegou ao poder em 1996, ao conquistar a capital, Cabul. No poder, o Taliban instituiu um rígido regime, baseado em uma versão radical da **Sharia**, a lei islâmica e deu abrigo e proteção à rede terrorista **Al Qaeda**, liderada por **Osama bin Laden**, que realizou os ataques terroristas de 11 de setembro de 2001.

Em resposta aos atentados terroristas, os Estados Unidos (governo George W. Bush) invadiram o Afeganistão e retiraram o Taliban do poder. **Bin Laden foi morto em 2011, no Paquistão, em uma ação de forças especiais dos Estados Unidos**. Mas a ocupação estrangeira foi incapaz de derrotar o grupo, que seguiu controlando regiões do interior do país e enfrentando os americanos.

Em 2020, os EUA (governo Donald Trump) e o Taliban assinaram um acordo de paz que estabeleceu a retirada progressiva das tropas norte-americanas do país. Em contrapartida, o Taliban deveria interromper suas conexões com grupos terroristas internacionais e impedir que eles utilizem o Afeganistão para realizar ataques contra os EUA.

Pelo acordo, a saída total das tropas estava prevista para até 1º de maio de 2021, mas foi adiada para 11 de setembro de 2021, coincidindo com a lembrança simbólica dos 20 anos dos bárbaros atentados terroristas.

À medida que as tropas estrangeiras foram deixando o país, o Taliban foi avançando. Em poucos meses, conquistou grande parte do território afegão. O exército nacional ofereceu pouca resistência. No dia 15 de agosto de 2021, chegou na capital, Cabul, e retomou o poder no país.

O retorno do Taliban ao poder levou dezenas de milhares de pessoas a fugirem do Afeganistão. O ex-presidente, Ashraf Ghani, também deixou o país.

No poder, o Taliban declarou que o Afeganistão passa a se chamar **Emirado Islâmico do Afeganistão**, e a lei será a Sharia, sistema jurídico baseado no Alcorão.

Com a saída das últimas tropas, em 30 de agosto de 2021, encerrou-se a mais longa guerra dos Estados Unidos.



RESUMO

Terrorismo

Constitui-se no uso de violência física ou psicológica, por meio de ataques localizados a elementos ou instalações de um governo ou da população governada, de modo a incutir medo, terror, e, assim, obter efeitos psicológicos que ultrapassem largamente o círculo das vítimas, alargando-se para a população do território.

Definição da ONU: atos criminosos pretendidos ou calculados para provocar um estado de terror no público em geral. Um ato terrorista serve como uma vitrine para grupos terroristas se promoverem, mostrarem força e desafiarem seus inimigos. O grupo terrorista consegue, dessa forma, chamar atenção para suas causas políticas, que geralmente são bastante radicais.

Terrorismo de Estado - regime de violência instaurado por um governo, em que o grupo político que detém o poder se utiliza do terror como instrumento de governabilidade. Repressão e restrição das liberdades individuais.

Terrorismo islâmico - terrorismo religioso cometido por extremistas islâmicos. Fundamenta-se numa leitura dogmática e literal de trechos do Alcorão, o livro sagrado do Islã.

O terrorismo, por definição e por sua própria natureza, não aceita o contrário e, em vez de assumir o confronto de ideias, parte para a eliminação do adversário, considerado como um inimigo irreconciliável. Os valores democráticos caracterizam-se como o oposto dessa visão autoritária e estreita do terrorismo.



QUESTÕES COMENTADAS – ISLAMISMO, MUNDO ÁRABE E ORIENTE MÉDIO – MULTIBANCAS

(QUADRIX/CRP-18/2022) Julgue os itens a seguir, referentes a aspectos do mundo atual.

1. Ataques aéreos russos continuam a atingir o território sírio, pela ajuda que Vladimir Putin vem dando ao seu aliado, o presidente Bashar al-Assad, contra os rebeldes que lutam para derrubar o governo sírio.

COMENTÁRIOS:

A Rússia vem realizando ataques aéreos na Síria desde 2015, ajudando seu aliado, o presidente Bashar al-Assad, a recuperar território de rebeldes e grupos extremistas.

Mesmo estando envolvida em uma guerra contra a Ucrânia, a Rússia continua a realizar ataques contra grupos rebeldes.

Gabarito: Certo

2. A guerra em curso no Iêmen opõe forças no Oriente Médio: de um lado, encontram-se Irã e Arábia Saudita, que se aliaram contra o governo sunita, que está no outro lado da disputa.

COMENTÁRIOS:

O Iêmen está em uma guerra civil desde 2014. É um dos conflitos mais longos e sangrentos da atualidade, que, contudo, tem sido muito pouco noticiado pelo mundo. Por isso, a guerra no Iêmen costuma ser conhecida como “a guerra esquecida”.

No conflito em curso, opõe-se, de um lado, os rebeldes houthis (xiitas) apoiados pelo Irã, e, de outro, grupos ligados ao presidente Abdrabbuh Mansour Hadi, apoiados pela Arábia Saudita.

O Iêmen tem sido mais uma das frentes por onde as disputas geopolíticas entre Irã e Arábia Saudita tem se manifestado no Oriente Médio.

Gabarito: Errado

3. Grupos da jihad islâmica extremista ainda são encontrados na África, onde há a tentativa de controle regional em diferentes países do continente.

COMENTÁRIOS:

O termo jihad é utilizado para descrever o dever dos muçulmanos de disseminar a fé muçulmana, além de indicar a luta pelo desenvolvimento espiritual.

Ao contrário do que muitas vezes se diz, jihad não significa uma guerra santa, envolve mais uma luta interna com o objetivo de melhorar o próprio indivíduo ou o mundo à sua volta.



O conceito de jihad tem dois significados para a religião muçulmana: a luta pela melhoria pessoal, sob as leis do islamismo, e a luta em busca de uma melhor humanidade, por meio da difusão da influência do islamismo e com o esforço que os muçulmanos fazem para levar a religião islâmica para um maior número de pessoas.

Existem grupos extremistas islâmicos que usam métodos violentos para transmitirem as suas ideias, mas esse não é o conceito original de jihad. Para esses, a “jihad islâmica” é uma guerra santa islâmica, em que a luta violenta é necessária para erradicar obstáculos para a restauração da lei de Deus na Terra e para defender a comunidade muçulmana.

Exemplos de grupo jihadistas extremistas são o Estado Islâmico e a Al Qaeda.

Na África, onde grande parte das sociedades é pobre e fragilizada, grupos jihadistas encontram um terreno fértil para se expandir, e têm travado combates e realizado atentados em busca de controle regional. Dois grupos bastante ativos nesse sentido são o Al Shabbab e o Boko Haram.

Gabarito: Certo

4. (CESGRANRIO/BASA/2022 - TÉCNICO BANCÁRIO) Considere o texto a seguir sobre a conjuntura na Síria.

Khalid, de 47 anos, aponta com dor o seu único rim, com apenas 70% de função. Ele está escondido em uma vala no meio do mato, junto com outros três sírios, Kassem, Nassir e Abdelrahman. Esta é a parte polonesa da floresta de Bialowieza, compartilhada com Belarus, uma área frondosa de 150.000 hectares que se tornou o corredor de passagem predileto para milhares de migrantes sírios que atravessam ilegalmente a fronteira entre os dois países nas últimas semanas. Os quatro procedem de Damasco, em seu quinto dia de caminhada pela floresta, tentando se guiar com o GPS do celular para ir na direção dos Países Baixos e Alemanha.

Disponível em: <https://brasil.elpais.com/internacional/2021-11-17/quatro-sirios-escondidos-em-uma-vala-na-floresta-da-polonia-tudo-o-que-eu-quero-e-chegar-a-alemanha.html>. Acesso em: 20 nov. 2021. Adaptado.

Os quatro migrantes escaparam de seu país de origem devido ao seguinte fator conjuntural:

- (A) um movimento separatista que ataca os muçulmanos.
- (B) um acordo de paz que foi rompido com a União Europeia.
- (C) uma intervenção militar estrangeira que decretou estado de sítio.
- (D) uma revolução religiosa que expulsou os islâmicos do país.
- (E) uma guerra civil que se prolonga no país há 10 anos.

COMENTÁRIOS:



Os quatro migrantes são originários da Síria, conforme mencionado pelo enunciado. O país vive uma situação de guerra civil que já se prolonga por mais de 10 anos. O conflito começou como um levante pacífico contra o regime do presidente Bashar al-Assad, em março de 2011.

Por causa da guerra, mais de 5 milhões de pessoas tiveram que fugir do país. Os refugiados foram principalmente para a Turquia, para o Líbano e para a Jordânia. Uma menor parcela busca refúgio na Europa, o que tem pressionado o bloco no debate de como acolhê-los.

Belarus é um país vizinho à Polônia, à Ucrânia e à Rússia. É um grande aliado da Rússia, sendo governada por Aleksandr Lukashenko, desde 1994, que é considerado o último ditador da Europa. O episódio mencionado na questão decorreu de Belarus estar incentivando que migrantes viessem de países em conflito da Ásia para ingressarem na União Europeia de forma irregular. O objetivo era o de gerar tensão sobre esse tema delicado no bloco europeu, resistente em receber migrantes de países pobres e não europeus.

Gabarito: E

5. (QUADRIX/CREFONO 4ª REGIÃO/2021 – FONOAUDIÓLOGO FISCAL) Ao ser desbancado de sua posição de fonte geradora de energia, o petróleo acabou por propiciar algo até então inimaginável: a plena estabilidade política do Oriente Médio, com o fim dos conflitos na região e a resolução do histórico problema palestino.

COMENTÁRIOS:

O petróleo continua sendo a fonte energética mais utilizada no mundo. Também não se verifica plena estabilidade política no Oriente Médio. Na região, desenrolam-se uma série de conflitos, com grande destaque para o histórico problema palestino.

Gabarito: Errado

6. (VUNESP/PREFEITURA DE FERRAZ DE VASCONCELOS/GUARDA MUNICIPAL – 2020) Um bombardeio ao aeroporto de Bagdá, no dia 2 de janeiro, matou Qassem Soleimani, um dos homens mais poderosos do país. O Pentágono confirmou que o ataque foi realizado por ordem do presidente e culpou Soleimani por mortes no Oriente Médio. No dia 7 de janeiro, o funeral do general Soleimani levou uma multidão de pessoas às ruas de Kerman.

(G1. <https://cutt.ly/NfRYtdJ>. Publicado em 31.01.2020. Adaptado)

O texto acima se refere às tensões militares entre

- (A) Síria e Iraque.
- (B) Irã e Estados Unidos.
- (C) Síria e Rússia.
- (D) Venezuela e Estados Unidos.
- (E) Irã e Síria.



COMENTÁRIOS:

O texto se refere às tensões militares entre Irã e Estados Unidos.

Desde que assumiu a presidência dos Estados Unidos, Donald Trump adotou uma postura agressiva contra o Irã. Em 2018, retirou os EUA do acordo nuclear com o país e retomou sanções econômica em seu mais alto nível. As tensões se elevaram entre o Irã e os Estados Unidos, após a saída norte-americana do Acordo. O ano de 2019 foi de acirramento de acusações entre as partes e movimentos militares, que quase desembocaram em um conflito bélico direto. Esses eventos contribuíram para o assassinato do general Qasem Soleimani, em janeiro de 2020, por ordem de Donald Trump, em um ataque com drones perto do aeroporto da capital iraquiana, Bagdá.

O general comandava a Força Al Quds, unidade especial da Guarda Revolucionária do Irã, e apontado como o cérebro por trás da estratégia militar e geopolítica do país. Ele era muito próximo do aiatolá Ali Khamenei e tinha sobrevivido a diversas tentativas de assassinato nas últimas décadas.

Gabarito: B

7. (VUNESP/ESEF-SP/2019 – ASSISTENTE EM ADMINISTRAÇÃO) A decisão do presidente dos Estados Unidos, Donald Trump, de retirar tropas norte-americanas do nordeste da Síria abriu caminho para uma ofensiva da Turquia contra forças curdas na região. Poucas horas depois do anúncio da medida, na segunda-feira (07.10.2019), a televisão síria registrou imagens de explosões atribuídas a militares turcos. Os curdos são uma etnia, de origem asiática, composta por cerca de 31 milhões de pessoas (estatística 2019). Como não possuem um país organizado, vivem espalhados pelos territórios de alguns países asiáticos.

(g1. Disponível em <https://glo.bo/31gWjty>. Acesso em 16.10.2019. Adaptado)

A maior concentração de curdos se encontra na Síria, Turquia,

- a) Irã e Iraque
- b) Iraque e Arábia Saudita.
- c) Irã e Afeganistão.
- d) Iraque e Paquistão.
- e) Irã e Líbano.

COMENTÁRIOS:

Os curdos habitam uma região de cerca de 500 mil km² que se estende por partes dos territórios de Irã, Iraque, Síria, Armênia, Turquia e Azerbaijão. Esta região histórico-cultural é conhecida como Curdistão. A maior concentração está no sudeste turco, vindo em seguida o Iraque, a Síria e o Irã.

Gabarito: A



8. (VUNESP/TRANSERP/2019 - AGENTE ADMINISTRATIVO) Oito civis morreram e 30 ficaram feridos em um bombardeio neste sábado contra um acampamento de deslocados no Iêmen, anunciou neste domingo uma coordenadora da ONU, sem indicar os supostos autores do ataque.

(Jornal do Brasil. 27.01.2019. Acessível em <https://bit.ly/2CVhE1g>. Adaptado)

Os ataques no Iêmen se devem

- a) às sanções aplicadas pelos EUA contra seu programa nuclear.
- b) às disputas com Omã pelas reservas de petróleo.
- c) à guerra civil que assola o país nos últimos três anos.
- d) ao conflito com a Eritreia pelo controle do mar vermelho.
- e) às ações de pirataria no Golfo de Aden.

COMENTÁRIOS:

O Iêmen é um país pobre localizado na fronteira com a Arábia Saudita que é assolado por uma guerra civil desde 2014. A população é dividida em 56% de sunitas e 44% de xiitas.

No conflito atual, opõe-se, de um lado, os rebeldes houthis (xiitas) apoiados pelo Irã, e do outro, grupos ligados ao atual presidente Abdrabbuh Mansour Hadi, apoiado pela Arábia Saudita. A disputa de poder no Iêmen inclui também tribos sunitas, a Al-Qaeda e até o Estado Islâmico.

Os ataques da notícia em questão foram realizados pelos houthis para atingir participantes de um desfile militar, leis ao presidente do país, Abdrabbuh Mansour Hadi.

Gabarito: C

(CEBRASPE/PGE-PE/2019 – ANALISTA JUDICIÁRIO) O Oriente Médio é a região de confluência de três continentes (Europa, Ásia e África), berço das primeiras civilizações (egípcia, suméria e babilônica) e das religiões monoteístas (cristianismo, judaísmo e islamismo). Além de rivalidades interimperialistas no passado, com tentativas tardias de renascimento e modernização, a região foi alvo de rivalidades também das megacorporações petrolíferas. Além disso, em pequenos Estados fracos — de fácil controle —, essa região foi afetada pela fragmentação promovida pelos ingleses e, em menor escala, pelos franceses. No século XXI, voltou a ser palco de disputas entre potências industrializadas do Atlântico Norte e em acelerada industrialização da Ásia Oriental e Meridional. Esse conjunto de países abrange o essencial do mundo árabe e muçulmano, interagindo em um único cenário histórico e geopolítico.

Paulo Fagundes Visentini. O grande Oriente Médio. Campus, 2014, p. 4-5 (com adaptações).

Tendo como referência o assunto abordado no texto, julgue os itens a seguir, dentro de um contexto geopolítico contemporâneo.



9. Em meio à tensão que envolve a guerra na Síria, o Estado iraniano é um dos principais apoiadores do regime de Bashar al-Assad.

COMENTÁRIOS:

O Irã é o país com a maior população muçulmana xiita do mundo. Na Síria, a grande maioria da população é sunita, mas o presidente Bashar al-Assad é um alaúita, uma das divisões dos xiitas, o que faz com que seu governo seja apoiado pelo Irã.

O estado iraniano e a Rússia são os principais apoiadores do regime de Assad.

Gabarito: Certo

10. A instabilidade vivida no Iraque, na Síria e na Jordânia tem causado o avanço territorial do grupo extremista Estado Islâmico no Oriente Médio.

COMENTÁRIOS:

O grupo extremista Estado Islâmico (EI) havia conquistado extensos territórios no Iraque e na Síria, mas foi duramente combatido e expulso de todas as áreas que ocupou e onde proclamou o seu Califado islâmico. Na Jordânia, o EI não conquistou territórios, apesar de ter realizado atentados terroristas. A Jordânia foi, inclusive, membro da coalizão internacional liderada pelos Estados Unidos que combateu o Estado Islâmico nos vizinhos Iraque e Síria. Territorialmente, o grupo não tem se expandido no Oriente Médio, está bastante enfraquecido na região.

Gabarito: Errado

11. A finalidade do alinhamento irrestrito entre os Estados islâmicos da Arábia Saudita e do Irã é o combate ao Estado israelense.

COMENTÁRIOS:

A Arábia Saudita e o Irã não são aliados. Os dois países disputam áreas de influência no Oriente Médio. A Arábia Saudita não é inimiga do Estado israelense. O Irã é o principal adversário do estado judeu na região.

Gabarito: Errado

12. A aliança estratégica de Washington com Riad e de Moscou com Damasco contribui para o aumento da tensão geopolítica no Oriente Médio entre os EUA e a Rússia.

COMENTÁRIOS:

No passado, na época da Guerra Fria, Estados Unidos e Rússia, então URSS, foram inimigos, lutando pela hegemonia global. Com a queda do Muro de Berlim, a Guerra Fria teve seu fim e a Rússia se enfraqueceu, passando a adotar o sistema econômico capitalista. Lentamente, a Rússia voltou a crescer e a expandir sua área de influência, voltando a contrastar com os Estados Unidos e apresentando divergências geopolíticas com o país, sobretudo no Oriente Médio, região onde os Estados Unidos e a Rússia buscam aumentar sua influência.



A aliança da Rússia com Damasco (capital da Síria) e dos Estados Unidos com Riad (capital da Arábia Saudita) contribui para o aumento da tensão geopolítica no Oriente Médio. A Rússia é um dos principais aliados de Bashar al-Assad na Síria, contribuindo decisivamente para a sua vitória na guerra civil. Já os EUA são o principal aliado ocidental da Arábia Saudita, principal potência da região junto com o Irã.

Gabarito: C

(QUADRIX/CRQ 4ª REGIÃO/2019 – PROFISSIONAL DE ATIVIDADES ESTRATÉGICAS) O presidente americano, Donald Trump, alertou que haverá “punição severa” caso haja confirmação da participação saudita no caso do desaparecimento do jornalista Jamal Khashoggi e afirmou que pedirá uma cópia dos áudios divulgados, mas também deixou claro que não gostaria de se afastar da Arábia Saudita.

Internet: <www.bbc.com> (com adaptações).

Tendo o texto acima apenas como referência inicial, julgue os itens.

13. Um dos motivos do desejo de Trump de se manter próximo da Arábia Saudita é o poder petrolífero do país, grande produtor e regulador do preço dessa fonte energética.

COMENTÁRIOS:

Dados de abril de 2019 demonstram que a Arábia Saudita é o segundo maior produtor de petróleo no mundo e o maior exportador, além de ser o segundo maior detentor de reservas petrolíferas provadas no mundo, atrás somente da Venezuela. Grande parte da economia saudita se baseia nesse recurso mineral. Aliás, a economia global depende em boa parte desse recurso para o seu funcionamento. Os Estados Unidos, maior economia do mundo, são muito dependentes do petróleo. Apesar de ser um grande produtor do líquido, necessita importá-lo e a Arábia Saudita é um dos seus grandes fornecedores.

Há muitos investimentos americanos no país árabe, que também é um grande investidor em negócios e na economia estadunidense. Os sauditas são grandes compradores de armas dos EUA. Há grandes interesses econômicos mútuos entre os dois países.

A Arábia Saudita disputa influência no Oriente Médio com o Irã, que tem um regime considerado hostil pelos Estados Unidos. Interessa aos EUA ter aliados de peso contra o Irã na região.

Por todos esses motivos, os Estados Unidos e a Arábia Saudita são aliados de longa data e os americanos desejam se manterem próximos do país árabe.

Gabarito: Certo

14. Potência militar regional, a Arábia Saudita tem grande proximidade com a Rússia no plano militar, o que interfere na estratégia geopolítica dos Estados Unidos na região.

COMENTÁRIOS:

A Arábia Saudita é uma potência militar na sua região, no Oriente Médio, mas não tem grande proximidade com a Rússia. As relações não são hostis, mas há várias posições divergentes no plano internacional. Na questão da Síria, por exemplo, os dois países estão em lados opostos. Enquanto a Rússia é aliada do regime



de Bashar al-Assad, a Arábia Saudita e os EUA apoiam grupos de oposição, armados ou não, que tentam derrubá-lo do poder.

Arábia Saudita e Estados Unidos são aliados próximos, ou seja, não há essa interferência negativa do país árabe com relação à estratégia geopolítica dos EUA na região.

Gabarito: Errado

15. O governo saudita tem se mostrado um frágil colaborador dos Estados Unidos no combate ao terrorismo, tendo participado de forma irrelevante nas operações contra o extremismo islâmico no Oriente Médio.

COMENTÁRIOS:

O governo saudita não é um expoente do combate ao terrorismo na região, mas também não é um frágil colaborador dos Estados Unidos. De uma certa forma, a Arábia Saudita releva o terrorismo islâmico de orientação sunita, ramo do Islã seguido pela família real e amplamente majoritário no país. Mas combatem e apoiam os EUA no combate ao terrorismo islâmico de orientação xiita.

Gabarito: Errado

16. (FGV/COMPESA/2018 – ANALISTA DE GESTÃO) O Oriente Médio tem estado no centro dos debates das relações internacionais, em função dos graves desafios geopolíticos que o caracterizam. Sobre o Oriente Médio, assinale a afirmativa correta.

- a) Apresenta conflitos de ordem regional, nos quais minorias étnicas e religiosas são perseguidas, como é o caso dos curdos no Iraque e na Turquia, e dos palestinos, em Israel.
- b) Está dividido em blocos de alianças, um dos quais, o árabe sunita, é liderado pelo Egito e pela Arábia Saudita, os dois maiores produtores de petróleo da região.
- c) Possui centros de difusão do jihadismo internacional, como a Turquia e a Jordânia, com importantes campos de treinamento para o Hezbollah.
- d) Está inserido na agenda política internacional dos Estados Unidos, tradicional aliado das monarquias do Golfo Pérsico, do Estado de Israel e da Turquia.
- e) É área de influência da Rússia que, para garantir sua hegemonia, mantém bases militares no norte do Irã, na Síria e no canal de Suez.

COMENTÁRIOS:

a) Correta. O Oriente Médio é uma região de frequentes conflitos bélicos, seja por fatores políticos, nacionais, étnicos ou religiosos. Os curdos são a maior etnia sem um país no mundo, habitando vários países da região. No Iraque, país de maioria de população árabe, onde são minoria, são discriminados, bem como em outros países. A questão palestina é outro ponto de histórica controvérsia. Israel é um país de população de maioria judaica/hebraica, os árabes palestinos são minorias e sofrem discriminação.



b) Incorreta. Historicamente, Irã e Arábia Saudita disputam hegemonia e influência no Oriente Médio, formando seus blocos de aliança. Do lado da Arábia Saudita, estão países governados por árabes sunitas, como o Egito e a Jordânia. Do lado do Irã, estão os xiitas. Exemplo é a Síria, que é um país governado por um xiita. Os maiores produtores de petróleo da região são Arábia Saudita, Iraque e Irã. O Egito não é um grande produtor de petróleo.

c) Incorreta. Jihadista é um termo utilizado para designar um combatente radical islâmico. Jihadismo internacional seriam as organizações terroristas, armadas, formadas por radicais islâmicos. O Hezbollah é uma dessas organizações. É um grupo armado de xiitas e a sua base está no Líbano, não na Jordânia, nem na Turquia, que são dois países que não possuem centros de difusão do jihadismo internacional.

d) Incorreta. De fato, o Oriente Médio está inserido na agenda da política internacional dos Estados Unidos, que possui vários aliados na região, como as monarquias do golfo Pérsico e o Estado de Israel. O Irã está no golfo Pérsico, mas não é uma monarquia e não é aliado dos EUA. A Turquia é um país membro da OTAN, organização militar da qual os EUA também fazem parte. EUA e Turquia são aliados de longa data, ocorre que, nos últimos anos, essa relação político diplomática anda estremecida entre os dois países. Em função disso, o examinador entendeu que não se pode considerar que os EUA seja um aliado da Turquia.

e) Incorreta. O único país da região onde a Rússia tem bases militares é a Síria. A Rússia não exerce um papel hegemônico na região, mas busca reconquistar um papel relevante no Oriente Médio e voltar a ser encarada como uma superpotência global, recuperando o protagonismo perdido após a dissolução da União Soviética. Por isso, a Rússia apoia o regime de Bashar al-Assad, na Síria.

Gabarito: A

17. (IESES/ALGÁS/2017 – ANALISTA DE PROJETOS ORGANIZACIONAIS) No final de 2010, o mundo presenciou uma onda de protestos promovida na sua maioria por jovens no Oriente Médio e no norte do continente africano. Podemos afirmar:

a) A primavera árabe foi um movimento, uma onda de protestos e revoluções ocorridas no Oriente Médio e norte do continente africano em que a população foi às ruas para derrubar ditadores ou reivindicar melhores condições sociais de vida. Sobre os países envolvidos, podemos citar: Tunísia, Egito, Líbia, Síria, Kuwait, Líbano, Maurítânia, Marrocos, etc.

b) Países com ditadores que foram combatidos pelos jovens durante os protestos da primavera árabe: Tunísia, Arábia Saudita, Sudão, Afeganistão, Cazaquistão, Paquistão, Yêmen, Irã, Noruega.

c) Dos países que participaram da primavera árabe, muitos deles livraram-se de seus ditadores, um destes apenas a guerra civil ainda ceifa diversas vidas e permanece no regime ditatorial: Iraque.

d) A primavera árabe foi uma série de protestos de jovens árabes e africanos de origem muçulmana, que através da internet chamaram o povo às ruas para reclamarem do custo de vida, do desemprego e sobre a imigração. O movimento foi centralizado no continente asiático, mais precisamente em Israel.

COMENTÁRIOS:

A Primavera Árabe foi um movimento de revoltas e de grandes protestos populares em países com regimes autoritários, no qual a população buscou derrubar ditadores e reivindicar melhores condições de vida. O



palco dos conflitos foi o norte da África e o Oriente Médio, regiões de maioria de população árabe e muçulmana.

Como resultado das revoltas populares, foram depostos os ditadores da Tunísia, Egito, Líbia e Iêmen. Na Síria, a revolta se transformou em uma sangrenta guerra civil. Na Arábia Saudita, Omã, Kuwait, Barein, Jordânia, Líbano, Palestina, Sudão, Argélia, Marrocos, Saara Ocidental e Mauritânia, houve protestos, em maior ou menor escala, que também resultaram em mudanças maiores ou menores. Nesses países, os governantes se mantiveram no poder.

A internet foi intensamente utilizada como meio de mobilização e de divulgação do movimento nos países envolvidos.

Gabarito: A

18. (FEPESE/PREFEITURA DE FRAIBURGO/2017 – AUDITOR FISCAL) Em relatório das Nações Unidas, a guerra civil da Síria foi classificada como “grande tragédia do século 21”. Sobre a Síria e esse conflito, é incorreto afirmar:

- a) Apesar de ter assinado a Convenção de Armas Químicas, evidências apontam para o uso desse tipo de armamento pelo governo sírio.
- b) De caráter político, a guerra civil na Síria não envolve divergências religiosas.
- c) Sucedendo seu pai Hafez al-Assad, Bashar al-Assad está à frente do governo Sírio desde 2000.
- d) Na tentativa de fugir do conflito, milhares de sírios buscam refúgio em outros países, incluindo o Brasil.
- e) A guerra civil da Síria iniciou-se como uma revolta popular contra a forte repressão do líder do governo.

COMENTÁRIOS:

a) Correto. Assinado em 1993, em Paris, a Convenção de Armas Químicas (CAQ) é um acordo sobre controle de armas, que proíbe a produção, o armazenamento e o uso de armas químicas. A Síria aderiu à Convenção em 2013, mas foi acusada de utilizar armas químicas posteriormente no conflito em mais de uma oportunidade.

b) Incorreto. A guerra civil na Síria não começou devido a divergências religiosas, mas com o tempo, a disputa adquiriu contornos sectários. Grupos islâmicos extremistas entraram no conflito, como o Estado Islâmico e a Al Qaeda, hostis e intolerantes aos muçulmanos alauítas e aos cristãos que habitam na Síria.

c) Correto. Bashar al-Assad é o presidente da Síria desde o ano 2000. Sucedeu a seu pai, Hafez al-Assad, que governou por 30 anos até sua morte.

d) Correto. Milhões de sírios saíram do país em busca de refúgio. As principais correntes migratórias se dirigiram para países próximos e para a Europa, mas estima-se que cerca de 12 mil sírios buscaram refúgio no Brasil.



e) **Correto.** O governo sírio reprimiu violentamente manifestações pacíficas contra o regime em 2011. A forte repressão fez com que grupos de oposição se armassem com o objetivo de se defender das forças do regime, iniciando, pois, a guerra civil da Síria.

Gabarito: B

19. (IDECAN/CM CEL FABRICIANO/2017 - AUXILIAR ADMINISTRATIVO) “Civilização que se desenvolveu no sudoeste da Ásia numa região de clima quente e seco coberta por desertos e é considerada o berço da civilização islâmica.” Trata-se da civilização:

- a) Inca.
- b) Árabe.
- c) Egípcia.
- d) Romana.

COMENTÁRIOS:

A civilização árabe é considerada o berço da civilização islâmica. Durante os séculos VIII e IX, os árabes construíram um império cujas fronteiras iam até o sul da França no oeste, e até a China no leste, Ásia menor no norte e Sudão no sul. Este foi um dos maiores impérios terrestres da história. Na maior parte desta área, os árabes espalharam a religião do Islã e a língua árabe (a língua do Alcorão) através da conversão e assimilação, respectivamente.

Gabarito: B

20. (CESPE/CPRM – TÉCNICO EM GEOCIÊNCIAS) O Oriente Médio é uma das mais tensas regiões do mundo contemporâneo. Nele, interesses econômicos, sobretudo os ligados ao petróleo, se juntam a divergências políticas e animosidades religiosas para fazer daquela área um foco permanente de conflitos. O país que, na atualidade, se tornou símbolo de tragédia humanitária, representada por milhares de migrantes que buscam abrigo na Europa, e que sofre os males de uma guerra civil, a ação de grupos insurgentes e a violência do terrorismo é a

- a) Síria.
- b) Turquia.
- c) Palestina.
- d) Arábia Saudita.
- e) Jordânia.

COMENTÁRIOS:

Fácil! O país é a Síria, que desde 2011 vive uma guerra civil.



Gabarito: A

21. (IDECAN/PREFEITURA DE MARILÂNDIA – AGENTE ADMINISTRATIVO) Estabelecido em grande parte da região norte da Síria, o Curdistão é:

- a) Uma região habitada pelo maior grupo étnico do mundo, sem Estado próprio e fragmentado entre vários países.
- b) Um grupo de origem palestina, de ideologia sunita, que se organiza por um partido político e brigadas armadas.
- c) Um povo que se caracterizara, sobretudo, por formar uma nação de guerreiros, governada por uma aristocracia militar que vem se expandindo no norte da África e no Oriente Médio.
- d) O grupo terrorista mais agressivo da região, originário do Iêmen, que vem cometendo uma série de atentados na Europa, principalmente em nações aliadas aos EUA, como França e Grã-Bretanha.

COMENTÁRIOS:

O Curdistão é a região habitada pelos curdos, maior etnia sem Estado no mundo, com 26 milhões de pessoas. Compreende uma área contínua que abrange territórios da Turquia, do Iraque, da Síria, do Irã, da Armênia e do Azerbaijão.

Gabarito: A

22. (INSTITUTO CIDADES/CONFERE – AUDITOR) A Primavera Árabe foi uma onda revolucionária de manifestações e protestos que ocorreram no Oriente Médio e no Norte da África a partir de dezembro de 2010. Os protestos compartilharam técnicas de resistência civil em campanhas sustentadas envolvendo greves, manifestações, passeatas e comícios, bem como o uso das mídias sociais, como Facebook e Youtube, para organizar, comunicar e sensibilizar a população e a comunidade internacional em face de tentativas de repressão e censura na Internet por partes dos Estados, além de se oporem aos regimes ditatoriais em toda aquela região. Essa onda de protestos nos países de origem árabe iniciou-se:

- a) Na Tunísia, com a derrubada do ditador Ben Ali.
- b) Na Líbia, com a morte de Muammar AL-Gaddafi.
- c) Em Israel, com a independência da Palestina.
- d) Na Síria, na guerra civil contra Bashar AL-Assad.

COMENTÁRIOS:

A Primavera Árabe iniciou na Tunísia, com a “Revolução de Jasmim”, que levou à queda do ditador Ben Ali. O movimento se espalhou por vários países do mundo árabe. Levou à deposição dos ditadores: Osni Mubarak, no Egito; Muammar al-Gaddafi, na Líbia, e Ali Abdulah Saleh, no Iêmen.



Na Síria, a revolta se transformou em uma sangrenta guerra civil. Na Arábia Saudita, Omã, Kuwait, Barein, Jordânia, Líbano, Palestina, Sudão, Argélia, Marrocos, Saara Ocidental e Mauritânia, houve protestos, em maior ou menor escala, que também resultaram em mudanças maiores ou menores. Nesses países, os governantes se mantiveram no poder.

A Tunísia é o único país em que a revolta popular alcançou o objetivo da democracia. Nos demais países onde os ditadores foram derrubados – Egito, Líbia e Iêmen – a Primavera se transformou num tenebroso “Inverno Árabe”.

Gabarito: A

23. (IDECAN/PREFEITURA DE MARILÂNDIA – AGENTE ADMINISTRATIVO) O grupo extremista Hezbollah presente na região oeste da Síria tem sede e grande atuação em que país do Oriente Médio?

- a) Irã.
- b) Israel.
- c) Iraque.
- d) Líbano.

COMENTÁRIOS:

O Hezbollah, grupo de orientação religiosa islâmica xiita, tem sede e atuação no Líbano, e sua base é o sul desse país. Combate o Estado de Israel.

Gabarito: D



QUESTÕES COMENTADAS – A QUESTÃO ISRAEL-PALESTINA - MULTIBANCAS

1. (INSTITUTO VERBENA/TJ-AC/2024) A faixa de Gaza é um território estreito de 362 Km² que faz fronteira leste com Israel, oeste com o mar mediterrâneo e sul com o Egito. Conhecida como a maior prisão a céu aberto do mundo por estar sob controle de Israel, nela viviam 2 milhões de palestinos, jovens em sua maioria – quase metade da população tem menos de 18 anos. Desde outubro de 2023 esse território foi imposto a bloqueio total de alimentos, medicamentos, água, combustível e eletricidade, um ataque que atinge muitos civis causando suas mortes, perpetrado por um conflito entre grupos sionistas de Israel contra o Hamas, formado por palestinos extremistas. As raízes históricas desse conflito têm sua origem

A) na revolução fundamentalista de 1979 no Irã com o governo de Aiatolá Khomeini.

B) na guerra dos Seis Dias envolvendo a luta entre árabes e judeus e marcada pelo massivo avanço da população palestina sobre territórios israelenses.

C) na criação do Estado de Israel e a partilha da Palestina, em razões historicamente determinadas.

D) no descumprimento, pelo Estado de Israel, das Convenções de Genebra e Protocolos Adicionais podendo ser responsabilizado na Corte Internacional de Justiça de Haia.

COMENTÁRIOS:

O conflito entre Israel e Palestina tem suas raízes históricas na criação do Estado de Israel e na partilha da Palestina, em razões historicamente determinadas. Em 1947, as Nações Unidas aprovaram o Plano de Partilha da Palestina, que propôs a divisão do território entre um Estado judeu e um Estado árabe. A aceitação por parte dos líderes judeus e a rejeição dos líderes árabes levaram a uma guerra entre as comunidades judaica e árabe na região. Como resultado, Israel declarou independência em 1948, dando início ao conflito que perdura até os dias atuais. A questão da partilha e a disputa pela terra são as questões centrais nesse conflito histórico.

Gabarito: C.

(QUADRIX/CRT-SP/2023) Quanto ao conflito entre Israel e Palestina, julgue os itens.

2. O mundo vive em uma constante convulsão social, pois, ao fim da guerra na Ucrânia, veio a continuidade voltada ao conflito no Oriente Médio, entre o grupo militante Hamas e as forças militares de Israel.

COMENTÁRIOS:

Até o momento em que esta prova foi aplicada, em dezembro de 2023, a guerra entre Rússia e Ucrânia não havia terminado. Apenas isso já torna a questão errada.



A segunda afirmativa da questão também está errada. O conflito no Oriente Médio, entre o grupo militante Hamas e as forças militares de Israel não é uma continuidade da guerra na Ucrânia, mas sim uma disputa independente que tem suas próprias causas e consequências.

Gabarito: Errado

3. Hamas e Fatah são dois grupos políticos islâmicos aliados, mas que divergem no que diz respeito à instauração de um Estado árabe na Palestina.

COMENTÁRIOS:

O Hamas e a Fatah são dois grupos políticos palestinos que têm diferenças ideológicas e políticas, logo, não são aliados. Ambos têm históricos e agendas diferentes, especialmente no que diz respeito à criação de um Estado na região da Palestina.

O Hamas é conhecido por sua postura mais rígida sobre o conflito Israel-Palestina. O grupo defende a instauração de um Estado islâmico na totalidade da Palestina, rejeitando o reconhecimento de Israel.

Por outro lado, o Fatah, liderado pela Autoridade Palestina, historicamente aceita a ideia de um Estado palestino coexistindo com Israel, com fronteiras negociadas.

Gabarito: Errado

4. Como aliados regionais importantes do grupo militante Hamas, têm-se o governo do Irã e o Hezbollah, este último um grupo fundamentalista islâmico do Líbano.

COMENTÁRIOS:

O Hamas recebe apoio do governo do Irã e do Hezbollah, um grupo fundamentalista islâmico do Líbano.

O Irã é um aliado político e financeiro do Hamas, fornecendo armas, treinamento e financiamento aos membros do Hamas. O Hezbollah, por sua vez, também tem laços estreitos com o Hamas, compartilhando objetivos semelhantes em relação ao conflito Israel-Palestina. O grupo, formado principalmente por xiitas, tem suas origens na resistência contra a ocupação israelense no Líbano, e, da mesma forma, também recebe apoio do Irã.

O apoio do Irã a esses dois grupos, principalmente por razões ideológicas e estratégicas, tem como objetivo buscar influência na região e enfrentar adversários comuns, como Israel. Essa aliança é uma dimensão importante no contexto geopolítico do Oriente Médio.

Gabarito: Certo

5. O apoio incondicional do Brasil a Israel segue a estratégia de continuar figurando como um País sul-americano forte e que quer fortalecer a parceria político-econômica com os Estados Unidos.

COMENTÁRIOS:



O Brasil não apoia incondicionalmente Israel. O nosso país apoia a solução de dois Estados na Palestina. Um judeu, Israel, e um Estado palestino, a ser instalado. Para isso, Israel deverá devolver terras que tomou dos palestinos, o que esse Estado não aceita.

O Brasil reconhece a existência de um Estado nacional palestino, Israel não. No entanto, o nosso país tem boas relações diplomáticas e comerciais com Israel.

Gabarito: Errado

(QUADRIX/CRT-SP/2023) A respeito do conflito atual entre Israel e Palestina, julgue os itens a seguir.

6. O Hamas tem como um dos aliados o Hezbollah, uma organização política e paramilitar fundamentalista islâmica libanesa, que atua na Faixa de Gaza e em países do Oriente Médio.

COMENTÁRIOS:

O Hezbollah é uma organização política e paramilitar fundamentalista islâmica, que tem origem e atuação no Líbano. Na guerra civil da Síria, o grupo combateu ao lado do regime Bashar al-Assad. Afora esse apoio ao ditador sírio, o Hezbollah não atua na Faixa de Gaza, nem em outros países do Oriente Médio.

Embora sejam de vertentes islâmicas diferentes, Hezbollah e Hamas são conhecidos por seus laços históricos e ideológicos, pois ambos são grupos paramilitares com interesses comuns e sentimento anti-Israel, compartilhando uma perspectiva semelhante sobre o conflito israelo-palestino.

Gabarito: Errado

7. Para Israel, o grupo libanês Hezbollah é considerado uma ameaça maior que o Hamas, por possuir um arsenal mais sofisticado.

COMENTÁRIOS:

Enquanto o Hamas representa uma grande preocupação para Israel, principalmente devido às hostilidades na Faixa de Gaza, o Hezbollah é visto como uma ameaça mais significativa devido à sua capacidade de lançar ataques mais elaborados.

O Hezbollah tem um arsenal mais sofisticado e uma infraestrutura militar mais robusta. Além de receber vultuoso apoio financeiro do Irã, o grupo é reconhecido por suas capacidades militares, incluindo mísseis de longo alcance.

Gabarito: Certo

8. O fato de o Hamas ter um terço da população da Palestina a seu lado como combatente da jihad islâmica é a razão pela qual Israel apresenta um certo receio estratégico quanto aos ataques a Gaza.

COMENTÁRIOS:



Em 7 de outubro de 2023, o Hamas realizou um bárbaro ataque terrorista contra Israel, que não teve nenhum receio de contra-atacar e iniciar uma guerra de grandes proporções com o Hamas na Faixa de Gaza. Portanto, a questão está errada.

A sociedade palestina é diversa, com diferentes perspectivas políticas, sociais e religiosas. Nem todos os palestinos apoiam o Hamas, e muitos buscam soluções políticas e pacíficas para o conflito na região. Desse modo, está incorreto dizer que o Hamas tem um terço da população da Palestina a seu lado como combatente da jihad islâmica.

Aproveito para falar sobre o termo "jihad islâmica" mencionado na questão. Apesar de diferentes interpretações, o termo é geralmente utilizado para se referir à luta física ou militar em defesa do Islã. Grupos ou organizações que se autodenominam "jihadistas" podem buscar a implementação de sua visão do Islã por meio de métodos mais agressivos, o que pode incluir atividades como insurgência, terrorismo ou conflitos armados.

Gabarito: Errado

9. (QUADRIX/CRT-SP/2023) A análise sobre o conflito israelo-palestino tem a previsibilidade de que passe para nações ocidentais e, por isso, o sobressalto dos países europeus é tratado como pertinente pelos analistas e pela mídia em geral.

COMENTÁRIOS:

Embora o conflito entre Israel e Palestina tenha repercussões globais e seja uma preocupação para a comunidade internacional, não é correto afirmar que há uma previsibilidade de que ele "passe" para essas nações, isto é, que o conflito será transferido ou se espalhará para nações ocidentais. Pode ser que existam analistas com esse entendimento, mas não é o que tem sido repercutido nas principais mídias gerais, sejam nacionais ou internacionais, de modo que essa seja uma análise representativa.

Gabarito: Errado

10. O chamado Eixo da Resistência regional, o qual é anti-Israel e anti-ocidental, responde por uma aliança entre Síria, Irã, Hamas e Hezbollah.

COMENTÁRIOS:

A expressão "Eixo da Resistência" se refere a uma coalização de países e grupos políticos e milícias armadas anti-Israel e anti-Estados Unidos.

Trata-se de uma aliança informal e política entre o Irã, a Síria, os grupos xiitas Hezbollah (Líbano), Houthis (Iêmen), milícias iraquianas, mais os sunitas do Hamas, Jihad Islâmica, Frente Popular para a Libertação da Palestina e Frente Democrática para a Libertação da Palestina, baseados na Faixa de Gaza.

O Irã fornece apoio militar e financeiro para a Síria e demais grupos, por meio dessa rede de aliados que ampliou a sua influência no Oriente Médio em prol dos seus objetivos e interesses políticos.



Essa influência ocorre no contexto de conflitos como as guerras civis da Síria e Iêmen, na luta contra o Estado Islâmico e no apoio a causa Palestina.

Gabarito: Certo

11. Apesar de o Hamas receber recursos de particulares, de instituições islâmicas e do Catar, o maior financiador do citado grupo militante e inimigo de Israel é o governo do Irã.

COMENTÁRIOS:

O Hamas é uma organização política, assistencial e militar palestina. Recebe apoio financeiro de várias fontes, incluindo particulares, instituições islâmicas e o governo do Catar. Contudo, é amplamente reconhecido que o maior financiador do Hamas é o governo do Irã.

O Irã fornece apoio financeiro, logístico e militar ao Hamas, pois ambos compartilham objetivos comuns, incluindo uma postura anti-Israel. O apoio do Irã ao Hamas é uma parte significativa da dinâmica geopolítica no Oriente Médio, contribuindo para a complexidade das relações na região.

Essa relação também é um ponto de tensão nas relações entre o Irã e Israel, já que o Hamas é considerado um grupo hostil por Israel.

Gabarito: Certo

(QUADRIX/CRO-TO/2023) No que diz respeito a assuntos da atualidade do Brasil e do mundo, julgue os itens.

12. Diante da posição da Organização das Nações Unidas (ONU) contrária a Israel nos conflitos do Oriente Médio, o Brasil desligou-se dessa instituição multilateral.

COMENTÁRIOS:

A ONU é uma organização internacional que tem como objetivo promover a cooperação entre os países membros. Desse modo, em muitos conflitos no mundo, a organização busca atuar como mediador, apresentando uma posição equilibrada.

No conflito entre Hamas e Israel, a ONU tem pressionado Israel para um cessar-fogo e tem fornecido ajuda humanitária aos palestinos, porém, não emitiu nenhuma declaração oficial contrária a Israel.

Além disso, o Brasil é um membro ativo e participante das Nações Unidas, envolvido nas discussões e deliberações sobre diversos temas no âmbito internacional. O Brasil não se desligou da ONU, conforme afirma a questão.

Gabarito: Errado

13. Hoje, o Oriente Médio deixou de ser visto como uma região importante na geopolítica mundial.

COMENTÁRIOS:



O Oriente Médio é uma região de extrema importância geopolítica, sobretudo devido à sua localização estratégica, em um ponto de convergência de três continentes (Ásia, África e Europa), com importantes rotas marítimas do comércio internacional, e por ser uma região rica em recursos energéticos, com alguns dos maiores produtores de petróleo e gás natural do mundo.

Desse modo, grandes potências globais, como os Estados Unidos, Rússia, China e várias nações europeias, mantêm interesses estratégicos na região e muitas vezes intervêm em assuntos locais.

Gabarito: Errado

(QUADRIX/CRO-TO/2023) No que diz respeito a assuntos da atualidade e do mundo, julgue os itens.

14. O Oriente Médio permanece na condição de uma das áreas mais problemáticas do mundo, seja por disputas políticas, seja por intolerância religiosa ou, ainda, por ser importante no jogo da política internacional.

COMENTÁRIOS:

O Oriente Médio é historicamente uma região marcada por uma série de desafios e problemas, abrangendo disputas políticas, conflitos armados, tensões religiosas e desafios geopolíticos.

A região tem sido palco de conflitos e disputas territoriais entre diferentes países, como Israel e seus vizinhos, bem como rivalidades entre potências regionais.

A diversidade religiosa na região, com a presença significativa do Islã, levou a tensões e conflitos religiosos ao longo da história, incluindo a rivalidade entre sunitas e xiitas.

Por fim, o Oriente Médio é estrategicamente vital devido às suas reservas significativas de petróleo e gás natural, o que o torna um ponto focal nas relações internacionais e na geopolítica global.

Gabarito: Certo

15. A criação formal do Estado da Palestina, ocorrida há uma década, acirrou a instabilidade política na região, especialmente devido ao apoio recebido de Israel para que se concretizasse o sonho palestino de um lar nacional.

COMENTÁRIOS:

A criação formal do Estado da Palestina ainda não ocorreu. É uma questão complexa e continua sendo um ponto de controvérsia nas relações internacionais. Muitos países e organizações internacionais reconhecem a existência e a necessidade de formalização do Estado da Palestina, enquanto outros não.

A criação do Estado da Palestina por parte de Israel é um tema que também divide opiniões. Existem grupos políticos mais radicais no país, que são totalmente contra a criação do Estado da Palestina, enquanto outros são mais moderados e buscam a coexistência pacífica entre as duas nações. Entretanto, na atualidade, não há movimentações significativas de Israel para criação do Estado da Palestina.

Gabarito: Errado



(CEBRASPE/CBM-AL/2021 – ASPIRANTE) Em 21 de maio de 2021, primeiro dia de cessar-fogo na cidade de Gaza, o médico Hazem Abu Mtoh aproveitou para visitar Atta Darwish, seu professor na época da faculdade. “Fomos ao mercado Abu Dalal, comemos doces e tâmaras. Nós rimos tanto. Graças a Deus, a guerra acabou”, disse Hazem. “Hoje (ontem), comemoramos o Eid Al-Fitr (fim do jejum do ramadã) com atraso. Vimos crianças lindas e felizes, com roupas novas. Não há mais o som de ambulâncias ou de bombas caindo”, relatou.

Internet: (com adaptações).

Acerca dos mais recentes conflitos entre o governo de Israel e o grupo Hamas, julgue os itens seguintes.

16. Em maio de 2021, os mais recentes e mútuos ataques entre Israel e palestinos deixaram mortos e feridos na Faixa de Gaza, território onde cristãos, judeus e muçulmanos se dividem às margens do Mediterrâneo.

COMENTÁRIOS:

Em maio de 2021, ocorreram ataques mútuos entre Israel e as milícias armadas do Fatah e da Jihad Islâmica, baseadas na Faixa de Gaza, território de domínio palestino, que fica entre o Mar Mediterrâneo e Israel. A quase totalidade da população é de palestinos muçulmanos (99,8%). O restante é cristão. Não há judeus na Faixa de Gaza.

Gabarito: Errado

17. Na atualidade, a difusão, nas redes sociais, de fake news acerca do conflito entre israelenses e palestinos contribui para a desinformação e para debates acalorados fundamentados em informações distorcidas.

COMENTÁRIOS:

Em qualquer contexto, seja na política, economia etc., as *fake news* contribuem para a desinformação e para debates acalorados fundamentados em informações distorcidas.

No caso do tema em questão, foram divulgados vídeos falsos pelos partidários dos dois lados, tanto aqueles que são pró-Palestina quanto pró-Israel. Em alguns desses vídeos, mostrava-se a Mesquita de Al-Aqsa em chamas e mísseis lançados contra Gaza.

Gabarito: Certo

(QUADRIX/CREF-SE/2019 - ASSISTENTE ADMINISTRATIVO) Jerusalém já foi ocupada, destruída, sitiada, atacada e capturada muitas vezes por diferentes povos – entre eles egípcios, babilônios, romanos, árabes e judeus – em cerca de três mil anos de história.

Internet: <www.bbc.com>.

A respeito dos aspectos políticos da Jerusalém atual, julgue os itens.



18. Além, obviamente, de Israel, três países consideram Jerusalém, atualmente, como a capital do Estado judeu: Estados Unidos; Guatemala; e Paraguai.

COMENTÁRIOS:

Até a data da aplicação da prova em questão, somente os Estados Unidos e a Guatemala reconheciam Jerusalém, na sua totalidade, como a capital do Estado judeu. O Paraguai havia reconhecido também, ao transferir a sua embaixada para Jerusalém em maio de 2018, mas em agosto do mesmo ano, o novo presidente do Paraguai, Mario Abdo Benítez, reverteu a decisão, levando a embaixada de volta para Tel Aviv.

Gabarito: Errado

19. A cidade é considerada como sagrada para os adeptos de três grandes religiões monoteístas do mundo.

COMENTÁRIOS:

Jerusalém é uma cidade sagrada para as três grandes religiões monoteístas do mundo: cristianismo, islamismo e judaísmo. Na parte oriental está a cidade velha, que abriga o Muro das Lamentações (ruínas do antigo Templo de Salomão), local sagrado do Judaísmo; a mesquita de Al-Aqsa e o Domo da Rocha (local onde Maomé teria ascendido aos céus) e a Igreja do Santo Sepulcro (local onde Jesus teria sido crucificado, sepultado e ressuscitado).

Gabarito: Certo

20. Para a Organização das Nações Unidas, o status de Jerusalém deverá ser definido nas negociações entre israelenses e palestinos.

COMENTÁRIOS:

A ONU defende a posição de que o conflito entre os dois estados deve ser resolvido por meio de negociações diretas entre as duas partes, com base em resoluções relevantes do Conselho de Segurança e da Assembleia Geral, levando em conta as preocupações legítimas tanto do lado palestino como israelense.

Gabarito: Certo

21. (CESPE/FUB – VÁRIOS CARGOS) As tensões no Oriente Médio se elevaram no pós-Segunda Guerra Mundial, quando, por resolução das Nações Unidas, decidiu-se pela partilha do território conhecido como Palestina, para nele serem criados dois Estados: um judeu e outro, árabe.

COMENTÁRIOS:

Em 1947, a Organização das Nações Unidas dividiu a Palestina histórica em dois Estados – um para os judeus, com 53% do território, outro para os árabes palestinos, com 47%. Estes últimos rejeitaram o plano.

Já na sua criação, Israel se deparou com uma guerra em 1948. Cinco países árabes enviaram tropas para impedir sua fundação, mas Israel estava preparado e tinha o respaldo das principais potências – EUA e União



Soviética. As forças militares do novo Estado não apenas defenderam suas fronteiras originais como empurraram os palestinos para uma área menor do que a que lhes tinha sido destinada.

A criação do Estado judeu nunca foi aceita na sua totalidade pelos árabes. Após a sua criação, os conflitos e as tensões se elevaram no Oriente Médio. Na atualidade, grupos armados como o Hezbollah e o Hamas pregam a destruição do Estado de Israel e se envolvem em conflitos frequentes com a nação judaica.

Gabarito: Certo

22. (CESPE/FUB – VÁRIOS CARGOS) Segundo a posição oficial do governo de Tel Aviv, Israel, para garantir a integridade de seu território, tem impedido, inclusive pelo uso de armas, a criação do Estado da Palestina, objetivo historicamente defendido pela unanimidade dos países árabes.

COMENTÁRIOS:

Israel não tem posição oficial contrária à criação do Estado da Palestina. Assinou, inclusive, acordos internacionais de paz e do estabelecimento de um processo negociado para a criação da nação palestina. Entretanto, as negociações estão num impasse há muitos anos. Houve, ainda, retrocessos. Há divergências, até o momento, incontornáveis entre Israel e a Autoridade Nacional Palestina (ANP).

Ao mesmo tempo que diz ser favorável à criação do Estado da Palestina, Israel prossegue com a expropriação de terras de palestinos e a instalação de assentamentos de judeus na Cisjordânia. Sem dúvida, uma grande contradição.

Gabarito: Errado



QUESTÕES COMENTADAS – AFGANISTÃO – MULTIBANCAS

1. (QUADRIX/CRT-BA/2023) O Brasil tem recebido afegãos fugidos do regime Talibã, pois, desde que os Estados Unidos retiraram suas tropas do Afeganistão, o fundamentalismo islâmico tomou o citado país asiático.

COMENTÁRIOS:

Após a retirada das tropas dos Estados Unidos do Afeganistão e a tomada de poder pelo Talibã, em 2021, milhões de afegãos fugiram do país em busca de refúgio em outras nações. Essa é mais uma onda de migração, em um país já marcado pela fuga de parte de seu povo, pelo histórico de pobreza, de fome, de extremismo, de autoritarismo e de conflitos armados. Um dos países que recebem refugiados afegãos é o Brasil, porém, a maioria dos refugiados permanece em países próximos, como o Paquistão e o Irã.

Gabarito: Certo

2. (QUADRIX/CRP-18/2022) No Afeganistão, a tomada de poder pelo Talibã imprimiu uma nova política educacional, com revisão das disciplinas ministradas, mas, por falta de estrutura física nas universidades do país, ainda é permitido que as mulheres estudem próximas aos homens em um mesmo ambiente.

COMENTÁRIOS:

O Talibã é um grupo fundamentalista islâmico, que faz uma interpretação radical da Sharia, a doutrina jurídica do Islã.

São poucas as informações que jornalistas e organizações conseguem obter sobre aspectos gerais da sociedade afegã, pelo fato de ser um grupo que cerca fortemente as liberdades individuais no país.

Todavia, sabe-se que, com a sua volta ao poder no Afeganistão, muitos direitos das mulheres foram retirados, inclusive o direito ao estudo.

Entre 1996 e 2001, período anterior em que o país era comandado pelo grupo extremista, as meninas eram proibidas de ir às escolas e frequentar aulas, e as mulheres não podiam entrar e atuar no mercado de trabalho, condicionando-as a uma vida doméstica submissa a figura masculina.

Nessa nova tomada de poder, em termos educacionais, as lideranças talibãs afirmaram que estariam dispostas a permitir a educação de meninas e mulheres, porém, com a condição de que as escolas e universidades sejam segregadas por gênero. Dessa forma, apenas mulheres poderiam lecionar aulas para meninas e apenas homens para meninos.

“O fundamentalismo islâmico vê as mulheres como seres subumanos, aptas somente para a escravidão doméstica e a procriação. Essa visão ultrajante foi elevada ao status de política oficial com a tomada de poder pelo Talibã”, diz um texto no site da Rawa (Associação das Mulheres Revolucionárias do Afeganistão).

Gabarito: Errado



3. (CESGRANRIO/BASA/2022 - TÉCNICO CIENTÍFICO) Considere o texto a seguir sobre os talibãs.

Duas décadas depois de serem expulsos do poder pelos Estados Unidos, os fundamentalistas voltaram ao comando do país, deflagrando uma série de problemas de segurança, principalmente para os Estados vizinhos. A Rússia vai convidar os talibãs para negociações internacionais em Moscou, em 20 de outubro - anunciou o enviado do Kremlin, Zamir Kabulov. Ao ser questionado pelos jornalistas sobre se o Talibã seria convidado para a reunião, que terá representantes de China, Irã, Paquistão e Índia, Kabulov, respondeu "sim". Não especificou quem, do governo talibã, seria convidado. Esta conferência internacional acontece na sequência de uma cúpula extraordinária do G20, em 12 de outubro de 2021.

Disponível em: <https://exame.com>. Acesso em: 20 nov. 2021.

Nos conflitos geopolíticos atuais, os talibãs são um grupo originariamente atuante no

- (A) Irã.
- (B) Iêmen.
- (C) Iraque.
- (D) Paquistão.
- (E) Afeganistão.

COMENTÁRIOS:

O Talibã é um grupo originariamente atuante no Afeganistão. É uma milícia islâmica fundamentalista, da vertente sunita. A milícia chegou ao poder no país em 1996, mas foi deposta em 2001, quando os Estados Unidos invadiram o país e asseguraram o novo governo mantendo um forte contingente militar no país.

Em 2020, após 19 anos de conflito armado, os EUA (governo Donald Trump) e o Talibã assinaram um acordo de paz em Doha, no Catar, que estabeleceu a retirada progressiva das tropas norte-americanas do país.

À medida que as tropas estrangeiras foram deixando o Afeganistão, o Talibã foi avançando. Em poucos meses, conquistou grande parte do território afegão. No dia 15 de agosto de 2021, chegou à capital, Cabul, e retomou o poder no país.

Gabarito: E

4. (FGV/PREFEITURA MUNICIPAL DE PAULÍNIA/2021 – FARMACÊUTICO) Três grandes conflitos forjaram a história recente do Afeganistão – os dez anos de resistência dos mujahidin contra a URSS (1979-1989), os quatro anos de guerra civil entre os senhores da guerra afegãos (1992-1996) e os 20 anos de ocupação americana, após o 11 de Setembro (2001-2021). Nessas quatro décadas, o Talibã figurou como o principal protagonista do país. Sobre o Talibã, assinale a afirmativa correta.

- (A) É uma organização terrorista responsável por ataques às embaixadas ocidentais no Paquistão e na Europa, em retaliação à publicação de charges sobre o profeta Maomé.



(B) Formou-se nas madrassas, escolas corânicas xiitas afegãs e paquistanesas, de onde se origina o termo talib, que significa estudante.

(C) Surgiu enquanto milícia na década de 1990, no norte do Paquistão, sob a liderança do mulá Mohammed Omar, que se destacou combatendo as forças da OTAN.

(D) É um movimento fundamentalista e nacionalista islâmico, que zela pela imposição da interpretação rígida da sharia, incluindo a obrigação do uso da burka pelas mulheres.

(E) É um grupo político jihadista islamista que se autoproclama um califado e pretende ter autoridade religiosa sobre todos os muçulmanos, além das fronteiras do Afeganistão.

COMENTÁRIOS:

a) Incorreta. O enunciado se refere ao grupo terrorista Al Qaeda, que realizou um atentado à embaixada dos Estados Unidos no Paquistão, em 2010, e, em 2015, juntamente com o Estado Islâmico, realizou um atentado à sede do jornal francês Charlie Hebdo, após ter publicado charges satíricas sobre o profeta Maomé.

b) Incorreta. Nas suas origens, o Talibã foi formado por estudantes de escolas religiosas islâmicas conhecidas como madrassas. Nessas escolas, estudavam o Alcorão e o Islã. “Talibã” ou “talib”, na língua pachto (majoritária no Afeganistão), significa “estudantes”.

c) Incorreta. O Talibã surgiu no início dos anos 1990 no Norte do Paquistão. A sua formação teve como lideranças combatentes islâmicos que lutaram contra a ocupação soviética do país, no período de 1979 a 1989. O seu fundador foi Mohammed Omar, conhecido como mulá Omar. Ou seja, não foi em um combate contra as forças da OTAN, mas contra as tropas soviéticas.

d) Correta. O Taliban é um movimento fundamentalista e nacionalista islâmico, que zela pela imposição da interpretação rígida da sharia, incluindo a obrigação do uso da burka pelas mulheres.

e) Incorreta. O termo “jihad” é habitualmente entendido como uma "guerra santa" travada contra os inimigos da religião muçulmana. Aqueles grupos e combatentes que seguem a jihad são conhecidos como jihadistas. O Taliban é considerado por muitos estudiosos como um grupo jihadista. Contudo, o grupo não se autoproclama um califado, e não pretende ter autoridade religiosa sobre todos os muçulmanos, além das fronteiras do Afeganistão. Essa parte do enunciado está descrevendo o **Estado Islâmico**. O Taliban não se autoproclama como um califado, mas como o governo do Afeganistão, e não pretende ter autoridade religiosa sobre os muçulmanos além das fronteiras do Afeganistão.

Gabarito: D



QUESTÕES COMENTADAS – TERRORISMO - MULTIBANCAS

1. (CESPE/TCU – TÉCNICO FEDERAL DE CONTROLE EXTERNO) A definição de terrorismo é bastante controversa, mas há um consenso básico: terroristas são aqueles que lutam contra o Estado e também contra um de seus elementos básicos, o povo.

COMENTÁRIOS:

Não há consenso, nem básico, na definição do fenômeno atual do terrorismo. Há várias análises e conceituações. A literatura especializada nos ensina que existe também o terrorismo de Estado. Neste caso, terroristas são agentes do próprio Estado que lutam contra o seu povo, mas não contra o Estado, para o qual agem disseminando o terror.

Gabarito: Errado

2. (FUNIVERSA/SEAP-DF/AGENTE DE ATIVIDADES PENITENCIÁRIAS - ADAPTADA) Nas últimas décadas, o terrorismo tem atuado em escala global e, em larga medida, é praticado por pessoas ou grupos identificados com posições religiosas radicais e fundamentalistas.

COMENTÁRIOS:

Nas últimas décadas, o terrorismo tem atuado em escala global. Como exemplo, temos a atuação da Organização para a Libertação da Palestina (OLP), da Al-Qaeda e mais recentemente do Estado Islâmico. Essas organizações cometeram ou cometem atentados terroristas em vários países e continentes no mundo. O terrorismo atual não é exclusivamente praticado por pessoas ou grupos identificados com posições religiosas radicais e fundamentalistas, entretanto, é largamente identificado com o fundamentalismo religioso.

Gabarito: Certo

3. (FUNIVERSA/SEAP-DF/AGENTE DE ATIVIDADES PENITENCIÁRIAS - ADAPTADA) O terrorismo adquiriu extraordinária dimensão com o ataque que surpreendeu os Estados Unidos da América, em 11 de setembro de 2001, tendo atingido o Pentágono, em Washington, e as torres gêmeas do World Trade Center, em Nova Iorque.

COMENTÁRIOS:

Os atentados terroristas de 11 de setembro de 2001 surpreenderam os Estados Unidos. Após essa data, intensificou-se a ação norte-americana de combate e repressão ao terrorismo fundamentalista islâmico. A Al-Qaeda e seu líder – Osama Bin Laden – foram duramente combatidos pelos EUA. Bin Laden foi caçado por uma década, tendo sido morto por comandos especiais dos Estados Unidos em 2011, no seu esconderijo no Paquistão.

Gabarito: Certo



4. (FUNIVERSA/SEAP-DF/AGENTE DE ATIVIDADES PENITENCIÁRIAS - ADAPTADA) Particularmente célebre pelas atrocidades cometidas contra suas vítimas, muitas das quais decapitadas a sangue frio em cenas gravadas e postadas na Internet, o Boko Haram identifica-se como grupo armado comprometido com a defesa de Israel.

COMENTÁRIOS:

O Boko Haram é um grupo terrorista, fundamentalista islâmico, que atua na Nigéria. Não tem nenhum compromisso com a defesa do Estado judeu de Israel. O grupo quer tomar o poder na Nigéria e implantar um estado islâmico, com base na sharia (lei islâmica).

Gabarito: Errado

5. (FUNIVERSA/SEAP-DF/AGENTE DE ATIVIDADES PENITENCIÁRIAS - ADAPTADA) Uma estratégia adotada por grupos terroristas sediados no Oriente Médio é atrair jovens ocidentais para as suas fileiras, embora evitem a cooptação de africanos e europeus.

COMENTÁRIOS:

Incorreto, como exemplo, podemos citar o Estado Islâmico, que tem dezenas de milhares de estrangeiros – de todos os continentes - lutando nas suas fileiras. Milhares de europeus e africanos foram atraídos pelo Estado Islâmico e outros grupos, como a Al-Qaeda. Estrangeiros também são atraídos por outras organizações terroristas, fora do Oriente Médio, como o Taliban (Afeganistão/Paquistão) e o Al Shabah (Somália).

Gabarito: Errado

6. (CESPE/FUB - ADAPTADA) Há consenso entre os especialistas de que as ações terroristas protagonizadas por seguidores radicais do Islã, como o Estado Islâmico e a Al-Qaeda, refletem um choque de civilizações no qual o Oriente se insurge contra a histórica dominação ocidental.

COMENTÁRIOS:

Não há consenso, tendo em vista que o consenso na análise do mundo contemporâneo não existe. Quando o Cebraspe traz essa palavra mágica “consenso”, a questão tem 99% de chance de estar errada.

Gabarito: Errado



LISTA DE QUESTÕES – ISLAMISMO, MUNDO ÁRABE E ORIENTE MÉDIO – MULTIBANCAS

1. (CEBRASPE/TJ-SC/2023) No que concerne à região do Oriente Médio e ao seu papel no mundo contemporâneo, assinale a opção correta.

A) O Oriente Médio continua a ser estratégico para a economia mundial justamente pelo volume de petróleo que alguns de seus países produzem e comercializam.

B) O Irã é o país árabe com o maior número de seguidores do islamismo em todo o mundo e, em termos econômicos, sofre por não produzir petróleo e ter que se submeter a sanções internacionais.

C) A recém-criação oficial do Estado da Palestina, plenamente aceito por Israel, resolveu um grave problema que persistiu por décadas no Oriente Médio e que resultou em milhares de mortes.

D) Israel é um país que difere profundamente de seus vizinhos árabes, por ser teocrático e avesso aos padrões da democracia ocidental.

E) A Arábia Saudita recentemente deu exemplo de mudança de costumes e práticas ao equiparar, em direitos, mulheres e homens, pondo fim à discriminação contra as mulheres.

(QUADRIX/CRP-18/2022) Julgue os itens a seguir, referentes a aspectos do mundo atual.

2. Ataques aéreos russos continuam a atingir o território sírio, pela ajuda que Vladimir Putin vem dando ao seu aliado, o presidente Bashar al-Assad, contra os rebeldes que lutam para derrubar o governo sírio.

3. A guerra em curso no Iêmen opõe forças no Oriente Médio: de um lado, encontram-se Irã e Arábia Saudita, que se aliaram contra o governo sunita, que está no outro lado da disputa.

4. Grupos da jihad islâmica extremista ainda são encontrados na África, onde há a tentativa de controle regional em diferentes países do continente.

5. (CESGRANRIO/BASA/2022 - TÉCNICO BANCÁRIO) Considere o texto a seguir sobre a conjuntura na Síria.

Khalid, de 47 anos, aponta com dor o seu único rim, com apenas 70% de função. Ele está escondido em uma vala no meio do mato, junto com outros três sírios, Kassem, Nassir e Abdelrahman. Esta é a parte polonesa da floresta de Bialowieza, compartilhada com Belarus, uma área frondosa de 150.000 hectares que se tornou o corredor de passagem predileto para milhares de migrantes sírios que atravessam ilegalmente a fronteira entre os dois países nas últimas semanas. Os quatro procedem de Damasco, em seu quinto dia de caminhada pela floresta, tentando se guiar com o GPS do celular para ir na direção dos Países Baixos e Alemanha.



Disponível em: <https://brasil.elpais.com/internacional/2021-11-17/quatro-sirios-escondidos-em-uma-vala-na-floresta-da-polonia-tudo-o-que-eu-quero-e-chegar-a-alemanha.html>. Acesso em: 20 nov. 2021. Adaptado.

Os quatro migrantes escaparam de seu país de origem devido ao seguinte fator conjuntural:

- (A) um movimento separatista que ataca os muçulmanos.
- (B) um acordo de paz que foi rompido com a União Europeia.
- (C) uma intervenção militar estrangeira que decretou estado de sítio.
- (D) uma revolução religiosa que expulsou os islâmicos do país.
- (E) uma guerra civil que se prolonga no país há 10 anos.

6. (QUADRIX/CREFONO 4ª REGIÃO/2021 – FONOAUDIÓLOGO FISCAL) Ao ser desbancado de sua posição de fonte geradora de energia, o petróleo acabou por propiciar algo até então inimaginável: a plena estabilidade política do Oriente Médio, com o fim dos conflitos na região e a resolução do histórico problema palestino.

7. (VUNESP/PREFEITURA DE FERRAZ DE VASCONCELOS/GUARDA MUNICIPAL – 2020) Um bombardeio ao aeroporto de Bagdá, no dia 2 de janeiro, matou Qassem Soleimani, um dos homens mais poderosos do país. O Pentágono confirmou que o ataque foi realizado por ordem do presidente e culpou Soleimani por mortes no Oriente Médio. No dia 7 de janeiro, o funeral do general Soleimani levou uma multidão de pessoas às ruas de Kerman.

(G1. <https://cutt.ly/NfRYtdJ>. Publicado em 31.01.2020. Adaptado)

O texto acima se refere às tensões militares entre

- (A) Síria e Iraque.
- (B) Irã e Estados Unidos.
- (C) Síria e Rússia.
- (D) Venezuela e Estados Unidos.
- (E) Irã e Síria.

8. (VUNESP/ESEF-SP/2019 – ASSISTENTE EM ADMINISTRAÇÃO) A decisão do presidente dos Estados Unidos, Donald Trump, de retirar tropas norte-americanas do nordeste da Síria abriu caminho para uma ofensiva da Turquia contra forças curdas na região. Poucas horas depois do anúncio da medida, na segunda-feira (07.10.2019), a televisão síria registrou imagens de explosões atribuídas a militares turcos. Os curdos são uma etnia, de origem asiática, composta por cerca de 31 milhões de pessoas (estatística 2019). Como não possuem um país organizado, vivem espalhados pelos territórios de alguns países asiáticos.



(g1. Disponível em <https://glo.bo/31gWjty>. Acesso em 16.10.2019. Adaptado)

A maior concentração de curdos se encontra na Síria, Turquia,

- a) Irã e Iraque
- b) Iraque e Arábia Saudita.
- c) Irã e Afeganistão.
- d) Iraque e Paquistão.
- e) Irã e Líbano.

9. (VUNESP/TRANSERP/2019 - AGENTE ADMINISTRATIVO) Oito civis morreram e 30 ficaram feridos em um bombardeio neste sábado contra um acampamento de deslocados no Iêmen, anunciou neste domingo uma coordenadora da ONU, sem indicar os supostos autores do ataque.

(Jornal do Brasil. 27.01.2019. Acessível em <https://bit.ly/2CVhE1g>. Adaptado)

Os ataques no Iêmen se devem

- a) às sanções aplicadas pelos EUA contra seu programa nuclear.
- b) às disputas com Omã pelas reservas de petróleo.
- c) à guerra civil que assola o país nos últimos três anos.
- d) ao conflito com a Eritreia pelo controle do mar vermelho.
- e) às ações de pirataria no Golfo de Aden.

(CEBRASPE/PGE-PE/2019 – ANALISTA JUDICIÁRIO) O Oriente Médio é a região de confluência de três continentes (Europa, Ásia e África), berço das primeiras civilizações (egípcia, suméria e babilônica) e das religiões monoteístas (cristianismo, judaísmo e islamismo). Além de rivalidades interimperialistas no passado, com tentativas tardias de renascimento e modernização, a região foi alvo de rivalidades também das megacorporações petrolíferas. Além disso, em pequenos Estados fracos — de fácil controle —, essa região foi afetada pela fragmentação promovida pelos ingleses e, em menor escala, pelos franceses. No século XXI, voltou a ser palco de disputas entre potências industrializadas do Atlântico Norte e em acelerada industrialização da Ásia Oriental e Meridional. Esse conjunto de países abrange o essencial do mundo árabe e muçulmano, interagindo em um único cenário histórico e geopolítico.

Paulo Fagundes Visentini. O grande Oriente Médio. Campus, 2014, p. 4-5 (com adaptações).

Tendo como referência o assunto abordado no texto, julgue os itens a seguir, dentro de um contexto geopolítico contemporâneo.



10. Em meio à tensão que envolve a guerra na Síria, o Estado iraniano é um dos principais apoiadores do regime de Bashar al-Assad.

11. A instabilidade vivida no Iraque, na Síria e na Jordânia tem causado o avanço territorial do grupo extremista Estado Islâmico no Oriente Médio.

12. A finalidade do alinhamento irrestrito entre os Estados islâmicos da Arábia Saudita e do Irã é o combate ao Estado israelense.

13. A aliança estratégica de Washington com Riad e de Moscou com Damasco contribui para o aumento da tensão geopolítica no Oriente Médio entre os EUA e a Rússia.

(QUADRIX/CRQ 4ª REGIÃO/2019 – PROFISSIONAL DE ATIVIDADES ESTRATÉGICAS) O presidente americano, Donald Trump, alertou que haverá “punição severa” caso haja confirmação da participação saudita no caso do desaparecimento do jornalista Jamal Khashoggi e afirmou que pedirá uma cópia dos áudios divulgados, mas também deixou claro que não gostaria de se afastar da Arábia Saudita.

Internet: <www.bbc.com> (com adaptações).

Tendo o texto acima apenas como referência inicial, julgue os itens.

14. Um dos motivos do desejo de Trump de se manter próximo da Arábia Saudita é o poder petrolífero do país, grande produtor e regulador do preço dessa fonte energética.

15. Potência militar regional, a Arábia Saudita tem grande proximidade com a Rússia no plano militar, o que interfere na estratégia geopolítica dos Estados Unidos na região.

16. O governo saudita tem se mostrado um frágil colaborador dos Estados Unidos no combate ao terrorismo, tendo participado de forma irrelevante nas operações contra o extremismo islâmico no Oriente Médio.

17. (FGV/COMPESA/2018 – ANALISTA DE GESTÃO) O Oriente Médio tem estado no centro dos debates das relações internacionais, em função dos graves desafios geopolíticos que o caracterizam. Sobre o Oriente Médio, assinale a afirmativa correta.

a) Apresenta conflitos de ordem regional, nos quais minorias étnicas e religiosas são perseguidas, como é o caso dos curdos no Iraque e na Turquia, e dos palestinos, em Israel.

b) Está dividido em blocos de alianças, um dos quais, o árabe sunita, é liderado pelo Egito e pela Arábia Saudita, os dois maiores produtores de petróleo da região.

c) Possui centros de difusão do jihadismo internacional, como a Turquia e a Jordânia, com importantes campos de treinamento para o Hezbollah.

d) Está inserido na agenda política internacional dos Estados Unidos, tradicional aliado das monarquias do Golfo Pérsico, do Estado de Israel e da Turquia.



e) É área de influência da Rússia que, para garantir sua hegemonia, mantém bases militares no norte do Irã, na Síria e no canal de Suez.

18. (IESES/ALGÁS/2017 – ANALISTA DE PROJETOS ORGANIZACIONAIS) No final de 2010, o mundo presenciou uma onda de protestos promovida na sua maioria por jovens no Oriente Médio e no norte do continente africano. Podemos afirmar:

a) A primavera árabe foi um movimento, uma onda de protestos e revoluções ocorridas no Oriente Médio e norte do continente africano em que a população foi às ruas para derrubar ditadores ou reivindicar melhores condições sociais de vida. Sobre os países envolvidos, podemos citar: Tunísia, Egito, Líbia, Síria, Kuwait, Líbano, Mauritânia, Marrocos, etc.

b) Países com ditadores que foram combatidos pelos jovens durante os protestos da primavera árabe: Tunísia, Arábia Saudita, Sudão, Afeganistão, Cazaquistão, Paquistão, Yêmen, Irã, Noruega.

c) Dos países que participaram da primavera árabe, muitos deles livraram-se de seus ditadores, um destes apenas a guerra civil ainda ceifa diversas vidas e permanece no regime ditatorial: Iraque.

d) A primavera árabe foi uma série de protestos de jovens árabes e africanos de origem muçulmana, que através da internet chamaram o povo às ruas para reclamarem do custo de vida, do desemprego e sobre a imigração. O movimento foi centralizado no continente asiático, mais precisamente em Israel.

19. (FEPESE/PREFEITURA DE FRAIBURGO/2017 – AUDITOR FISCAL) Em relatório das Nações Unidas, a guerra civil da Síria foi classificada como “grande tragédia do século 21”. Sobre a Síria e esse conflito, é incorreto afirmar:

a) Apesar de ter assinado a Convenção de Armas Químicas, evidências apontam para o uso desse tipo de armamento pelo governo sírio.

b) De caráter político, a guerra civil na Síria não envolve divergências religiosas.

c) Sucedendo seu pai Hafez al-Assad, Bashar al-Assad está à frente do governo Sírio desde 2000.

d) Na tentativa de fugir do conflito, milhares de sírios buscam refúgio em outros países, incluindo o Brasil.

e) A guerra civil da Síria iniciou-se como uma revolta popular contra a forte repressão do líder do governo.

20. (IDECAN/CM CEL FABRICIANO/2017 - AUXILIAR ADMINISTRATIVO) “Civilização que se desenvolveu no sudoeste da Ásia numa região de clima quente e seco coberta por desertos e é considerada o berço da civilização islâmica.” Trata-se da civilização:

a) Inca.

b) Árabe.

c) Egípcia.

d) Romana.



21. (CESPE/CPRM – TÉCNICO EM GEOCIÊNCIAS) O Oriente Médio é uma das mais tensas regiões do mundo contemporâneo. Nele, interesses econômicos, sobretudo os ligados ao petróleo, se juntam a divergências políticas e animosidades religiosas para fazer daquela área um foco permanente de conflitos. O país que, na atualidade, se tornou símbolo de tragédia humanitária, representada por milhares de migrantes que buscam abrigo na Europa, e que sofre os males de uma guerra civil, a ação de grupos insurgentes e a violência do terrorismo é a

- a) Síria.
- b) Turquia.
- c) Palestina.
- d) Arábia Saudita.
- e) Jordânia.

22. (IDECAN/PREFEITURA DE MARILÂNDIA – AGENTE ADMINISTRATIVO) Estabelecido em grande parte da região norte da Síria, o Curdistão é:

- a) Uma região habitada pelo maior grupo étnico do mundo, sem Estado próprio e fragmentado entre vários países.
- b) Um grupo de origem palestina, de ideologia sunita, que se organiza por um partido político e brigadas armadas.
- c) Um povo que se caracterizara, sobretudo, por formar uma nação de guerreiros, governada por uma aristocracia militar que vem se expandindo no norte da África e no Oriente Médio.
- d) O grupo terrorista mais agressivo da região, originário do Iêmen, que vem cometendo uma série de atentados na Europa, principalmente em nações aliadas aos EUA, como França e Grã-Bretanha.

23. (INSTITUTO CIDADES/CONFERE – AUDITOR) A Primavera Árabe foi uma onda revolucionária de manifestações e protestos que ocorreram no Oriente Médio e no Norte da África a partir de dezembro de 2010. Os protestos compartilharam técnicas de resistência civil em campanhas sustentadas envolvendo greves, manifestações, passeatas e comícios, bem como o uso das mídias sociais, como Facebook e Youtube, para organizar, comunicar e sensibilizar a população e a comunidade internacional em face de tentativas de repressão e censura na Internet por partes dos Estados, além de se oporem aos regimes ditatoriais em toda aquela região. Essa onda de protestos nos países de origem árabe iniciou-se:

- a) Na Tunísia, com a derrubada do ditador Ben Ali.
- b) Na Líbia, com a morte de Muammar AL-Gaddafi.
- c) Em Israel, com a independência da Palestina.
- d) Na Síria, na guerra civil contra Bashar AL-Assad.



24. (IDECAN/PREFEITURA DE MARILÂNDIA – AGENTE ADMINISTRATIVO) O grupo extremista Hezbollah presente na região oeste da Síria tem sede e grande atuação em que país do Oriente Médio?

- a) Irã.
- b) Israel.
- c) Iraque.
- d) Líbano.

GABARITO



- | | | |
|------|-------|-------|
| 1. A | 9. C | 17. A |
| 2. C | 10. C | 18. A |
| 3. E | 11. E | 19. B |
| 4. C | 12. E | 20. B |
| 5. E | 13. C | 21. A |
| 6. E | 14. C | 22. A |
| 7. B | 15. E | 23. A |
| 8. A | 16. E | 24. D |



LISTA DE QUESTÕES – A QUESTÃO ISRAEL-PALESTINA - MULTIBANCAS

1. (INSTITUTO VERBENA/TJ-AC/2024) A faixa de Gaza é um território estreito de 362 Km² que faz fronteira leste com Israel, oeste com o mar mediterrâneo e sul com o Egito. Conhecida como a maior prisão a céu aberto do mundo por estar sob controle de Israel, nela viviam 2 milhões de palestinos, jovens em sua maioria – quase metade da população tem menos de 18 anos. Desde outubro de 2023 esse território foi imposto a bloqueio total de alimentos, medicamentos, água, combustível e eletricidade, um ataque que atinge muitos civis causando suas mortes, perpetrado por um conflito entre grupos sionistas de Israel contra o Hamas, formado por palestinos extremistas. As raízes históricas desse conflito têm sua origem

A) na revolução fundamentalista de 1979 no Irã com o governo de Aiatolá Khomeini.

B) na guerra dos Seis Dias envolvendo a luta entre árabes e judeus e marcada pelo massivo avanço da população palestina sobre territórios israelenses.

C) na criação do Estado de Israel e a partilha da Palestina, em razões historicamente determinadas.

D) no descumprimento, pelo Estado de Israel, das Convenções de Genebra e Protocolos Adicionais podendo ser responsabilizado na Corte Internacional de Justiça de Haia.

(QUADRIX/CRT-SP/2023) Quanto ao conflito entre Israel e Palestina, julgue os itens.

2. O mundo vive em uma constante convulsão social, pois, ao fim da guerra na Ucrânia, veio a continuidade voltada ao conflito no Oriente Médio, entre o grupo militante Hamas e as forças militares de Israel.

3. Hamas e Fatah são dois grupos políticos islâmicos aliados, mas que divergem no que diz respeito à instauração de um Estado árabe na Palestina.

4. Como aliados regionais importantes do grupo militante Hamas, têm-se o governo do Irã e o Hezbollah, este último um grupo fundamentalista islâmico do Líbano.

5. O apoio incondicional do Brasil a Israel segue a estratégia de continuar figurando como um País sul-americano forte e que quer fortalecer a parceria político-econômica com os Estados Unidos.

(QUADRIX/CRT-SP/2023) A respeito do conflito atual entre Israel e Palestina, julgue os itens a seguir.

6. O Hamas tem como um dos aliados o Hezbollah, uma organização política e paramilitar fundamentalista islâmica libanesa, que atua na Faixa de Gaza e em países do Oriente Médio.

7. Para Israel, o grupo libanês Hezbollah é considerado uma ameaça maior que o Hamas, por possuir um arsenal mais sofisticado.



8. O fato de o Hamas ter um terço da população da Palestina a seu lado como combatente da jihad islâmica é a razão pela qual Israel apresenta um certo receio estratégico quanto aos ataques a Gaza.

9. A análise sobre o conflito israelo-palestino tem a previsibilidade de que passe para nações ocidentais e, por isso, o sobressalto dos países europeus é tratado como pertinente pelos analistas e pela mídia em geral.

10. O chamado Eixo da Resistência regional, o qual é anti-Israel e antiocidental, responde por uma aliança entre Síria, Irã, Hamas e Hezbollah.

11. Apesar de o Hamas receber recursos de particulares, de instituições islâmicas e do Catar, o maior financiador do citado grupo militante e inimigo de Israel é o governo do Irã.

(QUADRIX/CRO-TO/2023) No que diz respeito a assuntos da atualidade do Brasil e do mundo, julgue os itens.

12. Diante da posição da Organização das Nações Unidas (ONU) contrária a Israel nos conflitos do Oriente Médio, o Brasil desligou-se dessa instituição multilateral.

13. Hoje, o Oriente Médio deixou de ser visto como uma região importante na geopolítica mundial.

(QUADRIX/CRO-TO/2023) No que diz respeito a assuntos da atualidade e do mundo, julgue os itens.

14. O Oriente Médio permanece na condição de uma das áreas mais problemáticas do mundo, seja por disputas políticas, seja por intolerância religiosa ou, ainda, por ser importante no jogo da política internacional.

15. A criação formal do Estado da Palestina, ocorrida há uma década, acirrou a instabilidade política na região, especialmente devido ao apoio recebido de Israel para que se concretizasse o sonho palestino de um lar nacional.

(CEBRASPE/CBM-AL/2021 – ASPIRANTE) Em 21 de maio de 2021, primeiro dia de cessar-fogo na cidade de Gaza, o médico Hazem Abu Moteh aproveitou para visitar Atta Darwish, seu professor na época da faculdade. “Fomos ao mercado Abu Dalal, comemos doces e tâmaras. Nós rimos tanto. Graças a Deus, a guerra acabou”, disse Hazem. “Hoje (ontem), comemoramos o Eid Al-Fitr (fim do jejum do ramadã) com atraso. Vimos crianças lindas e felizes, com roupas novas. Não há mais o som de ambulâncias ou de bombas caindo”, relatou.

Internet: (com adaptações).

Acerca dos mais recentes conflitos entre o governo de Israel e o grupo Hamas, julgue os itens seguintes.

16. Em maio de 2021, os mais recentes e mútuos ataques entre Israel e palestinos deixaram mortos e feridos na Faixa de Gaza, território onde cristãos, judeus e muçulmanos se dividem às margens do Mediterrâneo.



17. Na atualidade, a difusão, nas redes sociais, de fake news acerca do conflito entre israelenses e palestinos contribui para a desinformação e para debates acalorados fundamentados em informações distorcidas.

(QUADRIX/CREF-SE/2019 - ASSISTENTE ADMINISTRATIVO) Jerusalém já foi ocupada, destruída, sitiada, atacada e capturada muitas vezes por diferentes povos – entre eles egípcios, babilônios, romanos, árabes e judeus – em cerca de três mil anos de história.

Internet: <www.bbc.com>.

A respeito dos aspectos políticos da Jerusalém atual, julgue os itens.

18. Além, obviamente, de Israel, três países consideram Jerusalém, atualmente, como a capital do Estado judeu: Estados Unidos; Guatemala; e Paraguai.

19. A cidade é considerada como sagrada para os adeptos de três grandes religiões monoteístas do mundo.

20. Para a Organização das Nações Unidas, o status de Jerusalém deverá ser definido nas negociações entre israelenses e palestinos.

21. (CESPE/FUB – VÁRIOS CARGOS) As tensões no Oriente Médio se elevaram no pós-Segunda Guerra Mundial, quando, por resolução das Nações Unidas, decidiu-se pela partilha do território conhecido como Palestina, para nele serem criados dois Estados: um judeu e outro, árabe.

22. (CESPE/FUB – VÁRIOS CARGOS) Segundo a posição oficial do governo de Tel Aviv, Israel, para garantir a integridade de seu território, tem impedido, inclusive pelo uso de armas, a criação do Estado da Palestina, objetivo historicamente defendido pela unanimidade dos países árabes.

GABARITO



- | | | |
|------|-------|-------|
| 1. C | 9. E | 17. C |
| 2. E | 10. C | 18. E |
| 3. E | 11. C | 19. C |
| 4. C | 12. E | 20. C |
| 5. E | 13. E | 21. C |
| 6. E | 14. C | 22. E |
| 7. C | 15. E | |
| 8. E | 16. E | |



LISTA DE QUESTÕES – AFGANISTÃO – MULTIBANCAS

1. (QUADRIX/CRT-BA/2023) O Brasil tem recebido afegãos fugidos do regime Talibã, pois, desde que os Estados Unidos retiraram suas tropas do Afeganistão, o fundamentalismo islâmico tomou o citado país asiático.
2. (QUADRIX/CRP-18/2022) No Afeganistão, a tomada de poder pelo Talibã imprimiu uma nova política educacional, com revisão das disciplinas ministradas, mas, por falta de estrutura física nas universidades do país, ainda é permitido que as mulheres estudem próximas aos homens em um mesmo ambiente.
3. (CESGRANRIO/BASA/2022 - TÉCNICO CIENTÍFICO) Considere o texto a seguir sobre os talibãs.

Duas décadas depois de serem expulsos do poder pelos Estados Unidos, os fundamentalistas voltaram ao comando do país, deflagrando uma série de problemas de segurança, principalmente para os Estados vizinhos. A Rússia vai convidar os talibãs para negociações internacionais em Moscou, em 20 de outubro - anunciou o enviado do Kremlin, Zamir Kabulov. Ao ser questionado pelos jornalistas sobre se o Talibã seria convidado para a reunião, que terá representantes de China, Irã, Paquistão e Índia, Kabulov, respondeu “sim”. Não especificou quem, do governo talibã, seria convidado. Esta conferência internacional acontece na sequência de uma cúpula extraordinária do G20, em 12 de outubro de 2021.

Disponível em: <https://exame.com>. Acesso em: 20 nov. 2021.

Nos conflitos geopolíticos atuais, os talibãs são um grupo originariamente atuante no

- (A) Irã.
- (B) Iêmen.
- (C) Iraque.
- (D) Paquistão.
- (E) Afeganistão.

4. (FGV/PREFEITURA MUNICIPAL DE PAULÍNIA/2021 – FARMACÊUTICO) Três grandes conflitos forjaram a história recente do Afeganistão – os dez anos de resistência dos mujahidin contra a URSS (1979-1989), os quatro anos de guerra civil entre os senhores da guerra afegãos (1992-1996) e os 20 anos de ocupação americana, após o 11 de Setembro (2001-2021). Nessas quatro décadas, o Talibã figurou como o principal protagonista do país. Sobre o Talibã, assinale a afirmativa correta.

- (A) É uma organização terrorista responsável por ataques às embaixadas ocidentais no Paquistão e na Europa, em retaliação à publicação de charges sobre o profeta Maomé.
- (B) Formou-se nas madrassas, escolas corânicas xiitas afegãs e paquistanesas, de onde se origina o termo talib, que significa estudante.



(C) Surgiu enquanto milícia na década de 1990, no norte do Paquistão, sob a liderança do mulá Mohammed Omar, que se destacou combatendo as forças da OTAN.

(D) É um movimento fundamentalista e nacionalista islâmico, que zela pela imposição da interpretação rígida da sharia, incluindo a obrigação do uso da burka pelas mulheres.

(E) É um grupo político jihadista islamista que se autoproclama um califado e pretende ter autoridade religiosa sobre todos os muçulmanos, além das fronteiras do Afeganistão.

GABARITO



1. C
2. E
3. E
4. D



LISTA DE QUESTÕES – TERRORISMO - MULTIBANCAS

1. (CESPE/TCU – TÉCNICO FEDERAL DE CONTROLE EXTERNO) A definição de terrorismo é bastante controversa, mas há um consenso básico: terroristas são aqueles que lutam contra o Estado e também contra um de seus elementos básicos, o povo.
2. (FUNIVERSA/SEAP DF/AGENTE DE ATIVIDADES PENITENCIÁRIAS - ADAPTADA) Nas últimas décadas, o terrorismo tem atuado em escala global e, em larga medida, é praticado por pessoas ou grupos identificados com posições religiosas radicais e fundamentalistas.
3. (FUNIVERSA/SEAP DF/AGENTE DE ATIVIDADES PENITENCIÁRIAS - ADAPTADA) O terrorismo adquiriu extraordinária dimensão com o ataque que surpreendeu os Estados Unidos da América, em 11 de setembro de 2001, tendo atingido o Pentágono, em Washington, e as torres gêmeas do World Trade Center, em Nova Iorque.
4. (FUNIVERSA/SEAP DF/AGENTE DE ATIVIDADES PENITENCIÁRIAS - ADAPTADA) Particularmente célebre pelas atrocidades cometidas contra suas vítimas, muitas das quais decapitadas a sangue frio em cenas gravadas e postadas na Internet, o Boko Haram identifica-se como grupo armado comprometido com a defesa de Israel.
5. (FUNIVERSA/SEAP DF/AGENTE DE ATIVIDADES PENITENCIÁRIAS - ADAPTADA) Uma estratégia adotada por grupos terroristas sediados no Oriente Médio é atrair jovens ocidentais para as suas fileiras, embora evitem a cooptação de africanos e europeus.
6. (CESPE/FUB - ADAPTADA) Há consenso entre os especialistas de que as ações terroristas protagonizadas por seguidores radicais do Islã, como o Estado Islâmico e a Al-Qaeda, refletem um choque de civilizações no qual o Oriente se insurge contra a histórica dominação ocidental.

GABARITO



1. E
2. C

3. C
4. E

5. E
6. E



MIGRAÇÕES

Antes de iniciarmos nosso estudo sobre as migrações, é necessário que vocês entendam alguns conceitos relacionados a esse tema:

- **Migrante:** é um termo genérico para qualquer pessoa que se desloca do país, estado ou região em que nasceu. Migram por escolha própria, de forma voluntária;
- **Emigrante:** é quem deixa o seu local de nascimento para viver em outro país, estado ou região;
- **Imigrante:** é aquele que entrou em outro país, estado ou região para ali viver;
- **Imigrante irregular:** é a pessoa que entra irregularmente em um país, que vive irregularmente no país e que não é aceita oficialmente pelo governo do país em que chega. Também é denominado de imigrante indocumentado ou ilegal porque não possuem um documento de autorização para entrar e/ou permanecer no país em que chegou;
- **Deslocados à força:** são pessoas que voluntariamente não migrariam, mas são forçadas a deixar seus lares devido ao fato de a sua sobrevivência estar ameaçada por causa de conflitos armados, graves violações de direitos humanos, tragédias ambientais e desastres naturais e grave situação socioeconômica, seja uma guerra civil interna, uma guerra entre países, ameaças de grupos terroristas, perseguições por questões de raça, de etnia, de religião, de nacionalidade, de opinião política, de extrema pobreza, de secas severas etc. Os deslocados à força podem ser **refugiados** ou **deslocados internos**;
- **Refugiados:** são os deslocados à força que atravessaram uma fronteira internacional para buscar proteção. Pelas normas internacionais, o refugiado deve receber proteção integral da nação que o recebe antes mesmo da conclusão do processo de regularização de sua situação, por meio da concessão de asilo. Essa regra é válida mesmo em situações emergenciais, de grandes levas de pessoas que abandonam em massa seus países, como na guerra entre a Rússia e a Ucrânia;
- **Deslocados internos:** são pessoas deslocadas à força, mas que permaneceram dentro de seu próprio país, que não atravessaram uma fronteira internacional para buscar proteção. Mesmo tendo sido forçadas a deixar seus lares, os deslocados internos permanecem legalmente sob proteção de seu próprio Estado – mesmo que esse seja a causa de sua fuga;
- **Solicitante de asilo:** para a Organização das Nações Unidas (ONU), é a pessoa que pediu proteção internacional e aguarda a concessão do status de refugiado;
- **Asilado:** para a ONU, é o refugiado aceito oficialmente pelo país ao qual pediu refúgio.

O deslocamento dos indivíduos por diferentes espaços geográficos em busca de melhores condições de vida é um fenômeno que acompanha a história humana. Nas últimas décadas, contudo, os movimentos migratórios entre países e continentes intensificaram-se, principalmente, devido ao desenvolvimento desigual das regiões e à multiplicação de conflitos.



Se os deslocados internos e os refugiados são forçados a abandonar seus locais de origem por motivos de conflitos ou perseguições, os migrantes tradicionais o fazem por escolha própria, sobretudo por **motivação econômica**.

Deslocados à força no mundo

Conforme a **Agência de Refugiados da ONU (ACNUR)**, o número de pessoas deslocadas à força no mundo na atualidade é recorde e só encontra precedente no período que se seguiu à II Guerra Mundial. De acordo com o relatório Tendências Globais sobre Deslocamento Forçado 2022, até o final de 2022, **o número de pessoas deslocadas por guerras, violência, perseguições e abusos de direitos humanos atingiu o recorde histórico de 108,4 milhões**, um aumento de 19,1 milhões em relação ao ano anterior, a maior elevação já registrada.

Do total global, **a maior parte (58%) são de deslocados internos**, representando 62,5 milhões de pessoas, 32,5% são refugiados, representando 35,3 milhões de pessoas. Os restantes são requerentes de asilo e outras pessoas com necessidade de proteção internacional.



O **ACNUR**, Alto Comissariado das Nações Unidas para Refugiados, é uma agência da ONU que atua para assegurar e proteger os direitos das pessoas em situação de refúgio em todo o mundo.

A guerra na Ucrânia foi o principal fator de deslocamento forçado para outros países em 2022. O número de pessoas refugiadas da Ucrânia aumentou de 27.300, no final de 2021, para 5,7 milhões, no final de 2022, representando o fluxo mais rápido de pessoas internacionalmente deslocadas em qualquer lugar desde a Segunda Guerra Mundial. Todavia, o número mais expressivo de pessoas refugiadas na atualidade é proveniente da Síria.

Os países de origem dos maiores contingentes de refugiados na atualidade são:

1. **Síria (6,5 milhões)** - o país passa por uma guerra civil, iniciada em 2011, que já dura mais de uma década;
2. **Ucrânia (5,7 milhões)** - atualmente em guerra com a Rússia, que invadiu seu território em fevereiro de 2022;
3. **Afganistão (5,6 milhões)** - a retomada do poder pelo grupo extremista Taliban, em 2021, foi o grande responsável pelo elevado volume de refugiados;
4. **Venezuela (5,4 milhões)** - dentre os cinco países com mais deslocados à força internacionalmente, é o único que não se encontra em um conflito armado, mas passa por uma grave crise socioeconômica;



5. **Sudão do Sul (2,2 milhões)** - após ter conquistado sua independência em 2011, o país nunca conseguiu se estabilizar politicamente, sendo frequentes os conflitos violentos entre forças do governo e grupos armados da oposição.

Por sua vez, os países que abrigam o maior número de refugiados no mundo são:

1. **Turquia (3,6 milhões)** - a grande maioria dos refugiados são sírios;
2. **Irã (3,4 milhões)** - a grande maioria dos refugiados são afegãos;
3. **Colômbia (2,5 milhões)** - o país abriga grande parte dos refugiados venezuelanos na América do Sul;
4. **Alemanha (2,1 milhões)** - abriga refugiados da Ucrânia, da Síria, da Ucrânia e de diversos locais da África e Oriente Médio;
5. **Paquistão (1,7 milhões)** - abriga sobretudo refugiados do Afeganistão, mas também de outros países próximos.

Os números mostram que são os países de baixa e média renda do mundo – e não os estados ricos – que recebem a maioria das pessoas deslocadas à força. Os 46 países menos desenvolvidos respondem por menos de 1,3% do produto interno bruto global, mas abrigam mais de 20% de todas as pessoas refugiadas. Os países vizinhos são os que mais recebem refugiados, a exemplo da Turquia, que é vizinha da Síria, do Paquistão e do Irã, que são vizinhos do Afeganistão, da Colômbia, que é vizinha da Venezuela, e da Polônia, que é vizinha da Ucrânia.

Panorama atual das migrações

Assim como o número de refugiados, o montante de migrantes no planeta segue uma tendência de crescimento ao longo das últimas décadas.



Se os deslocados internamente e os refugiados são forçados a abandonar seus locais de origem por motivos de conflitos ou perseguições, os migrantes tradicionais o fazem por escolha própria, sobretudo por motivação econômica.

De acordo com o relatório *“International Migration 2020 Highlights”*, elaborado pelo Departamento de Assuntos Econômicos e Sociais das Nações Unidas (UN DESA, sigla em inglês),

- Em 2000, o número de pessoas que viviam fora do seu país de nascimento ou cidadania era de 173 milhões;
- Em 2010, esse número passou para 221 milhões;
- Em 2020, chegou aos 281 milhões.



A maior parte dos migrantes busca se deslocar para países de rendimentos mais elevados, o que faz com que representem quase 15% da população total nos países de rendimento elevado e menos de 2% nos países de rendimento médio e baixo.

Dentre esses países, os Estados Unidos é o principal destino dos migrantes internacionais: 18% dos migrantes internacionais moram em solo norte-americano. A União Europeia (UE) é o segundo maior destino.

O contingente mais expressivo de imigrantes que chega aos Estados Unidos provém da América Latina e do Caribe. Na Europa, a maioria é originária das ex-colônias africanas e do próprio continente. Esse movimento se acelerou a partir de 2004, com a adesão à UE de países do antigo bloco soviético.

Países produtores de petróleo e nações ricas do Golfo Pérsico, no Oriente Médio, como os Emirados Árabes Unidos e o Catar, também são importantes destinos migratórios. Com um mercado de trabalho forte no setor da construção civil, esses países têm hoje os estrangeiros como maioria de sua população. O Sudeste Asiático é igualmente uma região com intenso fluxo migratório, geralmente de países extremamente pobres, como Mianmar, para nações em desenvolvimento, como a Tailândia.

No processo de migração de países pobres em direção aos países ricos, tem-se uma importante movimentação financeira. Grandes fluxos de remessas de capitais são enviados pelos migrantes para seus familiares radicados nos países de origem. Em alguns países de economia mais fragilizada, como Haiti, Jamaica e Cuba, tais envios chegam a representar parte significativa do Produto Interno Bruto (PIB).

Países ricos e desenvolvidos são bastante seletivos e rígidos na entrada de imigrantes provenientes de países pobres e em desenvolvimento. A menos que sejam trabalhadores altamente qualificados ou pessoas ricas, as chances de ingresso legal nas nações do mundo desenvolvido são muito restritivas. A maior parte desses migrantes vem de ex-colônias de países como a França e o Reino Unido, territórios que foram dominados e explorados no passado, com a imposição da língua e da cultura da metrópole colonial. Por essas relações políticas, econômicas e culturais do passado e do presente, são buscados como opção por migrantes de países africanos, asiáticos e do continente americano. No entanto, encontram muitas barreiras para o ingresso legal nos países ricos.

Dessa forma, a imigração irregular passa a ser a opção, por meio da ação dos traficantes humanos que levam os migrantes por rotas migratórias perigosas. O custo dessas travessias não é barato, as condições são precárias e com muitos casos de abuso, violência física e sexual. O mar Mediterrâneo é uma importante e perigosa rota de pessoas provenientes da África e da Ásia em direção ao continente europeu. São frequentes os casos de naufrágio de embarcações precárias e superlotadas que levam à morte centenas de pessoas anualmente. Outra via perigosa é a travessia pelo deserto na fronteira do México com os Estados Unidos, onde são frequentes as notícias de morte, de abuso, de violência e de abandono por parte dos traficantes de pessoas.

Ocorre que parcela expressiva das centenas de milhares de pessoas que tentam entrar anualmente nos Estados Unidos e nos países europeus está fugindo de condições que colocam as suas vidas em risco, buscando assim a condição de refugiados. São deslocamentos forçados.

Nacionalismo

Na era da economia globalizada, na qual há grande liberdade de circulação de capital e uma facilitação da circulação de produtos e serviços, seria natural pensar que as migrações fossem favorecidas. As fronteiras,



entretanto, estão cada vez mais fechadas às pessoas. O protecionismo comercial cresceu, os Estados Unidos travam uma guerra comercial com a China e a guerra entre a Rússia e a Ucrânia redesenhou as relações geopolíticas no mundo. A globalização econômica enfraqueceu. Fala-se inclusive em uma **desglobalização**.

As crises econômicas são cíclicas no capitalismo. O acelerado desenvolvimento tecnológico tem levado a profundas mudanças no mundo do trabalho, com uma precarização das relações de trabalho. Para solucionar ou minimizar seus problemas fiscais, os governos têm cortado benefícios sociais e feito reformas estruturais como as previdenciárias, aumentando a idade para aposentadoria. Nessa situação de aperto, os estrangeiros são cada vez menos bem-vindos.

Nesse contexto, segmentos das sociedades apontam, como uma das causas dos seus problemas, os projetos de integração, como o da UE, e voltam a olhar para si mesmas como nações individualizadas, com interesses próprios a defender. Floresce o **nacionalismo**, sentimento que valoriza a unidade da nação e sua identidade cultural, na língua, nos costumes, nas tradições e na religião. Quando exacerbado, esse nacionalismo enterra o ideal de um mundo em cooperação e passa a prevalecer a competição e as rivalidades nacionais.

Em compasso com o crescimento do nacionalismo, em diversos países com forte afluxo de imigrantes, a extrema direita vem obtendo bons resultados nas urnas, em uma ascensão relacionada à defesa que esses partidos fazem de políticas isolacionistas, protecionistas e contrárias à imigração. Rotular o estrangeiro como inimigo passou a ser uma estratégia cada vez mais usada para justificar os problemas internos e obter ganhos políticos. Um exemplo foi o Brexit, a saída do Reino Unido da UE, uma das maiores expressões políticas do sentimento anti-imigratório.

A xenofobia

A xenofobia é a **aversão a pessoas estranhas a seu meio**, geralmente estrangeiras, com língua, costumes ou religiões diferentes, e baseia-se em um sentimento de superioridade de uma cultura sobre outra e na crença em estereótipos.

Alguns contextos socioeconômicos podem intensificar a xenofobia. As épocas de crise ou de recessão econômica, com elevadas taxas de desemprego, são exemplos dessa piora. Em geral, se o trabalho realizado pelos imigrantes se limita àquele que a população local não quer realizar e não afeta a sua própria situação laboral, a sua presença é mais aceita.

A maior competição por recursos limitados (vagas de emprego, vagas em escolas públicas, leitos de hospitais, entre outros) costuma levar a população local a realizar discursos ou a ter comportamentos xenófobos com os estrangeiros, buscando restringir sua entrada no país ou pedindo, em alguns casos, a sua expulsão. A ideia que subjaz a essas atitudes é de que se deve priorizar o atendimento e o funcionamento de serviços públicos aos nativos, especialmente em situações de crise, em que os recursos financeiros do Estado se encontram limitados.

Após a crise econômica mundial de 2008, intensificou-se a xenofobia, sobretudo na UE.

No contexto da xenofobia, destaca-se a **islamofobia**, que é o sentimento de repúdio ao islamismo, por parte das sociedades de países cristãos e de cultura ocidental. Essa atitude é maior em países com mais migrantes de religião e cultura islâmica, porém, é minoritário, mas consegue repercutir com significância nas suas sociedades.



Algo que contribui para isso é o fato de uma ínfima parcela de adeptos do Islã utilizarem o nome da religião para ações radicais e extremistas, como atentados terroristas com o objetivo de obter ganhos políticos para a sua causa. A repercussão dos atentados afeta negativamente a expressiva maioria dos muçulmanos, que repudia os atos extremistas de violência.

Nessa difícil convivência, o choque cultural entre os costumes islâmicos e a tradição ocidental é frequente. O uso em espaços públicos de vestimentas islâmicas que cobrem integralmente o rosto - burca e nikab - são proibidos ou restringidos em países como a França, Bulgária, Áustria, Bélgica e Dinamarca.

O bem que o migrante faz

Segundo um estudo do McKinsey Global Institute, os migrantes econômicos, que normalmente se deslocam para países mais desenvolvidos do que o de origem, produzem mais de 9% de toda a riqueza gerada no mundo. São quase US\$ 7 trilhões ao ano – US\$ 3 trilhões a mais do que se eles tivessem permanecido em sua terra. A maior parte dessa riqueza fica no país de destino.

Na Europa atual, o trabalhador imigrante é muito útil. As declinantes taxas de natalidade no continente levam ao envelhecimento populacional – o aumento na proporção de idosos sobre a de jovens. Como consequência, faltará mão de obra no futuro para sustentar o crescimento econômico. Até 2060, haverá no continente apenas dois trabalhadores para cada indivíduo acima de 65 anos, a metade da proporção atual, o que deve sobrecarregar o sistema previdenciário.

Além disso, nos países desenvolvidos há diversos postos de trabalho que, por exigirem menor capacitação e pagarem menores salários, não conseguem ser preenchidos pelos cidadãos locais. Essas vagas, contudo, são muito valiosas para os migrantes econômicos e os refugiados. Isso sem falar que as ondas migratórias também acabam atraindo profissionais bem-preparados e muitos talentosos que rendem grandes dividendos.



ORGANISMOS, ORGANIZAÇÕES E GRUPOS INTERNACIONAIS

Galera, nesta parte da aula, vamos estudar os principais organismos e organizações internacionais relacionados à política, às relações internacionais e à economia mundial.

Também, vamos ver três importantes grupos de países da área econômico-política: G-20, G-7 e BRICS.



Vem comigo!

ONU

A ONU foi criada em 24 de outubro de 1945, após a II Guerra Mundial. A motivação para a sua criação está relacionada com os conflitos internacionais que destruíram diversos territórios e vitimaram milhares de pessoas, trazendo, assim, à tona a necessidade de buscar a paz entre as nações. A organização conta com 193 países membros e tem como propósitos:

- Manter a paz e a segurança internacionais;
- Desenvolver relações amistosas entre as nações;
- Realizar a cooperação internacional para resolver os problemas mundiais de caráter econômico, social, cultural e humanitário, promovendo o respeito aos direitos humanos e às liberdades fundamentais; e
- Ser um centro destinado a harmonizar a ação dos povos para a consecução desses objetivos comuns.

Em sua estrutura, destacam-se cinco órgãos principais: Assembleia Geral, Conselho de Segurança, Conselho Econômico e Social, Corte Internacional de Justiça e Secretariado. A seguir, aprofunda-se mais sobre a Assembleia Geral e o Conselho de Segurança.

A **Assembleia Geral das Nações Unidas** reúne todos os 193 países-membros da organização. Aprova resoluções que não são vinculativas para os membros, exceto a aprovação de matéria orçamental. A Assembleia pode fazer recomendações sobre quaisquer matérias no âmbito da ONU, excetuando as questões que estão sob consideração do Conselho de Segurança.

Essa assembleia ocorre anualmente e o Brasil tradicionalmente é o primeiro país a discursar. Essa prática foi estabelecida em 1955, durante o mandato de Oswaldo Aranha como presidente da Assembleia Geral. Naquela época, a delegação brasileira fez uma solicitação para que o país fosse o primeiro a discursar, e essa solicitação foi aceita pelos outros membros da Assembleia Geral, posteriormente se mantendo e refletindo a importância atribuída ao Brasil na comunidade internacional.

O **Conselho de Segurança** é o responsável por manter a paz e a segurança entre as nações. Tem poder para deliberar sobre o envio de missões de paz para áreas em conflito e definir sanções econômicas para países que não cumpram com as suas decisões. Enquanto outros órgãos das Nações Unidas só podem fazer



"recomendações" para os governos membros, o Conselho de Segurança tem o poder de tomar decisões vinculativas, que devem ser seguidas pelos estados membros da ONU.

O Conselho de Segurança é composto por 15 Estados-membros, sendo **cinco membros permanentes** — **China, França, Rússia, Reino Unido e Estados Unidos** — e **dez membros temporários**, mantidos em mandatos de dois anos conforme votado na Assembleia Geral sobre uma base regional.

Todos os membros participam das discussões e votações, mas **apenas os membros permanentes têm poder de veto**. Assim, quando um desses países não concorda com alguma resolução, ele pode barrar a medida, mesmo que a decisão tenha sido aprovada por todos os outros 14 membros ou pela Assembleia Geral da ONU. É comum os países do Conselho de Segurança vetarem medidas contra seus aliados. Esse poder de veto dos membros permanentes provoca longos impasses entre as principais potências, o que impede a organização de cumprir a sua missão prioritária de garantir a paz.

O Conselho de Segurança é considerado o centro do poder político mundial. A criação da ONU foi arquitetada pelas potências que venceram a II Guerra Mundial: os Estados Unidos, a França, o Reino Unido, a antiga União Soviética (atualmente a Rússia) e a China. Esses países desenharam a distribuição do poder na ONU e são até hoje os únicos membros permanentes do Conselho.

A divisão de poder na ONU é criticada por não refletir as transformações pelas quais o mundo passou desde a criação da entidade. O Japão e a Alemanha, derrotados na II Guerra Mundial, tornaram-se duas das economias mais ricas do mundo atualmente e não participam das principais decisões da ONU. Por sua vez, economias emergentes, como o Brasil e a Índia, ganharam peso político no cenário internacional e reivindicam uma vaga permanente no Conselho de Segurança, mesmo sem direito a veto.

Em meio a esse contexto, o Brasil e outros países defendem que o Conselho de Segurança deve ser reformado para melhor refletir essa nova realidade global. Uma das principais ações da política externa brasileira no século XXI tem sido a defesa dessa reforma, sobretudo nos discursos da assembleia geral. O Brasil deseja ser incluído, juntamente com a Índia, Japão e Alemanha, no grupo de países com assento permanente no Conselho.



O Brasil já ocupou por 11 vezes um assento não permanente no Conselho de Segurança das Nações Unidas. A última vez que isso ocorreu foi no biênio 2022-2023.

A ONU também é formada por diversas agências autônomas que atuam em áreas temáticas, como a UNESCO, na educação, ciência e cultura, FAO, na agricultura e alimentação, OIT, no trabalho, OMS, na saúde, OMM, meteorologia e clima, e ACNUR, no caso dos refugiados.



OEA

A Organização dos Estados Americanos (OEA) reúne os 35 países das três Américas e do Caribe. A entidade possui quatro pilares de atuação: democracia, direitos humanos, segurança e desenvolvimento.

Dentro dessas áreas, trabalha de muitas formas, como na observação independente de pleitos eleitorais, acompanhamento de denúncias de violação aos direitos humanos, mediação de possíveis conflitos de diversas naturezas entre seus membros e ajuda econômica e humanitária em desastres naturais. Em 2013, por exemplo, a Venezuela se retirou do Sistema de Direitos Humanos da OEA, alegando que as decisões do órgão não são isentas. Nos últimos anos, a Comissão de Direitos Humanos da OEA denunciou o país por não punir os casos de violação de direitos humanos.

CELAC

A Comunidade dos Estados Latino-Americanos e Caribenhos (CELAC) é um bloco regional intergovernamental composto pelas 33 nações da América Latina e Caribe. Sua composição é equivalente à da OEA, sem Estados Unidos nem Canadá. A criação do grupo ocorreu no México, em 2010.

A aliança busca a **integração latino-americana e caribenha**, além da coordenação política, econômica e social dos países. Na pauta, entram temas como desarmamento nuclear, agricultura familiar, cultura, energia e meio ambiente, com a América Latina em busca de autonomia.

Apesar de recente, a ideia de criação da Comunidade nasceu na década de 1980, quando surgiu o chamado Grupo de Contadora, formado por México, Venezuela, Colômbia e Panamá. Os países eram contrários à política intervencionista do então presidente dos Estados Unidos, Ronald Reagan.

A partir de 1985, outros países se juntaram. Entre eles, Brasil, Argentina, Peru e Uruguai, formando o Grupo do Rio, com o objetivo de fortalecer a democracia e o desenvolvimento econômico e social.

Nas décadas seguintes, mais países se aliaram: Bolívia, Chile, Costa Rica, Cuba, Equador, Nicarágua e Paraguai. Com a expansão de governos progressistas na América Latina em 2008, surge a chamada "onda rosa", onde os governos de orientação à esquerda eram maioria na América Latina.

Na época, o então presidente Lula convocou um encontro com líderes da região na Costa do Sauípe, na Bahia. Foi o primeiro grande encontro com governos latino-americanos e caribenhos sem a participação dos Estados Unidos ou Europa.

Em 2020, o governo de Jair Bolsonaro decidiu retirar o Brasil da Celac, por divergências políticas e ideológicas com Cuba e Venezuela. O protagonismo, que antes era do Brasil, passou a ser disputado por países como Chile, México e Argentina. **Em 2023, no entanto, o presidente Lula recolocou o Brasil nesse bloco regional.**



UNASUL e PROSUL

A União das Nações Sul-Americanas (Unasul) é uma organização intergovernamental regional composta por países da América do Sul, criada em 2008. Surgiu com o objetivo de **articular e fomentar a integração dos países sul-americanos** em âmbito político, econômico, social e cultural. No seu auge, chegou a ter como membros todos os países sul-americanos.

A Unasul foi criada em um momento de maioria de governos de esquerda na América do Sul, situação que se inverteu a partir de 2015, com a ascensão de governos de direita, conservadores e liberais no continente. Essa mudança de rumos políticos se refletiu na entidade, resultando em divergências entre os países na tomada de decisões. Vários países se retiraram da Unasul, incluindo o Brasil, no governo de Jair Bolsonaro, em 2019.

O passo seguinte foi a criação do **Fórum para o Progresso da América do Sul (Prosul)**. O grupo foi oficializado em 2019. Assinaram o documento de lançamento Argentina, Brasil, Chile, Colômbia, Equador, Paraguai, Peru e Guiana. Entretanto, pode-se dizer que o Prosul fracassou como instância de integração dos países sul-americanos. Peru, Argentina, Bolívia e Chile se retiraram do Fórum nos anos seguintes.

Com o retorno de Luís Inácio Lula da Silva à presidência, o **Brasil voltou a fazer parte da Unasul**. O projeto brasileiro é de retomada do protagonismo da organização na integração regional sul-americana. No entanto, a proposta encontra resistência de vários países, como o Chile e o Uruguai, que defendem uma integração mais programática e menos ideológica. Quanto ao Prosul, ainda não está claro se, sob o governo Lula, o Brasil continuará a fazer parte do grupo.

FMI

O Fundo Monetário Internacional (FMI) é uma organização financeira criada para promover a estabilidade monetária e financeira no mundo e oferecer empréstimos a países em dificuldades financeiras. Os empréstimos são concedidos em troca do comprometimento dos países com metas, como equilíbrio fiscal, reforma tributária, desregulamentação, privatização e concentração de gastos públicos em educação, saúde e investimento em infraestrutura, entre outras políticas que são denominadas como Consenso de Washington.

Banco Mundial

O Banco Mundial tem como objetivo oferecer financiamento e assistência técnica a países para promover seu desenvolvimento econômico. Criado em 1944 e composto por duas instituições principais – o Banco Internacional para a Reconstrução e o Desenvolvimento (Bird) e a Associação Internacional de Desenvolvimento (ADI) –, o Banco Mundial é formado por 189 países-membros. Iniciou suas atividades auxiliando na reconstrução dos países da Europa e da Ásia após a II Guerra Mundial.



OCDE

A Organização para a Cooperação e o Desenvolvimento Econômico (OCDE) articula políticas de educação, saúde, emprego e renda entre países ricos e alguns emergentes ou em desenvolvimento. Fundada em 1961, substituiu a Organização Europeia para a Cooperação Econômica, criada em 1948 no quadro do Plano Marshall.

Membros da OCDE: Alemanha, Austrália, Áustria, Bélgica, Canadá, Chile, Colômbia, Coreia do Sul, Costa Rica, Dinamarca, Eslováquia, Eslovênia, Espanha, Estados Unidos, Estônia, Finlândia, França, Grécia, Holanda, Hungria, Irlanda, Islândia, Israel, Itália, Japão, Luxemburgo, México, Noruega, Nova Zelândia, Polônia, Portugal, Reino Unido, República Tcheca, Suécia, Suíça e Turquia.

A Costa Rica se tornou o 38º país a fazer parte da Organização, em maio de 2021. A Colômbia tinha sido o 37º, ingressou em abril de 2020. Com a adesão formal da Costa Rica, a América Latina passa a ter quatro países na organização (México, Chile e Colômbia já fazem parte).

O Brasil almeja fazer parte do grupo, tendo iniciado seu caminho de adesão em 1991. Mas somente em 2017, no governo de Michel Temer, o Brasil pediu formalmente para entrar no grupo.

No mês de setembro de 2022, o Brasil enviou ao grupo um memorando formal de adesão. Agora, a adesão do Brasil à organização será avaliada por vários comitês e deverá ser completada entre 3 a 5 anos.

Para entrar na OCDE é necessário a implementação de uma série de medidas macroeconômicas, como o controle inflacionário e fiscal, além de medidas de transparência na gestão pública e de combate à corrupção. Em troca, o país ganha um "selo" de investimento que pode atrair investidores pelo globo.

OTAN

A Organização do Tratado do Atlântico Norte (OTAN) ou NATO (North Atlantic Treaty Organization) é uma aliança política e militar liderada pelos Estados Unidos, formada em 1949, após a Segunda Guerra Mundial, por 12 países: Bélgica, Canadá, Dinamarca, Estados Unidos, França, Holanda, Islândia, Itália, Luxemburgo, Noruega, Portugal e Reino Unido. Atualmente fazem parte da OTAN 32 países.

O grupo foi fundado com o objetivo principal de conter e limitar a expansão da União Soviética (URSS) pela Europa. Para isso, a organização se estabeleceu como uma aliança de segurança coletiva com o objetivo de proporcionar defesa mútua por meios militares e políticos, se um de seus membros for ameaçado por um Estado externo.

O grupo possui caráter defensivo, isto é, a OTAN não atacaria outro país, mas se um membro da organização for atacado, os demais países-membros deveriam reagir como se sua própria nação tivesse sido ultrajada. O artigo 5º do tratado afirma que "um ataque armado contra um ou mais" Estados-membros "será considerado um ataque contra todos eles".



Em contraposição à criação da OTAN, a URSS e seus aliados do bloco socialista criaram o **Pacto de Varsóvia, em 1955**. Mas, ao longo da Guerra Fria, nenhum ataque aos membros da OTAN ou do Pacto de Varsóvia ocorreu. Frente ao colapso econômico e político, a União Soviética acabou em 1991, junto com o Pacto de Varsóvia.

Quando isso ocorreu, imaginou-se que a OTAN tinha perdido sentido, já que não havia mais um bloco militar inimigo a ser dissuadido de atacar um dos membros da aliança. No entanto, a OTAN passou a assumir novos papéis.

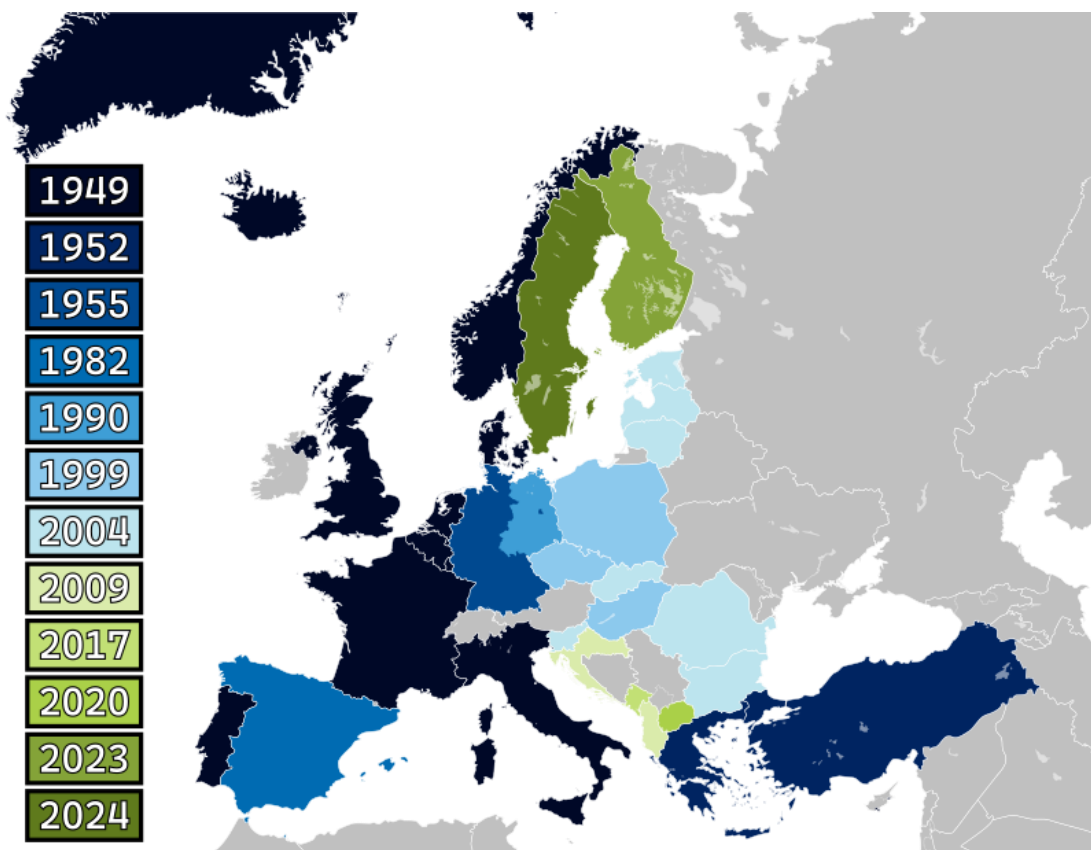
Além de ver o terrorismo como nova ameaça, a organização passou a atuar em outros campos, colaborou com operações de paz e de ajuda humanitária.

Nos anos 1990, a organização se envolveu na guerra civil iugoslava, na região dos Balcãs, no sudeste da Europa. Sem consultar a ONU, seus aviões bombardearam forças sérvias que ameaçavam outros grupos étnicos envolvidos no conflito. Aqui a OTAN atacou, mesmo sem nenhum país da aliança ter sido atacado, rompendo com o princípio de atuação defensiva.

Em 2001, a OTAN participou da invasão do Afeganistão e sua ocupação pelos Estados Unidos, pois os ataques terroristas ocorridos em setembro de 2001 foram considerados atos de guerra pelo governo estadunidense.

O grupo também continuou se ampliando, principalmente para a região do Leste Europeu, absorvendo países que eram integrantes do Pacto de Varsóvia e pertenciam à antiga esfera geopolítica soviética. Desde então, 19 outros países se juntaram à organização. A adesão mais recente é a da Suécia, em 2024.

Observe essa expansão pela Europa no mapa abaixo:



Nos anos recentes, a Ucrânia tem pleiteado a entrada ao grupo, o que não tem sido bem aceito pela Rússia. Como a União Soviética e a ameaça do comunismo não existem mais, a expansão da OTAN é vista por Moscou como a continuação de uma Guerra Fria e uma tentativa de cercar e isolar a Rússia. Dessa forma, a participação da Ucrânia na aliança militar representaria uma ameaça à segurança nacional russa.

Esse foi um dos motivos alegados pelos russos para a sua invasão militar na Ucrânia em 2022. Mas, apesar das boas relações com os EUA e o Ocidente, a Ucrânia não é parte da OTAN, e não se beneficia do chamado Artigo 5º, que considera um ataque contra um dos membros como um ataque a todos.



Em resposta à invasão da Ucrânia pela Rússia, a **Finlândia e a Suécia** solicitaram suas entradas no grupo, em maio de 2022.

Em abril de 2023, a Finlândia entrou oficialmente para a Otan e se tornou o 31º membro da aliança militar. Já a entrada da Suécia foi oficialmente aprovada no mês de março de 2024, se tornando o 32º membro do grupo.

BRICS

A sigla BRIC foi criada pelo economista britânico **Jim O'Neill**, em 2001, para se referir ao **Brasil, Rússia, Índia e China**, os principais países emergentes. O'Neill projetou que o grupo poderá se constituir na maior força econômica mundial em 2050, superando os Estados Unidos e a UE.

Os quatro países gostaram dessa sigla e, em 2009, formalizaram um grupo diplomático para discussão de iniciativas econômicas e posições políticas conjuntas. Desde então, o grupo realiza reuniões anuais de cúpula, com seus chefes de Estado. Em 2011, a África do Sul, na época a maior economia da África, foi convidada e passou a integrar o grupo.

Os cinco países dos BRICS têm características comuns: são países com economia e indústria em expansão, o mercado interno está crescendo e incluindo milhões de novos consumidores. Quatro têm territórios extensos e entre os maiores do mundo: Rússia, China, Brasil e Índia. Os quatro são países populosos: a Índia tem a maior população do mundo, a China a segunda, o Brasil a sétima e a Rússia a nona maior população mundial.

Também ancoram a economia desses países importantes fatores para o comércio internacional. A Rússia é rica em recursos energéticos e grande exportadora de petróleo, gás natural e carvão. O Brasil é grande exportador de minérios, como a África do Sul, e o maior exportador mundial de alimentos. A China se tornou o maior fabricante e exportador de produtos industrializados e a Índia está entre os 10 maiores fabricantes de produtos industriais.



O grupo criou o seu próprio banco de desenvolvimento, o **Banco dos Brics** (Novo Banco de Desenvolvimento – NDB) e um fundo financeiro de emergência, o **Arranjo Contingente de Reservas**. A criação do banco não significa que os países-membros do grupo não vão mais participar do Banco Mundial. O banco dos BRICS se coloca como mais uma alternativa de fomento ao desenvolvimento e está aberto a qualquer país do mundo.

O Arranjo Contingente de Reservas é um fundo financeiro de emergência para ajuda mútua e servirá para ajudar no controle do câmbio quando houver crises financeiras globais. Em momentos de especulação internacional, a tendência é o dólar disparar. O dinheiro do fundo servirá para segurar a cotação do dólar.

Os países dos BRICS reclamam uma maior participação no poder de decisões do Banco Mundial e do FMI. Essas instituições foram criadas um ano antes do final da Segunda Guerra Mundial, em 1944, na Conferência de Bretton Woods, nos Estados Unidos. Até hoje, os Estados Unidos e a UE detêm o seu poder.

A ordem econômica global atual não é mais a mesma do pós-guerra e do período da Guerra Fria, em que Estados Unidos, Japão, Reino Unido, França e Alemanha dominavam o mundo capitalista. A criação do Novo Banco de Desenvolvimento e do Arranjo Contingente de Reservas, de certa forma, é uma resposta dos BRICS ao não atendimento das reivindicações dos países emergentes por maior distribuição do poder de decisões no Banco Mundial e FMI.

Em agosto de 2023, durante a 15ª Cúpula do BRICS, o grupo anunciou a sua ampliação com a inclusão de novos membros. Arábia Saudita, Emirados Árabes Unidos, Egito, Irã e Etiópia foram convidados e passaram a fazer parte do grupo como membros plenos a partir de 1º de janeiro de 2024. A Argentina também tinha sido convidada, mas, com a mudança de governo, desistiu de integrá-lo.

A composição do grupo ficou sendo a seguinte: **África do Sul, Arábia Saudita, Brasil, China, Egito, Emirados Árabes Unidos, Etiópia, Índia, Irã e Rússia.**

Com essa expansão, o grupo passou a representar 36% do PIB global (em paridade do poder de compra) e 46% da população mundial.

Para o Brasil, a participação nos BRICS representa uma importante estratégia de inserção internacional, que busca aproveitar as potencialidades e oportunidades oferecidas por esse agrupamento de países emergentes para promover os interesses do Brasil e contribuir para o desenvolvimento global.



(FGV/PREFEITURA DE SÃO JOSÉ DOS CAMPOS – SP/2023) Em agosto de 2023, o agrupamento de países emergentes que integra o BRICS anunciou o início de um processo de expansão, passando a integrar novos membros.

A respeito do BRICS e de seu funcionamento, assinale a afirmativa correta.

- A) Objetiva defender os interesses dos países produtores e exportadores de petróleo no mercado global.
- B) Zela pela manutenção da paz e da segurança internacional com a adoção de medidas obrigatórias para seus membros.



- C) Prioriza a oferta de empréstimos a países em desenvolvimento para o combate à pobreza.
- D) Atua como foro multilateral para regulamentar o comércio internacional das commodities produzidas por seus membros
- E) Abre espaços de diálogo para seus membros, identificando interesses comuns, de modo a ampliar a cooperação em setores específicos.

Comentários:

A) Incorreto. O BRICS não tem um foco exclusivo na defesa dos interesses de países produtores de petróleo. Esse é, na realidade, o objetivo da Organização dos Países Exportadores de Petróleo (OPEP), um cartel formado por países produtores e exportadores de petróleo. O BRICS é um grupo diplomático e informal que busca promover a cooperação econômica, política e cultural entre seus membros e adotar posições conjuntas para influenciar questões globais.

B) Incorreto. Embora o BRICS esteja preocupado com a segurança global, não adota medidas obrigatórias para seus membros. O BRICS é um fórum de cooperação e de diálogo, não um órgão de segurança global. No âmbito da ONU, o Conselho de Segurança tem como atribuição zelar pela manutenção da paz e da segurança internacional. As decisões que toma são de cumprimento obrigatório pelos 193 países membros das Nações Unidas.

C) Incorreto. Apesar de os países do BRICS estarem envolvidos em várias iniciativas de financiamento para o desenvolvimento, essa não é a sua prioridade. Eles buscam cooperação em diversas áreas, não apenas o combate à pobreza.

D) Incorreto. O BRICS não é um órgão de regulamentação do comércio internacional de commodities. Essa é uma função desempenhada por organizações como a Organização Mundial do Comércio (OMC).

E) Correto. Essa é uma descrição precisa do papel do BRICS. O grupo promove o diálogo entre seus membros, identificando interesses comuns e ampliando a cooperação em várias áreas, tais como economia, política, cultura e ciência.

Gabarito: E.

G20

O G20 (Grupo dos Vinte) foi criado em 1999 após as sucessivas crises financeiras da década de 1990. Inicialmente, participavam das reuniões do grupo os ministros das finanças e os presidentes dos bancos centrais que debatiam temas relacionados à estabilidade financeira e econômica global. Esse grupo ainda existe e realiza pelo menos quatro reuniões anuais, sendo denominado de G20 financeiro.

Após a eclosão da crise financeira mundial de 2008, o grupo passou a realizar cúpulas anuais com os chefes de Estado, formando o G20 como é conhecido atualmente. Tornou-se o mais importante fórum de cooperação econômica internacional, expandindo a sua agenda para vários temas políticos e sociais como o meio ambiente, o desenvolvimento sustentável, as mudanças climáticas, os conflitos bélicos, a reforma dos organismos internacionais etc.

Os seus membros representam cerca de 85% do PIB mundial, 75% do comércio global e dois terços da população mundial. O grupo é composto por 19 países (África do Sul, Alemanha, Arábia Saudita, Argentina,



Austrália, Brasil, Canadá, China, Coreia do Sul, Estados Unidos, França, Índia, Indonésia, Itália, Japão, México, Reino Unido, Rússia e Turquia) e dois órgãos regionais: a UE e a União Africana, que ingressou no grupo em 2023.

A presença do Brasil no G20 tem sido pautada por uma abordagem pragmática e construtiva, buscando promover o diálogo, a cooperação e a representatividade dos países em desenvolvimento. O Brasil tem se envolvido ativamente nas discussões sobre uma ampla gama de questões econômicas e financeiras, incluindo comércio internacional, investimentos, regulação financeira, desenvolvimento sustentável e erradicação da pobreza.

Dentro do grupo, o Brasil também tem promovido a cooperação Sul-Sul, buscando estabelecer parcerias com outros países em desenvolvimento para enfrentar desafios comuns e promover o desenvolvimento sustentável. Essa abordagem reforça o papel do país como um líder regional e global, capaz de mobilizar recursos e promover soluções inovadoras.

O G20 conta com presidências rotativas anuais. Atualmente, o **Brasil está no exercício da presidência rotativa**, no período entre 1º de dezembro de 2023 a 30 de novembro de 2024. A próxima Cúpula dos chefes de Estado, a 19ª, será realizada no **Rio de Janeiro** nos dias 18 e 19 de novembro de 2024. A Cúpula é o momento do ápice do G20, quando o Brasil passará a presidência rotativa para a África do Sul.

O lema da presidência brasileira é **“Construindo um mundo justo e um planeta sustentável”**. As prioridades do mandato são o combate à fome, à pobreza e à desigualdade, a transição energética, o desenvolvimento sustentável em suas três dimensões (econômica, social e ambiental) e a reforma do sistema de governança internacional.

G7

Trata-se de um grupo diplomático que reúne os sete principais países ricos e desenvolvidos economicamente do mundo. Todos são nações democráticas: Estados Unidos, Alemanha, Canadá, França, Itália, Japão e Reino Unido.

Quando foi criado, na década de 1970, eram os sete países mais industrializados e as sete maiores economias do mundo. Atualmente a China é a segunda e a Índia a sexta maior economia do mundo, mas são países emergentes, em desenvolvimento. O país mais industrializado do mundo é a China

O G7 se reúne para discutir e alinhar posicionamentos sobre temas relevantes da economia e da política mundial. O grupo é muito criticado por um grande número de movimentos sociais globais, que o acusam de decidir uma grande parte das políticas globais, sociais e ecologicamente destrutivas, sem qualquer legitimidade nem transparência.

Com a dissolução da União Soviética e a queda do socialismo real, a Rússia passou a ser membro do grupo, em 1998, que passou a ser denominado de G8. Contudo, devido ao fato de ter anexado a Crimeia, a Rússia foi excluída do grupo em 2014, que voltou a se chamar G7.



GUERRA ENTRE RÚSSIA E UCRÂNIA

No dia 24 de fevereiro de 2022, o presidente da Rússia, Vladimir Putin, anunciou, em um pronunciamento oficial, o início de uma "operação militar especial" na Ucrânia, ao mesmo tempo em que veículos militares russos cruzavam as fronteiras, iniciando, desse modo, a sua invasão militar nesse país.

O entendimento do conflito é um pouco complexo, pois envolve uma sucessão de momentos históricos que remetem à Guerra Fria, com a criação da OTAN e a anexação da Criméia pela Rússia, em 2014. Assim sendo, em um primeiro momento, faremos uma breve retrospectiva histórica para, depois, analisarmos o desenrolar do conflito. Antes de começar, contextualizaremos brevemente os dois países.

Rússia e Ucrânia são nações fronteiriças, situadas no extremo Leste europeu, na divisa do continente com a Ásia e banhadas pelo Mar Negro.



Fonte: <https://techbreak.ig.com.br/confira-o-mapa-das-cidades-ucranianas-atacadas-pela-russia/>

A Rússia, além de ser o país com o maior território do mundo (17.100.000 km²), está em 11º no ranking das maiores economias globais. Sua economia é diversificada e industrializada, mas tem como principais itens de exportação e carros-chefes o gás natural e o petróleo, dos quais o país tem grandes fontes naturais. O gás natural da Rússia é exportado principalmente para países Europa, que dependem muito desse combustível fóssil. A Alemanha, quarta maior economia do mundo, é o principal comprador da energia russa. O país também é um grande exportador agrícola, sendo o maior exportador de trigo do mundo.

A Ucrânia (603.548 km²), por sua vez, é a segunda maior nação da Europa em área, atrás somente da Rússia, porém, está em 58º no ranking das maiores economias globais. Detentor de solos muito férteis, o país é um dos mais importantes produtores e exportadores agrícolas do mundo, desenvolvendo uma moderna produção agrícola, além de ter uma significativa produção mineral. Antes da guerra, era o terceiro maior



exportador mundial de trigo e o quarto de milho. Na produção industrial, o país não tem muito destaque, mas conta com uma forte indústria no segmento de veículos de transportes e aeroespacial.

A Questão da OTAN

Entre os anos de 1947 e 1991, o mundo passou pelo período conhecido como **Guerra Fria**, em que os norte-americanos e os soviéticos disputaram o controle hegemônico do planeta. Os EUA defendiam o capitalismo e a URSS o socialismo. Cada um deles, ao mesmo tempo que fazia esforços para ampliar sua área de influência, tentava conter a expansão do outro. Esses dois países influenciaram o mundo todo no campo político, econômico e ideológico. Poucos permaneceram neutros. Por isso, o período é caracterizado pela bipolarização do mundo.

Como não foi uma guerra direta, ela é denominada “fria”. O arsenal de armas nucleares de ambos os países tornaria um conflito direto insustentável, podendo destruir o mundo mais de uma vez.

Em meio a esse contexto, no ano de 1949, foi fundada a **Organização do Tratado do Atlântico Norte (OTAN)**, uma aliança militar liderada pelos Estados Unidos, formada inicialmente por 12 países: Bélgica, Canadá, Dinamarca, Estados Unidos, França, Holanda, Islândia, Itália, Luxemburgo, Noruega, Portugal e Reino Unido.

Entre seus objetivos estavam conter e limitar a expansão da União Soviética (URSS), de ajuda mútua e caráter defensivo. A OTAN não atacaria outro país, mas, se um membro da organização for atacado, os demais países-membros deveriam reagir como se a sua própria nação tivesse sido ultrajada.

Em contraposição à criação da OTAN, a URSS e seus aliados do bloco socialista criaram o **Pacto de Varsóvia**, em 1955.

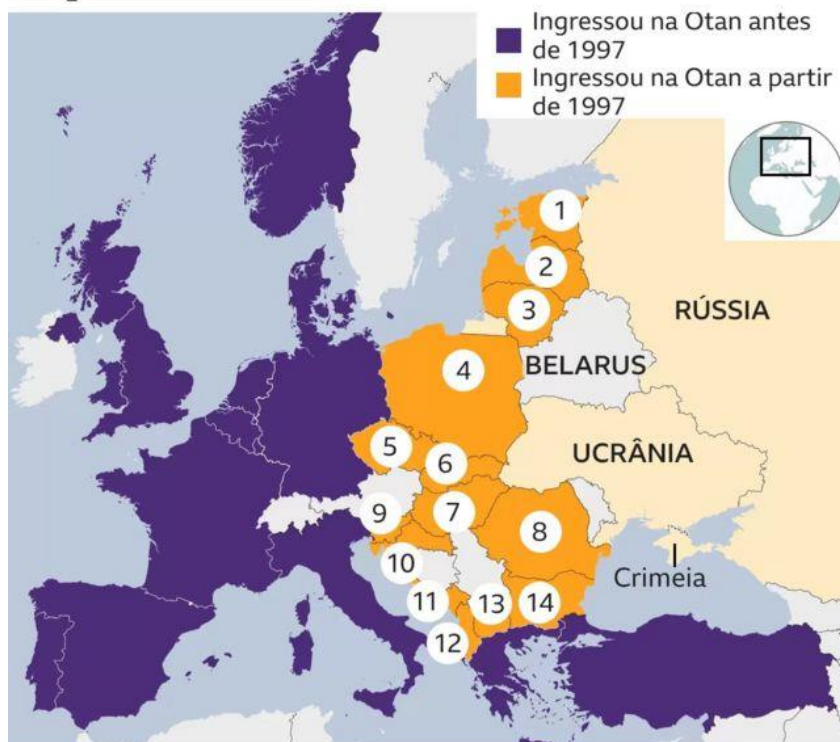
Ao longo das décadas seguintes, o descontentamento popular na URSS foi pressionando a estabilidade do socialismo soviético e do regime do socialismo real nos países socialistas. Em 8 de novembro de 1989, manifestantes derrubam o **Muro de Berlim**, maior símbolo da Guerra Fria. Em março de 1991, uma conferência de ministros dos países-membros do Pacto de Varsóvia anunciava o fim da organização militar que rivalizou com a OTAN. Após intensa crise, a URSS deixou de existir em dezembro de 1991.

Com o fim da União Soviética, da Guerra Fria e da dissolução do Pacto de Varsóvia, em 1991, a OTAN passou a assumir novos papéis. Além de ver o terrorismo como nova ameaça, a organização começou a atuar em outros campos, colaborando com operações de paz e de ajuda humanitária.

A organização militar também passou a se expandir para o Leste Europeu, englobando países que eram integrantes do Pacto de Varsóvia e ex-repúblicas soviéticas, chegando na possível adesão da Ucrânia à aliança militar, que passou a pleitear a entrada no grupo. Atualmente, a Ucrânia é um "país parceiro" do grupo, o que significa que pode ser autorizada a ingressar na aliança em algum momento no futuro.



Expansão da Otan desde 1997



- | | | | |
|------------|--------------------|--------------|----------------------|
| ① Estônia | ⑤ República Tcheca | ⑨ Eslovênia | ⑬ Macedônia do Norte |
| ② Letônia | ⑥ Eslováquia | ⑩ Croácia | ⑭ Bulgária |
| ③ Lituânia | ⑦ Hungria | ⑪ Montenegro | |
| ④ Polônia | ⑧ Romênia | ⑫ Albânia | |

*A Rússia anexou a Crimeia em 2014

BBC

Esse foi um dos fatores principais para justificar a ofensiva militar russa no país. Como a União Soviética e a ameaça do comunismo não existem mais, a expansão da OTAN é vista por Moscou como a continuação de uma Guerra Fria e uma tentativa de cercar e isolar a Rússia. Dessa forma, a participação da Ucrânia na aliança militar representaria uma ameaça à segurança nacional russa.

Segundo a narrativa defendida pelo Kremlin e seus apoiadores, a invasão à Ucrânia seria uma reação às ações tomadas pela própria OTAN contra os interesses russos.

Em resposta à invasão da Ucrânia pela Rússia, a **Finlândia e a Suécia** solicitaram suas entradas no grupo, em maio de 2022. Finlândia e Rússia compartilham uma fronteira de aproximadamente 1,3 mil quilômetros, o que representaria mais um avanço da aliança em direção à fronteira russa. Para que a entrada desses países se efetive, todos os 30 Estados-membros da aliança devem aprovar a filiação nos seus parlamentos.





No dia 4 de abril de 2023, a Finlândia entrou oficialmente para a Otan e se tornou o 31º membro da aliança militar. A Turquia foi o último país a ratificar a decisão da Finlândia de ingressar na Otan. Agora, para a Suécia entrar na aliança militar, resta apenas a ratificação pela Turquia e pela Hungria.

A Criméia e os Territórios Separatistas Pró-Rússia

Durante quase todo o século XX, a Ucrânia fez parte da União Soviética, até sua independência, em 1991. Desde então, o país passou a buscar outra direção para sua política externa, com a tentativa de se aproximar da União Europeia.

No entanto, o país enfrenta desafios internos que dificultam esse movimento. A parte ocidental da Ucrânia, com influência europeia, busca essa aproximação, enquanto a parte oriental e Sul, mais próxima da Rússia, é contrária a ela. **Nas regiões mais próximas à Rússia, a maioria da população fala russo e possui uma identificação étnica mais próxima desse país do que com a Ucrânia.**

Em 2013, o então presidente ucraniano, Viktor Yanukovich, pró-Rússia, desistiu de assinar um acordo de associação e livre-comércio com a União Europeia. Essa ação era um passo essencial para o país ser aceito como candidato a membro da comunidade europeia. O presidente admitiu a influência dos russos na decisão.

A escolha de Yanukovich de não assinar o acordo com a UE desencadeou uma onda de protestos que durou mais de três meses e se espalhou pelo país, levando dezenas de milhares de pessoas às ruas. O resultado disso foram centenas de mortes e a queda do seu governo. O presidente Yanukovich fugiu para a Rússia. O processo ficou conhecido como **Euromaidan**.

Ato contínuo à queda de Yanukovich, na península da Criméia, milícias pró-Rússia ocuparam rapidamente prédios públicos, aeroportos, postos de controle, bases militares etc. Nessa península, a maioria da população é de etnia russa e a grande maioria fala o idioma russo. Os russos da Criméia

Ucrânia dividida

Regiões onde a maioria fala ucraniano querem proximidade com a União Europeia; área onde a língua russa predomina prefere influência de Moscou



g1.com.br

Infográfico atualizado em 11/05/2014

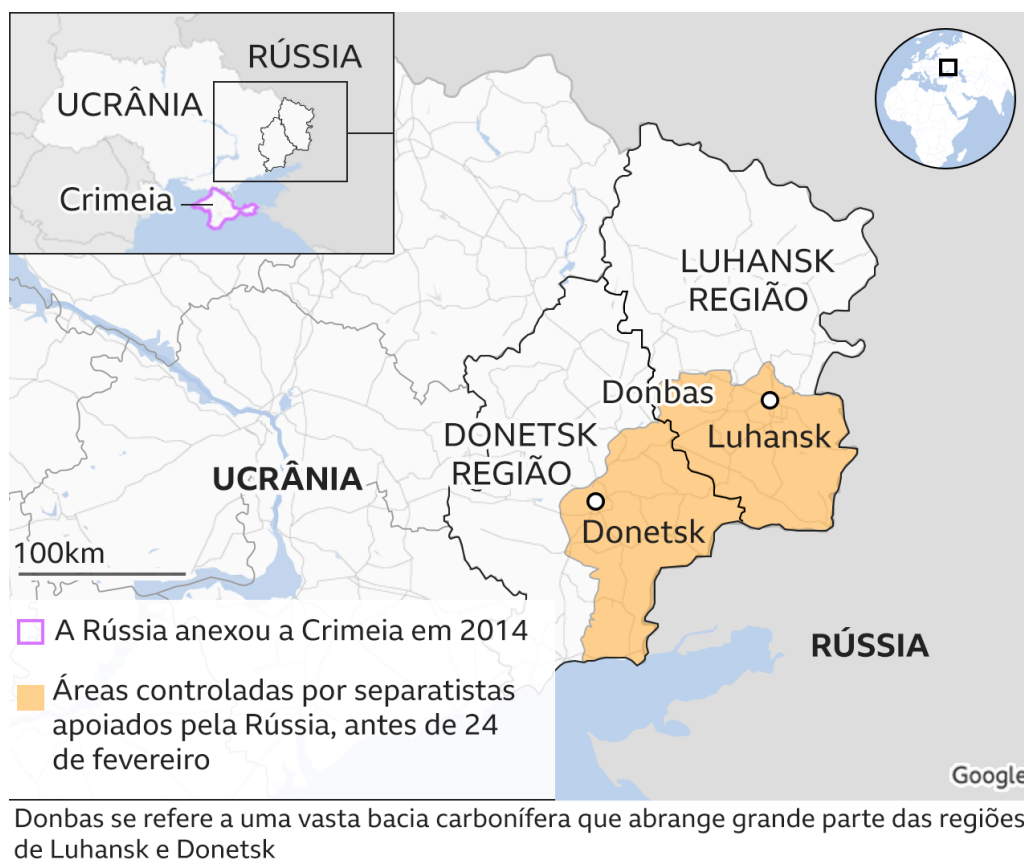


apoiaram as milícias, e o parlamento local aprovou a incorporação da região a Rússia. A decisão parlamentar foi confirmada pela população no referendo realizado em 16 de março de 2014. **No dia 22 de março de 2014, a Crimeia e a cidade portuária de Sebastopol passaram a fazer parte da Federação Russa.**

Após a Criméia, a onda autonomista/separatista chegou ao Leste da Ucrânia, na região conhecida como **Donbas**, região mais industrializada do país e com uma grande população de etnia e falante do idioma russo. Importantes cidades do Leste, como Donetsk e Lugansk, foram tomadas e mantiveram-se desde então sob o controle de grupos armados pró-Rússia.

Sobre essa região, no dia 21 de fevereiro de 2022 - apenas algumas horas antes de anunciar a ofensiva militar na Ucrânia -, Vladimir Putin reconheceu oficialmente a **independência e a soberania das autoproclamadas Repúblicas Populares de Lugansk e Donetsk.**

Putin acusa também o governo ucraniano de **genocídio** contra ucranianos de origem étnica russa que vivem nessas regiões separatistas.



BBC

No mês de setembro de 2022, a Rússia organizou um referendo que questionou cidadãos ucranianos em regiões ocupadas por russos - Kherson, Zaporizhzhia, Luhansk e Donetsk - sobre se queriam se separar da Ucrânia e se anexar à Rússia.

O governo russo anunciou vitória expressiva na consulta pública, que foi rejeitado pela Ucrânia e por diversas nações ocidentais como uma farsa. Ato contínuo, no mês de outubro, o presidente russo, Vladimir Putin,



anunciou oficialmente a **anexação das regiões de Donetsk, Luhansk e grande parte de Kherson e Zaporizhzhia à Rússia**. Veja a localização dessas regiões no mapa abaixo:



O Front de Guerra

Imaginava-se que a Rússia conseguiria rapidamente avançar e conquistar territórios ucranianos, mas desde o início do conflito, a Ucrânia tem conseguido estabelecer uma forte resistência contra os ataques russos e a expansão de suas tropas. Essa resistência, entretanto, não tem sido suficiente para impedir o avanço e a destruição causada pelos russos.

Inicialmente, os russos tentaram tomar diversas partes da Ucrânia com bombardeios e invasão de tropas, incluindo a capital Kiev. No entanto, depois de alguns fracassos, inclusive na capital, os russos passaram a concentrar seus esforços no **Donbas, no Sul e Leste da Ucrânia**.

Nos primeiros meses de guerra, a principal batalha se deu pelo controle da cidade portuária de **Mariupol**, no mar de Azov. Seu controle é considerado estratégico pela Rússia, pois permitiria a ligação da Criméia com a região do Donbas, além de ser um importante centro industrial de importações e exportações para a Ucrânia.

Mariupol também é o lar de uma unidade de milícia ucraniana, incorporada ao exército ucraniano, chamada **Batalhão Azov**, que contém extremistas de direita, incluindo neonazistas. Embora corresponda apenas a



uma fração mínima das forças de combate da Ucrânia, essa tem sido uma ferramenta útil de propaganda para Moscou, oferecendo um pretexto para dizer à população da Rússia que os jovens enviados para lutar na Ucrânia estão lá para livrar seu vizinho de neonazistas. Dentre suas alegações, Putin chegou a mencionar que a invasão tenta "**desmilitarizar e desnazificar**" a Ucrânia.

Após ter sido anunciada a conquista russa de Mariupol, o centro de conflito da guerra se voltou para a cidade de **Bakhmut**, localizada na região de Donetsk, no leste da Ucrânia, mas a Rússia tem enfrentado uma forte resistência ucraniana. A cidade foi completamente destruída por bombardeios de artilharia e combates urbanos, e o conflito pelo controle do local já é reconhecido como uma das batalhas mais sangrentas da guerra e do período pós-Segunda Guerra Mundial na Europa.

O conflito continua em andamento, com a Ucrânia resistindo à invasão russa e buscando apoio internacional.

Apoio Internacional à Ucrânia

Desde que Moscou deu início à invasão, os principais aliados do governo do presidente da Ucrânia, Volodymyr Zelensky, têm sido os Estados Unidos, a OTAN, a União Europeia e alguns outros países tradicionalmente aliados dos Estados Unidos, como o Canadá, Austrália e Nova Zelândia.

Os Estados Unidos, principalmente, a OTAN e a União Europeia estão fortemente enviando armas e dando apoio militar diverso para a Ucrânia, assim como ajuda humanitária.

O amparo à Ucrânia também foi manifestado nas vias diplomáticas, por meio de declarações oficiais e votos para **condenar a ação militar** da Rússia na ONU.

A imposição de um conjunto sem precedentes de **sanções econômicas, financeiras e políticas** contra a Rússia, as empresas russas, os oligarcas e as autoridades políticas também é uma forma de demonstrar apoio. As sanções têm como intuito pressionar a economia russa, em uma tentativa de enfraquecê-la a tal ponto que desista da invasão.

Os governos de vários países que apoiam a Ucrânia adotaram medidas que afetaram os meios de transporte, as transações financeiras e a distribuição de combustíveis e alimentos. Entre essas diversas sanções está a remoção de diversos bancos russos do **Swift**, um sistema de comunicação que permite o pagamento e a transferência de recursos entre empresas de diferentes países, padronizando as informações financeiras.

A instabilidade gerada pela guerra e pelas sanções econômico-financeiras elevou o preço do petróleo e derivados, de determinados alimentos, como o trigo, milho e óleos vegetais, e de minérios pelo mundo. As sanções não têm afetado somente a Rússia, mas os países que aplicaram as sanções também sentem os seus efeitos no aumento dos preços e na inflação.

Nem todos os países repudiam a iniciativa de Vladimir Putin. Alguns líderes manifestaram apoio direto à Moscou. É o caso de Belarus, nação localizada entre a Rússia e a Ucrânia e que disponibilizou seu território como ponto de partida para parte da invasão executada pelo Kremlin. Síria, Venezuela, Cuba e Nicarágua também se posicionaram como aliados de Vladimir Putin.



Já a China tem adotado uma postura mais ambígua. Ao mesmo tempo em que demonstra proximidade e condena as sanções financeiras aplicadas a Moscou, Pequim já chegou a pedir em alguns momentos a diminuição das tensões e até se ofereceu para enviar ajuda humanitária à Ucrânia.

Crise Migratória

Conforme o Alto Comissariado das Nações Unidas para Refugiados (ACNUR), mais de 10 milhões de ucranianos deixaram suas casas até o final de 2022. Mais de 5 milhões foram para outros países, a maioria crianças e mulheres, e há mais de 6 milhões de deslocados internos que foram para regiões da Ucrânia onde não há guerra. Países europeus, principalmente os vizinhos, têm recebido os refugiados. A **Polônia** é o país que mais acolheu refugiados ucranianos. Essa onda migratória é considerada a mais intensa desde a Segunda Guerra Mundial no continente europeu. O Brasil e países de outros continentes também receberam refugiados ucranianos.



AMÉRICA LATINA

O continente americano ou a América se divide em América do Sul, América Central e América do Norte. É uma classificação meramente geográfica.

Já a expressão “**América Latina**” é usada comumente para se referir a todos os países do continente americano com exceção dos Estados Unidos e do Canadá. Contudo, não há nenhuma “lista” oficial de países “latino-americanos” e as diversas fontes de informação divergem um pouco quanto aos países que realmente fariam parte da América Latina.

Porém, aceita-se largamente que a América Latina é composta pelos países da América do Sul, América Central (istmo e ilhas) e México (América do Norte). Nesse espaço geográfico, grande parte da população é falante de línguas latinas, em países ou territórios colonizados por Portugal, Espanha e França.

América Latina



Neste tópico, as bancas costumam cobrar conhecimentos sobre eleições presidenciais e parlamentares, sobre rumores de corrupção em países, relacionados a situações de instabilidade e/ou mudança política e econômica e sobre grandes tragédias, tais como desastres naturais, ambientais e chacinas.

No século XXI, temos visto uma gangorra ideológica na América do Sul. Na primeira década desse século e em parte da segunda década, a centro-esquerda e a esquerda estiveram no poder em grande parte dos países da América do Sul e em parte dos países da América Central, no que ficou conhecida como a “onda vermelha” ou “onda rosa”. Mas já na segunda década, tivemos uma ascensão de partidos e presidentes do espectro político da direita ao centro. No final da segunda década e início da terceira, a centro-esquerda/esquerda voltou a vencer eleições presidenciais e estar no poder em importantes países latinos, o que tem sido denominado de “nova onda vermelha” ou “nova onda rosa”.

Mapa político da América Latina

Em vermelho, governos de centro-esquerda/esquerda. Em azul, governos de direita/centro-direita.



Infográfico elaborado por Poder360



Argentina

Na maior parte do século XXI, a Argentina tem convivido com uma série de problemas econômicos e sociais como a inflação elevada, o desequilíbrio das contas públicas, baixas reservas internacionais em dólares americanos, a escassez de dólares para o pagamento de importações, o desemprego elevado e o aumento da pobreza.

Dentre os vários problemas socioeconômicos que afligem o país, os principais são a elevadíssima **inflação**, que chegou aos 142% em outubro de 2023, e os níveis de **pobreza**, que atingem parcela considerável da população.

Visando controlar a inflação, a taxa básica de juros foi sucessivamente majorada, chegando a 75% ao ano em dezembro de 2022. O país foi o que mais aumentou os juros em 2022, superando, inclusive, a Ucrânia, que está em guerra com a Rússia. A Argentina superou a Venezuela e lidera o ranking de maiores juros nominais do mundo.

Ao final de 2019, assumiu a presidência do país **Alberto Fernández**, peronista, de centro-esquerda, com Cristina Kirchner de vice-presidente. Em seu governo, a situação social e econômica continuou muito difícil e se agravou com a pandemia de Covid-19 e com os impactos econômicos da guerra entre Rússia e Ucrânia. As políticas econômicas realizadas por Alberto Fernández não surtiram o efeito prometido para melhorar a situação econômica do país.

Em meio a este cenário desolador, foi realizada a eleição presidencial em outubro de 2023. Em uma disputa que foi ao segundo turno, o economista libertário **Javier Milei**, venceu o peronista e Ministro da Economia **Sergio Massa**. O presidente eleito tomou posse do cargo no dia 10 de dezembro e governará o país até 2027

Milei ingressou na política em 2021, com um novo partido, chamado **A Liberdade Avança**, e se define como anarcocapitalista, uma corrente que defende um papel mínimo para o Estado. Ele conseguiu se eleger deputado em 2021 e surpreendeu quando ficou em primeiro lugar por ampla margem nas primárias de agosto de 2022, quando os partidos definem seus candidatos, mas que servem como termômetro para as eleições.

A retórica inflamada é uma de suas características marcantes, que fez de suas propostas econômicas seu principal trunfo durante a campanha presidencial. Milei passou a campanha com a promessa de adotar soluções radicais para um quadro econômico em estado crítico. Duas delas, em especial, são as consideradas mais polêmicas:

- Milei propõe a "dolarização da economia", que pretende levar à substituição da moeda nacional peso pelo dólar. O modelo já foi adotado por outros países da região, como o Equador.
- O presidente eleito também falou várias vezes que quer "dinamitar" o Banco Central, acabando com a instituição responsável pela política monetária da Argentina.

Além disso, Milei apresentou como propostas a redução dos gastos estatais e a privatização de empresas públicas. No plano trabalhista, ele propôs a implementação de uma nova legislação trabalhista, sendo o fim



das indenizações por justa causa a principal mudança, além da redução de impostos pagos por empregadores e de impostos sobre o salário dos trabalhadores. Na esfera da segurança pública, também apresentou propostas ousadas, ao defender o porte de armas para uso pessoal da população e a desregulamentação do mercado de armas.

Durante sua campanha, o novo presidente lançou outras ideias polêmicas como a venda de órgãos; criticou a educação e a saúde pública, e afirmou que não faria mais comércio com o Brasil e a China, os quais acusou de serem países comunistas, buscando aproximação com países desenvolvidos e se afastando de países emergentes.

Sua postura irreverente fez com que analistas o comparem a Donald Trump e Jair Bolsonaro. A despeito disso, o fato é que Javier Milei terá que enfrentar uma das piores crises econômicas em décadas no país — senão a pior.

Chile

O processo de elaboração de uma nova Constituição é o principal fato da atualidade relacionado ao Chile. Nos meses de outubro e novembro de 2019, o país viveu uma situação de agitação social e de violência que mudou os rumos de sua história. Após o anúncio de um aumento das passagens do metrô da capital Santiago, grandes protestos se deflagram pelo país, refletindo a insatisfação da população chilena com a sua situação socioeconômica.

A **elaboração de uma nova Constituição** foi a principal medida adotada pelo então presidente, Sebastián Piñera (2018-2022), para pôr fim ao ciclo de protestos. A principal crítica dos chilenos a sua atual Constituição é o fato de que ela foi elaborada durante o período da ditadura militar de Augusto Pinochet (1973-1990). Há um entendimento por grande parte da população de que a Constituição atual, marcadamente liberal, não é mais compatível com a sociedade chilena atual.

Com efeito, foi realizado um plebiscito, em outubro de 2020, para decidir mudar ou não a Constituição chilena. Cerca de 80% dos eleitores votaram a favor da elaboração de um novo texto constitucional. A partir daí, foi elaborado um novo texto constitucional que foi submetido ao referendo da população em setembro de 2022. Nesse referendo, cerca de 60% da população votou pela rejeição do texto da nova Constituição.

A partir dessa rejeição, um novo texto constitucional foi elaborado, por uma nova Assembleia Constituinte, e submetido ao julgamento da população, em dezembro de 2023, que novamente reprovou o texto proposto. É a segunda vez que os chilenos recusam alterações na Constituição.

Peru

Desde 2016, quando a empreiteira brasileira Odebrecht começou a cooperar com a operação Lava Jato para revelar esquemas de pagamentos de propinas, a política peruana tem passado por momentos muito conturbados. Ex-presidentes do Peru foram denunciados por envolvimento em esquemas de corrupção:



Alejandro Toledo (2001-2006), Alan Garcia (2006-2011), Ollanta Humala (2011-2016) e Pedro Pablo Kuczynski (2016-2018).

Também foi citada Keiko Fujimori, uma das principais lideranças políticas do país, filha do ex-presidente Alberto Fujimori (1990-2000) e considerada herdeira do fujimorismo, o legado político do seu pai.

Pedro Pablo Kuczynski, conhecido como PPK, governou de julho de 2016 a março de 2018, quando renunciou para escapar de um processo de impeachment, relacionado a acusações de corrupção com a Odebrecht. No seu lugar assumiu o vice-presidente Martin Vizcarra que sofreu impeachment em novembro de 2020, acusado de corrupção. No governo de Vizcarra, o Congresso foi dissolvido e novas eleições parlamentares foram realizadas.



A atual Constituição peruana foi promulgada em 1993, durante o regime de Alberto Fujimori. O poder legislativo é unicameral no Peru, só há uma casa legislativa, a Assembleia Nacional. O regime político é o semi-presidencialismo. O primeiro-ministro é nomeado pelo presidente da república, cujo gabinete ministerial necessita da aprovação dos parlamentares. A Constituição prevê a possibilidade de dissolução do Congresso se o legislativo rejeitar em três oportunidades durante o mandato presidencial um voto de confiança solicitado pelo presidente da república.

Após a destituição de Vizcarra, mais dois presidentes, eleitos pelo Congresso Nacional, governaram o Peru até a posse de Pedro Castillo: Manuel Merino (10/11/2020 a 15/11/2020) e Francisco Sagasti (16/11/2020 a 28/07/2021).

Em um contexto de grande fragmentação política e acirramento político, foram realizadas eleições presidenciais em 2021. No segundo turno, saiu-se vencedor o esquerdista e líder sindical **Pedro Castillo**, do partido Peru Libre, que venceu a direita Keiko Fujimori, do partido Fuerza Popular. A posse ocorreu em 28 de julho de 2021.

Mas Pedro Castillo também não durou muito no poder. O seu governo foi marcado por muitas polêmicas, crise política com o seu partido e fortíssima oposição política. O primeiro-ministro foi mudado várias vezes durante o seu governo. Foi mais um presidente que sofreu acusações de corrupção. Ele enfrentou dois processos de impeachment, mas não foram obtidos votos suficientes para a sua aprovação na Assembleia Nacional.

Às vésperas da votação de um terceiro processo de impeachment, Pedro Castillo tentou dar um golpe de estado em 7 de dezembro de 2022 decretando a dissolução do Congresso, estado de emergência, toque de recolher, governo temporário de exceção e elaboração de uma nova Constituição.

A Assembleia Nacional ignorou a tentativa de golpe, votou e aprovou o impeachment de Castillo, que foi preso horas depois. Sem apoio militar, político e de setores econômicos, o golpe de estado, ou um "autogolpe", fracassou.



Em seu lugar, assumiu a vice-presidente de sua chapa, Dina Boluarte, do partido Peru Libre, empossada pelo Congresso Nacional. Com a queda de Pedro Castillo e a ascensão de Dina Boluarte, o Peru já contabiliza **seis presidentes da República desde 2018**.

Venezuela

Hugo Chávez governou a Venezuela de 1999 até sua morte, em 2013. No seu governo, ele aplicou políticas estatizantes e antiliberais, e, conquistou uma série de avanços sociais, reduzindo a pobreza de 49% para 27% da população, entre 1999 e 2012. Nesse período, a renda per capita saltou de 4.105 dólares para 10.810 dólares por ano. A Venezuela tornou-se o país menos desigual da América Latina. Boa parte dos avanços sociais foi financiada com a bonança do petróleo, cujo valor atinge preços recordes no período.

Chávez foi um árduo antagonista da influência norte-americana na região. O seu governo caracterizou-se por manter relações hostis com os Estados Unidos, a ponto de ambos os países retirarem seus embaixadores das respectivas capitais em 2010.

No entanto, as conquistas sociais da Era Chávez foram ofuscadas por uma condução política autoritária, marcada por uma série de medidas de concentração de poder. Respalhado por uma bancada favorável no Congresso, Chávez conseguiu aprovar leis que fortaleceram o Poder Executivo e permitiram a reeleição por tempo indeterminado. Além disso, foi acusado de cooptar o Judiciário para ratificar suas medidas e perseguir a oposição. Embora não seja caracterizada como uma ditadura, já que havia eleições livres e justas, a Venezuela tampouco poderia ser considerada uma democracia plena.

Com a morte de Chávez, nova eleição foi realizada na Venezuela, em 2013, da qual saiu-se vencedor Nicolás Maduro, candidato do governista PSUV – Partido Socialista Unido da Venezuela. Maduro foi reeleito em 2018 para mais um mandato, que irá até 2025.

Na atualidade, a Venezuela enfrenta uma **grave crise econômica, marcada pela alta inflação, recessão e escassez de alimentos**. Especialistas apontam como causas a **excessiva dependência do país do petróleo** e a **política de controle de preços**. A oposição culpa a corrupção e a má gestão do governo de Nicolás Maduro pela atual situação do país.

O petróleo responde por grande parte das receitas de exportação da Venezuela. Desde 2014, os EUA e outros países aplicam sanções a pessoas físicas, empresas e entidades petrolíferas associadas ao regime do presidente Maduro, dentro e fora da Venezuela. As exportações de petróleo caíram substancialmente e a indústria petrolífera do país está sucateada.

Com menos recursos provenientes das receitas do petróleo, o governo perdeu a capacidade de importar muitos itens de necessidade básica e reduziu os investimentos sociais. Se a economia fosse mais diversificada, o país não ficaria tão vulnerável à flutuação do preço do petróleo.

Para Maduro, boa parte da responsabilidade pela crise é da oposição, acusada de desestabilizar o país e cooptar empresários para reter seus produtos. O presidente também culpa os Estados Unidos, cujo governo declarou, em 2015, que a Venezuela representa uma “ameaça à segurança nacional e à política externa”



estadunidense. No entender de Maduro, essa é uma forma de os norte-americanos pressionarem investidores estrangeiros a desistir da Venezuela e impedir que bancos internacionais concedam empréstimos ao país.

Todo esse cenário se refletiu na **hiperinflação** pela qual o país passou nos anos recentes, uma das mais longas da história moderna, que durou de 2017 até 2020, quando a alta de preços registrou variações anuais superiores a 100%. Em 2021, o país conseguiu reduzir substancialmente esse número, mas a inflação ainda continua como uma das mais altas do mundo. Uma das principais medidas para essa estabilização foram os cortes de zeros em sua moeda, o bolívar - o último, feito em 2021, retirou seis zeros da moeda.

A conturbada situação política e socioeconômica do país tem feito com que, ao longo dos últimos anos, milhões de venezuelanos tenham deixado o país. Em 2022, segundo dados da ACNUR, a Venezuela era o quarto país no mundo com o maior número de pessoas que se deslocaram para fora do país, com cerca de 5,4 milhões de deslocados. Os venezuelanos buscam se deslocar para países próximos, na América Latina e Caribe. A Colômbia é o país que mais tem recebido esses migrantes e refugiados.



SEPARATISMOS NA EUROPA

Em todo o mundo, há dezenas de movimentos independentistas, como o do Curdistão na Turquia, Iraque, Síria e Irã; o do Tibete na China, da Abecássia e da Ossétia do Sul na Geórgia, de Nagorno Karabakh no Azerbaijão, de Quebec no Canadá, da Groenlândia na Dinamarca e de Santa Cruz, Beni e Pando na Bolívia.

Um continente onde há vários movimentos separatistas ou por maior autonomia é a **Europa**, onde alguns deles estiveram em evidência nos últimos anos. No Reino Unido destacam-se os movimentos independentistas da Escócia, País de Gales e Irlanda do Norte e na Espanha os da Catalunha e do País Basco. Em outros países podemos citar os movimentos de Vêneto e Lombardia, na Itália, Córsega, na França, Kosovo, na Sérvia e Donetsk e Lugansk, na Ucrânia.

A **Escócia** realizou, em setembro de 2014, plebiscito para decidir se permanecia ou tornava-se independente do Reino Unido. 55% dos eleitores votaram contra a separação, ou seja, a maioria decidiu que a Escócia deve continuar fazendo parte do Reino Unido.

Outro caso é o da **Catalunha**, importante região autônoma da Espanha, onde além do espanhol, o catalão também é idioma oficial. A sua capital é Barcelona.

A Catalunha tem 7,5 milhões de habitantes, o que representa 12% da população espanhola. A região é chamada de “motor da economia espanhola”, pois responde por 19% do PIB da Espanha. É o maior PIB entre as comunidades autônomas.

A região responde por 25% de todas as exportações do país e atrai 14% dos investimentos estrangeiros, além de produzir 19% dos automóveis e de liderar o ranking dos maiores destinos turísticos da Espanha, especialmente na capital da Catalunha, Barcelona.

Em outubro de 2017, a região realizou um referendo pela separação catalã da Espanha. Pouco mais de 2 milhões de pessoas (43% do eleitorado) votaram. Desses, 90% dos votos foram a favor da independência. A consulta foi organizada pelo governo regional e aprovada pelo parlamento local. A Justiça espanhola proibiu o referendo e o governo central da Espanha foi contrário à sua realização.

Posteriormente, o Parlamento da Catalunha aprovou uma resolução que prevê “constituir uma República Catalã como um Estado independente, soberano, democrático e social”.

A Constituição espanhola não permite a separação das suas regiões. Com base na lei e em decisão do Senado, o governo espanhol interveio na região autônoma, destituiu o governo local, então liderado pelo separatista Carles Puigdemont e convocou eleições regionais para o mês de dezembro de 2017.

As eleições foram realizadas com um recorde de participação dos eleitores. O comparecimento às urnas foi de 82%. Os partidos separatistas conquistaram 70 cadeiras no parlamento regional e os constitucionalistas (contrários à secessão), 60 cadeiras. Contudo, o resultado mostrou um povo dividido sobre o futuro da sua região. O atual presidente regional é o separatista Quim Torra, eleito pelo parlamento regional.

Na Itália, a população da região do **Vêneto** (Veneza) aprovou, em votação online realizada em março de 2015, a independência em relação a Roma. Embora o pleito não tenha valor legal, o resultado surpreendeu:



89% dos ouvidos votaram pela separação. O resultado deu forças ao grupo separatista “Liga Veneta”, que pretende apresentar ao governo italiano um projeto de independência da região.

Já na Bélgica, os nacionalistas flamengos querem a separação da rica região de **Flandres**, em que se fala o neerlandês, da menos rica Valônia, onde se fala o francês. As raízes do separatismo flamengo remontam as origens da formação da Bélgica como país. Se as aspirações dos separatistas flamengos se concretizarem, a Bélgica pode desaparecer por completo do mapa do mundo.

Embora os argumentos econômicos tenham importância central no debate separatista, no cerne do desejo de independência estão as raízes culturais, étnicas e históricas e um sentimento de identidade nacional.

Por mais legítimo que possa parecer o direito de uma maioria decidir seu alinhamento político, de acordo com seu senso de identidade, a prerrogativa de autodeterminação é limitada no direito internacional. Há um consenso de que isso só pode ocorrer dentro de um processo democrático, transparente e aceito pelo governo central, como aconteceu com o referendo escocês. A realização do pleito foi decidida em 2012, depois de uma longa negociação entre o parlamento escocês e o britânico.



PANDEMIA DE COVID-19

Em dezembro de 2019, uma pneumonia de causas desconhecidas começou a se espalhar por **Wuhan**, uma metrópole da região central da **China** com cerca de 11 milhões de habitantes, capital da província de Hubei. Por meio de estudos, descobriu-se que os sintomas eram causados por um novo tipo de **coronavírus**.

O novo vírus se espalhou rapidamente por países e continentes, o que levou a Organização Mundial de Saúde (OMS) a declarar uma situação de **pandemia** global. A definição de pandemia é usada quando uma doença não se restringe apenas a uma região específica, mas sim por todo o globo.

Contudo, após mais de três anos dessa declaração, a OMS declarou, no mês de maio de 2023, que a Covid-19 **não configura mais emergência em saúde pública de importância internacional**. A emergência havia sido instaurada em 30 de janeiro de 2020 pela organização. A medida foi suspensa 1.191 dias depois de ter entrado em vigor.

A entidade justificou a medida devido à redução drástica e a tendência decrescente de mortes por covid-19, o declínio nas hospitalizações e nas internações em unidades de terapia intensiva (UTI) causadas pelo vírus e os altos níveis de imunidade da população.

De acordo com a entidade, o vírus se classifica agora como “problema de saúde estabelecido e contínuo”. Entretanto, isso não significa que a Covid-19 chegou ao fim enquanto ameaça global de saúde, pelo fato de o vírus ter se disseminado praticamente por todos os países do mundo.

Como é o Vírus

Descobertos na década de 1960, os coronavírus são uma grande família viral e recebem esse nome por causa de **pequenos espinhos que possuem na superfície, que lembram uma coroa**. Eles são considerados zoonóticos, ou seja, são transmitidos entre os animais e pessoas, causando infecções respiratórias em ambos.

O novo coronavírus foi denominado **SARS-CoV-2**. A doença que ele causa foi denominada **Covid-19**. A nomenclatura segue diretrizes internacionais que pedem para não se fazer referência a uma localização geográfica, a um animal, a um indivíduo ou a um grupo de pessoas. As regras pedem também que o nome seja pronunciável e que estabeleçam alguma relação com a doença causada pelo vírus.

Os surtos relacionados a coronavírus geralmente têm origem em animais infectados. A suspeita mais provável é de que o novo vírus tenha sido transmitido para os seres humanos por animais silvestres, como os morcegos, provenientes de um mercado que vendia esses animais vivos, em Wuhan. Na sequência, passou a ser transmitido de humano para humano.



Variantes

Toda vez que um vírus faz suas cópias nas células humanas, está sujeito a erros que levam a mutações no código genético. No caso do coronavírus, essas mudanças estão sendo acompanhadas praticamente em tempo real. Quando um grupo de descendentes (ou uma linhagem, em termos técnicos) do Sars-CoV-2 reúne mutações distintas em comum, passa a ser chamado de **variante**.

No curso da pandemia, algumas variantes foram detectadas, cada uma com suas especificidades de transmissão e sintomas. Assim como na nomenclatura da doença, a OMS utiliza uma nomenclatura para facilitar a identificação e reduzir estigmas geográficos. A ideia é seguir o alfabeto grego conforme novas cepas sejam identificadas.

A OMS classificou-as como **variantes de preocupação** e variantes de interesse. As primeiras são mais transmissíveis e havia a preocupação de que poderiam escapar da imunidade adquirida (via vacina ou infecção natural) e/ou provocar versões mais graves da Covid-19. A seguir, destaco as principais variantes de preocupação:

- **Variante Alfa:** identificada no Reino Unido, em outubro de 2020.
- **Variante Beta:** identificada na África do Sul, em dezembro de 2020.
- **Variante Gama:** identificada no Brasil, ao final de 2020, no estado do Amazonas.
- **Variante Delta:** identificada na Índia, em outubro de 2020.
- **Variante Ômicron:** identificada na África do Sul, ao final de 2021, rapidamente se espalhou pelo planeta, sendo a variante mais transmissível até então. Identificou-se que sua ação no corpo ocorreu de forma mais rápida do que em relação às demais variantes. Foi responsável por um grande surto entre o final de 2021 e início de 2022, mas também teve sua propagação associada ao relaxamento de fim de ano.

Vacinas Contra o Vírus

A velocidade do processo de busca de uma vacina para a Covid-19 superou tudo o que já foi visto até hoje na área de desenvolvimento de imunizantes, normalmente um processo demorado e trabalhoso, que envolve várias rodadas de testes em animais e avaliações de toxicidade antes das três fases obrigatórias de testes com pessoas.

A Rússia foi o primeiro país a anunciar uma vacina contra a Covid-19, batizada de **Sputnik V**, mas a decisão foi questionada por muitos cientistas, já que foi registrada antes da conclusão da "Fase 3" do estudo, que envolve milhares de pessoas, em que se busca comprovar que a vacina experimental é segura e eficaz na imunização.

Entretanto, foi no Reino Unido que uma vacina com estudos concluídos foi oficialmente aplicada pela primeira vez. No dia 8 de dezembro de 2020, Margaret Keenan, uma senhora de 90 anos, foi a primeira a receber a dose da vacina contra a Covid-19, **desenvolvida pela farmacêutica norte-americana Pfizer e**



a empresa de biotecnologia alemã **BioNTech**. Essa vacina utilizou uma nova tecnologia, do **RNA mensageiro** ou mRNA. O RNA mensageiro sintético dá as instruções ao organismo para a produção de proteínas encontradas na superfície do novo coronavírus, que estimulam a resposta do sistema imune.

No Brasil, a vacinação começou em janeiro de 2021, com a vacinação da enfermeira Mônica Calazans, 54 anos, com a **CoronaVac**, desenvolvida pela farmacêutica chinesa SinoVac em parceria com o Instituto Butantan, do governo do Estado de São Paulo. A vacina utiliza a tecnologia do **vírus inativado (morto)**. Ao ser injetado no organismo, esse vírus não é capaz de causar doença, mas induz uma resposta imunológica.

A vacina mais utilizada no Brasil é a **AstraZeneca/Oxford**, produzida pela Fundação Oswaldo Cruz (Fiocruz), do governo federal, por meio de acordo com a farmacêutica anglo-sueca. A tecnologia empregada é o uso do chamado **vetor viral**. O adenovírus, que infecta chimpanzés, é manipulado geneticamente para que seja inserido o gene da proteína “Spike” (proteína “S”) do Sars-CoV-2.

O Alcance Mundial da Doença

O coronavírus demonstrou ter uma contaminação extremamente veloz. No mundo globalizado em que vivemos, com o grande fluxo de pessoas que circulam pelo nosso planeta por meio das redes de transportes, sobretudo o transporte aéreo, as doenças podem espalhar-se rapidamente pelos países e continentes.

A posição que a China possui atualmente no cenário econômico e político internacional faz com que determinadas doenças que apareçam no país tenham um potencial de contágio ainda maior. Muitos chineses estão a todo momento viajando pelo interior do país e para fora do país, da mesma maneira que muitas pessoas diariamente entram em território chinês.

Esses fatores fizeram com que tenham sido registrados casos de coronavírus em quase todos países do mundo, em todos os continentes. **Nas Filipinas ocorreu a primeira morte fora do território chinês.** No momento em que este texto foi escrito, os **Estados Unidos são o país com o maior número de pessoas infectadas e com o maior número de mortes.**

O Brasil é o segundo país com o maior número de mortes e o quinto com o maior número de casos. No mês de março de 2023, nosso país alcançou o marco de 700 mil mortes pela doença. São Paulo foi o estado mais atingido, com o maior número de mortes e de infectados.

Como forma de conter a disseminação do vírus, muitos países fecharam temporariamente suas fronteiras e proibiram grande parte dos voos nacionais e a entrada de estrangeiros.

Lockdown, confinamento e restrições de circulação foram adotados de formas variadas pelos países como uma forma de conter a disseminação do vírus. Contra essas medidas foram registrados muitos protestos por grupos que as consideravam exageradas e um ataque às liberdades individuais. O uso de máscaras de proteção também foi alvo de contestação. Movimentos antivacina contestaram a eficácia e obrigatoriedade da imunização com a disseminação de informações falsas e teorias conspiratórias, sobretudo pelas redes sociais.



A pandemia de coronavírus, inicialmente, uma crise sanitária, desencadeou também uma crise econômica global. Com a paralisação das atividades econômicas, muitas empresas reduziram a sua produção. As exportações e as importações diminuíram e as pessoas, no geral, passaram a consumir menos produtos e serviços. Isso gerou desemprego, fechamento de empresas e a desvalorização de ações, provocando abalos nos mercados mundiais, nas cadeias globais de suprimentos e na atividade econômica como um todo.

O Banco Mundial divulgou que o Produto Interno Bruto (PIB) global teve queda de 5,2% em 2020. Porém, com a reabertura da economia em 2021, a atividade econômica se recuperou rapidamente nos anos subsequentes. O PIB global cresceu 5,7% em 2021.



RESUMO

Migrações

Migrante – pessoa que se desloca do país, estado ou região em que nasceu. O fazem por escolha própria e, sobretudo, por motivação econômica;

Emigrante – quem deixa o seu local de nascimento para viver em outro país, estado ou região;

Imigrante – aquele que entrou em outro país, estado ou região para ali viver;

Imigrante irregular – pessoa que entra irregularmente em um país, que vive irregularmente no país e que não é aceita oficialmente pelo governo do país em que chega;

Deslocados à força – pessoas que voluntariamente não migrariam, mas são forçadas a deixar seus lares devido ao fato de a sua sobrevivência estar ameaçada por causa de conflitos armados, graves violações de direitos humanos, tragédias ambientais e desastres naturais e grave situação socioeconômica. Podem ser refugiados ou deslocados internos;

Refugiado – são os deslocados à força que atravessaram uma fronteira internacional para buscar proteção;

Deslocados internos – são pessoas deslocadas à força, mas que permaneceram dentro de seu próprio país, que não atravessaram uma fronteira internacional para buscar proteção;

Asilado – refugiado aceito oficialmente pelo país ao qual pediu refúgio.

Conforme a ACNUR, em 2022, o número de deslocados à força atingiu seu recorde histórico: 108,4 milhões. A maior parte são de deslocados internos. A Síria é o país em que mais pessoas saíram em busca de refúgio, seguida da Ucrânia, do Afeganistão, da Venezuela e do Sudão do Sul. **A guerra na Ucrânia foi o principal fator de deslocamento em 2022.**

Nas últimas décadas, os movimentos migratórios entre países e continentes intensificaram-se, principalmente devido ao desenvolvimento desigual das regiões e à multiplicação de conflitos.

A maior parte dos migrantes busca se deslocar para países de rendimentos mais elevados, o que faz com que representem quase 15% da população total nos países de rendimento elevado e menos de 2% nos países de rendimento médio e baixo.

Dentre esses países, os Estados Unidos é o principal destino dos migrantes internacionais - 18% dos migrantes internacionais moram em solo norte-americano. A UE é o segundo maior destino.

Países ricos e desenvolvidos são bastante seletivos e rígidos na entrada de imigrantes provenientes de países pobres e em desenvolvimento. A menos que sejam trabalhadores altamente qualificados ou pessoas ricas, as chances de ingresso legal nas nações do mundo desenvolvido são muito restritivas.

Xenofobia – forma de preconceito fundamentado na aversão a pessoas estranhas a seu meio, geralmente estrangeiras, com língua, costumes ou religiões diferentes e baseia-se em **sentimento de superioridade** de uma cultura sobre outra e na crença em estereótipos.

Tende a se acentuar em épocas de crises econômicas devido à maior competição por recursos limitados (vagas de emprego, serviços públicos etc.).

A islamofobia (repúdio ao islamismo) tem se mostrado a principal manifestação da xenofobia no mundo atual. Contribui para isso o fato de uma ínfima parcela de adeptos do Islã utilizarem o nome da religião



para ações radicais e extremistas, como atentados terroristas com o objetivo de obter ganhos políticos para a sua causa.

O nacionalismo político tem como uma de suas pautas a defesa de políticas isolacionistas, protecionistas e contrárias à imigração. Rotular o estrangeiro como inimigo passou a ser uma estratégia cada vez mais usada para justificar os problemas internos e obter ganhos políticos.

Os migrantes contribuem para o crescimento da economia e para a diversificação cultural dos países de destino. Em países com baixíssimas taxas de crescimento vegetativo da população ou até negativo, suprem a necessidade de força de trabalho que não é mais gerada pela população local, mas que é necessária para o crescimento das suas economias.



RESUMO

Organismos, organizações e grupos internacionais

Organização das Nações Unidas (ONU)

Surgiu após a II Guerra Mundial. Tem como objetivo manter a paz, defender os direitos humanos e as liberdades fundamentais e promover o desenvolvimento dos países.

O Conselho de Segurança (CS) e a Assembleia Geral são as duas principais instâncias. A ONU atua em diversos conflitos por meio de suas forças internacionais de paz.

O Conselho de Segurança (CS) é formado por cinco membros permanentes: os Estados Unidos, a França, o Reino Unido, a antiga União Soviética (atualmente a Rússia) e a China; outras dez nações participam do CS como membros rotativos (que se revezam a cada dois anos), mas apenas os membros permanentes têm poder de veto.

O Conselho é o órgão que toma as decisões mais importantes sobre segurança mundial. Tem poder para deliberar sobre o envio de missões de paz para áreas em conflito, definir sanções econômicas ou a intervenção militar num país.

A ONU também é formada por várias agências autônomas, como o Banco Mundial, Fundo Monetário Internacional (FMI), na área econômica, UNESCO, na educação, ciência e cultura, FAO, na agricultura e alimentação, OIT, trabalho, OMS, saúde e ACNUR - Agência da ONU para os Refugiados.

Organização dos Estados Americanos (OEA)

Reúne os 35 países das três Américas e do Caribe. Possui quatro pilares de atuação: democracia, direitos humanos, segurança e desenvolvimento.

Comunidade dos Estados Latino-Americanos e Caribenhos (CELAC)

É uma organização regional composta por 33 países da América Latina e Caribe, excluindo os Estados Unidos e o Canadá. Foi criada em 2010 com o objetivo de promover a integração e coordenação política, econômica e social na região, abordando questões como desarmamento nuclear, agricultura familiar, cultura, energia e meio ambiente. A ideia de formar o bloco surgiu na década de 1980 com o Grupo de Contadora, que se opunha à política intervencionista dos EUA.

UNASUL e PROSUL

A Unasul é uma organização regional composta por países da América do Sul, criada em 2008 com o objetivo de promover a integração cultural, social, econômica e política na região. Em seu auge, chegou a ter como membros todos os países sul-americanos.

Divergências político-ideológicas dos governos de alguns países fizeram com que a maioria de seus membros saísse da entidade em 2019, incluindo o Brasil. Em seu lugar, o Brasil aderiu ao Prosul, criado no mesmo ano para ser um espaço de integração dos países sul-americanos. Entretanto, pode-se dizer que o Prosul fracassou como instância de integração, pois a maioria de seus membros se retirou nos anos de 2019 e 2020.



Com o retorno de Luís Inácio Lula da Silva à presidência, o **Brasil voltou a fazer parte da Unasul**. O projeto brasileiro é de retomada do protagonismo da organização na integração regional sul-americana. No entanto, a proposta encontra resistência de vários países, como o Chile e o Uruguai, que defendem uma integração mais programática e menos ideológica. Quanto ao Prosul, ainda não está claro se, sob o governo Lula, o Brasil continuará a fazer parte do grupo.

Fundo Monetário Internacional (FMI)

Organização financeira criada para promover a estabilidade monetária e financeira no mundo e oferecer empréstimos a países em dificuldades nesse quesito. Os empréstimos são concedidos em troca do comprometimento dos países com medidas de ajuste fiscal das contas públicas.

Banco Mundial

Tem como objetivo oferecer financiamento e assistência técnica a países para promover seu desenvolvimento econômico.

Organização para a Cooperação e o Desenvolvimento Econômico (OCDE)

Articula políticas de educação, saúde, emprego e renda entre países ricos e alguns emergentes ou em desenvolvimento. Brasil não é membro da OCDE, mas almeja fazer da organização, tendo buscado apoio internacional neste sentido.

Organização do Tratado do Atlântico Norte (OTAN)

Aliança política e militar composta, atualmente, por 32 países. Foi criada após a Segunda Guerra Mundial, em 1949, nos primeiros anos da Guerra Fria, por iniciativa dos norte-americanos e pauta-se pelo princípio da defesa coletiva, pelo qual um ataque armado contra um ou mais países membros será considerado uma agressão contra todos.

Frente ao colapso econômico e político da União Soviética, em 1991, a OTAN passou a se expandir para o Leste Europeu, absorvendo países que eram integrantes do Pacto de Varsóvia e pertenciam à antiga esfera geopolítica soviética. Desde então, 19 outros países se juntaram à organização. A adesão mais recente é a da Finlândia, em 2023.

Nos anos recentes, a Ucrânia tem pleiteado a entrada ao grupo, o que não tem sido bem aceito pela Rússia. Como a União Soviética e a ameaça do comunismo não existem mais, a expansão da OTAN é vista por Moscou como a continuação de uma Guerra Fria e uma tentativa de cercar e isolar a Rússia. Dessa forma, a participação da Ucrânia na aliança militar representaria uma ameaça à segurança nacional russa.

Esse foi um dos motivos alegados pelos russos para justificar a sua invasão militar na Ucrânia em 2022. Mas, apesar das boas relações com os EUA e o Ocidente, a Ucrânia não é parte da OTAN, e não se beneficia do chamado Artigo 5º, que considera um ataque contra um dos membros como um ataque a todos.

BRICs

Grupo diplomático formado por países emergentes para o estabelecimento de parcerias econômicas e políticas e para articular posições de seus integrantes sobre temas da economia e política mundial.



A sigla BRICS decorre dos seus cinco primeiros membros: **Brasil, Rússia, Índia, China e África do Sul**. Em agosto de 2023, durante a 15ª Cúpula do Brics, o grupo anunciou a **expansão do bloco**. Arábia Saudita, Emirados Árabes Unidos, Egito, Irã e Etiópia entraram no grupo em 1º de janeiro de 2024, sendo atualmente composto por 10 membros.

Com essa expansão, o grupo passou a representar 36% do PIB global (em paridade do poder de compra) e 46% da população mundial.

O grupo criou o seu próprio banco de desenvolvimento, o Banco dos Brics (Novo Banco de Desenvolvimento – NDB) e um fundo financeiro de emergência, o Arranjo Contingente de Reservas.

Para o Brasil, a participação nos BRICS representa uma importante estratégia de inserção internacional, que busca aproveitar as potencialidades e oportunidades oferecidas por esse agrupamento de países emergentes para promover os interesses do Brasil e contribuir para o desenvolvimento global.

Grupo dos Vinte (G20)

Seus membros representam 90% do PIB mundial, 80% do comércio global e dois terços da população mundial. Discutem medidas para promover a estabilidade financeira mundial, alcançar crescimento e desenvolvimento econômico sustentável.

Após a eclosão da crise financeira mundial de 2008, tornou-se o mais importante fórum internacional de países para o debate das questões políticas e econômicas globais.

G7

Grupo diplomático que reúne os sete principais países ricos e desenvolvidos do mundo: Estados Unidos, Alemanha, Canadá, França, Itália, Japão e Reino Unido. O grupo se reúne para discutir e alinhar posicionamentos sobre temas relevantes da economia e da política mundial.

O G7 é muito criticado por um grande número de movimentos sociais globais, que o acusam de decidir uma grande parte das políticas globais, sociais e ecologicamente destrutivas, sem qualquer legitimidade nem transparência.



RESUMO

Guerra entre Rússia e Ucrânia

No dia 24 de fevereiro de 2022, o presidente da Rússia, Vladimir Putin, anunciou, em um pronunciamento oficial, o início de uma "operação militar especial" na Ucrânia.

O entendimento do conflito envolve uma sucessão de momentos históricos que remetem à Guerra Fria, com a criação da OTAN e a anexação da Criméia pela Rússia, em 2014.

No que se refere à Otan, a Rússia vê a expansão da aliança militar para o Leste Europeu, incluindo a possível adesão da Ucrânia, como uma ameaça à sua segurança nacional e considera isso uma continuação da Guerra Fria. Já em relação à Criméia, trata-se de uma região de maioria étnica russa, que foi anexada pela Rússia em 2014 com o apoio de um forte movimento separatista.

Sobre essa região, no dia 21 de fevereiro de 2022 - apenas algumas horas antes de anunciar a ofensiva militar na Ucrânia -, Vladimir Putin reconheceu oficialmente a independência e a soberania das autoproclamadas Repúblicas Populares de Donetsk e Lugansk.

Inicialmente, os russos tentaram tomar diversas partes da Ucrânia com bombardeios e invasão de tropas, incluindo a capital Kiev. No entanto, depois de alguns fracassos, inclusive na capital, os russos passaram a concentrar seus esforços no Donbas, no Sul e Leste da Ucrânia.

Nos primeiros meses de guerra, a principal batalha se deu pelo controle da cidade portuária de **Mariupol**, no mar de Azov. Após ter anunciado a conquista de Mariupol, o centro de conflito da guerra se voltou para a cidade de **Bakhmut**.

A Rússia tem enfrentado uma forte resistência ucraniana, mas conflito continua em andamento, com a Ucrânia resistindo à invasão russa e buscando apoio internacional. Desde que Moscou deu início à invasão, os principais aliados da Ucrânia têm sido os Estados Unidos, a OTAN, a União Europeia e alguns outros países tradicionalmente aliados dos norte-americanos, como o Canadá, Austrália e Nova Zelândia.



RESUMO

América Latina

Argentina – Na maior parte do século XXI, a Argentina tem convivido com uma série de problemas econômicos e sociais como a inflação elevada, o desequilíbrio das contas públicas, baixas reservas internacionais em dólares americanos, a escassez de dólares para o pagamento de importações, o desemprego elevado e o aumento da pobreza.

Ao final de 2019, assumiu a presidência do país **Alberto Fernández**, peronista, de centro-esquerda, com Cristina Kirchner de vice-presidente. Em seu governo, a situação social e econômica continuou muito difícil e se agravou com a pandemia de Covid-19 e com os impactos econômicos da guerra entre Rússia e Ucrânia. As políticas econômicas realizadas por Alberto Fernández não surtiram o efeito prometido para melhorar a situação econômica do país.

Em meio a este cenário desolador, foi realizada a eleição presidencial em outubro de 2023. Em uma disputa que foi ao segundo turno, o economista libertário **Javier Milei**, venceu o peronista e Ministro da Economia **Sergio Massa**. O presidente eleito tomou posse do cargo no dia 10 de dezembro e governará o país até 2027

Chile – O Chile passa pelo processo de elaboração de uma nova Constituição. Há um entendimento por grande parte da população de que a Constituição atual, marcadamente liberal, não é mais compatível com a sociedade chilena atual. Dois textos constitucionais foram submetidos ao julgamento da população, em 2022 e 2023. Ambos foram reprovados.

Peru – Às vésperas da votação de um terceiro processo de impeachment, o então presidente Pedro Castillo tentou dar um golpe de estado em 7 de dezembro de 2022 decretando a dissolução do Congresso, estado de emergência, toque de recolher, governo temporário de exceção e elaboração de uma nova Constituição.

A Assembleia Nacional ignorou a tentativa de golpe, votou e aprovou o impeachment de Castillo, que foi preso horas depois. Sem apoio militar, político e de setores econômicos, o golpe de estado, ou um "autogolpe", fracassou.

Em seu lugar, assumiu a vice-presidente de sua chapa, Dina Boluarte, empossada pelo Congresso Nacional. Com a queda de Pedro Castillo e a ascensão de Dina Boluarte, o Peru já contabiliza **seis presidentes da República desde 2018**.

Venezuela - Nicolás Maduro é o atual presidente do país. Na atualidade, a Venezuela enfrenta uma grave crise econômica, marcada pela alta inflação, recessão e escassez de alimentos.

O petróleo responde por 96% das receitas de exportação do país. A queda do preço do barril de petróleo impactou diretamente o abastecimento do mercado venezuelano, uma vez que, sem dinheiro, o governo parou de comprar itens básicos do cotidiano da população.

Todo esse cenário se refletiu na hiperinflação pela qual o país passou nos anos recentes, uma das mais longas da história moderna, que durou de 2017 até 2020, quando a alta de preços registrou variações anuais superiores a 100%.

A conturbada situação política e socioeconômica do país tem feito com que, ao longo dos últimos anos, milhões de venezuelanos tenham deixado o país. Em 2022, segundo dados da ACNUR, a Venezuela era o



quarto país no mundo com o maior número de pessoas que se deslocaram para fora do país. Os venezuelanos buscam se deslocar para países próximos, na América Latina e Caribe. A Colômbia é o país que mais tem recebido esses migrantes e refugiados.



RESUMO

Separatismos na Europa

Movimentos separatistas buscam a independência de seu território, como o do Curdistão, na Turquia.

Um continente onde há vários movimentos separatistas ou por maior autonomia é a Europa.

Em 2014, a **Escócia** realizou plebiscito para decidir se permanecia ou tornava-se independente do Reino Unido. A maioria decidiu que a Escócia deve continuar fazendo parte do Reino Unido.

Em 2017, a **Catalunha** realizou um referendo pela separação catalã da Espanha. 43% do eleitorado votaram. Desses, 90% dos votos foram a favor da independência. Posteriormente, o Parlamento da Catalunha aprovou uma resolução que prevê *“constituir uma República Catalã como um Estado independente, soberano, democrático e social”*.

A Justiça espanhola proibiu o referendo e o governo central da Espanha foi contrário à sua realização. O governo espanhol interveio na região autônoma, destituiu o governo local e convocou eleições regionais para o mês de dezembro de 2017.

Os partidos separatistas conquistaram 70 cadeiras no parlamento regional e os constitucionalistas (contrários à secessão), 60 cadeiras. O resultado mostra um povo dividido sobre o futuro da sua região.

Embora os argumentos econômicos tenham importância central no debate separatista, no cerne do desejo de independência estão as raízes culturais, étnicas e históricas e um sentimento de identidade nacional.



RESUMO

Coronavírus

Em dezembro de 2019, uma pneumonia de causas desconhecidas começou a se espalhar por **Wuhan**, uma metrópole da região central da **China** com cerca de 11 milhões de habitantes, capital da província de Hubei. Por meio de estudos, descobriu-se que os sintomas eram causados por um novo tipo de **coronavírus**.

O novo vírus se espalhou rapidamente por países e continentes, o que levou a Organização Mundial de Saúde (OMS) a declarar uma situação de **pandemia** global. Contudo, após mais de três anos dessa declaração, a OMS declarou, no mês de maio de 2023, que a Covid-19 **não configura mais emergência em saúde pública de importância internacional**.

Variantes - Toda vez que um vírus faz suas cópias nas células humanas, está sujeito a erros que levam a mutações no código genético. Quando um grupo de descendentes (ou uma linhagem, em termos técnicos) do Sars-CoV-2 reúne mutações distintas em comum, passa a ser chamado de variante.

No curso da pandemia, algumas variantes foram detectadas, cada uma com suas especificidades de transmissão e sintomas. As principais variantes de preocupação identificadas foram as variantes Alfa, Beta, Gama, Delta e Ômicron, essa última sendo a variante mais transmissível até então.

Vacinas contra o vírus - A velocidade do processo de busca de uma vacina para a Covid-19 superou tudo o que já foi visto até hoje na área de desenvolvimento de imunizantes, normalmente um processo demorado e trabalhoso, que envolve várias rodadas de testes em animais e avaliações de toxicidade antes das três fases obrigatórias de testes com pessoas.

A Rússia foi o primeiro país a anunciar uma vacina contra a Covid-19, batizada de **Sputnik 5**, mas foi no Reino Unido que uma vacina com estudos concluídos foi oficialmente aplicada pela primeira vez. Foi a vacina desenvolvida pela farmacêutica norte-americana **Pfizer** e a empresa de biotecnologia alemã **BioNTech**. Essa vacina utilizou uma nova tecnologia, do **RNA mensageiro** ou mRNA.

A primeira vacina utilizada no Brasil foi a **CoronaVac**, desenvolvida pela farmacêutica chinesa SinoVac em parceria com o Instituto Butantan, do governo do Estado de São Paulo. A tecnologia utilizada é a do **vírus inativado (morto)**.

O alcance mundial da doença - No mundo globalizado, com incessante circulação de pessoas entre os países, o vírus se propagou rapidamente pelo planeta. Foram registrados casos de coronavírus em quase todos os países, em todos os continentes.

Nas Filipinas ocorreu a primeira morte fora do território chinês. No momento em que este texto foi escrito, os Estados Unidos são o país com o maior número de pessoas infectadas e com o maior número de mortes.

O Brasil é o segundo país com o maior número de mortes e o quinto com o maior número de casos. **No mês de março de 2023, nosso país alcançou o marco de 700 mil mortes pela doença**. São Paulo foi o estado mais atingido.



QUESTÕES COMENTADAS – MIGRAÇÕES – MULTIBANCAS

1. (FCC/PM BA/2023) A grave crise humanitária que se abate sobre o país asiático provocou um novo fluxo migratório de afegãos para diversas partes do mundo, inclusive o Brasil, que também tem recebido muitos refugiados.

(Disponível em: <https://www12.senado.leg.br>)

Em relação à atual situação dos refugiados no planeta, está correto o que se afirma em:

- a) Pesadas medidas de restrição na Europa têm aumentado o fluxo de refugiados para países emergentes do Sul.
- b) Índia e Estados Unidos aparecem como os principais destinos de refugiados oriundos do continente africano.
- c) A China tem o maior contingente de evasão de refugiados devido ao alto desemprego e perseguições políticas.
- d) O Canadá tem, desde 2020, suas fronteiras abertas para os mexicanos no intuito de estimular o crescimento demográfico canadense.
- e) Têm diminuído os movimentos migratórios em nível mundial.

COMENTÁRIOS:

Nos últimos anos, a Europa tem implementado medidas mais restritivas com relação à entrada de refugiados, especialmente devido a crises migratórias anteriores e questões políticas internas. Essas medidas têm dificultado o ingresso de refugiados na Europa, e, com isso, parte dos fluxos migratórios têm buscado outros destinos, incluindo países emergentes do Sul. Desse modo, está correta a alternativa "A".

As demais opções apresentam informações incorretas, vejamos:

b) Incorreta. Devido à distância entre as regiões, Índia e os Estados Unidos não são tradicionalmente os principais destinos de refugiados africanos. A maior parte dos refugiados africanos permanece no próprio continente ou segue em direção à Europa.

c) Incorreta. Embora a China tenha questões relacionadas aos direitos humanos e à liberdade política, não é conhecida por gerar um grande contingente de refugiados devido a perseguições políticas em escala global. Além disso, o país não é caracterizado por alto desemprego; na verdade, tem uma taxa relativamente baixa, impulsionada pelo seu expressivo crescimento econômico no século XXI.

d) Incorreta. Com o baixo crescimento de sua população, o Canadá enfrenta um sério desafio demográfico e tem, aos poucos, criado medidas para facilitar a migração e, com isso, estimular o crescimento populacional. Entretanto, não há registro de que o Canadá tenha aberto as suas fronteiras de maneira indiscriminada para os mexicanos com o intuito de estimular o crescimento demográfico.



e) Incorreta. Essa afirmativa contradiz totalmente as tendências recentes, uma vez que o mundo tem testemunhado diversos fluxos migratórios, especialmente devido a conflitos, crises humanitárias e mudanças climáticas. Recordes no número de migrantes e refugiados têm sido registrados seguidamente nos anos recentes, conforme mostram dados da Acnur e OIM da ONU.

Gabarito: A

2. (FEPESE/PREFEITURA DE BALNEÁRIO CAMBORIÚ-SC/2023) Atualmente milhões de pessoas vivem fora de seu país de origem, sendo estes imigrantes ou refugiados.

Assinale a alternativa correta em relação ao assunto.

A) Sendo a maior potência econômica do mundo, os Estados Unidos são o destino de milhares de refugiados, os quais tentam ultrapassar suas fronteiras muitas vezes de forma ilegal.

B) Os refugiados são acolhidos em todos os países da América do Sul, não apresentando dificuldades durante seu processo de instalação.

C) No geral, refugiados vivem em bairros periféricos e trabalham em empregos precários; porém, sua grande maioria possui nível superior.

D) No Brasil, o número de refugiados é mínimo, tendo em vista que as fronteiras brasileiras são fiscalizadas diariamente.

E) Não há refugiados em países subdesenvolvidos e emergentes.

COMENTÁRIOS:

a) Correta. Pelo fato de ser a maior economia do mundo, os Estados Unidos é um destino muito procurado por migrantes e refugiados. É o país do mundo com o maior número de migrantes. Entretanto, há um rigoroso controle de fronteiras, o que faz com que muitos refugiados tentem entrar no país de forma ilegal. O maior contingente de migrantes ilegais nos Estados Unidos é proveniente de países da América Latina, sobretudo do México.

b) Incorreta. Apesar de alguns países da América do Sul terem políticas mais abertas com relação aos refugiados, esses sujeitos costumam enfrentar diversas dificuldades para se estabelecerem e se integrarem nas sociedades de acolhida.

c) Incorreta. Embora seja comum que os refugiados enfrentem desafios significativos com relação ao trabalho e à moradia, o nível educacional de refugiados varia muito entre os indivíduos e os grupos, não sendo possível fazer essa afirmação categórica da alternativa.

d) Incorreta. O Brasil tem uma política bastante avançada de apoio e de acolhimento a refugiados. O número de refugiados atualmente no país não é mínimo, mas também não é significativo. No final de 2022, o maior contingente de refugiados era proveniente da Venezuela.

e) Incorreta. Há refugiados em países subdesenvolvidos e emergentes, bem como em países desenvolvidos. Um exemplo disso é o Brasil, um país emergente, que acolheu milhares de refugiados de diversas nações.



Gabarito: A

3. (FUNDEP/PREFEITURA DE LAVRAS-MG/2023) “São pessoas que estão fora de seu país de origem devido a fundados temores de perseguição relacionados a questões de raça, religião, nacionalidade, pertencimento a um determinado grupo social ou opinião política, como também devido à grave e generalizada violação de direitos humanos e conflitos armados.”

Disponível em: <https://www.acnur.org/portugues/quem-ajudamos/refugiados/>. Acesso em: 29 jul. 2022.

O texto se refere a

- A) emigrantes.
- B) refugiados.
- C) deslocados internos.
- D) migrantes.

COMENTÁRIOS:

A questão trata sobre conceitos relacionados ao tema dos migrantes. O enunciado se refere aos refugiados, que são os que migraram para fugir de perseguições étnicas, políticas, religiosas, conflitos armados ou violações de direitos humanos. Dessa forma, podemos considerar que são migrantes “forçados”, que saem de seu local por motivos de sobrevivência.

Gabarito: B

4. (VUNESP/EPC/2023) Fugindo de grupos radicais, dezenas de refugiados continuam chegando diariamente ao Aeroporto Internacional de Guarulhos (SP), na região metropolitana de São Paulo. Munidos com o visto humanitário, muitos deles entram no Brasil e, sem conseguir ajuda para a moradia ou trabalho, acabam montando acampamento no aeroporto. Ontem (25 out.), quando a reportagem da Agência Brasil visitou o aeroporto, uma centena deles continuava fazendo do Terminal 2 sua moradia.

(Diário de Pernambuco. <https://bit.ly/3lqIDMI>. 26.10.2022)

A notícia faz referência aos refugiados vindos

- A) da Índia.
- B) da África do Sul.
- C) do Líbano.
- D) do Afeganistão.
- E) do Egito.



COMENTÁRIOS:

A notícia destaca a chegada de refugiados vindos do Afeganistão ao Aeroporto Internacional de Guarulhos, em São Paulo.

Os demais países listados como alternativas não frequentam noticiários da imprensa como tendo grandes problemas com refugiados e nem com o domínio de movimentos radicais, extremistas.

O Afeganistão passa por um período de instabilidade e de conflitos desde a tomada do poder pelo Talibã em 2021, o que resultou em uma intensa migração de pessoas que buscavam segurança e proteção em outros países.

A situação desses refugiados é preocupante, uma vez que muitos deles enfrentam dificuldades para encontrar moradia e emprego, o que acaba levando alguns deles a montarem acampamentos no próprio aeroporto. É um exemplo real da crise humanitária que muitos refugiados enfrentam ao fugirem de situações de violência e instabilidade em seus países de origem.

Gabarito: D

5. (FEPESE/PREFEITURA DE CHAPECÓ/2022) De acordo com notícia publicada pela Rádio Agência Nacional, dia 20 de junho, passado, foi comemorado o Dia Mundial do Refugiado.

Analise as afirmativas abaixo em relação ao assunto.

1. “O número de deslocados por guerras, violência, perseguições e abusos de direitos humanos no mundo alcançou este ano a marca inédita de 100 milhões de pessoas.”
2. Esse ano, o tema definido pela ACNUR (Agência da ONU para Refugiados) foi: “Seja quem for, seja quando for, seja onde for: todas as pessoas têm direitos a buscar proteção”.
3. A invasão da Ucrânia pela Rússia e outras emergências humanitárias elevaram o número de refugiados mundiais, pela primeira vez, à casa dos três dígitos.

Assinale a alternativa que indica todas as afirmativas corretas.

- A) É correta apenas a afirmativa 2.
- B) São corretas apenas as afirmativas 1 e 2.
- C) São corretas apenas as afirmativas 1 e 3.
- D) São corretas apenas as afirmativas 2 e 3.
- E) São corretas as afirmativas 1, 2 e 3.

COMENTÁRIOS:



I - Correta. Em 2022, o número de pessoas deslocadas por guerras, violência, perseguições e abusos de direitos humanos alcançou a marca inédita de 100 milhões de pessoas.

II - Correta. 20 de junho é o dia do refugiado, e, durante o mês de junho de 2022, a Acnur realiza uma série de eventos em diversos países do mundo para marcar a data. No ano de 2022, o tema definido pela agência para tratar sobre a temática dos refugiados foi “Seja quem for, seja quando for, seja onde for: todas as pessoas têm direitos a buscar proteção”.

III - Correta. Em 2022, pela primeira vez na história, o número de refugiados bateu a casa dos três dígitos. A invasão da Ucrânia pela Rússia e outras emergências humanitárias foram responsáveis por esse aumento.

Gabarito: E

6. (QUADRIX/CREMERO/2022) Mais de uma década após a Primavera Árabe, e mesmo depois da pandemia de covid-19, o deslocamento forçado na Síria é a adversidade que gerou o maior número de refugiados no mundo.

COMENTÁRIOS:

O deslocamento forçado na Síria, decorrente da guerra civil que já dura mais de 10 anos no país, é a adversidade que gerou o maior número de refugiados no mundo na atualidade. Segundo dados do Alto Comissariado das Nações Unidas para Refugiados (ACNUR), ao final de 2021, cerca de 6,8 milhões dos refugiados do mundo vieram da Síria.

Gabarito: Certo

7. (QUADRIX/CAU-SC/2022 – ADVOGADO) O Pacto Mundial para a Migração das Nações Unidas foi aprovado formalmente em 2018, em Marrakech, no Marrocos, em uma conferência intergovernamental que reuniu quase 160 países. Itália, Austrália, Israel e vários países da Europa Central, contudo, retiraram-se do pacto nas últimas semanas, enquanto os Estados Unidos da América (EUA) se opuseram ao acordo desde o início. As nações temiam que o pacto representasse perda de soberania e se preocupavam com a falta de distinção entre imigração legal e ilegal no rascunho do compromisso final.

Internet: <<https://veja.abril.com.br>> (com adaptações).

No que diz respeito à crise migratória internacional que atinge o planeta, assinale a alternativa correta.

(A) A crise de refugiados no mundo deve-se unicamente às desigualdades socioeconômicas do continente africano em relação aos demais continentes do mundo.

(B) O conceito de refugiado limita-se ao migrante que parte para um país desenvolvido em busca de emprego e renda, por ter sido expulso pela precariedade social.

(C) A rota migratória em que há a maior quantidade de mortes é a do mar Mediterrâneo, na qual os imigrantes se arriscam em embarcações precárias e, em muitos dos casos, morrem à deriva ou afogados.

(D) A maior parte da migração internacional na atualidade dá-se por causa de guerras e perseguições às populações consideradas minorias em seus países de origem.



(E) A guerra na Ucrânia devido à invasão da Rússia, conflito que perdura há seis meses, gerou o maior número de refugiados da história recente do mundo.

COMENTÁRIOS:

A) Incorreta. Refugiado é uma categoria específica de migrante; é a pessoa que muda de região ou país para fugir de guerras, conflitos internos, perseguição (política, étnica, religiosa, de gênero etc.), violação dos direitos humanos, fomes ou catástrofes naturais. Não são pessoas que migram em decorrência de desigualdades socioeconômicas.

A crise de refugiados no mundo se deve, sobretudo, à multiplicidade de graves conflitos bélicos, de perseguições de segmentos específicos e de desigualdades socioeconômicas em vários continentes. Quanto aos conflitos bélicos, podemos destacar a guerra entre a Rússia e Ucrânia, na Europa, a guerra civil da Síria e a questão Israel-Palestina, na Ásia, a guerra civil na Etiópia, na África, entre outros. No continente americano podemos destacar a migração de milhões de venezuelanos devido à fome, à extrema pobreza e a perseguições políticas.

B) Incorreta. Como mencionado no comentário da alternativa anterior, refugiado é uma categoria específica de emigrante; é a pessoa que muda de região ou país para fugir de guerras, conflitos internos, perseguição (política, étnica, religiosa, de gênero etc.), violação dos direitos humanos, fomes ou catástrofes naturais. Não são os que migram para um país desenvolvido em busca de emprego e renda. Esses são os migrantes (emigrantes-imigrantes).

C) Correta. A rota migratória em que há a maior quantidade de mortes é a do mar Mediterrâneo, na qual os imigrantes se arriscam em embarcações precárias e, em muitos dos casos, morrem à deriva ou afogados. Esses migrantes cruzam o norte da África em direção à Europa, onde buscam adentrar no espaço da União Europeia, para onde podem então migrar para outros países. Há um grande mercado ilegal de transporte para esses migrantes, que muitas vezes é feito de forma precária e termina em tragédias.

D) Incorreta. A maior parte da migração internacional na atualidade dá-se por motivações econômicas; são pessoas que se deslocam para países onde podem obter melhores rendimentos e uma melhor situação socioeconômica da que possuem no seu país de origem.

E) Incorreta. A guerra na Ucrânia, devido à invasão da Rússia, gerou o maior número de refugiados no continente europeu desde a Segunda Guerra Mundial, porém, não é o maior número de refugiados da história recente do mundo. O maior número de refugiados da história recente dá-se em decorrência da guerra civil na Síria, conflito que já perdura por mais de 10 anos. Muitos dos refugiados que cruzam o Mar Mediterrâneo são sírios.

Gabarito: C

8. (QUADRIX/CRP-10/2022 – ASSISTENTE ADMINISTRATIVO) Guerras, perseguições políticas, fome e intolerância religiosa estão entre as causas que explicam os milhares de migrantes e refugiados pelo mundo afora.

COMENTÁRIOS:



Guerras, perseguições políticas, fome e intolerância religiosa estão entre as principais causas para os deslocamentos na atualidade, mas cada fluxo de refugiados varia de acordo com o contexto local. Também é considerável o número de pessoas que migram em busca de melhores condições econômicas, recorrendo a empregos em países que apresentam boas oportunidades.

Gabarito: Certo

(QUADRIX/CRECI-RO/2022 – FISCAL) Nos dias atuais, as mudanças ocorrem rápida e profundamente. As transformações acontecem dia após dia, atingindo os mais variados setores. Considerando esse cenário tão dinâmico, tanto no Brasil quanto no mundo, julgue o item.

9. O fim das perseguições políticas e religiosas, das guerras e das condições de miséria profunda é o que explica o baixo número de migrantes e refugiados no mundo de hoje.

COMENTÁRIOS:

O número de migrantes e refugiados na atualidade é o mais alto da história, só encontra precedente no período que se seguiu à Segunda Guerra Mundial. Nas últimas décadas, os movimentos migratórios entre países e continentes se intensificaram, principalmente devido ao desenvolvimento desigual das regiões e à multiplicação de conflitos.

Gabarito: Errado

(CEBRASPE/CBM-AL/2021 – SOLDADO) Embora as manchetes dos jornais possam indicar outra coisa, somente 3% dos mais de 7 bilhões de habitantes do planeta são migrantes internacionais, isto é, pessoas que vivem fora do país onde nasceram. Vivemos em uma época na qual a proporção de pessoas ricas (e idosas) é cada vez menor em contraposição a uma presença cada vez maior de pessoas pobres (e jovens). As pressões migratórias crescem sem parar em consequência das desigualdades internacionais e de conflitos insolúveis, e os países mais desenvolvidos se veem diante de uma encruzilhada decisiva em termos demográficos e de trabalho.

Internet: (com adaptações).

Acerca do atual processo migratório em escala mundial, julgue os próximos itens.

10. O principal motivo das migrações internacionais de maior volume são os conflitos étnicos e religiosos, devido ao crescimento contemporâneo do fundamentalismo em escala planetária.

COMENTÁRIOS:

O principal motivo das migrações internacionais é econômico, em busca de melhores condições de renda e emprego. Embora os conflitos étnicos e religiosos levem a ondas migratórias, esse não é o principal motivo.

Gabarito: Errado

11. A política europeia de condução das migrações socioeconômicas da atualidade acontecidas no mar Mediterrâneo ainda reflete um pensamento originado no colonialismo e no neocolonialismo europeus.



COMENTÁRIOS:

O mar Mediterrâneo é uma importante rota migratória de imigrantes provenientes da África e da Ásia. De modo geral, os países europeus não se apresentam receptivos ao acolhimento desses migrantes. São impostas muitas barreiras legais e de controle, visando a obstaculizar ou impedir a entrada de africanos e asiáticos pela costa mediterrânea da Europa.

Embora não se possa generalizar, é forte o pensamento em alguns países europeus de que esses imigrantes representariam um perigo aos seus países, tanto no aspecto econômico quanto no aspecto social. No período recente, cresceram os movimentos xenófobos na Europa, com a realização de políticas anti-imigratórias. São reflexos do pensamento originado no colonialismo e no neocolonialismo.

O neocolonialismo, também conhecido como imperialismo, foi um período na história (séculos XIX e XX) de dominação política e econômica das nações industrializadas europeias (Inglaterra, França, Alemanha, Bélgica e Holanda) sobre os continentes africano e asiático.

O grande marco desse período foi a Conferência de Berlim, realizada em 1884, onde os países europeus se reuniram e fizeram uma divisão do continente africano, sendo que cada país dominaria um pedaço desse continente. Essa divisão até hoje deixa marcas, pois moldou os territórios dos Estados nacionais e influenciou os rumos dos países, por meio da interferência política e econômica, marcada por guerras e grande extração de recursos naturais.

A principal hipótese para a legitimação do domínio imperialista europeu sobre a África e a Ásia foi a utilização ideológica de teorias raciais europeias provenientes do século XIX. As que mais se destacaram foram o evolucionismo social e o darwinismo social.

Hoje sabemos que o evolucionismo social e o darwinismo social não têm nenhum embasamento ou legitimidade científica, mas, no contexto histórico do século XIX, foram ativamente utilizados para legitimar o imperialismo, ou seja, a submissão, o domínio e a exploração de continentes inteiros.

Gabarito: Certo

12. O Brasil atualmente é o país de maior destaque na rota de imigrantes ilegais do continente americano.

COMENTÁRIOS:

A questão fala do continente americano como um todo. O continente americano é formado pela América do Sul, América Central e América do Norte.

Na América do Norte, estão localizados os Estados Unidos, que é o país que, de longe, é o que tem maior destaque na rota de imigrantes ilegais do continente. Os EUA são o país com a maior quantidade de imigrantes ilegais no mundo todo. Grande parte é proveniente do México e de países da América Central.

Gabarito: Errado



13. (QUADRIX/CREFONO 4ª REGIÃO/2021 – ASSISTENTE ADMINISTRATIVO) Na atualidade, fortes correntes migratórias vinculam-se à necessidade de fugir de guerras e de perseguições políticas e religiosas e à busca de sobrevivência de grupos humanos que vivem em áreas de pobreza extrema.

COMENTÁRIOS:

O principal motivo para as pessoas migrarem é o econômico. Os imigrantes buscam migrar para países em que possam ter uma melhor condição de vida e de renda. Muitos desses migrantes são originários de áreas de extrema pobreza, como os haitianos, venezuelanos e de países da África e da Ásia. A fuga de guerras e de perseguições políticas e religiosas é outro fator que leva às pessoas a migrarem; são chamados de **refugiados**, grupo específico de imigrantes que teve que fugir do seu país, pois a sua sobrevivência física estava ameaçada.

Gabarito: Certo

14. (QUADRIX/CREFONO 4ª REGIÃO/2021 – ASSISTENTE ADMINISTRATIVO) Responsável pela colonização da África e de algumas regiões asiáticas, a Europa, em sua totalidade, tem acolhido bem os milhares de imigrantes que nela procuram refúgio.

COMENTÁRIOS:

No século XIX, nações europeias, como Inglaterra, França, Bélgica, Holanda e Alemanha, exploraram e colonizaram o continente africano e o asiático.

Em sua maioria, os países europeus não têm acolhido bem os milhares de imigrantes que buscam refúgio. Os mais refratários são aqueles situados nas fronteiras, por onde costumam chegar os refugiados, como a Hungria, a Grécia e a Itália.

As principais questões que desagradam a população quanto à entrada de imigrantes são receios quanto ao mercado de trabalho, concorrência com os nacionais dos países, a extensão de serviços públicos e do sistema de proteção social aos imigrantes.

Gabarito: Errado

(QUADRIX/CRN 9/2019 – AUXILIAR OPERACIONAL) Mais de quinhentos migrantes chegaram à ilha grega de Lesbos, na costa próxima à Turquia, “um aumento sem precedentes”, indicou uma fonte diplomática grega no dia 30 de agosto de 2019. Os migrantes viajaram em treze navios e, entre eles, havia 240 crianças, segundo autoridades locais e ONGs. Foram transferidos para o campo de Moria, onde “quase 11.000 pessoas estão aglomeradas, quando a capacidade é de apenas 3.000”, disse a ONG Médicos Sem Fronteiras (MSF).

Internet: <<https://istoe.com.br>> (com adaptações).

Tendo o texto acima apenas como referência inicial e refletindo sobre temas correlatos, julgue os itens.

15. Ceuta e Melilla, territórios espanhóis na África, são os únicos pontos em que se pode chegar, da África à Europa, por via terrestre.



COMENTÁRIOS:

Ceuta e Melilla são duas comunidades autônomas espanholas localizadas na costa do Mar Mediterrâneo, no continente africano. O Marrocos reivindica-as como partes integrante do seu território, mas a Espanha se recusa a entregá-las.

O examinador considerou a questão como correta, mas ela está mal elaborada e errada. Não há como chegar da África à Europa por via terrestre, pois os continentes estão separados pelo mar Mediterrâneo. Se o examinador tivesse escrito que são os únicos pontos que se pode chegar da África à União Europeia por via terrestre a questão estaria correta. Como a Espanha faz parte da União Europeia, quem entrar em Ceuta e Melilla entrou na Espanha, ou seja, está na União Europeia, mesmo que seja um território fora da Europa continental.

As duas comunidades estão separadas do Marrocos por uma grande cerca. Os imigrantes que chegam em Ceuta e Melilla, no entanto, não querem ficar ali, esperam obter permissão para viajar à Espanha e adentrar na Europa.

Gabarito: Certo

16. A Europa, região próspera próxima à África, tornou-se naturalmente o objetivo prioritário dos imigrantes que fogem de guerras e da fome.

COMENTÁRIOS:

Pela sua proximidade com a África e pelo fato de esta ser uma região próspera, a Europa é, naturalmente, um objetivo prioritário dos imigrantes africanos que fogem de guerras e da fome em busca de melhores oportunidades na vida. Contribui também para isso o fato de quase a totalidade da África ter sido colônia de países europeus.

Gabarito: Certo

17. A xenofobia – aversão a estrangeiros – acentuou-se no discurso de autoridades de alguns países europeus, sendo os governantes da Itália e da Hungria as raras exceções.

COMENTÁRIOS:

Com os grandes movimentos migratórios da África e da Ásia para a Europa, acentuaram-se os discursos e movimentos xenofóbicos, de aversão a estrangeiros, inclusive de autoridades dos estados nacionais.

O ex-vice-primeiro-ministro italiano, Matteo Salvini, e o primeiro-ministro da Hungria, Viktor Orbán, são dois dos principais porta-vozes europeus no discurso nacionalista contra o acolhimento de imigrantes e refugiados na Europa.

Gabarito: Errado

18. Organizações não governamentais, como a citada no texto, têm desempenhado um papel crucial na ajuda a refugiados no mar Mediterrâneo.



COMENTÁRIOS:

Grande parte das embarcações de refugiados que atravessam o Mar Mediterrâneo são precárias e superlotadas, realizadas por traficantes de pessoas, que agenciam e conduzem as travessias. Centenas de pessoas morrem anualmente devido ao naufrágio de muitas dessas embarcações.

Muitas organizações não governamentais (ONGs), como, por exemplo, o Médicos sem Fronteiras e o SOS Mediterrâneo, resgatam imigrantes como náufragos em alto-mar durante sua travessia para chegar ao continente europeu.

Gabarito: Certo

19. (CEBRASPE/TJDFT/2019) A respeito das imigrações internacionais, julgue os itens a seguir.

I – A imigração internacional resulta da insatisfação econômica e é também consequência de situações de conflito civil.

II – Muitas das restrições impostas à imigração resultam do receio do impacto cultural que o recebimento de estrangeiros pode provocar em determinadas culturas, além dos possíveis impactos econômicos e sociais.

III – Por ser uma questão humanitária, a imigração internacional é tratada no âmbito dos direitos humanos sem gerar grandes controvérsias na política internacional.

IV – Apesar de não adotar políticas restritivas, o Brasil não é um país de interesse para os imigrantes, sendo os maiores fluxos de imigrantes destinados aos países europeus.

Estão certos apenas os itens

- a) I e II.
- b) I e III.
- c) III e IV.
- d) I, II e IV.
- e) II, III e IV.

COMENTÁRIOS:

I – **Certo**. As pessoas imigram em busca de uma vida melhor, de uma renda melhor, de um trabalho pelo qual tenham uma melhor remuneração e possam viver melhor do que o país ou região que viviam. A imigração também ocorre por situação de sobrevivência, de garantia da integridade física, em função de conflitos bélicos, perseguições, discriminações ou catástrofes naturais.

II – **Certo**. Os principais argumentos utilizados por aqueles que defendem restrições à imigração se relacionam a motivos econômicos ou sociais. Argumenta-se que imigrantes podem tomar vagas de



emprego ou sobrecarregar o sistema de seguridade social dos nacionais dos países para os quais imigraram. Em segundo plano estão os impactos culturais e sociais, baseados na crença de superioridade de uma cultura em relação a outra ou da aversão e do medo do contato com pessoas de cultura diferente.

III – **Errado**. O tema da imigração internacional é tratado no âmbito dos direitos humanos, é considerado uma questão humanitária. Devido aos diferentes posicionamentos dos estados nacionais, organizações e grupos internacionais em relação à imigração internacional – alguns mais permissivos, outros mais intolerantes -, esse é um tema que tem gerado grandes controvérsias na política internacional. Um bom exemplo disso foi a postura de tolerância zero dos Estados Unidos, que consistia em separar os pais de filhos que fossem detidos atravessando ilegalmente a fronteira dos Estados Unidos com o México. Devido às críticas que recebeu, os EUA alteraram essa sua política. Na União Europeia, também têm sido muito controversas as posições e opiniões dos líderes de estado em relação à entrada de imigrantes no continente europeu.

IV – **Errado**. Historicamente, o Brasil apresenta uma política de acolhimento de imigrantes, não sendo restritivo à imigração. Apesar de não ser um país de interesse migratório tão grande quanto os de países europeus e os EUA, o Brasil recebe bons fluxos migratórios regionais, de países da América Latina que sofrem com a pobreza ou desastres naturais, como o Haiti e a Bolívia e, mais recentemente, da Venezuela, ou de países de outros continentes.

Gabarito: A

(LEANDRO SIGNORI/PC DF – SIMULADO/2019) Acerca das migrações internacionais, julgue os itens a seguir.

20. Os imigrantes internacionais, de maneira geral, são bem-vindos nos países desenvolvidos.

COMENTÁRIOS:

De maneira geral, os imigrantes internacionais não são bem-vindos nos países desenvolvidos. Basta vermos a postura dos Estados Unidos ao longo dos anos, e, também, de muitos países europeus, que dificultam a entrada de imigrantes de menor qualificação profissional e renda.

Gabarito: Errado

21. A globalização tem facilitado as migrações, tanto pela redução do custo dos transportes quanto pela expansão da utilização da internet e das telecomunicações.

COMENTÁRIOS:

De fato, a expansão da internet e das telecomunicações facilitam as migrações, na medida em que as pessoas têm maior acesso às informações sobre outros países, contatos com pessoas que imigraram e com familiares e amigos dos países de origem. O desenvolvimento tecnológico também levou a redução de custos de transportes, tornando mais barato o deslocamento para outros países.

Assim, a globalização e seus avanços teoricamente facilitam as migrações, contudo, países, principalmente os ricos, impõem muitos obstáculos ao ingresso de estrangeiros em seus territórios.



Gabarito: Certo

22. Em geral, as exigências e o controle sobre a imigração são menores para a mão de obra de baixa e média qualificação, pois, geralmente, imigrantes recebem salários menores do que os nacionais dos seus países, o que diminui o custo de mão de obra de empresas dos países de destino.

COMENTÁRIOS:

Em geral, as exigências não são menores para mão de obra de baixa e média qualificação. São maiores. O acesso de pessoas com alta qualificação é mais facilitado, pois sua maior qualificação pode gerar, potencialmente, mais fomento à economia e ao desenvolvimento do país.

A entrada de imigrantes com baixa e média qualificação é, geralmente, mais restrita, pois possuem menos a oferecer para o país. Esses imigrantes costumam receber salários menores que o de nacionais dos países que imigram, principalmente se forem imigrantes ilegais, pois não terão acesso aos direitos trabalhistas.

Gabarito: Errado

23. (CEBRASPE/PM AL/2018 – SOLDADO - ADAPTADA) Milhares de imigrantes, sobretudo africanos, que atravessam o mar Mediterrâneo têm recebido integral apoio de governos europeus do Leste, que os têm acolhido sem reservas.

COMENTÁRIOS:

Salta os olhos o erro da questão. Os imigrantes não têm recebido integral apoio, tampouco têm sido acolhidos sem reservas, seja por governos europeus do leste ou do oeste. Na verdade, há muitas resistências de governos e países.

Gabarito: Errado

24. (CEBRASPE/PM AL/2018 – SOLDADO - ADAPTADA) Em geral, as atuais correntes migratórias são formadas por pessoas com alta qualificação educacional e técnica, em busca de salários mais altos.

COMENTÁRIOS:

Em geral, as atuais correntes migratórias são formadas por pessoas com baixa qualificação educacional e técnica, em busca de salários mais altos. São pessoas que saem de um país pobre ou em desenvolvimento em direção a um país desenvolvido ou em desenvolvimento, em busca de melhores salários e melhores condições de vida.

Também são formadas por pessoas que fogem de guerras, conflitos, perseguições e desastres ambientais que ameaçam à sua existência e sobrevivência.

Gabarito: Errado



25. A Copa do Mundo da FIFA – Rússia 2018 demonstrou que o futebol também se globalizou, mas não o suficiente para aceitar que atletas de origem familiar estrangeira, como os afrodescendentes, pudessem integrar seleções europeias.

COMENTÁRIOS:

O futebol é um esporte bastante globalizado e a Copa do Mundo da FIFA – Rússia 2018 demonstrou mais uma vez isto. É só verificarmos a quantidade de jogadores de origem familiar estrangeira que atuaram em várias seleções, como os afrodescendentes. Exemplo muito comentado foi o da seleção da França, campeã da Copa do Mundo de 2018. Dos 23 jogadores dessa seleção, dois eram nascidos em outros países, outros dois eram nascidos em territórios que pertencem à França, mas possuem seleções próprias, 11 tinham pais nascidos em outros países e quatro tinham avós e antepassados em outros países.

Gabarito: Errado

(CEBRASPE/MP PI/2018 – TODOS OS CARGOS)



Em um mundo globalizado, nada mais natural que inúmeras equipes de futebol atuem, na Copa do Mundo, com um número considerável de jogadores naturalizados. Contudo, se há alguma seleção que represente a mistura entre povos de origens distintas, essa é a da França. Finalista do Mundial da Rússia de 2018, a seleção francesa é praticamente um apanhado de etnias diferentes, com atletas não só descendentes de etnias, classes e religiões variadas, mas até mesmo nascidos em outros países. Em suma, um retrato fiel da heterogeneidade que marca a própria França. Fernando Barros.

Folha de Pernambuco, 15/7/2018. Internet: (com adaptações).

Tendo como referência a imagem e o assunto abordado no texto, julgue os itens subsequentes.

26. Depreende-se da figura apresentada uma alusão à relação diplomática e anticolonialista da França com imigrantes de suas ex-colônias.

COMENTÁRIOS:



A figura não expressa uma relação diplomática e anticolonialista. Observe na figura uma grande mão saindo da França em direção à taça da copa do mundo, dando a entender que a França quer a taça da copa, sem levar em consideração as pessoas que estão na embarcação superlotada. Relações colonialistas são parecidas com essa analogia que a imagem faz. Um país só tira de sua colônia as riquezas, aquilo que pode ser usufruído para o seu próprio crescimento, sem se preocupar com o desenvolvimento econômico-social dos colonizados. É uma relação de expropriação e de usurpação de riquezas.

A figura faz uma alusão à seleção francesa, campeã da Copa do Mundo de 2018. Grande parte dos jogadores dessa seleção não tinham a origem francesa. Eram jogadores de origem étnica e familiar negra, asiática e outras. Grandes craques do futebol, muitos de ex-colônias da França. Ou seja, essa riqueza de craques de outras etnias a França quer, não reclama. Mas o imigrante comum, sem grandes especialidades e talentos profissionais, é alvo de preconceitos e de resistências ao seu ingresso e de sua vivência na França.

Gabarito: Errado

27. A mobilidade demográfica ilustrada na figura se justifica pelas mesmas razões do problema migratório que perdura na Síria.

COMENTÁRIOS:

O principal motivo que leva os sírios a migrarem é a guerra civil da Síria. Na África, migrantes também fogem de conflitos armados entre governos e grupos extremistas e conflitos armados entre etnias. Mas esses não são os únicos motivos. Fogem também da pobreza, de desastres naturais e de perseguições religiosas. Por isso, não se pode dizer que são as mesmas razões que causam a migração de sírios e de africanos.

Gabarito: Errado

28. Um país que sedia uma copa do mundo vivencia a experiência de tornar-se um espaço multiétnico temporário.

COMENTÁRIOS:

A copa do mundo de futebol atrai pessoas de todos os continentes que vão para acompanhar o evento. Durante a sua duração, o país que sedia a copa torna-se um espaço multiétnico.

Gabarito: Certo

(QUADRIX/CFBio/2018 – TÉCNICO EM TI) Cada vez mais, nesta Copa do Mundo, torna se evidente: a globalização do futebol é uma realidade. Basta ver como as equipes europeias tradicionais incluem jogadores originários de famílias de outros países, sobretudo árabes ou africanos. O mesmo ocorre no campo da cultura, das artes e do espetáculo. Esse panorama confirma que a revolução tecnológica trouxe mais informação, interação e conhecimento mútuo, mas também é característico de um momento da História em que as viagens são mais viáveis e não dá para segurar a vontade de subir na vida e ter melhores condições de sobrevivência.

Ana Maria Machado. Desespero e migrações. In: O Globo, 7/7/2018, p. 12 (com adaptações).



Tendo o fragmento de texto acima como referência inicial e considerando a amplitude do tema por ele focalizado, a globalização, elemento marcante e definidor dos tempos atuais, julgue os itens.

29. Nos últimos anos, intensificaram-se as correntes migratórias vindas, sobretudo, da África e do Oriente Médio em direção à Europa, onde têm sido bem recebidas por todos os países.

COMENTÁRIOS:

Nos últimos anos, intensificaram-se, de fato, as correntes migratórias vindas da África e do Oriente Médio em direção à Europa, deflagradas por conflitos étnicos-religiosos e guerras nessas regiões, em especial, a guerra civil da Síria. Entretanto, via de regra, estes imigrantes não têm sido bem recebidos em países europeus. Veja que o comando da questão generaliza: todos os países. Já dava para desconfiar. Desconfie deste tipo de generalização, via de regra são pegadinhas utilizadas pelas bancas.

Diversos países tentam barrar a entrada de imigrantes e tornam mais rígidas as suas fronteiras. Movimentos de cunho xenofóbico têm ganhado força no continente, inclusive obtendo ou ampliando a sua representatividade política em parlamentos nacionais e no parlamento da União Europeia.

Gabarito: Errado

30. Confirmando a posição defendida no texto, na Copa do Mundo de 2018, as manifestações nacionalistas, tanto de atletas quanto de torcedores, praticamente deixaram de existir.

COMENTÁRIOS:

O texto não diz que as manifestações nacionalistas de atletas e de torcedores deixaram de existir. Isto já torna a questão incorreta.

Na Copa do Mundo de 2018, ocorreram algumas pequenas manifestações nacionalistas de atletas e torcedores, sendo esse o segundo erro da questão. O mais marcante foi durante um jogo da Suíça contra a Sérvia, onde jogadores suíços comemoraram os dois gols da partida fazendo uma manifestação política em favor de suas origens: com as mãos, imitaram o símbolo da bandeira da Albânia, uma águia negra de duas cabeças.

A ação foi considerada uma grande provocação pela Sérvia, contrária à independência do Kosovo, região onde a maioria da população é de origem albanesa, há décadas.

Gabarito: Errado

31. Talvez pela situação de crise que vem atravessando, o Brasil não tem sido procurado por imigrantes que estejam fugindo da situação caótica de seus respectivos países, a exemplo do Haiti e da Venezuela.

COMENTÁRIOS:

A crise econômica pela qual passa ou passou o Brasil nos últimos anos não fez com que imigrantes que estejam fugindo da situação caótica de seus respectivos países deixassem de procurar o Brasil como um local



de refúgio. Exemplo são os sírios e africanos que vieram para o Brasil fugindo de conflitos bélicos nos seus países.

De 2010 a 2016, cerca de 40 mil haitianos vieram para o Brasil. O país tem passado por crises ininterruptas ao longo das últimas décadas. É o país mais pobre da América Latina, marcado pela pobreza e miséria, que ainda têm sofrido com catástrofes de origem natural, como terremotos e ciclones, abalando ainda mais a sua estrutura socioeconômica.

A migração de venezuelanos é mais recente. Intensificou-se a partir do ano de 2017. A Venezuela passa por severa crise política, econômica e social.

Gabarito: Errado

32. Perseguições religiosas e guerras constantes são dois dos principais motivos a explicar as ondas de correntes migratórias que se multiplicam no mundo contemporâneo.

COMENTÁRIOS:

A busca por oportunidades de emprego e geração de renda, as catástrofes naturais, as perseguições por motivos étnicos, religiosos ou as guerras são o que mais motivam a emigração (saída) de pessoas de diversos países.

Sendo assim, as perseguições religiosas e as guerras constantes são dois dos principais motivos que explicam as ondas de correntes migratórias que se multiplicam no mundo contemporâneo.

Gabarito: Certo

33. A busca de “melhores condições de sobrevivência”, como afirma o texto, é fator decisivo para impulsionar as atuais correntes migratórias.

COMENTÁRIOS:

A busca de melhores condições de sobrevivência é fator decisivo para impulsionar as atuais correntes migratórias. No seguinte trecho: "[...] as viagens são mais viáveis e não dá para segurar a vontade de subir na vida e ter melhores condições de sobrevivência. [...]", o texto infere que a vontade de subir na vida e ter melhores condições de sobrevivência motivam as migrações internacionais.

Gabarito: Certo

34. Um aspecto humanamente doloroso do atual movimento migratório mundial é a atuação de verdadeiros “traficantes de gente”, que enganam os desesperados e lhes arrancam todas as economias da vida antes de largá-los no meio do mar, no deserto ou na fronteira.

COMENTÁRIOS:

Durante o seu trajeto, diversos imigrantes enfrentam riscos de morte para tentar chegar ao seu destino, vítimas de traficantes de pessoas, que fazem parte de complexas redes criminosas internacionais. Os



imigrantes, desesperados para fugir de sua região, acabam se vendo obrigados a pagarem elevadas quantias em um serviço de transporte que, em muitos casos, acaba de forma trágica.

Casos assim vieram muito à tona em 2015, durante o auge da crise imigratória na Europa. Na travessia do Mar Mediterrâneo, muitos imigrantes desapareceram, vítimas dos traficantes de pessoas. Em um dos casos, cerca de 800 pessoas se afogaram após um barco virar na costa Líbia.

Gabarito: Certo



QUESTÕES COMENTADAS – ORGANISMOS, ORGANIZAÇÕES E GRUPOS INTERNACIONAIS – MULTIBANCAS

1. (CEBRASPE/TJ-SC/2023) No mundo atual, a chamada “governança mundial” tende a ser tema de grande relevância e suscita estudos e debates de grande importância. Em relação a esse tema, assinale a opção correta.

a) A Organização das Nações Unidas (ONU), surgida no imediato pós- Segunda Guerra, não tem sido questionada em seus pressupostos e em seu modo de agir.

b) A atual composição do Conselho de Segurança da Organização das Nações Unidas (ONU) atende aos interesses de todos os Estados-membros da ONU, por isso sua estrutura não tem sido alvo de debate.

c) Países considerados emergentes, como o Brasil, estão a pleitear maior espaço nos fóruns decisórios mundiais, como na Organização das Nações Unidas (ONU).

d) A extinção da Organização Mundial do Comércio (OMC), ocorrida por pressão da Comunidade Europeia, deixou um vácuo na regulamentação do sistema de trocas internacional.

e) Provavelmente por influência dos EUA, os Estados americanos ainda não conseguiram criar um organismo multilateral que os congregue.

COMENTÁRIOS:

a) Incorreta. A ONU tem sido frequentemente questionada sobre seus pressupostos, estrutura e eficácia na resolução de conflitos e na promoção da paz mundial. Há debates constantes sobre a necessidade de reformas na organização para torná-la mais representativa e eficiente, sobretudo com relação ao Conselho de Segurança da ONU.

b) Incorreta. A estrutura do Conselho de Segurança da ONU tem sido alvo de debate há décadas devido à sua composição atual, que reflete um equilíbrio de poderes estabelecido no pós-Segunda Guerra Mundial. Vários países argumentam que essa estrutura não reflete mais a realidade geopolítica contemporânea e exclui nações importantes dos assentos permanentes, como o Brasil, a Índia e a Alemanha.

c) Correta. Países emergentes, como o Brasil, a Índia, a China e a África do Sul, têm buscado maior representatividade e participação nos fóruns decisórios mundiais, incluindo a ONU. Esses países argumentam que suas economias e influência global crescente justificam uma maior voz nas decisões internacionais.

d) Incorreta. A Organização Mundial do Comércio (OMC) continua existindo e desempenhando um papel importante na regulamentação do comércio internacional. Embora enfrente desafios e críticas, não foi extinta.

e) Incorreta. A Organização dos Estados Americanos (OEA) é o organismo multilateral que congrega os países do continente americano. A OEA atua como um fórum para discussão e cooperação em questões políticas, econômicas, sociais e de segurança na região das Américas.



Gabarito: C

2. (CEBRASPE/TJ-SC/2023) Em relação à Organização do Tratado do Atlântico Norte (OTAN), assinale a opção correta.

- a) A saída dos Estados Unidos da América (EUA) da OTAN enfraqueceu substancialmente a aliança militar dos países-membros.
- b) A OTAN é uma aliança militar do Ocidente, que surgiu no pós -Segunda Guerra mundial e durante a Guerra Fria.
- c) A Rússia é o Estado-membro mais importante da OTAN, e seu presidente, Vladimir Putin, possui forte apoio da organização na invasão à Ucrânia.
- d) Após a desintegração da União Soviética, a OTAN arquivou seu projeto de expansão para o leste europeu
- e) A crise do socialismo real na Europa oriental levou a OTAN a fornecer proteção militar aos países ainda considerados comunistas.

COMENTÁRIOS:

a) Incorreta. Os Estados Unidos mantêm um papel de liderança na aliança, tanto em termos militares quanto políticos e não saíram da organização.

b) Correta. A OTAN foi estabelecida em 1949 como uma aliança militar entre países ocidentais, liderados pelos Estados Unidos e incluindo várias nações europeias, para se contrapor à ameaça representada pela União Soviética e seus aliados durante a Guerra Fria.

c) Incorreta. A Rússia não é um membro da OTAN. As relações entre a Rússia e a OTAN têm sido marcadas por tensões, especialmente após a anexação da Crimeia pela Rússia, em 2014, e seu envolvimento na guerra no Leste europeu, com a Ucrânia.

d) Incorreta. Após a dissolução da União Soviética, em 1991, a OTAN expandiu a sua influência e membros para incluir várias nações anteriormente pertencentes ao bloco soviético, como os países bálticos e outras nações da Europa Oriental.

e) Incorreta. A OTAN não tinha a função de fornecer proteção militar aos países considerados comunistas durante a Guerra Fria, e sim aos capitalistas. Os países comunistas eram parte do bloco liderado pela União Soviética, contra o qual a OTAN se opunha, e formado pelo tratado militar do Pacto de Varsóvia.

Gabarito: B

3. (QUADRIX/CRO-TO/2023) O conselho de segurança da Organização das Nações Unidas (ONU) tem sido eficaz em seus esforços para reduzir os conflitos pelo mundo afora, o que pode ser explicado pelo fim do direito de veto por parte de seus principais integrantes.

COMENTÁRIOS:



O Conselho de Segurança da Organização das Nações Unidas (ONU) é composto por cinco membros permanentes, China, Estados Unidos, França, Reino Unido e Rússia, e 10 membros rotativos com mandato de dois anos. Os membros rotativos são escolhidos de forma regionalizada pelo mundo.

Os membros permanentes têm poder de veto, isto é, podem vetar qualquer resolução aprovada pelo órgão.

O direito de veto tem sido uma fonte de controvérsia, pois, em alguns casos, pode dificultar a tomada de decisões eficazes para abordar conflitos internacionais, uma vez que os membros permanentes têm objetivos divergentes e não têm conseguido chegar a um consenso nos principais temas da atualidade debatidos na ONU.

Desse modo, o Conselho de Segurança da ONU enfrenta desafios significativos, e a questão dos poderes de veto é frequentemente debatida em discussões sobre a reforma da ONU.

Gabarito: Errado

4. (QUADRIX/CRO-TO/2023) A ONU também se notabiliza pela atuação de seus órgãos especializados nos mais diversos setores, como na educação, na cultura e na ciência, além de oferecer apoio aos milhares de refugiados que são forçados a abandonar seus países.

COMENTÁRIOS:

A ONU conta com diversos órgãos especializados que abrangem áreas como educação, cultura e ciência.

A Organização das Nações Unidas para a Educação, a Ciência e a Cultura (UNESCO) é um exemplo de um desses órgãos especializados da ONU que se dedica especificamente à promoção da educação, ciência e cultura em nível global. Além disso, a Agência ONU para Refugiados (ACNUR) é outra agência importante da organização, que oferece apoio e assistência a milhares de refugiados em todo o mundo.

Gabarito: Certo

5. (CEBRASPE/TJ-SC/2023) A geopolítica mundial surgida do pós-Segunda Guerra mundial em muito se alterou e, superado, em termos imperativos, o quadro da Guerra Fria, quando o temor de um conflito nuclear manteve as principais potências exercendo um necessário equilíbrio, o mundo de hoje se vê às voltas com uma nova reconfiguração das relações internacionais. No que diz respeito à atuação da Organização das Nações Unidas (ONU) nesse contexto, julgue os itens seguintes.

I. Criada no imediato pós-Segunda Guerra mundial, a ONU tem sido bastante criticada nos últimos anos, sendo acusada até mesmo de omissão em situações críticas para a paz.

II. Desde o completo fracasso da primeira grande conferência mundial voltada para a questão ambiental promovida pela ONU no início da década de 70 do século passado, essa organização deixou de atuar na área de meio ambiente.

III. As ações militares que culminaram em guerras como a no Oriente Médio e, mais recentemente, a no Leste Europeu foram aprovadas pelo Conselho de Segurança da ONU.

Assinale a opção correta.



- A) Nenhum item está certo.
- B) Apenas o item I está certo.
- C) Apenas o item II está certo.
- D) Apenas os itens I e III estão certos.
- E) Apenas os itens II e III estão certos.

COMENTÁRIOS:

I - Correta. A ONU tem enfrentado críticas nos últimos anos devido à percepção de omissão em situações de conflito e violações dos direitos humanos. Os críticos argumentam que a organização não tem conseguido cumprir seu papel de preservar a paz em várias partes do mundo. Todavia, a Organização é formada por Estados nacionais, que são os que tomam as decisões no âmbito da entidade. A falta de uma ação mais assertiva da Organização reflete uma divisão e diferenças cada vez maiores entre os Estados países.

II - Incorreta. A Conferência das Nações Unidas sobre o Meio Ambiente Humano, realizada em Estocolmo, em 1972, foi um marco importante no estabelecimento de uma agenda ambiental global. Desde então, a ONU tem desempenhado um papel relevante na área ambiental, criando programas, convenções e agências especializadas para abordar questões ambientais e promover a sustentabilidade.

III - Incorreta. Pelo contrário, essas guerras não foram aprovadas pelo Conselho de Segurança da ONU. O Conselho tem sido criticado por não ter conseguido agir para evitar ou encerrar esses conflitos. O órgão está bastante dividido pelos interesses muito divergentes dos seus membros permanentes, com poder veto, o que o coloca em uma situação de certa inoperância na atualidade.

Gabarito: B

6. (FGV/PREFEITURA DE SÃO JOSÉ DOS CAMPOS – SP/2023) Em agosto de 2023, o agrupamento de países emergentes que integra o BRICS anunciou o início de um processo de expansão, passando a integrar novos membros.

A respeito do BRICS e de seu funcionamento, assinale a afirmativa correta.

- A) Objetiva defender os interesses dos países produtores e exportadores de petróleo no mercado global.
- B) Zela pela manutenção da paz e da segurança internacional com a adoção de medidas obrigatórias para seus membros.
- C) Prioriza a oferta de empréstimos a países em desenvolvimento para o combate à pobreza.
- D) Atua como foro multilateral para regulamentar o comércio internacional das commodities produzidas por seus membros
- E) Abre espaços de diálogo para seus membros, identificando interesses comuns, de modo a ampliar a cooperação em setores específicos.



COMENTÁRIOS:

A) Incorreto. O BRICS não tem um foco exclusivo na defesa dos interesses de países produtores de petróleo. Esse é, na realidade, o objetivo da Organização dos Países Exportadores de Petróleo (OPEP), um cartel formado por países produtores e exportadores de petróleo. O BRICS é um grupo diplomático e informal que busca promover a cooperação econômica, política e cultural entre seus membros e adotar posições conjuntas para influenciar questões globais.

B) Incorreto. Embora o BRICS esteja preocupado com a segurança global, não adota medidas obrigatórias para seus membros. O BRICS é um fórum de cooperação e de diálogo, não um órgão de segurança global. No âmbito da ONU, o Conselho de Segurança tem como atribuição zelar pela manutenção da paz e da segurança internacional. As decisões que toma são de cumprimento obrigatório pelos 193 países membros das Nações Unidas.

C) Incorreto. Embora os países do BRICS estejam envolvidos em várias iniciativas de financiamento para o desenvolvimento, não é a sua prioridade central. Eles buscam cooperação em diversas áreas, não apenas o combate à pobreza.

D) Incorreto. O BRICS não é um órgão de regulamentação do comércio internacional de commodities. Essa é uma função desempenhada por organizações como a Organização Mundial do Comércio (OMC).

E) Correto. Essa é uma descrição precisa do papel do BRICS. O grupo promove o diálogo entre seus membros, identificando interesses comuns e ampliando a cooperação em várias áreas, tais como economia, política, cultura e ciência.

Gabarito: E

7. (VUNESP/EPC/2023) Em julho de 2022, em Estocolmo (Suécia), António Guterres advertiu que “o bem-estar global está em perigo, em grande parte porque não cumprimos nossas promessas sobre o meio ambiente”.

(UNEP. <https://bityli.com/CmmK3Q>. 04.06.2022)

António Guterres tem papel de destaque no mundo político mundial e exerce o cargo de

- A) Primeiro ministro da Espanha.
- B) Secretário geral da ONU (Organização das Nações Unidas).
- C) Conselheiro da OEA (Organização dos Estados Americanos)
- D) Ministro do meio ambiente dos Estados Unidos.
- E) Presidente do México.

COMENTÁRIOS:



O português António Guterres exerce o cargo de Secretário geral da Organização das Nações Unidas (ONU) desde 2017.

Ele é de fato uma figura de destaque no mundo político mundial. Como líder máximo da ONU, Guterres tem a responsabilidade de promover a cooperação internacional, buscar soluções para os desafios globais e advogar pelos direitos humanos, pela paz e pela sustentabilidade.

O comentário citado na questão reflete a sua preocupação com a falta de cumprimento das promessas sobre o meio ambiente, destacando a importância de agir de forma mais efetiva para preservar o bem-estar global.

Gabarito: B

8. (FEPESE/PREFEITURA DE BALNEÁRIO CAMBORIÚ-SC/2023) Observando a importância das Organizações Internacionais e Intergovernamental Regional no cenário mundial, assinale a alternativa correta.

A) A Organização Mundial do Comércio (OMC) possui como objetivo o financiamento para governos que buscam o investimento em áreas sociais.

B) O MERCOSUL (Mercado Comum do Sul) é composto por Brasil, Argentina, Paraguai, Uruguai e Equador. O objetivo principal desse bloco econômico é abertura comercial.

C) A OTAN (Organização do Tratado do Atlântico Norte) foi criada sob liderança da Rússia (antiga União Soviética) para se contrapor aos Estados Unidos e ao mundo capitalista.

D) O FMI (Fundo Monetário Internacional) possui, oficialmente, como objetivo principal, a promoção e cooperação econômica em escala global a partir da estabilidade financeira e relações comerciais internacionais.

E) A Organização para a Cooperação e Desenvolvimento Econômico (OCDE) é uma organização internacional composta por 38 países membros, entre eles o Brasil, admitido em fevereiro de 2016.

COMENTÁRIOS:

a) Incorreto. A Organização Mundial do Comércio (OMC) não tem esse objetivo. Seu escopo principal é estimular o comércio internacional e facilitar o livre trânsito de mercadorias.

b) Incorreto. O Mercosul é composto por Brasil, Argentina, Paraguai, Uruguai e Venezuela (suspensa, mas ainda membro efetivo do grupo). O principal objetivo desse bloco econômico é a formação de um mercado comum, com a intensificação do comércio e da integração econômica entre seus membros.

c) Incorreto. A Organização do Tratado do Atlântico Norte (OTAN) foi criada sob liderança do Estados Unidos, para se contrapor à União Soviética durante o momento histórico da Guerra Fria.

d) Correto. O Fundo Monetário Internacional (FMI) tem como objetivo principal promover a estabilidade financeira e monetária do sistema econômico global. Para isso, uma de suas principais linhas de ação é a concessão de empréstimos para países em dificuldades financeiras.



e) Incorreto. A Organização para a Cooperação e o Desenvolvimento Econômico (OCDE) é uma organização internacional que articula políticas de educação, de saúde, de emprego e de renda entre países ricos e alguns emergentes ou em desenvolvimento. Atualmente, é composta por 38 membros. O Brasil não faz parte da OCDE, mas almeja integrá-la. O processo de adesão do Brasil à organização está em andamento e existe a expectativa de que seja concluído em um futuro próximo.

Gabarito: D

9. (FEPESE/PREFEITURA DE BALNEÁRIO CAMBORIÚ-SC/2023) A Organização das Nações Unidas foi criada no final da Segunda Guerra Mundial, traçando como objetivo principal o estabelecimento da paz entre nações e a segurança mundial.

Assinale a alternativa correta sobre a ONU e a Ordem Mundial.

- A) Os países permanentes da ONU são: Estados Unidos, Alemanha, Inglaterra e Rússia.
- B) A Assembleia Geral é composta por todos os países-membros da Organização, reunindo-se uma vez ao ano.
- C) O Conselho de Segurança é composto apenas pelos membros permanentes, todos com direito de veto.
- D) A Assembleia Geral é o único órgão dentro da ONU com poder absoluto de autorizar a intervenção militar em um país.
- E) A sede oficial da ONU encontra-se em Washington. Em seu período de fundação a organização contava com 41 Estados-membros.

COMENTÁRIOS:

a) Incorreto. Todos os 193 países que fazem parte da Organização das Nações Unidas (ONU) podem ser considerados membros permanentes. Dentro da ONU, existe o Conselho de Segurança (CS), com cinco membros permanentes e 10 temporários. Os cinco membros permanentes são China, França, Rússia, Reino Unido e Estados Unidos.

b) Correto. A Assembleia Geral da ONU é a principal assembleia deliberativa da organização, composta por todos os seus Estados-membros, que se reúnem uma vez ao ano, geralmente na sede da ONU, em Nova York, nos Estados Unidos.

c) Incorreto. O Conselho de Segurança é composto pelos seus cinco membros permanentes e 10 membros temporários. Todos os 15 países participam das discussões e votações, mas apenas os membros permanentes têm poder de veto.

d) Incorreto. A Assembleia Geral da ONU é um órgão deliberativo e não tem o poder de autorizar a intervenção militar em um país. As suas decisões, contudo, não têm um caráter vinculativo. O Conselho de Segurança é o único órgão dentro da ONU com poder de autorizar a intervenção militar em um país. Suas decisões são vinculativas e devem ser seguidas pelos membros da organização.



e) Incorreto. A sede oficial da ONU encontra-se em Nova York. Quando foi fundada, em 1945, contou com a ratificação de 51 países, que foram seus primeiros Estados-membros.

Gabarito: B

10. (QUADRIX/PREFEITURA DE BARREIRAS-BA/2022) A respeito do conjunto de países que integram o Brics e de aspectos relacionados a esse assunto, julgue os itens a seguir.

I- Os principais objetivos do Brics são fomentar a cooperação mútua entre os países que compõem esse bloco, com base na política de interferência dos países-membros nas decisões políticas dos demais integrantes, e impulsionar a economia das maiores potências econômicas do planeta.

II- Os membros do Brics contrapõem-se à Otan, na medida em que esta se restringe ao Atlântico Norte, enquanto aqueles pretendem ser hegemônicos no hemisfério sul.

III- O Brics consiste em um agrupamento de países de economia emergente, sendo composto por cinco países: Brasil; Rússia; China; Índia; e África do Sul.

Assinale a alternativa correta.

- (A) Apenas o item I está certo.
- (B) Apenas o item II está certo.
- (C) Apenas o item III está certo.
- (D) Todos os itens estão certos.

COMENTÁRIOS:

I - Incorreto. Os principais objetivos do Brics são fomentar a cooperação mútua entre os países que compõem esse bloco e ser um mecanismo oficial de cooperação entre os países integrantes. Todavia, o grupo não tem essa ideia de “interferência dos países-membros nas decisões políticas dos demais integrantes”. Também não objetiva “impulsionar a economia das maiores potências econômicas do planeta”, mas sim as de seus membros.

II - Incorreto. Existem divergências entre a Rússia, que é um membro do Brics, e a Otan, mas o grupo como um todo não se posiciona e nem faz contraponto à Otan. São duas organizações com histórias e objetivos diferentes. O Brics também não objetiva ser hegemônico no hemisfério Sul.

III - Correto. O Brics consiste em um agrupamento de países de economia emergente, sendo composto por cinco países: Brasil, Rússia, China, Índia e África do Sul.

Gabarito: C

11. (QUADRIX/REFITO 6ª REGIÃO/2022 – RECEPCIONISTA) Uma agência especializada das Nações Unidas tornou-se bastante conhecida, na atualidade, devido à emergência da pandemia do novo Coronavírus. Trata-se do(da)



- (A) Fundo de Amparo à Infância (UNICEF).
- (B) Fundo para a Agricultura e a Alimentação (FAO).
- (C) Organização para a Educação, Cultura e Ciência (Unesco).
- (D) Organização Mundial da Saúde (OMS).
- (E) Programa para o Desenvolvimento (Pnud).

COMENTÁRIOS:

A agência especializada nas Nações Unidas referida pelo enunciado é a Organização Mundial da Saúde (OMS), que atuou como o principal organismo internacional no monitoramento e combate à pandemia de covid-19.

A UNICEF é a agência especializada das Nações Unidas que tem como objetivo defender e proteger os direitos de crianças e adolescentes, ajudar a atender às suas necessidades básicas e criar oportunidades para que alcancem seu pleno potencial.

A FAO é a agência especializada das Nações Unidas que lidera os esforços internacionais para erradicar a fome no mundo.

A Unesco é a agência especializada das Nações Unidas cujo objetivo é contribuir para a paz e segurança no mundo mediante a educação, as ciências naturais, as ciências sociais/humanas e as comunicações/informação.

O Pnud é um programa das Nações Unidas que tem como objetivo trabalhar pelo combate à pobreza e pelo desenvolvimento humano.

Gabarito: D.

12. (QUADRIX/CRECI-RO/2022 – FISCAL) No Conselho de Segurança da Organização das Nações Unidas (ONU), são debatidas questões que colocam em risco a segurança e a paz mundiais.

COMENTÁRIOS:

A ONU tem diversos órgãos; um dos mais importantes é o Conselho de Segurança (CS), responsável por observar e se reunir para discutir sobre qualquer potencial problema que comprometa a paz mundial.

O CS tem poder para deliberar sobre o envio de missões de paz a áreas em conflito, definir sanções econômicas ou a ordenar uma intervenção militar em um país. Enquanto outros órgãos das Nações Unidas só podem fazer "recomendações" para os governos membros, o CS tem o poder de tomar decisões vinculativas, que devem ser seguidas pelos estados membros da ONU.

Portanto, no CS da Organização das Nações Unidas (ONU), são debatidas questões que colocam em risco a segurança e a paz mundiais.



Gabarito: Certo.

(CEBRASPE/FUNPRES-EXE/2022 – ANALISTA) Em meio à circulação da variante Ômicron, países ricos e de média renda apressam a aplicação da dose de reforço das vacinas. Enquanto isso, os mais pobres têm menos de 10% de suas populações com uma dose e dependem de doações para acelerar a imunização. No entanto, 2022 começa com menos de 50% das vacinas prometidas entregues em 2021. Apenas pelo mecanismo Covax, criado pela Organização Mundial da Saúde (OMS), a meta era entregar 2 bilhões de doses doadas pelos países ricos às nações de baixa renda. Menos de 30% foram entregues.

O Estado de S. Paulo, 2/1/2022, p. A9 (com adaptações).

Tendo o texto acima como referência inicial e considerando aspectos marcantes do cenário mundial contemporâneo, julgue o item seguinte.

13. Mencionada no texto, a OMS é uma das mais conhecidas e atuantes agências especializadas da Organização das Nações Unidas (ONU), a exemplo de outras como FAO, UNESCO e UNICEF.

COMENTÁRIOS:

A OMS é a Organização Mundial da Saúde, uma das mais conhecidas e atuantes agências especializadas da Organização das Nações Unidas (ONU). Outros exemplos de agências especializadas da ONU são a Organização das Nações Unidas para a Alimentação e a Agricultura (FAO), a Organização das Nações Unidas para a Educação, a Ciência e a Cultura (UNESCO) e o Fundo de Emergência Internacional das Nações Unidas para a Infância (UNICEF).

Gabarito: Certo

(QUADRIX/CREFONO 4ª REGIÃO/2021 – FONOAUDIÓLOGO FISCAL) Relativamente ao cenário mundial da atualidade, julgue o item a seguir.

14. Uma das razões para a perda de importância da Organização das Nações Unidas (ONU) no atual cenário mundial é o fato de que ela, até o momento, foi incapaz de criar, em sua estrutura, agências especializadas para tratar da saúde, da educação, do desenvolvimento e do meio ambiente.

COMENTÁRIOS:

A ONU tem em sua estrutura agências especializadas para tratar da saúde, da educação, do desenvolvimento e do meio ambiente.

Na área da saúde, existe a Organização Mundial da Saúde (OMS). Na área da educação, existe a Organização das Nações Unidas para a Educação, a Ciência e a Cultura (UNESCO). Na área do desenvolvimento, há o Programa das Nações Unidas para o Desenvolvimento (PNUD). Na área do meio ambiente, há o Programa das Nações Unidas para o Meio Ambiente (PNUMA).

Gabarito: Errado

15. (INSTITUTO ANIMA/FUJAMA/2020 – ENGENHEIRO FLORESTAL) O que é o BRICS?



- a) Termo utilizado para designar o grupo de países de economias emergentes formado por Brasil, Rússia, Índia, China e África do Sul.
- b) Termo abreviado que significa a saída do Reino Unido da União Europeia.
- c) É um grupo formado pelos ministros de finanças e chefes dos bancos centrais das 19 maiores economias do mundo mais a União Europeia.
- d) É uma organização intergovernamental fundada a partir do Tratado de Assunção de 1991. Estabelece uma integração, inicialmente econômica, configurada atualmente em uma união aduaneira, na qual há livre comércio intrazona e política comercial comum entre os países-membros.
- e) É uma união econômica e política de 28 Estados-membros independentes situados principalmente na Europa.

COMENTÁRIOS:

BRICS é um termo utilizado para designar o grupo de países de economias emergentes formado por Brasil, Rússia, Índia, China e África do Sul. O nome é referência às iniciais dos países envolvidos – o S diz respeito à África do Sul em inglês (South Africa).

Muito alunos perguntam no fórum de dúvidas se o BRICS é um bloco econômico. O BRICS **não** é um bloco econômico ou uma associação de comércio formal. Diferentemente de blocos econômicos como a União Europeia e o Mercosul, o BRICS não possui um estatuto formal de regras ou uma carta de princípios.

O BRICS é um mecanismo político internacional de cooperação mútua entre os países integrantes. A intenção do grupo é manter uma aliança que ajude a alavancar a influência geopolítica desses países no mundo.

A alternativa “B” se refere ao Brexit, processo de saída do Reino Unido da União Europeia.

A alternativa “C” se refere ao G20, o grupo dos vinte.

A alternativa “D” se refere ao Mercosul.

Por fim, a alternativa “E” se refere à União Europeia, que, com a saída do Reino Unido, passou a ter 27 países como membros, todos localizados na Europa.

Gabarito: A

(QUADRIX/CRO-AM/2019 – ASSISTENTE ADMINISTRATIVO FISCAL) O presidente Jair Bolsonaro e representantes de outros sete países sul-americanos assinaram, no dia 22 de março último, um documento com proposta para a criação do fórum para o Progresso da América do Sul (Prosul), que visa à construção de relações baseadas no livre comércio.

Internet: <www.poder360.com.br> (com adaptações).

Tendo o texto acima apenas como referência inicial, julgue os itens.



16. O Equador se manteve, por anos, alinhado ao bloco de governos de esquerda na América Latina. Com a ascensão de Lenin Moreno, aproximou-se de governantes conservadores, sendo um dos signatários da proposta de criação do Prosul.

COMENTÁRIOS:

Em março de 2019, em uma reunião de cúpula, em Santiago, no Chile, foi lançado o Fórum para o Progresso e Desenvolvimento da América do Sul (Prosul). O documento de lançamento, denominado Declaração de Santiago, foi assinado pela Argentina, Brasil, Chile, Colômbia, Equador, Paraguai, Peru e Guiana. O Chile, autor da iniciativa, vai presidir o Prosul pelos primeiros 12 meses. A seguir, a presidência será ocupada pelo Paraguai.

De acordo com líderes desta articulação, o Prosul se constitui em um fórum regional de diálogo organizado por países sul-americanos frente aos impasses e divergências da Unasul (União de Nações Sul-Americanas).

A Unasul se consolidou em um momento de maioria de governos de esquerda na América do Sul. Na atualidade, em 2019, a maioria dos países têm governos de direita, conservadores e liberais. Essa mudança de rumos políticos se refletiu na entidade, culminando com a suspensão das participações de diversos países da entidade, em 2018, incluindo o Brasil.

O Equador se manteve alinhado a esse bloco de governos de esquerda, e situava em sua capital, Quito, o edifício sede da Unasul. Com a ascensão de Lenin Moreno à presidência do Equador (2017-2021), o país aproximou-se de governantes conservadores, retirou-se da entidade e foi um dos signatários da proposta de criação do Prosul. Inclusive, pediu que a Unasul devolva ao país o edifício-sede da organização.

Gabarito: Certo

17. Por decisão dos integrantes do futuro fórum, a Venezuela não integrará o Prosul, haja vista o governo de Nicolás Maduro ser considerado como ilegítimo pelos mandatários presentes no encontro.

COMENTÁRIOS:

A Venezuela não foi convidada a participar do encontro de criação do Prosul, sob a justificativa de não ser uma democracia. O governo de Nicolás Maduro é considerado ilegítimo pelos mandatários presentes no encontro.

Gabarito: Certo

18. Com a abertura do processo de sua criação, o Prosul deverá substituir a União das Nações Sul-Americanas (Unasul), criada em 2008, quando os governos de esquerda eram maioria na região.

COMENTÁRIOS:

A Unasul foi criada em 2008, quando os governos de esquerda eram ampla maioria na América do Sul. A intenção dos países signatários do Prosul é que ele venha a substituir aquela entidade.

Gabarito: Certo



19. Bolívia e Uruguai integram o grupo de países que assinaram a declaração conjunta de criação do Prosul.

COMENTÁRIOS:

Representantes do Uruguai e da Bolívia participaram da reunião em Santiago, mas não assinaram a declaração conjunta de criação do Prosul. Atualmente, esses dois países continuam não fazendo parte do grupo.

Gabarito: Errado

20. (FCC/AFAP/2019 – ASSISTENTE ADMINISTRATIVO) BRICS é o nome de um conjunto econômico de países considerados “emergentes”, que juntos formam um grupo político de cooperação. São formados por

- a) Bélgica, Romênia, Índia, Chile e Suíça.
- b) Brasil, Rússia, Irlanda, Canadá e Suécia.
- c) Brasil, Rússia, Índia, China e África do Sul.
- d) Bulgária, Rússia, Índia, China e Sérvia.
- e) Brasil, Rússia, Israel, Canadá e Singapura.

COMENTÁRIOS:

BRICS é um acrônimo que define o grupo formado por cinco importantes países emergentes: Brasil, Rússia, Índia, China e África do Sul. Os cinco países dos BRICS têm algumas características comuns: são países com indústria e economia em expansão, seu mercado interno está crescendo e incluindo milhões de novos consumidores. Quatro possuem territórios extensos e entre os maiores do mundo: Brasil, Rússia, China e Índia.

Gabarito: C



QUESTÕES COMENTADAS – GUERRA ENTRE RÚSSIA E UCRÂNIA – MULTIBANCAS

1. (CEBRASPE/DataPrev/2023) O contexto da invasão militar da Ucrânia pela Rússia provocou instabilidade na política interna do grupo formado por Brasil, Rússia, Índia, China e África do Sul (BRICS), o que levou o presidente russo Vladimir Putin a solicitar seu afastamento do bloco.

COMENTÁRIOS:

O contexto da invasão militar da Ucrânia pela Rússia não provocou instabilidade na política interna do BRICS. O presidente russo Vladimir Putin não se afastou do grupo diplomático; ele continua participando das reuniões de cúpula.

Gabarito: Errado

2. (CEBRASPE/TJ-SC/2023) A guerra em curso na Ucrânia chama atenção por diversos aspectos, sobretudo pelo rastro de destruição e elevado drama humano que produz. Acerca desse conflito, assinale a opção correta.

A) A guerra foi iniciada como reação russa ao avanço das forças militares ocidentais sobre seu território a partir de bases situadas na Ucrânia.

B) O conflito enfatizou o papel da Organização do Tratado do Atlântico Norte (OTAN), uma aliança militar que foi criada na Guerra Fria pela União das Repúblicas Socialistas Soviéticas (URSS).

C) A Ucrânia invadiu a Rússia no ano de 2022, buscando legitimar tal atitude no fato de ter sido a pátria da qual se originou o país hoje governado por Vladimir Putin.

D) Essa guerra tem causado sérios transtornos para a economia dos países nela envolvidos e do mundo em geral, sobretudo em razão da interrupção ou redução do fluxo normal de exportação e importação de produtos essenciais, como petróleo, grãos e fertilizantes.

E) Essa guerra tem gerado milhões de refugiados ucranianos, que, diferentemente dos migrantes africanos no passado recente, encontram dificuldades intransponíveis para se fixar em países europeus.

COMENTÁRIOS:

A guerra entre Rússia e Ucrânia iniciou com a invasão da Rússia ao território ucraniano em 24 de fevereiro de 2022. Um dos principais fatores para explicar essa invasão está relacionado à expansão da Organização do Tratado do Atlântico Norte (OTAN) para a fronteira russa. A Rússia vê a expansão da aliança militar para o Leste Europeu, incluindo a possível adesão da Ucrânia, como uma ameaça à sua segurança nacional, e considera isso uma continuação da Guerra Fria.

O conflito colocou novamente em destaque a OTAN, uma aliança militar criada na Guerra Fria pelos Estados Unidos e países da Europa ocidental. Antes da guerra, a OTAN era bastante questionada sobre o seu papel na atualidade e se ainda teria razão para existir.



Essa guerra tem causado sérios transtornos para a economia dos países nela envolvidos e do mundo em geral, sobretudo em razão da interrupção ou redução do fluxo normal de exportação e importação de produtos essenciais, como petróleo, grãos e fertilizantes.

Milhões de ucranianos buscaram refúgio em países europeus, tendo sido, no geral, bem recebidos e acolhidos. Isso é bem diferente da postura dos países europeus que colocam muitas barreiras, são rígidos e não recebem bem e obstaculizam a entrada de imigrantes pobres de países africanos, asiáticos e do continente americano.

Gabarito: D

3. (FGV/PREFEITURA DE SÃO JOSÉ DOS CAMPOS – SP/2023) A Ucrânia tem uma longa história compartilhada com a Rússia, marcada pela interdependência e pela busca de um equilíbrio político entre disputas e interesses rivais. Em fevereiro de 2022, a tensão entre os dois países chegou no seu ponto máximo, com a invasão militar da Ucrânia pela Rússia.

A respeito da eclosão do conflito, analise as afirmativas a seguir.

I. Na visão da Rússia, a Ucrânia é o resultado de uma divisão artificial entre os dois povos, sendo parte natural de uma “grande Rússia”.

II. A Rússia anexou a Crimeia em 2014, após um referendo que consultou o povo ucraniano.

III. Em 2022, a Rússia reconheceu a autonomia de duas regiões ucranianas separatistas que se autoproclamaram Estados independentes, em um contexto marcado pela aproximação da Ucrânia com a Otan e com a União Europeia.

Está correto o que se afirma em

A) I, apenas.

B) I e II, apenas.

C) I e III, apenas.

D) II e III, apenas.

E) I, II e III.

COMENTÁRIOS:

I - Correto. A Rússia historicamente considera a Ucrânia como fazendo parte de seu território. No passado, o Império Russo foi proclamado em Kiev, atualmente capital da Ucrânia. São povos eslavos, de mesma origem étnica, por isso, a Rússia diz que são povos irmãos. A Ucrânia contesta a visão russa da divisão artificial entre os dois povos e da “grande Rússia”, lutando pela manutenção da sua independência e soberania.

II - Incorreto. A Rússia anexou a Crimeia em 2014, após um referendo que consultou o povo da Crimeia, não o povo ucraniano como um todo.



III - Correto. Em fevereiro de 2022, a Rússia reconheceu a independência das regiões de Donetsk e Lugansk, áreas separatistas no Leste da Ucrânia. Esse reconhecimento ocorreu poucos dias antes da invasão à Ucrânia, em meio a tensões e conflitos crescentes, à medida que a Ucrânia buscava uma maior integração com organizações ocidentais, como a OTAN e a União Europeia.

Gabarito: C

4. (VUNESP/EPC/2023) Um eventual confronto direto entre tropas da Rússia e desta instituição ocasionará uma "catástrofe global", afirmou o presidente russo, Vladimir Putin, nesta sexta feira [14 out], durante uma rara entrevista à imprensa.

(G1. <http://glo.bo/3ZyWa33>. 14.10.2022)

A instituição citada por Putin foi

- A) o Conselho de Segurança da ONU.
- B) a Organização do Tratado do Atlântico Norte.
- C) a União Europeia.
- D) o Tratado de Não Proliferação Nuclear.
- E) o Pacto de Varsóvia.

COMENTÁRIOS:

A declaração do presidente russo, Vladimir Putin, menciona uma "instituição" que poderia potencialmente entrar em confronto direto com tropas russas, resultando em uma "catástrofe global". Nesse contexto, a instituição citada por Putin é a Organização do Tratado do Atlântico Norte (OTAN).

Também conhecida como Aliança do Atlântico Norte, a OTAN é uma aliança militar composta por vários países da Europa e da América do Norte, cujo objetivo principal é a defesa mútua em caso de agressão armada contra qualquer membro da aliança. Portanto, Putin está expressando a sua preocupação com a possibilidade de um conflito direto entre tropas russas e as forças da OTAN, o que, segundo ele, teria sérias consequências globais.

Gabarito: B

5. (CEBRASPE/DATAPREV/2023) No que se refere a temas atuais no Brasil e no mundo, julgue o item a seguir.

O contexto da invasão militar da Ucrânia pela Rússia provocou instabilidade na política interna do grupo formado por Brasil, Rússia, Índia, China e África do Sul (BRICS), o que levou o presidente russo Vladimir Putin a solicitar seu afastamento do bloco.

COMENTÁRIOS:



O BRICS é um grupo de nações que se reúne para discutir questões econômicas e políticas, sendo a Rússia um dos membros fundadores.

Oficialmente, Brasil, China, África do Sul e Índia adotaram posição de neutralidade nesse conflito. A guerra não gerou situações de instabilidade interna no grupo e o presidente russo Vladimir Putin não solicitou seu afastamento do BRICS; trata-se de uma invenção do examinador.

Gabarito: Errado

(QUADRIX/CRT-BA/2023) No que se refere ao panorama atual do Brasil e do mundo, julgue os itens abaixo.

6. O ataque russo à Ucrânia fez com que nações da União Europeia executassem sanções econômicas contra o governo de Vladimir Putin.

COMENTÁRIOS:

A invasão da Rússia à Ucrânia fez com que nações da União Europeia e os Estados Unidos aplicassem uma série de sanções contra o governo russo, as quais têm como objetivo punir a Rússia por suas ações na Ucrânia e pressionar por uma resolução do conflito.

As sanções econômicas incluem restrições ao comércio, ao acesso a mercados financeiros internacionais e a viagens de autoridades russas para o exterior, entre outras medidas.

Gabarito: Certo

7. A guerra na Ucrânia gerou uma crise de abastecimento de gás na Europa, já que boa parte do gás natural que chega aos países europeus passa pelo país governado por Zelensky.

COMENTÁRIOS:

A Ucrânia é um importante país de trânsito para o fornecimento de gás natural da Rússia para a Europa. Antes da guerra, boa parte do gás russo destinado à Europa Ocidental passava por gasodutos que atravessam o território ucraniano.

Com a eclosão do conflito, a Rússia reduziu o fornecimento de gás para a Europa, assim como os países europeus buscaram alternativas energéticas para não mais depender da Rússia.

Portanto, o conflito na Ucrânia gerou preocupações significativas sobre a segurança do abastecimento de gás natural na Europa.

Gabarito: Certo

8. (AVANÇA-SP/PREFEITURA DE SÃO MIGUEL ARCANJO-SP/2023) Após a Rússia ter invadido a Ucrânia, Suécia e Finlândia decidiram aderir à OTAN (Organização do Tratado do Atlântico Norte). No entanto, um dos países membros com poder de voto está dificultando a entrada desses dois países na referida organização internacional. Assinale a alternativa que apresenta o nome de tal país:

A) Grécia.



- B) Turquia.
- C) Índia.
- D) Paquistão.
- E) Polônia.

COMENTÁRIOS:

Após a invasão da Ucrânia pela Rússia, a Finlândia e a Suécia entraram com um pedido para aderir à OTAN. A Finlândia foi aceita e foi incorporada oficialmente à organização no dia 4 de abril de 2023.

Para um país se tornar membro dessa aliança militar, o pedido deve ser ratificado por todos os demais países-membros. A Turquia foi a última nação a ratificar a entrada da Finlândia na OTAN. O presidente turco, Recep Tayyip Erdogan, dificultou a entrada do país na organização, pelo fato desses países aplicarem alguns vetos comerciais à Turquia e rejeitarem repetidas solicitações de extradição de militantes curdos, considerados pelo governo turco como terroristas.

A Turquia acusa os escandinavos de darem guarda a integrantes do Partido dos Trabalhadores do Curdistão (PKK), que há décadas trava um confronto armado pela independência. Os curdos têm comunidades significativas na Finlândia e na Suécia. Nesse último país, há descendentes de curdos no parlamento.

Em 31 de maio de 2023, a adesão da Suécia à OTAN continuava pendente de aprovação pela Hungria e Turquia.

Gabarito: B

9. (FGV/CÂMARA MUNICIPAL DE TAUBATÉ/2022) “Por que a Rússia invadiu a Ucrânia em 2022? Trata-se de algo multifatorial. A Rússia invadiu a Ucrânia no dia 24 de fevereiro de 2022, após uma escalada nas tensões que haviam tido início poucos meses antes.”

(brasilecola.uol.com.br/geografia/por-que-a-russia-invadiu-a-ucrania-em-2022.htm)

A guerra que se seguiu à invasão da Ucrânia pela Rússia tem impactado o mundo desde então. Suas consequências, nefastas do ponto de vista humanitário, geopolítico e econômico, certamente impactam o mundo todo.

Em relação ao tema, avalie se as afirmativas a seguir são falsas (F) ou verdadeiras (V).

() A Rússia acusa a Ucrânia de maior aproximação com organizações como a Otan e a União Europeia, o que vê como ameaça a seus interesses geopolíticos.

() Como reação à invasão russa, houve imposição, principalmente por parte dos EUA e da União Europeia, de sanções econômicas à Rússia.

() A Rússia, em revide, interrompeu o fornecimento de gás natural para a Europa, o que impacta significativamente a economia europeia, muito dependente desse fornecimento.



As afirmativas são, respectivamente,

(A) V, F e V.

(B) F, V e V.

(C) V, V e F.

(D) V, V e V.

(E) F, F e F.

COMENTÁRIOS:

I - Verdadeira. Uma das principais justificativas alegadas pela Rússia para a invasão da Ucrânia, em 2022, foi a maior aproximação e o desejo da Ucrânia de ingressar na Otan (Organização do Tratado do Atlântico Norte) e na União Europeia, o que seria uma ameaça a seus interesses geopolíticos e de segurança.

II - Verdadeira. Como consequência da invasão russa na Ucrânia, em 2022, houve uma ampliação das sanções econômicas impostas pela comunidade internacional à Rússia, sobretudo por parte dos Estados Unidos e da União Europeia. As sanções econômicas prejudicaram a economia russa, mas menos do que se esperava. Muitos países continuam tendo relações comerciais e não impuseram restrições à Rússia, como a China, a Índia e o Brasil.

III - Verdadeira. Em revide às sanções impostas, a Rússia interrompeu grande parte da sua exportação de gás natural para a maioria dos seus clientes europeus. Em um primeiro momento, essa medida impactou significativamente a economia europeia, já que muitos países da Europa, como a Alemanha, eram muito dependentes do gás natural russo como fonte de energia. Entretanto, os impactos negativos foram menores do que se projetava, e os países afetados conseguiram em um período relativamente curto encontrar alternativas energéticas em substituição ao gás natural russo.

Gabarito: D

10. (FGV/PREFEITURA DE SANTO ANDRÉ - SP/2022) A respeito do impacto da guerra na Ucrânia no mercado internacional de commodities, assinale a afirmativa correta.

(A) O petróleo ficou mais caro, pois a Ucrânia é uma das maiores exportadoras de combustíveis fósseis e a guerra afetou sua capacidade de comercialização

(B) A oferta de gás natural aumentou e o seu preço caiu, pois a OTAN, ao embargar o gás russo, favoreceu o escoamento do produto ucraniano.

(C) Rússia e Ucrânia produzem quase um terço das exportações globais de trigo, por isso, o conflito causou uma flutuação no valor de mercado dessa commodity.

(D) As sanções econômicas impostas à Rússia obrigaram Putin a diminuir o preço dos fertilizantes agrícolas e, por isso, sua queda no valor internacional.



(E) O paládio, usado na indústria automotiva, apresentou uma crise de abastecimento, uma vez que as principais refinarias ucranianas que o produzem foram bombardeadas.

COMENTÁRIOS:

a) Incorreta. A Ucrânia é um país importante na produção e exportação de produtos agrícolas, mas produz muito pouco petróleo, logo, não é exportadora. A Rússia sim é uma grande produtora e exportadora de combustíveis fósseis, mas a guerra afetou parcialmente a sua capacidade de comercialização. Inicialmente, os impactos foram sentidos nos preços do petróleo e gás natural, mas, posteriormente com o rearranjo dos mercados, o preço desses minerais caiu e se estabilizou, claro, dentro da volatilidade normal de comércio dessas commodities.

b) Incorreta. A União Europeia reduziu significativamente suas importações de gás natural russo. Com isso, naturalmente, a oferta de gás natural diminuiu, e não aumentou, como afirma a questão. A Ucrânia, por sua vez, produz muito pouco gás natural, por isso, também importava o produto da Rússia antes da guerra.

c) Correta. Rússia e Ucrânia produzem quase um terço das exportações globais de trigo. O conflito causou uma flutuação no valor de mercado dessa commodity.

d) Incorreta. A Rússia é um dos maiores produtores de adubos e fertilizantes no mundo. A guerra aumentou consideravelmente o preço desses insumos no mercado internacional, pois a logística de produção e de exportação foi dificultada.

e) Incorreta. O paládio é um metal importante usado na indústria automotiva. A Rússia e a África do Sul são os principais produtores de paládio, mas não a Ucrânia. Não foram reportados, na mídia internacional, bombardeios a refinarias ucranianas de paládio. O custo desse metal no mercado internacional aumentou após a eclosão do conflito, causado pela suspensão de refinarias russas de fazerem negócios nas bolsas de metais internacionais.

Gabarito: C

11. (QUADRIX/PREFEITURA DE BARREIRAS-BA/2022) A invasão da Organização do Tratado do Atlântico Norte (Otan) na Crimeia causaria uma guerra mundial, diz a Rússia. Dmitry Medvedev afirma que o território faz parte da nação russa e que qualquer tentativa de invasão é uma declaração de guerra.

Internet: <<https://www.poder360.com.br>> (com adaptações).

No que se refere à guerra entre Rússia e Ucrânia e aos vários aspectos relacionados a esse assunto, assinale a alternativa correta.

(A) A Otan foi criada durante o período da Guerra Fria e passou a ser uma aliança militar entre os antigos países do bloco soviético, o que fez a Rússia repudiar essa instituição.

(B) A guerra entre Rússia e Ucrânia é um dos muitos conflitos regionais ocorridos no entorno da antiga União Soviética nos últimos trinta anos.

(C) A afirmação de Medvedev não tem o respaldo de Putin, já que ambos são inimigos políticos há décadas e jamais estiveram juntos no governo.



(D) Apesar da grande repercussão na mídia sobre o caso, a invasão russa na Ucrânia foi logo rechaçada, e o número total de soldados mortos no conflito não chegou a mil.

COMENTÁRIOS:

a) Incorreta. A Otan foi criada durante o período da Guerra Fria, sob a liderança dos Estados Unidos, com o objetivo de formar uma aliança militar para barrar a expansão soviética na Europa. Com o fim do bloco soviético, vários países ex-socialistas se juntaram ao grupo, que expandiu a sua área para mais perto da Rússia.

b) Correta. A guerra entre Rússia e Ucrânia é um dos muitos conflitos regionais ocorridos no entorno da antiga União Soviética nos últimos 30 anos.

c) Incorreta. Dmitry Medvedev é vice-presidente do Conselho de Segurança da Rússia e uma pessoa muito influente e próxima de Vladimir Putin. Medvedev foi presidente da Rússia entre 2008 e 2012, sob tutela de Putin, que não pôde à época se candidatar para um terceiro mandato. Entre 2012 e 2020, foi primeiro-ministro do governo de Vladimir Putin. Ou seja, os dois são grandes aliados, estão juntos no governo e as declarações de Medvedev têm o respaldo de Putin.

e) Incorreta. Mesmo com a grande repercussão na mídia sobre o caso, a invasão russa no Ucrânia não foi logo rechaçada. O conflito se estendeu, se aprofundou e o número de soldados mortos estimados é dezenas de vezes maior do que o mencionado pela alternativa.

Gabarito: B

12. (VUNESP/PM-SP/2022) Analise o mapa a seguir sobre os membros europeus da Organização do Tratado do Atlântico Norte (Otan)





Assinale a opção que indica os países que anunciaram abandonar a neutralidade para ingressar na Otan, em 2022.

- (A) Finlândia e Suécia.
- (B) Suíça e Hungria.
- (C) Bulgária e Finlândia.
- (D) Suíça e Ucrânia.
- (E) Suécia e Hungria.

COMENTÁRIOS:

A Finlândia e a Suécia apresentaram pedidos formais de adesão à Otan no mês de maio de 2022. Com isso, esses dois países decidiram abandonar décadas de neutralidade que os mantiveram fora de conflitos internacionais. A decisão de adesão à aliança militar ocidental se deu no contexto da guerra entre Rússia e Ucrânia.

Os dois países, próximos da Rússia, consideram crescente a ameaça expansionista russa na atualidade e buscam se proteger fazendo parte da Otan.

Gabarito: A



13. (IBFC/PC-BA/2022) "A organização passou para o centro das discussões da diplomacia internacional em meados de abril e ao longo de maio de 2022, devido à possibilidade de adesão da Finlândia e da Suécia, em meio à Guerra na Ucrânia. A Rússia é contrária à entrada dos dois países na Organização do Tratado do Atlântico Norte (Otan) (G1, 2022)".

Analise as afirmativas abaixo e de valores Verdadeiro (V) ou Falso (F).

- () Foi criada em 1989, após o término da Guerra Fria e a queda do Muro de Berlim.
- () Foi criada sob a liderança dos Estados Unidos em oposição à Inglaterra.
- () É um bloco econômico atualmente liderado por EUA, China e Coreia do Sul.
- () Ucrânios pleiteavam entrada no grupo, o que foi um dos motivos para a invasão russa.

Assinale a alternativa que apresenta a sequência correta de cima para baixo.

- a) F - V - V - V
- b) F - F - F - F
- c) V - V - F - V
- d) V - F - V - F
- e) F - F - F - V

COMENTÁRIOS:

I - Falso. A Organização do Tratado do Atlântico Norte (OTAN) foi fundada no ano de 1949, em meio ao contexto global da Guerra Fria, período histórico no qual norte-americanos e os soviéticos disputaram o controle hegemônico do planeta. Os EUA defendiam o capitalismo e a URSS o socialismo. A OTAN foi criada tendo como um de seus principais objetivos conter e limitar a expansão da União Soviética (URSS).

A queda do muro de Berlim ocorreu em 9 de novembro de 1989, e foi um evento crucial na história mundial, marcando a queda da "Cortina de Ferro" e o início da derrocada do comunismo na Europa Oriental e Central.

II - Falso. A OTAN foi criada sob liderança dos Estados Unidos, em oposição à União Soviética (URSS). O Reino Unido, Estado do qual a Inglaterra faz parte, esteve na OTAN desde a data de sua criação, sendo desde então um dos principais aliados dos Estados Unidos.

III - Falso. A OTAN não é um bloco econômico. É uma aliança militar liderada pelos Estados Unidos. A China e a Coreia do Sul não participam do grupo.

IV- Verdadeiro. Com o fim da URSS, em dezembro de 1991, a OTAN passou a se expandir para o Leste Europeu, chegando na possível adesão da Ucrânia à aliança militar. A Ucrânia fez parte da URSS, mas se tornou independente em 1991, durante o colapso do bloco socialista.



Nos anos recentes, a Ucrânia passou a pleitear a entrada na OTAN. Atualmente, a Ucrânia é um "país parceiro" do grupo, o que significa que pode ser autorizada a ingressar na aliança em algum momento no futuro.

Esse foi um dos fatores principais para justificar a ofensiva militar russa ao país. Como a União Soviética e a ameaça do comunismo não existem mais, a expansão da OTAN é vista por Moscou como a continuação de uma Guerra Fria e uma tentativa de cercar e isolar a Rússia. Dessa forma, a participação da Ucrânia na aliança militar representaria uma ameaça à segurança nacional russa.

Gabarito: E

14. (FGV/PREFEITURA DE MANAUS/2022 – ANALISTA DE BANCO DE DADOS) Gasodutos Nord Stream da Rússia

O Nord Stream 2 é o segundo gasoduto de gás natural entre o oeste da Rússia e o nordeste da Alemanha, passando sob o Mar Báltico. O primeiro foi inaugurado em 2011, mas a certificação e inauguração do segundo foi suspensa pelo chanceler alemão em fevereiro de 2022, após Putin ter anunciado que reconhecia a independência das cidades separatistas Donetsk e Luhansk e permitir que tropas russas invadissem a região.

Sobre a dimensão econômico-militar da atual crise entre Moscou e as potências ocidentais, analise as afirmativas a seguir e assinale (V) para a verdadeira e (F) para a falsa.

() A Alemanha depende das importações de gás natural da Rússia para suprir suas necessidades energéticas, uma vez que está desinstalando suas usinas nucleares.

() Os Estados Unidos se posicionaram a favor dos gasodutos por pertencerem à iniciativa privada, o que impediria Putin de usar a moeda energética como ferramenta de pressão política.

() Ucrânia e Polônia se sentem prejudicadas pela ampliação da rota do gás pelo Mar Báltico, uma vez que isso impacta os tributos cobrados pelo trânsito do gás em seus territórios.

Assinale a opção que indica a sequência correta, de cima para baixo.

(A) V – V – F.

(B) V – F – V.

(C) F – F – V.

(D) V – F – F.

(E) V – V – V.

COMENTÁRIOS:

I - Verdadeira. Antes da guerra, a Alemanha e a Europa tinham uma expressiva dependência de energia da Rússia. Com as sanções econômicas aplicadas à Rússia, essa dependência já diminuiu, mas não é de



substituição fácil e rápida, sobretudo, o gás natural. Por vários anos, a Europa seguirá dependendo da Rússia para suprir parte das suas necessidades energéticas. Sob o governo da ex-chanceler Angela Merkel, a Alemanha decretou que fecharia todas as suas usinas nucleares. Muitas foram fechadas durante seu governo, e o país tem o planejamento de fechar todas suas usinas até o fim da década atual. O principal motivo está relacionado aos possíveis riscos desse tipo de geração de energia, além do lixo radioativo gerado no processo. Com isso, a Alemanha tem se tornado cada vez mais dependente de importação de energia russa.

II - Falsa. Os gasodutos Nord Stream 1 e Nord Stream 2 são financiados em grande parte pela Gazprom, maior empresa de energia da Rússia e uma das maiores do mundo. É controlada pelo estado russo, com parte de suas ações privatizadas. É considerada, portanto, uma estatal de capital aberto, semelhante à Petrobras. Portanto, não pertencem à iniciativa privada. Os Estados Unidos sempre foram críticos a construção desses gasodutos, por questões geopolíticas e de mercado, por que aumentaria a influência russa na Europa e a dependência energética do continente de Moscou.

III - Verdadeira. A Rússia possui uma série de gasodutos pelos quais exporta gás natural para a Europa. Alguns desses passam pelos territórios da Ucrânia e Polônia, que cobram valores pela passagem no seu território e pelo gás transportado. Com o gasoduto Nord Stream 2, a Rússia poderia dobrar a sua capacidade de transporte de gás natural para a Alemanha e Europa pelo Mar Báltico, mas isso não ocorreu, pois não chegou a entrar em operação. O novo gasoduto também tinha um componente econômico e geopolítico, pois a Rússia diminuiria significativamente o volume de gás transportado pela Ucrânia e Polônia, países um tanto críticos aos russos, antes da guerra. A Ucrânia, principalmente, era uma crítica ao Nord Stream 2, pois via no novo gasoduto uma diminuição da sua importância econômica, de obtenção de receitas e do seu poder de negociação geopolítica.

Gabarito: B

15. (QUADRIX/CAU-SC/2022 – ASSISTENTE ADMINISTRATIVO)



Internet: <<https://www.bbc.com>> (com adaptações).



Quanto a tópicos atuais referentes a política e relações internacionais, é correto afirmar que a marcação do mapa no leste do território ucraniano refere-se à(ao)

- (A) resistência das tropas ucranianas diante do avanço russo.
- (B) controle militar russo em regiões de fronteira e separatistas.
- (C) tomada, pela Rússia, de regiões da Ucrânia durante a chamada Revolução Laranja.
- (D) início da invasão russa, que concentrou os ataques exclusivamente no leste.
- (E) concentração de tropas ucranianas, de forma estratégica, na fronteira com a Rússia.

COMENTÁRIOS:

A) Incorreta. As tropas ucranianas estabeleceram resistência nas regiões destacadas, mas são áreas nas quais a Rússia conseguiu penetrar e conquistar.

B) Correta. O mapa destaca as regiões de fronteira da Ucrânia com a Rússia, ao Sul, Leste e Norte, e com Belarus, país aliado da Rússia, ao Norte. Naturalmente, foi pela fronteira entre a Rússia e a Ucrânia que se iniciou a ofensiva militar. Também foram nessas áreas, próximas à fronteira, que a Rússia conseguiu estabelecer controle militar. No interior do território ucraniano, a penetração russa tem sido difícil, com as tropas ucranianas oferecendo uma forte resistência.

A invasão ocorreu por várias frentes, sobretudo, pelo Leste, nas regiões de Donetsk e Luhansk, que juntas formam a região conhecida como Donbas. São regiões que historicamente têm fortes movimentos separatistas pró-Rússia.

C) Incorreta. A Revolução Laranja foi uma série de protestos e eventos políticos, ocorridos entre 2004 e 2005 na Ucrânia. Não tem nenhuma ligação com o mapa, que está relacionado à atual guerra entre Rússia e Ucrânia.

D) Incorreta. Quando da invasão russa, as suas forças armadas atacaram por terra, ar e mar, cruzando a fronteira a partir do Norte, do Sul e do Leste ucraniano.

E) Incorreta. Com a ameaça de uma iminente invasão russa, as tropas ucranianas naturalmente concentraram-se, de forma estratégica, na fronteira com a Rússia. Todavia, a Criméia, ao Sul da Ucrânia, é um território russo conquistado em 2014. Não seria possível ter tropas ucranianas nesse território que está destacado pelo mapa.

Gabarito: B

(QUADRIX/2022/CRP 11ª REGIÃO-CE – ASSISTENTE ADMINISTRATIVO) Após meses de ameaças e posicionamento de soldados na fronteira ucraniana, a Rússia decidiu invadir a Ucrânia. Nas primeiras horas do dia 24 de fevereiro, Vladimir Putin anunciou a operação militar que se tornou um dos maiores conflitos militares na Europa desde a Segunda Guerra Mundial, desencadeando a maior crise de segurança no continente desde a Guerra Fria.



Internet: <<https://www.cnnbrasil.com.br>> (com adaptações).

Quanto à invasão russa à Ucrânia, julgue os itens a seguir.

16. A preocupação com a guerra na Ucrânia fez as sete maiores economias do mundo (G7) e a Organização do Tratado do Atlântico Norte (Otan) reafirmarem unidade diante da Rússia.

COMENTÁRIOS:

O G7 e a Otan estão se posicionando contra a Rússia e apoiando a Ucrânia no conflito que se desdobra no Leste europeu. Seus países membros têm estabelecido uma série de sanções econômicas e políticas, reafirmando, seguidamente, sua unidade diante da Rússia.

Gabarito: Certo

17. O domínio, pelas tropas ucranianas, das regiões de Donbas e Mariupol, no leste da Ucrânia, é o fator responsável pela extensão da guerra por meses.

COMENTÁRIOS:

Em maio de 2022, a Rússia anunciou a conquista da importantíssima cidade portuária de Mariupol. No início de julho de 2022, a Rússia anunciou que conquistou a totalidade do oblast de Luhansk, que fica no Donbass. A Rússia conseguiu significativas conquistas territoriais no Sul da Ucrânia. O motivo da guerra estar se estendendo por vários meses é a resistência ucraniana, que impediu que os russos alcançassem rapidamente os seus objetivos militares no país invadido.

Gabarito: Errado

18. Além de permanecer em outras localidades da Ucrânia, o exército russo domina a capital do país, Kiev, o que gera preocupação no mundo ocidental, visto que a cidade é o bastião mais extremo de resistência das tropas ucranianas para reter o poder do presidente Zelensky.

COMENTÁRIOS:

O exército russo não conseguiu adentrar a capital do país, Kiev. Nas primeiras semanas de guerra, tentou conquistar a cidade, mas não obteve sucesso diante da forte resistência ucraniana. Posteriormente, parou de realizar ataques à capital e se focou em avançar por outras áreas.

Pelo fato de ser a capital, onde se localiza o poder executivo do país, controlá-la seria um grande avanço para a Rússia e uma grande perda para a Ucrânia. Geralmente, o domínio da capital de um país implica praticamente dominar aquele país devido à importância de seu significado.

Gabarito: Errado

19. O volume de sanções devido à invasão fez parte dos bilionários da Rússia se deslocarem, por milhares de quilômetros, com seus iates, para países que não sofrem com as restrições impostas a Moscou.

COMENTÁRIOS:



Parte de pessoas muito ricas da Rússia, os oligarcas, foram duramente sancionados pelos países sancionadores. Ativos patrimoniais foram congelados e apreendidos, como iates no valor de dezenas ou de centenas de milhões de dólares. Esses iates geralmente estavam em portos de países europeus. Vários oligarcas conseguiram evitar a apreensão, deslocando rapidamente seus iates para países que não aplicaram sanções à Rússia como as ilhas Maldivas, Turquia e Emirados Árabes Unidos.

Gabarito: Certo

20. Junto dos territórios invadidos das províncias ucranianas, a Rússia tomou o controle de usinas nucleares, inclusive a de Chernobyl, maior usina nuclear em funcionamento da Ucrânia.

COMENTÁRIOS:

No início da guerra, a Rússia tomou o controle da usina nuclear de Chernobyl, depois se retirou. Em março de 2022, tomou o controle da usina nuclear de Zaporizhzhia, a maior da Ucrânia.

Gabarito: Errado

(QUADRIX/CRA-PR/2022 – ANALISTA DE SISTEMA) Para um importante historiador, o século XX foi o mais mortífero de toda a história registrada. Chega-se ao século XXI e a realidade parece não se alterar. Apesar de louvável trabalho em várias áreas, a Organização das Nações Unidas (ONU) mostra-se impotente para deter as guerras que se multiplicam por todos os cantos, algumas das quais se mostram perigosamente propensas a se irradiar.

Considerando fatos e aspectos marcantes do mundo atual, julgue os itens a seguir.

21. A guerra que neste 2022 ensanguenta o Leste europeu foi iniciada com a invasão russa sobre a Ucrânia. Anteriormente, a Rússia havia anexado o território ucraniano da Crimeia.

COMENTÁRIOS:

A guerra entre Rússia e Ucrânia foi iniciada com a invasão russa ao território ucraniano, no dia 24 de fevereiro de 2022.

Anteriormente, em março de 2014, a Rússia havia anexado o território ucraniano da Crimeia, uma península localizada ao Sul da Ucrânia, banhada pelo Mar Negro, cuja maioria da população é de etnia russa e fala o idioma russo.

Gabarito: Certo

22. A facilidade com que as forças militares russas dominaram mais da metade do território ucraniano, com pouco mais de um mês de combate, deveu-se à falta de resistência do governo e do povo ucranianos.

COMENTÁRIOS:

As forças militares russas não dominaram mais da metade do território ucraniano com pouco mais de um mês de combate. No primeiro mês de combate, as forças russas avançaram pelo Sul, Leste e Norte da Ucrânia, chegando às proximidades da capital, Kiev. Posteriormente, retiraram-se do Norte, dos arredores



da capital e de parte do leste, a fim de conquistar a totalidade dos territórios do Donbass, no Leste ucraniano. Nas primeiras semanas da guerra, as forças militares ucranianas conseguiram estabelecer uma força resistência aos avanços das tropas russas e frustraram o plano russo de conquista rápida da capital Kiev e de deposição do governo de Volodymyr Zelensky.

Gabarito: Errado

23. A guerra no Leste europeu comprovou que, a despeito do fim da Guerra Fria, permanecem ativas as alianças militares entre os blocos oriental e ocidental: o Pacto de Varsóvia e a Aliança do Tratado do Atlântico Norte (Otan).

COMENTÁRIOS:

O Pacto de Varsóvia foi uma aliança militar criada pela ex-União Soviética (URSS) e seus aliados socialistas em 1955, como contraposição a criação da Otan. Em 1991, alguns meses antes do fim da URSS, o Pacto de Varsóvia se dissolveu, não permanecendo, desse modo, ativo.

Diferentemente do Pacto de Varsóvia, a Otan continuou ativa e ampliando o número de países membros, expandindo-se principalmente para o Leste europeu em direção à Rússia. Esse foi um dos fatores principais utilizados pela Rússia como justificativa à sua invasão na Ucrânia.

Gabarito: Errado

24. Ante o ataque soviético, a Ucrânia se viu isolada, sem receber qualquer tipo de apoio da Otan.

COMENTÁRIOS:

Diante do ataque soviético, a Ucrânia recebeu grande apoio internacional, inclusive da Organização do Tratado do Atlântico Norte, a Otan. A principal forma de apoio veio em retaliação à Rússia, com a imposição de uma série de sanções econômicas, políticas e diplomáticas. O apoio também tem se dado na diplomacia internacional, como pela ONU, que, por ampla maioria condenou a invasão russa ao país. Por fim, a Ucrânia também tem recebido apoio militar, em especial, dos Estados Unidos, que têm fornecido armamentos e serviços de inteligência para o país.

Gabarito: Errado

25. Independentemente da retórica, os países ocidentais não impuseram qualquer sanção econômica à Rússia, provavelmente temerosos de uma retaliação do país governado por Vladimir Putin.

COMENTÁRIOS:

Os países ocidentais impuseram uma série de sanções à Rússia, com o objetivo de sufocar economicamente o país e fazer o presidente russo, Vladimir Putin, desistir da guerra. As sanções adotadas são diversas, sendo as principais:

- A exclusão da Rússia do sistema bancário internacional Swift, um mecanismo essencial das finanças internacionais que permite comunicações e transações rápidas e seguras;



- O congelamento de ativos russos em bancos internacionais;
- A suspensão do gasoduto Nord Stream 2, que foi construído para aumentar o volume de gás russo vendido para a Alemanha;
- As restrições às importações de petróleo, gás e carvão russo, além de outros produtos diversos, como carros, equipamentos de alta tecnologia, produtos de aço, cimento, madeira e até mesmo frutos do mar e vodca russa;
- O fechamento do espaço aéreo para aviões russos e suspensão de voos para a Rússia;
- A exclusão de eventos internacionais, como a Copa do Mundo de Futebol de 2022.

Gabarito: Errado

26. Talvez pelo fato de que a Rússia tem poder de veto, o Conselho de Segurança da ONU não chegou sequer a debater sobre o conflito no Leste europeu, omitindo-se diante da grave crise, que já vitimou milhares de pessoas, inclusive civis.

COMENTÁRIOS:

O Conselho de Segurança das Nações Unidas tem como objetivo zelar pela manutenção da paz e da segurança internacional. Tem o poder para deliberar sobre o envio de missões de paz para áreas em conflito, definir sanções econômicas ou a intervenção militar em um país.

O Conselho é integrado por 15 Estados-membros, sendo cinco membros permanentes — China, França, Rússia, Reino Unido e Estados Unidos — e 10 temporários, com mandatos de dois anos, por votação na Assembleia Geral sobre uma base regional.

Os membros permanentes têm o poder de vetar resoluções aprovadas pelo Conselho.

No mês de fevereiro de 2022, o Conselho de Segurança abriu votação sobre uma resolução contrária à invasão da Ucrânia. A Rússia foi o único país a votar contra, como possui poder de veto, a resolução não foi aprovada. China, Índia e Emirados Árabes Unidos se abstiveram de participar da votação. O Brasil, representado por Ronaldo Costa Filho, embaixador brasileiro na ONU, votou a favor da resolução.

Gabarito: Errado

27. O Brasil, por sua diplomacia e pela palavra do próprio presidente da República, apoiou incondicionalmente a ação militar russa sobre a Ucrânia.

COMENTÁRIOS:

Historicamente, a diplomacia brasileira tem se caracterizado por manter relações amistosas com a maioria dos países do mundo, buscando obter uma maior inclusão do país no cenário internacional.



Em fevereiro de 2022, alguns dias antes do país invadir à Ucrânia, o presidente Jair Bolsonaro fez uma visita à Rússia. No encontro com Vladimir Putin, Bolsonaro disse que o Brasil era “solidário à Rússia” e que ambos os países tinham “muito no que colaborar”, citando temas como defesa, agricultura, petróleo e gás.

A declaração de Bolsonaro foi muito criticada, pois, alguns dias depois, a Rússia invadiu a Ucrânia. Posteriormente, o presidente afirmou que lamentava a invasão da Rússia à Ucrânia, mas não chegou a condenar o ataque. Apesar da posição incerta do presidente, é incorreto dizer que ele apoiou incondicionalmente a ação militar russa sobre a Ucrânia.

Além disso, a diplomacia brasileira, com sua representação da ONU, condenou a invasão russa em votações no Conselho de Segurança e na Assembleia Geral.

Gabarito: Errado

28. A Rússia é grande fornecedora de gás e petróleo para países europeus e uma eventual interrupção do fornecimento causaria sérios transtornos à Europa.

COMENTÁRIOS:

Antes da guerra, a Rússia estava entre os três maiores exportadores de petróleo e gás natural do mundo. Uma parcela significativa do orçamento russo vem das receitas geradas por essas exportações.

Boa parte das exportações russas de energia tem como destino a União Europeia. A Alemanha, principal economia do bloco, é muito dependente da energia russa. A Itália, que assim como a Alemanha está entre os países mais ricos do mundo, também depende bastante do fornecimento de petróleo e gás russo.

A UE impôs sanções econômicas punitivas à Rússia desde que o presidente Vladimir Putin ordenou a invasão da Ucrânia, em fevereiro. As compras de petróleo diminuíram significativamente, já as compras de gás natural tiveram uma redução menor.

A UE foi afetada pelas sanções econômicas aplicadas à Rússia. Em um cenário de instabilidade, o preço dos combustíveis, dos alimentos e de outros produtos se elevou e a inflação está alta nos países europeus.

Um bloqueio nas exportações de gás natural da Rússia exacerbaria a inflação crescente nas economias da Europa e levaria muitos países à recessão econômica.

Gabarito: Certo

29. Por serem grandes produtores e exportadores de grãos e fertilizantes, Rússia e Ucrânia desempenham papel significativo na economia mundial globalizada.

COMENTÁRIOS:

A Ucrânia tem um dos solos mais férteis do mundo, com grandes quantidades de matéria orgânica. Por isso, é um dos grandes produtores e exportadores de grãos do mundo. Está entre os maiores exportadores de milho e de trigo, fazendo da agricultura um dos motores centrais da economia ucraniana.



A Rússia apresenta uma produção agrícola considerável, mas não é tão dependente da agricultura em sua economia, pois sua indústria é diversificada, tecnológica e inovadora, além de possuir grandes fontes de combustíveis fósseis em seu território. Ademais, é uma grande produtora e exportadora de fertilizantes, compostos usados na agricultura.

Devido a isso, os dois países desempenham papel significativo na economia mundial globalizada.

Gabarito: Certo

30. A presença da Rússia em um conflito armado gera preocupações para o mundo, entre outras razões, porque o país herdou o poderoso arsenal nuclear da extinta União Soviética.

COMENTÁRIOS:

A presença da Rússia em um conflito armado gera preocupações para o mundo, porque o país herdou o poderoso arsenal nuclear da extinta União Soviética. Estima-se que Rússia e Estados Unidos possuam, juntos, 90% das armas nucleares do mundo.

Além dos dois países, o restante das ogivas nucleares do mundo está com a China, França, Reino Unido, Paquistão, Índia, Israel e Coreia do Norte.

Em meio ao conflito na Ucrânia, o presidente russo, Vladimir Putin, determinou que o arsenal nuclear do país fosse colocado em prontidão, em posição de alerta.

A Rússia afirma não querer iniciar de forma alguma uma guerra nuclear, mas que a OTAN e o Ocidente devem ter o cuidado de não tomarem medidas que afetem a segurança nacional russa e representem um ataque direto ao seu país, pois isso poderia desencadear uma guerra nuclear.

Para alguns analistas de política internacional, algumas declarações ameaçadoras da Rússia seriam apenas retóricas de guerra, sendo praticamente inexistente a possibilidade do conflito escalar para a utilização de armas nucleares.

Gabarito: Certo

(CEBRASPE/FUB/2022) A invasão da Ucrânia pela Rússia afetou duramente o mercado mundial de alimentos e fez crescer a população mundial ameaçada pela insegurança alimentar. A guerra tornou real o risco de escassez de alimentos em escala planetária e fez a população mundial que passa fome, já ampliada expressivamente durante a pandemia, aumentar em algumas dezenas de milhões de pessoas em poucas semanas. O Estado de S. Paulo, 23/3/2022, p. A3 (com adaptações).

Tendo o fragmento de texto precedente como referência inicial, e considerando a abrangência do tema por ele abordado, julgue os itens seguintes.

31. O atual conflito entre Rússia e Ucrânia foi desencadeado por um conjunto de fatores, entre os quais a possibilidade de entrada da Ucrânia na Organização do Tratado do Atlântico Norte (OTAN).

COMENTÁRIOS:



A expansão da OTAN pelo Leste europeu, chegando na possível adesão da Ucrânia ao grupo, foi um dos principais fatores a desencadear a invasão da Ucrânia pela Rússia e a sua extensão para uma guerra.

Como a União Soviética e a ameaça do comunismo não existem mais, a expansão da OTAN é vista por Moscou como a continuação de uma Guerra Fria e uma tentativa de cercar e isolar a Rússia. Dessa forma, a participação da Ucrânia na aliança militar representaria uma ameaça à segurança nacional russa.

Gabarito: Certo.

32. A invasão da Ucrânia pela Rússia gerou protestos e reações pelo mundo afora.

COMENTÁRIOS:

A invasão da Ucrânia pela Rússia gerou protestos e reações pelo mundo afora. Manifestações pedindo o fim da guerra ocorreram em cidades da Europa, da Ásia e das Américas, em geral, apoiando a Ucrânia e criticando autoridades políticas, como o presidente da Rússia, Vladimir Putin. Os protestos mais intensos ocorreram na Europa, devido à proximidade com o conflito.

Gabarito: Certo.

33. O Brasil apoiou oficialmente a investida russa, seja pela manifestação do Itamaraty, seja no Conselho de Segurança das Nações Unidas.

COMENTÁRIOS:

O Brasil não apoiou oficialmente a investida russa. Nos primeiros dias após o início do conflito, a diplomacia brasileira manteve-se neutra, pedido suspensão das "hostilidades" entre os países, mas hesitando em expressar uma condenação ao governo Putin.

Contudo, essa postura mudou quando o país votou por condenar a invasão russa no Conselho de Segurança da ONU e na Assembleia Geral da ONU.

Gabarito: Errado.

34. A guerra acabou colocando em risco, mundialmente, o fornecimento de combustíveis, de bens variados e, especialmente, de alimentos essenciais e fertilizantes.

COMENTÁRIOS:

A agricultura é um dos destaques da economia ucraniana, de onde provém boa parte de suas receitas. O país está entre os maiores produtores e exportadores de cereais, como o trigo, o milho, a cevada e a aveia, devido aos seus campos férteis e ao clima favorável. A Rússia também conta com essas condições adequadas para a produção agrícola, estando entre os maiores exportadores mundiais de alimentos, por exemplo, o trigo, o milho e o óleo de girassol. Contudo, o destaque russo está na exportação de energia, petróleo e gás natural, além de ser um dos maiores exportadores mundiais de fertilizantes e minérios.



A guerra levou a uma instabilidade nos preços dos produtos exportados por esses países e, conseqüentemente, a um aumento dos valores. As milhares de sanções econômicas emitidas contra a Rússia desorganizaram cadeias logísticas do país, afetando também países terceiros e países sancionadores.

A Ucrânia teve muitas de suas infraestruturas destruídas e portos exportadores dominados ou bloqueados pela Rússia, resultando em uma queda drástica de suas exportações.

Toda essa situação instável e insegura acabou colocando em risco, mundialmente, o fornecimento de combustíveis, de bens variados e, especialmente, de alimentos essenciais e fertilizantes. Muitos analistas apontaram para um risco de um aumento da insegurança alimentar no mundo, dos preços dos alimentos e dos indicadores de fome e do custo de vida.

Gabarito: Certo.

35. Na economia de mercado, a escassez de produtos eleva seu preço, impulsionando a inflação.

COMENTÁRIOS:

Em uma economia de mercado, quando um determinado bem se torna mais escasso, o efeito esperado é o aumento em seu preço.

O conceito de inflação representa o aumento geral dos preços na sociedade. Ela representa o encarecimento do custo de vida para o consumidor e para as empresas, resultante da elevação do preço dos produtos e da desvalorização da moeda.

Portanto, com a alta nos preços, a inflação é impulsionada.

Gabarito: Certo.

36. Sendo o maior produtor mundial de alimentos e autossuficiente na produção de fertilizantes, o Brasil não sofre impactos do conflito.

COMENTÁRIOS:

O Brasil é atualmente um dos maiores produtores e exportadores de alimentos do mundo, porém, ainda não é autossuficiente na produção de fertilizantes. O país tem uma dependência internacional superior a 70% da demanda de fertilizantes empregados na agricultura. A Rússia é um grande produtor e exportador de fertilizantes, sendo o maior fornecedor do Brasil

Com a eclosão do conflito, diminuíram as exportações de fertilizantes da Rússia, e o seu preço se elevou. Dessa forma, esse é um dos impactos que o Brasil sofre com o conflito.

Gabarito: Errado.

(QUADRIX/CRECI-SC/2022 – CONTADOR) A opinião pública mundial acompanha, com interesse e acentuada preocupação, a guerra da Rússia na Ucrânia. Por mais de uma vez, o dirigente russo Vladimir Putin lembrou ao mundo a existência de um arsenal nuclear em suas mãos. Fora o drama humano vivido



por milhares de pessoas, o conflito já aponta para consequências econômicas que poderão assumir dimensão global. Relativamente a esse conflito, iniciado em fevereiro de 2022, julgue os itens a seguir.

37. O Brasil, uma das maiores potências do agronegócio global, é muito dependente de fertilizantes importados, e a Rússia é um dos grandes fornecedores desse insumo fundamental para a agricultura.

COMENTÁRIOS:

O Brasil é uma das maiores potências do agronegócio mundial, sendo o segundo maior produtor agrícola do planeta, atrás somente dos Estados Unidos.

Fertilizantes são substâncias aplicadas na agricultura com o intuito de melhorar a produção e fornecer ao solo ou aos vegetais os nutrientes essenciais ao crescimento das plantas.

Embora seja uma potência agrícola, o Brasil é um grande importador de fertilizantes, principalmente de fósforo e potássio, em razão das poucas fontes naturais em solo nacional.

O Brasil tem uma dependência internacional superior a 70% da demanda de fertilizantes empregados na agricultura. A Rússia, sozinha, representa 23% da importação nacional de fertilizantes, segundo dados do Ministério da Economia obtidos em 2021. O país também é um dos grandes exportadores mundiais de fertilizantes de fósforo e potássio.

Gabarito: Certo.

38. A resposta do Ocidente à invasão russa da Ucrânia, especialmente dos Estados Unidos da América, foi estabelecer sanções econômicas e financeiras que atingem, inclusive, empresas e financistas russos.

COMENTÁRIOS:

Desde que a Rússia iniciou a invasão à Ucrânia, no dia 24 de fevereiro, o país tem sofrido uma série de sanções econômicas aplicadas pelos países mais ricos e desenvolvidos do mundo, com o intuito de pressionar sua economia, em uma tentativa de enfraquecê-la a tal ponto que desista da invasão.

Os governos de Estados Unidos, Canadá, Reino Unido, Japão, de membros da União Europeia e outros adotaram medidas que afetaram as reservas e as transações financeiras, o patrimônio, os negócios, a produção e as exportações da Rússia, de empresas, financistas e oligarcas russos.

Gabarito: Certo.

39. Quando o comando da questão fala em “drama humano vivido por milhares de pessoas”, ele possivelmente se refere aos milhares de civis ucranianos que se tornaram refugiados.

COMENTÁRIOS:

A guerra na Ucrânia desencadeou uma migração em massa na Europa, com milhões de pessoas saindo do país para fugir do conflito. Boa parcela dos deslocados buscou refúgio nos países vizinhos, sobretudo, na Polônia. Esse movimento migratório, de grandes dimensões, foi comparado às migrações ocorridas durante a Segunda Guerra Mundial.



Portanto, quando o comando da questão fala em “drama humano vivido por milhares de pessoas”, possivelmente se refere aos milhares de civis ucranianos que se tornaram refugiados.

Gabarito: Certo.

40. O conflito provocado por Putin em nada faz lembrar os tempos da Guerra Fria do pós-Segunda Guerra Mundial; afinal, hoje, não há qualquer tipo de envolvimento do Ocidente contra a Rússia.

COMENTÁRIOS:

No ano de 1949, no contexto da Guerra Fria, foi fundada, sob a liderança dos Estados Unidos, a Organização do Tratado do Atlântico Norte (OTAN), uma aliança militar, com o objetivo de barrar a expansão da União Soviética (URSS).

Em contraposição à criação da OTAN, a URSS e seus aliados do bloco socialista criaram o Pacto de Varsóvia, em 1955.

Com o fim da União Soviética, da Guerra Fria e da dissolução do Pacto de Varsóvia, em 1991, a OTAN passou a se expandir para o Leste Europeu, englobando países que eram integrantes do Pacto de Varsóvia e ex-repúblicas soviéticas, chegando na possível adesão da Ucrânia à aliança militar, o que foi um dos fatores principais para justificar a ofensiva militar russa no país.

Como a União Soviética e a ameaça do comunismo não existem mais, a expansão da OTAN é vista por Moscou como a continuação de uma Guerra Fria e uma tentativa de cercar e isolar a Rússia. Dessa forma, conforme a Rússia, a participação da Ucrânia na aliança militar representaria uma ameaça à sua segurança nacional.

Todo esse contexto e o conflito provocado por Putin lembram muito os tempos da Guerra Fria.

Além disso, o Ocidente está, indiretamente, se envolvendo na guerra. EUA e aliados ocidentais – dentre eles, muitos membros da OTAN – estão fornecendo ajuda militar e estabelecendo sanções econômicas contra a Rússia.

Gabarito: Errado.

41. O embargo promovido pelo Ocidente aos produtos e aos capitais russos não atingirá os países da União Europeia, os quais, há muito, não mais dependem do petróleo e do gás importados da Rússia.

COMENTÁRIOS:

Desde que o presidente Vladimir Putin ordenou a invasão da Ucrânia, em fevereiro, a União Europeia impôs sanções econômicas punitivas à Rússia.

Com as sanções e maiores barreiras ao comércio entre a União Europeia e Rússia, a economia do bloco tem sido afetada. Uma das principais consequências tem sido o aumento da inflação.

Contudo, um dos itens centrais da economia russa, o gás natural, não tinha sido sancionado até o final de abril de 2022, pois muitos dos países-membros do bloco dependem fortemente da energia russa. A Alemanha, a maior economia da Europa, por exemplo, é o maior cliente de energia da Rússia. Sancionar o



gás natural russo seria como “dar um tiro no pé” para muitos países do bloco, que teriam de buscar alternativas de fornecimento em outros países, que não são de rápida adoção e são bem mais caras.

No final de abril de 2022, a União Europeia estava discutindo parar de comprar petróleo da Rússia, o que é de substituição mais fácil, mas poderá comprar o óleo a um preço maior.

Portanto, a questão está errada ao afirmar que o embargo promovido pelo ocidente aos produtos e capitais russos não atingirá os países europeus, assim como está errada em afirmar que os países europeus, há muito, não mais dependem do petróleo e do gás importados da Rússia.

Gabarito: Errado.

(QUADRIX/CRECI-SC/2022 – TÉCNICO DE TECNOLOGIA DA INFORMAÇÃO) O século XX foi considerado como o mais violento entre todos os períodos históricos precedentes. Mal iniciou-se a segunda década do século XXI e o mundo se depara com um conflito que, para além dos terríveis dramas humanos que suscita, pode trazer mudanças profundas na economia, na política e nas relações internacionais. A partir dessas informações, julgue os itens a seguir.

42. O citado conflito teve início com a invasão russa a um país com o qual tem fronteira, a Ucrânia.

COMENTÁRIOS:

O conflito citado pelo enunciado é a guerra entre Rússia e Ucrânia, dois países fronteiriços, que se iniciou no dia 24 de fevereiro, com a invasão russa ao território ucraniano.

Gabarito: Certo.

43. Para fugir da guerra, mais de dois milhões de ucranianos, segundo cálculo das Nações Unidas, procuraram proteção em outros países. (ADAPTADA)

COMENTÁRIOS:

A guerra na Ucrânia desencadeou uma migração em massa na Europa, com milhões de pessoas saindo do país para fugir do conflito e buscando refúgio, principalmente, em países próximos, como na Polônia.

No dia 8 de março de 2022, o Alto Comissariado das Nações Unidas para os Refugiados (ACNUR), uma agência especializada da ONU, divulgou a informação de que o número de refugiados ucranianos havia ultrapassado a marca de 2 milhões de pessoas.

Em 15 de abril, de acordo com o ACNUR, esse número já passava de 5 milhões de pessoas. Havia também 6 milhões de deslocados internos, pessoas que tiveram que deixar os locais onde moravam e se abrigarem em outras regiões da Ucrânia, em função da guerra.

O número de refugiados e deslocados internos pode aumentar ou diminuir, dependendo dos rumos do conflito. A saída russa do entorno de Kiev, a capital ucraniana e do Norte e Nordeste do país, fez com que centenas de milhares de refugiados e deslocados internos retornassem às suas casas.

Gabarito: Certo.



44. O Ocidente, sob liderança dos Estados Unidos, impôs severas sanções econômicas e financeiras à Rússia.

COMENTÁRIOS:

Em reação à invasão da Ucrânia pela Rússia, muitos países liderados pelo governo dos Estados Unidos e pela União Europeia (UE) anunciaram sanções internacionais contra o país comandado por Vladimir Putin.

De forma geral, essas medidas visam a isolar a Rússia do mercado global, controlar de forma rigorosa a exportação e impactar diretamente o acesso do país à tecnologia de ponta. O objetivo final é enfraquecer o país, instigando-o a desistir da guerra ou, ao menos, enfraquecê-lo.

Gabarito: Certo.

45. No Conselho de Segurança da ONU, o Brasil foi um dos poucos países a hipotecar solidariedade irrestrita à Rússia.

COMENTÁRIOS:

No dia 25 de fevereiro, um dia após o início da invasão russa à Ucrânia, o Conselho de Segurança da ONU se reuniu para votar sobre uma resolução contrária à invasão da Ucrânia. Onze países votaram contra a invasão, e o Brasil foi um deles. Índia, China e Emirados Árabes Unidos se abstiveram, e a Rússia votou contra.

Portanto, está errada a questão. O Brasil não assegurou solidariedade irrestrita à Rússia.

Gabarito: Errado.

46. Apesar da natural apreensão que uma guerra causa, o mundo sente-se mais aliviado por saber que a Rússia não dispõe de armas nucleares.

COMENTÁRIOS:

Na atualidade, nove países do mundo têm, comprovada ou alegadamente, armas atômicas. É o chamado "clube nuclear", formado por Estados Unidos, Rússia, China, França, Reino Unido, Paquistão, Índia, Israel e Coreia do Norte. Quase 90% das armas são da Rússia (47%) e dos EUA (42%). Assim, a Rússia dispõe de armas nucleares.

Gabarito: Errado.



QUESTÕES COMENTADAS – AMÉRICA LATINA – MULTIBANCAS

1. (CEBRASPE/DATAPREV/2023) Na Argentina, em agosto de 2023, período em que se executaram as eleições primárias — cujo objetivo é definir os candidatos que concorrerão à Presidência da República —, a inflação ao consumidor cresceu mais de 100% em comparação ao mesmo mês do ano anterior.

COMENTÁRIOS:

Há vários anos, a Argentina passa por uma severa crise econômica, marcada principalmente pela elevada inflação. Em agosto de 2023, marco que serviu de referência para essa questão, a inflação na Argentina bateu a faixa dos 124% em relação a agosto de 2022.

Nesse mesmo mês, foram realizadas as eleições primárias, momento no qual a população define os candidatos que concorrerão à Presidência da República no país.

Gabarito: Certo

2. (VUNESP/PM-SP/2022) A respeito do atual cenário político-ideológico das lideranças da América Latina, analise o mapa a seguir.

Mapa Político da América Latina



(Fonte: AFP | Dados de 20 de junho de 2022.)

Com base no mapa e em seus conhecimentos, assinale a opção que indica corretamente o representante do “espectro de esquerda” atualmente no cargo de presidente.

(A) Hugo Chávez, na Venezuela.

- (B) Cristina Kirchner, na Argentina.
- (C) Gustavo Petro, na Colômbia.
- (D) Francia Márquez, no Chile.
- (E) Alberto Fujimori, no Peru.

COMENTÁRIOS:

Hugo Chávez foi presidente da Venezuela entre 02/02/1999 e 05/03/2013.

Cristina Kirchner é a atual vice-presidente da Argentina. Foi presidente do país de 10/12/2007 a 10/12/2015.

Gustavo Petro é o atual presidente da Colômbia, assumiu o cargo em 07/08/2022. Francia Márquez é a sua vice-presidente.

São todos políticos do espectro da esquerda.

Alberto Fujimori é um político de direita, e foi presidente do Peru de 28/07/1990 a 22/11/2000.

Gabarito: C

3. (FGV/CÂMARA MUNICIPAL DE TAUBATÉ-SP/2022 – CONTADOR LEGISLATIVO) Em setembro de 2022 a vice-presidente da Argentina, Cristina Kirchner, foi alvo de um atentado. Ela chegava em sua residência no bairro da Recoleta, em Buenos Aires, quando um homem apontou uma arma de fogo próximo de seu rosto. O presidente Alberto Fernández e outros líderes políticos atribuíram o ato a discursos de ódio “espalhados a partir de espaços políticos, judiciais e midiáticos”.

A respeito da crise político-econômica da Argentina que compõe o pano de fundo desse atentado, leia as afirmativas a seguir e assinale (V) para a verdadeira e (F) para a falsa.

() A Argentina apresenta um quadro inflacionário e de aumento de preços, agravado por problemas como a guerra na Ucrânia e a quebra das cadeias globais de produção em função da pandemia de covid-19.

() A crise econômica da Argentina está associada à dificuldade crônica do país em pagar a dívida externa e ao fato de possuir mais da metade de sua dívida em moedas estrangeiras.

() A crise é também política, uma vez que Cristina Kirchner faz oposição ao peronismo do governo e propõe cortar os atuais subsídios de tarifas de energia, transportes e água, para poder reduzir a dívida do país.

Assinale a opção com a sequência correta, de cima para baixo.

- (A) V – V – F.
- (B) V – F – V.
- (C) F – F – V.



(D) F – V – V.

(E) V – V – V.

COMENTÁRIOS:

I - Verdadeiro. Já faz alguns bons anos que a Argentina apresenta um quadro inflacionário e de aumento de preços, uma crise econômica constante. Essa situação foi agravada por problemas como a guerra na Ucrânia e a quebra das cadeias globais de produção em função da pandemia da covid-19. São fenômenos que afetaram grande parte dos países do mundo e a economia global como um todo.

II - Verdadeiro. A crise econômica da Argentina está associada à dificuldade crônica do país em pagar a dívida externa e ao fato de possuir mais da metade de sua dívida em moedas estrangeiras.

A dívida bruta da Argentina, segundo o seu Ministério da Economia, era de 80,1% do PIB no 1º trimestre de 2022. O Brasil tem um percentual parecido, de 78,5% do PIB. O que preocupa a Argentina, contudo, é que 55,5% do estoque do endividamento é em moeda estrangeira, e as reservas internacionais são baixas, próximas de US\$ 39,5 bilhões, comparadas com as do Brasil (US\$ 378,4 bilhões). Estima-se que as reservas internacionais da Argentina não são capazes de custear um semestre de importações do país.

Encarece essa conta da dívida a desvalorização do peso argentino frente ao dólar.

A Argentina é um caso clássico de um país que empobreceu nas últimas décadas e que não consegue superar uma prolongada crise econômica. Entra e sai governo, de esquerda, direita ou centro, e o país segue em crise. Quem tiver interesse em se aprofundar no assunto, segue uma aula sobre o tema no YouTube:

https://www.youtube.com/watch?v=EjaZL1QIG34&ab_channel=PetitJournal

III - Falso. O chamado peronismo é um movimento criado e liderado a partir do pensamento de Juan Domingo Perón, militar e estadista argentino, presidente, eleito em 1946, 1951 e 1973 e que influenciou a política Argentina. Sua ideologia é baseada no papel central de trabalhadores na economia e a necessidade de proteger os direitos trabalhistas. É um pensamento de base na Argentina e frequentemente se diz que, como metáfora, embora a Argentina tenha uma grande divisão política, todos argentinos são peronistas, tamanha é a importância de Perón na política do país. E há peronistas de direita, de centro e de esquerda.

Kirchnerismo é um termo usado para se referir à filosofia política e aos simpatizantes do falecido Néstor Kirchner, presidente da Argentina de 2003 a 2007, e de sua esposa, Cristina Kirchner, presidente do país de 2007 a 2015. Os Kirchners são peronistas.

O erro da questão está em falar que Cristina Kirchner faz oposição ao peronismo do governo. O atual governo da Argentina é de Alberto Fernandez, e Cristina Kirchner é a vice-presidente. É um governo de centro-esquerda, que não tem proposto cortar subsídios de tarifas de energia, transportes e água para poder reduzir a dívida do país.

Gabarito: A

4. (QUADRIX/CFT/2021 – JORNALISTA) Com relação aos aspectos políticos e econômicos atuais da América Latina, julgue o item a seguir.



O referendo votado no Chile em 2020, no intuito de mudar a antiga Constituição, e aprovado por uma maioria expressiva teve como premissa um novo modelo de país e futuros debates sobre direitos sociais.

COMENTÁRIOS:

Em outubro de 2020, foi realizado um plebiscito no Chile para decidir mudar ou não a Constituição e que tipo de órgão deve escrever o novo documento.

Esse plebiscito ocorreu após longos ciclos de protestos iniciados em 2019, com demandas por mais direitos sociais e menos desigualdade social.

No plebiscito, quase 80% dos eleitores votaram a favor da elaboração de um novo texto constitucional. Também se definiu que a nova Constituição fosse redigida por meio de uma convenção constitucional (assembleia constituinte exclusiva) composta por 155 membros que foram eleitos por votação direta em maio de 2021. O novo texto está, atualmente, em elaboração.

Gabarito: Certo

5. (VUNESP/PM-SP/2021) As principais praças do país ficaram lotadas na noite de domingo, 26 de outubro de 2020, depois que os eleitores deram amplo apoio ao plano de descartar a atual Constituição em favor de uma nova Carta que será escrita pelos cidadãos.

Na praça, foco de gigantescos e muitas vezes violentos protestos no ano passado, fogos de artifício foram lançados em meio a uma multidão de dezenas de milhares de pessoas gritando em uníssono a palavra “renascimento”.

Com mais de três quartos dos votos apurados, 78,12% dos eleitores optaram por uma nova Constituição. Muitos manifestaram esperanças de que um novo texto vai moderar um viés amplamente capitalista com garantias de mais direitos iguais na saúde, aposentadorias e educação.

(<https://bit.ly/39zb2aE>. Acessado em 31.01.2021. Adaptado)

O excerto trata

- (A) da Bolívia.
- (B) do Chile.
- (C) do Peru.
- (D) da Argentina.
- (E) da Venezuela.

COMENTÁRIOS:

O excerto trata do Chile. Grandes protestos eclodiram no país ao final de 2019, tendo como estopim o aumento da passagem do metrô da capital, Santiago. O reajuste foi revogado, mas os protestos continuaram



e englobaram outras pautas, como a elaboração de uma nova Constituição que substitua o texto atual, elaborado durante a ditadura militar.

Os clamores que ecoaram nas ruas foram ouvidos. O ex-presidente chileno, Sebastián Piñera (2018-2022), e o Congresso aprovaram um acordo para convocar um plebiscito, em que quase 80% dos eleitores votaram por mudar a Constituição.

Também foi definido que a nova Constituição será redigida por meio de uma convenção constitucional (assembleia constituinte exclusiva) composta por 155 membros e terá paridade de gênero com cotas especiais para os membros dos povos originários.

O novo texto está, atualmente, em elaboração.

Gabarito: B

(QUADRIX/CFT/2021 – JORNALISTA) O fim da segunda década do século chega diante de um profundo desafio sanitário, social e econômico global. Os impactos sociais, políticos e econômicos da pandemia de covid-19 aprofundaram os problemas da América Latina, a região mais desigual do mundo segundo a Comissão Econômica para América Latina e Caribe (Cepal).

Internet: <<https://www.brasilefato.com.br>>.

Com relação aos aspectos políticos e econômicos atuais da América Latina, julgue os itens a seguir.

6. A crise econômica diante de uma economia hiperinflacionária e da alta penetração do dólar norte-americano no país fez o governo venezuelano decretar reconversão ou perda de zeros em sua desvalorizada moeda.

COMENTÁRIOS:

Uma questão cobrando um fato pontual sobre a Venezuela. No nosso curso, estudamos sobre a gravidade da situação econômica e social da Venezuela. O país sofre com uma hiperinflação e escassez de gêneros básicos.

Em mais uma tentativa de conter a inflação, no segundo semestre de 2021, o Banco Central do país instituiu uma nova moeda, o bolívar digital, com o corte de seis zeros em relação à moeda anterior, o bolívar soberano.

Gabarito: Certo

7. A crise catapultada pela pandemia de coronavírus, somada à crise econômica que os países já vinham enfrentando com a baixa no preço das commodities, fez o Brasil ter um percentual de pobreza material similar ao da Argentina e ao da Venezuela.

COMENTÁRIOS:

Está incorreto o que se afirma na questão. O Brasil teve retração econômica em 2020 relacionada à pandemia do Coronavírus. Os níveis de pobreza aumentaram, mas não atingiram uma condição similar de pobreza ao



da Argentina e da Venezuela, que tiveram perdas maiores ao longo de 2020, e antes da pandemia já viviam situações econômicas difíceis.

Mesmo com a crise econômica mundial de 2020, o preço das *commodities* se manteve elevado, não sendo um fator responsável por essa crise, que foi causada pela pandemia do Coronavírus.

Gabarito: Errado

8. (IBADE/IDAF–AC/2020 – TÉCNICO EM DEFESA AGROPECUÁRIA E FLORESTAL) A pauta cresceu, e os chilenos passaram a brigar contra a desigualdade social. Após os atos de vandalismo, o presidente Sebastián Piñera declarou estado de emergência e toque de recolher. Apesar da violência policial, o movimento reuniu mais de 1 milhão de pessoas em Santiago, no dia 25 (25/10/2019). A revolta é a principal crise no país desde o fim da ditadura, em 1990.

(folha, 02/11/2019. disponível em: < <http://bit.ly/39iwbxm>>. adaptado)

É correto afirmar que as manifestações no Chile tiveram sua origem:

- a) com o aumento nas tarifas de transporte público.
- b) com pedido de renúncia do presidente Sebastián Piñera.
- c) com a descoberta de fraude nas eleições.
- d) com a decisão do presidente de extinguir os subsídios sobre o petróleo.
- e) com o aumento do preço do trigo.

COMENTÁRIOS:

As manifestações no Chile tiveram sua origem com o aumento nas passagens do metrô da capital, Santiago, em 3,75% nos horários de pico, de 800 para 830 pesos, o equivalente a 15 centavos de real. A medida foi suspensa dias depois, mas os protestos continuaram e se agigantaram, passando a englobar outras pautas, vindo a diminuir após o governo chileno atender a várias pautas dos manifestantes, principalmente a da realização de um plebiscito sobre a elaboração de uma nova Constituição para o país.

Gabarito: A

9. (VUNESP/PREFEITURA DE SANTO ANDRÉ/2020 – AUXILIAR ADMINISTRATIVO) Em 7 de outubro, o presidente do Chile afirmou em um programa de TV nacional que “em meio a uma América Latina convulsionada, o país é um verdadeiro oásis, com uma democracia estável”. Em menos de 15 dias, o diagnóstico era o oposto: “Estamos em guerra contra um inimigo poderoso, implacável, que não respeita nada nem ninguém e está disposto a usar a violência e delinquência sem nenhum limite”, disse o presidente em 20 de outubro à frente de uma república em estado de emergência e com toque de recolher decretado em grande parte do país.

(UOL. <https://bit.ly/2DYImXO>. Acesso em 04.dez.2019. Publicado em 25.out.2019. Adaptado)



A crise no Chile

- a) foi debelada após a queda do presidente, que fugiu para a Colômbia, e a instalação de um governo provisório até as eleições em 2020.
- b) abalou as relações comerciais e diplomáticas do Chile com os Estados Unidos, o mais importante aliado das políticas liberais do governo chileno.
- c) teve curta duração devido ao apoio imediato dos países vizinhos que fecharam as fronteiras para evitar a entrada de armas e munições para os manifestantes.
- d) foi o estopim para a queda de outros governos sul-americanos, como os da Bolívia e do Uruguai, que também apresentavam forte descontentamento da população.
- e) teve início com o aumento do preço dos transportes urbanos e se acentuou com os protestos contra as desigualdades sociais no conjunto da sociedade.

COMENTÁRIOS:

A crise no Chile teve início com o aumento do preço dos transportes urbanos e se acentuou com os protestos contra as desigualdades sociais no conjunto da sociedade.

Em outubro de 2019, protestos se disseminaram pelo país. O motivo foi o aumento das passagens do metrô da capital, Santiago, em 3,75%, nos horários de pico. Devido a atos de violência realizados por alguns grupos minoritários, como o incêndio a um prédio que sediava a maior companhia de energia do país, em determinados dias e cidades foi decretado o estado de emergência e toque de recolher.

O aumento foi revogado, mas os protestos continuaram agregando outras reivindicações que refletiam insatisfações da população com a situação econômica e social no país

Em resposta às reivindicações dos manifestantes, o ex-presidente do país, Sebastian Piñera (2018-2022), e o Congresso anunciaram um pacote de medidas sociais, com o incremento às aposentadorias, a criação de um teto para os gastos com medicamentos, aumento do salário mínimo, redução nas tarifas de energia elétrica, redução da tarifa de transporte público para aposentados e substituiu vários ministros. Por fim, aprovou um acordo para convocar um plebiscito em abril de 2020, onde a maioria dos chilenos decidiram pela elaboração de uma nova constituição para o país. O novo texto constitucional está, atualmente, em elaboração.

Gabarito: E

(CEBRASPE/MP PI/2018 – TODOS OS CARGOS) A Venezuela é um país rico em petróleo, mas que passa por enormes dificuldades econômicas e políticas, com altos impactos sociais. O país é atualmente governado pelo presidente Nicolás Maduro, que assumiu o poder em 2013, logo após a morte de Hugo Chávez. Maduro é um político polêmico, que chegou a afirmar, em 2017, que, se fosse preciso, poderia se transformar em um ditador para levar o país de volta à estabilidade. Com relação à crise política e econômica pela qual tem passado a Venezuela, julgue os próximos itens.

10. Os membros fundadores do MERCOSUL suspenderam, em 2017, a participação da Venezuela no bloco, sob a alegação de ruptura da ordem democrática no país.



COMENTÁRIOS:

A República Bolivariana da Venezuela se encontra atualmente suspensa do MERCOSUL. O bloco entendeu que há uma ruptura na ordem democrática do país e que os poderes não estão funcionando de modo harmônico e independente, o que vai contra o que está disposto no Protocolo de Ushuaia.

Durante a suspensão, a Venezuela não pode participar de votações e de exercer a presidência rotativa do bloco. A suspensão não afeta as trocas comerciais entre a Venezuela e os demais países do bloco. Os acordos comerciais continuam em vigor.

Gabarito: Certo

11. Entre os países sul-americanos, o Brasil é o que mais recebe imigrantes venezuelanos, que buscam livrar-se da crise econômica de seu país.

COMENTÁRIOS:

A Colômbia é o país sul-americano que mais tem recebido imigrantes venezuelanos. Outros países sul-americano também recebem mais venezuelanos do que o Brasil, como o Peru e a Argentina.

Gabarito: Errado

12. Apesar da crise econômica, o governo venezuelano tem conseguido controlar a inflação no país.

COMENTÁRIOS:

A Venezuela passou por um crítico cenário de hiperinflação nos anos recentes, uma das mais longas da história moderna, que durou de 2017 até 2020, quando a alta de preços registrou variações anuais superiores a 100%. Em 2021, o país conseguiu reduzir substancialmente esse número, mas a inflação ainda continua como uma das mais altas do mundo. Uma das principais medidas para essa estabilização foram os cortes de zeros em sua moeda, o bolívar - o último, feito em 2021, retirou seis zeros da moeda.

Gabarito: Errado

13. Embora muito criticada pela comunidade internacional, a Venezuela não foi submetida a sanções econômicas por outros países, como as impostas, por exemplo, a Cuba e ao Irã.

COMENTÁRIOS:

Os Estados Unidos já aplicaram uma série de sanções econômicas e políticas à Venezuela. O governo do país, a petroleira PDVSA e outras entidades venezuelanas foram alvos de sanções econômicas.

Um rol de funcionários e ex-funcionários do governo venezuelano, de alto escalão, entre eles Nicolás Maduro, acusados de corrupção e narcotráfico, foram proibidos de entrar nos Estados Unidos.

Gabarito: Errado



14. O petróleo é a principal fonte de receitas do governo venezuelano.

COMENTÁRIOS:

O petróleo responde por 96% das receitas de exportação da Venezuela. A economia venezuelana é muito dependente de petróleo, o que a deixa vulnerável as oscilações do preço do barril. Uma baixa no preço diminui sensivelmente o ingresso de divisas no país o que afeta a economia e as finanças governamentais. Se o país fosse menos dependente do petróleo, seria menos impactado pelas sanções econômicas dos Estados Unidos e pela volatilidade do preço da commodity.

Gabarito: Certo

15. As maiores reservas comprovadas de petróleo do mundo encontram-se na Venezuela.

COMENTÁRIOS:

A Venezuela possui as maiores reservas comprovadas de petróleo do mundo. Na sequência vem a Arábia Saudita e o Irã. Apesar disso, os maiores produtores mundiais de petróleo são, respectivamente, Rússia, Arábia Saudita e Estados Unidos.

O país é um exportador de petróleo, mas a sua produção e exportação caíram significativamente nos últimos anos. A gravíssima crise econômica atingiu a produção venezuelana de petróleo.

Gabarito: Certo



QUESTÕES COMENTADAS - SEPARATISMOS NA EUROPA – MULTIBANCAS

1. (FGV/CÂMARA MUNICIPAL DE TAUBATÉ-SP/2022 – CONTADOR LEGISLATIVO) Na atualidade, uma série de movimentos reivindicam Estados próprios, com base na autodeterminação dos povos, mostrando que o nacionalismo ainda é uma questão importante no século XXI.

A esse respeito, analise as afirmativas a seguir sobre os movimentos catalão e curdo.

I. Os catalães são integrados à Espanha, obedecem às mesmas leis e estão sob o mesmo regime fiscal, eleitoral e de segurança pública e defesa.

II. Os curdos, possuem forças militares próprias e autonomia para administrar seus assuntos, em uma região multinacional de fronteira chamada Curdistão.

III. A autonomia da Catalunha é reivindicada por razões econômicas, sendo a principal contribuinte da economia espanhola, já a independência curda baseia-se em questões religiosas, sendo os curdos majoritariamente yazidis.

Está correto o que se afirma em

(A) I, apenas.

(B) I e II, apenas.

(C) I e III, apenas.

(D) II e III, apenas.

(E) I, II e III.

COMENTÁRIOS:

I - Correto. A divisão administrativa da Espanha é feita por meio das denominadas “comunidades autônomas”. O país é composto por 17 comunidades autônomas. A Catalunha é uma comunidade autônoma, tem um governo regional autônomo, mas não soberano, subordinado ao Estado da Espanha. Obedecem às mesmas leis e estão sob o mesmo regime fiscal, eleitoral e de segurança pública e defesa.

II - Correto. Os curdos constituem a maior etnia sem um Estado nacional próprio do mundo. Habitam vários países do Oriente Médio, como Turquia, Iraque, Síria, Irã, Armênia e Azerbaijão. A região do Curdistão se divide pela Turquia, Síria, Iraque e Irã, por isso que o examinador fez a referência há uma região multinacional de fronteira. Afirmativa mal elaborada que generalizou ao dizer: “Os curdos, possuem forças militares próprias e autonomia para administrar seus assuntos [...]”. Essa condição não existe no Irã, nem na Turquia, apenas no Iraque e na Síria.



III - Incorreto. A Catalunha é a região espanhola de maior prosperidade econômica e com maior participação no PIB espanhol dentre as 17 regiões autônomas; porém, é a questão étnica que predomina nas reivindicações autonomistas.

A luta por independência curda não se baseia em questões religiosas, mas sim em questões étnicas, do povo curdo com uma língua e cultura em comum, de uma população que sempre habitou aquela região resistindo à ocupação tribal dos árabes. Embora sejam muçulmanos, os curdos não são identificados com uma religião específica. Os lazidis são uma comunidade étnico-religiosa curda que pratica uma antiga religião sincrética curda, anterior à islamização desse povo.

Gabarito: B

2. (IBADE/IDAF–AC/2020 – TÉCNICO EM DEFESA AGROPECUÁRIA E FLORESTAL) A participação no protesto desta quarta, estimada em “cerca de 600 mil pessoas” pela polícia barcelonesa, é a menor desde que a Diada tomou um caráter separatista há sete anos. Tanto em 2018 como em 2017, a participação ficou em aproximadamente 1 milhão de pessoas, segundo fontes policiais.

(O Globo, 11/09/2019. Disponível em: < <https://glo.bo/38kyBk8>>. Adaptado)

A notícia ilustra uma série de protestos que vêm ocorrendo, consecutivamente desde 2012, com intuito de reivindicar a independência:

- a) de Barcelona em relação a Catalunha.
- b) de Barcelona em relação ao País Basco.
- c) dos Países Baixos em relação a Catalunha.
- d) da Catalunha em relação ao País Basco.
- e) da Catalunha em relação a Espanha.

COMENTÁRIOS:

A notícia se refere ao movimento pela independência da Catalunha em relação à Espanha.

A Catalunha é uma importante região autônoma da Espanha, onde, além do espanhol, o catalão também é idioma oficial. Barcelona é a sua capital.

A região tem 7,5 milhões de habitantes, o que representa 12% da população espanhola. É considerada o “motor da economia espanhola”, pois responde por 19% do PIB da Espanha, possuindo o maior PIB entre as comunidades autônomas.

No sentimento separatista da Catalunha, além dos fatores econômicos, estão as raízes culturais, étnicas e históricas e um sentimento de identidade entre o povo catalão.

Gabarito: E



3. (VUNESP/ESEF–SP/2019 – ASSISTENTE EM ADMINISTRAÇÃO) A Catalunha, nesta segunda-feira (14.10.2019), foi agitada por uma série de protestos, com o epicentro em Barcelona. A ação foi convocada pela plataforma Tsunami Democrático, que distribuiu cartões de embarque falsos causando bloqueio no El Prat, o principal aeroporto da cidade. Também houve prejuízo para a circulação de trens e metrô.

(El Pais/Bras. Disponível em <https://bit.ly/32r70ew>. Acesso em 15.10.2019. Adaptado)

Os protestos ocorreram

- a) porque o Parlamento espanhol aprovou leis que foram consideradas fascistas pelo Comitê de Defesa da República Catalã.
- b) em defesa do resultado do plebiscito que aprovou a independência catalã do restante da Espanha.
- c) porque os Mossos (polícia catalã) atacaram os manifestantes que defendiam a independência da Catalunha.
- d) contra a intervenção governamental nas universidades catalãs que fizeram movimento pela independência.
- e) contra a decisão do Tribunal Supremo da Espanha que impôs penas de prisão a líderes separatistas.

COMENTÁRIOS:

Os protestos ocorridos na Catalunha durante o mês de outubro de 2019 foram motivados pela decisão do Tribunal Supremo da Espanha de impor penas de 9 a 13 anos de prisão a nove líderes separatistas por, no final de 2017, realizarem um referendo separatista considerado ilegal pela Espanha, seguido de uma declaração de independência. Eles acabaram afastados do poder e, em seguida, alguns foram presos — enquanto outros fugiram para outros países.

Para parte da população catalã, eles deveriam ter sido absolvidos no julgamento.

Gabarito: E



QUESTÕES COMENTADAS – PANDEMIA DE COVID-19 – MULTIBANCAS

(CEBRASPE/DataPrev/2023) No que se refere à recente pandemia de covid-19, julgue os itens subsequentes.

1. A pandemia da covid-19 agravou situações de fragilidade econômica e social de famílias e empresas em diversos países, em especial naqueles de economia emergente, como o Brasil.

COMENTÁRIOS:

Na prática, todos os países afetados pela pandemia da covid-19 verificaram uma situação de fragilidade econômica e social de famílias e de empresas. Por terem mais recursos econômicos, os países ricos tiveram mais condições de mitigar essa situação adversa. Com menos recursos econômicos, os países pobres e emergentes sofreram mais com os efeitos socioeconômicos adversos da pandemia.

Gabarito: Certo

2. A crise econômica, social e política gerada pela pandemia da covid-19 ocorreu entre 2019 e 2022, e, após a vacinação em massa da população mundial, houve uma rápida recuperação da economia global a partir de agosto de 2022.

COMENTÁRIOS:

A população mundial não foi vacinada em massa. Bilhões de pessoas residentes em países pobres não tiveram acesso às doses da vacina ou ao esquema vacinal completo. O ano de 2019 não foi afetado pela pandemia de covid-19, já que o anúncio do novo Coronavírus aconteceu no último dia do ano, 31 de dezembro. O ano de 2020 foi de crise econômica mundial, mas, a partir do início de 2021, com o início da vacinação, a economia mundial iniciou uma rápida recuperação global.

Gabarito: Errado

3. (QUADRIX/PREFEITURA DE BARREIRAS-BA/2022) Julgue os itens seguintes, referentes aos impactos da pandemia de covid-19 no Brasil e no mundo.

I- A Organização Mundial da Saúde (OMS), ainda em 2019, declarou a pandemia do novo coronavírus, e o primeiro caso oficial de covid-19 foi o de um paciente na cidade de Wuhan, na China.

II- O surto do novo coronavírus foi considerado pela OMS uma Emergência de Saúde Pública de Importância Internacional (ESPII).

III- As ações do governo federal para o combate da pandemia do novo coronavírus e de seus impactos no Brasil incluíram a compra de vacinas e o pagamento do auxílio emergencial para uma parcela de trabalhadores brasileiros.

Assinale a alternativa correta.



- (A) Nenhum item está certo.
- (B) Apenas os itens I e II estão certos.
- (C) Apenas os itens I e III estão certos.
- (D) Apenas os itens II e III estão certos.

COMENTÁRIOS:

I - Incorreto. Foi no dia 11 de março de 2020 que a Organização Mundial da Saúde (OMS) declarou que havia uma pandemia de um novo Coronavírus no mundo. O primeiro caso oficial de covid-19 foi na cidade de Wuhan, na China.

II - Correto. O surto do novo Coronavírus foi considerado pela OMS uma Emergência de Saúde Pública de Importância Internacional (ESPII), no mês de janeiro de 2020. Isso ocorreu antes da declaração de pandemia, pois é um estágio anterior, sendo a sua declaração um alerta para as possíveis consequências do vírus, as quais de fato ocorreram.

A varíola dos macacos também foi declarada uma ESPII, em julho de 2022, mas não progrediu para o estágio de pandemia.

III - Correto. As ações do Governo Federal para o combate à pandemia do novo Coronavírus e de seus impactos no Brasil incluíram a compra de vacinas e o pagamento do auxílio emergencial para uma parcela de trabalhadores brasileiros.

Gabarito: D

(QUADRIX/2022/CRP 11ª REGIÃO-CE – ASSISTENTE ADMINISTRATIVO) Julgue os itens a seguir, relativos a temas atuais do Brasil e do mundo.

4. Os registros de pessoas infectadas, no Brasil, pela variante ômicron do novo coronavírus são todos de indivíduos que, após se contaminarem no exterior, trouxeram o vírus para o País.

COMENTÁRIOS:

A variante ômicron foi identificada na África do Sul, ao final de 2021. Inicialmente, o vírus chegou ao país por meio de indivíduos que se contaminaram no exterior e o trouxeram para o país. Posteriormente, passou a se propagar internamente, entre próprios brasileiros que não chegaram a viajar para o exterior.

Gabarito: Errado

5. A crise sanitária causada pela pandemia de covid-19 impulsionou o mercado de e-commerce no Brasil, uma vez que, com o surto da doença, o consumidor brasileiro passou a fazer mais compras on-line.

COMENTÁRIOS:

E-commerce, ou comércio eletrônico, refere-se às vendas pela internet de produtos e serviços.



Devido às medidas de restrições da covid-19, o mercado do e-commerce registrou um grande crescimento recente. Em 2020 e 2021, registrou faturamentos recordes, e a tendência é que o setor siga se expandindo nos próximos anos. Por outro lado, o varejo físico acabou sendo impactado nos piores momentos da crise sanitária.

A pandemia de covid-19 causou uma série de mudanças na sociedade, e uma delas foi o aumento das compras on-line, uma tendência que já era crescente nos anos anteriores à pandemia, porém, acabou sendo impulsionada pela crise sanitária. O mesmo ocorreu com o *home office*, o trabalho remoto.

Gabarito: Certo

(QUADRIX/CRP-10/2022 – ANALISTA-PSICÓLOGO) Estudo pós-covid mostra prevalência de depressão, ansiedade e estresse. Em estudo no Hospital das Clínicas (HC), mais da metade relata declínio da memória e testes indicam perdas cognitivas relevantes entre os infectados. Em estudo feito com pacientes que se recuperaram das formas moderada e grave da covid-19, pesquisadores da Universidade de São Paulo (USP) observaram alta prevalência de déficit cognitivo e transtornos psiquiátricos. O Estado de S. Paulo, 9/2/2022, p. A17 (com adaptações).

Tendo o texto acima como referência inicial e considerando os aspectos marcantes da atualidade, julgue os itens.

6. A partir de um determinado local de origem, a covid se disseminou rapidamente, atingindo dimensão verdadeiramente planetária, o que levou a Organização Mundial da Saúde (OMS) a declará-la pandemia.

COMENTÁRIOS:

A covid-19 foi registrada pela primeira vez na cidade de Wuhan, na China. O vírus se espalhou rapidamente para todos os continentes, o que levou a Organização Mundial da Saúde (OMS) a declarar uma situação de pandemia. A definição de pandemia é usada quando uma doença não se restringe apenas a uma região específica, mas sim por todo o globo.

Gabarito: Certo

7. Talvez por suas condições geográficas, além das satisfatórias condições de saneamento que apresenta, o Continente americano, de Norte a Sul, foi o que menos sofreu o impacto do novo coronavírus.

COMENTÁRIOS:

O continente americano sofreu muito os impactos do Coronavírus. Estados Unidos e Brasil foram, respectivamente, os dois países com o maior número de mortes decorrentes do vírus no mundo. Esses dois países situam-se no continente americano: os EUA, na América do Norte, e o Brasil, na América do Sul.

Gabarito: Errado

8. No Brasil, na primeira fase da covid, geraram comoção os graves problemas ocorridos em Manaus e em outras regiões do Amazonas, quando a escassez de oxigênio ampliou dramaticamente o número de óbitos.



COMENTÁRIOS:

Ao longo do mês de janeiro de 2021, um caos se instalou no sistema de saúde de Manaus, quando faltou oxigênio nos hospitais. Na época, o estado registrava recorde de internados com covid-19, e as unidades ficaram superlotadas. O Amazonas foi o primeiro estado do país a sofrer com os impactos da segunda onda da covid-19.

A crise do oxigênio, como ficou conhecido o episódio no Amazonas, causou perplexidade em todo o mundo e marcou um dos momentos mais tristes da pandemia no Brasil.

Gabarito: Certo

9. A decisão de promover o distanciamento social, para reduzir a possibilidade real de contágio pelo vírus, foi mais rígida em alguns países que em outros, ainda que suscitasse algum tipo de reação.

COMENTÁRIOS:

Como medida de proteção, vários países adotaram medidas restritivas contra a disseminação do vírus, por meio do distanciamento social, isolamento, quarentena e lockdown. Alguns adotaram medidas mais brandas, outros mais restritivas. Em vários locais do mundo, ocorreram protestos da população contra essas medidas.

Gabarito: Certo

10. O texto deixa claro que, tanto nos casos moderados quanto nos mais graves, as sequelas psicológicas e psiquiátricas da covid são irrelevantes.

COMENTÁRIOS:

O texto do enunciado não deixa isso claro. Fala justamente que, entre infectados da covid-19, tanto nas formas moderadas quanto grave, foram observadas sequelas psicológicas e psiquiátricas, como depressão, ansiedade, estresse, perda de memória e perdas cognitivas relevantes, além de transtornos psiquiátricos.

Gabarito: Errado

11. Ao mencionar “perdas cognitivas relevantes”, o texto quer dizer que a covid não é capaz de interferir na capacidade humana de aprender, apreender, compreender e reter conhecimentos.

COMENTÁRIOS:

Ao mencionar “perdas cognitivas relevantes”, o texto está justamente dizendo que a covid-19 é capaz de interferir na capacidade humana de aprender, apreender, compreender e reter conhecimentos, pois essas fazem parte das capacidades cognitivas do ser humano.

Gabarito: Errado

12. A celeridade com que as vacinas contra a covid foram produzidas demonstra a importância do saber científico no enfrentamento de graves desafios presentes no mundo contemporâneo.



COMENTÁRIOS:

A velocidade do processo de busca de uma vacina para a covid-19 superou tudo o que já foi visto até hoje na área de desenvolvimento de imunizantes. Esse processo só foi possível graças ao saber científico, que é de suma importância no enfrentamento de desafios do mundo contemporâneo.

Gabarito: Certo

13. A solidariedade mundial ficou patente na atual pandemia: algumas das regiões mais pobres do Planeta, como vários países africanos, receberam, gratuitamente, vacinas para imunizar a maioria absoluta de suas populações.

COMENTÁRIOS:

O processo de produção e distribuição de imunizantes ocorreu de forma desigual no mundo, assim como o de vacinação. Os países que primeiro desenvolveram suas vacinas focaram esforços em vacinar sua população, para depois exportar e doar doses para outros países.

As regiões mais pobres do planeta, como o continente africano, onde muitos países não produzem vacinas, têm recebido doses por meio de doações ou por importações, mas não o suficiente para imunizar a maioria absoluta de suas populações. Enquanto muitos países desenvolvidos e emergentes já vacinaram grande parte de sua população, muitos países pobres estavam deslançando esse processo no início do ano de 2022.

Gabarito: Errado

14. (QUADRIX/CRP-10/2022 – ASSISTENTE ADMINISTRATIVO) Para enfrentar a pandemia do coronavírus, todos os países promoveram a vacinação em massa da população.

COMENTÁRIOS:

O erro desta questão está em afirmar que TODOS os países promoveram a vacinação em massa da população. O processo de vacinação não ocorreu de forma igualitária no mundo. Muitos países não conseguiram vacinar em massa sua população, pois não dispõem de tecnologia necessária para produzir grandes quantidades de imunizantes e nem de recursos para importá-los.

Gabarito: Errado

(QUADRIX/CRECI-RO/2022 – FISCAL) Enquanto a renda de 99% da humanidade caiu durante a pandemia, um novo bilionário surgiu a cada 26 horas, e os dez homens mais ricos do mundo mais que dobraram as suas fortunas, na comparação entre março de 2020 e novembro de 2021. Os dados são de um relatório da Oxfam. Ao mesmo tempo, a renda de 99% das pessoas caiu e mais de 160 milhões foram empurrados para a pobreza, enquanto 17 milhões morreram de covid-19.

Folha de S. Paulo, 17/1/2022, p. A 13 (com adaptações).

Tendo o texto acima como referência inicial e considerando os aspectos relevantes do atual cenário mundial, julgue os itens.



15. A crise sanitária gerada pelo novo coronavírus foi definida como pandemia pela Organização Mundial da Saúde (OMS), por ser amplamente disseminada.

COMENTÁRIOS:

Uma pandemia acontece quando uma epidemia se estende a níveis mundiais, ou seja, espalha-se por diversas regiões do planeta. No dia 11 de março de 2020, a crise sanitária gerada pelo novo Coronavírus foi definida como pandemia pela Organização Mundial da Saúde (OMS).

A mudança de classificação ocorreu em função da rápida disseminação geográfica que a covid-19 apresentou à época.

Gabarito: Certo.

16. No Brasil, a covid-19 causou reduzido número de mortes devido à vacinação em massa da população logo que o vírus chegou ao País.

COMENTÁRIOS:

No Brasil, a covid-19 causou muitas mortes. O Brasil é o segundo país com o maior número de mortes decorrentes do vírus, atrás somente dos Estados Unidos.

A vacinação em massa da população, que passou a ocorrer principalmente a partir do segundo semestre de 2021, contribuiu para uma redução expressiva no número de óbitos e de casos graves relacionados à doença.

Gabarito: Errado.

17. O texto deixa claro que os efeitos dramáticos da covid-19 não se restringem apenas à saúde, mas envolvem também aspectos sociais e econômicos.

COMENTÁRIOS:

O texto do enunciado é bem claro e objetivo ao relacionar a diminuição de renda e o aumento da pobreza com a pandemia da covid-19. Esse é um aspecto social e econômico da pandemia, mostrando que seus efeitos não se restringem apenas à saúde.

Gabarito: Certo.

18. Conclui-se do texto que a covid-19 penalizou mais as populações pobres, seja pela perda de rendimentos, seja pelo número de mortes.

COMENTÁRIOS:

A covid-19 penalizou mais as populações pobres, seja pela perda de rendimentos, seja pelo número de mortes.

Devido à desigualdade no acesso aos serviços de saúde e às condições de vida e moradia inferiores, pessoas pobres estão entre as mais afetadas pela doença no que diz respeito ao número de mortes.



Gabarito: Certo.

(QUADRIX/CRECI-RO/2022 – FISCAL) Nos dias atuais, as mudanças ocorrem rápida e profundamente. As transformações acontecem dia após dia, atingindo os mais variados setores. Considerando esse cenário tão dinâmico, tanto no Brasil quanto no mundo, julgue os itens.

19. A pandemia da covid-19 se alastrou porque a ciência não foi capaz de produzir vacinas para enfrentar esse gravíssimo problema de saúde pública.

COMENTÁRIOS:

A ciência produziu vacinas para a covid-19. A primeira vacina com estudos concluídos foi aplicada em dezembro de 2020. Com o início do processo de vacinação, o número de casos e mortes reduziu-se significativamente no mundo.

Anteriormente à produção de vacinas, o Coronavírus se alastrou rapidamente devido à dois fatores principais: primeiro, pelas características próprias do vírus, que tem uma alta taxa de contágio e infecções; segundo, por causa da intensa circulação de pessoas pelo mundo, o que fez com que o vírus – identificado pela primeira vez na China –, rapidamente se propagasse para todos os continentes.

Gabarito: Errado.

20. O Senado brasileiro não conseguiu criar uma Comissão Parlamentar de Inquérito (CPI) para investigar atos e omissões relativos à pandemia da covid-19.

COMENTÁRIOS:

O Senado brasileiro instaurou, no dia 27 de abril, uma Comissão Parlamentar de Inquérito (CPI) para investigar as ações, omissões e inações do governo federal no enfrentamento à pandemia de coronavírus. A comissão também examinou a aplicação de verbas federais repassadas aos estados, Distrito Federal e municípios. Ficou conhecida como a CPI da pandemia ou CPI da covid.

Em suas 1.180 páginas, o relatório final da CPI da Pandemia, apresentado pelo senador Renan Calheiros (MDB-AL), recomenda o indiciamento de 66 pessoas físicas e duas pessoas jurídicas, dentre elas, o presidente Jair Bolsonaro. Esses indiciamentos têm relação com o negacionismo sobre o vírus e as vacinas, atitude que teria contribuído para o aumentado no número de mortos no Brasil, com as suspeitas de corrupção nas negociações para a compra de vacinas pelo Ministério da Saúde e com as mortes que teriam sido provocadas pelo uso de tratamentos sem respaldo científico contra a covid-19.

Gabarito: Errado.

21. (CESGRANRIO/BASA/2022 - TÉCNICO BANCÁRIO) Considere o texto sobre a vacinação contra a Covid-19 no Brasil.

O Brasil atingiu a marca de mais de 300 milhões de doses de vacinas contra a Covid-19 aplicadas desde o início da campanha de vacinação, informou hoje (19 de novembro) o Ministério da Saúde (MS). Até o momento, 157,6 milhões de pessoas receberam a primeira dose e 129,8 milhões tomaram as duas doses ou a dose única da vacina, o que representa que 73,3% da população-alvo completou o ciclo vacinal.



Disponível em: <https://agenciabrasil.ebc.com.br>. Acesso em: 20 nov. 2021. Adaptado.

Com o objetivo de fortalecer a imunização da população contra a Covid-19, o governo liberou, em novembro de 2021, a terceira dose ou dose de reforço para o seguinte segmento:

- (A) crianças entre 0 e 7 anos de idade.
- (B) adolescentes até 16 anos de idade.
- (C) adultos acima de 18 anos de idade.
- (D) adolescentes até 18 anos de idade.
- (E) crianças entre 7 e 14 anos de idade.

COMENTÁRIOS:

Em novembro de 2021, o Ministério da Saúde liberou a terceira dose para todos adultos acima de 18 anos de idade. Além de ampliar a terceira dose para toda a população adulta, o ministério mudou o intervalo para o reforço: de seis meses, passaram para cinco meses.

Até esse momento, a terceira dose/dose de reforço só era indicada para indivíduos com mais de 60 anos, profissionais da saúde e imunossuprimidos (pessoas com problemas no sistema imunológico).

Gabarito: C

22. (CESGRANRIO/BASA/2022 - TÉCNICO CIENTÍFICO) A vacinação contra Covid-19 no Brasil foi iniciada no dia 17 de janeiro de 2021, quando o país já contava 210 mil mortos pela doença. Os primeiros seis milhões de doses foram da vacina CoronaVac, importadas pelo Instituto Butantan, em uma colaboração com a empresa chinesa Sinovac Biotech. Em 2021, a vacinação contra Covid-19 no Brasil sucedeu do seguinte modo:

- (A) no primeiro semestre, toda a população adulta estava vacinada com as duas doses.
- (B) no primeiro semestre, foi iniciada a vacinação com a terceira dose para a população idosa.
- (C) no segundo semestre, mais de 60% da população estava vacinada com as duas doses.
- (D) no segundo semestre, toda a população estava imunizada com a vacina de dose única.
- (E) no segundo semestre, 60% das crianças menores de 12 anos estavam imunizadas com a vacina de dose única.

COMENTÁRIOS:

Uma questão com afirmativas muito pontuais, que vão bem no detalhe do panorama vacinal brasileiro em 2021. Contudo, com uma visão geral do processo de vacinação, era possível eliminar alternativas e resolver a questão.



A vacinação contra a covid-19 no Brasil foi iniciada em janeiro. No primeiro semestre, progrediu lentamente no país, pois a oferta de doses era menor. No segundo semestre, a vacinação se acelerou, com o aumento da oferta de doses e uma maior adesão da população.

a) Incorreto. Quando a questão menciona toda a população adulta, está se referindo à 100% da população adulta vacinada. Atingir 100% da população vacinada, seja com uma ou duas doses, é um número que irá demorar para ser alcançado, e dificilmente será alcançado - embora seja realisticamente possível fornecer doses para toda a população, há pessoas que ainda resistem em tomar a vacina -.

Dessa forma, em nenhum momento de 2021, toda a população adulta estava com as duas doses. Ao final de 2021, cerca de 80% da população adulta estava vacinada com as duas doses.

b) Incorreto. A vacinação com terceira dose para a população idosa foi liberada, pelo Ministério da Saúde, em agosto de 2021, e se iniciou em setembro de 2021. Portanto, ocorreu no segundo semestre de 2021.

c) Correto. No mês de novembro, o Brasil atingiu o marco de 60% da população totalmente imunizada contra a covid-19, com as duas doses. Portanto, foi no segundo semestre de 2021.

d) Incorreto. A vacina de dose única, mencionada pela alternativa, é a vacina da Janssen. Quando a alternativa afirma que “toda a população estava imunizada com a vacina de dose única”, está dizendo que toda a população se imunizou com essa vacina. Essa não é a única vacina utilizada no Brasil. Portanto, não há como toda a população se imunizar com ela.

e) Incorreto. Mesmo erro lógico da alternativa anterior. Dentre as vacinas que estão sendo utilizadas no Brasil, a Janssen é a menos utilizada. Dessa forma, não há como 60% das crianças menores de 12 anos estarem imunizadas com essa vacina.

Gabarito: C

(CEBRASPE/ICMBio/2022 – ANALISTA AMBIENTAL) Enquanto sonhamos com o dia em que a Organização Mundial da Saúde decretará o fim do “período de exceção” causado pela covid-19, habitam nosso imaginário temores e dúvidas. Após um período de relativa calma propiciado pelas vacinas, somos apanhados por essa nova variante tão diversa da cepa original, pelas dezenas de mutações em sua estrutura, que os virologistas já a definem quase como se fosse um novo patógeno.

Internet: <<https://blogs.oglobo.globo.com>> (com adaptações).

Com relação à pandemia de covid-19 e a seus desdobramentos no mundo nos últimos dois anos, julgue os itens a seguir.

23. A vacinação da população e a retomada do crescimento econômico têm aumentado a oferta de postos de trabalho presencial em diversos países, de forma que o teletrabalho ou trabalho remoto desenvolvido durante a pandemia está aos poucos diminuindo, deixando de configurar uma tendência.

COMENTÁRIOS:

A vacinação da população e o relativo controle da pandemia estão retomando o crescimento da economia, gerando a oferta de postos de trabalhos presenciais, que haviam sido muito afetados, devido à necessidade



de isolamento e de distanciamento social para controlar a disseminação do vírus. Aos poucos, o teletrabalho ou trabalho remoto está diminuindo, na medida em que as pessoas estão voltando ao trabalho presencial.

O erro da questão está em dizer que o teletrabalho deixou de configurar uma tendência. Já era uma tendência antes do surgimento da pandemia e continua sendo. Muitas empresas e organizações já anunciaram que, após o fim da pandemia, boa parte dos seus colaboradores continuarão no trabalho remoto.

Gabarito: Errado

24. A vacinação tem contribuído para diminuir os efeitos negativos da pandemia, como o óbito dos infectados pelo coronavírus.

COMENTÁRIOS:

A vacinação tem contribuído para diminuir os efeitos negativos da pandemia, como o óbito dos infectados pelo coronavírus. É importante salientar que, mesmo vacinada, uma pessoa pode contrair o vírus. Todavia, na que recebeu a vacina, a chance de ser contaminada e contrair os sintomas em sua forma grave diminui consideravelmente. Os dados também demonstram que a grande maioria das pessoas que têm desenvolvido casos graves de coronavírus e ido a óbito é de não vacinados contra a covid-19.

Gabarito: Certo

25. Os impactos econômicos da pandemia de covid-19 atingiram tanto os países mais ricos quanto os mais pobres, mas, em todo o mundo, foram rapidamente superados pela retomada do crescimento da economia global após a vacinação em massa da população.

COMENTÁRIOS:

Os impactos econômicos da pandemia da covid-19 atingiram tanto os países mais ricos quanto os mais pobres. Com o fechamento das fronteiras, as importações e as exportações ficaram prejudicadas, o que diminuiu o comércio global no ano de 2020. O distanciamento social fez com que muitas atividades produtivas tivessem de ser paralisadas ou sofrerem redução, impactando tanto países ricos quanto pobres.

O incorreto é dizer que, em TODO O MUNDO, os impactos econômicos foram rapidamente superados pela retomada do crescimento da economia global após a vacinação em massa da população. Ao final de 2021, muitos países já tinham se recuperado economicamente, mas muitos outros países ainda estavam enfrentando dificuldades de recuperação econômica. O processo da vacinação também ocorre de forma desigual no mundo, concentrando-se principalmente nos países mais ricos e desenvolvidos. Fato que comprova isso é que os menores percentuais de cobertura vacinal estão na África, continente mais pobre do mundo.

Gabarito: Errado

26. Laboratórios farmacêuticos, centros de pesquisa e universidades contribuíram para o desenvolvimento de vacinas de combate ao vírus SARS-CoV-2, o que demonstra a importância do desenvolvimento tecnológico na atualidade em diferentes setores, com destaque para a saúde humana.



COMENTÁRIOS:

A velocidade com que laboratórios, instituições de pesquisa e organizações de saúde no mundo se mobilizaram para desenvolver um imunizante para o Coronavírus foi algo nunca visto antes na história. O sucesso no desenvolvimento dos imunizantes aos poucos tem conseguido controlar a pandemia. Isso demonstra a importância do desenvolvimento tecnológico na atualidade em diferentes setores, com destaque para a saúde humana.

Gabarito: Certo

(CEBRASPE/FUNPESP-EXE/2022 – ANALISTA) Em meio à circulação da variante Ômicron, países ricos e de média renda apressam a aplicação da dose de reforço das vacinas. Enquanto isso, os mais pobres têm menos de 10% de suas populações com uma dose e dependem de doações para acelerar a imunização. No entanto, 2022 começa com menos de 50% das vacinas prometidas entregues em 2021. Apenas pelo mecanismo Covax, criado pela Organização Mundial da Saúde (OMS), a meta era entregar 2 bilhões de doses doadas pelos países ricos às nações de baixa renda. Menos de 30% foram entregues.

O Estado de S. Paulo, 2/1/2022, p. A9 (com adaptações).

Tendo o texto acima como referência inicial e considerando aspectos marcantes do cenário mundial contemporâneo, julgue os itens seguintes.

27. Embora, ao longo da História, tenha havido vários surtos epidêmicos, como o da peste negra e da gripe espanhola, a covid-19 é considerada a primeira pandemia por que passou a humanidade.

COMENTÁRIOS:

O Coronavírus não é o primeiro vírus causador de uma pandemia na história da humanidade. A história não afirma de forma absoluta qual foi a primeira pandemia, mas registra que, em outros momentos, já ocorreram graves pandemias, como a gripe espanhola, mencionada pelo enunciado, e, mais recentemente, no século 21, a pandemia da gripe suína, causada pela gripe H1N1, que se espalhou por todos os continentes. Entre 2009 e 2010, houve de 1,6 milhão de casos da gripe confirmados pela OMS, mas estimativas apontam que o número de infectados pode ter sido de 700 milhões a 1,4 bilhão. Apesar disso, a mortalidade da doença foi baixa.

Gabarito: Errado

28. O avanço científico e as incessantes inovações tecnológicas, em larga medida responsáveis pela configuração da atual economia globalizada, foram decisivos para a rápida resposta, via vacinas, ao desafio trazido pelo coronavírus.

COMENTÁRIOS:

A configuração da atual economia globalizada é derivada do avanço científico e das incessantes inovações tecnológicas, que foram decisivas para a rápida resposta, via vacinas, ao desafio trazido pelo Coronavírus. O processo de desenvolvimento de um imunizante contou com o apoio e a colaboração de laboratórios e instituições de pesquisa em todo o mundo, em um ritmo de trabalho frenético, que fez com que a vacina contra o Coronavírus fosse desenvolvida em tempo recorde.



Gabarito: Certo

29. Independentemente de posições político-ideológicas, as autoridades governamentais mundo afora, como o francês Macron, a alemã Merckel e, sobretudo, o norte-americano Trump, compreenderam a gravidade da covid-19, aliaram-se à ciência e estimularam as respectivas populações a obedecer os protocolos sanitários para o adequado enfrentamento da pandemia.

COMENTÁRIOS:

A compreensão da gravidade da covid-19 não foi unânime entre as autoridades governamentais mundo afora. Alguns líderes mundiais, como Donald Trump, ex-presidente dos Estados Unidos, Jair Bolsonaro, do Brasil, Aleksandr Lukashenko, de Belarus, entre outros, minimizaram a gravidade da pandemia. São lideranças políticas de diferentes perfis político-ideológicos.

Esses líderes tiveram posturas que minimizaram a gravidade da covid-19, a importância da ciência e o cumprimento dos protocolos sanitários para o adequado enfrentamento da pandemia.

O ex-presidente norte-americano, Donald Trump, rejeitou publicamente, em vários momentos, a gravidade do Coronavírus e desencorajou a tomada de ações da população perante o espalhamento da doença, como o uso de máscara e o distanciamento físico.

Por suas ações frente à pandemia, o presidente foi duramente criticado. Para muitos analistas, sua má gestão da pandemia foi o fator que mais pesou para que o presidente não conseguisse se reeleger durante as eleições presidenciais de 2020, pois, não apenas o número de mortes foi muito elevado nos EUA, mas também a economia, que foi um dos pontos fortes de seu governo, sofreu um grande revés durante a emergência sanitária.

Já o presidente da França, Macron, e a ex-chancellor da Alemanha, Merckel, realizaram um intenso combate à propagação do vírus, aliando-se à ciência e defendendo os protocolos sanitários para o adequado enfrentamento da pandemia.

Gabarito: Errado

30. (QUADRIX/CFT/2021 – ASSISTENTE ADMINISTRATIVO) A tragédia da saúde no contexto da pandemia no Brasil teria sido muito maior se não fosse o atendimento público do Sistema Único de Saúde (SUS) e a atuação de instituições como o Instituto Butantã e a Fiocruz na produção de vacinas e medicamentos.

COMENTÁRIOS:

O Sistema Único de Saúde (SUS) teve papel fundamental no enfrentamento à pandemia de covid-19. A resposta do sistema à pandemia foi muito boa, com a ampliação de leitos de UTI e de enfermaria, a qualificação de seus profissionais e o aprimoramento do sistema de vigilância. O sistema atendeu a grande parte dos contaminados no país com sua capacidade máxima.

Também foi destaque a atuação do Instituto Butantã e da Fiocruz na produção de vacinas.



O Instituto Butantã, considerado o principal produtor de imunobiológicos do Brasil, firmou acordo com a farmacêutica chinesa Sinovac para a fabricação da Coronavac. O instituto trabalha também para a produção e desenvolvimento da vacina ButanVac.

Já a Fiocruz firmou acordo com a biofarmacêutica AstraZeneca para produzir, no Brasil, a vacina contra o Coronavírus desenvolvida pela Universidade de Oxford.

Ambos os institutos produziram vacinas em grandes quantidades e de forma rápida, permitindo uma acelerada imunização da população brasileira e uma vertiginosa diminuição no número de casos e mortes.

É fato que o sistema público de saúde, com a estrutura que tem o SUS e ter fábricas de vacinas, foi de grande valia para que os efeitos da pandemia não tivessem sido mais graves no Brasil.

Gabarito: Certo

31. (QUADRIX/CFT/2021 – JORNALISTA) O descumprimento da quarentena contra a disseminação do coronavírus e a prestação de informações sanitárias falsas por jogadores argentinos fez os agentes da Agência Nacional de Vigilância Sanitária (Anvisa) entrarem em campo durante uma partida de futebol entre Brasil e Argentina e interditem essa partida válida pelas eliminatórias da Copa de 2022.

COMENTÁRIOS:

Uma partida de futebol entre Brasil e Argentina válida pelas eliminatórias da Copa de 2022, que seria realizada no dia 5 de setembro de 2021, foi interrompida por agentes da Anvisa devido ao descumprimento de jogadores argentinos das medidas sanitárias contra a disseminação do Coronavírus.

O governo brasileiro publicou no dia 23 de junho uma portaria no Diário Oficial da União com mudanças nas restrições para a entrada de estrangeiros por via aérea provenientes do Reino Unido, Irlanda do Norte, África do Sul e da Índia. A decisão foi um reflexo do avanço da variante Delta do novo Coronavírus pelo mundo.

De acordo com as regras, ficou vedada a entrada no país de qualquer estrangeiro procedente ou com passagem pelo Reino Unido sem antes passar por uma quarentena de 14 dias.

Os atletas Emiliano Martinez, Emiliano Buendia, Giovanni Lo Celso e Cristian Romero informaram em formulário para a Anvisa que não estiveram no Reino Unido nos 14 dias anteriores à chegada ao Brasil. No entanto, estiveram presentes no compromisso de suas equipes entre 28 e 29 de agosto. Além de não poderem entrar no país, prestaram uma informação falsa às autoridades brasileiras. O desenrolar da situação terminou com a Anvisa interrompendo a partida de futebol e retirando os quatro jogadores de campo para que retornassem ao hotel em que estavam hospedados e ficassem em isolamento até a resolução da situação de permanência no Brasil.

Gabarito: Certo

(QUADRIX/CREFONO 4ª REGIÃO/2021 – ASSISTENTE ADMINISTRATIVO) O grande tema de 2020, em escala global, foi a pandemia da covid-19. A primeira morte causada pela doença foi anunciada em janeiro, em uma província chinesa. De lá para cá, o número de infectados e de mortes cresceu exponencialmente. Uma corrida para a produção de vacinas para enfrentar a pandemia envolveu países, instituições e cientistas. Paralelamente, a questão ambiental viu ampliada a sua presença na agenda do mundo contemporâneo.



Considerando o texto acima como referência inicial, julgue os itens a seguir.

32. A América, incluído o Brasil, permanece sendo uma das regiões do mundo menos afetadas pela pandemia.

COMENTÁRIOS:

A América foi a região mais afetada pela pandemia. Estados Unidos e Brasil são, respectivamente, os dois países que registraram o maior número de mortes (setembro de 2021), e ambos estão localizados no continente americano.

O México é o 4º país com o maior número de mortes. Peru, Colômbia e Argentina estão na lista dos 15 países com o maior número de mortes. O Peru é o país com o maior número de mortes por milhão de habitantes. Todos esses também são países que estão no continente americano.

Gabarito: Errado

33. No Brasil, a pandemia evidenciou, nos mais diversos níveis, a solidez e a capacidade de atendimento do sistema público de saúde do País.

COMENTÁRIOS:

A pandemia não evidenciou a solidez e a capacidade do sistema público de saúde. Ainda que tenha tido papel fundamental no combate à doença, o sistema público de saúde não estava completamente preparado para enfrentar uma possível pandemia. Foi necessária uma ampliação emergencial temporária de sua estrutura, com a criação de hospitais de campanha para ofertar mais vagas. Nos momentos mais críticos da pandemia, o sistema ficou superlotado, para além de sua capacidade de atendimento, com pessoas esperando vagas em leitos de UTI, falta de ventilação mecânica, entre outros aspectos.

Gabarito: Errado

34. O isolamento social também foi adotado pelo Brasil para enfrentar a covid-19, mas templos religiosos e escolas mantiveram-se abertos e em pleno funcionamento.

COMENTÁRIOS:

O isolamento social foi adotado no Brasil para enfrentar a covid-19. As escolas ficaram fechadas a maior parte do tempo, sendo reabertas somente após o segundo semestre de 2021. O fechamento dos templos religiosos foi uma questão polêmica, inclusive julgada pelo STF, que decidiu, no mês de abril de 2021, que estados e municípios poderiam restringir cultos e missas durante a pandemia.

Gabarito: Errado

35. A coordenação mundial do monitoramento e do combate à pandemia ficou a cargo da Organização Mundial de Saúde (OMS), uma agência especializada da Organização das Nações Unidas (ONU).

COMENTÁRIOS:



A Organização Mundial da Saúde (OMS), uma agência especializada da ONU, coordenou ações de monitoramento e de combate à pandemia, sobretudo, na busca por medicamentos e vacinas contra a doença, integrando grupos de pesquisa em diversos países do mundo.

Gabarito: Certo

(QUADRIX/CREFONO 4ª REGIÃO/2021 – FONOAUDIÓLOGO FISCAL) Relativamente ao cenário mundial da atualidade, julgue o item a seguir.

36. O enfrentamento da atual pandemia da covid-19, paradoxalmente, não tem contado com o concurso da ciência, talvez pelo fato de não haver interesse dos grandes grupos financiadores de pesquisa em investir na saúde.

COMENTÁRIOS:

O enfrentamento da pandemia da covid-19 contou com o papel imprescindível da ciência. A comunidade científica internacional se mobilizou como nunca antes na história para enfrentar a doença. A velocidade do processo de busca de uma vacina para a covid-19 superou tudo o que já foi visto até hoje na área de desenvolvimento de imunizantes, normalmente um processo demorado e trabalhoso, que envolve várias rodadas de testes em animais e avaliações de toxicidade antes das três fases obrigatórias de testes com pessoas.

Houve muito interesse de grandes grupos financiadores de pesquisa para investir na saúde, uma vez que o enfrentamento da pandemia também representou uma vitória geopolítica, na medida em que as economias nacionais que largaram na frente do combate ao vírus conseguiram recuperar suas economias com mais rapidez.

Gabarito: Errado

37. (VUNESP/PREFEITURA DE FERRAZ DE VASCONCELOS-SP/2021 - ASSISTENTE SOCIAL) O Instituto Butantã de São Paulo está desenvolvendo outra vacina (Butanvac) contra o Covid 19 usando a mesma plataforma da vacina da influenza, ou seja, a Butanvac empregará a mesma tecnologia utilizada no imunizante da gripe. Todos os processos produtivos, desde a qualificação dos ovos embrionados até o envase serão realizados pelo Butantã. Entretanto, o vetor usado pela vacina tem origem em tecnologia desenvolvida por um instituto

(Ig. Disponível em <https://bitly.com/iQrxl>. Acesso em 02.03.2021. Adaptado)

- A) chinês.
- B) estadunidense.
- C) inglês.
- D) russo.
- E) indiano.



COMENTÁRIOS:

A Butanvac é uma vacina contra a COVID-19, desenvolvida pelo Instituto Butantan. A vacina usa o vírus da doença de NewCastle, desenvolvido por cientistas nos Estados Unidos na *Icahn School of Medicine no Mount Sinai* em Nova York. A proteína S estabilizada do vírus SARS-Cov-2, utilizada na vacina com tecnologia HexaPro, foi desenvolvida na Universidade do Texas em Austin.

Gabarito: B

38. (VUNESP/PREFEITURA DE FERRAZ DE VASCONCELOS/GUARDA MUNICIPAL – 2020) Neste sábado, 13, o governo anunciou que em setembro começará a produzir grandes lotes de uma vacina contra a covid-19. “Os testes clínicos serão realizados em julho, o registro estatal em agosto e a produção começará em setembro”, disse Tatyana Golikova, vice-primeira-ministra, em entrevista coletiva. De acordo com o Kremlin, 50 soldados – 45 homens e cinco mulheres – ofereceram-se para participar dos testes clínicos. O Centro Nacional de Investigação em Epidemiologia e Microbiologia Gamalei, que trabalha em cooperação com o Ministério da Defesa, será o responsável pela produção.

(Veja. <https://cutt.ly/VfRlXmO>. Publicado em 13.06.2020. Adaptado)

De acordo com a notícia, o anúncio sobre a produção de vacina contra a covid-19 foi feito

- (A) pelos E.U.A.
- (B) pela Inglaterra.
- (C) pela China.
- (D) pela Rússia.
- (E) pela Itália.

COMENTÁRIOS:

O anúncio sobre a produção da vacina contra a covid-19 foi feito pela Rússia. A questão traz uma dica importante quando cita o Kremlin, que é um termo utilizado para se referir à casa do governo da Rússia.

A Rússia foi o primeiro país a anunciar o registro de um imunizante contra a covid-19 e a vacinação de sua população. Quando do anúncio do registro, os testes não estavam concluídos e a vacina não recebeu o respaldo internacional dos cientistas.

Gabarito: D

(QUADRIX/CRB-1/2020 – BIBLIOTECÁRIO FISCAL) “Desmatador não faz home office”, alerta o biólogo Paulo Moutinho, que é cientista sênior do Instituto de Pesquisa Ambiental da Amazônia (Ipam); ele diz que ações ilegais avançam na floresta enquanto o governo reduz operações durante a pandemia do coronavírus.

Internet: <<https://epoca.globo.com>> (com adaptações).



Tendo o texto acima apenas como referência inicial e refletindo sobre temas correlatos, julgue os itens.

39. As populações indígenas da Amazônia, em decorrência de um relativo isolamento geográfico, não foram afetadas pelo novo coronavírus.

COMENTÁRIOS:

Mesmo com o relativo isolamento geográfico, as populações indígenas da Amazônia foram afetadas pelo coronavírus. Mais de 25 mil indígenas, de várias comunidades, testaram positivo para a Covid-19, e algumas centenas de mortes foram registradas, segundo a Articulação dos Povos Indígenas do Brasil, Apib (dados do mês de agosto de 2020).

As diferenças no perfil epidemiológico de povos indígenas, somadas ao distanciamento dos centros de saúde, faz com que sejam ainda mais vulneráveis à doença.

Gabarito: Errado

40. Trabalhadores informais, os que mais sofreram redução de renda durante a pandemia do novo coronavírus, são maioria entre os que aderiram ao home office.

COMENTÁRIOS:

A crise econômica decorrente da pandemia do novo coronavírus colapsou diversos setores do mercado de trabalho, diminuiu a renda média do brasileiro e gerou centenas de milhares de novos desempregados.

Os trabalhadores informais foram os mais afetados e os que mais sofreram redução de renda, conforme mostraram dados da Pesquisa Nacional por Amostra de Domicílios (PNAD). Também foi no setor informal que ocorreu o maior número de postos de trabalho encerrados.

Pela natureza de seu trabalho, os informais geralmente são os mais afetados em épocas de crise, devido à precariedade dos seus direitos trabalhistas.

Caso um trabalhador informal seja despedido, ele ficará sem acesso ao FGTS (Fundo de Garantia do Tempo de Serviço) e sem acesso ao seguro-desemprego. Da mesma forma, se um trabalhador informal fica doente ou precisa ficar em quarentena por ter tido contato com alguém que foi contagiado, ele não tem garantias legais, como licença médica remunerada.

Assim, os trabalhadores informais ficam sem acesso à rede de proteção social que os empregados formais têm. Para quem trabalha sem carteira de trabalho assinada, perder o emprego significa basicamente ficar sem renda e sem benefícios, possivelmente tendo de limitar seu consumo. Isso significa que o trabalhador informal foi o que ficou mais vulnerável aos efeitos negativos da crise econômica decorrente da pandemia.

Trabalhadores informais, em sua grande maioria, não tiveram como recorrer ao home office. Esse recurso foi utilizado basicamente por trabalhadores formais e de serviços de escritório.

Gabarito: Errado



41. Há controvérsias, entre os especialistas, a respeito de se as vantagens e os benefícios recebidos pelos trabalhadores em condições normais, como o auxílio-alimentação, podem ser suspensos caso a empresa opte pelo sistema de teletrabalho.

COMENTÁRIOS:

O teletrabalho, popularmente conhecido como home office, ainda é uma modalidade de trabalho recente no país. Contudo, frente aos avanços tecnológicos, o teletrabalho tende a se tornar cada vez mais comum. É um processo que está se desenvolvendo aos poucos, em fase de transição. Com a pandemia, esse processo foi acelerado, frente às necessidades de distanciamento social.

Mas ocorre que ainda não há uma legislação extensa, detalhista e bem organizada sobre os termos do teletrabalho, como ocorre com outras formas de trabalho.

A Lei nº 13.467, de 13 de julho de 2017, alterou a Consolidação das Leis do Trabalho (CLT), incluindo nela a nova disciplina do teletrabalho. Contudo, seus termos são abreviados, necessitando de aprofundamento. Além disso, a Justiça do Trabalho ainda não atuou com muitos casos de teletrabalho para fornecer um panorama concreto sobre o tema. É uma lacuna que deve ser preenchida dentro da legislação trabalhista.

Desta forma, há muitas controvérsias, entre os especialistas, a respeito das vantagens e benefícios recebidos pelos trabalhadores em condições em relação aos trabalhadores que optam pelo sistema de teletrabalho. Muitas questões se inserem nesse debate, que certamente se aprofundará ao longo dos próximos anos. Ao passo que se aponta o não pagamento de vale-alimentação, por exemplo, também se discute sobre o custeio de aparelhos eletrônicos, como um computador, e internet, que são utilizados no teletrabalho.

Durante a pandemia, a decisão ficou a cargo individual de cada empresa ou por meio de acordos feitos entre o trabalhador e o empregador.

Gabarito: Certo

42. Segundo especialistas, o sistema de home office, criado durante a pandemia, é apenas uma fase passageira no mercado de trabalho e deverá sofrer substancial redução após o controle do novo coronavírus.

COMENTÁRIOS:

A pandemia de coronavírus trouxe à tona e acelerou vertiginosamente alguns processos que ocorriam de forma lenta no mundo. Uma dessas alterações drásticas diz respeito ao trabalho nos escritórios, com a adoção do home office para equacionar a produtividade durante o período de distanciamento social. O home office passou a ser aplicado em boa parte das empresas e também no serviço público, e, em muitos casos, tem funcionado bem. Sua utilização já era crescente no Brasil e no mundo todo, mas aumentou intensamente devido à pandemia, sendo apontado como uma tendência que veio para ficar.

Existe a possibilidade de que, ao se obter pleno controle do coronavírus, o home office diminua e o trabalho presencial retorne as atividades. Contudo, muitas empresas também continuarão adotando esse sistema. Não é uma fase passageira. É um novo paradigma do mercado de trabalho e do mundo moderno.

Gabarito: Errado



(QUADRIX/CRB-1/2020 – BIBLIOTECÁRIO FISCAL) Um vírus é bem mais poderoso que qualquer um de nós, embora alguns posem de super-heróis. Nenhuma ação isolada resolve um problema coletivo, embora cada um de nós seja responsável por tudo e por todos, lição que Dostoiévski nos deu muito antes do coronavírus – aliás, está aí um daqueles projetos para se colocar em prática: ler o escritor russo na quarentena.

Internet: <<https://www.greenme.com.br>> (com adaptações).

Acerca das consequências da pandemia do novo coronavírus para o mundo e para o Brasil, julgue os itens.

43. Imagens de satélites mostraram uma diminuição da poluição atmosférica em várias regiões do mundo, relacionada à desaceleração econômica provocada pela pandemia.

COMENTÁRIOS:

Com base em imagens de satélites e outras tecnologias de monitoramento, diversos centros de pesquisas ao redor do mundo constataram que houve diminuição da poluição atmosférica, em função da desaceleração das atividades econômicas, relacionados, sobretudo, à menor atividade industrial e à diminuição na utilização de automóveis. O dióxido de nitrogênio (NO₂), emitido pela combustão dos motores à explosão, foi um dos compostos que mais apresentou reduções desde o início das quarentenas.

Essa redução foi temporária e ocorreu em várias regiões do mundo, durante vários meses do ano de 2020.

Gabarito: Certo

44. No dia 16 de março último, ocorreu, no Brasil, a primeira morte pelo novo coronavírus, no estado de São Paulo, sendo a vítima um homem sem histórico de viagem ao exterior.

COMENTÁRIOS:

Inicialmente, foi amplamente divulgado que a primeira morte pelo coronavírus em território brasileiro ocorreu no dia 16 de março, no estado de São Paulo. A vítima foi um homem de 62 anos que tinha histórico de diabetes e hipertensão. Ele não possuía histórico de viagem ao exterior.

Contudo, após uma análise de exames laboratoriais realizada pelo Ministério da Saúde, o órgão confirmou, durante o mês de junho, que a primeira morte devido ao novo coronavírus no Brasil aconteceu em **12 de março** – e não em 16 de março, como se acreditava. A vítima foi uma paciente de 57 anos em São Paulo.

Gabarito: Errado

45. Diversas autoridades brasileiras, como o presidente do Senado, governadores e ministros de Estado, estão entre as pessoas que contraíram o novo coronavírus.

COMENTÁRIOS:

Diversas autoridades brasileiras como governadores, ministros, senadores e deputados contraíram o novo coronavírus. O presidente do Senado, Davi Alcolumbre, testou positivo para a Covid-19 no mês de março de 2020, mas se recuperou sem problemas. O presidente da Câmara dos Deputados, Rodrigo Maia, foi outra autoridade que contraiu o vírus e adoeceu de Covid-19. Entre os governadores, Wilson Witzel, governador



temporariamente afastado do Rio de Janeiro, foi o primeiro a divulgar que estava contaminado, no dia 14 de abril.

O presidente Jair Bolsonaro testou positivo para o novo coronavírus e ficou em isolamento por dezenove dias no mês de julho de 2020.

Gabarito: Certo

46. Um livro publicado nos Estados Unidos, em 1981, trazia, em sua primeira edição, a possibilidade de surgimento de um vírus em 2020, na cidade de Wuhan, na China, com características de letalidade e transmissão idênticas às do novo coronavírus.

COMENTÁRIOS:

A questão é uma grande invenção do examinador, não há nenhum livro publicado nos Estados Unidos em 1981 que trazia a possibilidade de surgimento de um vírus em 2020 na China.

Há muitas teorias da conspiração e notícias falsas sobre as origens do coronavírus. Contudo, a hipótese mais aceita e para qual as evidências apontam é de que o seu surgimento foi natural, isto é, o vírus surgiu na natureza e foi transmitido de animais silvestres para humanos – algo bem comum e frequente ao longo da história humana.

Gabarito: Errado

47. Em março último, o presidente norte-americano, Donald Trump, acusou o governo alemão de tentar se apropriar de um projeto de vacina desenvolvido por uma empresa dos Estados Unidos contra o novo coronavírus.

COMENTÁRIOS:

No mês de março de 2020, o que ocorreu foi justamente o contrário do que afirma a questão. O examinador trocou os fatos.

O governo da ex-chanceler alemã, Angela Merkel, acusou o governo do ex-presidente americano Donald Trump de tentar se apropriar de um projeto de vacina contra o coronavírus desenvolvido por um laboratório da Alemanha.

Gabarito: Errado

48. (IBAM/PREFEITURA DE SANTOS/2020 – OFICIAL ADMINISTRATIVO) Leia atentamente as informações contidas nos itens a seguir.

I. Alguns analistas avaliam que a epidemia de coronavírus, em virtude de seus efeitos na economia global, deve contribuir para a desaceleração da atividade no Brasil.

II. O Coronavírus pertence a uma família de vírus que infectam apenas seres humanos; os animais são imunes a infecção viral.



III. Apesar do alarde da imprensa, a Organização Mundial de Saúde (OMS) já anunciou que o coronavírus só é preocupante na China, não configurando um caso de “emergência de saúde pública internacional.

IV. No final de dezembro de 2019, a Organização Mundial de Saúde (OMS) foi alertada sobre vários casos de pneumonia em Wuhan, na China. O vírus parecia desconhecido, mas, poucos dias depois, as autoridades confirmaram a identificação de um novo coronavírus.

Considerando o noticiado pela imprensa em geral sobre o coronavírus, podemos considerar correto o anotado:

- a) nos itens I e III, apenas.
- b) nos itens I e IV, apenas.
- c) nos itens II e IV, apenas.
- d) no item II, apenas.

COMENTÁRIOS:

I - Correto. A pandemia do novo coronavírus, que surgiu em dezembro de 2019, na China, infectou milhões de pessoas ao redor do mundo. O impacto da doença se refletiu também na atividade econômica global.

Na China, devido aos efeitos da quarentena, houve paralisação em atividades de empresas e indústrias. Além disso, há também os efeitos nas exportações e importações, que diminuíram seu ritmo. A China é um importante comprador de commodities brasileiras e também relevante fornecedor para a indústria local, especialmente a de produtos eletroeletrônicos. Isso impactou diretamente a economia brasileira.

Em razão da pandemia de coronavírus, a economia global teve crescimento negativo em 2020, entrando recessão. Em um mundo onde a economia está profundamente conectada, o coronavírus causou impactos econômicos em todo o planeta.

II - Incorreta. Os coronavírus são uma grande família viral. Eles são considerados zoonóticos, ou seja, são transmitidos entre os animais e pessoas, causando infecções respiratórias em ambos. Animais não são imunes aos coronavírus.

III - Incorreta. O coronavírus é preocupante em outros países, não somente na China. Foram registrados casos em praticamente todos os países, com milhões de mortes fora do território chinês. Em razão dos seus desdobramentos, em janeiro de 2020, a Organização Mundial da Saúde (OMS) declarou **emergência de saúde pública de interesse internacional**. Contudo, com o contínuo avanço do vírus pelo mundo, em março de 2020, a OMS declarou pandemia de coronavírus.

IV - Correta. Em dezembro de 2019, uma pneumonia de causas desconhecidas começou a se espalhar por Wuhan, uma metrópole da região central da China com cerca de 11 milhões de habitantes, capital da província de Hubei. Por meio de estudos, descobriu-se que os sintomas eram causados por um novo tipo de coronavírus.

Gabarito: B



49. (IBADE/IDAF-AC/2020 – TÉCNICO EM DEFESA AGROPECUÁRIA E FLORESTAL) Autoridades sanitárias da China confirmaram neste sábado (18 de janeiro), quatro novos casos da misteriosa pneumonia viral detectada (...), na região central do país. O surto da doença, iniciado em dezembro, é causado por um tipo de coronavírus semelhante ao da Síndrome Respiratória Aguda Grave (Sars).

(G1, 18/01/2020. Disponível em: < [https:// glo.bo/3bhs4c2](https://glo.bo/3bhs4c2)>. Adaptado)

O surto da misteriosa doença teve início na cidade de:

- (A) Pequim.
- (B) Wuhan.
- (C) Xangai
- (D) Dongguan
- (E) Nanjing

COMENTÁRIOS:

O surto da Covid-19, doença causada por um novo tipo de coronavírus, teve início na cidade de Wuhan, capital da província chinesa de Hubei.

Gabarito: B

50. (IBADE/IDAF-AC/2020 – ENGENHEIRO AGRÔNOMO) A OMS (Organização Mundial da Saúde) divulgou nesta terça-feira (14) que a Tailândia registrou o primeiro caso do novo coronavírus que já causou uma morte e deixou dezenas de doentes na China.

(R7, 14/01/2020. Adaptado)

Sobre o novo tipo de coronavírus é possível afirmar:

- (A) são uma família de vírus com taxa de letalidade maior que a Síndrome Respiratória Aguda Grave (SARS).
- (B) apesar do maior número de casos ter sido registrado na China, especialistas apontam que sua origem é a Índia.
- (C) são uma família viral conhecida e que costumam causar infecções respiratórias de leve a moderada em seres humanos, muito semelhantes a resfriados.
- (D) a OMS informou que a maioria dos casos confirmados foram de pessoas que não se vacinaram contra o vírus.
- (E) a OMS informa que é possível combater rapidamente a epidemia pelo fato de o vírus não apresentar variações genéticas.



COMENTÁRIOS:

- a) **Incorreto.** A Covid-19, doença causada pelo novo coronavírus, apresenta taxa de letalidade menor que a Síndrome Respiratória Aguda Grave (SARS). Entretanto, causa um número mais elevado de mortes, sobretudo devido ao fato de sua taxa de transmissão ser muito maior do que o SARS.
- b) **Incorreto.** A origem do novo coronavírus foi a cidade de Wuhan, na China.
- c) **Correto.** Os coronavírus são uma família viral conhecida e que costumam causar infecções respiratórias de leve a moderada em seres humanos, muito semelhantes a resfriados.
- d) **Incorreto.** À época dessa questão, ainda não havia uma vacina que prevenisse do coronavírus. Por isso, a alternativa estava incorreta. Todos os casos que estavam sendo confirmados eram de pessoas que não se vacinaram, pois não havia uma vacina. A primeira vacina com estudos concluídos a ser aplicada foi a Pfizer, no dia 8 de dezembro de 2020, no Reino Unido.
- e) **Incorreto.** Não tem sido rápido o combate ao SARS-CoV-2. Devido a sua alta taxa de transmissão e capacidade de disseminação, tem sido muito difícil combatê-lo em todo o mundo. O vírus apresentou diversas variações genéticas, conhecidas como variantes.

Gabarito: C



LISTA DE QUESTÕES – MIGRAÇÕES – MULTIBANCAS

1. (FCC/PM BA/2023) A grave crise humanitária que se abate sobre o país asiático provocou um novo fluxo migratório de afegãos para diversas partes do mundo, inclusive o Brasil, que também tem recebido muitos refugiados.

(Disponível em: <https://www12.senado.leg.br>)

Em relação à atual situação dos refugiados no planeta, está correto o que se afirma em:

- a) Pesadas medidas de restrição na Europa têm aumentado o fluxo de refugiados para países emergentes do Sul.
- b) Índia e Estados Unidos aparecem como os principais destinos de refugiados oriundos do continente africano.
- c) A China tem o maior contingente de evasão de refugiados devido ao alto desemprego e perseguições políticas.
- d) O Canadá tem, desde 2020, suas fronteiras abertas para os mexicanos no intuito de estimular o crescimento demográfico canadense.
- e) Têm diminuído os movimentos migratórios em nível mundial.

2. (FEPESE/PREFEITURA DE BALNEÁRIO CAMBORIÚ-SC/2023) Atualmente milhões de pessoas vivem fora de seu país de origem, sendo estes imigrantes ou refugiados.

Assinale a alternativa correta em relação ao assunto.

- A) Sendo a maior potência econômica do mundo, os Estados Unidos são o destino de milhares de refugiados, os quais tentam ultrapassar suas fronteiras muitas vezes de forma ilegal.
- B) Os refugiados são acolhidos em todos os países da América do Sul, não apresentando dificuldades durante seu processo de instalação.
- C) No geral, refugiados vivem em bairros periféricos e trabalham em empregos precários; porém, sua grande maioria possui nível superior.
- D) No Brasil, o número de refugiados é mínimo, tendo em vista que as fronteiras brasileiras são fiscalizadas diariamente.
- E) Não há refugiados em países subdesenvolvidos e emergentes.

3. (FUNDEP/PREFEITURA DE LAVRAS-MG/2023) “São pessoas que estão fora de seu país de origem devido a fundados temores de perseguição relacionados a questões de raça, religião, nacionalidade, pertencimento a um determinado grupo social ou opinião política, como também devido à grave e generalizada violação de direitos humanos e conflitos armados.”



Disponível em: <https://www.acnur.org/portugues/quem-ajudamos/refugiados/>. Acesso em: 29 jul. 2022.

O texto se refere a

- A) emigrantes.
- B) refugiados.
- C) deslocados internos.
- D) migrantes.

4. (VUNESP/EPC/2023) Fugindo de grupos radicais, dezenas de refugiados continuam chegando diariamente ao Aeroporto Internacional de Guarulhos (SP), na região metropolitana de São Paulo. Unidos com o visto humanitário, muitos deles entram no Brasil e, sem conseguir ajuda para a moradia ou trabalho, acabam montando acampamento no aeroporto. Ontem (25 out.), quando a reportagem da Agência Brasil visitou o aeroporto, uma centena deles continuava fazendo do Terminal 2 sua moradia.

(Diário de Pernambuco. <https://bit.ly/3lqlDMI>. 26.10.2022)

A notícia faz referência aos refugiados vindos

- A) da Índia.
- B) da África do Sul.
- C) do Líbano.
- D) do Afeganistão.
- E) do Egito.

5. (FEPESE/PREFEITURA DE CHAPECÓ/2022) De acordo com notícia publicada pela Rádio Agência Nacional, dia 20 de junho, passado, foi comemorado o Dia Mundial do Refugiado.

Analise as afirmativas abaixo em relação ao assunto.

1. “O número de deslocados por guerras, violência, perseguições e abusos de direitos humanos no mundo alcançou este ano a marca inédita de 100 milhões de pessoas.”
2. Esse ano, o tema definido pela ACNUR (Agência da ONU para Refugiados) foi: “Seja quem for, seja quando for, seja onde for: todas as pessoas têm direitos a buscar proteção”.
3. A invasão da Ucrânia pela Rússia e outras emergências humanitárias elevaram o número de refugiados mundiais, pela primeira vez, à casa dos três dígitos.

Assinale a alternativa que indica todas as afirmativas corretas.



- A) É correta apenas a afirmativa 2.
- B) São corretas apenas as afirmativas 1 e 2.
- C) São corretas apenas as afirmativas 1 e 3.
- D) São corretas apenas as afirmativas 2 e 3.
- E) São corretas as afirmativas 1, 2 e 3.

6. (QUADRIX/CREMERO/2022) Mais de uma década após a Primavera Árabe, e mesmo depois da pandemia de covid-19, o deslocamento forçado na Síria é a adversidade que gerou o maior número de refugiados no mundo.

7. (QUADRIX/CAU-SC/2022 – ADVOGADO) O Pacto Mundial para a Migração das Nações Unidas foi aprovado formalmente em 2018, em Marrakech, no Marrocos, em uma conferência intergovernamental que reuniu quase 160 países. Itália, Austrália, Israel e vários países da Europa Central, contudo, retiraram-se do pacto nas últimas semanas, enquanto os Estados Unidos da América (EUA) se opuseram ao acordo desde o início. As nações temiam que o pacto representasse perda de soberania e se preocupavam com a falta de distinção entre imigração legal e ilegal no rascunho do compromisso final.

Internet: <<https://veja.abril.com.br>> (com adaptações).

No que diz respeito à crise migratória internacional que atinge o planeta, assinale a alternativa correta.

- (A) A crise de refugiados no mundo deve-se unicamente às desigualdades socioeconômicas do continente africano em relação aos demais continentes do mundo.
- (B) O conceito de refugiado limita-se ao migrante que parte para um país desenvolvido em busca de emprego e renda, por ter sido expulso pela precariedade social.
- (C) A rota migratória em que há a maior quantidade de mortes é a do mar Mediterrâneo, na qual os imigrantes se arriscam em embarcações precárias e, em muitos dos casos, morrem à deriva ou afogados.
- (D) A maior parte da migração internacional na atualidade dá-se por causa de guerras e perseguições às populações consideradas minorias em seus países de origem.
- (E) A guerra na Ucrânia devido à invasão da Rússia, conflito que perdura há seis meses, gerou o maior número de refugiados da história recente do mundo.

8. (QUADRIX/CRP-10/2022 – ASSISTENTE ADMINISTRATIVO) Guerras, perseguições políticas, fome e intolerância religiosa estão entre as causas que explicam os milhares de migrantes e refugiados pelo mundo afora.

(QUADRIX/CRECI-RO/2022 – FISCAL) Nos dias atuais, as mudanças ocorrem rápida e profundamente. As transformações acontecem dia após dia, atingindo os mais variados setores. Considerando esse cenário tão dinâmico, tanto no Brasil quanto no mundo, julgue o item.



9. O fim das perseguições políticas e religiosas, das guerras e das condições de miséria profunda é o que explica o baixo número de migrantes e refugiados no mundo de hoje.

(CEBRASPE/CBM-AL/2021 – SOLDADO) Embora as manchetes dos jornais possam indicar outra coisa, somente 3% dos mais de 7 bilhões de habitantes do planeta são migrantes internacionais, isto é, pessoas que vivem fora do país onde nasceram. Vivemos em uma época na qual a proporção de pessoas ricas (e idosas) é cada vez menor em contraposição a uma presença cada vez maior de pessoas pobres (e jovens). As pressões migratórias crescem sem parar em consequência das desigualdades internacionais e de conflitos insolúveis, e os países mais desenvolvidos se veem diante de uma encruzilhada decisiva em termos demográficos e de trabalho.

Internet: (com adaptações).

Acerca do atual processo migratório em escala mundial, julgue os próximos itens.

10. O principal motivo das migrações internacionais de maior volume são os conflitos étnicos e religiosos, devido ao crescimento contemporâneo do fundamentalismo em escala planetária.

11. A política europeia de condução das migrações socioeconômicas da atualidade acontecidas no mar Mediterrâneo ainda reflete um pensamento originado no colonialismo e no neocolonialismo europeus.

12. O Brasil atualmente é o país de maior destaque na rota de imigrantes ilegais do continente americano.

13. (QUADRIX/CREFONO 4ª REGIÃO/2021 – ASSISTENTE ADMINISTRATIVO) Na atualidade, fortes correntes migratórias vinculam-se à necessidade de fugir de guerras e de perseguições políticas e religiosas e à busca de sobrevivência de grupos humanos que vivem em áreas de pobreza extrema.

14. (QUADRIX/CREFONO 4ª REGIÃO/2021 – ASSISTENTE ADMINISTRATIVO) Responsável pela colonização da África e de algumas regiões asiáticas, a Europa, em sua totalidade, tem acolhido bem os milhares de imigrantes que nela procuram refúgio.

(QUADRIX/CRN 9/2019 – AUXILIAR OPERACIONAL) Mais de quinhentos migrantes chegaram à ilha grega de Lesbos, na costa próxima à Turquia, “um aumento sem precedentes”, indicou uma fonte diplomática grega no dia 30 de agosto de 2019. Os migrantes viajaram em treze navios e, entre eles, havia 240 crianças, segundo autoridades locais e ONGs. Foram transferidos para o campo de Moria, onde “quase 11.000 pessoas estão aglomeradas, quando a capacidade é de apenas 3.000”, disse a ONG Médicos Sem Fronteiras (MSF).

Internet: <<https://istoe.com.br>> (com adaptações).

Tendo o texto acima apenas como referência inicial e refletindo sobre temas correlatos, julgue os itens.

15. Ceuta e Melilla, territórios espanhóis na África, são os únicos pontos em que se pode chegar, da África à Europa, por via terrestre.

16. A Europa, região próspera próxima à África, tornou-se naturalmente o objetivo prioritário dos imigrantes que fogem de guerras e da fome.



17. A xenofobia – aversão a estrangeiros – acentuou-se no discurso de autoridades de alguns países europeus, sendo os governantes da Itália e da Hungria as raras exceções.
18. Organizações não governamentais, como a citada no texto, têm desempenhado um papel crucial na ajuda a refugiados no mar Mediterrâneo.
19. (CEBRASPE/TJDFT/2019) A respeito das imigrações internacionais, julgue os itens a seguir.

I – A imigração internacional resulta da insatisfação econômica e é também consequência de situações de conflito civil.

II – Muitas das restrições impostas à imigração resultam do receio do impacto cultural que o recebimento de estrangeiros pode provocar em determinadas culturas, além dos possíveis impactos econômicos e sociais.

III – Por ser uma questão humanitária, a imigração internacional é tratada no âmbito dos direitos humanos sem gerar grandes controvérsias na política internacional.

IV – Apesar de não adotar políticas restritivas, o Brasil não é um país de interesse para os imigrantes, sendo os maiores fluxos de imigrantes destinados aos países europeus.

Estão certos apenas os itens

- a) I e II.
- b) I e III.
- c) III e IV.
- d) I, II e IV.
- e) II, III e IV.

(LEANDRO SIGNORI/PC DF – SIMULADO/2019) Acerca das migrações internacionais, julgue os itens a seguir.

20. Os imigrantes internacionais, de maneira geral, são bem-vindos nos países desenvolvidos.
21. A globalização tem facilitado as migrações, tanto pela redução do custo dos transportes quanto pela expansão da utilização da internet e das telecomunicações.
22. Em geral, as exigências e o controle sobre a imigração são menores para a mão de obra de baixa e média qualificação, pois, geralmente, imigrantes recebem salários menores do que os nacionais dos seus países, o que diminui o custo de mão de obra de empresas dos países de destino.
23. (CEBRASPE/PM AL/2018 – SOLDADO - ADAPTADA) Milhares de imigrantes, sobretudo africanos, que atravessam o mar Mediterrâneo têm recebido integral apoio de governos europeus do Leste, que os têm acolhido sem reservas.



24. (CEBRASPE/PM AL/2018 – SOLDADO - ADAPTADA) Em geral, as atuais correntes migratórias são formadas por pessoas com alta qualificação educacional e técnica, em busca de salários mais altos.

25. A Copa do Mundo da FIFA – Rússia 2018 demonstrou que o futebol também se globalizou, mas não o suficiente para aceitar que atletas de origem familiar estrangeira, como os afrodescendentes, pudessem integrar seleções europeias.

(CEBRASPE/MP PI/2018 – TODOS OS CARGOS)



Em um mundo globalizado, nada mais natural que inúmeras equipes de futebol atuem, na Copa do Mundo, com um número considerável de jogadores naturalizados. Contudo, se há alguma seleção que represente a mistura entre povos de origens distintas, essa é a da França. Finalista do Mundial da Rússia de 2018, a seleção francesa é praticamente um apanhado de etnias diferentes, com atletas não só descendentes de etnias, classes e religiões variadas, mas até mesmo nascidos em outros países. Em suma, um retrato fiel da heterogeneidade que marca a própria França. Fernando Barros.

Folha de Pernambuco, 15/7/2018. Internet: (com adaptações).

Tendo como referência a imagem e o assunto abordado no texto, julgue os itens subsequentes.

26. Depreende-se da figura apresentada uma alusão à relação diplomática e anticolonialista da França com imigrantes de suas ex-colônias.

27. A mobilidade demográfica ilustrada na figura se justifica pelas mesmas razões do problema migratório que perdura na Síria.

28. Um país que sedia uma copa do mundo vivencia a experiência de tornar-se um espaço multiétnico temporário.

(QUADRIX/CFBio/2018 – TÉCNICO EM TI) Cada vez mais, nesta Copa do Mundo, torna se evidente: a globalização do futebol é uma realidade. Basta ver como as equipes europeias tradicionais incluem jogadores originários de famílias de outros países, sobretudo árabes ou africanos. O mesmo ocorre no campo da cultura, das artes e do espetáculo. Esse panorama confirma que a revolução tecnológica trouxe mais informação, interação e conhecimento mútuo, mas também é característico de um momento da

História em que as viagens são mais viáveis e não dá para segurar a vontade de subir na vida e ter melhores condições de sobrevivência.

Ana Maria Machado. Desespero e migrações. In: O Globo, 7/7/2018, p. 12 (com adaptações).

Tendo o fragmento de texto acima como referência inicial e considerando a amplitude do tema por ele focalizado, a globalização, elemento marcante e definidor dos tempos atuais, julgue os itens.

- 29. Nos últimos anos, intensificaram-se as correntes migratórias vindas, sobretudo, da África e do Oriente Médio em direção à Europa, onde têm sido bem recebidas por todos os países.**
- 30. Confirmando a posição defendida no texto, na Copa do Mundo de 2018, as manifestações nacionalistas, tanto de atletas quanto de torcedores, praticamente deixaram de existir.**
- 31. Talvez pela situação de crise que vem atravessando, o Brasil não tem sido procurado por imigrantes que estejam fugindo da situação caótica de seus respectivos países, a exemplo do Haiti e da Venezuela.**
- 32. Perseguições religiosas e guerras constantes são dois dos principais motivos a explicar as ondas de correntes migratórias que se multiplicam no mundo contemporâneo.**
- 33. A busca de “melhores condições de sobrevivência”, como afirma o texto, é fator decisivo para impulsionar as atuais correntes migratórias.**
- 34. Um aspecto humanamente doloroso do atual movimento migratório mundial é a atuação de verdadeiros “traficantes de gente”, que enganam os desesperados e lhes arrancam todas as economias da vida antes de largá-los no meio do mar, no deserto ou na fronteira.**

GABARITO



- | | | |
|-------|-------|-------|
| 1. A | 13. C | 25. E |
| 2. A | 14. E | 26. E |
| 3. B | 15. C | 27. E |
| 4. D | 16. C | 28. C |
| 5. E | 17. E | 29. E |
| 6. C | 18. C | 30. E |
| 7. C | 19. A | 31. E |
| 8. C | 20. E | 32. C |
| 9. E | 21. C | 33. C |
| 10. E | 22. E | 34. C |
| 11. C | 23. E | |
| 12. E | 24. E | |



LISTA DE QUESTÕES – ORGANISMOS, ORGANIZAÇÕES E GRUPOS INTERNACIONAIS – MULTIBANCAS

1. (CEBRASPE/TJ-SC/2023) No mundo atual, a chamada “governança mundial” tende a ser tema de grande relevância e suscita estudos e debates de grande importância. Em relação a esse tema, assinale a opção correta.

a) A Organização das Nações Unidas (ONU), surgida no imediato pós- Segunda Guerra, não tem sido questionada em seus pressupostos e em seu modo de agir.

b) A atual composição do Conselho de Segurança da Organização das Nações Unidas (ONU) atende aos interesses de todos os Estados-membros da ONU, por isso sua estrutura não tem sido alvo de debate.

c) Países considerados emergentes, como o Brasil, estão a pleitear maior espaço nos fóruns decisórios mundiais, como na Organização das Nações Unidas (ONU).

d) A extinção da Organização Mundial do Comércio (OMC), ocorrida por pressão da Comunidade Europeia, deixou um vácuo na regulamentação do sistema de trocas internacional.

e) Provavelmente por influência dos EUA, os Estados americanos ainda não conseguiram criar um organismo multilateral que os congregue.

2. (CEBRASPE/TJ-SC/2023) Em relação à Organização do Tratado do Atlântico Norte (OTAN), assinale a opção correta.

a) A saída dos Estados Unidos da América (EUA) da OTAN enfraqueceu substancialmente a aliança militar dos países-membros.

b) A OTAN é uma aliança militar do Ocidente, que surgiu no pós -Segunda Guerra mundial e durante a Guerra Fria.

c) A Rússia é o Estado-membro mais importante da OTAN, e seu presidente, Vladimir Putin, possui forte apoio da organização na invasão à Ucrânia.

d) Após a desintegração da União Soviética, a OTAN arquivou seu projeto de expansão para o leste europeu

e) A crise do socialismo real na Europa oriental levou a OTAN a fornecer proteção militar aos países ainda considerados comunistas.

3. (QUADRIX/CRO-TO/2023) O conselho de segurança da Organização das Nações Unidas (ONU) tem sido eficaz em seus esforços para reduzir os conflitos pelo mundo afora, o que pode ser explicado pelo fim do direito de veto por parte de seus principais integrantes.

4. (QUADRIX/CRO-TO/2023) A ONU também se notabiliza pela atuação de seus órgãos especializados nos mais diversos setores, como na educação, na cultura e na ciência, além de oferecer apoio aos milhares de refugiados que são forçados a abandonar seus países.



5. (CEBRASPE/TJ-SC/2023) A geopolítica mundial surgida do pós-Segunda Guerra mundial em muito se alterou e, superado, em termos imperativos, o quadro da Guerra Fria, quando o temor de um conflito nuclear manteve as principais potências exercendo um necessário equilíbrio, o mundo de hoje se vê às voltas com uma nova reconfiguração das relações internacionais. No que diz respeito à atuação da Organização das Nações Unidas (ONU) nesse contexto, julgue os itens seguintes.

I. Criada no imediato pós-Segunda Guerra mundial, a ONU tem sido bastante criticada nos últimos anos, sendo acusada até mesmo de omissão em situações críticas para a paz.

II. Desde o completo fracasso da primeira grande conferência mundial voltada para a questão ambiental promovida pela ONU no início da década de 70 do século passado, essa organização deixou de atuar na área de meio ambiente.

III. As ações militares que culminaram em guerras como a no Oriente Médio e, mais recentemente, a no Leste Europeu foram aprovadas pelo Conselho de Segurança da ONU.

Assinale a opção correta.

- A) Nenhum item está certo.
- B) Apenas o item I está certo.
- C) Apenas o item II está certo.
- D) Apenas os itens I e III estão certos.
- E) Apenas os itens II e III estão certos.

6. (FGV/PREFEITURA DE SÃO JOSÉ DOS CAMPOS – SP/2023) Em agosto de 2023, o agrupamento de países emergentes que integra o BRICS anunciou o início de um processo de expansão, passando a integrar novos membros.

A respeito do BRICS e de seu funcionamento, assinale a afirmativa correta.

- A) Objetiva defender os interesses dos países produtores e exportadores de petróleo no mercado global.
- B) Zela pela manutenção da paz e da segurança internacional com a adoção de medidas obrigatórias para seus membros.
- C) Prioriza a oferta de empréstimos a países em desenvolvimento para o combate à pobreza.
- D) Atua como foro multilateral para regulamentar o comércio internacional das commodities produzidas por seus membros
- E) Abre espaços de diálogo para seus membros, identificando interesses comuns, de modo a ampliar a cooperação em setores específicos.



7. (VUNESP/EPC/2023) Em julho de 2022, em Estocolmo (Suécia), António Guterres advertiu que “o bem-estar global está em perigo, em grande parte porque não cumprimos nossas promessas sobre o meio ambiente”.

(UNEP. <https://bityli.com/CmmK3Q>. 04.06.2022)

António Guterres tem papel de destaque no mundo político mundial e exerce o cargo de

- A) Primeiro ministro da Espanha.
- B) Secretário geral da ONU (Organização das Nações Unidas).
- C) Conselheiro da OEA (Organização dos Estados Americanos)
- D) Ministro do meio ambiente dos Estados Unidos.
- E) Presidente do México.

8. (FEPESE/PREFEITURA DE BALNEÁRIO CAMBORIÚ-SC/2023) Observando a importância das Organizações Internacionais e Intergovernamental Regional no cenário mundial, assinale a alternativa correta.

- A) A Organização Mundial do Comércio (OMC) possui como objetivo o financiamento para governos que buscam o investimento em áreas sociais.
- B) O MERCOSUL (Mercado Comum do Sul) é composto por Brasil, Argentina, Paraguai, Uruguai e Equador. O objetivo principal desse bloco econômico é abertura comercial.
- C) A OTAN (Organização do Tratado do Atlântico Norte) foi criada sob liderança da Rússia (antiga União Soviética) para se contrapor aos Estados Unidos e ao mundo capitalista.
- D) O FMI (Fundo Monetário Internacional) possui, oficialmente, como objetivo principal, a promoção e cooperação econômica em escala global a partir da estabilidade financeira e relações comerciais internacionais.
- E) A Organização para a Cooperação e Desenvolvimento Econômico (OCDE) é uma organização internacional composta por 38 países membros, entre eles o Brasil, admitido em fevereiro de 2016.

9. (FEPESE/PREFEITURA DE BALNEÁRIO CAMBORIÚ-SC/2023) A Organização das Nações Unidas foi criada no final da Segunda Guerra Mundial, traçando como objetivo principal o estabelecimento da paz entre nações e a segurança mundial.

Assinale a alternativa correta sobre a ONU e a Ordem Mundial.

- A) Os países permanentes da ONU são: Estados Unidos, Alemanha, Inglaterra e Rússia.
- B) A Assembleia Geral é composta por todos os países-membros da Organização, reunindo-se uma vez ao ano.



- C) O Conselho de Segurança é composto apenas pelos membros permanentes, todos com direito de veto.
- D) A Assembleia Geral é o único órgão dentro da ONU com poder absoluto de autorizar a intervenção militar em um país.
- E) A sede oficial da ONU encontra-se em Washington. Em seu período de fundação a organização contava com 41 Estados-membros.

10. (QUADRIX/PREFEITURA DE BARREIRAS-BA/2022) A respeito do conjunto de países que integram o Brics e de aspectos relacionados a esse assunto, julgue os itens a seguir.

I- Os principais objetivos do Brics são fomentar a cooperação mútua entre os países que compõem esse bloco, com base na política de interferência dos países-membros nas decisões políticas dos demais integrantes, e impulsionar a economia das maiores potências econômicas do planeta.

II- Os membros do Brics contrapõem-se à Otan, na medida em que esta se restringe ao Atlântico Norte, enquanto aqueles pretendem ser hegemônicos no hemisfério sul.

III- O Brics consiste em um agrupamento de países de economia emergente, sendo composto por cinco países: Brasil; Rússia; China; Índia; e África do Sul.

Assinale a alternativa correta.

- (A) Apenas o item I está certo.
- (B) Apenas o item II está certo.
- (C) Apenas o item III está certo.
- (D) Todos os itens estão certos.

11. (QUADRIX/CREFITO 6ª REGIÃO/2022 – RECEPCIONISTA) Uma agência especializada das Nações Unidas tornou-se bastante conhecida, na atualidade, devido à emergência da pandemia do novo Coronavírus. Trata-se do(da)

- (A) Fundo de Amparo à Infância (UNICEF).
- (B) Fundo para a Agricultura e a Alimentação (FAO).
- (C) Organização para a Educação, Cultura e Ciência (Unesco).
- (D) Organização Mundial da Saúde (OMS).
- (E) Programa para o Desenvolvimento (Pnud).

12. (QUADRIX/CRECI-RO/2022 – FISCAL) No Conselho de Segurança da Organização das Nações Unidas (ONU), são debatidas questões que colocam em risco a segurança e a paz mundiais.



(CEBRASPE/FUNPRES-EXE/2022 – ANALISTA) Em meio à circulação da variante Ômicron, países ricos e de média renda apressam a aplicação da dose de reforço das vacinas. Enquanto isso, os mais pobres têm menos de 10% de suas populações com uma dose e dependem de doações para acelerar a imunização. No entanto, 2022 começa com menos de 50% das vacinas prometidas entregues em 2021. Apenas pelo mecanismo Covax, criado pela Organização Mundial da Saúde (OMS), a meta era entregar 2 bilhões de doses doadas pelos países ricos às nações de baixa renda. Menos de 30% foram entregues.

O Estado de S. Paulo, 2/1/2022, p. A9 (com adaptações).

Tendo o texto acima como referência inicial e considerando aspectos marcantes do cenário mundial contemporâneo, julgue o item seguinte.

13. Mencionada no texto, a OMS é uma das mais conhecidas e atuantes agências especializadas da Organização das Nações Unidas (ONU), a exemplo de outras como FAO, UNESCO e UNICEF.

(QUADRIX/CREFONO 4ª REGIÃO/2021 – FONOAUDIÓLOGO FISCAL) Relativamente ao cenário mundial da atualidade, julgue o item a seguir.

14. Uma das razões para a perda de importância da Organização das Nações Unidas (ONU) no atual cenário mundial é o fato de que ela, até o momento, foi incapaz de criar, em sua estrutura, agências especializadas para tratar da saúde, da educação, do desenvolvimento e do meio ambiente.

15. (INSTITUTO ANIMA/FUJAMA/2020 – ENGENHEIRO FLORESTAL) O que é o BRICS?

a) Termo utilizado para designar o grupo de países de economias emergentes formado por Brasil, Rússia, Índia, China e África do Sul.

b) Termo abreviado que significa a saída do Reino Unido da União Europeia.

c) É um grupo formado pelos ministros de finanças e chefes dos bancos centrais das 19 maiores economias do mundo mais a União Europeia.

d) É uma organização intergovernamental fundada a partir do Tratado de Assunção de 1991. Estabelece uma integração, inicialmente econômica, configurada atualmente em uma união aduaneira, na qual há livre comércio intrazona e política comercial comum entre os países-membros.

e) É uma união econômica e política de 28 Estados-membros independentes situados principalmente na Europa.

(QUADRIX/CRO-AM/2019 – ASSISTENTE ADMINISTRATIVO FISCAL) O presidente Jair Bolsonaro e representantes de outros sete países sul-americanos assinaram, no dia 22 de março último, um documento com proposta para a criação do fórum para o Progresso da América do Sul (Prosul), que visa à construção de relações baseadas no livre comércio.

Internet: <www.poder360.com.br> (com adaptações).

Tendo o texto acima apenas como referência inicial, julgue os itens.



16. O Equador se manteve, por anos, alinhado ao bloco de governos de esquerda na América Latina. Com a ascensão de Lenin Moreno, aproximou-se de governantes conservadores, sendo um dos signatários da proposta de criação do Prosul.
17. Por decisão dos integrantes do futuro fórum, a Venezuela não integrará o Prosul, haja vista o governo de Nicolás Maduro ser considerado como ilegítimo pelos mandatários presentes no encontro.
18. Com a abertura do processo de sua criação, o Prosul deverá substituir a União das Nações Sul-Americanas (Unasul), criada em 2008, quando os governos de esquerda eram maioria na região.
19. Bolívia e Uruguai integram o grupo de países que assinaram a declaração conjunta de criação do Prosul.
20. (FCC/AFAP/2019 – ASSISTENTE ADMINISTRATIVO) BRICS é o nome de um conjunto econômico de países considerados “emergentes”, que juntos formam um grupo político de cooperação. São formados por
- a) Bélgica, Romênia, Índia, Chile e Suíça.
 - b) Brasil, Rússia, Irlanda, Canadá e Suécia.
 - c) Brasil, Rússia, Índia, China e África do Sul.
 - d) Bulgária, Rússia, Índia, China e Sérvia.
 - e) Brasil, Rússia, Israel, Canadá e Singapura.

GABARITO



- | | | |
|------|-------|-------|
| 1. C | 8. D | 15. A |
| 2. B | 9. B | 16. C |
| 3. E | 10. C | 17. C |
| 4. C | 11. D | 18. C |
| 5. B | 12. C | 19. E |
| 6. E | 13. C | 20. C |
| 7. B | 14. E | |



LISTA DE QUESTÕES – GUERRA ENTRE RÚSSIA E UCRÂNIA – MULTIBANCAS

1. (CEBRASPE/DataPrev/2023) O contexto da invasão militar da Ucrânia pela Rússia provocou instabilidade na política interna do grupo formado por Brasil, Rússia, Índia, China e África do Sul (BRICS), o que levou o presidente russo Vladimir Putin a solicitar seu afastamento do bloco.

2. (CEBRASPE/TJ-SC/2023) A guerra em curso na Ucrânia chama atenção por diversos aspectos, sobretudo pelo rastro de destruição e elevado drama humano que produz. Acerca desse conflito, assinale a opção correta.

A) A guerra foi iniciada como reação russa ao avanço das forças militares ocidentais sobre seu território a partir de bases situadas na Ucrânia.

B) O conflito enfatizou o papel da Organização do Tratado do Atlântico Norte (OTAN), uma aliança militar que foi criada na Guerra Fria pela União das Repúblicas Socialistas Soviéticas (URSS).

C) A Ucrânia invadiu a Rússia no ano de 2022, buscando legitimar tal atitude no fato de ter sido a pátria da qual se originou o país hoje governado por Vladimir Putin.

D) Essa guerra tem causado sérios transtornos para a economia dos países nela envolvidos e do mundo em geral, sobretudo em razão da interrupção ou redução do fluxo normal de exportação e importação de produtos essenciais, como petróleo, grãos e fertilizantes.

E) Essa guerra tem gerado milhões de refugiados ucranianos, que, diferentemente dos migrantes africanos no passado recente, encontram dificuldades intransponíveis para se fixar em países europeus.

3. (FGV/PREFEITURA DE SÃO JOSÉ DOS CAMPOS – SP/2023) A Ucrânia tem uma longa história compartilhada com a Rússia, marcada pela interdependência e pela busca de um equilíbrio político entre disputas e interesses rivais. Em fevereiro de 2022, a tensão entre os dois países chegou no seu ponto máximo, com a invasão militar da Ucrânia pela Rússia.

A respeito da eclosão do conflito, analise as afirmativas a seguir.

I. Na visão da Rússia, a Ucrânia é o resultado de uma divisão artificial entre os dois povos, sendo parte natural de uma “grande Rússia”.

II. A Rússia anexou a Crimeia em 2014, após um referendo que consultou o povo ucraniano.

III. Em 2022, a Rússia reconheceu a autonomia de duas regiões ucranianas separatistas que se autoproclamaram Estados independentes, em um contexto marcado pela aproximação da Ucrânia com a Otan e com a União Europeia.

Está correto o que se afirma em

A) I, apenas.



- B) I e II, apenas.
- C) I e III, apenas.
- D) II e III, apenas.
- E) I, II e III.

4. (VUNESP/EPC/2023) Um eventual confronto direto entre tropas da Rússia e desta instituição ocasionará uma “catástrofe global”, afirmou o presidente russo, Vladimir Putin, nesta sexta feira [14 out], durante uma rara entrevista à imprensa.

(G1. <http://glo.bo/3ZyWa33>. 14.10.2022)

A instituição citada por Putin foi

- A) o Conselho de Segurança da ONU.
- B) a Organização do Tratado do Atlântico Norte.
- C) a União Europeia.
- D) o Tratado de Não Proliferação Nuclear.
- E) o Pacto de Varsóvia.

5. (CEBRASPE/DATAPREV/2023) No que se refere a temas atuais no Brasil e no mundo, julgue o item a seguir.

O contexto da invasão militar da Ucrânia pela Rússia provocou instabilidade na política interna do grupo formado por Brasil, Rússia, Índia, China e África do Sul (BRICS), o que levou o presidente russo Vladimir Putin a solicitar seu afastamento do bloco.

(QUADRIX/CRT-BA/2023) No que se refere ao panorama atual do Brasil e do mundo, julgue os itens abaixo.

6. O ataque russo à Ucrânia fez com que nações da União Europeia executassem sanções econômicas contra o governo de Vladimir Putin.

7. A guerra na Ucrânia gerou uma crise de abastecimento de gás na Europa, já que boa parte do gás natural que chega aos países europeus passa pelo país governado por Zelensky.

8. (AVANÇA-SP/PREFEITURA DE SÃO MIGUEL ARCANJO-SP/2023) Após a Rússia ter invadido a Ucrânia, Suécia e Finlândia decidiram aderir à OTAN (Organização do Tratado do Atlântico Norte). No entanto, um dos países membros com poder de voto está dificultando a entrada desses dois países na referida organização internacional. Assinale a alternativa que apresenta o nome de tal país:

- A) Grécia.



- B) Turquia.
- C) Índia.
- D) Paquistão.
- E) Polônia.

9. (FGV/CÂMARA MUNICIPAL DE TAUBATÉ/2022) “Por que a Rússia invadiu a Ucrânia em 2022? Trata-se de algo multifatorial. A Rússia invadiu a Ucrânia no dia 24 de fevereiro de 2022, após uma escalada nas tensões que haviam tido início poucos meses antes.”

(brasilecola.uol.com.br/geografia/por-que-a-russia-invadiu-a-ucrania-em-2022.htm)

A guerra que se seguiu à invasão da Ucrânia pela Rússia tem impactado o mundo desde então. Suas consequências, nefastas do ponto de vista humanitário, geopolítico e econômico, certamente impactam o mundo todo.

Em relação ao tema, avalie se as afirmativas a seguir são falsas (F) ou verdadeiras (V).

() A Rússia acusa a Ucrânia de maior aproximação com organizações como a Otan e a União Europeia, o que vê como ameaça a seus interesses geopolíticos.

() Como reação à invasão russa, houve imposição, principalmente por parte dos EUA e da União Europeia, de sanções econômicas à Rússia.

() A Rússia, em revide, interrompeu o fornecimento de gás natural para a Europa, o que impacta significativamente a economia europeia, muito dependente desse fornecimento.

As afirmativas são, respectivamente,

- (A) V, F e V.
- (B) F, V e V.
- (C) V, V e F.
- (D) V, V e V.
- (E) F, F e F.

10. (FGV/PREFEITURA DE SANTO ANDRÉ - SP/2022) A respeito do impacto da guerra na Ucrânia no mercado internacional de commodities, assinale a afirmativa correta.

(A) O petróleo ficou mais caro, pois a Ucrânia é uma das maiores exportadoras de combustíveis fósseis e a guerra afetou sua capacidade de comercialização



(B) A oferta de gás natural aumentou e o seu preço caiu, pois a OTAN, ao embargar o gás russo, favoreceu o escoamento do produto ucraniano.

(C) Rússia e Ucrânia produzem quase um terço das exportações globais de trigo, por isso, o conflito causou uma flutuação no valor de mercado dessa commodity.

(D) As sanções econômicas impostas à Rússia obrigaram Putin a diminuir o preço dos fertilizantes agrícolas e, por isso, sua queda no valor internacional.

(E) O paládio, usado na indústria automotiva, apresentou uma crise de abastecimento, uma vez que as principais refinarias ucranianas que o produzem foram bombardeadas.

11. (QUADRIX/PREFEITURA DE BARREIRAS-BA/2022) A invasão da Organização do Tratado do Atlântico Norte (Otan) na Crimeia causaria uma guerra mundial, diz a Rússia. Dmitry Medvedev afirma que o território faz parte da nação russa e que qualquer tentativa de invasão é uma declaração de guerra.

Internet: <<https://www.poder360.com.br>> (com adaptações).

No que se refere à guerra entre Rússia e Ucrânia e aos vários aspectos relacionados a esse assunto, assinale a alternativa correta.

(A) A Otan foi criada durante o período da Guerra Fria e passou a ser uma aliança militar entre os antigos países do bloco soviético, o que fez a Rússia repudiar essa instituição.

(B) A guerra entre Rússia e Ucrânia é um dos muitos conflitos regionais ocorridos no entorno da antiga União Soviética nos últimos trinta anos.

(C) A afirmação de Medvedev não tem o respaldo de Putin, já que ambos são inimigos políticos há décadas e jamais estiveram juntos no governo.

(D) Apesar da grande repercussão na mídia sobre o caso, a invasão russa na Ucrânia foi logo rechaçada, e o número total de soldados mortos no conflito não chegou a mil.

12. (VUNESP/PM-SP/2022) Analise o mapa a seguir sobre os membros europeus da Organização do Tratado do Atlântico Norte (Otan)





Assinale a opção que indica os países que anunciaram abandonar a neutralidade para ingressar na Otan, em 2022.

- (A) Finlândia e Suécia.
- (B) Suíça e Hungria.
- (C) Bulgária e Finlândia.
- (D) Suíça e Ucrânia.
- (E) Suécia e Hungria.

13. (IBFC/PC-BA/2022) "A organização passou para o centro das discussões da diplomacia internacional em meados de abril e ao longo de maio de 2022, devido à possibilidade de adesão da Finlândia e da Suécia, em meio à Guerra na Ucrânia. A Rússia é contrária à entrada dos dois países na Organização do Tratado do Atlântico Norte (Otan) (G1, 2022)".

Analise as afirmativas abaixo e de valores Verdadeiro (V) ou Falso (F).

- () Foi criada em 1989, após o término da Guerra Fria e a queda do Muro de Berlim.
- () Foi criada sob a liderança dos Estados Unidos em oposição à Inglaterra.
- () É um bloco econômico atualmente liderado por EUA, China e Coreia do Sul.



() Ucrainianos pleiteavam entrada no grupo, o que foi um dos motivos para a invasão russa.

Assinale a alternativa que apresenta a sequência correta de cima para baixo.

a) F - V - V - V

b) F - F - F - F

c) V - V - F - V

d) V - F - V - F

e) F - F - F - V

14. (FGV/PREFEITURA DE MANAUS/2022 – ANALISTA DE BANCO DE DADOS) Gasodutos Nord Stream da Rússia

O Nord Stream 2 é o segundo gasoduto de gás natural entre o oeste da Rússia e o nordeste da Alemanha, passando sob o Mar Báltico. O primeiro foi inaugurado em 2011, mas a certificação e inauguração do segundo foi suspensa pelo chanceler alemão em fevereiro de 2022, após Putin ter anunciado que reconhecia a independência das cidades separatistas Donetsk e Luhansk e permitir que tropas russas invadissem a região.

Sobre a dimensão econômico-militar da atual crise entre Moscou e as potências ocidentais, analise as afirmativas a seguir e assinale (V) para a verdadeira e (F) para a falsa.

() A Alemanha depende das importações de gás natural da Rússia para suprir suas necessidades energéticas, uma vez que está desinstalando suas usinas nucleares.

() Os Estados Unidos se posicionaram a favor dos gasodutos por pertencerem à iniciativa privada, o que impediria Putin de usar a moeda energética como ferramenta de pressão política.

() Ucrânia e Polônia se sentem prejudicadas pela ampliação da rota do gás pelo Mar Báltico, uma vez que isso impacta os tributos cobrados pelo trânsito do gás em seus territórios.

Assinale a opção que indica a sequência correta, de cima para baixo.

(A) V – V – F.

(B) V – F – V.

(C) F – F – V.

(D) V – F – F.

(E) V – V – V.



15. (QUADRIX/CAU-SC/2022 – ASSISTENTE ADMINISTRATIVO)



Internet: <<https://www.bbc.com>> (com adaptações).

Quanto a tópicos atuais referentes a política e relações internacionais, é correto afirmar que a marcação do mapa no leste do território ucraniano refere-se à(ao)

- (A) resistência das tropas ucranianas diante do avanço russo.
- (B) controle militar russo em regiões de fronteira e separatistas.
- (C) tomada, pela Rússia, de regiões da Ucrânia durante a chamada Revolução Laranja.
- (D) início da invasão russa, que concentrou os ataques exclusivamente no leste.
- (E) concentração de tropas ucranianas, de forma estratégica, na fronteira com a Rússia.

(QUADRIX/2022/CRP 11ª REGIÃO-CE – ASSISTENTE ADMINISTRATIVO) Após meses de ameaças e posicionamento de soldados na fronteira ucraniana, a Rússia decidiu invadir a Ucrânia. Nas primeiras horas do dia 24 de fevereiro, Vladimir Putin anunciou a operação militar que se tornou um dos maiores conflitos militares na Europa desde a Segunda Guerra Mundial, desencadeando a maior crise de segurança no continente desde a Guerra Fria.

Internet: <<https://www.cnnbrasil.com.br>> (com adaptações).

Quanto à invasão russa à Ucrânia, julgue os itens a seguir.

16. A preocupação com a guerra na Ucrânia fez as sete maiores economias do mundo (G7) e a Organização do Tratado do Atlântico Norte (Otan) reafirmarem unidade diante da Rússia.

17. O domínio, pelas tropas ucranianas, das regiões de Donbas e Mariupol, no leste da Ucrânia, é o fator responsável pela extensão da guerra por meses.



18. Além de permanecer em outras localidades da Ucrânia, o exército russo domina a capital do país, Kiev, o que gera preocupação no mundo ocidental, visto que a cidade é o bastião mais extremo de resistência das tropas ucranianas para reter o poder do presidente Zelensky.

19. O volume de sanções devido à invasão fez parte dos bilionários da Rússia se deslocarem, por milhares de quilômetros, com seus iates, para países que não sofrem com as restrições impostas a Moscou.

20. Junto dos territórios invadidos das províncias ucranianas, a Rússia tomou o controle de usinas nucleares, inclusive a de Chernobyl, maior usina nuclear em funcionamento da Ucrânia.

(QUADRIX/CRA-PR/2022 – ANALISTA DE SISTEMA) Para um importante historiador, o século XX foi o mais mortífero de toda a história registrada. Chega-se ao século XXI e a realidade parece não se alterar. Apesar de louvável trabalho em várias áreas, a Organização das Nações Unidas (ONU) mostra-se impotente para deter as guerras que se multiplicam por todos os cantos, algumas das quais se mostram perigosamente propensas a se irradiar.

Considerando fatos e aspectos marcantes do mundo atual, julgue os itens a seguir.

21. A guerra que neste 2022 ensanguenta o Leste europeu foi iniciada com a invasão russa sobre a Ucrânia. Anteriormente, a Rússia havia anexado o território ucraniano da Crimeia.

22. A facilidade com que as forças militares russas dominaram mais da metade do território ucraniano, com pouco mais de um mês de combate, deveu-se à falta de resistência do governo e do povo ucranianos.

23. A guerra no Leste europeu comprovou que, a despeito do fim da Guerra Fria, permanecem ativas as alianças militares entre os blocos oriental e ocidental: o Pacto de Varsóvia e a Aliança do Tratado do Atlântico Norte (Otan).

24. Ante o ataque soviético, a Ucrânia se viu isolada, sem receber qualquer tipo de apoio da Otan.

25. Independentemente da retórica, os países ocidentais não impuseram qualquer sanção econômica à Rússia, provavelmente temerosos de uma retaliação do país governado por Vladimir Putin.

26. Talvez pelo fato de que a Rússia tem poder de veto, o Conselho de Segurança da ONU não chegou sequer a debater sobre o conflito no Leste europeu, omitindo-se diante da grave crise, que já vitimou milhares de pessoas, inclusive civis.

27. O Brasil, por sua diplomacia e pela palavra do próprio presidente da República, apoiou incondicionalmente a ação militar russa sobre a Ucrânia.

28. A Rússia é grande fornecedora de gás e petróleo para países europeus e uma eventual interrupção do fornecimento causaria sérios transtornos à Europa.

29. Por serem grandes produtores e exportadores de grãos e fertilizantes, Rússia e Ucrânia desempenham papel significativo na economia mundial globalizada.

30. A presença da Rússia em um conflito armado gera preocupações para o mundo, entre outras razões, porque o país herdou o poderoso arsenal nuclear da extinta União Soviética.



(CEBRASPE/FUB/2022) A invasão da Ucrânia pela Rússia afetou duramente o mercado mundial de alimentos e fez crescer a população mundial ameaçada pela insegurança alimentar. A guerra tornou real o risco de escassez de alimentos em escala planetária e fez a população mundial que passa fome, já ampliada expressivamente durante a pandemia, aumentar em algumas dezenas de milhões de pessoas em poucas semanas. O Estado de S. Paulo, 23/3/2022, p. A3 (com adaptações).

Tendo o fragmento de texto precedente como referência inicial, e considerando a abrangência do tema por ele abordado, julgue os itens seguintes.

31. O atual conflito entre Rússia e Ucrânia foi desencadeado por um conjunto de fatores, entre os quais a possibilidade de entrada da Ucrânia na Organização do Tratado do Atlântico Norte (OTAN).
32. A invasão da Ucrânia pela Rússia gerou protestos e reações pelo mundo afora.
33. O Brasil apoiou oficialmente a investida russa, seja pela manifestação do Itamaraty, seja no Conselho de Segurança das Nações Unidas.
34. A guerra acabou colocando em risco, mundialmente, o fornecimento de combustíveis, de bens variados e, especialmente, de alimentos essenciais e fertilizantes.
35. Na economia de mercado, a escassez de produtos eleva seu preço, impulsionando a inflação.
36. Sendo o maior produtor mundial de alimentos e autossuficiente na produção de fertilizantes, o Brasil não sofre impactos do conflito.

(QUADRIX/CRECI-SC/2022 – CONTADOR) A opinião pública mundial acompanha, com interesse e acentuada preocupação, a guerra da Rússia na Ucrânia. Por mais de uma vez, o dirigente russo Vladimir Putin lembrou ao mundo a existência de um arsenal nuclear em suas mãos. Fora o drama humano vivido por milhares de pessoas, o conflito já aponta para consequências econômicas que poderão assumir dimensão global. Relativamente a esse conflito, iniciado em fevereiro de 2022, julgue os itens a seguir.

37. O Brasil, uma das maiores potências do agronegócio global, é muito dependente de fertilizantes importados, e a Rússia é um dos grandes fornecedores desse insumo fundamental para a agricultura.
38. A resposta do Ocidente à invasão russa da Ucrânia, especialmente dos Estados Unidos da América, foi estabelecer sanções econômicas e financeiras que atingem, inclusive, empresas e financistas russos.
39. Quando o comando da questão fala em “drama humano vivido por milhares de pessoas”, ele possivelmente se refere aos milhares de civis ucranianos que se tornaram refugiados.
40. O conflito provocado por Putin em nada faz lembrar os tempos da Guerra Fria do pós-Segunda Guerra Mundial; afinal, hoje, não há qualquer tipo de envolvimento do Ocidente contra a Rússia.
41. O embargo promovido pelo Ocidente aos produtos e aos capitais russos não atingirá os países da União Europeia, os quais, há muito, não mais dependem do petróleo e do gás importados da Rússia.

(QUADRIX/CRECI-SC/2022 – TÉCNICO DE TECNOLOGIA DA INFORMAÇÃO) O século XX foi considerado como o mais violento entre todos os períodos históricos precedentes. Mal iniciou-se a segunda década do



século XXI e o mundo se depara com um conflito que, para além dos terríveis dramas humanos que suscita, pode trazer mudanças profundas na economia, na política e nas relações internacionais. A partir dessas informações, julgue os itens a seguir.

42. O citado conflito teve início com a invasão russa a um país com o qual tem fronteira, a Ucrânia.
43. Para fugir da guerra, mais de dois milhões de ucranianos, segundo cálculo das Nações Unidas, procuraram proteção em outros países. (ADAPTADA)
44. O Ocidente, sob liderança dos Estados Unidos, impôs severas sanções econômicas e financeiras à Rússia.
45. No Conselho de Segurança da ONU, o Brasil foi um dos poucos países a hipotecar solidariedade irrestrita à Rússia.
46. Apesar da natural apreensão que uma guerra causa, o mundo sente-se mais aliviado por saber que a Rússia não dispõe de armas nucleares.

GABARITO



- | | | |
|-------|-------|-------|
| 1. E | 17. E | 33. E |
| 2. D | 18. E | 34. C |
| 3. C | 19. C | 35. C |
| 4. B | 20. E | 36. E |
| 5. E | 21. C | 37. C |
| 6. C | 22. E | 38. C |
| 7. C | 23. E | 39. C |
| 8. B | 24. E | 40. E |
| 9. D | 25. E | 41. E |
| 10. C | 26. E | 42. C |
| 11. B | 27. E | 43. C |
| 12. A | 28. C | 44. C |
| 13. E | 29. C | 45. E |
| 14. B | 30. C | 46. E |
| 15. B | 31. C | |
| 16. C | 32. C | |



LISTA DE QUESTÕES – AMÉRICA LATINA – MULTIBANCAS

1. (CEBRASPE/DATAPREV/2023) Na Argentina, em agosto de 2023, período em que se executaram as eleições primárias — cujo objetivo é definir os candidatos que concorrerão à Presidência da República —, a inflação ao consumidor cresceu mais de 100% em comparação ao mesmo mês do ano anterior.
2. (VUNESP/PM-SP/2022) A respeito do atual cenário político-ideológico das lideranças da América Latina, analise o mapa a seguir.

Mapa Político da América Latina



(Fonte: AFP | Dados de 20 de junho de 2022.)

Com base no mapa e em seus conhecimentos, assinale a opção que indica corretamente o representante do “espectro de esquerda” atualmente no cargo de presidente.

- (A) Hugo Chávez, na Venezuela.
- (B) Cristina Kirchner, na Argentina.
- (C) Gustavo Petro, na Colômbia.
- (D) Francia Márquez, no Chile.
- (E) Alberto Fujimori, no Peru.

3. (FGV/CÂMARA MUNICIPAL DE TAUBATÉ-SP/2022 – CONTADOR LEGISLATIVO) Em setembro de 2022 a vice-presidente da Argentina, Cristina Kirchner, foi alvo de um atentado. Ela chegava em sua residência no bairro da Recoleta, em Buenos Aires, quando um homem apontou uma arma de fogo



próximo de seu rosto. O presidente Alberto Fernández e outros líderes políticos atribuíram o ato a discursos de ódio “espalhados a partir de espaços políticos, judiciais e midiáticos”.

A respeito da crise político-econômica da Argentina que compõe o pano de fundo desse atentado, leia as afirmativas a seguir e assinale (V) para a verdadeira e (F) para a falsa.

() A Argentina apresenta um quadro inflacionário e de aumento de preços, agravado por problemas como a guerra na Ucrânia e a quebra das cadeias globais de produção em função da pandemia de covid-19.

() A crise econômica da Argentina está associada à dificuldade crônica do país em pagar a dívida externa e ao fato de possuir mais da metade de sua dívida em moedas estrangeiras.

() A crise é também política, uma vez que Cristina Kirchner faz oposição ao peronismo do governo e propõe cortar os atuais subsídios de tarifas de energia, transportes e água, para poder reduzir a dívida do país.

Assinale a opção com a sequência correta, de cima para baixo.

(A) V – V – F.

(B) V – F – V.

(C) F – F – V.

(D) F – V – V.

(E) V – V – V.

4. (QUADRIX/CFT/2021 – JORNALISTA) Com relação aos aspectos políticos e econômicos atuais da América Latina, julgue o item a seguir.

O referendo votado no Chile em 2020, no intuito de mudar a antiga Constituição, e aprovado por uma maioria expressiva teve como premissa um novo modelo de país e futuros debates sobre direitos sociais.

5. (VUNESP/PM-SP/2021) As principais praças do país ficaram lotadas na noite de domingo, 26 de outubro de 2020, depois que os eleitores deram amplo apoio ao plano de descartar a atual Constituição em favor de uma nova Carta que será escrita pelos cidadãos.

Na praça, foco de gigantescos e muitas vezes violentos protestos no ano passado, fogos de artifício foram lançados em meio a uma multidão de dezenas de milhares de pessoas gritando em uníssono a palavra “renascimento”.

Com mais de três quartos dos votos apurados, 78,12% dos eleitores optaram por uma nova Constituição. Muitos manifestaram esperanças de que um novo texto vai moderar um viés amplamente capitalista com garantias de mais direitos iguais na saúde, aposentadorias e educação.

(<https://bit.ly/39zb2aE>. Acessado em 31.01.2021. Adaptado)

O excerto trata



- (A) da Bolívia.
- (B) do Chile.
- (C) do Peru.
- (D) da Argentina.
- (E) da Venezuela.

(QUADRIX/CFT/2021 – JORNALISTA) O fim da segunda década do século chega diante de um profundo desafio sanitário, social e econômico global. Os impactos sociais, políticos e econômicos da pandemia de covid-19 aprofundaram os problemas da América Latina, a região mais desigual do mundo segundo a Comissão Econômica para América Latina e Caribe (Cepal).

Internet: <<https://www.brasilefato.com.br>>.

Com relação aos aspectos políticos e econômicos atuais da América Latina, julgue os itens a seguir.

6. A crise econômica diante de uma economia hiperinflacionária e da alta penetração do dólar norte-americano no país fez o governo venezuelano decretar reconversão ou perda de zeros em sua desvalorizada moeda.

7. A crise catapultada pela pandemia de coronavírus, somada à crise econômica que os países já vinham enfrentando com a baixa no preço das commodities, fez o Brasil ter um percentual de pobreza material similar ao da Argentina e ao da Venezuela.

8. (IBADE/IDAF–AC/2020 – TÉCNICO EM DEFESA AGROPECUÁRIA E FLORESTAL) A pauta cresceu, e os chilenos passaram a brigar contra a desigualdade social. Após os atos de vandalismo, o presidente Sebastián Piñera declarou estado de emergência e toque de recolher. Apesar da violência policial, o movimento reuniu mais de 1 milhão de pessoas em Santiago, no dia 25 (25/10/2019). A revolta é a principal crise no país desde o fim da ditadura, em 1990.

(folha, 02/11/2019. disponível em: < <http://bit.ly/39iwbxm>>. adaptado)

É correto afirmar que as manifestações no Chile tiveram sua origem:

- a) com o aumento nas tarifas de transporte público.
- b) com pedido de renúncia do presidente Sebastián Piñera.
- c) com a descoberta de fraude nas eleições.
- d) com a decisão do presidente de extinguir os subsídios sobre o petróleo.
- e) com o aumento do preço do trigo.



9. (VUNESP/PREFEITURA DE SANTO ANDRÉ/2020 – AUXILIAR ADMINISTRATIVO) Em 7 de outubro, o presidente do Chile afirmou em um programa de TV nacional que “em meio a uma América Latina convulsionada, o país é um verdadeiro oásis, com uma democracia estável”. Em menos de 15 dias, o diagnóstico era o oposto: “Estamos em guerra contra um inimigo poderoso, implacável, que não respeita nada nem ninguém e está disposto a usar a violência e delinquência sem nenhum limite”, disse o presidente em 20 de outubro à frente de uma república em estado de emergência e com toque de recolher decretado em grande parte do país.

(UOL. <https://bit.ly/2DYImXO>. Acesso em 04.dez.2019. Publicado em 25.out.2019. Adaptado)

A crise no Chile

- a) foi debelada após a queda do presidente, que fugiu para a Colômbia, e a instalação de um governo provisório até as eleições em 2020.
- b) abalou as relações comerciais e diplomáticas do Chile com os Estados Unidos, o mais importante aliado das políticas liberais do governo chileno.
- c) teve curta duração devido ao apoio imediato dos países vizinhos que fecharam as fronteiras para evitar a entrada de armas e munições para os manifestantes.
- d) foi o estopim para a queda de outros governos sul-americanos, como os da Bolívia e do Uruguai, que também apresentavam forte descontentamento da população.
- e) teve início com o aumento do preço dos transportes urbanos e se acentuou com os protestos contra as desigualdades sociais no conjunto da sociedade.

(CEBRASPE/MP PI/2018 – TODOS OS CARGOS) A Venezuela é um país rico em petróleo, mas que passa por enormes dificuldades econômicas e políticas, com altos impactos sociais. O país é atualmente governado pelo presidente Nicolás Maduro, que assumiu o poder em 2013, logo após a morte de Hugo Chávez. Maduro é um político polêmico, que chegou a afirmar, em 2017, que, se fosse preciso, poderia se transformar em um ditador para levar o país de volta à estabilidade. Com relação à crise política e econômica pela qual tem passado a Venezuela, julgue os próximos itens.

10. Os membros fundadores do MERCOSUL suspenderam, em 2017, a participação da Venezuela no bloco, sob a alegação de ruptura da ordem democrática no país.
11. Entre os países sul-americanos, o Brasil é o que mais recebe imigrantes venezuelanos, que buscam livrar-se da crise econômica de seu país.
12. Apesar da crise econômica, o governo venezuelano tem conseguido controlar a inflação no país.
13. Embora muito criticada pela comunidade internacional, a Venezuela não foi submetida a sanções econômicas por outros países, como as impostas, por exemplo, a Cuba e ao Irã.
14. O petróleo é a principal fonte de receitas do governo venezuelano.
15. As maiores reservas comprovadas de petróleo do mundo encontram-se na Venezuela.



GABARITO



- 1. C
- 2. C
- 3. A
- 4. C
- 5. B
- 6. C

- 7. E
- 8. A
- 9. E
- 10. C
- 11. E
- 12. E

- 13. E
- 14. C
- 15. C



LISTA DE QUESTÕES – SEPARATISMOS NA EUROPA – MULTIBANCAS

1. (FGV/CÂMARA MUNICIPAL DE TAUBATÉ-SP/2022 – CONTADOR LEGISLATIVO) Na atualidade, uma série de movimentos reivindicam Estados próprios, com base na autodeterminação dos povos, mostrando que o nacionalismo ainda é uma questão importante no século XXI.

A esse respeito, analise as afirmativas a seguir sobre os movimentos catalão e curdo.

I. Os catalães são integrados à Espanha, obedecem às mesmas leis e estão sob o mesmo regime fiscal, eleitoral e de segurança pública e defesa.

II. Os curdos, possuem forças militares próprias e autonomia para administrar seus assuntos, em uma região multinacional de fronteira chamada Curdistão.

III. A autonomia da Catalunha é reivindicada por razões econômicas, sendo a principal contribuinte da economia espanhola, já a independência curda baseia-se em questões religiosas, sendo os curdos majoritariamente yazidis.

Está correto o que se afirma em

(A) I, apenas.

(B) I e II, apenas.

(C) I e III, apenas.

(D) II e III, apenas.

(E) I, II e III.

2. (IBADE/IDAF-AC/2020 – TÉCNICO EM DEFESA AGROPECUÁRIA E FLORESTAL) A participação no protesto desta quarta, estimada em “cerca de 600 mil pessoas” pela polícia barcelonesa, é a menor desde que a Diada tomou um caráter separatista há sete anos. Tanto em 2018 como em 2017, a participação ficou em aproximadamente 1 milhão de pessoas, segundo fontes policiais.

(O Globo, 11/09/2019. Disponível em: < <https://glo.bo/38kyBk8>>. Adaptado)

A notícia ilustra uma série de protestos que vêm ocorrendo, consecutivamente desde 2012, com intuito de reivindicar a independência:

a) de Barcelona em relação a Catalunha.

b) de Barcelona em relação ao País Basco.

c) dos Países Baixos em relação a Catalunha.



d) da Catalunha em relação ao País Basco.

e) da Catalunha em relação a Espanha.

3. (VUNESP/ESEF-SP/2019 – ASSISTENTE EM ADMINISTRAÇÃO) A Catalunha, nesta segunda-feira (14.10.2019), foi agitada por uma série de protestos, com o epicentro em Barcelona. A ação foi convocada pela plataforma Tsunami Democrático, que distribuiu cartões de embarque falsos causando bloqueio no El Prat, o principal aeroporto da cidade. Também houve prejuízo para a circulação de trens e metrô.

(El Pais/Bras. Disponível em <https://bit.ly/32r70ew>. Acesso em 15.10.2019. Adaptado)

Os protestos ocorreram

a) porque o Parlamento espanhol aprovou leis que foram consideradas fascistas pelo Comitê de Defesa da República Catalã.

b) em defesa do resultado do plebiscito que aprovou a independência catalã do restante da Espanha.

c) porque os Mossos (polícia catalã) atacaram os manifestantes que defendiam a independência da Catalunha.

d) contra a intervenção governamental nas universidades catalãs que fizeram movimento pela independência.

e) contra a decisão do Tribunal Supremo da Espanha que impôs penas de prisão a líderes separatistas.



1. B
2. E
3. E



LISTA DE QUESTÕES – PANDEMIA DE COVID-19 – MULTIBANCAS

(CEBRASPE/DataPrev/2023) No que se refere à recente pandemia de covid-19, julgue os itens subsequentes.

1. A pandemia da covid-19 agravou situações de fragilidade econômica e social de famílias e empresas em diversos países, em especial naqueles de economia emergente, como o Brasil.
2. A crise econômica, social e política gerada pela pandemia da covid-19 ocorreu entre 2019 e 2022, e, após a vacinação em massa da população mundial, houve uma rápida recuperação da economia global a partir de agosto de 2022.
3. (QUADRIX/PREFEITURA DE BARREIRAS-BA/2022) Julgue os itens seguintes, referentes aos impactos da pandemia de covid-19 no Brasil e no mundo.

I- A Organização Mundial da Saúde (OMS), ainda em 2019, declarou a pandemia do novo coronavírus, e o primeiro caso oficial de covid-19 foi o de um paciente na cidade de Wuhan, na China.

II- O surto do novo coronavírus foi considerado pela OMS uma Emergência de Saúde Pública de Importância Internacional (ESPII).

III- As ações do governo federal para o combate da pandemia do novo coronavírus e de seus impactos no Brasil incluíram a compra de vacinas e o pagamento do auxílio emergencial para uma parcela de trabalhadores brasileiros.

Assinale a alternativa correta.

- (A) Nenhum item está certo.
- (B) Apenas os itens I e II estão certos.
- (C) Apenas os itens I e III estão certos.
- (D) Apenas os itens II e III estão certos.

(QUADRIX/2022/CRP 11ª REGIÃO-CE – ASSISTENTE ADMINISTRATIVO) Julgue os itens a seguir, relativos a temas atuais do Brasil e do mundo.

4. Os registros de pessoas infectadas, no Brasil, pela variante ômicron do novo coronavírus são todos de indivíduos que, após se contaminarem no exterior, trouxeram o vírus para o País.
5. A crise sanitária causada pela pandemia de covid-19 impulsionou o mercado de e-commerce no Brasil, uma vez que, com o surto da doença, o consumidor brasileiro passou a fazer mais compras on-line.



(QUADRIX/CRP-10/2022 – ANALISTA-PSICÓLOGO) Estudo pós-covid mostra prevalência de depressão, ansiedade e estresse. Em estudo no Hospital das Clínicas (HC), mais da metade relata declínio da memória e testes indicam perdas cognitivas relevantes entre os infectados. Em estudo feito com pacientes que se recuperaram das formas moderada e grave da covid-19, pesquisadores da Universidade de São Paulo (USP) observaram alta prevalência de déficit cognitivo e transtornos psiquiátricos. O Estado de S. Paulo, 9/2/2022, p. A17 (com adaptações).

Tendo o texto acima como referência inicial e considerando os aspectos marcantes da atualidade, julgue os itens.

6. A partir de um determinado local de origem, a covid se disseminou rapidamente, atingindo dimensão verdadeiramente planetária, o que levou a Organização Mundial da Saúde (OMS) a declará-la pandemia.

7. Talvez por suas condições geográficas, além das satisfatórias condições de saneamento que apresenta, o Continente americano, de Norte a Sul, foi o que menos sofreu o impacto do novo coronavírus.

8. No Brasil, na primeira fase da covid, geraram comoção os graves problemas ocorridos em Manaus e em outras regiões do Amazonas, quando a escassez de oxigênio ampliou dramaticamente o número de óbitos.

9. A decisão de promover o distanciamento social, para reduzir a possibilidade real de contágio pelo vírus, foi mais rígida em alguns países que em outros, ainda que suscitasse algum tipo de reação.

10. O texto deixa claro que, tanto nos casos moderados quanto nos mais graves, as sequelas psicológicas e psiquiátricas da covid são irrelevantes.

11. Ao mencionar “perdas cognitivas relevantes”, o texto quer dizer que a covid não é capaz de interferir na capacidade humana de aprender, apreender, compreender e reter conhecimentos.

12. A celeridade com que as vacinas contra a covid foram produzidas demonstra a importância do saber científico no enfrentamento de graves desafios presentes no mundo contemporâneo.

13. A solidariedade mundial ficou patente na atual pandemia: algumas das regiões mais pobres do Planeta, como vários países africanos, receberam, gratuitamente, vacinas para imunizar a maioria absoluta de suas populações.

14. (QUADRIX/CRP-10/2022 – ASSISTENTE ADMINISTRATIVO) Para enfrentar a pandemia do coronavírus, todos os países promoveram a vacinação em massa da população.

(QUADRIX/CRECI-RO/2022 – FISCAL) Enquanto a renda de 99% da humanidade caiu durante a pandemia, um novo bilionário surgiu a cada 26 horas, e os dez homens mais ricos do mundo mais que dobraram as suas fortunas, na comparação entre março de 2020 e novembro de 2021. Os dados são de um relatório da Oxfam. Ao mesmo tempo, a renda de 99% das pessoas caiu e mais de 160 milhões foram empurrados para a pobreza, enquanto 17 milhões morreram de covid-19.

Folha de S. Paulo, 17/1/2022, p. A 13 (com adaptações).



Tendo o texto acima como referência inicial e considerando os aspectos relevantes do atual cenário mundial, julgue os itens.

15. A crise sanitária gerada pelo novo coronavírus foi definida como pandemia pela Organização Mundial da Saúde (OMS), por ser amplamente disseminada.

16. No Brasil, a covid-19 causou reduzido número de mortes devido à vacinação em massa da população logo que o vírus chegou ao País.

17. O texto deixa claro que os efeitos dramáticos da covid-19 não se restringem apenas à saúde, mas envolvem também aspectos sociais e econômicos.

18. Conclui-se do texto que a covid-19 penalizou mais as populações pobres, seja pela perda de rendimentos, seja pelo número de mortes.

(QUADRIX/CRECI-RO/2022 – FISCAL) Nos dias atuais, as mudanças ocorrem rápida e profundamente. As transformações acontecem dia após dia, atingindo os mais variados setores. Considerando esse cenário tão dinâmico, tanto no Brasil quanto no mundo, julgue os itens.

19. A pandemia da covid-19 se alastrou porque a ciência não foi capaz de produzir vacinas para enfrentar esse gravíssimo problema de saúde pública.

20. O Senado brasileiro não conseguiu criar uma Comissão Parlamentar de Inquérito (CPI) para investigar atos e omissões relativos à pandemia da covid-19.

21. (CESGRANRIO/BASA/2022 - TÉCNICO BANCÁRIO) Considere o texto sobre a vacinação contra a Covid-19 no Brasil.

O Brasil atingiu a marca de mais de 300 milhões de doses de vacinas contra a Covid-19 aplicadas desde o início da campanha de vacinação, informou hoje (19 de novembro) o Ministério da Saúde (MS). Até o momento, 157,6 milhões de pessoas receberam a primeira dose e 129,8 milhões tomaram as duas doses ou a dose única da vacina, o que representa que 73,3% da população-alvo completou o ciclo vacinal.

Disponível em: <https://agenciabrasil.ebc.com.br>. Acesso em: 20 nov. 2021. Adaptado.

Com o objetivo de fortalecer a imunização da população contra a Covid-19, o governo liberou, em novembro de 2021, a terceira dose ou dose de reforço para o seguinte segmento:

- (A) crianças entre 0 e 7 anos de idade.
- (B) adolescentes até 16 anos de idade.
- (C) adultos acima de 18 anos de idade.
- (D) adolescentes até 18 anos de idade.
- (E) crianças entre 7 e 14 anos de idade.



22. (CESGRANRIO/BASA/2022 - TÉCNICO CIENTÍFICO) A vacinação contra Covid-19 no Brasil foi iniciada no dia 17 de janeiro de 2021, quando o país já contava 210 mil mortos pela doença. Os primeiros seis milhões de doses foram da vacina CoronaVac, importadas pelo Instituto Butantan, em uma colaboração com a empresa chinesa Sinovac Biotech. Em 2021, a vacinação contra Covid-19 no Brasil sucedeu do seguinte modo:

(A) no primeiro semestre, toda a população adulta estava vacinada com as duas doses.

(B) no primeiro semestre, foi iniciada a vacinação com a terceira dose para a população idosa.

(C) no segundo semestre, mais de 60% da população estava vacinada com as duas doses.

(D) no segundo semestre, toda a população estava imunizada com a vacina de dose única.

(E) no segundo semestre, 60% das crianças menores de 12 anos estavam imunizadas com a vacina de dose única.

(CEBRASPE/ICMBio/2022 – ANALISTA AMBIENTAL) Enquanto sonhamos com o dia em que a Organização Mundial da Saúde decretará o fim do “período de exceção” causado pela covid-19, habitam nosso imaginário temores e dúvidas. Após um período de relativa calma propiciado pelas vacinas, somos apanhados por essa nova variante tão diversa da cepa original, pelas dezenas de mutações em sua estrutura, que os virologistas já a definem quase como se fosse um novo patógeno.

Internet: <<https://blogs.oglobo.globo.com>> (com adaptações).

Com relação à pandemia de covid-19 e a seus desdobramentos no mundo nos últimos dois anos, julgue os itens a seguir.

23. A vacinação da população e a retomada do crescimento econômico têm aumentado a oferta de postos de trabalho presencial em diversos países, de forma que o teletrabalho ou trabalho remoto desenvolvido durante a pandemia está aos poucos diminuindo, deixando de configurar uma tendência.

24. A vacinação tem contribuído para diminuir os efeitos negativos da pandemia, como o óbito dos infectados pelo coronavírus.

25. Os impactos econômicos da pandemia de covid-19 atingiram tanto os países mais ricos quanto os mais pobres, mas, em todo o mundo, foram rapidamente superados pela retomada do crescimento da economia global após a vacinação em massa da população.

26. Laboratórios farmacêuticos, centros de pesquisa e universidades contribuíram para o desenvolvimento de vacinas de combate ao vírus SARS-CoV-2, o que demonstra a importância do desenvolvimento tecnológico na atualidade em diferentes setores, com destaque para a saúde humana.

(CEBRASPE/FUNPRESP-EXE/2022 – ANALISTA) Em meio à circulação da variante Ômicron, países ricos e de média renda apressam a aplicação da dose de reforço das vacinas. Enquanto isso, os mais pobres têm menos de 10% de suas populações com uma dose e dependem de doações para acelerar a imunização. No entanto, 2022 começa com menos de 50% das vacinas prometidas entregues em 2021. Apenas pelo



mecanismo Covax, criado pela Organização Mundial da Saúde (OMS), a meta era entregar 2 bilhões de doses doadas pelos países ricos às nações de baixa renda. Menos de 30% foram entregues.

O Estado de S. Paulo, 2/1/2022, p. A9 (com adaptações).

Tendo o texto acima como referência inicial e considerando aspectos marcantes do cenário mundial contemporâneo, julgue os itens seguintes.

27. Embora, ao longo da História, tenha havido vários surtos epidêmicos, como o da peste negra e da gripe espanhola, a covid-19 é considerada a primeira pandemia por que passou a humanidade.

28. O avanço científico e as incessantes inovações tecnológicas, em larga medida responsáveis pela configuração da atual economia globalizada, foram decisivos para a rápida resposta, via vacinas, ao desafio trazido pelo coronavírus.

29. Independentemente de posições político-ideológicas, as autoridades governamentais mundo afora, como o francês Macron, a alemã Merckel e, sobretudo, o norte-americano Trump, compreenderam a gravidade da covid-19, aliaram-se à ciência e estimularam as respectivas populações a obedecer os protocolos sanitários para o adequado enfrentamento da pandemia.

30. (QUADRIX/CFT/2021 – ASSISTENTE ADMINISTRATIVO) A tragédia da saúde no contexto da pandemia no Brasil teria sido muito maior se não fosse o atendimento público do Sistema Único de Saúde (SUS) e a atuação de instituições como o Instituto Butantã e a Fiocruz na produção de vacinas e medicamentos.

31. (QUADRIX/CFT/2021 – JORNALISTA) O descumprimento da quarentena contra a disseminação do coronavírus e a prestação de informações sanitárias falsas por jogadores argentinos fez os agentes da Agência Nacional de Vigilância Sanitária (Anvisa) entrarem em campo durante uma partida de futebol entre Brasil e Argentina e interditar essa partida válida pelas eliminatórias da Copa de 2022.

(QUADRIX/CREFONO 4ª REGIÃO/2021 – ASSISTENTE ADMINISTRATIVO) O grande tema de 2020, em escala global, foi a pandemia da covid-19. A primeira morte causada pela doença foi anunciada em janeiro, em uma província chinesa. De lá para cá, o número de infectados e de mortes cresceu exponencialmente. Uma corrida para a produção de vacinas para enfrentar a pandemia envolveu países, instituições e cientistas. Paralelamente, a questão ambiental viu ampliada a sua presença na agenda do mundo contemporâneo.

Considerando o texto acima como referência inicial, julgue os itens a seguir.

32. A América, incluído o Brasil, permanece sendo uma das regiões do mundo menos afetadas pela pandemia.

33. No Brasil, a pandemia evidenciou, nos mais diversos níveis, a solidez e a capacidade de atendimento do sistema público de saúde do País.

34. O isolamento social também foi adotado pelo Brasil para enfrentar a covid-19, mas templos religiosos e escolas mantiveram-se abertos e em pleno funcionamento.



35. A coordenação mundial do monitoramento e do combate à pandemia ficou a cargo da Organização Mundial de Saúde (OMS), uma agência especializada da Organização das Nações Unidas (ONU).

(QUADRIX/CREFONO 4ª REGIÃO/2021 – FONOAUDIÓLOGO FISCAL) Relativamente ao cenário mundial da atualidade, julgue o item a seguir.

36. O enfrentamento da atual pandemia da covid-19, paradoxalmente, não tem contado com o concurso da ciência, talvez pelo fato de não haver interesse dos grandes grupos financiadores de pesquisa em investir na saúde.

37. (VUNESP/PREFEITURA DE FERRAZ DE VASCONCELOS-SP/2021 - ASSISTENTE SOCIAL) O Instituto Butantã de São Paulo está desenvolvendo outra vacina (Butanvac) contra o Covid 19 usando a mesma plataforma da vacina da influenza, ou seja, a Butanvac empregará a mesma tecnologia utilizada no imunizante da gripe. Todos os processos produtivos, desde a qualificação dos ovos embrionados até o envase serão realizados pelo Butantã. Entretanto, o vetor usado pela vacina tem origem em tecnologia desenvolvida por um instituto

(lg. Disponível em <https://bityli.com/iQrxl>. Acesso em 02.03.2021. Adaptado)

A) chinês.

B) estadunidense.

C) inglês.

D) russo.

E) indiano.

38. (VUNESP/PREFEITURA DE FERRAZ DE VASCONCELOS/GUARDA MUNICIPAL – 2020) Neste sábado, 13, o governo anunciou que em setembro começará a produzir grandes lotes de uma vacina contra a covid-19. “Os testes clínicos serão realizados em julho, o registro estatal em agosto e a produção começará em setembro”, disse Tatyana Golikova, vice-primeira-ministra, em entrevista coletiva. De acordo com o Kremlin, 50 soldados – 45 homens e cinco mulheres – ofereceram-se para participar dos testes clínicos. O Centro Nacional de Investigação em Epidemiologia e Microbiologia Gamalei, que trabalha em cooperação com o Ministério da Defesa, será o responsável pela produção.

(Veja. <https://cutt.ly/VfRlXmO>. Publicado em 13.06.2020. Adaptado)

De acordo com a notícia, o anúncio sobre a produção de vacina contra a covid-19 foi feito

(A) pelos E.U.A.

(B) pela Inglaterra.

(C) pela China.

(D) pela Rússia.



(E) pela Itália.

(QUADRIX/CRB-1/2020 – BIBLIOTECÁRIO FISCAL) “Desmatador não faz home office”, alerta o biólogo Paulo Moutinho, que é cientista sênior do Instituto de Pesquisa Ambiental da Amazônia (Ipam); ele diz que ações ilegais avançam na floresta enquanto o governo reduz operações durante a pandemia do coronavírus.

Internet: <<https://epoca.globo.com>> (com adaptações).

Tendo o texto acima apenas como referência inicial e refletindo sobre temas correlatos, julgue os itens.

39. As populações indígenas da Amazônia, em decorrência de um relativo isolamento geográfico, não foram afetadas pelo novo coronavírus.

40. Trabalhadores informais, os que mais sofreram redução de renda durante a pandemia do novo coronavírus, são maioria entre os que aderiram ao home office.

41. Há controvérsias, entre os especialistas, a respeito de se as vantagens e os benefícios recebidos pelos trabalhadores em condições normais, como o auxílio-alimentação, podem ser suspensos caso a empresa opte pelo sistema de teletrabalho.

42. Segundo especialistas, o sistema de home office, criado durante a pandemia, é apenas uma fase passageira no mercado de trabalho e deverá sofrer substancial redução após o controle do novo coronavírus.

(QUADRIX/CRB-1/2020 – BIBLIOTECÁRIO FISCAL) Um vírus é bem mais poderoso que qualquer um de nós, embora alguns posem de super-heróis. Nenhuma ação isolada resolve um problema coletivo, embora cada um de nós seja responsável por tudo e por todos, lição que Dostoiévski nos deu muito antes do coronavírus – aliás, está aí um daqueles projetos para se colocar em prática: ler o escritor russo na quarentena.

Internet: <<https://www.greenme.com.br>> (com adaptações).

Acerca das consequências da pandemia do novo coronavírus para o mundo e para o Brasil, julgue os itens.

43. Imagens de satélites mostraram uma diminuição da poluição atmosférica em várias regiões do mundo, relacionada à desaceleração econômica provocada pela pandemia.

44. No dia 16 de março último, ocorreu, no Brasil, a primeira morte pelo novo coronavírus, no estado de São Paulo, sendo a vítima um homem sem histórico de viagem ao exterior.

45. Diversas autoridades brasileiras, como o presidente do Senado, governadores e ministros de Estado, estão entre as pessoas que contraíram o novo coronavírus.

46. Um livro publicado nos Estados Unidos, em 1981, trazia, em sua primeira edição, a possibilidade de surgimento de um vírus em 2020, na cidade de Wuhan, na China, com características de letalidade e transmissão idênticas às do novo coronavírus.



47. Em março último, o presidente norte-americano, Donald Trump, acusou o governo alemão de tentar se apropriar de um projeto de vacina desenvolvido por uma empresa dos Estados Unidos contra o novo coronavírus.

48. (IBAM/PREFEITURA DE SANTOS/2020 – OFICIAL ADMINISTRATIVO) Leia atentamente as informações contidas nos itens a seguir.

I. Alguns analistas avaliam que a epidemia de coronavírus, em virtude de seus efeitos na economia global, deve contribuir para a desaceleração da atividade no Brasil.

II. O Coronavírus pertence a uma família de vírus que infectam apenas seres humanos; os animais são imunes a infecção viral.

III. Apesar do alarde da imprensa, a Organização Mundial de Saúde (OMS) já anunciou que o coronavírus só é preocupante na China, não configurando um caso de “emergência de saúde pública internacional.

IV. No final de dezembro de 2019, a Organização Mundial de Saúde (OMS) foi alertada sobre vários casos de pneumonia em Wuhan, na China. O vírus parecia desconhecido, mas, poucos dias depois, as autoridades confirmaram a identificação de um novo coronavírus.

Considerando o noticiado pela imprensa em geral sobre o coronavírus, podemos considerar correto o anotado:

- a) nos itens I e III, apenas.
- b) nos itens I e IV, apenas.
- c) nos itens II e IV, apenas.
- d) no item II, apenas.

49. (IBADE/IDAF-AC/2020 – TÉCNICO EM DEFESA AGROPECUÁRIA E FLORESTAL) Autoridades sanitárias da China confirmaram neste sábado (18 de janeiro), quatro novos casos da misteriosa pneumonia viral detectada (...), na região central do país. O surto da doença, iniciado em dezembro, é causado por um tipo de coronavírus semelhante ao da Síndrome Respiratória Aguda Grave (Sars).

(G1, 18/01/2020. Disponível em: < [https:// https://glo.bo/3bhs4c2](https://glo.bo/3bhs4c2)>. Adaptado)

O surto da misteriosa doença teve início na cidade de:

- (A) Pequim.
- (B) Wuhan.
- (C) Xangai
- (D) Dongguan



(E) Nanjing

50. (IBADE/IDAF-AC/2020 – ENGENHEIRO AGRÔNOMO) A OMS (Organização Mundial da Saúde) divulgou nesta terça-feira (14) que a Tailândia registrou o primeiro caso do novo coronavírus que já causou uma morte e deixou dezenas de doentes na China.

(R7, 14/01/2020. Adaptado)

Sobre o novo tipo de coronavírus é possível afirmar:

- (A) são uma família de vírus com taxa de letalidade maior que a Síndrome Respiratória Aguda Grave (SARS).
- (B) apesar do maior número de casos ter sido registrado na China, especialistas apontam que sua origem é a Índia.
- (C) são uma família viral conhecida e que costumam causar infecções respiratórias de leve a moderada em seres humanos, muito semelhantes a resfriados.
- (D) a OMS informou que a maioria dos casos confirmados foram de pessoas que não se vacinaram contra o vírus.
- (E) a OMS informa que é possível combater rapidamente a epidemia pelo fato de o vírus não apresentar variações genéticas.



GABARITO



- | | | |
|-------|-------|-------|
| 1. C | 18. C | 35. C |
| 2. E | 19. E | 36. E |
| 3. D | 20. E | 37. B |
| 4. E | 21. C | 38. D |
| 5. C | 22. C | 39. E |
| 6. C | 23. E | 40. E |
| 7. E | 24. C | 41. C |
| 8. C | 25. E | 42. E |
| 9. C | 26. C | 43. C |
| 10. E | 27. E | 44. E |
| 11. E | 28. C | 45. C |
| 12. C | 29. E | 46. E |
| 13. E | 30. C | 47. E |
| 14. E | 31. C | 48. B |
| 15. C | 32. E | 49. B |
| 16. E | 33. E | 50. C |
| 17. C | 34. E | |



TÓPICOS SOBRE ECONOMIA BRASILEIRA

PIB

O Produto Interno Bruto (PIB) mede o tamanho de uma economia, seja a de um país, de uma região, de um mercado comum ou município. Ele representa a soma de todas as riquezas produzidas, e um crescimento zero no ano significa que elas se mantiveram no mesmo nível do período anterior. Entre os principais pontos que fazem uma economia crescer estão seu poder de produzir e de vender, que precisa manter-se em expansão; a renda e o consumo da população; e a capacidade de gerar ou atrair recursos.

O setor com maior participação na composição da riqueza nacional é o de **serviços (terciário)**, que representa aproximadamente 72,5% do PIB. Em seguida, vem o **setor industrial (secundário)**, com cerca de 20,8%, e a **agropecuária (primário)**, com aproximadamente 6,7% (DataSebrae – 1º trimestre/2018).

O desempenho do PIB é medido trimestralmente e anualmente e pode ser positivo, zero ou negativo. Quando o PIB cresce negativamente por dois trimestres, há uma **recessão técnica**.

O Brasil passou por uma crise econômica nos anos de 2015 e 2016, o que se refletiu em uma queda ou um crescimento negativo do PIB nesses anos. Nos três anos seguintes - 2017, 2018 e 2019 - a economia brasileira registrou crescimento positivo, mas em patamares muito baixos.

A expectativa para 2020 era de um crescimento maior da economia brasileira, em relação aos anos anteriores. Mas isso não ocorreu, devido à pandemia de Covid-19. O coronavírus provocou abalos nos mercados globais, afetando atividades econômicas no mundo todo, com impactos nas cadeias globais de suprimentos e no comércio global. Com isso, o PIB brasileiro registrou queda de 3,9%, tendo o seu pior desempenho desde o ano de 1996 e a economia entrou em recessão. Nos anos seguintes, a economia brasileira se recuperou da queda, apresentando um bom crescimento do PIB, embora com oscilações.

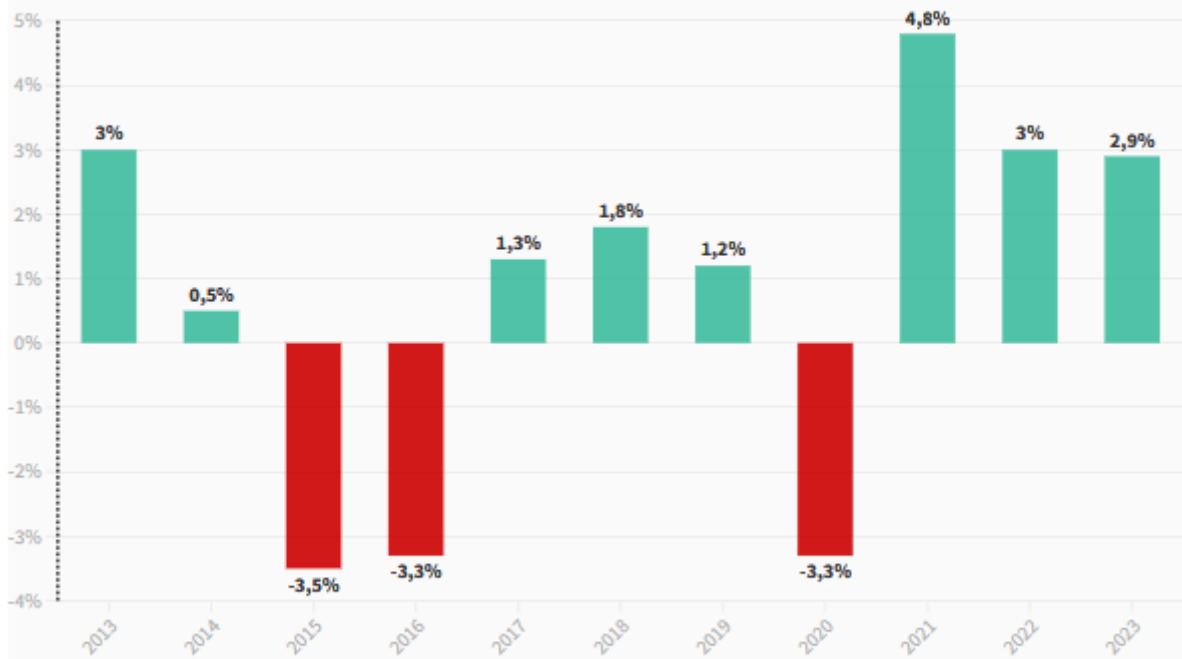
No ano de 2023, o PIB cresceu 2,9%. O maior destaque positivo foi a agropecuária, que cresceu 15,1% de 2022 para 2023. O bom desempenho da agropecuária foi puxado pela produção recorde de soja e milho, duas das mais importantes lavouras do Brasil. Indústria e serviços também tiveram crescimento, de 1,6% e 2,4%, respectivamente. O destaque do setor industrial foi para indústrias extrativas, com alta de 8,7%, devido ao aumento da extração de petróleo e gás natural e de minério de ferro, dois importantes produtos de exportação do país.

No gráfico abaixo, veja a série recente do PIB brasileiro:



Evolução do PIB brasileiro nos últimos 10 anos

Economia cresceu 2,9% em 2023



Fonte: IBGE




A posição brasileira entre as maiores economias do mundo

A economia brasileira teve um dos seus piores desempenhos da história na década 2011-2020. Com isso, no ano de 2020, o Brasil caiu para a 12ª colocação no ranking das maiores economias, e em 2021 para a **13ª colocação**, conforme levantamento da agência de classificação de risco Austin Rating e o ranking do Fundo Monetário Internacional (FMI). Em 2019, o Brasil estava na 9ª posição.

A recuperação econômica, entretanto, recolocou o país de volta entre as dez maiores economias do mundo. Segundo ranking da Austin Rating, o país saiu da 13ª posição no 4º trimestre de 2021 para a **9ª** em 2023, superando Rússia, Coreia do Sul, Austrália e Canadá.

A maior economia do mundo segue sendo a dos EUA. Compõem o top 3 a China e o Japão. O gráfico ao lado mostra o ranking das maiores economias do mundo:





Inflação

Inflação é a elevação dos preços de produtos e serviços que resulta na diminuição do valor de compra do dinheiro. A inflação sempre existiu, mesmo com índices muito pequenos. Quando o indicador é negativo, chama-se **deflação**.

Uma inflação elevada e contínua desorganiza a economia ao alterar o valor do dinheiro, elemento central do sistema econômico. A inflação atinge mais duramente quem não possui formas fáceis para corrigir seus ganhos, como os assalariados.

A principal causa para a inflação é a chamada demanda, que significa a procura por bens e serviços. Por exemplo, se muita gente quer comprar um artigo e não tem para todos, o preço aumenta. É a lei da oferta e da procura. É o que ocorre com frutas e legumes fora da estação (na entressafra).

O tormento da inflação incomodou durante muito tempo a vida nacional. O Brasil viveu uma situação de inflação em alta no decorrer da década de 1980, até desaguar numa **hiperinflação** acima de 900% ao ano a partir de 1988. Isso significa que os preços estavam se multiplicando mais de dez vezes a cada período de 12 meses.



Cinco planos econômicos foram implementados no decurso de oito anos, com o objetivo de domar a inflação, sem obter um sucesso duradouro. No mesmo período, o Brasil trocou cinco vezes de moeda, já que as cédulas perdiam o valor muito rapidamente. A inflação chegou a 2.477% em 1993, o que significa que os preços se multiplicaram por 25 durante aquele ano. O Plano Real, implementado em julho de 1994, no governo de Itamar Franco, derrubou a taxa de inflação. Desde então, sua variação acontece em patamares reduzidos.

O Brasil adota o regime de **metas anuais de inflação**, estabelecidas pelo **Conselho Monetário Nacional (CMN)**. Esse sistema prevê que a inflação medida pelo IPCA (Índice de Preços ao Consumidor Amplo) deve ficar dentro de um limite de tolerância; ou seja, dentro de uma faixa estabelecida.

O governo estabelece, para cada ano, uma meta central de inflação, que é uma taxa fixa que deve ser buscada. A partir desse número, é estabelecida uma faixa de tolerância, ou seja, quanto a inflação real pode variar acima ou abaixo dessa meta.

O sistema de metas foi adotado como segurança para evitar o risco da hiperinflação, que atingiu o país nas décadas de 1980 e 1990 e só foi freada com o Plano Real em 1994.

Quem deve cumprir a meta estabelecida pelo Conselho Monetário Nacional é o Banco Central (BC), que, para isso, adota várias políticas, entre as quais o controle da taxa básica de juros. Com a reforma ministerial do presidente Jair Bolsonaro, a composição do Conselho mudou, mas as áreas que o integram continuam as mesmas. Anteriormente o colegiado era formado pelos ministros da Fazenda e do Planejamento e pelo presidente do Banco Central. Com a criação do Ministério da Economia, o CMN passou a ser formado pelo Ministro da Economia, Secretário Especial de Fazenda do Ministério da Economia e pelo Presidente do Banco Central.

Veja no gráfico a seguir as metas de inflação dos anos de 2022 a 2026:

Teto	5,00%	4,75%	4,5%	4,5%	4,5%
Meta Central	3,50%	3,25%	3%	3%	3%
Piso	2,00%	1,75%	1,5%	1,5%	1,5%
Ano	2022	2023	2024	2025	2026

O principal mecanismo para manter a inflação sob controle no Brasil é a **taxa de juros**. Toda vez que os preços sobem acima do nível esperado, o Banco Central intervém com a elevação da taxa Selic. Isso faz o crédito ficar mais caro, e incentiva as pessoas e as empresas a gastarem menos. Se todos gastam menos, a tendência é que os preços também subam menos.

Inflação em 2023

No ano de 2023, a inflação oficial acumulada foi de **4,62%**. Foi um resultado considerado bom, pois a inflação foi menor do que em 2022 e ficou dentro da meta estabelecida para este ano. Destaca-se que, dentre os



grupos verificados para medir a inflação, o grupo de transportes teve o maior impacto anual na inflação do ano, pois a gasolina encareceu 12,09%.

Juros

Os juros são o dinheiro a mais que uma pessoa ou empresa paga ao sistema bancário ao devolver um empréstimo, além do valor original corrigido pela inflação. Eles podem ser considerados uma remuneração pelo fato de que quem empresta corre o risco de o dinheiro não ser devolvido.

O governo tem uma relação estreita com os juros, pois é o maior agente econômico do país. Ele empresta dinheiro aos bancos para as suas necessidades diárias e cobra por isso: essa taxa de juros básica se chama **taxa Selic**. Como esse empréstimo é seguro, serve de referência para a economia. Os juros que os bancos cobram dos clientes para empréstimos, cheque especial e cartão de crédito são muito mais elevados que a taxa Selic.

Como a taxa de juros define o custo do dinheiro, os governos a utilizam para controlar a inflação: quanto mais alta a taxa de juros, mais caros ficam os empréstimos, o que funciona como um freio nas atividades produtivas (pois o crediário fica caro para o consumidor e o financiamento fica caro para o produtor). Se há menos compras (“demanda”, na linguagem econômica), os preços não sobem e a inflação fica baixa. Quando a prioridade do governo é estimular a atividade econômica, uma das medidas é baixar os juros.

Quem define a taxa Selic é o **Comitê de Política Monetária (Copom)** do Banco Central. O órgão é formado por membros do colegiado do Bacen, que, além do próprio presidente do Banco Central, inclui oito diretores. O Copom se reúne a cada 45 dias para analisar a situação econômica do país e definir a taxa, por isso, as reuniões costumam ser eventos muito aguardados por grande parte dos investidores no mercado financeiro.

É importante ficarmos sempre atentos à decisão das reuniões, pois é um assunto bastante cobrado nas provas. A taxa Selic hoje está em 10,50% ao ano. Ela foi decidida no dia 8 de maio de 2024 e representa uma queda em relação à reunião de janeiro, quando os juros estavam em 10,75% ao ano. Nos últimos meses, o colegiado tem realizado uma redução progressiva na taxa, que atingiu seu valor maior nos tempos recentes em agosto de 2022, quando chegou no patamar de 13,75%.

Taxa de Câmbio

A taxa de câmbio é o valor pelo qual a nossa moeda é trocada por moedas estrangeiras, principalmente pelo dólar, que é a referência no mercado mundial. O comércio exterior é diretamente afetado pela taxa de câmbio.

Se o real vale pouco, nossas mercadorias são exportadas por valor menor (o que as torna atraentes). Isso ajuda o setor exportador, mas o importar fica mais caro. Quando o real se valoriza, nossos produtos ficam caros lá fora, mas é mais barato importar. Facilitar as importações ajuda a derrubar a inflação, pois amplia a oferta de mercadorias externas a preço baixo.



Vejamos um exemplo: As transações no comércio internacional são feitas em dólares. Um fabricante brasileiro produz canetas. Cada caneta tem um custo final para a exportação de R\$ 4,00. Suponhamos que 1 dólar esteja valendo R\$ 4,00, assim, o preço da caneta para a exportação será de US\$ 1,00. Agora suponhamos que o real se apreciou perante o dólar. Cada dólar está valendo R\$ 2,00 no mercado brasileiro. Assim, cada caneta terá que ser exportada por dois dólares, o equivalente a R\$ 4,00. O produto brasileiro ficou mais caro no mercado internacional e com um preço menos competitivo em relação a similares de fabricantes de outros países que podem ter um preço final em dólar menor do que o produto brasileiro.

O mesmo acontece com a importação. Uma empresa brasileira importa canetas para vender no mercado interno. Cada caneta custa 1 dólar. A moeda americana está valendo dois reais no Brasil. O importador brasileiro pegará os seus reais e comprará dólares para pagar a empresa estrangeira que lhe vendeu as canetas. Por cada dólar, pagará R\$ 2,00. Assim, a caneta teve um custo unitário de importação de R\$ 2,00. Porém, o dólar ficou apreciado perante o real. Cada dólar está valendo R\$ 4,00. A caneta continua custando 1 dólar, mas cada dólar que o importador brasileiro tem que comprar para pagar as canetas importadas lhe custará R\$ 4,00. O custo final da caneta vendida no mercado brasileiro vai aumentar. Como o produto ficou mais caro, ele terá um preço menos competitivo em relação a similares produzidos no Brasil e ele vai impactar na inflação que poderá aumentar.

Muitos produtos vendidos no mercado brasileiro, principalmente de maior tecnologia, não são produzidos no nosso país, são importados. E a variação da taxa de câmbio impacta no preço final desses produtos e na taxa de inflação.

Balança Comercial

A balança comercial é o conjunto de tudo o que o país exporta e importa em um ano. A soma desses valores é o total do comércio exterior nacional. Já o saldo da balança comercial é o resultado do valor exportado, retirando-se o valor importado. Quando o país vende mais do que compra no exterior, consegue um saldo positivo: é o **superávit** da balança comercial. Quando o resultado é negativo, dá-se o nome de **déficit**.

O Brasil é um grande exportador de *commodities* (produto básicos), tais como o minério de ferro, a soja em grão, o café em grão, o milho em grão, a carne in natura, o açúcar, o aço e a celulose. Como exportamos muito e as importações dessa categoria de produtos são bem menores, as *commodities* têm uma contribuição decisiva para o superávit da nossa balança comercial.

Porém, num contexto em que o mundo é globalizado, ficam vulneráveis os países que mantêm o foco da economia na produção de *commodities*. Em primeiro lugar, porque os preços desses produtos estão sujeitos a fortes oscilações. Em segundo lugar, porque as *commodities* são produtos baratos quando comparados aos manufaturados. Ou seja, é preciso exportar muita *commodity* para pagar importações de produtos de alta tecnologia, como equipamentos de computação ou máquinas industriais, por exemplo.

Ao longo dos anos recentes, a balança comercial brasileira tem apresentado sucessivos aumentos com grandes superávits. Em 2023, registrou superávit recorde de US\$ 98,8 bilhões.



A China é o principal importador do Brasil e o principal exportador para o Brasil. Ou seja, é o nosso **principal parceiro comercial**, com o qual o Brasil tem obtido, ao longo dos últimos anos, expressivos superávits comerciais.

Classificação de Risco de Crédito

A classificação de risco por agências estrangeiras representa uma medida de confiança dos investidores internacionais na economia de um determinado país. As notas servem como referência para os juros dos títulos públicos, que representam o custo para o governo pegar dinheiro emprestado dos investidores. As agências também atribuem notas aos títulos que empresas emitem no mercado financeiro, avaliando a capacidade de as companhias honrarem os compromissos.

O grau de investimento funciona como um atestado de que os países não correm risco de dar calote na dívida pública. Abaixo dessa categoria, está o grau especulativo, cuja probabilidade de deixar de pagar a dívida pública sobe à medida que a nota diminui. Quando um país dá calote, os títulos passam a ser considerados como lixo. O mesmo vale para as empresas.

As agências mais conceituadas pelo mercado são a Fitch, a Moody's e a Standard & Poor's (S&P), que, periodicamente, enviam técnicos aos países avaliados para analisarem as condições da economia. Uma avaliação positiva faz um país e suas empresas levantarem recursos no mercado internacional com custos menores e melhores condições de pagamento.

Da mesma forma, uma boa classificação atrai investimentos estrangeiros ao país. Fundos de pensão estrangeiros investem apenas em países com grau de investimento concedido por, pelo menos, duas agências de classificação de risco. Caso contrário, o país passa a ser considerado de grau especulativo.




Nos anos de 2015 e 2016, o Brasil teve a sua nota rebaixada para o grau especulativo, usando como justificativa do rebaixamento a piora na situação das contas públicas, com déficits fiscais, e a demora para se aprovar medidas fiscais que contribuíssem para o reequilíbrio das contas públicas, como a reforma da Previdência Social.

Essa situação permaneceu 2023, quando as agências Fitch e S&P aumentaram a nota do Brasil pela primeira vez em anos, passando a sua classificação de BB- para BB+, mas ainda dentro da categoria de especulação, uma baixa classificação. Veja no infográfico abaixo:



Brasil sem selo de bom pagador

Veja nota do país nas principais agências de risco

Fitch Ratings	Moody's	Standard & Poor's	Significado na escala
AAA	Aaa	AAA	↑ Grau de investimento com qualidade alta e baixo risco
AA+	Aa1	AA+	
AA	Aa2	AA	
AA-	Aa3	AA-	
A+	A1	A+	
A	A2	A	
A-	A3	A-	
BBB+	Baa1	BBB+	Grau de investimento, qualidade média
BBB	Baa2	BBB	
BBB-	Baa3	BBB-	
BB+	Ba1	BB+	↓ Categoria de especulação, baixa classificação
BB 	Ba2 	BB 	
BB-	Ba3	BB-	
B+	B1	B+	
B	B2	B	
B-	B3	B-	
CCC	Caa1	CCC+	
CC	Caa2	CCC	
C	Caa3	CCC-	
RD	Ca	CC	
D	C	C	
		D	↓ Risco alto de inadimplência e baixo interesse

g1 Infográfico atualizado em: 19/12/2023
 Fonte: Fitch Ratings; Standard & Poor's; Moody's



AGROPECUÁRIA E AGRONEGÓCIO

Pessoal, agropecuária e agronegócio não são a mesma coisa. Falamos de conceitos diferentes.

A **agropecuária** é o conjunto de atividades ligadas ao cultivo de plantas e a criação de animais para o consumo humano. **É um dos três setores para o cálculo do PIB, é o setor primário da economia.**

O **agronegócio** é mais do que a agricultura e a pecuária. É o conjunto de atividades econômicas ligadas à produção agropecuária, incluindo os fabricantes e fornecedores de insumos, os equipamentos e os serviços para a zona rural, bem como a comercialização dos produtos. Ou seja, é toda a cadeia produtiva vinculada à agropecuária.

O setor agropecuário é um dos motores da economia brasileira. Impulsiona parte importante da indústria e dos serviços, numa cadeia produtiva chamada de agronegócio, além de ter papel fundamental no conjunto das exportações.

Nas últimas três décadas, a produção agrícola do Brasil mais do que dobrou em volume, e a pecuária praticamente triplicou, principalmente com base nas melhorias da produtividade.

O Brasil é um dos gigantes da agropecuária no mundo. De acordo com a Organização Mundial do Comércio (OMC), o país é o segundo maior produtor agrícola do planeta, atrás dos Estados Unidos. Mas a previsão da Organização das Nações Unidas para Alimentação e Agricultura (FAO) é de que o país alcance a liderança do ranking até 2026.

É o maior produtor e exportador mundial de açúcar, café e suco de laranja. É o segundo maior produtor e o maior exportador de soja do mundo. O Brasil está ainda entre os maiores produtores e exportadores de carne bovina, frango e milho. Além de garantir o abastecimento do mercado interno, o Brasil tornou-se o segundo maior exportador mundial de alimentos, atrás dos EUA.

Como vimos, a agropecuária responde por cerca de 6,7% do PIB brasileiro. Porém, quando calculamos a participação do agronegócio no PIB brasileiro, esse percentual fica em torno de 23%, uma grande diferença.

O agronegócio responde por cerca de 40% das exportações do país. Exportamos muito e importamos pouco, o que faz com que a balança comercial setorial do agronegócio seja altamente superavitária. O que também torna o agronegócio determinante para a obtenção dos superávits comerciais da balança comercial brasileira.

A soja foi responsável por 37,1% do valor da produção agrícola (VBP), mantendo-se no topo do ranking desde 1994, com exceção ao ano de 1996, quando a cana-de-açúcar alcançou a primeira posição. Na sequência, os principais produtos foram a cana (15,2%), o milho (11,0%), o café total (6,6%) e o algodão herbáceo (em caroço) (3,7%). Essas cinco lavouras representaram 73,6% da produção total em 2018, sendo que 24% referem-se a soja.

Considerando somente a produção agrícola, **São Paulo é o estado com maior valor da produção**, com 15,5% de participação nacional, seguido de Mato Grosso (14,6%), Bahia (5,7%) e Mato Grosso do Sul (5,6%).



Na pecuária, os cinco principais produtos, por VBP, foram bovinos, frango, leite, ovos e suínos.

Ao analisarmos por regiões, a região com o maior VBP agropecuária é o Centro-Oeste, seguido do Sul, Sudeste, Nordeste e Norte. O **Mato Grosso** é o principal estado produtor da agropecuária, seguido do Paraná, São Paulo, Minas Gerais e Rio Grande do Sul.

Fatores da expansão da produção

A vocação agrícola do Brasil se explica em grande medida pelas características naturais do território. O clima tropical, que prevalece na maior parte do país com boa distribuição de chuvas sazonais, permite uma produção bastante diversificada. Há grandes volumes de solos férteis, como o massapé, predominante na região litorânea do Nordeste, e a terra roxa, no Sudeste e Centro-Oeste.

O enorme avanço da fronteira agrícola também contribui para a alta produtividade. De acordo com os dados preliminares do Censo Agropecuário de 2017 (IBGE), apenas nos últimos onze anos, a área ocupada pela agropecuária cresceu 16,5 milhões de hectares (alta de 5%). O total da área ocupada pela agropecuária no Brasil é de 350,25 milhões de hectares.

O Pará e o Mato Grosso foram os estados com as maiores altas. No Pará, o crescimento ocorreu principalmente por áreas de pastagens, enquanto no Mato Grosso, pela lavoura.

Outro fator relevante foi o **investimento em pesquisa**. Ao longo das últimas décadas, o Brasil construiu uma das maiores redes de pesquisa agropecuária do mundo. Um marco importante para o progresso no setor foi a criação da **Empresa Brasileira de Pesquisa Agropecuária (Embrapa)**, em 1973.

A Embrapa realiza estudos abrangentes, que vão desde recomendações de como corrigir solos ácidos e de baixa fertilidade até o desenvolvimento de variedades agrícolas adaptadas às baixas latitudes e às altas temperaturas tropicais. Além disso, é importante nas pesquisas de controle de pragas e doenças e também nas melhorias dos sistemas de produção.

De acordo com a Organização das Nações Unidas para Alimentação e Agricultura (FAO), o trabalho da Embrapa foi tão transformador para a agropecuária brasileira que ela hoje colabora ativamente na transferência de tecnologia e pesquisas adaptativas para economias emergentes, especialmente na América Latina, Caribe e África. Universidades e institutos também foram cruciais em pesquisas de alto nível, complementares às atividades da Embrapa, como nos campos da nutrição, saúde e meio ambiente.

A **mecanização na agricultura** é outro elemento importante. Nos anos 1960, o Brasil tinha apenas 61 mil tratores em atividade, contra 1,22 milhões atualmente (Censo Agro 2017/IBGE). Além disso, o desenvolvimento de novas tecnologias propiciou o aumento da eficiência de sistemas de irrigação, bem como o uso de softwares diversos para gerenciar a produção.

Todos esses fatores levaram o país a um grande salto nas últimas quatro décadas. No caso dos grãos, a área plantada passou de 27 milhões para 57 milhões de hectares, e o volume total produzido saltou de 29 milhões para cerca de 240 milhões de toneladas, um aumento de mais de oito vezes.

Por outro lado, o aumento da mecanização levou a uma diminuição do número de trabalhadores rurais. Entre 2006 e 2017 o número caiu de 16,56 milhões para 15,03 milhões.



Principais desafios da agropecuária e do agronegócio

As **questões ambientais, sociais** e as **precárias infraestruturas e logística** estão entre os principais desafios do setor agropecuário e do agronegócio no Brasil.

Questões Ambientais

O desenvolvimento de novas tecnologias proporcionou uma grande ampliação das áreas agrícolas. Antes concentradas no Sul e Sudeste, elas avançaram para solos menos férteis, especialmente o **Cerrado**. A partir da década 1990, a agricultura e a agropecuária tornaram-se os motores do avanço econômico do Centro-Oeste, que hoje é a região mais produtiva do país, responsável por cerca de 34% da produção agrícola brasileira, sendo a soja e o milho os dois principais produtos.

A fronteira agrícola hoje avança para as regiões Norte e Nordeste, entrando na área chamada de **Matopiba**, que abrange 337 municípios nos estados do Maranhão, Piauí, Bahia e Tocantins. A Floresta Amazônica também é alvo desse avanço, o que causa enorme **impacto ambiental**. Estudos indicam que quase metade do desmatamento da Amazônia é provocada para abrir pastos e lavouras de soja.

O uso de **agrotóxicos** e **sementes transgênicas** na agricultura brasileira tem sido motivo de polêmica em virtude dos eventuais riscos que podem oferecer para a saúde humana e para o meio ambiente. O uso dessas substâncias, segundo grandes produtores, seria indispensável para a produção em larga escala.

Para ruralistas, **áreas protegidas (unidades de conservação da natureza)** constituem entraves para a ampliação das áreas de cultivo e criação. Ruralistas pressionam para a flexibilização de categorias de proteção, de mais restritivas para mais brandas, e buscam dificultar a criação de novas unidades de conservação da natureza.

Questões Sociais

Na área social um dos conflitos diz respeito à **demarcação de terras indígenas e de quilombolas**, pois representariam, na visão de ruralistas, um obstáculo para o avanço do agronegócio.

Ocorrem também conflitos por terras entre grandes proprietários rurais e agricultores sem terras e/ou posseiros. A propriedade da terra é muito concentrada no Brasil, com um pequeno número percentual de proprietários detendo a propriedade de mais da metade das terras rurais e um grande número de agricultores e/ou trabalhadores rurais com pouca terra ou sem-terra no Brasil. Essa concentração de terras é a causa da violência no campo. A solução está na realização de uma efetiva reforma agrária em nosso país.

Por fim, há a questão do trabalho escravo. Em outubro de 2017, o então presidente Michel Temer editou uma portaria modificando as regras relativas ao trabalho escravo, atendendo uma antiga reivindicação da bancada ruralista no Congresso Nacional. O novo texto dificultava a libertação de pessoas nessa condição e também o processo de inclusão de nomes na chamada "lista suja" das empresas flagradas em irregularidades. A portaria, no entanto, foi suspensa pelo Supremo Tribunal Federal (STF) sob alegação de inconstitucionalidade. Em dezembro de 2017, o governo voltou atrás e reeditou a portaria, devolvendo seu texto original.



Infraestrutura e logística

Outro enorme desafio brasileiro são as **deficientes infraestrutura e logística**, que encarecem a distribuição para o mercado interno e dificultam a exportação. Há carência de silos para armazenar os grãos e insuficiente número de portos com condições adequadas para dar vazão à produção. Além disso, como a matriz de transporte brasileira é rodoviária, o custo para o escoamento e para a distribuição é bem alto. Calcula-se que a logística ineficiente nos transportes eleva em mais de 25%, em média, o preço dos produtos no mercado internacional.



INDÚSTRIA

A indústria brasileira tem andado de lado nos últimos anos. É uma expressão que se utiliza para dizer que o setor não tem tido crescimento. Ora tem um desempenho positivo, ora negativo, com momentos de retração da atividade industrial.

Um grande desafio do setor é a concorrência estrangeira dentro e fora do país. Com a globalização, as empresas transferem a produção para fábricas em países com menos impostos e mão de obra com salários mais baixos e colocam no mercado brasileiro produtos mais baratos.

Outro fator que influencia a atividade industrial é o câmbio. Quando nossa moeda se desvaloriza em relação à norte-americana, os produtos nacionais ficam mais baratos no exterior, o que facilita exportar. Com o real mais valorizado, é mais fácil importar bens de capital e mais difícil exportar. Os anos em que o real esteve muito valorizado, prejudicaram as exportações do setor.

Há também os próprios problemas de competitividade do setor, como a produtividade, qualificação de mão de obra e um certo atraso na inovação.

Por fim pesa o chamado **Custo Brasil**, como os juros elevados, excessiva burocracia e gargalos de infraestrutura, que tornam os produtos manufaturados mais caros e afetam a sua competitividade.

A indústria brasileira vive um **processo de descentralização**, do Sudeste para as demais regiões, principalmente para a região Sul, e das capitais para o interior dos estados. Os principais fatores que contribuem para a descentralização são: o deslocamento das fábricas para locais com incentivo fiscal do Estado; o crescimento da oferta de mão de obra qualificada fora das capitais, mas que aceita salários menores; o deslocamento de empresas para perto de fornecedores de matérias-primas; a redução dos custos logísticos, como o do transporte de mercadorias e o crescimento da renda da população em outras regiões do Brasil.

A desindustrialização

Em 1980, o setor industrial correspondia a 40,9% do PIB. Desde então, essa participação vem diminuindo, com acentuação maior no período mais recente. Para termos uma ideia da retração recente, em 2010, a indústria representava 27,2% do PIB, percentual que caiu para 22,7% do PIB em 2015. Diante desse cenário observado nas últimas décadas, alguns analistas econômicos afirmam que o Brasil vive um processo de desindustrialização.

O termo é dado à situação de perda de relevância da indústria para o conjunto da economia. Isso não quer dizer, entretanto, que seja algo necessariamente ruim para as finanças de uma nação – os outros setores da economia (serviços e agropecuária) poderiam compensar as perdas industriais e reequilibrar a atividade econômica. No Brasil, porém, há sérios impactos negativos por se tratar de uma desindustrialização precoce, aquela que ocorre antes de o setor industrial alcançar o auge.

Não há um consenso histórico entre os economistas sobre as fases da desindustrialização no Brasil, mas estima-se que tenha começado em 1986 e se estendido até meados dos anos 1990, com recuperação de fôlego de 2003 a 2007, e caído novamente após a crise global de 2008, com mais força a partir de 2012. O



processo de desindustrialização e o declínio da produção ou do emprego industrial são, na maioria das vezes, uma consequência normal de um processo de desenvolvimento econômico bem-sucedido, estando geralmente associado a melhorias do padrão de vida da população.

Na fase de industrialização, a renda dos países tende a se elevar até atingir um valor entre 17,5 mil dólares e 22,8 mil dólares anuais per capita, o que permite a ampliação do setor de serviços mais sofisticados e de maior produtividade, como internet, informação e telecomunicações, TV a cabo, seguros, consultoria, intermediação financeira, transporte aéreo, restaurantes, viagens, entre outros. Em 2015, a renda per capita anual do brasileiro foi de 15,7 mil dólares.

Isso ocorre porque boa parte da população passa a destinar uma maior parcela de seus rendimentos a esses serviços. A indústria continua sendo um importante motor do crescimento, mas é o setor de serviços que passa a ditar o ritmo do crescimento econômico. Estados Unidos, Alemanha, Japão, Reino Unido, França e Itália são exemplos de países que se desindustrializaram “naturalmente”, quando o PIB per capita atingiu um valor médio de 19,5 mil dólares.



TRANSPORTES

A matriz de transporte de um país é o conjunto dos meios de circulação usados para locomover mercadorias e pessoas. Como o transporte de carga é um dos problemas básicos da economia, é principalmente dele que tratamos quando se fala do assunto.

Uma matriz de transporte eficiente permite deslocar cargas no menor tempo e com o menor preço. Em um país de território extenso, seu planejamento e estruturação são complexos, pois a infraestrutura de transportes exige muito investimento, uma combinação de diversos meios e previsão das necessidades futuras.

Uma matriz de transporte ideal consegue equacionar as distâncias a serem cobertas com as exigências econômicas e sociais da produção e da população.

Para planejar a matriz, conta-se com diferentes meios:

- Transporte terrestre, composto de rodovias e ferrovias;
- Transporte hidroviário, o que inclui os rios, a navegação costeira (chamada de cabotagem) e a transoceânica;
- Transporte aéreo, dentro do país e para o exterior; e
- Transporte por dutos ou tubulações, basicamente para gás e petróleo.

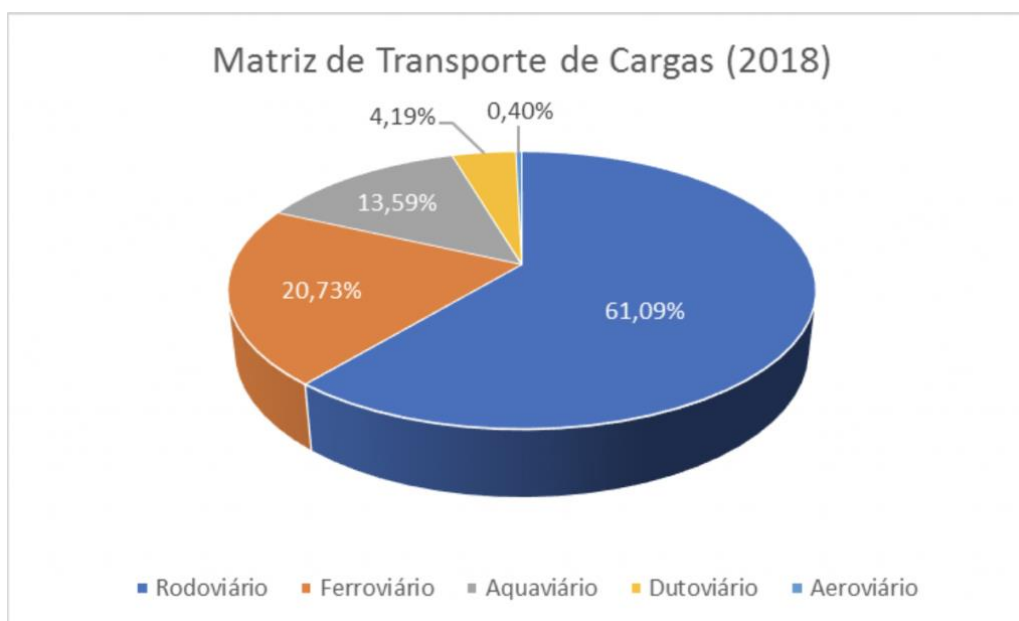
Alguns fatores são levados em conta para equilibrar a matriz:

- **Transportes rodoviários** são os mais indicados para interligar pontos próximos e cargas urgentes, mas não muito volumosas. Isso porque é caro construir e manter rodovias, e os caminhões e mão de obra encarecem o frete e o valor da carga.
- **Transportes ferroviários** exigem alto investimento inicial, mas podem transportar uma quantidade muito maior de carga. São adequados, portanto, a trajetos médios ou longos em que haja a necessidade de locomover grandes volumes de produção.
- **Transportes hidroviários** são mais lentos do que caminhões ou trens, mas se gasta muito menos para transportar milhares de toneladas de produtos. São adequados a grandes volumes de carga, com um tempo maior para a entrega.
- **Transportes aéreos** são os de frete mais caro, tendo em vista que possuem custos elevados tanto das aeronaves quanto dos combustíveis e do sistema aeroportuário. Por isso, esse tipo de transporte é usado basicamente para cargas delicadas, como eletroeletrônicos, ou perecíveis, como frutas e flores, ou de urgência extrema.
- **Transportes dutoviários** são uma opção para um fluxo garantido e contínuo de gás ou petróleo. Exigem grande investimento, mas eles se pagam a longo prazo.

País de dimensão continental, que movimenta mercadorias internamente e exporta grande volume de grãos e minérios produzidos em áreas distantes do litoral, o Brasil necessita usar as várias modalidades de transporte de forma equilibrada. Mas não é isso que ocorre.



O modal rodoviário tem participação predominante na matriz de transporte do Brasil, tanto para passageiros quanto para cargas. As rodovias respondem por 96,2% do transporte de passageiros e por 61,09% do transporte de cargas, conforme dados da Confederação Nacional do Transporte (CNT).



Fonte: Confederação Nacional dos Transportes Terrestres (CNT) - 2018

Contudo, essa dependência já foi maior. De forma lenta, vem diminuindo a participação do modal rodoviário no transporte de cargas e crescido a participação do modal ferroviário. O poder público tem atuado pela expansão da malha ferroviária, seja por investimentos diretos, mas, principalmente pela concessão para o setor privado, que tem feito vultosos investimentos na modernização da malha atual e na construção de novos trilhos.

Esse predomínio do modal rodoviário no transporte de cargas e de passageiros é denominado de **"rodoviarismo"**, mas gera consequências econômicas negativas para o Brasil. A principal delas é o **alto custo nacional do transporte de carga**. Por exemplo, para transportar soja por hidrovias, paga-se um terço do que é gasto via ferrovia, e um quinto do necessário para levá-la por estradas. Como as grandes plantações de soja do Brasil estão longe do litoral e há falta de ferrovias e hidrovias, a maioria dos produtores de soja tem de pagar o transporte por longos trajetos de caminhões, deixando boa parte dos seus ganhos com a transportadora.

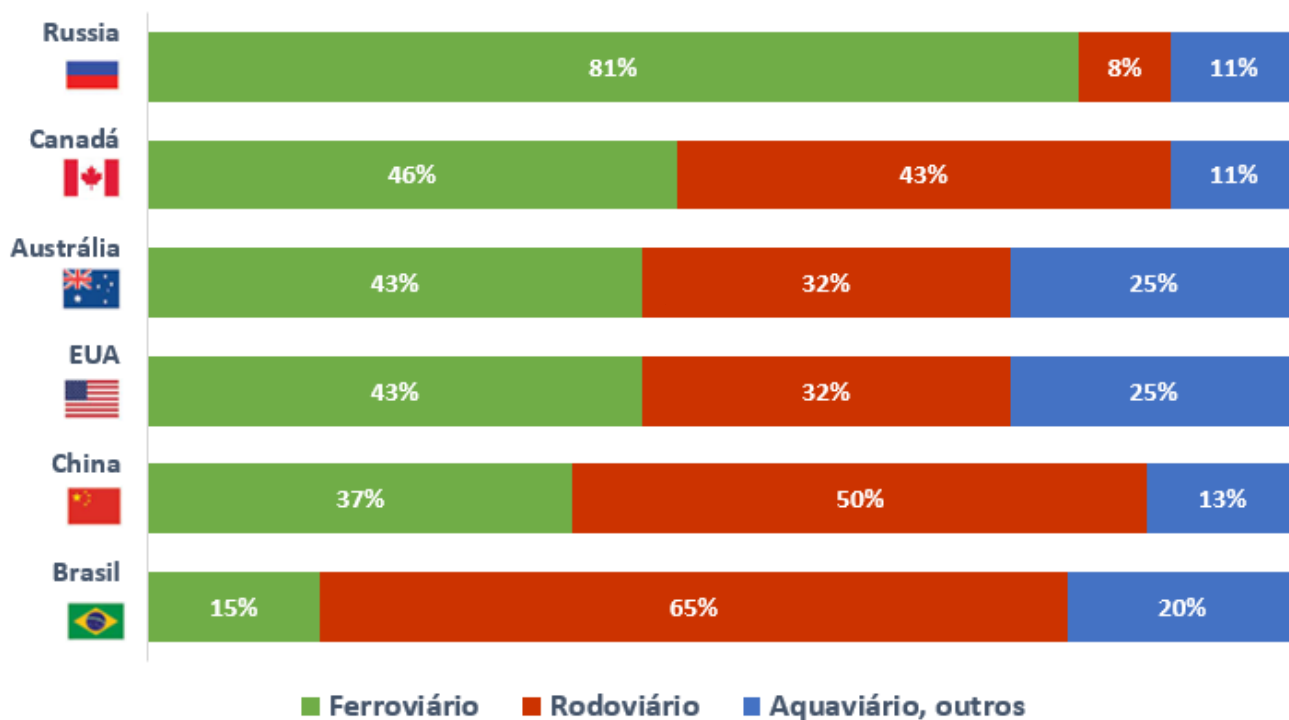
Um estudo do Ministério dos Transportes adverte que nossos dois principais concorrentes nas exportações agrícolas, Argentina e Estados Unidos, conseguem custos menores de transporte. Os argentinos, porque têm boa cobertura ferroviária em um território menor, com estradas mais curtas, o que resulta em custo e preço menor. Os norte-americanos, porque usam intensivamente ferrovias e hidrovias.

O impacto do custo elevado do transporte recai sobre o custo dos produtores, das empresas e das mercadorias. Por isso, encarecem tanto o preço dos produtos vendidos dentro do país quanto aqueles que exportam, e a redução desses custos é importante para a melhoria da economia.



A seguir, é possível visualizar um comparativo das matrizes de transporte de carga do Brasil com países de mesmo porte territorial, conforme dados do CIA Factbook (2017) e da Associação Brasileira de Indústria de Base (2013):

COMPARAÇÃO DE MATRIZES DE TRANSPORTE DE CARGA PAÍSES DE MESMO PORTE TERRITORIAL



Transporte Intermodal

Atualmente, a modernização, manutenção e expansão da matriz de transportes se baseiam num processo chamado intermodalidade ou transporte intermodal.

O transporte intermodal é o planejamento de longo prazo para construir e integrar as várias opções de transporte, por dutos, estradas, ferrovias, rios e pelo ar. Por exemplo: transportar determinada carga por caminhão até um trem ou barcaça que a levará até um porto de exportação. Sua consolidação viabiliza a construção de galpões logísticos para estocar produtos.

Rodovias

As rodovias são, hoje, o principal meio de transporte de passageiros e de cargas no Brasil. São cerca de 1,7 milhão de quilômetros de estradas, com apenas 8% com pista dupla e 12% asfaltados. Pior: entre as pavimentadas, 50,9% se encontram em estado de conservação ruim ou péssimo. Segundo a Confederação Nacional do Transporte, essa má conservação é responsável por um aumento médio de 30% no custo operacional para escoamento de soja e milho, dois expoentes da pauta de exportação brasileira.



Ferrovias

As ferrovias já foram o principal meio de transporte de cargas e de passageiros no Brasil, entre a segunda metade do século XIX e a primeira metade do século XX. A partir da segunda metade do século XX, a intensificação do uso do automóvel reduziu a importância do modal ferroviário. Ao mesmo tempo em que se aumentava exponencialmente o ritmo de construção de estradas de rodagem, estagnava-se ou diminuía-se a frequência de manutenção das ferrovias.

Depois do desenvolvimentismo dos anos 1950, o modal ferroviário passou por um sistemático processo de sucateamento, ganhando novo fôlego somente com as concessões da malha estatal, na década de 1990. Sob a gestão privada, o sistema foi modernizado e o volume de cargas transportadas cresceu substancialmente. Porém, a extensão total de ferrovias na atualidade é menor do que no seu ápice em 1960, quando alcançou 38.287 quilômetros totais. Em 2020, a malha ferroviária somava 31.344 km de extensão.

Também, a partir da década de 1990, a malha ferroviária voltou a se expandir, com a construção de novas ferrovias, mas de forma muito lenta. A partir de 2019, têm ocorrido diversas concessões, como a da Ferrovia Norte-Sul que, se tudo ocorrer bem, deve operar em 2022, melhorando os gargalos de transporte no Centro-Oeste.

Hidrovias

O país conta com uma rede com 63 mil quilômetros de rios, dos quais quase 42 mil são navegáveis. Porém, somente 22 mil quilômetros são economicamente aproveitados, dos quais 17 mil km são na Amazônia. Em resumo, há muito a melhorar, mas a expansão da rede depende da compatibilidade entre o destino geográfico dos rios e a direção dos fluxos de carga para transporte.

A hidrovia Solimões–Amazonas é o principal corredor hidroviário brasileiro, segundo a Agência Nacional de Transportes Aquaviários (Antaq). Em 2013, mais de 74% do transporte de cargas do sistema hidroviário nacional trafegaram por ela.

Gasodutos

Os dutos são um excelente meio para o transporte de gás e petróleo. O gasoduto Bolívia–Brasil, que opera desde 1999, diversificou a matriz brasileira de energia e ampliou a participação do gás natural.

Aeroportos

O transporte aéreo corresponde a menos de 1% da matriz de transportes brasileira. No Brasil, o sistema de aeroportos foi construído principalmente para o transporte de pessoas, e não de cargas.

Portos

Os portos estão entre os principais gargalos da matriz de transportes. Na ponta das redes rodoviária, ferroviária e fluvial, eles constituem a porta de saída de cerca de 97% das exportações e de entrada de insumos industriais. O Brasil necessita ampliar seus portos e docas.



Concessões

A concessão tem sido a principal forma utilizada pelo governo para conseguir investimentos e resolver problemas do setor, mas reduziram seu ritmo com a crise econômica e política que se arrasta no Brasil. A área de transporte é estratégica para a economia do país, pois dela depende o escoamento da produção tanto para o consumo e uso internos quanto para as exportações.

Concessão é um sistema pelo qual o governo federal, estadual ou municipal transfere à iniciativa privada uma obra ou serviço público. No setor de transporte, o governo passa às empresas a construção, reforma, infraestrutura e administração de rodovias, ferrovias, hidrovias, portos e aeroportos. Nessa transferência, as empresas investem esperando ter retorno financeiro. Por exemplo, uma empresa assume as obras de duplicação de uma rodovia e cobra pedágio dos motoristas.

Para ganhar uma concessão, uma empresa deve oferecer em leilão ou licitação a melhor oferta de serviços e investimentos futuros, como construir novos ramais ferroviários e terminais portuários – e, no caso das concessões recentes de rodovias federais, têm sido consideradas também as menores tarifas de pedágio. O governo define as regras em cada caso, inclusive o valor mínimo a ser pago. Há duas formas legais de concessão. Na Concessão Comum, a rentabilidade da vencedora virá exclusivamente da cobrança de taxas e tarifas. Já uma Parceria Público-Privada (PPP) poderá ser custeada pelo poder público ou por uma soma do dinheiro do poder público mais a cobrança de tarifas e taxas dos usuários.

Infraestrutura e logística

O Brasil enfrenta o chamado “apagão logístico” para exportar seus produtos, principalmente agrícolas e minérios. A matriz de transportes alicerçada em rodovias e a concentração histórica nos portos do Sudeste e do Sul apresentam, há anos, mostras de saturação. Formam-se filas de caminhões aguardando para desembarcar sua carga, e de navios atracados ao largo do Porto de Santos (SP) e de Paranaguá (PR) para recebê-las. As condições de asfalto das estradas são ruins, o que provoca desperdício de grãos; há rodovias com a construção iniciada, mas com a finalização atrasada há décadas, há carência do transporte por ferrovias e hidrovias, faltam, inclusive, caminhões e motoristas.

A falta de silos e de locais para armazenar grãos, seja nas áreas de produção seja nas docas dos portos, também afeta a competitividade do país. O “Custo Brasil”, que envolve gastos com estocagem, transporte e impostos, um dos maiores do mundo, prejudica as exportações.

Com as contas públicas desequilibradas, o governo federal não tem dinheiro em caixa para bancar as obras necessárias à ampliação da malha de transportes pelo Brasil. Uma das alternativas para desatar esse nó logístico tem sido a adoção de um modelo conhecido como concessão.

Concessão é um sistema pelo qual o governo transfere à iniciativa privada serviços de construção, reformas, infraestrutura e administração de rodovias, ferrovias, hidrovias, portos e aeroportos. Nessa transferência, as empresas fazem um investimento que, naturalmente, terá algum retorno financeiro. Por exemplo, uma empresa assume as obras de duplicação de uma rodovia. Em troca, ela recolhe o pedágio cobrado dos motoristas.

Em um programa de concessões, independentemente do modelo adotado, o desafio do governo é atrair o capital privado sem que o Estado perca a capacidade de gerenciar os investimentos em infraestrutura e garantir o retorno adequado à sociedade.



ENERGIA

Energia é a capacidade de produzir algum tipo de trabalho ou pôr algo em movimento. A energia possui enorme relevância para a atividade humana, na medida em que permite o **desenvolvimento da vida na terra e sustenta a atividade econômica**.

Para iniciar o nosso estudo, vamos ver algumas formas pelas quais as fontes de energia podem ser classificadas. As fontes de energia podem ser classificadas de três principais maneiras:

- energia limpa e energia suja;
- energia renovável e energia não renovável; e
- energia tradicional e energia alternativa.

Essas classificações não se excluem, são complementares e são cobradas em provas. Vamos estudá-las agora!

Energia Limpa e Energia Suja

Energia limpa é aquela que **não libera**, durante seu processo de produção ou consumo, **resíduos ou gases poluentes geradores do efeito estufa e do aquecimento global**. As fontes de energia que liberam quantidades muito baixas desses gases ou resíduos também são consideradas fontes de energia limpa.

Esse conceito não está relacionado aos impactos ambientais resultantes da instalação das infraestruturas e da própria atividade geradora dessas fontes. Toda a atividade humana causa algum tipo de impacto no meio ambiente.

Principais fontes de energia limpa:

- **Água:** geração de energia hidrelétrica (aproveitamento do potencial hidráulico de um rio);
- **Ventos:** geração de energia eólica;
- **Sol:** geração de energia solar;
- **Marés:** geração de energia maremotriz; e
- **Urânio:** geração de energia nuclear.

Energia suja é aquela que polui a atmosfera e **libera resíduos ou gases poluentes geradores do efeito estufa e do aquecimento global**. São usadas, principalmente, para a geração de energia elétrica (caso das usinas termelétricas que utilizam gás natural, óleo diesel e carvão mineral) ou em meios de transporte (caso da gasolina e do óleo diesel).

Principais fontes de energia suja:

- Petróleo (gasolina, diesel, querosene de aviação etc.);



- Carvão mineral;
- Gás natural; e
- Biomassa: produtos vegetais, como a cana-de-açúcar, soja, milho, canola, girassol, madeira etc. São utilizados para a produção de óleos combustíveis (etanol, biodiesel), energia elétrica, fogo entre outros.

Desvantagens do uso das fontes de energia suja:

- Geralmente não são renováveis, ou seja, são fontes esgotáveis.
- Causam poluição ambiental, principalmente do ar, gerando problemas de saúde nas pessoas. Os habitantes de grandes centros urbanos são os que mais sofrem essas consequências.
- Emitem gases do efeito estufa, que contribuem para o aquecimento global e as mudanças climáticas.

Energia Renovável e Energia Não Renovável

Energia renovável é aquela originária de fontes naturais que possuem a capacidade de regeneração (renovação), ou seja, **não se esgotam**. Exemplos desse tipo de fonte são a água (hidreletricidade), os ventos (energia eólica), o sol (energia solar), a biomassa (fonte vegetal), o calor interno do planeta Terra (energia geotérmica) e a força das marés (maremotriz).

Energia não renovável é aquela em que **não é possível repor o que se gasta**, pois são necessários milhões de anos para as fontes serem formadas na natureza. São os combustíveis fósseis (carvão mineral, gás natural e petróleo) e a energia nuclear.

Energia Tradicional e Energia Alternativa

Essa classificação é a que menos aparece em provas, mas é importante sabê-la também.

Energia tradicional ou **convencional** são as fontes **mais utilizadas e mais presentes na história da humanidade**, como os combustíveis fósseis (carvão mineral, petróleo e gás natural) e a lenha.

Energia alternativa são as fontes que substituem as tradicionais, de **utilização mais recente**, como a solar, a eólica, a biomassa, geotérmica e maremotriz.





Fonte	Renovável	Não Renovável	Limpa	Suja	Tradicional	Alternativa
Petróleo		<input checked="" type="checkbox"/>		<input checked="" type="checkbox"/>	<input checked="" type="checkbox"/>	
Carvão		<input checked="" type="checkbox"/>		<input checked="" type="checkbox"/>	<input checked="" type="checkbox"/>	
Gás Natural		<input checked="" type="checkbox"/>		<input checked="" type="checkbox"/>	<input checked="" type="checkbox"/>	
Urânio		<input checked="" type="checkbox"/>	<input checked="" type="checkbox"/>			<input checked="" type="checkbox"/>
Hídrica	<input checked="" type="checkbox"/>		<input checked="" type="checkbox"/>			<input checked="" type="checkbox"/>
Eólica	<input checked="" type="checkbox"/>		<input checked="" type="checkbox"/>			<input checked="" type="checkbox"/>
Solar	<input checked="" type="checkbox"/>		<input checked="" type="checkbox"/>			<input checked="" type="checkbox"/>
Biomassa	<input checked="" type="checkbox"/>			<input checked="" type="checkbox"/>		<input checked="" type="checkbox"/>

Matriz Energética e Matriz Elétrica

Muitas pessoas e muitos examinadores confundem a matriz energética com a matriz elétrica, mas são conceituações diferentes.

Matriz energética é o conjunto dos recursos de energia de uma sociedade ou região e as formas como eles são utilizados. Quando falamos em matriz energética e consumo de energia, estamos nos referindo ao total da energia produzida e consumida no mundo ou em um país, seja a energia utilizada para movimentar carros, preparar comida no fogão e gerar eletricidade.

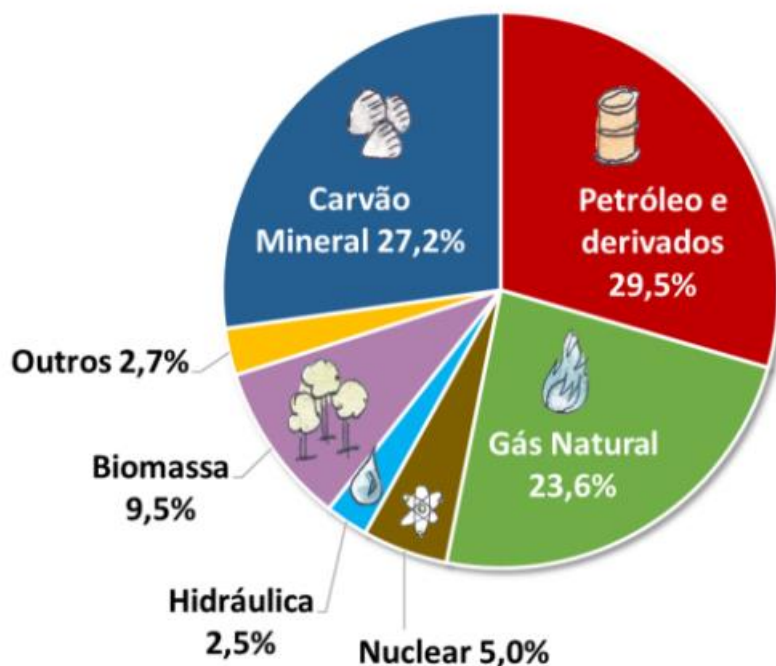
Já a **matriz elétrica** se refere apenas à geração ou à produção e consumo de energia elétrica. Dessa forma, podemos concluir que a matriz elétrica é parte da matriz energética.

Utilização de Energia no Mundo

O gráfico a seguir, apresenta a matriz energética mundial. Observem que predominam amplamente as fontes sujas e não renováveis.

As fontes renováveis - hidráulica, biomassa e outros (solar, eólica, geotérmica e maremotriz) correspondem a 14,7%. As fontes limpas - nuclear, hidráulica e outros correspondem a apenas 10,2%.





Matriz Energética Mundial 2021

(IEA, 2023; total em 2021: 618 milhões de TJ - terajoule)

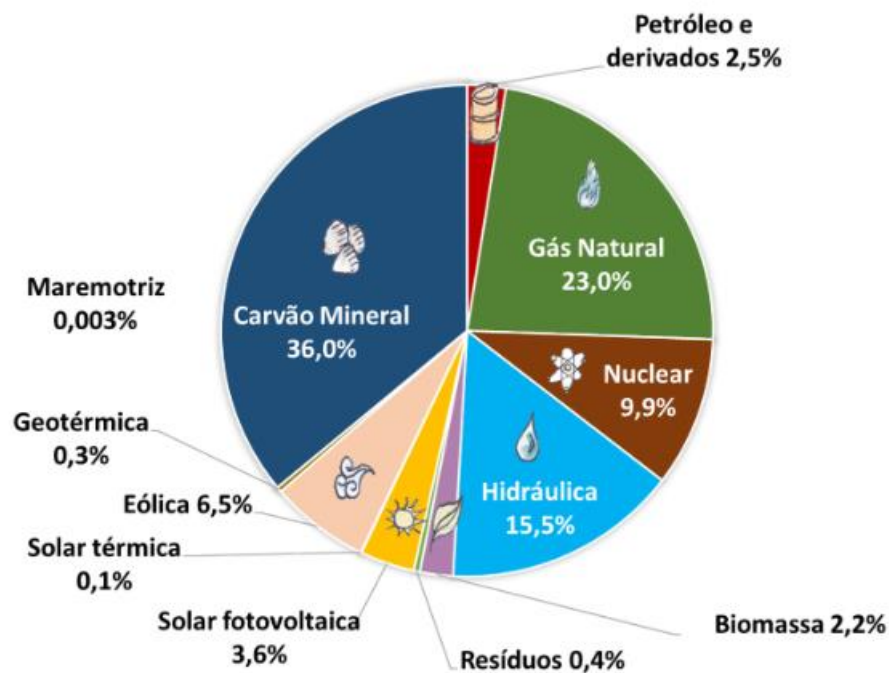
Fonte: Agência Internacional de Energia (IEA), 2023, e Empresa de Pesquisa Energética (EPE).

Já a geração de energia elétrica no mundo é baseada, principalmente, em **combustíveis fósseis** como carvão, óleo e gás natural, em termelétricas, sendo, também, **majoritariamente suja e não-renovável**.

As fontes sujas - carvão mineral, gás natural, petróleo, biomassa e resíduos correspondem a 64,1%. As fontes limpas - nuclear, hidráulica e outras correspondem a 35,9%.

Veja no gráfico a seguir:





Matriz Elétrica Mundial 2021

(IEA, 2023; total em 2021: 28,5 milhões de GWh - gigawatt-hora)

Fonte: Agência Internacional de Energia (IEA), 2023, e Empresa de Pesquisa Energética (EPE).

O predomínio das fontes não renováveis na matriz energética mundial representa um problema sério. Primeiramente, porque levam milhares de anos para se formarem, e com a velocidade com que estão sendo utilizadas, inevitavelmente elas se esgotarão. Segundo, a geração de energia pela queima dos combustíveis fósseis é o mais poluente dos processos energéticos utilizados atualmente.

Por essas razões, a matriz energética atual não é sustentável. A substituição dessas energias sujas por fontes limpas é vista como meta necessária para tornar o mundo viável para as próximas gerações.

No mundo, os **investimentos em fontes renováveis crescem percentualmente mais do que os investimentos em fontes não renováveis**. Os principais motivos para esse avanço são a preocupação com as mudanças climáticas, a poluição do ar e questões financeiras (atrair investimentos que promovem o crescimento econômico da nação).

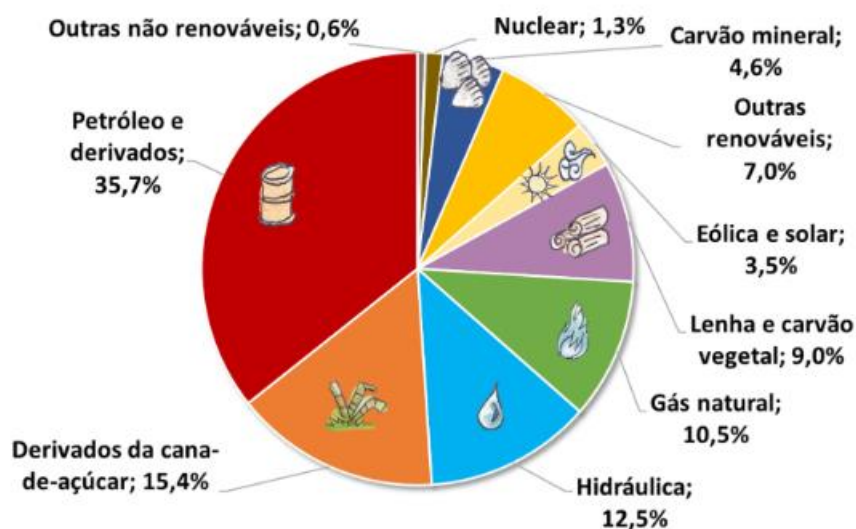
A China é um destaque negativo e positivo ao mesmo tempo. Negativo por que a sua matriz energética é amplamente suja, cerca de 85%. É o país que mais emite anualmente gases do efeito estufa. A fonte mais utilizada na geração de energia elétrica é o carvão mineral. Esse combustível fóssil é o que tem o maior potencial de emissão de dióxido de carbono (CO₂). Por outro lado, a China é o país que mais investe em energia eólica e solar, o que indica que está atuando para mudar a sua matriz energética. Cerca de 30% das turbinas de geração eólica e 70% dos painéis solares do mundo são produzidos naquele país.



Produção Energética Brasileira

O Brasil tem a matriz energética com a **maior participação de fontes renováveis entre as maiores economias do mundo**. Apesar disso, na matriz energética **predominam as fontes sujas e não renováveis**.

Em 2022, a energia suja correspondeu a 75,8% e a não renovável a 55,2% da matriz energética. As fontes limpas responderam por 24,2% e as renováveis a 44,8% do total consumido no país. O petróleo segue sendo o componente mais importante da matriz energética brasileira. Veja o gráfico a seguir:



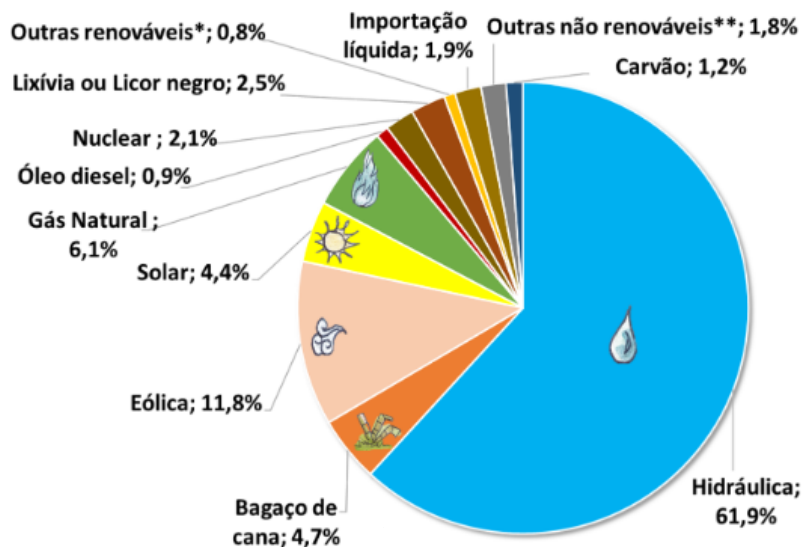
Matriz Energética Brasileira 2022

(BEN, 2023; total em 2022: 303 milhões de tep - tonelada-equivalente de petróleo)

Fonte: Empresa de Pesquisa Energética (EPE).

A **matriz elétrica brasileira é ainda mais renovável do que a energética**, isso porque a **maior parte da energia elétrica gerada no Brasil vem de usinas hidrelétricas**. Em 2022, as fontes limpas corresponderam a 81% e as renováveis a 86,1% da geração elétrica.





Matriz Elétrica Brasileira 2022

(BEN, 2023; total em 2022: 677 TWh - terawatt-hora)

(*incluindo lenha, biodiesel e outras renováveis; **incluindo óleo combustível, gás de coque, outras secundárias e outras não renováveis)

Fonte: Empresa de Pesquisa Energética (EPE).

Petróleo

O petróleo é a fonte mais utilizada na matriz energética mundial e na matriz brasileira. Venezuela, Arábia Saudita, Canadá e Irã detêm as maiores reservas mundiais comprovadas do óleo. Os maiores produtores mundiais são Estados Unidos, Arábia Saudita, Rússia e Canadá. A Arábia Saudita é o maior exportador mundial, ao passo que a China é o maior importador do óleo.

- Professor, como assim o petróleo é a fonte de energia mais utilizada na matriz energética brasileira? O gráfico anterior está mostrando que as hidrelétricas são a fonte de energia mais utilizada! 🤔

- Boa observação, aluno! Mas cuidado para não confundir os conceitos de **matriz elétrica** com **matriz energética**. Na matriz elétrica brasileira - conceito que se refere à geração de energia elétrica -, as hidrelétricas são sim a fonte predominante. Contudo, na matriz energética, o petróleo é a principal fonte, relacionado principalmente à utilização de combustíveis derivados de petróleo - como a gasolina e o diesel - em automóveis.

Com o desenvolvimento da tecnologia de extração do petróleo da rocha de xisto, os Estados Unidos se tornaram o maior produtor mundial no século XXI. O país deixou a condição de grande importador, para se tornar um exportador líquido de petróleo.



A queima do petróleo libera gases poluentes na atmosfera, entre eles os gases de efeito estufa, como o dióxido de carbono (CO₂), por exemplo. Também pode gerar desastres ambientais quando ocorre vazamento nos navios de transporte ou nos poços de perfuração marítima.

Em 2006, grandes reservas de petróleo foram descobertas no Brasil, na camada pré-sal, no Oceano Atlântico. A primeira extração do óleo ocorreu no ano de 2008. Menos de dez anos depois, em 2017, a produção do pré-sal superou a do pós-sal. Mais de 3/4 da produção brasileira provem dessa camada. O Brasil se tornou um exportador líquido de petróleo. O óleo já é o segundo produto mais importante da nossa pauta de exportações, isso só foi possível devido a descoberta e a produção do pré-sal.



O pré-sal é uma camada no subsolo marinho que armazena petróleo abaixo de uma grossa camada de sal, a cerca de 7 km abaixo da superfície do mar. Fica a uma distância média de 300 km do litoral, em uma faixa de 200 km de largura e 800 km de extensão, que vai do Espírito Santo a Santa Catarina (veja mapa abaixo). As reservas já conhecidas alcançam 31 bilhões de barris de petróleo, podendo conter até 87 bilhões de barris.

A Petrobras detém a tecnologia mais avançada do mundo em exploração de águas profundas, porém, a produção do pré-sal tem exigido uma revolução no setor. O Brasil está desenvolvendo novas tecnologias de exploração petrolífera e conta com uma mão de obra altamente qualificada.



Uma nova fronteira exploratória se abre para o Brasil, a **Margem Equatorial**. Localizada no Oceano Atlântico, entre o Rio Grande do Norte e o Amapá, a região está dividida em bacias petrolíferas: Foz do Amazonas, Pará- Maranhão, Barreirinhas, Ceará e Potiguar.

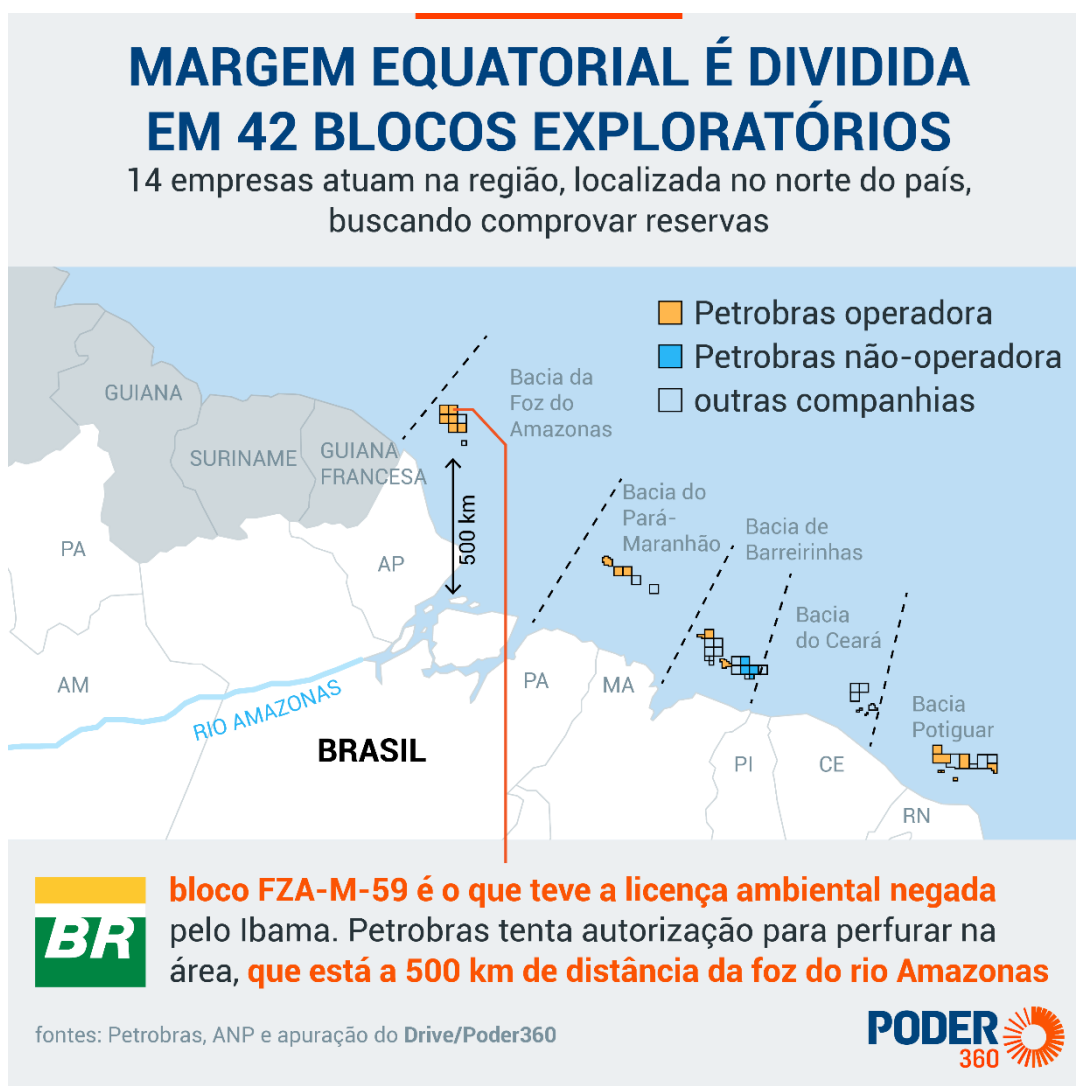
Próximo ao Amapá, em 2015, a Guiana descobriu grandes reservas de petróleo e começou a explorá-lo em 2020. O Suriname também descobriu petróleo em 2020, mas ainda não está explorando. Estima-se que a



Margem Equatorial tenha de 5 a 7 bilhões de barris de petróleo que podem ser extraídos, sendo a grande aposta da Petrobras para manter o nível atual de produção de petróleo. O pré-sal é altamente produtivo, mas os volumes de exploração devem cair nos próximos anos.

O Instituto Brasileiro do Meio Ambiente (Ibama) negou uma licença de perfuração de um poço marítimo de teste para a Petrobras em 2023, no Amapá, na bacia da Foz do Amazonas. Apesar do nome, o poço se localiza a 500 km da foz do grande rio e a 176 km da área litorânea mais próxima, no Amapá.

A decisão gerou polêmica, o Instituto alegou que os estudos apresentados pela petroleira não eram suficientes com relação a medidas de segurança, caso ocorra algum acidente ambiental. A Petrobras entrou com novo pedido de licença. No final de 2023, a empresa anunciou que iniciou uma exploração de teste na Bacia Potiguar, no Rio Grande do Norte.



Carvão Mineral

O carvão mineral é a segunda fonte de energia mais utilizada no mundo, devido à abundância de suas reservas. A maioria dessas reservas está no Hemisfério Norte, principalmente nos Estados Unidos, na China, na Rússia e na Índia.

O carvão mineral é pouco utilizado no Brasil. Grande parte do que se usa é importado, pois o carvão encontrado em solo brasileiro possui pouco poder calorífico. As maiores reservas estão no Rio Grande do Sul, que possui cerca de 90% das reservas de carvão nacional.

Assim como a queima do petróleo e do gás natural, a queima do carvão libera gases poluentes na atmosfera, entre eles os gases de efeito estufa, como o dióxido de carbono (CO₂) e o dióxido de enxofre (SO₂), o grande responsável pela chuva ácida. Muitas vezes, os impactos ambientais já são intensos desde a extração desse minério — a exploração das grandes minas carboníferas exige a devastação da cobertura vegetal.

Gás Natural

O gás natural é a terceira fonte de energia mais utilizada no mundo. É utilizado principalmente nos transportes, nas termelétricas e na produção industrial.

No Brasil, o Rio de Janeiro é o maior produtor, seguido pelo Espírito Santo e Amazonas, e há uma parcela variável que é importada, principalmente da Bolívia. O gás natural tem substituído derivados de petróleo nas indústrias e nos transportes, e, em menor volume, na geração de energia elétrica.

A queima do gás natural, assim como o petróleo, libera gases poluentes na atmosfera, entre eles os gases de efeito estufa, como o dióxido de carbono (CO₂), por exemplo, porém em menor escala.

Biomassa

Biomassa (massa biológica) é toda matéria orgânica, de origem vegetal ou animal, utilizada na produção de energia. A biomassa é a segunda fonte de energia que mais participa da matriz energética brasileira. A sua participação tem sido crescente ao longo dos anos. É mais representativa na matriz energética devido ao setor de transportes e aos biocombustíveis.

O Brasil apresenta condições muito favoráveis para a produção de biocombustíveis, pois tem grande extensão de áreas agricultáveis, com solo e clima favoráveis ao cultivo de oleaginosas e cana de açúcar.

Os combustíveis de biomassa mais utilizados são o etanol (álcool de cana de açúcar, no caso brasileiro) e o biodiesel (feito de oleaginosas), que podem ser usados puros ou adicionados aos derivados de petróleo, como gasolina e óleo diesel.



O país é o segundo maior produtor mundial de etanol. Os Estados Unidos, maior produtor mundial desse combustível, utilizam o milho para sua produção, a um custo superior ao obtido com a cana no Brasil.

O biodiesel é obtido de plantas oleaginosas, como a soja, mamona, palma (dendê), girassol, babaçu e algodão. Além de abastecer o mercado interno, parte da produção nacional de biodiesel é exportada, principalmente para a União Europeia.

Se, por um lado, os biocombustíveis têm a vantagem de reduzir as emissões de gases que geram o efeito estufa, por outro podem ocasionar a poluição de solos, rios e lagos por agrotóxicos e pelo vinhoto (resíduo resultante da destilação e fermentação da cana de açúcar) e a poluição do ar pela queima da cana, prática utilizada para facilitar a colheita.



Embora o uso da biomassa apresente benefícios se comparados aos combustíveis fósseis na questão dos poluentes, a sua queima também libera CO₂ na atmosfera, porém, em quantidades menores.

Energia Nuclear

Estados Unidos, França e Rússia são os maiores produtores mundiais de energia nuclear. A energia nuclear participa pouco da matriz energética brasileira. O Brasil possui duas usinas nucleares, Angra 1 e Angra 2, em Angra dos Reis (RJ). A usina de Angra 3 está em construção há mais de 30 anos.

Os defensores da alternativa nuclear têm como argumento a urgente necessidade de substituição das fontes de combustíveis fósseis e afirmam que a tecnologia torna as usinas nucleares de última geração mais seguras.

No entanto, a geração de energia nuclear também pode ser danosa ao meio ambiente. Os resíduos nucleares devem ser muito bem administrados, pois podem levar milhares de anos para perder a **radioatividade**, podendo prejudicar o ambiente em que foram depositados com mutações genéticas e doenças. Os acidentes nucleares, embora raros, também são geralmente catastróficos, como o famoso caso de Chernobyl, na Ucrânia, e Fukushima, no Japão.

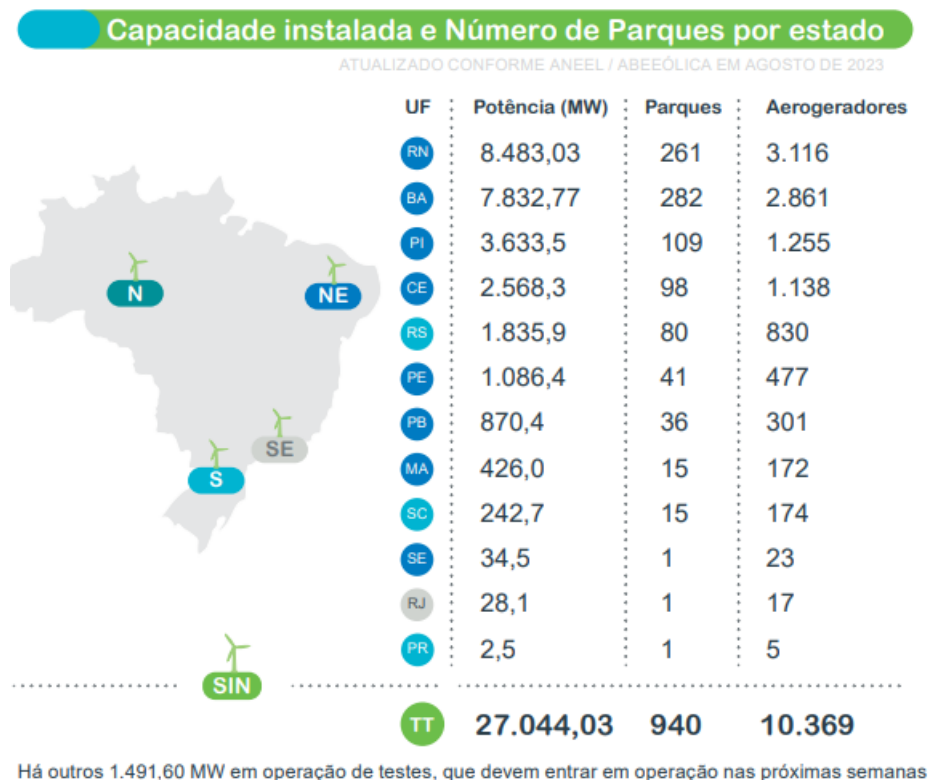
Energia Eólica

Ao lado da fonte solar, a geração de energia eólica é segmento que mais cresce percentualmente na matriz elétrica brasileira. Em 2005, a capacidade instalada era de 22 MW. Atualmente, a capacidade instalada é de 27.044 MW (2023). A geração eólica já responde por mais da metade da energia consumida no Nordeste. A região responde por 87% da produção nacional.



O Brasil possui um ótimo potencial para geração de energia eólica, superior a 500 GW. Esse potencial é mais que o triplo da capacidade instalada de geração de energia elétrica no Brasil. O potencial concentra-se, principalmente, na região Nordeste e no Rio Grande do Sul.

Alguns especialistas afirmam que o país é detentor dos melhores ventos do mundo, constantes, unidirecionais e sem grandes rajadas.



Fonte: Infovento – ABEEólica

Embora seja uma das fontes mais limpas e sustentáveis de energia, não liberando CO₂ na atmosfera e diminuindo a dependência dos combustíveis fósseis, os parques de energia eólica causam impactos ambientais, como: ruídos provocados pelas turbinas, impacto visual, interferência na rota das aves, modificação da paisagem natural e danos aos sistemas ambientais litorâneos. No entanto, ainda é tida como uma das melhores soluções para a questão ambiental na geração de energia.

Muitos parques eólicos são instalados em regiões de baixo desenvolvimento econômico. A chegada dos parques movimenta a economia e o arrendamento de terras contribui para a fixação do homem no campo e gera melhorias na qualidade de vida das comunidades envolvidas.

Os gráficos a seguir mostra a área potencial para a geração de energia eólica no Brasil e os benefícios da energia eólica.





Fonte: Boletim Mundo, 2016

Benefícios da Energia Eólica para todo mundo



Gera renda e melhoria de vida para proprietários de terra com arrendamento para colocação das torres



Permite que o proprietário da terra siga com **plantações ou criação de animais**



É renovável, não polui, contribui para que o Brasil cumpra seus objetivos no **Acordo do Clima**



Um dos melhores custo-benefício na tarifa de energia



Parques eólicos **não emitem CO₂**



Capacitação de mão de obra local

Energia Solar

Por sua condição de país predominantemente tropical, amplas áreas do território nacional recebem elevados índices de insolação ao longo de todo o ano.



Inexpressiva até pouco tempo atrás na composição da matriz elétrica brasileira, a geração de energia pela fonte solar no Brasil cresceu de forma muito rápida a partir do ano de 2022, motivada, principalmente, pela isenção na taxa de distribuição dessa energia até o ano de 2045, definida pelo Marco Legal da Geração Distribuída, sancionado no ano de 2022.

A solar é uma fonte de energia limpa que não libera poluentes ou causa impactos ambientais. O custo da geração e da instalação de painéis solares tem diminuído, com a incorporação de novas tecnologias e ganhos de escala de produção. Isso aumenta a competitividade do setor.

A geração distribuída responde por 70% da energia solar gerada no Brasil. Os demais 30% são de geração centralizada. Geração distribuída é a energia elétrica gerada no local de consumo ou próximo a ele. É aquela que vemos em tetos de casas, edificações etc. A geração centralizada é realizada nas usinas solares fotovoltaicas.

Hidrelétricas

Devido às características físico-naturais de nosso país, possuímos um ótimo potencial para a produção de energia hidrelétrica. As elevadas médias pluviométricas dos climas equatorial e subtropical fornecem um grande volume de água para os rios. Além disso, os extensos planaltos são responsáveis pelos desníveis e cachoeiras, que propiciam força necessária para o movimento das turbinas.

A fonte hidráulica gera cerca de 62% da energia elétrica consumida no Brasil. Porém, ainda temos um grande potencial hidrelétrico inexplorado. Estima-se que somente cerca de 36% do nosso potencial hidrelétrico esteja sendo utilizado. As bacias hidrográficas que mais contribuem para a geração de energia hidrelétrica no país são as dos rios Paraná e São Francisco.

Um dos pontos mais polêmicos da matriz brasileira se refere aos projetos para a construção de represas hidrelétricas de grande porte na bacia Amazônica, visando aproveitar o potencial hidráulico dessa bacia hidrográfica e abastecer o sistema elétrico nacional. O planejamento do governo prevê a construção de 52 represas hidrelétricas em longo prazo, das quais 18 são na Amazônia. No rio Madeira foram construídas as usinas de Jirau, a terceira maior do Brasil, e de Santo Antônio. A usina de Belo Monte foi construída no rio Xingu, no Pará. Os grupos contrários à construção de hidrelétricas na Amazônia argumentam que esses projetos trazem impactos sobre a fauna e a flora, a vida indígena e de comunidades tradicionais da região.

Hidrogênio Verde

O hidrogênio verde (H_2V) é apontado como umas das alternativas para a transição energética global com vistas à descarbonização da economia. O mundo busca alternativas para substituir os combustíveis fósseis, que sejam fontes limpas e renováveis.

O hidrogênio (H_2) é o elemento mais abundante da natureza, porém não é comum obtê-lo diretamente da natureza. O hidrogênio é produzido a partir da eletrólise da água. Esse processo utiliza eletricidade para separar a água (H_2O) em moléculas de hidrogênio e de oxigênio.



Para que seja considerado verde, a energia utilizada na sua produção tem que ser proveniente de fontes limpas e renováveis, como a solar, a eólica e a hidráulica. Como o Brasil é farto nessas fontes, tem uma possibilidade promissora de ser um dos grandes produtores mundiais. Denomina-se de cinza, o hidrogênio que é produzido a partir da queima de combustíveis fósseis, gerando emissões de dióxido de carbono.

O custo de produção do hidrogênio verde ainda é bem maior do que o do hidrogênio cinza e das demais fontes limpas e renováveis. O que é um fator adverso. Porém, o desenvolvimento de novas tecnologias e o aumento da escala de produção devem reduzir o seu custo nos próximos anos.

O hidrogênio verde é armazenado na forma líquida e pode ser transportado por meio de tubulações para o uso doméstico, veicular e industrial. Como combustível, pode ser utilizado em veículos terrestres, aviões, navios, geração de energia elétrica, na indústria etc. O hidrogênio verde pode ser exportado por meio de navios. Por enquanto, a Europa é o principal interessado em uma futura produção brasileira.

Os projetos em desenvolvimento no Brasil estão concentrados no Nordeste, devido à grande produção de energia eólica, solar e disponibilidade de água.



RESUMO

PIB

O Produto Interno Bruto (PIB) mede o tamanho de uma economia, seja a de um país, de uma região, de um mercado comum ou município. Ele representa a soma de todas as riquezas produzidas.

O setor com maior participação na composição do PIB brasileiro é o de serviços (terciário), seguido da indústria (secundário) e da agropecuária (primário).

No ano de 2023, o PIB cresceu 2,9%. O maior destaque positivo foi a agropecuária, que cresceu 15,1% de 2022 para 2023.

A posição brasileira entre as maiores economias do mundo: segundo ranking da Austin Rating, o país saiu da 13ª posição no 4º trimestre de 2021 para a 9ª em 2023, superando Rússia, Coreia do Sul, Austrália e Canadá.

Inflação

O Brasil adota o regime de metas anuais de inflação, estabelecidas pelo Conselho Monetário Nacional (CMN). Esse sistema prevê que a inflação medida pelo IPCA (Índice de Preços ao Consumidor Amplo) deve ficar dentro de um limite de tolerância; ou seja, dentro de uma faixa estabelecida.

A meta é estabelecida pelo Conselho Monetário Nacional (CMN) e deve ser cumprida pelo Banco Central (BC), que, para isso, adota várias políticas, entre as quais o controle da taxa básica de juros.

O principal mecanismo para manter a inflação sob controle no Brasil é a taxa de juros. Toda vez que os preços sobem acima do nível esperado, o Banco Central intervém com a elevação da taxa Selic. Isso faz o crédito ficar mais caro, e incentiva as pessoas e as empresas a gastarem menos. Se todos gastam menos, a tendência é que os preços também subam menos.

Juros

A taxa Selic é a taxa básica de juros da economia brasileira, definida pelo Comitê de Política Monetária (Copom) do Banco Central.

Os governos a utilizam para controlar a inflação: quanto mais alta a taxa de juros, mais caros ficam os empréstimos, o que funciona como um freio nas atividades produtivas e o financiamento. Se há menos compras, os preços não sobem e a inflação fica baixa. Quando a prioridade do governo é estimular a atividade econômica, uma das medidas é baixar os juros.

Taxa de Câmbio

A taxa de câmbio é o valor pelo qual a nossa moeda é trocada por moedas estrangeiras, principalmente pelo dólar, que é a referência no mercado mundial.

O comércio exterior é diretamente afetado pela taxa de câmbio. Se o real vale pouco, nossas mercadorias são exportadas por valor menor (o que as torna atraentes). Isso ajuda o setor exportador, mas o importar fica mais caro. Quando o real se valoriza, nossos produtos ficam caros lá fora, mas é mais barato importar.



Facilitar as importações ajuda a derrubar a inflação, pois amplia a oferta de mercadorias externas a preço baixo.

Balança Comercial

A balança comercial é o conjunto de tudo o que o país exporta e importa em um ano. A soma desses valores é o total do comércio exterior nacional. Já o saldo da balança comercial é o resultado do valor exportado, retirando-se o valor importado. Quando o país vende mais do que compra no exterior, consegue um saldo positivo: é o superávit da balança comercial. Quando o resultado é negativo, dá-se o nome de déficit.

O Brasil é um grande exportador de commodities, tais como o minério de ferro, a soja em grão, o café em grão, o milho em grão, a carne in natura, o açúcar, o aço e a celulose.

A China é o principal destino das exportações brasileiras e o país que mais exporta para o Brasil.

Classificação de Risco de Crédito

A classificação de risco por agências estrangeiras representa uma medida de confiança dos investidores internacionais na economia de um determinado país.

O grau de investimento funciona como um atestado de que os países não correm risco de dar calote na dívida pública. Abaixo dessa categoria, está o grau especulativo, cuja probabilidade de deixar de pagar a dívida pública sobe à medida que a nota diminui.

A classificação do Brasil se encontra no grau especulativo.



RESUMO

Agropecuária e Agronegócio

A agropecuária compreende o cultivo agrícola (agricultura) e a criação de animais (pecuária) para o consumo humano. Já o agronegócio envolve toda a cadeia produtiva da agropecuária, como a pesquisa, a indústria de máquinas e equipamentos agrícolas, os insumos (como adubos e defensivos), o beneficiamento e industrialização dos produtos (na indústria alimentícia, por exemplo), além dos setores de transporte e distribuição.

O setor agropecuário é um dos motores da economia brasileira. Impulsiona parte importante da indústria e dos serviços, numa cadeia produtiva chamada de agronegócio, além de ter papel fundamental no conjunto das exportações. Nas últimas três décadas, a produção agrícola do Brasil mais do que dobrou em volume, e a pecuária praticamente triplicou, principalmente com base nas melhorias da produtividade.

O Brasil é um dos gigantes da agropecuária no mundo, sendo o segundo maior produtor agrícola e exportador mundial de alimentos, atrás apenas dos Estados Unidos. É o maior produtor e exportador mundial de açúcar, café e suco de laranja. É o segundo maior produtor e o maior exportador de soja do mundo. O Brasil está ainda entre os maiores produtores e exportadores de carne bovina, frango e milho.

Agronegócio responde por cerca de 40% das exportações do país. O Centro-Oeste é a região de maior valor de produção da agropecuária. **São Paulo** é o estado com maior valor da produção agrícola. **Mato Grosso** é o estado de maior valor da produção da agropecuária. **Soja** é o principal produto agrícola. **Bovinos** é o principal produto da pecuária.

A vocação agrícola do Brasil se explica em grande medida pelas **características naturais** do território, como o clima e os solos férteis.

O crescimento da produção se explica pelo aumento da área plantada e, principalmente, pelo aumento da produtividade (quantidade de grãos colhidos por hectare), que decorre do investimento em pesquisa, tecnologia e mecanização da agricultura.

Ao longo das últimas décadas, o Brasil construiu uma das maiores redes de pesquisa agropecuária do mundo. Um marco importante para o progresso no setor é a **Empresa Brasileira de Pesquisa Agropecuária (Embrapa)**.

As **questões ambientais, sociais** e as **precárias infraestruturas e logística** estão entre os principais desafios do setor agropecuário e do agronegócio no Brasil.

Questões Ambientais:

O aumento da área plantada se dá em meio ao desmatamento dos biomas, principalmente o Cerrado e a Floresta Amazônica. O Matopiba é a principal área de expansão da fronteira agrícola.

O uso de **agrotóxicos** e **sementes transgênicas** na agricultura brasileira tem sido motivo de polêmica em virtude dos eventuais riscos que podem oferecer para a saúde humana e para o meio ambiente. O uso dessas substâncias, segundo grandes produtores, seria indispensável para a produção em larga escala.

Para ruralistas, **áreas protegidas (unidades de conservação da natureza)** constituem entraves para a ampliação das áreas de cultivo e criação. Ruralistas pressionam para a flexibilização de categorias de proteção, de mais restritivas para mais brandas, e buscam dificultar a criação de novas unidades de conservação da natureza.



Questões Sociais:

Na visão de ruralistas, à **demarcação de terras indígenas e de quilombolas**, representa um obstáculo para o avanço do agronegócio.

Ocorrem também conflitos por terras entre grandes proprietários rurais e agricultores sem terras e/ou posseiros. A propriedade da terra é muito concentrada no Brasil, que é a causa da violência no campo. A solução está na realização de uma efetiva reforma agrária em nosso país.

Outro problema são casos de trabalho escravo no campo brasileiro.

Infraestrutura:

A deficiente infraestrutura e logística de transporte encarece a distribuição para o mercado interno e os preços dos produtos exportados.



RESUMO

Transportes

Matriz de transporte é o conjunto dos meios de transporte (modais) de produtos e pessoas, pelas vias terrestre (rodoviário e ferroviário), fluvial, aérea e por dutos. A matriz é medida pelos volumes transportados e sua distribuição, em porcentagem, entre essas quatro modalidades.

Matrizes eficientes são construídas com a logística de transporte intermodal, concepção planejada de integrar e aproveitar os diferentes meios. Isso inclui sua adequação ao tipo e volume de produtos transportados, distâncias que serão percorridas e criação de áreas de carga e de armazenamento. O objetivo é **otimizar recursos e minimizar custos financeiros e ambientais**.

A matriz de transporte brasileira é desequilibrada, com o predomínio do transporte rodoviário (rodoviarismo). O principal resultado do desequilíbrio da matriz é o **alto custo nacional do transporte de carga**.

O impacto do custo elevado do transporte recai sobre o custo dos produtores, das empresas e das mercadorias. Por isso, encarecem tanto o preço dos produtos vendidos dentro do país quanto aqueles que exportamos, e a redução desses custos é importante para a melhoria da economia.

Fatores a serem levados em contas para equilibrar a matriz: transportes rodoviários são os mais indicados para interligar pontos próximos e cargas urgentes, mas não muito volumosas; transportes ferroviários são adequados para trajetos médios ou longos em que haja a necessidade de locomover grandes volumes de produção; transportes hidroviários são adequados a grandes volumes de carga, com um tempo maior para a entrega; transportes aéreos são os de frete mais caro, por isso, esse tipo de transporte é usado basicamente para cargas delicadas, como eletroeletrônicos, ou perecíveis, como frutas e flores, ou de urgência extrema e transportes dutoviários são uma opção para um fluxo garantido e contínuo de gás ou petróleo.

As **concessões** são a principal forma pela qual os governos federal e dos estados, principalmente, transferem às empresas da iniciativa privada a construção, reformas ou a administração de rodovias, aeroportos, ferrovias e portos já construídos. As empresas investem em infraestrutura, por exemplo, em troca de retorno financeiro, como a cobrança de pedágios em rodovias. O modelo de concessões tem sido utilizado por vários governos nas últimas décadas devido à falta de recursos públicos suficientes para o investimento em infraestrutura.



RESUMO

Energia

As fontes de energia podem ser classificadas de três principais maneiras:

- energia limpa e energia suja
- energia renovável e energia não renovável
- energia tradicional e energia alternativa

Energia limpa é aquela que não libera, durante seu processo de produção ou consumo, resíduos ou gases poluentes geradores do efeito estufa e do aquecimento global.

Energia suja é aquela que polui a atmosfera e libera resíduos ou gases poluentes geradores do efeito estufa e do aquecimento global. A energia suja geralmente não é renovável, causa poluição ambiental e emite gases do efeito estufa.

Energia renovável é aquela originária de fontes naturais que possuem a capacidade de regeneração (renovação), ou seja, não se esgotam.

Energia não renovável é aquela em que não é possível repor o que se gasta, pois são necessários milhões de anos para as fontes serem formadas na natureza.

Energia tradicional ou **convencional** são as fontes mais utilizadas e mais presentes na história da humanidade. **Energia alternativa** são as fontes que substituem as tradicionais, de utilização mais recente.

Fonte	Renovável	Não Renovável	Limpa	Suja	Tradicional	Alternativa
Petróleo		<input checked="" type="checkbox"/>		<input checked="" type="checkbox"/>	<input checked="" type="checkbox"/>	
Carvão		<input checked="" type="checkbox"/>		<input checked="" type="checkbox"/>	<input checked="" type="checkbox"/>	
Gás Natural		<input checked="" type="checkbox"/>		<input checked="" type="checkbox"/>	<input checked="" type="checkbox"/>	
Urânio		<input checked="" type="checkbox"/>	<input checked="" type="checkbox"/>			<input checked="" type="checkbox"/>
Hídrica	<input checked="" type="checkbox"/>		<input checked="" type="checkbox"/>			<input checked="" type="checkbox"/>
Eólica	<input checked="" type="checkbox"/>		<input checked="" type="checkbox"/>			<input checked="" type="checkbox"/>
Solar	<input checked="" type="checkbox"/>		<input checked="" type="checkbox"/>			<input checked="" type="checkbox"/>
Biomassa	<input checked="" type="checkbox"/>			<input checked="" type="checkbox"/>		<input checked="" type="checkbox"/>

Matriz energética é o conjunto dos recursos de energia de uma sociedade ou região e as formas como eles são utilizados. **Matriz elétrica** se refere apenas à geração ou à produção e consumo de energia elétrica. A matriz elétrica é parte da matriz energética.

A matriz energética mundial é predominantemente suja e não renovável. O petróleo é a fonte mais utilizada. **A matriz elétrica mundial também é predominantemente suja e não renovável.** O carvão é fonte mais utilizada.

A matriz energética brasileira é predominantemente suja e não renovável. O petróleo e a biomassa são as fontes mais utilizadas. O Brasil se destaca no cenário mundial pela grande variedade de fontes de energia e também por importante participação das fontes renováveis na sua matriz de energia.



A matriz elétrica brasileira é predominantemente limpa e renovável. A geração pelas hidrelétricas responde por mais da metade de toda energia elétrica produzida no Brasil, seguida pela geração de energia solar e eólica.

O Brasil possui um ótimo potencial para geração de energia eólica e solar. No período recente, essas duas fontes de energia aumentaram muito sua participação na matriz elétrica brasileira. A geração eólica já responde por mais da metade da energia consumida no Nordeste. A região responde por 87% da produção nacional.

Com a descoberta e exploração do pré-sal, o Brasil se tornou autossuficiente e um exportador líquido de petróleo.

O **hidrogênio verde (H2V)** é apontado como umas das alternativas para a transição energética global com vistas à descarbonização da economia. Para que seja considerado verde, a energia utilizada eletrólise, para a produção do hidrogênio, tem que ser proveniente de fontes limpas e renováveis.



QUESTÕES COMENTADAS – TÓPICOS SOBRE ECONOMIA BRASILEIRA – MULTIBANCAS

1. (FCC/PM BA/2023) No contexto da globalização o comércio internacional é fundamental para a economia de um país. No caso do Brasil, dois de seus principais parceiros comerciais são

- a) México e Colômbia.
- b) Austrália e Canadá.
- c) França e Japão.
- d) Argentina e China.
- e) Uruguai e África do Sul.

COMENTÁRIOS:

A China é o principal parceiro comercial do Brasil no mundo e a Argentina na América do sul.

A Argentina, historicamente, tem sido um parceiro comercial significativo para o Brasil, pelo fato de ser um país vizinho na América do Sul, pelo nível de integração como nosso país e pelo tamanho de sua economia e população.

Nas últimas décadas, a China emergiu como o principal parceiro comercial de nosso país. A relação comercial entre os dois países envolve a exportação de *commodities* brasileiras, como soja e minério de ferro, para a China, que por sua vez exporta produtos manufaturados para o Brasil.

Gabarito: D

2. (CEBRASPE/DATAPREV/2023) No Brasil, houve aumento, em 2023, da taxa do Sistema Especial de Liquidação e de Custódia (SELIC) pelo Comitê de Política Monetária (COPOM) do Banco Central, o que provocou um aumento do empréstimo pessoal, do consumo e da inadimplência entre a população brasileira.

COMENTÁRIOS:

Em 2023, houve redução da taxa Selic pelo Copom. De 2020 até 2023, o Copom aumentou progressivamente a Selic, passando de 2% para a casa dos 13,75%. O ciclo de alta foi justificado pela pressão inflacionária, decorrente principalmente dos impactos econômicos causados pela pandemia de covid-19.

Após esse longo ciclo de alta da Selic, o Copom reduziu a taxa pela primeira vez em três anos no mês de agosto de 2023.

A redução da taxa de juros leva a uma diminuição dos juros cobrados no mercado de crédito brasileiro, o que estimula o consumo e o crescimento econômico. No entanto, esse crescimento do crédito tem que ser



bem administrado, para que não seja excessivo e não leve a um aumento da inadimplência entre a população brasileira.

Gabarito: Errado

3. (IDECAN/PREFEITURA DE FORTALEZA – CE/2023) Nos últimos meses, o Presidente Lula tem criticado severamente o patamar da taxa básica de juros da economia brasileira, ao passo que o Banco Central do Brasil, mantendo-se contrário a uma redução acelerada da Taxa SELIC, tem demonstrado preocupação com as pressões inflacionárias. Todo esse embate institucional envolve as decisões tomadas pelo(a):

- A) Procon.
- B) Decon.
- C) Secom.
- D) Copom.

COMENTÁRIOS:

Ao assumir com Presidente da República, em 2023, Lula pressionou o Banco Central do Brasil para reduzir a taxa básica de juros da economia, a Selic. Dentro do Banco Central do Brasil, existe o Comitê de Política Monetária (Copom), um órgão constituído pelo Presidente do Banco Central e diretores que define, a cada 45 dias, a taxa básica de juros da economia, com o objetivo de controlar a inflação e garantir a estabilidade econômica no Brasil.

Portanto, o embate entre o Presidente da República e o Banco Central envolvia as decisões tomadas pelo Copom.

Gabarito: D

4. (FGV/CÂMARA MUNICIPAL DE TAUBATÉ-SP/2022 – CONTADOR LEGISLATIVO) Esse indicador tem por objetivo medir a inflação de um conjunto de produtos e serviços comercializados no varejo, referentes ao consumo pessoal das famílias. Ele é medido mensalmente pelo IBGE e considera na conta gastos em alimentação e bebidas, despesas pessoais, educação, moradia, saúde e cuidados pessoais.

O texto descreve um importante indicador econômico brasileiro, conhecido como

- (A) Taxa Selic.
- (B) Variação do PIB (Produto Interno Bruto).
- (C) PIB (Produto Interno Bruto) per capita.
- (D) Índice Nacional de Preços ao Consumidor Amplo (IPCA).
- (E) Índice de Desenvolvimento Humano (IDH).



COMENTÁRIOS:

O indicador que mede a inflação no país é o Índice Nacional de Preços ao Consumidor Amplo (IPCA).

A Selic é a taxa básica de juros da economia brasileira.

O PIB é o indicador econômico que representa a soma de todos os bens e serviços finais produzidos no país em um determinado período.

O IDH é um índice utilizado para averiguar o desenvolvimento humano de um país, por meio de indicadores da expectativa de vida, de educação e de renda *per capita*.

Gabarito: D

5. (FGV/CÂMARA MUNICIPAL DE TAUBATÉ-SP/2022 - TÉCNICO LEGISLATIVO DE INFORMÁTICA) A economia brasileira tem sofrido, nos últimos anos, as consequências de anos seguidos de baixo crescimento econômico. Taxa de juros (medida pela taxa Selic) e inflação (medida pelo IPCA) andam, respectivamente, em torno de

(A) 20% e 2%.

(B) 14% e 9%.

(C) 30% e 20%.

(D) 40% e 20%.

(E) 2% e 5%.

COMENTÁRIOS:

Essa prova foi aplicada no mês de outubro do ano de 2022. Na época, a taxa de juros brasileira estava na casa dos 13,75%, e a inflação acumulada nos últimos 12 meses em 7,17%. Como a questão utiliza o termo “em torno de”, não pede os números com exatidão, mas de forma aproximada. Assim, o nosso gabarito é a letra “B”.

Gabarito: B

(QUADRIX/2022/CRP 11ª REGIÃO-CE – ASSISTENTE ADMINISTRATIVO) Julgue os itens a seguir, relativos a temas atuais do Brasil e do mundo.

6. A política de preço de paridade de importação na venda de combustíveis feita pela Petrobras é a principal responsável pelo aumento dos preços da gasolina e do diesel no Brasil.

COMENTÁRIOS:



Desde 2016, a Petrobras adota o chamado preço de paridade de importação (PPI), que faz o preço dos combustíveis variar de acordo com a cotação do barril de petróleo no mercado internacional e das oscilações do dólar.

O barril de petróleo teve o seu preço bastante elevado no mercado internacional em 2021 e 2022, e o dólar também está com uma alta cotação em relação ao real. Com isso, a Petrobras realizou sucessivos reajustes da gasolina e do diesel no Brasil, de acordo com a política de preço de paridade de importação.

Gabarito: Certo

7. Sob o espectro das recentes altas no preço dos combustíveis, o atual governo federal brasileiro trocou, por mais de uma vez, o presidente da Petrobras.

COMENTÁRIOS:

Pressionado pelos sucessivos aumentos nos preços dos combustíveis, Jair Bolsonaro trocou mais de uma vez o presidente da Petrobras. Até o mês de agosto de 2022, a Petrobras contou com quatro presidentes diferentes, tendo três demissões motivadas, principalmente, pela elevação do preço dos combustíveis.

Gabarito: Certo

8. Mais da metade do transporte de cargas do Brasil é feita por meio do modal rodoviário; nesse sentido, um aumento no preço do frete leva a um aumento na inflação.

COMENTÁRIOS:

O Brasil é um país muito dependente das rodovias como meio de escoamento da produção e de transporte de passageiros. Mais da metade do transporte de cargas do Brasil é feita por meio do modal rodoviário.

A alta nos preços de combustíveis causa um efeito em espiral na economia. O preço do frete se eleva, impactando na elevação do custo de venda dos produtos transportados. O custo maior de transporte é repassado aos consumidores finais, o que leva a um aumento na inflação.

Gabarito: Certo

9. O Brasil tem um dos menores valores de produto interno bruto (PIB) da América Latina, por isso responde pela vasta desigualdade social e pela má qualidade na educação pública básica.

COMENTÁRIOS:

O Brasil possui o maior PIB da América Latina, mas apresenta uma grande desigualdade social e uma educação pública básica com muitos problemas e desafios.

Gabarito: Errado

10. (CEBRASPE/IBGE/2021 - AGENTE DE PESQUISAS POR TELEFONE) O Brasil é um grande importador de combustíveis fósseis e maquinários. E é exportador de produtos agrícolas, que possuem baixo valor



agregado. Por isso, manter a balança comercial positiva é um desafio. Ela é o cálculo que representa o valor das exportações menos o das importações.

Internet: <www.politize.com.br> (com adaptações).

Depreende-se do texto que, diante da globalização econômica, o Brasil possui

- A) grande fluidez do capital e lucros garantidos com o destaque no volume de exportação dos produtos agrícolas e do maquinário em geral.
- B) estabilidade no processo de compra e venda, por estar sempre com saldo positivo perante o comércio internacional de mercadorias.
- C) permanente dificuldade econômica, já que o volume exportado de produtos mais baratos não ultrapassa o volume de importação dos produtos mais caros.
- D) grande desigualdade de renda da população, decorrente da exportação dos produtos agrícolas que deveriam alimentar o mercado interno.
- E) trabalho constante para manter a balança comercial em superávit, já que exporta produtos mais baratos e tem que importar produtos mais caros.

COMENTÁRIOS:

a) Incorreto. Fluidez do capital se refere à facilidade e à quantidade de capitais em circulação. Pode se considerar que o Brasil possui grande fluidez de capital, é um país que realiza comércio com muitos países, com muitas entradas e saídas. O Brasil é um dos maiores exportadores agrícolas do mundo, mas não se destaca na exportação do maquinário em geral. Não somos destaque na exportação de produtos industrializados, somos, principalmente, importadores de produtos manufaturados.

b) Incorreto. Se há estabilidade no processo de compra e venda, há equilíbrio entre exportações e importações. O que não é o caso do Brasil. Via de regra o país tem superávit comercial, exporta mais do que importa. Mas não é sempre, como diz a afirmativa. Há anos em que ocorre déficit comercial.

c) Incorreto. O volume exportado de produtos mais baratos ultrapassa o volume de importação dos produtos mais caros. Por serem produtos de baixo valor agregado, principalmente commodities agrícolas e minerais, o volume de exportação é muito maior do que o volume de importação dos produtos mais caros. O Brasil tem apresentado, ao longo dos últimos anos, saldo comercial positivo, com superávit. Ou seja, ganha mais nas exportações do que gasta nas importações.

d) Incorreto. O Brasil possui grande desigualdade de renda da população, é um dos países mais desiguais do mundo. Contudo, esta não é decorrente da exportação dos produtos agrícolas que deveriam alimentar o mercado interno, e o texto tampouco indica isso. A exportação agrícola do Brasil é composta de muitas commodities, não são produtos alimentícios básicos, como o arroz, feijão, legumes, frutas e hortaliças. Esses produtos são, em grande parte, produzidos e disponibilizados no mercado interno pela agricultura familiar.



e) Correto. O texto indica justamente o que a alternativa afirma. O Brasil trabalha constantemente para manter a balança comercial com superávit, já que exporta produtos mais baratos e tem importa uma grande variedade de produtos mais caros, industrializados.

Gabarito: E

11. (CEBRASPE/IBGE/2021 - AGENTE DE PESQUISAS POR TELEFONE) O potencial exportador do Brasil é muito grande, principalmente no setor de produção de commodities. A lista dos principais produtos exportados pelo Brasil indica a forte participação do setor do agronegócio na balança comercial brasileira. Acerca desse tema, assinale a opção correta.

A) A partir do processo de privatizações e da participação de empresas estrangeiras, petróleo, gás e derivados passaram a ocupar o lugar de principais itens da pauta de exportações do Brasil.

B) A retração da economia global na última década diminuiu a exportação brasileira de minério de ferro, principalmente para o mercado europeu, maior consumidor do minério brasileiro.

C) O rebanho bovino brasileiro é o maior em escala global e a exportação de carne é principalmente destinada aos mercados norte-americano e europeu.

D) A soja tem sido o principal produto de exportação do Brasil, principalmente para o abastecimento do mercado chinês.

E) O potencial de exportação do Brasil tem caído nos últimos anos em razão da crise que o país atravessa em diversos setores: ambiental, político e cambial.

COMENTÁRIOS:

a) Incorreta. Petróleo, gás e derivados não ocupam o lugar de principais itens da pauta de exportações do Brasil. O principal item da pauta de exportação é a soja. Além disso, a extração e refino de petróleo, gás e derivados no Brasil é feita em grande parte pela Petrobras, uma empresa estatal.

b) Incorreta. Na década 2010-2020, a economia global não se retraiu, seguiu crescendo. O maior importador do minério brasileiro é a China, portanto, o mercado asiático.

c) Incorreta. Conforme o Ministério da Agricultura, em 2020, o rebanho bovino brasileiro foi o maior do mundo. Contudo, a exportação de carne é destinada principalmente ao mercado asiático, e não aos mercados norte-americano e europeu.

d) Correta. A soja tem sido, ao longo dos últimos anos, o principal produto de exportação do Brasil. O principal importador da soja brasileira é a China.

e) Incorreta. O Brasil não passou por uma crise cambial nos últimos anos. Embora tenha passado por crises políticas e convivido com conflitos ambientais, isso não fez com que o potencial de exportação do Brasil diminuísse. A oscilação nas exportações brasileiras se deveu mais a conjuntura econômica mundial, do que a problemas internos.

Gabarito: D



12. (QUADRIX/CRN 9/2019 – ADAPTADA) A União Europeia é um grande mercado para as commodities do Brasil, mas não importa produtos industrializados do País, para proteger sua indústria.

COMENTÁRIOS:

A União Europeia é um grande mercado para as commodities do Brasil. Os principais produtos exportados do Brasil para o bloco são a soja e seus derivados, café, minério de ferro e celulose.

Entretanto, embora sejam pouco representativos na pauta das exportações brasileiras, a União Europeia também importa produtos industrializados do Brasil, como suco de laranja, ligas de ferro, tubos flexíveis de ferro e aço e aviões.

Gabarito: Errado

13. (FCC/SABESP/2019) O indicador caiu 0,2%, no primeiro trimestre de 2019, em relação ao quarto trimestre de 2018, segundo dados divulgados pelo Instituto Brasileiro de Geografia e Estatística (IBGE). O resultado coloca o país na fronteira de uma recessão técnica.

(Disponível em: www.elpais.com.br. Adaptado).

O indicador que revela a possibilidade de recessão da economia brasileira é

- a) o Plano Safra.
- b) a Balança comercial.
- c) a Produção industrial.
- d) o Produto Interno Bruto.
- e) o Pleno emprego.

COMENTÁRIOS:

A questão se refere ao Produto Interno Bruto (PIB) que teve crescimento negativo de 0,2% no primeiro trimestre de 2019, em relação ao quarto trimestre de 2018, conforme o IBGE.

A questão fez referência à recessão técnica e à recessão, termos que são utilizados no monitoramento da evolução do PIB. Quando há um crescimento negativo por dois trimestres consecutivos, a economia de um país entra em recessão técnica. Quando o crescimento negativo ocorre por três ou mais trimestres a economia de um país está em recessão.

O PIB é uma medida do valor dos bens e serviços que o país produz num período de tempo, somando as três grandes áreas da economia: agropecuária, indústria e serviços. Com o PIB, é possível medir a atividade econômica e o nível de riqueza de uma região. Quando o PIB aumenta, mais se produz, mais se está consumindo, investindo e vendendo.

Gabarito: D



14. (CEBRASPE/PGE-PE/2019 – ANALISTA JUDICIÁRIO) O Brasil possui destaque na exportação de commodities como minério de ferro, soja, petróleo e açúcar brutos, além de carne de frango, sendo os principais parceiros no comércio exterior brasileiro a China, os EUA e a Argentina.

COMENTÁRIOS:

O Brasil é um grande exportador de commodities, tais como o minério de ferro, a soja em grão, o café em grão, o milho em grão, a carne in natura, o açúcar, o aço e a celulose. A China é o maior comprador de produtos brasileiros, seguida dos Estados Unidos, da Argentina e dos Países Baixos.

Gabarito: Certo

(CEBRASPE/FUB/2018 – CARGOS DE NÍVEL SUPERIOR) Acerca de temas diversos da atualidade, julgue os próximos itens.

15. No contexto econômico das relações internacionais contemporâneas, o Brasil se destaca na produção e exportação de commodities.

COMENTÁRIOS:

O Brasil é predominantemente um exportador de produtos primários e industrializados de baixa tecnologia. Destaca-se como um grande exportador de commodities. Nossos principais produtos agropecuários, minerais e de industrialização básica de exportação são a soja em grão e farelos, petróleo bruto, minério de ferro, celulose, carnes, açúcar de cana em bruto, aço, café em grão e milho em grão.

Commodities são mercadorias produzidas em grande quantidade por um número significativo de produtores e com qualidade uniforme, ou seja, sem significativas distinções em suas características. As commodities tradicionais são produtos agrícolas, como trigo, soja, suco de laranja congelado e boi gordo, e produtos minerais, como petróleo, aço e ouro. Esses produtos básicos são negociados por volume em bolsas de mercadorias. Os seus preços são determinados por sua oferta e procura no mercado mundial.

Gabarito: Certo

16. Atualmente, o massivo investimento em ciência e tecnologia tem feito o setor secundário do Brasil desempenhar papel de grande destaque no produto interno bruto nacional, que, atualmente, está entre os dez maiores do mundo.

COMENTÁRIOS:

Os investimentos em ciência e tecnologia não são massivos no Brasil. Em comparação com países desenvolvidos, o país investe pouco nesse segmento. O setor secundário (indústria) não é muito participativo no produto interno bruto, representa pouco mais de 20% do PIB brasileiro. Posto isso, a questão está errada.

Em 2018, quando essa prova foi aplicada, o PIB brasileiro era o 9º maior do mundo. Ou seja, estava entre os dez maiores do mundo. Em 2020, o PIB brasileiro caiu para a 12ª colocação e em 2021 para a 13ª colocação.

Gabarito: Errado



17. (FCC/PC-AP/2017 – DELEGADO DE POLÍCIA) Em passado recente as três grandes agências internacionais de classificação de risco voltaram suas atenções para a economia brasileira. Sobre esse fato considere as afirmações:

I. A classificação de risco (rating) soberano é a nota dada por agências classificadoras de risco que avaliam a capacidade e a disposição de um país em honrar, pontual e integralmente, os pagamentos de sua dívida.

II. As agências atribuem as notas de risco de crédito apenas a Estados nacionais, mas excepcionalmente podem avaliar empresas, especialmente estatais que estão em vias de desestatização.

III. Desde final de 2016 as principais agências de risco incluíram o Brasil no grupo de países com classificação A-, isto é, país com baixo grau de investimento financeiro.

IV. Quanto pior for a classificação de risco maior são os juros cobrados pelos investidores para emprestar dinheiro, o que amplia a crise econômica do país endividado.

Está correto o que se afirma APENAS em

a) II e III.

b) I e III.

c) I e IV.

d) II e IV.

e) III e IV.

COMENTÁRIOS:

A classificação de risco por agências estrangeiras representa uma medida de confiança dos investidores internacionais na economia de um determinado país. As notas servem como referência para os juros dos títulos públicos, que representam o custo para o governo pegar dinheiro emprestado dos investidores.

Uma boa classificação atrai investimentos estrangeiros ao país. Fundos de pensão estrangeiros investem apenas em países com grau de investimento concedido por, pelo menos, duas agências de classificação de risco. Caso contrário, o país passa a ser considerado de grau especulativo.

I – Correto. A classificação de risco (rating) soberano é a nota dada por agências classificadoras de risco que avaliam a capacidade e a disposição de um país em honrar, pontual e integralmente, os pagamentos de sua dívida.

II – Incorreto. As agências também atribuem notas aos governos estaduais e a empresas estatais e privadas avaliando a capacidade dessas instituições de honrarem os pagamentos dos compromissos assumidos no mercado financeiro.



III – Incorreto. Em 2015 e 2016, as principais agências de classificação de risco incluíram o Brasil no grupo de países com classificação B e suas demais subclassificações, que correspondem a um grau de especulação baixo.

IV – Correto. Quanto pior for a classificação de risco maior serão os juros cobrados pelos investidores para emprestar dinheiro ao país, pois é menos confiável emprestar dinheiro a um país com uma classificação de risco de grau especulativo. Isso pode ampliar a crise econômica do país.

Gabarito: C



QUESTÕES COMENTADAS – AGROPECUÁRIA E AGRONEGÓCIO – MULTIBANCAS

1. (CEBRASPE/TJ-SC/2023) O Brasil é um dos maiores exportadores mundiais de alimentos, o que faz de sua produção agropecuária importante elemento para a constituição do produto interno bruto (PIB) do país. O avanço no campo, com significativo aumento da produtividade, deve-se, em larga medida,

- a) à maior dependência das importações com a baixa da produção local.
- b) à diminuição da demanda mundial por alimentos.
- c) ao sistema sustentável de produção agropecuária e ao investimento em ciência e tecnologia.
- d) ao êxodo rural, com a emigração de pessoas em massa para o campo.
- e) à comercialização internacional de produtos sem procedência garantida.

COMENTÁRIOS:

O Brasil é um dos maiores exportadores mundiais de alimentos e tem uma produção agropecuária robusta, que desempenha um papel fundamental na economia do país, contribuindo significativamente para a formação do Produto Interno Bruto (PIB).

A alternativa correta é a letra "C". O avanço no campo, com significativo aumento da produtividade, deve-se, em larga medida, ao investimento em ciência e tecnologia. Entretanto, é questionável afirmar que também se deve ao sistema sustentável de produção agropecuária, uma vez que o modelo agrícola do agronegócio, grande responsável pela exportação de alimentos no país, causa uma série de impactos socioambientais. Contudo, como costume dizer, não vamos brigar com a banca. Rsrs.

Gabarito: C

(QUADRIX/CRO-TO/2023) No que diz respeito a assuntos da atualidade do Brasil e do mundo, julgue os itens a seguir.

2. Na pauta das exportações brasileiras, o agronegócio desempenha papel de destaque.

COMENTÁRIOS:

O agronegócio desempenha um papel de destaque na pauta de exportações brasileiras.

O Brasil é um dos maiores produtores e exportadores mundiais de diversos produtos agrícolas, como soja, carne bovina, aves, café, açúcar, milho e muitos outros. Esses produtos têm contribuído significativamente para o desempenho positivo da balança comercial do país.



O agronegócio brasileiro se destaca não apenas pela quantidade, mas também pela diversidade de produtos exportados. A crescente demanda internacional por commodities agrícolas e alimentos tem impulsionado as exportações do setor.

Gabarito: Certo

3. A atuação da Embrapa é vital para o desenvolvimento da agricultura e da pecuária brasileiras.

COMENTÁRIOS:

A Empresa Brasileira de Pesquisa Agropecuária, também conhecida como Embrapa, é uma instituição pública vinculada ao Ministério da Agricultura e Pecuária (MAPA).

A Embrapa desenvolve pesquisas em diversas áreas, incluindo o melhoramento genético de plantas e animais, o manejo do solo, sistemas de produção sustentáveis, controle de pragas e doenças, entre outros. Suas inovações têm impacto direto na eficiência e na qualidade da produção agrícola e pecuária no Brasil.

Gabarito: Certo

4. Há consenso de que o Brasil poderia ter maior participação no agronegócio do comércio mundial, se dispusesse de avançadas instituições de pesquisa na área.

COMENTÁRIOS:

O Brasil já tem uma participação expressiva no agronegócio mundial, sendo um dos maiores exportadores de produtos agrícolas, como soja, carne bovina, frango, açúcar, café e outros.

Além disso, nosso país tem um forte setor de pesquisas agrícolas, tanto de empresas privadas quanto de instituições públicas. Conforme já mencionamos ao longo do curso, o Brasil conta com instituições renomadas, como a Empresa Brasileira de Pesquisa Agropecuária (Embrapa), que desempenham um papel crucial no desenvolvimento de tecnologias e práticas agrícolas inovadoras. A Embrapa é responsável por pesquisas que contribuem para o aumento da produtividade, a melhoria da qualidade dos produtos agrícolas e a sustentabilidade ambiental.

Gabarito: Errado

5. (CEBRASPE/TJ-SC/2023) Com relação ao atual estágio econômico do Brasil, assinale a opção correta.

- A) O Brasil é um dos maiores exportadores mundiais de grãos e de proteína animal.
- B) Atualmente, os maiores parceiros comerciais do Brasil são os países da África Subsaariana e da América do Norte.
- C) Por não ser autossuficiente na produção de petróleo, o Brasil se encontra impedido de exportar esse óleo natural.
- D) O fim do desmatamento na Amazônia e no Cerrado amplia as possibilidades de exportação brasileira.



E) Mesmo sem contar com aporte científico e tecnológico, estatal ou privado, o agronegócio brasileiro se expande exponencialmente.

COMENTÁRIOS:

Alternativa a: correta. O Brasil tem uma produção agrícola expressiva, sendo um dos maiores exportadores de commodities agrícolas, como soja, milho, carne bovina e de frango.

Alternativa b: incorreta. Na atualidade, os maiores parceiros comerciais do Brasil são China, Estados Unidos, Argentina e União Europeia, não os países mencionados na opção.

Alternativa c: incorreta. O Brasil é autossuficiente na produção de petróleo, exporta e importa petróleo, sendo um exportador líquido, ou seja, exporta mais do que importa.

Alternativa d: incorreta. O desmatamento na Amazônia e no Cerrado é um dos principais problemas brasileiros da atualidade, tendo ganhado grande repercussão nos anos recentes. Conforme prevê a legislação ambiental brasileira, é possível desmatar legalmente áreas de vegetação nativa nesses biomas. Por isso, quando a questão menciona o fim do desmatamento, está se referindo ao fim do desmatamento ilegal, o que é fundamental para a preservação ambiental. O desmatamento excessivo pode impactar negativamente a imagem do Brasil no comércio internacional. Por outro lado, a preservação desses ambientes pode proporcionar possibilidades de comércio e exportações ao Brasil.

Alternativa e: incorreta. O agronegócio brasileiro conta com aporte científico e tecnológico, tanto do setor público quanto do setor privado, o que contribui para o seu crescimento e aumento da produtividade. A inovação e a pesquisa são fundamentais para impulsionar o setor agrícola no país.

Gabarito: A

6. (QUADRIX/CRP-10/2022 – ASSISTENTE ADMINISTRATIVO) O Brasil é, hoje, um dos maiores produtores mundiais de alimentos.

COMENTÁRIOS:

O Brasil é um dos gigantes da agropecuária no mundo. De acordo com a Organização Mundial do Comércio (OMC), o país é o segundo maior produtor agrícola do planeta, atrás somente dos Estados Unidos. Ademais, é o maior produtor e exportador mundial de açúcar, café e suco de laranja, e o segundo maior produtor e o maior exportador de soja do mundo. O Brasil está ainda entre os líderes de produção e exportação de carne bovina, frango e milho. Além de garantir o abastecimento do mercado interno, o Brasil tornou-se o segundo maior exportador mundial de alimentos, atrás dos EUA.

Gabarito: Certo

7. (QUADRIX/REFITO 6ª REGIÃO/2022 – RECEPCIONISTA) O conhecimento científico foi decisivo para que o Brasil se transformasse em um dos maiores produtores e exportadores de alimentos no mundo contemporâneo, especialmente de grãos e proteínas animais. Sendo assim, assinale a alternativa que apresenta a sigla da instituição que se notabiliza por seu trabalho de pesquisa na área da agropecuária.

(A) Embraer.



- (B) Petrobras.
- (C) CNPq.
- (D) Capes.
- (E) Embrapa.

COMENTÁRIOS:

A instituição referida pelo enunciado é a Empresa Brasileira de Pesquisa Agropecuária (Embrapa). Essa instituição trabalha com o desenvolvimento de tecnologias, conhecimentos e informações técnico-científicas voltados para a agricultura e para a pecuária brasileira. É uma instituição de renome internacional, com centenas de pesquisas científicas que contribuíram e contribuem significativamente para o crescimento continuado da agropecuária brasileira.

A Empresa Brasileira de Aeronáutica S.A (Embraer) é uma empresa do ramo da aviação que fabrica aviões militares, comerciais, executivos ou agrícolas.

A Petróleo Brasileiro S.A (Petrobras) atua no segmento de energia, prioritariamente nas áreas de exploração, de produção, de refino, de comercialização e de transporte de petróleo, gás natural e seus derivados.

O Conselho Nacional de Desenvolvimento Científico e Tecnológico (CNPq) é uma entidade ligada ao Ministério da Ciência, Tecnologia e Inovações para incentivo à pesquisa no Brasil.

A Coordenação de Aperfeiçoamento de Pessoal de Nível Superior (Capes) é uma fundação vinculada ao Ministério da Educação do Brasil que atua na expansão e na consolidação da pós-graduação *stricto sensu* em todos os estados brasileiros.

Gabarito: E

8. (VUNESP/PC-SP/2018 – AUXILIAR DE PAPILOSCOPISTA) O número de mortes em conflitos agrários cresceu 15% em 2017 na comparação com o ano anterior, num total de 70 assassinatos. De acordo com a Comissão Pastoral da Terra (CPT), que divulgou os dados nesta quarta-feira (23 de maio de 2018), trata-se do maior número desde 2003. Dentre as mortes registradas, a pastoral destaca quatro massacres que ocorreram na Bahia, Mato Grosso, Pará e Rondônia, resultando em 28 assassinatos. O estado do Pará lidera o ranking de 2017 com 21 pessoas assassinadas, dez no massacre de Pau D'Arco, seguido pelo estado de Rondônia, com 17, e pela Bahia, com 10 assassinatos.

(Carta Capital. <https://www.cartacapital.com.br>. 23.05.2018. Adaptado)

Uma das justificativas para a violência no campo brasileiro relaciona-se

- a) à minifundiarização da produção de matérias-primas agrícolas.
- b) ao processo histórico de concentração fundiária.
- c) à coletivização das terras improdutivas prevista na Constituição.



- d) ao avanço das monoculturas em direção das periferias urbanas.
- e) à industrialização de áreas remotas do território nacional.

COMENTÁRIOS:

A estrutura fundiária brasileira é extremamente concentrada. A concentração da propriedade da terra é um dos traços marcantes do campo brasileiro, cujas origens remotas encontram-se no modelo de colonização da América portuguesa. Esse padrão concentrador serviu como base para a configuração da agricultura moderna brasileira, que exhibe nítida dicotomia entre grandes e pequenos estabelecimentos rurais. Essa desigualdade é, segundo especialistas, a causa de grande parte dos conflitos no campo, entre trabalhadores sem-terra e grandes proprietários rurais.

Gabarito: B

9. (FGV/PREFEITURA DE SALVADOR – BA/2017 – TÉCNICO DE NÍVEL SUPERIOR II - DIREITO) O IBGE divulgou que o PIB (Produto Interno Bruto) cresceu 1% no primeiro trimestre de 2016, em relação ao quarto trimestre do mesmo ano, já retirados os efeitos sazonais. É o primeiro número positivo desde o final de 2014, e o principal fator para este resultado foi o desempenho do setor agropecuário, que cresceu 13,4% no período. Os serviços, que respondem por mais de 70% do PIB, ficaram estáveis. A indústria também teve resultado positivo, com alta de 0,9%.

(Adaptado de <http://www1.folha.uol.com.br/mercado/>)

Com relação ao desempenho positivo do agronegócio brasileiro, analise as afirmativas a seguir.

- I. O agronegócio é responsável por uma grande parte da produção nacional brasileira, impulsionando também a demanda em outros segmentos, como, por exemplo, o de insumos e o de transporte de cargas.
- II. O agronegócio tem papel relevante no incremento das exportações brasileiras para países orientais, sobretudo a China, que concentram a demanda em produtos do complexo da soja.
- III. O agronegócio expandiu suas cadeias produtivas graças à ampliação de áreas de cultivo e ao desenvolvimento de novas tecnologias, sendo responsável pela geração de empregos no campo.

Está correto o que se afirma em

- a) I, somente.
- b) II, somente.
- c) III, somente.
- d) I e II, somente.
- e) I, II e III.

COMENTÁRIOS:



I – Correto. A agropecuária é um dos motores da economia brasileira. Impulsiona parte importante da indústria e dos serviços, numa cadeia produtiva denominada de agronegócio.

II – Correto. A participação do agronegócio no conjunto das exportações brasileiras é significativa. Países orientais estão entre os principais destinos das exportações do segmento. A China, principal parceiro comercial do Brasil, é uma grande importadora de produtos do complexo soja (grão, farelo e óleo), além de outras commodities.

III – Correto. A expansão do agronegócio foi possível, entre outros fatores, pela ampliação de áreas de cultivo e pelo desenvolvimento de novas tecnologias. A expansão do agronegócio demanda mais mão de obra, gerando empregos no campo.

Gabarito: E



QUESTÕES COMENTADAS – INDÚSTRIA – MULTIBANCAS

1. (CEBRASPE/PO-AL/2023) O Brasil é um dos países mais industrializados do mundo e sua indústria tem se expandido devido à adoção de incentivos fiscais e mão de obra especializada e de baixo custo.

COMENTÁRIOS:

O Brasil não está entre os países mais industrializados do mundo. Na verdade, a indústria brasileira tem enfrentado desafios significativos nas últimas décadas, com um processo de desindustrialização em curso. De modo geral, a indústria brasileira apresenta baixa capacidade de inovação e de produção de itens com elevada tecnologia e valor agregado, o que a torna pouco competitiva no cenário global.

Gabarito: Errado

2. (QUADRIX/CAU-SC/2022 – ADVOGADO)



Internet: <<https://www.poder360.com.br>>.

Assinale a alternativa que apresenta dois fatores que estão diretamente ligados à temática do gráfico acima.

- (A) desindustrialização e baixa competitividade nas exportações
- (B) agravamento da pandemia e altas taxas de desemprego
- (C) falta de produção de tecnologia e queda na bolsa de valores
- (D) predominância de baixos salários no setor secundário e aumento da competitividade interna



(E) aumento da dívida externa e falta de credibilidade internacional

COMENTÁRIOS:

O título do gráfico nos informa que se trata da **participação do Brasil no valor adicionado da indústria de transformação mundial**. Podemos analisar que essa participação, que era de 2,50%, em 1990, caiu para 1,32%, em 2020. Ou seja, houve uma significativa redução da participação do Brasil no valor adicionado da indústria de transformação mundial.

Isso ocorre pelo fato do país passar pelo chamado processo de desindustrialização, que é a redução da participação da indústria brasileira no cômputo da economia nacional. Esse processo ocorre pela falta de competitividade e pela falta de inovação do setor industrial nacional.

Com uma indústria pouco competitiva e inovadora, o país também apresenta baixa competitividade nas exportações. Nosso país é um grande exportador de matérias-primas e produtos com baixo grau de industrialização, como a soja e minérios. O superávit nas exportações depende, portanto, da exportação de grandes quantidades desses produtos, uma vez que o valor adicionado a eles é baixo.

Portanto, a alternativa correta é a letra “A”: a temática do gráfico está diretamente ligada a desindustrialização e baixa competitividade nas exportações.

Gabarito: A

3. (QUADRIX/2022/CRP 11ª REGIÃO-CE – ASSISTENTE ADMINISTRATIVO) A pandemia de covid-19, nos dois últimos anos, fez a crescente industrialização brasileira perder milhares de postos de emprego, mas estes estão sendo recuperados gradativamente com a volta do crescimento econômico.

COMENTÁRIOS:

A indústria brasileira passa por um processo chamado de desindustrialização, que é a diminuição da participação da indústria no PIB nacional. A indústria vem sofrendo um retrocesso quase contínuo desde o início dos anos 2000, evidenciando as dificuldades de competitividade do setor. Portanto, a questão erra ao falar sobre a “crescente industrialização brasileira”.

A pandemia de covid-19 piorou ainda mais o quadro da indústria no país, que registrou maiores taxas de retração.

Gabarito: Errado

4. (QUADRIX/CFT/2021 – ASSISTENTE ADMINISTRATIVO) O Brasil ocupa posição de destaque quando o assunto é a criação de um produto ou um processo que seja novo para o mercado ou para a empresa, utilizando nova tecnologia, composição também conhecida como inovação tecnológica.

COMENTÁRIOS:

No quesito de inovação tecnológica, o Brasil é um país atrasado. Apesar de estar situado entre as maiores economias do mundo, nosso país é o 57º no Índice Global de Inovação (2020).



Dados recentes da Unesco também mostram que o Brasil investe apenas 1,15% de seu Produto Interno Bruto (PIB) em pesquisa e desenvolvimento, enquanto países como a Suíça e Suécia, que estão em primeiro e segundo lugares no ranking de inovação, investem 3,2% e 3,1% de seu PIB, respectivamente. Os Estados Unidos, em terceiro, investem 2,7%.

No esforço de inovação, a indústria brasileira tem como atividade de maior relevância a absorção de tecnologia por meio da aquisição de máquinas e equipamentos. Dessa forma, a maior parte das empresas inovadoras no Brasil dedica-se a modificações no processo (compra de máquinas e equipamentos) e não no desenvolvimento de novos produtos.

As estratégias de inovação tecnológica estão relacionadas à criação das chamadas **indústrias de ponta**. São indústrias ligadas ao emprego de alta tecnologia, de elevado capital e de trabalhadores altamente qualificados. As indústrias de ponta dependem de inovações constantes que possibilitem modificações rápidas no processo de produção.

Gabarito: Errado

5. (CEBRASPE/PGE-PE/2019 – ANALISTA JUDICIÁRIO) A recente descentralização industrial brasileira é explicada e entendida por intermédio das relações bilaterais e do fortalecimento do MERCOSUL.

COMENTÁRIOS:

A descentralização industrial brasileira não é recente e não tem relação com o MERCOSUL e com relações bilaterais entre o Brasil e outros países.

É explicada pelos seguintes fatores: o deslocamento das fábricas para locais com incentivo fiscal do Estado; o crescimento da oferta de mão de obra qualificada fora das capitais, mas que aceita salários menores; o deslocamento de empresas para perto de fornecedores de matérias-primas; a busca de cidades onde o gasto com benefícios trabalhistas é mais baixo; a redução dos custos logísticos, como o do transporte de mercadorias e o crescimento da renda da população em outras regiões do Brasil.

Gabarito: Errado



QUESTÕES COMENTADAS – TRANSPORTES – MULTIBANCAS

1. (VUNESP/EPC/2023) Os investimentos públicos em infraestrutura vêm decrescendo há cerca de 50 anos, segundo dados do Observatório de Política Fiscal do IBRE/FGV. Segundo recente pesquisa da Confederação Nacional da Indústria (CNI), 73% dos entrevistados indicaram um setor, em especial, como o maior gargalo do setor de infraestrutura brasileiro.

(CNN. <https://bit.ly/3JR8uXI>. 26.11.2022. Adaptado)

Foi considerado o maior gargalo de infraestrutura o setor de

- A) telecomunicações, pela dificuldade de expansão do 5G.
- B) energia, pelo elevado custo da transmissão.
- C) saúde, com ênfase na deficiência de profissionais qualificados.
- D) saneamento básico, pela pequena oferta disponível.
- E) transportes, com ênfase para as más condições das rodovias.

COMENTÁRIOS:

Dentro da conjuntura econômica nacional, o setor de transportes apresenta uma série de problemas e é considerado o maior gargalo de infraestrutura do país. O levantamento mencionado pelo enunciado, feito pela Confederação Nacional da Indústria (CNI), entrevistando-se industriais, constata essa análise, que há muitos anos já é feita por analistas econômicos no país.

Diversos são os problemas apontados no setor de transporte, mas listo alguns:

1. Más condições das rodovias: as estradas brasileiras sofrem com a falta de conservação, o que resulta em buracos, irregularidades e falta de sinalização adequada. Isso prejudica a fluidez do tráfego, aumenta o tempo de viagem e eleva os custos operacionais das empresas.
2. Congestionamentos: as grandes cidades brasileiras enfrentam congestionamentos diários, especialmente nos horários de pico. A falta de investimentos em transporte público eficiente e a grande quantidade de veículos nas ruas contribuem para esse problema, causando atrasos, perda de produtividade e impactos ambientais.
3. Deficiências no transporte ferroviário: o sistema ferroviário no Brasil é subutilizado e pouco desenvolvido, com poucas linhas. Isso faz com que uma grande quantidade de cargas seja transportada por caminhões, o gerando altos custos logísticos e congestionamento nas estradas.
4. Falta de integração e planejamento: a falta de integração entre os diferentes modos de transporte (rodoviário, ferroviário, aéreo e hidroviário) dificulta a eficiência do sistema como um todo. Além disso, a falta de planejamento adequado para o setor resulta em desequilíbrio na oferta e demanda de transporte, gerando ineficiências e custos elevados.



5. Custo elevado do transporte: a precariedade da infraestrutura, os congestionamentos e a falta de modais alternativos encarecem o transporte no Brasil. Isso afeta diretamente a competitividade das empresas, encarece os produtos para o consumidor final e dificulta o desenvolvimento econômico de algumas regiões do país.

Esses são apenas alguns dos problemas enfrentados pelo setor de transportes no Brasil, os quais demandam investimentos e políticas públicas eficientes para superar os gargalos e melhorar a infraestrutura de transporte do país.

Gabarito: E

(CEBRASPE/FUB/2018 – CARGOS DE NÍVEL MÉDIO) As fontes de energia, os transportes e as telecomunicações constituem três elementos básicos da infraestrutura econômica — e, em particular, industrial — de um país. São condições para a sua modernização e, ao mesmo tempo, indicadores de desenvolvimento e da sustentabilidade ambiental.

José William Vesentini. Geografia: o mundo em construção. Ática, vol. 2, 2013, p. 41 (com adaptações).

Acerca do assunto abordado nesse fragmento de texto, bem como de múltiplos aspectos a ele relacionados, julgue os itens a seguir.

2. O Brasil adota um sistema equilibrado de frete por transporte terrestre multimodal, por influência, ainda, do nacional-desenvolvimentismo do governo de Juscelino Kubitschek.

COMENTÁRIOS:

O Brasil não adota um sistema equilibrado de frete por transporte terrestre multimodal. O transporte terrestre é predominantemente rodoviário, e boa parte desse predomínio possui influência do governo de Juscelino Kubitschek, que ampliou consideravelmente as rodovias do país e incentivou a instalação de empresas automobilísticas no Brasil. Governos anteriores já vinham relegando o transporte ferroviário a um plano secundário, mas com JK o modal foi amplamente secundarizado. Os governos subsequentes continuaram com a política rodoviarista, abrindo estradas, construindo rodovias e incentivando a produção automobilística, trabalhando muito pouco em direção a ampliação de outros meios de transporte e da intermodalidade.

Gabarito: Errado

3. Os rios navegáveis das regiões Norte e Centro-Oeste do Brasil fazem que o transporte aquaviário seja de importância primordial para a exportação brasileira de commodities.

COMENTÁRIOS:

A maior parte das commodities é transportada das regiões produtoras até os centros de beneficiamento, indústrias e portos exportadores pelo modal rodoviário, sobretudo as da agropecuária. Talvez os minérios sejam a única exceção, já que são intensamente transportados pelo modal ferroviário, como o ferro, e dutos, como o petróleo.



O transporte aquaviário (pelos rios brasileiros) não é de importância primordial para as exportações brasileiras de commodities.

A região Norte dispõe uma ótima rede hidrográfica para o transporte aquaviário, sendo, porém, pouco aproveitada. Em uma escala menor, a região Centro-Oeste também possui uma boa rede hidrográfica para o transporte hidroviário, que também é pouco aproveitada.

Gabarito: Errado

4. (CEBRASPE/MP PI/2018 – TODOS OS CARGOS - ADAPTADA) O Brasil inclui-se entre os países que possuem a maior concentração rodoviária do transporte de cargas no mundo.

COMENTÁRIOS:

A matriz de transportes brasileira é muito desequilibrada. Segundo Empresa de Planejamento e Logística (EPL), do Governo Federal, 65% de toda a carga em território nacional escoada pelas estradas (2015). Somadas, ferrovias e hidrovias respondem por pouco mais de 30% das cargas transportadas. Essa situação deixa o país vulnerável a protestos como o dos caminhoneiros.

O predomínio das rodovias coloca o Brasil na 55ª colocação no ranking de eficiência no transporte de carga do Banco Mundial, atrás de outras economias emergentes, como a China, a Índia e a África do Sul. A infraestrutura em transporte é especialmente importante para as exportações. Um frete ineficiente encarece o produto final no mercado externo, o que significa menor competitividade.

Gabarito: Certo

5. (IDECAN/CM NATIVIDADE/2017 - TÉCNICO EM CONTABILIDADE) Sobre o transporte rodoviário, o principal modal de integração do território brasileiro, sendo responsável por grande parcela dos fluxos, de mercadorias e pessoas, dentro do país, marque V para as afirmativas verdadeiras e F para as falsas.

() É o mais flexível e o mais ágil no acesso às cargas, permite integrar regiões, mesmo as mais afastadas, bem como o interior dos países.

() Possui rapidez na entrega da carga em curta distância, além de ser peça fundamental da multimodalidade e da intermodalidade.

() Tem o menor custo de infraestrutura e a maior capacidade de carga entre todos os modais.

() É considerado um meio de transporte limpo, por ter baixa emissão de poluentes.

A sequência está correta em

a) F, V, F, V.

b) V, F, F, V.

c) V, F, V, F.



d) V, V, F, F.

COMENTÁRIOS:

I – Verdadeira. O transporte rodoviário é mais flexível dentre os meios de transporte, permite integrar regiões, mesmo as mais afastadas, bem como o interior dos países, podendo entregar a mercadoria no exato local em que ela precisa ser entregue. É o mais ágil no acesso às cargas no sentido em que as operações de despacho de carga e descarga das mercadorias são mais simplificadas em relação às ferrovias e hidrovias. No Brasil, o planejamento da integração nacional se realiza (e se realizou) muito através da construção de rodovias entre as regiões e unidades da federação.

II – Verdadeira. Para entregas em distâncias curtas, o transporte rodoviário é o mais adequado, pois o custo é menor. Por todas as suas características, torna-se uma peça fundamental da multimodalidade e da intermodalidade dos meios de transportes.

III – Falsa. A capacidade de carga do transporte rodoviário é menor que a do transporte ferroviário e hidroviário. Quanto ao custo de infraestrutura, inicialmente, os custos para se construir uma rodovia são menores do que para construir uma ferrovia, ou portos e eclusas. No entanto, segundo especialistas, os custos de manutenção de rodovias são maiores do que os das ferrovias, portos e eclusas.

IV – Falsa. Este meio de transporte utiliza como combustível derivados do petróleo, que emitem intensamente gases poluentes na atmosfera, como o CO₂. Não é um meio de transporte limpo.

Gabarito: D

6. (IDECAN/CM NATIVIDADE/2017 - TÉCNICO EM CONTABILIDADE) “Entende-se por transporte dutoviário aquele efetuado no interior de uma linha de tubos ou dutos realizados por pressão sobre o produto a ser transportado ou por arraste deste produto por meio de um elemento transportador. Assim, toda dutovia deve ser constituída de três elementos essenciais: os terminais, com os equipamentos de propulsão do produto; os tubos; e, as juntas de união destes.”

(Arquivo do curso de Logística na FADITU.)

Sobre o transporte dutoviário, marque V para as afirmativas verdadeiras e F para as falsas.

() Permite que grandes quantidades de produtos sejam deslocadas de maneira segura, diminuindo o tráfego de cargas perigosas por caminhões, trens ou navios.

() Contribui preponderantemente com o aumento do desmatamento se comparado a outros modais de transporte.

() Possui elevado custo de manutenção, sem contar os elevados indicadores de acidentes e roubos de cargas que são facilitados.

() Pode dispensar armazenamento, simplifica o procedimento de carga e descarga e diminui custos de transportes.

A sequência está correta em



- a) F, V, F, V.
- b) V, F, F, V.
- c) V, F, V, F.
- d) V, V, F, F.

COMENTÁRIOS:

I – Verdadeira. O transporte de cargas perigosas e inflamáveis, como gás e petróleo é muito mais seguro por dutos do que por caminhões, trens e navios. Entretanto, não está descartada a possibilidade de acidentes no transporte dutoviário. O rompimento de dutos pode causar grandes impactos ambientais, contaminando o solo ou corpos hídricos.

II – Falsa. A maioria das dutovias são subterrâneas e submarinas. Não possuem relação com o aumento do desmatamento, diferentemente das rodovias e das ferrovias, onde é necessário se desmatar para a implantação das mesmas. As rodovias e ferrovias também estimulam a ocupação de áreas do seu entorno, o que contribui para o aumento do desmatamento.

III – Falsa. Apesar do alto investimento inicial, as dutovias possuem baixo custo operacional. A possibilidade de roubos de cargas é quase nula, uma vez que as dutovias encontram-se, geralmente, embaixo do solo ou das águas. O risco de acidentes é baixo, mas possui o potencial de causar grande impacto ambiental.

IV – Verdadeira. O transporte dutoviário possui a vantagem de apresentar baixo custo operacional de transporte e de energia. O procedimento de carga e descarga é bastante simples. Dutovias dispensam armazenamento do material, uma vez que os próprios dutos proporcionam o seu armazenamento.

Gabarito: B



QUESTÕES COMENTADAS – ENERGIA – MULTIBANCAS

(CEBRASPE/MEC/2023) Desde o começo do ano, a geração de energia elétrica no Brasil tem ganhado cada vez mais evidência. Segundo dados de junho de 2023 da Agência Nacional de Energia Elétrica (ANEEL), o Brasil concluiu o primeiro semestre de 2023 com um acréscimo de 5,1 gigawatts (GW) na capacidade instalada de geração de energia elétrica. Desses, 2,3 GW (44,53% do total) são de fonte eólica e 2,2 GW (42,76%) de solar. O total de 121,5 MW (2,36%) vêm de pequenas centrais hidrelétricas (PCHs) e 11,4 MW (0,22%) de três centrais geradoras hidrelétricas. Apenas 521,4 MW (10,13%) vieram de termelétricas.

Internet: <gov.br/mme> (com adaptações).

Considerando o fragmento de texto precedente, julgue o item seguinte, acerca da temática referente à matriz energética brasileira.

1. **Todas as fontes de energia citadas no texto são consideradas renováveis e limpas.**

COMENTÁRIOS:

O texto cita as fontes geradoras de energia eólica, solar e hidrelétrica, que são renováveis e limpas. As termelétricas geralmente utilizam fontes sujas e não renováveis, como o gás natural, petróleo e carvão mineral. Portanto, emitem gases do efeito estufa em elevadas quantidades na atmosfera.

Gabarito: Errado

2. **As fontes de energia eólica e solar são renováveis e se encontram em expansão na matriz energética brasileira.**

COMENTÁRIOS:

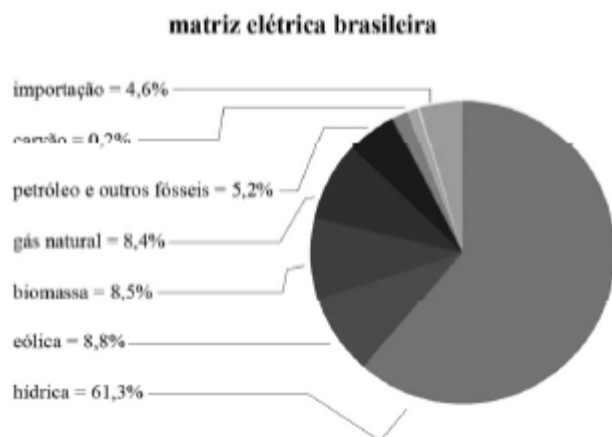
Tanto a energia eólica quanto a solar são consideradas fontes renováveis, pois são geradas a partir de recursos naturais inesgotáveis: o vento e a luz solar.

Nos últimos anos, a participação dessas duas fontes na matriz energética brasileira tem aumentado significativamente, impulsionada por incentivos governamentais, avanços tecnológicos e uma preocupação crescente com a sustentabilidade ambiental.

Gabarito: Certo

(CEBRASPE/PO-AL/2023)





ANEEL/ABSOLAR, 2020

O gráfico precedente mostra a composição da matriz elétrica brasileira de 2020. Com base nessas informações, julgue o item a seguir.

3. A matriz elétrica brasileira tem fontes de energia renováveis e não renováveis, e a forte dependência do petróleo para a geração de energia elétrica impacta os preços da oferta desse serviço e gera um processo inflacionário.

COMENTÁRIOS:

O gráfico utilizado como enunciado para a questão mostra que a matriz elétrica brasileira tem fontes de energia renováveis e não renováveis. Evidencia também que predomina a geração de energia elétrica por meio da fonte hídrica, enquanto a geração de energia elétrica por petróleo e outras fontes de combustíveis fósseis é de apenas de 5,2%. Portanto, não há uma forte dependência do petróleo para geração de energia elétrica no Brasil.

Gabarito: Errado

4. (QUADRIX/CRT-SP/2023) No Brasil, o petróleo é a principal fonte de energia utilizada.

COMENTÁRIOS:

O Brasil tem uma matriz energética diversificada, com destaque para fontes renováveis. Entretanto, o petróleo e seus derivados são a fonte de energia mais utilizada. Esse predomínio é decorrente, sobretudo, da utilização de combustíveis em veículos automotores.

Gabarito: Certo

5. (QUADRIX/CRO-TO/2023) Embora seja um dos maiores produtores de petróleo do mundo, o Brasil ainda não conseguiu criar uma empresa que faça prospecção, exploração e refino dessa importante matéria-prima.

COMENTÁRIOS:



O Brasil é um dos maiores produtores de petróleo no mundo, e isso só foi possível devido à existência da Petróleo Brasileiro S.A. (Petrobras), uma empresa estatal dedicada à prospecção, à exploração e ao refino de petróleo.

Fundada em 1953, a Petrobras é uma das maiores empresas de energia do mundo e desempenha um papel central na indústria petrolífera brasileira.

Gabarito: Errado

6. (QUADRIX/CRT-BA/2023) O Brasil é um dos maiores produtores de petróleo do mundo, mas importa essa commodity do exterior, devido à dependência que possui do refino.

COMENTÁRIOS:

O Brasil é um dos maiores produtores de petróleo do mundo, principalmente devido às suas vastas reservas na camada do pré-sal. No entanto, o país também importa petróleo do exterior. Isso acontece porque o Brasil tem uma indústria de refino que não é capaz de processar toda a quantidade de petróleo bruto produzido nacionalmente, o que leva à importação de derivados, como a gasolina e o diesel, para atender à demanda interna.

Gabarito: Certo

7. (CEBRASPE/DATAPREV/2023) Uma vez que o modelo de gerenciamento e transmissão de energia utilizado no Brasil é o Sistema Interligado Nacional (SIN), em caso de queda de energia elétrica nesse sistema, todas as unidades federativas conectadas a ele são impactadas.

COMENTÁRIOS:

O Sistema Interligado Nacional (SIN) é um sistema de transmissão de energia elétrica que conecta todas as regiões do Brasil. Ele foi projetado para permitir o compartilhamento de energia elétrica entre diferentes estados e regiões, de modo que, em situações normais, a oferta de energia pode ser equilibrada em todo o país.

No entanto, essa interligação também significa que, em caso de falha ou queda de energia em uma parte do SIN, as unidades federativas conectadas a ele podem ser afetadas. Isso ocorre porque a interconexão permite o fluxo de energia entre diferentes regiões, de modo que uma falha em uma parte do sistema pode se propagar para outras áreas.

Portanto, a queda de energia no SIN pode impactar todas as unidades federativas conectadas a ele, devido à natureza interconectada desse sistema de transmissão de energia elétrica.

Gabarito: Certo

8. (CONSULPLAN/CÂMARA DE TREMEMBÉ-SP/2023) Governo estuda ampliar energia solar aos mais pobres



O governo estuda a criação de um programa para facilitar o acesso da população, sobretudo os mais pobres, à chamada geração distribuída – modalidade em que o consumidor gera a própria energia elétrica a partir de fontes renováveis.

(Disponível em: <https://www.cnnbrasil.com.br/business/governo-estudaampliar-energia-solar-aos-mais-pobres/>. Acesso em: 07/01/2023.)

É atualmente a principal fonte de energia elétrica do Brasil:

- A) Solar.
- B) Eólica.
- C) Hidroelétrica.
- D) Termoelétrica.

COMENTÁRIOS:

A principal fonte de energia elétrica do Brasil é a hidroelétrica (também pode ser chamada de hidrelétrica ou hídrica), que é a energia gerada por meio das águas. Segundo dados da ANEEL, de 2023, as hidrelétricas são responsáveis pela geração de 51,3% de energia da matriz elétrica brasileira.

Gabarito: C

9. (QUADRIX/CRECI-RO/2022 – FISCAL) Fontes de energia não poluentes, como as obtidas com o aproveitamento do sol e do vento, são alternativas ao uso do petróleo e do carvão.

COMENTÁRIOS:

Petróleo e carvão são combustíveis fósseis, sendo as fontes de energia mais utilizadas na atualidade. Ao mesmo tempo, essas fontes energéticas são, em grande parte, responsáveis, pelo processo de aquecimento global, pois a sua queima libera uma grande quantidade de poluentes na atmosfera.

Para substituí-las, têm-se buscado fontes alternativas, com destaque à energia solar – obtida por meio dos raios solares – e à energia eólica – obtida por meio da força do vento.

Gabarito: Certo.

10. (CEBRASPE/ICMBio/2022 – TÉCNICO) A matriz energética do Brasil baseia-se na energia hidroelétrica; apesar das secas e da diminuição do nível dos reservatórios, a oferta de energia continua a baixos custos e sem interrupções e aumentos de tarifa, pois há diversidade de fontes energéticas no país.

COMENTÁRIOS:

Na matriz energética do Brasil, quase metade da energia consumida vem dos combustíveis fósseis, sobretudo, o petróleo.



A matriz ELÉTRICA do Brasil é baseada na hidroelétrica. Há uma diferença entre esses dois conceitos.

Ao longo do ano de 2021, o Brasil passou por uma severa crise hídrica, com diminuição da oferta de energia, o que gerou aumento do custo dessa energia, pois foram utilizadas termelétricas para suprir a baixa geração energética.

Gabarito: Errado

(QUADRIX/CFT/2021 – ASSISTENTE ADMINISTRATIVO) Acerca dos temas que envolvem o território brasileiro, como, por exemplo, saúde, tecnologia, fontes de energia, relações internacionais, desenvolvimento sustentável e ecologia, julgue os itens a seguir.

11. A conta de energia elétrica das residências brasileiras segue uma tendência de aumento, devido ao fato de a matriz energética do País pautar-se em fontes de energia não renováveis.

COMENTÁRIOS:

A matriz energética brasileira é predominantemente suja e não renovável. Já a matriz elétrica brasileira é predominantemente limpa e renovável. A conta de energia elétrica está relacionada à matriz elétrica e não à matriz energética. O aumento da conta de energia elétrica ocorrido no ano de 2021 foi motivado pela crise hídrica, quando os níveis dos reservatórios das usinas hidrelétricas baixaram muito em boa parte do Brasil. Com isso, diminuiu-se a geração de energia pela fonte hídrica (limpa e renovável). Para compensar, houve um aumento da geração de energia elétrica pelas termelétricas, que têm um custo maior de geração. Foi isso que levou ao aumento da conta de luz e não o fato de a matriz energética brasileira ser majoritariamente não renovável.

Gabarito: Errado

12. O agravamento da crise hídrica no Brasil está ligado aos níveis baixos nos reservatórios e à volta da demanda por energia a patamares pré-pandemia em diversos setores da economia.

COMENTÁRIOS:

Em 2021, o Brasil passou por uma severa crise hídrica, desencadeada pela pior seca em décadas, que reduziu a níveis críticos os reservatórios das hidrelétricas do Centro-Sul, fontes de 70% da energia hidráulica do país. A volta da demanda por energia elétrica a patamares pré-pandemia também contribuiu para o agravamento da crise hídrica, uma vez que foi necessário gerar mais energia para atender a um maior consumo. Para isso, utilizou-se mais água dos reservatórios para a geração de energia elétrica, por meio das turbinas das usinas hidrelétricas.

Gabarito: Certo

13. (CEBRASPE/CBM-AL/2021 – ASPIRANTE) A água, recurso energético abundante no mundo, é muito utilizada no Brasil para a geração de energia limpa, por possibilitar um impacto ambiental zero na análise do desenvolvimento sustentável.

COMENTÁRIOS:



A água não é um recurso natural abundante no mundo, nem para a geração de energia. A sua distribuição é muito desigual no planeta, com países e regiões em que esse recurso é praticamente escasso. O Brasil é um país com abundância de água doce, mas está desigualmente distribuída pelo território.

Além disso, na matriz energética mundial, a energia hidrelétrica, gerada pela força das águas, compõe somente 2,5% de tudo o que é produzido de energia. É muito pouco.

A geração de energia hidrelétrica não é livre de impactos ambientais. Embora seja uma fonte de energia considera limpa e renovável, as hidrelétricas apresentam alguns impactos ambientais, pois afetam todo o ecossistema das regiões em que são instaladas, causando alterações nos ciclos ambientais, na fauna e flora, reduzindo a biodiversidade, além de poder causar o assoreamento do leito dos rios.

Ademais, há o impacto social relacionado às hidrelétricas: quando uma grande barragem é construída, o rio à jusante [direção em que correm as águas de uma corrente fluvial] perde grande parte de espécies de peixes que são importantes para a população ribeirinha. Aquelas comunidades terão que conviver com a diminuição de sua atividade de pesca ao longo de 15 ou 20 anos, por exemplo.

Gabarito: Errado

14. (CESGRANRIO/BASA/2021 – TÉCNICO CIENTÍFICO) A pandemia mudou procedimentos de segurança e higiene em canteiros de obras, mas quem percorre de carro o interior e o litoral de alguns estados brasileiros se depara com a construção de dezenas de parques eólicos e solares que entrarão em operação nos próximos meses. Apenas a capacidade de geração do setor eólico no Brasil deve pular de 17 mil para 28 mil megawatts até 2024, resultado de 44 bilhões de reais em investimentos e mais de 10 mil empregos gerados. Desse total de inversões e postos de trabalho, 80% estão concentrados em uma única região do País, que terá no setor de infraestrutura um dos principais motores da retomada do crescimento nos próximos anos. Um dos principais setores que deverão receber vultosos investimentos ao longo dos anos é o de energia.

ROCKMANN, R. A Hora da Reação. **Revista Carta Capital**, Ano XXVI, n. 1136, 16 dez. 2020, p. 32. Adaptado.

A maior parte das inversões no setor de energia citadas no texto está concentrada na região

- (A) Sul
- (B) Norte
- (C) Sudeste
- (D) Nordeste
- (E) Centro-Oeste

COMENTÁRIOS:

A maior parte das inversões (investimentos) está concentrada na região Nordeste, que é a região brasileira que apresenta as melhores características físicas para a geração de energia eólica.



Atualmente, a geração eólica já responde por mais da metade da energia consumida na região. O estado do Rio Grande do Norte é o que apresenta a maior capacidade geradora eólica instalada.

Após o Nordeste, o Sul é região que apresenta a maior capacidade eólica já instalada, com destaque para o estado do Rio Grande do Sul.

Gabarito: D

(QUADRIX/CRP-SP/2019 – PROFISSIONAL ANALISTA SUPERIOR) Usinas nucleares na rota do furacão Florence nos EUA reacendem fantasma da explosão de Fukushima. Americanos correm contra o tempo para garantir a segurança de reatores nucleares.

Internet: <www.bbc.com> (com adaptações).

Tendo o texto acima apenas como referência inicial, julgue os itens a seguir.

15. O texto faz referência a um fato ocorrido no Japão anos atrás, quando um desastre natural danificou uma usina nuclear, aumentando a preocupação com o uso dessa fonte energética.

COMENTÁRIOS:

O texto faz referência ao acidente nuclear ocorrido em Fukushima, no Japão, em 2011, quando um terremoto seguido de um tsunami desencadeou um vazamento nuclear seguido de explosões na área. Os níveis de radiação no entorno da usina superaram em oito vezes o limite de segurança, forçando a evacuação da população em um raio de 20 km ao redor da usina.

Esse acidente despertou debates na comunidade internacional a respeito da viabilidade da energia nuclear. A energia nuclear é considerada uma energia limpa, pois não emite poluentes na atmosfera, mas apresenta problemas em relação à deposição dos resíduos nucleares e, em casos extremos, pode causar grandes tragédias, como a de Fukushima e a de Chernobyl, na Ucrânia, em 1986.

Gabarito: Certo

16. A energia nuclear é considerada como uma energia limpa e renovável.

COMENTÁRIOS:

A energia nuclear é considerada uma energia limpa, pois não libera, durante seu processo de produção ou consumo, resíduos ou gases poluentes geradores do efeito estufa e do aquecimento global.

A energia nuclear é uma energia não renovável, pois os recursos necessários para sua geração levam milhares de anos para se formarem, não sendo possível repô-los.

Gabarito: Errado

17. (LEANDRO SIGNORI/PC DF – SIMULADO/2019) Um milhão de espécies de animais e plantas estão ameaçadas de extinção, segundo o relatório da Plataforma Intergovernamental de Políticas Científicas sobre Biodiversidade e Serviços de Ecossistema (IPBES). A plataforma da Organização das Nações Unidas



(ONU) contou com 145 cientistas de 50 países, no que é considerado o relatório mais extenso sobre perdas do meio ambiente. Desde 1900, a média de espécies nativas na maioria dos principais habitats terrestres caiu em pelo menos 20%. Mais de 40% das espécies de anfíbios, quase 33% dos corais e mais de um terço de todos os mamíferos marinhos estão ameaçados. Pelo menos 680 espécies de vertebrados foram levadas à extinção desde o século 16.

Disponível em: <https://glo.bo/2Vn5r1u>. Adaptado. Acesso em 07/05/2019.

Utilizando o texto presente no enunciado como base e os seus conhecimentos a respeito dos múltiplos aspectos relacionados aos problemas ambientais e a sustentabilidade, julgue o item que se segue:

Apesar do baixo crescimento de utilização da energia solar no Brasil, ela é uma das fontes com maior potencial de utilização no país devido às grandes médias de insolação anuais que o território brasileiro recebe.

COMENTÁRIOS:

A energia solar é, de fato, uma das fontes com maior potencial de utilização no país devido às grandes médias de insolação anuais que o território brasileiro recebe.

A participação de energia solar no Brasil ainda é muito ínfima, mas o seu crescimento anual não é baixo. O crescimento ocorre sobre uma base muito pequena, por isso não se verifica anualmente um grande crescimento dessa fonte sobre o total da matriz energética brasileira, mas ao analisar o crescimento da utilização de energia solar sobre ela mesma, o crescimento é alto. Ou seja, seu crescimento absoluto - no cômputo da matriz energética brasileira - ainda é baixo, mas seu crescimento relativo, - em relação a si mesma -, é alto.

Gabarito: Errado

18. (QUADRIX/CRQ 4ª REGIÃO/2019 – PROFISSIONAL DE ATIVIDADES ESTRATÉGICAS) O Acordo de Paris foi aprovado pelos 195 países signatários da Convenção-Quadro das Nações Unidas sobre Mudança do Clima (UNFCCC) para reduzir emissões de gases de efeito estufa (GEE) no contexto do desenvolvimento sustentável.

Internet: <mma.gov.br> (com adaptações).

A respeito do assunto abordado no texto acima e de temas correlatos, julgue o item.

O Brasil possui uma matriz energética com cerca de 40% de fontes renováveis, o que supera amplamente a participação média mundial.

COMENTÁRIOS:

O Brasil é o líder mundial em quantidade de energia renovável, e a única grande economia que produz quase metade da energia que consome de renováveis e próprias. Em 2017, a energia renovável respondeu por 42,9% do total consumido no país, que supera amplamente a participação média mundial, que está abaixo de 15%



Gabarito: Certo

(CEBRASPE/FUB/ADAPTADA) As fontes de energia, os transportes e as telecomunicações constituem três elementos básicos da infraestrutura econômica — e, em particular, industrial — de um país. São condições para a sua modernização e, ao mesmo tempo, indicadores de desenvolvimento e da sustentabilidade ambiental.

José William Vesentini. Geografia: o mundo em construção. Ática, vol. 2, 2013, p. 41 (com adaptações).

Acerca do assunto abordado nesse fragmento de texto, bem como de múltiplos aspectos a ele relacionados, julgue os itens a seguir.

19. Apesar das hidrelétricas, dos parques eólicos no Nordeste brasileiro e da difusão da produção de energia solar, o petróleo ainda é a fonte de energia mais importante do Brasil.

COMENTÁRIOS:

O petróleo é a fonte energética mais representativa na matriz energética brasileira. Apesar disso, na geração de energia elétrica, o petróleo é menos representativo, e o destaque vai para as hidrelétricas. Nos últimos anos, a participação dos parques eólicos na matriz elétrica brasileira tem sido crescente, devido à expansão desse setor, principalmente, na região Nordeste.

A solar é uma fonte energética com insignificante participação na matriz energética brasileira.

Gabarito: Certo

20. Comparada à de outros países, a matriz energética brasileira é a mais diversificada e favorável ao desenvolvimento sustentável, por fazer uso de muitas fontes renováveis.

COMENTÁRIOS:

O Brasil possui uma das matrizes energéticas mais diversificadas do mundo, com boa participação de fontes renováveis e pouco poluentes, se comparada com a de outros países. O destaque está na participação da energia hidrelétrica. Também é representativo na nossa matriz energética a utilização de biomassa, uma energia renovável e pouco poluente, e tem sido crescente a utilização de energia eólica, uma energia limpa e renovável.

Gabarito: Certo

21. A energia elétrica brasileira é gerada, majoritariamente, por força hidráulica.

COMENTÁRIOS:

A maior parte da energia elétrica no Brasil é gerada pelas hidrelétricas, o que representa o maior percentual de contribuição dentre as diferentes fontes energéticas na geração de energia elétrica no país.

Gabarito: Certo



22. (CESGRANRIO/LIQUIGÁS/2018 - PROFISSIONAL JÚNIOR CIÊNCIAS CONTÁBEIS) No texto abaixo, a produção de energia é o tema central. A energia elétrica é algo tão comum no dia a dia da maioria dos brasileiros que sua importância só é notada quando há falha no funcionamento. A demanda dessa energia é cada vez maior, não apenas para o conforto das pessoas, mas também para aumentar a produção industrial e o desenvolvimento econômico. Nesse cenário, nos tempos atuais e futuros, não existe fonte energética que seja solução única para as demandas de um país, e muitos avanços têm sido alcançados no uso de fontes renováveis, que devem continuar aumentando sua participação na geração total. No entanto, como essas fontes dependem da natureza, há necessidade constante de complementação de fontes térmicas para garantir o atendimento da demanda com qualidade. Dentre as fontes térmicas, a energia nuclear tem sido usada de forma complementar no atendimento às necessidades de geração elétrica.

ARTHOU, A.; BOGOSSIAN, F. Geração de energia elétrica, como complementar as renováveis? Jornal do Brasil, Opinião, 17 mar. 2018, p. 9. Adaptado.

No Brasil, a energia nuclear é uma fonte complementar que conta com a seguinte vantagem estratégica:

- a) O Brasil é o único país latino-americano a produzir esse tipo de energia.
- b) O país possui jazidas minerais que a ele garantem a autossuficiência.
- c) O país possui mais de cinco usinas termonucleares em seu território.
- d) O custo de instalação de uma usina nuclear é baixo, se comparado ao das demais.
- e) O custo do transporte do combustível nuclear é o maior entre todos os outros.

COMENTÁRIOS:

Nas usinas termonucleares, a fissão nuclear que ocorre dentro dos reatores libera calor que transforma a água em vapor e movimentam as turbinas. Geralmente, utiliza-se o urânio para esse processo. O processamento do urânio, bem como a construção e a manutenção das centrais nucleares, são processos que envolvem o uso de alta tecnologia. Devido a isso, os países desenvolvidos praticamente monopolizam a produção mundial de energia nuclear.

Os Estados Unidos lideram a lista, sendo responsáveis por 32,5% do total mundial. A França e a Rússia ocupam, respectivamente, o segundo e o terceiro lugar. No caso da França, 77% da sua energia elétrica provém de termonucleares.

Os defensores da alternativa nuclear têm como argumento a urgente necessidade de substituição das fontes de combustíveis fósseis e afirmam que a tecnologia torna as usinas nucleares de última geração mais seguras e menos poluidoras.

a) Incorreta. Atualmente, na América Latina, o México e a Argentina também produzem energia nuclear.

b) Correta. O urânio, principal elemento químico utilizado para a geração de energia nuclear, é muito abundante no território brasileiro, o que torna o país autossuficiente nesse recurso. O Brasil ocupa a sexta



posição no ranking mundial de reservas de urânio, segundo dados oficiais das Indústrias Nucleares do Brasil (INB).

c) Incorreta. O Brasil possui duas usinas nucleares, Angra 1 e Angra 2. A usina de Angra 3 está em construção. A Comissão Nacional de Energia Nuclear (CNEN) prevê também a construção de quatro a seis usinas até 2030.

d) Incorreta. O processamento do urânio, a construção e a manutenção das centrais nucleares são processos que envolvem o uso de alta tecnologia. Sendo assim, é um processo cujo custo é bastante elevado.

e) Incorreta. Fizemos uma extensa pesquisa sobre esse tópico e não encontramos nenhuma informação consistente sobre o custo do transporte do combustível das diferentes fontes de energia. De qualquer maneira, para a banca não é, haja vista que a alternativa está incorreta.

Gabarito: B

23. (CESPE/CBM AL/2017 – OFICIAL COMBATENTE) Desenvolvimento sustentável é o modelo que prevê a integração entre economia, sociedade e meio ambiente. Em outras palavras, é a noção de que o crescimento econômico deve levar em consideração a inclusão social e a proteção ambiental. A respeito dos múltiplos aspectos relacionados ao desenvolvimento sustentável, julgue o próximo item.

Alagoas destaca-se pela concentração de parques eólicos, sendo o principal responsável pelo desempenho positivo da região Nordeste na produção de energia eólica em relação ao resto do Brasil.

COMENTÁRIOS:

Não há parques eólicos implantados em Alagoas. Na atualidade, mais de metade da energia elétrica consumida no Nordeste vem da fonte eólica. A região é o grande destaque no rápido crescimento da geração de energia elétrica pela fonte eólica no Brasil. Os grandes destaques são os estados do Rio Grande do Norte e Bahia.

Gabarito: Errado

24. (CESPE/CBM AL/2017 – SOLDADO COMBATENTE)

tecnologia

tec·no·lo·gi·a

sf

1 Conjunto de processos, métodos, técnicas e ferramentas relativos à arte, indústria, educação etc.: “O ensaio me pareceu muito bem craniado. Só notei que estás demasiadamente fascinado pela tecnologia. Daí a aceitar sem reservas a tecnocracia é um passo muito curto” (EV).

2 Conhecimento técnico e científico e suas aplicações a um campo particular: “Os serviços de informação e inteligência do Departamento de Estado norte-americano já dispunham de tecnologia suficiente para rastrear o encontro num quarto de hospital de dois personagens secundários [...]” (CA).



3 POR EXT Tudo o que é novo em matéria de conhecimento técnico e científico.

4 Linguagem peculiar a um ramo determinado do conhecimento, teórico ou prático.

5 Aplicação dos conhecimentos científicos à produção em geral: Vivemos o momento da grande tecnologia.

Internet: <<http://michaelis.uol.com.br>>

Tendo a definição apresentada como referência inicial, julgue o seguinte item, que trata de múltiplos aspectos relacionados à tecnologia.

O Brasil tem sido pioneiro no emprego de tecnologia relacionada ao uso de biocombustíveis para automóveis em larga escala, podendo ser citadas como exemplos desse pioneirismo tanto a produção de etanol como a dos chamados carros flex.

COMENTÁRIOS:

O Brasil foi o pioneiro no emprego de tecnologia relacionada ao uso de biocombustíveis para automóveis em larga escala já na década de 1970. Em 1975, o governo brasileiro criou o Proálcool (Programa Nacional do Álcool) para intensificar a produção de álcool combustível (etanol) para substituir a gasolina. Essa atitude teve como fator determinante a crise mundial do petróleo, durante a década de 1970, pois o preço do produto estava muito elevado e passou a ter grande peso nas importações do país.

Para impulsionar o programa foram oferecidos incentivos fiscais e empréstimos bancários com juros abaixo da taxa de mercado para os produtores de cana de açúcar e para as indústrias automobilísticas que desenvolvessem carros movidos a álcool.

Na primeira década do Proálcool, os resultados foram positivos, visto que os consumidores priorizavam os automóveis movidos a álcool e, em 1983, as vendas desses veículos dominaram o mercado brasileiro. Em 1991, aproximadamente 60% dos carros do país (cerca de 6 milhões) eram movidos por essa fonte energética.

Porém, apesar de substituir parcialmente o petróleo, o Programa Nacional do Álcool promoveu uma série de problemas: elevação da dívida pública em consequência dos benefícios concedidos; aumento dos latifúndios monocultores de cana de açúcar; elevação dos preços de alguns gêneros alimentícios (pois ocorreu a redução do cultivo de alimentos em substituição à cana de açúcar), entre outros.

Para agravar ainda mais, durante a década de 1990, houve a redução do preço do barril de petróleo. Esse fato fez com que a diferença entre a gasolina e o álcool diminuísse. Os usineiros passaram a destinar a produção de açúcar para o mercado internacional, pois o mercado interno tornou-se menos lucrativo. Todos esses aspectos contribuíram para que os consumidores e fabricantes de veículos voltassem a priorizar automóveis movidos à gasolina.

Contudo, em 2003, uma nova crise do petróleo impulsionou a fabricação de novos carros a álcool. Dessa vez, entretanto, as indústrias automobilísticas inovaram e desenvolveram motores flex, que permitem aos consumidores a opção de uso tanto do álcool quanto da gasolina.

Gabarito: Certo



25. (IDECAN/CRO-AL) A partir da mudança do século, os novos projetos de usinas hidrelétricas ficaram sujeitos a uma nova sensibilidade da sociedade à questão ambiental, e isso representou uma mudança de paradigma no setor elétrico. Em relação à matriz elétrica brasileira, principalmente nos últimos tempos, é coerente afirmar que

- a) o setor elétrico brasileiro sempre foi expressivamente limpo, baseado majoritariamente em fontes de energia renováveis.
- b) as fontes solar e eólica foram a salvação energética do país, constituindo, atualmente, mais de 60% da fonte de energia do país.
- c) só a partir das últimas décadas do século passado, com a crescente preocupação ambiental, o setor energético passou a priorizar fontes renováveis.
- d) a crise hídrica iniciada a partir do início do século XX tornou inviável manter a energia elétrica renovável, substituída radicalmente pelos combustíveis fósseis.

COMENTÁRIOS:

a) Correto. O setor elétrico brasileiro sempre foi expressivamente limpo, baseado, em sua maioria, nas fontes de energias renováveis, em grande parte devido à energia hidrelétrica.

b) Incorreto. A participação da fonte eólica na matriz elétrica brasileira cresceu e continua crescendo bastante. Já a participação da energia solar ainda é muito pequena na matriz elétrica brasileira. Mesmo com o crescimento da energia eólica, ela ainda não constitui todo esse percentual entre as fontes de energia do país. Um enorme exagero essa questão.

c) Incorreto. O setor elétrico brasileiro foi estruturado com base na geração de energia pela fonte hídrica, que é uma fonte renovável. A diversificação que é recente, das últimas décadas do século passado. A participação percentual da fonte hídrica já foi maior. Ou seja, a priorização das fontes renováveis é antiga, não é recente. A primeira hidrelétrica foi construída ainda no século XIX.

d) Incorreto. A questão se refere à crise do apagão, que afetou o fornecimento e a distribuição de energia elétrica. Ocorreu entre 1 de julho de 2001 e 19 de fevereiro de 2002, durante o segundo mandato do presidente Fernando Henrique Cardoso. A crise ocorreu por uma soma de fatores: poucas chuvas, falta de planejamento e ausência de investimentos em geração e transmissão de energia. A partir do "Apagão" buscou-se diminuir a dependência do setor elétrico da geração de energia pela fonte hídrica. Contudo, ela ainda responde por mais da metade da geração de energia elétrica no Brasil, não foi substituída radicalmente pelos combustíveis fósseis.

Gabarito: A

26. (IDECAN/CM NATIVIDADE) Desde os primórdios da humanidade, o homem buscou fontes de energia para melhorar o desempenho de suas ações e do seu trabalho. Sobre fontes de energia, marque V para as afirmativas verdadeiras e F para as falsas.

() O petróleo é um exemplo de fonte de energia não renovável.



- () A maior parte das fontes de energia consumidas no mundo hoje são de fontes renováveis.
- () Fontes de energia renováveis são aquelas que se recompõem na natureza, em um período relativamente curto de tempo.

A sequência está correta em

- a) F, F, F.
- b) F, F, V.
- c) V, F, V.
- d) V, V, F.

COMENTÁRIOS:

I – Verdadeira. O petróleo é uma fonte de energia não renovável, assim como o gás natural e o carvão.

II – Falsa. Predomina na matriz energética mundial a utilização de fontes não renováveis.

III – Verdadeira. Fontes de energia renováveis são aquelas que se recompõem na natureza, em um período relativamente curto de tempo, como a água, os alimentos e a lenha (utilizados na biomassa) a energia solar, dos ventos etc.

Gabarito: C

27. (CESPE/FUB/ADAPTADA) A grande vantagem das usinas hidrelétricas, se comparadas a outras fontes de energia, como a solar e a eólica, é o quase inexistente impacto ambiental por elas causado.

COMENTÁRIOS:

Usinas hidrelétricas causam um significativo impacto ambiental e não um quase inexistente impacto ambiental, como afirma a questão. A grande vantagem das hidrelétricas em relação à solar e à eólica é o custo de geração de energia. Vantagem que está diminuindo sensivelmente em relação à eólica, pois os custos de produção dessa fonte caíram bastante nos últimos anos no Brasil. A solar ainda é bastante cara, mas os custos de produção também caem.

Gabarito: Errado

28. (CESPE/FUB/ADAPTADA) Mesmo diante do baixo potencial solar da região Nordeste, a instalação de parques eólicos na área é economicamente atrativa.

COMENTÁRIOS:

O Nordeste tem um grande potencial eólico, o maior do Brasil. A região é a maior produtora de energia eólica do país. Mais de uma centena de parques eólicos já estão instalados e outras centenas serão instalados nos próximos anos no Nordeste, gerando desenvolvimento, investimentos, trabalho e renda. A instalação de



parques eólicos na região é economicamente atrativa. Ademais, o Nordeste tem muito sol, tendo em vista que, durante o ano todo a insolação é grande na região, o que faz com que tenha um grande potencial para a geração de energia solar.

Gabarito: Errado

29. (CESPE/FUB/ADAPTADA) Um possível benefício dos parques eólicos a que o texto remete é que, quando instalados em áreas pouco desenvolvidas economicamente, eles podem melhorar a renda da população cujas opções de emprego são precárias.

COMENTÁRIOS:

Geralmente os parques eólicos são instalados em áreas pouco desenvolvidas no Nordeste. Os empreendimentos trazem forte melhoria na renda da população local, que tem poucas opções de emprego. Também dinamizam a economia local e contribuem significativamente para o crescimento do PIB nos municípios onde os parques são instalados.

Gabarito: Certo

30. (CESPE/FUB/ADAPTADA) A descoberta de petróleo na camada do pré-sal é considerada a redenção econômica da região Nordeste, fato que se deve, sobretudo, ao baixo custo de extração do petróleo nessa camada.

COMENTÁRIOS:

O pré-sal não se localiza no Nordeste. Trata-se de uma camada no subsolo marinho com petróleo armazenado abaixo de uma grossa camada de sal, a cerca de 7 km abaixo da superfície do mar. Fica a uma distância média de 300 km do litoral, em uma faixa de 200 km de largura e de 800 km de extensão, que vai do Espírito Santo a Santa Catarina. O custo de extração de petróleo nessa camada é alto, não é baixo.

Gabarito: Errado



LISTA DE QUESTÕES – TÓPICOS SOBRE ECONOMIA BRASILEIRA – MULTIBANCAS

1. (FCC/PM BA/2023) No contexto da globalização o comércio internacional é fundamental para a economia de um país. No caso do Brasil, dois de seus principais parceiros comerciais são

- a) México e Colômbia.
- b) Austrália e Canadá.
- c) França e Japão.
- d) Argentina e China.
- e) Uruguai e África do Sul.

2. (CEBRASPE/DATAPREV/2023) No Brasil, houve aumento, em 2023, da taxa do Sistema Especial de Liquidação e de Custódia (SELIC) pelo Comitê de Política Monetária (COPOM) do Banco Central, o que provocou um aumento do empréstimo pessoal, do consumo e da inadimplência entre a população brasileira.

3. (IDECAN/PREFEITURA DE FORTALEZA – CE/2023) Nos últimos meses, o Presidente Lula tem criticado severamente o patamar da taxa básica de juros da economia brasileira, ao passo que o Banco Central do Brasil, mantendo-se contrário a uma redução acelerada da Taxa SELIC, tem demonstrado preocupação com as pressões inflacionárias. Todo esse embate institucional envolve as decisões tomadas pelo(a):

- A) Procon.
- B) Decon.
- C) Secom.
- D) Copom.

4. (FGV/CÂMARA MUNICIPAL DE TAUBATÉ-SP/2022 – CONTADOR LEGISLATIVO) Esse indicador tem por objetivo medir a inflação de um conjunto de produtos e serviços comercializados no varejo, referentes ao consumo pessoal das famílias. Ele é medido mensalmente pelo IBGE e considera na conta gastos em alimentação e bebidas, despesas pessoais, educação, moradia, saúde e cuidados pessoais.

O texto descreve um importante indicador econômico brasileiro, conhecido como

- (A) Taxa Selic.
- (B) Variação do PIB (Produto Interno Bruto).



- (C) PIB (Produto Interno Bruto) per capita.
- (D) Índice Nacional de Preços ao Consumidor Amplo (IPCA).
- (E) Índice de Desenvolvimento Humano (IDH).

5. (FGV/CÂMARA MUNICIPAL DE TAUBATÉ-SP/2022 - TÉCNICO LEGISLATIVO DE INFORMÁTICA) A economia brasileira tem sofrido, nos últimos anos, as consequências de anos seguidos de baixo crescimento econômico. Taxa de juros (medida pela taxa Selic) e inflação (medida pelo IPCA) andam, respectivamente, em torno de

- (A) 20% e 2%.
- (B) 14% e 9%.
- (C) 30% e 20%.
- (D) 40% e 20%.
- (E) 2% e 5%.

(QUADRIX/2022/CRP 11ª REGIÃO-CE – ASSISTENTE ADMINISTRATIVO) Julgue os itens a seguir, relativos a temas atuais do Brasil e do mundo.

6. A política de preço de paridade de importação na venda de combustíveis feita pela Petrobras é a principal responsável pelo aumento dos preços da gasolina e do diesel no Brasil.

7. Sob o espectro das recentes altas no preço dos combustíveis, o atual governo federal brasileiro trocou, por mais de uma vez, o presidente da Petrobras.

8. Mais da metade do transporte de cargas do Brasil é feita por meio do modal rodoviário; nesse sentido, um aumento no preço do frete leva a um aumento na inflação.

9. O Brasil tem um dos menores valores de produto interno bruto (PIB) da América Latina, por isso responde pela vasta desigualdade social e pela má qualidade na educação pública básica.

10. (CEBRASPE/IBGE/2021 - AGENTE DE PESQUISAS POR TELEFONE) O Brasil é um grande importador de combustíveis fósseis e maquinários. E é exportador de produtos agrícolas, que possuem baixo valor agregado. Por isso, manter a balança comercial positiva é um desafio. Ela é o cálculo que representa o valor das exportações menos o das importações.

Internet: <www.politize.com.br> (com adaptações).

Depreende-se do texto que, diante da globalização econômica, o Brasil possui

A) grande fluidez do capital e lucros garantidos com o destaque no volume de exportação dos produtos agrícolas e do maquinário em geral.



B) estabilidade no processo de compra e venda, por estar sempre com saldo positivo perante o comércio internacional de mercadorias.

C) permanente dificuldade econômica, já que o volume exportado de produtos mais baratos não ultrapassa o volume de importação dos produtos mais caros.

D) grande desigualdade de renda da população, decorrente da exportação dos produtos agrícolas que deveriam alimentar o mercado interno.

E) trabalho constante para manter a balança comercial em superávit, já que exporta produtos mais baratos e tem que importar produtos mais caros.

11. (CEBRASPE/IBGE/2021 - AGENTE DE PESQUISAS POR TELEFONE) O potencial exportador do Brasil é muito grande, principalmente no setor de produção de commodities. A lista dos principais produtos exportados pelo Brasil indica a forte participação do setor do agronegócio na balança comercial brasileira. Acerca desse tema, assinale a opção correta.

A) A partir do processo de privatizações e da participação de empresas estrangeiras, petróleo, gás e derivados passaram a ocupar o lugar de principais itens da pauta de exportações do Brasil.

B) A retração da economia global na última década diminuiu a exportação brasileira de minério de ferro, principalmente para o mercado europeu, maior consumidor do minério brasileiro.

C) O rebanho bovino brasileiro é o maior em escala global e a exportação de carne é principalmente destinada aos mercados norte-americano e europeu.

D) A soja tem sido o principal produto de exportação do Brasil, principalmente para o abastecimento do mercado chinês.

E) O potencial de exportação do Brasil tem caído nos últimos anos em razão da crise que o país atravessa em diversos setores: ambiental, político e cambial.

12. A União Europeia é um grande mercado para as commodities do Brasil, mas não importa produtos industrializados do País, para proteger sua indústria.

13. (FCC/SABESP/2019) O indicador caiu 0,2%, no primeiro trimestre de 2019, em relação ao quarto trimestre de 2018, segundo dados divulgados pelo Instituto Brasileiro de Geografia e Estatística (IBGE). O resultado coloca o país na fronteira de uma recessão técnica.

(Disponível em: www.elpais.com.br. Adaptado).

O indicador que revela a possibilidade de recessão da economia brasileira é

a) o Plano Safra.

b) a Balança comercial.

c) a Produção industrial.



d) o Produto Interno Bruto.

e) o Pleno emprego.

14. (CEBRASPE/PGE-PE/2019 – ANALISTA JUDICIÁRIO) O Brasil possui destaque na exportação de commodities como minério de ferro, soja, petróleo e açúcar brutos, além de carne de frango, sendo os principais parceiros no comércio exterior brasileiro a China, os EUA e a Argentina.

(CEBRASPE/FUB/2018 – CARGOS DE NÍVEL SUPERIOR) Acerca de temas diversos da atualidade, julgue os próximos itens.

15. No contexto econômico das relações internacionais contemporâneas, o Brasil se destaca na produção e exportação de commodities.

16. Atualmente, o massivo investimento em ciência e tecnologia tem feito o setor secundário do Brasil desempenhar papel de grande destaque no produto interno bruto nacional, que, atualmente, está entre os dez maiores do mundo.

17. (FCC/PC-AP/2017 – DELEGADO DE POLÍCIA) Em passado recente as três grandes agências internacionais de classificação de risco voltaram suas atenções para a economia brasileira. Sobre esse fato considere as afirmações:

I. A classificação de risco (rating) soberano é a nota dada por agências classificadoras de risco que avaliam a capacidade e a disposição de um país em honrar, pontual e integralmente, os pagamentos de sua dívida.

II. As agências atribuem as notas de risco de crédito apenas a Estados nacionais, mas excepcionalmente podem avaliar empresas, especialmente estatais que estão em vias de desestatização.

III. Desde final de 2016 as principais agências de risco incluíram o Brasil no grupo de países com classificação A-, isto é, país com baixo grau de investimento financeiro.

IV. Quanto pior for a classificação de risco maior são os juros cobrados pelos investidores para emprestar dinheiro, o que amplia a crise econômica do país endividado.

Está correto o que se afirma APENAS em

a) II e III.

b) I e III.

c) I e IV.

d) II e IV.

e) III e IV.



GABARITO



- 1. D
- 2. E
- 3. D
- 4. D
- 5. B
- 6. C

- 7. C
- 8. C
- 9. E
- 10. E
- 11. D
- 12. E

- 13. D
- 14. C
- 15. C
- 16. E
- 17. C



LISTA DE QUESTÕES – AGROPECUÁRIA E AGRONEGÓCIO – MULTIBANCAS

1. (INSTITUTO VERBENA/TJ-AC/2024) MATOPIBA é uma abreviação dos estados do Maranhão, Tocantins, Piauí e Bahia que designa uma extensão geográfica que recobre parcialmente os territórios dos quatro estados mencionados. Segundo o Instituto Brasileiro de Geografia e Estatística – IBGE, nesse território existem 324.326 estabelecimentos agrícolas que ocupam uma área de 73.173.485 hectares. Sobre o MATOPIBA sabe-se que é um território de uma

- A) confluência cultural de povos do cerrado.
- B) expansão da produção de eucalipto.
- C) crescimento da indústria farmacológica.
- D) nova fronteira agrícola do Brasil.

2. (CEBRASPE/TJ-SC/2023) O Brasil é um dos maiores exportadores mundiais de alimentos, o que faz de sua produção agropecuária importante elemento para a constituição do produto interno bruto (PIB) do país. O avanço no campo, com significativo aumento da produtividade, deve-se, em larga medida,

- a) à maior dependência das importações com a baixa da produção local.
- b) à diminuição da demanda mundial por alimentos.
- c) ao sistema sustentável de produção agropecuária e ao investimento em ciência e tecnologia.
- d) ao êxodo rural, com a emigração de pessoas em massa para o campo.
- e) à comercialização internacional de produtos sem procedência garantida.

(QUADRIX/CRO-TO/2023) No que diz respeito a assuntos da atualidade do Brasil e do mundo, julgue os itens a seguir.

- 3. Na pauta das exportações brasileiras, o agronegócio desempenha papel de destaque.
- 4. A atuação da Embrapa é vital para o desenvolvimento da agricultura e da pecuária brasileiras.
- 5. Há consenso de que o Brasil poderia ter maior participação no agronegócio do comércio mundial, se dispusesse de avançadas instituições de pesquisa na área.
- 6. (CEBRASPE/TJ-SC/2023) Com relação ao atual estágio econômico do Brasil, assinale a opção correta.

- A) O Brasil é um dos maiores exportadores mundiais de grãos e de proteína animal.



B) Atualmente, os maiores parceiros comerciais do Brasil são os países da África Subsaariana e da América do Norte.

C) Por não ser autossuficiente na produção de petróleo, o Brasil se encontra impedido de exportar esse óleo natural.

D) O fim do desmatamento na Amazônia e no Cerrado amplia as possibilidades de exportação brasileira.

E) Mesmo sem contar com aporte científico e tecnológico, estatal ou privado, o agronegócio brasileiro se expande exponencialmente.

7. (QUADRIX/CRP-10/2022 – ASSISTENTE ADMINISTRATIVO) O Brasil é, hoje, um dos maiores produtores mundiais de alimentos.

8. (QUADRIX/CREFITO 6ª REGIÃO/2022 – RECEPCIONISTA) O conhecimento científico foi decisivo para que o Brasil se transformasse em um dos maiores produtores e exportadores de alimentos no mundo contemporâneo, especialmente de grãos e proteínas animais. Sendo assim, assinale a alternativa que apresenta a sigla da instituição que se notabiliza por seu trabalho de pesquisa na área da agropecuária.

(A) Embraer.

(B) Petrobras.

(C) CNPq.

(D) Capes.

(E) Embrapa.

9. (VUNESP/PC-SP/2018 – AUXILIAR DE PAPILOSCOPISTA) O número de mortes em conflitos agrários cresceu 15% em 2017 na comparação com o ano anterior, num total de 70 assassinatos. De acordo com a Comissão Pastoral da Terra (CPT), que divulgou os dados nesta quarta-feira (23 de maio de 2018), trata-se do maior número desde 2003. Dentre as mortes registradas, a pastoral destaca quatro massacres que ocorreram na Bahia, Mato Grosso, Pará e Rondônia, resultando em 28 assassinatos. O estado do Pará lidera o ranking de 2017 com 21 pessoas assassinadas, dez no massacre de Pau D'Arco, seguido pelo estado de Rondônia, com 17, e pela Bahia, com 10 assassinatos.

(Carta Capital. <https://www.cartacapital.com.br>. 23.05.2018. Adaptado)

Uma das justificativas para a violência no campo brasileiro relaciona-se

a) à minifundiarização da produção de matérias-primas agrícolas.

b) ao processo histórico de concentração fundiária.

c) à coletivização das terras improdutivas prevista na Constituição.

d) ao avanço das monoculturas em direção das periferias urbanas.



e) à industrialização de áreas remotas do território nacional.

10. (FGV/PREFEITURA DE SALVADOR – BA/2017 – TÉCNICO DE NÍVEL SUPERIOR II - DIREITO) O IBGE divulgou que o PIB (Produto Interno Bruto) cresceu 1% no primeiro trimestre de 2016, em relação ao quarto trimestre do mesmo ano, já retirados os efeitos sazonais. É o primeiro número positivo desde o final de 2014, e o principal fator para este resultado foi o desempenho do setor agropecuário, que cresceu 13,4% no período. Os serviços, que respondem por mais de 70% do PIB, ficaram estáveis. A indústria também teve resultado positivo, com alta de 0,9%.

(Adaptado de <http://www1.folha.uol.com.br/mercado/>)

Com relação ao desempenho positivo do agronegócio brasileiro, analise as afirmativas a seguir.

I. O agronegócio é responsável por uma grande parte da produção nacional brasileira, impulsionando também a demanda em outros segmentos, como, por exemplo, o de insumos e o de transporte de cargas.

II. O agronegócio tem papel relevante no incremento das exportações brasileiras para países orientais, sobretudo a China, que concentram a demanda em produtos do complexo da soja.

III. O agronegócio expandiu suas cadeias produtivas graças à ampliação de áreas de cultivo e ao desenvolvimento de novas tecnologias, sendo responsável pela geração de empregos no campo.

Está correto o que se afirma em

- a) I, somente.
- b) II, somente.
- c) III, somente.
- d) I e II, somente.
- e) I, II e III.

GABARITO



- 1. D
- 2. C
- 3. C
- 4. C

- 5. E
- 6. A
- 7. C
- 8. E

- 9. B
- 10. E



LISTA DE QUESTÕES – INDÚSTRIA – MULTIBANCAS

1. (CEBRASPE/PO-AL/2023) O Brasil é um dos países mais industrializados do mundo e sua indústria tem se expandido devido à adoção de incentivos fiscais e mão de obra especializada e de baixo custo.
2. (QUADRIX/CAU-SC/2022 – ADVOGADO)



Internet: <<https://www.poder360.com.br>>.

Assinale a alternativa que apresenta dois fatores que estão diretamente ligados à temática do gráfico acima.

- (A) desindustrialização e baixa competitividade nas exportações
- (B) agravamento da pandemia e altas taxas de desemprego
- (C) falta de produção de tecnologia e queda na bolsa de valores
- (D) predominância de baixos salários no setor secundário e aumento da competitividade interna
- (E) aumento da dívida externa e falta de credibilidade internacional

3. (QUADRIX/2022/CRP 11ª REGIÃO-CE – ASSISTENTE ADMINISTRATIVO) A pandemia de covid-19, nos dois últimos anos, fez a crescente industrialização brasileira perder milhares de postos de emprego, mas estes estão sendo recuperados gradativamente com a volta do crescimento econômico.

4. (QUADRIX/CFT/2021 – ASSISTENTE ADMINISTRATIVO) O Brasil ocupa posição de destaque quando o assunto é a criação de um produto ou um processo que seja novo para o mercado ou para a empresa, utilizando nova tecnologia, composição também conhecida como inovação tecnológica.



5. (CEBRASPE/PGE-PE/2019 – ANALISTA JUDICIÁRIO) A recente descentralização industrial brasileira é explicada e entendida por intermédio das relações bilaterais e do fortalecimento do MERCOSUL.

GABARITO



1. E
2. A
3. E
4. E
5. E



LISTA DE QUESTÕES – TRANSPORTES – MULTIBANCAS

1. (VUNESP/EPC/2023) Os investimentos públicos em infraestrutura vêm decrescendo há cerca de 50 anos, segundo dados do Observatório de Política Fiscal do IBRE/FGV. Segundo recente pesquisa da Confederação Nacional da Indústria (CNI), 73% dos entrevistados indicaram um setor, em especial, como o maior gargalo do setor de infraestrutura brasileiro.

(CNN. <https://bit.ly/3JR8uXI>. 26.11.2022. Adaptado)

Foi considerado o maior gargalo de infraestrutura o setor de

- A) telecomunicações, pela dificuldade de expansão do 5G.
- B) energia, pelo elevado custo da transmissão.
- C) saúde, com ênfase na deficiência de profissionais qualificados.
- D) saneamento básico, pela pequena oferta disponível.
- E) transportes, com ênfase para as más condições das rodovias.

(CEBRASPE/FUB/2018 – CARGOS DE NÍVEL MÉDIO) As fontes de energia, os transportes e as telecomunicações constituem três elementos básicos da infraestrutura econômica — e, em particular, industrial — de um país. São condições para a sua modernização e, ao mesmo tempo, indicadores de desenvolvimento e da sustentabilidade ambiental.

José William Vesentini. Geografia: o mundo em construção. Ática, vol. 2, 2013, p. 41 (com adaptações).

Acerca do assunto abordado nesse fragmento de texto, bem como de múltiplos aspectos a ele relacionados, julgue os itens a seguir.

- 2. O Brasil adota um sistema equilibrado de frete por transporte terrestre multimodal, por influência, ainda, do nacional-desenvolvimentismo do governo de Juscelino Kubitschek.
- 3. Os rios navegáveis das regiões Norte e Centro-Oeste do Brasil fazem que o transporte aquaviário seja de importância primordial para a exportação brasileira de commodities.
- 4. (CEBRASPE/MP PI/2018 – TODOS OS CARGOS - ADAPTADA) O Brasil inclui-se entre os países que possuem a maior concentração rodoviária do transporte de cargas no mundo.
- 5. (IDECAN/CM NATIVIDADE/2017 - TÉCNICO EM CONTABILIDADE) Sobre o transporte rodoviário, o principal modal de integração do território brasileiro, sendo responsável por grande parcela dos fluxos, de mercadorias e pessoas, dentro do país, marque V para as afirmativas verdadeiras e F para as falsas.

() É o mais flexível e o mais ágil no acesso às cargas, permite integrar regiões, mesmo as mais afastadas, bem como o interior dos países.



- () Possui rapidez na entrega da carga em curta distância, além de ser peça fundamental da multimodalidade e da intermodalidade.
- () Tem o menor custo de infraestrutura e a maior capacidade de carga entre todos os modais.
- () É considerado um meio de transporte limpo, por ter baixa emissão de poluentes.

A sequência está correta em

- a) F, V, F, V.
- b) V, F, F, V.
- c) V, F, V, F.
- d) V, V, F, F.

6. (IDECAN/CM NATIVIDADE/2017 - TÉCNICO EM CONTABILIDADE) “Entende-se por transporte dutoviário aquele efetuado no interior de uma linha de tubos ou dutos realizados por pressão sobre o produto a ser transportado ou por arraste deste produto por meio de um elemento transportador. Assim, toda dutovia deve ser constituída de três elementos essenciais: os terminais, com os equipamentos de propulsão do produto; os tubos; e, as juntas de união destes.”

(Arquivo do curso de Logística na FADITU.)

Sobre o transporte dutoviário, marque V para as afirmativas verdadeiras e F para as falsas.

- () Permite que grandes quantidades de produtos sejam deslocadas de maneira segura, diminuindo o tráfego de cargas perigosas por caminhões, trens ou navios.
- () Contribui preponderantemente com o aumento do desmatamento se comparado a outros modais de transporte.
- () Possui elevado custo de manutenção, sem contar os elevados indicadores de acidentes e roubos de cargas que são facilitados.
- () Pode dispensar armazenamento, simplifica o procedimento de carga e descarga e diminui custos de transportes.

A sequência está correta em

- a) F, V, F, V.
- b) V, F, F, V.
- c) V, F, V, F.
- d) V, V, F, F.



GABARITO



1. E
2. E

3. E
4. C

5. D
6. B



LISTA DE QUESTÕES – ENERGIA – MULTIBANCAS

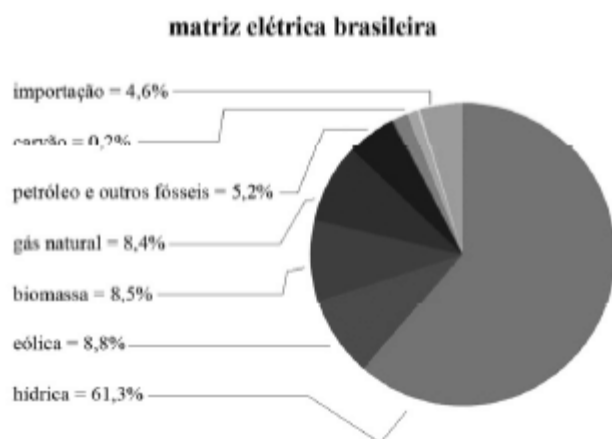
(CEBRASPE/MEC/2023) Desde o começo do ano, a geração de energia elétrica no Brasil tem ganhado cada vez mais evidência. Segundo dados de junho de 2023 da Agência Nacional de Energia Elétrica (ANEEL), o Brasil concluiu o primeiro semestre de 2023 com um acréscimo de 5,1 gigawatts (GW) na capacidade instalada de geração de energia elétrica. Desses, 2,3 GW (44,53% do total) são de fonte eólica e 2,2 GW (42,76%) de solar. O total de 121,5 MW (2,36%) vêm de pequenas centrais hidrelétricas (PCHs) e 11,4 MW (0,22%) de três centrais geradoras hidrelétricas. Apenas 521,4 MW (10,13%) vieram de termelétricas.

Internet: <gov.br/mme> (com adaptações).

Considerando o fragmento de texto precedente, julgue o item seguinte, acerca da temática referente à matriz energética brasileira.

1. Todas as fontes de energia citadas no texto são consideradas renováveis e limpas.
2. As fontes de energia eólica e solar são renováveis e se encontram em expansão na matriz energética brasileira.

(CEBRASPE/PO-AL/2023)



ANEEL/ABSOLAR, 2020

O gráfico precedente mostra a composição da matriz elétrica brasileira de 2020. Com base nessas informações, julgue o item a seguir.

3. A matriz elétrica brasileira tem fontes de energia renováveis e não renováveis, e a forte dependência do petróleo para a geração de energia elétrica impacta os preços da oferta desse serviço e gera um processo inflacionário.
4. (QUADRIX/CRT-SP/2023) No Brasil, o petróleo é a principal fonte de energia utilizada.



5. (QUADRIX/CRO-TO/2023) Embora seja um dos maiores produtores de petróleo do mundo, o Brasil ainda não conseguiu criar uma empresa que faça prospecção, exploração e refino dessa importante matéria-prima.

6. (QUADRIX/CRT-BA/2023) O Brasil é um dos maiores produtores de petróleo do mundo, mas importa essa commodity do exterior, devido à dependência que possui do refino.

7. (CEBRASPE/DATAPREV/2023) Uma vez que o modelo de gerenciamento e transmissão de energia utilizado no Brasil é o Sistema Interligado Nacional (SIN), em caso de queda de energia elétrica nesse sistema, todas as unidades federativas conectadas a ele são impactadas.

8. (CONSULPLAN/CÂMARA DE TREMEMBÉ-SP/2023) Governo estuda ampliar energia solar aos mais pobres

O governo estuda a criação de um programa para facilitar o acesso da população, sobretudo os mais pobres, à chamada geração distribuída – modalidade em que o consumidor gera a própria energia elétrica a partir de fontes renováveis.

(Disponível em: <https://www.cnnbrasil.com.br/business/governo-estudaampliar-energia-solar-aos-mais-pobres/>. Acesso em: 07/01/2023.)

É atualmente a principal fonte de energia elétrica do Brasil:

A) Solar.

B) Eólica.

C) Hidroelétrica.

D) Termoelétrica.

9. (QUADRIX/CRECI-RO/2022 – FISCAL) Fontes de energia não poluentes, como as obtidas com o aproveitamento do sol e do vento, são alternativas ao uso do petróleo e do carvão.

10. (CEBRASPE/ICMBio/2022 – TÉCNICO) A matriz energética do Brasil baseia-se na energia hidroelétrica; apesar das secas e da diminuição do nível dos reservatórios, a oferta de energia continua a baixos custos e sem interrupções e aumentos de tarifa, pois há diversidade de fontes energéticas no país.

(QUADRIX/CFT/2021 – ASSISTENTE ADMINISTRATIVO) Acerca dos temas que envolvem o território brasileiro, como, por exemplo, saúde, tecnologia, fontes de energia, relações internacionais, desenvolvimento sustentável e ecologia, julgue os itens a seguir.

11. A conta de energia elétrica das residências brasileiras segue uma tendência de aumento, devido ao fato de a matriz energética do País pautar-se em fontes de energia não renováveis.

12. O agravamento da crise hídrica no Brasil está ligado aos níveis baixos nos reservatórios e à volta da demanda por energia a patamares pré-pandemia em diversos setores da economia.



13. (CEBRASPE/CBM-AL/2021 – ASPIRANTE) A água, recurso energético abundante no mundo, é muito utilizada no Brasil para a geração de energia limpa, por possibilitar um impacto ambiental zero na análise do desenvolvimento sustentável.

14. (CESGRANRIO/BASA/2021 – TÉCNICO CIENTÍFICO) A pandemia mudou procedimentos de segurança e higiene em canteiros de obras, mas quem percorre de carro o interior e o litoral de alguns estados brasileiros se depara com a construção de dezenas de parques eólicos e solares que entrarão em operação nos próximos meses. Apenas a capacidade de geração do setor eólico no Brasil deve pular de 17 mil para 28 mil megawatts até 2024, resultado de 44 bilhões de reais em investimentos e mais de 10 mil empregos gerados. Desse total de inversões e postos de trabalho, 80% estão concentrados em uma única região do País, que terá no setor de infraestrutura um dos principais motores da retomada do crescimento nos próximos anos. Um dos principais setores que deverão receber vultosos investimentos ao longo dos anos é o de energia.

ROCKMANN, R. A Hora da Reação. **Revista Carta Capital**, Ano XXVI, n. 1136, 16 dez. 2020, p. 32. Adaptado.

A maior parte das inversões no setor de energia citadas no texto está concentrada na região

- (A) Sul
- (B) Norte
- (C) Sudeste
- (D) Nordeste
- (E) Centro-Oeste

(QUADRIX/CRP-SP/2019 – PROFISSIONAL ANALISTA SUPERIOR) Usinas nucleares na rota do furacão Florence nos EUA reacendem fantasma da explosão de Fukushima. Americanos correm contra o tempo para garantir a segurança de reatores nucleares.

Internet: <www.bbc.com> (com adaptações).

Tendo o texto acima apenas como referência inicial, julgue os itens a seguir.

15. O texto faz referência a um fato ocorrido no Japão anos atrás, quando um desastre natural danificou uma usina nuclear, aumentando a preocupação com o uso dessa fonte energética.

16. A energia nuclear é considerada como uma energia limpa e renovável.

17. (LEANDRO SIGNORI/PC DF – SIMULADO/2019) Um milhão de espécies de animais e plantas estão ameaçadas de extinção, segundo o relatório da Plataforma Intergovernamental de Políticas Científicas sobre Biodiversidade e Serviços de Ecossistema (IPBES). A plataforma da Organização das Nações Unidas (ONU) contou com 145 cientistas de 50 países, no que é considerado o relatório mais extenso sobre perdas do meio ambiente. Desde 1900, a média de espécies nativas na maioria dos principais habitats terrestres caiu em pelo menos 20%. Mais de 40% das espécies de anfíbios, quase 33% dos corais e mais de



um terço de todos os mamíferos marinhos estão ameaçados. Pelo menos 680 espécies de vertebrados foram levadas à extinção desde o século 16.

Disponível em: <https://glo.bo/2Vn5r1u>. Adaptado. Acesso em 07/05/2019.

Utilizando o texto presente no enunciado como base e os seus conhecimentos a respeito dos múltiplos aspectos relacionados aos problemas ambientais e a sustentabilidade, julgue o item que se segue:

Apesar do baixo crescimento de utilização da energia solar no Brasil, ela é uma das fontes com maior potencial de utilização no país devido às grandes médias de insolação anuais que o território brasileiro recebe.

18. (QUADRIX/CRQ 4ª REGIÃO/2019 – PROFISSIONAL DE ATIVIDADES ESTRATÉGICAS) O Acordo de Paris foi aprovado pelos 195 países signatários da Convenção-Quadro das Nações Unidas sobre Mudança do Clima (UNFCCC) para reduzir emissões de gases de efeito estufa (GEE) no contexto do desenvolvimento sustentável.

Internet: <mma.gov.br> (com adaptações).

A respeito do assunto abordado no texto acima e de temas correlatos, julgue o item.

O Brasil possui uma matriz energética com cerca de 40% de fontes renováveis, o que supera amplamente a participação média mundial.

(CEBRASPE/FUB/ADAPTADA) As fontes de energia, os transportes e as telecomunicações constituem três elementos básicos da infraestrutura econômica — e, em particular, industrial — de um país. São condições para a sua modernização e, ao mesmo tempo, indicadores de desenvolvimento e da sustentabilidade ambiental.

José William Vesentini. Geografia: o mundo em construção. Ática, vol. 2, 2013, p. 41 (com adaptações).

Acerca do assunto abordado nesse fragmento de texto, bem como de múltiplos aspectos a ele relacionados, julgue os itens a seguir.

19. Apesar das hidrelétricas, dos parques eólicos no Nordeste brasileiro e da difusão da produção de energia solar, o petróleo ainda é a fonte de energia mais importante do Brasil.

20. Comparada à de outros países, a matriz energética brasileira é a mais diversificada e favorável ao desenvolvimento sustentável, por fazer uso de muitas fontes renováveis.

21. A energia elétrica brasileira é gerada, majoritariamente, por força hidráulica.

22. (CESGRANRIO/LIQUIGÁS/2018 - PROFISSIONAL JÚNIOR CIÊNCIAS CONTÁBEIS) No texto abaixo, a produção de energia é o tema central. A energia elétrica é algo tão comum no dia a dia da maioria dos brasileiros que sua importância só é notada quando há falha no funcionamento. A demanda dessa energia é cada vez maior, não apenas para o conforto das pessoas, mas também para aumentar a produção industrial e o desenvolvimento econômico. Nesse cenário, nos tempos atuais e futuros, não existe fonte energética que seja solução única para as demandas de um país, e muitos avanços têm sido alcançados no



uso de fontes renováveis, que devem continuar aumentando sua participação na geração total. No entanto, como essas fontes dependem da natureza, há necessidade constante de complementação de fontes térmicas para garantir o atendimento da demanda com qualidade. Dentre as fontes térmicas, a energia nuclear tem sido usada de forma complementar no atendimento às necessidades de geração elétrica.

ARTHOU, A.; BOGOSSIAN, F. Geração de energia elétrica, como complementar as renováveis? Jornal do Brasil, Opinião, 17 mar. 2018, p. 9. Adaptado.

No Brasil, a energia nuclear é uma fonte complementar que conta com a seguinte vantagem estratégica:

- a) O Brasil é o único país latino-americano a produzir esse tipo de energia.
- b) O país possui jazidas minerais que a ele garantem a autossuficiência.
- c) O país possui mais de cinco usinas termonucleares em seu território.
- d) O custo de instalação de uma usina nuclear é baixo, se comparado ao das demais.
- e) O custo do transporte do combustível nuclear é o maior entre todos os outros.

23. (CESPE/CBM AL/ADAPTADA) Desenvolvimento sustentável é o modelo que prevê a integração entre economia, sociedade e meio ambiente. Em outras palavras, é a noção de que o crescimento econômico deve levar em consideração a inclusão social e a proteção ambiental. A respeito dos múltiplos aspectos relacionados ao desenvolvimento sustentável, julgue o próximo item.

Alagoas destaca-se pela concentração de parques eólicos, sendo o principal responsável pelo desempenho positivo da região Nordeste na produção de energia eólica em relação ao resto do Brasil.

24. (CESPE/CBM AL/2017 – SOLDADO COMBATENTE)

tecnologia

tec·no·lo·gi·a

sf

1 Conjunto de processos, métodos, técnicas e ferramentas relativos à arte, indústria, educação etc.: “O ensaio me pareceu muito bem craniado. Só notei que estás demasiadamente fascinado pela tecnologia. Daí a aceitar sem reservas a tecnocracia é um passo muito curto” (EV).

2 Conhecimento técnico e científico e suas aplicações a um campo particular: “Os serviços de informação e inteligência do Departamento de Estado norte-americano já dispunham de tecnologia suficiente para rastrear o encontro num quarto de hospital de dois personagens secundários [...]” (CA).

3 POR EXT Tudo o que é novo em matéria de conhecimento técnico e científico.

4 Linguagem peculiar a um ramo determinado do conhecimento, teórico ou prático.



5 Aplicação dos conhecimentos científicos à produção em geral: Vivemos o momento da grande tecnologia.

Internet: <<http://michaelis.uol.com.br>>

Tendo a definição apresentada como referência inicial, julgue o seguinte item, que trata de múltiplos aspectos relacionados à tecnologia.

O Brasil tem sido pioneiro no emprego de tecnologia relacionada ao uso de biocombustíveis para automóveis em larga escala, podendo ser citadas como exemplos desse pioneirismo tanto a produção de etanol como a dos chamados carros flex.

25. (IDECAN/CRO-AL/2017 - AUXILIAR ADMINISTRATIVO) A partir da mudança do século, os novos projetos de usinas hidrelétricas ficaram sujeitos a uma nova sensibilidade da sociedade à questão ambiental, e isso representou uma mudança de paradigma no setor elétrico. Em relação à matriz elétrica brasileira, principalmente nos últimos tempos, é coerente afirmar que

a) o setor elétrico brasileiro sempre foi expressivamente limpo, baseado majoritariamente em fontes de energia renováveis.

b) as fontes solar e eólica foram a salvação energética do país, constituindo, atualmente, mais de 60% da fonte de energia do país.

c) só a partir das últimas décadas do século passado, com a crescente preocupação ambiental, o setor energético passou a priorizar fontes renováveis.

d) a crise hídrica iniciada a partir do início do século XX tornou inviável manter a energia elétrica renovável, substituída radicalmente pelos combustíveis fósseis.

26. (IDECAN/CM NATIVIDADE) Desde os primórdios da humanidade, o homem buscou fontes de energia para melhorar o desempenho de suas ações e do seu trabalho. Sobre fontes de energia, marque V para as afirmativas verdadeiras e F para as falsas.

() O petróleo é um exemplo de fonte de energia não renovável.

() A maior parte das fontes de energia consumidas no mundo hoje são de fontes renováveis.

() Fontes de energia renováveis são aquelas que se recompõem na natureza, em um período relativamente curto de tempo.

A sequência está correta em

a) F, F, F.

b) F, F, V.

c) V, F, V.

d) V, V, F.



27. (CESPE/FUB/ADAPTADA) A grande vantagem das usinas hidrelétricas, se comparadas a outras fontes de energia, como a solar e a eólica, é o quase inexistente impacto ambiental por elas causado.
28. (CESPE/FUB/ADAPTADA) Mesmo diante do baixo potencial solar da região Nordeste, a instalação de parques eólicos na área é economicamente atrativa.
29. (CESPE/FUB/ADAPTADA) Um possível benefício dos parques eólicos a que o texto remete é que, quando instalados em áreas pouco desenvolvidas economicamente, eles podem melhorar a renda da população cujas opções de emprego são precárias.
30. (CESPE/FUB/ADAPTADA) A descoberta de petróleo na camada do pré-sal é considerada a redenção econômica da região Nordeste, fato que se deve, sobretudo, ao baixo custo de extração do petróleo nessa camada.

GABARITO



- | | | |
|-------|-------|-------|
| 1. E | 11. E | 21. C |
| 2. C | 12. C | 22. B |
| 3. E | 13. E | 23. E |
| 4. C | 14. D | 24. C |
| 5. E | 15. C | 25. A |
| 6. C | 16. E | 26. C |
| 7. C | 17. E | 27. E |
| 8. C | 18. C | 28. E |
| 9. C | 19. C | 29. C |
| 10. E | 20. C | 30. E |



ORGANIZAÇÃO DO ESTADO BRASILEIRO

A organização do Estado brasileiro ou a organização político-administrativa do Brasil refere-se à forma de Estado e de governo, ao sistema e ao regime de governo. Quanto à **forma de Estado**, o Brasil é uma **federação**. Quanto à **forma de governo**, é uma **república**. Essas duas caracterizações estão explícitas no próprio nome oficial do país, **República Federativa do Brasil**, e ao longo de diversos trechos da Constituição Federal.



Brasil

Forma de Estado: Federação

Forma de Governo: República

Pessoal, esse é um assunto bastante trabalhado em Direito Constitucional. Nosso objetivo aqui não é estudá-lo com o mesmo rigor técnico que vocês estudam nessa disciplina, pois, quando aparece em concursos públicos na nossa disciplina, é abordado de uma forma mais genérica, generalista. Dito isso, vamos ao nosso estudo!

Federação

O federalismo é a **forma de Estado** adotada no Brasil. Outras formas de Estado conhecidas e adotadas no mundo são o Estado Unitário e a Confederação. O sistema federativo foi adotado em nosso país no ano de 1889, com a Proclamação da República, que transformou as então províncias em estados.

Esse modelo se baseia na divisão de poderes entre um governo central e entidades subnacionais autônomas, como estados, províncias ou regiões. No federalismo, tanto o governo central quanto as unidades subnacionais possuem autoridade e competências definidas pela Constituição, sendo que cada uma possui sua própria esfera de atuação e responsabilidades.

A federação tem como característica a **descentralização do poder**, buscando equilibrar a autonomia das unidades subnacionais com a necessidade de manter a unidade e a integridade do Estado. É adotado por diversos países ao redor do mundo, incluindo os Estados Unidos, Rússia, Alemanha e Argentina, porém, cada modelo possui suas diferenças e particularidades.

Como vimos, no Brasil, o modelo da federação está explícito no nosso próprio nome oficial, **República Federativa do Brasil**, e ao longo de diversos trechos da Constituição Federal. Logo no primeiro artigo do texto constitucional, já é estabelecida a forma como é feita a divisão dos poderes no território:

Constituição Federal de 1988



Art. 1º A República Federativa do Brasil, formada pela união indissolúvel dos Estados e Municípios e do Distrito Federal, constitui-se em Estado Democrático de Direito e tem como fundamentos (...)

Sendo um país federalista, o Brasil é formado pelos Estados, Municípios e o Distrito Federal; estes, são considerados como **entes federativos** e apresentam território definido por limites territoriais que representam a divisão político-administrativo do Brasil. Embora não seja mencionada nesse artigo, a União é considerada uma entidade federativa sob o aspecto da organização político-administrativa, conforme estabelece o art. 18 da Constituição Federal.

Constituição Federal de 1988

Art. 18. A organização político-administrativa da República Federativa do Brasil compreende a União, os Estados, o Distrito Federal e os Municípios, todos autônomos, nos termos desta Constituição.

A **União** é a entidade federativa de maior abrangência no Brasil, representando o Governo Federal. Ela tem como principais competências questões de interesse nacional, como defesa nacional (incluindo as Forças Armadas), relações exteriores, política fiscal, cambial e monetária, grandes projetos de infraestrutura, entre outras. As leis federais têm precedência sobre as leis estaduais e municipais e abrangem muitos aspectos importantes da vida do país.

O Brasil é composto atualmente por **26 Estados** e o **Distrito Federal**, que são a divisão territorial de maior hierarquia. Cada estado tem sua própria Constituição Estadual e autonomia para legislar sobre questões que são de sua competência, como por exemplo, segurança pública, programas habitacionais e transporte público interurbano.

O Distrito Federal (DF) é um ente federativo com características singulares, atípicas, anômalas e híbridas. Ele foi criado para abrigar a capital do país, Brasília, e possui uma administração compartilhada com a União em alguns aspectos. O Governador do Distrito Federal é o chefe do Poder Executivo local. O DF não pode ser dividido em municípios e detém as competências destinadas aos Estados e Municípios, no âmbito dos poderes Executivo e Legislativo.

Já os **Municípios**, recorte territorial de menor hierarquia no país, são responsáveis pela administração local, sendo a sua competência instituir serviços de limpeza urbana, iluminação pública, saneamento básico, espaços públicos, postos de saúde, entre outros. Os municípios são regidos pela Lei Orgânica Municipal, cujos princípios não podem contrariar os da Constituição Federal e Estadual.

República

Existem apenas duas formas de governo: república e monarquia. Em uma monarquia, o monarca exerce a função de chefe de Estado, às vezes acumulando a função de chefe de governo, geralmente até a sua morte.

Já em uma república, os assuntos do Estado são assuntos públicos e que devem ser conhecidos pelos cidadãos e todos (incluindo os governantes) devem seguir um conjunto de leis, normalmente fundamentada por uma Constituição, que protege e respeita o bem público. A República é vista, mais recentemente, como



uma forma de governo na qual os chefes de Estado e de Governo são eleitos pelo povo ou seus representantes, tendo a sua chefia uma duração limitada.

O Brasil adota o modelo de **república presidencialista**, no qual o presidente é o chefe de governo e o chefe de Estado e comanda o Executivo, que é independente do Legislativo. O presidente é eleito para mandatos fixos em períodos pré-estabelecidos.



Chefe de Estado ou Chefe de Governo?

Para os brasileiros esta distinção não é óbvia, pois o presidente da República está incumbido de ambas as funções. Em governos parlamentaristas esta divisão é pronunciada, mas varia de acordo com as leis de cada país.

O chefe de Estado representa o Estado em assuntos internacionais, como na diplomacia e em discussões de acordos; ele é o representante do Estado frente aos outros estados soberanos e comandante supremo das Forças Armadas. Já o chefe de governo cuida dos assuntos administrativos e cotidianos do governo, sendo a pessoa que de fato governa o país.

Ambos são representantes do Poder Executivo, sendo que “Chefe de Estado” normalmente é a posição mais alta e “Chefe de Governo” é a segunda posição mais alta

Por fim, vamos lembrar que o regime de governo no Brasil é a **democracia**, no qual o poder é exercido pelo povo, com eleições livres, justas e regulares de escolhas dos seus representantes ou de forma direta nos termos da Constituição Federal.



FO rma de GO verno	República	Só lembrar da frase: FOGO na República
FO rma de ES tado	Federação	Para lembrar: FO rma de ES tado, as duas iniciais formam FE de Federação
SI stema de GO verno	Presidencialismo	Só lembrar da frase: SIGO o Presidente
RE gime de GO verno	Democracia	Só lembrar da frase: REGO democrático



Estrutura dos Poderes

O Brasil adota a estrutura de organização dos poderes políticos em três grandes poderes, ideia que foi desenvolvida na época do Iluminismo e foi sistematizada pelo filósofo Montesquieu. Desse modo, o Estado Brasileiro é formado pelos poderes Executivo, Legislativo e Judiciário, conforme estabelece o artigo 2º da nossa Constituição Federal:

Constituição Federal de 1988

Art. 2º São Poderes da União, independentes e harmônicos entre si, o Legislativo, o Executivo e o Judiciário.

Essa divisão é uma **cláusula pétrea** na Constituição Federal, isto é, não pode ser alterada por Proposta de Emenda à Constituição (PEC).

Poder Executivo

A atribuição do Executivo é a de governar o povo e administrar os interesses públicos. Juntamente do Legislativo, participa da elaboração de leis e as executa.

O chefe do Poder Executivo em nível federal é o presidente da república. Em nível estadual, são os governadores, e, em nível municipal, são os prefeitos.

O mandato do presidente, governadores e prefeitos é de quatro anos, podendo ser renovado por mais quatro. As eleições para presidente e governadores ocorrem no mesmo momento, enquanto as eleições para prefeitos ocorrem em período alternado.

Poder Legislativo

A atribuição central do Legislativo é de elaborar e propor as leis que regerão a sociedade.

O Poder Legislativo brasileiro é exercido pelo **Congresso Nacional**, composto por duas casas legislativas: o **Senado Federal** e a **Câmara dos Deputados**. O primeiro é integrado por representantes dos Estados, os senadores. A Câmara dos Deputados é composta por representantes do povo, os deputados federais.

Nos estados, o Poder Legislativo é constituído pelas Assembleias Legislativas Estaduais, compostas pelos deputados estaduais. Já em nível municipal, os representantes do Poder Legislativo são os vereadores.

Os mandatos dos deputados federais, deputados estaduais e vereadores são de quatro anos, enquanto o dos senadores são de oito anos.

Poder Judiciário

O Poder Judiciário tem a capacidade e a prerrogativa de julgar de acordo com as regras constitucionais e leis do país. Dos três poderes, é o único cujos titulares não são eleitos pela população.



É constituído em suas instâncias mais altas pelo Supremo Tribunal Federal e pelos tribunais superiores de Justiça, do Trabalho, Eleitoral e Militar. Os seus membros são os juízes, desembargadores e ministros.



CENSO DEMOGRÁFICO DE 2022

O Brasil tem **203.062.512 habitantes**. Os dados são do Censo Demográfico de 2022, realizado pelo Instituto Brasileiro de Geografia e Estatística (IBGE). O número está abaixo das projeções anteriores do Instituto para a população do país. Pela estimativa populacional de 2021, o Brasil teria 213,3 milhões de habitantes. Em 28 de dezembro de 2022, já com dados prévios do levantamento, o IBGE revisou a estimativa para 207.750.291, ou 4.687.779 de pessoas acima do cálculo final.

Essa expressiva diferença nos números ainda será objeto de muita análise por demógrafos e pesquisadores. Fato é que a população cresceu bem menos do que se projetava, mas isso não afeta o nosso estudo, nem a lisura, a transparência e a eficiência do Censo Demográfico.



O Brasil tem **203.062.512 habitantes**.

Durante o período de 2010 a 2022, a população brasileira passou de 190,7 milhões para 203 milhões de habitantes, um aumento aproximado de 12 milhões de pessoas, ou 6,5%. A taxa de crescimento anual de 2010 a 2022 foi de **0,52%**, sendo essa **a menor taxa de crescimento já registrada desde o início da pesquisa, em 1872**.

No infográfico a seguir, veja a média de crescimento anual da população brasileira ao longo das décadas e observe essa redução no período recente:





Fonte: Agência Brasil.

A principal razão para a redução das taxas de crescimento da população é o **declínio das taxas de fecundidade e natalidade**. O número médio de filhos por mulher segue em queda no Brasil.



A taxa de natalidade é o número de nascimento por mil habitantes em um determinado período de tempo, geralmente um ano. A taxa de fecundidade é o número médio de filhos por mulher. Ambas as taxas estão em queda desde a década de 1960.

Por que a taxa de fecundidade está diminuindo? Alguns aspectos que contribuem para a queda das taxas de fecundidade são:

1. Maior inserção das mulheres no mercado de trabalho: No meio urbano, aumenta o percentual de mulheres que trabalham fora de casa e que desenvolvem uma carreira profissional. Essas mulheres podem optar por priorizar suas carreiras e adiar a maternidade ou, ainda, por não ter filhos.

2. Custo de vida mais alto: Nas cidades, o custo de vida é mais alto, pois inclui gastos maiores com alimentação, moradia, transporte, educação, etc., o que leva muitas famílias a ter menos filhos, ou nenhum.

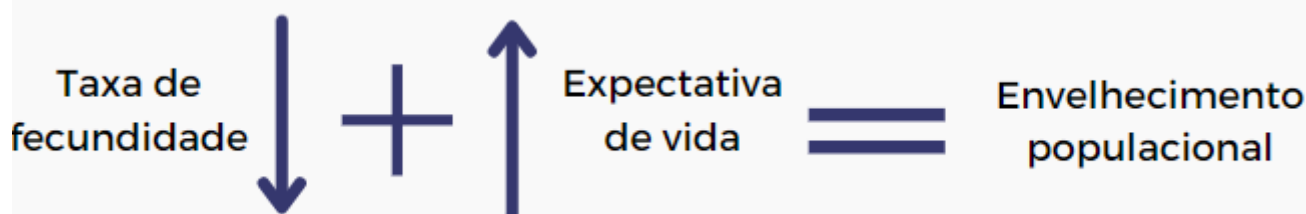


3. Planejamento familiar: Com a urbanização, as pessoas passaram a ter mais informação e acesso a pílulas anticoncepcionais e outros métodos contraceptivos, o que permitiu a realização de um planejamento familiar.

Paralelamente à redução acentuada da natalidade, a **expectativa de vida** do brasileiro vem crescendo, um reflexo da melhoria geral das condições de vida e saúde no país.

A expectativa de vida do brasileiro vem crescendo nos últimos anos, o que reflete a melhoria geral das condições de vida e saúde no país. Muitos fatores contribuem para o aumento da longevidade dos brasileiros, como maior acesso à água potável e à rede de esgoto, ampliação da renda e da alimentação (melhor nutrição), maior acesso a serviços de saúde, campanhas de vacinação e de prevenção de doenças, além dos avanços da medicina e do aumento da escolaridade e do acesso à informação.

A combinação desses dois fatores – redução das taxas de fecundidade somado ao aumento da esperança de vida – tem gerado, como consequência, o **envelhecimento da população brasileira**, isto é, a presença cada vez maior de idosos na população em relação aos jovens e adultos.



Envelhecimento populacional

Se compararmos a distribuição da população por faixa de idade nas últimas décadas, é possível constatar um progressivo envelhecimento da população do país. Como mostra o gráfico abaixo, a **pirâmide etária** brasileira vem apresentando uma base menor a cada década, ou seja, menor proporção de crianças, e um topo cada vez mais ampliado, **representando a maior participação de idosos na população**.



A **pirâmide etária, ou pirâmide de idades**, é um gráfico que mostra o número de habitantes (em números absolutos ou relativos) e sua distribuição por sexo e idade. Sua simples visualização nos permite tirar algumas conclusões referentes à taxa de natalidade e à expectativa de vida da população.

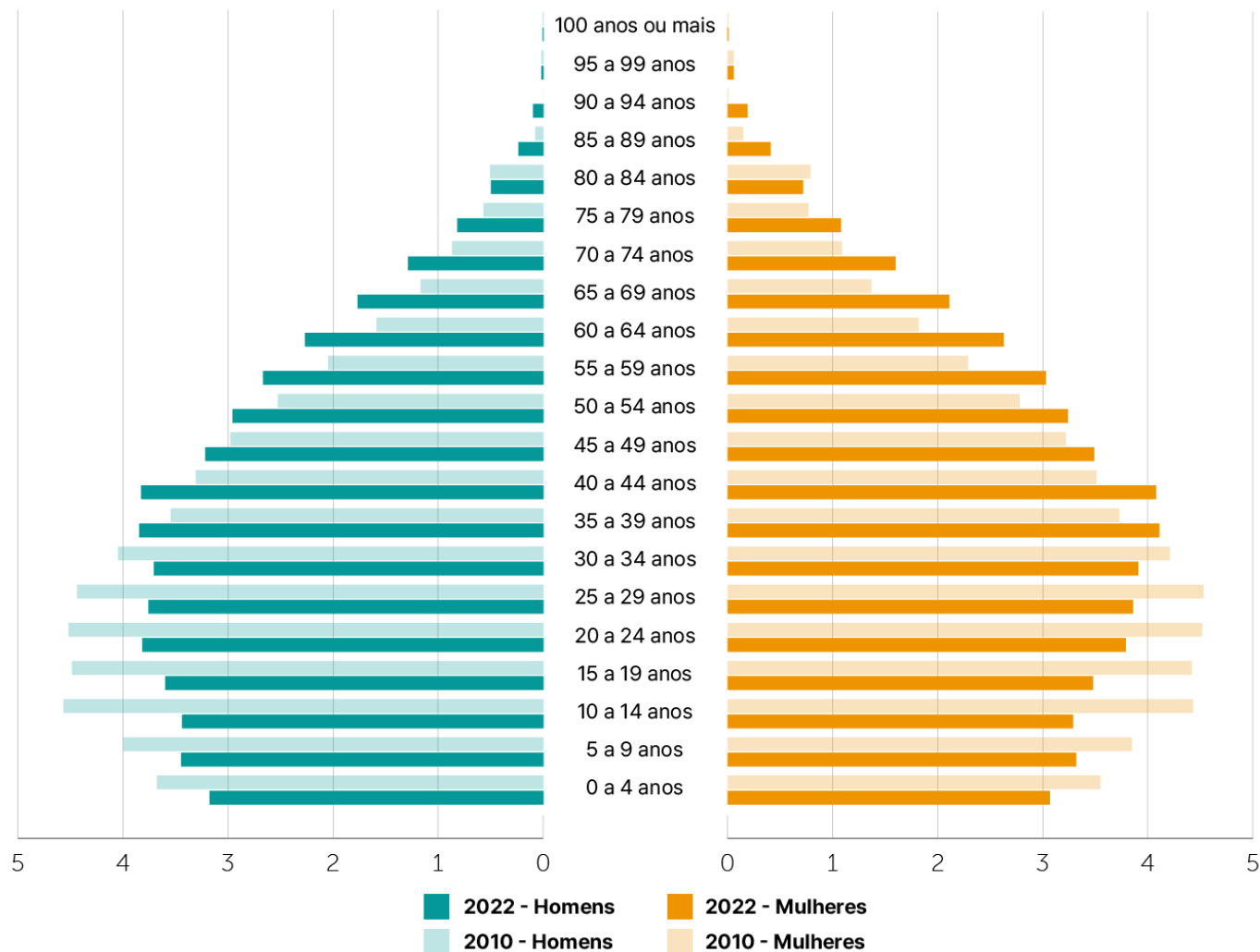
Se a pirâmide apresenta um aspecto triangular, o percentual de jovens no conjunto da população é alto. A base larga indica que a taxa de natalidade é alta. O topo estreito indica

uma pequena participação percentual de idosos no conjunto total da população e, portanto, que a expectativa de vida é baixa.

As pirâmides etárias costumam ser bastante utilizadas em questões de provas, portanto, é importante que vocês saibam fazer uma boa interpretação desse gráfico.

População residente no Brasil (%)

Segundo sexo e grupos de idade, em 2010 e 2022



Fontes: Censo Demográfico 2022: População por idade e sexo - Resultados do universo; IBGE - Censo Demográfico 2010

Base menor – Note como a base da pirâmide, na qual se mostram as porcentagens de jovens, está se estreitando, enquanto a metade superior da figura se alarga aos poucos: há mais idosos entre os brasileiros.

A pirâmide etária nos mostra que a representatividade de todos os grupos etários com idade até 34 anos está em queda nas últimas décadas, enquanto os demais grupos etários tiveram sua presença aumentada.



Em 1980, a população brasileira com 65 anos ou mais representava 4,0%. Em 2022, esse grupo atingiu 10,9%, o maior registro nos Censos Demográficos. Já a proporção de crianças com até 14 anos, que era de 38,2% em 1980, caiu para 19,8% em 2022.

Ao avaliar as proporções desses grupos etários específicos por grandes regiões, **a região Norte é a mais jovem** entre as demais, com 25,2% de sua população com até 14 anos, seguida pelo Nordeste, com 21,1%. O Sudeste e o Sul têm estruturas mais envelhecidas, com 18% e 18,2% de jovens de 0 a 14 anos, e 12,2% e 12,1% de pessoas com 65 anos ou mais, respectivamente.

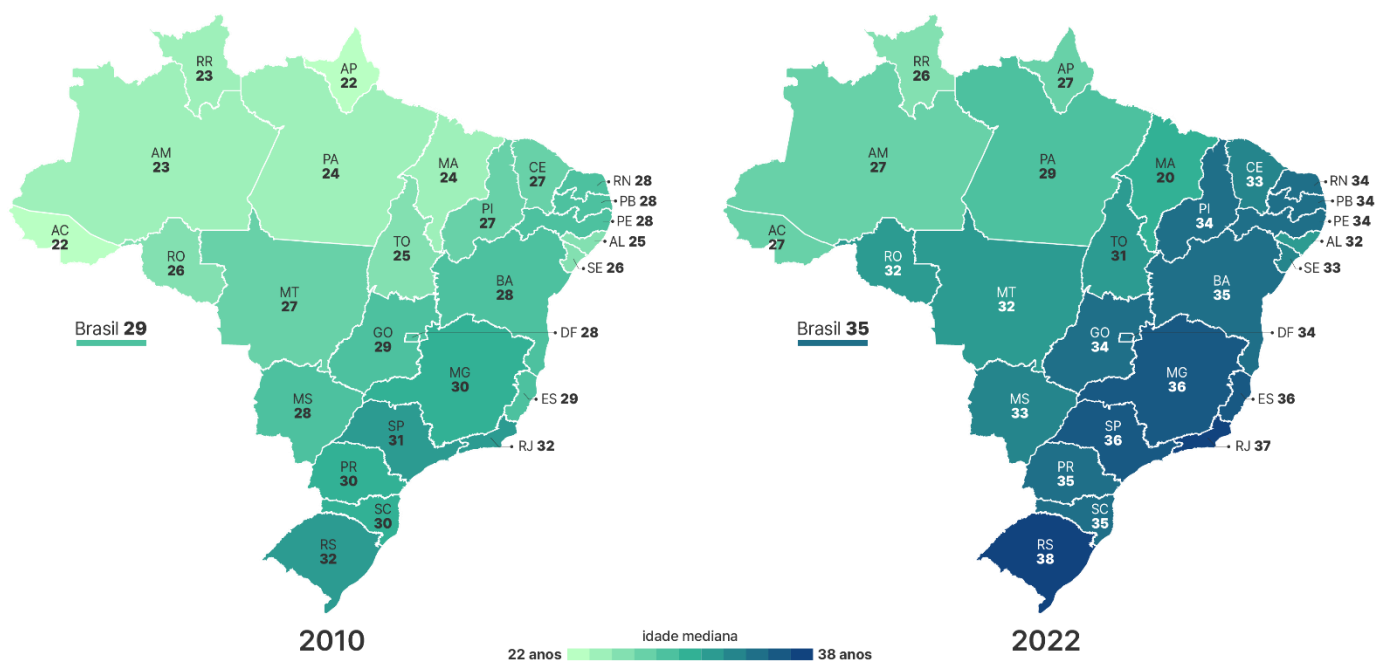
A região Centro-Oeste apresenta uma estrutura intermediária, sendo a sua distribuição etária próxima da média do país.

O índice da **idade mediana** divide uma população em 50% mais jovens e 50% mais velhos. No Brasil, de 2010 a 2022, a idade mediana aumentou de 29 para 35 anos, refletindo o envelhecimento da população. Isso quer dizer que metade da população tem 35 anos ou mais. Em 2010, no Censo anterior, esse número era de 29 anos.

Nas cinco grandes regiões, houve crescimento: Norte (de 24 para 29 anos), Nordeste (de 27 para 33 anos), Sudeste (de 31 para 37 anos), Sul (de 31 para 36 anos) e Centro-Oeste (de 28 para 33 anos).

Idade mediana da população residente no Brasil

Por Unidades da Federação, em 2010 e 2022



O envelhecimento da população implica em mudanças em diversos aspectos da sociedade, principalmente na área econômica, nos gastos públicos com educação, saúde e previdência social. Nas próximas décadas, o Brasil enfrentará os dilemas de diversos países desenvolvidos, nos quais uma proporção declinante de adultos em idade produtiva financia, com suas contribuições, sistemas previdenciários públicos que devem atender a uma proporção crescente de aposentados. Por outro lado, a expansão da proporção de idosos – e



do seu número absoluto – oferece novas possibilidades para as empresas, em setores como serviços de saúde, lazer e turismo.

O envelhecimento populacional e o encolhimento da força de trabalho – com conseqüente pressão sobre serviços de saúde e previdência – são questões que já preocupam países da Europa.

Distribuição da população pelo território nacional

No que diz respeito às cinco macrorregiões brasileiras, a distribuição da população é a seguinte:

Região	População (2022)	População percentual em relação ao total	Taxa de crescimento anual (2010 - 2022)
Sudeste	84,8 milhões	41,8%	0,45% ao ano
Nordeste	54,6 milhões	26,9%	0,24% ao ano
Sul	29,9 milhões	14,7%	0,74% ao ano
Norte	17,3 milhões	8,5%	0,75% ao ano
Centro-Oeste	16,2 milhões	8%	1,23% ao ano
Total	203 milhões	100%	0,52% ao ano

Analisando-se os censos demográficos de 2010 e 2022, o crescimento anual da população não ocorreu de maneira uniforme entre as grandes regiões. Embora seja menos populoso, o Centro-Oeste registrou maior crescimento nos últimos 12 anos. Sudeste e Nordeste, as duas regiões mais populosas, foram as que tiveram a menor taxa de crescimento anual no mesmo período.

Os dados do Censo Demográfico 2022 são de divulgação recente e inicial, pois são os primeiros resultados. As análises também são iniciais e incipientes. Por isso, já temos muitos gráficos, mas pouca análise, o que deverá ocorrer na sequência da divulgação de mais resultados pelo IBGE.

Com relação aos Estados e o Distrito Federal, **o estado de São Paulo continua a ser o mais populoso do país**, com 44,4 milhões de habitantes, cerca de um quinto da população brasileira (21,8%).

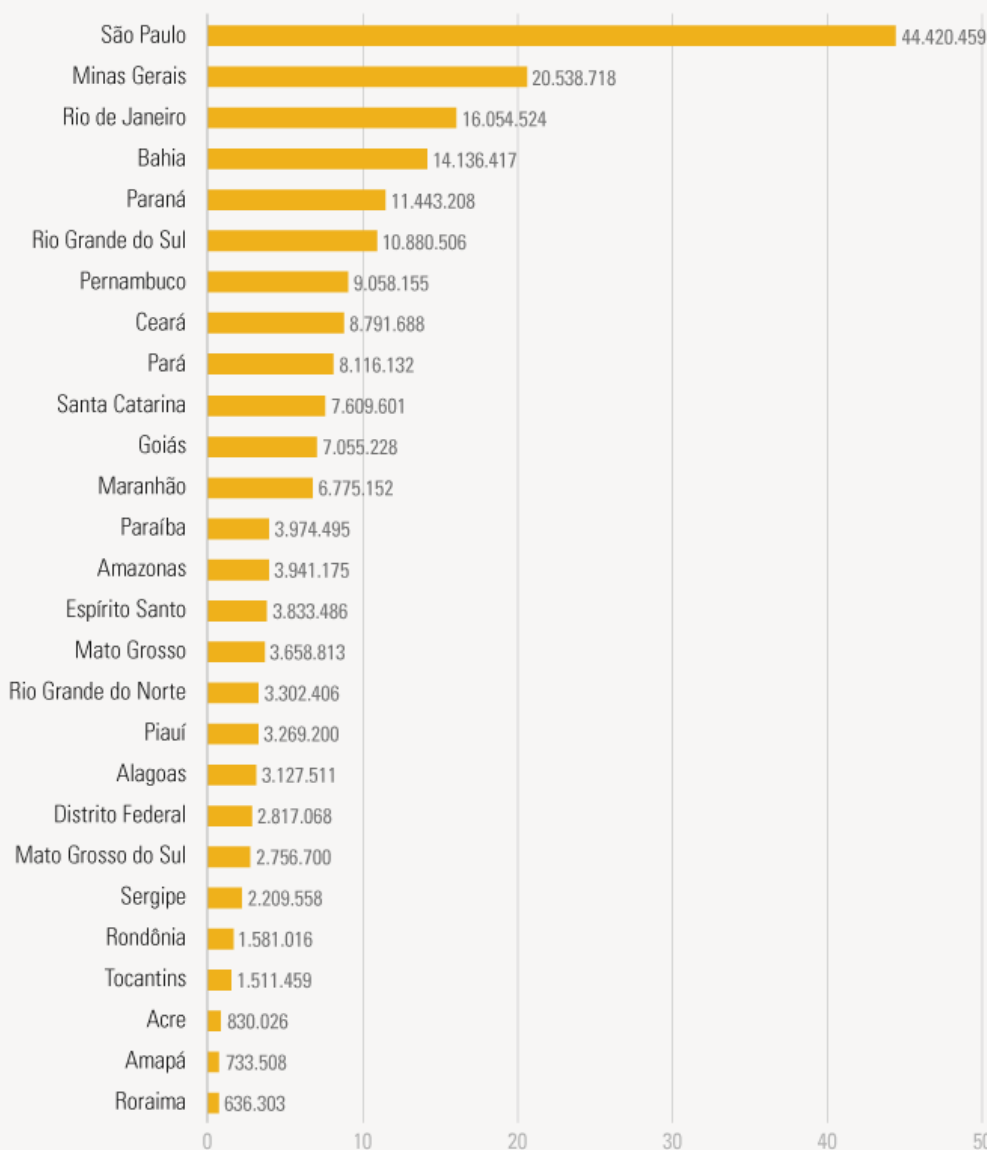
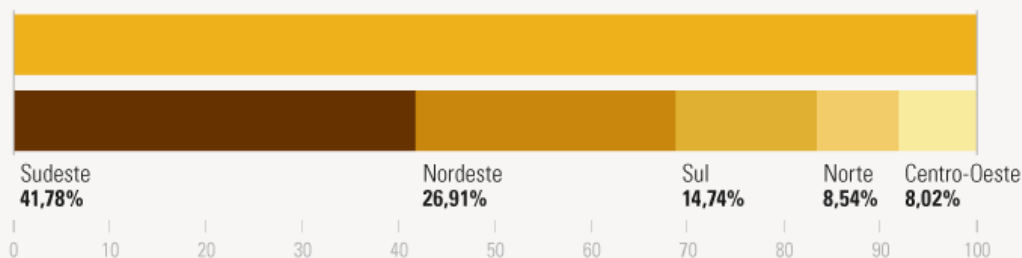
Veja no infográfico a seguir, divulgado pelo IBGE, a distribuição da população brasileira nas cinco grandes regiões e nos estados:



População residente no Brasil Grandes regiões e unidades da federação



Brasil **203.062.512** habitantes



Fonte: Censo Demográfico 2022: População e domicílios - Primeiros resultados



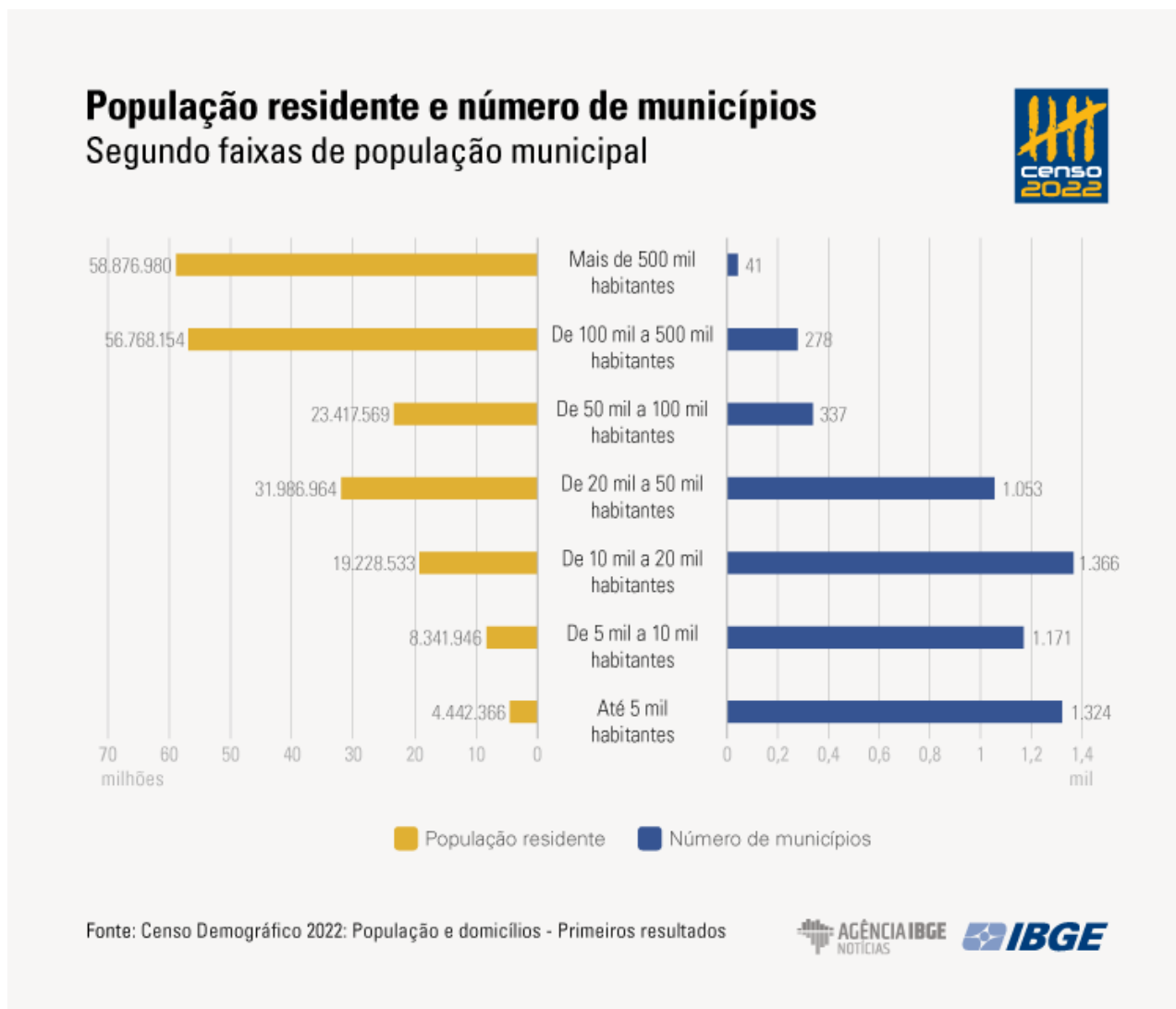
Catorze estados e o Distrito Federal registraram taxas de crescimento anual acima da média nacional (0,52%) em 2022.

Além de Roraima (2,92%), que passou de uma população de 450.479, em 2010, para 636.303, em 2022, destacaram-se no crescimento populacional Santa Catarina (1,66%), Mato Grosso (1,57%), Goiás (1,35%), Amazonas (1,03%) e Acre (1,03%).

Entre os estados que menos cresceram (com variação de 0,1% ou menos) está o Rio de Janeiro (0,03%), o terceiro mais populoso do país. A população fluminense passou de 15,9 milhões, em 2010, para 16,1 milhões, em 2022. Os demais foram Alagoas (0,02%), Bahia (0,07%) e Rondônia (0,10%).

Quase metade dos municípios do país tem até 10 mil habitantes

Há 5.568 municípios no país, e quase metade (44,8%) desse total tinha até 10 mil habitantes em 2022. Nesses 2.495 municípios, viviam 12,8 milhões de pessoas. A maior parte da população do país (57% do total) habitava apenas 319 municípios, o que evidencia que **as pessoas estão concentradas em centros urbanos acima de 100 mil habitantes**.



Os 20 municípios mais populosos do país concentravam 22,1% do total da população, e 17 deles são capitais. Os demais foram Guarulhos e Campinas, em São Paulo, e São Gonçalo, no Rio de Janeiro. A capital paulista aparece em primeiro lugar no ranking, com 11,5 milhões de habitantes, seguida do Rio de Janeiro (6,2 milhões) e Brasília (2,8 milhões).

Por outro lado, três municípios tinham menos de mil habitantes: Serra da Saudade, em Minas Gerais, com 833 pessoas, Borá, em São Paulo (907), e Ananguera, em Goiás (924).

Veja a lista com os 10 municípios com as maiores populações do Brasil:

1. **São Paulo (SP)** – 11.451.245 habitantes;
2. **Rio de Janeiro (RJ)** – 6.211.423 habitantes;
3. **Brasília (DF)** – 2.817.068 habitantes;
4. **Fortaleza (CE)** – 2.428.678 habitantes;
5. **Salvador (BA)** – 2.418.005 habitantes;
6. **Belo Horizonte (MG)** – 2.315.560 habitantes;
7. **Manaus (AM)** – 2.063.547 habitantes;
8. **Curitiba (PR)** – 1.773.733 habitantes;
9. **Recife (PE)** – 1.488.920 habitantes;
10. **Goiânia (GO)** – 1.437.237 habitantes.

Veja a lista com os 10 municípios com as menores populações do Brasil:

1. **Serra da Saudade (MG)** – 833 habitantes;
2. **Bora (SP)** – 907 habitantes;
3. **Ananguera (GO)** – 924 habitantes;
4. **Araguainha (MT)** – 1.010 habitantes;
5. **Novo Castilho (SP)** – 1.062 habitantes;
6. **Cedro do Abaete (MG)** – 1.081 habitantes;
7. **Andre da Rocha (RS)** – 1.135 habitantes;
8. **Oliveira de Fátima (TO)** – 1.164 habitantes;
9. **União da Serra (RS)** – 1.170 habitantes;
10. **São Sebastião do Rio Preto (MG)** – 1.259 habitantes.



População indígena e quilombola

Os povos indígenas passaram a ser mapeados pelo IBGE em 1991, com base na autodeclaração no quesito “cor ou raça”. No entanto, a partir do Censo de 2022, o instituto ampliou a metodologia, contando com a participação das próprias lideranças das comunidades no processo de coleta de dados e passando a considerar outras localidades indígenas além das terras oficialmente delimitadas.

Segundo o recenseamento, **o Brasil tem 1,7 milhão de pessoas indígenas, o que representa 0,83% da população total do país.** Já em 2010, o IBGE contou 896.917 indígenas, ou 0,47% do total de residentes do país.

Em termos absolutos, a variação representa um aumento de 89% entre os Censos — mas esta comparação deve ser vista com ressalvas, já que, como explicado, o Censo de 2022 ampliou a sua metodologia para alcançar mais indígenas no país.

O Norte concentra 45% dos indígenas brasileiros, com grande destaque para o estado do Amazonas — que, sozinho, tem 490,9 mil indígenas, ou 29% do total. O Nordeste vem em seguida, com 31% dos indígenas do país. O destaque da região é a Bahia, o segundo estado com mais indígenas do país — quase 230 mil. Mesmo com essa concentração, há indígenas em todas as regiões e em todos os estados brasileiros.

A **Terra Indígena Yanomami (AM/RR)** tem o maior número de pessoas indígenas (27.152). O segundo maior número está na Terra Indígena Raposa Serra do Sol (RR), com 26.176 habitantes indígenas, seguida pela Terra Indígena Évare I (AM), com 20.177.

■
Pela primeira vez, o Censo Demográfico incluiu em seu questionário perguntas para identificar pessoas que se autodenominam **quilombolas**.

Historicamente, os quilombos eram espaços de liberdade e resistência onde viviam comunidades de pessoas escravizadas fugitivas entre os séculos XVI e XIX. Cem anos depois da abolição da escravidão, a Constituição de 1988 criou a nomenclatura “remanescentes de comunidades de quilombos” — expressão que foi sendo substituída pelo termo “quilombola” ao longo dos anos.

Uma pessoa que se autodetermina quilombola tem, portanto, laços históricos e ancestrais de resistência com a comunidade e com a terra em que vive.

Conforme a pesquisa, **o Brasil tem 1,3 milhão de pessoas que se autodeclaram quilombolas, o que corresponde a 0,65% da população total do país.** O Nordeste concentra quase 70% dos quilombolas, com grande destaque para os estados da Bahia e do Maranhão. Juntos, eles têm 50% dos quilombolas do país.

Sexo dos brasileiros

Por fim, o Censo 2022 aponta que a população feminina predomina no país. Hoje, as mulheres são 51,5% dos 203 milhões de brasileiros. Há cerca de 104,5 milhões de mulheres e 98,5 milhões de homens (uma diferença de 6 milhões).



Em 2010, o país tinha 96,9 homens para cada 100 mulheres. Em 2022, eram 94,2 homens para cada 100 mulheres. Ou seja, a população feminina está aumentando de forma constante nas últimas décadas

Segundo o IBGE, a maior quantidade de mulheres tem explicação histórica, em razão das maiores taxas de mortalidade entre os homens. Como as mulheres morrem menos, a tendência é que a população brasileira continue ficando, de fato, cada vez mais feminina.

Leitura Complementar:

As oportunidades e os desafios dos bônus demográficos com os novos números do Censo 2022

É mais fácil acompanhar a navegação de longo prazo da demografia do que da economia

José Eustáquio Diniz Alves

Demógrafo e pesquisador aposentado do IBGE. Foi professor titular da Escola Nacional de Ciências Estatísticas do instituto.

A demografia e a economia são dois campos profundamente relacionados. Mas enquanto a dinâmica econômica oscila e muda de direção velozmente, como nas manobras de um jet ski, a dinâmica demográfica está mais próxima da constância e da estabilidade observadas na rota de um transatlântico. É mais fácil e preciso acompanhar a navegação de longo prazo da demografia do que da economia.

Nesse sentido, a queda do ritmo de crescimento da população não representa qualquer surpresa para os demógrafos. Mas o número de 203 milhões de brasileiros, indicado pelo Censo 2022, trouxe um certo espanto e os cientistas sociais do país terão que se debruçar sobre os novos números do IBGE (Instituto Brasileiro de Geografia e Estatística) para compreender a precisão e a assertividade dos dados.

Indubitavelmente, os números absolutos são importantes, mas, havendo imprecisões, eles podem ser corrigidos por modelagem estatística ou por outras informações provenientes de registros administrativos. Em breve, poderemos avaliar os números relativos e os dados do Censo 2022 servirão para atualizar a amostra das demais pesquisas domiciliares do IBGE. Mas cabe alertar que seria simplismo considerar que o total populacional do Censo signifique que o Brasil terá uma renda per capita maior e uma taxa de desemprego menor. A conta é mais complexa.

O que é líquido e certo é a **continuidade da transição demográfica – redução das taxas de mortalidade e natalidade – e a mudança da estrutura etária brasileira. Esses fenômenos criam oportunidades e desafios.**

A **primeira grande oportunidade** é a **redução do percentual de crianças e jovens, que traz benefícios inquestionáveis**. Famílias menores permitem que os pais troquem o investimento na quantidade para o investimento na saúde e educação dos filhos, aumentando o gasto per capita por criança. Jovens mais saudáveis e mais escolarizados possuem maiores direitos de cidadania e contribuem para as famílias e para o país.

A **segunda grande oportunidade** é a **troca da oferta ilimitada de mão de obra pelo bônus demográfico**. A janela de oportunidade criada pela transição da estrutura etária aumenta a oferta de trabalho de forma



temporária. Assim o país tem um período específico para dar um grande salto no desenvolvimento econômico e social.

Os **dados do Censo 2022 mostram que o fim do primeiro bônus está mais próximo**, mas o país ainda tem um grande desemprego aberto, uma grande quantidade de pessoas subocupadas e um imenso contingente de trabalhadores na informalidade. Portanto, o desafio não é aumentar a população, mas colocar em prática o Pleno Emprego e o Trabalho Decente, famosa e urgente bandeira da OIT.

Por outro lado, **o grande desafio advém do processo de envelhecimento populacional**, que é uma consequência inevitável da transição demográfica. A percentagem de pessoas com 60 anos e mais de idade vai ultrapassar 40% da população total nas últimas décadas do século 21. Haverá menos pessoas em idade considerada de trabalhar e mais pessoas em idade de se aposentar. Este processo é inevitável e universal.

A **solução para este desafio está no segundo bônus demográfico (bônus da produtividade) e no terceiro bônus demográfico (bônus da longevidade)**. A redução do volume de trabalhadores pode ser compensada por trabalhadores mais produtivos que produzem mais com menos. O aumento do volume de idosos pode ser benéfico se contarmos com o envelhecimento saudável e ativo, pois o grande contingente de pessoas da terceira idade deve ser encarado como um ativo, e não com um passivo.

Os primeiros dados do Censo demográfico de 2022 já estão dando muito o que falar. Mas o grosso das informações ainda será divulgado nos próximos meses. O Brasil teve um Censo muito atribulado. O IBGE fez o melhor possível diante das circunstâncias e é com este Censo que conheceremos o perfil demográfico, social e econômico do país. Políticas públicas mais eficientes e decisões eficazes de investimento da iniciativa privada dependem de uma boa análise dos dados do recém-finalizado recenseamento brasileiro.



O BRASIL E A QUESTÃO MIGRATÓRIA

O número de estrangeiros que vivem no Brasil cresceu no século XXI. Contribui para isso as ações da diplomacia brasileira de acolher migrantes vítimas de catástrofes naturais ou que fogem de guerras. Contudo, o principal fator é a maior visibilidade brasileira ao redor do planeta. País emergente, uma das maiores economias do mundo, que sediou grandes eventos como a Copa do Mundo em 2014 e as Olimpíadas em 2016.

Os maiores contingentes de imigrantes são da Venezuela, do Haiti e da Bolívia. Além dos latino-americanos, desses e de outros países, aumentou também o número de asiáticos e africanos, principalmente de países como Síria, Senegal, Nigéria e Gana, em geral, fugindo de conflitos bélicos nos seus países.

Os **haitianos** vêm para o Brasil fugindo da situação econômica e social precária e da instabilidade política do país, que também é constantemente afetado por desastres naturais. Um dos principais fluxos de haitianos para o Brasil ocorreu a partir de 2010, logo após um grande terremoto devastar o país. Segundo dados da Polícia Federal, aproximadamente 93 mil haitianos entraram em território brasileiro entre 2010 e 2017.

Já o fluxo de **venezuelanos** que chegou ao Brasil foi mais intenso entre os anos de 2015 e 2019, quando o país passou pelo pior momento de sua crise política e socioeconômica, marcada por uma hiperinflação, grave escassez de medicamentos, suprimentos médicos e alimentos, além de uma repressão implacável do governo e taxas extremamente altas de crimes violentos.

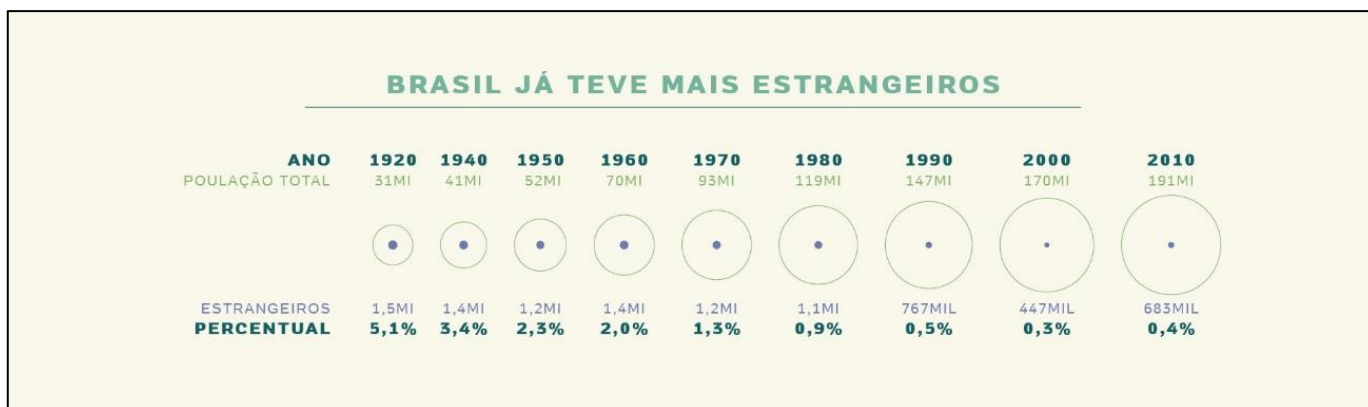
Os venezuelanos entram no Brasil principalmente por Pacaraima, em Roraima. A grande maioria dos que permanecem no Brasil acaba ficando nesse estado, o de menor população, especialmente na sua capital, Boa Vista. Os estados de Roraima e Amazonas enfrentaram surtos de sarampo no ano de 2018. De acordo com o Ministério da Saúde, o surto relacionou-se com a importação de casos, ou seja, de refugiados venezuelanos que entraram no Brasil com o vírus e o transmitiram para brasileiros.

A imigração **boliviana** para o Brasil possui um fluxo mais contínuo se comparado com a dos venezuelanos e haitianos. Não houve um desastre ou evento específico que tenha intensificado essa imigração. As condições socioeconômicas estão na base do fenômeno migratório boliviano. No imaginário da maioria dos bolivianos, o Brasil é um país de oportunidades, com uma população hospitaleira.

Apenas 0,4% de todos os habitantes do Brasil são estrangeiros. Essa é uma proporção bem pequena, principalmente quando comparada com a média mundial dos países em desenvolvimento, que é de 1,7%.

Na Argentina, por exemplo, quase 5% da população não nasceu no país. No Chile (2,7%) e no Paraguai (2,4%), a concentração também é maior. Há mais brasileiros vivendo no exterior do que nascidos no estrangeiro vivendo no país. De acordo com o Ministério das Relações Exteriores (MRE), mais de 3 milhões de brasileiros vivem fora do país - quatro vezes o número de estrangeiros aqui.





Segundo o IBGE (Instituto Brasileiro de Geografia e Estatística), em 1920, 1 em cada 20 pessoas (5%) no país era estrangeira - recorde da nossa história recente. Nessa época, consolidava-se no país a presença de comunidades alemãs e italianas.

O contingente estrangeiro no país foi caindo, ao mesmo tempo em que a população nativa crescia. No Censo 2000, registraram-se 431 mil imigrantes para uma população de 190 milhões de habitantes. A trajetória dessa curva se alterou a partir de 2010, com a chegada de bolivianos, haitianos e, mais recentemente, sírios e venezuelanos - ainda assim, o país se mantém muito abaixo das proporções migratórias vistas ao resto do mundo.

Para Camila Asano, coordenadora da ONG Conectas, o Brasil tem dimensões continentais e condições de receber os migrantes. Se os brasileiros têm dificuldade de acessar serviços básicos, isso é anterior à chegada dessas pessoas. Devem-se aprimorar serviços, para que o atendimento a ninguém, migrante ou brasileiro, seja prejudicado por gestão ineficiente. Isso, de maneira alguma, deve servir de justificativa para criticar a chegada de migrantes.

Lei da migração no Brasil

Aprovada em 2017, a Lei nº 13.445/2017, que ficou conhecida como Nova Lei da Migração, substituiu o Estatuto do Estrangeiro de 1980. A antiga lei adotava uma postura de segurança nacional e de criminalização do estrangeiro.

Principais pontos da lei:

- Paradigma central = proteção de direitos humanos na temática das migrações, como decorrência da proteção constitucional da dignidade da pessoa humana;
- Ao migrante é garantida, assim como aos nacionais, a inviolabilidade do direito à vida, à liberdade, à igualdade, à segurança e à propriedade, assegurando-lhe também os direitos e liberdades civis, sociais, culturais e econômicos;
- Regularização migratória passa a ser a regra;
- Facilita a obtenção de documentos para legalizar a permanência do imigrante no Brasil, bem como o acesso ao mercado de trabalho regular e serviços públicos;
- Os imigrantes não podem mais ser presos por estarem de modo irregular no país;
- Permite aos imigrantes que se manifestem politicamente, associando-se a reuniões políticas e sindicatos;



- Diferente do Estatuto do Estrangeiro, a lei também trata dos brasileiros que vivem no exterior; e
- Repudia expressamente a discriminação e a xenofobia.

Conclusão

Somos um país de 211 milhões de habitantes, com pouquíssimos imigrantes. O Brasil atravessa um difícil momento econômico, político e social. O desemprego atinge milhões de brasileiros. A causa dos nossos graves problemas não está nos imigrantes, tampouco, em alguns milhares de venezuelanos que migraram para o nosso país. É um número ínfimo, muito pequeno, diante do tamanho da nossa população.

Se houvesse vontade política e uma adequada governança do nosso país, a vida do brasileiro estaria bem melhor, bem como a capacidade do país de acolher estrangeiros, especialmente dos que aqui buscam refúgio, como os venezuelanos, sírios e haitianos.



IDH

O **Índice de Desenvolvimento Humano (IDH)** surgiu em 1990, no Primeiro Relatório de Desenvolvimento Humano do Programa das Nações Unidas para o Desenvolvimento (PNUD) da ONU. O índice varia em uma escala de 0 a 1. Quanto mais próximo de 1, mais elevado é o IDH. No ranking, os países são divididos em quatro categorias: nações com índice de desenvolvimento "muito alto" (igual ou acima de 0,800), "alto" (de 0,700 a 0,799), "médio" (de 0,555 a 0,699) e "baixo" (abaixo de 0,555).

O IDH leva em conta três indicadores:

- **Educação (acesso ao conhecimento):** duas taxas são usadas para medir a qualidade da educação de um país. O primeiro é a média de anos de educação de adultos (pessoas com mais de 25 anos de idade). O segundo é a **expectativa de anos de estudo para crianças, no início da vida escolar**.
- **Saúde (vida longa e saudável):** a expectativa de vida ao nascer é utilizada para medir a longevidade da população de um país. Esse número leva em conta todas as mortes precoces que ocorrem no país para chegar a uma expectativa de quantos anos viverá um recém-nascido. Ou seja, tem relação com fatores como as condições de saúde, a taxa de mortalidade infantil e a violência nacionais.
- **Renda (padrão de vida):** o terceiro componente do IDH é determinado pela renda per capita nacional. Para chegar à renda per capita, você deve dividir toda a renda nacional pelo número de habitantes de um país. Para evitar distorções na análise, a renda per capita é medida em **dólar**, considerando ainda a **paridade do poder de compra** (um método que revela quanto a moeda local é capaz de comprar no âmbito internacional, desconsiderando o custo de vida local).

O último relatório do IDH dos países é de 2024, com informações do ano de 2022. Nessa lista, o Brasil está em **89º lugar**, com índice de 0,760. Está classificado como um país de IDH alto. Contudo, o Brasil tem registrado queda no ranking global ao longo dos anos recentes. Em 2019, estava na 79ª posição, com índice 0,766.

De um modo geral, Europa e América do Norte predominam entre os países de desenvolvimento muito alto; países latino-americanos e do leste europeu aparecem na categoria de desenvolvimento alto; países do norte africano e do sudeste asiático predominam entre os de desenvolvimento médio; e boa parte dos países africanos figura entre os países de desenvolvimento baixo.



RESUMO

Organização do Estado brasileiro ou organização político-administrativa do Brasil

Forma de Estado: Federação

Forma de Governo: República

Sistema de Governo: Presidencialismo

Regime de Governo: Democracia

Federação

O sistema federativo foi adotado em nosso país no ano de 1889, com a Proclamação da República, que transformou as então províncias em estados.

A federação tem como característica a **descentralização do poder**. Sendo um país federalista, o Brasil é formado pelos Estados, Municípios e o Distrito Federal; estes, são considerados como **entes federativos** e apresentam território definido por limites territoriais que representam a divisão político-administrativo do Brasil

A **União** é a entidade federativa de maior abrangência no Brasil, representando o Governo Federal.

O Brasil é composto atualmente por **26 Estados** e o **Distrito Federal**, que são a divisão territorial de maior hierarquia.

O Distrito Federal (DF) é um ente federativo com características singulares, atípicas, anômalas e híbridas. Ele foi criado para abrigar a capital do país, Brasília, e possui uma administração compartilhada com a União em alguns aspectos.

Já os **Municípios**, recorte territorial de menor hierarquia no país, são responsáveis pela administração local.

República

Na República, os chefes de Estado e de Governo são eleitos pelo povo ou seus representantes, tendo a sua chefia uma duração limitada.

O Brasil adota o modelo de **república presidencialista**, no qual o presidente é o chefe de governo e o chefe de Estado e comanda o Executivo, que é independente do Legislativo.

Estrutura dos Poderes



O Brasil adota a estrutura de organização dos poderes políticos em três grandes poderes, ideia que foi desenvolvida na época do Iluminismo e foi sistematizada pelo filósofo Montesquieu. Desse modo, o Estado Brasileiro é formado pelos poderes Executivo, Legislativo e Judiciário.

Poder Executivo: A atribuição do Executivo é a de governar o povo e administrar os interesses públicos. Juntamente do Legislativo, participa da elaboração de leis e as executa. O chefe do Poder Executivo em nível federal é o presidente da república. Em nível estadual, são os governadores, e, em nível municipal, são os prefeitos.

Poder Legislativo: A atribuição central do Legislativo é de elaborar e propor as leis que regerão a sociedade. O Poder Legislativo brasileiro é exercido pelo **Congresso Nacional**, composto por duas casas legislativas, por isso, chamado de **bicameral**: o **Senado Federal** e a **Câmara dos Deputados**

Poder Judiciário: O Poder Judiciário tem a capacidade e a prerrogativa de julgar de acordo com as regras constitucionais e leis do país. **Dos três poderes, é o único cujos titulares não são eleitos pela população.**



RESUMO

Censo Demográfico

O Brasil tem **203.062.512 habitantes**, conforme os dados do Censo Demográfico de 2022, realizado pelo IBGE. O número está abaixo das projeções anteriores do Instituto para a população do país, haja vista que a população cresceu bem menos do que se projetava.

Durante o período de 2010 a 2022, o aumento da população brasileira foi de aproximadamente 12 milhões de pessoas, ou 6,5% a mais. A taxa de crescimento anual de 2010 a 2022 foi de **0,52%**, sendo essa a **menor taxa de crescimento já registrada** desde o início da pesquisa, em 1872.

Esses dados mostram que o ritmo de crescimento da população está se desacelerando. A população continua a crescer, mas em um ritmo menor do que nas décadas passadas.

A principal razão para a redução das taxas de crescimento da população é o declínio das **taxas de fecundidade e natalidade**. O número médio de filhos por mulher segue tendência de queda no Brasil ao longo das últimas décadas.

Paralelamente à redução acentuada da natalidade, a **expectativa de vida** do brasileiro vem crescendo, o que reflete a melhoria geral das condições de vida e saúde no país.

A combinação desses dois fatores – redução das taxas de fecundidade somado ao aumento da esperança de vida – tem gerado, como consequência, o **envelhecimento da população brasileira**, isto é, a presença cada vez maior de idosos na população em relação aos jovens e adultos.

A população brasileira está desigualmente distribuída pelo território, com uma concentração de população próxima ao litoral e algumas partes do interior.

Sudeste é a região mais populosa, concentrando **41,8%** da população brasileira. Na sequência, estão o Nordeste (26,9%), Sul (14,7%), Norte (8,5%) e Centro-Oeste (8%). São Paulo é o estado mais populoso.

Entre os anos de 2010 e 2022, o Centro-Oeste foi a região que registrou a maior taxa de crescimento anual. Sudeste e Nordeste, as duas regiões mais populosas, foram as que tiveram a menor taxa de crescimento anual entre 2010 a 2022.

A maior parte da população do país (57% do total) reside em apenas 319 municípios, o que evidencia que **as pessoas estão concentradas em centros urbanos acima de 100 mil habitantes**.



RESUMO

O Brasil e a questão migratória

O número de estrangeiros que vivem no Brasil cresceu no século XXI. Os maiores contingentes de imigrantes são da Venezuela, do Haiti e da Bolívia. Além dos latino-americanos, desses e de outros países, aumentou também o número de asiáticos e africanos, principalmente de países como Síria, Senegal, Nigéria e Gana, em geral, fugindo de conflitos bélicos nos seus países.

Apenas 0,4% de todos os habitantes do Brasil são estrangeiros. Essa é uma proporção bem pequena, principalmente quando comparada com a média mundial dos países em desenvolvimento, que é de 1,7%.

Lei da migração no Brasil: a Lei nº 13.445/2017 substituiu o Estatuto do Estrangeiro de 1980. A antiga lei adotava uma postura de segurança nacional e de criminalização do estrangeiro.

- Paradigma central = proteção de direitos humanos na temática das migrações, como decorrência da proteção constitucional da dignidade da pessoa humana;



RESUMO

IDH

O Índice de Desenvolvimento Humano - IDH surgiu em 1990, no Primeiro Relatório de Desenvolvimento Humano do PNUD/ONU. O índice varia em uma escala de 0 a 1. Quanto mais próximo de 1, mais elevado é o IDH.

O IDH leva em conta três indicadores:

- Educação – acesso ao conhecimento.
- Saúde – vida longa e saudável.
- Renda – padrão de vida.

O último relatório do IDH dos países é de 2024, com informações do ano de 2022. Nessa lista, o Brasil está em **89º lugar**, com índice de 0,760.



QUESTÕES COMENTADAS - ORGANIZAÇÃO DO ESTADO BRASILEIRO - MULTIBANCAS

1. (CEBRASPE/TJ-SC/2023) Tendo em vista que, atualmente, o Brasil é uma República federativa e segue o modelo presidencialista de governo, assinale a opção correta.

a) No presidencialismo existente no Brasil, a nomeação de ministros de Estado depende da aprovação formal do Poder Legislativo.

b) O Poder Legislativo brasileiro segue o modelo estadunidense, razão pela qual é unicameral, ou seja, há apenas uma assembleia geral.

c) A eleição presidencial brasileira é feita por voto direto e universal, mas a aprovação do resultado das urnas necessita do aval de um colégio eleitoral, à maneira da realidade estadunidense.

d) O Poder Executivo brasileiro, no âmbito da União, é exercido pelo presidente da República, auxiliado pelos ministros de Estado; nos estados, pelos governadores; nos municípios, pelos prefeitos.

e) O Poder Judiciário brasileiro, cuja posição mais elevada é ocupada pelo Superior Tribunal de Justiça, é responsável pela elaboração das leis relativas ao direito penal.

COMENTÁRIOS:

a) Incorreta. No sistema presidencialista brasileiro, o presidente da República tem o poder exclusivo de nomear e exonerar ministros de Estado, sem necessidade de aprovação do Poder Legislativo.

b) Incorreta. O Brasil adota um sistema bicameral, ou seja, possui duas casas legislativas: a Câmara dos Deputados e o Senado Federal. O sistema legislativo estadunidense também é bicameral. Porém, há diferenças e particularidades entre os sistemas dos dois países.

c) Incorreta. No Brasil, a eleição presidencial é feita por voto direto e universal. Nos Estados Unidos, os eleitores elegem delegados dos estados, que formam o colégio eleitoral que vai eleger o presidente do país.

d) Correta. No Brasil, o Poder Executivo é exercido pelo presidente da República, auxiliado pelos ministros de Estado, a nível federal; pelos governadores, nos estados; e pelos prefeitos, nos municípios.

e) Incorreta. O Poder Judiciário é responsável pela interpretação das leis e pela aplicação do direito, mas não elabora as leis. A função de legislar é atribuída ao Poder Legislativo, que é composto pelo Congresso Nacional (Câmara dos Deputados e Senado Federal) em nível federal, pelas assembleias legislativas nos estados e pelas câmaras municipais nos municípios. A posição mais elevada no Judiciário é do Supremo Tribunal Federal (STF).

Gabarito: D

2. (CEBRASPE/TJ-SC/2023) Com relação à estrutura política e eleitoral em vigor no Brasil, assinale a opção correta.



- a) O pluripartidarismo foi formalmente suprimido do cenário político brasileiro, restando apenas dois grandes partidos políticos em ação no Brasil.
- b) As eleições de governador de estado sempre acontecem em anos alternados com a eleição de presidente da República.
- c) Prefeitos e vereadores são eleitos por voto indireto.
- d) Os senadores têm mandato de oito anos, enquanto os deputados federais têm mandato de quatro anos.
- e) No Brasil, os analfabetos e as pessoas com mais de setenta anos de idade não têm direito de votar nas eleições.

COMENTÁRIOS:

a) Incorreta. O Brasil é um país com um sistema político caracterizado pelo pluripartidarismo, o que significa que há a presença de diversos partidos políticos ativos no cenário político. No final de 2023, havia 29 partidos políticos registrados no Tribunal Superior Eleitoral (TSE).

b) Incorreta. As eleições para presidente da república e governadores de estado ocorrem no mesmo ano e na mesma data. As eleições para prefeitos ocorrem em anos alternados.

c) Incorreta. Prefeitos e vereadores são eleitos por voto direto da população. Isso significa que os cidadãos elegem diretamente os seus representantes municipais por meio do voto nas urnas, sem a necessidade de intermediação por parte de outros representantes políticos.

d) Correta. No Brasil, os senadores têm mandato de oito anos, enquanto os deputados federais têm mandato de quatro anos. Essa diferença de tempo de mandato visa garantir a renovação gradual do Senado Federal. Em uma eleição, renova-se um terço dos 81 senadores, na eleição subsequente renova-se dois terços das cadeiras.

e) Incorreta. O alistamento eleitoral e o voto são obrigatórios para os maiores de dezoito anos. São facultativos, opcional, para os analfabetos, os maiores de setenta anos e os maiores de dezesseis anos e menores de dezoito anos. Não podem alistar-se como eleitores os estrangeiros e, durante o período do serviço militar obrigatório, os conscritos.

Gabarito: D

3. (MPE-GO/MPE-GO/2022) Sobre a federação na Constituição da República de 1988, assinale a opção correta acerca das seguintes assertivas:

I - A organização político-administrativa da República Federativa do Brasil compreende a União, os Estados, o Distrito Federal e os Municípios, todos autônomos, nos termos da Constituição da República de 1988.

II - Os Territórios Federais integram a União, e sua criação, transformação em Estado ou reintegração ao Estado de origem serão reguladas em lei complementar.

III - Ao Distrito Federal são atribuídas as competências legislativas reservadas aos Estados e Municípios.



- a) Apenas o item I está correto.
- b) Apenas os itens I e II estão corretos.
- c) Apenas os itens II e III estão corretos.
- d) Os itens I, II e III estão corretos.

COMENTÁRIOS:

I - Correto. Transcrição literal do artigo 18 da Constituição Federal de 1988. A organização político-administrativa da República Federativa do Brasil compreende a União, os Estados, o Distrito Federal e os Municípios, todos autônomos, nos termos da Constituição da República de 1988. A autonomia consiste na autonomia política, administrativa, financeira e autogoverno.

II - Correto. Os Territórios Federais integram a União e sua criação, transformação em Estado ou reintegração ao Estado de origem são temas regulados por lei complementar, conforme estabelece a Constituição. Territórios são autarquias da União, descentralizações administrativas-territoriais da União. Não possuem autonomia política. Atualmente não existe nenhum território federal no Estado brasileiro.

III- Correto. O Distrito Federal (DF) não é estado, nem município, e o Distrito Federal, onde está Brasília, a capital federal. Ao Distrito Federal (DF) são atribuídas as competências legislativas reservadas aos Estados e Municípios.

Gabarito: D

4. (QUADRIX/PRODAM-AM/2022) Na República brasileira, o sistema político vigente é o

- a) parlamentarista.
- b) semipresidencialista.
- c) congressista.
- d) presidencialista.
- e) semiparlamentarista.

COMENTÁRIOS:

O sistema político vigente no Brasil é o presidencialista, como aponta a alternativa "D". No sistema presidencialista, o presidente é o chefe de Estado e de governo, acumulando funções executivas e representativas. No parlamentarismo, o presidente é o chefe de Estado, eleito pelo povo e o primeiro-ministro é o chefe de governo, eleito pelo parlamento. No semiparlamentarismo, o presidente e o primeiro-ministro são eleitos pelo povo. Por fim, no semipresidencialismo, o presidente é o chefe de estado. O primeiro-ministro é o chefe de governo, mas é escolhido pelo presidente do país. Desconheço a existência de um sistema congressista. Rsrs.



Gabarito: D

5. (FGV/TRT-PB/2022) Nas eleições deste ano, elegemos nosso futuro Presidente, nossos futuros Governadores de estado, senadores, deputados federais e deputados estaduais. Desses, são representantes do Poder Legislativo

- (A) os governadores e os senadores.
- (B) o Presidente e os senadores.
- (C) os governadores, os deputados e os senadores.
- (D) os senadores, apenas.
- (E) os deputados federais, os deputados estaduais e os senadores.

COMENTÁRIOS:

O caput da questão se refere ao ano de 2022, onde tivemos eleições federais e estaduais. Os representantes do Poder Legislativo no Brasil são os deputados federais, os deputados estaduais e os senadores. O presidente e os governadores, que também foram eleitos em 2022, são representantes do Poder Executivo.

Gabarito: E

6. (QUADRIX/CREMEGO/2022) O Supremo Tribunal Federal (STF) é a mais alta Corte do Poder Judiciário brasileiro.

COMENTÁRIOS:

Também conhecido como Suprema Corte, o Supremo Tribunal Federal é a mais alta instância do Poder Judiciário brasileiro; está no topo da hierarquia entre os tribunais. Desse modo, sendo um tribunal nacional, a sua jurisdição abrange todo o território brasileiro.

Gabarito: Certo

7. (CEBRASPE/PGE-PE/2019 – ANALISTA JUDICIÁRIO) Na qualidade de esteio maior da lei, a justiça protagonizada pela formalidade do Poder Judiciário deve atender aos interesses dos demais poderes da República.

COMENTÁRIOS:

O artigo 2º da Constituição de 1988 prescreve: “São Poderes da União, independentes e harmônicos entre si, o Legislativo, o Executivo e o Judiciário”. O Poder Executivo exerce a função administrativa, o Poder Legislativo, a função legislativa e fiscalizatória, e o Poder Judiciário, a função judicial.

Cada um desses órgãos exerce sua função de maneira predominante, mas não exclusiva. Além do mais, a Constituição prevê uma série de atribuições a cada Poder, de maneira que cada um deles efetue um “controle” sobre as atividades dos outros, “limitando-as”. Esse é um controle recíproco.



O Poder Judiciário julga conflitos com base na lei. As suas decisões até podem atender aos interesses dos demais poderes, em função de decisões proferidas com base na lei. Porém, não é um Poder subordinado aos interesses dos demais poderes. É um poder independente.

Gabarito: Errado



QUESTÕES COMENTADAS – CENSO DEMOGRÁFICO – MULTIBANCAS

1. (FGV/PREFEITURA DE SÃO JOSÉ DOS CAMPOS – SP/2023) Dados do censo 2022 mostram que a população brasileira está envelhecendo.

Isso é um reflexo

- A) da crescente expectativa de vida média e da diminuição da taxa de fecundidade no país.
- B) do aumento da longevidade, garantida pelas recentes reformas trabalhista e previdenciária.
- C) da diminuição da fertilidade feminina, em função do recorrente quadro de epidemia de zika e outras doenças.
- D) do aumento da violência urbana, que vitimiza crianças e adolescentes.
- E) do estreitamento no topo da pirâmide etária, e de um alargamento na base.

COMENTÁRIOS:

A alternativa correta é a letra “A”, pois reflete corretamente as principais causas desse envelhecimento:

- Crescente expectativa de vida média: isso significa que as pessoas estão vivendo mais tempo, o que naturalmente contribui para o aumento da população idosa;
- Diminuição da taxa de fecundidade: o número médio de filhos por mulher tem diminuído ao longo das décadas, o que resulta em menos nascimentos e, conseqüentemente, em uma população mais envelhecida.

Nesse contexto, a pirâmide etária vem passando por um processo de estreitamento da base (crianças e jovens) e de aumento do seu corpo (adultos) e do seu topo (idosos).

O aumento da longevidade (isto é, da expectativa de vida), mencionado na letra “B”, também reflete no envelhecimento da população, mas é preciso considerar a diminuição da taxa de fecundidade nesse processo. Além disso, está incorreto associar o aumento da longevidade às reformas trabalhista e previdenciária. O aumento da longevidade está relacionado, sobretudo, às melhorias nas condições de saúde da população.

É comum se fazer uma confusão sobre as taxas de fecundidade e fertilidade, como se fossem os mesmos conceitos. Isso está errado. A taxa de fecundidade é o número médio de filhos por mulher. A taxa de fertilidade é um indicador relacionado ao número de mulheres em idade fértil no conjunto da população feminina. Conforme o IBGE, as recentes epidemias de zika vírus e covid-19 estão entre os fatores que contribuíram para a diminuição da fecundidade feminina no período de 2010 a 2022.

Gabarito: A



2. (FGV/CÂMARA MUNICIPAL DE TAUBATÉ-SP/2022 – CONTADOR LEGISLATIVO) Em 2022, o Instituto Brasileiro de Geografia e Estatística (IBGE) realiza um novo censo demográfico, para atualizar o retrato do Brasil e embasar novas políticas públicas. Assinale a afirmativa que caracteriza corretamente o censo demográfico brasileiro.

- (A) Informar os dados solicitados na pesquisa é facultativo e pode ser por internet.
- (B) As informações colhidas são abertas e podem ser objeto de certidão.
- (C) O recenseado pode optar em responder o questionário básico ou o ampliado.
- (D) Foram incluídas perguntas sobre orientação sexual e a identidade de gênero
- (E) O recenseador pode perguntar sobre identificação étnico-racial, educação e rendimento do responsável pelo domicílio, entre outros.

COMENTÁRIOS:

a) Incorreto. De acordo com a legislação brasileira, a participação no Censo é obrigatória, sob pena de multa. Todavia, não é obrigatório responder ao questionário de forma presencial, o que pode ser feito por telefone ou pela internet.

b) Incorreto. A legislação assegura o sigilo das informações prestadas, sendo usadas exclusivamente para fins estatísticos. Não podem ser usadas como prova em processo administrativo, fiscal e judicial ou para qualquer outra finalidade.

c) Incorreto. O recenseado não pode escolher o questionário que irá responder. Cerca de 10% dos domicílios recenseados responderão ao questionário da amostra, escolhido de forma aleatória com base em critérios estatísticos.

d) Incorreto. Não foram incluídas no Censo de 2022 perguntas sobre orientação sexual e a identidade de gênero.

e) Correto. Questões sobre identificação étnico-racial, educação e rendimento do responsável pelo domicílio estão presentes no Censo.

Gabarito: E

3. (IBADE/IBGE/2020 - AGENTE CENSITÁRIO/ADAPTADA) É correto afirmar que em 2022, o IBGE realizará:

- a) XIII Censo Demográfico, que será um “retrato de corpo inteiro” do País.
- b) X Censo Demográfico, que será um “retrato de corpo inteiro” do País.
- c) XIII Censo Demográfico, que será uma “parte do retrato” do País.
- d) X Censo Demográfico, que será uma “parte do retrato” do País.



e) X Censo Demográfico, que será uma “parte do retrato dos estados” do País.

COMENTÁRIOS:

Em 2022, o IBGE realizará o XIII Censo Demográfico, que será um “retrato de corpo inteiro” do País.

Gabarito: A

4. (IBADE/IBGE/2020 - RECENSEADOR) Em relação ao Censo Demográfico realizado pelo IBGE, é correto afirmar que:

- a) é a principal fonte de dados sobre a situação de vida da população nos municípios e localidades.
- b) a última coleta do Censo Demográfico no Brasil ocorreu no ano de 2000.
- c) é a operação realizada a cada 5 anos para contar a população e obter informações sobre as principais características dos habitantes e de seus domicílios.
- d) os dados do IBGE não podem ser utilizados para a definição de políticas públicas em nível municipal.
- e) dados sobre a distribuição territorial no país e a evolução de seu quantitativo ao longo do tempo não são coletados pelo Censo Demográfico IBGE.

COMENTÁRIOS:

- a) **Correta.** O Censo Demográfico é a principal fonte de dados sobre a situação de vida da população nos municípios e localidades.
- b) **Incorreta.** A última coleta do Censo Demográfico no Brasil ocorreu no ano de 2010.
- c) **Incorreta.** O Censo Demográfico é a operação realizada a cada 10 anos para contar a população e obter informações sobre as principais características dos habitantes e de seus domicílios.
- d) **Incorreta.** Os dados do IBGE podem ser utilizados para a definição de políticas públicas nas três esferas de governo, Federal, Estadual e Municipal.
- e) **Incorreta.** Os dados sobre a distribuição territorial no país e a evolução de seu quantitativo ao longo do tempo **são** coletados pelo Censo Demográfico.

Gabarito: A

(QUADRIX/CRO-AC/2019 - ASSISTENTE JURÍDICO/ADAPTADA) São muitas as razões para que o Censo Demográfico em 2022 retrate, com a maior fidelidade possível, a realidade do País e de sua população. Trata-se de um investimento indispensável para que se possa fazer frente aos enormes desafios que teremos nos próximos dez anos.

Internet: <<https://brasil.elpais.com>> (com adaptações).



Tendo o texto acima apenas como referência inicial, julgue os itens.

5. Em abril de 2019, o Instituto Brasileiro de Geografia e Estatística (IBGE) anunciou uma redução de 25% dos gastos previstos com a realização do Censo Demográfico.

COMENTÁRIOS:

A difícil situação fiscal pela qual o Brasil passa nos últimos anos fez com que o Governo Federal desenvolvesse uma política de redução de gastos em muitos setores do país. Um dos cortes feitos foi no Censo Demográfico de 2021, com uma redução de 25% dos gastos previstos.

O questionário básico, que será aplicado em todos os 71 milhões de domicílios brasileiros, terá 26 perguntas, e não mais 34, como na última pesquisa realizada em 2010.

Já o questionário mais completo, destinado a uma amostra de 10% das residências do País, teve uma redução de 102 perguntas para 77.

Com a diminuição no número de perguntas do questionário, os gastos com a realização da pesquisa passam dos R\$ 3,1 bilhões previstos para R\$ 2,3 bilhões.

Entre os temas que não estarão mais presentes no Censo 2022 estão perguntas envolvendo a emigração internacional, renda e aluguel.

Gabarito: Certo

6. O IBGE, que realiza o Censo, determinou a redução do número de perguntas para 2022, visando a aumentar a produtividade e a agilizar a pesquisa.

COMENTÁRIOS:

Devido à falta de recursos financeiros, o IBGE reduziu o número de quesitos que serão investigados no Censo Demográfico 2022. O questionário básico terá 26 perguntas, e não mais 34 como na última pesquisa, realizada em 2010. O questionário da amostra, terá 77 quesitos, em vez dos 102 quesitos do censo anterior. Com isso, a coleta de informações de cada questionário levará menos tempo e a produtividade por recenseador aumentará. A presidente do IBGE, Susana Cordeiro Guerra, diz que a redução da pesquisa está em sintonia com a tendência internacional e visa a uma modernização que torne a operação mais simples e ágil.

Gabarito: Certo

7. As mudanças a serem implementadas no Censo 2022 motivaram críticas de diversos especialistas; argumentam eles que a falta de informações mais detalhadas prejudicaria as políticas públicas.

COMENTÁRIOS:

As mudanças a serem implementadas no Censo 2022 motivaram críticas de diversos especialistas. Algumas das críticas vieram do Ministério Público, que publicou um ofício pedindo explicações sobre os cortes, e



também de cinco ex-presidentes do Instituto Brasileiro de Geografia e Estatística (IBGE), que divulgaram uma carta aberta contra os cortes orçamentários e as alternativas propostas para a realização do Censo 2022.

O Censo Demográfico constitui a principal fonte de referência para o conhecimento das condições de vida da população brasileira. O levantamento subsidia o planejamento e a execução de políticas públicas em áreas como educação, saúde e habitação, além de permitir avaliar a abrangência dessas iniciativas.

Gabarito: Certo

8. O Censo 2022 será aplicado entre agosto e outubro do ano que vem, visitando todas as residências brasileiras e compondo a Pesquisa Nacional por Amostra de Domicílios (PNAD).

COMENTÁRIOS:

O Censo 2022 será aplicado entre os meses de agosto a outubro de 2021, visitando todas as residências.

A Pesquisa Nacional por Amostra de Domicílios (PNAD) é uma outra pesquisa, diferente do Censo Demográfico. Ela era realizada nos domicílios brasileiros para apurar características gerais da população, tendo como unidade de investigação o domicílio. Não é feita em todos os domicílios, como o Censo, mas por meio de uma amostragem estatística.

A PNAD foi encerrada em 2016 e substituída, com metodologia atualizada, pela Pesquisa Nacional por Amostra de Domicílios Contínua – PNAD Contínua. Essa busca acompanhar as flutuações trimestrais e a evolução, no curto, médio e longo prazos, da força de trabalho, e outras informações necessárias para o estudo do desenvolvimento socioeconômico do País.

Gabarito: Errado



QUESTÕES COMENTADAS – O BRASIL E A QUESTÃO MIGRATÓRIA - MULTIBANCAS

(CEBRASPE/CBM-AL/2021 – SOLDADO) Embora as manchetes dos jornais possam indicar outra coisa, somente 3% dos mais de 7 bilhões de habitantes do planeta são migrantes internacionais, isto é, pessoas que vivem fora do país onde nasceram. Vivemos em uma época na qual a proporção de pessoas ricas (e idosas) é cada vez menor em contraposição a uma presença cada vez maior de pessoas pobres (e jovens). As pressões migratórias crescem sem parar em consequência das desigualdades internacionais e de conflitos insolúveis, e os países mais desenvolvidos se veem diante de uma encruzilhada decisiva em termos demográficos e de trabalho.

Internet: (com adaptações).

Acerca do atual processo migratório em escala mundial, julgue os próximos itens.

1. O relevante número de imigrantes latinos que entram ilegalmente no Brasil tem relação direta com a porosidade das fronteiras brasileiras e com a proximidade geográfica com os países de origem desses imigrantes.

COMENTÁRIOS:

O Brasil é um país que recebe muitos imigrantes latinos, devido à proximidade geográfica dos países de origem e também por apresentar, no geral, melhores condições socioeconômicas que outras nações da região.

A imigração ilegal é favorecida pela porosidade das fronteiras. Esse é um termo derivado de poros, ou seja, de buracos. O fato de apresentar uma extensa faixa de fronteira, com grandes áreas compostas por densas florestas e cursos d'água, faz com que existam muitos "poros", buracos na fiscalização de fronteira, facilitando a entrada ilegal no país.

Gabarito: Certo

2. Parte dos refugiados chegados ao Brasil possui qualificação profissional, mas, mesmo assim, enfrenta problemas para encaixe no mercado de trabalho.

COMENTÁRIOS:

O Brasil registrou nos últimos anos um aumento histórico no número de solicitações de refúgio. Entretanto, esse aumento não foi acompanhado pela oferta de vagas de trabalho. Das dificuldades com a língua portuguesa à falta de informação das empresas, são muitos os obstáculos enfrentados.

Apesar da boa qualificação, refugiados acabam em desvantagem em processos seletivos formais, pois muitas empresas acreditam que o processo de contratação de um estrangeiro é mais burocrático, mais caro e mais demorado em relação à contratação de um brasileiro.



Mesmo com informação de fácil acesso, algumas empresas ainda acreditam que possa haver alguma ilegalidade na contratação de refugiados, passível de causar problemas com Ministério do Trabalho ou mesmo com a Polícia Federal.

Aliado à desinformação, o preconceito também é um fator determinante. Refugiados são muitas vezes associados a imigrantes ilegais ou a fugitivos.

Gabarito: Certo

3. (CESGRANRIO/BASA/2021 – TÉCNICO CIENTÍFICO) Das 140.774 pessoas em situação de deslocamento forçado registradas no sistema do Acnur (Alto Comissariado da ONU para Refugiados) no Brasil, 95% são da Venezuela. Destas, 46,7% são mulheres, das quais 31% são menores de idade e 3%, idosas. Segundo Rosana Baeninger, pesquisadora da Unicamp, é possível notar a presença significativa de mulheres em todas as fases da migração da Venezuela para o Brasil. A partir de 2018, com a piora da crise humanitária na Venezuela, intensifica-se a chegada de imigrantes de renda mais baixa pela fronteira amazônica. “É uma migração absolutamente familiar, e a presença feminina é muito vinculada a isso”, afirma a pesquisadora. Nessa fase, trata-se de uma migração fortemente dirigida pelo Estado e por ONGs, por meio da Operação Acolhida.

MANTOVANI, F. Diário de uma Refugiada. Jornal Folha de São Paulo, Mundo, 13 dez. 2020, p. A13. Adaptado.

A respeito da migração internacional, na fase mais recente do deslocamento venezuelano para o Brasil, as imigrantes chegam, majoritariamente, por via terrestre ao seguinte estado:

- (A) Roraima
- (B) Rondônia
- (C) Amazonas
- (D) Mato Grosso
- (E) Mato Grosso do Sul

COMENTÁRIOS:

Em decorrência da crise política, econômica e social pela qual passa, milhões de venezuelanos saíram do seu país, migrando para outros países da América Latina e do mundo, entre eles o Brasil, que faz fronteira com a Venezuela na região Norte. Os venezuelanos que migram para o Brasil chegam, em sua quase totalidade, por via terrestre, pelo estado fronteiro de Roraima, sobretudo, pela cidade de Pacaraima.

Gabarito: A

4. (IBADE/PREFEITURA DE VILA VELHA/2020 – ANALISTA AMBIENTAL) Desde 2015, após o presidente Nicolás Maduro perder as eleições parlamentares, parte da população venezuelana começou a emigrar em maiores números para alguns países da América Latina. Segundo o FGV DAPP, em Roraima, na fronteira do Brasil com a Venezuela, o município de _____, tem recebido grande parte deste fluxo, em



meio ao surgimento de conflitos sociais. Complete a lacuna marcando a alternativa que informe, corretamente, o nome desse município brasileiro.

- (A) Caracara.
- (B) Pacaraima.
- (C) Uiramutã.
- (D) Alto Alegre.
- (E) Amajari.

COMENTÁRIOS:

Devido à grave crise política, econômica e social, um grande contingente de venezuelanos tem deixado o país desde 2015, migrando para outros países da América Latina e de outros continentes. Os venezuelanos entram no país principalmente por Pacaraima, em Roraima, na fronteira com a Venezuela. A grande maioria dos que permanecem no Brasil acaba ficando nesse estado, o de menor população, especialmente na sua capital, Boa Vista.

Gabarito: B

5. (IDECAN/IPC/2018 - PROCURADOR PREVIDENCIÁRIO)

Fuga da fome: como a chegada de 40 mil venezuelanos transformou a cidade

Nas contas da prefeitura, imigrantes representam mais de 10% da população da cidade. O reflexo se vê nas ruas: praças ocupadas, abrigos lotados e casas com até 31 moradores. Fluxo migratório começou em 2015, bateu recordes em 2017 e está aumentando em 2018.

<https://g1.globo.com>
05/02/2018 08h24 Atualizado 06/02/2018

A manchete acima denuncia um grave problema social que tomou conta de uma capital brasileira que vem sofrendo com o intenso fluxo de imigrantes venezuelanos. As cenas da chegada de centenas, até milhares de venezuelanos desempregados, famintos e desesperados se tornaram frequentes na cidade que recebe um número crescente de imigrantes. Já são 40 mil, segundo as contas da Prefeitura, o que equivale a mais de 10% dos cerca de 330 mil habitantes da capital do estado com menor índice populacional do Brasil. A cidade a qual estamos nos referindo é:

- a) Rio Branco.
- b) Boa Vista.
- c) Manaus.



d) Belém.

COMENTÁRIOS:

A cidade a que o enunciado se refere é Boa Vista, capital do estado de Roraima. O estado tem sido a principal porta de entrada, no Brasil, para os venezuelanos que fogem da crise econômica, social e política do seu país.

Gabarito: B

6. (CESGRANRIO/LIQUIGÁS/2018 – CARGOS DE NÍVEL SUPERIOR) Considere o texto que aborda a imigração no Brasil contemporâneo.

Os venezuelanos chegam ao Brasil fugindo da crise econômica intensa instalada no país vizinho. De 2015 a junho deste ano, 56,7 mil venezuelanos procuraram a Polícia Federal. Nesse período, 35,5 mil pediram refúgio e 11,1 mil solicitaram residência no Brasil. Em abril, o governo deu início a um processo de distribuição de imigrantes venezuelanos concentrados na Amazônia para outras unidades da federação, no chamado processo de interiorização.

Metade dos imigrantes da Venezuela já deixou o Brasil, Jornal do Brasil, Nacional, 18 jul. 2018, p.4. Adaptado.

Essa chegada de imigrantes venezuelanos ao Brasil ocorre pelo seguinte estado:

- a) Pará.
- b) Amapá.
- c) Roraima.
- d) Rondônia.
- e) Amazonas.

COMENTÁRIOS:

A chegada dos venezuelanos se dá pelo estado de Roraima.

Gabarito: C



QUESTÕES COMENTADAS – IDH - MULTIBANCAS

1. (FCC/AFAP/2019 - ASSISTENTE ADMINISTRATIVO) Criado pelo Programa das Nações Unidas para o Desenvolvimento (PNUD), o Índice de Desenvolvimento Humano (IDH) é atualizado anualmente, visando permitir o conhecimento sobre as condições de vida das nações avaliadas. Este índice possui uma variação de 0 até 1, sendo que quanto mais próximo for de 1 a avaliação do país, melhor classificado ele será no IDH, ou seja, melhores condições de vida aquela população terá.

Analise o IDH do Brasil mostrado na tabela abaixo.

Ano	Posição no mundo	IDH
2015	79ª	0,754
2016	79ª	0,758
2017	79ª	0,759
2018	79ª	0,759

(PNUD)

Os dados apresentados e os conhecimentos sobre o contexto socioeconômico brasileiro indicam

- a) os elevados déficits em setores de importância socioeconômica, como é o caso da Previdência.
- b) que, atualmente, o país tem apresentado significativa redução das desigualdades sociais.
- c) que as condições de vida da população brasileira tiveram reduzida evolução.
- d) o esforço do governo para manter políticas públicas destinadas às crianças e jovens.
- e) a posição do Brasil como o país de maior IDH da América do Sul, superando a Argentina.

COMENTÁRIOS:

O IDH leva em conta três indicadores: educação (**acesso ao conhecimento**), saúde (**vida longa e saudável**) e renda (**padrão de vida**). A tabela mostra que o indicador teve um crescimento muito pequeno entre 2014 e 2018, de 0,005 e a posição do Brasil permaneceu a mesma no ranking do IDH dos países, 79ª posição. O Brasil não galgou nenhuma posição. Assim, os dados apresentados demonstram que as condições de vida da população brasileira tiveram uma reduzida evolução.

As outras alternativas estão **incorretas**, pois o IDH não analisa a situação fiscal dos governos, não mede as desigualdades sociais, que são medidas pelo Índice de Gini e não analisa políticas públicas destinadas às crianças e jovens.



O IDH é um indicador de desenvolvimento humano. Chile, Argentina e Uruguai são os países com os maiores IDHs da América do Sul.

Gabarito: C

2. (FGV/COMPESA/2018 – ANALISTA DE GESTÃO) O Índice de Desenvolvimento Humano (IDH) foi concebido para superar uma abordagem meramente econômica de desenvolvimento, baseada na renda nacional. Assinale a opção que apresenta os critérios que são adotados para estabelecer o IDH.

- a) A taxa de desemprego, os investimentos em pesquisa e a média de anos de educação de adultos.
- b) A expectativa de vida, o acesso ao conhecimento e a renda medida em paridade com o poder de compra.
- c) A longevidade com saúde, a taxa de alfabetização e o produto interno bruto per capita.
- d) A esperança de vida ao nascer, a matrícula escolar nos três níveis do ensino e o índice de empregabilidade.
- e) O percentual da população economicamente ativa, o rendimento médio por gênero e o grau de desigualdade social.

COMENTÁRIOS:

As três variáveis utilizadas no cálculo do IDH são:

Educação (acesso ao conhecimento) - Duas taxas são usadas para medir a qualidade da educação de um país. O primeiro é a média de anos de educação de adultos (pessoas com mais de 25 anos de idade). O segundo é a **expectativa de anos de estudo para crianças**.

Saúde (longevidade) - A **expectativa de vida ao nascer** é utilizada para medir a longevidade da população de um país.

Renda - É determinado pela renda per capita nacional, medida em **dólar**, considerando ainda a **paridade do poder de compra** (um método que revela quanto a moeda local é capaz de comprar no âmbito internacional, desconsiderando o custo de vida local).

Se levarmos ao pé da letra, acesso ao conhecimento é diferente de nível de instrução. Entretanto, a banca utilizou essa palavra e a considerou **correta**.

Gabarito: B



LISTAS DE QUESTÕES - ORGANIZAÇÃO DO ESTADO BRASILEIRO - MULTIBANCAS

1. (CEBRASPE/TJ-SC/2023) Tendo em vista que, atualmente, o Brasil é uma República federativa e segue o modelo presidencialista de governo, assinale a opção correta.

- a) No presidencialismo existente no Brasil, a nomeação de ministros de Estado depende da aprovação formal do Poder Legislativo.
- b) O Poder Legislativo brasileiro segue o modelo estadunidense, razão pela qual é unicameral, ou seja, há apenas uma assembleia geral.
- c) A eleição presidencial brasileira é feita por voto direto e universal, mas a aprovação do resultado das urnas necessita do aval de um colégio eleitoral, à maneira da realidade estadunidense.
- d) O Poder Executivo brasileiro, no âmbito da União, é exercido pelo presidente da República, auxiliado pelos ministros de Estado; nos estados, pelos governadores; nos municípios, pelos prefeitos.
- e) O Poder Judiciário brasileiro, cuja posição mais elevada é ocupada pelo Superior Tribunal de Justiça, é responsável pela elaboração das leis relativas ao direito penal.

2. (CEBRASPE/TJ-SC/2023) Com relação à estrutura política e eleitoral em vigor no Brasil, assinale a opção correta.

- a) O pluripartidarismo foi formalmente suprimido do cenário político brasileiro, restando apenas dois grandes partidos políticos em ação no Brasil.
- b) As eleições de governador de estado sempre acontecem em anos alternados com a eleição de presidente da República.
- c) Prefeitos e vereadores são eleitos por voto indireto.
- d) Os senadores têm mandato de oito anos, enquanto os deputados federais têm mandato de quatro anos.
- e) No Brasil, os analfabetos e as pessoas com mais de setenta anos de idade não têm direito de votar nas eleições.

3. (MPE-GO/MPE-GO/2022) Sobre a federação na Constituição da República de 1988, assinale a opção correta acerca das seguintes assertivas:

I - A organização político-administrativa da República Federativa do Brasil compreende a União, os Estados, o Distrito Federal e os Municípios, todos autônomos, nos termos da Constituição da República de 1988.

II - Os Territórios Federais integram a União, e sua criação, transformação em Estado ou reintegração ao Estado de origem serão reguladas em lei complementar.



III - Ao Distrito Federal são atribuídas as competências legislativas reservadas aos Estados e Municípios.

- a) Apenas o item I está correto.
- b) Apenas os itens I e II estão corretos.
- c) Apenas os itens II e III estão corretos.
- d) Os itens I, II e III estão corretos.

4. (QUADRIX/PRODAM-AM/2022) Na República brasileira, o sistema político vigente é o

- a) parlamentarista.
- b) semipresidencialista.
- c) congressista.
- d) presidencialista.
- e) semiparlamentarista.

5. (FGV/TRT-PB/2022) Nas eleições deste ano, elegemos nosso futuro Presidente, nossos futuros Governadores de estado, senadores, deputados federais e deputados estaduais. Desses, são representantes do Poder Legislativo

- (A) os governadores e os senadores.
- (B) o Presidente e os senadores.
- (C) os governadores, os deputados e os senadores.
- (D) os senadores, apenas.
- (E) os deputados federais, os deputados estaduais e os senadores.

6. (QUADRIX/CREMEGO/2022) O Supremo Tribunal Federal (STF) é a mais alta Corte do Poder Judiciário brasileiro.

7. (CEBRASPE/PGE-PE/2019 – ANALISTA JUDICIÁRIO) Na qualidade de esteio maior da lei, a justiça protagonizada pela formalidade do Poder Judiciário deve atender aos interesses dos demais poderes da República.



GABARITO



1. D
2. D
3. D
4. D
5. E
6. C
7. E



LISTA DE QUESTÕES – CENSO DEMOGRÁFICO – MULTIBANCAS

1. (FGV/PREFEITURA DE SÃO JOSÉ DOS CAMPOS – SP/2023) Dados do censo 2022 mostram que a população brasileira está envelhecendo.

Isso é um reflexo

- A) da crescente expectativa de vida média e da diminuição da taxa de fecundidade no país.
- B) do aumento da longevidade, garantida pelas recentes reformas trabalhista e previdenciária.
- C) da diminuição da fertilidade feminina, em função do recorrente quadro de epidemia de zika e outras doenças.
- D) do aumento da violência urbana, que vitimiza crianças e adolescentes.
- E) do estreitamento no topo da pirâmide etária, e de um alargamento na base.

2. (FGV/CÂMARA MUNICIPAL DE TAUBATÉ-SP/2022 – CONTADOR LEGISLATIVO) Em 2022, o Instituto Brasileiro de Geografia e Estatística (IBGE) realiza um novo censo demográfico, para atualizar o retrato do Brasil e embasar novas políticas públicas. Assinale a afirmativa que caracteriza corretamente o censo demográfico brasileiro.

- (A) Informar os dados solicitados na pesquisa é facultativo e pode ser por internet.
- (B) As informações colhidas são abertas e podem ser objeto de certidão.
- (C) O recenseado pode optar em responder o questionário básico ou o ampliado.
- (D) Foram incluídas perguntas sobre orientação sexual e a identidade de gênero
- (E) O recenseador pode perguntar sobre identificação étnico-racial, educação e rendimento do responsável pelo domicílio, entre outros.

3. (IBADE/IBGE/2020 - AGENTE CENSITÁRIO/ADAPTADA) É correto afirmar que em 2022, o IBGE realizará:

- a) XIII Censo Demográfico, que será um “retrato de corpo inteiro” do País.
- b) X Censo Demográfico, que será um “retrato de corpo inteiro” do País.
- c) XIII Censo Demográfico, que será uma “parte do retrato” do País.
- d) X Censo Demográfico, que será uma “parte do retrato” do País.



e) X Censo Demográfico, que será uma “parte do retrato dos estados” do País.

4. (IBADE/IBGE/2020 - RECENSEADOR) Em relação ao Censo Demográfico realizado pelo IBGE, é correto afirmar que:

a) é a principal fonte de dados sobre a situação de vida da população nos municípios e localidades.

b) a última coleta do Censo Demográfico no Brasil ocorreu no ano de 2000.

c) é a operação realizada a cada 5 anos para contar a população e obter informações sobre as principais características dos habitantes e de seus domicílios.

d) os dados do IBGE não podem ser utilizados para a definição de políticas públicas em nível municipal.

e) dados sobre a distribuição territorial no país e a evolução de seu quantitativo ao longo do tempo não são coletados pelo Censo Demográfico IBGE.

(QUADRIX/CRO-AC/2019 - ASSISTENTE JURÍDICO/ADAPTADA) São muitas as razões para que o Censo Demográfico em 2022 retrate, com a maior fidelidade possível, a realidade do País e de sua população. Trata-se de um investimento indispensável para que se possa fazer frente aos enormes desafios que teremos nos próximos dez anos.

Internet: <<https://brasil.elpais.com>> (com adaptações).

Tendo o texto acima apenas como referência inicial, julgue os itens.

5. Em abril de 2019, o Instituto Brasileiro de Geografia e Estatística (IBGE) anunciou uma redução de 25% dos gastos previstos com a realização do Censo Demográfico.

6. O IBGE, que realiza o Censo, determinou a redução do número de perguntas para 2022, visando a aumentar a produtividade e a agilizar a pesquisa.

7. As mudanças a serem implementadas no Censo 2022 motivaram críticas de diversos especialistas; argumentam eles que a falta de informações mais detalhadas prejudicaria as políticas públicas.

8. O Censo 2022 será aplicado entre agosto e outubro do ano que vem, visitando todas as residências brasileiras e compondo a Pesquisa Nacional por Amostra de Domicílios (PNAD).



1. A
2. E
3. A

4. A
5. C
6. C

7. C
8. E



LISTA DE QUESTÕES – O BRASIL E A QUESTÃO MIGRATÓRIA – MULTIBANCAS

(CEBRASPE/CBM-AL/2021 – SOLDADO) Embora as manchetes dos jornais possam indicar outra coisa, somente 3% dos mais de 7 bilhões de habitantes do planeta são migrantes internacionais, isto é, pessoas que vivem fora do país onde nasceram. Vivemos em uma época na qual a proporção de pessoas ricas (e idosas) é cada vez menor em contraposição a uma presença cada vez maior de pessoas pobres (e jovens). As pressões migratórias crescem sem parar em consequência das desigualdades internacionais e de conflitos insolúveis, e os países mais desenvolvidos se veem diante de uma encruzilhada decisiva em termos demográficos e de trabalho.

Internet: (com adaptações).

Acerca do atual processo migratório em escala mundial, julgue os próximos itens.

1. O relevante número de imigrantes latinos que entram ilegalmente no Brasil tem relação direta com a porosidade das fronteiras brasileiras e com a proximidade geográfica com os países de origem desses imigrantes.
2. Parte dos refugiados chegados ao Brasil possui qualificação profissional, mas, mesmo assim, enfrenta problemas para encaixe no mercado de trabalho.
3. (CESGRANRIO/BASA/2021 – TÉCNICO CIENTÍFICO) Das 140.774 pessoas em situação de deslocamento forçado registradas no sistema do Acnur (Alto Comissariado da ONU para Refugiados) no Brasil, 95% são da Venezuela. Destas, 46,7% são mulheres, das quais 31% são menores de idade e 3%, idosas. Segundo Rosana Baeninger, pesquisadora da Unicamp, é possível notar a presença significativa de mulheres em todas as fases da migração da Venezuela para o Brasil. A partir de 2018, com a piora da crise humanitária na Venezuela, intensifica-se a chegada de imigrantes de renda mais baixa pela fronteira amazônica. “É uma migração absolutamente familiar, e a presença feminina é muito vinculada a isso”, afirma a pesquisadora. Nessa fase, trata-se de uma migração fortemente dirigida pelo Estado e por ONGs, por meio da Operação Acolhida.

MANTOVANI, F. Diário de uma Refugiada. Jornal Folha de São Paulo, Mundo, 13 dez. 2020, p. A13. Adaptado.

A respeito da migração internacional, na fase mais recente do deslocamento venezuelano para o Brasil, as imigrantes chegam, majoritariamente, por via terrestre ao seguinte estado:

- (A) Roraima
- (B) Rondônia
- (C) Amazonas
- (D) Mato Grosso
- (E) Mato Grosso do Sul



4. (IBADE/PREFEITURA DE VILA VELHA/2020 – ANALISTA AMBIENTAL) Desde 2015, após o presidente Nicolás Maduro perder as eleições parlamentares, parte da população venezuelana começou a emigrar em maiores números para alguns países da América Latina. Segundo o FGV DAPP, em Roraima, na fronteira do Brasil com a Venezuela, o município de _____, tem recebido grande parte deste fluxo, em meio ao surgimento de conflitos sociais. Complete a lacuna marcando a alternativa que informe, corretamente, o nome desse município brasileiro.

- (A) Caracara.
- (B) Pacaraima.
- (C) Uiramutã.
- (D) Alto Alegre.
- (E) Amajari.

5. (IDECAN/IPC/2018 - PROCURADOR PREVIDENCIÁRIO)



A manchete acima denuncia um grave problema social que tomou conta de uma capital brasileira que vem sofrendo com o intenso fluxo de imigrantes venezuelanos. As cenas da chegada de centenas, até milhares de venezuelanos desempregados, famintos e desesperados se tornaram frequentes na cidade que recebe um número crescente de imigrantes. Já são 40 mil, segundo as contas da Prefeitura, o que equivale a mais de 10% dos cerca de 330 mil habitantes da capital do estado com menor índice populacional do Brasil. A cidade a qual estamos nos referindo é:

- a) Rio Branco.
- b) Boa Vista.
- c) Manaus.
- d) Belém.

6. (CESGRANRIO/LIQUIGÁS/2018 – CARGOS DE NÍVEL SUPERIOR) Considere o texto que aborda a imigração no Brasil contemporâneo.



Os venezuelanos chegam ao Brasil fugindo da crise econômica intensa instalada no país vizinho. De 2015 a junho deste ano, 56,7 mil venezuelanos procuraram a Polícia Federal. Nesse período, 35,5 mil pediram refúgio e 11,1 mil solicitaram residência no Brasil. Em abril, o governo deu início a um processo de distribuição de imigrantes venezuelanos concentrados na Amazônia para outras unidades da federação, no chamado processo de interiorização.

Metade dos imigrantes da Venezuela já deixou o Brasil, Jornal do Brasil, Nacional, 18 jul. 2018, p.4. Adaptado.

Essa chegada de imigrantes venezuelanos ao Brasil ocorre pelo seguinte estado:

- a) Pará.
- b) Amapá.
- c) Roraima.
- d) Rondônia.
- e) Amazonas.



1. C
2. C

3. A
4. B

5. B
6. C



LISTA DE QUESTÕES – IDH - MULTIBANCAS

1. (FCC/AFAP/2019 - ASSISTENTE ADMINISTRATIVO) Criado pelo Programa das Nações Unidas para o Desenvolvimento (PNUD), o Índice de Desenvolvimento Humano (IDH) é atualizado anualmente, visando permitir o conhecimento sobre as condições de vida das nações avaliadas. Este índice possui uma variação de 0 até 1, sendo que quanto mais próximo for de 1 a avaliação do país, melhor classificado ele será no IDH, ou seja, melhores condições de vida aquela população terá.

Analise o IDH do Brasil mostrado na tabela abaixo.

Ano	Posição no mundo	IDH
2015	79ª	0,754
2016	79ª	0,758
2017	79ª	0,759
2018	79ª	0,759

(PNUD)

Os dados apresentados e os conhecimentos sobre o contexto socioeconômico brasileiro indicam

- a) os elevados déficits em setores de importância socioeconômica, como é o caso da Previdência.
- b) que, atualmente, o país tem apresentado significativa redução das desigualdades sociais.
- c) que as condições de vida da população brasileira tiveram reduzida evolução.
- d) o esforço do governo para manter políticas públicas destinadas às crianças e jovens.
- e) a posição do Brasil como o país de maior IDH da América do Sul, superando a Argentina.

2. (FGV/COMPESA/2018 – ANALISTA DE GESTÃO) O Índice de Desenvolvimento Humano (IDH) foi concebido para superar uma abordagem meramente econômica de desenvolvimento, baseada na renda nacional. Assinale a opção que apresenta os critérios que são adotados para estabelecer o IDH.

- a) A taxa de desemprego, os investimentos em pesquisa e a média de anos de educação de adultos.
- b) A expectativa de vida, o acesso ao conhecimento e a renda medida em paridade com o poder de compra.
- c) A longevidade com saúde, a taxa de alfabetização e o produto interno bruto per capita.



d) A esperança de vida ao nascer, a matrícula escolar nos três níveis do ensino e o índice de empregabilidade.

e) O percentual da população economicamente ativa, o rendimento médio por gênero e o grau de desigualdade social.



1. C
2. B



DOENÇAS INFECCIOSAS NO BRASIL

O Brasil ainda convive com doenças infecciosas transmitidas por microrganismos patogênicos, como vírus, bactérias, fungos e parasitas. Essas doenças podem ser contagiosas, transmitidas diretamente de uma pessoa para outra (como a gripe, a tuberculose e a aids) ou transmitidas por vetores, como mosquitos (dengue e febre amarela, por exemplo).

Essas doenças transmissíveis são potencialmente perigosas de tornarem-se epidêmicas (quando um surto acontece em várias regiões) em um mundo com centros urbanos cada vez mais densamente povoados, como é o caso do nosso país.

Nos últimos anos, convivemos ora com a dengue, no outro ano é a Chikungunya, depois o Zika vírus, a febre amarela, o sarampo e o coronavírus.

Na atualidade, a **dengue** é o mais recente grande surto de uma doença infecciosa no Brasil.

Vejamos agora, um pouco mais de cada uma delas.

Dengue

A dengue é uma velha conhecida dos brasileiros. É uma doença cíclica no país, que, ao longo dos anos recentes, tem apresentado ondas de aumento e diminuição. Em 2023, foram registrados 1.094 em decorrência da doença, o maior número de óbitos da série histórica iniciada em 2000. São Paulo foi o estado com mais mortes por dengue de janeiro a dezembro do ano passado. Ao todo, foram 286 óbitos. Conforme os números da base, apenas três estados do país não registraram mortes por dengue ao longo do ano passado: Acre, Amapá e Roraima — todos da região Norte.

Períodos chuvosos, principalmente no verão, aliados à diminuição da percepção de risco para a dengue, são apontados como os principais motivos que levam à alta nos casos da doença. Com a chuva, aumentam os riscos de água parada. É o cenário perfeito para que o *Aedes aegypti* se reproduza.

A dengue é uma infecção viral, transmitida pela picada do mosquito *Aedes aegypti*. Os sintomas clássicos da doença são erupções na pele, dores musculares e de cabeça, comprometimento das vias respiratórias superiores, febre e inchaço dos gânglios linfáticos. Mas pode se manifestar também como febre hemorrágica, com sangramentos gastrointestinais, na pele, nas gengivas e pelo nariz. Se não for tratada adequadamente, a doença leva à morte em 20% dos casos.

Até recentemente, não havia disponível uma vacina contra a dengue disponível em larga escala no país, sendo as doses restritas aos laboratórios particulares. Contudo, em março de 2023, a Anvisa (Agência Nacional de Vigilância Sanitária) aprovou o registro de uma nova vacina contra a dengue, a **Qdenga** (TAK-003), do laboratório japonês Takeda Pharma. É o primeiro imunizante liberado no Brasil para pessoas que nunca entraram em contato com o vírus da dengue, mas ele também poderá ser aplicado em quem também



já teve a doença. Portanto, não há distinção entre quem teve ou não a dengue. A vacina poderá ser aplicada em ambos os casos.

Com o elevado número de casos, a vacina foi incorporada ao Sus (Sistema Único de Saúde), mas, inicialmente, não está sendo utilizada em larga escala, já que o laboratório fabricante afirmou que tem uma capacidade restrita de fornecimento de doses. A vacinação está sendo focada em público e regiões prioritárias.

Chikungunya

Também conhecida como febre chikungunya, devido à alta febre causada, é uma doença com sintomas semelhantes aos da dengue, associados a fortes dores nas articulações.

Sua aparição ocorreu como uma epidemia de forma mais preocupante em 2014 no Brasil. É transmitida pelo mesmo mosquito da dengue, o *Aedes aegypti*. No ano de 2019, registrou-se um pico nos casos: foram 132.205 casos, com 92 mortes.

Ensaio clínico para o desenvolvimento de uma vacina para a chikungunya estão em desenvolvimento e indicam que num futuro breve o imunizante estará concluído.

Zika vírus

O Zika vírus também é transmitido pelo mosquito *Aedes*. Ele está ligado à **microcefalia**, uma condição rara em que o bebê nasce com o crânio do tamanho menor do que o normal. Em 2019 foi quando ocorreu o maior pico recente nos casos de zika, com 10.708 ocorrências e 3 mortes.

A ocorrência de infecções pelo vírus da zika está associada à **síndrome de Guillain-Barré**. A síndrome afeta o sistema nervoso e pode provocar fraqueza muscular e **paralisia** dos membros.

Sarampo

O sarampo teve sua última grande epidemia no país em 1990. Após isso, uma grande campanha de vacinação na população praticamente erradicou a doença. Não existe tratamento específico para a doença. A única maneira de evitar o sarampo é por meio da vacinação, que ocorre em duas doses. Em 2016, o Brasil recebeu o certificado de erradicação do sarampo pela Organização Pan-americana de Saúde (OPAS).

Contudo, a doença reapareceu no ano de 2018, na região Norte, trazida pelos venezuelanos que fugiam da crise no seu país. Outro surto ocorreu em 2019, desta vez sem relação com a migração dos venezuelanos. Foram 18.203 casos confirmados e 15 mortes, a maioria destes no estado de São Paulo. Os surtos de sarampo



fizeram o Brasil perder a certificação dada pela OPAS. A principal causa para a volta do sarampo estava relacionada à **baixa cobertura vacinal**.

Febre Amarela

A febre amarela é uma doença causada por um arbovírus (vírus transmitido por artrópodes), que pode levar à morte em cerca de uma semana, se não for tratada rapidamente. A doença teve um grande surto no país em 2017, o maior surto desde que começaram os registros da doença, pelo Ministério da Saúde, em 1940. O estado mais atingido pelo surto foi Minas Gerais, seguido pelo Espírito Santo.

Visando conter o novo surto e atuar na prevenção, o Ministério da Saúde realizou, em 2018, uma campanha de vacinação em estados afetados pelo surto. A prevenção à febre amarela é feita com uma dose da vacina injetável, que deve ser aplicada dez dias antes de visitar locais de possível incidência da doença.

Poliomielite

A poliomielite, também chamada de pólio ou paralisia infantil, é uma doença contagiosa aguda causada por um vírus chamado **poliovírus**, que pode infectar crianças e adultos por meio do contato direto com fezes ou com secreções eliminadas pela boca das pessoas infectadas e provocar ou não paralisia. Nos casos graves, em que acontecem as paralisias musculares, os membros inferiores são os mais atingidos.

A pólio é facilmente evitada com a vacinação, que é aplicada em crianças num esquema de cinco doses. As três primeiras são feitas com o imunizante injetável e devem ser aplicadas aos dois, aos quatro e aos seis meses de vida. Depois, os dois reforços (geralmente feitos com as gotinhas) são dados entre os 15 e os 18 meses e aos 5 anos de idade. Para os totalmente vacinados, os riscos são insignificantes.

Durante o século 20, a poliomielite foi uma das doenças infantis mais temidas. No Brasil, o último caso foi observado em 1989. Nos últimos anos, porém, a cobertura vacinal tem deixado a desejar.

Segundo dados do Ministério da Saúde, a taxa de imunizados contra a pólio caiu consideravelmente de 2015 para cá. Naquele ano, 98,2% do público-alvo recebeu as doses. Em 2016, essa taxa caiu para 84,4% e se manteve nesse patamar até 2019. Em 2021, a imunização contra a doença foi de apenas 67,1%.

Devido à baixa taxa de vacinação, a OPAS (Organização Pan-americana de Saúde) declarou em um relatório que o Brasil apresenta alto risco de volta da doença.

A queda nas coberturas vacinais e a possibilidade de volta de doenças erradicadas não é apenas um fenômeno brasileiro, mas que tem ocorrido em vários outros países do mundo. Em julho de 2022, nos Estados Unidos, foi detectado o primeiro caso de pólio em pelo menos 30 anos.



A Globalização das Doenças

Os fluxos migratórios e o aumento das locomoções intercontinentais, favorecido pela globalização e as mudanças ambientais são fatores que contribuem para que as doenças infecciosas se espalhem cada vez mais rapidamente pelo mundo. Doenças infecciosas são aquelas transmitidas por microrganismos como vírus, bactérias, fungos ou parasitas. Essas doenças podem ser contagiosas – passadas de um ser humano para outro, como a gripe, a tuberculose e a aids – ou transmitidas por vetores, como o mosquito *Aedes Aegypti*.

Migrantes contaminados carregam consigo vírus de doenças infecciosas, nos seus deslocamentos pelo mundo. Na atualidade, há um número recorde de migrantes pelo mundo, seja de migrantes econômicos ou de refugiados.

Quanto ao aumento das locomoções intercontinentais, em 2015, mais de 3,5 bilhões de pessoas viajaram de avião, muitas delas trazendo em seu corpo doenças infecciosas. Dessa forma, os vírus podem dar a volta ao mundo em questão de horas e se disseminar com uma velocidade impressionante sem serem inicialmente detectados. Em alguns casos, a simples viagem de uma pessoa infectada a outro país é suficiente para iniciar um ciclo que pode dar origem a uma pandemia mundial.

Os grandes navios, que abastecem o intenso comércio internacional, também levam microrganismos patogênicos (transmissores de doenças) no casco, nos tanques de água de lastro, na própria carga transportada ou tripulação. Por tudo isso, as autoridades médicas consideram inevitável o surgimento de novas pandemias.

As doenças infecciosas são muito comuns em regiões tropicais e equatoriais, nas quais o clima úmido e quente favorece a proliferação de vetores. O frio é uma barreira natural para a disseminação de muitas doenças. Ao elevar a temperatura média de determinadas regiões do planeta, o aquecimento global poderá propiciar o espalhamento de doenças como a malária e a dengue para áreas que antes estavam "protegidas" dessas epidemias pelo frio e outras condições climáticas.



VIOLÊNCIA E SEGURANÇA PÚBLICA

O Brasil é o país onde anualmente ocorre o maior número de homicídios no mundo. Conforme o Estudo Global sobre Homicídios 2023, elaborado pelo Escritório das Nações Unidas sobre Drogas e Crime (UNODC, na sigla em inglês), divulgado em outubro de 2023, ocorreram 457.945 homicídios no mundo em 2021, sendo 47.722 assassinatos no Brasil, 10,4% do total mundial.

A ONU utiliza o termo homicídios para se referir aos assassinatos ou as mortes violentas com causa intencional (MCVIs) ou **mortes violentas intencionais (MVIs)**, que correspondem ao homicídio doloso (intencional), latrocínio (roubo seguido de morte), lesão corporal seguida de morte e mortes decorrentes de intervenções policiais em serviço e fora.

Para além dos números totais, a **taxa de homicídios por 100 mil habitantes** é um indicador melhor para comparações entre locais porque normalizam os dados, levando em conta a população de cada local. Isso permite avaliar o impacto proporcional de um evento ou fenômeno, independentemente do tamanho da população, tornando as comparações mais justas e significativas.

Quando se leva em conta a taxa de homicídios, o Brasil fica na 11ª posição no ranking global, com 22,38 homicídios a cada 100 mil habitantes - quase quatro vezes mais do que a média global de 5,8 por 100 mil habitantes.

Em todo planeta, mais pessoas foram mortas por homicídio do que por conflitos armados e terrorismo juntos, com uma média de 52 vítimas por hora. O total de homicídios registrado em 2021 é quatro vezes superior à média anual de mortes em conflitos armados.











































A América Latina (sem Estados Unidos e Canadá) segue sendo a região mais violenta do mundo. Cerca de 27% dos 458 mil homicídios foram cometidos na região, que tem a maior taxa de homicídios do mundo. Apesar disso, ela registra uma tendência de queda nas mortes violentas: entre 2017 e 2021 elas caíram 14%, exceto no Equador, Nicarágua e Panamá.

Os gráficos a seguir, mostram os países com os maiores números totais e a situação por continente.



BRASIL FOI O PAÍS COM MAIS HOMICÍDIOS EM 2021

país lidera ranking da ONU para o período, seguido de Índia e México

país	homicídios	a cada 100 mil pessoas
1  Brasil	45.562 	21,3 
2  Índia	41.330 	2,9 
3  México	35.700 	28,2 
4  EUA	22.941 	6,8 
5  Mianmar	15.299 	28,4 
6  Colômbia	13.223 	25,7 
7  Rússia	9.866 	6,8 
8  Paquistão	9.068 	3,9 
9  Iraque	5.459 	15,4 
10  Venezuela	5.444 	19,3 
11  Honduras	3.931 	38,3 
12  Uganda	3.912 	8,5 
13  Guatemala	3.520 	20,0 
14  Quênia	2.796 	5,3 
15  Equador	2.496 	14,0 

mundos



homicídios

457.945

a cada 100 mil pessoas

5,8

fonte: Estudo Global Sobre Homicídios 2023, da ONU

PODER 
360

8.dez.2023



ÁFRICA FOI O CONTINENTE COM MAIS HOMICÍDIOS EM 2021

ranking da ONU para o período

continente	homicídios (em mil)	a cada 100 mil pessoas
1 África	176	12,7
2 América	154	15,0
3 Ásia	109	2,3
4 Europa	17	2,2
5 Oceania	1	2,9

mundo



homicídios (em mil)

458

a cada 100 mil pessoas

5,8

fonte: Estudo Global Sobre Homicídios 2023, da ONU

PODER
360

8.dez.2023

De acordo com o estudo da ONU, 2021 foi um ano excepcionalmente letal, ficando acima da média de 440 mil homicídios dos três anos anteriores. Isso se deve, em parte, às consequências econômicas da covid-19 e, sobretudo, ao **aumento do crime organizado e da violência sociopolítica e relacionada a gangues**, que foram responsáveis por 22% dos casos em todo o mundo e 50% nas Américas.

Para analisar a situação da violência e segurança pública nacional, o principal fornecedor de dados, estatísticas e análises é o **Anuário Brasileiro de Segurança Pública**, do Fórum Brasileiro de Segurança Pública. Esse documento é publicado anualmente e traz dados relativos ao ano anterior.

De acordo com o 17º Anuário Brasileiro de Segurança Pública, publicado em 2023, o Brasil registrou **47.398 mortes violentas intencionais em 2022**, o que representou uma redução de 2,4% em relação ao ano de 2021. Os dados consideram os homicídios dolosos, os latrocínios, as lesões corporais seguidas de mortes e as mortes decorrentes de intervenção policial. **A taxa de homicídios para 100 mil habitantes foi de 23,4 em 2022.**





Mortes violentas intencionais em 2022 (MVIs): 47.398
Taxa de homicídios por 100 mil habitantes em 2022: 23,4

Para a Organização Mundial da Saúde (OMS), **qualquer taxa acima de dez homicídios por 100 mil habitantes ao ano já é considerada uma situação de violência epidêmica** e, portanto, inaceitável. Ou seja, vive-se em uma epidemia de violência no Brasil.

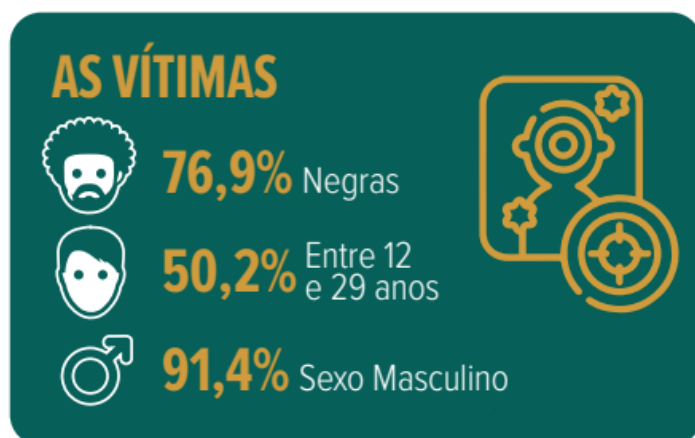
Em 2022, entre os estados brasileiros, as maiores taxas foram no **Amapá (50,6)**, **Bahia (47,1)** e **Amazonas (38,8)**. Já as menores taxas foram em **São Paulo (8,4)**, **Santa Catarina (9,1)** e **Distrito Federal (11,3)**.



Fonte: FÓRUM BRASILEIRO DE SEGURANÇA PÚBLICA. 17º Anuário Brasileiro de Segurança Pública. São Paulo: Fórum Brasileiro de Segurança Pública, 2023.
Disponível em: <https://forumseguranca.org.br/wp-content/uploads/2023/07/anuario-2023.pdf>

Apesar de apresentar dois estados entre as maiores taxas de assassinatos, a região Norte apresentou redução de 2,7% no indicador. Ela fica atrás do Nordeste, que viu as mortes violentas caírem 4,5% em um ano. O Sudeste teve queda de 2%, com São Paulo mantendo a menor taxa do país. Sul e Centro-Oeste tiveram, respectivamente, aumentos de 3,4% e 0,8% nas mortes.

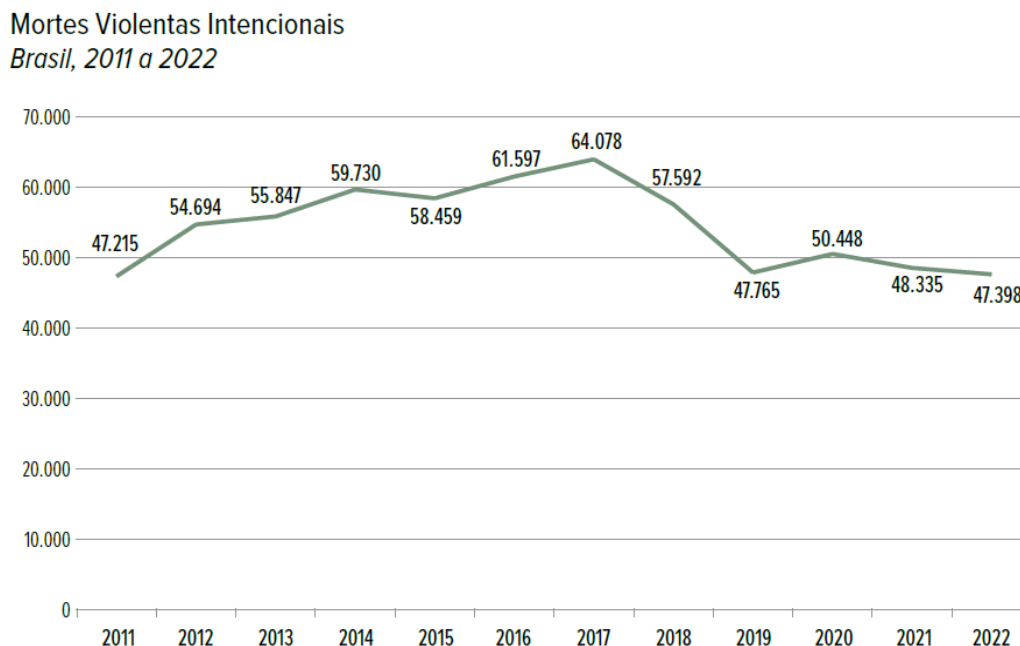
Quanto ao **perfil das vítimas**, verifica-se que **a maior parte é negra**, do sexo masculino e jovem (situados na faixa etária de 12 a 29 anos).



Fonte: FÓRUM BRASILEIRO DE SEGURANÇA PÚBLICA. 17º Anuário Brasileiro de Segurança Pública. São Paulo: Fórum Brasileiro de Segurança Pública, 2023.
Disponível em: <https://forumseguranca.org.br/wp-content/uploads/2023/07/anuario-2023.pdf>



Apesar de ainda ser um número altíssimo para os padrões internacionais, as **mortes violentas no Brasil atingiram seu menor número em 12 anos**. Veja no gráfico abaixo:



Fonte: Secretarias Estaduais de Segurança Pública e/ou Defesa Social; Fórum Brasileiro de Segurança Pública.

Observação: Esta versão foi modificada em 04/08/2023 a partir da retificação dos dados de Mortes Violentas Intencionais no Estado do Rio Grande do Sul.

A análise do gráfico mostra que o pico de violência letal se deu em 2017, quando o país registrou 30,9 mortes violentas intencionais para cada 100 mil habitantes. A partir de 2018 iniciou-se uma tendência de queda nos índices de mortes.

O que explica a queda das MVIs nos últimos anos?

O Anuário destaca como fatores para a redução das mortes violentas intencionais **1) as mudanças demográficas; 2) as políticas locais (estaduais) de prevenção à violência e 3) as ações do crime organizado.**

Nas últimas décadas, o Brasil passou por um envelhecimento populacional, com redução do número de jovens, normalmente mais envolvidos com a violência letal. O Norte seria uma exceção, pois nessa região a parcela jovem da população segue crescendo.

Os programas locais de redução de homicídios, pautados na focalização de ações nos territórios, também ajudaram a diminuir a violência. É o caso, por exemplo, do Pacto Pela Vida, em Pernambuco; o Fica Vivo!, em Minas Gerais; o Estado Presente, no Espírito Santo; o RS Mais Seguro, no Rio Grande do Sul; as UPPs, no Rio de Janeiro; e o Ceará Pacífico, no Ceará. São exemplos de projetos que buscaram integrar ações policiais e medidas de caráter preventivo.

Além disso, houve investimentos significativos na modernização da gestão das polícias e a adoção de novas tecnologias e sistemas de inteligência. Na atualidade, as polícias brasileiras são muito mais preparadas do que no início dos anos 2000.



Por fim, os violentos conflitos entre as principais facções criminosas do país, especialmente o PCC e o Comando Vermelho, arrefeceram após seu ápice em 2017. Em alguns territórios, porém, como o Amazonas, onde as mortes violentas intencionais cresceram, as guerras entre os grupos criminosos se acirraram. Não fosse a manutenção do conflito na Amazônia, a queda nacional das mortes violentas poderia ter sido maior.

A questão racial

Outro dado que vem sendo objeto de análise ao longo dos anos é o **aumento da taxa de homicídios de negros e a queda da taxa de homicídios entre não negros**. Conforme o Atlas da Violência 2020, entre 2008 e 2018, a taxa de homicídios entre os negros (pretos e pardos), cresceu 11,5%, enquanto a taxa para não negros (inclui brancos, amarelos e índios) teve uma redução de 12,9%.

Esse padrão de homicídios se repete entre os homens e as mulheres. Ou seja, a taxa de homicídios de mulheres negras é bem maior do que a taxa de homicídios de mulheres não negras.

Conforme o IBGE, os negros correspondem a 56% da população brasileira (PNAD/2021). Porém, como vimos, mais de 70% dos homicídios no Brasil são de negros, taxa que cresceu ao longo dos últimos anos, enquanto a taxa de homicídios de não negros teve redução. Esses dados fazem com que pesquisadores e entidades de direitos humanos afirmem que há um componente de exclusão na questão da violência no Brasil. Para eles, os negros são historicamente discriminados, o que faz com que estejam mais vulneráveis a serem vítimas da violência e caírem na criminalidade.

Os custos da violência

Segundo o economista Daniel Cerqueira, do IPEA, o Brasil perde algo em torno de 6% do PIB a cada ano em face do crime e da violência letal. São custos que estão relacionados às despesas de manutenção do aparato de segurança pública, do sistema prisional e de cumprimento de medidas socioeducativas, em serviços de segurança particular e privada, em seguros contra furtos e roubos e no sistema de saúde, com o atendimento de vítimas da violência.

A violência afeta também as atividades econômicas, a exemplo de atividades comerciais suspensas ou seriamente prejudicadas pela redução do consumo e pela diminuição da venda de produtos de maior valor, devido ao medo dos consumidores de serem roubados. Outro setor que sofre as consequências dos elevados índices de violência é o turismo. Algumas cidades brasileiras deixam de arrecadar milhões em função da criminalidade.

Sem dúvida, para além dos custos econômicos, a maior de todas as perdas é a de vidas humanas. Mas, mesmo nesse aspecto, há um custo econômico, uma vez que o Estado e as famílias investiram recursos nessas vidas em saúde, educação, lazer, alimentação etc.

Como a maior parte das vítimas de homicídios é de pessoas jovens, há, ainda, uma grandiosa perda futura de geração de riqueza para o Estado e a sociedade. São pessoas que poderiam viver por muitas décadas, produzindo, consumindo e pagando impostos que reverteriam em benefício da sociedade.



Causas da violência

De acordo com vários estudos e publicações, podemos sintetizar como causas da violência e da criminalidade:

- **Urbanização acelerada e inchaço das periferias:** Até a metade da década de 1950, o Brasil era um país majoritariamente rural. A partir dessa data passou por um processo de urbanização acelerada, que teve como causas um rápido processo de industrialização e o êxodo rural.

A mecanização do campo liberou grandes contingentes de trabalhadores das suas atividades rurais. Esse fator, somado à histórica concentração de terras, às péssimas condições de vida no meio rural e a maior oferta de emprego nas cidades, levou milhões de trabalhadores a se deslocarem do campo para a cidade em um período de poucas décadas.

As cidades não tiveram tempo, nem condições, de se adaptarem, o que ocasionou o surgimento de grandes problemas urbanos. Os migrantes do campo foram residir na periferia e na periferia da periferia das cidades. Nesses lugares faltava quase tudo, infraestrutura, saneamento, áreas verdes e de lazer, saúde, educação, transporte de qualidade e moradia. Soma-se a isso tudo a carência de emprego e temos um ambiente propício para a explosão da violência e da criminalidade.

- **Deficiência do Estado (poder público) no provimento de direitos:** A população de menor renda é a que mais necessita de serviços públicos de qualidade, como forma de garantia de direitos constitucionais sociais, individuais e coletivos. O atendimento efetivo a esses direitos possibilitaria uma educação pública de qualidade, saúde de qualidade, lazer, segurança, moradia etc. proporcionando um melhor desenvolvimento socioeconômico e reduzindo, dessa forma, a vulnerabilidade de pessoas de caírem na criminalidade ou de serem vitimadas por ela.

- **Exclusão social e desigualdade social:** As altas aspirações de consumo de bens e serviços (de tênis de grife a eletrônicos, por exemplo) somam-se à frustração com base na relativa falta de mobilidade social (avanço em qualidade de vida econômica e social), gerando assaltos, roubos e furtos.

- **Ação dos traficantes de drogas ilícitas:** O narcotráfico contribui significativamente para o aumento da violência e da sensação de insegurança nas cidades brasileiras.

Propostas de soluções para a redução da violência e da criminalidade

Várias são as propostas nesse campo. No entanto, estudiosos do tema, instituições acadêmicas, governamentais e da sociedade afirmam amplamente que o caminho mais efetivo para a redução da violência é o **investimento em políticas públicas preventivas de cidadania e de segurança pública**. É o investimento em educação universal de qualidade, em saúde, em moradia, em geração de trabalho e renda, em lazer, em cultura, em transporte de qualidade, em infraestrutura urbana, entre outras.

Outras propostas são: a **redução das desigualdades sociais** e a **disseminação de uma cultura de paz**, por meio do diálogo, da solidariedade, da tolerância e do respeito às diferenças.

No campo das proposições ainda temos a **reforma do sistema policial e prisional brasileiro**, uma **melhor estrutura, aparelhamento, treinamento e remuneração dos policiais**, a **diminuição da impunidade**



(a alta impunidade é um estímulo para as práticas criminosas), a **melhoria substancial da atividade de inteligência policial**, um **maior controle de fronteiras** (por onde entram armas, drogas, contrabando, etc.) e uma **maior coordenação dos entes federados na área da segurança pública**.

Como o tráfico de drogas é um fator significativo na geração de violência no Brasil e considerando que a política de “guerra às drogas” não diminuiu o consumo e a crescente violência associada a ela, alguns segmentos defendem a **liberação do consumo de drogas**. Esses segmentos argumentam que isso enfraqueceria o poder econômico do tráfico de drogas, diminuiria a violência e liberaria mais recursos para a aplicação em outras áreas da segurança pública e da cidadania.

Violência policial e morte de policiais

A letalidade da polícia brasileira é alvo constante de críticas de entidades de defesa de direitos humanos. Segundo dados do Fórum Brasileiro de Segurança Pública, **6.430 pessoas morreram vítimas de policiais em 2022, o que corresponde a 17 pessoas por dia**.

Esses números **são considerados altíssimos nas comparações internacionais**, evidenciando o uso abusivo da força letal como resposta pública ao crime e à violência. Para efeito de comparação, a média da polícia norte-americana é de pouco mais de 1 pessoa morta por dia.

Entre os estados, **Bahia** (1.464 mortes) e **Rio de Janeiro** (1.330 mortes) juntos representam 43% de todas as mortes provocadas pelas polícias no Brasil.



Fonte: FÓRUM BRASILEIRO DE SEGURANÇA PÚBLICA. 17º Anuário Brasileiro de Segurança Pública. São Paulo: Fórum Brasileiro de Segurança Pública, 2023.
Disponível em: <https://forumseguranca.org.br/wp-content/uploads/2023/07/anuario-2023.pdf>





O estado de **São Paulo** tem se destacado ao longo dos anos recentes pela elevada redução nas vítimas de letalidade policial. De 2020 a 2022, os policiais paulistas reduziram a letalidade pela metade: de 814 mortes registradas para 419 em 2022.

Para Samira Bueno, diretora-executiva do Fórum Brasileiro da Segurança Pública, esse fato pode ser atribuído em grande medida às mudanças institucionais pelas quais vem passando a Polícia Militar desde meados de 2020, que culminaram com a adoção de câmeras corporais nas fardas dos policiais.

Se, por um lado, o grau de letalidade da polícia brasileira é alto, por outro, os policiais também são vítimas desse mesmo sistema. Morrem muitos policiais no Brasil vitimados por assassinatos, em serviço, e fora de serviço. Na verdade, **morrem mais policiais fora de serviço do que em serviço**.

Em 2022, foram 161 policiais assassinados. Em países desenvolvidos, dificilmente mais do que uma dezena de policiais perdem a vida por ano em decorrência de sua profissão.



Fonte: FÓRUM BRASILEIRO DE SEGURANÇA PÚBLICA. 17º Anuário Brasileiro de Segurança Pública. São Paulo: Fórum Brasileiro de Segurança Pública, 2023. Disponível em: <https://forumseguranca.org.br/wp-content/uploads/2023/07/anuario-2023.pdf>

Em serviço, as mortes de policiais ocorrem quando são vítimas de crime, tendo ou não reagido, ou ao intervir em uma ocorrência em andamento, sem apoio ou aparato de proteção. Fora de serviço, não obstante estarem armados, se encontram sozinhos e distraídos.

Devido à baixa remuneração, muitos policiais prestam serviço por conta própria, fazendo “bicos” para aumentar a renda. Essa é uma das situações em que muitos deles perdem a vida, quando estão sem o apoio de colegas.

Violência contra a mulher

Na análise da violência contra as mulheres, o cenário brasileiro é um dos piores do mundo. Segundo dados da ONU, de 2015, o Brasil ocupa a 5ª posição no ranking mundial de proporção de assassinatos de mulheres.



Quando entramos nesse tema, devemos possuir bem definido o conceito de **feminicídio**, que tem ganhado bastante destaque na atualidade e aparecido em provas. O feminicídio é o homicídio praticado contra vítima mulher por motivações baseadas em violência doméstica e/ou intrafamiliar, ou em caso de menosprezo ou discriminação pela condição de mulher. Cabe destacar **que nem todos os assassinatos de mulheres são feminicídios**.



O feminicídio é classificado como crime hediondo pela legislação brasileira. A pena pode variar de 12 a 40 anos (pena máxima de reclusão). Trata-se de crime inafiançável, sem direito a indulto (perdão) ou anistia.

De acordo com o 17º Anuário Brasileiro de Segurança Pública, foram registrados **1.437 feminicídios em 2022**, o que representa um aumento de 6,1% em relação a 2021. Sobre o perfil das vítimas desse crime, constata-se que são predominantemente negras e possuem de 18 a 44 anos. A maior parte das vítimas foi morta pelo próprio parceiro íntimo, ex-parceiro ou por familiar.



Fonte: FÓRUM BRASILEIRO DE SEGURANÇA PÚBLICA. 17º Anuário Brasileiro de Segurança Pública. São Paulo: Fórum Brasileiro de Segurança Pública, 2023. Disponível em: <https://forumseguranca.org.br/wp-content/uploads/2023/07/anuario-2023.pdf>

De acordo com Matias (2016), *“os assassinatos de mulheres têm duas características que o distinguem dos homicídios masculinos: os meios utilizados e o local onde acontecem. O uso de força física e de objetos cortantes e penetrantes indica motivos passionais. E o fato de boa parte dos crimes ocorrerem na residência mostra o caráter doméstico desses homicídios”*.

Pereira, Bueno, Bohnenberger e Sobral, do Fórum Brasileiro de Segurança Pública, destacam que diversos estudos apontam a relação próxima com o algoz como característica marcante da violência de gênero. Este aspecto relaciona-se com a amplitude característica da violência contra a mulher, que incide nas relações íntimas conjugais através da dependência patrimonial e violência psicológica, por exemplo.



São traços desafiadores das políticas de prevenção e proteção, pois ocorrem no seio de relações das quais se espera segurança e confiança, e que comumente estão investidas de tabus por dizerem respeito à esfera doméstica e familiar. Não à toa, muitos dos casos de feminicídios registrados nos últimos anos e registrados pela imprensa tratavam de mulheres que buscavam a separação do agressor.

Segundo as Diretrizes Nacionais para investigar, processar e julgar com perspectiva de gênero as mortes violentas de mulheres, são condições estruturais das mortes violentas de mulheres por razões de gênero: o sentimento de posse, o controle sobre o corpo e autonomia da mulher, a limitação da emancipação profissional, econômica, social e intelectual da mulher, seu tratamento como objeto sexual e a manifestação de desprezo e ódio pela mulher.

Violência sexual

A violência sexual pode ser definida como qualquer ato sexual ou tentativa de obter ato sexual, sem o consentimento da vítima. A violência pode ser exercida com uso da força ou ameaça, mas também com chantagem, suborno ou manipulação.

O estupro é uma modalidade da violência sexual e um dos mais brutais atos de violência, humilhação e controle sobre o corpo de outro indivíduo, em sua maioria mulheres. O trauma vivenciado pelas vítimas deixa muitas sequelas na vida e na saúde dos atingidos, resultando em sérios efeitos nas esferas física e/ou mental, no curto e longo prazo.

Em 2022, segundo dados do 17º Anuário Brasileiro de Segurança Pública, **o Brasil registrou o maior número da história de casos de estupros: foram 74.930 vítimas**, um crescimento de 8,2% na comparação com 2021. Segundo o Anuário, são cerca de 36,9 casos de estupro a cada grupo de 100 mil habitantes. O levantamento considera casos de ocorrências que foram informados às autoridades policiais. Como nem todos são registrados, pode haver subnotificação.

A maior parte dos casos são estupros de vulnerável: 61,4% das vítimas que tiveram ocorrência registrada tinham no máximo 13 anos. Segundo o Código Penal, estupro de vulnerável é aquele realizado contra menores de 14 anos ou pessoas com doenças ou deficiência mental que não têm discernimento para a prática do ato e que não podem oferecer resistência.

De acordo com os registros de estupro e estupro de vulnerável do ano de 2022, 88,7% das vítimas eram do sexo feminino, o que evidencia a desigualdade de gênero como uma das raízes da violência sexual. Também é maior a proporção de vítimas negras sobre as demais.

Diferentemente do previsto no imaginário social da população, a violência sexual no Brasil é, na maioria das vezes, um crime perpetrado por algum conhecido da vítima, parente, colega ou mesmo o parceiro íntimo. **Grande parte dos casos registrados são de autoria de um conhecido, considerando os registros em que esta informação estava disponível.** O fato de o autor ser conhecido da vítima dá uma camada a mais de violência e de complexidade ao crime cometido: a denúncia se torna um desafio ainda maior para as vítimas. Além disso, a maior parcela também é realizada na residência da vítima.

O infográfico a seguir apresenta esses dados:



MAIOR NÚMERO DE ESTUPROS DA HISTÓRIA



ONDE OCORREM



AGRESSORES CONHECIDOS



QUEM SÃO AS VÍTIMAS

♀ 88,7% sexo feminino
♂ 11,3% sexo masculino

56,8% negras
42,3% brancas

0,5% indígenas
0,4% amarelas

PRINCIPAIS VÍTIMAS SÃO CRIANÇAS

61,4% tem entre 0 e 13 anos de idade

10,4% tem menos de 4 anos

Fonte: FÓRUM BRASILEIRO DE SEGURANÇA PÚBLICA. 17º Anuário Brasileiro de Segurança Pública. São Paulo: Fórum Brasileiro de Segurança Pública, 2023.
Disponível em: <https://forumseguranca.org.br/wp-content/uploads/2023/07/anuario-2023.pdf>

Cultura do estupro

O termo “cultura do estupro” expressa o modo como a sociedade naturaliza o comportamento sexual violento dos homens e culpa as vítimas de assédio. Culturalmente culpa-se a vítima da violência por ter usado uma roupa curta, por não ter reagido ou simplesmente por ser atraente demais. Pesquisa produzida pelo Fórum Brasileiro de Segurança Pública em 2016 mostrou que 43% dos brasileiros do sexo masculino com 16 anos ou mais acreditavam que “mulheres que não se dão ao respeito são estupradas”. Esse pensamento arraigado estimula a impunidade de estupradores, como também inibe que mulheres denunciem as violências sofridas. Por outro lado, muitas mulheres ainda não têm consciência do ato que sofreram, vivenciando a agressão como algo natural.

Machismo e sociedade patriarcal

Uma das raízes da tolerância a violência contra a mulher está no **ordenamento patriarcal da sociedade** – a organização da família em torno da figura do homem e da autoridade masculina. O homem é considerado o chefe da família e à esposa cabe “se dar ao respeito” e se comportar segundo o papel que foi determinado a ela – o de dona de casa, esposa e mãe. Para validar essa autoridade e corrigir comportamentos femininos que transgridem o esperado, o uso da violência – física ou psicológica – é uma possibilidade sempre sugerida ou exercida por esse chefe patriarcal. Essa visão da superioridade do homem sobre a mulher, por sua vez, constitui a ideia central do pensamento machista, persistente em nossa sociedade.

A **impunidade** é outro fator que explica a persistência da violência de gênero no Brasil. De acordo com o Mapa da Violência 2015 – Homicídios de Mulheres no Brasil, o índice de elucidação dos crimes de homicídio seria apenas de 5% a 8%.



Enfrentamento da violência contra a mulher

O estudo Raio X do Femicídio preconiza ser possível evitar a morte se a mulher romper o silêncio e se o Estado intervier a tempo. Segundo esse estudo, no estado de São Paulo, entre as mulheres que foram atacadas, apenas 3% tinham medidas protetivas e das 124 mulheres que foram mortas, só cinco haviam registrado boletim de ocorrência. Dessa forma, percebe-se que, quando a vítima e o Estado agem, é possível evitar a morte.

Assim, é fundamental que haja o **encorajamento para que aquelas que já tenham sido vítimas de violência ou estejam na iminência de sê-lo denunciem o agressor**, de modo que o Estado possa tomar medidas destinadas a evitar que a violência e as ameaças, permanentes ou eventuais, redundem em morte. Isso pode acontecer por meio das Defensorias Públicas (algumas possuem núcleos próprios para isso), os Ministérios Públicos estaduais, as Delegacias Especializadas de Atendimento à Mulher, os Disque-Denúncia e até mesmo pela polícia militar.

Por seu lado, o Estado pode auxiliar utilizando-se das **medidas protetivas no âmbito da Lei Maria da Penha**, que incluem, por exemplo, o afastamento do agressor do lar ou local de convivência com a vítima, a fixação de limite mínimo de distância de que o agressor fica proibido de ultrapassar em relação à vítima, etc.

Outra ação é a **manutenção, a ampliação e o aprimoramento das redes de apoio à mulher**, previstos na Lei Maria da Penha (Lei 11.340/2006), notadamente, provendo abrigo em situação de violência, propiciando segurança, alimentação e repouso para as mulheres e seus filhos, bem como assistência jurídica e psicológica. Por vezes, a mulher não tem para onde ir e, nessa hora, ter um acolhimento é muito importante. Em outros casos, as mulheres não estão preparadas naquele momento para registrar um boletim de ocorrência. Então a existência da rede como um todo é fundamental para que ela seja acolhida e orientada, se fortaleça e, principalmente, não fique só.

Assim, é fundamental que a mulher conte com esse suporte do Estado, especialmente no momento do rompimento do relacionamento, principal motivo de morte de mulheres no contexto do feminicídio.

Um aspecto fundamental para o combate desse problema é o **combate à impunidade**, pois quando o Estado não responsabiliza os autores de atos de violência e a sociedade tolera, expressa ou tacitamente, tal violência, a impunidade não só estimula novos abusos, como também transmite a mensagem de que a violência masculina contra a mulher é aceitável, ou normal.

Sistema prisional brasileiro

O sistema prisional brasileiro enfrenta, há muito tempo, uma grave crise estrutural, social e econômica. Embora seja um problema reconhecido e reiteradamente noticiado pela mídia, segmentos relevantes da sociedade brasileira e dos governos não dão a devida importância que a problemática deveria merecer.

O Brasil possui uma das maiores populações carcerárias do mundo. Conforme o 17º Anuário Brasileiro de Segurança Pública, em 2022, o Brasil possuía **832.295 pessoas encarceradas, a maior população carcerária de sua história**.



O número de presos cresceu significativamente ao longo de mais de duas décadas, aumentando em 257% de 2000 a 2000. Em 2000, havia 232.755 pessoas encarceradas.

Ainda que apresente uma enorme população carcerária, o Brasil ainda possui um grande **déficit de vagas** nos presídios. Segundo o 17º Anuário, há um déficit de 230.578 vagas nos presídios brasileiros. Ou seja, **os presídios estão superlotados**, há mais pessoas presas do que número de vagas.

RAIO-X DO SISTEMA PRISIONAL



832.295
pessoas encarceradas
Déficit de
230.578 vagas

Fonte: FÓRUM BRASILEIRO DE SEGURANÇA PÚBLICA. 17º Anuário Brasileiro de Segurança Pública. São Paulo: Fórum Brasileiro de Segurança Pública, 2023.
Disponível em: <https://forumseguranca.org.br/wp-content/uploads/2023/07/anuario-2023.pdf>

Em relação ao perfil, verifica-se que **a maior parte dos presos no Brasil são negros, do sexo masculino e possuem entre 18 a 34 anos**. Embora o 17º Anuário não traga esses dados, outras fontes estatísticas apontam ainda que grande parcela dos encarcerados apresenta baixa escolaridade e baixa renda.

PERFIL DA PESSOA PRIVADA DE LIBERDADE



68,2%
negros



62,6%
18 a 34
anos



95% do
sexo
masculino

Fonte: FÓRUM BRASILEIRO DE SEGURANÇA PÚBLICA. 17º Anuário Brasileiro de Segurança Pública. São Paulo: Fórum Brasileiro de Segurança Pública, 2023.
Disponível em: <https://forumseguranca.org.br/wp-content/uploads/2023/07/anuario-2023.pdf>

A Unidade da Federação que possui o maior número de presos é **São Paulo**.

A seguir, destaco mais algumas características gerais do sistema prisional brasileiro:

Educação, trabalho e saúde

O sistema prisional tem uma dupla função: punir e ressocializar. A punição se dá pela privação de liberdade, em função do crime cometido pelo preso. Mas, o castigo da prisão, também, é uma forma de o preso compreender que o crime não compensa e que ao final de sua pena se reintegre a sociedade.

A legislação brasileira garante a educação e trabalho para presos, visando à ressocialização. No entanto, é baixo o percentual dos que participam de atividades educacionais e de trabalho. A saúde dos detentos



também é precária, devido às más condições nos presídios. Muitos são acometidos de graves enfermidades ou vêm a falecer devido às condições insalubres de presídios e do acesso inadequado à saúde.

Segurança e pessoal

De modo geral, os sistemas de segurança nos presídios são falhos. Armas, drogas e telefones celulares entram com frequência no interior dos presídios. O número de policiais penais é insuficiente para exercer o controle interno das prisões.

O excesso de prisões provisórias

Segundo o Ministério da Justiça, cerca de 35% dos detentos são presos em situação provisória (sem julgamento). É um número considerado elevado, acima da média de vários países do mundo. O alto percentual indica a falta de acesso adequado à justiça no Brasil. Muitos poderiam responder ao processo em liberdade, mas não têm recursos para advogados.

Posse ou tráfico de drogas

Quase um terço dos presos cometeram crimes por tráfico ou posse de drogas, e esse número apresentou elevado crescimento nos anos recentes. Em 2006, o país tinha 47 mil presos por tráfico de entorpecentes. Em 2017, a cifra chegou a 157 mil, ou seja, cresceu mais de 300% em onze anos.

De acordo com estudiosos do tema, um dos motivos para esse aumento pode ser encontrado na chamada nova Lei de Drogas, de 2006, que trouxe a distinção entre usuário e traficante. A partir dessa lei, muitas pessoas têm sido presas com pequena quantidade de drogas, baseadas apenas no relato do policial e sem contar com advogado no momento da prisão, situação bastante desfavorável ao acusado. Jovens de baixa escolaridade e socialmente vulneráveis são os mais aprisionados dessa forma.

“Escolas do crime”

Uma das consequências da superlotação carcerária é colocar réus primários convivendo com condenados e detentos de alta periculosidade e também em contato com facções criminosas. A separação entre presos provisórios e condenados (e entre estes a divisão por gravidade do crime) está prevista na Lei de Execução Penal e em tratados de direito internacionais. No entanto, tal orientação não é cumprida em quase todas as prisões brasileiras. Especialistas apontam que o risco é criar as chamadas “escolas do crime”.

As condições precárias e desumanas das cadeias brasileiras, a ausência de policiais penais qualificados e de uma política efetiva de ressocialização criam um ambiente fértil para o surgimento das facções criminosas – grupos de presidiários que agem dentro das prisões e arregimentam novos detentos, oferecendo vantagens, mas impondo suas regras e controlando o cotidiano desses espaços.

Como o Estado falha em prover aos presos proteção e condições minimamente dignas de sobrevivência, as facções entram em ação para oferecer segurança para sobreviver no presídio, coibindo a violência entre os presos e até abusos de policiais penais. Em troca, uma vez reinseridos à liberdade, esses ex-detentos devem continuar prestando serviços à organização criminosa, ou seja, cometendo crimes, para levar dinheiro à facção. Ex-detentos, já em liberdade, e outros criminosos articulam-se no crime organizado, principalmente no tráfico de drogas.



Soluções para a crise do sistema prisional

A solução para a crise penitenciária está relacionada à **redução da violência e da criminalidade no Brasil**. Uma sociedade menos violenta e a diminuição dos crimes contribuiria para a redução do número de presos. Outras propostas apresentadas pelos estudiosos do tema para enfrentar a superlotação do sistema prisional são:

Maior adoção de penas alternativas ao encarceramento, nos termos da legislação brasileira, como a prestação pecuniária e a prestação de serviços à comunidade. O aumento da aplicação teria o efeito de evitar que muitos criminosos de baixa periculosidade entrassem em contato com facções criminosas nos presídios.

O fornecimento do **acesso adequado à justiça** contribuiria para agilizar a situação dos presos provisórios, diminuindo o seu número. Muitos poderiam, nos termos da lei, responderem ao processo em liberdade ou terem a sua prisão extinta.

A **promoção de ajustes na Lei de Drogas** (principal fator que contribuiu para aumentar o volume de prisões) com uma definição clara entre usuário e traficante. Outros vão além e defendem a descriminalização das drogas como uma solução para reduzir a superlotação do sistema. "Simplesmente descriminalizando o uso e o consumo você tira 30% das pessoas das cadeias do país", afirma o assessor jurídico da Pastoral Carcerária, Paulo Cesar Malvezzi Filho.

Nesse quesito, é fundamental um sistema que, de fato, **ressocialize o preso**, com políticas humanizadoras e que possibilite a reinserção do ex-detento à vida em sociedade. Uma medida nesse sentido seria o **aumento das opções de trabalho e estudo nos presídios**, de modo a possibilitar ao preso uma perspectiva de futuro fora da criminalidade.



EDUCAÇÃO BRASILEIRA

Ao iniciar o estudo deste tópico, destaco que, embora nos editais esteja presente nos conteúdos de Atualidades, o tema quase não é cobrado nas provas da nossa disciplina. Se o conteúdo está presente nos editais, o professor vai ministrá-lo, mesmo com baixas possibilidades de ser cobrado em nossa prova.

A educação de uma sociedade desempenha um papel essencial em sua formação e em seu desenvolvimento socioeconômico, sendo um dos principais setores para a construção de uma nação justa e solidária.

No Brasil, o debate sobre o valor da educação não é novidade e é de amplo conhecimento da população que esse setor apresenta uma série de deficiências e desafios. O tema é muito rico e se relaciona a um rol de questões, mas, neste tópico, vamos apresentar uma contextualização geral sobre o panorama da educação brasileira e alguns tópicos atuais que podem ser cobrados ou que já figuraram em provas.

Diretrizes da educação

A **Lei de Diretrizes e Bases da Educação (LDB)** é a principal legislação que regulamenta a educação no Brasil, de acordo com a Constituição Federal. Com 92 artigos, a lei reforça o direito de todo brasileiro ao acesso gratuito à Educação Fundamental e prevê a gradativa extensão dessa condição ao Ensino Médio. Detalha também o papel da União, dos estados, dos municípios e do Distrito Federal com relação à educação, articula as suas ações e determina as obrigações gerais das instituições de ensino, dos professores e dos outros profissionais da área. Define, ainda, os níveis da educação no Brasil, apresenta referenciais curriculares e estabelece a carga horária mínima para cada um, nas diversas modalidades.

A educação escolar compõe-se da Educação Básica e da Educação Superior. A Educação Básica é formada pela Educação Infantil, Ensino Fundamental (anos iniciais e finais) e Ensino Médio.

A LDB também determina a aprovação, pelo Congresso Nacional, de um **Plano Nacional da Educação (PNE)**, com metas a serem alcançadas em um prazo de 10 anos. O PNE cumpre a função de orientar os esforços dos governos federal, estaduais e municipais para a melhoria da educação brasileira.

O órgão responsável pela elaboração e execução do plano é o **Ministério da Educação (MEC)**, braço do governo responsável por todo o sistema educacional brasileiro. Desde a Educação Infantil até a Profissional e Tecnológica, a responsabilidade é desse ministério.

O MEC também é responsável por elaborar, a partir da LDB, a **Base Nacional Comum Curricular (BNCC)**, um documento que define o conjunto de temas essenciais que todos os alunos devem aprender ao longo da Educação Básica. A BNCC serve para nortear os currículos das redes de ensino e as propostas pedagógicas de todas as escolas públicas e privadas de Educação Infantil, Ensino Fundamental e Ensino Médio do país.



Plano Nacional da Educação (PNE)

O Plano Nacional da Educação (PNE), previsto na Constituição Federal, cumpre a função de orientar os esforços dos governos federal, estaduais e municipais para a melhoria na educação brasileira. Complementando as orientações e as diretrizes da LDB, o PNE **estabelece metas qualitativas e quantitativas gerais, a serem alcançadas em, no máximo, dez anos.**

O **PNE** em vigor foi instituído em 2014 pela Lei nº 13.005/2014, e tem sua validade para o decênio 2014-2024. Expira, desse modo, em **junho de 2024**, fazendo com que, em breve, o governo federal tenha que enviar ao Congresso um novo projeto de lei com o PNE do próximo decênio.

Vejamos as metas do PNE:

Meta 1 - Universalizar, até 2016, a educação infantil na pré-escola para as crianças de 4 (quatro) a 5 (cinco) anos de idade e ampliar a oferta de educação infantil em creches, de forma a atender, no mínimo, 50% (cinquenta por cento) das crianças de até 3 (três) anos até o final da vigência deste PNE.

Meta 2 - Universalizar o ensino fundamental de 9 (nove) anos para toda a população de 6 (seis) a 14 (quatorze) anos e garantir que pelo menos 95% (noventa e cinco por cento) dos alunos concluam essa etapa na idade recomendada, até o último ano de vigência deste PNE.

Meta 3 - Universalizar, até 2016, o atendimento escolar para toda a população de 15 (quinze) a 17 (dezesete) anos e elevar, até o final do período de vigência deste PNE, a taxa líquida de matrículas no ensino médio para 85% (oitenta e cinco por cento).

Meta 4 - Universalizar, para a população de 4 (quatro) a 17 (dezesete) anos com deficiência, transtornos globais do desenvolvimento e altas habilidades ou superdotação, o acesso à educação básica e ao atendimento educacional especializado, preferencialmente na rede regular de ensino, com a garantia de sistema educacional inclusivo, de salas de recursos multifuncionais, classes, escolas ou serviços especializados, públicos ou conveniados.

Meta 5 - Alfabetizar todas as crianças, no máximo, até o final do 3º (terceiro) ano do ensino fundamental.

Meta 6 - Oferecer educação em tempo integral em, no mínimo, 50% (cinquenta por cento) das escolas públicas, de forma a atender, pelo menos, 25% (vinte e cinco por cento) dos (as) alunos(as) da educação básica.

Meta 7 - Fomentar a qualidade da educação básica em todas as etapas e modalidades, com melhoria do fluxo escolar e da aprendizagem, de modo a atingir as seguintes médias nacionais para o Ideb: 6,0 nos anos iniciais do ensino fundamental; 5,5 nos anos finais do ensino fundamental; 5,2 no ensino médio.

Meta 8 - Elevar a escolaridade média da população de 18 (dezoito) a 29 (vinte e nove) anos, de modo a alcançar, no mínimo, 12 (doze) anos de estudo no último ano de vigência deste plano, para as populações do campo, da região de menor escolaridade no País e dos 25% (vinte e cinco por cento) mais pobres, e igualar a escolaridade média entre negros e não negros declarados à Fundação Instituto Brasileiro de Geografia e Estatística – IBGE.



Meta 9 - Elevar a taxa de alfabetização da população com 15 (quinze) anos ou mais para 93,5% (noventa e três inteiros e cinco décimos por cento) até 2015 e, até o final da vigência deste PNE, erradicar o analfabetismo absoluto e reduzir em 50% (cinquenta por cento) a taxa de analfabetismo funcional.

Meta 10 - Oferecer, no mínimo, 25% (vinte e cinco por cento) das matrículas de educação de jovens e adultos, nos ensinos fundamental e médio, na forma integrada à educação profissional.

Meta 11 - Triplicar as matrículas da educação profissional técnica de nível médio, assegurando a qualidade da oferta e pelo menos 50% (cinquenta por cento) da expansão no segmento público.

Meta 12 - Elevar a taxa bruta de matrícula na educação superior para 50% (cinquenta por cento) e a taxa líquida para 33% (trinta e três por cento) da população de 18 (dezoito) a 24 (vinte e quatro) anos, assegurada a qualidade da oferta e expansão para, pelo menos, 40% (quarenta por cento) das novas matrículas, no segmento público.

Meta 13 - Elevar a qualidade da educação superior e ampliar a proporção de mestres e doutores do corpo docente em efetivo exercício no conjunto do sistema de educação superior para 75% (setenta e cinco por cento), sendo, do total, no mínimo, 35% (trinta e cinco por cento) doutores.

Meta 14 - Elevar gradualmente o número de matrículas na pós-graduação stricto sensu, de modo a atingir a titulação anual de 60.000 (sessenta mil) mestres e 25.000 (vinte e cinco mil) doutores.

Meta 15 - Garantir, em regime de colaboração entre a União, os Estados, o Distrito Federal e os Municípios, no prazo de 1 (um) ano de vigência deste PNE, política nacional de formação dos profissionais da educação de que tratam os incisos I, II e III do caput do art. 61 da Lei nº 9.394, de 20 de dezembro de 1996, assegurado que todos os professores e as professoras da educação básica possuam formação específica de nível superior, obtida em curso de licenciatura na área de conhecimento em que atuam.

Meta 16 - Formar, em nível de pós-graduação, 50% (cinquenta por cento) dos professores da educação básica, até o último ano de vigência deste PNE, e garantir a todos (as) os (as) profissionais da educação básica formação continuada em sua área de atuação, considerando as necessidades, demandas e contextualizações dos sistemas de ensino.

Meta 17 - Valorizar os profissionais do magistério das redes públicas de educação básica, de forma a equiparar seu rendimento médio ao dos (as) demais profissionais com escolaridade equivalente, até o final do sexto ano de vigência deste PNE.

Meta 18 - Assegurar, no prazo de 2 (dois) anos, a existência de planos de carreira para os (as) profissionais da educação básica e superior pública de todos os sistemas de ensino e, para o plano de carreira dos (as) profissionais da educação básica pública, tomar como referência o piso salarial nacional profissional, definido em lei federal, nos termos do inciso VIII do art. 206 da Constituição Federal.

Meta 19 - Assegurar condições, no prazo de 2 (dois) anos, para a efetivação da gestão democrática da educação, associada a critérios técnicos de mérito e desempenho e à consulta pública à comunidade escolar, no âmbito das escolas públicas, prevendo recursos e apoio técnico da União para tanto.



Meta 20 - Ampliar o investimento público em educação pública de forma a atingir, no mínimo, o patamar de 7% (sete por cento) do Produto Interno Bruto (PIB) do País no 5º (quinto) ano de vigência desta Lei e, no mínimo, o equivalente a 10% (dez por cento) do PIB ao final do decênio. **Prestem atenção nesta meta!**

O PNE institui avaliações a cada dois anos para acompanhamento da implementação das metas. O **Instituto Nacional de Estudos e Pesquisas Educacionais (Inep)** é responsável por publicar os relatórios bianuais de monitoramento das metas.

No último relatório, publicado em 2022 (Relatório do 4º Ciclo de Monitoramento do PNE), o Inep destacou o grande impacto da pandemia de covid-19 no cumprimento das metas do plano, sobretudo na Educação Infantil. Todavia, mesmo com os desafios impostos pela pandemia à educação, no biênio de 2021-2022, a maior parte dos indicadores obteve resultados superiores aos levantados no biênio anterior. O cenário, porém, não é otimista. De acordo com o documento:

"O Nível de execução médio está em 45,1%, enquanto o mediano não ultrapassa 39,0%. Assim, é forçoso reconhecer que a execução do atual PNE é insuficiente para o alcance das metas até o ano de 2024, encontrando-se, aproximadamente, na metade do caminho ideal." (Relatório do 4º Ciclo de Monitoramento das Metas do Plano Nacional de Educação – 2022. Brasília, DF: Inep, 2022, p. 18).

Próximo do fim, a maioria das metas está longe de sua completude, indicando que, para o próximo decênio, muitas metas poderão ser repetidas.

Avaliação da educação brasileira

O Brasil tem vários instrumentos para avaliar a qualidade do ensino e o rendimento da educação dos estudantes no Brasil, sendo quatro na Educação Básica e três no Ensino Superior. Os resultados de cada indicador servem de fundamento para a definição de políticas públicas, em busca de melhoria da qualidade do ensino.

Pisa

O **Programa Internacional de Avaliação de Estudantes (Pisa)** é desenvolvido pela Organização para a Cooperação e Desenvolvimento Econômico (OCDE), organização intergovernamental voltada ao desenvolvimento socioeconômico. O Brasil não faz parte do grupo, mas, além dos países filiados, a organização tem parceria para aplicação do Pisa com outros países e territórios, incluindo o Brasil.

O exame ocorre a cada três anos com uma amostra de 600 mil estudantes de 15 anos de 80 países diferentes, e oferece um perfil básico de conhecimentos e habilidades dos estudantes. São avaliados os conhecimentos em leitura, matemática e ciências.

O Brasil sempre está entre os últimos colocados no Pisa. Na última avaliação, realizada em 2018, o país conseguiu avançar alguns pontos, mas ainda segue longe do desempenho dos países desenvolvidos. Nessa prova, o foco foi na categoria de leitura; o Brasil ficou na 54ª colocação, com nota 413. A média da OCDE



nesse quesito foi 487. Em matemática, a nota geral brasileira foi de 384, e, em ciências, 404. A média dos países da OCDE em ambas áreas foi de 489.

Ao analisar os resultados das últimas edições do Pisa, verifica-se que o Brasil mantém uma tendência de estagnação. Embora as notas médias tenham variado alguns pontos para cima e para baixo, no decorrer da última década, essa variação não foi considerada estatisticamente relevante para ser considerada uma evolução de patamar.

Enem

O **Exame Nacional do Ensino Médio (Enem)** tem como objetivo principal avaliar o desempenho dos estudantes ao término do Ensino Médio. De caráter não obrigatório, o exame é anual e destinado àqueles que estão concluindo ou já concluíram esse nível de ensino.

O Enem é utilizado para avaliar a qualidade geral do Ensino Médio no país, orientando as políticas educacionais do Brasil. Os dados apontados por essas avaliações têm mostrado, por exemplo, a distância entre o sistema público e o particular.

Serve também como acesso ao Ensino Superior em universidades públicas brasileiras, por meio do **Sistema de Seleção Unificada (Sisu)**, ou como critério de seleção para os alunos que pretendem concorrer a uma bolsa no **Programa Universidade Para Todos (Prouni)**. A participação no exame é obrigatória também para ingressar no **Fundo de Financiamento ao Estudante do Ensino Superior (Fies)**, que financia a graduação na Educação Superior de estudantes matriculados em instituições não gratuitas.

Saeb e Ideb

O **Sistema Nacional de Avaliação da Educação Básica (Saeb)** é uma avaliação realizada em larga escala no país que busca traçar um diagnóstico da educação brasileira e dos níveis de aprendizagem dos alunos. O Saeb é o principal instrumento para aferir a qualidade da Educação Infantil até o Ensino Médio. São avaliados alunos dos 2º, 5º e 9º anos do Ensino Fundamental e do 3º ano do Ensino Médio de escolas públicas e privadas.

Os resultados de aprendizagem apurados no Saeb, juntamente com as taxas de aprovação aferidas no Censo Escolar, compõem o **Índice de Desenvolvimento da Educação Básica (Ideb)**, utilizado para monitorar o desempenho das escolas e das redes de ensino. Trata-se de um índice que varia numa escala de 0 a 10 e é divulgado a cada dois anos.

Os dados do Ideb de 2021 mostraram pouca evolução em relação a 2019:

- Nos anos iniciais do Ensino Fundamental, o índice caiu de 5,9, em 2019, para 5,8, em 2021;
- Nos anos finais do Ensino Fundamental, o índice subiu de 4,9, em 2019, para 5,1, em 2021;
- O Ensino Médio permaneceu em 4,2.

Nenhum dos índices alcançou as metas estabelecidas, que eram de 6,0 para os anos iniciais do Ensino Fundamental, 5,5 para os anos finais do Ensino Fundamental e 5,2 para o Ensino Médio.



A estagnação dos índices do Ideb foi atribuída principalmente à pandemia de covid-19, que prejudicou o aprendizado, em especial dos mais pobres, que não possuíam as melhores condições para acompanhar as aulas à distância ou para estudar em casa.

Historicamente, a nota do Ensino Médio costuma ser menor no Ideb, o que reflete taxas maiores de abandono da escola pelos alunos e desempenhos piores nas provas. A pandemia não trouxe boas notícias nessa frente, uma vez que o Ensino Médio foi uma das etapas mais afetadas na permanência, com a necessidade dos alunos mais velhos de trabalhar em meio à crise econômica.

Desafios da educação brasileira

As análises sobre o sistema de educação brasileira costumam ser feitas por meio da divisão entre **desafios externos e internos**. Os desafios externos são socioeconômicos, ligados, principalmente, à desigualdade de oportunidades de aprendizagem e de acesso ao ambiente escolar. Os desafios internos dizem respeito à estrutura do sistema educacional em si, as esferas, os programas, os agentes e os repasses que ocorrem entre eles.

Entre os **desafios externos**, o principal está relacionado ao baixo nível socioeconômico de boa parte da população, que acaba por prejudicar o acesso ao conhecimento e afeta a chance do aprendizado ser concretizado.

Dentro dessa categoria, são elencados fatores como: a falta de infraestrutura em casa, como luz e internet, para possibilitar o melhor aprendizado; a necessidade de complementar a renda familiar, que faz com que muitos adolescentes e jovens tenham que trabalhar; a distância das escolas, principalmente se consideradas as deficientes condições de mobilidade urbana, entre outros.

Com relação aos **desafios internos**, estão aspectos como a falta de professores, a baixa remuneração e qualificação desses profissionais; a deficiência de infraestrutura nas escolas, muitas vezes sem bibliotecas, quadras esportivas e laboratórios de informática adequados; a falta de vagas nas escolas, entre outros.

Nesse aspecto, o investimento de verbas públicas na educação é um dos desafios internos. O país investe, em média, cerca de 6% do PIB no setor educacional (com variações anuais para mais ou para menos), índice acima da média de muitos países desenvolvidos. Porém, quando analisado o valor investido por aluno, o Brasil investe bem menos do que a média dos países desenvolvidos e da OCDE. Assim, não basta apenas dispor de recursos, mas é preciso qualificar os investimentos em educação e utilizá-los de maneira adequada aos objetivos nacionais.

Além disso, conforme o nível e a modalidade de ensino, verificam-se problemas específicos.

Na **Educação Infantil**, o principal problema apontado é a falta de vagas, além da baixa oferta de creches em período integral, que seriam importantes quando os responsáveis trabalham fora de casa o dia todo.

No **Ensino Fundamental**, a qualidade do ensino é apontada como o principal desafio. O ensino deficiente faz com que boa parte dos estudantes não aprendam o que é considerado adequado para a série em que



estão. Nos anos finais do Ensino Fundamental, esse problema se agrava diante da exigência de conteúdos cada vez mais complexos e um número maior de disciplinas.

O **Ensino Médio** é considerado o grande gargalo da educação brasileira – cerca de metade dos alunos que ingressam no Ensino Médio conclui o curso, ou seja, a **evasão** é muito elevada. Buscar formas de se combater essa evasão certamente é uma prioridade quando falamos do Ensino Médio no país. Embora seja controversa e divida opiniões, a proposta de reforma do Ensino Médio tenta lidar com esse problema, além de outros próprios dessa etapa da educação. Veremos esse tópico na sequência.

O **Ensino Superior** no Brasil também apresenta problemas, mas teve muitos avanços nas duas últimas décadas. A expansão das universidades federais, da oferta de bolsas e financiamentos públicos nas universidades privadas, como o ProUni e o Fies, e da Educação a Distância, permitiram que o número de universitários aumentasse de 4,2 milhões em 2004 para 8,9 milhões em 2021. Paralelamente, cresceu a quantidade de cursos.

Mesmo assim, há obstáculos como a baixa participação de alunos de 18 a 24 anos matriculados na Educação Superior (idade considerada adequada para cursar esse nível de ensino) e as desigualdades socioeconômicas no acesso ao nível superior, isto é, a maior dificuldade de acesso para famílias de baixa renda. Outro grande entrave para a qualidade da Educação Superior é sua porta de entrada, ou seja, o Ensino Médio. Sem resolver os problemas da formação dos alunos nesse nível de ensino, dificilmente haverá uma boa formação superior.

Diante dos diversos desafios, também são diversas as propostas para lidar com o problema da baixa qualidade da educação no país. A busca deve ser não somente por um sistema educacional de melhor qualidade, mas também por uma sociedade que garanta maior inclusão dos estudantes no processo de ensino. Trata-se de um processo que envolve não apenas a esfera educacional, mas diversos outros componentes da sociedade.

Novo Ensino Médio

A Lei nº 13.415/2017, conhecida como **Lei da Reforma do Ensino Médio**, implementou uma série de mudanças no Ensino Médio, como aumento da carga horária obrigatória do ensino médio e flexibilização do currículo, permitindo que estudantes escolham parte do que vão estudar.

Conforme a lei, o currículo do Ensino Médio deve ser 60% preenchido pela BNCC e os 40% restantes serão destinados aos chamados **itinerários formativos**, em que o estudante poderá escolher entre cinco áreas de estudo.

A grade curricular das escolas públicas e privadas de ensino médio não terá mais o formato utilizado até então em que as disciplinas eram individuais, graças à BNCC. Agora, os conteúdos serão divididos em áreas do conhecimento de maneira similar à que acontece no Enem:

- Linguagens e suas tecnologias;
- Matemática e suas tecnologias;



- Ciências da natureza e suas tecnologias
- Ciências humanas e sociais aplicadas; e
- Formação técnica e profissional.

Os alunos poderão escolher a área na qual vão se aprofundar logo no início do Ensino Médio. As escolas não são obrigadas a oferecer aos alunos todas as cinco áreas, mas deverão oferecer ao menos um dos itinerários formativos.

Essas divisões vão abranger as disciplinas de Língua Portuguesa, Arte, Educação Física, Língua Inglesa, Matemática, Biologia, Física, Química, Filosofia, Geografia, História e Sociologia. Nenhum desses componentes será excluído do currículo atual, mas serão trabalhados de maneira diferente do que se fazia até então.

No entanto, das disciplinas atuais, somente **Língua Portuguesa** e **Matemática** serão obrigatórias nos três anos do Ensino Médio.

O objetivo da nova organização curricular é integrar as disciplinas, fortalecendo as relações entre elas e melhorando seu entendimento e aplicação na vida real.

Além disso, a carga horária anual deverá aumentar. Até 2024, o Novo Ensino Médio passará de 800 para de 1.000 horas anuais, atingindo 3.000 horas ao final dos três anos. Para atingir esse montante, cada ano letivo deve ter 200 dias, com, em média, cinco horas por dia. No modelo antigo, são 4 horas diárias.



RESUMO

Doenças infecciosas no Brasil

O Brasil ainda convive com doenças infecciosas transmitidas por microrganismos patogênicos, como vírus, bactérias, fungos e parasitas. Essas doenças podem ser contagiosas, transmitidas diretamente de uma pessoa para outra (como a gripe, a tuberculose e a aids) ou transmitidas por vetores, como mosquitos (dengue e febre amarela, por exemplo).

Essas doenças transmissíveis são potencialmente perigosas de tornarem-se epidêmicas (quando um surto acontece em várias regiões) em um mundo com centros urbanos cada vez mais densamente povoados, como é o caso do nosso país.

Nos últimos anos, convivemos ora com a dengue, no outro ano é a Chikungunya, depois o Zika vírus, a febre amarela, o sarampo e o coronavírus.

Na atualidade, a **dengue** é o mais recente grande surto de uma doença infecciosa no Brasil.

Dengue - É uma doença cíclica no país, que, ao longo dos anos recentes, tem apresentado ondas de aumento e diminuição. A dengue é uma infecção viral, transmitida pela picada do mosquito *Aedes aegypti*. O aumento sazonal nos casos de dengue geralmente está relacionado aos altos volumes de chuvas e altas temperaturas, que contribuem para a reprodução do mosquito. O mosquito se reproduz através da água parada, onde ele deposita suas larvas.

Chikungunya - É transmitida pelo mesmo mosquito da dengue, o *Aedes aegypti*. No ano de 2019, registrou-se um pico nos casos: foram 132.205 casos, com 92 mortes.

Zika vírus - O Zika vírus também é transmitido pelo mosquito *Aedes aegypti*. Ele está ligado à microcefalia, uma condição rara em que o bebê nasce com o crânio do tamanho menor do que o normal. Em 2019 foi quando ocorreu o maior pico recente nos casos de zika, com 10.708 ocorrências e 3 mortes.

Sarampo - A doença reapareceu no ano de 2018, na região Norte, trazida pelos venezuelanos que fugiam da crise no seu país. Outro surto ocorreu em 2019, desta vez sem estar relacionados aos venezuelanos. Foram 18.203 casos confirmados e 15 mortes, a maioria destes no estado de São Paulo.

Febre amarela - A doença teve um grande surto no país em 2017, o maior surto desde que começaram os registros da doença, pelo Ministério da Saúde, em 1940. O estado mais atingido pelo surto foi Minas Gerais, seguido pelo Espírito Santo.

Poliomielite - transmitida pelo vírus **poliovírus**, a doença é facilmente evitada com a vacinação, que é aplicada em crianças num esquema de cinco doses. Entretanto, no período recente, a taxa de imunizados contra a pólio caiu consideravelmente, o que tem gerado preocupações sobre a sua volta no país.



RESUMO

Violência e Segurança Pública

O Brasil é o país onde anualmente ocorrem o maior número de homicídios no mundo, respondendo por 10,4% do total mundial em 2021 (ONU/2023). Quando se leva em conta a taxa de homicídios, o Brasil fica na 11ª posição no ranking global, com 22,38 homicídios a cada 100 mil habitantes - quase quatro vezes mais do que a média global de 5,8 por 100 mil habitantes.

A América Latina (sem Estados Unidos e Canadá) segue sendo a região mais violenta do mundo. Cerca de 27% dos 458 mil homicídios foram cometidos na região, que tem a maior taxa de homicídios do mundo.

Para analisar a situação da violência e segurança pública nacional, o principal fornecedor de dados, estatísticas e análises é o **Anuário Brasileiro de Segurança Pública**.

- **Mortes violentas intencionais em 2022:** 47.398
- **Taxa de homicídios por 100 mil habitantes em 2022:** 23,4

Para a Organização Mundial da Saúde (OMS), **qualquer taxa acima de dez homicídios por 100 mil habitantes ao ano já é considerada uma situação de violência epidêmica** e, portanto, inaceitável. Ou seja, vive-se em uma epidemia de violência no Brasil.

- Estados com maiores taxas de homicídios por 100 mil habitantes: **Amapá (50,6), Bahia (47,1) e Amazonas (38,8)**.
- Estados com menores taxas de homicídios por 100 mil habitantes: **São Paulo (8,4), Santa Catarina (9,1) e Distrito Federal (11,3)**.

Quanto ao perfil das vítimas, verifica-se que a maior parte é negra, do sexo masculino e jovem (situados na faixa etária de 12 a 29 anos).

Apesar de ainda ser um número altíssimo para os padrões internacionais, as **mortes violentas no Brasil atingiram seu menor número em 12 anos**.

A questão racial

O percentual de negros vítimas de homicídios é maior do que a participação desse grupo no conjunto da população brasileira. Nos últimos anos, a taxa de homicídios teve queda entre os não negros e crescimento ou redução menor entre os negros.

Esses dados fazem com que pesquisadores e entidades de direitos humanos afirmem que há um componente de exclusão na questão da violência no Brasil. Para eles, os negros são historicamente discriminados, o que faz com que estejam mais vulneráveis a serem vítimas da violência e caírem na criminalidade.

Custos da violência

O Brasil perde algo em torno de 6% do PIB a cada ano em face do crime e da violência letal. São custos que estão relacionados às despesas de manutenção do aparato de segurança pública, do sistema prisional e de cumprimento de medidas socioeducativas, em serviços de segurança particular e privada, em seguros



contra furtos e roubos e no sistema de saúde, com o atendimento de vítimas da violência. A violência afeta também as atividades econômicas e o turismo.

Como a maior parte das vítimas de homicídios é de pessoas jovens, há, ainda, uma grandiosa perda futura de geração de riqueza para o Estado e a sociedade. São pessoas que poderiam viver por muitas décadas, produzindo, consumindo e pagando impostos que reverteriam em benefício da sociedade.

Violência policial e vitimização letal de policiais

A letalidade da polícia brasileira é alvo constante de críticas de entidades de defesa de direitos humanos. O número de pessoas mortas pela violência policial no Brasil é considerado altíssimo nas comparações internacionais. Em 2022, **6.430 pessoas morreram vítimas de policiais em 2022, o que corresponde a 17 pessoas por dia.**

Entre os estados, **Bahia e Rio de Janeiro** juntos representam 43% de todas as mortes provocadas pelas polícias no Brasil.

Se, por um lado, o grau de letalidade da polícia brasileira é alto, por outro, os policiais também são vítimas desse mesmo sistema. Morrem muitos policiais no Brasil vitimados por assassinatos, em serviço, e fora de serviço. **Morrem mais policiais fora de serviço, do que em serviço.**

Causas da violência e propostas de soluções para a redução da violência e da criminalidade

De acordo com vários estudos e publicações, podemos sintetizar como causas da violência e da criminalidade:

- **Urbanização acelerada e inchaço das periferias:** devido ao acelerado e excludente padrão de crescimento das cidades brasileiras, que não conseguiram fornecer infraestrutura e serviços públicos adequados para as populações das periferias. Soma-se a isso a carência de emprego e temos um ambiente propício para a explosão da violência e da criminalidade.

- **Deficiência do Estado (poder público) no provimento de direitos:** A população de menor renda é a que mais necessita de serviços públicos de qualidade, como forma de garantia de direitos constitucionais sociais, individuais e coletivos. O atendimento efetivo a esses direitos levaria a uma diminuição da criminalidade.

- **Exclusão social e desigualdade social:** As altas aspirações de consumo de bens e serviços (de tênis de grife a eletrônicos, por exemplo) somam-se à frustração com base na relativa falta de mobilidade social (avanço em qualidade de vida econômica e social), gerando assaltos, roubos e furtos.

- **Ação dos traficantes de drogas ilícitas:** O narcotráfico contribui significativamente para o aumento da violência e da sensação de insegurança nas cidades brasileiras.

Várias são as propostas para a redução da violência e da criminalidade. Destaca-se o **investimento em políticas públicas preventivas de cidadania e de segurança pública.**

Violência contra a mulher

Conforme a ONU, o Brasil ocupa a 5ª posição no ranking mundial de proporção de assassinatos de mulheres. Nem todos os assassinatos de mulheres são feminicídios, que são homicídios praticados contra a vítima mulher por motivações baseadas em violência doméstica e/ou intrafamiliar, ou em caso de menosprezo ou discriminação pela condição de mulher.



De acordo com o 17º Anuário Brasileiro de Segurança Pública, foram registrados **1.437 feminicídios em 2022**, o que representa um aumento de 6,1% em relação a 2021. Sobre o perfil das vítimas desse crime, constata-se que são predominantemente negras e possuem de 18 a 44 anos. A maior parte das vítimas foi morta pelo próprio parceiro íntimo, ex-parceiro ou por familiar.

Violência sexual – A violência sexual pode ser definida como qualquer ato sexual ou tentativa de obter ato sexual, sem o consentimento da vítima. A violência pode ser exercida com uso da força ou ameaça, mas também com chantagem, suborno ou manipulação.

Em 2022, segundo dados do 17º Anuário Brasileiro de Segurança Pública, **o Brasil registrou o maior número da história de casos de estupros: foram 74.930 vítimas**, um crescimento de 8,2% na comparação com 2021

A maior parte dos estupros que ocorre no Brasil é o de vulnerável (crianças menores de 14 anos ou pessoas com doenças ou deficiência mental).

Enfrentamento da violência contra a mulher - É fundamental haja o encorajamento para que aquelas que já tenham sido vítimas de violência ou estejam na iminência de sê-lo denunciem o agressor, de modo que o Estado possa tomar medidas destinadas a evitar que a violência e as ameaças, permanentes ou eventuais, redundem em morte, como a aplicação de medidas protetivas no âmbito da Lei Maria da Penha e por meio da manutenção, a ampliação e o aprimoramento das redes de apoio à mulher. O suporte estatal a mulher é fundamental, especialmente, no momento do rompimento do relacionamento, principal motivo de morte de mulheres no contexto do feminicídio. Outra medida é o combate à impunidade, com a responsabilização dos autores de atos de violência.

Sistema prisional brasileiro

O sistema carcerário brasileiro enfrenta, há muito tempo, uma grave crise estrutural, social e econômica. O Brasil possui uma das maiores populações carcerárias do mundo. Conforme o 17º Anuário Brasileiro de Segurança Pública, em 2022, o Brasil possuía **832.295 pessoas encarceradas, a maior população carcerária de sua história**.

Ainda que apresente uma enorme população carcerária, o Brasil ainda possui um grande **déficit de vagas** nos presídios. Segundo o 17º Anuário, há um déficit de 230.578 vagas nos presídios brasileiros. Ou seja, **os presídios estão superlotados**, há mais pessoas presas do que número de vagas.

Em relação ao perfil, verifica-se que **a maior parte dos presos no Brasil são negros, do sexo masculino e possuem entre 18 a 34 anos**. Embora o 17º Anuário não traga esses dados, outras fontes estatísticas apontam ainda que grande parcela dos encarcerados apresenta baixa escolaridade e baixa renda.

Soluções para a crise do sistema prisional – A solução para a crise penitenciária está relacionada à redução da violência e da criminalidade no Brasil. Já que estando em uma sociedade menos violenta, diminuir-se-ia os crimes, o que contribuiria para a redução do número de presos.

Outras propostas para enfrentar a superlotação do sistema prisional são:



- Maior adoção de penas alternativas ao encarceramento;
- Fornecimento do acesso adequado à justiça;
- Promoção de ajustes na Lei de Drogas; e
- Sistema que, de fato, ressocialize o preso, com políticas humanizadoras e que possibilite a reinserção do ex-detento à vida em sociedade.



RESUMO

Educação Brasileira

Diretrizes da educação brasileira:

Lei de Diretrizes e Bases da Educação (LDB) é a principal legislação que regulamenta a educação no Brasil. Detalha o papel da União, dos estados, dos municípios e do Distrito Federal na educação, apresenta referenciais curriculares e estabelece a carga horária mínima para cada um.

A LDB também determina a aprovação, pelo Congresso Nacional, de um **Plano Nacional da Educação (PNE)**, com metas a serem alcançadas em um prazo de 10 anos. O órgão responsável pela elaboração e execução do plano é o **Ministério da Educação (MEC)**.

O MEC também é responsável por elaborar, a partir da LDB, a **Base Nacional Comum Curricular (BNCC)**, um documento que define o conjunto de temas essenciais que todos os alunos devem aprender ao longo da educação básica.

Plano Nacional da Educação (PNE):

Estabelece metas qualitativas e quantitativas gerais, a serem alcançadas em, no máximo, 10 anos.

O **PNE** em vigor foi instituído em 2014, e tem sua validade para o decênio 2014-2024.

O PNE institui avaliações a cada dois anos para acompanhamento da implementação das metas. O **Instituto Nacional de Estudos e Pesquisas Educacionais (Inep)** é responsável por publicar os relatórios bianuais de monitoramento das metas.

Próximo do fim, a maioria das metas está longe de sua completude, indicando que, para o próximo decênio, muitas metas poderão ser repetidas.

Avaliação da educação brasileira:

Programa Internacional de Avaliação de Estudantes (Pisa) - é desenvolvido pela Organização para a Cooperação e Desenvolvimento Econômico (OCDE) e avalia os conhecimentos em leitura, matemática e ciências. O Brasil sempre está entre os últimos colocados no Pisa.

Exame Nacional do Ensino Médio (Enem) - tem como objetivo avaliar a qualidade geral do Ensino Médio no país, orientando as políticas educacionais do Brasil. Serve também como acesso ao Ensino Superior em universidades públicas brasileiras, por meio do Sistema de Seleção Unificada (Sisu), do Programa Universidade Para Todos (Prouni) e do Fundo de Financiamento Estudantil (Fies).

Sistema Nacional de Avaliação da Educação Básica (Saeb) - é uma avaliação realizada em larga escala no país que busca traçar um diagnóstico da educação brasileira e dos níveis de aprendizagem dos alunos. Os resultados de aprendizagem apurados no Saeb, juntamente com as taxas de aprovação aferidas no Censo Escolar, compõem o **Índice de Desenvolvimento da Educação Básica (Ideb)**, utilizado para monitorar o desempenho das escolas e das redes de ensino. Trata-se de um índice que varia numa escala de 0 a 10 e é divulgado a cada dois anos.

Desafios da educação brasileira:



Desafios externos - baixo nível socioeconômico de boa parte da população, que acaba por prejudicar o acesso ao conhecimento e afeta a chance do aprendizado ser concretizado.

Desafios internos - falta de professores, baixa remuneração e qualificação desses profissionais, deficiência de infraestrutura nas escolas, muitas vezes sem bibliotecas, quadras esportivas e laboratórios de informática adequados, falta de vagas nas escolas, entre outros.

Na **Educação Infantil**, o principal problema apontado é a falta de vagas, além da baixa oferta de creches em período integral.

No **Ensino Fundamental**, a qualidade do ensino é apontada como o principal desafio.

No **Ensino Médio**, a **evasão** é muito elevada.

O **Ensino Superior** teve muitos avanços nas duas últimas décadas. Cresceu o número de universitários e a quantidade de cursos. Mesmo assim, há problemas como a baixa participação de alunos de 18 a 24 anos matriculados na Educação Superior e as desigualdades socioeconômicas no seu acesso.

De forma abrangente, os desafios estão relacionados a um sistema educacional de melhor qualidade e também por uma sociedade que garanta maior inclusão dos estudantes no processo de ensino. Educação básica de qualidade e inclusiva é fundamental para o aumento da produtividade econômica e para o exercício da cidadania.

Novo Ensino Médio:

A Lei nº 13.415/2017 implementou uma série de mudanças no Ensino Médio, como aumento da carga horária obrigatória do ensino médio e flexibilização do currículo, permitindo que estudantes escolham parte do que vão estudar.

Conforme a lei, o currículo do Ensino Médio deve ser 60% preenchido pela Base Nacional Comum Curricular (BNCC) e os 40% restantes serão destinados aos chamados **itinerários formativos**, em que o estudante poderá escolher entre cinco áreas de estudo. Além disso, a carga horária anual deverá aumentar.



QUESTÕES COMENTADAS – DOENÇAS INFECCIOSAS NO BRASIL – MULTIBANCAS

1. (FGV/MPE-SP/2023) Segundo o boletim epidemiológico da Prefeitura, a capital paulista registrou duas mortes e 11.815 casos confirmados de dengue em 2022, o maior patamar da doença desde o início da pandemia de Covid-19.

Frente a esse aumento da epidemia é preciso agir para evitar que o cenário se repita em 2023, uma vez que

A) as chuvas de verão, no início do ano, produzem o ambiente ideal para a reprodução do mosquito *Aedes aegypti*, que também transmite febre amarela, malária e chikungunya.

B) trata-se de uma doença cíclica e de ocorrência não uniforme, de modo que estados e regiões vivenciam o seu acirramento em momentos diferentes do ano.

C) o relaxamento das restrições impostas contra a Covid-19, como o distanciamento social, acelerou o contágio entre pacientes acometidos pela doença.

D) a diminuição da circulação do vírus depende do êxito das campanhas de vacinação, combinadas ao uso intensivo de inseticidas químicos para eliminar o vetor do vírus.

E) o combate dessa arbovirose necessita de uma ação contínua de eliminação da vegetação de grande e médio porte, a qual abriga os insetos transmissores e possibilita sua proliferação.

COMENTÁRIOS:

a) Incorreta. O primeiro trecho da alternativa está correta. As chuvas de verão, no início do ano, produzem o ambiente ideal para a reprodução do mosquito *Aedes aegypti*. O mosquito é responsável por transmitir a dengue, o zika vírus e a chikungunya. Contudo, a febre amarela é transmitida por artrópodes e a malária pelo mosquito da espécie *Anopheles*.

b) Correta. A dengue é uma doença cíclica e de ocorrência não uniforme, de modo que estados e as regiões vivenciam o seu acirramento em momentos diferentes do ano. O período do ano em que os casos costumam aumentar geralmente está relacionado às estações chuvosas, quando os focos de água parada aumentam e facilitam a reprodução do mosquito.

c) Incorreta. O relaxamento das restrições impostas contra a covid-19 não acelerou o contágio entre pacientes acometidos pela doença, uma vez que a dengue não é transmitida de pessoa para pessoa, apenas pela picada do mosquito *Aedes aegypti*.

d) Incorreta. Existe vacina para a dengue, mas ela não reduz a circulação do vírus, pois isso está atrelado à proliferação do mosquito *Aedes aegypti*. Para reduzir a circulação do vírus, deve-se combater a proliferação do mosquito, o que pode ser feito com cuidados básicos, sendo o principal deles evitar a existência de focos com água parada.



e) Incorreta. Arbovirose é o termo utilizado para doenças causadas por vírus transmitidos, principalmente por mosquitos, como a dengue. A eliminação da vegetação de grande e médio porte não contribui para a eliminação dos mosquitos transmissores do vírus. Pelo contrário, uma série de estudos mostram que a perda de vegetação pode impulsionar o aumento de casos de dengue.

Gabarito: B

2. (VUNESP/EPC/2023) O Ministro da Saúde fez um pronunciamento em cadeia de rádio e TV na noite deste domingo [06 nov.] pedindo para que os pais e responsáveis vacinem as crianças contra essa doença. Segundo dados do Ministério, a campanha de vacinação que ocorreu em agosto e setembro deste ano [2022] vacinou menos de 70% do público-alvo, composto de crianças de zero a cinco anos. A meta é imunizar 95% das crianças nessa faixa etária em todo o país.

Esta campanha de vacinação é para reduzir os casos de

- A) poliomielite.
- B) HPV.
- C) difteria.
- D) catapora.
- E) caxumba.

COMENTÁRIOS:

A campanha de vacinação foi feita para reduzir os casos de poliomielite, também conhecida como paralisia infantil. A redução da cobertura vacinal contra a doença no período recente preocupou as autoridades de saúde com a possível volta da doença. Por isso, em 2022, o Ministério da Saúde intensificou a campanha de vacinação contra a poliomielite.

Gabarito: A

3. (FGV/CÂMARA MUNICIPAL DE TAUBATÉ-SP/2022 - TÉCNICO LEGISLATIVO DE INFORMÁTICA) O chamado movimento antivacina foi incluído pela Organização Mundial da Saúde (OMS), este ano, entre as dez maiores ameaças à saúde global; ele passou a figurar numa lista ao lado de riscos como o ebola, o HIV, a dengue e a influenza. Segundo a OMS, os movimentos antivacina são tão perigosos quanto os vírus das doenças que aparecem nesta lista, porque ameaçam reverter o progresso alcançado no combate a doenças evitáveis por vacinação. Os pesquisadores têm alertado para o fato de que ao movimento antivacina pode ser imputado, em grande medida, o recente ressurgimento de doenças tais como

- (A) sarampo e poliomielite.
- (B) aids e esquistossomose.
- (C) raiva e dengue.



(D) leishmaniose e doença de Chagas.

(E) chikungunya e hanseníase.

COMENTÁRIOS:

Dentre as doenças mencionadas pelas alternativas, as que tem reaparecido no mundo são o sarampo e a poliomielite. Ambas têm vacinas para combater à doença, e o seu ressurgimento tem ocorrido em um cenário de diminuição da cobertura vacinal, relacionado tanto ao crescimento dos movimentos antivacina quanto ao desconhecimento da população sobre a necessidade de se vacinar.

Gabarito: A

(QUADRIX/CFBio/2018 - AGENTE ADMINISTRATIVO) O processo de degradação do quadro sanitário nacional é longo, lento, mas se mostra inexorável. O primeiro sintoma grave foi a volta do mosquito *Aedes aegypti*, muito depois de Oswaldo Cruz, no início do século XX, ter lançado uma campanha para sua erradicação e, por consequência, da febre amarela urbana. O mosquito trouxe de volta a dengue. Não se permite, impunemente, a ocupação desordenada das cidades e o falho saneamento básico. Da dengue passou-se para outras doenças, incluindo a zika. E agora surge uma enorme ameaça à população, principalmente às crianças, com a redução da cobertura de vacinas em níveis perigosos.

O Globo, 26/6/2018, p. 12 (com adaptações).

Tendo o fragmento de texto acima como referência inicial e considerando as múltiplas implicações do tema por ele abordado, julgue os itens:

4. Acredita-se que uma das razões para as centenas de casos de sarampo no Norte do Brasil, na atualidade, deve-se à entrada de venezuelanos sem imunização na região.

COMENTÁRIOS:

Quando esta prova foi aplicada, os estados de Roraima e Amazonas enfrentavam um surto de sarampo. De acordo com o Ministério da Saúde, o vírus teria sido trazido por refugiados venezuelanos que entraram no Brasil. Contudo, de acordo com especialistas e autoridades de saúde, o surto de sarampo poderia ter sido evitado se as metas de vacinação do público alvo tivessem sido atingidas nos anos anteriores ao surto. A cobertura vacinal ficou abaixo da meta de 95% da população alvo. Se estivesse na meta, teriam casos de sarampo entre os brasileiros, mas não teria ocorrido um surto.

Gabarito: Certo

5. O texto sugere que a precariedade do saneamento básico favorece o surgimento de várias doenças evitáveis.

COMENTÁRIOS:

O texto sugere isto, o que é uma verdade. A carência de serviços de água potável, coleta e tratamento de esgoto, de coleta e destino final adequado de resíduos sólidos e de drenagem urbana cria um ambiente



propício ao desenvolvimento de doenças graves que poderiam ser evitadas. A maior parte das doenças relacionadas à falta de saneamento básico se desenvolvem devido à água contaminada. Entre as doenças frequentemente associadas à falta de saneamento básico, a diarreia é a mais registrada.

Gabarito: C

6. O Brasil não tem tradição de promover campanhas nacionais de vacinação em massa da população para a erradicação de doenças como a paralisia infantil (poliomielite).

COMENTÁRIOS:

O Sistema Público Único de Saúde (SUS) promove regularmente diversas campanhas de vacinação em massa da população para a prevenção e a erradicação de doenças. A vacina da paralisia infantil é uma delas, além de muitas outras, como febre amarela, dengue e sarampo.

Gabarito: E

7. A inexistência de um sistema público único de saúde impede que a maioria da população brasileira possa ser atendida gratuitamente em hospitais e postos de saúde.

COMENTÁRIOS:

O Sistema Único de Saúde (SUS), público, oferece a possibilidade à população do atendimento gratuito em hospitais e em postos de saúde.

Por meio do SUS, a população brasileira tem direito à saúde universal e gratuita, financiada com recursos provenientes dos orçamentos da União, dos Estados, do Distrito Federal e dos Municípios, conforme rege o artigo 195 da Constituição Federal.

Fazem parte do Sistema Único de Saúde os centros e postos de saúde, os hospitais públicos - incluindo os universitários, os laboratórios e hemocentros (bancos de sangue), os serviços de Vigilância Sanitária, Vigilância Epidemiológica, Vigilância Ambiental, além de fundações e institutos de pesquisa acadêmica e científica, como a Fundação Oswaldo Cruz e o Instituto Vital Brazil.

Gabarito: E

8. Segundo o texto, as cidades brasileiras geralmente nascem e se desenvolvem de forma planejada, o que assegura boas condições sanitárias aos seus habitantes.

COMENTÁRIOS:

O texto não afirma isso. Pelo contrário, fala na ocupação desordenada das cidades. O rápido crescimento dos centros urbanos brasileiros ocorreu sem o devido planejamento governamental, o que desencadeou diversos problemas urbanos, como a favelização, a poluição dos recursos naturais, o déficit habitacional e a ausência de boas condições sanitárias aos seus habitantes.

Gabarito: E



9. No Brasil, o combate ao mosquito transmissor da dengue e de outras doenças só se iniciou agora, no século XXI.

COMENTÁRIOS:

O texto trata de responder essa questão ao fazer menção a Oswaldo Cruz. No século XX, Oswaldo Cruz, cientista, médico, bacteriologista, epidemiologista e sanitarista brasileiro, coordenou as campanhas de erradicação da febre amarela e da varíola, no Rio de Janeiro e em outras cidades brasileiras.

Em 1904, convenceu o então presidente, Rodrigues Alves, a decretar a vacinação obrigatória, o que provocou a rebelião de populares e da Escola Militar contra o que consideraram uma invasão de suas casas e uma vacinação forçada, episódio famoso que ficou conhecido como Revolta da Vacina.

Como vimos no texto e no que explanei acima, o combate ao mosquito transmissor da dengue e de outras doenças é antigo, não é recente do século XXI.

Gabarito: E

10. Sabe-se que o adequado tratamento da água e do esgoto evita o surgimento de muitas doenças.

COMENTÁRIOS:

A carência de serviços de água potável, coleta e de tratamento de esgoto cria um ambiente propício ao desenvolvimento de doenças graves que poderiam ser evitadas. Portanto, o adequado tratamento da água e do esgoto evita o surgimento de muitas doenças.

Nesse sentido, investir em saneamento básico é um dos principais investimentos quando se trata a questão da saúde pública, pois é um investimento que, além de zelar pela saúde geral e bem-estar da população, propiciando uma vida digna, diminui os custos com tratamentos de doenças que são evitadas por meio da prevenção.

Gabarito: C

11. Entre as terríveis sequelas da zika, está a má-formação cerebral de fetos.

COMENTÁRIOS:

O zika vírus está ligado à microcefalia, uma condição rara em que o bebê nasce com o crânio do tamanho menor do que o normal. Mulheres que foram picadas pelo mosquito, contraíram o zika vírus e pouco tempo depois engravidaram, deram à luz a bebês que nasceram com microcefalia.

Gabarito: C



QUESTÕES COMENTADAS – VIOLÊNCIA E SEGURANÇA PÚBLICA – MULTIBANCAS

1. (QUADRIX/CRP-10/2022 – ASSISTENTE ADMINISTRATIVO) No Brasil, ainda não há lei com o objetivo de proteger a mulher vítima de violência.

COMENTÁRIOS:

No Brasil, a principal legislação que objetiva proteger as mulheres vítimas de violência é a Lei Maria da Penha. Existem outras, mas essa é a principal. Portanto, existem leis com objetivo de proteger a mulher vítima de violência. Embora a violência contra às mulheres ainda seja muito alta no país, têm-se obtido avanços no seu combate e prevenção.

Gabarito: Errado

(QUADRIX/CFT/2021 – JORNALISTA) O Plano Nacional de Segurança Pública e Defesa Social 2021-2030 contou com ampla participação da sociedade civil, por meio de consulta pública, e foi formulado de acordo com os objetivos previstos pela Lei nº 13.675/2018, para o desenvolvimento da Política Nacional de Segurança Pública e Defesa Social. O Plano Nacional de Segurança Pública e Defesa Social, com duração de dez anos, será estruturado em ciclos de implementação bienais. A dinâmica de implementação do Plano, por meio de ciclos bianuais, permite que o tema segurança pública possa ser abordado de acordo com o dinamismo que é peculiar ao tema.

Internet: <<https://www.gov.br>> (com adaptações).

Quanto ao cenário da segurança pública no Brasil, julgue os itens a seguir.

2. No Brasil, as mortes classificadas como homicídios, latrocínios e lesões corporais seguidas de morte e as mortes em decorrência de intervenção policial, divulgadas por pesquisas de segurança pública, têm um maior quantitativo de vítimas nas pessoas jovens, negras e do sexo masculino.

COMENTÁRIOS:

No Brasil, as principais vítimas de homicídios são pessoas jovens, negras e do sexo masculino. Da mesma forma, são as principais vítimas de homicídios em decorrência de intervenções policiais.

Gabarito: Certo

3. Apesar de a lei do feminicídio tipificar esse tipo de assassinato de gênero como crime há mais de cinco anos, os dois últimos anos de pandemia do coronavírus contribuíram para a redução desse tipo de morte, já que retirou boa parte da população urbana de circulação nas ruas.

COMENTÁRIOS:



A lei do feminicídio, criada em 2015, tipifica esse assassinato de gênero como crime hediondo. Os condenados por esse tipo de crime merecem a pena máxima de reclusão (40 anos), não têm direito a indulto (perdão) ou anistia, nem mesmo a responder ao processo em liberdade mediante o pagamento de fiança.

Durante a pandemia do Coronavírus, no ano de 2020, registrou-se leve aumento dos feminicídios em relação ao ano de 2019.

Gabarito: Errado

4. À medida que a Internet possibilita o acesso a mais dados e a agilidade, por logaritmo, nas transações bancárias, as fraudes e os golpes também tendem a crescer percentualmente e uma das causas pode ser creditada à falta de intimidade da população com os velozes avanços dos aplicativos e das ferramentas tecnológicas.

COMENTÁRIOS:

Afirmativa correta, sem nada a acrescentar. Com a internet e a utilização de sistemas bancários pelo meio virtual, muitos golpes se disseminaram, sendo as principais vítimas àquelas pessoas com menor intimidade e conhecimento das tecnologias, como os idosos.

Gabarito: Certo

5. O aumento do número de armas oficialmente registradas nas mãos de civis no Brasil é diretamente proporcional à escalada da violência nos aglomerados subnormais dos grandes centros urbanos do País.

COMENTÁRIOS:

A escalada da violência nos aglomerados subnormais (favelas) está diretamente relacionada aos grupos criminosos, especialmente ao tráfico de drogas e às milícias, que obviamente possuem armas. Todavia, são o crime e a disputa por território que intensificam a violência nos aglomerados subnormais.

A maioria das pesquisas sobre a posse e o porte de armas indica que a flexibilização no porte de armas aumenta o número de homicídios e apresenta maior risco às crianças. Contudo, não podemos fazer uma relação direta com o que a questão afirma. A liberação de armas é um tema muito polêmico no Brasil, em que se observam argumentos contrários e favoráveis.

Gabarito: Errado

6. Em cidades que possuem sistemas eletrônicos e interligados, a implantação de boletins de ocorrência on-line acerca da violência doméstica agiliza o encaminhamento do registro policial para o Poder Judiciário.

COMENTÁRIOS:

A implantação de boletins de ocorrência on-line em casos de violência doméstica é um método que agiliza o encaminhamento do registro policial para o Poder Judiciário.



Era possível resolver a questão sem saber desse fato específico, apenas com base lógica. A utilização de tecnologias no ambiente criminal tem se mostrado benéfica para o fortalecimento da rede de prevenção, combate e julgamento a crimes de violência contra a mulher.

Gabarito: Certo

7. (CEBRASPE/CBM-AL/2021 – ASPIRANTE) No Brasil, os lugares que são materialmente pobres ou que possuem fraca força política e social são mais vulneráveis ao acontecimento de mortes violentas, seja por conflitos relacionados ao tráfico de drogas, seja por ações policiais.

COMENTÁRIOS:

Lugares materialmente pobres ou com fraca força política e social têm menor atuação do Estado, com suas instituições administrativas de saúde, educação e segurança pública. Dessa forma, tornam-se mais vulneráveis ao acontecimento de mortes violentas, seja por conflitos relacionados ao tráfico de drogas, seja por ações policiais.

Um exemplo pode ser visto na escala regional do Brasil. Os estados das regiões Norte e Nordeste apresentam, no geral, maiores taxas de homicídios e de mortes violentas do que os estados das regiões Sul, Sudeste e Centro-Oeste, os quais têm maior desenvolvimento econômico e social.

Gabarito: Certo

8. (CEBRASPE/PGE-PE/2019 – ANALISTA JUDICIÁRIO) A história do território brasileiro é, a um só tempo, una e diversa, pois é também a soma e a síntese das histórias de suas regiões. De um ponto de vista genético, as variáveis do espaço brasileiro são assíncronas, mas em cada lugar elas funcionam sincronicamente e tendem a ser assim também quanto ao todo. Daí as descontinuidades que permitiram explicar as diversidades regionais.

Milton Santos e Maria Silveira. Brasil: território e sociedade no início do século XXI. Record, 2005, p. 23 (com adaptações).

Tendo como referência o texto antecedente, julgue o item que se segue, acerca dos fenômenos políticos, econômicos e sociais atuais no Brasil.

Segundo órgão das Nações Unidas para os Direitos Humanos, o Brasil ocupa o quinto lugar no ranking mundial de feminicídio, termo que foi criado para designar o assassinato de mulheres e meninas por questões de gênero e que, embora se refira a ato individual, é encarado como uma manifestação de desarranjo social, uma vez que se associa a menosprezo ou a discriminação à condição feminina.

COMENTÁRIOS:

A questão traz a definição correta de feminicídio. O Brasil apresenta a quinta maior taxa de mortes violentas intencionais de mulheres do mundo: 4,8 para 100 mil mulheres, segundo dados de 2015 da Organizações Mundial de Saúde (OMS).

Gabarito: Certo



(CEBRASPE/PM AL/2018 – SOLDADO) A falta de segurança custa mais de R\$ 365 bilhões por ano ao Brasil. O valor equivale a 5,5% do produto interno bruto (PIB), calculado com base em dados oficiais de 2012 a 2016. Se dividida pela população, a conta seria de R\$ 1,8 mil para cada brasileiro ao ano. As despesas públicas anuais com segurança e sistema prisional somaram R\$ 101 bilhões, e os custos privados, R\$ 264 bilhões. A violência, porém, avançou.

O Globo, 1.º/7/2018, capa (com adaptações).

Tendo o fragmento de texto precedente como referência inicial e considerando a amplitude do tema por ele focalizado, julgue os itens seguintes.

9. Além de atingir física e emocionalmente as pessoas, a violência também causa graves prejuízos materiais ao país.

COMENTÁRIOS:

Segundo o economista Daniel Cerqueira, do IPEA, o Brasil perde algo em torno de 6% do PIB a cada ano em face do crime e da violência letal. São custos que estão relacionados às despesas de manutenção do aparato de segurança pública, do sistema prisional e de cumprimento de medidas socioeducativas, em serviços de segurança particular e privada, em seguros contra furtos e roubos e no sistema de saúde, com o atendimento de vítimas da violência.

A violência afeta também as atividades econômicas, a exemplo de atividades comerciais suspensas ou seriamente prejudicadas pela redução do consumo e pela diminuição da venda de produtos de maior valor, devido ao medo dos consumidores de serem roubados. Outro setor que sofre as consequências dos elevados índices de violência é o turismo. Algumas cidades brasileiras deixam de arrecadar milhões em função da criminalidade.

Sem dúvida, para além dos custos econômicos, a maior de todas as perdas é a de vidas humanas. Mas, mesmo nesse aspecto, há um custo econômico, uma vez que o Estado e as famílias investiram recursos nessas vidas em saúde, educação, lazer, alimentação etc.

Como a maior parte das vítimas de homicídios é de pessoas jovens, há, ainda, uma grandiosa perda futura de geração de riqueza para o Estado e a sociedade. São pessoas que poderiam viver por muitas décadas, produzindo, consumindo e pagando impostos que reverteriam em benefício da sociedade.

Gabarito: Certo

10. Segundo o texto, o gasto da iniciativa privada com segurança foi mais que o dobro do gasto do Estado com segurança e sistema prisional.

COMENTÁRIOS:

Questão de interpretação de texto e de matemática básica em Atualidades. Rsrtrs. Gasto da iniciativa privada com segurança: 264 bilhões. Gasto do Estado com segurança e sistema prisional: 101 bilhões. O dobro é 202 bilhões, ou seja, o gasto da iniciativa privada foi mais que o dobro do gasto do Estado com segurança e sistema prisional.



Gabarito: Certo

11. Na atualidade, os índices elevados de violência estão restritos às capitais dos estados brasileiros e aos grandes centros urbanos, não atingindo diretamente regiões interioranas.

COMENTÁRIOS:

Nos últimos anos, verifica-se, no Brasil, o aumento da violência em regiões interioranas. Os índices elevados de violência não estão restritos somente às capitais dos estados brasileiros e aos grandes centros urbanos. O crescimento econômico de cidades do interior, sem o adequado investimento em segurança pública e infraestrutura, é considerado como uma das causas para isso. Outro motivo é o fato de que muitos pequenos municípios são controlados pelo crime organizado por estarem em rota de tráfico de drogas e de contrabando.

Gabarito: Errado

12. A ação de facções e grupos criminosos amplia consideravelmente os índices de violência e a sensação de insegurança coletiva.

COMENTÁRIOS:

Parcela significativa dos crimes letais no Brasil está associada aos grupos criminosos que atuam, principalmente, no mercado das drogas ilícitas. O elevado número de mortes, a explosão de caixas eletrônicos de bancos, o roubo de cargas e os tiroteios decorrentes de disputa entre grupos criminosos são exemplos de atividades criminosas que ampliam consideravelmente os índices de violência e a sensação de insegurança coletiva.

Gabarito: Certo

13. É cada vez menor a atuação do crime organizado em escala global devido, principalmente, ao êxito obtido pelos governos no combate ao tráfico de drogas ilícitas.

COMENTÁRIOS:

A globalização permitiu a ascensão do crime organizado em grande escala. Tornou possível a conexão e a comunicação de organizações do crime organizado em países e continentes diferentes e muito distantes. Dados de organizações internacionais indicam que o crime organizado global não diminuiu, vem mantendo o seu tamanho e o valor econômico global das suas atividades criminosas. Os dados também indicam que o consumo de drogas não diminuiu no mundo. Ou seja, não há este êxito dos governos no combate ao tráfico de drogas ilícitas.

Gabarito: Errado

14. (CESPE/PC MA/2018 – ESCRIVÃO E INVESTIGADOR DE POLÍCIA) Em 2017, houve uma série de rebeliões de detentos em Roraima, em Minas Gerais, em Santa Catarina, no Amazonas, no Paraná e no Rio Grande do Norte. Essas ocorrências demonstram a séria crise do sistema prisional brasileiro. A respeito desse assunto, julgue os itens a seguir.



I A população carcerária brasileira é composta em sua totalidade por detentos que cumprem penas já sentenciadas pela justiça.

II Um dos problemas dos presídios brasileiros é a superlotação, resultante de políticas de segurança ineficazes e da falta de celeridade da justiça.

III As referidas rebeliões ocorreram devido às precárias condições e falhas do sistema carcerário, não guardando relação com disputas entre grupos do crime organizado de outras regiões do país.

IV Para assegurar o controle do sistema carcerário, a privatização ou terceirização dos presídios tem sido apresentada como opção para solucionar a atual crise desse sistema.

Estão certos apenas os itens

a) I e III.

b) II e IV.

c) III e IV.

d) I, II e III.

e) I, II e IV.

COMENTÁRIOS:

I – **Errado**. A população carcerária é composta por presos sem condenação e por presos que cumprem penas já sentenciadas pela justiça. Uma das críticas ao sistema é que o percentual de presos provisórios (sem condenação) é expressivo.

II – **Certo**. O sistema prisional está superlotado. Se as políticas de segurança fossem eficazes, a prevenção ao crime seria maior, com menos pessoas cometendo crimes, o que poderia resultar em menos prisões. Outra causa é a morosidade da justiça. Muitos presos provisórios, quando tem a sua sentença proferida pelo juiz já cumpriram o seu tempo de pena. Ou o juiz aplica uma pena equivalente ao tempo em que o preso está em privação de liberdade. Ou seja, uma justiça lenta contribui para a superlotação das prisões.

III – **Errado**. As rebeliões ocorreram devido às precárias condições e falhas do sistema carcerário e devido a disputa entre grupos do crime organizado pelo controle interno de presídios e pelo controle de atividades criminosas em regiões do país. Entre os grupos envolvidos estavam o PCC (com origem em São Paulo), o Comando Vermelho (com origem no Rio de Janeiro) e a Família do Norte (originária do Amazonas).

IV – **Certo**. A privatização ou terceirização de presídios é uma alternativa sempre lembrada e sugerida como opção para melhorar a gestão dos presídios no país.

Gabarito: B



15. (CESGRANRIO/LIQUIGÁS/2018 - PROFISSIONAL JÚNIOR CIÊNCIAS CONTÁBEIS) “Eu tenho o sonho de que meus quatro pequenos filhos viverão, um dia, numa nação onde não serão julgados pela cor da sua pele, mas pelo teor de seu caráter.” (...) Martin Luther King não solicitava o reconhecimento de identidades étnicas ou de direitos raciais. Ele exigia que os Estados Unidos aplicassem o princípio, contido nos seus documentos fundadores, segundo o qual “todos os seres humanos são criados iguais”.

MAGNOLI, D. E Ele não disse “África”. Disponível em:
<https://www.gazetadopovo.com.br/opiniao/artigos/e-ele-nao-disse-africa-cb3ab573qw631s9gw8rbafcjy>. Acesso em: 22 mar. 2018. Adaptado.

No ano de 2018, o filme Pantera Negra tornou-se sucesso de bilheteria ao apresentar um elenco predominantemente negro e desenvolver um enredo que envolve a disputa entre o rei T’Challa, guardião do reino de Wakanda e defensor da igualdade entre indivíduos de todos os grupos étnicos no mundo, e seu primo, Erik Killmonger, que busca derrubar o rei e liderar uma luta armada global como solução para a opressão sofrida pelos negros ao longo da história. Em algumas críticas, T’Challa foi comparado a Martin Luther King e Erik a Malcolm X.

Levando-se em consideração a postura do rei T’Challa e a sentença nuclear do discurso de Martin Luther King, que postura um líder deve ter para atender às demandas reais dos diferentes grupos étnicos da sociedade brasileira?

- (A) Defender a igualdade entre indivíduos livres de todos os grupos étnicos e não um acordo político entre coletividades raciais distintas.
- (B) Ignorar completamente a barbárie ao redor do mundo, criando um reino fechado em si mesmo, evitando a violência.
- (C) Enxergar a rebelião e a violência como via de transformação da situação de opressão vivida pelo povo negro.
- (D) Estimular o rompimento com os países opressores, promovendo o estabelecimento de centros de assistência social para a comunidade negra.
- (E) Defender a bandeira da rebelião e da ruptura radical das instituições políticas.

COMENTÁRIOS:

Uma questão que aborda o preconceito racial, mas procura como resposta uma solução ética e democrática. As diferenças existem e existirão em qualquer sociedade, mas, numa democracia, se deve buscar a igualdade entre todos os membros. É isso que Martin Luther King buscava na sua luta.

Uma sociedade democrática justa deve se preocupar com três itens: a) promoção das liberdades; b) distribuição (mais ou menos igualitária) dos bens políticos, econômicos e sociais; c) atendimento dos desafortunados (solidariedade). O famoso lema liberdade, igualdade e solidariedade (fraternidade) resume essas preocupações.



Sendo assim, nossa alternativa é a “A”. Todas as demais alternativas trazem uma solução que contemplaria as demandas dos grupos étnicos excluídos, mas tirando o direito de outros grupos sociais ou por meios violentos.

Gabarito: A



QUESTÕES COMENTADAS – EDUCAÇÃO BRASILEIRA – MULTIBANCAS

1. (CEBRASPE/TJ-SC/2023) Considerando o papel da educação para a cidadania e para o sistema produtivo, assinale a opção correta no que se refere ao atual sistema educacional brasileiro.

- a) Repetência e evasão são graves problemas verificados na educação básica.
- b) Proporcionalmente, os investimentos públicos na educação básica são maiores que no ensino superior.
- c) A criação do Exame Nacional do Ensino Médio (ENEM) significou a extinção dos tradicionais exames vestibulares.
- d) A formação dos professores da educação básica se dá, no seu conjunto, nas universidades públicas.
- e) Educação básica é a atual denominação do antigo curso primário, de quatro anos.

COMENTÁRIOS:

a) Correta. Nas análises sobre a Educação Básica, concorda-se que a evasão é um grave problema, porém, a parte da questão que se refere à repetência é bastante questionada em função da adoção do sistema de não reprovação de alunos. Nas pesquisas que fiz, não encontrei informações recentes que ainda apontam a repetência como sendo um grave problema da Educação Básica.

b) Incorreta. O custo por aluno é maior na Educação Superior do que na Educação Básica. Ou seja, proporcionalmente os investimentos públicos na Educação Superior são maiores do que na Educação Básica.

c) Incorreta. O ENEM não significou a extinção dos vestibulares tradicionais, mas ofereceu uma alternativa de acesso ao Ensino Superior em diversas instituições, além de ser utilizado como critério em programas governamentais como o Sisu (Sistema de Seleção Unificada).

d) Incorreta. A maior parte dos professores se forma em faculdades de Educação Superior privadas, e uma menor parte em faculdades e universidades públicas. A oferta de Educação Superior ocorre majoritariamente no sistema privado de ensino.

e) Incorreta. A Educação Básica corresponde à Educação Infantil e ao Ensino Fundamental e Médio. Portanto, não se equivale ao antigo curso primário de quatro anos.

Gabarito: A

(QUADRIX/CRO-TO/2023) No que diz respeito a assuntos da atualidade do Brasil e do mundo, julgue os itens a seguir.

2. Contraditoriamente, o acesso à educação nos mais diversos países tende a ser minimizado, excluindo dele a maioria absoluta dos habitantes dessas regiões.



COMENTÁRIOS:

A educação é uma das prioridades da agenda global. Em escalas variadas, o seu acesso cresce em quase todos os países do mundo. Mesmo nos países pobres, a maioria dos seus habitantes tem acesso à educação.

Embora seja verdade que existem desigualdades significativas no acesso à educação em todo o mundo, e que em algumas regiões isso pode ser um desafio, não é correto afirmar que a tendência geral é de minimização do acesso à educação.

Gabarito: Errado

3. No Brasil dos dias atuais, o analfabetismo, um dos grandes problemas que o país enfrentou em séculos de história, foi praticamente eliminado.

COMENTÁRIOS:

Apesar dos avanços nas últimas décadas, o analfabetismo ainda é um desafio no Brasil contemporâneo. Embora tenha havido melhorias significativas, especialmente nas taxas de alfabetização, a eliminação completa do analfabetismo ainda não foi alcançada no país.

Gabarito: Errado

4. Universidades e instituições públicas estão na vanguarda da produção científica brasileira, produzindo conhecimento que se transforma em tecnologia.

COMENTÁRIOS:

As universidades e instituições públicas são responsáveis por grande parte das pesquisas científicas e da formação de novos pesquisadores e cientistas no país. Por sua vez, as pesquisas científicas realizadas nessas instituições resultam em inovações tecnológicas e desenvolvimento de novos produtos, processos e serviços.

Desse modo, as universidades e instituições públicas desempenham um papel fundamental na produção científica brasileira e têm contribuído significativamente para a transformação do conhecimento em tecnologia.

Gabarito: Certo

5. (VUNESP/EPC/2023) Um grande desafio do governo é a implementação do novo Ensino Médio, que será iniciada ainda este ano [2022]. Houve todo um preparo para essa implementação. Já foram investidos mais de R\$ 2 bilhões nessa mudança. Até o momento, não prevemos nenhuma alteração no cronograma.

(Agência Brasil. <https://bit.ly/3JWlpqe>. 28.04.2022)

Uma das mudanças trazidas pelo novo modelo de Ensino foi

- A) a introdução de duas línguas estrangeiras no currículo.
- B) a criação de área de estudos denominada Ciências Sociais Aplicadas.



- C) o aumento da carga horária para mil horas letivas anuais.
- D) a redução da flexibilidade curricular existente anteriormente.
- E) a carga horária híbrida com 40% de ensino à distância.

COMENTÁRIOS:

A) Incorreto. A reforma do Ensino Médio não impôs a introdução de duas línguas estrangeiras, embora as escolas tenham a flexibilidade para oferecer opções de línguas estrangeiras.

B) Incorreto. O novo modelo de Ensino Médio definiu cinco áreas de conhecimento, sendo uma delas “Ciências humanas e sociais aplicadas”. Nessa alternativa, o examinador foi no detalhe, pois, de fato, foi criada essa área, mas com uma nomenclatura diferente do que mencionado na alternativa.

C) Correta. Uma das mudanças significativas do novo Ensino Médio foi o aumento da carga horária mínima anual de ensino de 800 para 1.000 horas.

D) Incorreto. Na verdade, um dos argumentos para a implementação do novo modelo é justamente de aumentar a flexibilidade curricular, permitindo que os estudantes escolham parte de suas disciplinas com base em seus interesses.

E) Incorreto. O Novo Ensino Médio não estabeleceu uma carga horária híbrida com um percentual específico de ensino a distância.

Gabarito: C

6. (CEBRASPE/TJ-SC/2023) Com relação ao papel da educação no desenvolvimento econômico e na consolidação da cidadania no Brasil, assinale a opção correta.

- A) O exercício da cidadania, cujo fortalecimento é um objetivo da educação, circunscreve-se às eleições.
- B) Com recentes investimentos financeiros do Estado, foi superado todo o problema da qualidade da educação básica brasileira.
- C) Educação básica de qualidade e inclusiva é fundamental para o aumento da produtividade econômica.
- D) Historicamente, o financiamento da educação básica é maior que o da educação superior, se considerado o número de matriculados.
- E) É pleno o atual domínio das instituições públicas no número de matrículas na educação superior, restando à iniciativa privada uma participação secundária.

COMENTÁRIOS:

a) Incorreta. O exercício da cidadania vai além das eleições. A educação tem um papel importante na formação de cidadãos conscientes, críticos e participativos, que contribuem para a construção de uma sociedade democrática e justa.



b) Incorreta. Embora tenham ocorrido avanços nos investimentos na Educação Básica brasileira, ainda existem desafios e problemas a serem superados com relação à qualidade do ensino, que ainda demanda atenção e investimentos contínuos.

c) Correta. A Educação Básica de qualidade e inclusiva desempenha um papel fundamental no desenvolvimento econômico de um país. Uma população educada tem maior potencial para adquirir habilidades e conhecimentos necessários para o mercado de trabalho, o que contribui para o aumento da produtividade e para o crescimento econômico.

d) Incorreta. Historicamente, o financiamento da Educação Básica costuma ser menor do que o da Educação Superior, considerando o número de matriculados. Comumente, o financiamento da Educação Superior tende a ser maior em termos absolutos, pois envolve custos mais elevados, como infraestrutura, laboratórios, pesquisa e qualificação dos professores. Além disso, a Educação Superior geralmente recebe uma parcela significativa de recursos provenientes de mensalidades pagas pelos estudantes ou por meio de programas de financiamento estudantil.

e) Incorreta. Segundo dados de 2021 divulgados pelo Inep, as instituições privadas de ensino superior têm uma participação de 76,9% no total de matrículas de graduação, enquanto a rede pública participa com 23,1%. Ou seja, o número de matrículas é maior na rede privada. Contudo, ambas as redes são muito importantes para a educação superior, nenhuma é secundária, em relação à outra.

Gabarito: C

7. (VUNESP/TJ-SP/2023) Com cartazes, estudantes realizaram na manhã desta quarta-feira (15) um ato pela revogação do Novo Ensino Médio. O protesto iniciou por volta das 9h no vão livre do Masp, na Avenida Paulista, e, às 10h, desceu para a Avenida Brigadeiro Luís Antônio. Depois, os estudantes seguiram destino para a Assembleia Legislativa de São Paulo. O Novo Ensino Médio, previsto numa lei aprovada em 2017, começou a ser implementado em 2022 em todo o país, nas escolas públicas e privadas, mas só se tornou obrigatório a partir deste ano.

(Disponível em <https://g1.globo.com>, 15.03.2023. Adaptado)

A respeito do Novo Ensino Médio e das reivindicações dos alunos, é correto afirmar que os

(A) novos conteúdos são voltados para a área tecnológica e houve drástica redução da carga horária de disciplinas humanísticas.

(B) estudantes querem que os professores façam cursos de reciclagem antes da implementação do novo modelo.

(C) manifestantes exigem que as aulas sejam ministradas em tempo integral.

(D) estudantes exigem que, após a implementação total do novo modelo, os alunos, ao terminarem o último ciclo, ingressem, sem exame vestibular, no curso superior de sua livre escolha.

(E) conteúdos são divididos em áreas do conhecimento de maneira similar à que acontece no Exame Nacional do Ensino Médio (Enem).



COMENTÁRIOS:

O ato realizado pelos estudantes pedia a revogação do Novo Ensino Médio. Segundo os organizadores, o Novo Ensino Médio trouxe inúmeros problemas para os itinerários formativos, que começaram a ser ofertados ainda em 2022, mas só se tornaram obrigatórios a partir do ano de 2023. Portanto, as afirmativas “B”, “C” e “D” estão incorretas.

Com o novo sistema, os conteúdos passam a ser divididos em áreas do conhecimento de maneira similar à que acontece no Exame Nacional do Ensino Médio (Enem): Matemáticas e suas Tecnologias, Linguagens e suas Tecnologias, Ciências da Natureza e suas Tecnologias e Ciências Humanas e Sociais Aplicadas. Correta a afirmativa “E”.

A letra “A” está incorreta. Às áreas do conhecimento acima descritas já demonstram que novos conteúdos são voltados para a área tecnológica. Houve redução, não drástica redução, da carga horária de disciplinas humanísticas.

Gabarito: E



LISTA DE QUESTÕES - DOENÇAS INFECCIOSAS NO BRASIL – MULTIBANCAS

1. (FGV/MPE-SP/2023) Segundo o boletim epidemiológico da Prefeitura, a capital paulista registrou duas mortes e 11.815 casos confirmados de dengue em 2022, o maior patamar da doença desde o início da pandemia de Covid-19.

Frente a esse aumento da epidemia é preciso agir para evitar que o cenário se repita em 2023, uma vez que

A) as chuvas de verão, no início do ano, produzem o ambiente ideal para a reprodução do mosquito *Aedes aegypti*, que também transmite febre amarela, malária e chikungunya.

B) trata-se de uma doença cíclica e de ocorrência não uniforme, de modo que estados e regiões vivenciam o seu acirramento em momentos diferentes do ano.

C) o relaxamento das restrições impostas contra a Covid-19, como o distanciamento social, acelerou o contágio entre pacientes acometidos pela doença.

D) a diminuição da circulação do vírus depende do êxito das campanhas de vacinação, combinadas ao uso intensivo de inseticidas químicos para eliminar o vetor do vírus.

E) o combate dessa arbovirose necessita de uma ação contínua de eliminação da vegetação de grande e médio porte, a qual abriga os insetos transmissores e possibilita sua proliferação.

2. (VUNESP/EPC/2023) O Ministro da Saúde fez um pronunciamento em cadeia de rádio e TV na noite deste domingo [06 nov.] pedindo para que os pais e responsáveis vacinem as crianças contra essa doença. Segundo dados do Ministério, a campanha de vacinação que ocorreu em agosto e setembro deste ano [2022] vacinou menos de 70% do público-alvo, composto de crianças de zero a cinco anos. A meta é imunizar 95% das crianças nessa faixa etária em todo o país.

Esta campanha de vacinação é para reduzir os casos de

A) poliomielite.

B) HPV.

C) difteria.

D) catapora.

E) caxumba.

3. (FGV/CÂMARA MUNICIPAL DE TAUBATÉ-SP/2022 - TÉCNICO LEGISLATIVO DE INFORMÁTICA) O chamado movimento antivacina foi incluído pela Organização Mundial da Saúde (OMS), este ano, entre as dez maiores ameaças à saúde global; ele passou a figurar numa lista ao lado de riscos como o ebola, o HIV, a dengue e a influenza. Segundo a OMS, os movimentos antivacina são tão perigosos quanto os vírus das



doenças que aparecem nesta lista, porque ameaçam reverter o progresso alcançado no combate a doenças evitáveis por vacinação. Os pesquisadores têm alertado para o fato de que ao movimento antivacina pode ser imputado, em grande medida, o recente ressurgimento de doenças tais como

- (A) sarampo e poliomielite.
- (B) aids e esquistossomose.
- (C) raiva e dengue.
- (D) leishmaniose e doença de Chagas.
- (E) chikungunya e hanseníase.

(QUADRIX/CFBio/2018 - AGENTE ADMINISTRATIVO) O processo de degradação do quadro sanitário nacional é longo, lento, mas se mostra inexorável. O primeiro sintoma grave foi a volta do mosquito *Aedes aegypti*, muito depois de Oswaldo Cruz, no início do século XX, ter lançado uma campanha para sua erradicação e, por consequência, da febre amarela urbana. O mosquito trouxe de volta a dengue. Não se permite, impunemente, a ocupação desordenada das cidades e o falho saneamento básico. Da dengue passou-se para outras doenças, incluindo a zika. E agora surge uma enorme ameaça à população, principalmente às crianças, com a redução da cobertura de vacinas em níveis perigosos.

O Globo, 26/6/2018, p. 12 (com adaptações).

Tendo o fragmento de texto acima como referência inicial e considerando as múltiplas implicações do tema por ele abordado, julgue os itens:

4. **Acredita-se que uma das razões para as centenas de casos de sarampo no Norte do Brasil, na atualidade, deve-se à entrada de venezuelanos sem imunização na região.**
5. **O texto sugere que a precariedade do saneamento básico favorece o surgimento de várias doenças evitáveis.**
6. **O Brasil não tem tradição de promover campanhas nacionais de vacinação em massa da população para a erradicação de doenças como a paralisia infantil (poliomielite).**
7. **A inexistência de um sistema público único de saúde impede que a maioria da população brasileira possa ser atendida gratuitamente em hospitais e postos de saúde.**
8. **Segundo o texto, as cidades brasileiras geralmente nascem e se desenvolvem de forma planejada, o que assegura boas condições sanitárias aos seus habitantes.**
9. **No Brasil, o combate ao mosquito transmissor da dengue e de outras doenças só se iniciou agora, no século XXI.**
10. **Sabe-se que o adequado tratamento da água e do esgoto evita o surgimento de muitas doenças.**
11. **Entre as terríveis sequelas da zika, está a má-formação cerebral de fetos.**





GABARITO

- 1. B
- 2. A
- 3. A
- 4. C

- 5. C
- 6. E
- 7. E
- 8. E

- 9. E
- 10. C
- 11. C



LISTA DE QUESTÕES - VIOLÊNCIA E SEGURANÇA PÚBLICA – MULTIBANCAS

1. (QUADRIX/CRP-10/2022 – ASSISTENTE ADMINISTRATIVO) No Brasil, ainda não há lei com o objetivo de proteger a mulher vítima de violência.

(QUADRIX/CFT/2021 – JORNALISTA) O Plano Nacional de Segurança Pública e Defesa Social 2021-2030 contou com ampla participação da sociedade civil, por meio de consulta pública, e foi formulado de acordo com os objetivos previstos pela Lei nº 13.675/2018, para o desenvolvimento da Política Nacional de Segurança Pública e Defesa Social. O Plano Nacional de Segurança Pública e Defesa Social, com duração de dez anos, será estruturado em ciclos de implementação bienais. A dinâmica de implementação do Plano, por meio de ciclos bianuais, permite que o tema segurança pública possa ser abordado de acordo com o dinamismo que é peculiar ao tema.

Internet: <<https://www.gov.br>> (com adaptações).

Quanto ao cenário da segurança pública no Brasil, julgue os itens a seguir.

2. No Brasil, as mortes classificadas como homicídios, latrocínios e lesões corporais seguidas de morte e as mortes em decorrência de intervenção policial, divulgadas por pesquisas de segurança pública, têm um maior quantitativo de vítimas nas pessoas jovens, negras e do sexo masculino.

3. Apesar de a lei do feminicídio tipificar esse tipo de assassinato de gênero como crime há mais de cinco anos, os dois últimos anos de pandemia do coronavírus contribuíram para a redução desse tipo de morte, já que retirou boa parte da população urbana de circulação nas ruas.

4. À medida que a Internet possibilita o acesso a mais dados e a agilidade, por logaritmo, nas transações bancárias, as fraudes e os golpes também tendem a crescer percentualmente e uma das causas pode ser creditada à falta de intimidade da população com os velozes avanços dos aplicativos e das ferramentas tecnológicas.

5. O aumento do número de armas oficialmente registradas nas mãos de civis no Brasil é diretamente proporcional à escalada da violência nos aglomerados subnormais dos grandes centros urbanos do País.

6. Em cidades que possuem sistemas eletrônicos e interligados, a implantação de boletins de ocorrência on-line acerca da violência doméstica agiliza o encaminhamento do registro policial para o Poder Judiciário.

7. (CEBRASPE/CBM-AL/2021 – ASPIRANTE) No Brasil, os lugares que são materialmente pobres ou que possuem fraca força política e social são mais vulneráveis ao acontecimento de mortes violentas, seja por conflitos relacionados ao tráfico de drogas, seja por ações policiais.

8. (CEBRASPE/PGE-PE/2019 – ANALISTA JUDICIÁRIO) A história do território brasileiro é, a um só tempo, una e diversa, pois é também a soma e a síntese das histórias de suas regiões. De um ponto de vista genético, as variáveis do espaço brasileiro são assíncronas, mas em cada lugar elas funcionam



sincronicamente e tendem a ser assim também quanto ao todo. Daí as discontinuidades que permitiram explicar as diversidades regionais.

Milton Santos e Maria Silveira. Brasil: território e sociedade no início do século XXI. Record, 2005, p. 23 (com adaptações).

Tendo como referência o texto antecedente, julgue o item que se segue, acerca dos fenômenos políticos, econômicos e sociais atuais no Brasil.

Segundo órgão das Nações Unidas para os Direitos Humanos, o Brasil ocupa o quinto lugar no ranking mundial de feminicídio, termo que foi criado para designar o assassinato de mulheres e meninas por questões de gênero e que, embora se refira a ato individual, é encarado como uma manifestação de desarranjo social, uma vez que se associa a menosprezo ou a discriminação à condição feminina.

(CEBRASPE/PM AL/2018 – SOLDADO) A falta de segurança custa mais de R\$ 365 bilhões por ano ao Brasil. O valor equivale a 5,5% do produto interno bruto (PIB), calculado com base em dados oficiais de 2012 a 2016. Se dividida pela população, a conta seria de R\$ 1,8 mil para cada brasileiro ao ano. As despesas públicas anuais com segurança e sistema prisional somaram R\$ 101 bilhões, e os custos privados, R\$ 264 bilhões. A violência, porém, avançou.

O Globo, 1.º/7/2018, capa (com adaptações).

Tendo o fragmento de texto precedente como referência inicial e considerando a amplitude do tema por ele focalizado, julgue os itens seguintes.

9. Além de atingir física e emocionalmente as pessoas, a violência também causa graves prejuízos materiais ao país.
10. Segundo o texto, o gasto da iniciativa privada com segurança foi mais que o dobro do gasto do Estado com segurança e sistema prisional.
11. Na atualidade, os índices elevados de violência estão restritos às capitais dos estados brasileiros e aos grandes centros urbanos, não atingindo diretamente regiões interioranas.
12. A ação de facções e grupos criminosos amplia consideravelmente os índices de violência e a sensação de insegurança coletiva.
13. É cada vez menor a atuação do crime organizado em escala global devido, principalmente, ao êxito obtido pelos governos no combate ao tráfico de drogas ilícitas.
14. (CESPE/PC MA/2018 – ESCRIVÃO E INVESTIGADOR DE POLÍCIA) Em 2017, houve uma série de rebeliões de detentos em Roraima, em Minas Gerais, em Santa Catarina, no Amazonas, no Paraná e no Rio Grande do Norte. Essas ocorrências demonstram a séria crise do sistema prisional brasileiro. A respeito desse assunto, julgue os itens a seguir.

I A população carcerária brasileira é composta em sua totalidade por detentos que cumprem penas já sentenciadas pela justiça.



II Um dos problemas dos presídios brasileiros é a superlotação, resultante de políticas de segurança ineficazes e da falta de celeridade da justiça.

III As referidas rebeliões ocorreram devido às precárias condições e falhas do sistema carcerário, não guardando relação com disputas entre grupos do crime organizado de outras regiões do país.

IV Para assegurar o controle do sistema carcerário, a privatização ou terceirização dos presídios tem sido apresentada como opção para solucionar a atual crise desse sistema.

Estão certos apenas os itens

a) I e III.

b) II e IV.

c) III e IV.

d) I, II e III.

e) I, II e IV.

15. (CESGRANRIO/LIQUIGÁS/2018 - PROFISSIONAL JÚNIOR CIÊNCIAS CONTÁBEIS) “Eu tenho o sonho de que meus quatro pequenos filhos viverão, um dia, numa nação onde não serão julgados pela cor da sua pele, mas pelo teor de seu caráter.” (...) Martin Luther King não solicitava o reconhecimento de identidades étnicas ou de direitos raciais. Ele exigia que os Estados Unidos aplicassem o princípio, contido nos seus documentos fundadores, segundo o qual “todos os seres humanos são criados iguais”.

MAGNOLI, D. E Ele não disse “África”. Disponível em:
<https://www.gazetadopovo.com.br/opiniaio/artigos/e-ele-nao-disse-africa-cb3ab573qw631s9gw8rbafcjy>. Acesso em: 22 mar. 2018. Adaptado.

No ano de 2018, o filme Pantera Negra tornou-se sucesso de bilheteria ao apresentar um elenco predominantemente negro e desenvolver um enredo que envolve a disputa entre o rei T’Challa, guardião do reino de Wakanda e defensor da igualdade entre indivíduos de todos os grupos étnicos no mundo, e seu primo, Erik Killmonger, que busca derrubar o rei e liderar uma luta armada global como solução para a opressão sofrida pelos negros ao longo da história. Em algumas críticas, T’Challa foi comparado a Martin Luther King e Erik a Malcolm X.

Levando-se em consideração a postura do rei T’Challa e a sentença nuclear do discurso de Martin Luther King, que postura um líder deve ter para atender às demandas reais dos diferentes grupos étnicos da sociedade brasileira?

(A) Defender a igualdade entre indivíduos livres de todos os grupos étnicos e não um acordo político entre coletividades raciais distintas.

(B) Ignorar completamente a barbárie ao redor do mundo, criando um reino fechado em si mesmo, evitando a violência.



- (C) Enxergar a rebelião e a violência como via de transformação da situação de opressão vivida pelo povo negro.
- (D) Estimular o rompimento com os países opressores, promovendo o estabelecimento de centros de assistência social para a comunidade negra.
- (E) Defender a bandeira da rebelião e da ruptura radical das instituições políticas.



- | | | |
|------|-------|-------|
| 1. E | 6. C | 11. E |
| 2. C | 7. C | 12. C |
| 3. E | 8. C | 13. E |
| 4. C | 9. C | 14. B |
| 5. E | 10. C | 15. A |



LISTA DE QUESTÕES – EDUCAÇÃO BRASILEIRA – MULTIBANCAS

1. (CEBRASPE/TJ-SC/2023) Considerando o papel da educação para a cidadania e para o sistema produtivo, assinale a opção correta no que se refere ao atual sistema educacional brasileiro.

- a) Repetência e evasão são graves problemas verificados na educação básica.
- b) Proporcionalmente, os investimentos públicos na educação básica são maiores que no ensino superior.
- c) A criação do Exame Nacional do Ensino Médio (ENEM) significou a extinção dos tradicionais exames vestibulares.
- d) A formação dos professores da educação básica se dá, no seu conjunto, nas universidades públicas.
- e) Educação básica é a atual denominação do antigo curso primário, de quatro anos.

(QUADRIX/CRO-TO/2023) No que diz respeito a assuntos da atualidade do Brasil e do mundo, julgue os itens a seguir.

- 2. Contraditoriamente, o acesso à educação nos mais diversos países tende a ser minimizado, excluindo dele a maioria absoluta dos habitantes dessas regiões.
- 3. No Brasil dos dias atuais, o analfabetismo, um dos grandes problemas que o país enfrentou em séculos de história, foi praticamente eliminado.
- 4. Universidades e instituições públicas estão na vanguarda da produção científica brasileira, produzindo conhecimento que se transforma em tecnologia.
- 5. (VUNESP/EPC/2023) Um grande desafio do governo é a implementação do novo Ensino Médio, que será iniciada ainda este ano [2022]. Houve todo um preparo para essa implementação. Já foram investidos mais de R\$ 2 bilhões nessa mudança. Até o momento, não prevemos nenhuma alteração no cronograma.

(Agência Brasil. <https://bit.ly/3JWlpqe>. 28.04.2022)

Uma das mudanças trazidas pelo novo modelo de Ensino foi

- A) a introdução de duas línguas estrangeiras no currículo.
- B) a criação de área de estudos denominada Ciências Sociais Aplicadas.
- C) o aumento da carga horária para mil horas letivas anuais.
- D) a redução da flexibilidade curricular existente anteriormente.
- E) a carga horária híbrida com 40% de ensino à distância.



6. (CEBRASPE/TJ-SC/2023) Com relação ao papel da educação no desenvolvimento econômico e na consolidação da cidadania no Brasil, assinale a opção correta.

- A) O exercício da cidadania, cujo fortalecimento é um objetivo da educação, circunscreve-se às eleições.
- B) Com recentes investimentos financeiros do Estado, foi superado todo o problema da qualidade da educação básica brasileira.
- C) Educação básica de qualidade e inclusiva é fundamental para o aumento da produtividade econômica.
- D) Historicamente, o financiamento da educação básica é maior que o da educação superior, se considerado o número de matriculados.
- E) É pleno o atual domínio das instituições públicas no número de matrículas na educação superior, restando à iniciativa privada uma participação secundária.

7. (VUNESP/TJ-SP/2023) Com cartazes, estudantes realizaram na manhã desta quarta-feira (15) um ato pela revogação do Novo Ensino Médio. O protesto iniciou por volta das 9h no vão livre do Masp, na Avenida Paulista, e, às 10h, desceu para a Avenida Brigadeiro Luís Antônio. Depois, os estudantes seguiram destino para a Assembleia Legislativa de São Paulo. O Novo Ensino Médio, previsto numa lei aprovada em 2017, começou a ser implementado em 2022 em todo o país, nas escolas públicas e privadas, mas só se tornou obrigatório a partir deste ano.

(Disponível em <https://g1.globo.com>, 15.03.2023. Adaptado)

A respeito do Novo Ensino Médio e das reivindicações dos alunos, é correto afirmar que os

- (A) novos conteúdos são voltados para a área tecnológica e houve drástica redução da carga horária de disciplinas humanísticas.
- (B) estudantes querem que os professores façam cursos de reciclagem antes da implementação do novo modelo.
- (C) manifestantes exigem que as aulas sejam ministradas em tempo integral.
- (D) estudantes exigem que, após a implementação total do novo modelo, os alunos, ao terminarem o último ciclo, ingressem, sem exame vestibular, no curso superior de sua livre escolha.
- (E) conteúdos são divididos em áreas do conhecimento de maneira similar à que acontece no Exame Nacional do Ensino Médio (Enem).





GABARITO

1. A
2. E
3. E
4. C
5. C
6. C
7. E



DESENVOLVIMENTO SUSTENTÁVEL

As Origens das Preocupações Ambientais

A subsistência do ser humano sempre dependeu dos recursos naturais à sua volta. Ao longo da história, a exploração do meio ambiente contribuiu para o apogeu e para o declínio de grandes civilizações. Por conta dessa forte interdependência, o debate ambiental ganhou visibilidade aos poucos, trazendo diferentes visões sobre o desenvolvimento e a conservação da natureza.

Durante milhares de anos, o homem argumentou que destruía o meio ambiente para obter recursos indispensáveis à sua subsistência. Hoje, cientistas mostram que a própria sobrevivência da humanidade está em xeque por causa da exploração desenfreada dos recursos da natureza. Já não resta outra saída: a preservação de nossa espécie depende de uma mudança radical.

Praticada há milênios, a agricultura sempre produziu impactos negativos sobre o meio ambiente. O desmatamento e a desertificação do solo promovidos por nossos ancestrais são prova disso. Porém, foi com o avanço tecnológico que se impôs um novo ritmo de ação predatória. Foi só a partir da **industrialização** que os cientistas começaram a se articular para discutir os efeitos da **poluição** e os inúmeros problemas socioambientais causados pelo novo modelo de produção.

Iniciada na Inglaterra, a **Revolução Industrial** foi um divisor de águas na história da humanidade. Ela transformou artesãos em proletários, ambientes domesticados em artificiais, subsistência em salário, imprimindo uma drástica mudança na organização social. Além das transformações socioeconômicas, a Revolução Industrial também intensificou problemas ambientais, acelerando a extração dos recursos naturais.

No final do século XVIII, a comunidade científica passa a se interessar mais intensamente pelas questões ambientais. Preocupados com a falta de freio do progresso tecnológico, os cientistas argumentavam que era necessário estabelecer áreas intocáveis, onde a ação transformadora do homem fosse bloqueada. Nasceram, assim, os primeiros santuários ecológicos, como o Parque Yellowstone, nos Estados Unidos, criado em 1872.

Após a II Guerra Mundial, no período da Guerra Fria, Estados Unidos e União Soviética armaram-se até os dentes, ostentando arsenais bélicos suficientes para destruir o planeta inteiro várias vezes. A corrida armamentista alarmou não apenas os estudiosos, mas largas parcelas da população mundial. O debate ambiental, antes restrito às camadas intelectuais, ganhou a atenção de todas as classes, tornando-se um assunto do dia a dia.

Influenciados pela crescente pressão social, os governos não ignoraram esses alertas. Com a chegada do século XX, diversos acordos internacionais buscaram mitigar os efeitos nocivos da ação humana sobre a natureza.



A Sociedade de Consumo

Vivemos em uma sociedade marcada e dominada pela lógica do consumo. Todas as pessoas – jovens, adultos, idosos –, sejam elas ricas ou pobres, estão inseridas nesse contexto. São centenas de milhares de produtos apresentados como se tivéssemos a necessidade de tê-los para se alcançar a felicidade. O ato de consumir é colocado como uma das formas que permitem ao indivíduo sentir-se inserido na sociedade.

A economia mundial vive um momento em que um dos seus sustentáculos é a produção em larga escala de bens materiais. Vive-se um tempo em que existe forte pressão para que o estilo de vida seja baseado no consumo. A casa, o carro, as viagens fazem parte desse estilo.

A expansão acelerada do consumismo acarreta alta demanda/necessidade de energia, minérios, água e tudo o que é necessário à produção e ao funcionamento dos bens de consumo. O consumo exacerbado, não sustentável, globalizou-se. A expansão desenfreada do consumo trouxe consigo problemas que antes eram vistos como indiretos, mas que hoje estão cada vez mais ligados, de forma direta, aos problemas ambientais.

A ONU tem alertado para a velocidade da utilização dos recursos naturais, que já é muito maior que a capacidade de regeneração da natureza. Para alguns elementos da natureza, a reposição é impossível e a escala de tempo para a formação é milhões de vezes maior que a vida média dos seres humanos.

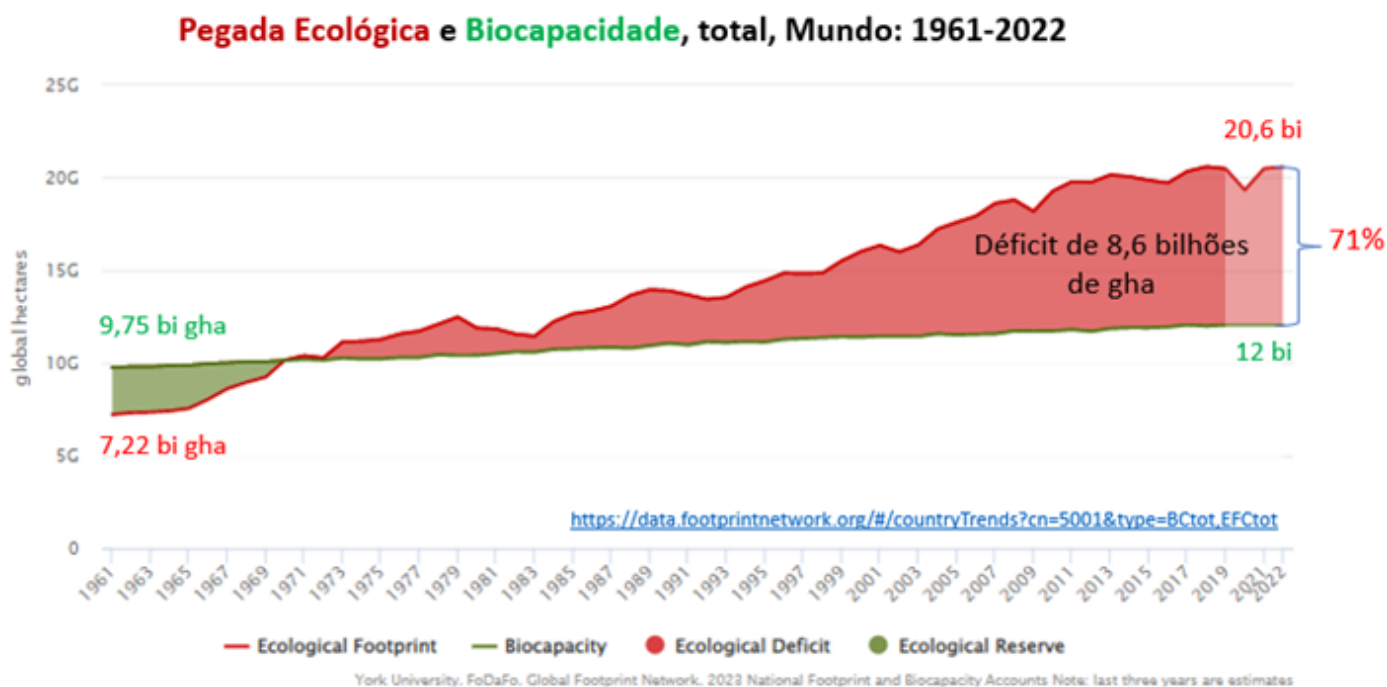
Segundo o Global Footprint Network, em 2022, a humanidade consumiu 71% a mais dos recursos naturais que a Terra pode oferecer. Se continuarmos nesse ritmo predatório, em poucas décadas a demanda atingirá os 100% – ou seja, precisaremos de dois planetas para sustentar o mundo.

A **biocapacidade** é um indicador que mede a área de terras e águas capazes de gerar recursos biológicos úteis e de absorver os resíduos produzidos pelas atividades humanas.

A pressão das atividades humanas sobre os ecossistemas é medida pela **pegada ecológica**. Ela nos mostra se o nosso estilo de vida está de acordo com a capacidade do planeta em oferecer e renovar seus recursos naturais e absorver os resíduos provocados pela atividade humana.

Para 2022, com uma população mundial de cerca de 8 bilhões de habitantes, a pegada ecológica está estimada em 20,6 bilhões de hectares globais (gha) e a biocapacidade global em 12 bilhões de gha. Portanto, o déficit ecológico absoluto é de 8,6 bilhões de gha e o déficit relativo é de 71%.





O Desenvolvimento Sustentável

Apesar de relativamente recente, a ideia de “desenvolvimento sustentável” era percebida há muitas décadas. A deterioração do ar, da água e dos solos já preocupava muitos governos europeus, que vivenciavam a destruição das florestas e dos rios, bem como a péssima qualidade de vida dos seus habitantes.

No início do século XX ficava cada vez mais claro que esses problemas somente cresceriam e que seria necessária uma ação conjunta. Porém, foi somente depois da Segunda Guerra Mundial (1939–1945) que os esforços internacionais pela preservação ambiental começaram a ter algum resultado.

Gradativamente, a comunidade internacional despertava para a problemática atual, até que, em 1972, o **Clube de Roma**, uma organização voltada ao debate do futuro da humanidade, publicou, com o apoio de especialistas do *Massachusetts Institute of Technology* (MIT), o relatório **Limites do Crescimento**. Alvo de muita polêmica, o relatório afirmava que, se continuassem os ritmos de crescimento da população, da utilização de recursos naturais e da poluição, a humanidade correria sérios riscos de sobrevivência no final do século XXI.

O relatório do Clube de Roma repercutiu de tal forma que, em 1972, a ONU organizou a **Conferência de Estocolmo**, conhecida como **1ª Conferência Internacional para o Meio Ambiente Humano**.

Considerada um marco do movimento ambiental, foi a primeira conferência organizada pela ONU que debateu os problemas ambientais do planeta. Poucos avanços foram conseguidos ao final da conferência, porém a sensibilização das lideranças da comunidade internacional acabou levando a ONU a criar o Programa das Nações Unidas para o Meio Ambiente (Pnuma).



Após a Conferência de Estocolmo, a comunidade internacional continuou debatendo e se mobilizando sobre o tema. Mas o conceito de desenvolvimento sustentável só iria surgir quinze anos depois, em 1987, em um contundente documento divulgado pelo Pnuma – o **Relatório Nosso Futuro Comum (também chamado de Relatório Brundtland)**. A coordenação da elaboração do documento coube à então primeira-ministra da Noruega, Gro Harlem Brundtland.

O relatório Nosso Futuro Comum é o primeiro grande documento científico que apresenta com detalhes as causas dos principais problemas ambientais e ecológicos, envolvendo atividades e políticas econômicas e discutindo abertamente os problemas das tecnologias usadas para movimentar a sociedade.

O documento popularizou o conceito de desenvolvimento sustentável, assim definido pelo relatório:

“Desenvolvimento sustentável é aquele que satisfaz as necessidades da geração presente sem comprometer a capacidade das gerações futuras de satisfazerem as suas próprias necessidades.”

Galera, a ideia de um desenvolvimento sustentável está ancorada em três dimensões: **social, econômica e ambiental**. Essas dimensões são conhecidas como o tripé do desenvolvimento sustentável.



É a compatibilização do desenvolvimento econômico, com o desenvolvimento social e com a preservação da qualidade do meio ambiente e do equilíbrio ecológico.

As atividades econômicas, no seu desenvolvimento, devem observar a preservação dos recursos naturais necessários para a própria continuidade do desenvolvimento econômico, da espécie humana e da vida na Terra. Ao mesmo tempo, todo desenvolvimento deve garantir condições de saúde, moradia e educação a toda a população – respeitando, inclusive, as peculiaridades e culturas de diferentes grupos, como as populações indígenas.

O debate sobre a insustentabilidade do atual modelo de desenvolvimento e sobre formas de alcançar o desenvolvimento sustentável seguiu após a divulgação do Relatório Nosso Futuro Comum. Na verdade, é um



tema central, cada vez mais presente nas conferências ambientais da ONU. Perpassou a Eco-92, Rio+5, Rio+10 e Rio+20.

A Conferência das Nações Unidas sobre Meio Ambiente e Desenvolvimento (Eco-92) realizou-se no Rio de Janeiro, de 3 a 14 de junho de 1992. A **Agenda 21** foi o mais importante documento aprovado pelos Estados-membros presentes na Eco-92. O documento está dividido em quatro seções e quarenta capítulos sobre as mais variadas áreas. Trata-se de um planejamento de futuro, com ações de curto, médio e longo prazos, contendo metas, indicadores, instrumentos, recursos e responsabilidades definidas. Não é uma agenda ambiental, mas uma agenda para o desenvolvimento sustentável.

O compromisso com a sustentabilidade traduz-se, na Agenda 21, em 27 princípios, calcados em três premissas:

- os países desenvolvidos devem mudar seu padrão de produção e consumo e, portanto, seu modelo econômico;
- os países em desenvolvimento devem manter as metas de crescimento, mas adotar métodos e sistemas de produção sustentáveis;
- as nações desenvolvidas devem apoiar o crescimento das mais pobres, com recursos financeiros, transferência de tecnologia e reformas nas relações comerciais e financeiras internacionais.

Vinte anos após a Rio 92, os países-membros da ONU reuniram-se em 2012, no Rio de Janeiro, na **Conferência da ONU para o Desenvolvimento Sustentável – RIO+20**. O evento teve como objetivo analisar os progressos feitos, desde 1992, e avançar na adoção de políticas para o desenvolvimento sustentável.

Previamente à conferência, a ONU divulgou um balanço geral da situação do planeta. A entidade considerou que o progresso em prol da sustentabilidade nas duas décadas anteriores havia sido bastante limitado. Segundo a ONU, novas tecnologias e métodos de produção adotados pela indústria baixaram em um terço o volume de recursos empregados em cada bem ou serviço produzido nos últimos 25 anos.

Apesar dessa evolução, no resultado final, o planeta passou a consumir 50% a mais de recursos naturais. Isso ocorreu porque as nações mais ricas não reduziram seu nível de consumo. Simultaneamente, as economias emergentes, como Índia e China, extremamente populosas, passaram a consumir mais do que nas décadas anteriores.

Como o cenário era de muita expectativa, esperavam-se resultados concretos. Não foi o que ocorreu. A Rio+20 causou frustração aos que esperavam metas ou agendas de compromissos.

Objetivos do Desenvolvimento Sustentável

A Rio+20 deliberou pela elaboração dos Objetivos do Desenvolvimento Sustentável (ODS), que viriam após o fim do período dos Objetivos do Desenvolvimento do Milênio (ODM) da ONU.



Em 2015, após mais de três anos de discussão, os líderes de governo e de estado aprovaram, por consenso, o documento **“Transformando Nosso Mundo: A Agenda 2030 para o Desenvolvimento Sustentável”**. Nas palavras da PNUD/ONU, “a Agenda é um plano de ação para as pessoas, o planeta e a prosperidade. Ela busca fortalecer a paz universal com mais liberdade e reconhece que a erradicação da pobreza em todas as suas formas e dimensões, incluindo a pobreza extrema, é o maior desafio global ao desenvolvimento sustentável”.

A Agenda consiste em uma Declaração, 17 Objetivos de Desenvolvimento Sustentável e as 169 metas, uma seção sobre meios de implementação e de parcerias globais e um arcabouço para acompanhamento e revisão. Os ODS aprovados foram construídos sobre as bases estabelecidas pelos Objetivos de Desenvolvimento do Milênio (ODM), de maneira a completar o trabalho deles e responder a novos desafios. São integrados e indivisíveis e mesclam, de forma equilibrada, as três dimensões do desenvolvimento sustentável consideradas pela ONU: a econômica, a social e a ambiental.

A Agenda considera cinco áreas como de importância crucial para a humanidade e para o planeta no período 2016–2030, denominadas de cinco Ps. Vejamos na figura a seguir:

Os cinco Ps da Agenda 2030



Vamos ver agora os 17 Objetivos do Desenvolvimento Sustentável:

1. **Acabar com a pobreza** em todas as suas formas, em todos os lugares.
2. **Acabar com a fome**, alcançar a segurança alimentar e melhoria da nutrição e promover a agricultura sustentável.
3. Assegurar uma **vida saudável e promover o bem-estar para todos**, em todas as idades.



4. Assegurar a **educação inclusiva e equitativa de qualidade**, e promover oportunidades de aprendizagem ao longo da vida para todos.
5. Alcançar a **igualdade de gênero** e empoderar todas as mulheres e meninas.
6. Assegurar a disponibilidade e gestão sustentável da **água e saneamento para todos**.
7. Assegurar o **acesso** confiável, **sustentável**, moderno e a preço acessível **à energia para todos**.
8. Promover o **crescimento econômico sustentado**, inclusivo e sustentável, **emprego** pleno e produtivo e **trabalho decente para todos**.
9. Construir **infraestruturas robustas, promover a industrialização inclusiva e sustentável e fomentar a inovação**.
10. **Reduzir a desigualdade** dentro dos países e entre eles.
11. Tornar as **cidades e os assentamentos humanos** inclusivos, seguros, resistentes e **sustentáveis**.
12. Assegurar padrões de **produção e de consumo sustentáveis**.
13. Tomar medidas urgentes para **combater a mudança do clima** e seus impactos.
14. Conservar e **usar sustentavelmente** dos **oceanos**, dos **mares e dos recursos marinhos** para o desenvolvimento sustentável.
15. Proteger, recuperar e promover o **uso sustentável dos ecossistemas terrestres**, gerir de forma sustentável as florestas, combater a desertificação, deter e reverter a degradação da terra e deter a perda de biodiversidade.
16. Promover **sociedades pacíficas** e inclusivas para o desenvolvimento sustentável, proporcionar o **acesso à justiça para todos** e construir **instituições eficazes, responsáveis e inclusivas em todos os níveis**.
17. Fortalecer os meios de implementação e revitalizar a **parceria global para o desenvolvimento sustentável**.

Comissão Nacional para os ODS

O Brasil instituiu uma **Comissão Nacional para os Objetivos de Desenvolvimento Sustentável** com a finalidade de internalizar, difundir e dar transparência ao processo de implementação da Agenda 2030 em nosso país. A Comissão está regulamentada pelo Decreto nº 8.892, de 27 de outubro de 2016.

O colegiado possui uma composição paritária, sendo de natureza consultiva, integrante da estrutura da Secretaria de Governo da Presidência da República, e responsável por conduzir o processo de articulação, de mobilização e diálogo com os entes federativos e a sociedade civil.



A Comissão lançou seu primeiro e único Plano de Ação em 2017, com ações para serem realizadas entre os anos de 2017 e 2019. Após esse plano, nenhum outro foi publicado. Entretanto, foi publicado novo decreto no dia 19 de agosto de 2023, o Decreto nº 11.704/2023, que institui novamente a Comissão Nacional para os Objetivos de Desenvolvimento Sustentável (ODS) e traz algumas mudanças em sua estrutura. Espera-se que, com essa nova publicação, a comissão publique um novo Plano de Ação.

Avaliação do Cumprimento dos ODS no País

Cumprir os Objetivos do Desenvolvimento Sustentável (ODS) é crucial para garantir ao País um futuro próspero e equitativo. Esses objetivos estabelecem diretrizes fundamentais para a erradicação da pobreza, a proteção do meio ambiente e o estímulo ao desenvolvimento econômico inclusivo. Ao aderir e buscar a concretização desses ODS, o Brasil se compromete não apenas com o presente, mas também com as gerações futuras, assegurando um legado de sustentabilidade.

O cumprimento dos ODS no Brasil implica em avanços significativos em diversas áreas-chave, envolvendo desde a garantia de acesso à educação e saúde de qualidade para todos até a promoção da igualdade de gênero, o combate às desigualdades sociais e a adoção de práticas que preservem os recursos naturais e a biodiversidade. Ao priorizar essas metas, o país não apenas melhora a qualidade de vida de sua população, mas também fortalece sua **posição global** como um agente comprometido com a justiça social e ambiental, garantindo ao país uma maior liderança e participação em organismos, cúpulas e fóruns globais das mais diversas áreas.

O **Relatório Luz**, um documento elaborado pela sociedade civil com participação de centenas de especialistas e organizações e feito com dados oficiais tem sido o principal meio de análise sobre a implementação e cumprimento dos ODS no Brasil. Desde 2017, o relatório é publicado anualmente, já estando em sua sétima edição, publicada em 2023.

Segundo a última avaliação do Relatório, o Brasil está distante do cumprimento de Objetivos de Desenvolvimento Sustentável (ODS), pois 60,35% das metas se encontram na classificação "retrocesso", que é quando "as políticas ou ações correspondentes foram interrompidas, alteradas negativamente ou sofreram esvaziamento orçamentário".

Critérios ESG

A sigla **ESG** vem do inglês e significa *Environmental, Social and Governance*, ou ASG - **Ambiental, Social e Governança**, em português. O conceito está relacionado ao meio empresarial. Apareceu pela primeira vez em 2004 em uma publicação do Pacto Global em parceria com o Banco Mundial, chamada **Who Cares Wins** ("**Ganha quem se importa**", em português).



Os critérios ESG têm ganhado grande relevância na atualidade frente ao cenário urgente de combate às mudanças climáticas e aos impactos ambientais causados pelo ser humano e suas atividades econômicas, como a perda de biodiversidade, poluição do ar e dos recursos hídricos, entre outros.

Muitas empresas hoje são maiores do que o PIB de vários países, e muitas empresas estão diariamente — e várias vezes ao dia — se relacionando com as pessoas, dentro de suas casas. Junto com o tamanho e a importância das empresas, vêm também as responsabilidades. **Se no passado uma empresa deveria estar focada no seu crescimento e na sua lucratividade, hoje o papel delas na sociedade é muito mais amplo.**

A gestão pelos critérios ESG entende que a geração de valor para todas as partes interessadas, os chamados **stakeholder**, passa a ser a razão de existir de uma empresa. Os stakeholders são todos os grupos que de alguma forma são impactados por uma empresa, os acionistas, os colaboradores, os fornecedores, os clientes e a comunidade.

É difícil pensar em relações duradouras e saudáveis, se não for bom para todos os lados. Ao desenvolver fortes laços com seus stakeholders, as empresas reduzem o risco operacional e aumentam a qualidade de seus produtos e serviços. Quando pensam em relações frutíferas com seus stakeholders, as empresas conseguem, com seu negócio e suas práticas, causar um impacto social positivo na sociedade.

Os pilares do ESG

E - Environmental ou Ambiental

Refere-se a práticas e princípios adotados na empresa para a conservação do meio ambiente.

Entre as práticas ambientais, podemos citar:

- Busca por alternativas sustentáveis para a redução do impacto no meio ambiente;
- Redução na emissão de poluentes;
- Boas práticas com embalagens, geração, cuidado e descarte de plásticos e outros materiais;
- Gerenciamento correto do descarte de lixo.

S - Social

Diz respeito à relação que a empresa tem com as pessoas do seu entorno.

Podemos destacar algumas práticas sociais:

- Aderência aos direitos trabalhistas;
- Valorização da saúde e segurança no ambiente de trabalho;
- Apoio à diversidade e inclusão;
- Posicionamento da empresa em causas e projetos sociais;
- Atuação com a comunidade.

G - Governance ou Governança



É a forma como a empresa realiza a gestão dos seus processos, com foco na transparência.

Abaixo, algumas práticas de governança:

- Adoção de políticas para o controle dos processos;
- Comportamento e política institucional relacionados às práticas anticorrupção, lavagem de dinheiro e trabalho escravo, por exemplo;
- Transparência na política de remuneração dos diretores;
- Valores, postura moral e ética nos negócios;
- Valorização da prestação de contas e da responsabilidade corporativa;
- Veracidade das informações de produtos e processos da empresa.

Além de ser um diferencial competitivo e de atrair investidores para o seu negócio, as boas práticas ESG trazem as seguintes vantagens:

- Empresas com ações de ESG correm menos riscos de enfrentarem problemas jurídicos, trabalhistas e fraudes;
- Redução dos custos operacionais e ganhos de produtividade;
- Fidelização de clientes que valorizam o consumo de produtos e serviços sustentáveis;
- Melhoria na imagem e reputação da marca;
- Emissão de greenbonds, que são títulos de dívida para projetos que promovem impactos positivos no meio ambiente;
- Acesso às linhas de crédito verde;
- Melhores índices de satisfação, atração e retenção de talentos.

Mais do que uma tendência, as práticas de ESG são fatores de competitividade no ambiente de negócios em geral. A sociedade e o mercado veem com bons olhos empresas que praticam ações de ESG e se preocupam com as questões ambientais, sociais e de governança.

As empresas buscam o ESG, portanto, para gerar um impacto positivo na sociedade e, com isso, reduzir os riscos, melhorar o relacionamento com clientes, fornecedores e as comunidades, e mostrar aos investidores que estão olhando para o negócio de maneira holística e transparente. O que motiva todo esse engajamento são os desafios enfrentados pela humanidade nas áreas ambiental e social.

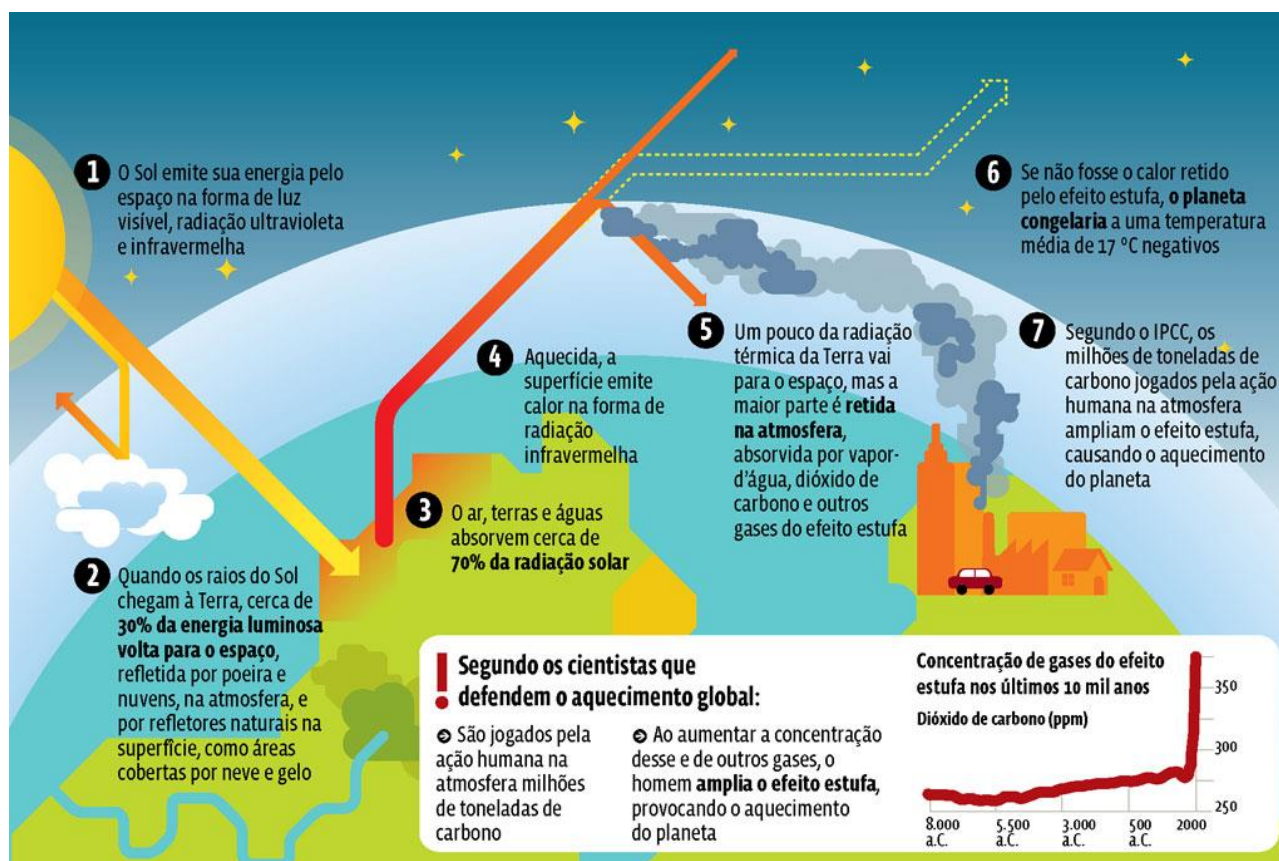


MUDANÇAS CLIMÁTICAS

O clima é o conjunto de condições médias de temperatura e ambiente num lugar, ao longo de muitos anos. A mudança climática é uma mudança nessas condições médias. A temperatura do planeta Terra está aumentando, o que se denomina de **aquecimento global**. Com sólidas evidências científicas, os cientistas climáticos afirmam que o aquecimento global está sendo causado pela **ação antrópica**, ou seja, a ação humana.

O efeito estufa é um fenômeno natural que permite à atmosfera da Terra reter parte do calor que o Sol envia ao planeta, o que mantém a sua temperatura média em torno de 14 °C, essencial para boa parte das formas de vida. O que está ocorrendo é uma **intensificação do fenômeno natural do efeito estufa**, com um aumento extraordinário da capacidade da atmosfera de reter calor. Situações desse tipo já ocorreram antes na história da Terra, motivadas, por exemplo, por alterações na atividade solar ou por grandes erupções vulcânicas. Mas agora a grande maioria dos cientistas afirma que o fenômeno está sendo alimentado pela ação do homem.

Efeito Estufa



Os principais gases responsáveis pelo efeito estufa são o **dióxido de carbono ou gás carbônico (CO₂)**, o **metano (CH₄)** e o **óxido nítrico (N₂O)**. O dióxido de carbono é produzido pela queima de combustíveis fósseis e de biomassa. Os combustíveis fósseis utilizados como fontes energéticas são o petróleo, o carvão e o gás natural. A emissão de dióxido de carbono pela biomassa ocorre pelas mudanças no uso da terra e pelos



biocombustíveis. Ao alterar o uso da terra, por meio do desmatamento e de atividades agrícolas, o ser humano lança na atmosfera CO₂ que estava acumulado nas plantas e no solo.

Exemplos de fontes geradoras de metano são os aterros sanitários (decomposição da matéria orgânica), gado (flatulência e processo digestivo) e plantação de arroz em alagados.

A ciência climática tem apresentado várias evidências do aquecimento global. O século XX foi o mais quente dos últimos 500 anos. Cada década vem sendo mais quente que a década anterior. Recordes do ano mais quente da história, do mês mais quente da história e dos últimos dez anos mais quentes da história vêm ocorrendo sucessivamente ao longo do século XXI. Conforme a Organização Meteorológica Mundial, da Organização das Nações Unidas (OMM/ONU), a temperatura média da superfície global já aumentou cerca de 1,4°C, desde meados do século XIX. A temperatura média de 2023, foi de 1,48°C maior do que em meados do século XIX.

Considerando as emissões anuais, a partir do ano de 2006, a **China** passou a ser o **maior emissor mundial de CO₂**, seguida por Estados Unidos e União Europeia. O Brasil está entre os dez maiores emissores de gases estufa do mundo. No entanto, se considerarmos as emissões acumuladas, os dados são diferentes.

Estudo do World Resources Institute e Global Carbon Project/Programa Internacional Geosfera-Biosfera das **emissões acumuladas, no período entre 1850 e 2020**, informam que os **Estados Unidos** são os maiores emissores de CO₂, seguidos da China e da União Europeia. O Brasil aparece como 5º maior emissor mundial em emissões acumuladas.

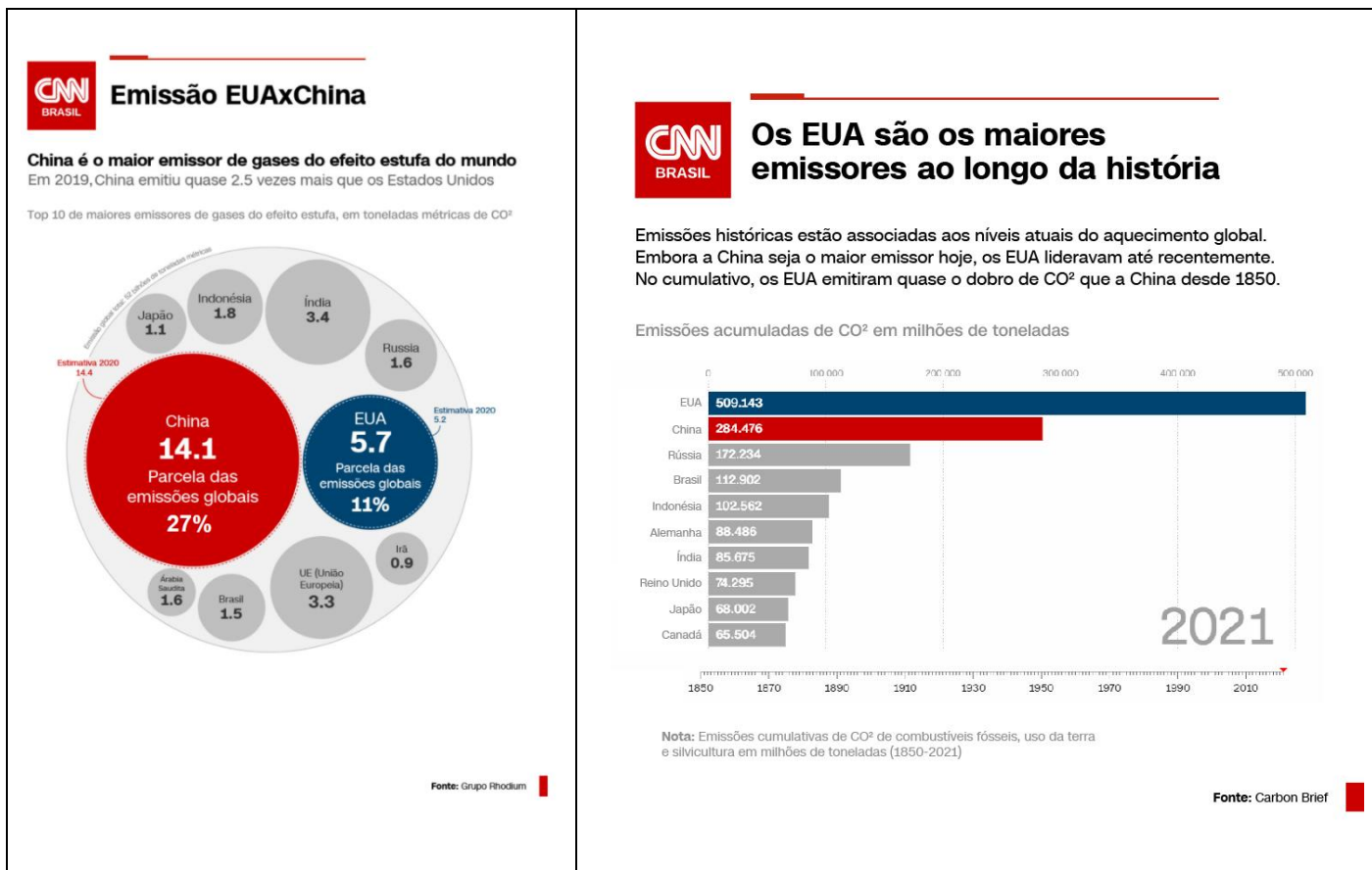


Por ser o principal gás do efeito estufa, o CO₂ é utilizado como um gás de referência para a medição das emissões totais, sejam as globais, a de cada país, setor emissor etc. Soma-se as emissões de todos os gases e se faz a conversão para o carbono equivalente.

O **setor de energia** (transportes, veículos automotores e geração de energia elétrica) é o que mais emite gases estufa em nível mundial, resultado da predominância do petróleo como recurso energético. Na sequência seguem os setores da agropecuária (emissões diretas relacionadas à criação de animais e cultivo de plantas), uso da terra (desmatamento, conversão de terras para a agropecuária e expansão de áreas urbanas), indústria e resíduos.

O setor que mais contribui para as **emissões de gases estufa no Brasil é o de mudança no uso da terra**. Isso se deve ao desmatamento, sobretudo da floresta Amazônica. Em 2022, esse setor correspondeu a 48% das emissões totais. Na sequência estão as emissões dos setores agropecuária (27%), energia (18%), processos industriais (4%) e resíduos (3%).





O **Painel Intergovernamental de Mudanças Climáticas (IPCC)** da ONU analisa e acompanha o processo do aquecimento global. O organismo elabora relatórios e documentos para acompanhar a situação ambiental do planeta. As conclusões são de que as mudanças climáticas das últimas décadas são causadas pelas atividades humanas (antrópicas).

A posição do IPCC não é unânime no meio científico. Um grupo bastante minoritário de cientistas contesta a afirmação de que o aquecimento global estaria sendo causado pelas atividades humanas. Os críticos argumentam que até hoje a ciência não conhece todos os mecanismos que regem o clima, e que mudanças climáticas intensas sempre aconteceram e são naturais.

Nos últimos 500 mil anos ocorreram vários períodos glaciais (nos quais a temperatura global baixava muito) e também interglaciais (em que havia um aquecimento global). Assim, para os críticos, mesmo que esteja ocorrendo um aquecimento global, ele pode ter causas naturais, e não há certeza de que as ações humanas reforcem significativamente o efeito estufa.

De qualquer forma, o aquecimento global está ocorrendo. Vejamos algumas das consequências e possíveis consequências futuras:

- ❑ O nível médio da água dos oceanos subiu 99 cm de 1901 a 2010. O nível continuará a subir e poderá submergir os pequenos países insulares e destruir áreas costeiras habitadas. A temperatura média dos oceanos está se elevando, o que pode levar a destruição de diversas espécies marinhas.



- ❑ Haverá mudanças no ciclo global das águas e aumento de contraste na quantidade de chuva entre as regiões úmidas e secas e de intensidade nas estações chuvosas e secas. Áreas áridas deverão se tornar desérticas.
- ❑ Os fenômenos climáticos extremos, como furacões, tufões, ciclones, tornados, chuvas intensas e secas estão se tornando mais frequentes e mais severos.
- ❑ As camadas de gelo do Ártico, da Groenlândia e da Antártica estão perdendo volume. E o degelo do Ártico no verão deverá continuar até o final do século, podendo chegar a apenas 6% do que já foi durante a estação. Há diminuição também das geleiras de montanhas, o que diminui os volumes de rios.

A Convenção do Clima e as Negociações nas COPs

Para enfrentar o problema das mudanças climáticas, governos do mundo todo buscam, sob o guarda-chuva da ONU, adotar atitudes em conjunto para diminuir as emissões dos gases de efeito estufa. Em 1992, no Rio de Janeiro, na Eco-92, foi aprovada a **Convenção Quadro sobre Mudança do Clima**. Depois, os países participantes precisavam decidir, em conjunto, o que deveriam fazer. As discussões acontecem nas COPs (Conferência das Partes, em que cada país-membro é considerado uma parte), realizadas anualmente.

COP-3 – Conferência do Clima de Kyoto

Uma das COPs mais importantes foi a COP-3, realizada em Kyoto, no Japão, em 1997. Ela aprovou o **Protocolo de Kyoto**, no qual foi estabelecida a estratégia de “**responsabilidade comum, porém diferenciada**”. Essa expressão define que todas as nações têm responsabilidade no combate ao aquecimento global, mas as que mais contribuíram historicamente para o acúmulo de gases do efeito estufa têm uma obrigação maior. Trata-se das nações mais ricas, como os Estados Unidos (EUA) e boa parte dos países da Europa. Por terem iniciado seu processo de industrialização há muito mais tempo, essas nações produziram a maior parte dos gases acumulados na atmosfera.

Pelo Protocolo de Kyoto, os países desenvolvidos se comprometeram a reduzir sua emissão de gases do efeito estufa em pelo menos 5,2% em relação aos níveis de 1990 – meta que deveria ser cumprida entre 2008 e 2012. Nações em desenvolvimento, como China, Índia e Brasil não tiveram metas de redução.

Para entrar em vigor, o protocolo precisava ser ratificado por países que representassem pelo menos 55% das emissões mundiais de gases do efeito estufa. O Protocolo de Kyoto entrou em vigor em 2005, mas grandes poluidores, como os Estados Unidos, não o ratificaram por considerar que isso afetaria sua economia.

O prazo do protocolo venceu em 2012, porém foi prorrogado até 2020, haja vista não ter sido aprovado novo acordo para substituí-lo antes do encerramento da sua vigência.

Nessa conferência também foi criado o mecanismo dos **créditos de carbono**, que são certificados referentes à redução de emissão de gases do efeito estufa, podendo ser comprados e vendidos por empresas



e governos. Com esse mecanismo, o direito de emitir novos gases, portanto, é precificado e pode ser comercializado, o que fez com que os créditos de carbono também sejam chamados de "moeda verde".

- Professor, não entendi! 🤔

- Ok, preste atenção no seguinte exemplo: imagine um país, ou uma empresa, que não consegue reduzir ou manter suas emissões de gases dentro dos níveis determinados. Ele poderá comprar créditos de carbono de um outro país ou empresa que conseguiu reduzir suas emissões para além dos níveis determinados. Como comprar créditos de carbono acarreta em um custo extra, a empresa se vê incentivada a reduzir no futuro as emissões ou investir em projetos que rendam créditos de carbono.

Cada tonelada de gás carbônico corresponde a um crédito de carbono, que pode, como mencionamos, ser comprado ou vendido. Assim, se um país precisava reduzir sua emissão em 1.000 toneladas de CO₂, mas consegue cortar 1.200 toneladas, ele fica com 200 créditos de carbono, que pode vender a outra nação que não conseguiu bater sua meta.

Os créditos valem não só para emissões cortadas, mas também para gás carbônico capturado – por exemplo, por novas árvores plantadas, que absorvem a substância da atmosfera para crescer. Cada tonelada de CO₂ adicional absorvida por uma nova mata dá direito a um crédito.

COP-21 – Conferência do Clima de Paris

A COP-21 foi realizada em dezembro de 2015, em Paris. Na oportunidade, assinaram o Acordo do Clima de Paris, 193 países-membros da ONU, que já tinham assinado e ratificado a Convenção sobre Mudança do Clima, de 1992.

O Acordo estabelece que **todos os países deverão se mobilizar para conter o aumento da temperatura média da Terra**, ainda neste século, “bem abaixo de 2 graus Celsius” com relação aos níveis pré-Revolução Industrial. Também devem fazer o possível para **tentar reduzir a 1,5 °C**. Não foram dadas metas de redução de emissão de gases do efeito estufa, mas uma intenção global em mudar para uma economia de baixo carbono.

Cada país apresentou o que poderia contribuir em redução de emissões para alcançar os objetivos globais do Acordo de Paris, nas suas **Contribuições Nacionalmente Determinadas (NDCs)**. São metas voluntárias, ou seja, os países não ficaram com a obrigação de cumprirem com o que apresentaram. Contudo, acredita-se na seriedade de cada nação e que os países farão todos os esforços possíveis para cumprirem com as NDCs apresentadas.

O fato de as NDCs serem voluntárias motivou a principal crítica ao acordo. Além disso, o conjunto de metas somado é considerado insuficiente para barrar o sobreaquecimento médio em até 2 °C. Segundo o IPCC, mesmo que todos os países consigam cumprir o que propuseram, a temperatura média subirá entre 2,7 °C e 3,5 °C até 2100. Por isso, o acordo previu uma revisão de metas a cada cinco anos, a partir de 2018, e uma primeira verificação em 2023.

Em **4 de novembro de 2016, o Acordo do Clima de Paris entrou oficialmente em vigor**. O limite mínimo de 55 países que representam 55% das emissões mundiais de gases do efeito estufa – necessário



para que o acordo entrasse em vigor – foi atingido antes do que os especialistas esperavam. O Brasil foi um dos primeiros países a ratificar o acordo.

Os cientistas do IPCC têm alertado que estão diminuindo as possibilidades para limitar o aquecimento global a 1,5 °C graus Celsius. Para alcançar esse objetivo as emissões globais precisam ser reduzidas pela metade até 2030 e em 70% até 2050, algo que somente será possível se atingirmos o pico das emissões antes de 2025. Porém, em vez de diminuir, as emissões de gases de efeito estufa ainda estão aumentando.

COP-28 – Conferência das Nações Unidas sobre Mudança do Clima de 2023

A 28ª Conferência das Partes da Convenção-Quadro das Nações Unidas sobre Mudança do Clima foi realizada no mês de novembro de 2023 na cidade de Dubai, nos Emirados Árabes Unidos. A escolha da cidade para sediar o evento foi controversa e alvo de polêmicas, uma vez que os Emirados Árabes são uma das 10 maiores nações produtoras de petróleo do mundo. Como país-sede, o governo nomeou o presidente-executivo da empresa petrolífera estatal, Sultan al-Jaber, como líder das negociações da COP-28.

Vamos lembrar que o petróleo – assim como o gás e o carvão – é um combustível fóssil. Eles são as principais causas das alterações climáticas porque liberam gases do efeito estufa que aquecem o planeta, como o dióxido de carbono, quando queimados para obter energia.

Vejamos, a seguir, os tópicos mais importantes sobre a cúpula:

• Acordo de Transição de Combustíveis Fósseis

O principal avanço da conferência foi o documento final, chamado de “Consenso dos Emirados Árabes Unidos”, apontar, pela primeira vez, que é preciso uma **"transição energética" para redução do uso combustíveis fósseis**.

O acordo final da conferência fez referência a redução de emissões de carbono e manifestou a preocupação com o fato de o orçamento atual não ser suficiente para cumprir a meta do Acordo de Paris, de limitar o aquecimento global a 1,5C. Cerca de 50 empresas, que representam 40% da produção global de petróleo, assinaram um compromisso de chegar a zero metano até 2050.

Contudo, não foram traçados compromissos claros sobre qual urgência os países e as empresas adotarão para deixar de usar o petróleo, o carvão e o gás em seus sistemas energéticos, bem como não se limitou a abertura de novas frentes de exploração de petróleo ao redor do mundo

• Fundo de Compensação de Perdas e Danos

A COP aprovou a criação de um Fundo de Compensação de Perdas e Danos, cujo objetivo é priorizar a destinação de recursos a países vulneráveis às mudanças climáticas, como uma forma de ressarcir países afetados pelos eventos climáticos que têm gerado desastres ambientais e perdas socioeconômicas. A criação desse mecanismo havia sido determinada em 2022, na COP-27, realizada no Egito.

A ideia é de que esse fundo seja financiado pelos países ricos, que mais contribuíram historicamente com o aquecimento global. Dessa forma, o fundo recebeu doações voluntárias de países como Japão, Emirados



Árabes Unidos, Reino Unido e Alemanha que somam US\$ 420 milhões e, inicialmente, será gerido pelo Banco Mundial.



A IMPORTÂNCIA DA AMAZÔNIA

A **Amazônia** é uma grande região geográfica natural do continente sul-americano, caracterizada pela sua grandiosa floresta densa e úmida e por uma extensa rede hidrográfica. Com cerca de 7 milhões de quilômetros quadrados, a sua área se estende por territórios do Brasil, da Bolívia, do Peru, do Equador, da Colômbia, da Venezuela, da Guiana, do Suriname e da Guiana Francesa um departamento ultramarino da França). Mais de 60% da Amazônia está localizada no Brasil.

Na Floresta Amazônica, encontra-se grande variedade da vida na terra: cerca de um terço de espécies do planeta. A sua **biodiversidade** é riquíssima, e grande parte de suas espécies ainda não é conhecida pelos pesquisadores. Estima-se que apenas 15% delas foram catalogadas e somente 1% do potencial das plantas da Amazônia foi pesquisado. A imensa e pouco conhecida biodiversidade amazônica abre possibilidades em diversos ramos, sobretudo nas áreas da biotecnologia, da produção de remédios e de cosméticos.

A importância ambiental da Amazônia também está relacionada à sua **influência no clima em escala global e regional**. As florestas absorvem e retêm **dióxido de carbono (CO²)** ou **gás carbônico**, o principal gás do efeito estufa. Quando a floresta é desmatada e queimada, o carbono retido nas árvores e nas plantas é lançado na atmosfera, contribuindo para o aumento da quantidade de gases estufa no planeta Terra. Ou seja, além de se destruir reservatórios de carbono, contribui para o aquecimento global. Assim, a conservação da maior floresta do mundo se torna necessária para serem cumpridas as metas estabelecidas no Acordo de Paris e nos diversos acordos climáticos realizados.

Na Amazônia, forma-se a massa de ar Equatorial Continental (mEc), quente e úmida. No verão, essa massa de ar se desloca levando chuvas para a região Centro-Sul do Brasil e para parte do Peru, da Bolívia, do Paraguai, da Argentina e do Uruguai. Esse deslocamento é conhecido como **"rios voadores"**; sem essa dinâmica climática, o Centro-Sul do Brasil seria uma região tipicamente desértica ou semiárida.

A intensa evapotranspiração das árvores da floresta é fundamental para a formação dessa massa de ar. As árvores lançam vapor d'água na atmosfera, o qual, por sua ascende, condensa e forma as nuvens de chuva da massa de ar.

O volume de água existente na Amazônia é imenso. A bacia hidrográfica do Rio Amazonas escoar 20% do volume de água doce superficial do mundo. Isso equivale a 17 trilhões de litros de água lançados diariamente no Oceano Atlântico. Os rios voadores deslocam um volume maior ainda, cerca de 20 trilhões de litros por dia.

A Amazônia também é rica em recursos minerais como o ferro, o gás natural, o petróleo, a cassiterita, o nióbio, a bauxita, o urânio, o caulim e o ouro. Na Serra do Carajás, no Pará, é onde se estima que estejam as maiores reservas minerais da Amazônia. Além disso, estimativas situam a região como a maior reserva de madeira tropical do mundo.

Por todas essas características, a Região Amazônica é considerada a **última fronteira natural** com alto potencial econômico a ser explorada no mundo. Desse modo, há um importantíssimo componente geopolítico relacionado à Amazônia, o que implica a garantia da **soberania nacional** dessa porção territorial.



Todo esse contexto, associado à baixíssima densidade demográfica e à localização da Amazônia em uma área de fronteiras internacionais, levou o Governo Federal, ao longo do século XX, a pensar e a planejar a região como uma área a ser resguardada, pois poderia haver a sua cobiça por parte de Estados Nacionais e empresas transnacionais. Em outras palavras, existia o temor de que o Brasil poderia perder esse território, haja vista que grandes potências econômicas e militares mundiais ambicionam os recursos minerais amazônicos.

Nesse sentido, uma série de iniciativas foram tomadas pelo Governo Federal para estimular a ocupação da Região Amazônica. As primeiras medidas para a integração da região foram implementadas por Getúlio Vargas, na década de 1940. No governo de Juscelino Kubitschek (1956 a 1960), a abertura da estrada Belém-Brasília conectou a capital do Pará à nova capital do Brasil.

Contudo, foi no regime militar, a partir de 1964, que as políticas de integração da Amazônia se aprofundaram. Grandes projetos de exploração mineral, florestal e agropecuários, baseados nas grandes propriedades, foram implementados. A Zona Franca de Manaus foi reconfigurada com a criação do distrito industrial, atraindo indústrias em função dos incentivos fiscais oferecidos. Hidrelétricas foram construídas, e a abertura de rodovias, rasgando a floresta, conectou a área amazônica ao restante do Brasil.

Todas essas ações intensificaram os fluxos populacionais para a região, que passou a ter um crescimento populacional e urbano acelerado. Ao mesmo tempo, entretanto, acentuaram-se os problemas ambientais, como o desmatamento, e deflagraram-se problemas sociais, como os conflitos fundiários e a invasão de terras indígenas.

O modelo de ocupação amazônico foi baseado em uma ideia de progresso que via na floresta um entrave ao crescimento econômico. Foi uma ocupação predatória da natureza, que afetou populações tradicionais, como os indígenas, os extrativistas e os pequenos agricultores.

A importância da preservação do ecossistema amazônico já está cientificamente comprovado na atualidade. Mesmo assim, persistem muitos problemas ambientais que desafiam e dificultam a incorporação da visão do desenvolvimento sustentável na Amazônia brasileira.

O **desmatamento** continua sendo o principal deles e tem como causas a atuação indiscriminada de madeireiros e a expansão da pecuária bovina e da lavoura de grãos, principalmente a soja. Com o desmatamento, surgem as queimadas que "limpam o terreno" para a cultivo de pastagens e de produtos agrícolas. O **garimpo** ilegal em rios amazônicos, em terras indígenas e em outras áreas, destrói a floresta e contamina o solo, a água e os peixes pela utilização de mercúrio na extração do ouro.

Outro tema para prestar atenção é a ampliação do **crime organizado** na região. Facções criminosas disputam rotas do **tráfico de drogas** em direção ao exterior e ao próprio Brasil. Os grupos criminosos também se fazem presente no garimpo de ouro e na extração de madeira pelo desmatamento.

Entre as **consequências** atuais e futuras da degradação da floresta, podemos mencionar:

- Menor umidade do ar e menor evapotranspiração;
- Diminuição do volume de água dos rios da região;
- Menos chuvas levadas pelos "rios voadores" para as regiões Centro-Oeste, Sudeste e Sul;
- Perda da biodiversidade e aumento de espécies em extinção; e
- Modificação do clima global, contribuindo para as mudanças climáticas.



Carlos Nobre, Antônio Donato Nobre e outros renomados cientistas alertam também para o risco de "**savanização da Amazônia**". O aquecimento global e o avanço do desmatamento já estão provocando mudanças no clima da floresta. O tempo de duração da estação seca tem aumentado e a evapotranspiração diminuído, o que impacta a formação dos rios voadores.

A emissão de carbono já é maior do que é absorvido pela vegetação no arco do desmatamento. Em vez de reter carbono e contribuir para minimizar o aquecimento global, essa região está contribuindo para o seu aumento. No arco do desmatamento, a vegetação já tem características de cerrado.

Em torno de 20% da floresta já foram desmatados. Se os números chegarem a 25%, somando-se o fator aquecimento global, a Amazônia pode atingir o "**ponto de não retorno**", que pode colapsar o bioma de forma irreversível e fazer com que a maior parte da floresta se transforme em uma vegetação do tipo cerrado.

Apesar de todas essas ameaças, há várias iniciativas de utilização sustentável da floresta em andamento. O extrativismo madeireiro, vegetal e pesqueiro manejado e sustentável tem se implantado, gerando renda para as comunidades envolvidas. O ecoturismo também está em crescimento.

A Amazônia tem um grande potencial de desenvolvimento da bioeconomia e da obtenção de recursos financeiros pelo desmatamento evitado e pelos créditos de carbono. São atividades que já geram renda e desenvolvimento econômico para a região. No entanto, são necessários mais pesquisa científica para a bioeconomia e o avanço dos mecanismos regulatórios e de mercado para os créditos de carbono e para a floresta preservada.

Amazônia Legal

A **Amazônia Legal** é uma delimitação administrativa legalmente instituída com o objetivo de implementar políticas de desenvolvimento econômico e social na Região Amazônica brasileira, que abrange cerca de 60% do território brasileiro, fazendo parte dela todos os estados da região Norte (Acre, Amazonas, Pará, Rondônia, Roraima, Amapá e Tocantins), mais o Mato Grosso, pequenas áreas de Goiás (ao Norte do paralelo 13°S, na divisa com o Tocantins) e parte do Estado do Maranhão (a Oeste do meridiano de 44°W).





Fundo Amazônia

Criado em 2008, o Fundo Amazônia é um programa de proteção e de preservação ambiental da Floresta Amazônica. O fundo está aberto ao recebimento de doações financeiras por parte de países, empresas e ONGs. Os recursos são geridos pelo Banco Nacional de Desenvolvimento Econômico e Social (BNDES) e têm sido fundamentais para o financiamento de operações de combate ao desmatamento e de projetos de desenvolvimento sustentável. Até o final de 2018, os valores disponíveis tinham como doadores a Noruega (93,5%), a Alemanha (6%) e a Petrobras (0,5%).

No governo de Jair Bolsonaro (2019-2022), esse fundo ficou paralisado. Os seus dois principais doadores, a Noruega e a Alemanha, suspenderam os repasses, por discordarem da forma como a gestão do fundo foi realizada no governo do ex-presidente. Em 2023, foi reativado após o início do terceiro mandato de Lula. Desde então, anunciaram-se doações ao fundo por parte dos governos dos Estados Unidos, do Reino Unido, da União Europeia, da Suíça, da Dinamarca e da Noruega.



Desmatamento na Amazônia

O **desmatamento** consiste na retirada total ou parcial das árvores, florestas e demais vegetações de uma determinada região. É um dos principais problemas ambientais da atualidade, especialmente no Brasil, que conta com uma grande área de ambientes naturais ainda preservados e não alterados pelo ser humano.

No âmbito do governo federal, o monitoramento do desmatamento é realizado pelo **Instituto Nacional de Pesquisas Espaciais (Inpe)**, por meio do **Projeto de Monitoramento do Desmatamento na Amazônia Legal por Satélite (Prodes)** e do **Sistema de Detecção de Desmatamento em Tempo Real (Deter)**. O **Prodes** faz a medição em um ciclo de 12 meses, contemplando o período chuvoso e seco, de agosto de determinado ano até julho do ano subsequente. O sistema tem maior precisão do que o **Deter**, que emite alertas de desmatamento para ajudar na fiscalização. Os dados de alerta do Deter são divulgados mensalmente e do Prodes anualmente.

Conforme o último balanço divulgado pelo Prodes, a área desmatada na Amazônia foi de **9.001 km² entre agosto de 2022 e julho de 2023**. Quando comparado ao último levantamento do Inpe, houve uma queda de 22,3% do total da área desmatada entre as duas temporadas.



A maior área desmatada em 2023 foi registrada no estado do **Pará**, seguida pelo **Mato Grosso** e **Amazonas**. Esses três estados são os que têm apresentado as maiores áreas desmatadas ao longo dos últimos anos.

Apesar da boa notícia, a redução ainda é insuficiente para que o Brasil cumpra a meta de Contribuição Nacionalmente Determinada (NDC) assumida junto ao Acordo do Clima de Paris, de reduzir em 48% suas emissões até 2025, e 53% até 2030, valores comparados aos níveis de 2005.

O desmatamento é atualmente a principal fonte de emissões de gases do efeito estufa do Brasil e, para atingir a meta de redução de emissões, o país terá que avançar muito mais rapidamente para reduzir a destruição florestal. Segundo avaliação do Greenpeace, para alcançar a meta, o Brasil tem que diminuir até 2026 o desmatamento aos níveis de 2012, quando chegou 4,6 mil km², o menor número da série histórica.



Desmatamento no Cerrado

O Cerrado é o segundo maior bioma do Brasil. A sua vegetação é semelhante à de uma savana, com muitas espécies gramíneas e arbustivas, além de árvores de pequeno e médio porte, adaptadas a um clima que apresenta uma estação seca e uma chuvosa. O Cerrado é conhecido como “berço de águas” no Brasil, pois, em sua área, estão nascentes de importantes rios brasileiros.

Enquanto o desmatamento na Amazônia caiu em 2023, no Cerrado ele vem registrando recordes. Dados do Inpe mostram que, de agosto de 2022 a julho de 2023, 6.300 km² foram devastados, um aumento de 16,5% em relação ao período anterior.

A principal causa de desmatamento no Cerrado é o agronegócio, por meio da conversão de terras para práticas agrícolas e criação de gado. A maior parte da soja e do milho exportados pelo Brasil provém de grandes plantações localizadas nesse bioma.

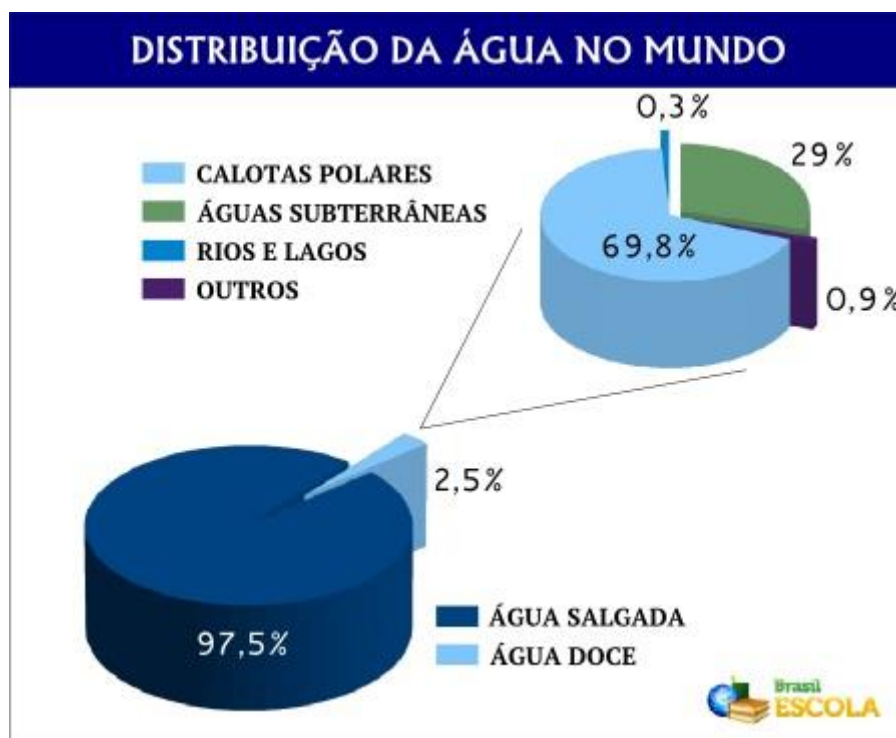


A QUESTÃO HÍDRICA

O volume total da água no planeta é da ordem de 1,4 bilhão de quilômetros cúbicos, mas 97,5% estão nos oceanos e mares e apenas os 2,5% restantes são doces.

Por serem extremamente salgadas, as águas dos oceanos e mares são impróprias para consumo. Em alguns locais, pratica-se a dessalinização da água, mas esse processo é caro e não apresenta uma completa eficiência, sendo ainda pouco praticado.

Dos 2,5% de água doce, 69,8% está em forma de gelo nas calotas polares. Como o processo de transporte dessas geleiras é caro e também pouco eficaz, quase não há atividades referentes ao abastecimento de localidades através do manuseio de *icebergs*. Os outros 30,2% restantes de água doce no mundo estão distribuídos em águas subterrâneas (29%), rios e lagos (0,3%) e vapor d'água (0,9%).



Verifica-se que embora haja muita água no nosso planeta, apenas uma parte muito pequena está mais acessível para as atividades humanas.

A água é um recurso natural renovável. Por meio do ciclo hidrológico, a água se renova continuamente. Embora seja renovável, **é um recurso natural limitado**, ou seja, a sua quantidade não aumenta, nem diminui, na natureza.

Por ser um recurso limitado e apenas uma pequena parte estar disponível para o consumo humano, a água deve ser utilizada de forma racional e sustentável, evitando o desperdício e preservando os mananciais hídricos existentes no mundo.





Hídrico - que diz respeito à água, principalmente no que se refere à capacidade de armazenamento de um determinado reservatório ou da capacidade *hídrica* de atender as demandas de ofertas de água para populações, áreas e regiões (Fonte: Dicionário Informal).

O acesso à água no mundo

A distribuição de água doce líquida é irregular pelas terras emersas do planeta, havendo países em que esse recurso é praticamente escasso e outros em que em ele é relativamente abundante.

Diversas regiões do mundo sofrem com a falta d'água, fruto do aumento populacional, da urbanização desordenada do planeta, do consumo crescente, do desperdício, da não preservação dos mananciais hídricos e da mudança do clima.

Mesmo em algumas regiões onde há boa quantidade de água doce disponível verificam-se problemas de escassez, que estão associados a um ou mais dos fatores acima relacionados.

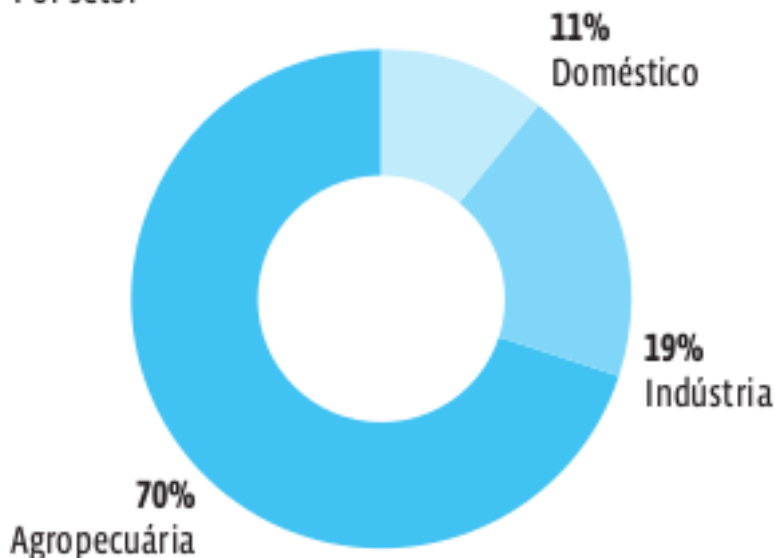
Especialistas em gestão de recursos hídricos ponderam que a chamada **crise hídrica é mais uma questão de mau gerenciamento do recurso do que de escassez natural**. É uma crise associada a qualidade da água e a sobre-exploração hídrica. A qualidade da água está relacionada à poluição e a degradação dos mananciais hídricos. A sobre-exploração hídrica está associada a extração de água em uma capacidade maior do que a de reposição pelo ciclo hidrológico.

A população mundial saltou de 2,5 bilhões de pessoas em 1950 para os mais de 7 bilhões atuais. Isso não implica somente em mais torneiras abertas ou chuveiros ligados por mais tempo. Tarefas cotidianas são responsáveis por apenas 11% do consumo total da água pelo ser humano. Um número maior de pessoas significa uma demanda maior pela produção de alimentos e na indústria, para a geração de bens manufaturados. Essas tarefas representam os outros 89% da conta e são as maiores responsáveis pela exploração excessiva das reservas de água.



USO DE ÁGUA NO MUNDO

Por setor



Fonte: Unesco

Dados divulgados em 2015, pelo World Resources Institute (WRI), apontam que mais de 30 países enfrentarão crises hídricas de alto risco nos próximos 25 anos, de acordo com um relatório que mediu a demanda e a disponibilidade de água em 167 nações. Segundo a ONU, cerca de um bilhão de cidadãos no mundo não têm acesso a um abastecimento adequado.

E mais: 1,2 bilhão de pessoas (35% da população mundial) não têm acesso a água tratada. 1,8 bilhão (43% da população) não contam com serviços adequados de saneamento básico e 10 milhões de pessoas morrem anualmente em decorrência de doenças intestinais transmitidas por água insalubre.

Disputas por água

A menor oferta de água provoca o surgimento de conflitos decorrentes de disputas pelo controle dos recursos hídricos. No Oriente Médio, a Turquia, que controla as nascentes dos rios Tigre e Eufrates, vem realizando uma série de obras hidrelétricas na bacia desses rios. Uma das barragens em construção no Rio Tigre é a Ilisu. Ela é fortemente criticada pelas autoridades da Síria e do Iraque, que temem uma redução na vazão dos rios, o que pode afetar o abastecimento à população e o desenvolvimento da agricultura. Dessa forma, a escassez hídrica se torna um foco de tensão nessa já conturbada região.

Na África, a bacia do Rio Nilo enfrenta problema semelhante. O projeto da hidrelétrica Grande Renascença, iniciado pela Etiópia, pretende ser a maior barragem do continente. O Sudão e o Egito, no entanto, se posicionaram contra o projeto. Os países são abastecidos pelo Nilo Azul, afluente envolvido na construção, e temem que a diminuição na oferta de água afete a população.

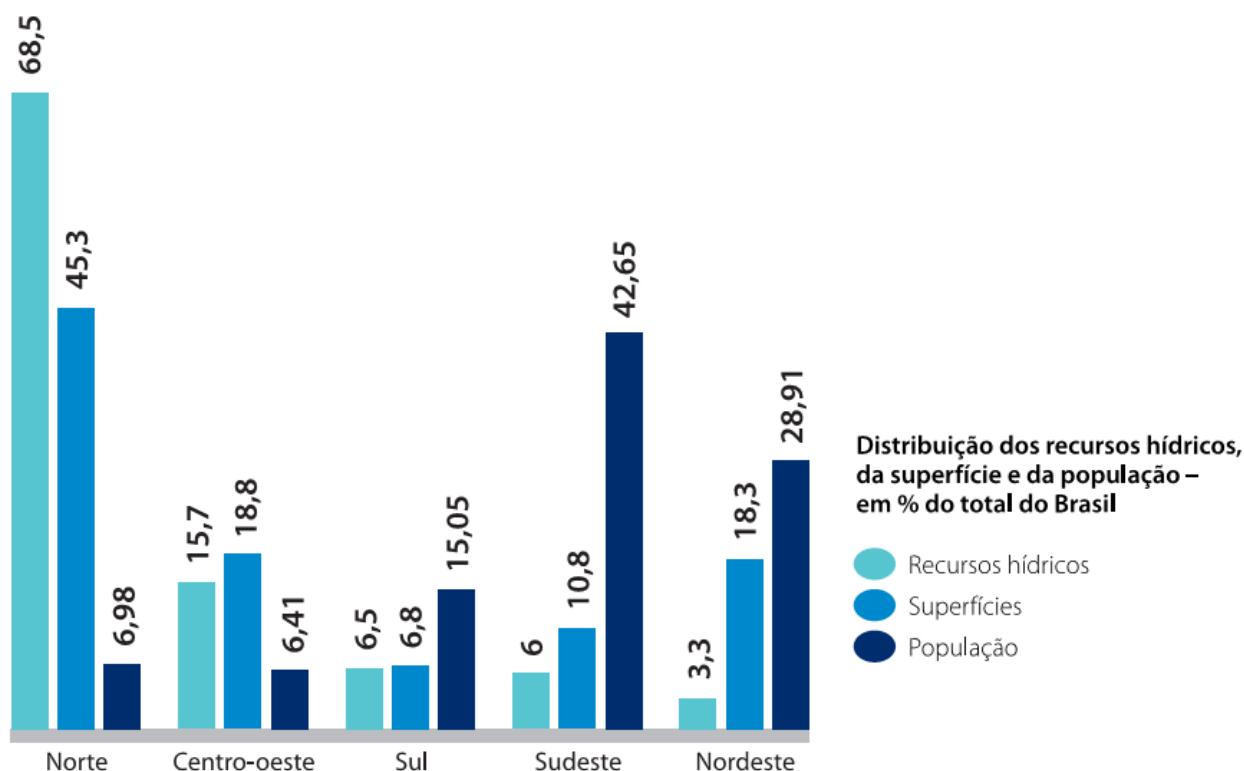
Uma das principais desavenças entre Israel e Síria é a disputa por territórios. Ambas as nações reivindicam o direito pelas Colinas de Golã, região que abriga nascentes do Rio Jordão, de onde provém um terço da água



consumida por Israel. O represamento e os desvios nas águas de Golã por Israel afetam o abastecimento da Síria e da Jordânia que também dependem dessa fonte hídrica.

A questão hídrica no Brasil

Com 12% do total, o Brasil é o país com a maior quantidade de água doce disponível na superfície da Terra. O líquido, porém, não se distribui de maneira uniforme pelo território nacional. A região Norte contém cerca de 70% do total da água disponível, mas apenas 7% da população. Logo, 93% da população do país dependem dos 30% da água restante. Essa desigualdade demonstra que o país não está imune à escassez hídrica e o quanto é importante haver **boa gestão dos recursos hídricos**.



A estiagem histórica atravessada pelo Sudeste a partir de 2014 é uma mostra da importância dessa gestão. A estiagem esvaziou o Sistema Cantareira, o maior no abastecimento da Região Metropolitana de São Paulo, e provocou um prolongado racionamento. O rápido **crescimento populacional** da região **pressionou as fontes de abastecimento (represas), que não evoluíram na mesma proporção**. Na década de 1960, quando o Cantareira foi projetado, a cidade de São Paulo contava com 4,8 milhões de habitantes, mas agora o sistema tem de abastecer mais de 20 milhões de pessoas da Grande São Paulo.

O acelerado e desordenado processo de urbanização das cidades brasileiras também agrava o acesso à água em quantidade e qualidade satisfatórias. O desmatamento e a impermeabilização do solo, provocada por calçadas e asfalto, impedem que a água penetre em lençóis freáticos, prejudicando a recarga dos aquíferos e intensificando o processo de assoreamento de rios.



A ocupação irregular de regiões de mananciais e áreas de várzea também entra na conta, por destruir a mata ciliar, que mantém cursos de água, e poluí-los com esgoto e lixo doméstico. Na Grande São Paulo, por exemplo, o percentual do esgoto coletado e tratado é de apenas 68%. No Brasil, o número fica em 42,7%, segundo o Sistema Nacional de Informações de Saneamento (SNIS/2015). Os dejetos prejudicam a oxigenação da água, elevando os gastos no tratamento.

Os problemas de manutenção que afetam a distribuição nos centros urbanos também resultam da falta de investimentos no setor. Tubulações velhas estão mais propícias a romper. De acordo com o SNIS, o desperdício de água tratada é de 36,7% devido aos vazamentos na rede de distribuição.

Alternativas para o enfrentamento da escassez hídrica

Para enfrentar a escassez hídrica, especialistas indicam várias alternativas, sobretudo em relação às populações dos grandes centros urbanos. Algumas envolvem desafios na área ambiental; outras dependem de investimentos em obras públicas; e um terceiro lote de iniciativas está atrelado à adoção de novas tecnologias voltadas ao reaproveitamento de água.

Vejamos algumas delas:

Obras de infraestrutura hídrica

Obras visando à ampliação das fontes de abastecimento são essenciais para amenizar a escassez hídrica. Mas dependem de vontade política, envolvem elevados recursos financeiros e, geralmente, são de longo prazo.

Tecnologia para reuso da água

O aproveitamento de águas pluviais e o reuso da água do esgoto são duas tecnologias que também podem ajudar a evitar o colapso do abastecimento em centros urbanos. No primeiro caso, a água da chuva seria armazenada em reservatórios específicos construídos dentro das edificações (casas, prédios residenciais, edifícios comerciais, indústrias, fazendas, etc.) e utilizada para finalidades diversas, como rega de jardins, lavagem de calçadas e carros, irrigação de lavouras, controle de temperatura de ambientes e resfriamento de caldeiras industriais, entre outras.

Os estádios construídos para a Copa do Mundo de 2014 contam com dutos para captar água da chuva na cobertura e levá-la para reservatórios. O líquido é reutilizado em vasos sanitários, limpeza das arenas e para molhar o gramado. No sertão nordestino, um amplo programa para instalação de cisternas para armazenamento da água da chuva tem alcançado êxito e ajudado a minimizar o déficit crônico de água na região.

A reutilização da água de esgoto é vista por especialistas como uma das soluções mais sustentáveis para combater a escassez hídrica no planeta, pois reproduz o próprio ciclo hidrológico. Funciona assim: a água do esgoto das residências, indústrias e comércio é transportada por dutos específicos para estações, onde é tratada por processos avançados para a retirada de impurezas. Sanitariamente segura, essa água reciclada pode ser empregada para fins não potáveis, reduzindo a quantidade captada em rios e represas. Em São Paulo, a Sabesp vende água de reuso para fábricas, empresas de construção civil, prefeituras e estabelecimento comerciais.



Reflorestamento

Na esfera ambiental, o reflorestamento das bacias hidrográficas (território que faz a drenagem da água da chuva para determinado curso d'água) é uma das prioridades. Isso porque, embora as árvores não produzam água, há uma íntima relação entre a cobertura florestal e a preservação de mananciais. A derrubada da vegetação altera o ciclo de chuvas e prejudica a recarga de reservatórios subterrâneos (lençóis freáticos e aquíferos). Ao mesmo tempo, impacta a qualidade da água de rios, lagos e represas, elevando o custo do tratamento. Em boa parte do país, regiões de mananciais sofrem com a degradação do meio ambiente.

Proteção de nascentes

A mata também é importante para a proteção das nascentes e do solo. Numa região rica em vegetação, a água da chuva escorre mais lentamente, reduzindo o processo erosivo do solo, que é responsável pelo assoreamento dos reservatórios. Já em terrenos desnudos, a infiltração é bem mais difícil. Em regiões de pastagens, estudos apontam que o volume de água escoado corresponde a 20 vezes o de uma área com florestas. Em períodos com chuva abundante, áreas desmatadas estão mais sujeitas a enchentes.

A recuperação da cobertura vegetal em região de mananciais é um processo longo e que depende, em boa medida, de vontade política. Uma ideia que tem ganhado força é a de concessão de incentivos econômicos para proprietários de terra que recuperem áreas desmatadas, protegendo as nascentes e os rios. Medida nesse sentido foi adotada com sucesso pelas autoridades de Nova York, nos Estados Unidos, para proteger seus recursos hídricos.

Dessalinização

Métodos físico-químicos para retirada do sal presente nas águas de mares e oceanos são utilizados há vários anos em países que convivem permanentemente com a escassez de água, entre eles Israel, Arábia Saudita e Austrália. Segundo dados da Associação Internacional de Dessalinização, existem em operação no mundo 17 mil usinas de dessalinização, com capacidade para tratar 80 bilhões de litros por dia. A tecnologia, empregada em 150 países, é usada para abastecer 300 milhões de pessoas. O grande desafio da dessalinização ainda é o custo elevado, de cerca de US\$ 1 por metro cúbico de água processada.

No Brasil, o governo federal lançou em 2004 o Programa Água Doce, que busca estimular o uso de aparelhos dessalinizadores para purificar volumes reduzidos de água do mar ou salobra (com concentração menor de sal do que a do mar). A iniciativa beneficia 100 mil pessoas de comunidades carentes dos estados do Nordeste e de Minas Gerais.

Especialistas acreditam que a instalação de plantas de dessalinização para tratar grandes quantidades de água pode ser uma alternativa no futuro para centros urbanos brasileiros litorâneos, como o Rio de Janeiro. Dificilmente, no entanto, a técnica seria viável para cidades situadas longe da costa. O bombeamento de água para cidades distantes do mar pode ser caro demais e exigir um elevado gasto de energia.

O papel do cidadão na sustentabilidade dos recursos hídricos

O cidadão tem um papel fundamental na sustentabilidade dos recursos hídricos por meio do seu uso racional, sem desperdício, economizando água e na preservação dos mananciais hídricos.



Pode-se, por exemplo, ao escovar os dentes, enxaguar a boca com a água do copo (economia de aproximadamente 3 litros de água); ao lavar a louça, manter a torneira fechada; usar a máquina de lavar roupas na capacidade máxima, pois uma máquina de 5 quilos gasta em média 135 litros de água; evitar lavar calçadas, quintais e carros com frequência – e se for inevitável, usar balde e vassoura no lugar de mangueira; reutilizar a água sempre que possível; tomar banhos rápidos (tempo suficiente para a higiene corporal) e não utilizar esta oportunidade para refletir ou relaxar, pois há outros meios e momentos para isso que não consomem água.

Não descartar lixo em locais inadequados, como ruas e praças, é uma medida que contribui para a preservação dos mananciais hídricos. Por meio da chuva ele pode ser levado para cursos d'água causando a degradação dos mesmos. Outras atitudes nesse sentido plantar árvores, não degradar de nenhuma forma áreas de nascentes, de recarga de aquíferos e de corpos d'água.



AGROTÓXICOS

Na década de 1960, os Estados Unidos e a ONU incentivaram mudanças nas técnicas agrícolas com o intuito de aumentar a produtividade em vários dos então chamados países subdesenvolvidos, muitos dos quais eram ex-colônias recém-independentes. Em plena Guerra Fria, a intenção dos norte-americanos era evitar o surgimento de focos de insatisfação popular por causa da fome, mantendo países em sua esfera de influência.

O conjunto de mudanças técnicas na produção agropecuária, que ficou conhecido por **Revolução Verde**, consistia na modernização das práticas agrícolas, como a utilização de adubos químicos, inseticidas, herbicidas, sementes melhoradas e a mecanização do preparo do solo (do cultivo e da colheita).

O impacto social que essa nova tecnologia teve, pelo aumento da produção de alimentos de países em desenvolvimento, foi de tal ordem que resultou em reconhecimento mundial, concretizado pela concessão do Prêmio Nobel da Paz de 1970 a Norman E. Borlaug, considerado o “pai” da Revolução Verde.

Com a Revolução Verde, a utilização dos agrotóxicos se disseminou pelo mundo. Mas o que especificamente são os agrotóxicos? Os agrotóxicos são produtos químicos que alteram a composição da flora e da fauna com o objetivo de evitar que doenças, insetos ou plantas daninhas prejudiquem as plantações.

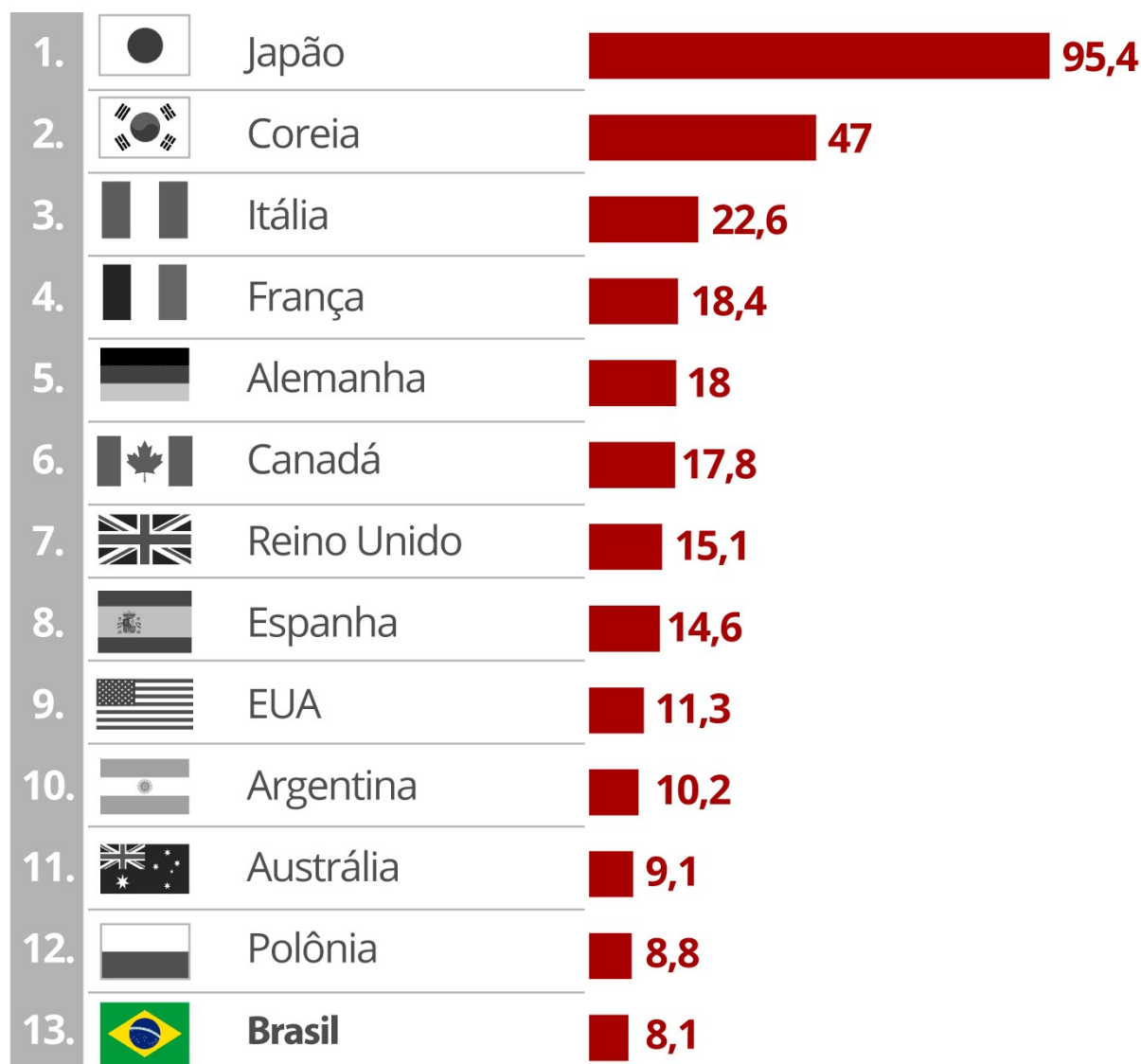
Entretanto, os agrotóxicos apresentam muitos riscos ao ser humano e ao meio ambiente. Segundo dados da Organização Mundial da Saúde (OMS), as principais doenças relacionadas à intoxicação por agrotóxicos são: arritmias cardíacas, lesões renais, câncer, alergias respiratórias, doença de Parkinson, fibrose pulmonar, entre outras. Os mais afetados pelos agrotóxicos são os trabalhadores agrícolas e a população que reside próximo às plantações. Em menor grau, também são expostos aos problemas todos aqueles que consomem esses alimentos. A aplicação frequente desses produtos químicos também contamina o solo. Além disso, eles são transportados pela chuva para riachos e rios, afetando, desse modo, a qualidade das águas que abastecem as cidades, alimentam o gado e abrigam os peixes.

Devido a isso, muitos países já baniram a utilização de agrotóxico considerados nocivos. No **Brasil**, entretanto, a comercialização de agrotóxicos cresce anualmente, o que nos torna, atualmente, o **país que mais utiliza agrotóxicos no mundo em números absolutos**. Mas perde para Japão, União Europeia e Estados Unidos quando são levadas em conta duas variáveis: a quantidade de alimento produzida e a área plantada. Nesses casos, a aplicação de veneno pelo país é proporcionalmente menor. Vejamos nos gráficos a seguir:



Gasto com agrotóxicos por produção em 2017

Em US\$ por tonelada de alimento produzido



Fonte: Unesp Botucatu/Andef

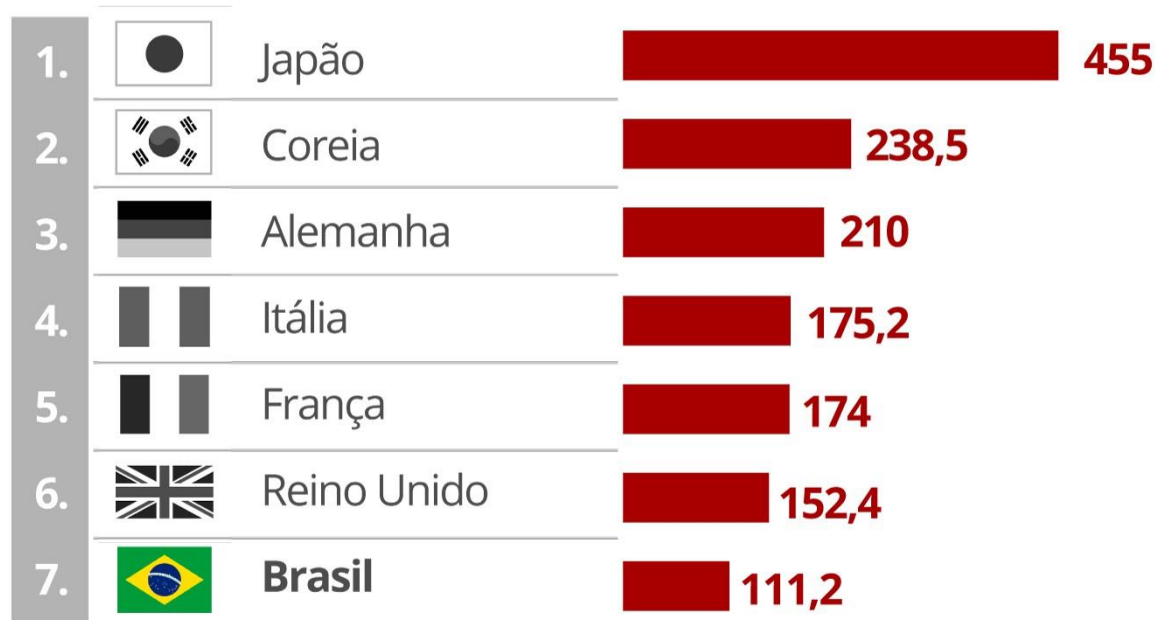


Infográfico elaborado em: 24/05/2019



Gasto com agrotóxicos por área plantada em 2017

Em US\$ por hectare



Fonte: Unesp Botucatu/Andef



Infográfico elaborado em: 24/05/2019

Segundo um estudo publicado em 2017 pela geógrafa Larissa Lombardi, 30% dos 504 agrotóxicos de uso permitido no Brasil são vetados na União Europeia. Um dos agrotóxicos banidos na Europa e permitido aqui é o acefato, o quinto mais vendido no Brasil. Apesar de todas as indicações da Anvisa (Agência Nacional de Vigilância Sanitária) de que ele é neurotóxico (pode ter efeitos sobre o sistema endócrino), continua sendo permitido.

É possível minimizar os riscos causados por alguns agrotóxicos à saúde humana lavando bem os alimentos em casa. Mas alguns produtos químicos entram nas células das plantas. Por isso, os agrotóxicos continuam sob constante escrutínio. Pesquisas e decisões judiciais recentes os associam a doenças como o câncer.

Por outro lado, a indústria de agroquímicos e agências reguladoras em todo o mundo garantem que, desde que consumidos em limites baixos e aplicados nas plantações conforme manda a lei, os agrotóxicos são seguros para a saúde humana.

É em meio a esse cenário que tramita, na Câmara dos Deputados, o **Projeto de Lei nº 6.299/02**, cujo texto inicial foi proposto pelo ex-senador e ministro da agricultura de Michel Temer, Blairo Maggi. Visando modificar a atual legislação dos agrotóxicos, criada em 1989, o PL propõe uma série de mudanças para **flexibilizar as regras sobre o uso, controle, registro e fiscalização de agrotóxicos**.



Aprovado por uma comissão especial da Câmara dos Deputados em junho de 2018, o PL ainda deve ser submetido para votação no plenário da Câmara dos Deputados e, para entrar em vigor, também terá que passar pelo Senado Federal e receber a sanção presidencial.

O debate sobre o PL nº 6.299/02 gerou uma divisão entre ruralistas e entidades de saúde e meio ambiente, de tal maneira que a proposta recebeu o nome de Lei do Alimento Mais Seguro entre os defensores, e de Pacote do Veneno entre os seus críticos.

A proposta em discussão no Congresso Nacional tem o apoio da bancada ruralista e de órgãos e associações ligadas à indústria química e ao agronegócio. Os favoráveis dizem que o processo para avaliação e liberação dos agrotóxicos é muito caro e demorado, e tratam a nova legislação como uma modernização das normas estabelecidas até hoje.

Do lado contrário ao projeto de lei estão ONGs da área do meio ambiente, a Agência Nacional de Vigilância Sanitária (Anvisa), a Fundação Oswaldo Cruz (Fiocruz), o Departamento de Vigilância em Saúde Ambiental e Saúde do Trabalhador (Ministério da Saúde), o Instituto Nacional do Câncer (Inca) e o Ibama, entre outras instituições. Eles apresentam estudos científicos e argumentam que as mudanças podem trazer riscos à saúde e ao meio ambiente.

Vamos ver as principais mudanças propostas do projeto de lei:

- **As análises para novos produtos e autorização de registros passam a ficar coordenadas pelo Ministério da Agricultura.**

Atualmente, a legislação prevê que os Ministérios da Saúde, do Meio Ambiente e da Agricultura compartilhem a responsabilidade de decidir sobre a liberação ou não de novos agrotóxicos.

O processo de registro de novos agrotóxicos ficará centralizado no Ministério da Agricultura. A Anvisa e o Ibama ainda continuarão encarregados pelas análises em saúde e meio ambiente, mas a decisão final caberá à pasta da Agricultura.

O Ministério da Agricultura também irá definir e estabelecer prioridades de análise dos pleitos de registros de produtos fitossanitários para os órgãos de saúde e meio ambiente.

- **Novas denominações.**

Atualmente, a legislação se refere aos produtos químicos usados no combate a pragas na agricultura como agrotóxicos. A proposta em discussão no Congresso Nacional substitui o termo "agrotóxico" por "defensivos agrícolas" e "pesticidas". O texto original também usava ainda uma outra denominação: "produto fitossanitário".

- **Produtos com "risco aceitável" passam a ser permitidos e apenas produtos com "risco inaceitável" podem ser barrados.**

Atualmente, são proibidos pela lei agrotóxicos que, em estudos experimentais com animais, tenham apresentado características carcinogênicas (que podem provocar câncer), teratogênicas (que podem causar malformações em fetos), mutagênicas (que podem resultar em alterações no DNA) ou que possam levar a distúrbios hormonais. A análise se baseia em uma avaliação do grau de toxicidade das substâncias.



A proposta substitui a análise do perigo da substância por uma avaliação de risco, que considera não apenas a sua toxicidade como também outras variáveis, como a dosagem, o tempo e o tipo de exposição ao agrotóxico, as condições climáticas e o uso de equipamento de proteção individual. O texto proíbe apenas produtos que apresentem "risco inaceitável" para seres humanos ou o meio ambiente, segundo essa análise. Entretanto, não deixa claro os parâmetros que definem o que seria esse "risco inaceitável".

- **Prazos para a liberação de novos agrotóxicos.**

A legislação em vigor diz que os órgãos federais devem realizar a avaliação técnico-científica para a liberação de novos agrotóxicos no prazo de 120 dias. Mas, na prática, o processo de análise pode levar entre cinco e oito anos. Essa é uma das maiores queixas de fabricantes e agricultores.

O texto estipula que a liberação de novos agrotóxicos deve ser definida dentro de um prazo que varia entre 30 dias e dois anos, de acordo com o tipo de produto.

Caso os cronogramas não sejam cumpridos, os fabricantes podem solicitar uma autorização temporária para comercializar seus produtos até que a análise seja concluída. Para isso, é preciso que esses agrotóxicos já tenham sido liberados em pelo menos outros três países da OCDE (Organização para Cooperação e Desenvolvimento Econômico).

- **Os Estados e o Distrito Federal não poderão restringir a distribuição, comercialização e uso de produtos autorizados pela União.**

Hoje, a União é responsável por criar regras e fiscalizar o cumprimento, mas os estados também têm poderes para criá-las e fiscalizá-las. O projeto prevê que poderes dos estados e municípios sejam diminuídos, sem a possibilidade de restringir mais do que a lei federal. Dessa forma, haverá uma centralização de poder na União impedindo a criação de regras próprias em cada Estado sobre o tema.

Política Nacional de Redução de Agrotóxicos

Como alternativa ao PL nº 6299/02, os opositores da proposta defendem a aprovação de outro texto, que institui uma Política Nacional de Redução de Agrotóxicos. A proposição está em análise por uma comissão especial na Câmara dos Deputados. Segundo o texto do Projeto de Lei, esse possui o "objetivo de implementar ações que contribuam para a redução progressiva do uso de agrotóxicos na produção agrícola, pecuária, extrativista e nas práticas de manejo dos recursos naturais, com a ampliação da oferta de insumos de origens biológicas e naturais, contribuindo para a promoção da saúde e sustentabilidade ambiental, com a produção de alimentos saudáveis".

Agroecologia como alternativa

Embora opiniões ainda sejam divergentes, já é consenso entre a maioria dos pesquisadores que diversos tipos de agrotóxicos são danosos tanto ao ser humano quanto ao meio ambiente. Mesmo com os benefícios existentes, como o aumento da produtividade, por exemplo, continuar investindo nesse modelo agrícola como o principal meio de produção pode ser um caminho sem volta.



Em meio a esse cenário, a agroecologia é apontada como um modelo de produção alternativo e sustentável. A agroecologia não é novidade, é a maneira como os alimentos sempre foram produzidos até a Revolução Industrial, quando cresce a preocupação com a produtividade na agricultura.

No modelo agroecológico, o uso de fertilizantes químicos é reduzido ou eliminado a partir da adoção de algumas espécies de plantas na produção, respeitando a biodiversidade e a rotação de culturas. Dessa maneira, o solo não perde os nutrientes necessários para continuar produzindo alimentos e, portanto, reduz a necessidade da aplicação de produtos químicos.

A ONU aponta a agroecologia como sendo um modelo produtivo mais sustentável e socialmente mais justo, pois permite que pequenos agricultores produzam alimentos com um método menos caro que o industrial. Mas para que esse modelo se concretize, a ONU recomenda aos governos que sejam elaboradas políticas públicas para incentivar e permitir que a produção agroecológica possa, de fato, ser uma alternativa.



A QUESTÃO INDÍGENA

Não há consenso entre os pesquisadores sobre o número de indígenas que, antes da chegada dos portugueses, ocupavam o que é hoje o território brasileiro, mas se estima que seriam 5 milhões de nativos, pertencentes a centenas de etnias.

Desde 1500 até os dias de hoje, a população indígena diminuiu drasticamente. De acordo com a Fundação Nacional dos Povos Indígenas (FUNAI) e o Censo Demográfico do Instituto Brasileiro de Geografia e Estatística (IBGE), realizado em 2010, os descendentes indígenas estavam reduzidos a 897 mil indivíduos distribuídos entre 505 terras indígenas e algumas áreas urbanas (0,4% da população total do país), concentrados principalmente nas regiões Norte e Centro-Oeste. Segundo as mesmas estimativas, há 69 referências de grupos totalmente isolados, isto é, que não estabeleceram contato com a sociedade brasileira.

Entre as 305 etnias existentes no país, os Yanomami ocupam a terra indígena mais populosa, com 30,4 mil habitantes, distribuídos entre os estados do Amazonas e de Roraima. A etnia Tikuna (AM) é a mais numerosa, com 46 mil pessoas, seguida pelos Guarani Kaiowá (MS), com 43 mil membros.

Terras Indígenas

A Constituição Federal (CF) de 1988 estabeleceu o direito originário dos indígenas sobre as terras que tradicionalmente ocupam. Para tanto, instituiu as Terras Indígenas (TIs), que representam uma porção do território nacional, de propriedade da União, habitada por um ou mais povos indígenas e utilizada para suas atividades produtivas.

Atualmente, existem 487 terras indígenas regularizadas (homologadas), representando cerca de 13% do território nacional, e estão localizadas em todos os biomas, com concentração na Amazônia.

A CF de 1988 também estabeleceu um prazo para a demarcação de todas as TIs: 5 de outubro de 1993. Contudo, isso não ocorreu e as TIs no Brasil encontram-se em diferentes situações jurídicas.

Dessa forma, a demarcação de TIs tem sido um grande problema, ocasionando inúmeros conflitos entre indígenas e fazendeiros. Quando esses embates avançam para a esfera judicial, devido à demora na tomada de decisão (ou seja, até que a justiça se pronuncie), não é possível comprovar que a terra é indígena. A maior parte das TIs também sofre algum tipo de intrusão, principalmente de madeireiros, garimpeiros, fazendeiros e posseiros.

Marco Temporal

Tramita no Supremo Tribunal Federal (STF) uma ação que julga se as demarcações de TIs devem seguir o chamado "marco temporal".

Por esse critério, os povos indígenas só podem reivindicar a demarcação de terras onde já estavam no dia 5 de outubro de 1988, quando entrou em vigor a atual Constituição Brasileira. Essa decisão pode definir o rumo de mais de 300 processos de demarcação de TIs que estão em aberto no país.



Essa tese não está prevista na CF, mas tem sido debatida desde 2009, quando foi levantada no julgamento de uma ação que questionava a demarcação da Terra Indígena Raposa Serra do Sol, em Roraima.

Em 2013, a tese do marco temporal serviu de base para que o TRF-4 desse ganho de causa para o governo catarinense no caso da reintegração de posse movida contra o povo Xokleng.

Ainda em 2013, a FUNAI entrou com um recurso defendendo o povo Xokleng. A ação seguiu e, em 2019, o STF deu status de repercussão geral ao processo. Em outras palavras, a decisão final a ser tomada pelos ministros do STF será aplicada em todas as instâncias da Justiça no que se refere à demarcação de terras e às suas disputas.

Desde que surgiu, a tese do marco temporal vem sendo sistematicamente criticada pelas populações indígenas e tradicionais. Elas argumentam que, como os indígenas ocupavam o país antes da chegada dos colonizadores, em 1500, e, durante séculos, foram vítimas de violações e de extermínios, não faria sentido se falar em marco temporal a partir de 1988.

Além disso, a própria CF, em seu artigo 231, garantiu aos indígenas os “direitos originários sobre as terras que tradicionalmente ocupam, competindo à União demarcá-las, proteger e fazer respeitar todos os seus bens”.

Os maiores defensores do marco temporal são os ruralistas, os quais se baseiam no argumento de que isso traria segurança jurídica e limitaria as desapropriações.

Em paralelo à ação no STF, tramita na Câmara dos Deputados o Projeto de Lei (PL) 490/2007, que prevê a revisão do usufruto exclusivo das terras pelos indígenas e inclui a participação dos estados e municípios envolvidos na área disputada. Além disso, esse também insiste na defesa da tese que as TIs são aquelas que já estavam ocupadas pelos povos tradicionais até a data de promulgação da CF.

Emergência sanitária na terra indígena Yanomami

Ao longo dos anos recentes, foram várias as denúncias de entidades de defesa da causa indígena, também veiculadas na imprensa, relacionadas à mortalidade de centenas de indígenas por doenças evitáveis na Terra Indígena Yanomami. Fotos de crianças e de idosos esqueléticos, desnutridos, divulgadas na imprensa e nas redes sociais, causaram comoção dentro e fora do Brasil.

Alguns dados oficiais retratavam a situação na terra indígena. Segundo o Ministério da Saúde, 570 crianças de até cinco anos morreram, entre 2019 e 2022, de doenças evitáveis, um aumento de 29% em relação ao período de 2015-2018. Em 2022, foram 99 mortes de crianças por causas como desnutrição, pneumonia e diarreia, de acordo com o Ministério dos Povos Originários (criado no governo Lula). Cerca de 56% das crianças da área acompanhadas tinham um quadro de desnutrição aguda (baixo ou baixíssimo peso para a idade) em 2021, segundo dados da Secretaria Especial de Saúde Indígena (Sesai), do Ministério da Saúde. Somente em 2022, foram registrados 11.530 casos de malária na região.

Diante dessa situação, o Ministério da Saúde decretou **emergência de saúde pública nacional na Terra Indígena Yanomami**, em janeiro de 2023. O governo federal anunciou uma série de medidas de reforço e de atenção à saúde dos indígenas.



Entidades de defesa dos povos indígenas e o Ministério dos Povos Originários apontam que, ao longo dos últimos cinco anos (2018-2022), a situação de saúde se precarizou na Terra Indígena Yanomami em razão da **desestruturação da assistência à saúde indígena** e do **crescimento da atividade garimpeira**.

A garimpagem é permitida em determinados casos, nos termos da legislação brasileira e com as devidas licenças governamentais, mas a legislação brasileira proíbe o garimpo em terras indígenas. Essa atividade é considerada a responsável direta por uma série de problemas graves entre os povos originários.

Na Terra Yanomami, existe uma relação entre o aumento da atividade garimpeira e a elevação de casos de doenças infectocontagiosas, como a gripe e a pneumonia. Não se trata de uma atividade puramente artesanal, já que pesadas máquinas são utilizadas na extração de ouro e da cassiterita. Utiliza-se o mercúrio na garimpagem de ouro, um produto químico altamente tóxico e nocivo à saúde, que contamina os solos, a água e a floresta. O crescimento do número de áreas de lavra e de garimpeiros também levou a um aumento das áreas desmatadas por essa atividade.

A ocupação do território, a destruição da floresta e a contaminação dos corpos de água promovidas pelo garimpo dificultam a manutenção e a abertura de roças, a caça, a pesca e a coleta de frutos, as principais fontes de alimentação das comunidades. Além disso, geram conflitos com os indígenas e problemas sociais, tais como o aliciamento e a prostituição de mulheres indígenas.

Com relação à assistência de saúde, indígenas e profissionais de saúde relataram o fechamento ou abandono de postos de saúde e a redução dos atendimentos nos que continuaram funcionando. A pandemia da covid-19 agravou ainda mais a situação. Auditorias da administração pública federal relataram diversas falhas nos serviços de saúde do Distrito Especial de Saúde Indígena Yanomami. Além disso, o Ministério Público Federal e a Polícia Federal apuram possíveis fraudes na compra de remédios para os Yanomami. Uma parte dos medicamentos teria sido desviada para os garimpos dentro do próprio território indígena.

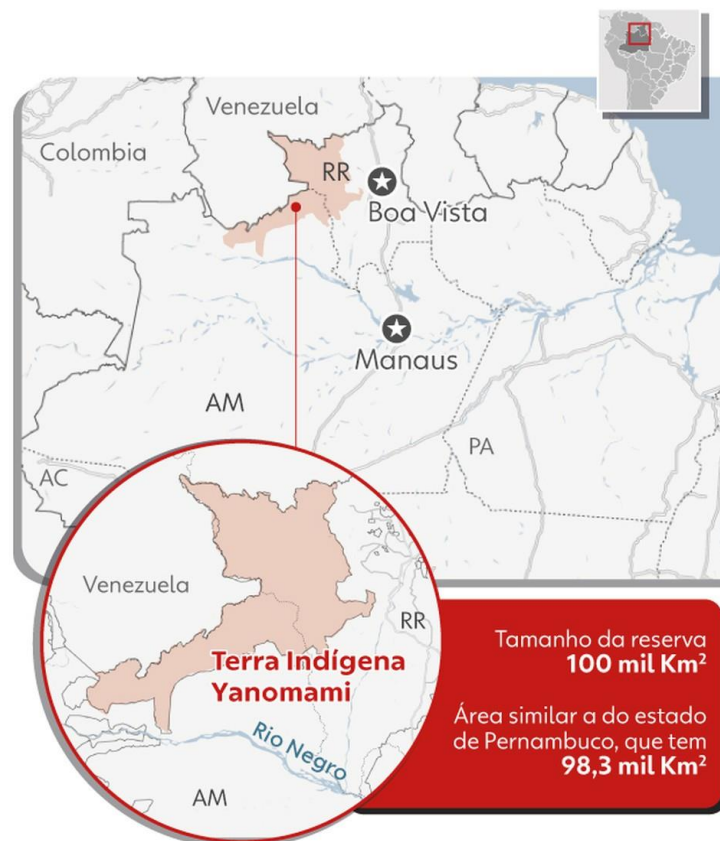
O governo federal também deflagrou uma operação para a retirada total dos garimpeiros da área e o bloqueio de novos acessos. Participam da operação o Exército, a Aeronáutica, a FUNAI, a Força Nacional de Segurança Pública, a Polícia Federal, a Polícia Rodoviária Federal e o Ibama.

O Infográfico a seguir apresenta mais informações sobre a Terra Indígena Yanomami.



Conheça terra Yanomami

Governo decretou estado de emergência no local



Informações

 População **30,4 mil** Habitantes


 Comunidades **371**

 **65** unidades de saúde

 Demarcação em **1992**

   
as principais atividades são **caça, pesca e roçado**

 estima-se que cerca de **20 mil** garimpeiros estejam na área

 A principal língua falada é a **Yanomami**, que tem, pelo menos, quatro subgrupos: Yanomae, Yanomami, Sanima e Ninam

 nos últimos quatro anos a taxa de desmatamento subiu de **1,2 mil** hectare em 2018 para **3,2 mil** hectares em 2021

Povos indígenas e a preservação florestal

O papel das comunidades indígenas tem ganhado destaque internacional nos debates sobre a preservação ambiental. Os povos originários são apontados como grandes protetores dos ecossistemas, detentores de conhecimentos que podem ajudar a sociedade e as organizações a lutar contra as mudanças climáticas e os problemas ambientais.

No Brasil, os indígenas correspondem a cerca de 0,4% da população e vivem em 14% do território. Pode parecer uma população reduzida estabelecida em uma grande porção de terra, mas isso cumpre funções-chave para preservar a natureza.

A grande maioria das terras indígenas concentra-se na Amazônia Legal, formando-se grandes blocos de floresta que funcionam como uma das principais barreiras contra o avanço do desmatamento na região. Até hoje, apenas 2,5% da área total das TIs na Amazônia foram desmatadas, porém, no espaço ocupado por imóveis rurais, esse percentual é de 52,5% (dados de dezembro de 2021).

Nos municípios com maiores taxas anuais de desmatamento, as terras indígenas, quando presentes, formam ilhas de floresta que coíbem a especulação imobiliária e interrompem o ciclo de transformação da paisagem da maior floresta tropical do mundo em pastagens e terras agrícolas. Como resultado, entre as áreas mais bem preservadas e com algumas das mais altas taxas de diversidade biológica da Amazônia estão as TIs, mesmo quando comparadas a muitas áreas protegidas.

Além disso, a preservação das TIs é particularmente importante para evitar as mudanças climáticas, já que elas contêm, em média, cerca de 50% mais carbono por hectare do que áreas não protegidas da Amazônia brasileira.



Recentemente, a Organização das Nações Unidas para Agricultura e Alimentação (FAO) publicou um material que destaca cinco maneiras pelas quais os povos indígenas estão ajudando o mundo a combater a mudança climática:

1. Suas práticas agrícolas tradicionais estão melhor adaptadas a um clima em mudança

Ao longo dos séculos, os povos indígenas desenvolveram técnicas agrícolas adaptadas a ambientes extremos, como as grandes altitudes dos Andes ou os campos secos do Quênia. Suas técnicas testadas pelo tempo, como terraços para evitar a erosão do solo ou jardins flutuantes para fazer uso de campos inundados, são bem adequadas para os eventos climáticos cada vez mais extremos e mudanças de temperatura provocadas pela mudança climática.

2. Conservam e restauram florestas e recursos naturais



Os povos indígenas se veem ligados à natureza e como parte do mesmo sistema do ambiente em que vivem. Eles adaptaram seus estilos de vida para se adequar e respeitar esse espaço. Nas montanhas, os sistemas de manejo da paisagem dos povos indígenas preservam o solo, reduzem a erosão, conservam a água e diminuem o risco de desastres. Nas pastagens, as comunidades pastoris indígenas gerenciam o gado pastando e cultivando de forma sustentável, preservando a biodiversidade das pastagens. Na Amazônia, a biodiversidade dos ecossistemas melhora quando os indígenas os habitam.

3. Seus alimentos e tradições podem ajudar a expandir e diversificar as dietas

O mundo atualmente depende muito de um pequeno conjunto de culturas básicas. Apenas cinco culturas (arroz, trigo, milho, milheto e sorgo) fornecem cerca de 50% de nossas necessidades energéticas. Repletos de colheitas nativas nutritivas, como quinoa e oca, os sistemas alimentares dos povos indígenas podem ajudar o resto da humanidade a expandir sua restrita base alimentar para incorporar ervas, arbustos, grãos, frutas, animais e peixes que podem não ser bem conhecidos ou usados outras partes do mundo.

4. Eles cultivam culturas indígenas que são mais resistentes às mudanças climáticas

Como muitos povos indígenas vivem em ambientes extremos, eles escolheram culturas que também se adaptaram a essas condições. Os povos indígenas geralmente cultivam um conjunto de espécies nativas de culturas e uma série de variedades que são melhor adaptadas aos contextos locais e são frequentemente mais resistentes a secas, altitude, inundações ou outras condições extremas. Usadas mais amplamente na agricultura, essas plantações poderiam ajudar a construir a resiliência das fazendas que agora enfrentam mudanças, com climas mais extremos.

5. Eles supervisionam uma grande parte da biodiversidade do mundo

Os TIs tradicionais abrangem 28% da superfície terrestre do mundo, mas abrigam 80% da biodiversidade do planeta. Preservar a biodiversidade é essencial para a segurança alimentar e nutricional. O acervo genético de plantas e de espécies animais é encontrado em todos os biomas terrestres, assim como rios, lagos e áreas marinhas. Vivendo vidas naturalmente sustentáveis, os povos indígenas preservam esses espaços, ajudando a preservar a biodiversidade de plantas e animais na natureza.



RESUMO

Desenvolvimento Sustentável

Ao longo da história, o debate ambiental ganhou visibilidade trazendo diferentes visões sobre o desenvolvimento e a conservação da natureza. Durante milhares de anos, o homem argumentou que destruía o meio ambiente para obter recursos indispensáveis à sua subsistência. Hoje, cientistas mostram que a própria sobrevivência da humanidade está em xeque por causa da exploração desenfreada dos recursos da natureza.

A **agricultura** sempre produziu impactos negativos sobre o meio ambiente. Mas com o avanço tecnológico um novo ritmo na ação predatória foi imposto. A partir da **industrialização**, os cientistas começaram a se articular para discutir os efeitos da poluição e os inúmeros problemas socioambientais causados pelo novo modelo de produção.

A **Revolução Industrial** foi um divisor de águas na história da humanidade, responsável por intensas transformações socioeconômicas acelerou, também, a dimensão dos problemas ambientais devido à grande extração dos recursos naturais.

Os primeiros **santuários ecológicos** foram criados no final do século XVIII, nasceram da preocupação da comunidade científica pela falta de freio do progresso tecnológico. Os cientistas argumentavam que era necessário estabelecer **áreas intocáveis**, onde a ação transformadora do homem fosse bloqueada.

Após a II Guerra Mundial, o debate ambiental, antes restrito às camadas intelectuais, passou a ganhar a atenção de todas as classes, tornando-se um assunto do dia a dia. Desde então, os esforços pela preservação ambiental começaram a ter algum resultado. Com a chegada do século XX, diversos acordos internacionais buscaram mitigar os efeitos nocivos da ação humana sobre a natureza.

Sociedade do consumo

Vivemos em uma sociedade marcada e dominada pela lógica do consumo. O ato de consumir é colocado como uma das formas que permitem ao indivíduo sentir-se inserido na sociedade. Atualmente, a base da economia mundial é a produção em larga escala de bens materiais. Globalizou-se o consumo exacerbado e não sustentável.

A expansão acelerada do consumismo acarreta alta demanda/necessidade de energia, minérios, água e tudo o que é necessário à produção e ao funcionamento dos bens de consumo. Essa expansão trouxe consigo problemas que impactam diretamente o meio ambiente. A velocidade da utilização dos recursos naturais já é muito maior que a capacidade de regeneração da natureza (para alguns elementos a reposição é impossível).

Biocapacidade – indicador que mede a área de terras e águas capazes de gerar recursos biológicos úteis e de absorver os resíduos produzidos pelas atividades humanas. A Terra tem uma biocapacidade de 13,4 bilhões de hectares globais.

Pegada ecológica – métrica para avaliar a pressão das atividades humanas sobre os ecossistemas. Demonstra se o nosso estilo de vida está de acordo com a capacidade do planeta em oferecer e renovar seus recursos naturais e absorver os resíduos provocados pela atividade humana. De acordo com esta medida, a humanidade já está consumindo mais recursos naturais do que a capacidade de reposição do Planeta.



O Desenvolvimento Sustentável

Em 1972, o **Clube de Roma** publicou o relatório **Limites do Crescimento**. Alvo de muita polêmica, o relatório afirmava que, se continuassem os ritmos de crescimento da população, da utilização de recursos naturais e da poluição, a humanidade correria sérios riscos de sobrevivência no final do século XXI.

Em 1972, a ONU organizou a **Conferência de Estocolmo**, também conhecida como a **1ª Conferência Internacional para o Meio Ambiente Humano**. A conferência foi um marco do movimento ambiental, em que se debateram os problemas ambientais do planeta. Poucos avanços foram conseguidos ao final da conferência, porém a sensibilização das lideranças da comunidade internacional levou à criação do Programa das Nações Unidas para o Meio Ambiente (Pnuma) pela ONU.

Relatório Nosso Futuro Comum – conhecido também como Relatório Brundtland, foi divulgado em 1987 pelo Pnuma. O documento popularizou o **conceito de desenvolvimento sustentável**:

“Desenvolvimento sustentável é aquele que satisfaz as necessidades da geração presente sem comprometer a capacidade das gerações futuras de satisfazerem as suas próprias necessidades.”

O desenvolvimento sustentável está ancorado em três dimensões: **social, econômica e ambiental**. Essas dimensões são conhecidas como o **tripé do desenvolvimento sustentável**.

Portanto, desenvolvimento sustentável é a compatibilização do desenvolvimento econômico, com o desenvolvimento social e com a preservação da qualidade do meio ambiente e do equilíbrio ecológico.

Conferência das Nações Unidas sobre Meio Ambiente e Desenvolvimento (Eco-92) – realizada no Rio de Janeiro em 1992. A Eco-92 aprovou a **Agenda 21** que trata de um planejamento de futuro, com ações de **curto, médio e longo prazos**, contendo metas, indicadores, instrumentos, recursos e responsabilidades definidas.

A **Agenda 21** não é uma agenda ambiental, e sim uma agenda para o desenvolvimento sustentável. Tem o compromisso com a sustentabilidade traduzido em 27 princípios, calcados em três premissas:

- Os países desenvolvidos devem mudar seu padrão de produção e consumo;
- Os países em desenvolvimento devem manter as metas de crescimento, mas adotar métodos e sistemas de produção sustentáveis; e
- As nações desenvolvidas devem apoiar o crescimento das mais pobres.

Conferência da ONU para o Desenvolvimento Sustentável (RIO+20) – realizada vinte anos após a Rio 92, os países-membros da ONU reuniram-se em 2012, no Rio de Janeiro, com o objetivo de analisar os progressos feitos, desde 1992, e avançar na adoção de políticas para o desenvolvimento sustentável.

Previamente à conferência, a ONU divulgou um balanço geral da situação do planeta, o qual demonstrou que o progresso em prol da sustentabilidade nas duas décadas anteriores havia sido bastante limitado. A Rio+20 causou frustração aos que esperavam metas ou agendas de compromissos.

Objetivos do Desenvolvimento Sustentável – a RIO+20 deliberou pela elaboração dos Objetivos do Desenvolvimento Sustentável (ODS). Em 2015, os líderes de governo e de estado aprovaram, por consenso, o documento **“Transformando Nosso Mundo: A Agenda 2030 para o Desenvolvimento Sustentável”**.

Conforme a ONU, “a Agenda é um plano de ação para as pessoas, o planeta e a prosperidade. Ela busca fortalecer a paz universal com mais liberdade e reconhece que a erradicação da pobreza em todas as suas formas e dimensões, incluindo a pobreza extrema, é o maior desafio global ao desenvolvimento sustentável”.



Os ODS constituem-se de 17 objetivos que mesclam, de forma equilibrada, as três dimensões do desenvolvimento sustentável consideradas pela ONU: a econômica, a social e a ambiental.

A Agenda considera cinco áreas como de importância crucial para a humanidade e para o planeta no período 2016 – 2030, denominadas cinco Ps: **peessoas, planeta, prosperidade, paz e parceria**.

Critérios ESG

A sigla ESG vem do inglês e significa *Environmental, Social and Governance*, ou ASG - Ambiental, Social e Governança, em português.

Trata-se de um conjunto de critérios que avalia como uma empresa lida com questões ambientais, sociais e de governança. É usado para medir sua responsabilidade e sustentabilidade, afetando suas práticas e a escolha de investimentos.

E - Environmental ou Ambiental

Refere-se a práticas e princípios adotados na empresa para a conservação do meio ambiente.

S - Social

Diz respeito à relação que a empresa tem com as pessoas do seu entorno.

G - Governance ou Governança

É a forma como a empresa realiza a gestão dos seus processos, com foco na transparência.

Mais do que uma tendência, as práticas de ESG são fatores de competitividade no ambiente de negócios em geral. A sociedade e o mercado veem com bons olhos empresas que praticam ações de ESG e se preocupam com as questões ambientais, sociais e de governança.

As empresas buscam o ESG, portanto, para gerar um impacto positivo na sociedade e, com isso, reduzir os riscos, melhorar o relacionamento com clientes, fornecedores e as comunidades, e mostrar aos investidores que estão olhando para o negócio de maneira holística e transparente.



RESUMO

Mudanças Climáticas

A temperatura do planeta Terra está aumentando, o que se denomina de **aquecimento global**. Com sólidas evidências científicas, os cientistas climáticos afirmam que o aquecimento global está sendo causado pela **ação antrópica**, ou seja, a ação humana.

O aquecimento global tem como causa a **intensificação do fenômeno natural do efeito estufa**. Os principais gases responsáveis pelo efeito estufa são o dióxido de carbono ou gás carbônico (CO₂), o metano (CH₄) e o óxido nitroso (N₂O).

Ao longo dos últimos anos, a ciência climática tem apresentado várias evidências do aquecimento global. O século XX foi o mais quente dos últimos 500 anos. Recordes do ano mais quente da história, do mês mais quente da história e dos últimos dez anos mais quentes da história vêm ocorrendo sucessivamente ao longo do século XXI. **Desde o final do século XIX, a temperatura média da superfície global aumentou cerca de 1,1 °C** (IPCC/ONU).

→ Considerando as **emissões anuais**, a partir do ano de 2006, a **China** é o maior emissor mundial de CO₂, seguida por Estados Unidos e União Europeia. O Brasil é o 8º maior emissor mundial.

→ Considerando as **emissões acumuladas**, os **Estados Unidos** são os maiores emissores de CO₂, seguidos da China, e União Europeia. O Brasil aparece como 5º maior emissor mundial em emissões acumuladas.

O **setor de energia** (transportes, veículos automotores e geração de energia elétrica) é o que mais emite gases estufa em nível mundial, resultado da predominância do petróleo como recurso energético.

O **setor que mais contribui para as emissões de gases estufa no Brasil é o de mudança no uso da terra**. Isso se deve ao desmatamento, sobretudo da floresta Amazônica.

Possíveis consequências do aquecimento global:

- O nível médio da água dos oceanos continuará a subir e poderá submergir os pequenos países insulares e destruir áreas costeiras habitadas.
- Haverá mudanças no ciclo global das águas e aumento de contraste na quantidade de chuva entre as regiões úmidas e secas e de intensidade nas estações chuvosas e secas. Áreas áridas deverão se tornar desérticas.
- Os fenômenos climáticos extremos, como furacões, tufões, ciclones, tornados, chuvas intensas e secas estão se tornando mais frequentes e mais severos.
- Perda de volume nas camadas de gelo do Ártico, da Groenlândia, da Antártica e das geleiras de montanhas.

Convenção Quadro sobre Mudança do Clima – aprovada em 1992, no Rio de Janeiro, na Eco-92. É um tratado internacional em que os Estados-Parte decidem em conjunto as ações relacionadas às mudanças climáticas. As discussões acontecem nas COPs (Conferência das Partes, em que cada país-membro é considerado uma parte), realizadas anualmente.

Conferência do Clima de Kyoto (COP-3) - realizada em Kyoto, no Japão, em 1997, sua importância está relacionada, principalmente, à aprovação do **Protocolo de Kyoto**, no qual foi estabelecido a estratégia



de “**responsabilidade comum, porém diferenciada**”. Essa expressão define que todas as nações têm responsabilidade no combate ao aquecimento global, mas as que mais contribuíram historicamente para o acúmulo de gases do efeito estufa têm uma obrigação maior.

O Protocolo de Kyoto entrou em vigor em 2005, mas grandes poluidores, como os Estados Unidos, não o ratificaram por considerar que isso afetaria sua economia. O prazo do protocolo venceu em 2012, mas foi prorrogado até 2020 por falta de um novo acordo.

Além disso, nessa conferência também foi criado o mecanismo dos **créditos de carbono**, que são certificados de redução de emissão de gases do efeito estufa, podendo ser comprados e vendidos por empresas e governos. Com esse mecanismo, o direito de emitir novos gases, portanto, é precificado e pode ser comercializado.

Conferência do Clima de Paris (COP-21) – estabeleceu um acordo em que todos os países deverão se mobilizar para conter o aumento da temperatura média da Terra, ainda neste século, fazendo o possível para tentar reduzir a **1,5 °C**. Não foram dadas metas de redução de emissão de gases do efeito estufa, mas uma intenção global em mudar para uma economia de baixo carbono.

A principal crítica ao acordo é que todos os compromissos nacionais para reduzir as emissões são **voluntários** – cada país apresentou a meta de redução de emissões que acredita poder alcançar. Além disso, o conjunto de compromissos somado é considerado insuficiente para barrar o sobreaquecimento médio em até 2 °C.

Conferência das Nações Unidas sobre Mudança do Clima de 2023 (COP-28) - foi realizada no mês de novembro de 2023 na cidade de Dubai, nos Emirados Árabes Unidos.

O principal avanço da conferência foi o documento final, que fez referência a redução de emissões de carbono e manifestou a preocupação com o fato de o orçamento atual não ser suficiente para cumprir a meta do Acordo de Paris.

A COP também aprovou a criação de um Fundo de Compensação de Perdas e Danos com destinação de recursos a países vulneráveis às mudanças climáticas.



RESUMO

Amazônia

A Amazônia, com cerca de 7 milhões de quilômetros quadrados, é uma vasta região geográfica que abrange vários países sul-americanos, sendo mais de 60% localizada no Brasil. Caracterizada por sua floresta densa e úmida, a Amazônia é o lar de uma **biodiversidade** rica, com grande parte das espécies ainda não catalogadas.

Além de seu valor ambiental, a Amazônia desempenha um papel crucial no **equilíbrio climático global**, absorvendo dióxido de carbono e influenciando o clima por meio dos "rios voadores". A região também é rica em recursos minerais, tornando-se uma fronteira natural com alto potencial econômico.

Ao longo do tempo, políticas de ocupação foram implementadas, principalmente durante o regime militar, resultando em grandes projetos de exploração mineral, florestal e agropecuária. Essas ações aumentaram a migração para a região, levando a problemas ambientais, como o desmatamento e as queimadas, e a conflitos sociais.

A preservação da Amazônia é vital, não apenas para a manutenção de sua biodiversidade e equilíbrio climático, mas também para evitar consequências como **desertificação** e a **savanização da região**. Apesar dos desafios, iniciativas de uso sustentável da floresta, como o extrativismo e o ecoturismo, estão em andamento.

Contudo, ameaças persistem, incluindo o avanço do crime organizado na região. A degradação contínua da floresta traz impactos como menor umidade do ar, diminuição dos rios e mudanças climáticas. Cientistas alertam para o risco de um **"ponto de não retorno"** caso o desmatamento atinja 25%, potencialmente transformando a maior parte da Amazônia em cerrado.

Apesar dos desafios, há potencial para o desenvolvimento sustentável na região, destacando a bioeconomia e os créditos de carbono como fontes de renda e desenvolvimento econômico, desde que acompanhados por pesquisa científica e regulamentações adequadas.

Amazônia Legal – conceito criado no Brasil para melhor orientar políticas de desenvolvimento social e econômico na região amazônica brasileira.

Fundo Amazônia – programa de proteção e preservação ambiental da Floresta Amazônica. O fundo está aberto ao recebimento de doações financeiras por parte de países, empresas e ONGs. Os recursos são geridos pelo Banco Nacional de Desenvolvimento Econômico e Social (BNDES).

Desmatamento na Amazônia – o monitoramento do desmatamento é realizado pelo **Instituto Nacional de Pesquisas Espaciais (Inpe)** por meio do Prodes e do Deter. O desmatamento é atualmente a principal fonte de emissões de gases do efeito estufa do Brasil e, para atingir a meta de redução de emissões, o país terá que avançar muito mais rapidamente para reduzir a destruição florestal.

Desmatamento no Cerrado – o Cerrado é o segundo maior bioma do Brasil. A principal causa de desmatamento no Cerrado é o agronegócio, por meio da conversão de terras para práticas agrícolas e criação de gado. A maior parte da soja e do milho exportados pelo Brasil provém de grandes plantações localizadas nesse bioma.



RESUMO

Questão hídrica

O volume total da água no planeta é da ordem de 1,4 bilhão de quilômetros cúbicos, mas 97,5% estão nos oceanos e mares e apenas os 2,5% restantes são doces. Dos 2,5% de água doce, 69,8% está em forma de gelo nas calotas polares. Os outros 30,2% restantes de água doce no mundo estão distribuídos em águas subterrâneas (29%), rios e lagos (0,3%) e vapor d'água (0,9%).

Embora haja muita água no nosso planeta, apenas uma parte muito pequena está mais acessível para as atividades humanas. A água é um recurso natural renovável, apesar de ser renovável, é um recurso natural limitado, ou seja, a sua quantidade não aumenta, nem diminui, na natureza.

Crise hídrica – a distribuição de água doce líquida é irregular, havendo países em que esse recurso é praticamente escasso e outros em que ele é relativamente abundante. Diversas regiões do mundo sofrem com a falta d'água, fruto do aumento populacional, da urbanização desordenada do planeta, do consumo crescente, do desperdício, da não preservação dos mananciais hídricos e da mudança do clima. Especialistas em gestão de recursos hídricos ponderam que a chamada crise hídrica é mais uma questão de mau gerenciamento do recurso do que de escassez natural.

A questão hídrica no Brasil – com 12% do total, o Brasil é o país com a maior quantidade de água doce disponível na superfície da Terra. O líquido, porém, não se distribui de maneira uniforme pelo território nacional. A região Norte contém cerca de 70% do total da água disponível, mas apenas 7% da população. Logo, 93% da população do país dependem dos 30% da água restante. Essa desigualdade demonstra que o país não está imune à escassez hídrica.

A estiagem histórica atravessada pelo Sudeste a partir de 2014 demonstra a importância de uma boa gestão dos recursos hídricos. O rápido **crescimento populacional** da região pressionou as fontes de abastecimento (represas), que não evoluíram na mesma proporção.

Alternativas para o enfrentamento da escassez hídrica:

- Obras de infraestrutura hídrica.
- Tecnologias para reuso da água.
- Reflorestamento.
- Proteção de nascentes.
- Dessalinização (métodos físico-químicos para retirada do sal presente nas águas de mares e oceanos).



RESUMO

Agrotóxicos

Na década de 1960, os Estados Unidos e a ONU incentivaram mudanças nas técnicas agrícolas com o intuito de aumentar a produtividade dos países subdesenvolvidos. A intenção era evitar o surgimento de focos de insatisfação popular por causa da fome, mantendo esses países em sua esfera de influência.

O conjunto de mudanças técnicas na produção agropecuária, que ficou conhecido por **Revolução Verde**, consistia na **modernização das práticas agrícolas**, como a utilização de adubos químicos, inseticidas, herbicidas, sementes melhoradas e a mecanização do preparo do solo (do cultivo e da colheita).

Com a Revolução Verde, a utilização dos agrotóxicos se disseminou pelo mundo. Os agrotóxicos são produtos químicos que alteram a composição da flora e da fauna com o objetivo de evitar que doenças, insetos ou plantas daninhas prejudiquem as plantações.

Entretanto, os agrotóxicos apresentam riscos ao ser humano e ao meio ambiente. Os mais afetados são os trabalhadores agrícolas e a população que reside próximo às plantações. Em menor grau estão todos aqueles que consomem esses alimentos. Sua aplicação frequente também contamina o solo e a qualidade das águas. Devido a isso, muitos países já baniram a utilização de agrotóxico considerados nocivos.

No Brasil, a comercialização de agrotóxicos cresce anualmente, o que nos torna, atualmente, o **país que mais utiliza agrotóxicos no mundo em números absolutos**. Porém, quando são levadas em conta duas variáveis, a quantidade de alimento produzida e a área plantada, os países que mais fazem uso de agrotóxicos são o Japão, a União Europeia e os Estados Unidos.

A indústria de agroquímicos e agências reguladoras em todo o mundo garantem que, desde que consumidos em limites baixos e aplicados nas plantações conforme manda a lei, os agrotóxicos são seguros para a saúde humana.

Atualmente, tramita, na Câmara dos Deputados, o **Projeto de Lei nº 6.299/02**, que visa modificar a atual legislação dos agrotóxicos propondo uma série de mudanças a fim de flexibilizar as regras sobre o uso, o controle, o registro e a fiscalização de agrotóxicos.

O debate sobre o PL nº 6.299/02 gerou uma divisão entre ruralistas e entidades de saúde e meio ambiente, de tal maneira que a proposta recebeu o nome de Lei do Alimento Mais Seguro entre os defensores, e de Pacote do Veneno entre os seus críticos.

As principais mudanças propostas do projeto de lei são:

- As análises para novos produtos e autorização de registros passam a ficar coordenadas pelo Ministério da Agricultura.
- Novas denominações aos produtos químicos usados no combate a pragas na agricultura.
- Produtos com "risco aceitável" passam a ser permitidos e apenas produtos com "risco inaceitável" podem ser barrados.
- Prazos que variam entre 30 dias e dois anos para a liberação de novos agrotóxicos.



- Os Estados e o Distrito Federal não poderão restringir a distribuição, a comercialização e o uso de produtos autorizados pela União.

Em alternativa ao PL nº 6299/02, os opositores da proposta defendem a aprovação de outro texto, que institui uma Política Nacional de Redução de Agrotóxicos. Segundo o texto do Projeto de Lei, esse possui o "objetivo de implementar ações que contribuam para a redução progressiva do uso de agrotóxicos na produção agrícola, pecuária, extrativista e nas práticas de manejo dos recursos naturais, com a ampliação da oferta de insumos de origens biológicas e naturais, contribuindo para a promoção da saúde e sustentabilidade ambiental, com a produção de alimentos saudáveis".

Agroecologia – apontada como um modelo de produção alternativo e sustentável. No modelo agroecológico, o uso de fertilizantes químicos é **reduzido** ou **eliminado** a partir da adoção de algumas espécies de plantas na produção, respeitando a biodiversidade e a rotação de culturas. Dessa maneira, o solo não perde os nutrientes necessários para continuar produzindo alimentos e, portanto, reduz a necessidade da aplicação de produtos químicos.



RESUMO

A Questão Indígena

Desde 1500 até os dias de hoje, a população indígena diminuiu drasticamente.

A CF de 1988 estabeleceu o direito originário dos indígenas sobre as terras que tradicionalmente ocupam. Para tanto, definiu que as **terras indígenas** (TIs) se configuram em uma porção do território nacional, de propriedade da União, habitada por um ou mais povos indígenas e utilizada para suas atividades produtivas.

Atualmente, existem 487 terras indígenas regularizadas (homologadas) que representam cerca de 13% do território nacional, localizadas em todos os biomas, com grande concentração na Amazônia. O Amazonas é o estado com a maior extensão de terras indígenas dentre os estados brasileiros, seguido pelo Pará.

A CF de 1988 também estabeleceu que as TIs fossem demarcadas até 5 de outubro de 1993, contudo, isso não ocorreu e as TIs, no Brasil, encontram-se em diferentes situações jurídicas.

Dessa forma, a demarcação de TIs tem sido um grande problema, que já ocasionou inúmeros conflitos entre indígenas e fazendeiros. Quando esses embates se estendem para a esfera judicial, existe uma demora na tomada de decisão, pois, até que a justiça se pronuncie, não é possível comprovar que a terra é indígena. A maior parte das TIs também sofre algum tipo de intrusão, principalmente de madeiras, garimpeiros, fazendeiros e posseiros.

Tramita no STF uma ação que julga se as demarcações de TIs devem seguir o chamado "marco temporal". Por esse critério, os povos indígenas só poderiam reivindicar a demarcação de terras onde já estavam no dia 5 de outubro de 1988, quando entrou em vigor a atual Constituição Brasileira. Os maiores defensores do marco temporal são os ruralistas, pois alegam que isso traria segurança jurídica e limitaria as desapropriações.

Devido à precariedade das condições de saúde, o Ministério da Saúde decretou **emergência de saúde pública nacional na Terra Indígena Yanomami**, em janeiro de 2023. Entidades de defesa dos povos indígenas e o Ministério dos Povos Originários apontam que, ao longo dos últimos cinco anos (2018-2022), a situação de saúde se precarizou na região em razão da **desestruturação da assistência à saúde indígena** e do **crescimento da atividade garimpeira** ilegal de ouro e cassiterita. O governo federal também deflagrou uma operação para a retirada total dos garimpeiros da área.

O papel das comunidades indígenas tem ganhado destaque internacional nos debates sobre preservação ambiental. Os povos originários são apontados como grandes protetores dos ecossistemas, detentores de conhecimentos que podem ajudar a sociedade e as organizações a lutar contra as mudanças climáticas e os problemas ambientais. Não obstante a isso, essas comunidades vêm sofrendo, nos últimos anos, com um avanço de atividades ilegais, como o próprio corte raso da floresta, o garimpo e a extração de madeira.



QUESTÕES COMENTADAS – DESENVOLVIMENTO SUSTENTÁVEL – MULTIBANCAS

1. (QUADRIX/CRT-SP/2023) A preocupação com a preservação dos bens naturais ainda não ecoa no mundo, sendo desconhecida por governos, cientistas, organismos multilaterais e organizações não governamentais.

COMENTÁRIOS:

Essa questão é, sem dúvida, incorreta. A preocupação com a preservação dos bens naturais é uma das pautas mais importantes no cenário internacional da atualidade, debatida e reconhecida em todo o mundo. Governos, cientistas, organizações multilaterais e ONGs têm se dedicado a discutir e implementar medidas para a preservação ambiental.

Gabarito: Errado

2. (CEBRASPE/TJ-SC/2023) Na economia contemporânea, tende a ganhar espaço um novo tipo de visão e de conceito que se afasta dos padrões desenvolvidos a partir da Revolução Industrial, ao fim do século XVIII. Desse modo, adquirem crescente importância conceitos como o de sustentabilidade econômica, que pode ser corretamente entendido como:

- A) o retorno a uma economia pré-industrial, para eliminar toda forma de poluição ambiental.
- B) a promoção do progresso a qualquer custo, como forma de eliminar a pobreza e as desigualdades sociais.
- C) a produção necessária para assegurar a vida no presente e no futuro, respeitando-se os limites da natureza.
- D) o incentivo ao uso de todo tipo de fonte de energia, por ser indispensável ao pleno desenvolvimento.
- E) a defesa da utilização de fontes de energia fósseis, como o petróleo, por seu baixo risco ambiental.

COMENTÁRIOS:

A alternativa “C” é a que melhor se refere ao conceito de sustentabilidade econômica. A sustentabilidade econômica busca conciliar o desenvolvimento econômico com a preservação dos recursos naturais e a qualidade de vida das gerações presentes e futuras. Isso significa adotar práticas que não comprometam os recursos naturais de forma irreversível, buscando um equilíbrio entre as necessidades econômicas e a capacidade do meio ambiente de suportar essas demandas. É importante considerar os limites da natureza e promover uma produção que seja viável no longo prazo, levando em conta a conservação dos recursos e a minimização dos impactos ambientais.

Gabarito: C



3. (VUNESP/EPC/2023) Políticas públicas em todo o mundo têm sido reorientadas para o cumprimento dos Objetivos de Desenvolvimento Sustentável (ODS). No Brasil, o cumprimento dos ODS está seriamente comprometido.

(Carta Capital. <https://bit.ly/3la1jZy>. 06.12.2022)

No Brasil, entre as metas cruciais dos ODS não cumpridas está

- A) a alta proporção da população vivendo abaixo da linha da pobreza.
- B) o fraco crescimento vegetativo provocado pela alta taxa de mortalidade.
- C) a pequena proporção de idosos no conjunto da população.
- D) a forte concentração da população em áreas rurais.
- E) o fraco crescimento demográfico nas áreas mais pobres.

COMENTÁRIOS:

Entre as alternativas, a única que apresenta corretamente uma meta que se relaciona aos objetivos do desenvolvimento sustentável é a redução da pobreza, presente na alternativa "A". Essa é, inclusive, a 1ª dos 17 Objetivos do Desenvolvimento Sustentável:

1. Acabar com a pobreza em todas as suas formas, em todos os lugares.

No Brasil, é alta a proporção da população que vive abaixo da linha da pobreza. Desse modo, essa é uma das metas cruciais dos ODSs não cumprida no país.

Gabarito: A

4. (FGV/TRT-MA/2022) O ESG surgiu no mercado financeiro como uma forma de medir o impacto que as ações de sustentabilidade geram nos resultados das empresas. A sigla surgiu a primeira vez em 2004, dentro de um grupo de trabalho do Principles for Responsible Investment (PRI), rede ligada à ONU que tem como objetivo atrair investimentos sustentáveis.

James Gifford, economista que liderava o PRI, resumiu assim o significado de ESG:

“O ESG é apenas um subgrupo inserido no contexto maior do investimento sustentável. O termo foi criado, especificamente, para focar em questões materiais. A ideia foi inverter a lógica do que, na época, era chamado de investimento ético, para se concentrar em fatores relevantes para os investidores. Se você tem uma responsabilidade fiduciária, como no caso de um fundo de pensão, não deveria estar pensando num horizonte de nove meses, mas sim de nove anos, ou de 20 anos. E quando se considera esse horizonte, temas como mudanças climáticas, riscos sociopolíticos etc., se tornam relevantes. Algumas pessoas usam o termo de maneira mais ampla, mas o ponto central é a incorporação de fatores socioambientais nos investimentos para gerenciar riscos. Não é mais sobre ética.”

(<https://exame.com/esg/>)



A sigla em inglês ESG significa

- (A) meio ambiente, social e governança.
- (B) economia, social e gestão.
- (C) energia, sustentabilidade e gestão.
- (D) ética, natureza e economia.
- (E) eficiência, sustentação e ação global.

COMENTÁRIOS:

A sigla ESG, em inglês, significa "Environmental, Social, and Governance", "Meio Ambiente, Social e Governança", em língua portuguesa. A sigla representa três pilares fundamentais utilizados para medir o desempenho das empresas e investimentos com relação à sustentabilidade e à responsabilidade social.

É um conceito que se estuda muito na disciplina de Administração Pública, mas que também pode aparecer em questões de Atualidades e Conhecimentos Gerais, por estar relacionado ao tema da sustentabilidade.

Os termos que compõem a sigla são:

E - Environmental (Ambiental): questões relacionadas ao meio ambiente, como a redução da pegada de carbono, o uso eficiente de recursos naturais, a gestão de resíduos, a preservação da biodiversidade e a adoção de práticas sustentáveis que minimizem o impacto ambiental.

S - Social (Social): questões sociais e de responsabilidade social corporativa, como práticas trabalhistas justas, diversidade e inclusão, respeito aos direitos humanos, segurança dos funcionários e impacto nas comunidades onde a empresa atua.

G - Governance (Governança): compreende a qualidade da governança corporativa da empresa, incluindo a transparência, a prestação de contas, a independência do conselho de administração, a política de remuneração dos executivos, a estrutura de tomada de decisões e a ética nos negócios.

A abordagem ESG tem se tornado cada vez mais importante no mundo dos negócios e dos investimentos, pois reflete a preocupação crescente com o impacto social e ambiental das empresas, bem como com a qualidade de sua governança. Investidores, acionistas e stakeholders estão buscando empresas que sejam socialmente responsáveis, ambientalmente conscientes e tenham uma governança sólida, pois acreditam que elas têm maior probabilidade de sustentabilidade em longo prazo e podem gerar retornos financeiros mais estáveis.

Além disso, o ESG também está sendo incorporado nas políticas de investimento de instituições financeiras e fundos de investimento, impulsionando uma abordagem mais consciente e sustentável para o mercado financeiro.

Gabarito: A



5. (VUNESP/PM-SP/2022) A expressão sustentabilidade ambiental define a maneira como os seres humanos utilizam os bens e os recursos naturais para suprir suas próprias necessidades, de forma que não sejam esgotados, havendo garantias para as próximas gerações. As opções a seguir apresentam exemplos de sustentabilidade ambiental, à exceção de uma. Assinale-a.

- (A) O reflorestamento e a valorização de áreas verdes.
- (B) A utilização de fontes de energia limpas e renováveis.
- (C) A racionalização e o controle da exploração de recursos minerais.
- (D) O manejo controlado dos corpos d'água e o consumo racional de água.
- (E) A coleta seletiva e a reciclagem de resíduos nos lixões e aterros sanitários.

COMENTÁRIOS:

O enunciado define bem o conceito de sustentabilidade ambiental e o comando da questão pede para que se assinale a opção que não corresponde a um exemplo de sustentabilidade ambiental.

A alternativa que não condiz com um exemplo de sustentabilidade ambiental é a letra "E", coleta seletiva e reciclagem de resíduos nos lixões e aterros sanitários.

Coleta seletiva é um termo utilizado para o recolhimento dos resíduos de forma separada em várias categorias, como secos, orgânicos, plásticos, metais e vidros. Um dos objetivos principais desse processo é realizar o reaproveitamento de parte dos resíduos pela reciclagem, sendo uma forma de sustentabilidade, pois evita o desperdício e pratica o reaproveitamento.

O aterro sanitário é um local destinado à decomposição final de resíduos sólidos. São espaços preparados com base em princípios técnicos, a fim de receber resíduos sólidos urbanos e confiná-los no menor espaço e volume possíveis, de forma a reduzir os impactos ambientais e não causar danos à saúde pública.

O lixão é uma forma inadequada de disposição final de resíduos sólidos, que se caracteriza pela simples descarga do lixo sobre o solo, sem medidas de proteção ao meio ambiente ou à saúde pública. Não é um exemplo de sustentabilidade ambiental.

Gabarito: E

(QUADRIX/CFFA/2022) Com relação a tópicos atuais de diversas áreas, julgue os itens.

6. O conceito de desenvolvimento sustentável, crescentemente considerado como caminho inevitável a ser seguido globalmente, defende o retorno às práticas econômicas pré-industriais.

COMENTÁRIOS:

O conceito de desenvolvimento sustentável tem sido crescentemente considerado como um caminho inevitável a ser seguido globalmente. Com o atual processo produtivo e econômico da atualidade, se mantido



sem alterações, as consequências ambientais para o planeta poderão ser cada vez mais extremas, e a própria sobrevivência da humanidade estará ameaçada.

Com o objetivo de fornecer um novo paradigma ao desenvolvimento econômico, foi criado o conceito de desenvolvimento sustentável, que busca, de forma simplificada, busca compatibilizar o crescimento econômico com a conservação da natureza e dos recursos naturais. Um dos conceitos mais utilizados para definir desenvolvimento sustentável é o seguinte:

“Desenvolvimento sustentável é aquele que satisfaz as necessidades da geração presente sem comprometer a capacidade das gerações futuras de satisfazerem as suas próprias necessidades.”

O desenvolvimento sustentável não defende o retorno às práticas econômicas pré-industriais, mas sim a compatibilização do desenvolvimento econômico com o desenvolvimento social e com a preservação da qualidade do meio ambiente e do equilíbrio ecológico. Nesse sentido, o contínuo aprimoramento e a inovação no processo industrial são necessários para o desenvolvimento sustentável, para que se criem métodos cada vez mais sustentáveis para o desenvolvimento econômico.

Gabarito: Errado

7. A questão ambiental tende a ocupar cada vez mais espaço na agenda do mundo atual, envolvendo governos, cientistas, instituições de pesquisa e organizações não governamentais.

COMENTÁRIOS:

A busca para soluções dos problemas ambientais tem sido considerada cada vez mais urgente, uma vez que suas consequências serão graves e já estão sendo sentidas.

Assim, a questão ambiental tende a ocupar cada vez mais espaço na agenda do mundo atual, envolvendo governos, cientistas, instituições de pesquisa e organizações não governamentais.

Gabarito: Certo

8. Paradoxalmente, quanto mais o meio ambiente se torna objeto de preocupações, de estudos e de fóruns internacionais, menor é o espaço da ecologia como área de estudo e de disciplina acadêmica.

COMENTÁRIOS:

A ecologia é o campo da biologia que estuda as interações entre os seres vivos com o ambiente e os impactos resultantes dessas interações. Dentro do contexto de preocupação com o meio ambiente, a ecologia tem se ampliado como área de estudo e de disciplina acadêmica, de debates, de estudos e de preocupações.

Gabarito: Errado

9. Envolvida essencialmente com a questão da segurança internacional e da paz mundial, a Organização das Nações Unidas (ONU) praticamente ignora a temática ambiental, quase nunca dela se ocupando.

COMENTÁRIOS:



A Organização das Nações Unidas (ONU) tem como um de seus principais objetivos garantir a segurança internacional e a paz mundial. É uma grande entidade que tem em sua estrutura órgãos, agências e programas voltados para áreas específicas, inclusive para a temática ambiental.

O Programa das Nações Unidas para o Meio Ambiente (PNUMA) tem sido uma das principais autoridades globais a buscar a preservação ambiental e a pensar na temática global na atualidade.

Portanto, é incorreto dizer que a ONU praticamente ignora a temática ambiental, quase nunca dela se ocupando.

Gabarito: Errado

10. (FGV/PREFEITURA MUNICIPAL DE PAULÍNIA/2021 – FARMACÊUTICO) O Brasil não avançou satisfatoriamente em nenhuma das metas dos Objetivos de Desenvolvimento Sustentável (ODS) da chamada Agenda 2030 da Organização das Nações Unidas (ONU). É o que aponta o Relatório Luz 2021, apresentado na Câmara dos Deputados. O documento foi produzido pelo Grupo de Trabalho da Sociedade Civil para a Agenda 2030, formado por organizações não governamentais, movimentos sociais, fóruns e universidades. O GT faz o monitoramento das metas previstas no compromisso assinado por inúmeros países, entre eles o Brasil, durante a Cúpula das Nações Unidas sobre o Desenvolvimento Sustentável em 2015.

Adaptado de: <https://www.ecodebate.com.br/2021/07/20/>

As afirmativas a seguir indicam as principais metas que devem ser alcançadas em 2030, à exceção de uma. Assinale-a.

- (A) Tomar medidas urgentes para combater a mudança do clima e seus impactos.
- (B) Alcançar a igualdade de gênero e adotar medidas de empoderamento para todas as mulheres.
- (C) Assegurar uma vida saudável e promover o bem-estar para todos, em todas as idades.
- (D) Expandir a economia e garantir para todos a extração e o processamento de combustíveis e alimentos.
- (E) Proteger, recuperar e promover o uso sustentável dos ecossistemas terrestres e combater a desertificação.

COMENTÁRIOS:

O Relatório Luz 2021 é um documento que monitorou e divulgou as ações tomadas pelo Brasil no período recente para atingir as metas do **Desenvolvimento Sustentável**. É um documento que foi muito pouco divulgado pelas mídias, por isso, muitos não prestaram atenção nisso. Contudo, ainda era possível resolver a questão. Bastava saber quais são os objetivos do desenvolvimento sustentável, que foram estudados no nosso curso.

Dentre as alternativas, “expandir a economia e garantir para todos a extração e o processamento de combustíveis e alimentos” é a única que não se insere dentro dos objetivos do desenvolvimento sustentável. Expandir a extração e processamento de combustíveis é algo que vai contra o que propõe o desenvolvimento



sustentável, uma vez que a utilização de combustíveis é uma das principais fontes de emissão de gases estufa na atmosfera. Se é algo que vai contra os objetivos do desenvolvimento sustentável, também não é uma das metas listadas no Relatório Luz 2021.

Gabarito: D

11. (FGV/PREFEITURA MUNICIPAL DE PAULÍNIA/2021 – FARMACÊUTICO) Nunca antes, durante toda a longa presença da vida na Terra, estimada em 3,6 bilhões de anos, uma espécie conseguiu alterar o ambiente globalmente numa escala de séculos. São esses aspectos que estão levando muitos geólogos a propor que já entramos em uma nova era geológica – nomeado como antropoceno pelo professor Paul Crutzen –, em que sinais das transformações já se materializaram nos sedimentos geológicos.

Adaptado de: Carlos Nobre, Revista Época, 2015.

A respeito da proposta de formular uma “nova era geológica”, analise as afirmativas a seguir.

- I. O uso da periodização proposta favorece o reconhecimento dos impactos planetários da ação humana na Terra.
- II. O termo antropoceno direciona o debate sobre ecologia e desenvolvimento sustentável para uma escala supranacional.
- III. O novo conceito explora a conscientização dos efeitos da planetarização da ação humana.

Está correto o que se afirma em

- (A) I, apenas.
- (B) I e II, apenas.
- (C) I e III, apenas.
- (D) II e III, apenas.
- (E) I, II e III.

COMENTÁRIOS:

I - Correto. O conceito de “nova era geológica” tem sido muito utilizado entre os cientistas para propor a periodização de uma nova era no tempo geológico, caracterizada pela ação humana na Terra.

II - Correto. As eras geológicas são períodos que descrevem a Terra em determinado período de sua história, em escala planetária. Portanto, o antropoceno é um conceito supranacional. Da mesma forma, os debates sobre mudanças climáticas e os impactos da ação humana na Terra ocorrem na escala supranacional, uma vez que as consequências serão sentidas por todos os países e povos, embora em diferentes proporções.



III - Correto. O conceito de antropoceno explora a conscientização dos efeitos da planetarização da ação humana, ou seja, mostra como a ação humana tem causado impactos no planeta como um todo. Por isso, fala-se em uma planetarização da ação humana.

Gabarito: E

12. (QUADRIX/CREFONO 4ª REGIÃO/2021 – FONOAUDIÓLOGO FISCAL) Nos dias de hoje, o conceito de desenvolvimento sustentável pressupõe a manutenção intacta da natureza, o que equivale a cessar radicalmente o processo de exploração dos recursos naturais.

COMENTÁRIOS:

O conceito de desenvolvimento sustentável não pressupõe a manutenção intacta da natureza, mas sim a compatibilização do desenvolvimento econômico, com o desenvolvimento social e com a preservação da qualidade do meio ambiente e do equilíbrio ecológico.

As atividades econômicas, no seu desenvolvimento, devem observar a preservação dos recursos naturais necessários à própria continuidade do desenvolvimento econômico, da espécie humana e da vida na Terra.

Dentro desse paradigma, não é necessário cessar radicalmente o processo de exploração dos recursos naturais, mas realizar uma transição para uma economia que não seja tão dependente de recursos que são finitos e os quais o seu uso prejudica a manutenção do equilíbrio ecológico do planeta, como os combustíveis fósseis.

Gabarito: Errado

(QUADRIX/CRP-SP/2019 – PROFISSIONAL ANALISTA SUPERIOR) O uso de canudos de plástico emporcalha os oceanos ou é um direito do consumidor prático? A questão virou um debate que opõe a indústria a legisladores País afora.

Internet: <<https://epoca.globo.com>>.

A respeito desse tema e de assuntos correlatos, julgue os itens a seguir.

13. A busca pelo uso de materiais que impactem minimamente na natureza insere-se nos Objetivos de Desenvolvimento Sustentável da Organização das Nações Unidas (ONU).

COMENTÁRIOS:

A RIO+20 deliberou pela elaboração dos Objetivos do Desenvolvimento Sustentável (ODS), que deverão orientar as políticas nacionais e as atividades de cooperação internacional até 2030, sucedendo e atualizando os Objetivos de Desenvolvimento do Milênio (ODM). Os ODS foram lançados em setembro de 2015. São 17 objetivos e 169 metas, envolvendo temáticas diversificadas, como erradicação da pobreza, segurança alimentar e agricultura, saúde, educação, igualdade de gênero, redução das desigualdades, energia, água e saneamento, padrões sustentáveis de produção e de consumo, mudança do clima, cidades sustentáveis, proteção e uso sustentável dos oceanos e dos ecossistemas terrestres, crescimento econômico inclusivo, infraestrutura e industrialização, governança, e meios de implementação.



O objetivo 12 visa assegurar padrões de produção e consumo sustentáveis, o que está relacionado à busca pelo uso de materiais que impactem minimamente na natureza.

Gabarito: Certo

14. Fabricantes de canudos de plástico minimizam os danos ambientais desse material, sob o argumento de que ele pode ser totalmente reciclado e de que, sem o plástico, o volume de lixo gerado seria ainda maior.

COMENTÁRIOS:

Com a crescente proibição dos canudos plásticos e as campanhas ecológicas, os fabricantes desse produto, que, no Brasil, são em sua maioria pequenas e médias empresas, têm diminuindo suas vendas, e argumentam que o problema não está no canudo propriamente, mas no fato de não serem descartados da maneira correta e não serem reciclados.

Gabarito: Certo

15. Os oceanos têm significativa participação no equilíbrio ambiental do planeta e vêm sendo afetados diretamente pela ação humana. O plástico, entretanto, não está entre os maiores vilões dos oceanos.

COMENTÁRIOS:

O planeta Terra é um grande ecossistema em equilíbrio. Quaisquer alterações em um ambiente desse ecossistema podem ter sérias consequências para a manutenção do equilíbrio e das formas de vida. O ser humano tem afetado diretamente esse equilíbrio, causando alterações nos oceanos, na atmosfera e nas terras emersas.

Nos oceanos, um dos principais problemas é a poluição das águas, sendo o plástico considerado um dos principais vilões. O plástico chega aos oceanos devido ao descarte inadequado, sendo carregados pelos ventos ou pelas chuvas para os rios ou diretamente para o mar. Estima-se que 10 milhões de toneladas de materiais plásticos cheguem aos oceanos anualmente, sendo que destas, mais de 100 mil toneladas sejam de canudos plásticos descartáveis.

No mar, acabam sendo ingeridos por animais, tanto inteiros como fragmentados em pedaços de diversos tamanhos, até mesmo como partículas muito pequenas, os microplásticos. Estes podem até, dependendo da sua quantidade e densidade, obstruir a passagem da luz e interferir no processo da fotossíntese das algas. Quando ingeridos inteiros, podem obstruir as vias aéreas ou o tubo digestório e prejudicar as funções vitais dos animais, podendo, inclusive, levá-los à morte. As partículas de microplástico podem ser ingeridas por espécies de interesse econômico e contaminar animais utilizados como alimento pela espécie humana.

Gabarito: Errado

(LEANDRO SIGNORI/PC DF – SIMULADO/2019) Um milhão de espécies de animais e plantas estão ameaçadas de extinção, segundo o relatório da Plataforma Intergovernamental de Políticas Científicas sobre Biodiversidade e Serviços de Ecossistema (IPBES). A plataforma da Organização das Nações Unidas (ONU) contou com 145 cientistas de 50 países, no que é considerado o relatório mais extenso sobre perdas do meio ambiente. Desde 1900, a média de espécies nativas na maioria dos principais habitats



terrestres caiu em pelo menos 20%. Mais de 40% das espécies de anfíbios, quase 33% dos corais e mais de um terço de todos os mamíferos marinhos estão ameaçados. Pelo menos 680 espécies de vertebrados foram levadas à extinção desde o século 16.

Disponível em: <https://glo.bo/2Vn5r1u>. Adaptado. Acesso em 07/05/2019.

Utilizando o texto presente no enunciado como base e os seus conhecimentos à respeito dos múltiplos aspectos relacionados aos problemas ambientais e a sustentabilidade, julgue os itens que se seguem:

16. O problema ambiental retratado no enunciado é uma consequência do modelo econômico de produção e consumo da sociedade atual, o qual não é conciliável com o futuro do bem-estar humano em escala global.

COMENTÁRIOS:

O problema ambiental da extinção de espécies é consequência do modelo econômico de produção e consumo da sociedade atual.

A extinção de espécies é causada pela destruição dos ecossistemas naturais, que ocorre por meio do desmatamento, da poluição, da extração de recursos naturais e por uma série de outras ações humanas que não são sustentáveis. Se esse modelo econômico não for alterado, o futuro do bem-estar humano em escala global está em risco.

Gabarito: Certo

17. A busca por energias renováveis e não poluentes é uma medida eficiente para combater o problema da extinção de espécies e perda de biodiversidade. Nesse sentido, o Brasil é um dos países que possui menos espécies ameaçadas de extinção, já que na nossa matriz energética se verifica um crescimento expressivo das fontes de energia renováveis e não poluentes.

COMENTÁRIOS:

Para combater o problema da extinção de espécies e da perda de biodiversidade, deve-se buscar preservar os ambientes naturais. O Brasil é um país com grande biodiversidade, mas também é um país com um número grande de espécies ameaçadas de extinção.

A busca por energias renováveis e não poluentes pode ser e pode também não ser uma ação para combater o problema retratado. As hidrelétricas, por exemplo, são uma fonte de energia renovável e não poluente, mas a sua construção afeta áreas de ambiente natural, sendo desmatadas e alagadas para a construção e o funcionamento dessas usinas.

Por outro lado, a matriz energética brasileira é predominantemente suja e não renovável e não se verifica nenhum crescimento expressivo desse segmento. Verifica-se a estabilidade do predomínio das fontes sujas e não renováveis.

Gabarito: Errado



18. (CEBRASPE/FUB/2018 – CARGOS DE NÍVEL MÉDIO) A consolidação do conceito de desenvolvimento sustentável como forma de equilíbrio da proteção do meio ambiente aconteceu na Conferência das Nações Unidas sobre Meio Ambiente e Desenvolvimento (Rio 92), ocasião em que foi aprovado o documento chamado de Agenda 21.

COMENTÁRIOS:

O conceito de Desenvolvimento Sustentável surgiu em 1987, consta de um documento pelo Pnuma, o relatório Nosso Futuro Comum (também chamado de Relatório Brundtland). Contudo, o conceito só vai se consolidar em 1992, na Conferência das Nações Unidas sobre Meio Ambiente e Desenvolvimento (também chamada de Eco-92, ou Rio 92), nos debates e em documentos aprovados. Um desses documentos foi a Agenda 21, que é um programa com compromissos, metas, indicadores e responsabilidades que devem ser tomadas traçando um caminho para que a humanidade alcance o desenvolvimento sustentável.

Gabarito: Certo



QUESTÕES COMENTADAS – MUDANÇAS CLIMÁTICAS – MULTIBANCAS

1. (CEBRASPE/TJ-SC/2023) O Brasil se prepara para sediar a 30ª Conferência da Organização das Nações Unidas sobre Mudanças Climáticas (COP30), em novembro de 2025. A cidade escolhida para a reunião da conferência é

- a) Goiânia.
- b) Brasília.
- c) São Paulo.
- d) Manaus.
- e) Belém.

COMENTÁRIOS:

A 30ª Conferência da Organização das Nações Unidas sobre Mudanças Climáticas (COP30) será realizada no Brasil, na cidade de Belém, no estado do Pará, entre 10 e 21 de novembro de 2025.

A decisão reforça o compromisso global de enfrentamento das mudanças climáticas, com olhares do mundo voltados à região, que é uma peça vital no equilíbrio ambiental, além de colocar o Brasil como um dos principais atores no contexto das discussões climáticas globais.

Gabarito: E

2. (CEBRASPE/TJ-SC/2023) O aquecimento global é uma das faces da atual crise climática. Mitigar a emissão de gases poluentes na atmosfera é um desafio ambiental que tende a ganhar força no mundo. Para isso, é preciso, por exemplo, pensar em estratégias de distribuição de energia acessível e limpa, consumo e produção responsáveis. No que diz respeito às estratégias ambientais anteriormente citadas, é necessário fortalecer a prática de

- a) agricultura de séculos passados.
- b) desenvolvimento sustentável.
- c) ocupação econômica das regiões polares.
- d) aumento da produção com reduzida produtividade.
- e) exploração ilimitada dos recursos naturais.

COMENTÁRIOS:



Fácil essa questão, pessoal. Para mitigar as emissões de gases poluentes e enfrentar a crise climática, é necessário fortalecer a prática de desenvolvimento sustentável, conceito amplamente mencionado na atualidade.

Gabarito: B

(CEBRASPE/MEC/2023) O relatório da Organização Meteorológica Mundial sobre o clima global de 2021 mostra que eventos climáticos extremos levaram a centenas de bilhões de dólares em perdas econômicas e causaram um grande impacto em vidas humanas no mundo inteiro. No Brasil, segundo dados do Tribunal de Contas da União (TCU), entre 2013 e 2022, o governo federal gastou R\$ 13,4 bilhões em recuperação e resposta a desastres e R\$ 5,9 bilhões em prevenção.

Internet: <unicamp.br> (com adaptações).

Considerando o fragmento de texto precedente como motivador, julgue os itens a seguir, a respeito dos múltiplos aspectos relativos a desenvolvimento sustentável e ecologia.

3. A ação antrópica tem aumentado a temperatura média do planeta, o que desregula os ciclos naturais do clima e o meio ambiente, afetando populações em diversos países.

COMENTÁRIOS:

A ação antrópica se refere às atividades humanas que impactam o meio ambiente, como a queima de combustíveis fósseis e o desmatamento. Essas ações liberam gases de efeito estufa na atmosfera, contribuindo para o aumento do efeito estufa e, conseqüentemente, para o aquecimento global.

O aumento da temperatura média do planeta desencadeia uma série de efeitos, incluindo o derretimento das calotas polares e mudanças nos padrões climáticos, afetando o meio ambiente e populações em diversos países.

Portanto, a afirmação de que a ação antrópica tem aumentado a temperatura média do planeta, desregulando os ciclos naturais do clima e afetando populações em diversos países, está correta.

Gabarito: Certo

4. Secas extremas, inundações catastróficas, furacões, tornados e incêndios em vegetação são eventos extremos intensificados pelo fenômeno do aquecimento global e pela ação humana.

COMENTÁRIOS:

O aquecimento global, causado pelo aumento das emissões de gases de efeito estufa devido às atividades humanas, tem como consequência as mudanças climáticas. A face mais visível dessas mudanças é o aumento da frequência, da intensidade e da severidade de fenômenos climáticos extremos, como os mencionados na questão.

Por exemplo, o aumento da temperatura global pode intensificar as secas, aumentando o risco de incêndios florestais; o aquecimento dos oceanos pode potencializar a formação de furacões e tempestades mais



intensas; e a urbanização desordenada e outras atividades humanas também podem agravar os impactos desses eventos, aumentando a vulnerabilidade das populações afetadas.

Gabarito: Certo

5. As mudanças climáticas são irreversíveis e os danos ambientais e econômicos dos eventos extremos não podem mais ser mitigados ou solucionados.

COMENTÁRIOS:

As mudanças climáticas representam um desafio significativo para a humanidade, porém, não são necessariamente irreversíveis. Podem ser revertidas, desde que haja mudanças drásticas e rápidas de transição para uma economia de baixo carbono. Os danos ambientais e econômicos dos eventos extremos podem mais ser mitigados ou solucionados. Mitigar significa reduzir danos e diminuir a adversidade das mudanças climáticas.

A adoção de políticas e práticas sustentáveis pode ajudar a reduzir as emissões de gases de efeito estufa, que são uma das principais causas das mudanças climáticas. Além disso, esforços de adaptação, como o desenvolvimento de infraestrutura resiliente e a implementação de práticas agrícolas sustentáveis, podem ajudar as comunidades a se prepararem para os impactos das mudanças climáticas.

Gabarito: Errado

(CEBRASPE/DataPrev/2023) A transição energética é uma mudança de paradigma que envolve não só a geração de energia, mas também o consumo e o reaproveitamento dela. O significado de transição energética passa também por mudanças na estrutura social, econômica, política e cultural, e pressupõe o reconhecimento de que é insustentável, sob todos os aspectos, inclusive econômico, continuar consumindo recursos naturais na velocidade atual.

Internet: (com adaptações).

No que se refere à transição energética, temática apresentada no texto precedente, julgue os itens subsequentes.

6. A transição energética é definida pelo processo de privatização, isto é, transferência das matrizes energéticas controladas por empresas estatais para o domínio de grupos e corporações privados que visem conferir maior produtividade e eficiência à geração e à distribuição de energia em países de economia emergente.

COMENTÁRIOS:

A transição energética não está relacionada às privatizações. O conceito parte da migração de matrizes energéticas poluentes – como combustíveis fósseis à base de carvão ou petróleo – para fontes de energia renováveis, como hidrelétricas, eólicas, solares e de biomassas.

Gabarito: Errado



7. Na economia de baixo carbono, proposta como parte da transição energética, a geração, a distribuição e o consumo de energia devem ser realizados a partir de uma visão sistêmica de sustentabilidade ambiental e social.

COMENTÁRIOS:

Economia de baixo carbono é aquela em que se emite baixas quantidades de gases intensificadores do efeito estufa, que levam ao aquecimento global e às mudanças climáticas. É um paradigma que tem sido buscado no mundo atual.

Transição pressupõe passagem, ou evolução, de uma condição a outra. Quando se fala de transição energética, portanto, trata-se de um novo estado das coisas, com um olhar mais amplo e sistêmico para a sustentabilidade ambiental e social. Em outras palavras, é necessário que haja equilíbrio ecológico e redução das desigualdades sociais para que as pessoas tenham uma vida digna, com uma adequada qualidade de vida.

Gabarito: Certo

8. A substituição de fontes de energia não renováveis e poluentes por matrizes energéticas renováveis e de baixo carbono objetiva a redução da emissão dos gases de efeito estufa e das suas consequências nas mudanças climáticas.

COMENTÁRIOS:

Este é o caminho: reduzir, eliminar e substituir as fontes de energias não renováveis e poluentes, como o petróleo, o carvão e o gás natural, por matrizes energéticas limpas e renováveis, como a solar, a eólica, a hídrica e o hidrogênio verde.

Gabarito: Certo

(QUADRIX/CRT-SP/2023) A respeito das questões ambientais no Brasil e no mundo contemporâneo, julgue os itens.

9. O mundo tem assistido a variações extremas no que diz respeito ao clima e à temperatura, em que se alternam calor abrasante e frio rigoroso.

COMENTÁRIOS:

As mudanças climáticas globais, causadas pelo aumento das concentrações de gases de efeito estufa na atmosfera, resultante de atividades humanas, são um fenômeno amplamente reconhecido e estudado.

Um dos impactos das mudanças climáticas é a intensificação de eventos climáticos extremos. Isso inclui períodos de calor intenso, assim como episódios de frio extremo, dependendo da região e do contexto sazonal.

De modo geral, observa-se uma maior irregularidade nos padrões climáticos, levando a variações significativas nas temperaturas.



Gabarito: Certo

10. Por ser um País tropical, o Brasil está livre de sofrer chuvas torrenciais ou períodos agudos de seca.

COMENTÁRIOS:

Os eventos extremos do clima causados pelas mudanças climáticas têm ocorrido com frequência no Brasil nos anos recentes, com chuvas torrenciais e períodos agudos de seca. Mesmo sendo um país tropical, o Brasil não está livre da ocorrência de eventos climáticos extremos.

Gabarito: Errado

11. O modelo de industrialização praticado pelo mundo tem sido contestado, justamente por utilizar, em larga escala, fontes de energia fóssil, como o petróleo e o carvão.

COMENTÁRIOS:

O modelo de industrialização global, especialmente ao longo do século XX, tem sido caracterizado pelo uso intensivo de fontes de energia fóssil, como petróleo, carvão e gás natural.

O uso em larga escala de energia fóssil está associado a impactos ambientais significativos, incluindo as emissões de gases de efeito estufa, a poluição atmosférica, a degradação do solo e a escassez de recursos naturais.

As emissões provenientes da queima de combustíveis fósseis contribuem para as mudanças climáticas, sendo o principal fator responsável pelo aumento da concentração de dióxido de carbono na atmosfera.

Diante dos desafios ambientais e das preocupações com a finitude dos recursos fósseis, há uma crescente contestação a esse modelo. Muitos setores e países buscam transições para fontes de energia mais sustentáveis, como as renováveis (solar, eólica, hidrelétrica) e a energia nuclear.

Acordos internacionais, como o Acordo de Paris, destacam a necessidade de redução das emissões de carbono e o estímulo ao uso de energias limpas, evidenciando a preocupação global com os impactos ambientais do modelo tradicional.

Gabarito: Certo

(QUADRIX/CRO-TO/2023) No que diz respeito a assuntos da atualidade e do mundo, julgue os itens a seguir.

12. A grande emissão de gases poluentes na atmosfera é um importante fator para as mudanças climáticas, a exemplo do denominado aquecimento global.

COMENTÁRIOS:

A grande emissão de gases poluentes na atmosfera é, de fato, um fator significativo para as mudanças climáticas, incluindo o fenômeno conhecido como aquecimento global.



As atividades humanas, como a queima de combustíveis fósseis (carvão, petróleo e gás natural), desmatamento e outras práticas industriais, liberam gases de efeito estufa na atmosfera. Esses gases, como dióxido de carbono (CO₂), metano (CH₄), são retidos na atmosfera e criam uma camada de calor, que tem levado ao aumento da temperatura média da Terra.

O aquecimento global leva às mudanças climáticas, com impactos significativos como a elevação do nível do mar, alterações nos padrões de precipitação, entre outros fenômenos.

Portanto, a questão está correta.

Gabarito: Certo

13. Devido às drásticas alterações climáticas que o Planeta tem sofrido na atualidade, o petróleo, por ser fonte de energia fóssil, deixou de ter importância na economia mundial.

COMENTÁRIOS:

O petróleo continua sendo uma fonte crucial de energia na economia mundial, apesar das preocupações crescentes sobre as alterações climáticas e o esforço para transições para fontes de energia mais limpas e renováveis.

O petróleo desempenha um papel fundamental em vários setores da economia internacional, incluindo transporte, indústria química, geração de eletricidade e fabricação de produtos diversos. A dependência global do petróleo persiste, e muitos países ainda têm uma infraestrutura significativa baseada nessa fonte de energia.

Gabarito: Errado

14. (FGV/PREFEITURA DE SÃO JOSÉ DOS CAMPOS – SP/2023) A respeito do impacto das mudanças ambientais e climáticas globais no setor de saúde, avalie se as afirmativas a seguir são verdadeiras (V) ou falsas (F).

() Alterações de temperatura, de umidade e no regime de chuvas potencializam os efeitos das doenças respiratórias.

() Mudanças climáticas influenciam na propagação de vetores que transmitem doenças.

() A ocorrência mais frequente de eventos extremos impacta diretamente a saúde e o bem-estar da população.

As afirmativas são, respectivamente,

A) V – F – V.

B) F – V – V.

C) F – V – F.



D) V – F – F.

E) V – V – V.

COMENTÁRIOS:

I - Verdadeiro. Mudanças nas condições climáticas, como o aumento da temperatura e a alteração nos padrões de chuva, podem afetar a qualidade do ar e aumentar a concentração de poluentes, o que, por sua vez, pode potencializar problemas de saúde respiratória.

II - Verdadeiro. As mudanças climáticas podem influenciar a distribuição geográfica de vetores, como mosquitos que transmitem doenças como a malária e a dengue. Alterações nas temperaturas e na umidade podem aumentar a disponibilidade desses vetores, levando-os para regiões que até então não eram comuns de ocorrer.

III - Verdadeiro. Eventos climáticos extremos, como ondas de calor, tempestades e inundações, podem ter sérios impactos na saúde pública. Eles podem causar desde o mal-estar relacionado a elevadas temperaturas, até lesões e mortes decorrentes de eventos climáticos extremos, como ondas de calor, seca severa, chuvas torrenciais, inundações, ciclones e tornados.

Gabarito: E

15. (AVANÇA-SP/PREFEITURA DE SÃO MIGUEL ARCANJO-SP/2023) Na Conferência das Nações Unidas sobre as Mudanças Climáticas (COP 27) realizada em novembro de 2022, representantes de mais de 190 países firmaram um importante acordo, considerado até mesmo histórico. Assinale a alternativa que aponta corretamente o teor de tal acordo:

A) criação de um fundo para danos em países vulneráveis.

B) envio de médicos para os países pobres.

C) paralisação da exploração de petróleo nos países em desenvolvimento.

D) investimento na dessalinização do litoral de países do continente africano.

E) investimento no setor da pesca sustentável.

COMENTÁRIOS:

Um dos principais pontos acordados ao final da COP-27 foi a criação de um fundo para ajudar países pobres que sofrem com os desastres causados pelas mudanças climáticas.

O objetivo desse fundo é financiar a implementação de projetos para que os países se adaptem às mudanças climáticas e para se reduzam os impactos dessas mudanças.

Esse fundo será financiado pelos países ricos, que mais têm contribuído historicamente com o aquecimento global.



Gabarito: A

16. (VUNESP/EPC/2023) Após duas semanas de negociações, as autoridades comemoraram neste domingo [20 nov.] o fim da 27a Conferência do Clima da ONU, a COP27, que aconteceu no Egito.

(G1. <https://glo.bo/3XtnzBT>. 20.11.2022)

Dentre as determinações tomadas na Conferência, destaca-se a

- A) decisão de atenuar as sanções aos países mais poluidores que geram os maiores impactos para as mudanças climáticas.
- B) liberação gradual do uso do carvão mineral, combustível fóssil muito criticado como principal vilão do aquecimento global.
- C) extinção do mercado internacional de carbono, considerado prejudicial à economia dos países industrializados.
- D) criação de um fundo para ajudar os países pobres que sofrem com os desastres causados pelas mudanças climáticas.
- E) revisão da obrigatoriedade de substituir fontes de energia fósseis por fontes renováveis conforme o Acordo de Paris.

COMENTÁRIOS:

Dentre as determinações tomadas na COP-27, destaca-se a criação de um fundo para ajudar os países pobres que sofrem com os desastres causados pelas mudanças climáticas.

Todas as demais alternativas apresentam propostas que vão no sentido contrário do que tem se buscado nas Conferências do Clima e dos princípios do Desenvolvimento Sustentável. Não são propostas que têm sido sugeridas ou debatidas no âmbito internacional.

Gabarito: D

17. (FGV/PREFEITURA DE SANTO ANDRÉ - SP/2022) Como a elevação do nível do mar vai afetar na prática diferentes regiões do planeta?

“Essa foi a pergunta que guiou uma pesquisa conduzida pelo Climate Central (EUA), que identificou as regiões do mundo que podem sofrer inundações ‘sem precedentes’, caso não sejam elaboradas políticas ambientais globais. De acordo com o estudo, centenas de áreas costeiras, que abrigam atualmente mais de 1 bilhão de pessoas, estão sob risco.”

(Adaptado de <https://www.bbc.com/portuguese/internacional>)

Assinale a afirmativa que indica corretamente o principal fator que impacta o aumento do nível do mar na atualidade.



- (A) A elevação da salinização das águas do mar.
- (B) A expansão hídrica, à medida que os aquíferos são aquecidos por maior insolação.
- (C) O aumento dos detritos minerais e rochosos, fruto de processos de erosão.
- (D) O degelo das calotas polares e de geleiras no Alasca, na Sibéria e na Groenlândia, por exemplo.
- (E) A aceleração do fluxo dos rios, levando um maior volume de líquido para os mares.

COMENTÁRIOS:

A elevação do nível do mar é um dos principais efeitos das mudanças climáticas causadas pelo aquecimento global, e pode ter impactos significativos em diversas regiões do planeta. Dentre as alternativas, a única que apresenta um fator que tem causado essa elevação é o degelo das calotas polares e de geleiras.

O degelo das calotas polares e das geleiras em várias regiões do mundo, incluindo o Alasca, a Sibéria e a Groenlândia, é um dos principais fatores que contribuem para o aumento do nível do mar. À medida que essas grandes massas de gelo derretem, mais água em estado líquido é liberada para os oceanos, causando a elevação do nível do mar.

Gabarito: D

18. (FGV/TRT-MA/2022) Diante dos problemas ecológicos que o planeta Terra tem enfrentado, é imperioso que a sustentabilidade seja enquadrada no modo de vida de todos os indivíduos para, assim, tentar reverter os danos causados à natureza e impedir que ela seja ainda mais agredida.

Sobre as condições necessárias para que a dimensão ambiental se torne realidade para toda a população, analise as afirmativas a seguir e assinale (V) para a verdadeira e (F) para a falsa.

- () A limitação do consumo de combustíveis fósseis e de outros recursos ambientalmente prejudiciais, substituindo-os por recursos renováveis.
- () A redução do volume de resíduos sólidos e da poluição atmosférica, por meio de ações ambientais de conservação e reciclagem.
- () A escolha adequada de instrumentos econômicos, administrativos e legais que estimulem o uso de tecnologias limpas.

As afirmativas são, na ordem apresentada, respectivamente,

- (A) V – V – V.
- (B) F – V – V.
- (C) V – F – V.
- (D) V – V – F.



(E) F – F – V

COMENTÁRIOS:

I - Verdadeira. Para alcançar a sustentabilidade, é essencial reduzir a dependência de combustíveis fósseis e outros recursos não renováveis, como o petróleo e o carvão, e investir em fontes de energia limpa e renovável, como a solar, a eólica e a hidrelétrica.

II - Verdadeira. A redução do volume de resíduos sólidos e a diminuição da poluição atmosférica são medidas importantes para promover a sustentabilidade. Ações como reciclagem, reutilização de materiais e controle de emissões de poluentes são fundamentais para proteger o meio ambiente.

III - Verdadeira. A implementação de políticas econômicas, administrativas e legais que incentivem o uso de tecnologias limpas e sustentáveis é fundamental para a promoção da sustentabilidade. Isso pode incluir incentivos fiscais para empresas que adotem práticas ambientalmente responsáveis, regulações que limitem a emissão de poluentes, entre outras medidas.

Gabarito: A

19. (FGV/TRT-MA/2022) As mudanças climáticas representam um desafio sem precedente para a política ambiental global, colocando em xeque a capacidade de articulação dos Estados, ao mesmo tempo em que evidencia desigualdades globais. O enfrentamento eficaz do problema deve ter em mente um acordo que combine responsabilidades e vulnerabilidades diferenciadas.

Sobre a lógica inaugurada no Acordo de Paris, analise as afirmativas a seguir.

I. Centra-se nas contribuições nacionais, em que cada Estado determina, internamente, sua contribuição para a redução da emissão de gases de efeito estufa.

II. Serve de base para uma ação global mais forte em relação às mudanças climáticas, impondo as mesmas obrigações a todos os países participantes.

III. Permite que circunstâncias nacionais sejam levadas em consideração e estabelece uma estrutura duradoura para uma cooperação de longo prazo.

Está correto o que se afirma em

(A) I, apenas.

(B) I e II, apenas.

(C) I e III, apenas.

(D) II e III, apenas.

(E) I, II e III.

COMENTÁRIOS:



I - Correto. O Acordo de Paris adotou o princípio de "Contribuição Nacionalmente Determinada", em que cada país define voluntariamente seus próprios objetivos e metas para a redução das emissões de gases de efeito estufa, levando em conta as suas capacidades e circunstâncias nacionais.

II - Incorreto. O Acordo de Paris se baseia na diferenciação entre países desenvolvidos e em desenvolvimento, reconhecendo que os países têm responsabilidades e capacidades diferentes na mitigação das mudanças climáticas. Portanto, as responsabilidades não são as mesmas para todos os países.

Contudo, o acordo não impôs obrigações a nenhum dos países signatários, como mencionei anteriormente. Segundo o acordo, os esforços devem ser voluntários, cada país determina as suas próprias metas de redução.

III - Correto. O Acordo de Paris reconhece a importância de considerar as diferentes circunstâncias nacionais dos países signatários e estabelece uma estrutura flexível que permite revisões e aumentos das metas de redução de emissões ao longo do tempo. Isso cria um mecanismo para promover uma cooperação contínua e melhorar a ambição climática de forma progressiva.

Gabarito: C

20. (FGV/TRT-PB/2022)



A COP-27 realizou-se neste mês de novembro no Egito. COP é a sigla, em inglês, para Conferência das Partes, 27 é a edição da Conferência. Trata-se de evento global organizado pela ONU que reúne autoridades do mundo todo e que, por meio de mecanismos aplicados globalmente, tem como principal objetivo

- (A) conter as mudanças climáticas.
- (B) erradicar a pobreza no mundo.
- (C) criar empregos em escala mundial.
- (D) eliminar todos os conflitos em curso no mundo.

(E) proteger a infância mundial da pobreza e garantir seu direito de frequentar a escola.

COMENTÁRIOS:

A COP-27, assim como todas as Conferências das Partes, tem como principal objetivo conter as mudanças climáticas.

O encontro é realizado anualmente por representantes dos países que assinaram e ratificaram a Convenção sobre a Mudança do Clima da ONU. Nas Conferências, as partes (os países) buscam, por meio do debate e do consenso, encontrar soluções e adotar medidas para conter, para mitigar e para se adaptar às mudanças climáticas.

Gabarito: A

21. (FGV/TRT-PB/2022) Conceito, surgido a partir do Protocolo de Kyoto em 1997, que visa à diminuição dos gases de efeito estufa, que provocam diversos problemas ambientais associados às mudanças climáticas. Eles fazem parte de um mecanismo de flexibilização que auxilia os países que possuem metas de redução da emissão de gases poluentes a alcançá-las.

A cada tonelada não emitida, gera-se um crédito. Assim, quando um país consegue reduzir a emissão dessa tonelada, ele recebe uma certificação emitida pelo Mecanismo de Desenvolvimento Limpo (MDL), ou seja, recebe os créditos que estarão disponíveis para serem comercializados com os países que não alcançaram suas metas.

A geração do crédito é realizada à medida que os países esforçam-se em projetos e ações que visam ao desenvolvimento sustentável, evitando, assim, o aumento do efeito estufa. Exemplos desses projetos são o empenho em reduzir os níveis de desmatamento, as campanhas para o consumo consciente, o uso de fontes de energia alternativas, entre outros.

(mundoeducacao.uol.com.br. Adaptado)

O texto refere-se aos créditos de

- (A) Hidrogênio.
- (B) Oxigênio.
- (C) Carbono.
- (D) Enxofre.
- (E) Silício.

COMENTÁRIOS:

O texto se refere os créditos de carbono. Não existem créditos de hidrogênio, de oxigênio, de enxofre ou de silício.



Os créditos de carbono representam um mercado de créditos gerados com base na não emissão de gases do efeito estufa à atmosfera, podendo ser comercializados entre países. O conceito surgiu com o Protocolo de Kyoto, em 1997.

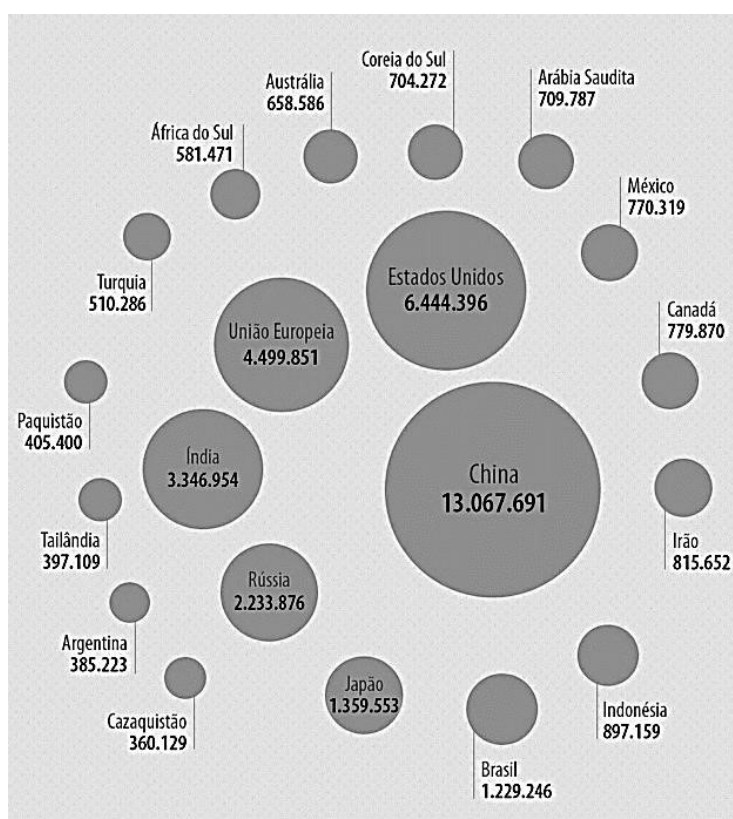
Esses créditos fazem parte de um mecanismo de flexibilização, auxiliando os países a alcançarem as suas metas de redução da emissão de gases poluentes.

A cada uma tonelada não emitida se gera um crédito de carbono. Assim, quando um país consegue reduzir a emissão dessa tonelada, ele recebe uma certificação emitida pelo Mecanismo de Desenvolvimento Limpo (MDL), em forma de créditos, que estarão disponíveis para serem comercializados com os países que não alcançaram as suas metas.

Os créditos podem ser comercializados pelos países detentores desde que atinjam as suas metas de redução de emissões. Comercializado o crédito, ele não pode ser contabilizado na meta de redução de emissões do país que o vendeu.

Gabarito: C

22. (FGV/CÂMARA MUNICIPAL DE TAUBATÉ-SP/2022) Observe o infográfico sobre os maiores emissores mundiais de gases com efeito estufa, em 2019 (quilotoneladas CO2 equivalentes)



Com base no infográfico, assinale a afirmativa correta a respeito da deterioração do meio ambiente na atualidade.

(A) Os países industrializados são os que mais liberam gases de efeito estufa como o dióxido de carbono, principal componente do gás natural.



(B) A UE é o terceiro maior emissor depois da China e dos Estados Unidos, apesar do protagonismo de Holanda e Alemanha na descarbonização de suas economias.

(C) O Brasil é o país da América Latina que menos produz gases de efeito estufa, graças ao uso de biodiesel e etanol no transporte coletivo de passageiros.

(D) O hemisfério Oriental é o maior emissor de CO₂, em virtude da recusa de China e Índia de subscreverem o Acordo de Paris (2015) e a COP26 (2021).

(E) China, Índia e Brasil estão entre os maiores emissores fósseis de CO₂ por possuírem um grande volume de população e uma matriz energética sustentada no carvão mineral.

COMENTÁRIOS:

a) Incorreta. Os países industrializados são os que mais liberam gases do efeito estufa. O gás natural é composto por uma mistura de hidrocarbonetos. Na sua composição média, o metano é o hidrocarboneto mais abundante. O dióxido de carbono (CO₂) é um dos seus componentes, mas de muito pequena participação na sua composição. O CO₂, um dos principais gases do efeito estufa, é liberado a partir da queima do gás, assim como de outros combustíveis fósseis, tais como o petróleo e o carvão. A queima do gás natural libera menos CO₂ do que o petróleo e o carvão mineral, o que tem tornado ele uma alternativa energética para combater as mudanças climáticas.

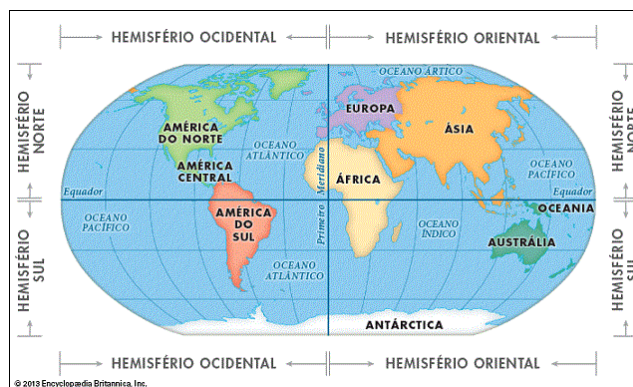
b) Correta. A União Europeia é o terceiro maior emissor depois da China e dos Estados Unidos. Na atualidade, o bloco tem como um de seus principais objetivos a descarbonização de suas economias, protagonizada principalmente pela Holanda e Alemanha, que têm investido muito em fontes de energia alternativas, como a energia solar e eólica.

c) Incorreta. Com base no infográfico, pode-se analisar que o Brasil é o país da América Latina que mais emite gases do efeito estufa. É o sétimo maior emissor global. Devido à grandeza econômica do nosso país, somos um grande emissor de gases do efeito estufa na atmosfera, que também está em grande parte relacionada ao desmatamento das áreas naturais e para a conversão das terras em pastagens e monoculturas.

O biodiesel e etanol são importantes fontes de energia no país (sobretudo o etanol, que nosso país registra grande produção). Esses biocombustíveis emitem consideráveis quantidades de gases do efeito estufa na atmosfera, porém, menos que os combustíveis fósseis.

d) Incorreta. O examinador explorou a memória geográfica dos candidatos. China, quase toda a União Europeia, Índia, Rússia, Japão, Indonésia, Irã, Arábia Saudita, Coreia do Sul, Austrália, Turquia, África do Sul, Paquistão, Tailândia e Cazaquistão estão no hemisfério oriental. A maior parte das emissões de CO₂ está nos hemisférios Oriental e Norte. China e Índia subscreverem o Acordo de Paris (2015) e a COP26 (2021).





e) Incorreta. China, Índia e Brasil estão entre os 10 maiores emissores de CO₂. São países muito populosos, primeira, segunda e sexta maior população do mundo, respectivamente. Entretanto, não se pode fazer uma associação totalmente direta entre a população e os níveis de emissões. É preciso relacionar isso às suas economias e à matriz energética. O carvão mineral, que é o combustível fóssil mais poluente, é a fonte majoritária da matriz energética da China e da Índia. No Brasil, é o petróleo, mas é menos da metade da sua matriz energética. O carvão mineral é uma fonte energética de pequena participação na nossa matriz energética.

Gabarito: B

(QUADRIX/CRA-PR/2022) Para além de múltiplo, o mundo contemporâneo é por demais complexo. Velhos temas renascem, ao tempo em que novas realidades se apresentam. Certezas antes inabaláveis cedem espaço a dúvidas cada vez mais frequentes.

Quanto a essas e a outras observações acerca da atualidade, julgue os itens a seguir:

23. A despeito das vozes negacionistas que se fazem ouvir, as mudanças climáticas são um fenômeno contemporâneo que, cada vez mais, chama a atenção de especialistas, de instituições científicas, de governos e de organismos internacionais.

COMENTÁRIOS:

Quando falamos em mudanças climáticas, estamos nos referindo às transformações que o ser humano tem causado nos padrões do clima global. Mudanças climáticas ocorreram naturalmente no planeta Terra, ao longo de milhões de anos. Todavia, na atualidade, passamos por um período em que as mudanças climáticas têm sido causadas pelas atividades humanas, principalmente por causa da queima de combustíveis fósseis (como carvão, petróleo e gás), que produzem gases que retêm o calor. Portanto, trata-se de um fenômeno contemporâneo.

Pela sua emergência, é um fenômeno que cada vez mais chama a atenção da sociedade internacional, de cientistas, de instituições científicas, de governos e de organismos internacionais, que buscam compreender as consequências desse fenômeno e o que pode ser feito para revertê-lo e mitigar as suas consequências.

No entanto, há uma minoria de cientistas e grupos da sociedade que discordam do argumento de que essas mudanças climáticas têm sido causadas pelo ser humano, e alegam que elas fazem parte de um ciclo natural de mudanças nos padrões climáticos terrestres.



Gabarito: Certo

24. Desde 1972, a ONU vem promovendo grandes conferências internacionais para debater a questão ambiental, tendo o Brasil sediado uma delas, a Rio-92.

COMENTÁRIOS:

A primeira conferência internacional para debater a questão ambiental em âmbito global ocorreu em 1972, organizada pela Organização das Nações Unidas (ONU), a Conferência de Estocolmo, conhecida como 1ª Conferência Internacional para o Meio Ambiente Humano.

Foi considerada um marco do movimento ambiental, por ser a primeira conferência organizada pela ONU que debateu os problemas ambientais do planeta.

Após esse encontro histórico, a comunidade internacional continuou debatendo e se mobilizando sobre o tema, e muitas outras conferências internacionais foram realizadas. Uma das mais importantes foi a Rio-92, realizada no Rio de Janeiro, que também ficou conhecida como Eco-92. Nesse encontro, foi aprovada a Agenda 21, um documento que estabeleceu a importância de cada país se comprometer a refletir, global e localmente, sobre a forma pela qual governos, empresas, organizações não-governamentais e todos os setores da sociedade poderiam cooperar na adoção de soluções para os problemas socioambientais.

Gabarito: Certo

25. A emissão de gases poluentes na atmosfera, ampliando o chamado efeito estufa, leva o mundo a procurar alternativas energéticas, o que explica o estímulo ao uso cada vez mais frequente de fontes fósseis, como o petróleo e o carvão mineral.

COMENTÁRIOS:

São chamados de “gases poluentes” os gases que intensificam o efeito estufa, como o gás carbônico (CO₂), o metano (CH₄) e o óxido nitroso (N₂O). Os combustíveis fósseis, utilizados como fonte de energia, como o petróleo e o carvão mineral, são os grandes responsáveis pela emissão de gases poluentes na atmosfera. A busca por fontes de energia alternativas, para que se possa reduzir a dependência dos combustíveis fósseis, é um dos principais desafios da atualidade.

Gabarito: Errado

(CEBRASPE/FUB/2022) Os dois extremos gelados do planeta estão sofrendo, mais do que qualquer outra parte da Terra, os efeitos do aquecimento global. Ártico e Antártida, regiões essenciais para a regulação da temperatura, derretem a um ritmo mais acelerado do que a ciência previa. Correio Braziliense, 20/3/2022, p. 12 (com adaptações).

Tendo o fragmento de texto anterior como referência inicial, e considerando a amplitude do tema que ele focaliza, julgue os itens que se seguem.

26. Infere-se do texto que o derretimento dos polos Norte e Sul carece de condições para interferir na temperatura do planeta.



COMENTÁRIOS:

Não há nenhuma afirmação nesse sentido no texto. O enunciado destaca que os polos Norte e Sul são essenciais para regular a temperatura do planeta. De fato, essas duas regiões têm um papel importantíssimo na manutenção do equilíbrio térmico do planeta, por isso, há grande preocupação na atualidade em preservar suas massas de gelo, que tem progressivamente se reduzido.

Gabarito: Errado.

27. Na atualidade, a questão ambiental foi incorporada à agenda política do mundo, algo que se manifesta na multiplicação de estudos sobre o tema e na realização de conferências globais para debater o problema.

COMENTÁRIOS:

Na atualidade, a questão ambiental foi incorporada à agenda política mundial. Esse tema tem sido incorporado à política de diferentes países e internacionalmente, por meio de organizações supranacionais, que buscam direcionar esforços com o intuito de amenizar as mudanças climáticas e os impactos do ser humano ao meio ambiente.

Estudos sobre o tema têm se multiplicado, assim como a ampliação de conferências globais para debater os problemas ambientais.

Gabarito: Certo.

28. A emissão em larga escala de gases de efeito estufa amplia o aquecimento global.

COMENTÁRIOS:

A temperatura do planeta Terra está aumentando, o que se denomina de aquecimento global.

Por sua vez, o aquecimento global é resultado da intensificação do efeito estufa, que é um fenômeno natural que permite à atmosfera da Terra reter parte do calor que o sol envia ao planeta. Esse fenômeno ocorre devido à concentração de gases na atmosfera, entre os quais destaca-se o dióxido de carbono.

Contudo, o ser humano tem emitido grandes quantidades de gases do efeito estufa na atmosfera, o que tem intensificado o efeito estufa e, conseqüentemente, ampliado o aquecimento global.

Gabarito: Certo.

29. Estudos científicos atestam que o derretimento das geleiras, embora venham a causar vários problemas, não elevará o nível dos mares.

COMENTÁRIOS:

O derretimento das geleiras tem contribuído para o aumento do nível do mar. Isso já é bastante documentado pela ciência, que estima que, desde meados do século passado, o derretimento das geleiras contribuiu para o aumento do nível dos oceanos em mais de 2 centímetros.



Sobre esse assunto, uma questão que geralmente é feita pelos estudantes é a seguinte: se as geleiras estão na água, como o nível do mar aumenta quando elas derretem? A resposta é simples: nem todo o gelo das regiões polares está flutuando na água. Uma pequena parcela de toda camada de gelo existente na terra encontra-se boiando sobre os corpos hídricos; boa parte da massa de gelo do planeta está sobre a terra, sobretudo, na Antártica.

Sim, pessoal, a Antártica não é um continente de gelo. Por baixo de sua densa e extensa camada de gelo, há uma superfície rochosa, assim como existente nos demais continentes.

Gabarito: Errado.

30. Combustíveis fósseis, como o petróleo, são cada vez mais vistos como aliados essenciais para enfrentar as mudanças climáticas.

COMENTÁRIOS:

A queima de combustíveis fósseis, como o petróleo, libera grandes quantidades de gases do efeito estufa na atmosfera, contribuindo para a intensificação do efeito estufa e para o aquecimento global. Reduzir a utilização de combustíveis fósseis é um objetivo cada vez mais mandatário no mundo atual para enfrentar as mudanças climáticas.

Gabarito: Errado.

31. O aquecimento simultâneo observado no Ártico e na Antártida indica um equilíbrio no sistema climático do planeta, a despeito do aquecimento global.

COMENTÁRIOS:

Durante os primeiros meses de 2022, ondas de calor intensas atingiram simultaneamente ambos os polos da Terra (Ártico e Antártica), fazendo com que suas temperaturas disparassem brevemente para níveis mais altos do que se costuma registrar. O fenômeno é incomum, ainda pouco compreendido pelos cientistas, mas está relacionado ao aquecimento global.

É sobre esse fenômeno que o examinador se referiu ao mencionar um aquecimento simultâneo observado no Ártico e na Antártica.

Contudo, a segunda parte da questão está errada. Não há um equilíbrio no sistema climático do planeta, pelo contrário, o sistema climático do planeta está progressivamente se desequilibrando, tornando-se mais imprevisível e com maior ocorrência de eventos climáticos extremos, que não costumavam ser registrados com tanta frequência. As ondas de calor que ocorreram no fato mencionado são um exemplo desse desequilíbrio climático.

Gabarito: Errado.

(QUADRIX/CRP-10/2022) Perda calculada de R\$ 71,9 bilhões é o que aflige produtores de grãos do Sul e do Centro-Oeste do Brasil em decorrência de uma seca devastadora, tida como a pior em décadas. Enquanto isso, chuvas torrenciais atingiram o Vale do São Francisco, reduzindo a colheita de frutas, e



ocasionaram perdas materiais de grande expressão e mortes de muitas pessoas, como se viu em Petrópolis (RJ), na Bahia e em Minas Gerais, para ficar com apenas alguns exemplos.

Considerando a realidade ambiental do mundo atual, julgue os itens.

32. A questão ambiental definitivamente entrou na agenda do mundo contemporâneo, sendo objeto de estudo de especialistas e de diversas conferências globais voltadas ao debate do tema.

COMENTÁRIOS:

A questão ambiental é um dos principais debates da agenda do mundo contemporâneo. Na busca por amenizar impactos ambientais derivados da ação humana e as mudanças climáticas, diversas conferências globais são realizadas, como a RIO92, RIO+10 e RIO+20. As Conferências das Partes (COPs) sobre a mudança do clima estão entre as mais importantes da atualidade. São numerosos e muito bem embasados cientificamente os estudos científicos que alertam sobre as consequências já sentidas e que serão sentidas dos desequilíbrios ambientais provocados pela ação humana.

Gabarito: Certo

33. Paradoxalmente, a Organização das Nações Unidas (ONU), um foro multilateral que congrega cerca de duas centenas de países, omite-se claramente em relação à temática do meio ambiente.

COMENTÁRIOS:

A Organização das Nações Unidas é um foro multilateral que congrega cerca de duas centenas de países, mais especificamente, a ONU conta com 193 Estados-membros.

A ONU não se omite em relação à temática do meio ambiente. São as Nações Unidas que organizam boa parte das conferências globais que buscam discutir a questão ambiental na atualidade. O Programa das Nações Unidas para o Meio Ambiente (PNUMA), criado dentro da estrutura da ONU, é a principal autoridade global na organização da agenda ambiental.

O PNUMA financia uma série de iniciativas ambientais, como a Convenção sobre Diversidade Biológica, a Convenção-Quadro das Nações Unidas sobre a Mudança do Clima, a Convenção das Nações Unidas para o Combate à Desertificação e a Convenção de Estocolmo.

Já o Painel Intergovernamental de Mudanças Climáticas (IPCC) da ONU analisa e acompanha o processo do aquecimento global. O organismo elabora relatórios e documentos para acompanhar a situação ambiental do planeta

Gabarito: Errado

34. Relativamente às mudanças climáticas, não há espaço para o negacionismo: a começar pelos cientistas, todos concordam com sua existência e seus efeitos desastrosos para a vida no Planeta.

COMENTÁRIOS:

Olha a pegadinha da banca: todos.



Ao longo dos últimos anos, a ciência climática tem apresentado várias evidências que elucidam as mudanças climáticas no planeta. Grande parte dos cientistas climáticos concorda que as mudanças do clima são de origem antrópica, isto é, causadas pelo ser humano, e que os seus efeitos serão desastrosos para a vida no Planeta.

Contudo, há uma ínfima minoria de cientistas que discorda da afirmação de que o aquecimento global estaria sendo causado pelas atividades humanas. Os críticos argumentam que até hoje a ciência não conhece todos os mecanismos que regem o clima, e que mudanças climáticas intensas sempre aconteceram e são naturais.

Gabarito: Errado

35. A emissão descontrolada de gases poluentes na atmosfera amplia o denominado efeito estufa, o que faz aumentar a temperatura no mundo.

COMENTÁRIOS:

O efeito estufa é um fenômeno natural que permite à atmosfera da Terra reter parte do calor que o Sol envia ao planeta, o que mantém a sua temperatura média em torno de 14 °C, essencial para boa parte das formas de vida.

Os principais gases responsáveis pelo efeito estufa são o dióxido de carbono ou gás carbônico (CO₂), o metano (CH₄) e o óxido nitroso (N₂O). Esses gases têm sido lançados, ao longo dos dois últimos séculos, de forma descontrolada na atmosfera, e estão intensificando o fenômeno natural do efeito estufa. Com isso, ocorre um aumento extraordinário da capacidade da atmosfera de reter calor, aumentando as temperaturas médias no planeta.

Gabarito: Certo

36. Até hoje o Brasil não dispõe, na estrutura político-administrativa governamental, de um ministério dedicado ao meio ambiente, o que causa estranheza no País e no exterior.

COMENTÁRIOS:

O Brasil conta com um ministério dedicado ao meio ambiente, o Ministério do Meio Ambiente, que é responsável, basicamente, pela política nacional do meio ambiente.

Gabarito: Errado

37. (QUADRIX/CREFITO 6ª REGIÃO/2022 – RECEPCIONISTA) A questão ambiental entrou na agenda do mundo contemporâneo. Entre os graves problemas que afetam a vida das populações, é possível destacar, entre outros aspectos,

- (A) os efeitos das mudanças climáticas.
- (B) a redução das emissões de carbono.
- (C) o controle sobre os desmatamentos.



(D) a universalização do saneamento básico.

(E) o uso racional dos recursos naturais.

COMENTÁRIOS:

O efeito das mudanças climáticas é um dos graves problemas ambientais da atualidade que afetam a vida das populações. O que se chama de mudanças climáticas é, de forma resumida, o aumento da temperatura média global, que, por sua vez, desencadeia uma série de problemas que comprometem a vida humana e das demais espécies na terra.

A redução das emissões de carbono e o controle sobre os desmatamentos são medidas que devem ser tomadas para evitar essas mudanças climáticas. Portanto, são medidas positivas, que melhoram a vida das populações.

A universalização do saneamento básico também é uma medida que melhora a vida das populações, mas não está relacionada diretamente às mudanças climáticas.

Já o uso racional dos recursos naturais está atrelado a uma série de benefícios à humanidade, além de também contribuir para o controle das mudanças climáticas.

Gabarito: A.

(QUADRIX/CRECI-RO/2022 – FISCAL) Nos dias atuais, as mudanças ocorrem rápida e profundamente. As transformações acontecem dia após dia, atingindo os mais variados setores. Considerando esse cenário tão dinâmico, tanto no Brasil quanto no mundo, julgue os itens.

38. Uma preocupação mundial crescente diz respeito às mudanças climáticas, com extremos dramáticos, a exemplo de secas prolongadas, invernos rigorosos, calor escaldante e chuvas torrenciais.

COMENTÁRIOS:

A maior frequência e intensidade na ocorrência de eventos climáticos extremos, como secas prolongadas, invernos rigorosos, calor escaldante, chuvas torrenciais, além de constantes furacões, tornados, ciclones e tsunamis, é apontada por cientistas climáticos como sendo consequência das mudanças climáticas, que já estão sendo sentidas diretamente pelo ser humano em diversos locais do mundo.

Gabarito: Certo.

39. Incêndios florestais, como os verificados na Califórnia e na Amazônia, por exemplo, ganham manchetes em todo o planeta e alertam para as consequências da devastação de recursos naturais.

COMENTÁRIOS:

A Califórnia, estado localizado no Oeste dos Estados Unidos, é o mais populoso e com o maior PIB do país. Por ter um clima com temporada seca e uma vegetação florestal, as condições naturais californianas favorecem os incêndios. Contudo, nos últimos anos, os incêndios florestais estão se tornando mais frequentes e intensos na região. Grandes focos de incêndio foram registrados em anos recentes, entrando



para os recordes de fogo no estado. Apesar de geralmente iniciarem-se pela ação humana, as condições climáticas atuam como intensificadores do fenômeno.

Na Amazônia, onde, diferentemente da Califórnia, o clima é muito úmido ao longo do ano, também tem ocorrido grandes focos de incêndio. Esses têm sido causados principalmente pelo ser humano, que busca abrir espaço na floresta para pastagens, para a criação de gado, e para o cultivo agrícola.

Esses grandes incêndios têm ganhado as manchetes em todo o planeta e alertam para as consequências da devastação de recursos naturais, pois têm contribuído sobremaneira para as mudanças climáticas.

Em vários outros locais do planeta, também têm-se registrado grandes focos de incêndio, como os ocorridos em 2020 e 2021 na Europa (região dos Balcãs, Itália e sudeste do Mediterrâneo) e na Austrália.

Gabarito: Certo.

40. (CESGRANRIO/BASA/2022 - TÉCNICO CIENTÍFICO) Considere o texto a seguir sobre a COP26.

Na avaliação do chefe da ONU, António Guterres, os compromissos firmados até o momento em Glasgow são “encorajadores”, mas a lacuna nas emissões continua “sendo uma enorme ameaça”. Ele anunciou que irá estabelecer “um Grupo de Especialistas de Alto-Nível para propor padrões claros de medição e análise dos compromissos sobre net zero (zero emissões líquidas de gases)”, sendo que uma série de recomendações será apresentada no próximo ano.

Disponível em: <https://news.un.org/pt/story/2021/11/1770162>. Acesso em: 20 nov. 2021.

A avaliação de Guterres sobre medição, emissões e recomendações diz respeito diretamente ao seguinte tema:

- (A) Mudança climática global.
- (B) Flexibilização da produção.
- (C) Financeirização da economia.
- (D) Fluxo migratório internacional.
- (E) Tecnologia de Informação e Comunicação.

COMENTÁRIOS:

A COP26 é a Conferência das Nações Unidas sobre as Mudanças Climáticas de 2021, realizada em Glasgow, na Escócia.

A COP é a maior cúpula de debates e tomada de ações para o enfrentamento das mudanças climáticas e de seus efeitos no mundo, em que se busca adotar atitudes em conjunto para diminuir as emissões dos gases de efeito estufa.



Portanto, a avaliação de Guterres sobre a COP26 diz respeito, diretamente, ao tema da mudança climática global.

Gabarito: A

41. (PM-PI/NUCEPE/2022 – SOLDADO) “Os Estados Unidos retornaram oficialmente ao Acordo de Paris sobre o Clima, nesta sexta-feira, 19, e o governo do presidente Joe Biden prometeu tornar a batalha ambiental prioridade máxima de seu governo.”

Fonte: Estados Unidos retornam oficialmente ao Acordo de Paris. Carta Capital, 19 de fev. 2021. Disponível em: <https://www.cartacapital.com.br/mundo/estadosunidos-retornam-oficialmente-ao-acordo-de-paris/>

As discussões acerca da intensificação do efeito estufa e dos impactos do aquecimento global têm mobilizado cientistas, Estados nacionais e organismos internacionais na busca por soluções e acordos visando à redução das emissões dos chamados gases do efeito estufa, como o dióxido de carbono (CO₂), o gás metano (CH₄) e o óxido nitroso (N₂O). Sobre o aquecimento global e as ações para combatê-lo, é CORRETO afirmar que

- a) o uso de combustíveis fósseis não contribui para o aquecimento global.
- b) os países que mais emitem gases de efeito estufa são Portugal, Estados Unidos e França.
- c) o Protocolo de Kyoto é um acordo internacional para a redução dos gases do efeito estufa por parte dos países asiáticos.
- d) o Painel Intergovernamental sobre Mudanças Climáticas (IPCC) é uma organização criada no âmbito do governo brasileiro para monitorar dados relacionados às mudanças climáticas.
- e) a pecuária bovina é responsável pela emissão de gases do efeito estufa, principalmente óxido nitroso (N₂O), metano (CH₄) e gás carbônico (CO₂); este último a partir do desmatamento necessário à mudança de uso da terra imposta pela pecuária.

COMENTÁRIOS:

a) Incorreto. A queima de combustíveis fósseis, como o carvão e o petróleo, libera grandes quantidades de gases do efeito estufa na atmosfera, contribuindo muito para o aquecimento global.

b) Incorreto. Os países que mais emitem gases de efeito estufa são também aqueles com as maiores economias do mundo: China, em primeiro lugar, e Estados Unidos, em segundo lugar (considerando as emissões anuais).

c) Incorreto. O Protocolo de Kyoto é um acordo internacional, assinado em 1997, que estabeleceu a redução da emissão de gases do efeito estufa pelos países ricos, com base no entendimento de que, por terem iniciado seu processo de industrialização há muito mais tempo, essas nações produziram a maior parte dos gases acumulados na atmosfera.

O Protocolo de Kyoto entrou em vigor em 2005, mas grandes poluidores, como os Estados Unidos, não o ratificaram por considerar que isso afetaria a sua economia. O prazo do protocolo venceu em 2012, mas foi prorrogado até 2020 por falta de um novo acordo, quando o seu período de vigência se encerrou.



d) Incorreto. O Painel Intergovernamental sobre Mudanças Climáticas (IPCC) é uma organização internacional que foi criada no âmbito das Nações Unidas. O seu objetivo é sintetizar e divulgar o conhecimento mais avançado sobre as mudanças climáticas que afetam o mundo na atualidade, especificamente, o aquecimento global, além de apontar as causas, os efeitos e os riscos para a humanidade e para o meio ambiente, sugerindo maneiras de combater tais problemas. Atualmente, o IPCC conta com 195 países membros, entre eles o Brasil.

e) Correto. O metano (CH₄) e o óxido nitroso (NO₂) são os principais gases emitidos pela pecuária com efeito estufa. Para a implantação de pastagens para o gado, é feito o desmatamento (o corte de vegetação), o que emite o gás carbônico (CO₂), por isso que a questão afirma que esse gás também é emitido pela pecuária.

Gabarito: E

42. (VUNESP/PM-SP/2022 – SOLDADO) Os líderes das 20 principais economias do planeta, o G20, anunciaram neste domingo (31.10), em Roma, um compromisso para tentar conter as mudanças climáticas e limitar o aquecimento global a 1,5 °C nos próximos anos.

(G1. <https://glo.bo/3HXmz2v>. Publicado em 31.10.2021. Acesso em 11.11.2021. Adaptado)

Uma das soluções propostas para limitar o aquecimento global foi

- (A) a substituição do Acordo de Paris, assinado em 2015, por um novo acordo climático mais audacioso.
- (B) o incentivo à construção de usinas nucleares nos países pobres do hemisfério Sul.
- (C) a redução da concentração demográfica nas grandes e médias cidades, locais geradores de poluição atmosférica.
- (D) o fim do financiamento de novas usinas de carvão mineral para a geração de energia termelétrica.
- (E) a modernização dos navios movidos a combustíveis fósseis que circulam pelos oceanos e poluem as águas

COMENTÁRIOS:

Durante o encontro do G20, o grupo acordou em limitar o aquecimento global a 1,5°C e encerrar financiamentos públicos de novas usinas a carvão, segundo o documento final da cúpula.

O G20 pediu uma ação "significativa e efetiva" para limitar o aquecimento global, mas ofereceu poucos compromissos concretos. Os líderes não definiram uma data precisa para a neutralidade de carbono. O acordo diz apenas "por volta da metade do século".

Gabarito: D

(CEBRASPE/ICMBio/2022 – TÉCNICO) A dimensão continental do território brasileiro, a diversidade de biomas e de processos de uso e ocupação do território denotam diversas tipologias de desastres naturais envolvendo questões ambientais, políticas, econômicas. A respeito dos desastres naturais no território brasileiro, julgue os itens a seguir.



43. O aumento da ocorrência e da intensidade dos desastres naturais tem despertado debates sobre as mudanças climáticas e seus impactos na sociedade brasileira.

COMENTÁRIOS:

O aumento da ocorrência e da intensidade dos desastres naturais tem despertado debates sobre as mudanças climáticas e seus impactos na sociedade brasileira. A comunidade científica tem trabalhado muito com a ideia de que eventos climáticos extremos, como as intensas chuvas que ocorreram recentemente em vários locais do país, têm sido amplificados com as mudanças climáticas.

Gabarito: Certo

44. As atividades de exploração mineral no Brasil são licenciadas pelos órgãos ambientais, o que diminui em larga escala os impactos ambientais sobre o meio ambiente e torna a mineração uma atividade sustentável.

COMENTÁRIOS:

As atividades de exploração mineral do Brasil são licenciadas pelos órgãos ambientais. Mesmo com a aprovação do seu licenciamento ambiental, os impactos existem. O licenciamento visa a mitigar esse impacto. A exploração ambiental é uma atividade alto impacto ambiental. Há ainda mineração ilegal, sem licenciamento ambiental, sobretudo, o garimpo de ouro, bastante danoso ao meio ambiente.

Gabarito: Errado

45. (QUADRIX/CREFONO 4ª REGIÃO/2021 – ASSISTENTE ADMINISTRATIVO) Embora contestadas por alguns setores, as mudanças climáticas podem ser representadas por fenômenos naturais extremos, a exemplo de secas prolongadas e chuvas torrenciais.

COMENTÁRIOS:

O Painel Intergovernamental sobre Mudanças Climáticas (IPCC), organização de especialistas para mudanças do clima da ONU, tem cada vez mais ressaltado que as mudanças climáticas provocadas pelo aquecimento global vêm aumentando a intensidade e a frequência de eventos extremos, como secas prolongadas e chuvas torrenciais.

Dependendo da região, secas, chuvas intensas, ondas de calor e furacões são eventos esperados de tempos em tempos. No entanto, o que tem ocorrido é uma intensificação e uma maior frequência desses fenômenos. Uma cheia ou seca extrema que ocorreria a cada 100 anos, por exemplo, passa a ter recorrência a cada 10 anos; já a estação de furacões, que contaria com um furacão de intensidade máxima, passa a apresentar dois ou três.

A existência das mudanças climáticas como um evento de causas antrópicas, isto é, causado pelo ser humano, é contestada por alguns setores, que argumentam que as mudanças climáticas têm causas naturais, mas há grande consenso entre a comunidade científica de que as mudanças climáticas têm causas antrópicas, sendo os contestadores dessa visão um grupo bastante minoritário na sociedade.

Gabarito: Certo



46. (QUADRIX/CFT/2021 – JORNALISTA) Sob a liderança do Brasil, países latino-americanos que participaram da Cúpula Latino-americana sobre Mudanças Climáticas solicitaram financiamento de organismos internacionais e intercâmbio de dívida externa em troca de resultados ambientais.

COMENTÁRIOS:

A Cúpula Latino-americana sobre Mudanças Climáticas foi um evento que ocorreu em setembro de 2021 para discutir as mudanças climáticas entre os países da América Latina. O encontro foi proposto por Alberto Fernández, presidente da Argentina. Ao fim, vários líderes latino-americanos solicitaram financiamento de organismos internacionais e intercâmbio de dívida externa em troca de resultados ambientais.

O Brasil não participou da cúpula. O governo de Jair Bolsonaro tem sido muito criticado pela sua condução dos temas relativos à questão ambiental, como a preservação da floresta amazônica. O presidente brasileiro e o argentino também expressam diferenças ideológicas entre ambos.

Gabarito: Errado

47. (VUNESP/TRANSERP/2019 - CONTADOR) Após o presidente Jair Bolsonaro ter sinalizado, na campanha e no início de seu mandato, intenção de sair do Acordo de Paris – e ter rejeitado a ideia de o Brasil sediar a conferência climática COP-25, ele reafirmou nesta quarta-feira (23.01.19), em entrevista à TV Bloomberg, a intenção de permanecer no acordo de Paris. Mas deixou claro que o país quer ter, além de deveres, direitos.

(TERRA. Publicado em: 23.01.2019. Acessível em: <https://bit.ly/2RiCfC1>. Adaptado)

O presidente refere-se ao direito de o Brasil

- a) ter assento permanente no Conselho de Segurança da ONU.
- b) ter o devido retorno financeiro por crédito de carbono.
- c) ser ouvido primeiro em questões ambientais na América Latina.
- d) receber os subsídios prometidos pelo investimento em biodiesel.
- e) continuar como líder de pesquisa no projeto genoma.

COMENTÁRIOS:

Uma questão muito pontual, baseada na fala do presidente Jair Bolsonaro em uma entrevista sua à TV Bloomberg.

Durante sua campanha de eleição à presidência, Jair Bolsonaro manifestou intenção em retirar o Brasil do Acordo de Paris.

O Acordo de Paris é um acordo climático assinado por 193 países-membros da ONU que estabelece que todos os países devem se mobilizar para conter o aumento da temperatura média da Terra. A principal ação que se pode tomar nessa direção é a redução nas emissões de gás carbono.



Entretanto, o presidente não efetivou a saída do Brasil do Acordo, mas manifestou o direito de o Brasil ter o devido retorno financeiro por crédito de carbono.

Crédito de carbono são certificados emitidos para uma empresa ou país que reduziu a sua emissão de gases do efeito estufa ou que evitou a emissão desses gases. Por convenção, 1 tonelada de dióxido de carbono (CO₂) corresponde a um crédito de carbono.

Este crédito pode ser negociado no mercado internacional e adquirido por países e empresas que não conseguem diminuir as suas emissões. Comprar créditos de carbono no mercado corresponde aproximadamente a comprar uma permissão para emitir gases do efeito estufa.

Gabarito: B

(QUADRIX/CRQ 4ª REGIÃO/2019 – PROFISSIONAL DE ATIVIDADES ESTRATÉGICAS) O Acordo de Paris foi aprovado pelos 195 países signatários da Convenção-Quadro das Nações Unidas sobre Mudança do Clima (UNFCCC) para reduzir emissões de gases de efeito estufa (GEE) no contexto do desenvolvimento sustentável.

Internet: <mma.gov.br> (com adaptações).

A respeito do assunto abordado no texto acima e de temas correlatos, julgue os itens.

48. Em 2016, o Brasil ratificou seu compromisso com as metas do Acordo de Paris.

COMENTÁRIOS:

Em novembro de 2016, o Acordo do Clima de Paris entrou oficialmente em vigor. O Brasil foi um dos primeiros países a ratificar o acordo.

O Acordo estabelece que todos os países deverão se mobilizar para conter o aumento da temperatura média da Terra, ainda neste século, “bem abaixo de 2 graus Celsius” com relação aos níveis pré-Revolução Industrial. Também devem fazer o possível para tentar reduzir a 1,5 °C. Não foram dadas metas de redução de emissão de gases do efeito estufa, mas sim uma intenção global em mudar para uma economia de baixo carbono.

Gabarito: Certo

49. As Contribuições Nacionalmente Determinadas (NDC) brasileiras incluem o compromisso de ampliar a participação de biocombustíveis sustentáveis na matriz energética do País.

COMENTÁRIOS:

A Contribuição Nacionalmente Determinada (NDC, na sigla em inglês) é o documento do governo brasileiro que registra os principais compromissos e contribuições Brasil para o acordo climático de Paris.

O compromisso do Brasil é conseguir reduzir as emissões de gás carbônico em 37% em relação às emissões de 2005. A data limite para isso é 2025, com indicativo de reduzir 43% das emissões até 2030.



Segundo o documento, para alcançar as metas de redução, o governo brasileiro adotará políticas em diversas áreas, sendo elas:

- Fortalecer o cumprimento do Código Florestal;
- Restaurar 12 milhões de hectares de florestas;
- Alcançar desmatamento ilegal zero na Amazônia brasileira;
- Chegar a participação de 45% de energias renováveis na matriz energética;
- Obter 10% de ganhos de eficiência no setor elétrico;
- Promover o uso de tecnologias limpas no setor industrial;
- Estimular medidas de eficiência e infraestrutura no transporte público e áreas urbanas.

Para chegar à participação de 45% de energias renováveis na matriz energética, uma das estratégias é o aumento da participação da bioenergia sustentável na matriz energética brasileira, ou seja, dos biocombustíveis.

Gabarito: Certo

50. Como está previsto no Acordo de Paris o chamado “desmatamento zero”, produtores rurais brasileiros encontram-se, pela lei, proibidos de promover qualquer desmatamento em áreas de florestas na Amazônia Legal.

COMENTÁRIOS:

Isto não está previsto no Acordo de Paris, é uma invenção do examinador. Porém, na NDC brasileira, consta o objetivo de alcançar o desmatamento ilegal zero até 2030 na Amazônia brasileira. Observem que é “desmatamento ilegal zero”, ou seja, zero desmatamento que não seja permitido pela lei, o que é diferente de “desmatamento zero”, que se refere ao fim de todo e qualquer tipo de desmatamento.

A Amazônia Legal compreende os Estados do Acre, Pará, Amazonas, Roraima, Rondônia, Amapá e Mato Grosso e as regiões situadas ao norte do paralelo 13° S, dos Estados de Tocantins e Goiás, e ao oeste do meridiano de 44° W, do Estado do Maranhão

A legislação brasileira estabelece que os imóveis rurais devem manter área com cobertura de vegetação nativa, a título de Reserva Legal, sem prejuízo da aplicação das normas sobre as Áreas de Preservação Permanente. Para a Amazônia Legal devem ser observados os seguintes percentuais:

- a) 80% no imóvel situado em área de florestas;
- b) 35% no imóvel situado em área de cerrado; e
- c) 20% no imóvel situado em área de campos gerais.



Gabarito: Errado

51. (VUNESP/2018/PREFEITURA DE BARRETOS – AGENTE DE COMUNICAÇÃO SOCIAL) Um artigo publicado na Environmental Research Letters alerta que, com emissões de mais de 41 gigatoneladas anuais no planeta, “o tempo está se esgotando” para que seja possível manter o aumento da temperatura abaixo dos dois graus ao final do século, objetivo fixado no Acordo de Paris.

(<http://www.correiobraziliense.com.br> – 14.11.17 – Acesso 09.02.18. Adaptado)

O país responsável por 28,5% do total da emissão de dióxido de carbono, ligado aos combustíveis fósseis e à indústria,

- a) são os Estados Unidos.
- b) é a China.
- c) é a Índia.
- d) é a Rússia.
- e) é a União Europeia.

COMENTÁRIOS:

É absurdo imaginar que um país sozinho possa emitir uma porcentagem tão alta de dióxido de carbono na atmosfera. Pois é, isso ocorre. A China é o país que mais emite anualmente gases intensificadores do efeito estufa e responsáveis pelo aquecimento global. Após a China, estão os Estados Unidos, seguido pela União Europeia, Rússia e Índia.

Gabarito: B

52. (IESES/TJ AM/2018 – TITULAR DE SERVIÇOS DE NOTAS E REGISTROS) O segundo maior poluidor do planeta, os EUA, abandonaram em junho de 2017, o acordo climático que estabelece metas de redução das emissões de gases do efeito estufa. O texto acima se refere a que acordo climático.

- a) Acordo climático de Paris
- b) Acordo climático de Berlim.
- c) Protocolo de Kyoto.
- d) Declaração de Copenhague.

COMENTÁRIOS:

O texto se refere ao acordo climático de Paris. Essa era uma de suas propostas ao longo de sua campanha à presidência, e Trump, de fato, a cumpriu. Em junho de 2017, os EUA abandonaram o acordo climático de Paris, relativo à mudança do clima e ao aquecimento global. De forma resumida, esse acordo diz que



todos os países deverão se mobilizar para conter o aumento da temperatura média da Terra, diminuindo as emissões de gases que contribuem para o aquecimento global. O acordo foi criticado por não ter estabelecido metas fixas e obrigatórias, já que cada país apresentou o seu compromisso voluntário sobre o quanto poderá contribuir para a redução de emissões.

O acordo climático de Berlim foi definido na COP-1, ou seja, a primeira das Conferências das partes, ocorrido em 1995. Nele se tomaram as primeiras ações proativas que visavam à redução das emissões de gases do efeito estufa. O Protocolo de Kyoto, assinado em 1997, na COP-3, no Japão, estabeleceu o comprometimento dos países desenvolvidos em reduzir as emissões de gases do efeito estufa durante o período de 2008 a 2012. Os Estados Unidos também não ratificaram esse protocolo na época. Por fim, não há nenhum acordo chamado Declaração de Copenhague.

Gabarito: A



QUESTÕES COMENTADAS – AMAZÔNIA – MULTIBANCAS

1. (CEBRASPE/FUB/2023) O Fundo Amazônia — programa que visa à prevenção, ao monitoramento e ao combate ao desmatamento, assim como à conservação e ao uso sustentável da Amazônia Legal — está bloqueado porque a Alemanha e a Noruega, principais doadoras do fundo, suspenderam os repasses de verbas por discordarem da forma como questões sobre a proteção ambiental vêm sendo tratada, ao longo dos anos, pelo governo brasileiro.

COMENTÁRIOS:

O Fundo Amazônia foi criado em 2008 para apoiar iniciativas de conservação, de combate ao desmatamento e de desenvolvimento sustentável na Amazônia Legal, região que abrange nove estados brasileiros.

No ano de 2019, Alemanha e Noruega, seus dois principais doadores, suspenderam os repasses de verbas por discordarem da forma como questões sobre a proteção ambiental vinham sendo tratadas pelo governo de Jair Bolsonaro. Esse fundo ficou paralisado entre 2019 e 2023, por decisão do governo da época e não por que houve suspensão de doações de recursos financeiros.

No ano de 2023, com a reativação do fundo e com a política ambiental adotada pelo governo Lula, os dois países voltaram a fazer doações para o fundo.

Gabarito: Errado

2. (CEBRASPE/TJ-SC/2023) A questão ambiental, incluída na agenda mundial e importante tema nas relações internacionais, oferece ao Brasil a oportunidade de ser protagonista no cenário global. Isto decorre do fato de que o país

- a) tem grande diversidade natural e possui a maior área da floresta amazônica.
- b) já conseguiu eliminar o desmatamento ilegal e a exploração de riquezas minerais.
- c) decidiu manter inalterada sua matriz energética, concentrada nos combustíveis fósseis.
- d) faz pouco uso de seu potencial hidrelétrico, optando pelas usinas termelétricas.
- e) só agora pretende assinar acordos relacionados à defesa ambiental.

COMENTÁRIOS:

a) Correta. O Brasil é considerado o país mais rico do mundo em recursos naturais. A maior parte da Floresta Amazônica está em território brasileiro. A Amazônia é amplamente reconhecida como um dos principais ativos ambientais do planeta. Pela sua condição de riqueza natural, o Brasil é um dos países líderes e protagonistas no debate da agenda ambiental internacional.



b) Incorreta. O Brasil ainda enfrenta desafios significativos no combate ao desmatamento ilegal, especialmente na região amazônica, e na regulamentação da exploração de recursos minerais, buscando conciliar desenvolvimento econômico com preservação ambiental.

c) Incorreta. A matriz energética brasileira ainda é predominantemente suja e não renovável, com o petróleo sendo a principal fonte energética. Contudo, cresce a participação de fontes limpas e renováveis na nossa matriz energética, bem como a sua maior diversificação.

d) Incorreta. O Brasil faz excelente uso do seu potencial hidrelétrico. Mais da metade da energia elétrica gerada e consumida vem de usinas hidrelétricas. As termelétricas são pouco representativas na geração de energia elétrica no nosso país.

e) Incorreta. O Brasil tem uma longa história de participação em acordos e tratados internacionais relacionados à defesa ambiental. O país sediou a RIO-92 ou Eco-92, a Conferência das Nações Unidas sobre o Meio Ambiente e Desenvolvimento, que foi realizada no Rio de Janeiro em 1992. A conferência foi um marco na agenda ambiental mundial. Além disso, o Brasil participa ativamente nas Conferências das Partes e assinando os seus tratados, como o Acordo de Paris, em 2015, e diversas outras convenções da ONU sobre temas ambientais.

Gabarito: A

(QUADRIX/CRT-SP/2023) A respeito dos ecossistemas brasileiros amazônico e do Pantanal, julgue os itens.

3. As queimadas na Amazônia têm ligação direta com o desmatamento, já que, muitas vezes, o fogo é utilizado para remover a vegetação que foi desmatada, a fim de abrir caminho para o plantio e a pecuária.

COMENTÁRIOS:

As queimadas na Amazônia estão associadas ao desmatamento. O processo de desmatamento envolve a derrubada das árvores para criar áreas destinadas à agricultura e à pecuária. Posteriormente, os restos da vegetação são frequentemente queimados para limpar o solo, preparando-o para atividades agropecuárias. Desse modo, muitas queimadas no ecossistema amazônico são feitas intencionalmente com esse objetivo.

A prática do uso do fogo para limpar áreas desmatadas na Amazônia tem implicações significativas para o meio ambiente e para o equilíbrio ecológico da região. As queimadas contribuem para a degradação do solo, para a emissão de gases de efeito estufa e impactam a biodiversidade, além de gerarem consequências negativas para as comunidades locais.

Gabarito: Certo

4. Por decreto, os recursos recebidos pelo Fundo Amazônia são de uso exclusivo do ecossistema amazônico para ações de prevenção, monitoramento e combate ao desmatamento, assim como para atividades de conservação e de uso sustentável do referido bioma.

COMENTÁRIOS:



O Fundo Amazônia tem como objetivo captar doações para investimentos não reembolsáveis em ações de prevenção, de monitoramento e de combate ao desmatamento, além de promoção da conservação e do uso sustentável da Amazônia Legal. Entretanto, não é correto afirmar que os recursos do Fundo Amazônia são de uso exclusivo do ecossistema amazônico.

De acordo com as diretrizes do Fundo Amazônia, até 20% dos seus recursos podem ser utilizados para apoiar o desenvolvimento de sistemas de monitoramento e controle do desmatamento em outros biomas brasileiros e em países tropicais. Portanto, embora a maior parte dos recursos seja destinada à Amazônia Legal, uma parcela pode ser usada em outros biomas e países tropicais.

Gabarito: Errado

5. O aumento das queimadas afeta diretamente a qualidade do ar das cidades da região e, consequentemente, propicia uma piora no estado de saúde de seus habitantes.

COMENTÁRIOS:

Quando há um aumento significativo nas queimadas em áreas urbanas próximas, a qualidade do ar piora. As queimadas liberam substâncias tóxicas e poluentes no ar, que podem causar problemas respiratórios e afetar a saúde das pessoas. A correlação entre o aumento das queimadas, a qualidade do ar e os efeitos na saúde humana é uma preocupação legítima e respaldada por diversos estudos científicos.

Gabarito: Certo

6. O Pantanal mato-grossense implantou um modelo de desenvolvimento sustentável que sustou o desmatamento, as queimadas e a mineração, atividades de maior degradação ambiental desse ecossistema.

COMENTÁRIOS:

Desmatamento, queimadas e mineração ainda são comuns e recorrentes no ecossistema do Pantanal. Historicamente, esses são os principais problemas ambientais desse ambiente e que contribuem para sua degradação.

Embora existam iniciativas e organizações trabalhando para promover práticas sustentáveis e conservação no Pantanal, a implantação efetiva de um modelo de desenvolvimento sustentável que suste completamente essas atividades prejudiciais ainda é um desafio que está longe de ser concretizado.

Gabarito: Errado

7. Para o combate ao desmatamento e o uso mais sustentável do bioma amazônico, o Fundo Amazônia recebeu aporte de capital internacional.

COMENTÁRIOS:

O Fundo Amazônia é um mecanismo de captação de recursos criado pelo governo brasileiro em parceria com a comunidade internacional, especialmente por meio de contribuições de países e organizações estrangeiras. Esses recursos têm como objetivo financiar projetos voltados para a conservação da Amazônia, para a



prevenção e controle do desmatamento, para a promoção de atividades sustentáveis e para o desenvolvimento de comunidades locais.

A Noruega é atualmente o principal doador do Fundo, mas ele também recebe aporte de outros países importantes, como a Alemanha. Em 2023, foram anunciadas doações ao Fundo por parte dos Estados Unidos, do Reino Unido, da União Europeia, da Suíça e da Dinamarca. A Noruega também anunciou uma nova doação.

Gabarito: Certo

8. (VUNESP/EPC/2023) A taxa anual de desmatamento do bioma em 2022 foi estimada em 10689 km², segundo os dados oficiais divulgados nesta quarta-feira [14 dez.] pelo Instituto Nacional de Pesquisas Espaciais (INPE). Os dados apresentados mostram que, em 2022, houve aumento de 25% na devastação do bioma em relação ao ano passado. Este é o terceiro ano consecutivo de aumento da destruição.

(WWF. <https://bit.ly/3YF9Mt8>. 14.12.2022. Adaptado)

A notícia faz referência

- A) ao Pantanal.
- B) ao Cerrado.
- C) à Mata Atlântica.
- D) à Caatinga.
- E) aos Pampas.

COMENTÁRIOS:

A notícia faz referência ao aumento da taxa de desmatamento no bioma do Cerrado. Geralmente, as questões de Atualidades e Conhecimentos Gerais perguntam sobre o desmatamento na Amazônia. Essa questão foi bem factual, e o fragmento da notícia não trouxe nenhuma dica sobre o gabarito. Dentre as afirmativas, não aparece a opção “Amazônia”, o que facilita a resposta. Depois da Amazônia, o avanço do desmatamento no Cerrado é o que mais gera preocupação entre os biomas brasileiros.

Segundo os dados do Instituto Nacional de Pesquisas Espaciais (INPE), o desmatamento no Cerrado em 2022 teve um aumento de 25% em relação ao ano anterior e atingiu o maior valor em sete anos. A área devastada no ano de 2022 foi de 10.689 km².

O desmatamento do Cerrado está relacionado principalmente à conversão de áreas para agropecuária, com o avanço da fronteira agrícola. Em 2022, os estados de maior destruição foram os do **MATOPIBA**, chegando a 71 % do total desmatado no bioma. O estado do Maranhão liderou o ranking da devastação, com 2.833,9 km², 27% do total desmatamento do Cerrado naquele ano. Em seguida, aparecem a Bahia, o Tocantins e o Piauí.



MATOPIBA é uma região do Brasil que engloba partes dos estados do Maranhão (MA), Tocantins (TO), Piauí (PI) e Bahia (BA). O termo é um acrônimo formado pelas duas primeiras letras de cada um desses estados.

Essa região tem sido objeto de destaque nas discussões relacionadas à agricultura e ao desenvolvimento agropecuário no país. O MATOPIBA tem características favoráveis para a produção agrícola, como solos férteis e clima propício, o que tem atraído investimentos e impulsionado o avanço da fronteira agrícola.

No entanto, a expansão das atividades agropecuárias na região também gera preocupações relacionadas aos impactos ambientais, como o desmatamento e a perda de biodiversidade, além dos conflitos fundiários e sociais.

O termo MATOPIBA é frequentemente utilizado para se referir tanto à região quanto aos desafios e dilemas associados à sua ocupação agrícola. É um exemplo de como o desenvolvimento econômico e a preservação ambiental podem ser temas de debate e busca por soluções equilibradas.

O Cerrado é uma savana tropical de grande biodiversidade e abrange uma área significativa do território nacional. O desmatamento do Cerrado tem impactos negativos não apenas na flora e fauna locais, mas também nos serviços ecossistêmicos, como a regulação do clima e o abastecimento de recursos hídricos.

Gabarito: B

9. (VUNESP/PM-SP/2022) “A área sob alerta de desmatamento na Amazônia Legal durante o primeiro semestre de 2022 é a maior em sete anos, de acordo com o sistema de monitoramento do Instituto Nacional de Pesquisas Espaciais (Inpe). Foram 3.750 km² entre 1º de janeiro e 24 de junho (mais de 2 cidades de São Paulo), índice superior ao dos anos anteriores.”

(<https://g1.globo.com/meio-ambiente/noticia/2022/07/01/>)

Os fatores listados a seguir estão entre as principais causas do desmatamento amazônico, à exceção de um. Assinale-o.

- (A) Extração ilegal de madeira.
- (B) Grilagem de terras públicas.
- (C) Impunidade de crimes ambientais.
- (D) Agricultura de corte e queimada e agropecuária.
- (E) Impactos na fertilidade do solo e no ciclo hidrológico.

COMENTÁRIOS:

Dentre os fatores listados, “impactos na fertilidade do solo e no ciclo hidrológico” não são as causas do desmatamento amazônico, mas sim as consequências disso. O desmatamento pode causar a redução da fertilidade do solo e impactar o ciclo hidrológico, com diminuição de chuvas, causando aumento das secas na Amazônia.



A extração ilegal de madeira é a causa principal do desmatamento na Amazônia e muitas vezes está associada à disponibilização de terras para a pecuária extensiva e para monocultura de grãos, como a soja e o milho.

A grilagem de terras públicas consiste em invadir áreas públicas e forjar falsos títulos de propriedade para uma tentativa de obter posteriormente a regularização da propriedade desses espaços junto ao poder público. A grilagem também está associada ao desmatamento. A impunidade ambiental contribui para que os criminosos continuem a desmatar ilegalmente a Amazônia.

Entre as principais causas do desmatamento amazônico estão a extração ilegal de madeira, a grilagem de terras públicas, a impunidade de crimes ambientais, a agricultura de corte e queimada e a agropecuária.

A agricultura de corte e queimada é uma prática agrícola milenar de subsistência de povos tradicionais das florestas tropicais, considerada sustentável. No entanto, a intensificação do seu uso também tem sido apontada como contribuinte do desmatamento na Amazônia.

Gabarito: E

10. (FGV/CÂMARA MUNICIPAL DE TAUBATÉ-SP/2022 - TÉCNICO LEGISLATIVO DE INFORMÁTICA)



O Bioma Amazônia ocupa cerca de 49% do território brasileiro. A Amazônia possui a maior floresta tropical do mundo, equivalente a 1/3 das reservas de florestas tropicais úmidas que abrigam a maior quantidade de espécies da flora e da fauna. Contém 20% da disponibilidade mundial de água e grandes reservas minerais. O delicado equilíbrio de suas formas de vida é muito sensível à interferência humana. Ultimamente, após alguns anos em que boas políticas públicas conseguiram deter, em parte, práticas humanas ameaçadoras a seu equilíbrio, recentemente tais ameaças ao bioma aumentaram vertiginosamente.

Avalie se as ameaças ao bioma Amazônia incluem:

I. Desmatamento e Queimadas.

- II. Mineração e garimpo ilegal.
- III. Agricultura e pecuária de larga escala.
- IV. Estabelecimento de grandes empreendimentos públicos, como a construção de hidrelétricas.

Estão corretos os itens

- (A) I e II, apenas.
- (B) III e IV, apenas.
- (C) I, II e III, apenas.
- (D) II, III e IV, apenas.
- (E) I, II, III e IV.

COMENTÁRIOS:

Todas as ações mencionadas nas quatro alternativas correspondem a ameaças ao bioma Amazônia e têm sido responsáveis pelo aumento do desmatamento no bioma.

Gabarito: E

11. (IBFC/PC-BA/2022) Em 2021, mais de 40% da perda de floresta nativas no mundo ocorreu no Brasil, segundo dados do Global Forest Watch, plataforma de monitoramento de florestas desenvolvida pela Universidade de Maryland. Esse mapeamento é feito há duas décadas a partir de análises de _____ (adaptado de G1, 2022).

Assinale a alternativa que preencha corretamente a lacuna.

- a) imagem de satélite.
- b) imagem de GPS.
- c) imagem de teodolito.
- d) imagem de pluviômetro.
- e) imagem de barômetro.

COMENTÁRIOS:

O mapeamento foi feito a partir de análises de imagem de satélite.

As imagens de satélite são fotografias digitais da superfície terrestre, obtidas por satélites artificiais em órbita na Terra, que têm câmeras e sensores capazes de capturar imagens e informações do nosso planeta. Além



de tirar fotos, os sensores podem captar informações de temperatura, radiação ultravioleta, infravermelho e até radar da superfície terrestre.

As imagens de satélite têm uma ampla variedade de usos, tais como cartografia, inteligência militar, meteorologia, gestão de recursos naturais, mapeamentos temáticos, gestão ambiental, detecção de desastres naturais e desmatamentos florestais, previsões de safras, cadastro de imóveis, agricultura de precisão, dentre outras.

O monitoramento do desmatamento no Brasil é feito por meio de imagens de satélites. GPS, teodolito, pluviômetro e barômetro não fornecem imagens da superfície terrestre.

O GPS, Sistema de Posicionamento Global, é um sistema de navegação por satélite que fornece a um aparelho receptor móvel a sua posição.

O teodolito é um instrumento de precisão óptico que mede ângulos verticais e horizontais, aplicado em diversos setores como na construção civil e na agricultura.

O pluviômetro é um aparelho de meteorologia usado para recolher e medir, em milímetros lineares, a quantidade de líquidos ou sólidos precipitados durante um determinado tempo e local. É muito usado em estações meteorológicas.

O barômetro é um instrumento utilizado para medir a pressão atmosférica, sendo muito utilizado em estações meteorológicas e na área da meteorologia.

Gabarito: A

12. (PM-PI/NUCEPE/2022 – SOLDADO) “A Amazônia perdeu em abril [de 2021] 581 quilômetros quadrados de sua cobertura vegetal (43% acima dos valores desmatados em 2020), o maior índice de desmatamento no mês de abril desde 2016, quando foram destruídos 440 quilômetros quadrados, de acordo com medições do Instituto Nacional de Pesquisas Espaciais (Inpe). A área devastada nesse mês equivale a, aproximadamente, 69 estádios de futebol.”

OLIVEIRA, Joana. Desmatamento na Amazônia no mês de abril é o maior em seis anos, aponta Inpe. El País, 7 de maio de 2021. Disponível em: <https://brasil.elpais.com/brasil/2021-05-07/desmatamento-na-amazonia-no-mes-de-abrile-o-maior-em-seis-anos-aponta-inpe.html>

Sobre as consequências do acentuado desmatamento da Amazônia, é CORRETO afirmar que

a) o desmatamento afeta as chuvas nas regiões Sul e Sudeste do Brasil, pois interfere no fluxo de umidade dos chamados rios aéreos, tendo impacto sobre reservatórios de hidrelétricas nessas regiões do país.

b) o impacto do desmatamento sobre a fauna é insignificante, considerando que os animais migram para outras áreas.

c) apesar dos impactos ambientais, não há impactos sociais relacionados ao desmatamento.

d) o principal causador do desmatamento na Amazônia é o processo de expansão do parque industrial na região.



e) o crescimento no desmatamento da Amazônia não gera repercussões nas relações econômicas e geopolíticas do Brasil no plano internacional.

COMENTÁRIOS:

a) Correto. O desmatamento reduz os serviços hidrológicos providenciados pelas árvores, que são fundamentais. No Brasil, uma parte do vapor d'água que emana das florestas amazônicas é transportada pelo vento até as regiões do Centro-Sul; são os chamados "rios voadores". Com o desmatamento, esse fluxo é reduzido, impactando negativamente nas chuvas da região Amazônica e Centro-Sul. Com a redução da pluviosidade, reduzem-se os níveis de água nos reservatórios de hidrelétricas, impactando a produção de energia. As consequências da diminuição das chuvas também são sentidas pelo setor agrícola, que sofre com as estiagens e, conseqüentemente, com a redução de sua produção.

b) Incorreto. O impacto do desmatamento sobre a fauna não é insignificante. Com a remoção da vegetação, espécies da fauna e da flora perdem seu habitat, dessa forma, seus meios de sobrevivência ficam comprometidos. O desmatamento provoca uma grande perda de biodiversidade, impactando diretamente a elevação do número de espécies em extinção e até mesmo na efetiva extinção de espécies. Na Amazônia, que tem uma das maiores biodiversidades do mundo, isso é ainda mais grave, pois há inúmeras espécies que ainda não são conhecidas pelo ser humano e podem ser extintas antes mesmo de serem conhecidas.

c) Incorreto. O desmatamento causa uma série de impactos sociais, tanto em escala regional quanto em escala global.

Resumidamente, em escala regional, o desmatamento está relacionado ao aumento de conflitos pela terra, ao genocídio dos povos indígenas, ao aumento de doenças e à questão econômica, uma vez que, com a redução das florestas, as pessoas têm menos possibilidade de usufruir os benefícios dos recursos naturais que esses ecossistemas oferecem, sobretudo, aos povos que sobrevivem da floresta. Também se relaciona com os impactos sociais mencionados no comentário da alternativa "A".

Já em escala global, o desmatamento se relaciona ao processo de mudança climática, que tem ocasionado uma série de problemas ambientais, tais como aumento do nível dos mares, dos períodos de estiagem, da intensidade de furacões, de tufões, de tsunamis, dentre outros. Todos esses fenômenos climáticos podem causar impactos sociais às populações atingidas.

d) Incorreto. O principal causador do desmatamento na Amazônia é a conversão de áreas florestais para atividades agropecuárias, ou seja, é o processo de expansão das atividades agropecuárias.

e) Incorreto. O crescimento do desmatamento da Amazônia tem gerado repercussões negativas nas relações econômicas e geopolíticas do Brasil no plano internacional. As grandes proporções de áreas florestais desmatadas no período recente no Brasil não têm sido bem vistas no plano internacional, o que acaba influenciando a imagem do Brasil no exterior e impactando a economia, uma vez que, eventualmente, países decidem parar de importar nossos produtos por conta da destruição da floresta amazônica.

Gabarito: A

13. (QUADRIX/CFT/2021 – ASSISTENTE ADMINISTRATIVO) Em 2020, apesar de os focos de incêndio na Amazônia terem sido os maiores dos últimos dez anos, como o bioma vizinho, Pantanal, foi poupado, o ecossistema amazônico deve se regenerar em um período de dois anos.



COMENTÁRIOS:

A primeira parte da questão está correta: em 2020, os focos de incêndio na Amazônia foram os maiores dos últimos 10 anos.

O bioma vizinho, Pantanal, não foi poupado, mas teve grandes focos de queimadas e desmatamento. Também é uma área visada para expansão de empreendimentos agropecuários, que se situa na “fronteira” da Amazônia, por isso, é foco de incêndios.

Para se regenerar, a parte degradada do ecossistema amazônico levará anos. Isso se as queimadas deixarem de ocorrer, o que parece improvável no cenário atual.

Gabarito: Errado

(QUADRIX/CFT/2021 – JORNALISTA) Acerca do desenvolvimento sustentável e da ecologia nos ambientes florestados do Brasil, julgue os itens a seguir.

14. A maior ameaça ambiental sofrida pelo ecossistema amazônico está ligada à derrubada da cobertura vegetal original por pastagens, monoculturas agrícolas, mineração e queimadas.

COMENTÁRIOS:

A maior ameaça ambiental sofrida pelo ecossistema amazônico é o desmatamento, isto é, a derrubada de sua cobertura vegetal. Por sua vez, o desmatamento ocorre para dar espaço a pastagens, a monoculturas agrícolas, à implementação de projetos de mineração e também à construção de hidrelétricas, que não foi mencionada pela questão, mas não a torna errada. As queimadas são um dos métodos mais utilizados para realizar o desmatamento.

Gabarito: Certo

15. As queimadas dos dois últimos anos na Amazônia e no Pantanal causaram falta de subsistência para parte das populações urbanas e rurais das regiões Norte e Centro-Oeste do Brasil.

COMENTÁRIOS:

A questão se refere às queimadas ocorridas em 2019 e 2020, mas pode também ser aplicada às queimadas ocorridas nos anos subsequentes. Não há registros de que as queimadas causaram falta de subsistência para populações rurais, se há, são inexpressivos. Porém, a questão tem um erro bem visível. A subsistência das populações urbanas (das cidades) não foi afetada pelas queimadas, que ocorrem em áreas de vegetação natural (florestas), onde não há cultivos agrícolas ou para “limpar” o terreno para novos plantios agrícolas. Os impactos das queimadas, como a poluição do ar, embora sejam danosos à saúde e afetem a estabilidade climática, também não causaram a falta de subsistência.

Gabarito: Errado

16. Os impactos ambientais decorrentes do desmatamento, além de prejudicarem o ecossistema, danificam a imagem do Brasil no exterior, a ponto de países como Alemanha e Noruega bloquearem recursos destinados a projetos de preservação ambiental da Amazônia brasileira.



COMENTÁRIOS:

Os grandes desmatamentos, como os que têm ocorrido no Brasil, prejudicam a imagem do país no exterior. Não é algo novo, há décadas que são direcionadas críticas pelo desmatamento da floresta Amazônica. Em um mundo com uma consciência ambiental crescente, a postura negligente do Brasil no combate ao desmatamento intensifica as críticas de chefes de estado, de organismos internacionais e de ativistas. Uma das consequências dessa postura é o bloqueio de recursos destinados à preservação da floresta, como os repasses da Noruega e da Alemanha para o Fundo Amazônia.

Esse fundo é um mecanismo de financiamento criado para arrecadar recursos – nacional e internacionalmente – que são investidos, majoritariamente (80% do total), em ações de prevenção, monitoramento e combate ao desmatamento na Amazônia, além de ações de conservação e do uso sustentável do bioma.

Gabarito: Certo

17. (QUADRIX/CREFONO 4ª REGIÃO/2021 – ASSISTENTE ADMINISTRATIVO) Por ser a maior floresta tropical do Planeta, a Amazônia chamou a atenção do mundo pela dimensão das queimadas nela ocorridas em 2020.

COMENTÁRIOS:

A Amazônia é a maior floresta tropical do planeta Terra. Grandes queimadas ocorreram ao longo dos anos de 2019 e 2020, chamando atenção do mundo e ganhando forte repercussão internacional.

O assunto foi divulgado em alguns dos principais veículos de comunicação do mundo, como o *The New York Times*, *The Guardian*, *Financial Times*, entre outros, com posições contrárias aos grandes incêndios que ocorreram na floresta. Líderes políticos, como o presidente francês, Emmanuel Macron, também criticaram os incêndios.

Gabarito: Certo

(CEBRASPE/CBM-AL/2021 – SOLDADO) Segundo o IMAZON, em abril de 2021, a Amazônia teve o maior registro de desmatamento para esse mês em uma década. 778 km² de floresta foram devastados, o que representa um aumento de 45% em relação a abril de 2020.

Internet: (com adaptações).

Com relação à Amazônia e aos possíveis desdobramentos da dinâmica econômica e ambiental desse bioma, julgue os itens a seguir.

18. Os recordes de desmatamento que a Amazônia registrou no último ano devem-se estritamente a duas atividades econômicas: a pecuária extensiva em latifúndios do estado do Amazonas e a mineração em terras indígenas do estado de Roraima.

COMENTÁRIOS:



O desmatamento em si, o corte de árvores para a venda de madeira, a pecuária extensiva e a agricultura são os principais causadores do desmatamento na Amazônia. A mineração gera desmatamento, mas o seu impacto no corte da floresta é pequeno, mesmo a mineração ilegal.

Os maiores desmatamentos estão nos estados do Mato Grosso e Pará. No geral, esses dois estados aparecem à frente dos demais nos relatórios anuais de monitoramento do corte da floresta. O Amazonas é um estado onde a floresta é bastante preservada, embora esteja crescendo o desmatamento no Sul do estado, próximo aos estados de Rondônia e do Pará.

Gabarito: Errado

19. O desmatamento da Amazônia, assim como as queimadas no Pantanal, preocupa parte da sociedade, ambientalistas e especialistas, pois esses ecossistemas são alguns dos ambientes de fauna e flora com a maior biodiversidade do país.

COMENTÁRIOS:

A Amazônia e o Pantanal são dois dos ecossistemas de maior biodiversidade do país, isto é, maior riqueza de espécies da fauna e da flora.

O desmatamento e as queimadas, ao destruírem com os ecossistemas, também impactam a sua biodiversidade. Isso preocupa parte da sociedade, ambientalistas e especialistas.

Gabarito: Certo

20. A Amazônia encontra-se em uma região de grande potencial hidráulico do Brasil onde foram feitos investimentos bilionários para a construção das hidrelétricas de Belo Monte, Jirau e Santo Antônio.

COMENTÁRIOS:

O fato de a Amazônia apresentar a mais densa e extensa rede hidrográfica do mundo faz com que a região apresente um grande potencial para geração de energia hidráulica. A bacia amazônica dispõe do maior potencial para a geração de energia elétrica não instalado do Brasil. Há vários projetos para a construção de grandes hidrelétricas que geram muitas polêmicas ambientais. Na Amazônia, foram feitos investimentos bilionários para a construção das hidrelétricas de Belo Monte, no Rio Xingu, Jirau e Santo Antônio, ambas no Rio Madeira.

Gabarito: Certo

21. Quanto maior for a retirada da cobertura vegetal, menor será a erosão e o empobrecimento do solo e da biodiversidade fluvial, devido à concentração dos restos orgânicos trazidos pela enxurrada e depositados no curso dos rios, o que é um dos maiores problemas ambientais do Brasil na atualidade, com aumento do desmatamento.

COMENTÁRIOS:



Quanto maior for a retirada da cobertura vegetal, maior será a erosão e, conseqüentemente, o empobrecimento do solo. A vegetação, por meio de suas raízes, ajuda a fixar o solo e protegê-lo do impacto das águas das chuvas, aumentando também a infiltração da água no solo.

O desmatamento para a implementação de projetos agrícolas é a principal causa da erosão dos solos no país. A erosão e o empobrecimento dos solos são dois importantes problemas ambientais do Brasil na atualidade.

Gabarito: Errado

22. Em razão do aumento do desmatamento, o Brasil deixa de receber recursos financeiros internacionais destinados à preservação ambiental.

COMENTÁRIOS:

Em razão do aumento do desmatamento, o Brasil deixa de receber recursos financeiros internacionais destinados à preservação ambiental. Como exemplo, podemos citar a suspensão de repasses de recursos pela Alemanha e a Noruega para o Fundo Amazônia no ano de 2019.

Gabarito: Certo

23. (CESGRANRIO/BASA/2021 – TÉCNICO CIENTÍFICO) As mudanças climáticas geram uma série de impactos em nossas vidas. Projeções apontam conseqüências como aumento de temperatura, redução de chuvas e, conseqüentemente, períodos mais secos em algumas regiões, incluindo a América do Sul. O Brasil está em chamas, e isso não é uma figura de linguagem. A destruição ambiental não respeita fronteiras nem biomas, e o País enfrenta hoje uma das piores crises ambientais de sua história, com conseqüências potencialmente danosas para toda a sociedade.

Disponível em: <<https://www.greenpeace.org/brasil/blog/brasil--em-chamas-negando-as-aparencias-e-disfarcando-as-evidencias/>>. Acesso em: 31 jan. 2021. Adaptado.

A respeito da crise ambiental no Brasil, os biomas da Amazônia, do Pantanal e do Cerrado foram severamente afetados em 2020 devido ao seguinte fator principal:

- (A) aumento da densidade demográfica nas áreas rurais
- (B) incêndios expansivos provocados pela ação humana
- (C) redução exponencial da área de pastagens plantadas
- (D) municipalização das ações de fiscalização nos biomas
- (E) diminuição do tráfego nos eixos rodoviários e ferroviários

COMENTÁRIOS:

Em 2020, incêndios de grandes proporções ocorreram nos biomas da Amazônia, do Pantanal e do Cerrado, mas, principalmente, na Amazônia. Foram tantos focos de queimadas que este se tornou um dos principais



debates ambientais internacionais na época, sobretudo, com as críticas feitas pelo presidente francês, Emmanuel Macron, ao governo brasileiro, para que adotasse medidas efetivas de controle das queimadas.

As queimadas na Amazônia são, em grande parte, causadas pelo ser humano, para limpar o terreno visando à implementação de projetos agropecuários.

Gabarito: B

24. (IBADE/IDAF-AC/2020 – TÉCNICO EM DEFESA AGROPECUÁRIA E FLORESTAL) As declarações do presidente brasileiro, Jair Bolsonaro, sobre a crise na Amazônia continuam tendo desdobramentos importantes na Europa nesta sexta-feira (23/08/2019). O escritório do presidente (...) Emmanuel Macron, acusou Bolsonaro de ter mentido durante o encontro do G20 em Osaka, no Japão, em junho ao minimizar as preocupações com o a mudança climática.

(G1, 23/08/2019. Disponível em: <<https://glo.bo/36XVqJa>>. Adaptado)

A matéria trata do impasse diplomático entre Jair Bolsonaro e Emmanuel Macron, presidente da:

- (A) Itália.
- (B) Alemanha.
- (C) França.
- (D) Inglaterra.
- (E) Dinamarca

COMENTÁRIOS:

O presidente brasileiro, Jair Bolsonaro, e o presidente da França, Emmanuel Macron, tiveram um encontro "informal" na reunião do G-20, de junho de 2019, em Osaka, no Japão. No encontro, o brasileiro reafirmou seu compromisso com o Acordo do Clima Paris sobre o aquecimento global.

A intensidade das queimadas na Amazônia aumentou muito em agosto de 2019, o que é prejudicial no enfrentamento do aquecimento global. Neste contexto, Macron acusou Bolsonaro de ter mentido para ele no encontro que tiveram na Cúpula de G20 em Osaka, ao minimizar preocupações com a mudança climática.

Em função disso, a França informou que se oporia ao acordo comercial entre a União Europeia e o Mercosul.

Gabarito: C

25. (IBADE/IDAF-AC/2020 – ENGENHEIRO AGRÔNOMO) As queimadas na Amazônia têm relação direta com o desmatamento. Especialistas comentaram ao G1 que o fogo é parte da estratégia de "limpeza" do solo que foi desmatado para posteriormente ser usado na pecuária ou no plantio.

(G1, 23/08/2019. Disponível em: <<https://glo.bo/2H0W1zd>>. Adaptado)



Esta estratégia de “limpeza” do solo na Amazônia é comumente chamada de?

- (A) Ciclo de reciclagem da Amazônia
- (B) Ciclo de ocupação da Amazônia
- (C) Ciclo de desmatamento da Amazônia
- (D) Ciclo de devastação da Amazônia
- (E) Ciclo de desflorestação Amazônia

COMENTÁRIOS:

Essa estratégia de “limpeza” do solo na Amazônia é comumente chamada de ciclo de desmatamento da Amazônia.

As queimadas são um método arcaico, porém, comum, de “limpar” a terra para ser posteriormente utilizada para o cultivo agrícola ou para a pecuária. Apesar de ser muito praticada na Amazônia, as queimadas também são vastamente empregadas na África e na América Latina. A prática de atear fogo à mata leva ao esgotamento precoce do solo, além de impactar negativamente o ecossistema existente na região.

Gabarito: C

26. (QUADRIX/CRN 9/2019 – AUXILIAR OPERACIONAL) A União Europeia é o segundo maior comprador do agronegócio brasileiro, tendo sido o destino de 17,6% das exportações do setor neste ano, que geraram US\$ 9,9 bilhões até julho, ficando atrás apenas da China.

Internet: <<https://g1.globo.com>> (com adaptações).

Tendo o texto acima apenas como referência inicial, julgue o item.

Atritos entre o governo brasileiro e países da Europa aumentaram o temor, entre os representantes do agronegócio nacional, de possíveis retaliações por parte daqueles países às queimadas na Amazônia.

COMENTÁRIOS:

No mês de agosto de 2019, um forte aumento no foco de queimadas na Amazônia gerou grande repercussão nacional e internacional. Focos de incêndio florestal cresceram em 84% no Brasil em 2019, segundo dados do INPE.

Em reação às queimadas na Amazônia, o presidente francês Emmanuel Macron se manifestou e convocou os países do G7 a discutirem o tema. Jair Bolsonaro respondeu ao presidente francês, e os dois líderes executivos trocaram farpas com acusações em suas entrevistas e em suas redes sociais. A chanceler alemã, Angela Merkel, também esteve envolvida nas discussões.



A polêmica entre o presidente brasileiro e os líderes europeus gerou o temor de possíveis retaliações de países europeus a produtos do agronegócio brasileiro, já que a agropecuária é uma das principais responsáveis pelas queimadas da Amazônia para a incorporação de novas terras para a produção.

Gabarito: Certo

(QUADRIX/CRO-AC/2019 - ASSISTENTE JURÍDICO) O ministro da Cooperação Econômica e do Desenvolvimento da Alemanha, Gerd Müller, se reuniu, no dia 9 de julho de 2019, às 15h30, com o ministro do Meio Ambiente do Brasil, Ricardo Salles. De acordo com a embaixada da Alemanha, os ministros falaram sobre proteção climática, proteção da Amazônia e desenvolvimento sustentável.

Internet: <<https://g1.globo.com>> (com adaptações).

Tendo o texto acima apenas como referência inicial e refletindo sobre temas correlatos, julgue os itens.

27. Não participando, até o momento, do Fundo Amazônia, a Alemanha havia mencionado a possibilidade de fazer aportes àquele instituto caso o desmatamento na região se reduza nos próximos anos.

COMENTÁRIOS:

A Alemanha é a segunda maior doadora de recursos para o Fundo Amazônia, atrás da Noruega. Frente ao aumento do desmatamento na Amazônia no ano de 2019 em comparação com o ano de 2018, a Alemanha cortou, no mês de agosto, os repasses que faria a outros projetos ambientais apoiados pelo país no Brasil.

No período da aplicação desta prova, não estava previsto nenhuma nova doação alemã, que também não mencionou a possibilidade de fazer novos aportes ao Fundo caso o desmatamento na região se reduza nos próximos anos.

Gabarito: Errado

28. O Brasil tem encontrado na França um aliado de suas políticas ambientais, sendo aquele país um dos maiores defensores também do acordo União Europeia-Mercosul.

COMENTÁRIOS:

Brasil e França tem tido relações divergentes e conturbadas nos últimos meses no que tange à questão ambiental. O presidente francês Emmanuel Macron tem criticado Jair Bolsonaro frente o aumento do desmate na Amazônia e às posições políticas do presidente, que tem respondido ao presidente francês. Em meio a essas divergências, Emmanuel Macron disse se opor ao acordo comercial entre o Mercosul e a União Europeia.

Gabarito: Errado



QUESTÕES COMENTADAS – A QUESTÃO HÍDRICA - MULTIBANCAS

(QUADRIX/CFT/2021 – ASSISTENTE ADMINISTRATIVO) Os danos ambientais e a mudança do clima estão levando a crises relacionadas aos recursos hídricos, que podem ser percebidas em todo o mundo. As inundações, as secas e a poluição da água tornam-se ainda piores pela degradação da vegetação, do solo, dos rios e dos lagos. Quando se vira as costas aos ecossistemas, impede-se que todos recebam água limpa para sobreviver e prosperar.

Internet: <<https://pt.unesco.org>> (com adaptações).

Tendo o texto acima como referência inicial, julgue os itens a seguir, com relação aos recursos hídricos.

1. O texto indica que os problemas associados aos recursos hídricos são de cunho natural, em que a atuação do homem é completamente inexpressiva.

COMENTÁRIOS:

O texto indica que os problemas associados aos recursos hídricos são de cunho antrópico, isto é, **causados pela ação humana**. O seguinte trecho expõe essa visão:

“Os danos ambientais e a mudança do clima estão levando a crises relacionadas aos recursos hídricos[...].”

Os danos ambientais e a mudança do clima são causados pelo ser humano, logo, não são de cunho natural e, por sua vez, estão contribuindo para diversas crises, como as relacionadas aos recursos hídricos.

Embora o meio ambiente tenha, naturalmente, períodos mais secos e períodos mais úmidos, períodos mais quentes e períodos mais frios, a mudança do clima vivenciada na atualidade é causada pelo ser humano, relacionada, sobretudo, à emissão de carbono na atmosfera.

Gabarito: Errado

2. A escassez hídrica em países situados em desertos quentes, como Israel, impede a produção agrícola, cuja colheita é totalmente dependente de irrigação.

COMENTÁRIOS:

É claro que a escassez hídrica em países situados em desertos - ambientes que são, naturalmente, quentes e secos - dificulta a produção agrícola, mas não a impede. Muitas tecnologias foram têm sido desenvolvidas para cultivar alimentos em ambientes desérticos, como a irrigação, a dessalinização de águas e transposição de águas distantes.

Israel é um país rico, desenvolvido e que não enfrenta problemas em sua produção agrícola, justamente por ter elaborado modernas técnicas agrícolas. Em países mais pobres, com menos disponibilidade tecnológica, certamente a produção agrícola é dificultada, o que não é o caso de Israel.



Gabarito: Errado

3. Apesar de o Brasil deter a maior parte da água doce do Planeta, uma parcela significativa da população não possui acesso à água potável e ao esgoto encanado.

COMENTÁRIOS:

Com 12% do total, o Brasil é o país com a maior quantidade de água doce disponível na superfície da Terra. Não obstante a isso, uma parcela significativa da população brasileira não tem acesso à água potável e ao esgoto encanado.

Segundo dados do Sistema Nacional de Informações sobre Saneamento (SNIS), em 2018, mais de 16% da população, ou quase 35 milhões de pessoas, não tinham acesso à água tratada.

Além disso, quase metade da população do Brasil não tinha acesso a sistemas de esgotamento sanitário, o que representa quase 100 milhões de pessoas ou 47% dos brasileiros.

Gabarito: Certo

4. As campanhas para que a população economize água são o caminho para a solução das crises relacionadas aos recursos hídricos, pois o maior desperdício de água está concentrado nas residências urbanas.

COMENTÁRIOS:

O setor que mais consome água no Brasil é a agricultura, especialmente a agricultura irrigada, logo, é o setor que mais desperdiça água. Com relação ao uso de água pelo setor urbano, o maior desperdício está nas perdas na rede de distribuição ocasionadas por vazamentos e rompimentos. As campanhas para que a população economize água são importantes, mas não são as únicas, nem a solução para as crises relacionadas aos recursos hídricos. É importante que o cidadão faça sua parte, porém, somente isso não resolverá o problema, que é muito mais complexo.

A maior economia de água tem que ser do setor que mais desperdiça o líquido, a agricultura. Crises hídricas poderão também ocorrer com maior frequência e intensidade devido às mudanças climáticas. A solução, nesse caso, passa por minimizar ao máximo o aquecimento global e mitigar as consequências das mudanças climáticas.

Gabarito: Errado

5. (CEBRASPE/FUB/2018 – CARGOS DE NÍVEL MÉDIO) O projeto de transposição do rio São Francisco é uma política pública que objetiva gerar mais energia hidráulica para o produtor rural do sertão nordestino.

COMENTÁRIOS:

A transposição do rio São Francisco não objetiva gerar mais energia hidráulica para o produtor rural do sertão nordestino. O objetivo da transposição é levar água para regiões do sertão nordestino, com vistas ao atendimento do abastecimento humano e na agropecuária (irrigação e dessedentação de animais).



Gabarito: Errado

6. (CESGRANRIO/LIQUIGÁS/2018 - PROFISSIONAL JÚNIOR CIÊNCIAS CONTÁBEIS) A água é um paradoxo brasileiro. Temos as maiores reservas de água doce do mundo (12,8%), mas a maior parte está na região amazônica fora do alcance da maioria da população. A ilusão de abundância gerou um cenário de desperdício e a crença de que a água nunca iria faltar. As chuvas causam catástrofes imediatas, mas a seca é o principal desastre natural do Brasil. Hoje vivemos num cenário de crise hídrica recente ou em curso no semiárido, no Distrito Federal, no Sistema Cantareira (SP) e em Paraíba do Sul (RJ).

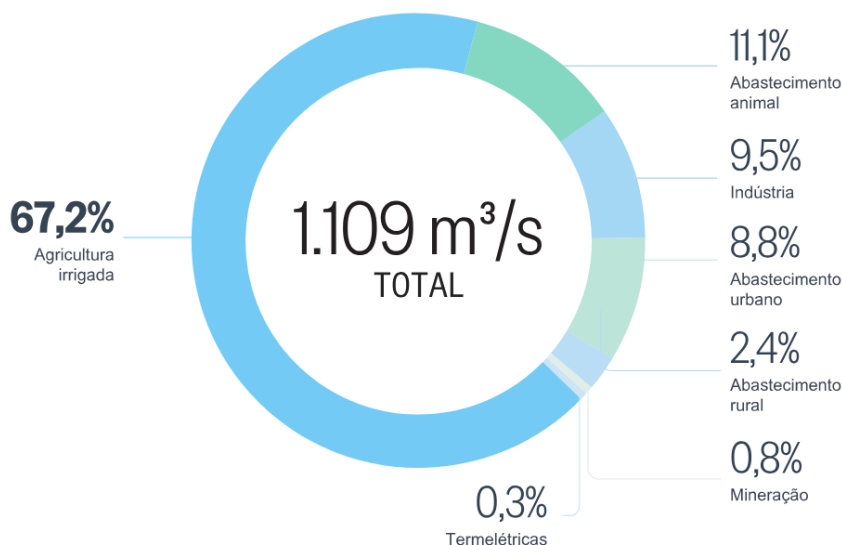
Disponível em: <https://infograficos.oglobo.globo.com/brasil/brasil-sem-agua-o-seculo-da-escassez.html>. Acesso em: 22 mar. 2018. Adaptado.

Além dos desastres naturais, o consumo descontrolado também contribui para a redução da disponibilidade de água. Qual fator econômico é responsável, no Brasil e no mundo, pela maior fatia de consumo desse recurso?

- a) Indústrias
- b) Termelétricas
- c) Abastecimento urbano
- d) Abastecimento animal
- e) Irrigação na agricultura

COMENTÁRIOS:

No Brasil e no mundo, a agricultura irrigada é o segmento responsável pelo maior consumo de água. Se somarmos com o abastecimento animal, a agropecuária responde por quase 70% de toda a água consumida no Brasil e no mundo. Veja, no gráfico abaixo, os setores que mais consomem água no país:



Gabarito: E

7. (FGV/COMPESA/2018 – ANALISTA DE GESTÃO) O Projeto da Integração do Rio São Francisco com as bacias hidrográficas do Nordeste é uma ação do governo federal que integra a política nacional para os recursos hídricos, visando solucionar o problema da seca que acomete a região do semiárido brasileiro. A respeito dos impactos desse projeto, analise as afirmativas a seguir.

I. Entre as regiões beneficiadas pelos dois eixos da transposição do rio São Francisco estão o sertão do Ceará, do Piauí e do Maranhão, ao norte, e o agreste pernambucano e paraibano, a leste.

II. Entre os impactos positivos esperados constam o aumento da oferta e da garantia hídrica de abastecimento humano e animal para toda a região receptora, e a dinamização da economia regional.

III. Entre os impactos negativos denunciados constam a modificação da composição das comunidades biológicas aquáticas nativas das bacias receptoras e a interferência no patrimônio cultural ribeirinho.

Está correto o que se afirma em

- a) II, somente.
- b) I e II, somente.
- c) I e III, somente.
- d) II e III, somente.
- e) I, II e III.

COMENTÁRIOS:

I - **Incorreto.** Piauí e Maranhão não serão beneficiados pelas águas da transposição do São Francisco. Os estados beneficiados serão Ceará, Pernambuco, Paraíba e Rio Grande do Norte.

II - **Correto.** O aumento da oferta e da garantia hídrica para o abastecimento humano e de suas necessidades básicas é o principal objetivo da obra. A transposição também visa garantir o suprimento de água para a criação de animais. A dinamização da economia é uma consequência óbvia. Com maior disponibilidade hídrica, as atividades econômicas atuais podem ser estimuladas e mais atividades econômicas podem ser desenvolvidas na região.

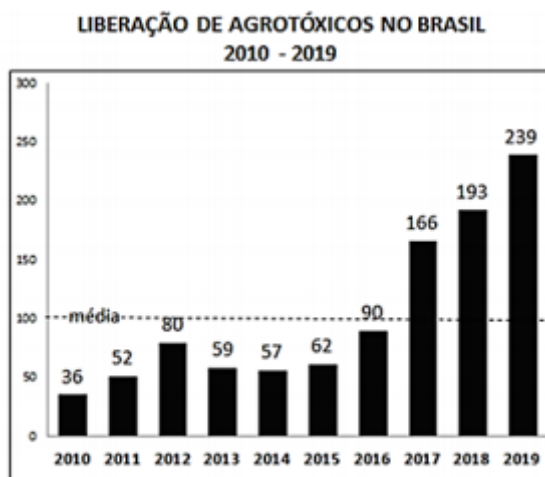
III - **Correto.** Para a transposição se concretizar, muitas famílias rurais, e aproximadamente de 33 tribos indígenas, sobretudo das etnias Truká e Pipipã, precisarão deixar suas terras. Estima-se que cerca de 8 mil índios serão impactados diretamente. Além disso, há outros impactos negativos, como a perda de áreas de vegetação, redução de habitats da fauna terrestre, redução da biodiversidade, alteração da qualidade da água, perda de diversidade entre os peixes e a proliferação de uma espécie nociva ao homem: a piranha. Esses impactos estão todos listados no Relatório de Impacto Ambiental (RIMA) realizado pelo Ibama. Segundo esse documento, há mais impactos ambientais negativos do que positivos na obra.

Gabarito: D



QUESTÕES COMENTADAS – AGROTÓXICOS - MULTIBANCAS

1. (IBADE/PREFEITURA DE VILA VELHA/2020 – ANALISTA AMBIENTAL) A ANVISA aprovou em 2019 o novo marco regulatório para agrotóxicos. Dos 2.300 agrotóxicos registrados no Brasil, a ANVISA já recebeu dados para reclassificação de 1.981 produtos. Em 2017, 2018 e 2019 houve aumento, acima da média (entre 2010 e 2019) na liberação de agrotóxicos no Brasil.



Fonte: Greenpeace Brasil 25 de junho de 2019

Agrotóxicos são produtos e agentes de processos físicos, químicos ou biológicos. Sobre os agrotóxicos no Brasil é correto afirmar que:

I - são destinados ao uso nos setores de produção, no armazenamento e beneficiamento de produtos agrícolas, nas pastagens, na proteção de florestas, nativas ou plantadas, e de outros ecossistemas e de ambientes urbanos, hídricos e industriais.

II - tem a finalidade de alterar a composição da flora ou da fauna, a fim de preservá-las da ação danosa de seres vivos considerados nocivos, bem como as substâncias e produtos empregados como desfolhantes, dessecantes, estimuladores e inibidores de crescimento.

III - sua avaliação de risco, por análise sistematizada, é realizada pelo Ministério de Minas e Energia e pelo Ministério da Agricultura, Pecuária e Abastecimento sob a supervisão do Gabinete de Segurança Institucional da Presidência da República.

Está (ão) correta(s):

(A) somente I.

(B) somente II.

(C) somente III.

(D) somente I e II.



(E) somente II e III.

COMENTÁRIOS:

I - Correta. Segundo a legislação vigente, agrotóxicos são produtos e agentes de processos físicos, químicos ou biológicos, utilizados nos setores de produção, armazenamento e beneficiamento de produtos agrícolas, pastagens, proteção de florestas, nativas ou plantadas, e de outros ecossistemas e de ambientes urbanos, hídricos e industriais.

II - Correta. O agrotóxico visa alterar a composição da flora ou da fauna, a fim de preservá-las da ação danosa de seres vivos considerados nocivos. Também são considerados agrotóxicos as substâncias e produtos empregados como desfolhantes, dessecantes, estimuladores e inibidores de crescimento.

III - Incorreta. A avaliação dos riscos dos agrotóxicos é realizada de forma compartilhada pelos Ministérios da Saúde, do Meio Ambiente e da Agricultura.

Gabarito: D

2. (VUNESP/PREFEITURA DE REGISTRO/2018 – VÁRIOS CARGOS) O projeto de lei que modifica o registro de agrotóxicos foi aprovado em 25 de junho numa comissão da Câmara de Deputados. A discussão se arrasta há meses.

(G1, 1 jul. 18. Disponível em: < <https://goo.gl/tFztEs>>. Adaptado)

Entre as alterações propostas no projeto, é correto identificar

- a) a restrição à presença de substâncias cancerígenas nos agrotóxicos.
- b) a ampliação de órgãos e ministérios que devem aprovar novos produtos.
- c) a submissão de novos agrotóxicos a rigorosos testes de resíduos ambientais.
- d) o número limite de agrotóxicos que podem ser utilizados nas áreas rurais do país.
- e) a redução do prazo máximo para a aprovação de um novo agrotóxico.

COMENTÁRIOS:

Conhecida também como "PL do Veneno", o projeto de lei prevê algumas mudanças significativas na legislação de agrotóxicos, sendo a principal delas a que trata dos trâmites para a liberação do uso de agrotóxicos.

Atualmente, funciona da seguinte maneira: para que possa ser usada no Brasil, uma nova substância precisa ser avaliada pelo Ministério da Agricultura, pelo Ibama, vinculado ao Ministério do Meio Ambiente, e pela Anvisa, vinculada ao Ministério da Saúde. Esse processo dura de quatro a oito anos, fazendo com que muitas dessas substâncias já estejam obsoletas ao entrar no mercado.



Os defensores da medida argumentam que a nova legislação modernizará e conferirá eficiência ao setor da agricultura, enquanto seus opositores dizem que a liberação de novos agrotóxicos é prejudicial à saúde da população.

Gabarito: E

3. (VUNESP/PC SP/2018 – AGETEL) O Ministério Público Federal (MPF) emitiu um parecer classificando como inconstitucionais as propostas do Projeto de Lei no 6.299/2002, que altera as regras do uso e registro de agrotóxicos no País, e propõe uma série de alterações no setor. As propostas do projeto foram duramente criticadas em notas publicadas pelo Ministério da Saúde, Instituto Brasileiro do Meio Ambiente e dos Recursos Naturais Renováveis (Ibama) e Agência Nacional de Vigilância Sanitária (Anvisa) e, agora, pela 4ª Câmara do Ministério Público Federal.

(<http://sustentabilidade.estadao.com.br>. 07.05.2018. Acesso em 12.05.2018. Adaptado)

Um dos pontos apontados pelos críticos refere-se ao fato de o mencionado Projeto de Lei

- a) aumentar a responsabilização do Ibama e da Anvisa sobre a fiscalização e controle de qualidade dos agrotóxicos produzidos no Brasil.
- b) diminuir a competitividade internacional do agronegócio brasileiro, pela proposição restritiva de uso dos defensivos agrícolas.
- c) criar barreiras à exportação de commodities, pois haverá maior burocratização dos procedimentos para o uso de fitossanitários.
- d) poder abrir brechas para a revogação da proibição do registro de agrotóxicos cancerígenos e causadores de graves problemas de saúde.
- e) dificultar a criação de novos produtos para as atividades agrícolas, uma vez que amplia as exigências formais para sua liberação.

COMENTÁRIOS:

O Projeto de Lei 6.299/2002 foi aprovado em comissão e vai para votação no plenário da Câmara dos Deputados. As propostas do projeto foram duramente criticadas em notas publicadas pelo Ministério da Saúde, Instituto Brasileiro de Meio Ambiente e Agência Nacional de Vigilância Sanitária e pela 4ª Câmara do Ministério Público Federal (MPF).

Todos sustentam que texto abre brechas para que possam ser usados no País agrotóxicos com risco de provocar câncer, malformações em fetos e mutações. Hoje o registro de tais produtos é proibido.

O coordenador do Grupo de Trabalho de Agrotóxicos e Transgênicos do MPF, Marco Antônio Delfino, afirma que o texto que altera as regras atuais de agrotóxicos não teve o debate necessário e traz riscos de retrocesso à saúde e ao meio ambiente.

Entre as mudanças previstas pela proposta está a redução do papel da Anvisa e do Ibama no processo da concessão e renovação de registro de agrotóxicos. Hoje, a decisão é tomada em comum acordo entre Anvisa,



Ibama e Ministério da Agricultura. Pela proposta, a atribuição seria exclusiva da Agricultura. Ibama e Anvisa atuariam apenas como consultores.

O projeto também permite registros e autorizações temporárias, desde que o produto esteja registrado em três países da Organização para Cooperação e Desenvolvimento Econômico (OCDE).

A proposta permite ainda o registro temporário compulsório, todas as vezes em que houver demora na avaliação do pedido. “Em outros termos, uma substância carcinogênica, teratogênica ou mutagênica poderá obter o registro ou autorização temporária”, afirma o texto do MPF.

Para defensores do projeto, as mudanças trarão mais rapidez e reduzirão a burocracia na avaliação de registros de produtos, o que tornará o País mais competitivo no mercado internacional.

Gabarito: D



QUESTÕES COMENTADAS – A QUESTÃO INDÍGENA – MULTIBANCAS

1. (CEBRASPE/TJ-SC/2023) O projeto de lei que trata do marco temporal para a demarcação de terras indígenas no Brasil, tem como principal objeto

- a) a expansão de atividades econômicas das terras indígenas em áreas de preservação permanente para a defesa da conservação ambiental.
- b) a ampliação das terras indígenas Xokleng, do interior da floresta amazônica para o cerrado.
- c) a determinação da reserva Raposa-Serra do Sol, em Brasília, para que a terra seja expropriada e destinada à atividade pastoril.
- d) a proteção da terra indígena Ibirama-Laklãnõ, para que seu território seja incorporado ao mercado imobiliário.
- e) a disposição de indígenas em terras que ocupavam ou disputavam em 5 de outubro de 1988, data da promulgação da Constituição Federal de 1988.

COMENTÁRIOS:

O marco temporal é uma tese que estabelece que apenas as terras que estavam ocupadas pelos povos indígenas em 5 de outubro de 1988, data da promulgação da Constituição Federal brasileira, podem ser reconhecidas como terras indígenas. Isso significa que as comunidades indígenas que perderam as suas terras antes dessa data, devido a processos históricos de colonização, de exploração ou de deslocamento forçado, não teriam direito ao reconhecimento de seus territórios ancestrais.

O marco temporal tem sido objeto de debate e de contestação por parte de movimentos indígenas e organizações de direitos humanos, que argumentam que essa diretriz viola os direitos constitucionais dos povos indígenas e perpetua injustiças históricas. Eles afirmam que as comunidades indígenas têm direito à posse e à proteção de suas terras tradicionais, independentemente de quando essas terras foram ocupadas ou reivindicadas.

Os indígenas Xokleng habitam Santa Catarina. São resistentes do quase extermínio realizado pelos colonizadores. A tese jurídica do marco temporal em julgamento no STF tem como base a demarcação de uma terra indígena para o povo Xokleng, em Ibirama - SC.

As demais alternativas são invenções do examinador e não descrevem de maneira correta o que é o debate sobre o marco temporal.

Gabarito: E

2. (FGV/MPE-SP/2023) Em janeiro de 2023 foi constatada uma grave crise de desassistência sanitária e nutricional em Território Yanomami, o que levou o Ministério da Saúde a declarar um estado de “Emergência em Saúde Pública de Importância Nacional” na região e instituir um centro de operações.





O quadro de desnutrição crônica e de vulnerabilidade sanitária em que se encontram os Yanomami, hoje, está relacionado

- A) às epidemias de gripe e Covid-19, causadas pelo contato com trabalhadores de soja que têm avançado nas terras demarcadas, o que levou ao adoecimento de tribos inteiras.
- B) à contaminação de rios e peixes com mercúrio, em função do garimpo ilegal de ouro, o que provocou insegurança alimentar e mortandade por desnutrição e intoxicação.
- C) à degradação da floresta pelas queimadas em função da abertura de pastos, o que afeta a caça e a disponibilidade de produtos florestais consumidos na reserva indígena.
- D) à falta de unidades básicas de saúde em operação na região dos Yanomami, o que poderia ser resolvido com a demarcação das terras dos grupos indígenas dessa etnia.
- E) ao controle dos rios por criminosos associados às rotas venezuelanas do tráfico de drogas, o que impede aos índios de circular pela floresta e ter acesso aos rios e à alimentação.

COMENTÁRIOS:

No dia 20 de janeiro de 2023, o Ministério da Saúde declarou Emergência em Saúde Pública de Importância Nacional para combate à desassistência sanitária e nutricional dos povos que vivem no território indígena Yanomami, em Roraima.

Dentre as alternativas apresentadas, a alternativa correta é a letra “B”: **à contaminação de rios e peixes com mercúrio, em função do garimpo ilegal de ouro, o que provocou insegurança alimentar e mortandade por desnutrição e intoxicação.**



O garimpo ilegal de ouro e de cassiterita é um problema antigo na terra indígena. Entretanto, cresceu muito nos últimos anos, o que levou a um aumento dos conflitos entre garimpeiros e indígenas, à destruição de florestas e à contaminação do solo e das águas. Além disso, a assistência de saúde pública também foi debilitada no governo do ex-presidente Jair Bolsonaro.

Gabarito: B

3. (FUNDEP/PREFEITURA DE LAVRAS-MG/2023) Em debate há mais de 10 anos no Brasil, há uma tese jurídica que propõe a alteração na política de demarcação de terras indígenas. Tal tese defende que os indígenas só podem reivindicar a demarcação das terras por eles ocupadas até 5/10/1988, data de promulgação da Constituição de 1988.

O texto se refere à(ao):

- A) Fundação Nacional do Índio.
- B) Terra indígena.
- C) Demarcação das terras indígenas.
- D) Marco temporal indígena.

COMENTÁRIOS:

A questão se refere ao conceito de marco temporal indígena. Tramita no STF uma ação que julga se as demarcações de terras indígenas devem seguir o chamado "marco temporal". Por esse critério, os povos indígenas só poderiam reivindicar a demarcação de terras onde já estavam no dia 5 de outubro de 1988, quando entrou em vigor a atual Constituição Brasileira. Os maiores defensores do marco temporal são os ruralistas, pois alegam que isso traria segurança jurídica e limitaria as desapropriações.

Gabarito: D

4. (QUADRIX/CAU-SC/2022 – ASSISTENTE ADMINISTRATIVO) A Organização das Nações Unidas (ONU), indígenas, organizações não governamentais (ONGs) e familiares manifestaram sua indignação sobre o caso, tanto que a ONU pediu ao Brasil para “acrescentar seus esforços para proteger os defensores dos direitos humanos e os povos indígenas” por parte de “atores estatais e não estatais”, disse em Genebra o porta-voz do alto comissariado da ONU para os direitos humanos, Ravina Shamdasani.

Internet: <<https://noticias.uol.com.br>> (com adaptações).

O texto acima refere-se à(ao)

- (A) chacina acontecida com indígenas, no norte da Paraíba, em disputa por território do tráfico de drogas.
- (B) repercussão das ameaças direcionadas a ONGs da Amazônia que defendem direitos humanos e comunidades tradicionais.
- (C) ausência do Estado brasileiro no controle e na demarcação de terras voltadas para a reforma agrária.



(D) assassinato de dois ativistas — um jornalista e um indigenista — no Vale do Javari.

(E) revolta em relação ao desmatamento e às queimadas na Amazônia, que impactam as comunidades tradicionais.

COMENTÁRIOS:

O texto refere-se ao assassinato de dois ativistas — o jornalista britânico Dom Philips e o indigenista Bruno Pereira — no Vale do Javari, em junho de 2022. Essa prova ocorreu algumas semanas após esse fato, o que facilitou a relação entre o texto e a resposta, uma vez que ainda era um fato recente. Contudo, o enunciado traz uma dica, ao falar sobre “*acrescentar esforços para proteger os defensores dos direitos humanos e dos povos indígenas*”. A única alternativa que se relaciona com esse pedido da ONU é o assassinato dos ativistas.

Gabarito: D

(QUADRIX/2022/CRP 11ª REGIÃO-CE – ASSISTENTE ADMINISTRATIVO) Julgue os itens a seguir, relativos a temas atuais do Brasil e do mundo.

5. Apesar de o garimpo ilegal em terras indígenas Yanomami ter decrescido, a violência contra os ativistas ambientais e os povos nativos continua aumentando.

COMENTÁRIOS:

O garimpo ilegal seguiu se expandindo em terras indígenas Yanomami nos anos recentes.

A Hutukara Associação Yanomami, uma ONG de defesa dos povos indígenas Yanomami, divulgou um relatório, em abril de 2022, informando que a atividade de garimpo ilegal nos territórios Yanomami, em Roraima, teve um aumento de 46% em 2021 e que o garimpo na região cresceu 3.350% de 2016 a 2020.

O fim do garimpo ilegal nas terras indígenas é uma das reivindicações frequentes dos povos indígenas.

A violência contra ativistas ambientais no país também continua aumentando. De acordo com dados da ONG Global Witness, o Brasil é o quarto país que mais mata ativistas no mundo. Outro relatório divulgado pela Associação Brasileira de Jornalismo Investigativo (Abraji) indicou que a violência contra jornalistas no país aumentou 248% no período de 2019 a abril de 2022.

No mês de julho de 2022, o assassinato do indigenista brasileiro Bruno Pereira e o jornalista britânico Dom Phillips, durante uma viagem pelo Vale do Javari, no Amazonas, ganhou grande repercussão mundial e trouxe novamente à tona a questão dos crimes contra ativistas e jornalistas ambientais.

Gabarito: Errado

6. As investigações periciais da Polícia Federal apontam para uma grande dificuldade na descoberta dos responsáveis pela morte do indigenista Bruno Pereira e do jornalista Dom Phillips, pois, além de os corpos dos ativistas terem sido carbonizados, ainda não foi encontrada a embarcação na qual eles viajavam antes do seu desaparecimento.

COMENTÁRIOS:



Em 5 de junho de 2022, o indigenista brasileiro Bruno Pereira e o jornalista britânico Dom Phillips foram assassinados durante uma viagem pelo Vale do Javari, segunda maior terra indígena do Brasil, no extremo Oeste do Amazonas.

As investigações da Polícia Federal encontraram suspeitos. Um deles, Amarildo da Costa de Oliveira, confessou o envolvimento nos assassinatos e indicou a localização dos corpos. O irmão de Amarildo, Oseney da Costa de Oliveira, e Jeferson da Silva Lima também foram presos.

Gabarito: Errado

7. (VUNESP/PM-SP/2022 – SOLDADO) Indígenas voltaram a protestar hoje (27.08) contra o marco temporal para demarcação de terras indígenas. O grupo está em Brasília para acompanhar a votação do tema, que chegou a entrar na pauta do Supremo Tribunal Federal (STF) esta semana, e deve ser retomado na quarta-feira (01.09). Durante o julgamento, os ministros poderão discutir a questão do marco temporal.

(Agência Brasil. <https://bit.ly/3cRv68L> .Publicado em 27.08. Acesso em 11.11.2021. Adaptado)

O marco temporal

(A) deve ser proposto pelo Congresso Nacional para ser incorporado à Constituição Federal de 1988.

(B) tem sido discutido por grupos indígenas que se sentem desprotegidos em áreas de fronteiras.

(C) incorpora um conjunto de leis envolvendo conteúdos relacionados à posse de terra e aos assuntos trabalhistas.

(D) impede os indígenas de usar as terras para exploração de madeira e garimpagem.

(E) é defendido por ruralistas que veem a possibilidade de ocupar terras indígenas.

COMENTÁRIOS:

Tramita no Supremo Tribunal Federal (STF) uma ação que julga se as demarcações de terras indígenas devem seguir o chamado "marco temporal".

Por esse critério, povos indígenas só podem reivindicar a demarcação de terras onde já estavam no dia 5 de outubro de 1988, data na qual entrou em vigor a atual Constituição Brasileira.

A decisão pode definir o rumo de mais de 300 processos de demarcação de terras indígenas que estão em aberto no país.

Desde que surgiu, a tese do marco temporal vem sendo sistematicamente criticada pelas populações indígenas e tradicionais.

Os maiores defensores do marco temporal são os ruralistas, com base no argumento de que isso traria segurança jurídica e limitaria as desapropriações.

Gabarito: E



(QUADRIX/CFT/2021 – JORNALISTA) A intensa ocupação da região Amazônica nas últimas décadas e o avanço de atividades ambientalmente degradantes constituem um contexto de vulnerabilidade para esse ecossistema e, conseqüentemente, para os povos indígenas e suas terras. A ação conjunta entre FUNAI e IBAMA já mostrou bons resultados na inibição de infrações ambientais na Amazônia e em terras indígenas no passado. O fortalecimento da vigilância e do combate às ameaças ambientais dentro e no entorno das terras indígenas é essencial para a proteção efetiva desses territórios e para garantir a promoção dos direitos dos povos indígenas da Amazônia.

Internet: <<http://www.ccst.inpe.br>> (com adaptações).

Acerca do desenvolvimento sustentável e da ecologia nos ambientes florestados do Brasil, julgue os itens a seguir.

8. A vulnerabilidade do ecossistema amazônico apontada no texto está tão somente ligada ao julgamento, pelo Supremo Tribunal Federal, das demarcações das terras indígenas no chamado “marco temporal”.

COMENTÁRIOS:

O marco temporal é uma ação que tramita no Supremo Tribunal Federal (STF) e que defende que povos indígenas só podem reivindicar terras onde já estavam no dia 5 de outubro de 1988, dia que entrou em vigor a atual Constituição Brasileira.

O texto aponta que as vulnerabilidades do ecossistema amazônico estão relacionadas à sua intensa ocupação e ao avanço de atividades ambientalmente degradantes. Não se indica nenhuma relação do marco temporal com a vulnerabilidade do ecossistema amazônico.

Gabarito: Errado

9. O desenvolvimento sustentável tem maior eficácia no interior das áreas em que vivem os povos nativos da floresta, já que indígenas e ribeirinhos imprimem um ritmo mais condizente com o que a natureza pode oferecer.

COMENTÁRIOS:

Povos ribeirinhos são aqueles que residem nas proximidades dos rios e têm a pesca artesanal como principal atividade de sobrevivência. Cultivam pequenos roçados para consumo próprio e também podem praticar atividades extrativistas e de subsistência.

Os povos indígenas e ribeirinhos são frequentemente inseridos dentro das discussões sobre o desenvolvimento sustentável. São comunidades que buscam parte dos seus alimentos do extrativismo natural e que praticam uma agricultura e pecuária visando à sua compatibilidade com o meio ambiente. Têm, culturalmente, uma relação de convivência sustentável com a natureza, respeitando e compreendendo os seus limites. Isso pode ser comprovado pela preservação ambiental expressiva das terras indígenas e de quilombolas.

Gabarito: Certo



LISTA DE QUESTÕES – DESENVOLVIMENTO SUSTENTÁVEL – MULTIBANCAS

1. (QUADRIX/CRT-SP/2023) A preocupação com a preservação dos bens naturais ainda não ecoa no mundo, sendo desconhecida por governos, cientistas, organismos multilaterais e organizações não governamentais.

2. (CEBRASPE/TJ-SC/2023) Na economia contemporânea, tende a ganhar espaço um novo tipo de visão e de conceito que se afasta dos padrões desenvolvidos a partir da Revolução Industrial, ao fim do século XVIII. Desse modo, adquirem crescente importância conceitos como o de sustentabilidade econômica, que pode ser corretamente entendido como:

- A) o retorno a uma economia pré-industrial, para eliminar toda forma de poluição ambiental.
- B) a promoção do progresso a qualquer custo, como forma de eliminar a pobreza e as desigualdades sociais.
- C) a produção necessária para assegurar a vida no presente e no futuro, respeitando-se os limites da natureza.
- D) o incentivo ao uso de todo tipo de fonte de energia, por ser indispensável ao pleno desenvolvimento.
- E) a defesa da utilização de fontes de energia fósseis, como o petróleo, por seu baixo risco ambiental.

3. (VUNESP/EPC/2023) Políticas públicas em todo o mundo têm sido reorientadas para o cumprimento dos Objetivos de Desenvolvimento Sustentável (ODS). No Brasil, o cumprimento dos ODS está seriamente comprometido.

(Carta Capital. <https://bit.ly/3la1jZy>. 06.12.2022)

No Brasil, entre as metas cruciais dos ODS não cumpridas está

- A) a alta proporção da população vivendo abaixo da linha da pobreza.
- B) o fraco crescimento vegetativo provocado pela alta taxa de mortalidade.
- C) a pequena proporção de idosos no conjunto da população.
- D) a forte concentração da população em áreas rurais.
- E) o fraco crescimento demográfico nas áreas mais pobres.

4. (FGV/TRT-MA/2022) O ESG surgiu no mercado financeiro como uma forma de medir o impacto que as ações de sustentabilidade geram nos resultados das empresas. A sigla surgiu a primeira vez em 2004, dentro de um grupo de trabalho do Principles for Responsible Investment (PRI), rede ligada à ONU que tem como objetivo atrair investimentos sustentáveis.



James Gifford, economista que liderava o PRI, resumiu assim o significado de ESG:

“O ESG é apenas um subgrupo inserido no contexto maior do investimento sustentável. O termo foi criado, especificamente, para focar em questões materiais. A ideia foi inverter a lógica do que, na época, era chamado de investimento ético, para se concentrar em fatores relevantes para os investidores. Se você tem uma responsabilidade fiduciária, como no caso de um fundo de pensão, não deveria estar pensando num horizonte de nove meses, mas sim de nove anos, ou de 20 anos. E quando se considera esse horizonte, temas como mudanças climáticas, riscos sociopolíticos etc., se tornam relevantes. Algumas pessoas usam o termo de maneira mais ampla, mas o ponto central é a incorporação de fatores socioambientais nos investimentos para gerenciar riscos. Não é mais sobre ética.”

(<https://exame.com/esg/>)

A sigla em inglês ESG significa

- (A) meio ambiente, social e governança.
- (B) economia, social e gestão.
- (C) energia, sustentabilidade e gestão.
- (D) ética, natureza e economia.
- (E) eficiência, sustentação e ação global.

5. (VUNESP/PM-SP/2022) A expressão sustentabilidade ambiental define a maneira como os seres humanos utilizam os bens e os recursos naturais para suprir suas próprias necessidades, de forma que não sejam esgotados, havendo garantias para as próximas gerações. As opções a seguir apresentam exemplos de sustentabilidade ambiental, à exceção de uma. Assinale-a.

- (A) O reflorestamento e a valorização de áreas verdes.
- (B) A utilização de fontes de energia limpas e renováveis.
- (C) A racionalização e o controle da exploração de recursos minerais.
- (D) O manejo controlado dos corpos d'água e o consumo racional de água.
- (E) A coleta seletiva e a reciclagem de resíduos nos lixões e aterros sanitários.

(QUADRIX/CFFA/2022) Com relação a tópicos atuais de diversas áreas, julgue os itens.

6. O conceito de desenvolvimento sustentável, crescentemente considerado como caminho inevitável a ser seguido globalmente, defende o retorno às práticas econômicas pré-industriais.

7. A questão ambiental tende a ocupar cada vez mais espaço na agenda do mundo atual, envolvendo governos, cientistas, instituições de pesquisa e organizações não governamentais.



8. Paradoxalmente, quanto mais o meio ambiente se torna objeto de preocupações, de estudos e de fóruns internacionais, menor é o espaço da ecologia como área de estudo e de disciplina acadêmica.
9. Envolvida essencialmente com a questão da segurança internacional e da paz mundial, a Organização das Nações Unidas (ONU) praticamente ignora a temática ambiental, quase nunca dela se ocupando.
10. (FGV/PREFEITURA MUNICIPAL DE PAULÍNIA/2021 – FARMACÊUTICO) O Brasil não avançou satisfatoriamente em nenhuma das metas dos Objetivos de Desenvolvimento Sustentável (ODS) da chamada Agenda 2030 da Organização das Nações Unidas (ONU). É o que aponta o Relatório Luz 2021, apresentado na Câmara dos Deputados. O documento foi produzido pelo Grupo de Trabalho da Sociedade Civil para a Agenda 2030, formado por organizações não governamentais, movimentos sociais, fóruns e universidades. O GT faz o monitoramento das metas previstas no compromisso assinado por inúmeros países, entre eles o Brasil, durante a Cúpula das Nações Unidas sobre o Desenvolvimento Sustentável em 2015.

Adaptado de: <https://www.ecodebate.com.br/2021/07/20/>

As afirmativas a seguir indicam as principais metas que devem ser alcançadas em 2030, à exceção de uma. Assinale-a.

- (A) Tomar medidas urgentes para combater a mudança do clima e seus impactos.
- (B) Alcançar a igualdade de gênero e adotar medidas de empoderamento para todas as mulheres.
- (C) Assegurar uma vida saudável e promover o bem-estar para todos, em todas as idades.
- (D) Expandir a economia e garantir para todos a extração e o processamento de combustíveis e alimentos.
- (E) Proteger, recuperar e promover o uso sustentável dos ecossistemas terrestres e combater a desertificação.

11. (FGV/PREFEITURA MUNICIPAL DE PAULÍNIA/2021 – FARMACÊUTICO) Nunca antes, durante toda a longa presença da vida na Terra, estimada em 3,6 bilhões de anos, uma espécie conseguiu alterar o ambiente globalmente numa escala de séculos. São esses aspectos que estão levando muitos geólogos a propor que já entramos em uma nova era geológica – nomeado como antropoceno pelo professor Paul Crutzen –, em que sinais das transformações já se materializaram nos sedimentos geológicos.

Adaptado de: Carlos Nobre, Revista Época, 2015.

A respeito da proposta de formular uma “nova era geológica”, analise as afirmativas a seguir.

- I. O uso da periodização proposta favorece o reconhecimento dos impactos planetários da ação humana na Terra.
- II. O termo antropoceno direciona o debate sobre ecologia e desenvolvimento sustentável para uma escala supranacional.



III. O novo conceito explora a conscientização dos efeitos da planetarização da ação humana.

Está correto o que se afirma em

- (A) I, apenas.
- (B) I e II, apenas.
- (C) I e III, apenas.
- (D) II e III, apenas.
- (E) I, II e III.

12. (QUADRIX/CREFONO 4ª REGIÃO/2021 – FONOAUDIÓLOGO FISCAL) Nos dias de hoje, o conceito de desenvolvimento sustentável pressupõe a manutenção intacta da natureza, o que equivale a cessar radicalmente o processo de exploração dos recursos naturais.

(QUADRIX/CRP-SP/2019 – PROFISSIONAL ANALISTA SUPERIOR) O uso de canudos de plástico emporcalha os oceanos ou é um direito do consumidor prático? A questão virou um debate que opõe a indústria a legisladores País afora.

Internet: <<https://epoca.globo.com>>.

A respeito desse tema e de assuntos correlatos, julgue os itens a seguir.

13. A busca pelo uso de materiais que impactem minimamente na natureza insere-se nos Objetivos de Desenvolvimento Sustentável da Organização das Nações Unidas (ONU).

14. Fabricantes de canudos de plástico minimizam os danos ambientais desse material, sob o argumento de que ele pode ser totalmente reciclado e de que, sem o plástico, o volume de lixo gerado seria ainda maior.

15. Os oceanos têm significativa participação no equilíbrio ambiental do planeta e vêm sendo afetados diretamente pela ação humana. O plástico, entretanto, não está entre os maiores vilões dos oceanos.

(LEANDRO SIGNORI/PC DF – SIMULADO/2019) Um milhão de espécies de animais e plantas estão ameaçadas de extinção, segundo o relatório da Plataforma Intergovernamental de Políticas Científicas sobre Biodiversidade e Serviços de Ecossistema (IPBES). A plataforma da Organização das Nações Unidas (ONU) contou com 145 cientistas de 50 países, no que é considerado o relatório mais extenso sobre perdas do meio ambiente. Desde 1900, a média de espécies nativas na maioria dos principais habitats terrestres caiu em pelo menos 20%. Mais de 40% das espécies de anfíbios, quase 33% dos corais e mais de um terço de todos os mamíferos marinhos estão ameaçados. Pelo menos 680 espécies de vertebrados foram levadas à extinção desde o século 16.

Disponível em: <https://glo.bo/2Vn5r1u>. Adaptado. Acesso em 07/05/2019.



Utilizando o texto presente no enunciado como base e os seus conhecimentos à respeito dos múltiplos aspectos relacionados aos problemas ambientais e a sustentabilidade, julgue os itens que se seguem:

16. O problema ambiental retratado no enunciado é uma consequência do modelo econômico de produção e consumo da sociedade atual, o qual não é conciliável com o futuro do bem-estar humano em escala global.

17. A busca por energias renováveis e não poluentes é uma medida eficiente para combater o problema da extinção de espécies e perda de biodiversidade. Nesse sentido, o Brasil é um dos países que possui menos espécies ameaçadas de extinção, já que na nossa matriz energética se verifica um crescimento expressivo das fontes de energia renováveis e não poluentes.

18. (CEBRASPE/FUB/2018 – CARGOS DE NÍVEL MÉDIO) A consolidação do conceito de desenvolvimento sustentável como forma de equilíbrio da proteção do meio ambiente aconteceu na Conferência das Nações Unidas sobre Meio Ambiente e Desenvolvimento (Rio 92), ocasião em que foi aprovado o documento chamado de Agenda 21.



- | | |
|------|-------|
| 1. E | 10. D |
| 2. C | 11. E |
| 3. A | 12. E |
| 4. A | 13. C |
| 5. E | 14. C |
| 6. E | 15. E |
| 7. C | 16. C |
| 8. E | 17. E |
| 9. E | 18. C |



LISTA DE QUESTÕES – MUDANÇAS CLIMÁTICAS – MULTIBANCAS

1. (CEBRASPE/TJ-SC/2023) O Brasil se prepara para sediar a 30ª Conferência da Organização das Nações Unidas sobre Mudanças Climáticas (COP30), em novembro de 2025. A cidade escolhida para a reunião da conferência é

- a) Goiânia.
- b) Brasília.
- c) São Paulo.
- d) Manaus.
- e) Belém.

2. (CEBRASPE/TJ-SC/2023) O aquecimento global é uma das faces da atual crise climática. Mitigar a emissão de gases poluentes na atmosfera é um desafio ambiental que tende a ganhar força no mundo. Para isso, é preciso, por exemplo, pensar em estratégias de distribuição de energia acessível e limpa, consumo e produção responsáveis. No que diz respeito às estratégias ambientais anteriormente citadas, é necessário fortalecer a prática de

- a) agricultura de séculos passados.
- b) desenvolvimento sustentável.
- c) ocupação econômica das regiões polares.
- d) aumento da produção com reduzida produtividade.
- e) exploração ilimitada dos recursos naturais.

(CEBRASPE/MEC/2023) O relatório da Organização Meteorológica Mundial sobre o clima global de 2021 mostra que eventos climáticos extremos levaram a centenas de bilhões de dólares em perdas econômicas e causaram um grande impacto em vidas humanas no mundo inteiro. No Brasil, segundo dados do Tribunal de Contas da União (TCU), entre 2013 e 2022, o governo federal gastou R\$ 13,4 bilhões em recuperação e resposta a desastres e R\$ 5,9 bilhões em prevenção.

Internet: <unicamp.br> (com adaptações).

Considerando o fragmento de texto precedente como motivador, julgue os itens a seguir, a respeito dos múltiplos aspectos relativos a desenvolvimento sustentável e ecologia.

3. A ação antrópica tem aumentado a temperatura média do planeta, o que desregula os ciclos naturais do clima e o meio ambiente, afetando populações em diversos países.



4. Secas extremas, inundações catastróficas, furacões, tornados e incêndios em vegetação são eventos extremos intensificados pelo fenômeno do aquecimento global e pela ação humana.

5. As mudanças climáticas são irreversíveis e os danos ambientais e econômicos dos eventos extremos não podem mais ser mitigados ou solucionados.

(CEBRASPE/DataPrev/2023) A transição energética é uma mudança de paradigma que envolve não só a geração de energia, mas também o consumo e o reaproveitamento dela. O significado de transição energética passa também por mudanças na estrutura social, econômica, política e cultural, e pressupõe o reconhecimento de que é insustentável, sob todos os aspectos, inclusive econômico, continuar consumindo recursos naturais na velocidade atual.

Internet: (com adaptações).

No que se refere à transição energética, temática apresentada no texto precedente, julgue os itens subsequentes.

6. A transição energética é definida pelo processo de privatização, isto é, transferência das matrizes energéticas controladas por empresas estatais para o domínio de grupos e corporações privados que visem conferir maior produtividade e eficiência à geração e à distribuição de energia em países de economia emergente.

7. Na economia de baixo carbono, proposta como parte da transição energética, a geração, a distribuição e o consumo de energia devem ser realizados a partir de uma visão sistêmica de sustentabilidade ambiental e social.

8. A substituição de fontes de energia não renováveis e poluentes por matrizes energéticas renováveis e de baixo carbono objetiva a redução da emissão dos gases de efeito estufa e das suas consequências nas mudanças climáticas.

(QUADRIX/CRT-SP/2023) A respeito das questões ambientais no Brasil e no mundo contemporâneo, julgue os itens.

9. O mundo tem assistido a variações extremas no que diz respeito ao clima e à temperatura, em que se alternam calor abrasante e frio rigoroso.

10. Por ser um País tropical, o Brasil está livre de sofrer chuvas torrenciais ou períodos agudos de seca.

11. O modelo de industrialização praticado pelo mundo tem sido contestado, justamente por utilizar, em larga escala, fontes de energia fóssil, como o petróleo e o carvão.

(QUADRIX/CRO-TO/2023) No que diz respeito a assuntos da atualidade e do mundo, julgue os itens a seguir.

12. A grande emissão de gases poluentes na atmosfera é um importante fator para as mudanças climáticas, a exemplo do denominado aquecimento global.



13. Devido às drásticas alterações climáticas que o Planeta tem sofrido na atualidade, o petróleo, por ser fonte de energia fóssil, deixou de ter importância na economia mundial.

14. (FGV/PREFEITURA DE SÃO JOSÉ DOS CAMPOS – SP/2023) A respeito do impacto das mudanças ambientais e climáticas globais no setor de saúde, avalie se as afirmativas a seguir são verdadeiras (V) ou falsas (F).

() Alterações de temperatura, de umidade e no regime de chuvas potencializam os efeitos das doenças respiratórias.

() Mudanças climáticas influenciam na propagação de vetores que transmitem doenças.

() A ocorrência mais frequente de eventos extremos impacta diretamente a saúde e o bem-estar da população.

As afirmativas são, respectivamente,

A) V – F – V.

B) F – V – V.

C) F – V – F.

D) V – F – F.

E) V – V – V.

15. (AVANÇA-SP/PREFEITURA DE SÃO MIGUEL ARCANJO-SP/2023) Na Conferência das Nações Unidas sobre as Mudanças Climáticas (COP 27) realizada em novembro de 2022, representantes de mais de 190 países firmaram um importante acordo, considerado até mesmo histórico. Assinale a alternativa que aponta corretamente o teor de tal acordo:

A) criação de um fundo para danos em países vulneráveis.

B) envio de médicos para os países pobres.

C) paralisação da exploração de petróleo nos países em desenvolvimento.

D) investimento na dessalinização do litoral de países do continente africano.

E) investimento no setor da pesca sustentável.

16. (VUNESP/EPC/2023) Após duas semanas de negociações, as autoridades comemoraram neste domingo [20 nov.] o fim da 27a Conferência do Clima da ONU, a COP27, que aconteceu no Egito.

(G1. <https://glo.bo/3XtnzBT>. 20.11.2022)

Dentre as determinações tomadas na Conferência, destaca-se a



- A) decisão de atenuar as sanções aos países mais poluidores que geram os maiores impactos para as mudanças climáticas.
- B) liberação gradual do uso do carvão mineral, combustível fóssil muito criticado como principal vilão do aquecimento global.
- C) extinção do mercado internacional de carbono, considerado prejudicial à economia dos países industrializados.
- D) criação de um fundo para ajudar os países pobres que sofrem com os desastres causados pelas mudanças climáticas.
- E) revisão da obrigatoriedade de substituir fontes de energia fósseis por fontes renováveis conforme o Acordo de Paris.

17. (FGV/PREFEITURA DE SANTO ANDRÉ - SP/2022) Como a elevação do nível do mar vai afetar na prática diferentes regiões do planeta?

“Essa foi a pergunta que guiou uma pesquisa conduzida pelo Climate Central (EUA), que identificou as regiões do mundo que podem sofrer inundações ‘sem precedentes’, caso não sejam elaboradas políticas ambientais globais. De acordo com o estudo, centenas de áreas costeiras, que abrigam atualmente mais de 1 bilhão de pessoas, estão sob risco.”

(Adaptado de <https://www.bbc.com/portuguese/internacional>)

Assinale a afirmativa que indica corretamente o principal fator que impacta o aumento do nível do mar na atualidade.

- (A) A elevação da salinização das águas do mar.
- (B) A expansão hídrica, à medida que os aquíferos são aquecidos por maior insolação.
- (C) O aumento dos detritos minerais e rochosos, fruto de processos de erosão.
- (D) O degelo das calotas polares e de geleiras no Alasca, na Sibéria e na Groenlândia, por exemplo.
- (E) A aceleração do fluxo dos rios, levando um maior volume de líquido para os mares.

18. (FGV/TRT-MA/2022) Diante dos problemas ecológicos que o planeta Terra tem enfrentado, é imperioso que a sustentabilidade seja enquadrada no modo de vida de todos os indivíduos para, assim, tentar reverter os danos causados à natureza e impedir que ela seja ainda mais agredida.

Sobre as condições necessárias para que a dimensão ambiental se torne realidade para toda a população, analise as afirmativas a seguir e assinale (V) para a verdadeira e (F) para a falsa.

- () A limitação do consumo de combustíveis fósseis e de outros recursos ambientalmente prejudiciais, substituindo-os por recursos renováveis.



() A redução do volume de resíduos sólidos e da poluição atmosférica, por meio de ações ambientais de conservação e reciclagem.

() A escolha adequada de instrumentos econômicos, administrativos e legais que estimulem o uso de tecnologias limpas.

As afirmativas são, na ordem apresentada, respectivamente,

(A) V – V – V.

(B) F – V – V.

(C) V – F – V.

(D) V – V – F.

(E) F – F – V

19. (FGV/TRT-MA/2022) As mudanças climáticas representam um desafio sem precedente para a política ambiental global, colocando em xeque a capacidade de articulação dos Estados, ao mesmo tempo em que evidencia desigualdades globais. O enfrentamento eficaz do problema deve ter em mente um acordo que combine responsabilidades e vulnerabilidades diferenciadas.

Sobre a lógica inaugurada no Acordo de Paris, analise as afirmativas a seguir.

I. Centra-se nas contribuições nacionais, em que cada Estado determina, internamente, sua contribuição para a redução da emissão de gases de efeito estufa.

II. Serve de base para uma ação global mais forte em relação às mudanças climáticas, impondo as mesmas obrigações a todos os países participantes.

III. Permite que circunstâncias nacionais sejam levadas em consideração e estabelece uma estrutura duradoura para uma cooperação de longo prazo.

Está correto o que se afirma em

(A) I, apenas.

(B) I e II, apenas.

(C) I e III, apenas.

(D) II e III, apenas.

(E) I, II e III.

20. (FGV/TRT-PB/2022)





A COP-27 realizou-se neste mês de novembro no Egito. COP é a sigla, em inglês, para Conferência das Partes, 27 é a edição da Conferência. Trata-se de evento global organizado pela ONU que reúne autoridades do mundo todo e que, por meio de mecanismos aplicados globalmente, tem como principal objetivo

- (A) conter as mudanças climáticas.
- (B) erradicar a pobreza no mundo.
- (C) criar empregos em escala mundial.
- (D) eliminar todos os conflitos em curso no mundo.
- (E) proteger a infância mundial da pobreza e garantir seu direito de frequentar a escola.

21. (FGV/TRT-PB/2022) Conceito, surgido a partir do Protocolo de Kyoto em 1997, que visa à diminuição dos gases de efeito estufa, que provocam diversos problemas ambientais associados às mudanças climáticas. Eles fazem parte de um mecanismo de flexibilização que auxilia os países que possuem metas de redução da emissão de gases poluentes a alcançá-las.

A cada tonelada não emitida, gera-se um crédito. Assim, quando um país consegue reduzir a emissão dessa tonelada, ele recebe uma certificação emitida pelo Mecanismo de Desenvolvimento Limpo (MDL), ou seja, recebe os créditos que estarão disponíveis para serem comercializados com os países que não alcançaram suas metas.

A geração do crédito é realizada à medida que os países esforçam-se em projetos e ações que visam ao desenvolvimento sustentável, evitando, assim, o aumento do efeito estufa. Exemplos desses projetos são o empenho em reduzir os níveis de desmatamento, as campanhas para o consumo consciente, o uso de fontes de energia alternativas, entre outros.

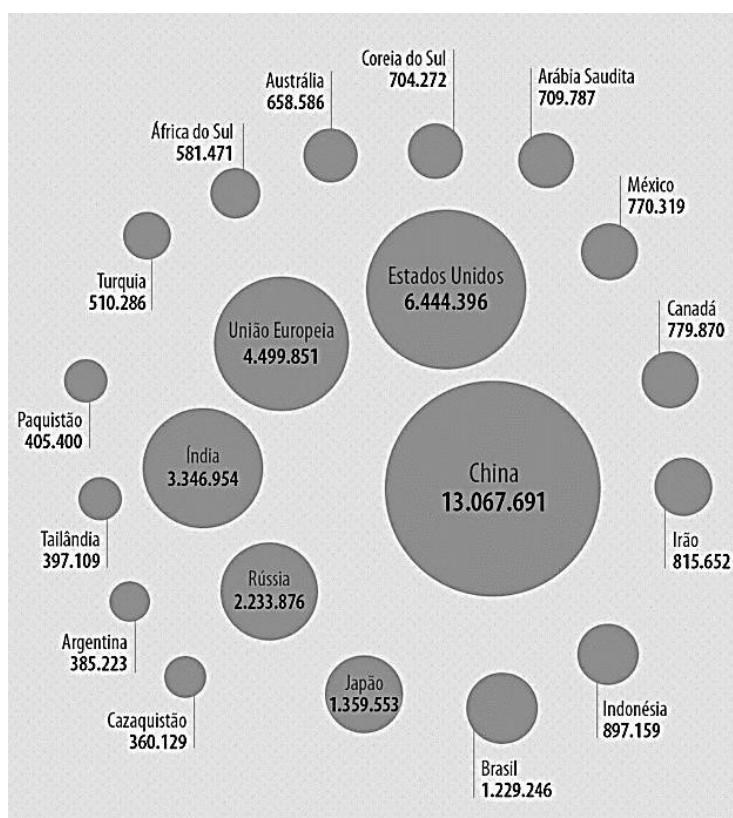
(mundoeducacao.uol.com.br. Adaptado)

O texto refere-se aos créditos de



- (A) Hidrogênio.
- (B) Oxigênio.
- (C) Carbono.
- (D) Enxofre.
- (E) Silício.

22. (FGV/CÂMARA MUNICIPAL DE TAUBATÉ-SP/2022) Observe o infográfico sobre os maiores emissores mundiais de gases com efeito estufa, em 2019 (quilotoneladas CO2 equivalentes)



Com base no infográfico, assinale a afirmativa correta a respeito da deterioração do meio ambiente na atualidade.

- (A) Os países industrializados são os que mais liberam gases de efeito estufa como o dióxido de carbono, principal componente do gás natural.
- (B) A UE é o terceiro maior emissor depois da China e dos Estados Unidos, apesar do protagonismo de Holanda e Alemanha na descarbonização de suas economias.
- (C) O Brasil é o país da América Latina que menos produz gases de efeito estufa, graças ao uso de biodiesel e etanol no transporte coletivo de passageiros.



(D) O hemisfério Oriental é o maior emissor de CO₂, em virtude da recusa de China e Índia de subscreverem o Acordo de Paris (2015) e a COP26 (2021).

(E) China, Índia e Brasil estão entre os maiores emissores fósseis de CO₂ por possuírem um grande volume de população e uma matriz energética sustentada no carvão mineral.

(QUADRIX/CRA-PR/2022) Para além de múltiplo, o mundo contemporâneo é por demais complexo. Velhos temas renascem, ao tempo em que novas realidades se apresentam. Certezas antes inabaláveis cedem espaço a dúvidas cada vez mais frequentes.

Quanto a essas e a outras observações acerca da atualidade, julgue os itens a seguir:

23. A despeito das vozes negacionistas que se fazem ouvir, as mudanças climáticas são um fenômeno contemporâneo que, cada vez mais, chama a atenção de especialistas, de instituições científicas, de governos e de organismos internacionais.

24. Desde 1972, a ONU vem promovendo grandes conferências internacionais para debater a questão ambiental, tendo o Brasil sediado uma delas, a Rio-92.

25. A emissão de gases poluentes na atmosfera, ampliando o chamado efeito estufa, leva o mundo a procurar alternativas energéticas, o que explica o estímulo ao uso cada vez mais frequente de fontes fósseis, como o petróleo e o carvão mineral.

(CEBRASPE/FUB/2022) Os dois extremos gelados do planeta estão sofrendo, mais do que qualquer outra parte da Terra, os efeitos do aquecimento global. Ártico e Antártida, regiões essenciais para a regulação da temperatura, derretem a um ritmo mais acelerado do que a ciência previa. Correio Braziliense, 20/3/2022, p. 12 (com adaptações).

Tendo o fragmento de texto anterior como referência inicial, e considerando a amplitude do tema que ele focaliza, julgue os itens que se seguem.

26. Infere-se do texto que o derretimento dos polos Norte e Sul carece de condições para interferir na temperatura do planeta.

27. Na atualidade, a questão ambiental foi incorporada à agenda política do mundo, algo que se manifesta na multiplicação de estudos sobre o tema e na realização de conferências globais para debater o problema.

28. A emissão em larga escala de gases de efeito estufa amplia o aquecimento global.

29. Estudos científicos atestam que o derretimento das geleiras, embora venham a causar vários problemas, não elevará o nível dos mares.

30. Combustíveis fósseis, como o petróleo, são cada vez mais vistos como aliados essenciais para enfrentar as mudanças climáticas.

31. O aquecimento simultâneo observado no Ártico e na Antártida indica um equilíbrio no sistema climático do planeta, a despeito do aquecimento global.



(QUADRIX/CRP-10/2022) Perda calculada de R\$ 71,9 bilhões é o que aflige produtores de grãos do Sul e do Centro-Oeste do Brasil em decorrência de uma seca devastadora, tida como a pior em décadas. Enquanto isso, chuvas torrenciais atingiram o Vale do São Francisco, reduzindo a colheita de frutas, e ocasionaram perdas materiais de grande expressão e mortes de muitas pessoas, como se viu em Petrópolis (RJ), na Bahia e em Minas Gerais, para ficar com apenas alguns exemplos.

Considerando a realidade ambiental do mundo atual, julgue os itens.

32. A questão ambiental definitivamente entrou na agenda do mundo contemporâneo, sendo objeto de estudo de especialistas e de diversas conferências globais voltadas ao debate do tema.

33. Paradoxalmente, a Organização das Nações Unidas (ONU), um foro multilateral que congrega cerca de duas centenas de países, omite-se claramente em relação à temática do meio ambiente.

34. Relativamente às mudanças climáticas, não há espaço para o negacionismo: a começar pelos cientistas, todos concordam com sua existência e seus efeitos desastrosos para a vida no Planeta.

35. A emissão descontrolada de gases poluentes na atmosfera amplia o denominado efeito estufa, o que faz aumentar a temperatura no mundo.

36. Até hoje o Brasil não dispõe, na estrutura político-administrativa governamental, de um ministério dedicado ao meio ambiente, o que causa estranheza no País e no exterior.

37. (QUADRIX/CREFITO 6ª REGIÃO/2022 – RECEPCIONISTA) A questão ambiental entrou na agenda do mundo contemporâneo. Entre os graves problemas que afetam a vida das populações, é possível destacar, entre outros aspectos,

- (A) os efeitos das mudanças climáticas.
- (B) a redução das emissões de carbono.
- (C) o controle sobre os desmatamentos.
- (D) a universalização do saneamento básico.
- (E) o uso racional dos recursos naturais.

(QUADRIX/CRECI-RO/2022 – FISCAL) Nos dias atuais, as mudanças ocorrem rápida e profundamente. As transformações acontecem dia após dia, atingindo os mais variados setores. Considerando esse cenário tão dinâmico, tanto no Brasil quanto no mundo, julgue os itens.

38. Uma preocupação mundial crescente diz respeito às mudanças climáticas, com extremos dramáticos, a exemplo de secas prolongadas, invernos rigorosos, calor escaldante e chuvas torrenciais.

39. Incêndios florestais, como os verificados na Califórnia e na Amazônia, por exemplo, ganham manchetes em todo o planeta e alertam para as consequências da devastação de recursos naturais.

40. (CESGRANRIO/BASA/2022 - TÉCNICO CIENTÍFICO) Considere o texto a seguir sobre a COP26.



Na avaliação do chefe da ONU, António Guterres, os compromissos firmados até o momento em Glasgow são “encorajadores”, mas a lacuna nas emissões continua “sendo uma enorme ameaça”. Ele anunciou que irá estabelecer “um Grupo de Especialistas de Alto-Nível para propor padrões claros de medição e análise dos compromissos sobre net zero (zero emissões líquidas de gases)”, sendo que uma série de recomendações será apresentada no próximo ano.

Disponível em: <https://news.un.org/pt/story/2021/11/1770162>. Acesso em: 20 nov. 2021.

A avaliação de Guterres sobre medição, emissões e recomendações diz respeito diretamente ao seguinte tema:

- (A) Mudança climática global.
- (B) Flexibilização da produção.
- (C) Financeirização da economia.
- (D) Fluxo migratório internacional.
- (E) Tecnologia de Informação e Comunicação.

41. (PM-PI/NUCEPE/2022 – SOLDADO) “Os Estados Unidos retornaram oficialmente ao Acordo de Paris sobre o Clima, nesta sexta-feira, 19, e o governo do presidente Joe Biden prometeu tornar a batalha ambiental prioridade máxima de seu governo.”

■
Fonte: Estados Unidos retornam oficialmente ao Acordo de Paris. Carta Capital, 19 de fev. 2021. Disponível em: <https://www.cartacapital.com.br/mundo/estadosunidos-retornam-oficialmente-ao-acordo-de-paris/>

As discussões acerca da intensificação do efeito estufa e dos impactos do aquecimento global têm mobilizado cientistas, Estados nacionais e organismos internacionais na busca por soluções e acordos visando à redução das emissões dos chamados gases do efeito estufa, como o dióxido de carbono (CO₂), o gás metano (CH₄) e o óxido nitroso (N₂O). Sobre o aquecimento global e as ações para combatê-lo, é CORRETO afirmar que

- a) o uso de combustíveis fósseis não contribui para o aquecimento global.
- b) os países que mais emitem gases de efeito estufa são Portugal, Estados Unidos e França.
- c) o Protocolo de Kyoto é um acordo internacional para a redução dos gases do efeito estufa por parte dos países asiáticos.
- d) o Painel Intergovernamental sobre Mudanças Climáticas (IPCC) é uma organização criada no âmbito do governo brasileiro para monitorar dados relacionados às mudanças climáticas.
- e) a pecuária bovina é responsável pela emissão de gases do efeito estufa, principalmente óxido nitroso (N₂O), metano (CH₄) e gás carbônico (CO₂); este último a partir do desmatamento necessário à mudança de uso da terra imposta pela pecuária.



42. (VUNESP/PM-SP/2022 – SOLDADO) Os líderes das 20 principais economias do planeta, o G20, anunciaram neste domingo (31.10), em Roma, um compromisso para tentar conter as mudanças climáticas e limitar o aquecimento global a 1,5 °C nos próximos anos.

(G1. <https://glo.bo/3HXmz2v>. Publicado em 31.10.2021. Acesso em 11.11.2021. Adaptado)

Uma das soluções propostas para limitar o aquecimento global foi

- (A) a substituição do Acordo de Paris, assinado em 2015, por um novo acordo climático mais audacioso.
- (B) o incentivo à construção de usinas nucleares nos países pobres do hemisfério Sul.
- (C) a redução da concentração demográfica nas grandes e médias cidades, locais geradores de poluição atmosférica.
- (D) o fim do financiamento de novas usinas de carvão mineral para a geração de energia termelétrica.
- (E) a modernização dos navios movidos a combustíveis fósseis que circulam pelos oceanos e poluem as águas

(CEBRASPE/ICMBio/2022 – TÉCNICO) A dimensão continental do território brasileiro, a diversidade de biomas e de processos de uso e ocupação do território denotam diversas tipologias de desastres naturais envolvendo questões ambientais, políticas, econômicas. A respeito dos desastres naturais no território brasileiro, julgue os itens a seguir.

43. O aumento da ocorrência e da intensidade dos desastres naturais tem despertado debates sobre as mudanças climáticas e seus impactos na sociedade brasileira.

44. As atividades de exploração mineral no Brasil são licenciadas pelos órgãos ambientais, o que diminui em larga escala os impactos ambientais sobre o meio ambiente e torna a mineração uma atividade sustentável.

45. (QUADRIX/CREFONO 4ª REGIÃO/2021 – ASSISTENTE ADMINISTRATIVO) Embora contestadas por alguns setores, as mudanças climáticas podem ser representadas por fenômenos naturais extremos, a exemplo de secas prolongadas e chuvas torrenciais.

46. (QUADRIX/CFT/2021 – JORNALISTA) Sob a liderança do Brasil, países latino-americanos que participaram da Cúpula Latino-americana sobre Mudanças Climáticas solicitaram financiamento de organismos internacionais e intercâmbio de dívida externa em troca de resultados ambientais.

47. (VUNESP/TRANSERP/2019 - CONTADOR) Após o presidente Jair Bolsonaro ter sinalizado, na campanha e no início de seu mandato, intenção de sair do Acordo de Paris – e ter rejeitado a ideia de o Brasil sediar a conferência climática COP-25, ele reafirmou nesta quarta-feira (23.01.19), em entrevista à TV Bloomberg, a intenção de permanecer no acordo de Paris. Mas deixou claro que o país quer ter, além de deveres, direitos.

(TERRA. Publicado em: 23.01.2019. Acessível em: <https://bit.ly/2RiCfC1>. Adaptado)

O presidente refere-se ao direito de o Brasil



- a) ter assento permanente no Conselho de Segurança da ONU.
- b) ter o devido retorno financeiro por crédito de carbono.
- c) ser ouvido primeiro em questões ambientais na América Latina.
- d) receber os subsídios prometidos pelo investimento em biodiesel.
- e) continuar como líder de pesquisa no projeto genoma.

(QUADRIX/CRQ 4ª REGIÃO/2019 – PROFISSIONAL DE ATIVIDADES ESTRATÉGICAS) O Acordo de Paris foi aprovado pelos 195 países signatários da Convenção-Quadro das Nações Unidas sobre Mudança do Clima (UNFCCC) para reduzir emissões de gases de efeito estufa (GEE) no contexto do desenvolvimento sustentável.

Internet: <mma.gov.br> (com adaptações).

A respeito do assunto abordado no texto acima e de temas correlatos, julgue os itens.

48. Em 2016, o Brasil ratificou seu compromisso com as metas do Acordo de Paris.

49. As Contribuições Nacionalmente Determinadas (NDC) brasileiras incluem o compromisso de ampliar a participação de biocombustíveis sustentáveis na matriz energética do País.

50. Como está previsto no Acordo de Paris o chamado “desmatamento zero”, produtores rurais brasileiros encontram-se, pela lei, proibidos de promover qualquer desmatamento em áreas de florestas na Amazônia Legal.

51. (VUNESP/2018/PREFEITURA DE BARRETOS – AGENTE DE COMUNICAÇÃO SOCIAL) Um artigo publicado na Environmental Research Letters alerta que, com emissões de mais de 41 gigatoneladas anuais no planeta, “o tempo está se esgotando” para que seja possível manter o aumento da temperatura abaixo dos dois graus ao final do século, objetivo fixado no Acordo de Paris.

(<http://www.correiobraziliense.com.br> – 14.11.17 – Acesso 09.02.18. Adaptado)

O país responsável por 28,5% do total da emissão de dióxido de carbono, ligado aos combustíveis fósseis e à indústria,

- a) são os Estados Unidos.
- b) é a China.
- c) é a Índia.
- d) é a Rússia.
- e) é a União Europeia.



52. (IESES/TJ AM/2018 – TITULAR DE SERVIÇOS DE NOTAS E REGISTROS) O segundo maior poluidor do planeta, os EUA, abandonaram em junho de 2017, o acordo climático que estabelece metas de redução das emissões de gases do efeito estufa. O texto acima se refere a que acordo climático.

- a) Acordo climático de Paris
- b) Acordo climático de Berlim.
- c) Protocolo de Kyoto.
- d) Declaração de Copenhague.



GABARITO

- | | | |
|-------|-------|-------|
| 1. E | 19. C | 37. A |
| 2. B | 20. A | 38. C |
| 3. C | 21. C | 39. C |
| 4. C | 22. B | 40. A |
| 5. E | 23. C | 41. E |
| 6. E | 24. C | 42. D |
| 7. C | 25. E | 43. C |
| 8. C | 26. E | 44. E |
| 9. C | 27. C | 45. C |
| 10. E | 28. C | 46. E |
| 11. C | 29. E | 47. B |
| 12. C | 30. E | 48. C |
| 13. E | 31. E | 49. C |
| 14. E | 32. C | 50. E |
| 15. A | 33. E | 51. B |
| 16. D | 34. E | 52. A |
| 17. D | 35. C | |
| 18. A | 36. E | |



LISTA DE QUESTÕES – AMAZÔNIA – MULTIBANCAS

1. (CEBRASPE/FUB/2023) O Fundo Amazônia — programa que visa à prevenção, ao monitoramento e ao combate ao desmatamento, assim como à conservação e ao uso sustentável da Amazônia Legal — está bloqueado porque a Alemanha e a Noruega, principais doadoras do fundo, suspenderam os repasses de verbas por discordarem da forma como questões sobre a proteção ambiental vêm sendo tratada, ao longo dos anos, pelo governo brasileiro.

2. (CEBRASPE/TJ-SC/2023) A questão ambiental, incluída na agenda mundial e importante tema nas relações internacionais, oferece ao Brasil a oportunidade de ser protagonista no cenário global. Isto decorre do fato de que o país

a) tem grande diversidade natural e possui a maior área da floresta amazônica.

b) já conseguiu eliminar o desmatamento ilegal e a exploração de riquezas minerais.

c) decidiu manter inalterada sua matriz energética, concentrada nos combustíveis fósseis.

d) faz pouco uso de seu potencial hidrelétrico, optando pelas usinas termelétricas.

e) só agora pretende assinar acordos relacionados à defesa ambiental.

(QUADRIX/CRT-SP/2023) A respeito dos ecossistemas brasileiros amazônico e do Pantanal, julgue os itens.

3. As queimadas na Amazônia têm ligação direta com o desmatamento, já que, muitas vezes, o fogo é utilizado para remover a vegetação que foi desmatada, a fim de abrir caminho para o plantio e a pecuária.

4. Por decreto, os recursos recebidos pelo Fundo Amazônia são de uso exclusivo do ecossistema amazônico para ações de prevenção, monitoramento e combate ao desmatamento, assim como para atividades de conservação e de uso sustentável do referido bioma.

5. O aumento das queimadas afeta diretamente a qualidade do ar das cidades da região e, conseqüentemente, propicia uma piora no estado de saúde de seus habitantes.

6. O Pantanal mato-grossense implantou um modelo de desenvolvimento sustentável que sustou o desmatamento, as queimadas e a mineração, atividades de maior degradação ambiental desse ecossistema.

7. Para o combate ao desmatamento e o uso mais sustentável do bioma amazônico, o Fundo Amazônia recebeu aporte de capital internacional.

8. (VUNESP/EPC/2023) A taxa anual de desmatamento do bioma em 2022 foi estimada em 10689 km², segundo os dados oficiais divulgados nesta quarta-feira [14 dez.] pelo Instituto Nacional de Pesquisas Espaciais (INPE). Os dados apresentados mostram que, em 2022, houve aumento de 25% na devastação do bioma em relação ao ano passado. Este é o terceiro ano consecutivo de aumento da destruição.



(WWF. <https://bit.ly/3YF9Mt8>. 14.12.2022. Adaptado)

A notícia faz referência

- A) ao Pantanal.
- B) ao Cerrado.
- C) à Mata Atlântica.
- D) à Caatinga.
- E) aos Pampas.

9. (VUNESP/PM-SP/2022) “A área sob alerta de desmatamento na Amazônia Legal durante o primeiro semestre de 2022 é a maior em sete anos, de acordo com o sistema de monitoramento do Instituto Nacional de Pesquisas Espaciais (Inpe). Foram 3.750 km² entre 1º de janeiro e 24 de junho (mais de 2 cidades de São Paulo), índice superior ao dos anos anteriores.”

(<https://g1.globo.com/meio-ambiente/noticia/2022/07/01/>)

Os fatores listados a seguir estão entre as principais causas do desmatamento amazônico, à exceção de um. Assinale-o.

- (A) Extração ilegal de madeira.
- (B) Grilagem de terras públicas.
- (C) Impunidade de crimes ambientais.
- (D) Agricultura de corte e queimada e agropecuária.
- (E) Impactos na fertilidade do solo e no ciclo hidrológico.

10. (FGV/CÂMARA MUNICIPAL DE TAUBATÉ-SP/2022 - TÉCNICO LEGISLATIVO DE INFORMÁTICA)





O Bioma Amazônia ocupa cerca de 49% do território brasileiro. A Amazônia possui a maior floresta tropical do mundo, equivalente a 1/3 das reservas de florestas tropicais úmidas que abrigam a maior quantidade de espécies da flora e da fauna. Contém 20% da disponibilidade mundial de água e grandes reservas minerais. O delicado equilíbrio de suas formas de vida é muito sensível à interferência humana. Ultimamente, após alguns anos em que boas políticas públicas conseguiram deter, em parte, práticas humanas ameaçadoras a seu equilíbrio, recentemente tais ameaças ao bioma aumentaram vertiginosamente.

Avalie se as ameaças ao bioma Amazônia incluem:

- I. Desmatamento e Queimadas.
- II. Mineração e garimpo ilegal.
- III. Agricultura e pecuária de larga escala.
- IV. Estabelecimento de grandes empreendimentos públicos, como a construção de hidrelétricas.

Estão corretos os itens

- (A) I e II, apenas.
- (B) III e IV, apenas.
- (C) I, II e III, apenas.
- (D) II, III e IV, apenas.
- (E) I, II, III e IV.

11. (IBFC/PC-BA/2022) Em 2021, mais de 40% da perda de floresta nativas no mundo ocorreu no Brasil, segundo dados do Global Forest Watch, plataforma de monitoramento de florestas desenvolvida pela



Universidade de Maryland. Esse mapeamento é feito há duas décadas a partir de análises de _____ (adaptado de G1, 2022).

Assinale a alternativa que preencha corretamente a lacuna.

- a) imagem de satélite.
- b) imagem de GPS.
- c) imagem de teodolito.
- d) imagem de pluviômetro.
- e) imagem de barômetro.

12. (PM-PI/NUCEPE/2022 – SOLDADO) “A Amazônia perdeu em abril [de 2021] 581 quilômetros quadrados de sua cobertura vegetal (43% acima dos valores desmatados em 2020), o maior índice de desmatamento no mês de abril desde 2016, quando foram destruídos 440 quilômetros quadrados, de acordo com medições do Instituto Nacional de Pesquisas Espaciais (Inpe). A área devastada nesse mês equivale a, aproximadamente, 69 estádios de futebol.”

OLIVEIRA, Joana. Desmatamento na Amazônia no mês de abril é o maior em seis anos, aponta Inpe. El País, 7 de maio de 2021. Disponível em: <https://brasil.elpais.com/brasil/2021-05-07/desmatamento-na-amazonia-no-mes-de-abrile-o-maior-em-seis-anos-aponta-inpe.html>

Sobre as consequências do acentuado desmatamento da Amazônia, é CORRETO afirmar que

- a) o desmatamento afeta as chuvas nas regiões Sul e Sudeste do Brasil, pois interfere no fluxo de umidade dos chamados rios aéreos, tendo impacto sobre reservatórios de hidrelétricas nessas regiões do país.
- b) o impacto do desmatamento sobre a fauna é insignificante, considerando que os animais migram para outras áreas.
- c) apesar dos impactos ambientais, não há impactos sociais relacionados ao desmatamento.
- d) o principal causador do desmatamento na Amazônia é o processo de expansão do parque industrial na região.
- e) o crescimento no desmatamento da Amazônia não gera repercussões nas relações econômicas e geopolíticas do Brasil no plano internacional.

13. (QUADRIX/CFT/2021 – ASSISTENTE ADMINISTRATIVO) Em 2020, apesar de os focos de incêndio na Amazônia terem sido os maiores dos últimos dez anos, como o bioma vizinho, Pantanal, foi poupado, o ecossistema amazônico deve se regenerar em um período de dois anos.

(QUADRIX/CFT/2021 – JORNALISTA) Acerca do desenvolvimento sustentável e da ecologia nos ambientes florestados do Brasil, julgue os itens a seguir.



14. A maior ameaça ambiental sofrida pelo ecossistema amazônico está ligada à derrubada da cobertura vegetal original por pastagens, monoculturas agrícolas, mineração e queimadas.

15. As queimadas dos dois últimos anos na Amazônia e no Pantanal causaram falta de subsistência para parte das populações urbanas e rurais das regiões Norte e Centro-Oeste do Brasil.

16. Os impactos ambientais decorrentes do desmatamento, além de prejudicarem o ecossistema, danificam a imagem do Brasil no exterior, a ponto de países como Alemanha e Noruega bloquearem recursos destinados a projetos de preservação ambiental da Amazônia brasileira.

17. (QUADRIX/CREFONO 4ª REGIÃO/2021 – ASSISTENTE ADMINISTRATIVO) Por ser a maior floresta tropical do Planeta, a Amazônia chamou a atenção do mundo pela dimensão das queimadas nela ocorridas em 2020.

(CEBRASPE/CBM-AL/2021 – SOLDADO) Segundo o IMAZON, em abril de 2021, a Amazônia teve o maior registro de desmatamento para esse mês em uma década. 778 km² de floresta foram devastados, o que representa um aumento de 45% em relação a abril de 2020.

Internet: (com adaptações).

Com relação à Amazônia e aos possíveis desdobramentos da dinâmica econômica e ambiental desse bioma, julgue os itens a seguir.

18. Os recordes de desmatamento que a Amazônia registrou no último ano devem-se estritamente a duas atividades econômicas: a pecuária extensiva em latifúndios do estado do Amazonas e a mineração em terras indígenas do estado de Roraima.

19. O desmatamento da Amazônia, assim como as queimadas no Pantanal, preocupa parte da sociedade, ambientalistas e especialistas, pois esses ecossistemas são alguns dos ambientes de fauna e flora com a maior biodiversidade do país.

20. A Amazônia encontra-se em uma região de grande potencial hidráulico do Brasil onde foram feitos investimentos bilionários para a construção das hidrelétricas de Belo Monte, Jirau e Santo Antônio.

21. Quanto maior for a retirada da cobertura vegetal, menor será a erosão e o empobrecimento do solo e da biodiversidade fluvial, devido à concentração dos restos orgânicos trazidos pela enxurrada e depositados no curso dos rios, o que é um dos maiores problemas ambientais do Brasil na atualidade, com aumento do desmatamento.

22. Em razão do aumento do desmatamento, o Brasil deixa de receber recursos financeiros internacionais destinados à preservação ambiental.

23. (CESGRANRIO/BASA/2021 – TÉCNICO CIENTÍFICO) As mudanças climáticas geram uma série de impactos em nossas vidas. Projeções apontam consequências como aumento de temperatura, redução de chuvas e, conseqüentemente, períodos mais secos em algumas regiões, incluindo a América do Sul. O Brasil está em chamas, e isso não é uma figura de linguagem. A destruição ambiental não respeita fronteiras nem biomas, e o País enfrenta hoje uma das piores crises ambientais de sua história, com consequências potencialmente danosas para toda a sociedade.



Disponível em: <<https://www.greenpeace.org/brasil/blog/brasil--em-chamas-negando-as-aparencias-e-disfarcando-as-evidencias/>>. Acesso em: 31 jan. 2021. Adaptado.

A respeito da crise ambiental no Brasil, os biomas da Amazônia, do Pantanal e do Cerrado foram severamente afetados em 2020 devido ao seguinte fator principal:

- (A) aumento da densidade demográfica nas áreas rurais
- (B) incêndios expansivos provocados pela ação humana
- (C) redução exponencial da área de pastagens plantadas
- (D) municipalização das ações de fiscalização nos biomas
- (E) diminuição do tráfego nos eixos rodoviários e ferroviários

24. (IBADE/IDAF-AC/2020 – TÉCNICO EM DEFESA AGROPECUÁRIA E FLORESTAL) As declarações do presidente brasileiro, Jair Bolsonaro, sobre a crise na Amazônia continuam tendo desdobramentos importantes na Europa nesta sexta-feira (23/08/2019). O escritório do presidente (...) Emmanuel Macron, acusou Bolsonaro de ter mentido durante o encontro do G20 em Osaka, no Japão, em junho ao minimizar as preocupações com o a mudança climática.

(G1, 23/08/2019. Disponível em: <<https://glo.bo/36XVqJa>>. Adaptado)

A matéria trata do impasse diplomático entre Jair Bolsonaro e Emmanuel Macron, presidente da:

- (A) Itália.
- (B) Alemanha.
- (C) França.
- (D) Inglaterra.
- (E) Dinamarca

25. (IBADE/IDAF-AC/2020 – ENGENHEIRO AGRÔNOMO) As queimadas na Amazônia têm relação direta com o desmatamento. Especialistas comentaram ao G1 que o fogo é parte da estratégia de "limpeza" do solo que foi desmatado para posteriormente ser usado na pecuária ou no plantio.

(G1, 23/08/2019. Disponível em: <<https://glo.bo/2H0W1zd>>. Adaptado)

Esta estratégia de "limpeza" do solo na Amazônia é comumente chamada de?

- (A) Ciclo de reciclagem da Amazônia
- (B) Ciclo de ocupação da Amazônia
- (C) Ciclo de desmatamento da Amazônia



(D) Ciclo de devastação da Amazônia

(E) Ciclo de desflorestação Amazônia

26. (QUADRIX/CRN 9/2019 – AUXILIAR OPERACIONAL) A União Europeia é o segundo maior comprador do agronegócio brasileiro, tendo sido o destino de 17,6% das exportações do setor neste ano, que geraram US\$ 9,9 bilhões até julho, ficando atrás apenas da China.

Internet: <<https://g1.globo.com>> (com adaptações).

Tendo o texto acima apenas como referência inicial, julgue o item.

Atritos entre o governo brasileiro e países da Europa aumentaram o temor, entre os representantes do agronegócio nacional, de possíveis retaliações por parte daqueles países às queimadas na Amazônia.

(QUADRIX/CRO-AC/2019 - ASSISTENTE JURÍDICO) O ministro da Cooperação Econômica e do Desenvolvimento da Alemanha, Gerd Müller, se reuniu, no dia 9 de julho de 2019, às 15h30, com o ministro do Meio Ambiente do Brasil, Ricardo Salles. De acordo com a embaixada da Alemanha, os ministros falaram sobre proteção climática, proteção da Amazônia e desenvolvimento sustentável.

Internet: <<https://g1.globo.com>> (com adaptações).

Tendo o texto acima apenas como referência inicial e refletindo sobre temas correlatos, julgue os itens.

27. Não participando, até o momento, do Fundo Amazônia, a Alemanha havia mencionado a possibilidade de fazer aportes àquele instituto caso o desmatamento na região se reduza nos próximos anos.

28. O Brasil tem encontrado na França um aliado de suas políticas ambientais, sendo aquele país um dos maiores defensores também do acordo União Europeia-Mercosul.



- | | | |
|-------|-------|-------|
| 1. E | 11. A | 21. E |
| 2. A | 12. A | 22. C |
| 3. C | 13. E | 23. B |
| 4. E | 14. C | 24. C |
| 5. C | 15. E | 25. C |
| 6. E | 16. C | 26. C |
| 7. C | 17. C | 27. E |
| 8. B | 18. E | 28. E |
| 9. E | 19. C | |
| 10. E | 20. C | |



LISTA DE QUESTÕES – A QUESTÃO HÍDRICA - MULTIBANCAS

(QUADRIX/CFT/2021 – ASSISTENTE ADMINISTRATIVO) Os danos ambientais e a mudança do clima estão levando a crises relacionadas aos recursos hídricos, que podem ser percebidas em todo o mundo. As inundações, as secas e a poluição da água tornam-se ainda piores pela degradação da vegetação, do solo, dos rios e dos lagos. Quando se vira as costas aos ecossistemas, impede-se que todos recebam água limpa para sobreviver e prosperar.

Internet: <<https://pt.unesco.org>> (com adaptações).

Tendo o texto acima como referência inicial, julgue os itens a seguir, com relação aos recursos hídricos.

1. O texto indica que os problemas associados aos recursos hídricos são de cunho natural, em que a atuação do homem é completamente inexpressiva.
2. A escassez hídrica em países situados em desertos quentes, como Israel, impede a produção agrícola, cuja colheita é totalmente dependente de irrigação.
3. Apesar de o Brasil deter a maior parte da água doce do Planeta, uma parcela significativa da população não possui acesso à água potável e ao esgoto encanado.
4. As campanhas para que a população economize água são o caminho para a solução das crises relacionadas aos recursos hídricos, pois o maior desperdício de água está concentrado nas residências urbanas.
5. (CEBRASPE/FUB/2018 – CARGOS DE NÍVEL MÉDIO) O projeto de transposição do rio São Francisco é uma política pública que objetiva gerar mais energia hidráulica para o produtor rural do sertão nordestino.
6. (CESGRANRIO/LIQUIGÁS/2018 - PROFISSIONAL JÚNIOR CIÊNCIAS CONTÁBEIS) A água é um paradoxo brasileiro. Temos as maiores reservas de água doce do mundo (12,8%), mas a maior parte está na região amazônica fora do alcance da maioria da população. A ilusão de abundância gerou um cenário de desperdício e a crença de que a água nunca iria faltar. As chuvas causam catástrofes imediatas, mas a seca é o principal desastre natural do Brasil. Hoje vivemos num cenário de crise hídrica recente ou em curso no semiárido, no Distrito Federal, no Sistema Cantareira (SP) e em Paraíba do Sul (RJ).

Disponível em: <https://infograficos.oglobo.globo.com/brasil/brasil-sem-agua-o-seculo-da-escassez.html>.
Acesso em: 22 mar. 2018. Adaptado.

Além dos desastres naturais, o consumo descontrolado também contribui para a redução da disponibilidade de água. Qual fator econômico é responsável, no Brasil e no mundo, pela maior fatia de consumo desse recurso?

a) Indústrias



- b) Termelétricas
- c) Abastecimento urbano
- d) Abastecimento animal
- e) Irrigação na agricultura

7. (FGV/COMPESA/2018 – ANALISTA DE GESTÃO) O Projeto da Integração do Rio São Francisco com as bacias hidrográficas do Nordeste é uma ação do governo federal que integra a política nacional para os recursos hídricos, visando solucionar o problema da seca que acomete a região do semiárido brasileiro. A respeito dos impactos desse projeto, analise as afirmativas a seguir.

I. Entre as regiões beneficiadas pelos dois eixos da transposição do rio São Francisco estão o sertão do Ceará, do Piauí e do Maranhão, ao norte, e o agreste pernambucano e paraibano, a leste.

II. Entre os impactos positivos esperados constam o aumento da oferta e da garantia hídrica de abastecimento humano e animal para toda a região receptora, e a dinamização da economia regional.

III. Entre os impactos negativos denunciados constam a modificação da composição das comunidades biológicas aquáticas nativas das bacias receptoras e a interferência no patrimônio cultural ribeirinho.

Está correto o que se afirma em

- a) II, somente.
- b) I e II, somente.
- c) I e III, somente.
- d) II e III, somente.
- e) I, II e III.



GABARITO

- 1. E
- 2. E
- 3. C

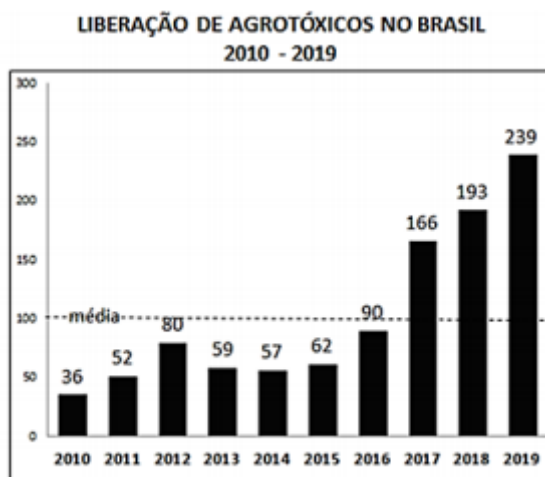
- 4. E
- 5. E
- 6. E

- 7. D



LISTA DE QUESTÕES – AGROTÓXICOS - MULTIBANCAS

1. (IBADE/PREFEITURA DE VILA VELHA/2020 – ANALISTA AMBIENTAL) A ANVISA aprovou em 2019 o novo marco regulatório para agrotóxicos. Dos 2.300 agrotóxicos registrados no Brasil, a ANVISA já recebeu dados para reclassificação de 1.981 produtos. Em 2017, 2018 e 2019 houve aumento, acima da média (entre 2010 e 2019) na liberação de agrotóxicos no Brasil.



Fonte: Greenpeace Brasil 25 de junho de 2019

Agrotóxicos são produtos e agentes de processos físicos, químicos ou biológicos. Sobre os agrotóxicos no Brasil é correto afirmar que:

I - são destinados ao uso nos setores de produção, no armazenamento e beneficiamento de produtos agrícolas, nas pastagens, na proteção de florestas, nativas ou plantadas, e de outros ecossistemas e de ambientes urbanos, hídricos e industriais.

II - tem a finalidade de alterar a composição da flora ou da fauna, a fim de preservá-las da ação danosa de seres vivos considerados nocivos, bem como as substâncias e produtos empregados como desfolhantes, dessecantes, estimuladores e inibidores de crescimento.

III - sua avaliação de risco, por análise sistematizada, é realizada pelo Ministério de Minas e Energia e pelo Ministério da Agricultura, Pecuária e Abastecimento sob a supervisão do Gabinete de Segurança Institucional da Presidência da República.

Está (ão) correta(s):

(A) somente I.

(B) somente II.

(C) somente III.

(D) somente I e II.



(E) somente II e III.

2. (VUNESP/PREFEITURA DE REGISTRO/2018 – VÁRIOS CARGOS) O projeto de lei que modifica o registro de agrotóxicos foi aprovado em 25 de junho numa comissão da Câmara de Deputados. A discussão se arrasta há meses.

(G1, 1 jul. 18. Disponível em: < <https://goo.gl/tFztEs>>. Adaptado)

Entre as alterações propostas no projeto, é correto identificar

- a) a restrição à presença de substâncias cancerígenas nos agrotóxicos.
- b) a ampliação de órgãos e ministérios que devem aprovar novos produtos.
- c) a submissão de novos agrotóxicos a rigorosos testes de resíduos ambientais.
- d) o número limite de agrotóxicos que podem ser utilizados nas áreas rurais do país.
- e) a redução do prazo máximo para a aprovação de um novo agrotóxico.

3. (VUNESP/PC SP/2018 – AGETEL) O Ministério Público Federal (MPF) emitiu um parecer classificando como inconstitucionais as propostas do Projeto de Lei no 6.299/2002, que altera as regras do uso e registro de agrotóxicos no País, e propõe uma série de alterações no setor. As propostas do projeto foram duramente criticadas em notas publicadas pelo Ministério da Saúde, Instituto Brasileiro do Meio Ambiente e dos Recursos Naturais Renováveis (Ibama) e Agência Nacional de Vigilância Sanitária (Anvisa) e, agora, pela 4a Câmara do Ministério Público Federal.

(<http://sustentabilidade.estadao.com.br>. 07.05.2018. Acesso em 12.05.2018. Adaptado)

Um dos pontos apontados pelos críticos refere-se ao fato de o mencionado Projeto de Lei

- a) aumentar a responsabilização do Ibama e da Anvisa sobre a fiscalização e controle de qualidade dos agrotóxicos produzidos no Brasil.
- b) diminuir a competitividade internacional do agronegócio brasileiro, pela proposição restritiva de uso dos defensivos agrícolas.
- c) criar barreiras à exportação de commodities, pois haverá maior burocratização dos procedimentos para o uso de fitossanitários.
- d) poder abrir brechas para a revogação da proibição do registro de agrotóxicos cancerígenos e causadores de graves problemas de saúde.
- e) dificultar a criação de novos produtos para as atividades agrícolas, uma vez que amplia as exigências formais para sua liberação.





1. D
2. E
3. D



LISTA DE QUESTÕES – A QUESTÃO INDÍGENA – MULTIBANCAS

1. (CEBRASPE/TJ-SC/2023) O projeto de lei que trata do marco temporal para a demarcação de terras indígenas no Brasil, tem como principal objeto

a) a expansão de atividades econômicas das terras indígenas em áreas de preservação permanente para a defesa da conservação ambiental.

b) a ampliação das terras indígenas Xokleng, do interior da floresta amazônica para o cerrado.

c) a determinação da reserva Raposa-Serra do Sol, em Brasília, para que a terra seja expropriada e destinada à atividade pastoril.

d) a proteção da terra indígena Ibirama-Laklãnõ, para que seu território seja incorporado ao mercado imobiliário.

e) a disposição de indígenas em terras que ocupavam ou disputavam em 5 de outubro de 1988, data da promulgação da Constituição Federal de 1988.

2. (FGV/MPE-SP/2023) Em janeiro de 2023 foi constatada uma grave crise de desassistência sanitária e nutricional em Território Yanomami, o que levou o Ministério da Saúde a declarar um estado de “Emergência em Saúde Pública de Importância Nacional” na região e instituir um centro de operações.



O quadro de desnutrição crônica e de vulnerabilidade sanitária em que se encontram os Yanomami, hoje, está relacionado



- A) às epidemias de gripe e Covid-19, causadas pelo contato com trabalhadores de soja que têm avançado nas terras demarcadas, o que levou ao adoecimento de tribos inteiras.
- B) à contaminação de rios e peixes com mercúrio, em função do garimpo ilegal de ouro, o que provocou insegurança alimentar e mortandade por desnutrição e intoxicação.
- C) à degradação da floresta pelas queimadas em função da abertura de pastos, o que afeta a caça e a disponibilidade de produtos florestais consumidos na reserva indígena.
- D) à falta de unidades básicas de saúde em operação na região dos Yanomami, o que poderia ser resolvido com a demarcação das terras dos grupos indígenas dessa etnia.
- E) ao controle dos rios por criminosos associados às rotas venezuelanas do tráfico de drogas, o que impede aos índios de circular pela floresta e ter acesso aos rios e à alimentação.

3. (FUNDEP/PREFEITURA DE LAVRAS-MG/2023) Em debate há mais de 10 anos no Brasil, há uma tese jurídica que propõe a alteração na política de demarcação de terras indígenas. Tal tese defende que os indígenas só podem reivindicar a demarcação das terras por eles ocupadas até 5/10/1988, data de promulgação da Constituição de 1988.

O texto se refere à(ao):

- A) Fundação Nacional do Índio.
- B) Terra indígena.
- C) Demarcação das terras indígenas.
- D) Marco temporal indígena.

4. (QUADRIX/CAU-SC/2022 – ASSISTENTE ADMINISTRATIVO) A Organização das Nações Unidas (ONU), indígenas, organizações não governamentais (ONGs) e familiares manifestaram sua indignação sobre o caso, tanto que a ONU pediu ao Brasil para “acrescentar seus esforços para proteger os defensores dos direitos humanos e os povos indígenas” por parte de “atores estatais e não estatais”, disse em Genebra o porta-voz do alto comissariado da ONU para os direitos humanos, Ravina Shamdasani.

Internet: <<https://noticias.uol.com.br>> (com adaptações).

O texto acima refere-se à(ao)

- (A) chacina acontecida com indígenas, no norte da Paraíba, em disputa por território do tráfico de drogas.
- (B) repercussão das ameaças direcionadas a ONGs da Amazônia que defendem direitos humanos e comunidades tradicionais.
- (C) ausência do Estado brasileiro no controle e na demarcação de terras voltadas para a reforma agrária.
- (D) assassinato de dois ativistas — um jornalista e um indigenista — no Vale do Javari.



(E) revolta em relação ao desmatamento e às queimadas na Amazônia, que impactam as comunidades tradicionais.

(QUADRIX/2022/CRP 11ª REGIÃO-CE – ASSISTENTE ADMINISTRATIVO) Julgue os itens a seguir, relativos a temas atuais do Brasil e do mundo.

5. Apesar de o garimpo ilegal em terras indígenas Yanomami ter decrescido, a violência contra os ativistas ambientais e os povos nativos continua aumentando.

6. As investigações periciais da Polícia Federal apontam para uma grande dificuldade na descoberta dos responsáveis pela morte do indigenista Bruno Pereira e do jornalista Dom Phillips, pois, além de os corpos dos ativistas terem sido carbonizados, ainda não foi encontrada a embarcação na qual eles viajavam antes do seu desaparecimento.

7. **(VUNESP/PM-SP/2022 – SOLDADO)** Indígenas voltaram a protestar hoje (27.08) contra o marco temporal para demarcação de terras indígenas. O grupo está em Brasília para acompanhar a votação do tema, que chegou a entrar na pauta do Supremo Tribunal Federal (STF) esta semana, e deve ser retomado na quarta-feira (01.09). Durante o julgamento, os ministros poderão discutir a questão do marco temporal.

(Agência Brasil. <https://bit.ly/3cRv68L> .Publicado em 27.08. Acesso em 11.11.2021. Adaptado)

O marco temporal

(A) deve ser proposto pelo Congresso Nacional para ser incorporado à Constituição Federal de 1988.

(B) tem sido discutido por grupos indígenas que se sentem desprotegidos em áreas de fronteiras.

(C) incorpora um conjunto de leis envolvendo conteúdos relacionados à posse de terra e aos assuntos trabalhistas.

(D) impede os indígenas de usar as terras para exploração de madeira e garimpagem.

(E) é defendido por ruralistas que veem a possibilidade de ocupar terras indígenas.

(QUADRIX/CFT/2021 – JORNALISTA) A intensa ocupação da região Amazônica nas últimas décadas e o avanço de atividades ambientalmente degradantes constituem um contexto de vulnerabilidade para esse ecossistema e, conseqüentemente, para os povos indígenas e suas terras. A ação conjunta entre FUNAI e IBAMA já mostrou bons resultados na inibição de infrações ambientais na Amazônia e em terras indígenas no passado. O fortalecimento da vigilância e do combate às ameaças ambientais dentro e no entorno das terras indígenas é essencial para a proteção efetiva desses territórios e para garantir a promoção dos direitos dos povos indígenas da Amazônia.

Internet: <<http://www.ccst.inpe.br>> (com adaptações).

Acerca do desenvolvimento sustentável e da ecologia nos ambientes florestados do Brasil, julgue os itens a seguir.



8. A vulnerabilidade do ecossistema amazônico apontada no texto está tão somente ligada ao julgamento, pelo Supremo Tribunal Federal, das demarcações das terras indígenas no chamado “marco temporal”.

9. O desenvolvimento sustentável tem maior eficácia no interior das áreas em que vivem os povos nativos da floresta, já que indígenas e ribeirinhos imprimem um ritmo mais condizente com o que a natureza pode oferecer.



GABARITO

- 1. E
- 2. B
- 3. D

- 4. D
- 5. E
- 6. E

- 7. E
- 8. E
- 9. C



RETROSPECTIVAS MENSAS DE ATUALIDADES

Caros Alunos,

Esta é uma aula com as retrospectivas mensais de Atualidades. Na medida em que as aulas forem sendo gravadas, os vídeos vão sendo disponibilizados na aula.

Entre os dias 05 e 10 de cada mês são postados os vídeos da Retrospectiva de Atualidades do Mês Anterior. Vá acompanhando pelo seu perfil de aluno do curso.

Em cada mês são abordados os principais fatos internacionais e nacionais de Atualidades que podem ser cobrados na nossa prova.

Os slides com as notícias estão disponíveis na opção "baixar slides", para serem baixados e para a leitura junto aos vídeos de cada mês. Veja na imagem a seguir:

The screenshot displays the 'Aula 07' interface. At the top left, it says 'Aula 07' and 'Retrospectivas Mensais de Atualidades'. On the right, there is a checkbox labeled 'Não estudei'. Below the title is a video player with a purple background and a progress bar showing 00:00 / 55:13. To the right of the video player is a list of videos under the heading 'Vídeos¹⁷'. The list includes 'Vídeo 1 Retrospectiva 2021 - Parte 01', 'Vídeo 2 Retrospectiva 2021 - Parte 02', 'Vídeo 3 Retrospectiva 2021 - Parte 03', 'Vídeo 4 Retrospectiva 2021 - Parte 04', and 'Vídeo 5'. Below the video player is a 'Visualizado' checkbox. Underneath the video player and list is a section for 'Baixar Livro Eletrônico versão original'. Below this are two buttons: 'Baixar Slides' (highlighted with a red arrow) and 'Fórum de Dúvidas'. At the bottom, there are two dropdown menus: 'Opções de download' (with a subtext 'Vídeo e áudio disponíveis') and 'Anotações' (with a subtext 'Vídeo 1').

Bons estudos,

Leandro Signori



Sumário

Retrospectiva de Atualidades – Outubro/2024.....	3
1 – Guerras e conflitos geopolíticos.....	4
1.1 Guerras Israel x Hamas.....	4
1.2 Guerras Israel x Hezbollah.....	4
1.3 Tensões entre Israel e Irã.....	5
2 – Política e Sociedade Internacional.....	5
2.1 México.....	5
2.2 Venezuela.....	7
2.3 Argentina.....	8
2.4 França.....	8
2.5 Vietnã.....	9
3 – BRICS.....	9
4 – Prêmio Nobel 2024.....	10
5 – Economia Brasileira.....	14
6 – Política e Sociedade Brasileira.....	15
6.1 Eleições Municipais no Brasil em 2024.....	15
6.2 Educação.....	21
6.3 Trabalho escravo.....	22
6.4 Brasileira premiada no exterior.....	23
6.5 Incêndio no Brás.....	23
7 – Ecologia, Desenvolvimento Sustentável e Meio Ambiente.....	24
7.1 Espanha.....	24
7.2 Repactuação de Mariana.....	25



8 – Tecnologia.....	26
9 – Cultura.....	27
10 – Falecimento de personalidades	28



RETROSPECTIVA DE ATUALIDADES – OUTUBRO/2024

Caros alunos,

A partir de outubro de 2024 trago mais um material para ajudá-los nas suas aprovações em concursos públicos. A Retrospectiva de Atualidades em PDF será disponibilizada mensalmente nos meus cursos de Atualidades.

De forma objetiva serão abordados fatos selecionados ocorridos em cada mês. O material contempla os fatos abordados nas aulas das Retrospectivas Mensais de Atualidades, além de outros fatos relevantes ocorridos no mês.

O material foi elaborado com muitas e muitas horas de trabalho, com muita dedicação e carinho.

É um material para vocês lerem, relerem, destacarem, rabiscarem. Aproveitem bem o material, desfrutem dele, façam do mesmo sua revisão mensal de Atualidades.

Bons estudos!

Professor Leandro Signori



1 – Guerras e conflitos geopolíticos

1.1 Guerras Israel x Hamas

A guerra completou 1 ano no dia 7 de outubro de 2024. Teve início quando em 7 de outubro de 2023, terroristas do Hamas atacaram o território israelense, matando centenas de pessoas e sequestrando mais de 200 israelenses, tornados reféns.

Israel mata líder do Hamas e mentor do atentado de 7 de outubro

O Exército de Israel anunciou a morte de Yahya Sinwar, líder do Hamas na Faixa de Gaza, durante uma operação militar em Rafah, no sul do território. Sinwar foi o mentor do ataque terrorista do Hamas em 7 de outubro de 2023. Na época era o comandante militar do Hamas. Com a morte de Ismail Haniyeh, em 31 de julho, assumiu também a liderança política do Hamas.

1.2 Guerras Israel x Hezbollah

Israel mata possível sucessor na liderança do Hezbollah

Israel confirmou a morte de Hashem Safieddine, considerado o possível sucessor de Hassan Nasrallah no comando do Hezbollah, durante um bombardeio realizado no sul de Beirute, no final de setembro.

Drone do Hezbollah atingiu janela da casa de Netanyahu em Israel

O grupo extremista libanês Hezbollah lançou um drone contra a casa do primeiro-ministro de Israel, Benjamin Netanyahu, que atingiu a janela de seu quarto. O premiê israelense e sua família não estavam na casa no momento do ataque, que foi reivindicado pelo Hezbollah



Janela da casa de Benjamin Netanyahu foi atingida por um drone do Hezbollah
Foto: Reprodução/Ynet

1.3 Tensões entre Israel e Irã

Em outubro de 2024, as tensões entre Israel e o Irã escalaram significativamente, resultando em uma série de eventos marcantes:

1º de outubro: O Irã lançou aproximadamente 200 mísseis balísticos contra Israel, atingindo áreas como Tel Aviv e Jerusalém. O motivo do ataque foi uma retaliação a mortes de aliados do governo iraniano, como Hassan Nasrallah, que era chefe do grupo extremista Hezbollah. O sistema de defesa israelense, conhecido como "Cúpula de Ferro", interceptou muitos dos projéteis, mas houve relatos de danos materiais e feridos leves.

25 de outubro: Em resposta ao ataque iraniano, Israel realizou bombardeios aéreos direcionados contra instalações militares no Irã, incluindo fábricas de mísseis e sistemas de defesa aérea. O governo israelense afirmou que essas ações visavam neutralizar ameaças iminentes à segurança nacional.

28 de outubro: O Irã condenou os ataques israelenses e prometeu retaliar no momento apropriado. Autoridades iranianas também alertaram que os Estados Unidos, aliados de Israel, seriam responsabilizados pelas consequências.

2 – Política e Sociedade Internacional

2.1 México

Senado mexicano aprova a reforma do Poder Judiciário

Medida foi proposta pelo governo do presidente **Andrés Manuel López Obrador**.

O Senado do México aprovou a questionada **reforma do Poder Judiciário** que altera a Constituição mexicana, a partir de 2025, permitirá a eleição de juízes por voto popular. A votação foi tumultuada e teve que ser transferida de lugar.

Principais pontos da reforma:

1. Eleição popular de juízes e ministros

Uma das alterações mais notáveis foi a introdução de eleições diretas para cargos judiciais, incluindo juízes federais e ministros da Suprema Corte de Justiça da Nação (SCJN). A partir de 2025, os cidadãos mexicanos terão o direito de eleger diretamente esses representantes, com mandatos de nove anos e possibilidade de uma reeleição consecutiva. Essa medida visa aproximar o Judiciário da população e aumentar sua legitimidade democrática.

López Obrador garante que as eleições buscam livrar o Judiciário da corrupção, mas a oposição, ONGs e os Estados Unidos alegam que a medida mina a independência judicial e deixa os juízes vulneráveis ao tráfico de drogas, que já afeta a política.



A eleição popular de cerca de 1.600 juízes e magistrados federais, além de membros do Supremo Tribunal, é um caso único. Embora nos Estados Unidos alguns estados elejam juízes locais, o caso mais semelhante ao do México é o da Bolívia, onde os ministros dos tribunais superiores são eleitos pelo voto popular. Juízes de primeira instância, no entanto, são nomeados por um conselho da Magistratura.

2. Corte na Suprema Corte

O número de ministros da SCJN foi reduzido de 11 para 9, e seus mandatos passaram de 15 para 12 anos. Além disso, a presidência da Corte terá um mandato de dois anos, rotativo entre os ministros mais votados.

3. Novo órgão de supervisão

Foi estabelecido o Tribunal de Disciplina Judicial, substituindo o Conselho da Magistratura Federal. Composto por cinco membros eleitos por voto popular para um mandato único de seis anos, esse órgão tem a autoridade de sancionar, suspender ou destituir juízes, sem possibilidade de recurso contra suas decisões.

A reforma elimina o Conselho Federal da Magistratura, que administra e fiscaliza a conduta dos funcionários judiciais, e determina a criação de um órgão administrativo e de um Tribunal Judicial Disciplinar

No México, onde há cerca de 80 homicídios por dia, a impunidade ultrapassa os 90%, segundo a Suprema Corte, que chama a atenção para a necessidade de melhorar as capacidades dos órgãos de investigação antes de promover uma "demolição" do Poder Judiciário.

4. Juízes sem rosto

Em casos envolvendo o crime organizado, a reforma permite que os processos sejam conduzidos por "juízes sem rosto", cujo anonimato busca proteger a integridade dos magistrados. No entanto, essa medida gerou preocupações sobre a transparência e os direitos dos acusados. O Escritório do Alto Comissariado das Nações Unidas para os Direitos Humanos no México criticou essa medida, por considerar que impede o reconhecimento da idoneidade e competência dos juízes. A figura dos "juízes sem rosto" já foi aplicada em outros países da região, como Colômbia e El Salvador.

5. Limitação Salarial

Foi estabelecido um teto salarial para os juízes, garantindo que nenhum magistrado receba remuneração superior à do presidente da República. Ao se aposentarem, os juízes terão direito a três meses de salário e 20 dias de pagamento por ano de serviço.

Repercussões e Críticas:

A reforma foi recebida com controvérsias. Críticos argumentam que a eleição popular de juízes pode comprometer a independência judicial, sujeitando os magistrados a pressões políticas e eleitorais. Organizações internacionais, como a Human Rights Watch, expressaram preocupações de que as mudanças possam enfraquecer a imparcialidade do Judiciário e afetar negativamente os direitos humanos no país.

Além disso, a introdução de "juízes sem rosto" foi criticada por potencialmente violar o direito a um julgamento justo, uma vez que os acusados não teriam conhecimento da identidade dos julgadores.



Em suma, a reforma do Poder Judiciário no México em 2024 representa uma tentativa de transformar profundamente o sistema judicial do país. Embora tenha sido concebida para aumentar a participação cidadã e combater a corrupção, as mudanças suscitaram debates sobre possíveis impactos na independência e eficácia do Judiciário mexicano.

Oito juízes do Supremo do México renunciam simbolicamente em protesto contra reforma

A nova reforma judicial determina eleições diretas para cargos do Poder Judiciário.

Em novembro, a Suprema Corte do México deve julgar a constitucionalidade da reforma judiciária. Uma das propostas é suspender grande parte da nova lei, mantendo a eleição para cargos de magistrados.

Com a nova reforma judicial, o México se torna o único país a ter cargos no Poder Judiciário escolhidos por voto popular.

Dentre os critérios para apresentar uma candidatura é necessário ser advogado credenciado e ter ao menos 5 anos de experiência, além de referências de no mínimo 5 pessoas e o de não ter antecedentes criminais.

2.2 Venezuela

Procurador-geral da Venezuela acusa Lula de ser agente da CIA: 'Não é o mesmo que saiu da prisão'

Chefe do Ministério Público venezuelano, Tarek Saab é aliado do presidente Nicolás Maduro, que foi declarado vitorioso na eleição em 28 de julho sob acusações de falta de transparência. Governo Lula exigiu a publicação das atas eleitorais para reconhecer a vitória de Maduro.

O procurador-geral da *Venezuela*, Tarek William Saab, acusou o presidente do **Brasil**, *Luiz Inácio Lula da Silva* e do **Chile**, *Gabriel Boric*, de serem "**agentes da CIA**", o serviço federal de Inteligência dos *Estados Unidos*.

Saab argumentou também que Lula se elegeu apenas porque um órgão da Justiça brasileira --no caso, o Tribunal Superior Eleitoral (TSE)-- validou o resultado das urnas, e que o mesmo teria ocorrido na Venezuela. O mesmo argumento *também foi utilizado pelo presidente da Assembleia Nacional do país, Jorge Rodríguez*. **Porém, as situações não são análogas: diferentemente do que acontece na Venezuela, o TSE é um órgão independente e a eleição no Brasil foi validada por observadores internacionais.**

A oposição de Maduro, liderada por María Corina Machado e por **Edmundo González**, afirmam que González venceu o presidente no pleito e que têm provas disso. Eles publicaram as atas eleitorais de cerca de 80% das urnas do país em um site --o que rendeu investigações do Ministério Público venezuelano contra os dois e um mandado de prisão contra González.

Edmundo González buscou **asilo político na Espanha**, após passar um mês escondido em meio a perseguições pós-eleição do regime Maduro.



2.3 Argentina

Argentina tem monumento maior do que o Cristo Redentor

A imagem da Virgem do Vale faz parte dos seis quilômetros do percurso de peregrinação do Caminho da Fé.



A imagem na província de Catamarca tem 52 metros de altura. Em relação ao Cristo redentor, a vantagem é grande, já que a estátua brasileira mede 30 metros com outros oito restantes dedicados ao pedestal.

A relação do povo da Argentina com a Virgem tem mais de 400 anos. De acordo com o Vaticano, a adoração teve início depois que uma imagem de Nossa Senhora foi encontrada na gruta de Choya em 1620. Desde então, diversos milagres foram a ela atribuídos

2.4 França

Com queda nas vendas de vinho, França vai gastar R\$ 719 milhões para destruir 4% dos seus vinhedos

Maior produtor de vinho do mundo enfrenta uma grave crise relacionada à **mudança nos hábitos de consumo** e à **queda nas exportações**. Governo francês quer diminuir a oferta de vinho, para que, mesmo com menos gente comprando, o preço não diminua. O país é o **principal produtor de vinho** do mundo e, em 2023, contava com 789 mil hectares destinados à sua produção.

O principal motivo por trás da crise dos vinhos franceses é a diminuição do consumo, que **pode ser explicada por dois motivos:**

1. Mudança de hábito

Por incrível que pareça, as pessoas têm bebido menos vinho francês, especialmente os jovens, os quais têm optado por refeições rápidas, como aperitivos, que normalmente são acompanhados por cerveja.



2. Queda nas exportações

As exportações de vinhos franceses caíram 10% em 2023 em comparação ao ano anterior, porque a China está comprando menos vinhos franceses.

2.5 Vietnã

Dezenas de tigres e leões em cativeiro morrem no Vietnã; exames detectam gripe aviária

Suspeita é a de que animais tenham sido infectados ao comerem frango. Autoridades estão rastreando a origem da carne.

A disseminação da influenza aviária altamente patogênica, comumente conhecida como gripe aviária, para mamíferos, incluindo vacas, cães, gatos e até golfinhos em todo o mundo, levantou preocupações sobre a possível transmissão de humano para humano, informou a Reuters.

Em seu site, a Organização Mundial da Saúde (*OMS*) alerta contra o consumo de carne crua ou mal cozida e ovos de regiões que estão passando por surtos de influenza aviária devido ao alto risco de infecção.

3 – BRICS

O grupo BRICS realizou a sua XVI Cúpula nos dias 22 a 24 de outubro de 2024 em Kazan, Rússia, sob o tema "Fortalecendo o multilateralismo para o desenvolvimento e a segurança globais justos". Este encontro marcou a primeira participação dos novos membros: Egito, Etiópia, Irã e Emirados Árabes Unidos, ampliando o bloco que já contava com Brasil, Rússia, Índia, China e África do Sul.

As nações do Brics representam pouco menos da metade da população mundial e cerca de um terço do Produto Interno Bruto (PIB) global.

Principais Destaques:

BRICS Pay: Foi introduzido o sistema de pagamentos "BRICS Pay", destinado a facilitar transações entre os países membros, reduzindo a dependência de sistemas ocidentais como o SWIFT e promovendo o uso de moedas locais.

BRICS busca expansão: A cúpula decidiu criar a categoria de **Estados-Parceiros**, que reúne nações interessadas em acompanhar e referendar as discussões dos **Estados-Membros**. Os Estados Parceiros têm a oportunidade de participar de fóruns multilaterais do BRICS, contribuindo para discussões e iniciativas conjuntas. No entanto, em situações de divergência, as decisões finais permanecem sob a responsabilidade dos membros plenos do grupo. Treze países foram convidados para serem parceiros do BRICS: Argélia, Belarus, Bolívia, Cuba, Indonésia, Cazaquistão, Malásia, Nigéria, Tailândia, Turquia, Uganda, Uzbequistão e Vietnã, sinalizando a crescente influência do bloco no Sul Global.



Venezuela e Nicarágua ficam fora dos estados-Parceiros BRICS: A Venezuela e a Nicarágua foram excluídas da lista prévia que **definiu os países candidatos ao status de parceiros**. A exclusão se deveu ao veto do Brasil a esses dois países, que ocorre em meio ao estremecimento das relações do nosso país com ambos.

Em 7 de agosto, a Nicarágua expulsou o embaixador brasileiro em Manágua após o presidente Luiz Inácio Lula da Silva tentar mediar e apaziguar a **ofensiva do regime de Daniel Ortega contra a Igreja Católica no país**. O Brasil fez o mesmo com o embaixador nicaraguense um dia depois.

Já a proximidade de Lula com o presidente da Venezuela, **Nicolás Maduro**, se deteriorou após o resultado contestado das eleições venezuelanas. Lula, antes aliado de Maduro, sugeriu, ao lado de Estados Unidos e Colômbia, a **realização de novas eleições no país** e pediu a apresentação das atas eleitorais, o que o governo chavista rechaçou.

4 – Prêmio Nobel 2024



O Prêmio Nobel é anualmente concedido a pessoas que deram grandes contribuições para humanidade. A distribuição deste prêmio começou quando o químico, engenheiro, inventor, empresário e filantropo sueco, Alfred Nobel, morreu em 1896.

O prêmio Nobel recompensaria esforços excepcionais nas áreas em que ele mais se envolveu durante sua vida: física, química, fisiologia ou medicina, literatura e paz.

O Prêmio Nobel pode ser compartilhado por 3 indivíduos de cada uma das 6 áreas. Os laureados com o prêmio ganham uma medalha de ouro, um diploma e uma premiação financeira.

1. Medicina (Fisiologia ou Medicina)

Os cientistas americanos **Victor Ambros** e **Gary Ruvkun** receberam o Prêmio Nobel por suas descobertas sobre **microRNAs**, pequenas moléculas de RNA que regulam a expressão de genes.



Seus estudos trouxeram **novas perspectivas para o tratamento de doenças complexas**, como o câncer e doenças neurodegenerativas, uma vez que o entendimento dos microRNAs pode ajudar a desenvolver terapias que modulam a expressão genética de forma precisa.



O presidente do Comitê Nobel, Thomas Perlmann, anuncia os americanos Victor Ambros e Gary Ruvkun, que aparecem na tela, como vencedores do Prêmio Nobel de Fisiologia ou Medicina 2024, durante uma coletiva de imprensa no Instituto Karolinska, em Estocolmo, Suécia, em 7 de outubro de 2024. — Foto: Christine Olsson/TT News Agency via AP

2. Física

O Nobel de Física foi concedido aos cientistas **John J. Hopfield** (EUA) e **Geoffrey E. Hinton** (Reino Unido), que fizeram avanços cruciais em **redes neurais artificiais** e **aprendizado de máquina**. Seus trabalhos formaram a **base da inteligência artificial moderna**, permitindo que máquinas possam aprender e melhorar seu desempenho em tarefas complexas, como o reconhecimento de voz e de imagens.

O prêmio reconhece a importância dessas contribuições no desenvolvimento de tecnologias de IA que estão transformando diversas indústrias.



3. Química

David Baker (EUA), **Demis Hassabis** (Reino Unido) e **John M. Jumper** (EUA) foram premiados no campo da Química por seus avanços na **predição de estruturas proteicas**. Usando **inteligência artificial**, os cientistas desenvolveram métodos que permitem prever a forma tridimensional que uma proteína adquire a partir de

sua sequência de aminoácidos. Compreender a estrutura das proteínas é essencial para a bioquímica e a medicina, pois **facilita o desenvolvimento de novos medicamentos e tratamentos para doenças** genéticas e infecciosas



O anúncio dos vencedores do Prêmio Nobel 2024 de Química, em Estocolmo, na Suécia, nesta quarta-feira (9). — Foto: TT News Agency/Christine Olsson via REUTERS

4. Literatura

A escritora sul-coreana **Han Kang** recebeu o Nobel de Literatura por suas obras que exploram a **experiência humana em face da violência e do trauma**. Com uma prosa poética e intensa, Han aborda temas como a memória coletiva, a dor, e o desejo de redenção.



GETTY IMAGES

Han nasceu na Coreia do Sul, em 1970. Ela é a primeira mulher asiática a receber o Prêmio Nobel de Literatura

5. Paz

O Prêmio Nobel da Paz de 2024 foi atribuído à organização japonesa **Nihon Hidankyo**, que representa os hibakusha (sobreviventes das bombas atômicas de **Hiroshima** e **Nagasaki**). A organização tem como objetivo **promover a paz global e a abolição das armas nucleares**, compartilhando as histórias e os testemunhos dos sobreviventes para conscientizar o mundo sobre os horrores das armas atômicas. O prêmio reconhece o esforço de décadas da Nihon Hidankyo em advogar pela **não proliferação nuclear**, especialmente em um momento em que a estabilidade nuclear global está sob crescente ameaça.



6. Economia



Daron Acemoglu (Turquia), **Simon Johnson** (Reino Unido) e **James A. Robinson** (Reino Unido) foram reconhecidos pelo Nobel em Ciências Econômicas por suas pesquisas sobre a **importância das instituições para o desenvolvimento econômico**. Eles defendem que **instituições inclusivas**, que garantem direitos e oportunidades iguais para a população, são fundamentais para o **crescimento sustentável**. Eles também discutem como instituições extrativistas, que concentram poder e riqueza em um pequeno grupo, podem



minar a prosperidade a longo prazo. O prêmio reconhece a relevância dessas teorias para a **formulação de políticas econômicas**, especialmente em economias emergentes que buscam um desenvolvimento mais equitativo.

5 – Economia Brasileira

Ministério da Fazenda divulga lista de bets liberadas para atuar no Brasil

O Ministério da Fazenda divulgou a lista das empresas de apostas online, conhecidas como "bets", que estão aptas a continuar operando em território nacional.

Permissão atual vale durante 'transição' até o fim do ano; Regras mais rígidas sobre pagamentos e identificação de apostadores começam a valer em 2025.



— Foto: Getty Images (via BBC)

As empresas que não obtiverem permissão por parte do governo brasileiro serão proibidas de atuar no Brasil, por apresentarem irregularidades em relação à legislação.

Jogadores terão 10 dias para sacar os recursos nesses sites, para evitar que o dinheiro seja perdido.

A equipe econômica vai **banir** determinadas formas de pagamento para as apostas online, como os **cartões de crédito** e, também, o cartão do **Bolsa Família**.

Somente em agosto de 2024, **5 milhões de beneficiários do Bolsa Família gastaram R\$ 3 bilhões com as bets**.

Frentes de investigação

A Procuradoria Federal dos Direitos do Cidadão já instaurou um procedimento para verificar o **impacto das apostas online nas pessoas em situação de vulnerabilidade** social e econômica.

Em outra frente, a Polícia Federal abriu uma investigação preliminar para apurar a atuação de **grupos internacionais suspeitos de lavar dinheiro** no mercado de apostas esportivas.

6 – Política e Sociedade Brasileira

6.1 Eleições Municipais no Brasil em 2024

Partido que mais elegeu Prefeitos: PSD (venceu em 887 Municípios), na frente de MDB e PP

Quantidade de vencedores por legenda:

- **PSD:** 887
- **MDB:** 856
- **PP:** 747

Essa é a **primeira vez em ao menos 20 anos** que o MDB é superado por outra legenda em total de prefeituras pelo país.

Ao todo, o país teve disputas em 5.569 municípios.

Maior crescimento

O **PSD**, fundado em 2011 por Gilberto Kassab, foi o partido que mais avançou em números absolutos de prefeitos eleitos. O total de municípios conquistados pela sigla subiu 35%.

Maior queda

Os dados também mostram o encolhimento do **PSDB** pelo país. A sigla — que governou o estado de São Paulo por quase 30 anos e travou importantes disputas com o PT pelo protagonismo nacional — viu o número total de cidades conquistadas cair 48%, tornando-se a sigla com as **maiores perdas absolutas pelo país** em relação às últimas eleições municipais, em 2020.



O resultado eleitoral do PSDB em São Paulo ajuda a exemplificar o momento pelo qual passa o partido. O candidato da legenda para a disputa na capital paulista, José Luiz Datena, obteve apenas 1,84% dos votos válidos, **número menor do que o vereador mais votado da cidade.**

A sigla que tem em sua história nomes como Fernando Henrique Cardoso, José Serra, Mário Covas e Geraldo Alckmin **não elegeu nenhum vereador em São Paulo.**

Por região

Centro-Oeste

O União Brasil foi o partido com mais prefeitos eleitos na região, com 33% do total. Na sequência, aparecem MDB, com 16%, e PSDB, com 12% dos prefeitos. Com o resultado, o União segue na liderança do Centro-Oeste, já que em 2020 o DEM liderava com 99 prefeitos eleitos -- DEM e PSL se fundiram em 2022 e criaram o União Brasil.

Nordeste

O MDB somou 281 prefeitos eleitos (16% do total), superando o PP, que liderou em 2020 (à época, fez 289 prefeituras). Agora, o PP terminou na 4ª posição, com 214 eleitos (12%), atrás de PSD (274 ou 15%) e empatado com o PSB (214 ou 12%), além do MDB.

Partido do presidente Lula, o PT melhorou seu desempenho na região em comparação a 2020: aumentou 89%, da 9ª posição, com 90 prefeitos (5%), para a 5ª, com 170 eleitos (9% do total).

Norte

Como ocorre desde 2000, o MDB segue como partido que mais elegeu prefeitos na região: 110 (25%). Na sequência estão União Brasil, com 101 (23%), e Republicanos, com 81 (18%).

Sudeste

O partido com melhor desempenho no Sudeste foi o PSD, que pulou da 4ª posição em 2020 para a liderança de prefeitos eleitos nesta eleição: de 154 para 354 (22% do total). Na 2ª posição ficou o PL, com 184 prefeitos (11%), seguido do Republicanos, que teve 180 (11%).

Sul

O PP desbancou o MDB e fechou a Eleição de 2024 com mais prefeitos: 278 (23%), contra 225 (19%) do rival – que liderou em 2020, com 258 eleitos. Depois dos dois, o PSD obteve 217 prefeituras (18%), alta em comparação às 177 conquistadas quatro anos atrás.

Destques do 2º turno em 2024:

Abstenção alta: cerca de 29% dos eleitores faltaram à votação; em São Paulo, a abstenção foi a maior da história em um 2º turno (31,54%)



O PSD, presidido por Gilberto Kassab, é o partido que vai liderar a maior parte da população do país a partir de 2025. Entre as capitais, a legenda vai comandar Rio (Eduardo Paes) e Belo Horizonte (Fuad Noman).

Perda do PT: O PT disputava o segundo turno em quatro capitais e só ganhou em Fortaleza.

O PL, de Bolsonaro, ganhou em apenas duas das 9 capitais para as quais concorria no 2º turno: Cuiabá e Aracaju. Ainda assim, está entre as legendas que mais conquistaram prefeituras nas principais cidades do país;

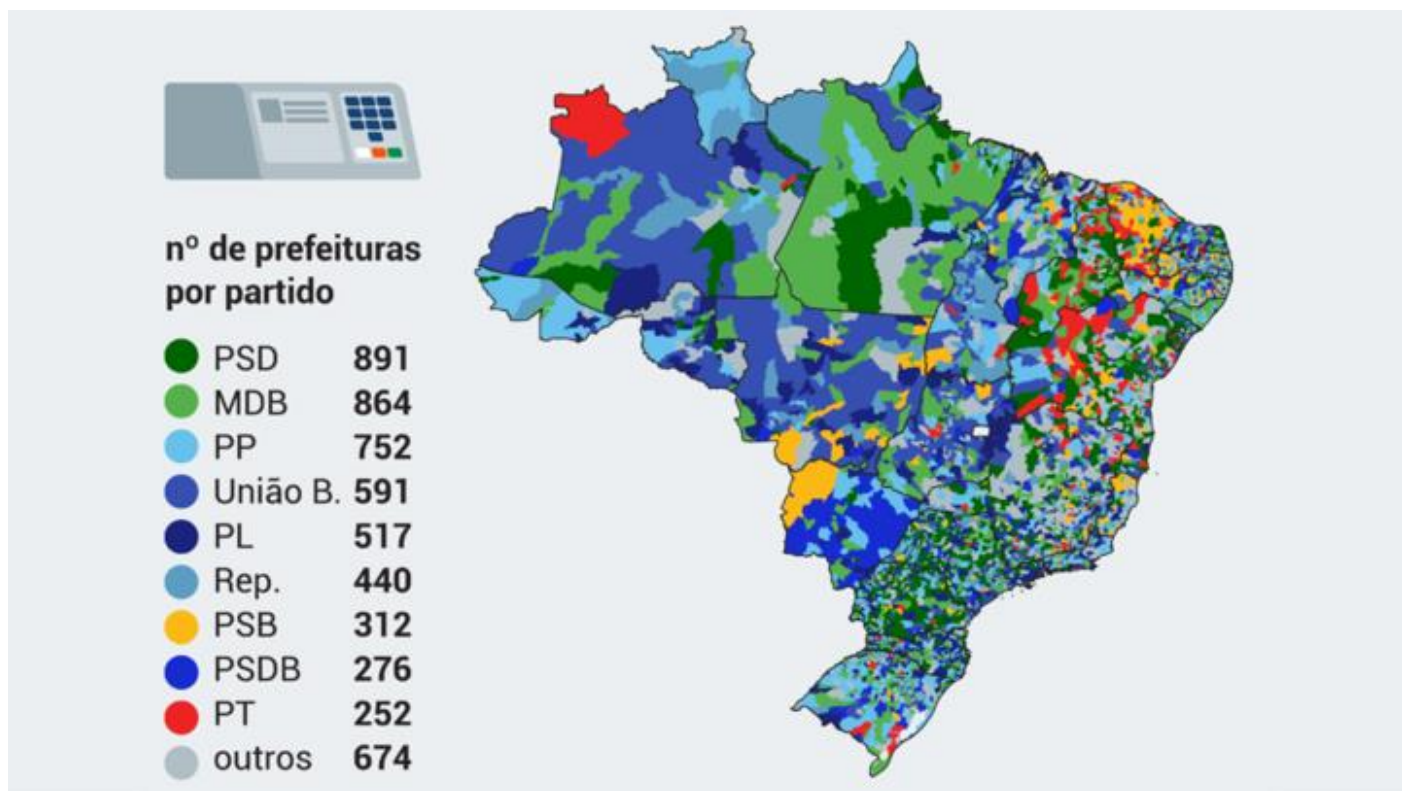
Cerca de 80% dos prefeitos que tentaram a reeleição conseguiram um novo mandato. **Nas capitais, 16 prefeitos se reelegeram;**

Principal fiador da candidatura de Nunes, **o governador de São Paulo, Tarcísio de Freitas (Republicanos), saiu fortalecido** como nome da direita para a disputa presidencial de 2026;

Nas eleições deste ano, **17 dos 26 prefeitos eleitos em capitais declararam patrimônios milionários.** Com mais de R\$ 313 milhões, Sandro Mabel (União), de Goiânia, é o prefeito mais rico do Brasil.

Total de prefeituras conquistadas por cada partido





ELEIÇÕES 2024

PREFEITOS ELEITOS POR PARTIDO NO BRASIL

PSD é a sigla que mais comandará prefeituras a partir de 2025; dados consideram 1º e 2º turnos



PL
partido de Bolsonaro



PT
partido de Lula



var.
2020/2024

partido	2008	2012	2016	2020	2024	var. 2020/2024
PSD	-	498	541	662	891	229 ↑
MDB	1192	1034	1048	802	864	62 ↑
PP	554	476	501	698	752	54 ↑
União (DEM + PSL)	512	300	307	568	591	23 ↑
PL	383	271	299	351	517	166 ↑
Republicanos	55	78	106	214	440	226 ↑
PSB	303	443	412	257	312	55 ↑
PSDB	786	707	806	535	276	-259 ↓
PT	554	625	252	184	252	68 ↑
PDT	355	309	339	320	151	-169 ↓
Avante	8	24	12	83	136	53 ↑
Podemos (+ PSC)	73	96	117	222	129	-93 ↓
PRD (PTB + Patriota)	414	292	275	267	77	-190 ↓
Solidaried. (+Pros)	0	0	114	138	63	-75 ↓
Cidadania	129	124	121	142	33	-109 ↓
Mobiliza	40	41	28	13	21	8 ↑
PC do B	38	53	81	46	19	-27 ↓
Novo	-	-	-	1	19	18 ↑
PV	73	101	100	45	14	-31 ↓
Rede	-	-	6	6	4	-2 ↓
Agir	12	19	17	1	3	2 ↑
DC	7	8	9	1	2	1 ↑
PMB	-	-	4	1	2	1 ↑
PRTB	11	16	9	6	1	-5 ↓
Psol	-	2	2	5	0	-5 ↓

obs.: o DEM se fundiu com o PSL e virou o União Brasil; o Pros foi incorporado ao Solidariedade em 2023; o PHS foi incorporado ao Podemos em 2019; o PPL foi incorporado ao PC do B; em 2019 o PRP foi incorporado ao Patriota; o PAN foi incorporado ao PTB em 2007 e o Prona foi incorporado ao antigo PL em 2006
obs.?: foram considerados eleitos todos os que obtiveram vitória nas urnas, mesmo que posteriormente tenham sido cassados
fonte: TSE (Tribunal Superior Eleitoral)



27.out.2024



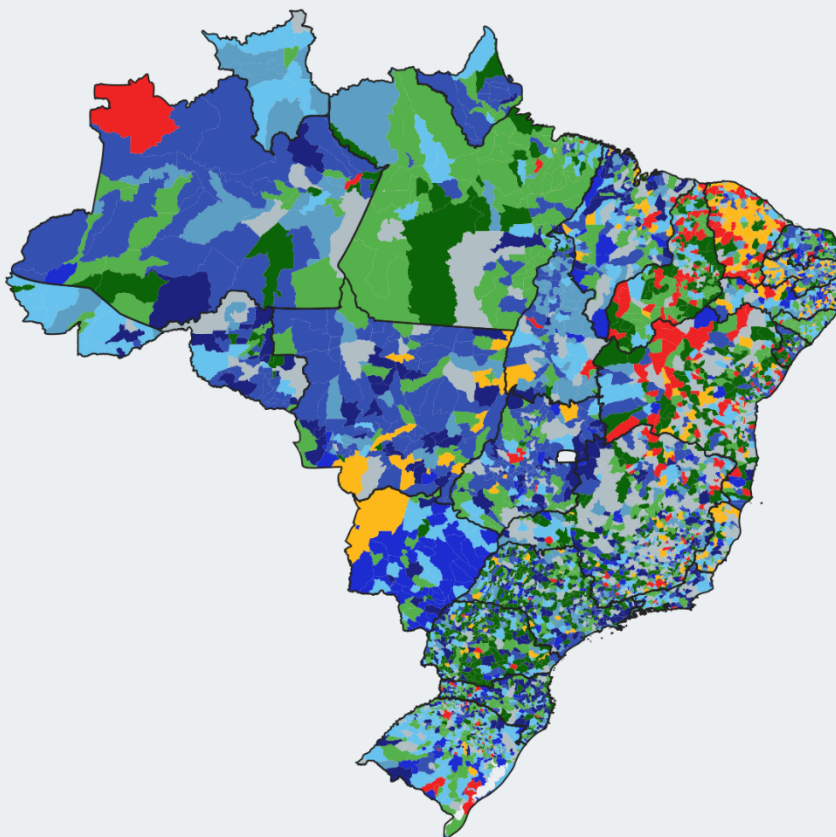
ELEIÇÕES 2024

MAPA DOS PREFEITOS ELEITOS POR PARTIDO (1º E 2º TURNOS)



nº de prefeituras por partido

● PSD	891
● MDB	864
● PP	752
● União B.	591
● PL	517
● Rep.	440
● PSB	312
● PSDB	276
● PT	252
● outros	674



PSD • lidera com folga em estados do Sudeste e Sul, como SP, MG e PR



MDB • está em posições de destaque na maioria dos estados



PSDB • o pouco que sobrou das prefeituras do partido se concentra no MS e em PE



PSB • ganhou no CE, na PB e em PE



PT • teve desempenho fraco. Se saiu melhor no CE (2º maior número de prefeituras) e na BA (3º maior).

fonte: TSE (Tribunal Superior Eleitoral)



27.out.2024



6.2 Educação

Educador Anísio Teixeira recebe o título de patrono da escola pública

Anísio Teixeira foi defensor da criação de uma rede de ensino que atendesse a todos. A lei, prevendo o título ao professor morto em 1971, no Rio de Janeiro, foi sancionada no Dia do Professor, pelo presidente Luiz Inácio Lula da Silva.

Quem foi Anísio Teixeira

Nascido em 1900, em Caetité, na Bahia, Anísio Teixeira formou-se em direito pela Universidade do Rio de Janeiro, estado do qual foi secretário de Educação. Defensor da criação de uma rede de ensino que atendesse a todos, desde os primeiros anos escolares até à formação universitária, integrou o grupo de educadores responsáveis pelo Manifesto dos Pioneiros da Educação Nova, que propunha a reforma do sistema de ensino brasileiro.

Ele participou também da criação de universidades federais, entre elas, a Universidade de Brasília (UnB). Foi também chefe da Coordenação de Aperfeiçoamento de Pessoal de Nível Superior (Capes) e do então Instituto Nacional de Estudos e Pesquisas Educacionais (Inep), instituto que atualmente leva seu nome.

USP é eleita a melhor universidade da América Latina pelo segundo ano consecutivo; top 10 tem 4 brasileiras

Pelo segundo ano consecutivo, a Universidade de São Paulo (USP) foi considerada a **melhor instituição de ensino superior da América Latina e do Caribe**. A decisão é da 14ª edição do QS World University Ranking.

No ano passado, quando ficou no topo do pódio pela primeira vez, a USP também **estreou no top 100 de melhores universidades do mundo**, em 85º lugar. Neste ano, a instituição paulista voltou a aparecer no ranking, mas **desceu para a 92ª posição**.

Nesta edição que considera América Latina e Caribe, o pódio repetiu as posições da edição anterior:

- 🏆 Universidade de São Paulo
- 🏆 Pontifícia Universidade Católica do Chile
- 🏆 *Universidade Estadual de Campinas (Unicamp)*

A QS Quacquarelli Symonds, especialista global em educação superior e elaboradora do relatório, destacou os **pontos fortes** das universidades brasileiras:

- alto número de **professores com doutorado**;
- **impacto na web**, que analisa o impacto da marca digital das instituições;
- volume significativo em **citação por artigo** e na produção de **artigo por docente**;
- melhora na **reputação** entre empregadores;
- destaque pela **rede internacional de pesquisa**, em parceria com outras instituições internacionais.



6.3 Trabalho escravo

Governo atualiza 'lista suja' do trabalho escravo

Documento público expõe nomes de **empregadores** que submeteram trabalhadores a condições análogas à escravidão.

"Lista Suja" inclui 176 novos empregadores, com destaque para atividades como produção de **carvão vegetal** e criação de **bovinos**.



Entre os nomes está **Emival Eterno da Costa, o cantor Leonardo**. O artista entrou na lista por conta de uma fiscalização realizada em novembro de 2023 na **fazenda Talismã**, no município de Jussara, interior de Goiás.

Na ocasião, foram encontradas seis pessoas, incluindo um adolescente de 17 anos, em condições degradantes, um dos elementos que configura a escravidão contemporânea no Brasil.

A atualização também promoveu a exclusão de 85 empregadores que completaram os dois anos de inclusão no cadastro. Na última atualização, em abril, foram adicionados **248 novos empregadores** – a **maior já realizada na história**.

A "**lista suja**" é um documento público divulgado semestralmente pelo Ministério do Trabalho, com o objetivo de dar visibilidade aos resultados das fiscalizações do governo de combate ao trabalho escravo.

Os nomes dos empregadores só são adicionados ao cadastro após a **conclusão do processo administrativo** que julgou o caso, com uma decisão sem possibilidade de recurso.

No geral, cada nome permanece na lista por um período de dois anos, mas uma portaria publicada em julho estabeleceu novas regras que permitem que os empregadores sejam retirados do cadastro **antes desse prazo**, ou até mesmo evitem entrar.

Isso será possível se eles firmarem um **TAC** (Termo de Ajustamento de Conduta), se comprometendo a indenizar as vítimas no valor de 20 salários mínimos, no mínimo, e a investir em programas de assistência a trabalhadores resgatados.

Nesse caso, os empregadores passam a integrar outra lista, o Cadastro de Empregadores em Ajustamento de Conduta, mas podem voltar à "lista suja" se descumprirem os compromissos ou submeterem novamente funcionários a condições análogas à escravidão.

6.4 Brasileira premiada no exterior

Cinco mulheres pioneiras ganham o Prêmio Nansen do ACNUR por seus trabalhos transformadores

Cinco mulheres pioneiras – uma religiosa, uma ativista, uma empreendedora social, uma trabalhadora humanitária voluntária e uma defensora pelo fim da apatridia – serão homenageadas como vencedoras do Prêmio Nansen do ACNUR 2024, da Agência da ONU para Refugiados.

A laureada global deste ano, **Irmã Rosita Milesi**, é uma irmã brasileira, advogada, ativista e formadora de movimentos sociais, que há quase 40 anos defende os direitos e a dignidade de pessoas em movimento. As outras quatro foram nomeadas vencedoras regionais.

O Alto Comissário da ONU para Refugiados, Filippo Grandi, elogiou a dedicação delas em promover ações em suas próprias comunidades, construir apoio de base e até mesmo moldar políticas nacionais.

Irmã Rosita ajudou pessoalmente milhares de pessoas em movimento – facilitando o acesso a abrigo, alimentação, cuidados de saúde, treinamento de idiomas, geração de renda e documentação no Brasil. Como advogada, ela também foi fundamental na formulação de políticas públicas. Seu trabalho na Lei de Refugiados de 1997, por exemplo, ajudou a ampliar os direitos das pessoas refugiadas em consonância com a Declaração de Cartagena de 1984, assegurando assim que a lei contemple mais ações para proteger, incluir e empoderar pessoas forçadas a fugir, em conformidade com os padrões internacionais.

6.5 Incêndio no Brás

Após 6 horas de combate às chamas, bombeiros controlam fogo e entram em shopping

Causas do incêndio são desconhecidas. Três pessoas que inalaram fumaça foram socorridas.



"Estima-se que cerca de 200 pequenas lojas tenham sido atingidas pelo incêndio, que resultou no colapso do telhado. Entretanto, a Defesa Civil informa que não **há risco de colapso estrutural total** da edificação", informou a Defesa Civil em nota.



Vista da Mooca, na Zona Leste, mostra o tamanho do incêndio que acontece na rua Barão de Ladário, no Brás, Centro de SP, na manhã desta quarta-feira (30). — Foto: Reprodução/Arquivo pessoal

Algumas ruas da região foram interditadas pela Polícia Militar (PM) para facilitar o trabalho dos bombeiros no combate às chamas. Ao menos sete linhas de ônibus foram desviadas pela SPTrans para não passarem pela região onde ocorre o incêndio.

A Rua Barão de Ladário é conhecida como um tradicional centro de comércio popular. Muitas pessoas costumam ir ao local para comprar e trabalhar na região. A via é próxima da chamada "feira da madrugada".

7 – Ecologia, Desenvolvimento Sustentável e Meio Ambiente

7.1 Espanha

"Enchente do século"

Em 29 de outubro de 2024, a Espanha enfrentou uma das **maiores tragédias naturais** de sua história recente: a "enchente do século". Chuvas torrenciais caíram em apenas oito horas em várias regiões do sudeste do país e o resultado foi devastador: mais de 200 mortes, dezenas de desaparecidos e comunidades inteiras submersas.





Causas e Impacto

As inundações foram desencadeadas por um fenômeno meteorológico conhecido como **DANA (Depressão Isolada de Alta Nível)**, que, combinado com temperaturas excepcionalmente altas do Mar Mediterrâneo, intensificou as chuvas. Especialistas apontam que as **mudanças climáticas** têm tornado **eventos climáticos extremos mais frequentes** na região.

Organizações ambientais também se manifestaram, atribuindo a intensidade das enchentes às mudanças climáticas e à falta de políticas eficazes de prevenção.

7.2 Repactuação de Mariana

Novo acordo vai indenizar 300 mil atingidos pelo rompimento da barragem em Mariana-MG

Estão previstos recursos novos que somam R\$ 100 bilhões repassados pelas mineradoras e sob a gestão do governo federal, além de outros R\$ 32 bilhões destinados a indenizações a atingidos, de responsabilidade das empresas.

O novo acordo firmado é para reparação integral e definitiva dos prejuízos causados pelo rompimento da Barragem do Fundão, em 5 de novembro de 2015. O episódio entrou para a história como a **maior catástrofe ambiental do país** e ficou marcada como o **maior rompimento do mundo envolvendo barragens** de rejeitos de mineração.

A barragem do Fundão era administrada pela Samarco, empresa controlada pelas mineradoras Vale, companhia brasileira, e BHP Billiton, anglo-australiana.





- Foto: Ricardo Stuckert/PR

PARCELAS – A primeira parcela referente aos R\$ 100 bilhões, no valor de R\$ 5 bilhões, deverá ser paga 30 dias após a assinatura do acordo e seguirá um cronograma de pagamento contínuo, ano a ano, até 2043. Os valores anuais variam entre R\$ 4,41 bilhões, previstos para a última parcela, em 2043, e R\$ 7 bilhões, o mais alto a ser pago em um ano, em 2026.

OBRIGAÇÕES – Entre as obrigações do novo acordo que permanecem com as empresas estão a **retirada** de milhões de m³ de **rejeitos** além da **finalização do reassentamento** em Bento Rodrigues e Paracatu de Baixo, recuperar 54 mil hectares de floresta nativa e cinco mil nascentes na Bacia do Rio Doce, e realizar o Gerenciamento das Áreas Contaminadas (GAG).

Soma-se a isso, a implantação de **Programa Indenizatório Definitivo** (PID) que é voltado principalmente para os atingidos pela tragédia que não conseguiram comprovar documentalmente os danos sofridos, que passariam a ter direito ao pagamento de R\$ 35 mil, aos atingidos em geral, e R\$ 95 mil aos pescadores e agricultores afetados. A estimativa é de que mais de 300 mil pessoas terão direito a receber esses valores.

8 – Tecnologia

X volta a funcionar no Brasil após cumprir exigências do STF

Ministro do Supremo Alexandre de Moraes autorizou retomada das operações da rede social no país, após pagamento das multas determinadas pelo STF pelo **descumprimento de ordens judiciais**. Rede social ficou **40 dias suspensa** no país.

Plataforma do bilionário **Elon Musk** era acusada de disseminação de **desinformação** e **discurso de ódio**. A plataforma foi acusada de não tomar medidas adequadas contra perfis e conteúdos que promovem *fake news*, principalmente sobre temas sensíveis como a integridade do sistema eleitoral brasileiro, ataques à democracia e incitação à violência.



Suspenso desde 30 de agosto no Brasil, a rede social e a empresa de tecnologia **Starlink** – condenada em solidariedade por também pertencer a Musk – haviam feito uma primeira transferência de R\$ 18,3 milhões à União, em 13 de agosto. Mas o X recebeu novas sanções de Moraes após burlar o bloqueio por meio de uma rede terceirizada.

Além do pagamento da multa, Moraes determinou que a empresa bloqueasse nove perfis investigados por disseminação de desinformação e discurso de ódio, e a nomeação de um **representante legal** no país, o que já foi cumprido.

9 – Cultura

Grafite e charge são reconhecidas como manifestações culturais do Brasil

Além de charge e grafite, caricatura e cartum foram reconhecidos como manifestações da cultura brasileira.



FORTALEZA-CE, BRASIL, 03-12-2023: Moradores do Mucuripe revitalizam bairro por meio do grafite e as intervenções urbanas. (Foto: Aurelio Alves/O Povo) Crédito: AURÉLIO ALVES

Publicada no Diário Oficial da União na quarta-feira, 16, a Lei 14.996, de 2024, garante a livre expressão dessas artes e define que o poder público deve “promover sua valorização e preservação”.

A lei também **expõe as definições** de cada uma dessas artes:

Charge: ilustração humorística que envolve a caricatura de 1 (um) ou mais personagens, feita para satirizar algum acontecimento da atualidade;

Caricatura: tipo de desenho que, caracterizado pelos excessos, pelas formas e pelos traços deformados, apresenta uma pessoa ou situação de forma grotesca ou cômica;

Cartum: desenho satírico, caricato ou humorístico, que ironiza pessoas ou comportamentos humanos, normalmente divulgado em jornais e revistas e composto de 1 (um) ou mais quadros;

Grafito: expressão da arte urbana em forma de desenho e escrituras na qual o artista cria uma linguagem intencional para interferir na cidade, com o aproveitamento de espaços públicos, como paredes, muros, fachadas, viadutos e ruas.

10 – Falecimento de personalidades

Washington Olivetto, ícone da publicidade brasileira, morre aos 73 anos

Escritor estava internado no Rio de Janeiro, para tratar uma infecção pulmonar. Ele morreu em decorrência de uma pneumonia.



Washington Olivetto — Foto: Agliberto Lima/Estadão Conteúdo

Uma das mentes mais criativas do país, o publicitário e escritor Washington Olivetto morreu, aos 73 anos, no Rio de Janeiro. Ele é o criador de personagens como o "**Garoto Bombril**" e de campanhas como a do **primeiro sutiã**.

Descendente de italianos, Olivetto nasceu em setembro de 1951 na capital paulista.

Aos 17 anos, entrou para o curso de publicidade da Fundação Armando Alvares Penteado (Faap). No ano seguinte, iniciou sua trajetória profissional como redator de uma agência publicitária.

Ainda em seu primeiro ano de atuação no mercado, conquistou um dos prêmios mais importantes para os profissionais da área, o Leão de Bronze do Festival de Publicidade de Cannes.

Durante a carreira de sucesso, recebeu diversas estatuetas e homenagens, que foram desde títulos em universidades a menções em músicas de Jorge Ben Jor — “Alô, Alô W/Brasil”, diz o trecho em referência à empresa de Olivetto.

Em sua trajetória, também se descobriu autor, escrevendo oito obras sobre a própria carreira e peças publicitárias que havia criado

Morre humorista Ary Toledo, aos 87 anos

Morreu o humorista Ary Toledo, em São Paulo. Ele estava internado desde o dia 2 de outubro no Hospital Sírio-Libanês em decorrência de pneumonia.

Quem foi Ary Toledo

Nascido em Martinópolis, no interior de São Paulo, Ary Toledo se mudou para a capital paulista aos 22. Naquela época, começou a trabalhar como ator no Teatro Arena e, aos 27, passou a dedicar sua vida à carreira humorística.

Além de humorista, Ary também teve uma carreira como cantor e compositor. Lançou seu primeiro trabalho musical em 1965, um álbum chamado "Ary Toledo No Fino da Bossa". O disco foi impulsionado pelo sucesso da música "Tiradentes".

Em sua empreitada na música, chegou a se destacar com a música "Pau de Arara", uma composição de Vinicius de Moraes e Carlos Lyra. Por conselho do próprio Vinicius, decidiu deixar as canções de lado e se dedicar ao humor.



SIMULADOS DE ATUALIDADES

Caros Alunos,

Realizo mensalmente uma aula de Retrospectiva de Atualidades – Fatos Relevantes do Mês Anterior.

Na aula, repasso os principais fatos internacionais e nacionais ocorridos no mês em questão, com uma pequena abordagem explicativa. Estas aulas são disponibilizadas no nosso curso em vídeo e com o pdf das notícias abordadas.

Após a aula, elaboro um simulado de Atualidades baseados nas principais notícias de cada mês. São questões simuladas, em que seleciono algumas notícias com maior probabilidade de serem cobradas na prova do seu concurso público.

É mais uma forma de fixar os fatos repassados na aula e de treinar Atualidades. Treinar sempre, preparação regular e continuada até o dia da prova.

A orientação é vocês assistirem as aulas mensais de Retrospectiva de Atualidades e lerem as notícias em questão. Na sequência, vocês baixam o PDF com as questões do simulado, resolvam e depois assistam o vídeo com a correção das questões.

Bons estudos,

Leandro Signori



SIMULADOS DE ATUALIDADES

Caros Alunos,

Realizo mensalmente uma aula de Retrospectiva de Atualidades – Fatos Relevantes do Mês Anterior.

Na aula, repasso os principais fatos internacionais e nacionais ocorridos no mês em questão, com uma pequena abordagem explicativa. Estas aulas são disponibilizadas no nosso curso em vídeo e com o pdf das notícias abordadas.

Após a aula, elaboro um simulado de Atualidades baseados nas principais notícias de cada mês. São questões simuladas, em que seleciono algumas notícias com maior probabilidade de serem cobradas na prova do seu concurso público.

É mais uma forma de fixar os fatos repassados na aula e de treinar Atualidades. Treinar sempre, preparação regular e continuada até o dia da prova.

A orientação é vocês assistirem as aulas mensais de Retrospectiva de Atualidades e lerem as notícias em questão. Na sequência, vocês baixam o PDF com as questões do respectivo, façam o simulado e depois assistam o vídeo com a correção das questões.

Bons estudos,

Leandro Signori



SIMULADO DE ATUALIDADES – JANEIRO 2022



“A grave crise no Leste Europeu que opõe a Rússia de Vladimir Putin à Ucrânia e ao Ocidente, representado pela sua aliança militar, a Otan, pode trazer a guerra de volta ao solo europeu.”

Disponível em: <https://tinyurl.com/2s46zh7f>. Acesso em 12/02/2022.

A respeito desse assunto e seus aspectos históricos, julgue os itens a seguir (C ou E):

- 1. A crise atual remete ao ano de 2014, quando houve um movimento fracassado da Rússia de derrubar do poder um governo ucraniano hostil ao país. Em reação a essa ação frustrada, a Rússia anexou à região da Crimeia, composta majoritariamente por russos étnicos.**
- 2. A Rússia tem como um de seus principais objetivos geopolíticos evitar que a Ucrânia, ou qualquer outro país ex-soviético, passe a fazer parte da Organização do Tratado do Atlântico Norte (Otan) e, de forma secundária, da União Europeia.**
- 3. A região leste da Ucrânia, conhecida como Donbass, onde estão os territórios de Lugansk e Donetsk, possui fortes movimentos separatistas fomentados pela Rússia.**
- 4. A crise afastou a Rússia da China, que, apesar de também possuir inimizades históricas com a Otan, tem no ocidente seu grande mercado consumidor.**
- 5. No poder desde 1999, o presidente russo, Vladimir Putin, alterou recentemente a Constituição do país para permitir que possa permanecer no cargo até 2036.**
- 6. Além da questão territorial-militar, há um componente geopolítico e econômico envolvido, que é o do comércio de gás natural e petróleo entre a Rússia e países europeus.**
- 7. A eminente possibilidade do ingresso da ex-república soviética da Geórgia na OTAN, em 2008, levou a uma invasão da Rússia que reanexou o país, constituindo-se atualmente em uma república autônoma da Federação Russa.**
- 8. A ex-república soviética da Moldávia não possui conflitos territoriais ativos tendo pacificado as relações com a minoria étnica russa da Transdnístria.**
- 9. “Nada indicava o surgimento de uma crise profunda no Cazaquistão, mas subitamente a ex-república soviética da Ásia Central se tornou palco de protestos violentos. Dezenas de pessoas foram**



mortas na repressão aos protestos, e a reputação do país como uma nação pacífica e apenas moderadamente autocrática sofreu um golpe.”

Disponível em: <https://tinyurl.com/mvzpyzw3>. Publicado em 06/01/2022. Acesso em 12/02/2022.

É correto afirmar que a crise no Cazaquistão teve como estopim:

- a) O aumento do preço do GLP (gás liquefeito de petróleo).
- b) O aumento no preço da passagem de ônibus nas principais cidades do país.
- c) Um processo de fraude nas eleições que reelegeram seu presidente.
- d) A adesão do país à UEE (União Econômica Euroasiática).
- e) O aumento do preço dos alimentos básicos.

10. “Conhecido por tomar tombo, se reerguer e manter a ordem sob a cabeleira despenteada, o primeiro-ministro britânico Boris Johnson nunca cambaleou como agora. Nos últimos dias, mesmo com o Reino Unido repleto de assuntos espinhosos a tratar, sua agenda foi quase que inteiramente tomada por atos de contrição. Ele vem fazendo o que pode para frear o Partygate, o escândalo da série de festinhas (dezessete, até onde se sabe) que teve como palco, em maio de 2020, durante rigoroso lockdown, o sobrado de número 10 da Downing Street, a residência oficial londrina desde 1735.”

Disponível em: <https://tinyurl.com/2p832usn>. Publicado em: 31/01/2022. Acesso em 12/02/2022.

Sobre Boris Johnson e seu governo, são feitas as seguintes afirmativas:

I - Boris Johnson assumiu o poder no Reino Unido em 2019, sucedendo de Theresa May e incumbido da missão de retirar o Reino Unido da União Europeia, o que conseguiu realizar com êxito.

II - Johnson é um integrante do Partido Democrata, considerado um partido de direita no espectro político britânico.

III - Apesar do escândalo mencionado pelo enunciado, a popularidade do primeiro ministro britânico continua alta no país, em grande parte, relacionada ao sucesso no combate à pandemia de coronavírus no país, com reduzidos casos e número de mortes.

Está correto o que se afirma em:

- a) I somente.
- b) II somente.
- c) III somente.



- d) I e II somente.
- e) I e III somente.

11. “Novak Djokovic está definitivamente banido do Aberto da Austrália. Em julgamento final, o júri decidiu que o tenista sérvio ficará com seu visto cancelado e, portanto, impossibilitado de disputar a competição de tênis e buscar o recorde de 21 títulos no Grand Slam. O atual campeão do torneio será deportado e ainda terá que arcar com os custos do julgamento, que durou quase nove horas.”

Disponível em: <https://tinyurl.com/r98byvcw>. Publicado em: 16/01/2022. Acesso em 12/02/2022.

O cancelamento do visto do tenista ocorreu por ele:

- a) participar de grupos e movimentos antivacina.
- b) ter se imunizado com uma vacina não autorizada pela OMS.
- c) se posicionar publicamente contra a obrigatoriedade da vacina para a Covid-19.
- d) não ter cumprido o devido isolamento após testar positivo para a Covid-19.
- e) não estar vacinado contra a Covid-19.

12. “O PS (Partido Socialista), legenda do atual primeiro-ministro português, António Costa, ganhou as eleições parlamentares de Portugal, realizada no domingo (30.jan.2022), com 41,68% dos votos.”

Disponível em: <https://tinyurl.com/3aatk6uk>. Acesso em 12/02/2022.

A recente eleição para o parlamento português criou novos fatos, dentre os quais citam-se:

- a) o crescimento do partido de extrema-direita, Chega, atual 3ª força política do país.
- b) o crescimento dos partidos de extrema-esquerda, favoráveis à saída do país da União Europeia.
- c) a fragmentação partidária, com o crescimento de diversos pequenos partidos.
- d) a elevada taxa de abstenção, acima dos 50%, devido à baixa cobertura vacinal no país.
- e) a redução no número de cadeiras do Partido Socialista, apesar de manter maioria no parlamento.



13. “Após um dia de confusão, militares anunciaram nesta segunda-feira (24 jan.) ter colocado fim ao governo do presidente Roch Marc Christian Kaboré e a suspensão das principais instituições do país. Os Estados Unidos e a União Europeia pedem a liberação imediata do chefe de estado.

Em rede nacional de televisão, o capitão Sidsore Kader Ouedraogo afirmou que o governo e a Assembleia Nacional foram dissolvidos.”

Disponível em: <https://tinyurl.com/2p8v73kj>. Acesso em 12/02/2022. Adaptado.

O golpe de estado mencionado ocorreu em:

- a) Chade.
- b) Myanmar.
- c) Guiné.
- d) Burkina Fasso.
- e) Burundi.

14. No mês de janeiro de 2022, um procedimento médico revolucionário foi realizado por cirurgiões americanos. Assinale a alternativa que indica corretamente qual foi esse procedimento:

- a) Reconstrução de um pulmão com ajuda de um robô operado por médicos.
- b) Inativação de células da AIDS em um portador do vírus.
- c) Retirada de um tumor cerebral por meio de laser.
- d) Descoberta de um medicamento contra o coronavírus.
- e) Transplante de um coração de porco em uma pessoa.

15. O vulcão submarino Hunga-Tonga-Hunga-Ha’apai devastou o arquipélago de Tonga e lançou partículas para a alta atmosfera, no dia 17 de janeiro de 2022. A erupção desencadeou um tsunami e foi considerada centenas de vezes mais potente que a bomba atômica que os Estados Unidos lançaram sobre Hiroshima, no Japão, durante a Segunda Guerra Mundial, segundo a Nasa (a agência espacial americana).

Disponível em: <https://tinyurl.com/2p88h45k>. Acesso em 12/02/2022. Adaptado.

O arquipélago de Tonga está localizado na:

- a) Oceania.



- b) Ásia.
- c) Europa.
- d) América Central.
- e) África.

16. “Desmatamento na Amazônia cresce 29% em 2021 e é o maior dos últimos 10 anos”

Disponível em: <https://tinyurl.com/mr3rsh2n>. Publicado em: 17/01/2022. Acesso em 12/02/2022.

Dentre as consequências do desmatamento para a Amazônia e suas áreas próximas, são feitas as seguintes afirmativas:

- I - Alteração do regime de chuvas.
- II - Redução da biodiversidade.
- III - Diminuição da produtividade minerária.

Está correto o que se afirma em:

- a) Somente I.
- b) Somente II.
- c) Somente III.
- d) I e II.
- e) I e III.

17. “A liberação feita pela Anvisa atende a um pedido do Ministério da Saúde. Na semana passada, a agência adiou a decisão sobre o caso alegando que a autorização para a comercialização deveria fazer parte de uma política pública liderada pelo governo.”

Disponível em: <https://tinyurl.com/2yac5xkr>. Publicado em: 28/01/2022. Acesso em 12/02/2022.

Essa liberação da Anvisa refere-se:

- a) À distribuição de medicamentos sem recomendação da OMS, como a hidroxiquina, para o tratamento da covid-19.



- b) À compra e aplicação de vacinas por entidades privadas, licenciadas pelo órgão.
- c) Ao uso e a venda de autotestes de covid-19.
- d) A concessão de benefícios por empresas a pessoas que apresentarem comprovante de vacina da primeira dose.
- e) A não obrigatoriedade do uso de máscaras em pessoas que possuem terceira dose da vacina.

18. "Os alunos que ingressarem no ensino médio a partir deste ano vão se deparar com uma novidade. O novo ensino médio, aprovado numa lei de 2017, passa a valer a partir deste ano letivo e vai mudar gradativamente o ensino em escolas públicas e privadas de todo o país."

Disponível em: <https://tinyurl.com/2p85ewu3>. Publicado em: 12/01/2022. Acesso em 12/02/2022.

Assinale a alternativa que apresenta incorretamente uma das mudanças do Novo Ensino Médio:

- a) aumento da carga horária.
- b) obrigatoriedade do ensino de língua inglesa e espanhola.
- c) implementação dos itinerários formativos.
- d) possibilidade do ensino híbrido, com repartição das atividades entre presenciais e online.
- e) Integração das etapas de ensino com cursos técnicos.

19. "O Instituto Brasileiro de Geografia e Estatística (IBGE) informou nesta terça-feira (25 jan.) que a coleta de dados do Censo vai começar no dia 1º de agosto deste ano."

Disponível em: <https://tinyurl.com/45zhvn9t>. Acesso em 12/02/2022.

A respeito do Censo Demográfico, assinale a alternativa INCORRETA:

- a) O Censo deveria ter sido realizado em 2020, respeitando o intervalo de 10 em 10 anos entre uma edição e a seguinte, mas foi adiado por causa da pandemia de Covid.
- b) Os resultados obtidos pelo Censo Demográfico permitem identificar como a população vive e os seus níveis de desenvolvimento socioeconômico.
- c) Com os resultados obtidos do Censo, o IBGE produzirá intervenções diretas no contexto social por meio de suas políticas públicas.
- d) O Censo coleta dados da população e permite traçar um retrato abrangente do país.



e) Além da contagem populacional, a pesquisa traz dados sobre condições de vida, emprego, renda, acesso a saneamento, saúde e escolaridade, entre outros.

20. “O Brasil encontrou 1.937 pessoas em situação de escravidão contemporânea em 2021, maior número desde os 2.808 trabalhadores de 2013, segundo informações divulgadas pelo renascido Ministério do Trabalho e Previdência nesta quinta (27 jan.). Ao todo, foram 443 operações – um recorde desde a criação dos grupos especiais de fiscalização móvel, base do sistema de combate à escravidão no país, em maio de 1995.”

Disponível em: <https://tinyurl.com/2p9u9ky5>. Acesso em 12/02/2022.

A respeito desse assunto e seus múltiplos aspectos relacionados, assinale a alternativa correta:

- a) O trabalho forçado, a servidão por dívida, as condições degradantes e a jornada exaustiva são situações que caracterizam o trabalho análogo à escravidão no Brasil.
- b) Durante o ano de 2020, com a deflagração da pandemia de Covid-19, as operações de resgate foram paralisadas.
- c) Mato Grosso, seguido de Rondônia, foi o estado com o maior número de operações de combate ao trabalho escravo em 2021.
- d) As atividades rurais foram as que apresentaram o maior número de resgates, sendo o cultivo de café o que mais incluiu resgatados.
- e) Do total de trabalhadores resgatados, verifica-se que a principal mão de obra utilizada era de adolescentes do sexo masculino, negros e não alfabetizados.

“Neste primeiro de janeiro, o Brasil volta a ocupar um assento rotativo no Conselho de Segurança das Nações Unidas. No biênio 2022-2023, o país completa sua 11ª passagem no órgão, que deixou em 2011.

Além do Brasil, assumem os assentos Albânia, Gabão, Gana e Emirados Árabes Unidos, todos eleitos em junho de 2021. Os outros cinco não-permanentes são: Índia, Irlanda, Quênia, México e Noruega. “

Disponível em: <https://tinyurl.com/3wzfndd8>. Publicado em: 01/01/2022. Acesso em 12/02/2022.

Sobre esse assunto e seus múltiplos aspectos relacionados, julgue os itens a seguir:

- 21. O Conselho de Segurança tem 15 países com direito a voto, mas apenas os cinco permanentes têm direito ao veto: China, Estados Unidos, França, Reino Unido e Rússia.**
- 22. A escolha dos membros do Conselho de Segurança, tanto os não-permanentes, quanto os permanentes, reflete a proporcionalidade entre os países desenvolvidos e subdesenvolvidos.**



23. Ao longo das últimas décadas, o Brasil e outras nações emergentes têm defendido uma a reforma do Conselho de Segurança, julgando-a como necessária para o órgão ser mais inclusivo e representativo.

24. Quando esteve no órgão pela última vez, o Brasil foi uma das principais vozes a defender uma intervenção internacional na Síria, para pacificar o país, colocando suas tropas à disposição.

25. “O governo brasileiro recebeu nesta terça-feira (25 jan.) a carta-convite do conselho da Organização para Cooperação e Desenvolvimento Econômico (OCDE) que formaliza o início do processo de adesão do país ao grupo.”

Disponível em: <https://tinyurl.com/2jehsupe>. Acesso em 12/02/2022.

Assinale a alternativa que descreve corretamente o que é a OCDE:

a) Uma aliança militar feita entre países da América do Norte e Europa que foi criada a partir da escalada da Guerra Fria.

b) Um organismo internacional e multilateral que tem como objetivo a regulamentação do comércio entre os seus países-membros, mediando acordos comerciais e buscando favorecer o livre comércio.

c) Uma organização financeira que possui a função de oferecer ajudas financeiras pontuais e temporárias aos seus países-membros.

d) Uma organização internacional cujo objetivo é buscar a paz e o desenvolvimento mundial por meio da cooperação entre os países.

e) Uma organização internacional conhecida como “clube dos ricos”, que inclui algumas das principais economias desenvolvidas do mundo, mas também tem entre seus membros economias emergentes.

26. “A sinalização do TSE (Tribunal Superior Eleitoral) de que não descarta determinar o bloqueio do aplicativo no Brasil sobe o tom do tribunal em relação ao aplicativo, em meio a um contexto de grande pressão para que o cenário de desinformação eleitoral seja controlado.

Tal possibilidade, contudo, gera preocupação de parte dos especialistas na área, dadas as possíveis consequências da medida, que está inserida em um complexo debate não só da perspectiva legal como técnica. Por outro lado, o aplicativo não responde às autoridades, tampouco a pedidos da imprensa.”

Disponível em: <https://tinyurl.com/25awspn7>. Publicado em: 20/01/2022. Acesso em 12/02/2022. Adaptado.

O enunciado se refere ao aplicativo:

a) TikTok.



- b) Telegram.
- c) WhatsApp.
- d) Instagram.
- e) Viber.

27. “O desabamento de pedras em um cânion no lago de Furnas, em Capitólio, deixou 10 mortos neste sábado (8 jan.) após atingir 4 embarcações que estavam na área.”

Disponível em: <https://tinyurl.com/yc3d7u7e>. Acesso em 12/02/2022.

O acidente ocorreu no estado de:

- a) Goiás.
- b) Mato Grosso.
- c) Mato Grosso do Sul.
- d) Minas Gerais.
- e) Rondônia.

28. “O craque Neymar entrou na onda dos "macacos entediados". Nesta quinta-feira, 20, o jogador do PSG e da Seleção Brasileira anunciou a compra de dois NFTs da famosa coleção Bored Ape Yacht Club (BAYC): "Sou um macaco!", publicou nas redes sociais, junto com a imagem de um dos NFTs, que agora é sua foto de perfil no Twitter.”

Disponível em: <https://tinyurl.com/yckrz6sp>. Publicado em: 20/01/2022. Acesso em 12/02/2022.

Assinale a alternativa que descreve corretamente o que é um NFT:

- a) É um produto com existência corpórea que pode ser vendido ou disponibilizado gratuitamente na forma de arquivo para download na internet.
- b) São ativos fungíveis, de qualquer coisa digital única.
- c) São videogames online que baseiam sua economia interna em criptomoedas.
- d) É uma forma de moeda que existe digital ou virtualmente e usa criptografia para garantir a realização de transações.



e) São ativos digitais que funcionam como um certificado digital de autenticidade e de propriedade próprio.

29. “O escritor e influenciador morreu aos 74 anos na noite desta segunda (24 jan.), segundo nota divulgada pela família nas redes sociais do escritor; a causa da morte não foi informada.

Nascido em Campinas, no interior de São Paulo, ele se intitulava professor de filosofia e ficou conhecido por vídeos e livros que apoiam o conservadorismo político e que recusam o discurso chamado politicamente correto.

O presidente Jair Bolsonaro lamentou no Twitter a morte do escritor e decretou luto oficial de um dia em todo o país."

Disponível em: <https://tinyurl.com/5n94v6y9>. Acesso em 12/02/2022. Adaptado.

O enunciado refere-se a:

- a) Rodrigo Constantino.
- b) Mário Ferreira dos Santos.
- c) Olavo Luiz Pimentel de Carvalho.
- d) Luiz Felipe Pondé.
- e) Leandro Karnal.

30. "A cantora morreu nesta quinta-feira, 20 de janeiro, aos 91 anos, em sua casa no Rio de Janeiro.

Ícone da música brasileira, considerada uma das maiores artistas do mundo, foi eleita como a Voz do Milênio teve uma vida apoteótica, intensa, que emocionou o mundo com sua voz, sua força e sua determinação.

A cantora ficou conhecida por uma série de sucessos, como Dentro de cada um, Exú nas escolas, Deus há de ser, A Carne e Mulher do Fim do Mundo."

Disponível em: <https://tinyurl.com/2mbuk6tu>. Publicado em: 20/01/2022. Acesso em 12/02/2022. Adaptado.

O enunciado refere-se à:

- a) Gal Costa.
- b) Elza Soares.
- c) Zizi Possi.



d) Maria Bethânia.

e) Clara Nunes.

GABARITO



- 1. E
- 2. C
- 3. C
- 4. E
- 5. C
- 6. C
- 7. E
- 8. E
- 9. A
- 10. A
- 11. E

- 12. A
- 13. D
- 14. E
- 15. A
- 16. D
- 17. C
- 18. B
- 19. C
- 20. D
- 21. C
- 22. E

- 23. C
- 24. E
- 25. E
- 26. B
- 27. D
- 28. E
- 29. C
- 30. B



SIMULADO DE ATUALIDADES – FEVEREIRO 2022



Em 24 de fevereiro de 2022, a Rússia iniciou uma ofensiva militar contra a Ucrânia e iniciou uma guerra contra o país. Sobre esse fato e seus desdobramentos, julgue os itens a seguir (C ou E):

1. Após o fim da Guerra Fria, a expansão da Otan para o Leste Europeu, englobando países que fizeram parte da área de influência soviética, chegando na possível adesão da Ucrânia à aliança militar, é apontada por Vladimir Putin como uma das principais razões da ofensiva militar russa na Ucrânia.
2. A “desnazificação” da Ucrânia, presente no discurso de Vladimir Putin, como uma de suas justificativas para a ação militar, decorre do fato do presidente ucraniano ter dado declarações públicas a favor do movimento extremista.
3. Previamente ao início da invasão russa à Ucrânia, Vladimir Putin assinou um documento que reconhece as regiões de Luhanks e Donetsk, situadas no leste ucraniano e controladas por separatistas pró-Rússia, como independentes.
4. O movimento militar desencadeou numa enxurrada de sanções à Rússia por parte do Ocidente, que atingiram inúmeras instituições financeiras, além do banimento de eventos esportivos, como a Copa do Mundo de Futebol, e a mais grave delas, o boicote integral ao petróleo e gás russo.
5. A Organização das Nações Unidas (ONU) aprovou uma resolução condenando a invasão russa ao território ucraniano, o que implica em sanções do organismo ao país, como o seu afastamento temporário do organismo multilateral, perdendo seu direito de participar das reuniões e de votar.
6. Embora expressem solidariedade à Ucrânia, tenham enviado armamentos de ponta e recursos ao país, e imponham sanções econômicas contra a Rússia, os EUA e os países ocidentais já deixaram claro que não pretendem socorrer os ucranianos com tropas.
7. Acusada de atacar civis, a Rússia será investigada por ter cometido possíveis crimes de guerra na Ucrânia, conforme regras que foram estabelecidas nas Convenções de Genebra.
8. Milhões de moradores ucranianos saíram do país e buscaram refúgio em países próximos, sobretudo na Polônia, o que torna essa a crise de refugiados que mais cresce na Europa desde a Segunda Guerra Mundial.
9. O encontro do presidente brasileiro, Jair Bolsonaro, com o presidente russo, em meio à tensão, rompeu com a histórica posição diplomática do Brasil de manter-se neutro em relação a grandes conflitos armados no mundo, sinalizando apoio à Rússia em detrimento à Ucrânia.



10. De modo geral, a Europa tem prestado grande solidariedade à Ucrânia e mobilizado recursos com relação aos refugiados que deixam o país sem nenhum tipo de discriminação e são integralmente bem recebidos nos países europeus.

11. A Rússia se tornou alvo de milhares de sanções econômicas por parte de países, empresas privadas e instituições não governamentais como a FIFA e a UEFA. Apesar das pressões, a Suíça manteve a sua histórica neutralidade em conflitos bélicos, não aplicando sanções aos russos.

12. Os oligarcas russos sofreram pesadas sanções econômicas, como Roman Abramovich, proprietário do clube de futebol inglês Chelsea, campeão mundial de clubes de 2021.

13. Além da guerra convencional, trava-se uma intensa guerra híbrida com ações de propaganda, *fake news* e ciberataques pela internet.

14. A Assembleia Geral da ONU aprovou uma resolução condenando a invasão russa ao território ucraniano. 141 países votaram a favor da resolução, 5 foram contrários e 35 se abstiveram. Sobre esta votação, assinale a alternativa incorreta.

- a) Belarus, Síria, Eritreia e Coreia do Norte votaram contrariamente à resolução.
- b) A China, segunda maior economia do mundo, se absteve.
- c) Paquistão e Índia votaram a favor da resolução.
- d) A Venezuela, aliada da Rússia, não votou.
- e) A maioria dos países que se abstiveram estão nos continentes asiático e africano.

15. Em fevereiro de 2021, os cientistas do Painel Intergovernamental Sobre Mudanças Climáticas (IPCC) da ONU divulgaram novo relatório sobre mudanças climáticas. De acordo com esse relatório:

- a) É necessária uma ação ambiciosa e acelerada para se adaptar às mudanças climáticas, com cortes rápidos em emissões de gases de efeitos estufa.
- b) As medidas que vem sendo adotadas pelos países no combate às mudanças climáticas tem sido efetivas para diminuir o aumento da temperatura do planeta.
- c) A meta estabelecida no Pacto de Glasgow, em 2021, deverá ser revisada no próximo encontro, com a imediata proibição na extração e no uso do carvão como fonte de energia.
- d) Os ciclos astronômicos da Terra são os principais responsáveis pelo aumento da temperatura do planeta, mas a ação humana tem contribuído para intensificar esse processo.



e) Os países subdesenvolvidos são os principais responsáveis pelo aumento da temperatura da Terra e das emissões acumuladas de carbono, uma vez que não possuem um setor energético muito desenvolvido, dependendo expressivamente da utilização de combustíveis fósseis.

16. “Depois de seis dias de articulações frenéticas entre as forças partidárias, oito rodadas de votação e ao menos uma dezena de nomes lançados como possíveis candidatos, o presidente da Itália foi reeleito, neste sábado (29), para um segundo mandato como chefe de Estado.”

Disponível em: <https://tinyurl.com/yw5wr3a2>. Acesso em 10/03/2022.

O presidente reeleito é:

- a) Matteo Salvini.
- b) Mario Draghi.
- c) Sergio Mattarella.
- d) Giorgio Napolitano.
- e) Giuseppe Conte.

17. “Depois de três semanas, 191 prisões e confrontos entre polícia e manifestantes, chegou ao fim neste domingo (20) a manifestação de caminhoneiros que bloquearam o centro de Ottawa, capital do Canadá, para protestar.”

Disponível em: <https://tinyurl.com/yc7wx8zw>. Acesso em 10/03/2022.

Assinale a alternativa que apresenta corretamente o motivo de tais protestos:

- a) A exigência de um passaporte vacinal contra a covid-19.
- b) O baixo reajuste no salário dos trabalhadores da categoria.
- c) O crescente aumento do preço dos combustíveis.
- d) A proposta de reduzir a frota rodoviária em favorecimento à ferroviária.
- e) A obrigatoriedade do uso de máscaras durante o período de trabalho.



18. O mais alto tribunal da Colômbia descriminalizou, no mês de fevereiro, o aborto nas primeiras 24 semanas de gravidez. Além da Colômbia, outros países latino-americanos também descriminalizaram o procedimento. Dentre os países abaixo, assinale o único onde o aborto não foi descriminalizado:

- a) Argentina.
- b) Uruguai.
- c) México.
- d) Venezuela.
- e) Cuba.

19. “Abraços e beijos são agora descritos por uma lei no país como exemplos de "contatos físicos sugestivos ou de natureza sexual" indesejáveis na gestão pública federal.

O novo código de ética, publicado no diário oficial nesta terça-feira (8), aprofunda e endurece o anterior, sancionado em 2019, para tentar coibir o assédio sexual na administração pública, e passa a valer a partir desta quarta-feira (9).”

Disponível em: <https://tinyurl.com/5dp9svf4>. Acesso em 10/03/2022.

A mudança citada ocorreu:

- a) na Nicarágua.
- b) na Arábia Saudita.
- c) na China.
- d) no Japão.
- e) no México.

20. “Subiu para 232 o número de mortes confirmadas após o temporal que atingiu Petrópolis em 15 de fevereiro, segundo dados divulgados hoje pelo gabinete integrado responsável por coordenar ações na cidade, localizada na região serrana do Rio de Janeiro. Até ontem (27 fev.), eram 229 mortos. Há também cinco pessoas desaparecidas.”

Disponível em: <https://tinyurl.com/yt8czemf>. Acesso em 10/03/2022.

A respeito desse fato, são feitas as seguintes afirmativas:



I - Petrópolis localiza-se numa área montanhosa que é altamente suscetível a desenvolver deslizamentos e processos de instabilização de encostas.

II - Significativa parcela das mortes ocorreu devido à ocupação irregular de áreas consideradas com risco de deslizamento ou inundação, o que se relaciona ao processo de segregação socioespacial urbana.

III - A ação humana, com a retirada da cobertura vegetal para a realização de atividades econômicas, sobretudo a agricultura, foi apontada pelo IBGE como uma das principais causas da tragédia.

Está correto o que se afirma em:

- a) Apenas I.
- b) Apenas II.
- c) Apenas III.
- d) I e II.
- e) II e III.

21. “O número de assassinatos no Brasil caiu 7% em 2021 na comparação com o ano anterior. É o que mostra o índice nacional de homicídios criado pelo g1, com base em dados oficiais dos 26 estados e do Distrito Federal.

Em todo o ano passado, foram registradas 41,1 mil mortes violentas intencionais no país - 3 mil a menos que em 2020. Trata-se do menor número de toda a série histórica do Fórum Brasileiro de Segurança Pública, que coleta os dados desde 2007.”

Disponível em: <https://tinyurl.com/2p8tkrp3>. Acesso em 10/03/2022.

Segundo especialistas do FBSP e do NEV-USP, o menor número de mortes é motivado por um conjunto de fatores. Dentre esses fatores, NÃO se inclui:

- a) Profissionalização do mercado de drogas brasileiro.
- b) Aumento do número de armas legais em circulação, por particulares.
- c) Apaziguamento de conflitos entre facções.
- d) Maior controle e influência dos governos sobre os criminosos.
- e) Redução do número de jovens na população.



22. No mês de fevereiro, o Comitê de Política Monetária (Copom) do Banco Central se reuniu e tomou uma decisão em relação à taxa básica de juros da economia, a Selic.

Nessa reunião do Copom, a taxa Selic:

- a) foi reduzida para 9,75% ao ano, devido ao êxito controle da inflação.
- b) permaneceu em 10,75% ao ano, valor estabelecido em dezembro de 2021.
- c) foi elevada para 11,75% ao ano, o patamar mais alto desde sua criação.
- d) seguiu a tendência de diminuição de 0,5% por bimestre.
- e) foi elevada para 10,75% ao ano, com alta de 1,5 ponto percentual.

23. “O Congresso Nacional promulgou, em sessão solene nesta quinta-feira (10), no Plenário do Senado, a Emenda Constitucional 115, que inclui a proteção de dados pessoais entre os direitos e garantias fundamentais.

A emenda também determina que a União fique responsável por legislar, organizar e fiscalizar a proteção de tratamento de dados pessoais e reforça a Lei Geral de Proteção de Dados (LGPD).”

Disponível em: <https://tinyurl.com/58d7jwmr>. Acesso em 10/03/2022.

Sobre a Lei Geral de Proteção de Dados (LGPD) e a questão dos dados pessoais, são feitas as seguintes afirmativas:

I - Inspirada na lei europeia de proteção de dados, o principal objetivo da LGPD é regulamentar o tratamento de dados pessoais dos usuários.

II - Um dos pontos principais da lei está na exigência do consentimento expresso dos usuários para a coleta e uso das suas informações.

III - A nova lei veta, em quaisquer casos, a coleta e utilização de dados utilizados para fins políticos e eleitorais.

IV- Sua aplicação é integral para o setor privado, mas para o setor público, sua aplicação é menos abrangente, uma vez que órgãos públicos devem possuir informações dos cidadãos para assegurar a segurança nacional.

Está correto o que se afirma em:

- a) I e II.
- b) I e III.
- c) II e III.



d) I e IV.

e) II e IV.

24. Na última quarta-feira, 9, o Supremo Tribunal Federal (STF) entendeu que a formação das chamadas federações partidárias é uma prática constitucional. Por 10 votos a 1, os ministros decretaram a legalidade do dispositivo que já será válido para as eleições deste ano.

Disponível em: <https://tinyurl.com/5nywp4bx>. Acesso em 10/03/2022.

Sobre as federações partidárias, é correto afirmar que trata-se:

a) da fragmentação de uma legenda em unidades menores de forma temporária, para que se abranja as especificidades ideológicas existentes em cada partido.

b) da formação de alianças eleitorais, de dois ou mais partidos, em todos níveis da federação (união, estados, municípios e distrito federal), que podem se desfazer após o pleito.

c) da união, a nível nacional, de dois ou mais partidos, que atuarão temporariamente como se fossem uma sigla só.

d) da fusão de dois ou mais partidos, gerando um novo e único registro na Justiça Eleitoral para a nova legenda.

e) da criação de blocos político-ideológicos temporários e sem registro na justiça eleitoral, onde os concorrentes poderão unir-se para participar das eleições, sem que com isso deixem de fazer parte de seu partido.

25. “A Semana de Arte Moderna vai completar 100 anos em 2022. O evento mudou o cenário cultural do Brasil e ajudou a tornar a capital paulista uma cidade com grande influência no país no campo da cultura. Essa influência nasce também junto de sua ascensão econômica ao longo do século 20, a decadência da economia carioca e a unificação do país a partir de 1930, o que diminuiu o espaço de alcance da produção cultural regional.”

Disponível em: <https://tinyurl.com/yc37e3fe>. Acesso em: 10/03/2022.

Esse movimento cultural teve como característica:

a) A busca por retratar a modernidade urbana de uma forma romântica.

b) A quebra dos padrões europeus e a busca pela valorização da identidade nacional.

c) O uso das tecnologias, da desconstrução da arte e das aproximações dessa com o mundo real.



- d) O predomínio da arte abstrata, com uso de figuras geométricas combinadas ao raciocínio.
- e) O resgate aos meios artísticos mais tradicionais.

GABARITO



- | | | |
|------|-------|-------|
| 1. C | 10. E | 19. E |
| 2. E | 11. C | 20. D |
| 3. C | 12. C | 21. B |
| 4. E | 13. C | 22. E |
| 5. E | 14. C | 23. A |
| 6. C | 15. A | 24. C |
| 7. C | 16. C | 25. B |
| 8. C | 17. A | |
| 9. E | 18. D | |



SIMULADO DE ATUALIDADES – MARÇO 2022



1. “A Assembleia Geral da ONU aprovou, nesta quinta-feira (24 de março), uma resolução que culpa a Rússia pela crise humanitária na Ucrânia e que pediu novamente o “fim imediato” das hostilidades no país.

A resolução, elaborada por Ucrânia e aliados, recebeu 140 votos a favor (inclusive do Brasil) e 5 votos contra, enquanto 38 países se abstiveram.”

Disponível em: <https://tinyurl.com/2fnb28xk>. Acesso em 12/04/2022.

Dentre os cinco países que votaram contra, NÃO se insere:

- a) Belarus.
- b) Coreia do Norte.
- c) Eritreia.
- d) Síria.
- e) China.

2. “O jornal independente russo Novaya Gazeta anunciou nesta segunda-feira (28 de março) a suspensão de suas publicações online e impressa até que termine a operação militar russa na Ucrânia, em um contexto de pressão do poder sobre as vozes críticas a ele.

Em um comunicado publicado em sua página na Internet, o jornal - cujo editor-chefe recebeu em 2021 o prêmio Nobel da Paz - disse que tomou esta decisão depois de ter recebido uma segunda advertência do regulador russo das telecomunicações por ter violado uma lei sobre “agentes estrangeiros”.

Disponível em: <https://tinyurl.com/mrh3cwsc>. Acesso em 12/04/2022. Adaptado.

O editor-chefe do jornal é:

- a) Abdulrazak Gurnah.
- b) Dmitri Muratov.



- c) Denis Mukwege.
- d) Alexei Venediktov.
- e) Alexei Navalny.

3. “O grupo rebelde houthi reivindicou nesta sexta-feira (25 de março) a autoria de um ataque a uma instalação de petróleo Aramco em Jeddah, na Arábia Saudita. O porta-voz do movimento, que segue uma corrente do islamismo xiita e é alinhado com o Irã, afirmou que atacou refinarias da empresa Aramco com mísseis e drones.”

Disponível em: <https://tinyurl.com/4tcmc227>. Acesso em 12/04/2022.

O movimento houthi está sediado e atua com força:

- a) no Irã.
- b) no Omã.
- c) no Iraque.
- d) no Iêmen.
- e) no Bahrein.

“Os Guardiões da Revolução, divisão ideológica do Exército iraniano, reivindicaram domingo (13 de março) um bombardeio no Curdistão iraquiano e afirmaram ter como alvo um "centro estratégico" israelense, nas proximidades do consulado americano.

Sites especializados afirmam que 12 mísseis táticos Fateh 110 foram usados no ataque, de acordo com o correspondente da RFI no Irã, Siavosh Ghazi. Os mísseis tinham como alvo centros secretos de espionagem do Mossad israelense, um deles próximo ao consulado americano.”

Disponível em: <https://tinyurl.com/rz8hvj3u>. Acesso em 12/04/2022.

Sobre esse acontecimento e os aspectos da geopolítica do Oriente Médio, julgue os itens a seguir (C ou E):

- 4. O nome Curdistão está relacionado à etnia dos curdos, grupo étnico de maioria muçulmana que habita uma região que abrange Turquia, Irã, Iraque e Síria e reivindicam a criação de um estado próprio.**
- 5. O Irã realiza ataques frequentes a consulados americanos próximos de seu território, pois entende que sua presença representa uma ameaça para sua segurança, motivo pelo qual este foi escolhido como alvo no ataque.**



6. Apesar de possuírem divergências históricas, Irã e Israel tem buscado enfraquecer a Arábia Saudita com movimentos militares e econômicos, suspendendo recentemente a compra de petróleo saudita.

7. Os Estados Unidos e alguns de seus aliados aplicam sanções econômicas ao Irã, baseados no entendimento de que o país desenvolve um perigoso programa nuclear.

8. “O país realizou nesta quinta-feira (24/03) o que se acredita ser seu maior teste de um míssil balístico intercontinental (ICBM, na sigla em inglês) e o primeiro envolvendo uma poderosa arma deste tipo desde 2017, apontaram os governos de dois países asiáticos.

Autoridades japonesas afirmaram que o lançamento desta quinta-feira parece ter envolvido um novo modelo de ICBM, que voou por cerca de 71 minutos a uma altitude de cerca de 6 mil quilômetros e com um alcance de 1.100 quilômetros a partir do ponto de lançamento. Ele caiu dentro da zona econômica exclusiva do Japão, 170 quilômetros a oeste da prefeitura de Aomori, no norte do país, segunda a guarda costeira.”

Disponível em: <https://tinyurl.com/2k46hnbt>. Acesso em 12/04/2022. Adaptado.

O país mencionado pelo enunciado é:

- a) Rússia.
- b) Coreia do Norte.
- c) Taiwan.
- d) Vietnã.
- e) China.

9. “O líder da oposição, Yoon Suk-yeol, foi eleito presidente da Coreia do Sul, anunciou nesta quarta-feira (9 de março) a agência Yonhap, depois que seu adversário governista, Lee Jae-myung, reconheceu a derrota.”

Disponível em: <https://tinyurl.com/frvpyyfw>. Adaptado.

No espectro político-ideológico, o novo presidente da Coreia do Sul, Yoon Suk-yeol, posiciona-se ao lado dos:

- a) Conservadores.
- b) Socialistas.
- c) Revolucionários.
- d) Progressistas.



e) Liberais.

10. Na edição de 2022 do Oscar, o filme premiado com a estatueta de Melhor Filme foi:

a) Não olhe para cima.

b) Belfast.

c) No ritmo do coração.

d) King Richard: criando campeões.

e) Duna.

11. O longa-metragem produzido por uma plataforma de streaming ganhou a categoria principal do Oscar 2022 pela primeira na vez na história. Essa plataforma é a:

a) Amazon Prime Video.

b) Apple TV+.

c) Netflix.

d) HBO Max.

e) Disney+.

12. “O ator Troy Kotsur foi o primeiro ator com essa condição a ganhar o Oscar de atuação, na categoria de melhor ator coadjuvante”.

Assinale a alternativa que apresenta corretamente qual é a mencionada condição de Troy Kotsur:

a) Cegueira.

b) Autismo.

c) Mudez.

d) Alopecia.

e) Surdez.



13. Na edição de 2022 do Oscar, o filme premiado com a estatueta de Melhor Filme Internacional foi:

- a) "Flee" – Dinamarca.
- b) "A Mão de Deus" – Itália.
- c) "A Felicidade das Pequenas Coisas" – Butão.
- d) "A Pior Pessoa do Mundo" – Noruega.
- e) "Drive my car" – Japão.

14. "A ONU concordou nesta quarta-feira (2 de março) em iniciar as negociações para o primeiro acordo global contra a poluição plástica, uma iniciativa histórica na luta pela preservação da biodiversidade.

O documento foi aprovado por Chefes de Estado, ministros e ministras do Meio Ambiente e outros representantes de 175 nações."

Disponível em: <https://tinyurl.com/2p875pxs>. Acesso em 12/04/2022.

Sobre a questão da poluição plástica na atualidade, julgue os itens a seguir em verdadeiro ou falso (V ou F):

() Na busca de medidas efetivas para combater a poluição plástica nos oceanos, muitos países têm implementado impostos ou proibições parciais do plástico.

() O plástico não representa apenas um problema de resíduos, mas também provoca impactos no clima, uma vez que é responsável por significativa parcela da demanda global por petróleo.

() O crescimento e a adesão aos movimentos ecológicos vêm reduzindo gradativamente a produção e o consumo do plástico em escala global.

A ordem correta, de cima para baixo, é:

- a) V-V-F.
- b) F-V-F.
- c) V-F-F.
- d) V-F-V.
- e) F-V-V.



15. “O ministro do Supremo Tribunal Federal (STF) Alexandre de Moraes revogou neste domingo (20 de março) a decisão, assinada por ele mesmo na sexta-feira (18 de março), que determinava o bloqueio do aplicativo Telegram em todo o país.”

Disponível em: <https://tinyurl.com/57vmaze8>. Acesso em 12/04/2022.

A solicitação do ministro Alexandre de Moraes de bloquear o aplicativo estava relacionada:

- a) À plataforma não ter atendido a decisões judiciais para o bloqueio de perfis apontados como disseminadores de informações falsas.
- b) A recusa em cooperar e fornecer informações com investigações policiais de corrupção do serviço público.
- c) Ao fato de o CEO do aplicativo, o russo Pavel Durov, ser acusado de utilizar o aplicativo para fornecer informações secretas ao governo de Putin.
- d) Ao descumprimento da nova Lei Geral de Proteção de Dados pelo aplicativo, que já foi banido em países europeus pelo mesmo motivo.
- e) A utilização disseminada do aplicativo por presidiários para organizar rebeliões e ações criminosas.

16. “O governador afastado, Mauro Carlesse (PSL), renunciou nesta sexta-feira (11 de março) ao cargo em carta protocolada horas antes da votação que definiria a abertura de processo de impeachment.”

Disponível em: <https://tinyurl.com/2vhh8cnz>. Acesso em 12/04/2022. Adaptado.

Mauro Carlesse era governador no Estado do:

- a) Maranhão.
- b) Amazonas.
- c) Pará.
- d) Tocantins.
- e) Acre.

17. “O ministro da Educação, Milton Ribeiro, pediu demissão do cargo nesta 2ª feira (28.mar.2022) e o presidente Jair Bolsonaro (PL) aceitou.”

Disponível em: <https://tinyurl.com/bdh7w4bw>. Acesso em 12/04/2022.

O pedido de exoneração foi solicitado em decorrência do vazamento de um áudio, onde o ministro:



- a) Declarou que professores no Brasil deveriam ter seu salário reduzido para priorizar outras áreas de ação do governo.
- b) Criticou Flávio Bolsonaro e expôs possíveis desentendimentos entre os dois.
- c) Utilizou frases semelhantes às usadas por Joseph Goebbels, ministro da propaganda de Adolf Hitler durante o governo nazista.
- d) Relatou priorizar repasse de verbas a municípios indicados por um pastor evangélico a pedido do presidente da república.
- e) Mencionou que não irá declarar apoio à reeleição de Jair Bolsonaro na disputa presidencial de 2022.

18. Observe a imagem a seguir.



A imagem está relacionada a um fato econômico da atualidade no Brasil. Assinale a alternativa que apresenta corretamente qual fato é este:

- a) A diminuição do PIB brasileiro nos anos de 2020 e 2021.
- b) A queda do país no ranking de maiores economias do mundo.
- c) A redução nas taxas básicas de juros da economia nos meses recentes.
- d) A diminuição no número de investidores na bolsa de valores B3.
- e) A redução das exportações brasileiras devido ao coronavírus.

19. “Um projeto do governo de Jair Bolsonaro entrou no radar do Congresso com a eclosão da guerra entre Rússia e Ucrânia. O conflito trouxe à discussão a dependência do Brasil da importação de fertilizantes.

Na sexta-feira (4 de março), a Rússia recomendou que os produtores de fertilizantes do país suspendam as exportações por causa dos problemas de logística provocados pela guerra.

Segundo a ministra da Agricultura, Tereza Cristina, o Brasil não está incluído na recomendação de suspensão, mas, mesmo assim, não há como receber os insumos russos devido à falta de meios para transporte dos produtos em razão das sanções econômicas impostas à Rússia.”

Disponível em: <https://tinyurl.com/c8tn358r>. Acesso em 12/04/2022.

O projeto mencionado pretende:

- a) Destinar verbas públicas de forma prioritária para o setor de desenvolvimento de biotecnologia e pesquisa agropecuária.
- b) Flexibilizar as regras sobre o uso, controle, registro e fiscalização de agrotóxicos.
- c) Propor regras para a mineração, exploração de hidrocarbonetos, como petróleo, e a geração de energia elétrica em terras indígenas.
- d) Aumentar a conversão de áreas de florestais naturais para grandes projetos agropecuários.
- e) Criar uma empresa de economia mista com investidores estrangeiros do setor de produção de fertilizantes.

20. “O Senado aprovou nesta quarta-feira projeto de lei que cria uma política nacional permanente para fomento à cultura, com a previsão de repasses anuais de R\$ 3 bilhões da União para estados e municípios.”

Disponível em: <https://tinyurl.com/4yrdkvx>. Acesso em 12/04/2022.

A proposta foi batizada como:

- a) Lei Jereissati.
- b) Lei do Audiovisual.
- c) Lei Aldir Blanc.
- d) Lei Paulo Gustavo.
- e) Lei Rouanet.



GABARITO



- 1. E
- 2. B
- 3. D
- 4. C
- 5. E
- 6. E
- 7. C
- 8. B

- 9. A
- 10. C
- 11. B
- 12. E
- 13. E
- 14. A
- 15. A
- 16. D

- 17. C
- 18. B
- 19. C
- 20. C



SIMULADO DE ATUALIDADES – ABRIL 2022



1. **“Após ameaças, a Gazprom, a estatal russa de energia, cortou o fornecimento de gás para a Polônia e a Bulgária na manhã desta quarta-feira (27 abr.). A medida é a resposta mais dura do Kremlin até agora às sanções impostas por países da União Europeia. A Rússia é o principal fornecedor de gás para o bloco.”**

Disponível em: <https://tinyurl.com/2pwkkpnn>. Acesso em 09/05/2022.

A medida ocorreu em reação a esses dois países:

- a) terem votado pela condenação da Rússia na Assembleia Geral das Nações Unidas.
- b) transferirem parte do gás para a Ucrânia, que teve seu fornecimento interrompido temporariamente pela Gazprom.
- c) não pagarem pelo combustível em rublos, moeda oficial russa, conforme exigido pelo país.
- d) fornecerem equipamentos de guerra e ajuda humanitária para a Ucrânia.
- e) serem acusados de participar de um ataque a instalações da Gazprom na fronteira entre Rússia e Ucrânia.

2. **“A secretária do Tesouro dos Estados Unidos, Janet Yellen, e o ministro das Finanças da Ucrânia, Serhiy Marchenko, deixaram uma reunião do G20 nesta quarta-feira quando um representante da Rússia começou a falar. O incidente se deu durante os encontros de primavera organizados pelo Fundo Monetário Internacional (FMI) e Banco Mundial.**

Diversos outros ministros das Finanças e banqueiros centrais deixaram a sala, de acordo com uma pessoa familiarizada com os assuntos que falou sob condição de anonimato, uma vez que o evento é privado. Alguns dos que participaram por videochamada desligaram a câmera no mesmo momento, disse fonte.”

Disponível em: <https://tinyurl.com/n2bs8tax>. Acesso em 09/05/2022.

A respeito do G20, assinale a alternativa correta:

- a) É um grupo que reúne os países capitalistas mais desenvolvidos do mundo, tendo sua formação liderada pelos Estados Unidos em meio ao contexto da Guerra Fria.



- b) O grupo foi formado após a crise econômica mundial de 2008/2009, por países desenvolvidos e emergentes que foram os afetados pela crise, possuindo objetivo de discutir a situação socioeconômica global e evitar futuras crises.
- c) É o principal fórum de discussões a respeito de questões ambientais na atualidade, buscando soluções sustentáveis e que se apresentem economicamente viáveis para amenizar os impactos ao meio ambiente.
- d) É um fórum informal que promove debate aberto e construtivo entre países ricos e emergentes sobre assuntos-chave relacionados à estabilidade econômica global.
- e) Reúne as 20 maiores economias do mundo, com base no seu PIB, englobando países desenvolvidos e alguns emergentes e mudando sua composição anualmente.

3. A manchete a seguir foi veiculada em diversos veículos de imprensa no mês de abril de 2022:

“Crescem os temores de que uma região separatista nos limites da Moldávia possa ser arrastada para a guerra na vizinha Ucrânia.”

Assinale a alternativa que corresponde a região mencionada pelo enunciado:

- a) Nagorno-Karabakh.
- b) Transnístria.
- c) Chechênia.
- d) Daguestão.
- e) Ossétia do Sul.

“Os franceses reelegeram Emmanuel Macron (A República em Marcha!) para um novo mandato neste domingo (24.abr.2022). O político de centro superou a candidata da direita, Marine Le Pen (Agrupamento Nacional), e deve governar a França até 2027.”

Disponível em: <https://tinyurl.com/2ha2ba66>. Acesso em 09/05/2022.

Sobre o governo de Emmanuel Macron e as eleições na França, julgue os itens a seguir (C ou E):

- 4. Ao longo de seus cinco anos no poder, Emmanuel Macron combateu duramente à pandemia de Covid-19, endureceu as regras de imigração e não demonstrou apoio aos refugiados de guerras no país.**
- 5. Macron teve de lidar com o movimento dos “coletes amarelos”, que levou milhares de pessoas às ruas, engatilhado por uma medida que aumentou o preço do diesel, no fim de 2018.**



6. O fato da deputada Marine Le Pen ter obtido um percentual de votação mais expressivo do que no 2º turno de 2017, somado a diminuição de partidos tradicionais, como o Socialista e Republicanos, fez com que analistas identifiquem mudanças no quadro político da França.

7. A aprovação e a consolidação do governo de Macron pelo povo francês foi manifesta nas urnas, uma vez que esse pleito obteve um dos maiores índices de eleitores das últimas décadas.

8. A vitória de Macron rompeu com uma tradição desfavorável ao candidato incumbente nos últimos 20 anos, pois foi a primeira vez desde Jacques Chirac (1995-2007), em 2002, que um presidente é reeleito no país.

9. O premiê da Hungria, Viktor Orbán foi reeleito para seu quinto mandato, o seu quarto consecutivo. Assinale a alternativa que apresenta corretamente uma descrição político-ideológica do presidente húngaro:

- a) centrista, pró-União Europeia, mas anti-imigração.
- b) de extrema-direita, nacionalista e anti-LGBTQIA+.
- c) centrista, defensor de políticas protecionistas e anti-imigração.
- d) de extrema-direita, anti-Rússia, favorável à saída do país da União Europeia.
- e) de esquerda, pró-Rússia e contrário à xenofobia.

10. “O lockdown pela Covid-19 em Xangai se arrastou para uma quarta semana, enquanto os pedidos na segunda-feira (25 abr.) para testes em massa no maior distrito de Pequim provocaram temores de que a capital chinesa pudesse estar destinada a um destino semelhante.”

Disponível em: <https://tinyurl.com/mrrzcmrk>. Acesso em 09/05/2022.

Assinale a alternativa que descreve corretamente o que é o Lockdown:

- a) Uma paralisação total dos fluxos e deslocamentos, exceto os essenciais, imposto por um decreto, lei ou decisão judicial.
- b) Uma medida voluntária que envolve o fechamento de estabelecimentos, a proibição de aglomerações e a paralisação da maior parte da atividade econômica considerada não essencial.
- c) Uma medida obrigatória, estabelecida pelas autoridades na qual todos os estabelecimentos não essenciais são fechados, mas sem restrição aos fluxos de pessoas e deslocamentos pela cidade.
- d) A restrição voluntária da aproximação entre as pessoas como forma de controlar a disseminação da doença, mas sem aplicação de multa ou detenções para quem não seguir o distanciamento social.



e) Uma medida destinada somente a pessoas dos grupos de risco, enquanto o resto da população vive normalmente, seguindo os protocolos de higiene e distanciamento social.

11. O homem mais rico do mundo, Elon Musk, confirmou a compra do Twitter no dia 25 de abril, pelo valor aproximado de US\$ 44 bilhões. O empresário também é dono de outras grandes empresas no mundo, sendo uma delas fabricante de sistemas aeroespaciais e de serviços espaciais. Essa empresa é a:

- a) NASA.
- b) Tesla.
- c) SpaceX.
- d) Blue Origin.
- e) Virgin Galactic.

12. “Um tribunal do Reino Unido emitiu nesta quarta-feira (20/04) uma ordem formal para extraditar o fundador do WikiLeaks, Julian Assange, para os EUA, onde ele seria julgado pela publicação de documentos confidenciais relacionados às guerras no Iraque e no Afeganistão.”

Disponível em: <https://tinyurl.com/yr7jjpfy>. Acesso em 09/05/2022.

Assange foi preso em abril de 2019, após ter sido retirada sua proteção diplomática. Entre os anos de 2012 e 2019, foi concedido a ele asilo político na embaixada:

- a) do Equador.
- b) do México.
- c) da Venezuela.
- d) da China.
- e) da Rússia.

13. O Senado dos Estados Unidos aprovou, no dia 07/04, a indicação do presidente americano, Joe Biden, Ketanji Brown Jackson, para a Suprema Corte do país. A aprovação de Jackson é um grande marco na política estadunidense, pois ela será:

- a) a primeira mulher a assumir uma posição na Suprema Corte dos EUA.



- b) a primeira pessoa negra a assumir uma posição na Suprema Corte dos EUA.
- c) a mulher mais jovem a assumir uma posição na Suprema Corte dos EUA.
- d) a primeira mulher imigrante a assumir uma posição na Suprema Corte dos EUA.
- e) a primeira mulher negra a assumir uma posição na Suprema Corte dos EUA.

14. O Grammy Awards 2022 premiou no mês de abril os melhores da indústria musical, e contou com uma brasileira vencedora: a pianista Eliane Elias. A brasileira recebeu uma premiação na categoria:

- a) Melhor album latino pop.
- b) Melhor arranjo, instrumental e a capela.
- c) Melhor composição instrumental.
- d) Melhor solo improvisado de jazz.
- e) Melhor álbum latino de jazz.

15. O Carnaval chegou ao Brasil por volta do século XVII e foi influenciado pelas festas carnavalescas que aconteciam na Europa. Ao longo dos séculos, passou a ser a principal comemoração festiva no país e uma das maiores do mundo, sobretudo no estado do Rio de Janeiro. Em 2022, qual escola de samba foi a campeã do carnaval carioca?

- a) Acadêmicos do Grande Rio.
- b) Portela.
- c) Beija-Flor.
- d) Unidos do Viradouro.
- e) Unidos de Vila Isabel.

16. Presente no samba enredo da grande campeã e também no samba enredo de outras escolas, a temática de destaque no carnaval carioca de 2022 foi:

- a) O povo negro e a sua cultura.
- b) A diversidade religiosa.



- c) O papel da ciência no combate à pandemia.
- d) A importância do voto na democracia.
- e) O combate a todas as formas de preconceito.

17. A grande campeã do carnaval 2022 de São Paulo foi a escola:

- a) Gaviões da Fiel.
- b) Mancha Verde.
- c) Mocidade Alegre.
- d) Império de Casa Verde.
- e) Vai-Vai.

18. O samba enredo da escola campeã do carnaval 2022 de São Paulo versou sobre:

- a) Uma homenagem aos povos africanos.
- b) Passado, presente e futuro do carnaval.
- c) O poder da comunicação.
- d) Desigualdade social.
- e) A importância da água.

19. “As direções nacionais do PT, PCdoB e PV registram hoje o estatuto e o programa da federação partidária intitulada "Brasil da Esperança". Os documentos foram aprovados em reunião no último domingo, segundo nota divulgada pelo PT em seu site e assinada pelos presidentes das três legendas.”

Disponível em: <https://tinyurl.com/4p2umzrp>. Publicado em: 18/04/2022. Acesso em 09/05/2022.

Considerando que agora esses três partidos formaram uma federação partidária, é correto afirmar que:

- a) Permanecerão unidos como um só durante as eleições, separando-se ao fim desta.
- b) Fundiram-se em um único partido, que durará o período de seis anos.



- c) Deverão estabelecer um plano de governo conjunto para as eleições.
- d) Permanecerão unidos apenas na esfera federal, ou seja, para as eleições presidenciais.
- e) As três legendas se unirão em uma só, que será comandada pelo PT, pois é a que possui o maior número de representantes no Legislativo.

20. “O Brasil reciclou aproximadamente 33 bilhões de latinhas de alumínio em 2021, o que representa 98,7% de reaproveitamento do material produzido ao longo do ano. Os números foram divulgados nesta quarta-feira (13 abr.) pela Associação Brasileira do Alumínio (Abal) e a Associação Brasileira dos Fabricantes de Latas de Alumínio (Abralatas).”

Disponível em: <https://tinyurl.com/59zzma6e>. Acesso em 09/05/2022.

Sobre esse assunto, julgue os itens a seguir em verdadeiro ou falso (V ou F):

- () O fortalecimento da cadeia de reciclagem é responsável por gerar renda para milhares de famílias de pessoas envolvidas com a coleta seletiva deste material.
- () A reciclagem do alumínio traz diversos benefícios para o meio ambiente, pois economiza matéria-prima e energia elétrica, diminui as emissões de gás de efeito estufa e do volume de lixo nos aterros sanitários.
- () A implantação de um efetivo processo de reciclagem insere-se dentro da temática do desenvolvimento sustentável, mas não figura entre as políticas públicas brasileiras, o que mostra a importância do setor privado nesse processo.

A ordem correta, de cima para baixo, é:

- a) V-V-V.
- b) V-V-F
- c) V-F-V.
- d) F-V-V.
- e) F-V-F.

21. “A Assembleia Legislativa do Estado de São Paulo (Alesp) vai dar continuidade ao processo de cassação do deputado Arthur do Val (União Brasil), mesmo após seu pedido de renúncia, apresentado no dia 20 de abril. A Comissão de Constituição, Justiça e Redação convocou uma reunião para dar andamento ao caso para terça-feira.”

Disponível em: <https://tinyurl.com/bdtpas2e>. Acesso em 09/05/2022.



Segundo o relator do caso, a acusação contra Arthur do Val está relacionada:

- a) a propagação massiva de *fake news* em seus canais nas redes sociais.
- b) ao uso de recursos públicos para financiar uma viagem à Ucrânia.
- c) a realização de campanha eleitoral antecipada.
- d) à uma declaração em um podcast onde afirmou que o nazismo não deve ser criminalizado.
- e) a quebra de decoro em razão de áudios sexistas enviados a um grupo virtual.

22. “O Plenário aprovou o projeto de lei do senador Álvaro Dias (Podemos-PR), que reconhece o extermínio de milhões de ucranianos, entre 1932 e 1933, por inanição. Pela proposta, o Holodomor, que significa a grande fome, será lembrado no Brasil no quarto sábado de novembro. O relator, Oriovisto Guimarães (Podemos-PR), afirmou que lembrar o genocídio dos ucranianos é uma forma de não permitir que esse crime se repita. Já Flávio Arns (Podemos-PR) citou que a Ucrânia é vítima de uma nova agressão pela Rússia. O projeto segue para a Câmara dos Deputados.”

Disponível em: <https://tinyurl.com/5n7dbykr>. Publicado em: 26/04/2022. Acesso em 09/05/2022.

O Holodomor ocorreu num período em que a União Soviética era governada por:

- a) Karl Marx.
- b) Vladimir Lenin
- c) Josef Stalin.
- d) Leon Trótski.
- e) Nikita Krushev.

23. “O presidente Jair Bolsonaro (PL) vetou a Lei Paulo Gustavo, que destinaria R\$ 3,86 bilhões de dinheiro federal para estados e municípios ajudarem o setor cultural a se recuperar dos impactos da crise causada pela pandemia da Covid-19.”

Disponível em: <https://tinyurl.com/yc7cyxdh>. Publicado em: 05/04/2022. Acesso em 09/05/2022.

O ator homenageado pela lei, Paulo Gustavo, ficou conhecido pelo seu longa-metragem de grande sucesso:

- a) Se Beber, Não Ceie.
- b) Até Que a Sorte Nos Separe.



- c) De Pernas Pro Ar.
- d) Minha Mãe É Uma Peça.
- e) Contrato Vitalício.

24. “A escritora morreu aos 98 anos, em São Paulo, na manhã deste domingo (03.abr.2022). Ela foi a 4ª ocupante da cadeira número 16 da ABL, da qual tomou posse em 1987. Suas obras são conhecidas por abordar temas que tratam de problemas sociais. Também por explorar o universo feminino de forma crítica a moralismos sociais. Era clara em posicionamentos políticos.

Ao longo da carreira, recebeu diversos prêmios relevantes da literatura brasileira. Por 4 vezes foi agraciada pelo Prêmio Jabuti por suas obras: “O jardim selvagem” (1966), “As meninas” (1973), “A noite escura e mais eu” (1996) e a coletânea “Invenção e Memória” (2001). Em 2005, pelo conjunto da obra foi reconhecida pelo Prêmio Camões, que enaltece autores de língua portuguesa.”

Disponível em: <https://tinyurl.com/2p9et2pd>. Acesso em 09/05/2022.

O enunciado se refere à escritora

- a) Rachel de Queiroz.
- b) Cora Coralina.
- c) Clarice Lispector.
- d) Lygia Fagundes Telles.
- e) Lya Luft.

GABARITO



- | | | |
|------|-------|-------|
| 1. C | 9. B | 17. B |
| 2. D | 10. A | 18. E |
| 3. B | 11. C | 19. C |
| 4. E | 12. A | 20. B |
| 5. C | 13. E | 21. E |
| 6. C | 14. E | 22. C |
| 7. E | 15. A | 23. D |
| 8. C | 16. A | 24. D |



SIMULADO DE ATUALIDADES – MAIO 2022



1. “Num gesto que está sendo interpretado na diplomacia como uma sinalização de que os países emergentes não aceitarão uma maior influência da Otan (Organização do Tratado do Atlântico Norte) ou da hegemonia do eixo entre americanos e europeus na redefinição do novo mapa mundial, a China propõe oficialmente a expansão dos Brics.

Numa reunião nesta quinta-feira (19/05) entre os chanceleres do bloco, a sugestão foi oficialmente apresentada.”

Disponível em: <https://tinyurl.com/2p9ddzme>. Acesso em 13/06/2022.

Sobre o BRICs, é correto afirmar que:

a) Constitui-se numa aliança política para pleitear contra decisões de países desenvolvidos no âmbito das organizações internacionais, como a ONU e a OMC.

b) É uma associação de comércio formal que, no entanto, não se constitui como um bloco econômico, pois não possui estatuto, regras e presidência.

c) Integra países com forte poder bélico e nuclear, servindo como uma aliança militar contra ataques estrangeiros.

d) É um agrupamento de cinco países de mercado emergente que busca obter maior influência nos rumos da economia global.

e) Reúne países com níveis socioeconômicos semelhantes e mercados em franca expansão, com objetivo de reunir esforços para o desenvolvimento conjunto de seus membros.

2. “O presidente dos EUA, Joe Biden, anunciou nesta 2ª feira (23.mai.2022) que firmou um acordo comercial com 12 países indo-asiáticos. Eles farão parte do Quadro Econômico Indo-Pacífico (IPEF, na sigla em inglês), que visa fortalecer as relações econômicas na região.”

Disponível em: <https://tinyurl.com/yc8fe4t8>. Acesso em 13/06/2022.

Considerando os países citados a seguir, o único que NÃO pertence ao acordo é:

a) Austrália.



- b) Índia.
- c) China.
- d) Nova Zelândia.
- e) Vietnã.

3. “A Guerra da Ucrânia e as decorrentes pressões inflacionárias, combinadas ao temor de menor crescimento na China e à crise energética, vão provocar novos solavancos na economia global e adiar uma recuperação pós-pandemia, com riscos de escalada de preços especialmente nos países latino-americanos e nos Estados Unidos, afirmam economistas.

O alerta está em um relatório de tom marcadamente sombrio assinado por um grupo de 47 nomes destacados em grandes bancos e multinacionais afiliados ao Fórum Econômico Mundial e distribuído nesta segunda-feira (23) no encontro anual da entidade em Davos (Suíça).”

Disponível em: <https://tinyurl.com/3e95z3by>. Acesso em 13/06/2022.

Conforme os especialistas presentes no fórum, também é possível projetar que nos próximos anos:

- a) o protecionismo aumentará, com efeito negativo na integração econômica.
- b) muitos países precisarão pedir empréstimos ao FMI para subsidiar políticas de bem estar social.
- c) a desigualdade global entre países ricos e pobres diminuirá, devido à estagnação do crescimento econômico.
- d) o comércio entre Estados Unidos e China atingirá seu recorde histórico.
- e) a Organização das Nações Unidas (ONU) deverá assumir papel de protagonismo global frente às crises econômicas.

“O número de pessoas que fugiram da Ucrânia para escapar da guerra iniciada pela Rússia em 24 de fevereiro ultrapassou a marca de 6 milhões, informou a Organização das Nações Unidas (ONU) nesta quinta-feira (12).

Disponível em: <https://tinyurl.com/4y6d3pbc>. Acesso em 13/06/2022.

A respeito desse assunto e a questão migratória na atualidade, julgue os itens a seguir em certo ou errado (C ou E):

4. Esta é considerada a pior crise de refugiados da Europa desde o fim da Segunda Guerra Mundial. A maioria dos refugiados é de mulheres, crianças e idosos.



5. A Rússia está entre um dos principais destinos procurados pelos refugiados ucranianos, mas tem se mostrado extremamente intolerante no acolhimento destes.
6. A guerra na Ucrânia e outros conflitos elevaram o número de pessoas forçadas a fugir de guerras, violência, violações de direitos humanos e perseguição atingindo pela primeira vez a marca de 100 milhões.
7. Eventos relacionados ao clima, como inundações, tempestades e ciclones, também tem forçado milhares de pessoas no mundo a se deslocarem, e, devido à intensificação das mudanças climáticas, estima-se que esse contingente migratório siga aumentando.
8. No Brasil, a principal nacionalidade de origem dos migrantes na atualidade é de venezuelanos, que fogem da crise política e econômica pela qual passa o país.
9. Ao longo do mês de maio de 2022, três tiroteios em massa ocorridos nos Estados Unidos ganharam as manchetes dos jornais e paralisaram o país. Alguns analistas chegaram a dizer que esses eventos já viraram algo frequente nos Estados Unidos. Os dados corroboram essa análise, pois, até o momento, em 2022, pelo menos 256 pessoas morreram em decorrência de ataques. Só em maio, foram 74 vítimas.

A respeito desse assunto, analise as seguintes afirmativas:

I - O governador do estado do Texas, Ted Cruz, e o presidente norte-americano, Joe Biden, se posicionaram publicamente a favor de uma política de maior controle ao acesso às armas.

II - Os Estados Unidos, além de ser o país com maior taxa de tiroteios em massa no mundo, também é o país com maior número de armas em circulação.

III - Todos os ataques em massa ocorridos possuem algo em comum: estão relacionados a crenças ideológicas supremacistas e discriminatórias por parte do agressor.

IV - Estudos indicam que os tiroteios em massa são mais bem explicados pelo acesso de uma sociedade a armas do que pelo nível geral de violência.

V - No país, as armas ultrapassaram os acidentes de carro como a principal causa de morte de crianças e adolescentes.

Assinale a alternativa que apresenta todas as afirmativas corretas:

- a) I, III e IV.
- b) II, III e V.
- c) II, IV e V.
- d) I, II e IV.



e) I, III e V.

10. “O país anunciou que vai liberar as medidas de isolamento contra a covid-19 alegando que a situação da pandemia no país está controlada, segundo a agência estatal, a KCNA. O país supostamente vive sua primeira onda e, nas últimas semanas, adotou medidas restritivas de isolamento.

Apesar das declarações oficiais, agentes internacionais questionam a fala de que essa foi a primeira onda da doença no país, além de duvidarem da taxa de mortalidade — mais baixa do que a média mundial.”

Disponível em: <https://tinyurl.com/n92zjx9h>. Acesso em 13/06/2022. Adaptado.

O país retratado pelo enunciado é:

- a) China.
- b) Coreia do Norte.
- c) Vietnã.
- d) Índia.
- e) Japão.

11. “O Sri Lanka vive um cenário de instabilidade. Manifestantes pró e contra o governo tomaram as ruas em protestos desde 9 de março. Os atos tem como pano de fundo a crise financeira e governamental.”

Disponível em: <https://tinyurl.com/bdzzadcp>. Acesso em 13/06/2022.

A principal reivindicação dos manifestantes no Sri Lanka é:

- a) a plena autonomia do país frente ao Reino Unido.
- b) a realização de eleições diretas para a presidência do país.
- c) o fim do regime comunista no país.
- d) a saída da família Rajapaksa do poder.
- e) a realização de investigações diretas sobre um escândalo de corrupção.



12. “O mundo ultrapassou os 500 casos de varíola dos macacos fora da África na 2ª feira (30.mai.2022). Já são 568 infectados em 24 países, até o meio-dia desta 3ª feira (28.mai). O Brasil ainda não tem casos confirmados, mas está analisando casos suspeitos da doença.”

Disponível em: <https://tinyurl.com/2ryueswv>. Acesso em 13/06/2022.

Sobre essa doença é possível afirmar:

- a) São da mesma família viral da varíola tradicional, porém, com maior taxa de letalidade.
- b) Ainda não existe um imunizante para a doença, mas estima-se que o processo de elaboração será rápido, pois será uma adaptação do imunizante para a varíola tradicional.
- c) A taxa de transmissão do vírus é inferior à da Covid-19, sendo necessário contato prolongada ou próximo com alguém infectado.
- d) É uma doença antiga, descoberta pela primeira vez no século passado, e, historicamente, nunca registrou mortes.
- e) Por causa dos animais locais, o vírus circula de forma limitada na África, sendo essa a primeira vez que um caso foi exportado para outro continente.

13. “O retrato de Marilyn Monroe feito pelo artista Andy Warhol na década de 1960 se tornou a obra mais cara do século 20. O quadro foi arrematado em um leilão na última segunda-feira (9), em Nova York, por US\$ 195 milhões.”

Disponível em: <https://tinyurl.com/5x4txdhb>. Acesso em 13/06/2022.

O pintor e cineasta norte-americano Andy Warhol foi um dos criadores e principal representante do movimento artístico conhecido como:

- a) Surrealismo.
- b) Cubismo.
- c) Realismo.
- d) Expressionismo.
- e) Pop Art.

14. “O climatologista brasileiro Carlos Nobre foi eleito nesta semana como membro estrangeiro da Royal Society, a academia de ciência mais antiga (desde 1660) ainda em atividade no mundo. Após D. Pedro 2º (1825-1891), ele é o único brasileiro a ser aceito na entidade com sede em Londres.”



Disponível em: <https://tinyurl.com/4p39cfd7>. Acesso em 13/06/2022.

Em suas pesquisas, Carlos Nobre dedicou-se a estudar:

- a) como as mudanças climáticas têm causado a savanização do Cerrado brasileiro.
- b) os impactos das ações tomadas pelos governos brasileiros na preservação do meio ambiente.
- c) a poluição do ar em ambientes urbanos e a sua relação com maiores taxas de doenças respiratórias.
- d) os efeitos e consequências do desmatamento da Amazônia para o próprio bioma e para o clima.
- e) os benefícios da implementação de fontes de energia alternativas no país, sobretudo a eólica.

15. “Pelo menos 126 pessoas morreram em Pernambuco devido às fortes chuvas nos últimos dias, segundo informações divulgadas pelas autoridades nesta quarta (01/06). Ao menos 2 pessoas estão desaparecidas. O número de desabrigados pela chuva chega a 6 mil.”

Disponível em: <https://tinyurl.com/2p9tp3w8>. Acesso em 13/06/2022.

As chuvas intensas foram causadas por um fenômeno climático típico do Nordeste, denominado de:

- a) Ondas de Leste.
- b) El Niño.
- c) La Niña
- d) Zona de Convergência Intertropical.
- e) Correntes de Jato.

16. “A prática não é nova, mas em tempos de inflação galopante ficou mais evidente nas prateleiras dos mercados e queixas têm se multiplicado na internet. Trata-se da velha tática da indústria de reduzir a embalagem ou o peso dos pacotes, enquanto os preços dos produtos continuam iguais ou até mesmo maiores.”

Disponível em: <https://tinyurl.com/2pbddvuk>. Acesso em 13/06/2022.

A prática retratada pelo enunciado é conhecida também pelo conceito de:

- a) Ilusão monetária.
- b) Estagflação.



- c) Reflexão.
- d) Inflação inercial.
- e) Reduflação.

17. “A Câmara dos Deputados aprovou, na quarta-feira (18), o texto-base do Projeto de Lei (PL) 3.179 de 2012, após votar seu regime de urgência e acelerar a tramitação da proposta. O PL regulamenta a prática da educação domiciliar (ou homeschooling, em inglês) no Brasil.”

Disponível em: <https://tinyurl.com/bdk5tr4b>. Acesso em 13/06/2022.

A respeito do que propõe o projeto, assinale a alternativa correta:

- a) Não haverá obrigatoriedade de avaliação dos alunos que optarem por praticar a educação domiciliar.
- b) O texto permite apenas que a educação básica – ensino infantil – seja oferecida em casa.
- c) Os alunos que optarem pela educação domiciliar deverão comparecer mensalmente às instituições físicas para realizar avaliações.
- d) Será ministrado sob responsabilidade de tutores legais, formados pelo estado para essa modalidade específica.
- e) Para usufruir da educação domiciliar o estudante deverá estar regularmente matriculado, anualmente, em instituição de ensino.

18. “O surto de dengue que atinge o Brasil já causou alta de mais de 150% nos casos registrados até 7 de maio. O número de pessoas infectadas passa de 750 mil, resultado que já supera todas as confirmações de 2021.”

Disponível em: <https://tinyurl.com/28r439hw>. Acesso em 13/06/2022.

A respeito desse assunto, julgue os itens a seguir com V ou F (verdadeiro ou falso):

- () Uma das explicações para o surto atual relaciona-se com as chuvas intensas que atingiram diversas regiões do país entre o final de 2021 e o início de 2022.
- () O mosquito transmissor da dengue também é responsável por transmitir a zika e a chikungunya.
- () O Instituto Butantan começou recentemente a desenvolver uma vacina para a dengue, e ainda está na fase 1 de estudos clínicos.



() O mosquito tem chegado a regiões que antes não tinham esse problema de forma grave, como no Sul do país, nos estados de Santa Catarina e Rio Grande do Sul.

A ordem correta, de cima para baixo, é:

- a) V-V-F-F.
- b) V-V-F-V.
- c) V-F-F-V.
- d) F-V-V-F.
- e) F-V-F-V.

19. Pressionado pelos constantes aumentos no preço dos combustíveis, o presidente Jair Bolsonaro nomeou, no dia 11 de maio de 2022, um novo Ministro de Minas e Energia, que substituirá Bento Albuquerque.

O novo ministro é:

- a) Moreira Franco.
- b) Adolfo Sachsida.
- c) José Mauro Ferreira Coelho.
- d) Caio Mário Paes de Andrade.
- e) Joaquim Silva e Luna.

20. O ator e diretor Milton Gonçalves, ícone da TV brasileira, faleceu no dia 30 de maio, aos 88 anos. Além de participar de diversos trabalhos de grande destaque, Milton participou da luta contra o preconceito e pelo reconhecimento do trabalho dos negros.

Um dos marcos de sua carreira foi a indicação para o prêmio de melhor ator no Emmy Internacional de 2006, destacado pela sua atuação em:

- a) Sinhá Moça.
- b) Carandiru.
- c) Irmãos Coragem.



d) Chiquinha Gonzaga.

e) Escrava Isaura.

GABARITO



1. D
2. C
3. A
4. C
5. E
6. C
7. C

8. E
9. C
10. B
11. D
12. C
13. E
14. D

15. A
16. E
17. E
18. B
19. B
20. A



SIMULADO DE ATUALIDADES – JUNHO 2022



1. “O senador e ex-prefeito de Bogotá Gustavo Petro foi eleito neste domingo (19/6) presidente da Colômbia.”

Disponível em: <https://tinyurl.com/yped2t3x>. Acesso em 13/07/2022.

Sobre as eleições colombianas, assinale a alternativa correta:

- a) Iván Duque foi seu concorrente no segundo turno, candidato à reeleição, mas seu impopular governo não obteve apoio para mais um mandato.
- b) Décadas atrás, Petro participou do movimento guerrilheiro FARC (Forças Armadas Revolucionárias da Colômbia), pelo qual chegou a ser preso por posse de armas.
- c) Entre suas propostas de campanha, o presidente eleito defendeu a manutenção do “establishment”, poupando críticas às instituições e defendendo o crescimento econômico como principal pauta.
- d) O presidente eleito é o primeiro presidente de esquerda da história do país, e, com ele, foi eleita também a primeira vice-presidente negra do país.
- e) Gustavo Petro apostou em um discurso de campanha voltado para os grupos mais velhos da população, abrangendo temas como o combate ao narcotráfico e a corrupção.

2. A ex-presidente interina da Bolívia, Jeanine Áñez, foi condenada a 10 anos de prisão no dia 10 de junho de 2022. Sobre ela, pesam acusações de:

- a) irresponsabilidade na gestão da pandemia de Covid-19 no país.
- b) fraudes eleitorais no processo que a alçou à condição de presidenta, em 2019.
- c) realizar um golpe contra seu antecessor na presidência do país.
- d) vazar informações secretas do país aos Estados Unidos.
- e) compra de votos e tráfico de influência para aprovação de pautas no congresso.



3. Foi realizada, entre os dias 6 a 10 de junho, a Cúpula das Américas, um encontro entre os líderes dos países da América do Sul, América Central e América do Norte, com o objetivo de alcançar um nível maior de cooperação entre os países americanos. Os Estados Unidos, que organizam o evento, excluíram Cuba, Venezuela e Nicarágua de participar da cúpula.

Segundo os EUA, a exclusão dos três países ocorreu:

- a) pelos recentes embates comerciais entre os EUA e esses países.
- b) por serem os três principais destinos de imigrantes ilegais para os EUA.
- c) por conflitos que envolvem a disputa por petróleo na América Central.
- d) por serem países que não têm regimes democráticos na atualidade.
- e) pelo apoio diplomático dado ao ex-presidente, Donald Trump.

4. Representantes de povos indígenas do Equador e integrantes do governo assinaram nesta quinta-feira (30 jun.) uma ata de compromisso que põe fim a 18 dias de manifestações no país.

Disponível em: <https://tinyurl.com/bder9mh9>. Acesso em 13/07/2022.

Os protestos no Equador tiveram como principal motivação

- a) a elaboração de uma nova constituição.
- b) o assassinato de um líder sindical indígena.
- c) a renúncia do presidente, Guillermo Lasso.
- d) a redução nos preços dos combustíveis.
- e) a aprovação do casamento entre pessoas do mesmo sexo.

5. O governo brasileiro destacou na última sexta-feira os resultados da 14ª Cúpula do BRICS realizada nos dias 23 e 24 de junho sob a presidência rotativa da China, sob o tema "Promover Parceria do BRICS de Alta Qualidade, Inaugurar Uma Nova Era para o Desenvolvimento Global".

Disponível em: <http://portuguese.people.com.cn/n3/2022/0627/c309808-10115165.html>. Acesso em 13/07/2022.

A respeito do BRICS e seus múltiplos aspectos relacionados, analise as seguintes afirmativas:



I - No encontro não foi debatida a questão da guerra na Ucrânia, pelo fato da Rússia estar envolvida na guerra e a China ser uma grande aliada do país, além do restante de membros adotar uma postura neutra em relação ao conflito.

II - O grupo objetiva tornar-se uma área de livre comércio, com diminuição das tarifas alfandegárias para quase todos os itens de comércio entre os países associados.

III - A crescente influência dos BRICS no âmbito global tem apresentado a possibilidade de expansão do grupo, com a participação de novos membros, dentre os quais destacam-se o Irã e a Argentina, que se inscreveram para participar do grupo.

IV - Em relação aos aspectos físicos, os países do BRICS apresentam características comuns, com extensa área territorial e recursos naturais disponíveis.

Está correto o que se afirma em:

- a) I e II.
- b) I e IV.
- c) II e III.
- d) II e IV.
- e) III e IV.

6. No mês de junho, foi realizada a reunião anual da cúpula do G7, clube de países mais ricos do mundo. Os países que são membros e os convidados discutem temas de relevância do momento e anunciam medidas conjuntas. No encontro desse ano, o tema central discutido pelos participantes foi:

- a) a criação de um imposto global sobre lucros de multinacionais.
- b) o banimento da Rússia da Organização das Nações Unidas.
- c) o investimento em tecnologias de energia limpa e renovável.
- d) a contenção ao crescimento econômico chinês.
- e) o apoio à Ucrânia diante da ofensiva russa.

Com milhares de mortos, diversas sanções à Rússia e inúmeras tensões entre países do leste europeu, a guerra na Ucrânia completou seus 100 dias no dia 2 de junho de 2022.

Acerca do conflito, julgue os itens a seguir em C ou E (certo ou errado):



7. Após uma série de rodadas de negociações, os líderes da UE chegaram a um acordo para reduzir as importações de petróleo russo em mais da metade até o final do ano de 2022.
8. Uma das saídas de negócios mais emblemáticas da Rússia desde que o país iniciou a guerra contra a Ucrânia foi da rede de fast-food McDonald's, que vendeu suas lojas para um franqueado local.
9. Líderes dos países da União Europeia concordaram em conceder à Ucrânia e à Moldávia o status de candidatas a entrar no bloco, processo que tem prazo estabelecido para ocorrer em até 2 anos.
10. A Rússia realizou exercícios militares na Lituânia após o país proibir a passagem de mercadorias entre Moscou e o exclave de Kaliningrado - um território russo situado às margens do Mar Báltico e contornado pela Lituânia e pela Polônia.
11. “O aborto nos Estados Unidos não é mais um direito constitucional, decidiu a Suprema Corte do país nesta sexta-feira (24 jun.). A sentença, que reverte uma decisão que havia sido tomada pelo mesmo tribunal há 49 anos, traz grandes impactos para a vida das mulheres e para a política americana.”

Disponível em: <https://tinyurl.com/4mmb4x2t>. Acesso em 13/07/2022.

A decisão da Suprema Corte estadunidense:

- a) retirou o direito à privacidade, e, com isso, passou a considerar que o governo pode interferir em uma escolha íntima da mulher.
- b) proíbe a interrupção da gravidez após a 5ª semana de gestação, mesmo em casos de estupro.
- c) não proíbe a prática, mas abre espaço para que cada um dos 50 estados adote vetos locais.
- d) recebeu grande apoio político, com grande parte da população favorável a decisão.
- e) proíbe a interrupção da gravidez em quaisquer casos, exceto em casos de estupro, devendo ser feito até a 10ª semana de gestação.

Por ser a maior economia do mundo e a maior potência militar do planeta, o que ocorre nos Estados Unidos interessa bastante ao mundo como um todo. O país é o mais importante ator da política internacional, e o seu poder, a sua influência e a sua liderança se espalham por todo o globo.

Relativamente ao cenário dos Estados Unidos na atualidade, julgue os itens a seguir em C ou E (certo ou errado):

12. Após seguidos casos de tiroteios e massacres com armas de fogo, o presidente Joe Biden assinou uma lei que muda as regras para acesso às armas de fogo no país, restringindo a compra para pessoas entre 18 e 21 anos, com antecedentes criminais ou histórico de doença mental e violência doméstica.



13. **Objetivando controlar a inflação no país, o banco central americano elevou a taxa de juros no país em 2 pontos percentuais, alcançando um dos patamares mais elevados de sua história e gerando repercussões econômicas em todo o globo.**
14. **O mundo acompanhou com apreensão ao julgamento em que Amber Heard e Johnny Depp acusaram-se mutuamente de difamação. Apesar da condenação dos dois, a sentença foi mais desfavorável a atriz.**
15. **A política de tolerância zero de Joe Biden contra a imigração em solo norte-americano mostrou mais um capítulo de perversidade no último mês de junho, quando cinquenta pessoas foram encontradas mortas em um caminhão que cruzava a fronteira do México em direção aos Estados Unidos.**
16. **O governo britânico confirmou a extradição de Julian Assange para os Estados Unidos. Ele é acusado de ter acobertado homicídios realizados pelo exército norte-americano durante a guerra do Iraque.**
17. **Em 5 de junho de 2022, o indigenista brasileiro Bruno Pereira e o jornalista britânico Dom Phillips foram assassinados durante uma viagem pelo Vale do Javari, segunda maior terra indígena do Brasil, no extremo-oeste do Amazonas.**

Segundo as investigações da Polícia Federal, Bruno e Dom foram assassinados por conta de denúncias sobre:

- a) o tráfico de drogas no Amazonas.
- b) a pesca ilegal de pirarucu na região.
- c) os garimpos ilegais de ouro no Rio Javari.
- d) o genocídio do povo indígena Yanomami.
- e) a grilagem de terras amazônicas.

18. **A respeito da situação da economia brasileira na atualidade, julgue os itens a seguir com V ou F (verdade ou falso):**

- () A taxa de juros básica da economia brasileira (taxa Selic) tem recebido constantes aumentos devido à persistência da inflação, e atingiu em 2022 seu maior patamar desde 2016.
- () O salário mínimo para o ano de 2022 não teve seu valor alterado, a despeito da elevada inflação registrada no país no ano passado.
- () O crescimento do Produto Interno Bruto (PIB) do Brasil no 1º trimestre de 2022, puxado principalmente pelo setor de serviços, recolocou o país entre as dez maiores economias do mundo.



() A economia global está sob ameaça de recessão, em grande parte, relacionado ao conflito na Ucrânia, mas analistas apontam que seus impactos não deverão atingir a economia brasileira, pelo fato da China ser o principal parceiro comercial brasileiro.

() Para tentar conter a elevação do preço dos combustíveis, o governo federal sancionou lei que limitou a cobrança do ICMS sobre esse e outros itens.

A sequência correta, de cima para baixo, é:

- a) V-F-F-F-V.
- b) V-F-V-F-F.
- c) V-F-V-F-V.
- d) F-F-V-F-V.
- e) F-V-V-V-F.

19. A taxa de desemprego caiu para 9,8% no trimestre de março, abril e maio deste ano. Esse é o menor percentual desde o trimestre encerrado em janeiro de 2016.

O IBGE (Instituto Brasileiro de Geografia e Estatística) divulgou os dados nesta 5ª feira (30.jun.2022). O resultado foi melhor do que as projeções do mercado, que indicavam percentual de 9,9% a 10,3% no trimestre.

Disponível em: <https://tinyurl.com/yc8y6nes>. Acesso em 13/07/2022.

De acordo com os dados divulgados pelo IBGE:

- a) o trabalho sem carteira assinada atingiu o menor número da série histórica.
- b) a renda média mensal do brasileiro diminuiu em comparação com o mesmo período do ano passado.
- c) a taxa de informalidade aumentou no país, chegando na faixa dos 70%
- d) a taxa de subutilização e de desalentados cresceu em relação ao trimestre passado.
- e) grande parte dos empregos com carteira assinada foi registrado no setor primário da economia.

20. “O ex-ministro da Educação Milton Ribeiro foi preso preventivamente, nesta quarta-feira (22 jun.), em Santos. O mandado foi expedido no âmbito de uma operação da Polícia Federal (PF) deflagrada nesta quarta.”



Disponível em: <https://tinyurl.com/y6xcy6bj>. Acesso em 13/07/2022.

Sobre o ex-ministro, pesam acusações de:

- a) transferir recursos do FNDE que extrapolam o teto de gastos do ministério sem a justa declaração dos mesmos.
- b) envolvimento em um esquema de favorecimento na liberação de recursos públicos para municípios indicados por pastores evangélicos.
- c) cooperar com um esquema de lavagem de dinheiro na construção de escolas e creches.
- d) ter recebido mais de R\$ 1 milhão para aprovar pautas específicas no âmbito do Novo Ensino Médio.
- e) favorecer estados cujos senadores votassem em deliberações a favor do presidente.

21. “O governo nomeou, nesta quarta-feira (29/06), a atual secretária especial de Produtividade e Competitividade do Ministério da Economia, Daniella Marques Consentino, para assumir a presidência da Caixa Econômica Federal.

A nomeação ocorre após a oficialização do pedido de demissão do então presidente do banco, Pedro Guimarães, que estava no cargo desde o início do governo do presidente Jair Bolsonaro (PL), em 2019.”

Disponível em: <https://tinyurl.com/2p8s72ez>. Acesso em 13/07/2022.

A demissão de Pedro Guimarães está relacionada a uma investigação do Ministério Público Federal relacionada a denúncias de que ele:

- a) teria praticado assédio sexual contra funcionárias da Caixa.
- b) adulterou dados para facilitar a nomeação de um funcionário que não havia sido aprovado no processo seletivo.
- c) praticou crime de racismo contra funcionários negros da empresa.
- d) comprou bebidas alcólicas e financiou festas “happy hour” com verba pública do banco.
- e) não tomou nenhuma dose da vacina contra a Covid-19 e frequentemente comparecia ao trabalho com sintomas gripais.

22. “Os principais indicadores sobre violência no Brasil foram divulgados no 16º Anuário Brasileiro de Segurança Pública - levantamento anual feito pelo Fórum Brasileiro de Segurança Pública (FBSP) - na terça-feira (28/06).



Entre os diversos dados, o estudo apontou que houve redução de 6,5% nas mortes violentas intencionais (homicídios, latrocínios, lesões corporais seguidas de morte e mortes decorrentes de intervenções policiais) no ano passado frente a 2020.”

Disponível em: <https://tinyurl.com/y9kb8h63>. Acesso em 13/07/2022.

A respeito deste assunto e seus múltiplos aspectos relacionados, analise as seguintes afirmativas:

I – A redução dos crimes se deu de forma irregular no país. A região Nordeste foi a única onde o índice, em movimento contrário, cresceu.

II – A maior taxa de mortes violentas intencionais foi registrada no estado do Amapá, mas o crescimento mais acentuado ocorreu no Amazonas, onde foram assassinados em junho o jornalista Dom Phillips e o indigenista Bruno Pereira.

III – Homens, negros e jovens compõem o perfil majoritário das mortes violentas intencionais no Brasil.

IV - Conforme o Escritório das Nações Unidas para Crimes e Drogas, o Brasil é o país com o maior número absoluto de homicídios do planeta.

V – O envelhecimento populacional do Brasil não pode ser apontado com um dos fatores para a redução dos homicídios no país.

Está correto o que se afirma em:

- a) I, II e IV.
- b) II, III e IV.
- c) I, III e V.
- d) I, II, III e IV.
- e) I, II, III, IV e V.

23. O dia 20 de junho é reconhecido como o Dia Mundial do Refugiado. Aproveitando a data, nesse dia, o Brasil divulgou dados atualizados sobre a situação da população refugiada no país. Os dados mostram que desde 1985, o Brasil reconheceu cerca de 60 mil pessoas como refugiadas.

A maioria dos refugiados no Brasil é proveniente:

- a) da Venezuela.
- b) da Síria.
- c) de Cuba.



- d) do Haiti.
- e) da Bolívia.

24. O Sistema de Estimativas de Emissões e Remoções de Gases de Efeito Estufa (SEEG), iniciativa do Observatório do Clima, revelou, nesta segunda-feira (13/6), que oito dos 5.570 municípios brasileiros que mais emitem gases de efeito estufa estão localizados na região amazônica, sendo quatro no Pará, dois no Amazonas, um em Mato Grosso e um em Rondônia.

Disponível em: <https://tinyurl.com/3mhb6ztm>. Acesso em 13/07/2022.

Conforme a análise, o município que é líder em emissão de gases do efeito estufa no país é:

- a) Altamira (PA).
- b) Lábrea (AM).
- c) Pacajá (PA).
- d) Porto Velho (RO).
- e) São Félix do Xingu (PA).

25. “Neste sábado (4 jun.), o brasileiro Victor Hespanha vai ao espaço a bordo do foguete New Shepard, da empresa Blue Origin. Ao lado de outras cinco pessoas, ele fará uma viagem turística de 11 minutos através de um voo suborbital.”

Disponível em: <https://tinyurl.com/4mfbcbbbr>. Acesso em 13/07/2022.

Os voos espaciais são caracterizados em orbital e suborbital. Assinale a alternativa que descreve corretamente o que é um voo suborbital:

- a) nesse voo, o foguete alcança a órbita do planeta terrestre e passa a realizar voltas em torno do planeta.
- b) pode ser considerado suborbital o voo onde a espaçonave ultrapassa a fronteira entre a atmosfera terrestre e o espaço e passa a sobrevoar o espaço em uma condição de ausência de gravidade.
- c) caracteriza-se por ser um voo autônomo, conta com tripulação inteiramente civil, sem necessitar de um piloto ou uma equipe.
- d) é o voo onde a espaçonave alcança a estação espacial internacional e passa a se deslocar de acordo com o movimento da órbita terrestre



e) é um voo onde a espaçonave alcança determinada altitude, próximo à fronteira do espaço, e depois desativa os motores para voltar para a Terra.

GABARITO



1. D
2. C
3. D
4. D
5. E
6. E
7. C
8. C
9. E

10. E
11. C
12. C
13. E
14. C
15. E
16. E
17. B
18. C

19. B
20. B
21. A
22. B
23. A
24. A
25. E



SIMULADO DE ATUALIDADES – JULHO 2022



“A gigante russa de energia Gazprom anunciou nesta segunda-feira (25/07) mais um corte no fornecimento de gás natural para a União Europeia (UE) por meio do Nord Stream 1, que vai da Rússia até a Alemanha, alegando reparo de equipamentos.”

Disponível em: <https://tinyurl.com/mrjn7d3h>. Acesso em 05/08/2022.

A respeito desse assunto e os múltiplos aspectos relacionados à guerra que se desdobra do leste europeu, julgue os itens a seguir certo ou errado (C ou E):

1. O corte no fornecimento ameaça a suficiência energética alemã, um dos países europeus mais dependentes da Rússia no setor de energia.
2. A Gazprom é uma empresa estatal russa de capital aberto, que conta com acionistas das maiores economias do mundo, não podendo, portanto, ser sancionada.
3. Nord Stream é uma série de gasodutos para transporte de gás natural através do Mar Báltico. Atualmente existem 2 gasodutos: o Nord Stream 1 e o Nord Stream 2. O projeto, desde sempre, está em meio a uma polêmica que envolve as relações de dependência energética de países europeus para com a Rússia.
4. Após algumas tentativas fracassadas de estabelecer acordos diplomáticos, Rússia e Ucrânia assinaram um acordo para o desbloqueio de milhões de toneladas de grãos, retidos em portos do Mar Negro na Ucrânia. As negociações para o acordo foram intermediadas pelas Nações Unidas e Turquia.
5. Os impactos econômicos das sanções ocidentais à Rússia podem representar a maior queda do PIB russo nas últimas cinco décadas, é o que aponta um documento de previsões do PIB de 2022 do Fundo Monetário Internacional (FMI).
6. Após rever os seus objetivos iniciais na invasão da Ucrânia, as forças russas assumiram o controle geral da região de Luhansk, no leste ucraniano.
7. A guerra no Donbass se desenrola desde 2014, quando irrompeu o movimento separatista armado de resistência à ocupação russa.
8. Os países europeus têm buscado alternativas para reduzir a dependência energética da Rússia, como novos fornecedores de petróleo e gás natural da África, golfo pérsico e Ásia, de termelétricas a carvão, mas não consideram o aumento da geração nuclear pelo alto risco de graves acidentes associado a essa fonte energética.



9. “O Federal Reserve (Fed), o banco central dos Estados Unidos, aumentou as taxas de juros do país nesta quarta-feira (27) para uma faixa de 2,25% a 2,5% – uma alta de 0,75 ponto percentual. É a quarta vez neste ano em que os juros são elevados.”

Disponível em: <https://tinyurl.com/3d3be8y7>. Acesso em 05/08/2022.

O avanço da taxa de juros nos Estados Unidos tem como principal objetivo:

- a) reduzir as altas taxas de desemprego.
- b) estimular a atividade econômica.
- c) conter o avanço da inflação.
- d) aumentar as exportações.
- e) controlar a sonegação de impostos.

10. “O Produto Interno Bruto (PIB) dos Estados Unidos teve uma queda anualizada de 0,9% no segundo trimestre de 2022 na comparação com o mesmo período em 2021, informou o Centro de Análises Econômicas nesta quinta-feira (28). A divulgação contrariou a expectativa do mercado, que projetava um crescimento de 0,5%.”

Disponível em: <https://tinyurl.com/5n72j4kf>. Acesso em 05/08/2022.

A respeito da economia norte-americana no período atual, assinale a alternativa correta:

- a) O PIB também teve queda no primeiro trimestre, o que coloca o país na chamada recessão técnica.
- b) O crescimento esperado pelo mercado para o segundo trimestre foi justificado pela descoberta de novas jazidas de gás de xisto no país.
- c) A queda está relacionada principalmente ao desaquecimento no mercado de trabalho, com baixas geração de vagas e aumento do desemprego.
- d) Para evitar piorar o quadro econômico, a expectativa agora é de que o Fed, o banco central norte-americano, intensifique ainda mais a alta de juros.
- e) A queda do PIB norte-americano tem pouca influência nos rumos da economia mundial, uma vez que a China já se estabeleceu como o principal exportador de mercadorias do mundo.



11. “Shinzo Abe, premiê que por mais tempo permaneceu no cargo na história do Japão, foi morto nesta sexta (8), aos 67 anos, após ser baleado enquanto discursava num ato de campanha eleitoral na cidade de Nara.”

Disponível em: <https://tinyurl.com/2v29bttb>. Acesso em 05/08/2022.

Acerca desse fato, é correto afirmar que:

- a) A violência política, especialmente envolvendo armas de fogo, é algo frequente na sociedade japonesa.
- b) Shinzo Abe foi o responsável pela política de proibir armas de fogo no país.
- c) O assassino era um ex-funcionário do governo, que foi desligado do cargo por ter transtornos mentais.
- d) Como é típico no Japão, onde os crimes violentos são raros, e as armas, escassas, a segurança não era reforçada no evento.
- e) Investigações preliminares da equipe de inteligência japonesa apontam que a ação foi comandada por mercenários chineses.

12. Pressionado por seguidas crises em seu governo, o primeiro-ministro britânico, Boris Johnson, renunciou ao cargo na quinta-feira, 7 de julho.

O último escândalo, que foi a gota d'água para sua saída, está relacionado:

- a) a um caso de corrupção na aprovação da vacina AstraZeneca/Oxford contra a Covid-19.
- b) ao fato de ter mentido sobre o fato de não saber de denúncias de abuso sexual de um dos líderes do seu governo no parlamento.
- c) a reforma na residência oficial do governo paga com dinheiro de um doador do Partido Conservador.
- d) a realização de festas na residência oficial do governo durante lockdowns na pandemia.
- e) ao vazamento de uma conversa privada onde exaltava a posição de Vladimir Putin na guerra no leste europeu.

13. “O presidente da Itália Sergio Mattarella dissolveu o Parlamento do país nesta quinta-feira (21) para convocar novas eleições. A medida aconteceu no mesmo dia em que o primeiro-ministro italiano renunciou após perder o apoio de partidos que compunham a base governista.”

Disponível em: <https://tinyurl.com/3x4vb5fd>. Acesso em 05/08/2022.

O primeiro-ministro italiano que renunciou é:



- a) Paolo Gentiloni.
- b) Giuseppe Conte.
- c) Silvio Berlusconi.
- d) Matteo Salvini.
- e) Mario Draghi.

14. “Depois de um processo de quase 2 anos, a nova Constituição do Chile foi apresentada ao presidente Gabriel Boric na última 2ª feira (4.jul.2022). Agora, deverá ser aprovada pelos eleitores em referendo marcado para 4 de setembro deste ano.”

Disponível em: <https://tinyurl.com/ywa92cn5>. Acesso em 05/08/2022. Adaptado.

Assinale a alternativa **incorreta** quanto à nova constituição no Chile:

- a) A Carta propõe trazer uma maior autonomia para os governos regionais e municipais e propõe o fim do Senado, criando em seu lugar uma “Câmara das Regiões”.
- b) A iniciativa de elaborar uma nova Carta Magna é fruto das reivindicações dos protestos que tomaram as ruas do país em 2019.
- c) Comparado com a Constituição ainda em vigor, o novo texto promove uma maior participação e representatividade de mulheres e indígenas na política do país.
- d) A Carta Magna também estabelece algumas mudanças no Executivo, dentre as quais se destaca a substituição do sistema presidencialista pelo parlamentarista.
- e) O novo texto substituirá o modelo estabelecido durante a ditadura de Augusto Pinochet.

A respeito da varíola dos macacos, doença que tem tomado as manchetes das principais mídias pelo mundo nesse ano de 2022 e preocupa a sociedade global, julgue os itens a seguir em C ou E (certo ou errado):

15. O vírus monkeypox, causador da doença, é estudado há décadas, mas nunca havia sido detectado fora de países africanos.

16. O vírus se disseminou rapidamente, atingindo dimensão planetária, o que levou a Organização Mundial da Saúde (OMS) a declará-la como uma pandemia e recomendar a vacinação em massa para se prevenir da doença.



17. O surto atual pode ter sido favorecido por ocorrer num período logo após a estabilização da crise da Covid, em que as pessoas se sentiram mais livres, relaxaram nas medidas de prevenção e se aglomeraram.

18. O vírus da varíola dos macacos é transmitido de uma pessoa para outra por contato próximo com lesões, fluidos corporais, gotículas respiratórias e materiais contaminados, como roupas de cama.

19. Assim como na pandemia de Covid-19, *fake news* sobre a varíola dos macacos tem se espalhado com velocidade, como a notícia falsa de que a Organização Mundial da Saúde (OMS) aconselhou redução de parceiros a gays e bissexuais como prevenção à varíola dos macacos.

20. No atual surto, a primeira morte registrada por varíola dos macacos fora do continente africano ocorreu no Brasil, no estado de Minas Gerais.

21. “Registros de temperatura, incêndios e mortes na Europa. A onda de calor já dura mais de dez dias no centro-oeste do continente europeu. Segundo o instituto de meteorologia Met Office, as temperaturas podem chegar até 42°C no Reino Unido nos próximos dias. A última temperatura histórica na região ocorreu na última terça-feira (19), com o termômetro marcando 40,2°C.”

Disponível em: <https://tinyurl.com/zr7d4zbt>. Acesso em 05/08/2022.

Segundo cientistas, os eventos extremos, como a onda de calor na Europa, estão diretamente ligados à um grande problema ambiental da atualidade, conhecido como:

- a) Poluição atmosférica.
- b) Aquecimento global.
- c) Redução da camada de ozônio.
- d) Radiação infravermelha.
- e) Derretimento do Ártico.

22. A eleição presidencial no Brasil em 2022 será realizada no dia 2 de outubro e escolherá o presidente e o vice-presidente da república. A respeito das eleições brasileiras neste ano, são feitas as seguintes afirmativas:

I - Serão realizadas eleições para os chefes do poder executivo nas três esferas do governo, além de senadores, deputados federais, estaduais e distritais, que ocorrem segundo o sistema de votos majoritário.

II - O sucesso da campanha do Tribunal Superior Eleitoral (TSE) para o alistamento de eleitores com menos de dezoito anos, que levou ao aumento do número de eleitores de 16 e 17 anos aptos a votarem, pode ser



explicado, dentre diversos fatores, pela forma na qual a Justiça Eleitoral se comunicou com jovens, aumentando a presença nos meios virtuais e com influencers.

III - A mudança na pirâmide etária brasileira apresenta reflexos na composição do eleitorado, sendo esta eleição a que apresenta o maior percentual de idosos aptos a votarem já registrada pelo Tribunal Superior Eleitoral (TSE).

IV - A preponderância de mulheres no total da população brasileira não se reflete em igual representação na política nacional, o que motivou a aprovação de uma alteração constitucional de incentivo as candidaturas de mulheres e de pessoas negras.

Estão corretas as alternativas:

- a) I, II e III.
- b) I, II e IV.
- c) I, III e IV.
- d) II, III e IV.
- e) Todas estão corretas.

23. A Proposta de Emenda à Constituição (PEC) nº 1, de 2022, conhecida como “PEC dos benefícios” ou “PEC das bondades”, foi promulgada pelo Congresso no dia 14 de julho 2022.

A PEC dos benefícios:

- a) estabelece um salário mínimo temporário para os trabalhadores autônomos.
- b) altera legislações trabalhistas, permitindo maior concessão de benefícios sociais para os trabalhadores, especialmente os do setor rodoviário.
- c) amplia o teto de gastos do governo para permitir programas de transferência de renda.
- d) reestabelece o Auxílio Emergencial, com pagamentos mensais até o fim do ano.
- e) reconhece um estado de emergência, até o final de 2022, decorrente da elevação dos preços do petróleo, combustíveis e seus derivados.

24. “Em menos de um mês, a Operação Resgate retirou 337 pessoas de condições análogas à escravidão no Brasil. Os resultados da operação foram apresentados nesta quinta-feira (28/7), em coletiva de imprensa. Os resgates começaram a ser feitos em 4 de julho, e a operação ainda está em andamento.”



Disponível em: <https://tinyurl.com/bdzn4mcd>. Acesso em 05/08/2022.

O estado onde foram feitos o maior número de resgates foi:

- a) Minas Gerais.
- b) São Paulo.
- c) Goiás.
- d) Mato Grosso do Sul.
- e) Rondônia.

25. “Autor da lei que beneficia a cultura no Brasil, o diplomata e ex-ministro da Cultura Sergio Paulo Rouanet morreu neste domingo, 3, no Rio de Janeiro, aos 88 anos.”

Disponível em: <https://tinyurl.com/42zn89zj>. Acesso em 05/08/2022.

A Lei Rouanet foi criada durante o governo de:

- a) Fernando Collor (1990-1992).
- b) Itamar Franco (1992–1995).
- c) Fernando Henrique Cardoso (1995–2003).
- d) Luiz Inácio Lula da Silva (2003–2011).
- e) Dilma Rousseff (2011–2016).



GABARITO



- 1. C
- 2. E
- 3. C
- 4. C
- 5. E
- 6. C
- 7. E
- 8. E
- 9. C

- 10. A
- 11. D
- 12. B
- 13. E
- 14. D
- 15. E
- 16. E
- 17. C
- 18. C

- 19. E
- 20. C
- 21. B
- 22. D
- 23. E
- 24. C
- 25. A



SIMULADO DE ATUALIDADES – AGOSTO 2022



“Pivô de uma das maiores crises recentes entre os Estados Unidos e a China, a viagem da presidente da Câmara dos Representantes dos Estados Unidos, Nancy Pelosi, a Taiwan terminou na manhã desta quarta-feira (3 ago.)”

Disponível em: <https://tinyurl.com/mxcae28s>. Acesso em: 08/09/2022.

A respeito desse fato e seus aspectos históricos, julgue os itens a seguir em C ou E (certo ou errado):

1. Os Estados Unidos têm uma política de ambiguidade estratégica para com a questão de Taiwan, pois reconhecem a soberania do governo da China no território, mas, ao mesmo tempo, mantêm relações com o governo de Taiwan.
2. Taiwan é um estado insular localizado próximo à Costa Leste da China, autoproclamado independente e amplamente reconhecido como tal na comunidade internacional, o qual a China considera uma província rebelde e quer reintegrá-lo ao seu território.
3. China e Taiwan estão separados desde 1949, quando as tropas comunistas de Mao Tsé-Tung derrotaram os nacionalistas do Kuomintang que se refugiaram na ilha.
4. O Brasil tem relações comerciais com Taiwan, embora não o reconheça como um país independente.
5. Os pontos de tensão entre Pequim e Washington se multiplicaram nos últimos anos: o Mar da China Meridional, a influência crescente da China na região de Ásia-Pacífico, a guerra na Ucrânia e Taiwan.
6. A Rússia, aparentemente, se absteve de apoiar as pretensões chinesas com relação à Taiwan. Essa postura está em linha com a posição de Pequim de aparente neutralidade sobre a invasão russa da Ucrânia.
7. O presidente dos Estados Unidos, Joe Biden, apoiou decisivamente a visita da presidente da Câmara dos Representantes americana, sua correligionária do Partido Democrata.
8. A visita de Nancy Pelosi sinaliza as boas relações do governo norte-americano com o governo chinês, ao mesmo tempo em que apoia Taiwan em sua causa separatista.
9. Antes de Nancy Pelosi, Donald Trump havia visitado a ilha durante seu governo, mas para se encontrar com o presidente chinês Xi Jinping no intuito de resolver de forma diplomática as disputas comerciais entre os dois países.



10. Em resposta à visita de Nancy Pelosi e outros congressistas norte-americanos à Taiwan, a China executou os maiores exercícios militares da história ao redor de Taiwan.

11. Taiwan tem um papel importantíssimo dentro das cadeias globais de valor, especializando-se na produção de um componente altamente tecnológico e muito utilizado em produtos que definem as tendências digitais e inovadoras da economia global. Isso coloca o país dentro dos interesses econômicos internacionais em disputa entre China e Estados Unidos.

Assinale a alternativa que apresenta corretamente o produto descrito pelo enunciado:

- a) fertilizantes.
- b) silício.
- c) semicondutores.
- d) fibra óptica.
- e) resistores.

12. O verão de 2022 no Hemisfério Norte tem evidenciado quais são os impactos das mudanças climáticas. O registro da pior seca em 500 anos, na Europa, e a pior onda de calor da história recente da China não deixam dúvidas de que o ser humano tem alterado a estabilidade climática global.

Apesar de fazerem parte de ciclos naturais da terra, esses eventos climáticos também estão atualmente sendo agravados pela mudança climática induzida pelo ser humano, que NÃO apresenta como uma de suas consequências:

- a) Mudança nos padrões sazonais de precipitação e temperatura, causando eventos climáticos extremos.
- b) Quebra de safras, o que aumentaria a insegurança alimentar.
- c) Maior risco de extinção de espécies e redução da biodiversidade.
- d) Elevação do nível do mar, devido ao derretimento de gelo na Terra.
- e) Redução da capacidade da atmosfera absorver umidade, gerando maior disponibilidade hídrica.

13. No dia 30 de agosto de 2022, morreu Mikhail Gorbachev, o último líder da União Soviética, aos 91 anos, em Moscou. A respeito de seu legado a frente da União Soviética e da sua trajetória pessoal, são feitas as seguintes afirmativas:



I - Foi o responsável por implantar reformas que visavam a revitalizar a União Soviética, - a perestroika (reestruturação) e glasnost (abertura) -, que culminaram na queda do Muro de Berlim em 1989.

II - Pela sua aproximação diplomática com o Ocidente e sua atuação contra as armas nucleares, além de indiretamente ter acabado com a Guerra Fria, Gorbachev foi laureado com o Prêmio Nobel da Paz em 1990.

III - Para muitos russos, ele foi o responsável pela implosão da União Soviética em 1991, uma superpotência outrora temível cujo território se dividiu em diversas nações separadas.

Está correto o que se afirma em:

- a) somente I.
- b) somente II.
- c) I e II.
- d) II e III.
- e) todas estão corretas.

14. “Dezenas de milhões de pessoas foram afetadas pelas chuvas mais intensas em três décadas no Paquistão. Desde junho, mais de 1.100 pessoas morreram, um terço do país foi inundado e há prejuízos bilionários.”

Disponível em: <https://tinyurl.com/4khsfzpd>. Acesso em: 08/09/2022.

O fenômeno climático responsável pelas chuvas torrenciais no Paquistão e no Sudeste asiático é denominado de:

- a) Tufão.
- b) La Niña.
- c) El Niño.
- d) Monções.
- e) Ciclone tropical.

15. “O FBI executou um mandado de busca nesta segunda-feira (8 ago.) na residência Mar-a-Lago de Donald Trump em Palm Beach, Flórida, confirmou o ex-presidente dos Estados Unidos à CNN.



Trump se recusou a dizer por que os agentes do FBI estavam em Mar-a-Lago, mas disse que a operação não foi anunciada e “eles até invadiram meu cofre”.

“Minha bela casa, Mar-a-Lago, em Palm Beach, Flórida, está atualmente sob cerco, invadida e ocupada por um grande grupo de agentes do FBI”, afirmou em um comunicado.

Trump não estava na Flórida no momento de execução do mandado.”

Disponível em: <https://tinyurl.com/mtdpyfzy>. Acesso em: 08/09/2022.

A busca no resort de Trump está relacionada a acusações:

- a) de ter facilitado uma série de licitações para empresas sobre as quais o ex-presidente possuía ações na bolsa de valores.
- b) de que Trump não só sabia da invasão ao Capitólio em janeiro de 2021, como a incentivou.
- c) de que o ex-presidente tem ligação com hackers russos que teriam tentado acessar dados do governo norte-americano para manipular o resultado das eleições presidenciais de 2020.
- d) de que cometeu crimes contra o povo norte-americano ao negar a gravidade da pandemia da covid-19 e de demorar para tomar medidas de combate à crise sanitária.
- e) de que o presidente levou consigo uma grande quantidade de documentos quando deixou a Casa Branca, em janeiro de 2021.

16. “Apesar da pressão de Pequim, o Escritório do Alto Comissariado das Nações Unidas para os Direitos Humanos (ACNUDH) publicou seu tão esperado relatório sobre Xinjiang na noite desta quarta-feira (31 ago.)”

Disponível em: <https://tinyurl.com/485yejnf>. Acesso em: 08/09/2022.

O relatório publicado pela ONU tem como tema as supostas violações de direitos humanos de uigures na região chinesa de Xinjiang. Os uigures formam uma etnia composta majoritariamente por:

- a) católicos.
- b) muçulmanos.
- c) budistas.
- d) hindus.
- e) judeus.



17. “O governo de Israel e militantes da Palestina chegaram a um acordo e deram início neste domingo (7 ago.) a um cessar-fogo na Faixa de Gaza, que começou a valer às 23h30 de Jerusalém (17h30 em Brasília).

Segundo o Ministério da Saúde de Gaza, mais de 40 pessoas, incluindo ao menos 15 crianças e 4 mulheres, morreram em Gaza desde o início dessa fase de confrontos.”

Disponível em: <https://tinyurl.com/4a8yeuyp>. Acesso em: 08/09/2022.

Os confrontos ocorreram entre Israel o grupo palestino:

- a) Organização para a Libertação da Palestina.
- b) Hezbollah.
- c) Hamas.
- d) Jihad Islâmica.
- e) Fatah.

18. O Movimento Popular de Libertação de Angola (MPLA), do presidente João Lourenço venceu as eleições gerais realizadas em 24 de agosto de 2022, com 51,7% dos votos, de acordo com os resultados provisórios anunciados no dia seguinte pela Comissão Nacional Eleitoral (CNE) após apuração de 97,03% dos votos (com adaptações)

Disponível em: <https://tinyurl.com/3zvfadee>. Acesso em: 08/09/2022.

Sobre a Angola, considere as seguintes afirmativas:

I - O partido de João Lourenço governa Angola desde a sua independência, em 1975, conquistada por meio de uma de descolonização.

II - É o segundo maior produtor de petróleo da África, que representa boa parte da renda do Estado, mas considerável parte de sua população vive em condição de pobreza.

III - Assim como Guiné-Bissau e Moçambique, Angola é um dos países africanos colonizados por Portugal até o século XX.

Está correto o que se afirma em:

- a) I, somente.
- b) I e II, somente.
- c) II, somente.



- d) II e III, somente.
- e) todas.

19. A respeito de fatos recentes ocorridos na região do Oriente Médio, assinale a alternativa INCORRETA:

- a) Confrontos violentos eclodiram no Iraque após o anúncio de um poderoso clérigo xiita de que estava se retirando da vida política.
- b) O Irã autorizou as mulheres a assistirem a um jogo de futebol do Campeonato Iraniano, em Teerã, pela primeira vez em mais de 40 anos.
- c) Um ataque terrorista deixou mais de 20 mortos na Arábia Saudita, que acusou a participação do Catar no atentado.
- d) Um ano após a retomada do poder no Afeganistão pelo Talibã, organizações internacionais têm denunciado que o país passa por retrocessos em diversas áreas, em especial no que tange aos direitos das mulheres.
- e) Os Estados Unidos realizaram uma operação militar no Afeganistão para matar o sucessor de Osama bin Laden como líder da rede terrorista Al-Qaeda.

20. “A Organização Mundial da Saúde (OMS) quer renomear a doença hoje conhecida como varíola dos macacos e pediu nesta terça-feira (16/08) a ajuda do público para encontrar uma designação menos estigmatizante para a enfermidade que está se disseminando rapidamente.”

Disponível em: <https://tinyurl.com/msdnnkfa>. Acesso em: 08/09/2022.

A varíola dos macacos recebeu esse nome porque:

- a) estudos para elaboração de sua vacina foram feitos com a introdução do vírus em macacos.
- b) seus sintomas deixam a pele humana com crostas e enrugada, semelhante à de um chimpanzé.
- c) os macacos são o principal vetor de propagação do vírus para humanos.
- d) o vírus foi responsável por grandes surtos em macacos na África, reduzindo drasticamente a população de algumas espécies de primatas.
- e) o vírus foi originalmente identificado em macacos mantidos para pesquisa na Dinamarca em 1958.



21. “Após se envolver em polêmica por conta de um vídeo em que dança até o chão com amigos, a primeira-ministra da Finlândia, Sanna Marin, se desculpou nesta quarta-feira (24 ago.) por uma foto tirada dentro da residência de verão do governo na qual duas amigas suas aparecem com a camiseta levantada e se beijando, com uma placa escrita "Finlândia" sobre os seios.”

Disponível em: <https://tinyurl.com/27xtmdeu>. Acesso em: 08/09/2022.

Sobre Sanna Marin, primeira-ministra da Finlândia, assinale a alternativa correta:

- a) É a primeira mulher a se tornar primeira-ministra da Finlândia.
- b) Quando tomou posse, tornou-se a mulher mais jovem do mundo a assumir um cargo de líder de Estado.
- c) Está no seu terceiro e último mandato no cargo de primeira-ministra.
- d) Se posiciona contra a entrada do país na Otan.
- e) É a primeira imigrante a assumir o cargo de primeira-ministra do país.

22. “Um tribunal na Rússia condenou nesta quinta-feira (4 ago.) a jogadora de basquete dos EUA Brittney Griner a nove anos de prisão. Em meio à tensão diplomática crescente entre Moscou e Washington devido à Guerra da Ucrânia, o caso tem mobilizado o governo de Joe Biden, comovido a comunidade esportiva e, mais uma vez, dividido a sociedade americana.”

Disponível em: <https://tinyurl.com/2p8x3tk5>. Acesso em: 08/09/2022.

Brittney Griner foi detida sob a acusação de:

- a) carregar cartuchos de óleo de haxixe, substância que é ilegal na Rússia.
- b) assediar um funcionário do aeroporto russo para que não fizesse sua revista.
- c) sonegar e se recusar a pagar tributos russos, alegando que não financiaria a guerra na Ucrânia.
- d) postar em seu twitter frases ofensivas contra o presidente russo Vladimir Putin.
- e) proferir gestos obscenos durante a execução do hino nacional russo no início de uma partida.

A respeito das eleições presidenciais que se aproximam no Brasil, julgue os itens a seguir em C ou E (Certo ou Errado):

23. As datas do primeiro e segundo turno estão previstas na Constituição Federal e, portanto, só podem ser alteradas mediante uma Proposta de Emenda à Constituição (PEC).



24. Eleições para presidente e vice-presidente e para governador e vice-governador dos estados e do Distrito Federal, além de senadores, são feitas de acordo com o sistema majoritário, enquanto as eleições para deputados federais, estaduais e distritais de acordo com o sistema proporcional.

25. A Minirreforma Eleitoral promulgada em 2021 estabeleceu o fim da fidelidade partidária, proibindo que políticos eleitos mudem de partido durante o seu mandato, sob pena de perderem o cargo.

26. Serão implementadas pela primeira vez nessas eleições as Federações Partidárias, nas quais as legendas poderão se unir em um único partido “temporário”, que durará o período de seis anos.

27. Dentre as candidaturas registradas, predominam homens, brancos, casados e com ensino superior completo.

28. “O coração de D. Pedro I, que é preservado desde os anos 1830, vai sair da cidade do Porto, em Portugal, na noite do próximo domingo (21 ago.) e chega a Brasília na segunda-feira (22 ago.). O governo brasileiro pediu a relíquia emprestada para as comemorações dos 200 anos da Independência.”

Disponível em: <https://tinyurl.com/yya6a7yc>. Acesso em: 08/09/2022.

No Brasil, o órgão ficou exposto para exibição no(a):

- a) Museu do Ipiranga, em São Paulo.
- b) Palácio do Itamaraty, em Brasília.
- c) Embaixada de Portugal, em Brasília.
- d) Museu Histórico Nacional, no Rio de Janeiro.
- e) Museu Imperial, em Petrópolis.

29. “O Produto Interno Bruto (PIB) do Brasil registrou avanço de 1,2% no 2º trimestre de 2022 em comparação ao 1º trimestre – crescimento acima do esperado e quarto período seguido de alta.”

Disponível em: <https://tinyurl.com/3jyrnrx>. Acesso em: 08/09/2022.

Ao analisar o crescimento do PIB por setores nesse trimestre, pode-se constatar que:

- a) O maior crescimento foi da indústria, seguida pelo setor de serviços.
- b) O maior crescimento foi da indústria, seguida pela agropecuária.
- c) O maior crescimento foi do setor de serviços, seguido pela indústria.



- d) O maior crescimento foi do setor de serviços, seguido pela agropecuária.
- e) O maior crescimento foi da agropecuária, seguida pelo setor de serviços.

30. “No mês de julho, o Índice Nacional de Preços ao Consumidor Amplo (IPCA) registrou deflação de 0,68%, após variação positiva de 0,67% no mês anterior. Segundo o Instituto Brasileiro de Geografia e Estatística (IBGE), trata-se da menor taxa registrada desde o início da série histórica, iniciada em janeiro de 1980.”

Disponível em: <https://tinyurl.com/3cyrutua>. Acesso em: 08/09/2022.

A queda foi influenciada, principalmente, pela retração no preço:

- a) dos combustíveis e da energia elétrica.
- b) da alimentação e bebidas.
- c) das roupas e vestuário.
- d) da saúde e cuidados pessoais.
- e) da educação e despesas pessoais.

31. “O Comitê de Política Monetária (Copom) do Banco Central decidiu nesta quarta-feira (3 ago.), por unanimidade, elevar a taxa Selic de 13,25% ao ano para 13,75% ao ano – alta de 0,5 ponto percentual.”

Disponível em: <https://tinyurl.com/ycx9uv5h>. Acesso em: 08/09/2022.

A elevação da taxa de juros (Selic) pelo Banco Central teve como um dos objetivos:

- a) incentivar os investimentos estrangeiros no Brasil.
- b) atingir as metas de inflação.
- c) favorecer as importações brasileiras.
- d) estimular a geração de emprego no país.
- e) reduzir o valor do real em relação ao dólar.

32. Iniciou, no mês de agosto, a coleta de dados para o Censo Demográfico 2022, a maior operação censitária do país e uma das maiores do mundo. A respeito do Censo, assinale a alternativa correta:



- a) Programado para acontecer em 2020, o Censo está sendo realizado com dois anos de atraso em razão da falta de servidores públicos.
- b) Boa parte dos dados da operação censitária são sigilosos, podendo ser utilizados apenas pelo setor público, que os utiliza no planejamento governamental.
- c) Além da coleta presencial, será possível responder ao Censo também pelo telefone ou optar pelo autopreenchimento via internet.
- d) Uma novidade a ser pesquisada pelo Censo neste ano de 2022 será a orientação sexual e a identidade de gênero dos brasileiros.
- e) No Censo 2022, será a primeira vez que os moradores de territórios indígenas e quilombolas serão contabilizados.

33. “Anitta fez história ao se tornar tanto a primeira brasileira a performar no palco principal do Video Music Awards 2022 (VMAs), realizado pela MTV em Nova Jersey, nos EUA, quanto a primeira artista solo brasileira a ser premiada na cerimônia. A cantora ganhou na categoria Melhor Clipe de Música Latina com o hit ‘Envolver’.”

Disponível em: <https://tinyurl.com/2p8wsrp6>. Acesso em: 08/09/2022.

Além de garantir a sua premiação no VMA 2022, o hit “Envolver” também rendeu para Anitta um registro no Livro dos Recordes (Guinness Book), reconhecida por:

- a) ser a primeira latina solo a alcançar o topo do Spotify Global.
- b) ser a primeira mulher a bater a marca de 1 milhão de discos vendidos.
- c) atingir a marca de 100 milhões de likes em uma postagem no Instagram.
- d) alcançar o maior número de streams em suas primeiras 24 horas de estreia.
- e) se tornar a música mais reproduzida no YouTube em um único dia na história.

34. Foi realizada entre os dias 12 e 20 de agosto a 50ª edição do Festival de Gramado, um dos mais importantes festivais de cinema do Brasil e de toda a América Latina.

O grande vencedor do festival foi o longa:

- a) Marte Um.
- b) A Mãe.



c) Noites Alienígenas.

d) A Porta Ao Lado.

e) O Clube dos Anjos.

GABARITO



1. C
2. E
3. C
4. C
5. C
6. E
7. E
8. E
9. E
10. C
11. C
12. E

13. D
14. D
15. E
16. B
17. D
18. E
19. C
20. E
21. B
22. A
23. C
24. C

25. E
26. E
27. E
28. B
29. A
30. A
31. B
32. C
33. A
34. C



SIMULADO DE ATUALIDADES – SETEMBRO 2022



Isabel II (ou Elizabeth II, em inglês), Rainha do Reino Unido e dos Reinos da Comunidade de Nações, faleceu no dia 8 de setembro de 2022, aos 96 anos, no castelo de Balmoral, na Escócia.

Sobre o reinado da rainha Elizabeth II e seus múltiplos aspectos relacionados, julgue os itens a seguir em C ou E (certo ou errado):

1. Com cerca de 70 anos de reinado, Elizabeth II consolidou o reinado mais longo da história britânica e o segundo mais duradouro da história mundial, atrás apenas do rei Luís XIV, da França.
2. O sistema de governo do Reino Unido, no qual o governante é um membro da família real e a sucessão ao trono se dá de forma hereditária, é denominado de monarquia.
3. Com a morte da Rainha Elizabeth II, quem assume o trono é o príncipe Charles, conhecido agora como Charles III. Na linha de sucessão do trono, está seu filho mais velho, o príncipe William.
4. Durante seu reinado, Elizabeth II convidou mais de 10 primeiros-ministros a formar governos, dentre eles Winston Churchill, Margaret Thatcher e Boris Johnson, o último que fez parte de seu reinado.
5. Em meio às crises pelas quais passou o Reino Unido, a monarquia nunca ficou livre de críticas, sendo uma das mais famosas a música “God Save The Queen”, da banda punk Sex Pistols.
6. A rainha Elizabeth II visitou o Brasil na década de 1960, ocasião na qual inaugurou o prédio do Museu de Arte de São Paulo (MASP), na Avenida Paulista. Até hoje foi a única viagem de um monarca britânico à América do Sul.
7. O papel político de Elizabeth II abrangeu grandes áreas, tendo o seu reinado passado por grandes momentos históricos, como a descolonização da África, quando Elizabeth II conseguiu manter coeso o império britânico e demover muitas colônias da ideia de emancipação.
8. O Reino Unido ainda tem mais de 10 territórios coloniais no mundo, que ainda mantêm o monarca britânico como chefe de Estado, dentre os quais estão a Nova Zelândia e a Jamaica.
9. “Liz Truss foi anunciada no mês de setembro como a nova líder do Partido Conservador britânico e, por consequência, nova primeira-ministra do Reino Unido e ficará à frente do país até as próximas eleições, previstas para 2024.”

Disponível em: <https://tinyurl.com/2p89ydy7>. Acesso em: 04/10/2022.



Sobre esse fato e seus diversos aspectos relacionados, analise as afirmativas a seguir.

I - Liz Truss será a terceira mulher a assumir o cargo na história do Reino Unido. Antes dela, houve Theresa May, que renunciou ao cargo sem conseguir propor um caminho para o Brexit, e Margaret Thatcher, conhecida como a “Dama de Ferro”.

II - O seu primeiro gabinete foi formado objetivando uma maior representatividade da sociedade na política britânica, com mulheres e negros nos principais cargos.

III - O principal desafio que Liz Truss terá à frente do Reino Unido será seguir renegociando os aspectos alfandegários e migratórios do país com a União Europeia.

IV - Para conter a crise energética que se aproxima no inverno, a nova primeira-ministra propôs o investimento maciço em fontes de energia alternativas, como a eólica e solar.

Marque a opção que indica as afirmativas corretas:

- a) I e II.
- b) I e III.
- c) II e III.
- d) II e IV.
- e) III e IV.

10. Foi realizada, entre os dias 12 e 27 de setembro, na sede das Nações Unidas em Nova Iorque, a 77ª sessão da Assembleia Geral das Nações Unidas (AGNU). Por tradição, desde 1955, o Brasil é o primeiro país a discursar na abertura da Assembleia da ONU.

Dentre os principais assuntos tratados pelo presidente brasileiro Jair Bolsonaro em seu discurso, cita-se:

- a) O apoio à Ucrânia na guerra contra à Rússia e a possibilidade do Brasil fornecer ajuda econômica ao país.
- b) O fortalecimento de parcerias comerciais com países sul-americanos e emergentes.
- c) As críticas aos governos de países que cerceiam a liberdade de expressão e perseguição religiosa.
- d) O papel da Organização Mundial da Saúde (OMS) no combate à pandemia de covid-19.
- e) A reafirmação do Brasil com as metas de redução das emissões de carbono firmadas no Pacto de Glasgow.



11. Um dos principais focos de tensão em meio à guerra que se desenrola na Ucrânia tem se dado em torno das usinas nucleares situadas em território ucraniano, que tem sido tomadas por forças russas em sua ofensiva e se tornado palco de violentos combates. É o que ocorreu com a maior usina nuclear da Europa, ocupada por tropas russas. Trata-se da usina de:

- a) Chernobyl.
- b) Zaporizhzhia.
- c) Carcóvia.
- d) Rivne.
- e) Odessa.

12. “A Rússia disse nesta terça-feira (27 set.) que não descarta sabotagem como uma das razões por trás dos danos à rede russa de gasodutos Nord Stream, desde que surgiram vazamentos inexplicáveis no mar Báltico na segunda-feira.”

Disponível em: <https://tinyurl.com/3bt4bn7c>. Acesso em: 04/10/2022.

A rede de gasodutos Nord Stream foi projetada para levar gás da Rússia diretamente para a:

- a) Alemanha.
- b) Bélgica.
- c) França.
- d) Holanda.
- e) Itália.

13. “O presidente russo Vladimir Putin assinou, nesta sexta-feira (30 set.), a anexação de quatro regiões do território ucraniano à Rússia. O movimento intensifica a guerra que já perdura há sete meses e dá início a uma nova imprevisível fase do confronto.”

Disponível em: <https://tinyurl.com/ycx9696f>. Acesso em: 04/10/2022.

Dentre as regiões ucranianas listadas a seguir, assinale aquela que NÃO foi anexada ao território russo:

- a) Donetsk.
- b) Luhansk.



- c) Kharkiv.
- d) Kherson.
- e) Zaporizhzhia.

14. “O presidente da Rússia, Vladimir Putin, concedeu nesta segunda-feira (26/09) cidadania russa ao ex-analista da Agência de Segurança Nacional americana (NSA) Edward Snowden, em uma aparente afronta aos Estados Unidos, que há anos pedem sua extradição.”

Disponível em: <https://tinyurl.com/dbn42car>. Acesso em: 04/10/2022.

Snowden recebeu asilo político na Rússia em 2013. Ele é acusado pelo governo americano de infringir a lei de espionagem norte-americana, pelo fato de:

- a) divulgar para a imprensa práticas ilegais de espionagem da Agência de Segurança Nacional.
- b) divulgar homicídios realizados pelo exército norte-americano em sua ocupação no Afeganistão.
- c) cooperar com hackers russos em ataques massivos aos bancos de dados norte-americanos.
- d) não ter divulgado informações obtidas sobre os planos russos de anexação da Criméia para o governo norte-americano.
- e) utilizar métodos ilegítimos de investigação sobre o então presidente, Barack Obama.

15. “A Itália elegeu ontem (25 set.) o governo mais direitista desde a derrota do regime fascista no país com a 2ª Guerra Mundial, em 1945. A aliança é liderada pela ultradireitista Giorgia Meloni, que deve ser a primeira mulher primeira-ministra da Itália.”

Disponível em: <https://tinyurl.com/4xfny7bb>. Acesso em: 04/10/2022.

Além de liderar um partido político considerado sucessor do fascismo italiano, Meloni é conhecida por ter posições polêmicas e preconceituosas, tendo como uma de suas propostas políticas:

- a) o endurecimento das regras de imigração.
- b) a liberalização da economia italiana.
- c) a saída da Itália da União Europeia.
- d) o fim do sistema público de saúde italiano.
- e) o apoio à anexação de regiões ucranianas pela Rússia.



16. “Relatório do Programa das Nações Unidas para o Desenvolvimento (Pnud) divulgado nesta quinta-feira (8 set.) alerta que, pela primeira vez nos 32 anos em que é calculado o Índice de Desenvolvimento Humano (IDH), esse indicador caiu globalmente por dois anos consecutivos.”

Disponível em: <https://tinyurl.com/4s8a4s5n>. Acesso em: 04/10/2022.

Sobre o IDH, julgue os itens a seguir em V ou F (verdadeiro ou falso):

() O Índice de Desenvolvimento Humano é calculado com base em três variáveis: educação, saúde e mercado de trabalho.

() A análise do IDH oferece um contraponto a outro indicador muito utilizado, o Produto Interno Bruto (PIB) per capita, que considera apenas a dimensão econômica do desenvolvimento.

() De acordo com os últimos dados divulgados, o Brasil teve sua posição reduzida, estando atualmente situado na 87ª colocação, uma classificação de IDH médio.

A ordem correta é, respectivamente:

- a) F-F-V.
- b) V-F-F.
- c) V-V-F.
- d) F-V-F.
- e) F-V-V.

17. “Várias dezenas de soldados armênios e azeris foram mortos, nesta terça-feira (13 set.), no confronto mais mortífero entre o Azerbaijão e a Armênia desde o conflito de 2020.”

Disponível em: <https://tinyurl.com/ywu5cxw3>. Acesso em: 04/10/2022.

A origem do conflito entre Armênia e Azerbaijão está relacionada, sobretudo, a questões

- a) Neocolonialistas.
- b) Econômicas.
- c) Étnicas.
- d) Imperialistas.
- e) Ideológicas.



18. “Os protestos continuaram em todo o Irã neste domingo (25 set.), apesar da repressão do governo e de relatos da imprensa estatal alegando que os manifestantes colocaram um fim em seus comícios.”

Disponível em: <https://tinyurl.com/vth2akrk>. Acesso em: 04/10/2022.

Os protestos no Irã foram desencadeados em decorrência:

- a) da aprovação de uma lei que permite as mulheres iranianas frequentarem estádios de futebol.
- b) da política moderada do presidente Hassan Rohani, que tem se mostrado aberto à discussão para temas de igualdade de gênero.
- c) da elevada inflação e do aprofundamento da crise econômica no país, que fez com que muitos trabalhadores do setor petrolífero fossem demitidos.
- d) da morte de uma jovem que havia sido presa pela polícia por não respeitar as regras do hijab (véu islâmico).
- e) da manifestação de apoio do ministro das relações exteriores do país com o Talibã no Afeganistão e a possibilidade de estabelecerem acordos comerciais.

19. O Fed (Federal Reserve, o equivalente ao Banco Central dos Estados Unidos) tem realizado seguidos aumentos na taxa de juros norte-americana. Pelo fato de ser a maior economia do mundo, esses reajustes causam repercussões na economia global. Para o Brasil, um dos efeitos que podem ser sentidos com a alta da taxa de juros norte-americana é:

- a) a intensificação do comércio com os Estados Unidos e a obtenção de maior superávit, porque os valores de exportação aumentarão.
- b) a redução do valor dos empréstimos, o que poderá incentivar investimentos no país.
- c) o aumento da cotação do dólar no Brasil, devido à saída da moeda do país com o objetivo de buscar uma melhor remuneração nos Estados Unidos.
- d) a menor demanda pelos produtos e serviços brasileiros, que passam a ter preço elevado.
- e) a desvalorização do dólar, uma vez que os investidores brasileiros perdem a confiança no mercado norte-americano e passam a estocar reais.

20. “Poucos bancos libaneses voltaram a abrir suas portas na segunda-feira (26 set.), depois de permanecerem dez dias fechados. O motivo: uma série de assaltos, realizados pelos próprios clientes, para recuperar o dinheiro bloqueado há três anos devido à grave crise econômica da qual o país é palco.”

Disponível em: <https://tinyurl.com/25yts3jw>. Acesso em: 04/10/2022.



Sobre o Líbano e a sua conjuntura socioeconômica na atualidade, analise as seguintes afirmativas.

I - O Líbano mergulhou em uma grave crise econômica e financeira em 2019 que levou os bancos a imporem duras restrições à população, impedindo, por exemplo, o acesso às poupanças e a saques em dólares.

II - Em 2020, uma grande explosão no porto da capital, Beirute, causado pela explosão de nitrato de amônio deixou muitos mortos e sérios danos à infraestrutura local.

III - A milícia islâmica Hezbollah, que tem uma importante atuação política e militar no Oriente Médio, foi fundada no Líbano e disputa assentos no Parlamento do país.

Está correto o que se afirma em:

- a) I, apenas.
- b) I e II, apenas.
- c) III, apenas.
- d) I e III, apenas.
- e) I, II e III.

21. *“Cuba aprova casamento LGBTQIA+ e barriga de aluguel em referendo”*

Disponível em: <https://tinyurl.com/y6ajksm9>. Acesso em: 04/10/2022.

Na América Latina, o único país, dentre os listados a seguir, que permite o casamento entre pessoas do mesmo sexo é:

- a) Argentina.
- b) Bolívia.
- c) Honduras.
- d) Nicarágua.
- e) Paraguai.

22. **No dia 08 de outubro de 2022, foram reportadas 123 mortes registradas pelo fenômeno da natureza que atingiu o estado norte-americano da Flórida.**

O estado da Flórida foi atingido por um:



- a) vulcão.
- b) tsunami.
- c) terremoto.
- d) tornado.
- e) furacão.

Foram realizadas no dia 2 de outubro de 2022 as eleições gerais no Brasil, nas quais foram disputados os cargos de Presidente da República, Governadores, Senadores, Deputados Federais e Deputados Estaduais ou Distritais.

O segundo turno para a presidência da república será disputado no dia 30 de outubro, entre o atual presidente Jair Bolsonaro (PL) e o ex-presidente Luiz Inácio Lula da Silva (PT).

Acerca do resultado das eleições, julgue os itens a seguir em C ou E (certo ou errado):

- 23. O PL elegeu o maior número de senadores e terá a maior bancada do Senado Federal, assim como na Câmara dos Deputados.**
- 24. Costuma-se denominar de “centrão” o conjunto de partidos políticos que não têm uma orientação ideológica específica e cujo objetivo é assegurar uma proximidade ao poder executivo.**
- 25. O número de partidos com representantes na Câmara tem aumentado progressivamente nos últimos anos, influência direta do mecanismo da cláusula de barreira.**
- 26. O crescimento no número de congressistas negros nas eleições tornou paritária a composição do congresso de acordo com a cor, mas ainda se encontra longe da paridade entre homens e mulheres.**
- 27. Pela primeira vez na história, foram eleitas duas mulheres trans como deputadas federais.**
- 28. “O Comitê de Política Monetária (Copom) do Banco Central decidiu nesta quarta-feira (21) manter a taxa Selic em 13,75% ao ano – patamar em vigor desde o início de agosto.”**

Disponível em: <https://tinyurl.com/n3rfmpn4>. Acesso em: 04/10/2022.

A respeito desse assunto e da economia brasileira, são feitas as seguintes afirmativas:

I - A Selic é a taxa básica da economia e serve de referência para outras taxas de juros e para remunerar as aplicações e títulos que a utilizam como referência.



II – Os juros básicos são um mecanismo utilizado pela Banco Central para controlar a inflação e estimular a economia.

III – A redução da taxa de desemprego foi utilizado como justificativa para a manutenção da taxa básica de juros.

IV - A inflação se desacelerou nos últimos meses, influenciada pelo preço dos combustíveis que receberam corte de impostos.

Estão corretas as alternativas:

- a) I, II e III.
- b) I, II e IV.
- c) I, III e IV.
- d) II, III e IV.
- e) Todas estão corretas.

29. No mês de setembro de 2022, o Supremo Tribunal Federal (STF), instância superior do poder judiciário brasileiro, tomou uma decisão importante para a educação pública no país.

O STF decidiu:

- a) que professores poderão ensinar sobre ideologia de gênero nas escolas, desde que os pais dos alunos estejam cientes e de que isso esteja incluído no plano de ensino.
- b) que o prazo para a implementação do Novo Ensino Médio foi estendido para 2026, devido aos impactos causados pela pandemia de covid-19 no ensino público.
- c) que a prática do *homeschooling* (educação domiciliar) deverá ser permitida desde que haja o acompanhamento frequente da instituição em que os alunos estão matriculados.
- d) que o piso salarial dos professores da educação básica deverá ser reajustado anualmente de acordo com a inflação e contará com bonificações de acordo com o tempo de trabalho.
- e) que é dever do Estado garantir creches e pré-escolas a crianças de até 5 anos, ficando a administração pública obrigada a matricular crianças de até 5 anos.

30. “Mas, com a vacinação, o Brasil deixou de apresentar casos da doença desde 1989, tendo recebido, em 1994, um certificado de eliminação da doença. No entanto, com a baixa cobertura vacinal e problemas



relacionados à vigilância epidemiológica e condições sociais, o Brasil voltou a figurar como um país de grande potencial para a volta da doença.”

Disponível em: <https://tinyurl.com/27anv983>. Acesso em: 04/10/2022.

O enunciado faz referência à uma doença que recentemente tem apresentado alto risco de reintrodução no país. Trata-se da(o):

- a) dengue.
- b) poliomielite.
- c) sarampo.
- d) febre amarela.
- e) caxumba.

31. “Em 2021, 28,2 milhões de pessoas no Brasil não usaram a internet, de acordo com o IBGE (Instituto Brasileiro de Geografia e Estatística). Isso representa 15,3% da população com mais de 10 anos de idade.

Com isso, a internet foi usada por 84,7% da população brasileira com mais de 10 anos, ou 155,7 milhões de pessoas.

Os dados fazem parte da Pesquisa Nacional por Amostra de Domicílios Contínua (Pnad C) feita no 4º trimestre de 2021 e divulgada nesta sexta-feira (16) pelo IBGE.”

Disponível em: <https://tinyurl.com/2tt4xw99>. Acesso em: 04/10/2022.

Sobre o tema do acesso à internet no Brasil, assinale a alternativa correta:

- a) Os dados mostram que nas áreas rurais, menos da metade dos domicílios acessa à internet, principalmente devido à baixa oferta do serviço nessas áreas.
- b) O estudo concluiu que, uma vez que aproximadamente 90% dos alunos da rede pública de ensino utilizam a internet, a adoção do ensino remoto pode vir a ser institucionalizada no país.
- c) O levantamento aponta que o principal fator para o crescimento do uso da internet no país ao longo dos últimos anos está relacionado à pandemia de covid-19, que tornou necessária à sua utilização para as atividades básicas, como trabalho e estudo.
- d) O progressivo aumento no uso da internet no país é um reflexo direto da redução das desigualdades sociais e econômicas que o Brasil tem conseguido alcançar na última década.
- e) As desigualdades regionais que há muito tempo persistem no país podem também ser corroboradas por meio desses dados, que mostram menores índices de acesso à internet nas regiões Norte e Nordeste.



32. A Academia Brasileira de Cinema anunciou no mês de setembro o filme indicado pelo Brasil para disputar uma vaga na categoria de melhor filme internacional do Oscar 2023. O filme indicado é:

- a) A viagem de Pedro.
- b) Deserto Particular.
- c) Marte Um.
- d) Pacificado.
- e) Paloma.

GABARITO



- | | | |
|-------|-------|-------|
| 1. C | 12. A | 23. C |
| 2. C | 13. C | 24. C |
| 3. E | 14. A | 25. E |
| 4. E | 15. A | 26. E |
| 5. C | 16. D | 27. C |
| 6. C | 17. C | 28. B |
| 7. E | 18. D | 29. E |
| 8. E | 19. C | 30. B |
| 9. A | 20. E | 31. E |
| 10. C | 21. A | 32. C |
| 11. B | 22. E | |



SIMULADO DE ATUALIDADES – OUTUBRO 2022



1. “O ativista de Belarus Ales Bialiatski, a organização internacional russa pelos Direitos Humanos Memorial e a organização ucraniana Centro para as Liberdades Cívicas venceram o Nobel da Paz de 2022. Segundo os organizadores, os vencedores ‘representam a luta pela democracia em seus países de origem’”.

Disponível em: <https://tinyurl.com/ye22c4hj>. Acesso em 10/11/2022.

Sobre Ales Bialiatski, é correto afirmar que:

- a) se dedicou a preservar a memória de belarussos que morreram ou foram perseguidos em campos de trabalhos forçados durante a era de Josef Stálin na União Soviética.
- b) é um dos principais nomes de oposição ao atual presidente de Belarus, Aleksandr Lukashenko, fundador do grupo bielorrusso de direitos humanos Viasna ("Primavera").
- c) participou ativamente do processo de dissolução da União Soviética em países independentes, sendo uma das principais vozes da independência de Belarus por meio de um processo pacífico.
- d) é o representante principal do jornal inglês The Guardian em Belarus, sendo colunista sobre a situação social no país e relatando sobre os movimentos autoritários e antidemocráticos do governo local.
- e) foi premiado pela reconciliação entre seu país e a Polônia, que possuíam um litígio em um território situado na fronteira entre os dois países.

2. O Prêmio Nobel de Medicina de 2022 foi oferecido ao cientista sueco Svante Pääbo. Entre as alternativas a seguir, assinale a que melhor sintetiza a pesquisa vencedora do prêmio Nobel de Medicina de 2022:

- a) sequenciamento do genoma dos neandertais e a criação da paleogenética.
- b) desenvolvimento das primeiras vacinas efetivas contra a ebola.
- c) descoberta do vírus da hepatite C, uma doença que mata 400.000 pessoas a cada ano.
- d) descobertas sobre a forma como o sistema nervoso percebe a temperatura e o toque.
- e) descobertas sobre o relógio biológico interno que controla os ciclos de vigília-sono dos seres humanos.



3. Sobre a láurea do Prêmio Nobel de 2022, julgue os itens a seguir:

I – A escritora francesa Annie Ernaux ganhou o Prêmio Nobel de Literatura. Em livros que marcam a sua trajetória aborda o peso da dominação das classes sociais e a paixão do amor.

II – Ben S. Bernanke, Douglas W. Diamond e Philip H. Dybvig receberam o prêmio Nobel de Economia pela pesquisa sobre bancos e crises financeiras.

III - Carolyn R. Bertozzi, Morten Meldal e K. Barry Sharpless foram laureados com o Nobel de Química por estudos sobre a mecânica quântica um campo da ciência que investiga o comportamento de partículas muito minúsculas como átomos, elétrons e fótons.

IV - Alain Aspect, John F. Clauser e Anton Zeilinger foram os ganhadores do Nobel de Física. O grupo levou o Nobel pela criação de uma ferramenta criativa para construção de moléculas, estudos que permitiram um maior direcionamento de tratamentos contra o câncer.

Está correto o que se afirma em:

- a) I e II.
- b) I, II, III e IV.
- c) II e III.
- d) I e III.
- e) I, II e III.

4. O Congresso do Partido Comunista Chinês terminou com a nomeação de Xi Jinping como o secretário-geral do partido. O presidente chinês vai assumir seu terceiro mandato no cargo.

Com o terceiro mandato, Xi se tornou o líder chinês mais poderoso desde Mao Tsé Tung, mas deve enfrentar desafios mais complexos.

Sobre aspectos atuais e históricos da China assinale a alternativa correta:

- a) O crescimento econômico chinês tem desacelerado rapidamente nos anos recentes devido ao bloqueio econômico promovido pelos Estados Unidos, que reduziu substancialmente o comércio entre os dois países.



- b) O Brasil é o principal exportador da China, sendo o comércio entre os dois países composto principalmente de *commodities*.
- c) Mao Tsé Tung ainda exerce grande influência na política econômica do país.
- d) A disputa territorial com Taiwan constitui um dos principais pontos de atrito geopolítico da China, pois a ilha possui uma economia próspera com setores que se opõem à ideia de reunificação com Pequim.
- e) Após apoiar abertamente a Rússia em sua investida contra a Ucrânia, as relações chinesas com o ocidente se desgastaram, com a adoção de sanções econômicas e diplomáticas contra autoridades chinesas.

5. “A Coreia do Norte disparou pelo menos dez mísseis a Leste e Oeste da península coreana nesta quarta-feira (2/11), incluindo um que caiu perto das águas territoriais sul-coreanas pela primeira vez desde a divisão de 1945, disseram autoridades sul-coreanas.

O lançamento de quarta-feira é o 29º da Coreia do Norte este ano, de acordo com uma contagem da CNN.

A aceleração agressiva nos testes de armas provocou alarme na região, com os Estados Unidos, a Coreia do Sul e o Japão respondendo com lançamentos de mísseis e exercícios militares conjuntos.”

Disponível em: <https://tinyurl.com/2p9a9mny>. Acesso em 10/11/2022.

Os testes mencionados pelo fragmento de texto ocorreram depois que o chefe do órgão de vigilância nuclear das Nações Unidas (ONU) alertar que:

- a) o país tem aumentado os investimentos na área militar e criou uma nova equipe para pesquisas nucleares.
- b) Kim Jong-un, atual líder da Coreia do Norte, estaria fornecendo armamentos nucleares para a Rússia.
- c) o país planeja enviar satélites com objetivo exclusivamente militar para a órbita terrestre.
- d) a Coreia do Norte será desligada da ONU e de todas outras agências vinculadas ao organismo.
- e) Pyongyang poderia estar se preparando para um teste nuclear – o primeiro desde 2017.

6. “O ex-ministro das Finanças Rishi Sunak, 42 anos, foi escolhido o novo primeiro-ministro do Reino Unido e líder do Partido Conservador nesta 2ª feira (24.out.2022). Ele sucede Liz Truss, que renunciou em 20 de outubro.”

Disponível em: <https://tinyurl.com/47ufk6ke>. Acesso em 10/11/2022.

O novo premiê é filho de imigrantes, possuindo descendência:

- a) filipina.



- b) africana.
- c) indiana.
- d) japonesa.
- e) mexicana.

7. Com a forte crise econômica que atinge a Argentina, o Ministério da Economia do país criou dois novos tipos de câmbio, que foram apelidados de "Dólar Catar" e "Dólar Coldplay".

Disponível em: <https://tinyurl.com/y4y2smk6>. Acesso em 10/11/2022.

A medida adotada está no contexto do crônico problema argentino

- a) de conflitos sobre o pagamento da dívida externa com os fundos abutres norte-americanos.
- b) da elevada inflação e do congelamento de preços adotado por sucessivos governos nacionais.
- c) da perda do poder aquisitivo da sua população.
- d) da perda de competitividade da indústria argentina na economia globalizada.
- e) da baixa reserva de dólares e do déficit no balanço de pagamentos, com saída de dólares superiores a entrada no país.

8. “Pelo menos 146 pessoas morreram em um tumulto em Seul, Coreia do Sul, após uma multidão se concentrar em um distrito central da cidade.”

Disponível em: <https://tinyurl.com/4j4hrbax>. Acesso em 10/11/2022.

A concentração no local estava relacionada:

- a) a uma manifestação contra a inflação no país.
- b) a comemoração dos 70 anos de independência.
- c) ao Festival da Lua, festa presente no calendário Budista.
- d) a um show do grupo sul-coreano BTS.
- e) as festividades do Dia das Bruxas (Halloween).



9. “Recentemente, membros do ‘Just Stop Oil’ jogaram duas latas do que parecia ser Heinz Tomato Soup (uma referência ao trabalho de mídia impressa de Andy Warhol na década de 1960, provocando ideias sobre cultura de consumo e mídia de massa) na obra de arte de Vincent van Gogh, Girassóis, na Galeria Nacional de Londres. A pintura estava em exibição atrás do vidro e a galeria afirmou que estava ileso.

Desde essa ação, outros membros do ‘Just Stop Oil’ tentaram chamar a atenção para sua mensagem parando o tráfego na Abbey Road, recriando a famosa capa do álbum dos Beatles. Além disso, espalharam tinta nas vitrines de várias concessionárias de carros de luxo em Londres, incluindo Bugatti, Jack Barclay Bentley, Bentley Motor Cars London e Ferrari Mayfair. Na Royal Academy, em Londres, os ativistas se colaram em A Última Ceia, de Leonardo da Vinci.”

Disponível em: <https://tinyurl.com/uzsxt2mm>. Acesso em 10/11/2022.

A respeito do assunto mencionado, considere as seguintes afirmativas:

I - O movimento ativista britânico tem como objetivo a interrupção imediata dos futuros licenciamentos e desenvolvimentos das produções de combustíveis fósseis no país.

II - O trabalho artístico de Andy Warhol, referenciado na ação mencionada pelo fragmento de texto, ficou conhecido como Pop Art e tinha como uma de suas características a utilização de cores vibrantes e elementos presentes na cultura de massas.

III - Ações semelhantes envolvendo obras de arte também foram realizadas em outros países, como na Austrália e na Itália, do mesmo modo buscando fazer críticas ao mundo da arte e sua conexão com as mudanças climáticas.

Está correto o que se afirma em:

- a) Apenas I.
- b) I e II.
- c) II e III.
- d) I e III.
- e) I, II, III.

10. “Em documentos enviados à comissão de valores mobiliários dos Estados Unidos, Elon Musk anunciou que agora é presidente-executivo do Twitter como resultado do acordo de compra.”

Disponível em: <https://tinyurl.com/murp3nd5>. Acesso em 10/11/2022.

Sob o comando de Elon Musk, já foram anunciadas mudanças a serem implementadas na plataforma do Twitter. Uma delas será:



- a) a criação de um marketplace dentro da plataforma com sistema de pagamento interno.
- b) maior controle sobre discursos de ódio e banimento de contas que possam ferir a liberdade de expressão.
- c) o compartilhamento de mensagens de áudio de curta duração em seu perfil.
- d) cobrança de uma taxa por mês para que usuários obtenham o status de verificado.
- e) desativação de conta de autoridades de países cujos governos são autoritários ou ferem os direitos humanos.

11. “O descumprimento das regras de prisão domiciliar levaram o ex-deputado e dirigente do PTB Roberto Jefferson a receber uma nova ordem de detenção determinada pelo ministro do STF Alexandre de Moraes.

Em setembro, o Supremo já havia alertado sobre episódios de desobediência e a possibilidade de multa diária de R\$ 10 mil caso Jefferson seguisse violando as regras das medidas cautelares.”

Disponível em: <https://tinyurl.com/2ptannzc>. Acesso em 10/11/2022.

Roberto Jefferson estava em prisão domiciliar desde agosto de 2021 no âmbito da investigação:

- a) CPI da Covid-19.
- b) CPI do orçamento.
- c) Inquérito das eleições.
- d) Inquérito das fake news.
- e) Inquérito das milícias digitais.

12. “Carla Zambelli aponta arma para homem em São Paulo e diz ter sido agredida.”

Disponível em: <https://tinyurl.com/yc2k7a2s>. Acesso em 10/11/2022.

Atualmente, Carla Zambelli ocupa o cargo de:

- a) Vereadora.
- b) Prefeita.
- c) Deputada Estadual.



d) Deputada Federal.

e) Senadora.

O segundo turno das eleições brasileiras foi realizado no dia 30 de outubro, conforme estabelecido na Constituição Federal. Nessa data, os eleitores brasileiros escolheram, além do presidente da República, governadores nos estados onde houve segundo turno.

A respeito do processo eleitoral no Brasil, julgue os itens a seguir com C ou E (certo ou errado):

13. Nessas eleições ocorreram dois fatos inéditos do período atual da redemocratização brasileira: Luís Inácio Lula da Silva, do PT, foi o primeiro presidente a deixar o cargo e depois voltar a assumi-lo, e Jair Bolsonaro, do PL, foi o primeiro presidente a tentar a reeleição e perder.

14. Lula obteve seu maior percentual de votos na região Nordeste, contudo, dados mostram que Bolsonaro teve nessa região mais votos em 2022 em termos percentuais do que recebeu em 2018, tendo reduzido consideravelmente seu percentual no Sudeste.

15. A abstenção do 2º turno das eleições apresentou o maior percentual desde 2006, o que mostrou o desinteresse da população em participar da escolha do próximo presidente.

16. A polarização entre dois candidatos influenciou também nas disputas estaduais, haja visto que o PT, de Lula, e o PL, de Bolsonaro, foram os dois partidos que mais elegeram governadores em 2022.

17. A Proposta de Emenda à Constituição (PEC) da minirreforma eleitoral aprovada pelo Congresso em 2021 alterou a data de posse do presidente dos governadores para o ano de 2027, dessa forma, o presidente eleito terá quatro dias a mais de mandato.

18. Em São Paulo, a disputa eleitoral refletiu a bipolaridade da disputa pela presidência, entre os deputados federais Tarcísio de Freitas, do PL e Fernando Haddad, do PT, com o candidato bolsonarista vitorioso.

19. No estado da Bahia, um dos maiores colégios eleitorais do país, ACM Neto, do União Brasil, venceu Jerônimo Rodrigues, do PT, terminando com um ciclo de 16 anos de governo petista no estado.

20. O governador é responsável por chefiar o Poder Executivo estadual, representando, dentro do país, a respectiva Unidade da Federação nas relações jurídicas, políticas e administrativas.

21. “O Brasil é o segundo país com a maior proporção de jovens, com idade entre 18 e 24 anos, que não conseguem nem emprego nem continuar os estudos. Os dados são do relatório Education at a Glance 2022, da OCDE (Organização para a Cooperação e Desenvolvimento Econômico), divulgado nessa segunda-feira (3/10).”

Disponível em: <https://tinyurl.com/43xjtjs6>. Acesso em 10/11/2022.



Para se referir à essa faixa da população que não está empregada ou estudando, foi criado o termo:

- a) Geração X.
- b) Geração Nem Nem.
- c) Millenials.
- d) Geração Silenciosa.
- e) Centennials.

22. A possível volta da Poliomielite tem deixado em alerta especialistas e entidades de saúde no país. Em outubro, uma suspeita de caso foi registrada no estado do Pará.

A respeito dessa doença, assinale a alternativa INCORRETA:

- a) A poliomielite pode se espalhar rapidamente entre comunidades com cobertura vacinal inadequada, mas é evitável pela vacinação.
- b) A doença é causada pelo poliovírus, que pode ser transmitido de pessoa para pessoa ou por água e alimentos contaminados.
- c) O tratamento para a doença é feito por meio de tecnologias avançadas e de alto custo, além de não impedir possíveis sequelas.
- d) Embora as coberturas vacinais estejam baixas e haja risco, a doença não está em circulação no Brasil.
- e) A poliomielite é conhecida também como paralisia infantil, pelo fato de que pode acarretar em paralisia musculares, sobretudo dos membros inferiores.

23. “O governo federal enviou o memorando inicial de entrada na OCDE (Organização para a Cooperação e Desenvolvimento Econômico), grupo que reúne 38 países, dentre os mais ricos do mundo.

O anúncio foi feito nesta 5ª feira (6.out.2022) por ministros no Palácio do Planalto. Estiveram presentes: Ciro Nogueira (Casa Civil); Paulo Guedes (Economia); Carlos França (Relações Exteriores); e Luiz Eduardo Ramos (Secretaria Geral).

A entrada na organização era uma das promessas de Jair Bolsonaro em 2018 e ganhou força nesta reta final do 1º governo. Agora, o Brasil será avaliado por 26 comitês em diversas áreas, como meio ambiente, saúde e gestão fiscal.”

Disponível em: <https://tinyurl.com/4mzezpcf>. Acesso em 10/11/2022. Adaptado.



A respeito desse assunto, julgue as afirmativas a seguir:

I - Composto pelas nações mais ricas e desenvolvidas do mundo, fazer parte do grupo viabiliza negócios e investimentos no país, podendo trazer resultado positivo no crescimento Produto Interno Bruto (PIB).

II - Apesar de ter iniciado cooperação com o grupo na década de 90, foi somente em 2017, durante o governo de Michel Temer, que o governo brasileiro enviou um pedido formal de adesão ao grupo.

III - Os membros da OCDE possuem regras de comércio específicas com relação a países que não participam do grupo, como, por exemplo, a adoção de uma tarifa externa comum sobre o petróleo importado.

Está correto o que se afirma em:

- a) I.
- b) II.
- c) III.
- d) I e II.
- e) I e III.

24. Em outubro de 2022, a Academia Brasileira de Letras (ABL) elegeu um novo membro, que ocupará a vaga deixada por Sérgio Paulo Rouanet. O novo membro eleito é:

- a) Ruy Castro.
- b) Gilberto Gil.
- c) Carlos Heitor Cony.
- d) Milton Nascimento.
- e) Eduardo Giannetti.

25. “O músico e poeta Luiz Galvão morreu, na noite deste sábado, 22, aos 87 anos, em São Paulo. Natural de Juazeiro, na Bahia, o fundador do grupo Novos Baianos, que marcou a música brasileira, estava internado no Instituto do Coração (Incor).”

Disponível em: <https://tinyurl.com/4jvyaahf>. Acesso em 10/11/2022.

O grupo Novos Baianos alcançou grande sucesso nacional e internacional. Um de seus álbuns de maior destaque é:



- a) Panis et Circencis
- b) Jardim Elétrico.
- c) Acabou Chorare.
- d) África Brasil.
- e) A Tábua de Esmeralda.

GABARITO



- 1. B
- 2. A
- 3. A
- 4. D
- 5. E
- 6. C
- 7. E
- 8. E
- 9. E

- 10. D
- 11. E
- 12. D
- 13. C
- 14. C
- 15. E
- 16. E
- 17. C
- 18. E

- 19. E
- 20. C
- 21. B
- 22. C
- 23. D
- 24. A
- 25. C



SIMULADO DE ATUALIDADES – NOVEMBRO 2022



1. A 27ª Conferência do Clima da Organização das Nações Unidas, a COP-27, foi realizada entre os dias 6 a 18 de novembro de 2022 na cidade de Sharm El Sheikh no Egito. Na conferência, foram debatidos os rumos e as ações que devem ser tomados para mitigar as mudanças climáticas globais.

Um dos principais pontos aprovados nessa conferência foi:

- a) o estabelecimento de um patamar máximo para emissões globais de gases de efeito estufa até 2025.
- b) a instituição de multas e sanções econômicas para países que ultrapassem a cota permitida de uso de energias provenientes de combustíveis fósseis.
- c) a implementação de um financiamento a países vulneráveis a fenômenos extremos relacionados às mudanças climáticas.
- d) a eliminação gradual dos subsídios aos combustíveis fósseis e do uso do carvão.
- e) a redução das emissões globais em até 70% tendo como horizonte o ano de 2050.

2. A população mundial atingiu 8 bilhões na terça-feira (15 de novembro), de acordo com estimativas das Nações Unidas (ONU).

A respeito da questão populacional na atualidade, analise as afirmativas propostas:

I - O alcance desse marco histórico está relacionado a um melhor padrão de vida e avanços na saúde que ampliaram a expectativa de vida global, mas também ao aumento nos nascimentos, o qual, nas décadas recentes, concentrou-se principalmente em países de baixa e média renda.

II - China, Índia e Estados Unidos são, respectivamente, os três países com maior população na atualidade, mas estimativas indicam que até o fim do século a Índia ultrapassará a China.

III - A desaceleração do crescimento populacional é uma tendência daqui para frente, mas a ONU estima que a população global ainda deverá ultrapassar os 10 bilhões, com grande parte do crescimento concentrado em países africanos.

IV - O aumento populacional pode ampliar o impacto ambiental do desenvolvimento econômico, com o aumento da renda per capita impulsionando a produção e o consumo insustentáveis.



Está correto o que se afirma em:

- a) I, II e III.
- b) I, II e IV.
- c) I, III e IV.
- d) II, III e IV.
- e) Todas estão corretas.

Além de ser um dos maiores eventos esportivos do mundo, a Copa do Mundo de Futebol também apresenta um lado político, com muitos jogadores e torcedores aproveitando-se da visibilidade garantida pelo evento global e realizando manifestações, carregando críticas e opiniões acerca da situação político-social de seus países e do mundo.

Sobre as manifestações políticas durante a Copa do Mundo de Futebol do Catar, julgue os itens a seguir em C ou E (certo ou errado):

3. Os jogadores do Irã não cantaram o hino nacional de seu país antes da partida contra a Inglaterra, em uma demonstração de hostilidade contra esse país com o qual têm rivalidades históricas.
4. Os capitães de seleções europeias recuaram da iniciativa de utilizar uma braçadeira com os dizeres “One Love” (Um Amor), que representa a diversidade racial, de origens, de gênero e de orientação sexual, após a ameaça da FIFA de puni-los.
5. Jogadores da Alemanha protestaram tapando a boca antes da sua primeira partida por conta da censura realizada pelos governos árabes aos seus opositores.
6. Antes de seu jogo de estreia, jogadores da seleção polonesa carregaram pelo campo uma faixa com mensagens de ajuda e apoio à Ucrânia, que passa por momento delicado na guerra contra a Rússia.
7. O governo da Arábia Saudita decretou feriado nacional após o time de futebol do país vencer a seleção da Argentina.
8. No atual evento, pela primeira vez na história, uma mulher participou da arbitragem em uma partida masculina na Copa do Mundo.
9. “A onda de atos, provavelmente a maior já enfrentada pelo líder Xi Jinping desde que assumiu o poder, foi desencadeada por um incêndio em um apartamento que matou 10 pessoas na quinta (24 nov.) em Urumqi.”

Disponível em: <https://tinyurl.com/mr2t2wr9>. Acesso em: 05/12/2022.



A onda de manifestações na China tem como principal motivação:

- a) a forte inflação e o crescente desemprego no país.
- b) a política de covid zero, com testes em massa e confinamentos prolongados.
- c) a falta de democracia e de liberdade política no país.
- d) a reeleição de Xi Jinping para um terceiro mandato como secretário-geral do Partido Comunista Chinês.
- e) o repúdio à intenção do presidente de anexar o território de Hong Kong ao seu país.

10. “A ‘maioria’ dos estados membros do G20 ‘condenou veementemente’ a guerra da Rússia na Ucrânia, de acordo com o final da declaração conjunta dos líderes da cúpula emitida em Bali, na Indonésia, nesta quarta-feira (16 nov.).”

Disponível em: <https://tinyurl.com/yyzdfxk9>. Acesso em: 05/12/2022.

Sobre o G20, é correto afirmar que:

- a) reúne os países mais ricos e desenvolvidos do mundo e os principais emergentes.
- b) é formado apenas por países ocidentais e aliados dos Estados Unidos.
- c) foi criado por países desenvolvidos que não participam do Conselho de Segurança da ONU.
- d) tem como objetivo principal limitar o crescimento econômico chinês.
- e) é uma aliança militar que tem no princípio de defesa mútua sua principal premissa.

11. “O ex-primeiro-ministro de Israel deve voltar ao poder após os resultados da 5ª eleição em pouco mais de três anos e meio no país. O bloco político que o elegeu, com 97% das urnas apuradas, obteve 65 assentos no Parlamento em 120 disponíveis.”

Disponível em: <https://tinyurl.com/2tcktzvk>. Publicado em: 03/11/2022. Acesso em: 05/12/2022.

O político tratado pelo enunciado é:

- a) Yair Lapid.
- b) Isaac Herzog.
- c) Naftali Bennett.



- d) Benjamin Netanyahu.
- e) Benny Gantz.

12. “A Organização Mundial da Saúde (OMS) disse nesta segunda-feira (28 nov.) que começará a usar um novo termo como sinônimo da varíola dos macacos, o ‘mpox’ (do inglês, ‘monkeypox’).”

Disponível em: <https://tinyurl.com/jhx2ehaz>. Acesso em: 05/12/2022.

Assinale a alternativa que apresenta corretamente a razão pela qual a mudança do nome ocorreu:

- a) a doença deixou de ser considerada uma emergência de saúde global.
- b) para facilitar a sua utilização por todas as línguas.
- c) para evitar estigmas e racismos decorrentes do nome.
- d) para abranger todos os agentes transmissores do vírus causador da doença.
- e) para auxiliar na sua prevenção e reduzir a sua disseminação.

13. “A Nasa fez história na madrugada de hoje (16 nov.), ao lançar com sucesso o enorme foguete SLS (Space Launch System ou Sistema de Lançamento Espacial) em direção à Lua, na primeira missão do programa Artemis.

Algo que não acontecia há quase 50 anos — em dezembro de 1972, foi realizada a Apollo 17, última viagem do icônico programa que levou um total de 12 homens para caminhar em nosso satélite.”

Disponível em: <https://tinyurl.com/5n9b57dd>. Acesso em: 05/12/2022.

Sobre esse assunto, assinale a alternativa INCORRETA:

- a) Na nova corrida espacial, a missão para a Lua serve como experiência para os objetivos de exploração de Marte.
- b) China, Rússia, Índia, Japão, Coreia do Sul e Emirados Árabes Unidos são outros países com programas espaciais de exploração lunar.
- c) Empresas privadas têm atuado sozinhas ou em cooperação com governos e agências estatais na nova corrida espacial.
- d) A NASA tem sido criticada por não contemplar uma astronauta mulher no projeto Artemis.



e) Para além do interesse científico, as missões espaciais têm um caráter geopolítico e de domínio econômico.

14. “Os deputados aprovaram, nesta quinta-feira (24 nov.), incluir o aborto na Constituição, o primeiro passo de uma iniciativa para fornecer este direito no país.

Por 337 votos a favor e 32 contra, a Assembleia Nacional (órgão equivalente à Câmara dos Deputados) aprovou a proposta de lei, que agora precisa da aprovação do Senado e da população, em referendo, para entrar em vigor.”

Disponível em: <https://tinyurl.com/5t3zaeah>. Acesso em: 05/12/2022.

O país mencionado pelo enunciado é a:

- a) Alemanha.
- b) Austrália.
- c) Dinamarca.
- d) Islândia.
- e) França.

15. A palavra do ano de 2022 escolhida pelo britânico Cambridge Dictionary é "Homer".

Sobre o assunto em questão, assinale a alternativa INCORRETA:

- a) Em textos britânicos, o termo está relacionado ao poeta grego Homero, sendo utilizado acompanhado de verbos como traduzir, citar e ler.
- b) No inglês informal americano, trata-se da abreviatura da jogada de beisebol denominada "home run".
- c) O termo popularizou-se no jogo de palavras sensação do momento: "Wordle".
- d) Palavras com cinco letras estiveram entre as mais populares do referido dicionário em 2022.
- e) A palavra tem relação com o popular personagem de desenho animado Homer Simpson.



16. Como reflexo do cenário europeu, o dicionário Collins elegeu " _____ " a palavra de 2022. O termo descreve a sensação de viver em um período prolongado de instabilidade e insegurança, explicou a editora.

Assinale a alternativa que completa a lacuna do enunciado:

- a) Agorafobia.
- b) Impermanência.
- c) Insegurança.
- d) Permacrise.
- e) Vertigem.

17. O dicionário dos Estados Unidos Merriam-Webster elegeu o termo "gaslighting" como a Palavra do Ano de 2022.

O termo tem como significado:

- a) a capacidade de vivenciar algo e desenvolver sentimentos específicos sobre situações anormais.
- b) o ato ou a prática de enganar grosseiramente alguém, especialmente para vantagem própria.
- c) o momento em que um homem tenta explicar para uma mulher algo que lhe é óbvio.
- d) a apropriação de algum feito, estudo, pesquisa, realização ou serviço feito por outrem para benefício próprio.
- e) a interrupção de fala de uma mulher baseada no machismo, atrapalhando a conclusão de seu pensamento.

18. Gal Costa, uma das maiores cantoras do Brasil, morreu aos 77 anos, em São Paulo, na quarta-feira, 9 de dezembro. Gal foi uma das principais vozes do movimento do tropicalismo, que a rendeu o apelido de "Musa da Tropicália".

Sobre as características do tropicalismo, são feitas as seguintes afirmativas:

- I - Ausência de análise crítica sobre a sociedade, separando a cultura da política.
- II - Mescla de elementos tradicionais da cultura brasileira com tendências estrangeiras da época, como as guitarras elétricas.
- III - Utilização de elementos estéticos obscuros, transmitindo a mensagem de tristeza e de solidão.



Está correto o que se afirma em:

- a) I apenas.
- b) II apenas.
- c) III apenas.
- d) I e II apenas.
- e) II e III apenas.

19. “Erasmu Carlos morreu nesta terça-feira (22/11). O cantor e compositor havia sido internado ontem de manhã no Hospital Barra D’or, na Barra da Tijuca, no Rio de Janeiro, às pressas.”

Disponível em: <https://tinyurl.com/4ne3z4jd>. Acesso em: 05/12/2022.

Erasmu Carlos foi um dos principais expoentes de um movimento musical que introduziu o rock no Brasil, denominado de:

- a) Bossa Nova.
- b) Rock Brazuca.
- c) Jovem Guarda.
- d) Clube da Esquina.
- e) Geração Maldita.

20. “Após o resultado do segundo turno da eleição presidencial, no qual resultou na vitória de Luiz Inácio Lula da Silva (PT), a Noruega afirmou que irá reativar o Fundo Amazônia, o repasse estava suspenso desde 2019.”

Disponível em: <https://tinyurl.com/3cnz76sx>. Acesso em: 05/12/2022.

O Fundo Amazônia objetiva:

- a) intensificar o monitoramento nas zonas de fronteiras da Amazônia para combater o tráfico de drogas.
- b) a implantação de infraestrutura sustentável na Amazônia Legal.
- c) a compra de créditos de carbono pelos países que contribuem com o fundo.



- d) impedir que a plantação de soja e a criação de gado se expandam por novas áreas na Amazônia Legal.
- e) prevenir, monitorar e combater o desmatamento, além de promover o uso sustentável da Amazônia Legal.

GABARITO



- | | | |
|------|-------|-------|
| 1. C | 8. C | 15. E |
| 2. E | 9. B | 16. D |
| 3. E | 10. A | 17. B |
| 4. C | 11. D | 18. B |
| 5. E | 12. C | 19. C |
| 6. E | 13. D | 20. E |
| 7. C | 14. E | |



SIMULADO DE ATUALIDADES – DEZEMBRO 2022



1. “Congresso do Peru aprova impeachment de Pedro Castillo.”

Disponível em: <https://tinyurl.com/yeyjtsf>. Acesso em 30/01/2023.

Um fato que antecedeu à aprovação do *impeachment* e contribuiu para a destituição de Pedro Castillo foi a sua tentativa de:

- a) ordenar a prisão dos relatores do processo de *impeachment*, sob acusação de traição contra a pátria.
- b) subornar membros do congresso nacional para cassar o mandato de juízes da suprema corte peruana.
- c) convocar a população para um plebiscito, perguntando se era a favor ou contra a realização de novas eleições.
- d) suspender temporariamente a assembleia nacional e outorgar a capacidade legislativa máxima para si.
- e) dissolver os poderes Legislativo e Judiciário e convocar eleições para uma assembleia constituinte.

2. Alegando que a reeleição do presidente venezuelano Nicolás Maduro, em 2018, foi uma fraude, o então presidente da Assembleia Nacional se autoproclamou "presidente encarregado" em janeiro de 2019. O objetivo era a derrubada do regime e a realização de eleições presidenciais democráticas. Em torno de meia centena de países apoiaram esse movimento, como os Estados Unidos, o Brasil e vários outros países sul americanos e europeus. No entanto, ao longo dos anos o apoio internacional se diluiu e a iniciativa oposicionista não conseguiu o apoio interno necessário para atingir o seu objetivo. Assim, diante da realidade atual, o 'governo interino' foi eliminado pela oposição em dezembro de 2022.

Com base nas informações do texto, assinale a alternativa que indica o nome do político que se autoproclamou presidente da Venezuela:

- a) Dinorah Figuera.
- b) Leopoldo López.
- c) Henrique Capriles.
- d) Hugo Chávez.



e) Juan Guaidó.

3. “Após três meses de debates, o Congresso chegou a acordo nesta segunda-feira (12/12) para iniciar o próximo processo constituinte, depois da derrota de uma proposta de nova Carta em plebiscito realizado em setembro.”

Disponível em: <https://tinyurl.com/48cfvasr>. Acesso em 08/02/2023.

O fato mencionado ocorreu:

a) na Argentina.

b) na Bolívia.

c) no Chile.

d) no Peru.

e) na Venezuela.

4. A vice-presidente do país sul-americano foi condenada pela Justiça a seis anos de prisão. Ela foi considerada culpada de atuar como chefe de uma organização criminosa para desviar dinheiro do Estado durante o período em que foi presidente da república (2007-2015).

A política peronista, do Partido Justicialista (PJ), no entanto, não será presa. Esta é a primeira instância que abre uma longa série de apelações até uma decisão final, o que poderá ocorrer em meio as eleições presidenciais de 2023.

Disponível em: <https://tinyurl.com/2ppbmw38>. Publicado em 07/12/2022. Acesso em 08/02/2023. Com adaptações.

A vice-presidente citada na questão é:

a) Cristina Kirchner.

b) Francia Márquez.

c) Kamala Harris.

d) Eva Perón.

e) Gabriela Michetti.



5. Anualmente, a revista norte-americana Time elege “a personalidade do ano” e a homenageia em sua capa. Para o ano de 2022, a revista elegeu como personalidade do ano:

- a) O empreendedor multimilionário Elon Musk.
- b) A jovem ativista do clima Greta Thunberg.
- c) A monarca mais longeva da coroa britânica, Rainha Elizabeth II.
- d) O presidente da Ucrânia, Volodymyr Zelensky.
- e) A congressista estadunidense Nancy Pelosi.

6. “A Rússia anunciou nesta quinta-feira, 8/12, que trocou a jogadora de basquete americana Brittney Griner, pelo famoso traficante de armas russo Viktor Bout, preso nos Estados Unidos há mais de uma década.”

Disponível em: <https://tinyurl.com/yeywpm8>. Acesso em 08/02/2023.

Brittney Griner foi presa em fevereiro de 2022 em um aeroporto de Moscou por:

- a) tentar embarcar no voo portando uma arma ilegal.
- b) utilizar um passaporte falso.
- c) realizar duras críticas à federação russa de basquete, com acusações de roubo na arbitragem.
- d) postar, em sua rede social, uma caricatura do presidente russo, Vladimir Putin, beijando outro homem.
- e) portar um cigarro eletrônico contendo líquido feito de óleo de cannabis.

7. “O TikTok continua sofrendo algumas imposições nos EUA e a batalha deve receber mais capítulos nos próximos dias. Nesta terça-feira (27/12), foi ordenado que os funcionários da Câmara dos Deputados do país removam de forma imediata o app em seus dispositivos oficiais.”

Disponível em: <https://tinyurl.com/2p8ra9wy>. Acesso em 08/02/2023.

A ordem sobre a remoção do aplicativo se relaciona a acusação de que:

- a) funcionários da ByteDance, companhia proprietária do TikTok, sofrem com longas e exaustivas jornadas de trabalho e baixas remunerações.
- b) o TikTok apresenta alto risco à segurança nacional devido à coleta de dados dos seus usuários.



- c) empresas norte-americanas, como o Facebook e a Google, estão perdendo espaço no mercado para empresas chinesas.
- d) o aplicativo tem sofrido seguidos ataques de malwares, podendo representar um risco ao sistema de segurança do Congresso norte-americano.
- e) o aplicativo tem causado inúmeros distúrbios de concentração em jovens e pode ser prejudicial ao seu desenvolvimento.

8. “Após anos de um desenvolvimento problemático e dúvidas acerca do comprometimento político com o projeto, os Estados Unidos testaram pela primeira vez de forma completa um míssil hipersônico.”

Disponível em: <https://tinyurl.com/s6swxuba>. Acesso em 08/02/2023.

Os mísseis hipersônicos representam um grande avanço dos Estados Unidos no campo militar, que o país tem como principais adversários na atualidade:

- a) Índia e Paquistão.
- b) Reino Unido e França.
- c) China e Rússia.
- d) Síria e Iraque.
- e) Coreia do Norte e Irã.

9. “Em dezembro, a China suspendeu a estratégia de ‘covid zero’, política com objetivo de reduzir ao máximo o número de casos para, assim, evitar que a doença se agravasse para mortes e casos graves.”

Disponível em: <https://tinyurl.com/3hx88eku>. Acesso em 08/02/2023.

Sobre a política chinesa de ‘covid zero’, é correto afirmar que:

- a) conseguiu reduzir substancialmente o número de infectados e de mortes, com reduzido quantitativo de sua população infectada ao longo do decorrer da crise sanitária.
- b) pressionou o governo de Xi Jinping, que não conseguiu sua reeleição para um terceiro mandato presidencial.
- c) recebeu grande apoio popular, com mínima existência de protestos e discordâncias por parte de sua população.



d) não conseguiu conter efetivamente a propagação do vírus, sendo a China o país com o maior número de mortes decorrentes da Covid-19.

e) trouxe impactos a economia chinesa, que apresentou um de seus menores crescimentos anuais dos últimos anos.

10. “Segundo dados oficiais divulgados nesta terça-feira (17/01), a população chinesa diminuiu pela primeira vez em mais de seis décadas, em 2022. O resultado aponta para uma crise demográfica no país mais populoso do mundo.”

Disponível em: <https://tinyurl.com/3tjdhaz4>. Acesso em 08/02/2023.

Dentre os motivos apontados para essa redução na população chinesa está:

- a) a elevada taxa de mortalidade decorrente da Covid-19.
- b) o grande fluxo migratório para fora do país devido às violações de direitos humanos.
- c) a intensificação no controle da política do filho único, imposta desde a década de 1980 no país.
- d) a legalização do aborto no país, que reduziu muito as taxas de natalidade.
- e) o aumento no custo de vida e o número crescente de mulheres no mercado de trabalho.

11. “Mais de cem dias após a morte de Mahsa Amini e ante certo arrefecimento dos protestos contra o regime desencadeados pelo episódio, a polícia moral do Irã retomou o controle do uso do hijab pelas mulheres até em veículos, informou nesta segunda-feira (2/01) a imprensa local.”

Disponível em: <https://tinyurl.com/yu9we2vx>. Acesso em 08/02/2023.

Outro fator que se somou às reivindicações dos protestos no Irã foi o fato de que a jovem Mahsa Amini, morta pela polícia iraniana, era de origem:

- a) curda.
- b) yazidi.
- c) palestina.
- d) árabe.
- e) turca.



12. No primeiro dia do ano de 2023, um novo país passou a integrar a Zona do Euro. Com isso, a zona da moeda única da União Europeia passa a ser integrada por 20 dos seus 27 estados-membros. No mesmo dia que abandonou a Kuna, sua moeda nacional, o país também passou a integrar o Espaço Schengen de livre circulação de pessoas, que é composto por países do bloco europeu, Suíça, Noruega, Islândia e Liechtenstein.

O país mencionado pelo enunciado é a:

- a) Croácia.
- b) Eslovênia.
- c) República Tcheca.
- d) Romênia.
- e) Sérvia.

13. “A França teve um dia de protestos contra a reforma da previdência. Houve greve no país todo, em setores como transporte público, educação e petrolífero. Manifestantes e policiais se enfrentaram em Paris.”

Disponível em: <https://tinyurl.com/nxr8ackw>. Acesso em 08/02/2023.

Um dos principais pontos de desaprovação da população francesa sobre a reforma da previdência é:

- a) o aumento do tempo de contribuição de 35 para 40 anos para se aposentar.
- b) o aumento da idade mínima de aposentadoria de 62 para 64 anos.
- c) o aumento das alíquotas de contribuição por parte dos trabalhadores franceses.
- d) a nova metodologia para definir o valor da aposentadoria no momento da sua concessão pelo Estado francês.
- e) a correção dos valores de pensão por um percentual anual fixo, sem considerar as variações inflacionárias.

14. O primeiro-ministro do país, Mark Rutte, se desculpou, em nome do governo, pelo papel do Estado durante o período da escravidão local, que perdurou de 1621 a 1873. "A escravidão foi um crime de lesa humanidade", afirmou o líder do Executivo, em discurso no Arquivo Nacional, em Haia, nesta segunda-feira, 19/12.

Disponível em: <https://tinyurl.com/4nazmp5a>. Acesso em 08/02/2023.



O anuncio relatado pelo enunciado ocorreu pelo primeiro-ministro do (a):

- a) Espanha.
- b) França.
- c) Holanda.
- d) Portugal.
- e) Reino Unido.

15. “Jacinda Ardern anunciou que deixará o cargo em 7 de fevereiro e não buscará reeleição. A primeira-ministra da _____ deu um discurso emocionado e alegou que irá se afastar por cansaço.

(...)

Jacinda foi um exemplo mundial pela forma como controlou a pandemia da covid-19 em seu país.

Disponível em: <https://tinyurl.com/mry2xfp8>. Acesso em 08/02/2023. Adaptado.

O gentílico que completa corretamente a informação do texto é:

- a) Nova Zelândia.
- b) Austrália.
- c) Canadá.
- d) Suécia.
- e) Dinamarca.

16. “O Talebã anunciou o fechamento de universidades para mulheres no Afeganistão, de acordo com uma carta do ministro do Ensino Superior.

A medida restringe ainda mais o acesso das mulheres à educação formal, uma vez que pessoas do sexo feminino já eram excluídas do ensino médio.”

Disponível em: <https://tinyurl.com/3vc2ycz5>. Acesso em 08/02/2023.

Sobre a situação do Afeganistão e o regime do Talibã, analise as afirmativas a seguir:



I - Baseados na interpretação estrita da Sharia, a Lei Islâmica, o grupo radical tem promovido grandes restrições aos direitos das mulheres.

II - A maioria dos países ocidentais não romperam relações diplomáticas com o Afeganistão, receosos de se tornarem possíveis alvos de ataques terroristas.

III - O êxodo de afegãos que buscam refúgio em outros países é uma importante corrente migratória da atualidade, sendo o Brasil um dos destinos dos refugiados.

Está correto o que se afirma em:

- a) Apenas I.
- b) Apenas II.
- c) Apenas III.
- d) I e III
- e) II e III.

17. O departamento de energia dos Estados Unidos anunciou, no mês de dezembro, um avanço científico que pode revolucionar a geração de energia limpa no mundo, com a geração de uma energia ilimitada e de zero carbono.

Trata-se da geração de energia por meio:

- a) do hidrogênio verde.
- b) do calor emitido pelo núcleo da Terra.
- c) das marés lunares.
- d) da força gravitacional.
- e) da fusão nuclear.

18. “A palavra do ano do Dicionário Oxford é, na verdade, um termo. "Goblin mode" foi eleito pelo dicionário inglês como o mais popular de 2022.”

Disponível em: <https://tinyurl.com/yhj7yyjw>. Acesso em 08/02/2023.

De acordo com a publicação, a gíria se refere:



- a) a percepção confusa em relação a passagem do tempo e ao espaço ao seu redor.
- b) à sensação de viver em um período prolongado de instabilidade e insegurança.
- c) a um tipo de comportamento desleixado consigo mesmo e com o ambiente a sua volta.
- d) ao ato ou prática de enganar alguém grosseiramente, especialmente para [obter] vantagem pessoal.
- e) a uma jogada no beisebol americano, como se fosse um gol do futebol.

19. “O papa emérito Bento XVI morreu na manhã deste sábado (31/12), aos 95 anos de idade, quase uma década após sua renúncia ao comando da Igreja Católica.”

Disponível em: <https://tinyurl.com/4yjs8jd4>. Acesso em 08/02/2023.

Durante o período em que liderou a Igreja Católica, uma série de crises e polêmicas marcaram o papado de Bento XVI, com destaque para:

- a) as acusações de abusos sexuais cometidos por padres católicos.
- b) as falas preconceituosas contra o povo latino-americano e africano.
- c) o pagamento de propina por cardeais do Vaticano para o governo italiano.
- d) a ligação entre alguns arcebispos europeus e a máfia italiana.
- e) o vazamento de arquivos secretos sobre o Vaticano.

20. O Produto Interno Bruto (PIB) do Brasil cresceu 0,4% no 3º trimestre de 2022, na comparação com os três meses imediatamente anteriores, conforme divulgado pelo Instituto Brasileiro de Geografia e Estatística (IBGE) em 01/12/2022.

Sobre esse resultado, é correto afirmar que:

- a) foi o maior crescimento trimestral nos últimos dois anos.
- b) o resultado recolocou o Brasil como 7ª maior economia do mundo.
- c) o crescimento acelerou em relação ao trimestre anterior.
- d) retirou o país do cenário de recessão técnica.
- e) os três setores da economia apresentaram crescimento positivo.



21. O Brasil fechou o ano com inflação acumulada de 5,79%, acima da meta definida pelo governo, apontam os dados divulgados pelo Instituto Brasileiro de Geografia e Estatística (IBGE), em 10/01/2022.

Dentre os grupos que são classificados na análise da inflação, o que exerceu a maior influência na inflação anual foi:

- a) alimentação e bebidas.
- b) saúde e cuidados pessoais.
- c) vestuário.
- d) educação.
- e) transportes.

22. O Comitê de Política Monetária (Copom) do Banco Central decidiu, em 07/12/2022, manter a taxa Selic em 13,75% ao ano – patamar em vigor desde o início de agosto.

O objetivo da manutenção da alta taxa de juros é:

- a) fomentar o crescimento econômico.
-
- b) aumentar a liquidez da moeda.
- c) favorecer as exportações.
- d) estimular a competitividade industrial.
- e) conter as pressões inflacionárias.

23. O governo federal informou em 02/01/2023 que a balança comercial brasileira registrou superávit recorde de US\$ 62,3 bilhões no ano de 2022.

Com base nos seus conhecimentos a respeito do cenário econômico brasileiro e dos dados divulgados sobre o comércio exterior brasileiro em 2022, são feitas as seguintes afirmativas:

I – O setor econômico com maior crescimento nas exportações foi a agropecuária.

II - Os três produtos mais exportados foram a soja em grãos, o petróleo bruto e o minério de ferro.

III - Os principais compradores de produtos brasileiros foram, respectivamente, China, União Europeia e Estados Unidos.



Estão corretas:

- a) I e II.
- b) I e III.
- c) II e III.
- d) Todas estão corretas.

24. “Brasil tem 207,8 milhões de habitantes, mostra prévia do Censo 2022

Seguindo um modelo estatístico, o IBGE entrega um resultado prévio do ano de 2022 a partir dos 83,9% da população recenseada.”

Disponível em: <https://tinyurl.com/rye3mk9k>. Publicado em 28/12/2022. Acesso em 08/02/2023.

Os dados prévios entregues pelo IBGE indicam que:

- a) o crescimento populacional tem se acelerado.
- b) a população do Sul é a que menos cresceu dentre as regiões do Brasil.
- c) a taxa de natalidade segue tendência de queda no país.
- d) a taxa de fecundidade tem aumentado rapidamente.
- e) a transição demográfica estabilizou-se nos últimos 12 anos.

25. “Pelo quarto ano consecutivo, o desmatamento na Amazônia, em um ano, ultrapassou os 10 mil km². O número, porém, é cerca de 11% inferior à taxa do período anterior e interrompe uma sequência de crescimento que vinha desde 2018.”

Disponível em: <https://tinyurl.com/9d9ett7s>. Publicado em 30/11/2022. Acesso em 08/02/2023.

Conforme os dados, os dois estados que mais desmataram são:

- a) Acre e Roraima.
- b) Amazonas e Pará.
- c) Amazonas e Mato Grosso.
- d) Mato Grosso e Rondônia.



e) Rondônia e Pará.

26. O Prodes (Programa de Monitoramento da Floresta Amazônica Brasileira por Satélite) é um dos principais instrumentos pelo qual o governo federal monitora o desmatamento na região amazônica. O monitoramento ocorre através da identificação visual dos polígonos de desflorestamento por meio de imagens de satélites.

O Prodes é um programa desenvolvido pelo:

- a) INPA - Instituto Nacional de Pesquisas da Amazônia.
- b) INPE - Instituto Nacional de Pesquisas Espaciais.
- c) INMET - Instituto Nacional de Meteorologia.
- d) IBAMA - Instituto Brasileiro do Meio Ambiente e dos Recursos Naturais Renováveis
- e) Ministério do Meio Ambiente e Mudanças Climáticas.

27. “O Congresso derrubou, em votação simbólica (16.dez.2022), o veto do presidente Jair Bolsonaro (PL) para a Lei Padre Julio Lancellotti.”

Disponível em: <https://tinyurl.com/2p9x2nww>. Acesso em 08/02/2023.

A Lei Padre Julio Lancellotti:

- a) proíbe construções hostis em espaços públicos para afastar as pessoas em situação de rua.
- b) proíbe a criação de barreiras para impedir o acesso de pessoas em situação de rua a templos religiosos.
- c) torna obrigatória a disponibilização de banheiros públicos nos grandes centros metropolitanos.
- b) prevê a disponibilização de kits de higiene básica para moradores de rua.
- c) permite a internação compulsória de pessoas de ruas para tratamento contra a dependência química.

28. “O presidente da República, Luiz Inácio Lula da Silva (PT), sancionou nesta quarta-feira (11 jan.) a lei que equipara o crime de injúria racial ao de racismo, que é inafiançável e imprescritível.”

Disponível em: <https://tinyurl.com/94fs6jb8>. Publicado em 11/01/2023. Acesso em 08/02/2023.

A proposta também prevê que:



- a) a pena poderá ser aumentada em um a dois terços se o crime for cometido em espaços públicos.
- b) se cometido em meio virtual, a pessoa poderá ter seu IP (número identificador do seu computador) bloqueado para acesso em redes.
- c) a pessoa que cometer o crime em estádios ou teatros será proibida de frequentar por três anos este tipo de local.
- d) transportes públicos deverão informar, de forma clara e visível, a atualização da lei e suas penas.
- e) o infrator participará de um curso, promovido pelo governo federal, sobre os impactos do racismo para a sociedade.

29. “A lei que regulamenta a prática da telemedicina no Brasil foi sancionada em 27/12/2022. A legislação estabelece os critérios para o atendimento médico à distância, que ganhou espaço no país com a pandemia de Covid-19.”

Disponível em: <https://tinyurl.com/mv667jw6>. Acesso em 08/02/2023.

Segundo a lei aprovada:

- a) compete aos conselhos federais de fiscalização do exercício profissional a normatização ética relativa à prestação dos serviços.
- b) os atos do profissional de saúde, quando praticados na modalidade telessaúde, terão validade apenas no estado de origem do paciente.
- c) os profissionais que atuarem por meio da telemedicina estarão submetidos a regras trabalhistas especiais.
- d) é facultativo o registro das empresas intermediadoras de serviços médicos de telessaúde nos conselhos regionais de medicina.
- e) o Sistema Único de Saúde deverá destinar pelo menos 10% de seus trabalhadores para atuar na área da telemedicina no atendimento à população.

30. “Cerca de 1,8 milhão de pessoas foram vítimas de roubo no país em 2021, o equivalente a 1,1% da população brasileira, segundo dados do Instituto Nacional de Geografia e Estatística (IBGE). O levantamento inclui roubo a carros, motos, bicicletas, dentro e fora do domicílio.”

Disponível em: <https://tinyurl.com/yxy2sjhh>. Publicado em 07/12/2022. Acesso em 08/02/2023.

Ainda, segundo os dados IBGE:

- a) a maior parte das vítimas sofreu roubo de bens dentro do próprio domicílio.



- b) cartões de crédito ou débito foram os itens mais roubados.
- c) a região Norte registrou o maior número de ocorrências.
- d) crianças, mulheres e idosos estão entre as principais vítimas de roubos.
- e) a arma de fogo foi o tipo de arma mais utilizada em roubos.

31. “Após 16 anos do lançamento do projeto FX-2, o caça F-39 Gripen E/F entrou em operação em 16/12/2022 na Força Aérea Brasileira (FAB). Trata-se da mais moderna aeronave em operação na América Latina, que vai equipar o 1.º Grupo de Defesa Aérea (1.º GDA), em Anápolis (GO).”

Disponível em: <https://tinyurl.com/5n73krrp>. Publicado em 19/12/2022. Acesso em 08/02/2023.

Os caças Gripen são de origem:

- a) alemã.
- b) chinesa.
- c) estadunidense.
- d) russa.
- e) sueca.

32. “O futebol perdeu seu Rei. Nesta quinta-feira, morreu Pelé, o maior jogador da história, aos 82 anos.”

Disponível em: <https://tinyurl.com/4jehmr53>. Publicado em 29/12/2023. Acesso em 08/02/2023.

Sobre a vida e a carreira de Pelé, assinale a alternativa correta:

- a) É o jogador mais jovem da história a atuar em uma partida de Copa do Mundo, feito que realizou em 1958.
- b) Ocupou o cargo de Ministro do Esporte durante o governo de FHC, quando foi promulgada a lei que leva seu nome, também conhecida como lei do passe.
- c) Foi o único jogador a vencer três Copas do Mundo: 1958, 1970 e 1974.
- d) Marcou seu milésimo gol, contra o Flamengo, no Maracanã, em 1969.
- e) Foi o primeiro jogador brasileiro a jogar fora do país, atuando durante cinco anos pelo New York Cosmos, dos Estados Unidos.



33. Nélida Piñon, importante personalidade do meio cultural brasileiro faleceu em dezembro de 2022. Entre outras referências, destacou-se por:

- a) ser considerada a “voz brasileira do milênio” pela BBC de Londres em 1999.
- b) ter recebido o Prêmio Camões 2022, um dos maiores reconhecimentos da literatura em língua portuguesa.
- c) ser uma das precursoras do movimento cultural Tropicália.
- d) ser a primeira mulher a presidir a Academia Brasileira de Letras.
- e) ter sido a grande vencedora do Prêmio Jabuti 2022, a mais importante premiação literária brasileira.

34. “A Proposta de Emenda à Constituição (PEC) da Transição foi promulgada na noite desta quarta-feira (21 dez.) pelo Congresso Nacional em sessão solene semipresencial realizada no plenário do Senado, cerca de 15 minutos após a aprovação da PEC no Senado. Com a promulgação, as mudanças propostas no texto passam a fazer parte da Constituição por meio da Emenda Constitucional 126/2022.”

Disponível em: <https://tinyurl.com/mrxxz8jn>. Adaptado. Acesso em 08/02/2022.

A PEC da transição

- a) determina que o governo federal apresente emenda constitucional com o objetivo de instituir um novo regime fiscal sustentável.
- b) estabelece um aumento ao Auxílio Brasil (que voltará a se chamar Bolsa Família) mediante a redução do orçamento nas áreas da segurança pública e seguridade social.
- c) permite que o governo federal tenha mais de R\$ 100 bilhões para além do teto de gastos, que serão usados para custear programas sociais.
- d) recria ministérios que haviam sido extintos durante o governo de Jair Bolsonaro e cria novos ministérios, secretarias e órgãos da administração pública.
- e) estipula que a validade dos gastos extratexto aprovados será de dois anos, até o final de 2024.

35. Estudo divulgado pelo Instituto Brasileiro de Geografia e Estatística (IBGE) em dezembro de 2022, mostram um aumento da pobreza e da extrema pobreza no Brasil.

Em 2021, o número de brasileiros vivendo abaixo da linha da pobreza aumentou 22,7% na comparação com 2020. Já o número de pessoas em situação de extrema pobreza saltou 48,2% no mesmo período.

Os dois aumentos foram recordes, segundo o IBGE. Desde 2012, o país nunca havia registrado um avanço tão grande da pobreza e, sobretudo, da extrema pobreza. Em números absolutos, 11,6 milhões de brasileiros



passaram a viver abaixo da linha da pobreza. Outros 5,8 milhões passaram a viver em condições de extrema pobreza.

Com esse crescimento, o Brasil passou a ter 62,5 milhões de pessoas abaixo da linha da pobreza, dos quais 17,9 milhões eram extremamente pobres. Isso equivale a dizer que 29,4% da população do Brasil estava pobre e 8,4%, extremamente pobre.

Ou seja, entre cada 10 brasileiros, aproximadamente três viviam abaixo da linha da pobreza e um em condição de extrema pobreza.

Disponível em: encurtador.com.br/BCFPY. Adaptado. Publicado em 02/12/2022. Acesso em 08/02/2022.

Com relação ao tema em questão, julgue os itens a seguir:

I – Embora o poder público concedeu auxílios emergenciais para parte da população, a pandemia de covid-19 fez disparar a pobreza e a extrema pobreza no Brasil.

II - Pelos critérios do Banco Mundial, são consideradas extremamente pobres as famílias que dispõem de menos de US\$ 1,90 por dia para viver.

III - As famílias classificadas como pobres são aquelas que têm menos de US\$ 5,50 por dia para garantir a sobrevivência de todos que vivem no mesmo domicílio.

IV – O Nordeste e o Sudeste são as regiões que concentram o maior número de pessoas pobres e extremamente pobres no Brasil.

Estão corretos os itens:

- a) I e IV.
- b) I, II, III e IV.
- c) II, III e IV.
- d) I, II e III.
- e) I, II e IV.



GABARITO



- | | | |
|-------|-------|-------|
| 1. E | 13. B | 25. B |
| 2. E | 14. C | 26. B |
| 3. C | 15. A | 27. A |
| 4. A | 16. D | 28. C |
| 5. D | 17. E | 29. A |
| 6. E | 18. C | 30. E |
| 7. B | 19. A | 31. E |
| 8. C | 20. C | 32. B |
| 9. E | 21. A | 33. D |
| 10. E | 22. E | 34. C |
| 11. A | 23. D | 35. B |
| 12. A | 24. E | |



SIMULADO DE ATUALIDADES – JANEIRO 2023



Com base no texto a seguir, responda as questões 01 a 03.

“A Medida Provisória (MP) 1154/23 reestrutura a organização administrativa do Executivo e fixa o número de ministérios em 31, além de seis órgãos com status de ministério, num total de 37 ministros. A MP estabelece que não haverá aumento de despesa. A primeira MP do governo Lula foi publicada em uma edição extra do Diário Oficial na noite deste domingo (1 jan.), pouco depois da cerimônia de posse.”

Disponível em: <https://tinyurl.com/bdh5nbp3>. Publicado em 02/01/2023. Acesso em 15/02/2023.

1. Na estrutura ministerial atual do governo federal, dentre os novos ministérios criados ou recriados, há um ministério inédito, existente pela primeira vez na história. Trata-se do:

- a) Ministério da Pesca.
- b) Ministério dos Povos Indígenas.
- c) Ministério da Mulher.
- d) Ministério da Ciência e Tecnologia.
- e) Ministério da Igualdade Racial.

2. O Ministério da Cultura, que havia sido extinto durante o governo de Jair Bolsonaro, foi recriado. O(a) escolhido(a) para comandar esse ministério é:

- a) Teresa Cristina.
- b) Gilberto Gil.
- c) Margareth Menezes.
- d) Chico Buarque.
- e) Marisa Monte.



3. Sobre a composição dos ministros e ministérios, assinale a alternativa que traz a associação correta:

- a) Ana Moser – Ministério da Saúde.
- b) Simone Tebet – Ministério do Planejamento e Orçamento.
- c) Nísia Trindade – Ministério do Esporte.
- d) Geraldo Alckmin – Ministério da Fazenda.
- e) Fernando Haddad – Desenvolvimento e Indústria.

4. “A posse do presidente Luiz Inácio Lula Silva (PT) proporcionou um momento simbólico e histórico para o Brasil. O petista recebeu a faixa presidencial das mãos de pessoas que fazem parte de grupos sociais e que representaram o povo brasileiro.”

Disponível em: <https://tinyurl.com/8zyrjb6a>. Publicado em 01/01/2023. Acesso em 15/02/2023.

A entrega da faixa para Lula ficou a cargo:

- a) da cozinheira Jucimara Fausto dos Santos.
- b) do Cacique Raoni Metuktire.
- c) da criança preta Francisco Carlos.
- d) do influencer anticapacitista Ivan Baron.
- e) da catadora Aline Souza.

5. “No primeiro dia de seu terceiro mandato, ontem (1 jan.), o presidente Luiz Inácio Lula da Silva assinou quatro Medidas Provisórias (MPs) e 52 decretos presidenciais, com os quais estabelece a estrutura da nova gestão federal e seus 37 ministérios.”

Disponível em: <https://tinyurl.com/33sa2w8r>. Publicado em 02/01/2023. Acesso em 15/02/2023.

Qual das afirmativas a seguir não se encontra entre as medidas e decretos assinados por Lula em seu primeiro dia como presidente da república?

- a) Medida Provisória que estende a duração das isenções de tributos à gasolina, álcool e óleo diesel.
- b) Medida Provisória que garante o pagamento do Auxílio Brasil e a mudança de seu nome para Bolsa Família.
- c) Decreto que reduz a quantidade de armas e de munições de uso permitido.



- d) Decreto que autoriza o BNDES a voltar a captar doações financeiras para o Fundo Amazônia.
- e) Medida Provisória que extingue o Conselho Monetário Nacional.

6. “Foi editada nesta quinta-feira (12 jan.) a Medida Provisória 1158/23, que determina a volta do Conselho de Controle de Atividades Financeiras (Coaf) para o _____. O Conselho é a unidade de inteligência financeira do Brasil, que atua na prevenção e combate à lavagem de dinheiro e à corrupção.”

Disponível em: <https://tinyurl.com/dkdm65n8>. Publicado em 13/01/2023. Acesso em 15/02/2023. Adaptado.

Assinale a alternativa que contém o texto que preenche a lacuna do enunciado:

- a) Ministério da Justiça e Segurança Pública.
- b) Banco Central.
- c) Conselho Monetário Nacional.
- d) Ministério da Fazenda.
- e) Ministério do Planejamento e Orçamento.

7. O presidente Luiz Inácio Lula da Silva (PT) editou decreto que revoga uma série de normas do governo Jair Bolsonaro (PL) que facilitavam e ampliavam o acesso da população a armas de fogo e munição.

Disponível em: <https://tinyurl.com/3raactp5>. Publicado em 02/01/2023. Acesso em 15/02/2023.

Dentre seus diversos pontos estabelecidos, o decreto prevê que:

- a) todas as armas compradas desde maio de 2019 sejam recadastradas pelos proprietários.
- b) a idade mínima para aquisição de armas de fogo será aumentada de 21 para 25 anos.
- c) estabelece como novo limite a aquisição de cinco armas por CAC, seja colecionador, caçador ou atirador.
- d) permite a aquisição de armas de fogo de uso restrito em razão do interesse pessoal, desde que comprovada a efetiva necessidade.
- e) suspende novos registros de armas por CACs e particulares e mantém novos registros de clubes e escolas de tiro.



8. No dia 8 de janeiro de 2023, uma invasão ao Congresso Nacional, Palácio do Planalto e Palácio do Supremo Tribunal Federal (STF) em Brasília, marcou a história do país. Uma das medidas tomadas pelo presidente Luiz Inácio Lula da Silva para conter reestabelecer a ordem pública em Brasília foi:

- a) decretação de Estado de Defesa visando o restabelecimento da paz social no Distrito Federal.
- b) aumento das penas aos enquadrados no crime de terrorismo de estado.
- c) decretação de GLO - garantia da lei e da ordem no Distrito Federal, de forma episódica e temporária.
- d) intervenção federal na segurança pública do Distrito Federal até o dia 31 de janeiro.
- e) afastamento excepcional e constitucional do governador do Distrito Federal, Ibaneis Rocha, por 90 dias.

9. Na depredação do patrimônio público, nos ataques antidemocráticos às sedes dos poderes da República, do dia 08 de janeiro de 2023, várias obras de arte foram danificadas ou destruídas. Não se inclui entre essas obras:

- a) a tela As Mulatas, de Di Cavalcanti
- b) o relógio de Balthazar Martinot, do século XVII.
- c) o quadro Abaporu, de Tarsila do Amaral.
- d) a escultura Bailarina, de Victor Brecheret.
- e) o vitral Araguaia, de Marianne Peretti.

10. No dia 1º de fevereiro, foram realizadas as eleições para decidir os próximos presidentes das duas casas legislativas do Brasil. Foram reeleitos como presidentes da Câmara dos Deputados e do Senado, respectivamente:

- a) Arthur Lira e Rodrigo Pacheco.
- b) Arthur Lira e Rogério Marinho.
- c) Ibsen Pinheiro e Davi Alcolumbre.
- d) Rodrigo Maia e Renan Calheiros.
- e) Rodrigo Maia e Rodrigo Pacheco.



11. Dentro do cenário político brasileiro, o termo “centrão” se refere:

- a) aos grupos políticos que pregam a defesa filosófica e moral baseada na liberdade de escolha dos indivíduos e na liberdade de mercado, onde o Estado realiza poucas ou quase nenhuma intervenção nessas áreas.
- b) à aliança de partidos políticos que buscam conquistar a maioria do Congresso e estão sempre na oposição do governo.
- c) à posição de quem se encontra no centro do espectro ideológico, moderados, que defendem posições políticas tanto da esquerda quanto da direita.
- d) ao grupo político que defende o Estado unitário, um Estado em que não há divisão territorial de poder político, em que o governo nacional assume exclusivamente a direção de todos os serviços públicos, centralizando o poder.
- e) ao conjunto de partidos políticos que não possuem uma orientação ideológica específica e tem como objetivo assegurar uma proximidade ao poder executivo, buscando cargos e benefícios em troca de apoio parlamentar.

12. Lula iniciou o seu governo com forte movimentação diplomática, com guinadas na política externa em relação ao seu antecessor. No dia 23 de janeiro, esteve em Buenos Aires, capital da Argentina, para se encontrar com o presidente Alberto Fernández.

Sobre os temas que foram tratados no encontro com o mandatário argentino e as ações que fazem parte da política externa do presidente brasileiro, assinale a alternativa INCORRETA:

- a) Empréstimo pelo BNDES para a construção do 2º trecho do gasoduto de Vaca Muerta, que poderá fornecer gás natural para o Brasil.
- b) Instituição de uma moeda comum, para ser utilizada no comércio entre os dois países.
- c) Finalização do acordo comercial MERCOSUL-União Europeia.
- d) Reintegração do bloco ideológico da Unasul e saída do Brasil do Prosul.
- e) Reintegração do Brasil à Celac e participação na reunião de cúpula do bloco.

13. “A oferta de energia gerada por fontes renováveis registrou um forte aumento em 2022. Segundo a Agência Nacional de Energia Elétrica (Aneel), o país encerrou o ano passado com uma expansão de 8.235,1 megawatts (MW) – a segunda maior já registrada, atrás apenas dos 9.528 MW alcançados em 2016.”

Disponível em: <https://tinyurl.com/ycku6z8s>. Publicado em 05/01/2023. Acesso em 15/02/2023.



Em meio ao cenário de expansão da energia renovável no país, assinale a fonte que foi anunciada como a de segunda maior geração elétrica ao final do ano de 2022:

- a) biomassa.
- b) hidrelétrica.
- c) nuclear.
- d) geotérmica.
- e) solar.

14. “O ano começou e o grande assunto econômico de 2023 não teve nada a ver com o governo ou a política. A grande história é o rombo em uma das lojas mais conhecidas dos brasileiros, a Americanas. A empresa está em processo de recuperação judicial, após a Justiça acatar seu pedido na última quinta-feira.”

Disponível em: <https://tinyurl.com/mr2wb2ze>. Publicado em 21/01/2023. Acesso em 15/02/2023.

A respeito do momento conturbado pelo qual passa a rede varejista, assinale a alternativa correta:

- A) A Americanas está enfrentando uma crise financeira devido a fraudes contábeis cometidas pelos seus gestores.
- B) A crise da Americanas está relacionada à concorrência acirrada com outras empresas do mesmo setor, o que levou a uma queda nas vendas.
- C) A Americanas teve que fechar várias de suas lojas físicas devido à pandemia, o que impactou negativamente suas finanças.
- D) A empresa enfrentou problemas com seus fornecedores, o que resultou em uma queda na qualidade dos produtos e na insatisfação dos clientes.
- E) A Americanas sofreu um grande prejuízo com um investimento malsucedido em criptomoedas.

15. “A Justiça espanhola determinou a prisão preventiva e sem fiança do jogador brasileiro Daniel Alves por conta de um processo que o acusa de ter estuprado uma mulher em uma boate de Barcelona.”

Disponível em: <https://tinyurl.com/5628rm8z>. Acesso em 15/02/2023.

Sobre o tema da violência sexual contra mulheres no Brasil, assinale a alternativa correta:

- A) A maioria das agressões sexuais contra mulheres são cometidas por estranhos.



- B) O stalking não é tipificado como crime pela legislação brasileira.
- C) A maioria dos casos de violência sexual acontece em locais públicos, como bares e boates.
- D) Uma pequena parcela das vítimas de violência sexual denunciam o crime às autoridades.
- E) A violência sexual contra mulheres não é um problema global, afetando apenas algumas regiões do mundo.

16. O Supremo Tribunal Federal (STF) declarou constitucional uma lei estadual que proíbe a fabricação e a comercialização de armas de brinquedo no estado.

A ação foi apresentada à Corte em 2014 pelo então governador, Geraldo Alckmin, que alegava que o projeto de lei que originou a norma foi integralmente vetado, com o argumento de que invadia matéria de iniciativa legislativa privativa da União.

Contudo a Assembleia Legislativa derrubou o veto e promulgou a lei.

No voto que prevaleceu no julgamento do STF, o relator da ação, ministro Gilmar Mendes, destacou que a lei se destina à proteção da criança e do adolescente, e a regulação da fabricação, da venda e da comercialização de armas de brinquedo pode ser feita em nível nacional ou estadual.

CNN Brasil. Publicado em 02/01/2023. Com adaptações.

A referida lei teve origem no estado de:

- a) Minas Gerais.
- b) São Paulo.
- c) Goiás.
- d) Pernambuco.
- e) Sergipe.

17. A revista americana Rolling Stone divulgou a lista dos 200 maiores cantores de todos os tempos. Os brasileiros Caetano Veloso, Gal Costa e João Gilberto aparecem no ranking.

Caetano Veloso aparece na posição 108; Gal Costa, que faleceu em novembro de 2022, aparece na posição 90 da lista; e para completar o time de brasileiros no ranking dos maiores cantores, o mais bem colocado é João Gilberto, em 81º.

Uol. Publicado em 02/01/2023. Acesso em: 15/02/2023.



Os cantores citados fizeram parte dos seguintes movimentos da música popular brasileira:

- a) Jovem Guarda e Bossa Nova.
- b) Tropicalismo e Clube da Esquina.
- c) Tropicalismo e Bossa Nova.
- d) Rock nacional e Clube da Esquina.
- e) Clube da Esquina e Bossa Nova.

18. “O governo _____ pagará mais de US\$ 2 bilhões a centenas de comunidades indígenas em compensação por quase um século de abusos sofridos por crianças em escolas residenciais, desde o final do século 19 até a década de 1990. Este fundo, protegido por 20 anos, será administrado por 9 indígenas, além de um representante do poder público.”

Disponível em: <https://tinyurl.com/ytaxxz36>. Publicado em: 23/01/2023. Acesso em 15/02/2023.

O gentílico que preenche corretamente a lacuna do enunciado é:

- a) australiano.
- b) canadense.
- c) chileno.
- d) mexicano.
- e) estadunidense.

19. “A esta altura você provavelmente já ouviu falar do tal ChatGPT... Desde o fim do ano passado, o robô conversador vem ganhando holofotes por ser capaz de realizar um sem-número de tarefas em poucos segundos e, às vezes, tão bem ou melhor do que um humano.”

Disponível em: <https://tinyurl.com/2rc5b3zz>. Publicado em 24/01/2023. Acesso em 15/02/2023.

O ChatGPT é uma ferramenta de:

- a) inteligência artificial.
- b) IoT (internet das coisas).
- c) computação em nuvem.



- d) big data.
- e) robótica.

20. O Ministério da Saúde decretou Emergência de Saúde Pública Nacional na Terra Indígena _____, localizada _____ em razão da grave crise sanitária, com registros de casos malária e desnutrição severa em adultos, principalmente, entre crianças.

Os gentílicos que completam corretamente as informações do texto são:

- a) Guajajara, Maranhão.
- b) Wapichana, Roraima.
- c) Yanomami, em Roraima e Amazonas.
- d) Kayapó, Mato Grosso.
- e) Munduruku, Pará.

No mês de janeiro, ganhou enorme repercussão nacional o tema da situação dos indígenas yanomamis assolados por uma grave crise de saúde, o que fez o Ministério da Saúde declarar uma Emergência de Saúde Pública Nacional relacionada a esse povo. Sobre o tema em questão, julgue os itens a seguir em Certo (C) ou Errado (E).

21. A Terra Indígena (TI) Yanomami é a maior do Brasil, localizada nos estados de Roraima e Amazonas, na fronteira com a Venezuela. A etnia também habita o país vizinho e também sofre com a mineração ilegal.

22. A TI Yanomami foi demarcada em 1992, no governo de Fernando Henrique Cardoso. Cerca de trinta mil indígenas vivem na área. Estima-se que no final de 2022 cerca de vinte mil garimpeiros exploravam ilegalmente ouro e cassiterita na região, número que decresceu nos últimos anos, embora com aumento no impacto socioambiental.

23. Os Yanomami são considerados de recente contato com a população não-indígena. Na reserva não há registros de indígenas isolados, ou seja que vivem sem contato ou influência externa.

24. A mineração foi uma atividade estimulada pelos governos militares na Amazônia. O garimpo é uma atividade econômica enraizada há décadas em Roraima. Dessa forma torna-se inviável pensar em outro projeto de desenvolvimento socioeconômico para a região.

25. Embora ocorram uma série de ilegalidades e graves danos ambientais e aos povos indígenas, há diferentes escalas de crimes e responsabilidades no garimpo ilegal, tendo pessoas que buscam nessa atividade um meio de sobrevivência e sustento para si e os seus familiares.



26. O garimpo difere da mineração por ser executado em uma área de tamanho limitado pela legislação e pelo menor volume de minérios extraídos comparativamente.
27. Toda a atividade garimpeira é proibida no Brasil, especialmente em terras indígenas.
28. O garimpo altera a dinâmica local de onde se instala e promove transformações na paisagem natural, o que causa impactos ao meio ambiente, como o desmatamento, assoreamento de rios e contaminação dos solos e das águas com substâncias como o mercúrio, um insumo utilizado no garimpo e que pode provocar graves danos à saúde humana.
29. Ao invadir terras indígenas o garimpo gera uma série de problemas sociais como o conflito com os habitantes originários, com situações de violência e mortes, o aliciamento de indígenas, com exploração de trabalho e sexual, além de conflitos internos entre as comunidades indígenas sobre a relação com os invasores.
30. Devido à proximidade com áreas de garimpo na Venezuela e Guiana considera-se que pode haver uma migração de garimpeiros para essas áreas, em vez da rota para terras indígenas em outras regiões da Amazônia brasileira.



- | | | |
|-------|-------|-------|
| 1. B | 12. D | 23. E |
| 2. C | 13. E | 24. E |
| 3. B | 14. A | 25. C |
| 4. E | 15. D | 26. C |
| 5. E | 16. B | 27. E |
| 6. D | 17. C | 28. C |
| 7. A | 18. B | 29. C |
| 8. D | 19. A | 30. E |
| 9. C | 20. C | |
| 10. A | 21. C | |
| 11. E | 22. E | |



SIMULADO DE ATUALIDADES – FEVEREIRO 2023



1. No dia 6 de fevereiro de 2023, fortes sismos atingiram o Sul e o Centro da Turquia e o Norte e Oeste da Síria. Sobre esse assunto, assinale a alternativa correta:

- a) O terremoto foi mais letal na Síria, onde as condições socioeconômicas são mais precárias devido à guerra civil pela qual o país passa há mais de uma década.
- b) Apesar dos elevados danos a infraestruturas com enormes prejuízos econômicos, o número de mortes foi inferior a 10 mil pessoas.
- c) Os tremores tiveram seus epicentros próximos das cidades turcas de Gaziantep e Kahramanmaras e alcançaram a magnitude de 7,8 e 7,5 na escala Richter.
- d) Dentro da Escala Richter, que mede a magnitude dos terremotos, esse foi considerado o terceiro maior terremoto já registrado na história desde que começaram os registros.
- e) Devido à posição de isolamento da Turquia no cenário internacional, pouca ajuda humanitária foi destinada ao país pela comunidade internacional.

2. Terremoto na Turquia e na Síria: um mês depois, um balanço da catástrofe

Passado um mês desde os abalos sísmicos, o drama das vítimas está longe de ter fim. Além de mortos, desabrigados e danos materiais, a catástrofe tem repercussões sociais e políticas.

DW. Disponível em [encurtador.com.br/motMX](https://www.encyclopedia.com.br/motMX). Publicado em: 06/03/2023. Acesso em: 13/03/2023.

Sobre esse fato, assinale a alternativa INCORRETA:

- a) Por se localizar no Oeste da Turquia e Síria, próxima ao Mediterrâneo, a região curda foi pouco atingida pelos abalos sísmicos.
- b) O governo da Turquia foi criticado por negligência na fiscalização e no licenciamento de edificações que desabaram no terremoto.
- c) Grande parte da área devastada pelo terremoto na Síria está sob controle do regime de Bashar al-Assad.
- d) As boas relações entre a Turquia e a Síria facilitaram a chegada de ajuda humanitária na região de fronteira entre os dois países.



e) O período do dia em que os sismos ocorreram e as baixíssimas temperaturas contribuíram para elevar o número de vítimas fatais.

3. No dia 23 de fevereiro de 2023, a Assembleia Geral da ONU aprovou, com ampla maioria, uma resolução relativa ao contexto da guerra entre Rússia e Ucrânia. Nessa decisão, a Assembleia Geral da ONU

- a) decidiu enviar tropas para intervir no conflito entre Rússia e Ucrânia.
- b) aprovou uma resolução exigindo que a Rússia retire as suas tropas da Ucrânia.
- c) decidiu que a Rússia deve ser excluída do organismo multilateral.
- d) condenou a Ucrânia por sua postura agressiva com relação à Rússia.
- e) condenou os referendos russos e a tentativa de anexação de territórios no leste ucraniano.

4. "O presidente russo, Vladimir Putin, anunciou na terça-feira (21/02) a suspensão da participação da Rússia no tratado de desarmamento nuclear New Start, o último pacto remanescente de controle de armas firmado entre Washington e Moscou."

Disponível em: <https://tinyurl.com/yc6wh8fb>. Acesso em 12/03/2023. Adaptado.

O tratado, firmado por Rússia e Estados Unidos em 2010, determina:

- a) um limite no número de armas nucleares que cada um dos dois países pode manter.
- b) o número de mísseis balísticos intercontinentais implantados pelos dois países.
- c) a proibição de testes nucleares realizados pelos dois países.
- d) a fiscalização internacional do uso pacífico de energia nuclear pelos dois países.
- e) a cooperação em pesquisa e desenvolvimento de tecnologias nucleares entre os dois países.

5. A seguinte matéria foi veiculada pela Folha de São Paulo no dia 24/02:

"Alemanha veta exportação de blindado brasileiro após Brasil negar munição

Guarani tem componentes alemães e iria para as Filipinas em contrato negociado por Israel"

Disponível em: [encurtador.com.br/itEKZ](https://www.estrategiaconcursos.com.br/itEKZ). Acesso em: 12/03/2023. Adaptado.

O veto da Alemanha à exportação do blindado brasileiro ocorreu porque



- a) o blindado não atendeu aos padrões de segurança exigidos pela União Europeia.
- b) o Brasil não cumpriu com os requisitos contratuais para a exportação.
- c) o Brasil negou a venda de munição que seria enviada à Ucrânia.
- d) a Alemanha recebeu pressão de outros países europeus para impedir a exportação.
- e) a exportação do blindado brasileiro violou as regras internas de exportação de armas alemãs.

6. "Uma série de objetos voadores foi vista, e uma parte deles foi derrubada no mês de fevereiro na América do Norte. Quatro desses objetos voadores incomuns foram avistados e derrubados por caças dos Estados Unidos. Nos quatro casos, houve violação de espaço aéreo dos EUA e do Canadá."

Disponível em: encurtador.com.br/bou79. Publicado em: 13/02/2023. Acesso em: 12/03/2023.

Sobre esses objetos voadores, é correto afirmar que:

- a) foram enviados de forma coordenada pela China e pela Rússia para testar a capacidade de defesa aérea norte-americana e canadense.
- b) os objetos eram, supostamente, naves extraterrestres com tecnologia avançada, pois se deslocavam em velocidades impossíveis de serem atingidas por aeronaves convencionais.
- c) no Canadá, foi identificado um objeto voador cilíndrico, que posteriormente foi atribuído a uma missão militar chinesa.
- d) os objetos foram identificados como parte de uma missão secreta de algum país inimigo, mas não se determinou de qual país seriam provenientes.
- e) um dos objetos voadores identificados nos Estados Unidos foi um balão chinês que, segundo Pequim, tinha fins científicos.

7. "O Reino Unido e a União Europeia (UE) chegaram a um acordo, nesta segunda-feira (27 fev.), para tentar resolver a disputa sobre os controles comerciais pós-Brexit na Irlanda do Norte. A questão abala as relações entre Bruxelas e Londres há anos e ainda não foi completamente resolvida."

Disponível em: encurtador.com.br/kmrQ1. Acesso em: 12/03/2023. Adaptado.

Com relação ao acordo mencionado pelo texto, assinale a alternativa que apresenta corretamente qual foi principal decisão tomada:

- a) A remoção completa da fronteira física entre a Irlanda do Norte e a República da Irlanda.



- b) A eliminação da necessidade de controles aduaneiros para bens que circulam entre a Irlanda do Norte e os demais territórios do Reino Unido.
- c) A criação de uma zona de livre comércio entre a Irlanda do Norte e a União Europeia.
- d) A criação de uma nova união aduaneira entre o Reino Unido e a União Europeia.
- e) A suspensão do Acordo de Windsor, também conhecido como Acordo da Sexta-Feira Santa.

8. "A União Europeia ordenou que todos os seus funcionários que tenham o TikTok instalado em seus celulares apaguem o aplicativo.

Um e-mail com a instrução foi enviado na manhã desta quinta-feira (23 fev.) a todos que trabalham para a Comissão Europeia - o braço executivo do bloco, onde ficam as funções administrativas."

Disponível em: encurtador.com.br/CDRT3. Acesso em: 12/03/2023. Adaptado.

Segundo a Comissão Europeia, a medida foi tomada com o objetivo de:

- a) aumentar a competitividade e o desenvolvimento de redes sociais por empresas europeias em detrimento a empresas asiáticas.
- b) rever os termos de uso do TikTok, que, segundo a União Europeia, são inadequados.
- c) evitar o vazamento de dados confidenciais da Comissão Europeia e aumentar a segurança cibernética.
- d) coibir a prática de crimes cibernéticos, que têm sido muito realizados por meio do aplicativo.
- e) reduzir a influência chinesa no bloco e de fortalecer o sentimento nacionalista europeu.

9. "Pelo menos 59 pessoas morreram após o naufrágio de um barco com imigrantes na costa leste da região da Calábria, na Itália, informam agências internacionais de notícias neste no domingo (26 fev.). Entre as vítimas, 12 crianças já foram encontradas.

A embarcação, trazendo imigrantes do Irã, Paquistão e Afeganistão, bateu contra rochas em um mar agitado, afirmou a agência de notícias Adnkronos."

Disponível em: encurtador.com.br/nxQY7. Acesso em: 12/03/2023. Adaptado.

Dentre as rotas marítimas utilizadas por imigrantes para aportar na Europa, o trajeto migratório e que tem causado inúmeras mortes nos últimos anos é a:

- a) rota dos Bálcãs.
- b) rota do Saara.



- c) rota do Canal da Mancha.
- d) rota do Mar Egeu.
- e) rota Central do Mediterrâneo.

10. "Pela sexta semana consecutiva, dezenas de milhares de israelenses protestaram, aos sábados, contra a reforma do Judiciário capitaneada pelo premiê Netanyahu."

Disponível em: encurtador.com.br/byIL2. Publicado em: 13/02/2023. Acesso em: 12/03/2023.

O principal ponto de controvérsia da reforma judicial proposta pelo primeiro-ministro Benjamin Netanyahu está relacionado à

- a) transição para um sistema de governo presidencialista, com o fim da figura do primeiro-ministro.
- b) restrição das áreas de atuação do Ministério Público do país, fortalecendo o caráter decisório da Suprema Corte.
- c) redução dos poderes do Judiciário e maiores poderes para o Legislativo, por meio da limitação da capacidade da Suprema Corte de derrubar uma legislação aprovada pelo Parlamento.
- d) aumento dos salários e do processo seletivo para se tornar juiz, além da redução da idade mínima para assumir o cargo.
- e) redução do número de juízes e mudanças no seu processo de escolha, sem a necessidade de aprovação pelo Parlamento.

11. "O país decidiu, nesta segunda-feira (30 fev.), dar asilo a mulheres e meninas originárias do Afeganistão, de forma sistemática, por conta de seu gênero, no momento em que elas experimentam um forte retrocesso em seus direitos desde que os talibãs voltaram ao poder."

Disponível em: <https://tinyurl.com/9dw33enf>. Acesso em: 12/03/2023. Adaptado.

O país mencionado pelo enunciado é a:

- a) Suíça.
- b) Dinamarca.
- c) Finlândia.
- d) Noruega.
- e) Suécia.



12. "O regime de Daniel Ortega despachou 222 presos políticos diretamente das prisões para o exílio nos Estados Unidos e ainda aprovou a reforma de um artigo na Constituição para tirar deles a nacionalidade nicaraguense e torná-los apátridas."

Disponível em: <https://tinyurl.com/y56scu8p>. Publicado em: 10/02/2023. Acesso em: 12/03/2023.

O líder político mencionado no texto acima é o atual presidente de qual país?

- a) Cuba.
- b) Guatemala.
- c) Honduras.
- d) Nicarágua.
- e) El Salvador.

13. O Papa realizou, no mês de fevereiro, a sua quinta visita apostólica à África, viagem que deveria ter sido realizada em julho de 2022, mas foi adiada devido a problemas de saúde.

Os países visitados pelo Papa Francisco nessa viagem foram:

- a) África do Sul e Moçambique.
- b) Congo e Sudão do Sul.
- c) Egito e Nigéria.
- d) Eritreia e Mali.
- e) Costa do Marfim e Serra Leoa.

14. "Duangpetch Promthep, um dos 12 meninos resgatados de uma caverna inundada da Tailândia em 2018, morreu nesta terça-feira (14 fev.), aos 17 anos.

Ele morreu no condado de Leicestershire, no Reino Unido, para onde se mudou em 2022 após ganhar uma bolsa de estudos para jogar futebol."

Disponível em: <https://tinyurl.com/nv6acfsh>. Acesso em: 12/03/2023. Adaptado.

No ano de 2018, qual foi a principal dificuldade que os socorristas enfrentaram para resgatar os meninos presos na caverna da Tailândia?



- a) O caminho até a caverna era muito íngreme e rochoso, tornando difícil o acesso.
- b) As chuvas intensas e as enchentes dificultaram a entrada e a saída da caverna.
- c) Os equipamentos de mergulho não eram suficientes para o resgate de todos os meninos.
- d) Os meninos estavam espalhados em diferentes pontos da caverna, tornando difícil encontrá-los.
- e) A equipe de resgate não tinha experiência suficiente em resgates em cavernas.

15. "O Grammy anunciou os vencedores da edição de 2023 neste domingo (5 fev.), em Los Angeles. Beyoncé se tornou a maior vencedora do Grammy de todos os tempos. Ela chegou a 32 prêmios e superou a marca anterior de 31 Grammys do maestro Georg Solti."

Disponível em: <https://tinyurl.com/yf2sejzn>. Acesso em: 12/03/2023. Adaptado.

Sobre os artistas premiados no Grammy 2023, são feitas as seguintes afirmativas:

I - Beyoncé ganhou nas principais categorias, em especial, na de Melhor Álbum do Ano.

II - A cantora brasileira Anitta estava indicada a artista revelação, mas não ganhou, ficando com o prêmio a cantora de jazz norte-americana Samara Joy.

III - O grupo brasileiro Boca Livre ganhou o prêmio de melhor álbum de pop latino, com "Pasieros", ao lado de Ruben Bladés.

Estão corretos os itens:

- a) Apenas I.
- b) Apenas II.
- c) Apenas III.
- d) I e II.
- e) II e III.

16. Todos os anos, a British Phonographic Industry (Empresa Fonográfica Britânica) realiza a entrega do prêmio Brit Awards para os melhores artistas da música popular.

No ano de 2023, qual o artista que levou o prêmio de Melhor Artista Masculino?

- A) Ed Sheeran.



- B) Lewis Capaldi.
- C) Stormzy.
- D) Sam Fender.
- E) Harry Styles.

17. "Jay-Z foi eleito o maior rapper de todos os tempos em um ranking elaborado pela Billboard e Vibe. Kendrick Lamar, Nas e Tupac também encabeçam a lista."

Disponível em: <https://tinyurl.com/3muuc586>. Publicado em: 10/02/2023. Acesso em: 12/03/2023.

Na lista das 10 primeiras posições, foi selecionada apenas uma representante feminina. Esse posto ficou com a artista:

- a) Beyoncé.
- b) Cardi B.
- c) Nicki Minaj.
- d) Rihanna.
- e) Lil' Kim.

18. Neste ano de 2023, completam-se 50 anos de um gênero musical popular desenvolvido nos Estados Unidos por afro-americanos e latino-americanos no bairro do Bronx em Nova York na década de 1970. Esse estilo consiste em uma música com batidas muito marcadas e um canto que geralmente apresenta uma característica de ser muito falado.

Qual é o estilo musical mencionado?

- a) Funk.
- b) Reggae.
- c) Hip Hop.
- d) R&B (Rhythm and blues).
- e) Jazz.



19. O filme "Tudo em Todo o Lugar ao Mesmo Tempo" foi eleito o melhor filme do ano pelo Sindicato dos Produtores, o PGA, que reconhece obras de cinema e TV. Embora não tenha a mesma representatividade do Oscar, essa escolha é importante pois a escolha do PGA geralmente aponta na mesma direção do Oscar.

A respeito desse evento e das produções cinematográficas recentes, são feitas as seguintes afirmativas:

I - O filme vencedor tem como diretores Daniel Kwan e Daniel Scheinert, dupla conhecida como "os Daniels".

II - Na categoria de melhor documentário, o PGA premiou a obra "Navalny", que trata sobre Alexei Navalni, opositor de Putin na Rússia.

III - Ao longo do ano de 2022, o filme Top Gun: Maverick, liderado pelo ator Tom Cruise, produziu a maior bilheteria global de 2022.

Estão corretas as afirmativas:

a) Apenas I.

b) I e II.

c) I e III.

d) II e III.

e) Todas estão corretas.

20. Em fevereiro de 2023, um forte temporal castigou a região do litoral Norte do estado de São Paulo, em especial a Vila Sahy, um núcleo habitacional localizado no município de São Sebastião. A Vila Sahy está situada em uma região de encostas, assim, as chuvas ocasionaram deslizamentos de terras, destruindo as edificações e soterrando os habitantes. Foram registradas, ao menos, 60 mortes e centenas de feridos, de desalojados e de desabrigados.

A respeito do desastre socioambiental na Vila Sahy, julgue os itens a seguir:

I - A Vila Sahy localiza-se em uma área de preservação ambiental na borda do Parque Estadual da Serra do Mar, sendo, em suas origens, uma ocupação irregular.

II - A Vila Sahy é uma comunidade turística bastante popular na região, mas que vinha enfrentando problemas relacionados à ocupação irregular e à falta de infraestrutura básica.

III - A administração local já havia sido alertada sobre os riscos de deslizamentos na região da Vila Sahy, inclusive por meio de uma ação civil pública do Ministério Público Estadual, mas não tomou medidas efetivas para prevenir a tragédia.



IV - A tragédia revelou a falta de solidariedade e de empatia da sociedade brasileira, que muitas vezes ignora as dificuldades enfrentadas pelas populações mais vulneráveis em situações de crise.

Está correto o que se afirma em:

- A) I e II.
- B) I e III.
- C) II e III.
- D) II e IV.
- E) III e IV.

21. Ao longo dos anos recentes, uma série de tragédias relacionadas à ocorrência de chuvas em níveis extremos tem ocorrido no Brasil, gerando um elevado número de mortes, de feridos e de danos materiais.

Sobre esse assunto, assinale a alternativa correta:

- a) Um dos métodos mais eficazes para prevenir deslizamentos de encostas no Brasil é a desapropriação fundiária de áreas de encostas.
-
- b) A segregação espacial, muito comum nas áreas urbanas brasileiras, pode contribuir para a ocorrência desses desastres.
- c) As mudanças climáticas têm uma grande influência na maior ocorrência de chuvas extremas, que, por sua vez, podem desencadear os deslizamentos de terra.
- d) Com a modernização dos sistemas de monitoramento geofísico, mortes relacionadas a tragédias socioambientais têm se reduzido no país, embora ainda ocorram de forma significativa.
- e) A urbanização desordenada em áreas de encostas tem sido apontada como um fator de risco para esses desastres, que são deflagrados por falhas geológicas da Terra.

22. "A taxa média de desemprego em 2022 caiu a 9,3%, o menor patamar desde 2015, quando fechou o ano em 8,5%. Os dados da Pnad Contínua (Pesquisa Nacional por Amostra de Domicílios Contínua) foram divulgados nesta terça-feira (28) pelo IBGE (Instituto Brasileiro de Geografia e Estatística)."

Disponível em: encurtador.com.br/duvPX. Acesso em: 12/03/2022. Adaptado.

Com relação a essa pesquisa, também é possível constatar que, no ano de 2022:

- A) a taxa anual de informalidade cresceu.



- B) o rendimento médio real do brasileiro cresceu.
- C) o número de empregados com carteira assinada reduziu.
- D) o número de desalentados reduziu.
- E) a geração de empregos formais permaneceu estável.

23. "Em sua primeira reunião do ano, o Comitê de Política Monetária (Copom) do Banco Central decidiu novamente por manter a taxa Selic no mesmo patamar da reunião anterior. Pelo quarto encontro consecutivo, a autoridade optou por não mexer nos juros. A decisão foi unânime."

InfoMoney. Disponível em: <https://tinyurl.com/2p8kaxv5>. Acesso em: 12/03/2022. Adaptado.

Sobre a taxa Selic, é correto afirmar que:

- A) a decisão do Banco Central de manter a Selic inalterada é uma resposta às pressões políticas do governo, que tem interesse em manter a taxa de juros elevada para garantir a estabilidade fiscal.
- B) o Copom considerou a possibilidade de redução da Selic em breve, devido à desaceleração da inflação nos últimos meses.
- C) a manutenção da Selic em 13,75% ao ano pelo quarto mês consecutivo não apresentará impacto na economia, pois a taxa já estava elevada.
- D) a taxa Selic é a principal ferramenta utilizada pelo governo para estimular o consumo e o investimento na economia.
- E) a manutenção da Selic em 13,75% ao ano pelo quarto mês consecutivo foi uma medida tomada para frear o aumento da inflação.

24. "O presidente da República, Luiz Inácio Lula da Silva (PT), afirmou nesta quinta-feira (16 fev.), que vai reajustar o salário mínimo dos atuais R\$ 1.302 para R\$ 1.320, a partir de 1º de maio, quando é comemorado o Dia do Trabalho."

O Tempo. Disponível em: <https://tinyurl.com/39zbkyhj>. Acesso em: 12/03/2022. Adaptado.

Junto ao anúncio feito pelo presidente Lula de um aumento no salário-mínimo foi também anunciada a isenção do Imposto de Renda para quem tem rendimento mensal no valor de até:

- a) R\$ 2.340,00.
- b) R\$ 2.440,00.



- c) R\$ 2.540,00.
- d) R\$ 2.640,00.
- e) R\$ 2.740,00.

25. "O Ministério da Agricultura informou nesta quinta-feira, 3 mar., que o caso isolado de encefalopatia espongiforme bovina (EEB), o mal da vaca louca, registrado no Pará em fevereiro foi confirmado como atípico. O laudo foi fornecido pelo laboratório de referência da Organização Mundial de Saúde Animal (OMSA), que fica em Alberta, no Canadá."

Estadão. Disponível em: <https://tinyurl.com/4vaxrc54>. Acesso em: 12/03/2022.

O caso de vaca louca encontrado no Pará é considerado atípico, pois:

- a) a doença detectada surgiu de forma espontânea no organismo do animal, sem risco de disseminação ao rebanho ou ao ser humano.
- b) a doença não é transmissível aos humanos, sendo apenas uma preocupação para os pecuaristas.
- c) a vaca infectada não apresentava sinais clínicos da doença, o que indica que o sistema de vigilância sanitária está funcionando adequadamente.
- d) o animal infectado foi importado de outro país, o que reforça a necessidade de uma maior fiscalização das fronteiras.
- e) a forma de transmissão da doença ainda é desconhecida, o que exige uma investigação mais ampla por parte das autoridades sanitárias.

26. "A Marinha do Brasil contrariou um pedido dos Estados Unidos, e permitiu a entrada em portos brasileiros dos dois navios de guerra do Irã. As embarcações Iris Makran e Iris Dena receberam aval para atracar no porto do Rio de Janeiro, e permaneceram no Brasil de 26 de fevereiro a 4 de março."

Disponível em: <https://tinyurl.com/y2psj68k>. Publicado em 26/02/2023. Acesso em: 12/03/2022.

A respeito desse assunto, é correto afirmar que a decisão do Brasil:

- a) está de acordo com a tendência diplomática brasileira de neutralidade com relação a conflitos internacionais.
- b) foi permitida por motivos econômicos, uma vez que o país tem interesse em estreitar as relações comerciais com o Irã.



- c) faz parte de um acordo de cooperação militar entre o país e o Irã que tem como ponto principal o intercâmbio de tecnologias militares.
- d) foi uma forma de o país se posicionar contra as sanções impostas pelos Estados Unidos ao Irã.
- e) foi tomada por motivos políticos e ideológicos, em sinal de apoio ao regime iraniano.

27. "O Ministério da Saúde lança, nesta segunda-feira (27 fev.), o Movimento Nacional pela Vacinação com o objetivo de retomar as altas coberturas vacinais do Brasil. Com a mensagem "Vacina é vida. Vacina é para todos", a mobilização inclui vacinação contra a Covid-19 e outros imunizantes do Calendário Nacional de Vacinação em várias etapas. Na primeira etapa, a vacinação será com doses de reforço bivalentes contra a Covid-19 em pessoas com maior risco de desenvolver formas graves da doença."

Ministério da Saúde. Disponível em: <https://aps.saude.gov.br/noticia/20657>. Acesso em: 12/03/2022.

A respeito das vacinas, qual é a principal diferença entre os imunizantes bivalentes e os monovalentes contra a covid-19?

- A) As vacinas bivalentes focam exclusivamente em combater a variante Ômicron do vírus, já as monovalentes são eficazes contra diversas variantes.
- B) As vacinas bivalentes contêm duas cepas do vírus, enquanto as vacinas monovalentes apenas uma.
- C) As vacinas bivalentes requerem apenas uma dose para garantir a imunização completa, enquanto as vacinas monovalentes devem ser aplicadas, no mínimo, cinco vezes.
- D) As vacinas monovalentes são consideradas menos seguras do que as vacinas bivalentes pelo fato de terem sido desenvolvidas anteriormente, logo, sua tecnologia é ultrapassada.
- E) As vacinas monovalentes são mais indicadas para idosos, pessoas com comorbidades ou com características que podem agravar o quadro clínico da doença, já as bivalentes são focadas na população em geral.

28. "Mais de 200 trabalhadores foram resgatados de um alojamento em Bento Gonçalves, na Serra do Rio Grande do Sul (RS), onde eram submetidos a "condições degradantes" e trabalho análogo à escravidão durante a colheita da uva."

Disponível em: <https://tinyurl.com/54szn7vc>. Publicado em: 27/02/2023. Acesso em: 12/03/2022.

A maioria dos trabalhadores resgatados era proveniente do Estado

- A) da Bahia.
- B) da Paraíba.



C) de Pernambuco.

D) do Piauí.

E) do Ceará.

29. O trabalho análogo à escravidão é uma prática ilegal, mas que ainda persiste no Brasil em pleno século XXI. Sobre esse tema, analise os itens a seguir:

I - Conforme a legislação brasileira, o trabalho forçado, a jornada exaustiva, as condições degradantes de trabalho e a restrição de locomoção são condições que caracterizam o trabalho análogo à escravidão.

II - O trabalho análogo à escravidão é um problema que afeta principalmente a indústria e a agricultura, não sendo comum em outras áreas.

III - A fiscalização do trabalho análogo à escravidão é realizada exclusivamente por órgãos do governo federal.

IV - A ocorrência de trabalho análogo à escravidão no Brasil está associada a fatores como a pobreza, a falta de oportunidades de emprego e a discriminação.

Estão corretos:

A) I, III e IV.

B) I, II, III e IV.

C) II e IV.

D) I, II e III.

E) I e IV.

30. "O Conselho Nacional de Justiça (CNJ) decidiu nesta terça-feira (28/02), por 11 votos a 4, afastar do cargo o juiz federal, enquanto ele é investigado por supostas irregularidades na condução de processos. O magistrado foi responsável por casos da Operação Lava Jato no Rio de Janeiro."

Disponível em: <https://tinyurl.com/3y3h5ts5>. Acesso em: 12/03/2022.

O nome do juiz afastado é:

A) Leandro Paulsen.

B) Deltan Dallagnol.



- C) Rodrigo Janot.
- D) Marcelo Bretas.
- E) Sergio Moro.

31. "A Justiça italiana pediu a execução da pena do ex-jogador Robinho em território brasileiro. Ele, assim como seu amigo Ricardo Falco, foi condenado de forma definitiva a nove anos de prisão por violência sexual cometida em 2013, contra uma jovem de 23 anos, em uma boate em Milão. O governo italiano já havia feito um pedido de extradição, negado em novembro de 2022."

Disponível em: <https://tinyurl.com/nhbhfe2w>. Publicado em: 17/02/2023. Acesso em: 12/03/2022.

Por qual motivo o Brasil negou o pedido de extradição de Robinho feito pela justiça italiana em 2022?

- a) O Brasil negou o pedido por discordância em questões políticas com a Itália.
- b) O Brasil negou o pedido por considerar que a sentença de Robinho não era definitiva, com a possibilidade de recursos em outras instâncias.
- c) Porque a extradição de cidadãos brasileiros natos não é permitida pela Constituição Federal.
- d) Porque a justiça italiana não apresentou provas suficientes para comprovar a culpa de Robinho.
- e) A justiça brasileira entendeu que o processo italiano não respeitou o devido processo legal, pulando etapas processuais obrigatórias.

32. "A Polícia Rodoviária Federal (PRF) realizou nesta segunda-feira (27 fev.) a maior apreensão única de cocaína da sua história. Foi 1,86 tonelada da droga, encontrada em um caminhão-tanque no município de Sidrolândia. O condutor, um homem de 44 anos, foi preso na operação."

Disponível em: <https://tinyurl.com/28fmckjr>. Acesso em: 12/03/2022. Adaptado.

Em qual estado a droga foi apreendida?

- A) Acre.
- B) Rondônia.
- C) Mato Grosso do Sul.
- D) Mato Grosso.
- E) Paraná.



33. "A Imperatriz Leopoldinense é a grande campeã do carnaval 2023 no Rio de Janeiro. A Verde e Branca de Ramos chegou ao nono título da história apenas um ano depois de regressar ao Grupo Especial — em 2019, foi rebaixada para a Série Ouro, conquistou em 2020 o acesso e reestreou na elite em 2022, quando ficou em 10º lugar."

Disponível em: <https://tinyurl.com/yhp7wmw2>. Acesso em: 12/03/2022.

O samba enredo da Imperatriz Leopoldinense

- A) versou sobre o legado de artistas do Alto do Moura, discípulos do artesão Mestre Vitalino.
- B) homenageou a Bahia, levando muito axé à avenida, e exaltou os tupinambás, caboclos, orixás e santos.
- C) falou sobre a valorização da liberdade de expressão, mostrando que o paraíso é construído individualmente por cada pessoa, sem proibição ou pecado.
- D) destacou o protagonismo feminino e apresentou a musicalidade baiana com base nos cortejos afros.
- E) trouxe uma fábula sobre a morte de Lampião, à luz da cultura do cordel, e um Nordeste multicolorido.

34. "A Mocidade Alegre venceu, nesta terça-feira (21 fev.), o grupo especial do Carnaval de São Paulo. Esse é o décimo primeiro título da agremiação do bairro do Limão, na zona norte da capital."

Disponível em: <https://tinyurl.com/5exnta29>. Acesso em: 12/03/2022.

O samba enredo da Mocidade Alegre

- A) retratou a guerra de Tróia, traçando um paralelo entre a mitologia grega e a realidade.
- B) contou a história de Yasuke, o primeiro samurai negro da história do Japão.
- C) versou sobre a cultura do xaxado e de todo o Nordeste.
- D) retratou a musicalidade brasileira, falando sobre a construção musical do Brasil por meio de tambores africanos.
- E) homenageou Bezerra da Silva, revivendo a história do sambista.

35. "A jornalista e apresentadora faleceu no mês de fevereiro de 2023. Foi a primeira repórter negra a aparecer na TV Globo, numa época em que a emissora era hegemônica na comunicação televisiva no país, e tornou-se referência para o movimento negro no Brasil."

Disponível em: Poder 360. Acesso em: 12/03/2022.

A jornalista em questão é:



- A) Cristiana Lobo.
- B) Claudia Jimenez.
- C) Glória Maria.
- D) Danuza Leão.
- E) Elza Soares.



- | | | |
|------------|-------------|-------|
| 1. C | 13. B | 25. A |
| 2. ANULADA | 14. B | 26. A |
| 3. B | 15. E | 27. B |
| 4. A | 16. E | 28. A |
| 5. C | 17. B | 29. E |
| 6. E | 18. C | 30. D |
| 7. B | 19. E | 31. C |
| 8. C | 20. B | 32. D |
| 9. E | 21. ANULADA | 33. E |
| 10. C | 22. D | 34. B |
| 11. B | 23. E | 35. C |
| 12. D | 24. D | |



SIMULADO DE ATUALIDADES – OSCAR 2023



1. **“Tudo em todo o lugar ao mesmo tempo”** foi o grande vencedor do Oscar de 2023. Além de ganhar como melhor filme, a produção ainda levou outras seis estatuetas: direção, atriz, atriz coadjuvante, ator coadjuvante, roteiro original e edição.

“Tudo em todo lugar ao mesmo tempo” fala sobre:

- a) um professor de inglês recluso que vive com obesidade severa e tenta se reconectar com sua distante filha adolescente para uma última chance de redenção.
- b) um casal do sul da Índia que se dedica a cuidar de um bebê elefante órfão.
- c) uma mulher que se envolve por acaso em uma aventura multidimensional que coloca o destino de todos os universos em suas mãos.
- d) um guerreiro corajoso em uma missão perigosa que encontra um policial durão do exército britânico, na Índia pré-independência.
- e) mulheres que vivem em uma colônia isolada e lutam para se reconciliar com sua fé após uma série de agressões.

2. **De etnia chinesa mas nascida na Malásia, ela se tornou a primeira asiática a levantar a estatueta de Melhor Atriz no Oscar com o filme ‘Tudo em todo lugar ao mesmo tempo’.** A atriz vencedora é:

- a) Cho Yeo-jeong.
- b) Jenny Slate.
- c) Jamie Lee Curtis.
- d) Michelle Yeoh.
- e) Stephanie Hsu.

3. **“Navalny”** foi a grande vencedor do Oscar de Melhor Documentário. A produção, realizada pela CNN, fala sobre Alexey Navalny, que é:



- a) um filósofo, político e pensador russo, considerado um dos ideólogos de Vladimir Putin.
- b) um defensor dos direitos humanos e ativista pró-democracia que desafia o regime autoritário de Alexander Lukashenko em Belarus.
- c) um desertor do serviço de inteligência russa que se encontra atualmente refugiado no Reino Unido e tem exposto informações confidenciais sobre seu país de origem.
- d) um político e ativista de oposição do governo russo, condenado a prisão por sua militância contra o Kremlin.
- e) um ativista russo, fundador do site WikiLeaks, que expôs uma série de documentos sobre crimes cometidos pelos Estados Unidos nas invasões do Iraque e Afeganistão.

4. O longa metragem 'Nada de Novo no Front' ganhou o Oscar de melhor filme internacional. O filme é uma adaptação do livro homônimo, lançado em 1929 pelo escritor:

- a) Erich Maria Remarque.
- b) Aldous Huxley.
- c) Ernest Hemingway.
- d) George Orwell.
- e) Oscar Wilde.

5. "Pinóquio" foi o vencedor de melhor animação no Oscar 2023. O filme foi dirigido por:

- a) Chris Williams.
- b) Dean Fleischer Camp
- c) Domee Shi.
- d) Guillermo del Toro.
- e) Joel Crawford.

6. Ruth E. Carter, figurinista do filme 'Pantera Negra: Wakanda para Sempre' foi premiada com o Oscar de melhor figurino. Essa premiação representa um grande marco do Oscar, pois ela agora se tornou:



- a) a primeira mulher não branca a ganhar um Oscar na história.
- b) a primeira mulher a ganhar um Oscar de figurinista na história.
- c) a primeira mulher latina a ganhar um Oscar na história.
- d) a primeira figurinista transgênero a ganhar um Oscar na história.
- e) a primeira mulher negra a vencer dois Oscars na história.

7. Na cerimônia do Oscar de 2023, os Yanomami ofereceram uma estatueta alternativa aos vencedores da premiação, feita de madeira, como forma de protesto. A ação foi motivada:

- a) pela falta de representatividade de povos indígenas na indústria do cinema.
- b) pela ausência histórica de produções sobre a cultura ancestral entre as indicadas para a premiação.
- c) pela ausência de temáticas ambientais nas obras indicadas ao prêmio.
- d) para chamar a atenção para o problema da demarcação das terras indígenas no Brasil
- e) pelo problema do garimpo ilegal que contamina boa parte do comércio do ouro no mundo.

8. A líder indígena recebeu o prêmio das mãos do ator Leonardo DiCaprio no último dia 9 (março), durante o Green Carpet Fashion Awards, cerimônia que premia iniciativas de moda sustentável e ocorre dias antes do Oscar em Los Angeles, nos Estados Unidos.

Ela foi premiada na categoria The Healer, traduzida pela indígena como "curadora da terra", por "conquistas na defesa das florestas" e por "reposicionar os povos indígenas no centro da agenda climática global". Ao receber a honraria, brincou com DiCaprio ao chamá-lo de "meu amigo Leo". "Foi uma grande honra e alegria este reconhecimento tão importante, ter representado o Brasil nesta premiação, passar uma mensagem de proteção dos territórios indígenas para o público internacional", disse.

Terra, 12/03/2023. Disponível em: <https://tinyurl.com/3s2bz6mt>. Acesso em 21/03/2023. Adaptado.

A líder indígena premiada foi:

- a) Silvia Waiãpi.
- b) Txai Suruí.
- c) Sonia Guajajara.
- d) Joênia Wapichana.



e) Célia Xakriabá.

9. 'A Baleia', filme dirigido por Darren Aronofsky, que fala sobre um professor de inglês recluso que vive com obesidade severa, venceu em duas categorias no Oscar 2023, com destaque para a de Melhor Ator, vencida por:

- a) Austin Butlers.
- b) Brendan Fraser.
- c) Benedict Cumberbatch.
- d) Colin Farrell.
- e) Tom Hanks.

10. "A Academia de Artes e Ciências Cinematográficas escolheu 'Naatu Naatu', do sucesso da Netflix 'RRR', como a grande vencedora da categoria de Melhor Canção Original. A música concorria na categoria contra grandes nomes como Rihanna, Lady Gaga e Diane Warren."

Uol, 12/03/2023. Disponível em: <https://tinyurl.com/yp4f47v3>. Acesso em 21/03/2023.

A canção e o filme abordados pelo enunciado são de origem:

- a) sul-coreana.
- b) indiana.
- c) paquistanesa.
- d) chinesa.
- e) tailandesa.



GABARITO



1. C
2. D
3. D
4. A

5. D
6. E
7. E
8. C

9. B
10. B



SIMULADO DE ATUALIDADES – MARÇO 2023



1. A Organização das Nações Unidas (ONU) divulgou, no dia 20 de março, o Relatório Mundial de Felicidade 2023. De acordo com o relatório da ONU de 2023, qual é o país mais feliz do mundo?

- a) Dinamarca.
- b) Finlândia.
- c) Suíça.
- d) Noruega.
- e) Islândia.

2. “O governo do presidente Emmanuel Macron invocou poderes constitucionais especiais para aprovar uma reforma previdenciária muito contestada sem votação na Assembleia Nacional, onde seu partido de centro não tem maioria absoluta.”

Disponível em: <https://tinyurl.com/4xnf3re4>. Publicado em: 16/03/2023. Acesso em: 10/04/2023.

Assinale a alternativa que apresenta corretamente o principal ponto da reforma da previdência proposta pelo governo de Emmanuel Macron na França.

- a) Aumento da idade mínima de aposentadoria para 64 anos.
- b) Criação de um sistema de capitalização individual para aposentadoria.
- c) Redução dos benefícios para os trabalhadores do setor privado.
- d) Alteração no cálculo do valor das aposentadorias, baseado em contribuições individuais.
- e) Fim dos regimes especiais de aposentadoria para certas profissões.

3. “O bielorrusso Ales Bialiatski, um dos vencedores do Prêmio Nobel da Paz do ano passado, foi condenado, nesta sexta-feira (3/03), a 10 anos de prisão de segurança máxima. Ele foi considerado culpado pela acusação de contrabando, de acordo com a agência de notícias estatal russa TASS.”



Disponível em: <https://tinyurl.com/2wst64fv>. Acesso em: 10/04/2023.

Em 2022, Ales Bialiatski ganhou o Prêmio Nobel da Paz:

- a) pela sua luta contra a corrupção no governo bielorrusso.
- b) pelo seu trabalho na defesa dos direitos LGBTQIA+.
- c) pelo seu ativismo em defesa dos direitos humanos na Bielorrússia.
- d) pela sua contribuição para o diálogo e para a reconciliação entre grupos étnicos rivais.
- e) pela sua liderança na construção de soluções pacíficas para o conflito na região de Nagorno-Karabakh.

4. Em março de 2023, Humza Yousaf se tornou o primeiro-ministro da Escócia, sendo o primeiro não branco e muçulmano a ocupar o cargo. O novo primeiro-ministro escocês também carrega o título de primeiro muçulmano a se tornar líder de uma nação ocidental.

Humza Yousaf possui descendência:

- a) indiana.
- b) iraniana.
- c) libanesa.
- d) marroquina.
- e) paquistanesa.

5. “O Reino Unido e a União Europeia (UE) chegaram a um acordo, nesta segunda-feira (27/03), para tentar resolver a disputa sobre os controles comerciais pós-Brexit na Irlanda do Norte. A questão abala as relações entre Bruxelas e Londres há anos e ainda não foi completamente resolvida.”

Disponível em: <https://tinyurl.com/ms9snvsb>. Acesso em: 10/04/2023.

Qual é o objetivo principal do protocolo sobre a Irlanda do Norte revisado pelo Reino Unido e a União Europeia após o Brexit?

- a) Garantir a livre circulação de pessoas entre a Irlanda do Norte e a República da Irlanda.
- b) Permitir que a Irlanda do Norte se torne parte da União Europeia após o Brexit.
- c) Resolver a disputa sobre os controles comerciais pós-Brexit na Irlanda do Norte.



- d) Permitir que a Irlanda do Norte mantenha uma fronteira aberta com a Escócia e o País de Gales.
- e) Reduzir as tarifas de comércio entre a Irlanda do Norte e a República da Irlanda.

6. “A colisão entre um trem de passageiros e um de carga na noite desta terça-feira (28/02) deixou ao menos 57 mortos e dezenas de feridos na Grécia, num dos acidentes ferroviários mais mortais em décadas no país.”

Disponível em: <https://tinyurl.com/36ep79va>. Acesso em: 10/04/2023.

Apesar de investigações sobre o acidente estarem em andamento, segundo a imprensa grega, a causa da colisão foi:

- a) falha mecânica em um dos trens.
- b) problemas de sinalização na linha férrea.
- c) condições climáticas adversas que prejudicaram a visibilidade dos maquinistas.
- d) ataque terrorista.
- e) erro humano por parte do maquinista de um dos trens.

7. Mesmo com regalias, como prescindir de algemas e não ter de posar de frente e de perfil para a famosa mugshot, Donald Trump se entregou à polícia em Manhattan na terça-feira (4) e teve as digitais escaneadas. O indiciamento, depois que um grande júri considerou as provas contra ele suficientes para abrir processo, marca a primeira vez na história dos Estados Unidos que um ex-presidente tem de responder a acusações criminais, trinta e quatro, precisamente.

Disponível em: <https://tinyurl.com/2s3he353>. Publicado em 09/04/2023. Acesso em: 10/04/2023.

Segundo a denúncia do caso, Donald Trump:

- a) utilizou de métodos de campanha desleais, como o envio massivo de *fake news*, para influenciar a decisão dos eleitores na campanha eleitoral de 2020.
- b) violou a Lei de Espionagem e colocou em risco a segurança nacional no caso dos documentos oficiais, alguns ultrassecretos, levados para a sua residência particular.
- c) possuía conhecimento da intenção de seus apoiadores invadirem o Capitólio e coagiu policiais federais a não impedirem a invasão.
- d) tentou adulterar o resultado da votação para presidente no estado da Geórgia.



e) falsificou registros comerciais para ocultar um caso de suborno para que uma atriz pornô se mantivesse em silêncio sobre um suposto relacionamento extraconjugal com o ex-presidente.

8. “O Silicon Valley Bank, com sede na Califórnia, foi fechado na manhã de sexta-feira (10/03) pelo regulador financeiro do estado, anunciou o FDIC (Federal Deposit Insurance Corporation), agência do governo americano que garante os segurados. O SVB foi o maior banco a falir desde a crise financeira de 2008 e a segunda maior quebra bancária da história americana.”

Disponível em: <https://tinyurl.com/2x9dtkrf>. Acesso em: 10/04/2023.

O Silicon Valley Bank era um banco com foco em financiar empresas do segmento:

- A) imobiliário.
- B) tecnologia da informação.
- C) aeroespacial.
- D) energias renováveis.
- E) varejista.

9. No dia 27 de março de 2023, a seguinte reportagem foi veiculada na CNN Brasil:

“China avança e convence mais latino-americanos a abandonar Taiwan”.

Disponível em: <https://tinyurl.com/325ttjts>. Acesso em: 10/04/2023.

O país quem mais recentemente cortou relações diplomáticas com Taiwan e motivou a reportagem foi:

- a) Honduras.
- b) El Salvador.
- c) Nicarágua.
- d) Panamá.
- e) República Dominicana.

10. “A Arábia Saudita e o Irã anunciaram nesta sexta-feira (10/03) que concordaram em restabelecer relações diplomáticas após sete anos de hostilidade, em um acordo entre os arquirrivais regionais que pode ter amplas implicações para o Oriente Médio.”



Disponível em: <https://tinyurl.com/2p9a6p64>. Acesso em: 10/04/2023.

A mediação do acordo diplomático entre as duas nações foi feita por qual país?

- a) Alemanha.
- b) China.
- c) Noruega.
- d) Rússia.
- e) França.

11. Desde o final do ano de 2022, a população israelense tem realizado intensas manifestações contra uma proposta de reforma do poder judiciário no país idealizada pelo primeiro-ministro Benjamin Netanyahu.

Além da desaprovação de boa parte da população, grupos políticos do país também se opõe às mudanças. Entre eles estava Yoav Gallant, que apelou para que o governo suspendesse a reforma, argumentando que a divisão profunda criada pela proposta na sociedade abalou também os militares e gerou ameaças à segurança nacional. Ele foi demitido do governo por Netanyahu, o que gerou acusações de que o governo estaria sacrificando os interesses nacionais em prol de suas ambições.

Yoav Gallant ocupava o cargo de:

- a) chefe do serviço secreto israelense.
- b) ministro da economia.
- c) presidente do Banco Central.
- d) ministro da defesa.
- e) comandante da Força Aérea israelense.

12. Foi concluída no dia 1º de março de 2023 a eleição presidencial na Nigéria. Qual é o nome do político eleito?

- a) Olusegun Obasanjo.
- b) Muhammadu Buhari.



- c) Goodluck Jonathan.
- d) Atiku Abubakar.
- e) Bola Tinubu.

13. “O Parlamento da _____ aprovou nesta quinta-feira (30/03) um projeto de lei para permitir que a Finlândia se torne o mais novo país membro da Otan, aliança militar ocidental liderada pelos EUA.”

Como os demais países ratificaram a filiação, o caminho está livre para que o país do norte da Europa se junte ao clube ocidental.

O mesmo ainda não aconteceu com a Suécia, que pediu pela filiação junto à Finlândia no ano passado. O processo continua retido pela _____ e pela Hungria, por motivos semelhantes. Parlamntos de todos os países-membros devem ratificar os recém-chegados.”

Disponível em: <https://tinyurl.com/4xsduy2t>. Adaptado. Acesso em: 10/04/2023.

Qual país preenche corretamente as lacunas do texto?

- a) Alemanha.
- b) Turquia.
- c) Itália.
- d) Grécia.
- e) França.

14. “Juízes do Tribunal Penal Internacional (TPI) em Haia emitiram nesta sexta-feira (17/03) mandados de prisão para o presidente russo, Vladimir Putin, e para a Comissária para os Direitos da Criança da Rússia, Alekseyevna Lvova-Beleva, por crimes de guerra em áreas ocupadas na Ucrânia.”

Disponível em: <https://tinyurl.com/4y3kr99x>. Acesso em: 10/04/2023.

Sobre o Tribunal Penal Internacional, assinale a alternativa correta.

- a) É uma agência da Organização das Nações Unidas (ONU) e, portanto, possui validação de todos os membros que participam dessa organização.
- b) Tem poderes para prender Putin pois possui jurisdição internacional e consenso de todos os países do mundo.



- c) Rússia, China, Estados Unidos, Ucrânia e Brasil não fazem parte do Tribunal.
- d) Possui apenas caráter investigativo, sem poderes para julgar ou emitir deliberações.
- e) Reporta-se apenas aos países que ratificaram o Estatuto de Roma (1998), base da sua criação, ou seja, que o adotaram internamente como lei.

15. “A Finlândia começou a construir um muro de 200 km de extensão em um trecho de sua fronteira com a Rússia.

O objetivo é aumentar a segurança na região e impedir a entrada em massa de imigrantes russos, segundo autoridades finlandesas.”

Disponível em: <https://www.bbc.com/portuguese/articles/c10ey51lr4go>. Publicado em: 01/03/2023. Acesso em: 10/04/2023.

Segundo autoridades finlandesas, o número de russos entrando na Finlândia está relacionado principalmente:

- a) à busca por melhores oportunidades de emprego e salários mais altos.
- b) à intenção de se estabelecerem em um país com melhor qualidade de vida.
- c) à busca por asilo político devido à repressão na Rússia.
- d) à intenção de escapar do recrutamento militar obrigatório na Rússia.
- e) à busca por estabilidade econômica devido à crise na Rússia.

16. “Um drone de reconhecimento americano MQ-9 caiu no Mar Negro após colidir com um caça russo Su-27 na manhã desta terça-feira (14/03). A informação foi divulgada pelo comando das forças dos EUA na Europa. O Ministério da Defesa da Rússia confirmou a queda do drone, mas não reconheceu a colisão.”

Disponível em: <https://tinyurl.com/2phezmpz>. Acesso em: 10/04/2023. Adaptado.

A respeito desse fato, assinale a alternativa correta.

- a) As autoridades russas afirmaram que derrubaram o drone porque ele estava realizando atividades de espionagem na região.
- b) O drone estava violando o espaço aéreo russo e realizando testes de armas em águas territoriais russas.
- c) Os militares dos EUA afirmaram que o drone estava apenas realizando operações de rotina.
- d) O incidente pode desencadear a entrada dos EUA na guerra, pois ocorreu próximo à fronteira da Otan.



17. “A Rússia anunciou nesta quinta-feira (30/03) a detenção do jornalista norte-americano do Wall Street Journal Evan Gershkovich, um caso inédito na história recente do país. Horas depois, a diplomacia russa afirmou que é ‘premature’ cogitar uma eventual troca de prisioneiros com os Estados Unidos.”

Disponível em: <https://tinyurl.com/2p88ztu9>. Acesso em: 10/04/2023. Adaptado.

Segundo a Rússia, a acusação feita contra o jornalista para prendê-lo é:

- a) contrabando de drogas.
- b) fraude fiscal.
- c) espionagem.
- d) violação da lei de imprensa.
- e) terrorismo.

18. Pelo menos cinco países da América Latina foram atingidos por fortes terremotos no dia 18/03/2023: Argentina, Chile, Equador, México e Peru. Os terremotos são comuns nessa região porque esses países estão próximos a uma área com grande atividade sísmica e muitos vulcões ativos conhecida como:

- a) Círculo de Fogo do Pacífico.
- b) Dorsal Oceânica.
- c) Falha de San Andreas.
- d) Placa do Pacífico.
- e) Triângulo Vulcânico do Pacífico.

19. “Um acordo de proteção dos oceanos assinado na sede da Nações Unidas, em Nova York (EUA), neste sábado (4/03) é celebrado por especialistas como uma grande vitória para a proteção de todas as espécies de vida no fundo do mar.”

Disponível em: <https://tinyurl.com/mr3yxb2>. Acesso em: 10/04/2023.

Assinale a alternativa que apresenta corretamente uma das metas estabelecidas pelo acordo.

- A) Moratória para a pesca em áreas de alto mar até 2030.



- B) Proteger pelo menos 30% das áreas oceânicas globais até 2030.
- C) Proibir que todas as empresas de petróleo perfurem o fundo do oceano em busca de recursos até 2030.
- D) Reduzir em 50% a emissão de plástico nos oceanos até 2030.
- E) Realizar 50% mais expedições científicas nas áreas de alto mar até 2030.

20. Atualmente, uma ampla lista de países tem imposto restrições ao uso do TikTok, principalmente em dispositivos ligados ao governo. Fazem parte dessa lista Estados Unidos, União Europeia, Canadá, Reino Unido, Nova Zelândia e Índia.

Qual o principal motivo que tem levado governos em todo o mundo a banir o aplicativo TikTok?

- a) O aplicativo é acusado de coletar informações pessoais de seus usuários e compartilhá-las com o governo chinês.
- b) O TikTok tem sido usado para disseminar desinformação e teorias conspiratórias prejudiciais à saúde pública.
- c) O aplicativo é considerado um meio de propagação de conteúdo ilegal e ofensivo, como racismo e xenofobia.
- d) O TikTok é visto como uma ameaça à privacidade e à segurança dos usuários, devido às suas políticas de dados vagas e confusas.
- e) O aplicativo é considerado uma plataforma de propaganda política, utilizada por governos estrangeiros para influenciar eleições em outros países.

21. No mês de março de 2023, o Instituto Cervantes, uma organização sem fins lucrativos criada pelo Governo Espanhol em 1999 com a missão de promover o ensino do espanhol e das línguas cooficiais da Espanha, divulgou a informação de que o colombiano Gabriel García Márquez é o escritor em língua espanhola mais traduzido no século 21.

Uma das obras mais influentes e famosas do escritor colombiano é:

- a) Dom Quixote.
- b) A Casa dos Espíritos.
- c) As Veias Abertas da América Latina.
- d) Confesso que Vivi.



e) Cem Anos de Solidão.

22. “Os ministros da Fazenda, Fernando Haddad, e do Planejamento, Simone Tebet, divulgaram nesta quinta-feira (30) a proposta para o chamado "arcabouço fiscal.”

Disponível em: <https://tinyurl.com/55ubz6su>. Acesso em: 10/04/2023.

Sobre a nova proposta, assinale a alternativa correta.

a) Mantém o teto de gastos vigente, mas cria exceções para despesas consideradas essenciais, como saúde e educação.

b) Cria um teto de gastos para cada área específica do orçamento, permitindo maior controle das despesas e redução do déficit fiscal.

c) Estabelece um novo teto de gastos que leva em consideração o crescimento do Produto Interno Bruto (PIB) anual.

d) Substitui o teto de gastos vigente por uma regra fiscal que leve em conta a arrecadação do governo com tributos e transferências.

e) Reduz o teto de gastos em 5% para aliviar a crise econômica causada pela pandemia.

23. “O Produto Interno Bruto (PIB) do Brasil cresceu 2,9% no ano de 2022, divulgou nesta quinta-feira (2/03) o Instituto Brasileiro de Geografia e Estatística (IBGE).”

Disponível em: <https://tinyurl.com/awa33cw8>. Acesso em: 10/04/2023.

Qual foi o principal fator que contribuiu para o aumento do PIB brasileiro em 2022?

a) Crescimento do setor de serviços.

b) Ingresso de investimentos estrangeiros no Brasil.

c) Redução da taxa de juros pelo Banco Central.

d) Aumento das exportações de commodities agrícolas.

e) Aprovação de reformas estruturais no Congresso Nacional.

24. “A balança comercial registrou superávit de US\$ 11 bilhões em março, informou o Ministério do Desenvolvimento, Indústria, Comércio e Serviços nesta segunda-feira (3/04).”

Disponível em: <https://tinyurl.com/fe6nd39b>. Acesso em: 10/04/2023.



Os dois produtos mais exportados pelo país e que apresentaram a maior arrecadação de valores no período foram:

- a) carnes e minério de ferro.
- b) soja e óleos brutos de petróleo.
- c) açúcar e café.
- d) celulose e aço.
- e) farelos de soja e milho.

25. “O governo federal editou a Medida Provisória 1164/23, que recria o programa Bolsa Família com novas regras, em substituição ao Auxílio Brasil. Segundo o texto, publicado em edição extra do Diário Oficial da União nesta quinta-feira (2/03), as famílias beneficiadas pelo programa receberão um valor mínimo de R\$ 600, com um adicional de R\$ 150 por criança de até 6 anos.”

Disponível em: <https://tinyurl.com/dxhhwj3s>. Acesso em: 10/04/2023.

Para ter direito ao benefício, devem ser atendidas algumas medidas pelas famílias. Assinale, dentre as alternativas a seguir, aquela que NÃO é uma medida que deve ser atendida para recebê-lo:

- a) comprovar a frequência escolar dos filhos.
- b) manter atualizadas as cadernetas de vacinação da família inteira.
- c) grávidas devem fazer acompanhamento pré-natal.
- d) crianças de até seis anos devem fazer acompanhamento nutricional.
- e) não estar recebendo outros benefícios do governo.

26. “A ministra da Igualdade Racial foi eleita, pela revista Time, uma das mais prestigiadas do mundo, como uma das 12 mulheres do ano em 2023.”

Disponível em: <https://tinyurl.com/43r2mx46>. Adaptado. Publicado em: 02/03/2023. Acesso em: 10/04/2023.

A ministra da Igualdade Racial é:

- a) Anielle Franco.
- b) Daniela Carneiro
- c) Nísia Trindade.



- d) Esther Dweck.
- e) Luciana Santos.

27. “Desde terça-feira (14/03), mais de 20 cidades, incluindo a capital, Natal, registram ataques a tiros e incêndios contra prédios públicos, comércios e veículos públicos e privados, que, segundo as autoridades locais, são realizados por uma facção que atua nos presídios.”

Disponível em: <https://tinyurl.com/3z6mazrf>. Acesso em: 10/04/2023.

Qual foi o principal motivo por trás dos ataques de facções no Rio Grande do Norte?

- a) Disputa pelo controle do tráfico de drogas.
- b) Diferenças políticas entre grupos rivais.
- c) Ação de grupos terroristas internacionais em solo brasileiro.
- d) Represália às condições de detenção nas unidades prisionais.
- e) Desavenças pessoais entre líderes de facções criminosas.

28. A Polícia Federal deflagrou, na manhã desta quarta-feira (22/03), uma operação que investiga integrantes de uma facção criminosa suspeitos de planejar matar e sequestrar autoridades, segundo o ministro da Justiça, Flávio Dino. O senador Sergio Moro (União Brasil) afirmou que era um dos alvos do grupo criminoso.

Disponível em: <https://tinyurl.com/2tyf29m6>. Acesso em: 10/04/2023.

Segundo investigadores, a retaliação a Moro era motivada:

- a) por mudanças no regime de visitas em presídios.
- b) pelo desmantelamento que promoveu às quadrilhas no país.
- c) pela ordem de prisão ao presidente Lula, em 2018.
- d) pela transferência de chefes de quadrilhas para presídios distantes no país.
- e) pelas más condições dos presídios brasileiros.

29. “A Agência Nacional de Vigilância Sanitária (Anvisa) aprovou, nesta quinta-feira (2/03), o registro de uma vacina contra a dengue, a Qdenga (TAK-003), do laboratório japonês Takeda Pharma.”



Disponível em: <https://tinyurl.com/4hj5sezH>. Acesso em: 10/04/2023. Adaptado.

A respeito desse assunto, assinale a alternativa correta.

- a) A vacina só poderá ser aplicada em pessoas que ainda não foram infectadas pelo vírus da dengue.
- b) O imunizante é indicado para todas as faixas etárias.
- c) É a primeira vez que é desenvolvida uma vacina contra a dengue.
- d) O Instituto Butantan também está desenvolvendo uma vacina contra a dengue, a Butantan-DV.
- e) O Brasil registrou um número muito reduzido de mortes por dengue em 2022.

30. “Dados preliminares do Censo 2022 mostram que a favela do Sol Nascente superou a Rocinha, no Rio de Janeiro e já é a maior reunião de domicílios subnormais do país. A primeira tem 32.081 unidades habitacionais enquanto a segunda, 30.955.”

Disponível em: <https://tinyurl.com/ycxbvvrp>. Publicado em 15/03/2023. Acesso em: 10/04/2023.

A favela do Sol Nascente está localizada em:

- a) Manaus.
- b) Brasília.
- c) São Paulo.
- d) Rio de Janeiro.
- e) Salvador.

31. “O Congresso Nacional realiza nesta 4ª feira (1º.mar.2023) sessão solene para lembrar o centenário de falecimento de Ruy Barbosa na 4ª feira (1º.mar.2023). A iniciativa para a homenagem é do presidente do Senado, Rodrigo Pacheco (PSD-MG).”

Disponível em: <https://tinyurl.com/47aw2x3m>. Acesso em: 10/04/2023.

Qual das alternativas a seguir melhor descreve quem foi Ruy Barbosa?

- a) Um médico e pesquisador brasileiro que desenvolveu pesquisas sobre a malária e a febre amarela.
- b) Um político e jurista brasileiro conhecido por sua participação na elaboração da primeira Constituição Republicana.



- c) Um escritor brasileiro que escreveu diversos romances históricos sobre a época colonial.
- d) Um cientista brasileiro que foi pioneiro em pesquisas sobre a botânica na Amazônia.
- e) Um pintor e escultor brasileiro, um dos principais expoentes do movimento modernista.

32. Uma das principais bandas de *pop rock* nacional dos últimos tempos realizou o último *show* de sua última turnê no mês de março de 2023. A banda mineira se despediu dos palcos em Belo Horizonte, cidade em que começou as atividades há três décadas.

Trata-se da banda:

- a) Engenheiros do Hawaii.
- b) Barão Vermelho.
- c) Os Paralamas do Sucesso.
- d) Skank.
- e) 14 Bis.

33. No dia 4/03/2023, o escritor e jornalista Ruy Castro tomou posse na Academia Brasileira de Letras (ABL) e passou a ocupar a cadeira 13, sucedendo:

- a) Sergio Paulo Rouanet.
- b) Nélida Piñon.
- c) Fernanda Montenegro.
- d) Lygia Fagundes Telles.
- e) Antonio Cicero.

34. O músico e humorista morreu no dia 26/03/2023, em Salvador, aos 84 anos. Ele era conhecido como "O Menestrel Maldito", apelido que ganhou do poeta Vinicius de Moraes.

Formado em música clássica, começou a carreira profissional em 1955, na TV Tupi, em São Paulo, sempre com humor ácido, inteligente e com críticas sociais.



Ele é autor de músicas que se tornaram sucesso no Brasil como "A cúmplice", "Menina", "Que saudade" e "Presidente Bossa Nova".

O enunciado trata de:

- a) Ary Toledo.
- b) Arnaldo Jabor.
- c) Milton Gonçalves.
- d) Jô Soares.
- e) Juca Chaves.

35. “O número de assassinatos caiu 1% no Brasil em 2022. Foram 40,8 mil mortes violentas em todo o país - média de mais de 110 vítimas por dia. É o que mostra o índice nacional de homicídios criado pelo g1, com base nos dados oficiais dos 26 estados e do Distrito Federal.

O total de mortes violentas ainda é elevado, mas representa um alento: o Brasil atingiu o menor número da série histórica do Fórum Brasileiro de Segurança Pública, que coleta os dados desde 2007, e do Monitor da Violência, que coleta desde 2018. É o segundo ano seguido que isso acontece: em 2021, foram 41,2 mil mortes.”

Disponível em: <https://tinyurl.com/mtwhnuc8>. Acesso em: 10/04/2023.

Os especialistas do Núcleo de Estudos da Violência da USP e do Fórum Brasileiro de Segurança Pública elencam alguns pontos para explicar a queda dos indicadores nos últimos anos. Dentre esses pontos, NÃO se insere:

- a) o fortalecimento dos mecanismos de inteligência e investigação.
- b) a diminuição da atividade econômica durante a pandemia da covid-19.
- c) a queda de rivalidade entre os grupos criminosos.
- d) a redução do número de jovens na população.
- e) a criação do Sistema Único de Segurança Pública (Susp), em 2018.



GABARITO



- | | | |
|-------|-------|-------|
| 1. B | 13. B | 25. E |
| 2. A | 14. E | 26. A |
| 3. C | 15. D | 27. D |
| 4. E | 16. C | 28. A |
| 5. C | 17. C | 29. D |
| 6. E | 18. A | 30. B |
| 7. E | 19. B | 31. B |
| 8. B | 20. A | 32. D |
| 9. A | 21. E | 33. A |
| 10. B | 22. D | 34. E |
| 11. D | 23. A | 35. B |
| 12. E | 24. B | |



SIMULADO DE ATUALIDADES – ABRIL 2023



1. “O presidente dos Estados Unidos, Joe Biden, anunciou nesta terça-feira (25 abr.) que vai concorrer à reeleição ao cargo em 2024.

Biden, de 80 anos, lançou oficialmente sua campanha para o segundo mandato. Ele concorrerá ao lado da atual vice-presidente, Kamala Harris.”

Disponível em: <https://tinyurl.com/52h3zjnu>. Acesso em 08/05/2023. Com adaptações.

Em relação ao governo de Joe Biden, é correto afirmar que:

- a) tem enfrentado dificuldades de aprovar projetos devido a acusações de corrupção do período em que era senador da república.
- b) apresenta baixas taxas de reprovação e é cotado como o melhor candidato à presidência para representar o partido democrata.
- c) implementou um rápido ritmo de vacinação contra a Covid-19 e conseguiu promover a reabertura da economia, mas não tem conseguido manter uma inflação em níveis aceitáveis no país.
- d) diferentemente de seu antecessor, tem enfrentado de forma hostil a expansão econômica e política da China na geopolítica global, sobretudo na questão de Taiwan.
- e) flexibilizou o controle da imigração no país, com redução do número de deportações.

2. Finalizaram-se, no dia 30 de abril de 2023, as eleições presidenciais no Paraguai. Com aproximadamente 42% dos votos válidos, o novo presidente do país é:

- a) Santiago Peña.
- b) Luis Arce.
- c) Efraín Alegre.
- d) Pedro Castillo.
- e) Paraguayo “Paio” Cubas.



3. “O presidente Luiz Inácio Lula da Silva assinou decreto que oficializa o retorno do Brasil à União de Nações Sul-Americanas (Unasul). O país havia deixado o bloco em 2019, durante a gestão do ex-presidente Jair Bolsonaro.

O Decreto nº 11.475/2023 foi publicado ontem (6 abr.) no Diário Oficial da União e promulga o Tratado Constitutivo da Unasul. Ele entra em vigor em 6 de maio de 2023 e, com isso, coloca o país de volta ao grupo criado durante o segundo governo do presidente Lula, em maio 2008.”

Disponível em: <https://tinyurl.com/2ads57e3>. Acesso em 08/05/2023. Com adaptações.

Assinale a alternativa que apresenta corretamente o objetivo principal da União de Nações Sul-Americanas (Unasul):

- a) Estabelecer uma aliança militar para defesa dos países da América do Sul.
- b) Criar um mercado único para facilitar a circulação de pessoas, bens e serviços.
- c) Estabelecer uma união política e monetária, com uma moeda comum.
- d) Fomentar a integração sul-americana, sobretudo na área econômica.
- e) Promover a integração política dos países sul-americanos para buscar se inserir com maior força na geopolítica internacional.

4. “O balanço do dia 28 de abril informa que subiu para 110 o número de mortos devido ao jejum promovido por uma seita cristã no país.”

Disponível em: <https://tinyurl.com/3s6w2vbz>. Acesso em 08/05/2023.

O fato mencionado ocorreu no:

- a) República Democrática do Congo.
- b) Sudão do Sul.
- c) Angola.
- d) Líbano.
- e) Quênia.

5. “Em um relatório divulgado nesta sexta-feira (21 abr.), a Organização Meteorológica Mundial (OMM) alertou que a temperatura média global em 2022 ficou 1,15°C acima da era pré-industrial.



O índice é preocupante porque é muito próximo de 1,5°C, a meta para 2030 com a qual o Brasil e outros cerca de cem países se comprometeram para barrar o aquecimento global.”

Disponível em: <https://tinyurl.com/3zkrtn55>. Acesso em 08/05/2023. Com adaptações.

Sobre questão climática na atualidade e seus múltiplos aspectos relacionados, assinale a alternativa correta:

- a) O acordo assinado na COP-27 estabeleceu que as nações desenvolvidas deverão reduzir sua emissão de gases que provocam o efeito estufa pela metade em relação aos níveis da década passada.
- b) O degelo das camadas polares, o aumento do nível dos mares e a erosão são fenômenos exclusivamente naturais relacionados à elevação da temperatura média do planeta Terra.
- c) O aquecimento global, consequência da intensificação do efeito estufa, está relacionado às atividades humanas, sobretudo, por meio da queima de combustíveis fósseis, como petróleo e carvão mineral.
- d) O retorno dos Estados Unidos da América ao Acordo de Paris tem gerado boas perspectivas à comunidade científica, fomentando hipóteses de que até o fim da década estaremos perto da estabilização dos problemas climáticos.
- e) Apesar de contar com uma matriz energética predominantemente limpa e renovável, o Brasil é um dos principais poluidores e emissores de gases que provocam o efeito estufa na atmosfera.

6. A corrida espacial ganhou novo impulso na atualidade com a atuação de empresas privadas desenvolvendo tecnologias aeroespaciais. A respeito desse assunto, assinale o nome da empresa japonesa que recentemente enviou uma sonda espacial que conseguiu capturar imagens da superfície da Lua:

- a) SpaceX.
- b) Blue Origin.
- c) Astroscale.
- d) ispace.
- e) Rocket Lab.

7. No dia 8 de abril de 2023, a morte de Pablo Picasso completa 50 anos. Picasso, um dos iniciadores do cubismo, dedicou a vida à arte e tornou-se um dos pintores mais famosos da história. Além do cubismo, ele inovou com esculturas construídas e colagens.

Qual das alternativas abaixo é uma característica do cubismo, movimento artístico do qual Pablo Picasso foi um dos principais representantes?



- a) Utilização de cores vibrantes e intensas.
- b) Representação realista de figuras e objetos.
- c) Utilização de perspectiva e profundidade.
- d) Fragmentação e deformação das formas.
- e) Representação dos sentimentos e emoções do artista.

8. A ministra de Economia Social da França, Marlene Schiappa, foi bastante criticada por colegas de governo no mês de abril, após ter se envolvido em uma grande polêmica. Qual foi a polêmica envolvendo a ministra da França?

- a) Defendeu publicamente a legalização da maconha na França fumando um cigarro de cannabis.
- b) Se recusou a se vacinar contra a Covid-19 e afirmou que a pandemia foi uma grande conspiração.
- c) Estrelou a capa da edição de abril da versão francesa da "Playboy".
- d) Se envolveu em um acidente de carro com vítimas fatais e não prestou socorro.
- e) Afirmou ter se relacionado com o presidente Emmanuel Macron no passado.

9. “O Memorial de Auschwitz pediu, nesta terça-feira, 18 (abr.), que os visitantes mostrem respeito para com as mais de 1,1 milhão de vítimas do regime nazista durante o Holocausto. O pronunciamento aconteceu depois que uma fotografia no formato selfie, tirada no local, viralizou nas redes por ser considerada ofensiva.

Na imagem, uma mulher com óculos escuros está sentada nos trilhos que levam à entrada do antigo campo de concentração na Polônia. Ela sorri e faz uma pose descontraída enquanto um homem tira sua foto. O momento foi registrado por uma jornalista britânica e provocou indignação no Twitter.”

Disponível em: <https://tinyurl.com/27m5bfzh>. Acesso em 08/05/2023. Com adaptações.

Esse tipo de comportamento em que multidões são atraídas para lugares onde ocorreram grandes tragédias ou mortes tem sido popularmente conhecido como:

- a) turismo de risco.
- b) turismo extremo.
- c) turismo histórico.



- d) turismo de luto.
- e) turismo sombrio.

10. Após 14 meses de guerra na Ucrânia, a Rússia busca tomar o controle total de uma cidade do leste ucraniano, mas tem enfrentado uma forte resistência. A cidade se encontra hoje quase que completamente destruída por bombardeios de artilharia e combates urbanos, e já é conhecida como uma das batalhas mais sangrentas da guerra e do período pós-Segunda Guerra Mundial na Europa.

Esse conflito ocorre pelo controle da cidade de:

- a) Bakhmut.
- b) Donetsk.
- c) Mariupol.
- d) Sebastopol.
- e) Kherson.

11. O Instituto Internacional de Pesquisa para a Paz de Estocolmo (Sipri) divulgou no dia 24/04 um relatório sobre os gastos militares globais. O principal destaque do relatório está no salto de 3,7% dos gastos em relação ao ano de 2022, principalmente por causa da agressão da Rússia contra a Ucrânia.

Sobre os gastos militares globais, assinale a afirmativa correta:

- a) são incluídos nos gastos militares o dinheiro desembolsado para manter exércitos em constante treinamento, o que torna a China o país que possui mais gastos nessa área no mundo.
- b) o maior aumento nos gastos militares ocorreu na Europa, devido a ajuda militar prestada à Kiev.
- c) a Otan (Organização do Tratado do Atlântico Norte) responde pela metade dos gastos militares globais.
- d) com a agressão à Ucrânia, a Rússia ultrapassou os Estados Unidos como o país com maiores gastos militares.
- e) o Brasil se posiciona entre os dez países que mais despendem gastos na área militar.

12. Após meses de tensões entre dois líderes militares rivais, combates eclodiram na capital do país, Cartum, e em outras regiões do país, no dia 15 de abril. Os confrontos entre paramilitares e forças do governo já deixaram centenas de mortos e milhares de feridos.



O conflito abordado se desenrola:

- a) na Armênia.
- b) no Afeganistão.
- c) no Tadjiquistão.
- d) no Sudão.
- e) na Somália.

13. “O Congresso do país aprovou nesta terça-feira (11 abr.) a redução da semana de trabalho semanal de 45 para 40 horas, tornando-o a nação latino-americana com a menor jornada de trabalho junto com o Equador.”

Disponível em: <https://tinyurl.com/bdhyd8np>. Acesso em 08/05/2023. Adaptado.

Assinale a alternativa que apresenta corretamente o país em questão:

- a) Argentina.
- b) Chile.
- c) México.
- d) Uruguai.
- e) Paraguai.

14. O general Gonçalves Dias pediu, no dia 19 de abril, demissão do cargo de ministro-chefe do Gabinete de Segurança Institucional (GSI) da Presidência da República, após ser divulgado um vídeo onde o ministro aparece entre os invasores do Palácio do Planalto, no dia 8 de janeiro. Em seu lugar, Marcos Antonio Amaro dos Santos assumiu como novo ministro do Gabinete de Segurança Institucional.

Sobre o GSI, assinale a alternativa que apresenta corretamente a sua principal função:

- a) Elaboração e coordenação da política de defesa nacional.
- b) Segurança pessoal do presidente e de sua família, além da segurança das instalações presidenciais.
- c) Coordenação do programa nuclear brasileiro.
- d) Planejamento e coordenação da política energética de defesa interna.



e) Planejamento e coordenação da política interna de defesa do Estado democrático de direito.

15. No mês de abril de 2023, o presidente Luiz Inácio Lula da Silva viajou para a China e se encontrou com o líder chinês, Xi Jinping. No encontro, Brasil e China assinaram 15 acordos comerciais, além de acordos entre empresas brasileiras e chinesas. Entre os acordos comerciais assinados, é correto afirmar que o foco está em:

a) Ampliar a participação e a cooperação militar dos dois países para a solução pacífica de conflitos internacionais.

b) Realizar a exploração conjunta de petróleo na região do pré-sal.

c) Aumentar os investimentos chineses na área de infraestrutura no Brasil, em projetos de energia e transporte.

d) Fortalecer a posição dos países do BRICS com relação às sanções impostas pelos Estados Unidos.

e) Aprofundar a cooperação tecnológica, com colaborações ao desenvolvimento de tecnologia 5G.

16. “O primeiro trimestre do governo Luiz Inácio Lula da Silva (PT) teve números de alertas de desmatamento equiparáveis aos piores índices do governo de Jair Bolsonaro (PL), que desmontou políticas ambientais e enfraqueceu a fiscalização ao longo dos quatro anos de mandato.

Segundo dados do Deter, sistema do Inpe (Instituto Nacional de Pesquisas Espaciais) que reúne informações para o combate ao desmate quase em tempo real, entre janeiro e março a destruição do cerrado foi recorde, chegando a 1.375,3 km², e a da Amazônia foi a segunda mais alta da série histórica, com 844,6 km².”

Disponível em: <https://tinyurl.com/23a5376m>. Acesso em 08/05/2023.

A destruição do Cerrado pode representar um grande impacto para o país, pois:

a) é o principal estabilizador do clima no Brasil, responsável pela formação de chuvas que se propagam para todo o território.

b) é onde estão localizadas nascentes de importantes rios brasileiros, sendo responsável pelo abastecimento de grandes bacias hidrográficas brasileiras.

c) contém a maior quantidade de carbono armazenada entre os biomas brasileiros, que, ao ser desmatado, é emitido na atmosfera.

d) abriga a maior quantidade de terras indígenas e etnias no país.

e) apresenta o solo mais fértil do país para a produção de alimentos em larga escala.



17. “O Brasil atingiu nos últimos dias a marca simbólica de 100 mil refugiados venezuelanos interiorizados, ou seja, realocados de Roraima, por onde costumam entrar no país, para outros estados. A ação começou há cinco anos, quando o fluxo de venezuelanos que fogem da ditadura de Nicolás Maduro se intensificou. No total, 425 mil venezuelanos entraram no Brasil.”

Disponível em: <https://tinyurl.com/yrxk64ey>. Acesso em 08/05/2023.

Para dar assistências aos refugiados, o Exército nacional organizou uma operação, denominada de:

- a) Operação Solidariedade.
- b) Operação Fronteira.
- c) Operação Proteção.
- d) Operação Refúgio.
- e) Operação Acolhida.

18. “Há exatos 50 anos, em 26 de abril de 1973, Brasil e Paraguai assinaram o Tratado de Itaipu, firmando o acordo para uma parceria, para uma sociedade binacional: no documento, ambos os países determinaram como deveria ser feito o aproveitamento hidrelétrico do Rio Paraná, planejando assim o produto da futura Usina Hidrelétrica de Itaipu, cuja barragem seria construída entre 1975 e 1982.

Mais do que uma efeméride, a data é importante porque, conforme previsto pelo chamado anexo C do acordo, neste ano expira uma obrigação imposta aos paraguaios.”

Disponível em: <https://tinyurl.com/ydyenwd2>. Acesso em 08/05/2023.

Qual obrigação imposta aos paraguaios expira em 2023, de acordo com o Tratado de Itaipu?

- a) A obrigação de venda do excedente energético a preço de custo ao Brasil.
- b) A obrigação de manter a cota de 75% da energia produzida em Itaipu ao Brasil.
- c) A obrigação de permitir que o Brasil tenha controle exclusivo da gestão da Usina de Itaipu.
- d) A obrigação de pagar uma taxa anual de uso da energia produzida em Itaipu ao Brasil.
- e) A obrigação de garantir que o Brasil tenha o direito exclusivo de veto sobre todas as decisões relativas à gestão da Usina de Itaipu.



19. No dia 26 de abril de 2023, a Justiça Federal do Espírito determinou o bloqueio do aplicativo Telegram. Esta não é a primeira vez que o Telegram tem problemas com a Justiça no Brasil: o aplicativo já foi bloqueado em outros momentos.

A recente decisão de bloqueio do aplicativo ocorreu pois o Telegram:

- a) se recusou a fornecer dados de grupos e usuários suspeitos de planejar crimes.
- b) foi considerado um aplicativo que promove a desinformação e a disseminação de notícias falsas.
- c) foi acusado de armazenar dados pessoais de usuários brasileiros sem autorização judicial.
- d) foi acusado de espionagem ao fornecer informações sigilosas do Brasil ao governo norte-americano.
- e) não possui uma política clara de privacidade e proteção de dados dos usuários.

20. Depois de quatro anos de espera, o cantor, compositor e escritor recebeu, em 24 de abril, em Sintra, Portugal, o prêmio Camões, o mais importante da literatura de língua portuguesa.

Um dos motivos da demora se deveu à recusa do ex-presidente Jair Bolsonaro (PL) em assinar a documentação necessária para que o artista recebesse o diploma, segundo explicou à BBC News Brasil o ministro da Cultura de Portugal, Pedro Adão e Silva. A entrega também ficou prejudicada pelo confinamento imposto pela pandemia de covid-19.

BBC News Brasil. Publicado em 24/04/2023. Acesso em 08/05/2023. Com adaptações.

O prêmio foi entregue para:

- a) Silvano Santiago.
- b) Chico Buarque
- c) Raduan Nassar.
- d) Mia Couto.
- e) Gilberto Gil.

21. “Escrita em 1962, a música lidera o ranking das músicas brasileiras mais regravadas na história. São 442 regravações no total, cantadas por uma extensa lista de artistas mundialmente famosos como Frank Sinatra, Madonna, Tim Maia, Ella Fitzgerald, Caetano Veloso e por aí vai.”

Disponível em: <https://tinyurl.com/mt6krnx7>. Acesso em 08/05/2023.

Qual é a música brasileira mais regravada na história?



- a) Aquarela do Brasil.
- b) Garota de Ipanema.
- c) Asa Branca.
- d) Construção.
- e) O Bêbado e a Equilibrista.

22. “A renomada escritora e pesquisadora foi escolhida nesta quinta-feira (20/4) para ocupar a trigésima cadeira da Academia Brasileira de Letras (ABL). A intelectual assume a vaga deixada por Nélida Piñon, morta em Lisboa em dezembro de 2022.”

Disponível em: <https://tinyurl.com/cjj3bdbt>. Acesso em 08/05/2023. Adaptado.

A nova membra da ABL é:

- a) Conceição Evaristo.
- b) Ana Maria Machado.
- c) Lygia Fagundes Telles.
- d) Adriana Lisboa.
- e) Heloisa Buarque de Hollanda.

23. “O filólogo, de 69 anos, foi eleito na tarde desta quinta-feira para a cadeira número oito da Academia Brasileira de Letras, que era a da escritora Cleonice Berardinnelli, morta em janeiro.”

Disponível em: <https://tinyurl.com/3fv96urv>. Acesso em 08/05/2023. Adaptado.

O novo membro da ABL é:

- A) Paulo Coelho.
- B) Caetano Veloso.
- C) Paulo Leminski.
- D) Ricardo Cavaliere.
- E) Maurício de Souza.



24. Fenômeno do sertanejo, a cantora Ana Castela, de 19 anos, atingiu um grande feito nacional no mês de março de 2023. Qual feito foi esse?

- a) se tornou a artista mais seguida do Brasil no Instagram.
- b) se tornou a artista mais jovem a ter um milhão de ouvintes mensais no Spotify.
- c) lançou seu primeiro álbum, que alcançou o topo da Billboard.
- d) se tornou a primeira artista brasileira a ganhar um Grammy Latino.
- e) se tornou a artista mais ouvida do Brasil no YouTube.

25. “Edson Arantes do Nascimento recebeu nesta quarta-feira (26) mais uma homenagem póstuma. O apelido do Rei do Futebol, Pelé, foi transformado em verbete no dicionário. Segundo o verbete, uma pessoa pode ser qualificada como Pelé quando é excepcional, incomparável, única. Quando é a melhor em alguma área.”

Disponível em: <https://tinyurl.com/74sbk3bp>. Acesso em 08/05/2023. Adaptado.

O verbete foi incluído no dicionário:

- a) Michaelis
- b) Houaiss.
- c) Aurélio.
- d) Priberam.
- e) Caldas Aulete.



GABARITO



- 1. C
- 2. A
- 3. D
- 4. E
- 5. C
- 6. D
- 7. D
- 8. C
- 9. E

- 10. A
- 11. B
- 12. D
- 13. B
- 14. B
- 15. C
- 16. B
- 17. E
- 18. A

- 19. A
- 20. B
- 21. B
- 22. E
- 23. D
- 24. E
- 25. A



SIMULADO DE ATUALIDADES – MAIO 2023



1. Líderes da América do Sul se reuniram com o presidente Luiz Inácio Lula da Silva no dia 30 de maio no Palácio Itamaraty, em Brasília, em uma reunião de cúpula regional. Sobre esse encontro e seus desdobramentos, assinale a alternativa correta.

- a) A cúpula efetivou a reorganização da União das Nações Sul-Americanas (UNASUL).
- b) O presidente Lula apresentou um plano de integração econômica e de infraestrutura para os países da América do Sul.
- c) A crise econômica global foi o tema central da cúpula, com discussões sobre estratégias de recuperação econômica.
- d) A única ausência presidencial sul-americana no encontro foi de Dina Boluarte, do Peru, impossibilitada de comparecer por questões constitucionais.
- e) O presidente Lula propôs a criação de uma moeda única para os países sul-americanos durante a cúpula.

2. O presidente do Equador, Guillermo Lasso, lançou mão de um mecanismo constitucional e dissolveu a Assembleia Nacional do Equador na quarta-feira, 17 de maio, como uma forma de evitar que o processo de impeachment que ele respondia fosse adiante.

Além de dissolver a Assembleia Nacional do Equador, o mecanismo invocado pelo presidente também prevê que

- a) o presidente deixará o cargo e escolherá o sucessor dentro de um ano.
- b) uma assembleia constituinte seja convocada no país.
- c) novas eleições para presidente sejam realizadas dentro de um prazo de 90 dias.
- d) o poder Executivo possua poderes absolutos, podendo governar por decreto e sem interferência da Justiça.
- e) um referendo de consulta à população decidirá se a medida se mantém ou será descontinuada.



3. “Os partidos de direita venceram a eleição para o Conselho Constituinte do Chile, com mais de 95% dos votos apurados. O país foi às urnas neste domingo (7 de maio). O novo conselho contará com 50 pessoas e será responsável por redigir a nova Constituição chilena.”

Disponível em: <https://tinyurl.com/uauenzy9>. Acesso em: 09/06/2023. Com adaptações.

Essa será a segunda tentativa do Chile de elaborar uma nova constituição. A primeira constituição foi submetida à aprovação da população e rejeitada, em setembro de 2022, pelo fato de:

- a) não apresentar nenhuma proposta para inclusão política e social nos povos indígenas, que representam mais de 10% da população chilena.
- b) ser considerada, por muitos eleitores, como retrógrada e não atualizada em relação ao período atual.
- c) apresentar pontos de discordância da população, como o amplo direito ao aborto e obrigação de igualdade de gênero nos poderes e órgãos do Estado.
- d) tornar obrigatória a contribuição de todo cidadão com impostos no estado para obter benefício de serviços públicos.
- e) acabar com o sistema previdenciário baseado apenas na capitalização própria, sem repartição entre os contribuintes.

4. “O candidato à presidência do Paraguai pelo partido Cruzada Nacional, Paraguay Cubas, foi preso na noite desta sexta-feira (5 de maio). De acordo com o jornal ABC, ele é alvo de cinco acusações: perturbação da paz pública, ameaça de atos puníveis, tentativa de interrupção das eleições presidenciais, tentativa de coerção a órgãos constitucionais e resistência.”

Disponível em: <https://tinyurl.com/yxk3nmny>. Acesso em: 09/06/2023.

Paraguay Cubas, político paraguaio, , foi preso por:

- a) ser acusado de corrupção em um escândalo financeiro.
- b) fazer declarações controversas sobre a situação econômica do país.
- c) participar de protestos contra o governo em defesa dos direitos eleitorais.
- d) perturbar a ordem pública, com a alegação de fraude eleitoral nas eleições.
- e) ser condenado por agressão física a um adversário político.

5. No dia 6 de maio de 2023, ocorreu a coroação do novo monarca do Reino Unido, marcando um evento de grande importância para a nação britânica. Ao longo dos séculos, a monarquia tem



desempenhado um papel significativo na história e cultura do Reino Unido. Entender o papel do Rei e da monarquia nesse país é essencial para compreender seu sistema político e social.

Nesse contexto, assinale a alternativa que descreve corretamente o papel do Rei e da monarquia no Reino Unido:

- a) O Rei e a monarquia têm poderes executivos e legislativos, sendo responsáveis pela tomada de decisões governamentais. O monarca é o chefe de Estado e desempenha um papel ativo na formulação e na implementação de políticas.
- b) O Rei possui poderes absolutos e hereditários, sendo o governante supremo do Reino Unido. A monarquia exerce controle total sobre os assuntos internos e externos do país, sendo responsável por todas as decisões políticas.
- c) O Rei é uma figura simbólica e cerimonial, desempenhando um papel representativo no sistema político do Reino Unido. Suas funções são principalmente simbólicas, como representar a nação em eventos formais e promover a coesão nacional.
- d) O Rei e a monarquia têm poderes judiciais, sendo responsáveis pela interpretação e aplicação das leis no Reino Unido. O monarca é o chefe do sistema judicial e desempenha um papel fundamental na administração da justiça.
- e) O Rei exerce poderes militares, sendo o comandante supremo das forças armadas do Reino Unido. A monarquia tem controle direto sobre as forças militares do país, participando ativamente das operações e decisões militares.

6. Foi realizada, entre os dias 19 e 21 de maio de 2023, a 49ª Reunião de Cúpula do G7, em Hiroshima, no Japão. Vários assuntos são abordados nas reuniões de cúpula do grupo, mas, nesse ano, novamente o assunto principal foi a guerra na Ucrânia. Com relação a esse tema, qual foi a principal decisão tomada pelo G7 no encontro?

- a) A suspensão da Rússia do Conselho de Segurança da ONU.
- b) O apoio militar à Ucrânia.
- c) A adesão da Ucrânia ao G7 e ao G20.
- d) O estabelecimento de um tratado de paz com a Rússia.
- e) O aumento das sanções econômicas contra a Rússia.

7. Assinale a alternativa que descreve corretamente o que é signific a sigla G7 no cenário global dos países e da geopolítica internacional.



- a) Uma aliança militar formada por sete nações europeias.
- b) Uma organização que promove a cooperação cultural entre países membros.
- c) Um grupo de países em desenvolvimento que buscam cooperação econômica.
- d) Uma organização global que busca a promoção da paz e segurança internacional.
- e) Um grupo que representa as maiores economias entre os países ricos e desenvolvidos.

8. “O presidente turco Recep Tayyip Erdogan reivindicou a vitória ao se dirigir a uma multidão de apoiadores neste domingo (28 de maio) em Istambul, quando a apuração contava ainda cerca de 98% das urnas e 52% de votos.”

Disponível em: <https://tinyurl.com/bdejpwee>. Acesso: 09/06/2023. Com adaptações.

O presidente Recep Tayyip Erdogan tem desempenhado um papel importante na política da Turquia ao longo dos anos. Considerado um líder carismático e controverso, seu governo tem sido objeto de debate e análise. Sobre Erdogan e seu governo, assinale a alternativa que apresenta corretamente uma característica de seu governo.

- a) Erdogan implementou um governo pluralista e inclusivo na Turquia, promovendo a diversidade étnica e religiosa. Ele investiu na melhoria da educação e no desenvolvimento econômico, visando a modernização do país e a promoção do bem-estar social.
- b) Erdogan governou a Turquia com uma abordagem autoritária e centralizada, restringindo as liberdades civis e políticas. Ele concentrou poderes nas mãos do executivo e limitou a independência do judiciário, gerando preocupações sobre a democracia e os direitos humanos.
- c) Erdogan adotou uma postura pacifista e conciliatória em relação aos conflitos internos e externos enfrentados pela Turquia. Ele priorizou o diálogo e a negociação, buscando soluções diplomáticas para as tensões regionais e internacionais.
- d) Erdogan liderou um governo voltado para a promoção dos direitos das minorias e a garantia da igualdade social na Turquia. Ele implementou políticas inclusivas e adotou medidas para combater a discriminação e a marginalização.
- e) Erdogan defendeu uma política externa independente, mantendo a neutralidade em conflitos internacionais e buscando fortalecer os laços comerciais e diplomáticos com seus vizinhos e parceiros internacionais.

9. “Subiu para 288 o número de mortos em um acidente com trem na Índia que aconteceu na última sexta-feira (2 de junho), segundo balanço divulgado pelas autoridades locais. Cerca de 900 pessoas ficaram feridas.”



Disponível em: <https://tinyurl.com/27pupcxt>. Acesso em: 09/06/2023. Com adaptações.

O acidente de trem, mencionado no texto, foi resultado de uma série de circunstâncias trágicas. Sobre o motivo do acidente, assinale a alternativa correta.

- a) O acidente foi causado por um ato de terrorismo, em que indivíduos infiltrados sabotaram o sistema de sinalização do trem, levando ao descarrilamento e à perda de vidas.
- b) Uma falha mecânica no sistema de frenagem do trem foi a principal causa do acidente, resultando em uma perda de controle e consequente descarrilamento.
- c) Devido a fortes chuvas e a enchentes na região, a infraestrutura ferroviária foi danificada, comprometendo o sistema de sinalização e resultando no acidente.
- d) Um erro humano cometido pelo maquinista do trem, que negligenciou os procedimentos de segurança e ignorou os sinais de advertência, foi a causa direta do acidente.
- e) Um problema técnico no sistema de sinalização ferroviária, provavelmente relacionado à falha de comunicação entre os dispositivos, resultou em informações errôneas para o maquinista, levando ao acidente.

10. Recentemente, um estado dos Estados Unidos proibiu o uso do aplicativo TikTok em seu território, com a justificativa de que a proibição serve para proteger os dados e informações pessoais, privadas e confidenciais dos seus habitantes, da coleta de informações pelo Partido Comunista Chinês.

O estado que proibiu o aplicativo foi:

- a) Montana.
- b) Texas.
- c) Califórnia.
- d) Nova York.
- e) Flórida.

11. Após mais de três anos, a Organização Mundial da Saúde (OMS) declarou nesta sexta-feira (5 de maio) que a covid-19 não configura mais emergência em saúde pública de importância internacional. De acordo com a entidade, o vírus se classifica agora como “problema de saúde estabelecido e contínuo”.

Disponível em: <https://tinyurl.com/ycxak24z>. Acesso em: 09/06/2023. Com adaptações.

A emergência havia sido instaurada pela organização em:



- a) abril de 2020.
- b) dezembro de 2019.
- c) janeiro de 2020.
- d) março de 2020.
- e) maio de 2020.

12. “Em Paris, países concordam em avançar rumo a um tratado global contra a poluição por plásticos

Uma primeira versão do futuro tratado mundial contra a poluição por plásticos deve ser redigida até novembro, decidiram os representantes de 175 países reunidos em Paris após cinco dias de difíceis negociações. A França e o Brasil lideram um esforço diplomático final para a adoção da resolução proposta na sessão plenária na noite desta sexta-feira (2 de junho).”

Disponível em: <https://tinyurl.com/dx3at32b>. Acesso em: 09/06/2023. Com adaptações.

Sobre esse acordo, assinale a alternativa correta.

- a) Os países participantes do acordo concordaram em adotar medidas para proibir completamente o uso de plásticos em seus territórios, visando a eliminar a poluição causada por esse material até 2030.
- b) O acordo alcançado em Paris visa a estabelecer metas ambiciosas para a redução do uso de plásticos descartáveis e promover a implementação de sistemas eficientes de reciclagem e gestão de resíduos.
- c) Os países envolvidos na reunião decidiram criar um imposto global sobre o uso de plásticos, com o objetivo de desencorajar sua produção e consumo em nível mundial.
- d) O tratado global proposto em Paris tem como principal objetivo a criação de um organismo internacional responsável por controlar e regular a indústria do plástico em todos os países signatários.
- e) Durante a reunião em Paris, os países concordaram em investir massivamente na pesquisa e desenvolvimento de alternativas ao plástico, buscando encontrar materiais substitutos que sejam mais sustentáveis e menos poluentes.

13. O vulcão de Fogo, o mais ativo da América Central, entrou em erupção no dia 4 de maio. Em junho de 2018, uma erupção do vulcão devastou uma comunidade próxima e deixou 215 mortos.

O vulcão mencionado se localiza:

- a) na Guatemala.



- b) no Haiti.
- c) em El Salvador.
- d) no México.
- e) no Havaí.

14. A cantora americana Tina Turner morreu aos 83 anos, na quarta-feira, dia 24 de maio. A causa da morte não foi divulgada, mas isso ocorreu "após uma longa doença" em sua casa na Suíça.

Qual das alternativas a seguir descreve corretamente a carreira de Tina Turner e sua contribuição para a música?

- a) Foi uma renomada cantora de ópera, conhecida por sua poderosa voz soprano e suas performances emocionantes nos palcos de teatros clássicos.
- b) Alcançou fama como integrante da banda The Beatles, contribuindo com vocais memoráveis em sucessos como "Let It Be" e "Hey Jude".
- c) Foi uma das pioneiras do rock 'n' roll, conhecida por sua voz rouca e explosiva e por sucessos como "Proud Mary" e "What's Love Got to Do with It".
- d) Ganhou notoriedade como uma exímia pianista de jazz, participando de importantes festivais e colaborando com grandes artistas do gênero.
- e) Destacou-se como uma compositora talentosa, sendo responsável por escrever hits para artistas icônicos, como "Like a Rolling Stone" de Bob Dylan.

15. “Um estudante da Universidade Nacional de Seul, na Coreia do Sul, comeu a obra de arte “Comedian” (Comediante, em português) na última quinta-feira, 27 de maio, porque estava “com fome”. A obra, composta por uma banana presa por uma fita na parede, é avaliada em US\$ 120 mil, aproximadamente R\$ 598 mil pela cotação atual.”

Disponível em: <https://tinyurl.com/4m3csby6>. Acesso em: 09/06/2023. Com adaptações.

Assinale alternativa que apresenta corretamente o nome do autor da “Comedian”:

- a) Kimsooja.
- b) Edvard Munch.
- c) Damien Hirst.



- d) Pablo Picasso.
- e) Maurizio Cattelan.

16. “O PIB (Produto Interno Bruto) do país cresceu 1,9% no 1º trimestre do ano em comparação com o 4º trimestre de 2022. Em valores correntes, somou R\$ 2,6 trilhões.”

Disponível em: <https://tinyurl.com/4zu58yhu>. Publicado em 01/06/2023. Acesso em: 09/06/2023.

A respeito do PIB, são feitas as seguintes afirmativas:

- I - O maior crescimento setorial no período foi da agropecuária e se deu pelo bom desempenho de produtos da lavoura com safra significativa.
- II - A indústria apresentou crescimento negativo e o setor de serviços, positivo.
- III - Entre os países integrantes do G20, o Brasil só apresentou crescimento menor que a China no período.

Está correto o que se afirma em:

- a) apenas I.
- b) apenas II.
- c) apenas III.
- d) I e II.
- e) I, II e III.

17. “O Comitê de Política Monetária (Copom) do Banco Central anunciou nesta quarta-feira, 3 de maio, a manutenção na taxa básica de juros, a Selic, em 13,75% ao ano. A decisão veio em linha com as expectativas de economistas do mercado financeiro, que apostavam majoritariamente na manutenção da taxa. Havia uma avaliação geral de que o BC pudesse sinalizar uma queda ainda neste ano, o que não se concretizou.”

Disponível em: <https://tinyurl.com/bdfa768z>. Acesso em: 09/06/2023. Com adaptações.

Sobre esse assunto, assinale a alternativa que apresenta corretamente o principal motivo para a manutenção da taxa Selic nesse patamar.

- a) A convergência da inflação em direção à meta estabelecida, permitindo a estabilidade da taxa de juros.
- b) A necessidade de estimular o consumo e o investimento, visando a impulsionar o crescimento econômico do país.



- c) A pressão da indústria e do setor produtivo por uma redução dos juros, visando a aumentar a competitividade e impulsionar a economia.
- d) A alta do dólar e o aumento dos preços dos combustíveis, que demandaram uma postura mais cautelosa em relação à política monetária.
- e) A necessidade de conter a valorização excessiva da moeda nacional, visando a manter a competitividade das exportações brasileiras.

18. “A Petrobras anunciou, no dia 16 de maio, o fim da política de preços da gasolina e diesel segundo o modelo da Paridade de Preços de Importação (PPI), que calculava o preço dos combustíveis com base em valores do mercado internacional.”

Disponível em: <https://tinyurl.com/2477vfxt>. Acesso em: 09/06/2023.

Segundo a empresa, a nova política de preços:

- a) aumentará a rentabilidade da Petrobras por meio da otimização dos ativos de refino e da participação em cada mercado e região.
- b) reduzirá os preços da gasolina, diesel e gás de cozinha como forma de controlar o mercado brasileiro.
- c) levará em conta produção interna e a área de influência de cada refinaria da empresa.
- d) foi feita com objetivo principal de permitir que o governo tenha maior controle sobre os preços dos combustíveis no mercado brasileiro.
- e) fixará valores mensais para os combustíveis com base em indicadores e análises de mercado.

19. O governo federal anunciou, no dia 26 de maio, que a reunião da 30ª Conferência das Partes (COP-30) será realizada em Belém, no Pará. O encontro está marcado para 2025.

Considerando o contexto internacional, assinale a alternativa que descreve corretamente o que é a Conferência das Partes (COP).

- a) Reuniões anuais que reúnem líderes políticos de diferentes países para discutir questões relacionadas ao comércio global e aos acordos bilaterais.
- b) Encontros diplomáticos que ocorrem a cada cinco anos para debater temas relacionados à segurança internacional e às ações de combate ao terrorismo.
- c) Fóruns de discussão realizados pela ONU para tratar de assuntos econômicos e promover o desenvolvimento sustentável nos países em desenvolvimento.



d) Convenções anuais organizadas pela ONU com o objetivo de debater e tomar decisões sobre medidas de combate às mudanças climáticas.

e) Conferências internacionais que visam a aprimorar a cooperação global no combate às pandemias e a desenvolver estratégias de saúde pública.

20. “O presidente Luiz Inácio Lula da Silva (PT) assina nesta sexta-feira (28 de maio) a homologação do processo de demarcação de seis terras indígenas, informou o Palácio do Planalto.”

Disponível em: <https://tinyurl.com/3z32uxd2>. Acesso em: 09/06/2023.

A demarcação das terras indígenas tem como principal objetivo:

a) o reconhecimento e a garantia dos direitos territoriais dos povos indígenas, promovendo a preservação de suas culturas e tradições ancestrais.

b) a implementação de políticas de desenvolvimento sustentável nas áreas demarcadas, visando à exploração consciente dos recursos naturais.

c) a transferência de propriedade das terras indígenas para o Estado, com o objetivo de promover a industrialização e o crescimento econômico.

d) a regularização fundiária das áreas ocupadas por povos indígenas, permitindo a exploração comercial dos recursos naturais por empresas privadas.

e) o estabelecimento de zonas de proteção ambiental, proibindo a entrada de pessoas e atividades econômicas nas terras indígenas.

21. “A Câmara aprovou nesta terça-feira o projeto de lei que estabelece um marco temporal para terras indígenas. O texto agora vai para o Senado. O projeto teve intensa mobilização contrária de ambientalistas e defensores dos direitos dos indígenas, que chegaram a promover bloqueios em estradas e mobilizaram artistas internacionais contra a medida.”

Disponível em: <https://tinyurl.com/5n7h2zm8>. Publicado em: 30/05/2023. Acesso em: 09/06/2023.

Assinale a alternativa que apresenta corretamente o objetivo do chamado Marco Temporal:

a) A desconsideração dos direitos territoriais dos povos indígenas, tornando as terras indígenas passíveis de exploração econômica sem restrições.

b) A ampliação das demarcações de terras indígenas, levando em consideração as áreas desocupadas que foram historicamente habitadas por comunidades indígenas.



- c) A flexibilização dos requisitos para a demarcação de terras indígenas, permitindo que empresas privadas adquiram essas áreas para fins comerciais.
- d) A limitação da demarcação de terras indígenas apenas às áreas já ocupadas por comunidades indígenas até a data de promulgação da Constituição Federal de 1988.
- e) O estabelecimento de áreas de preservação ambiental, proibindo a ocupação e a exploração econômica das terras indígenas.

22. “A Câmara dos Deputados aprovou na noite desta terça-feira (23 de maio) o texto-base do projeto de lei que institui o novo arcabouço fiscal.

O placar foi de 372 votos a favor, 108 contra e 1 abstenção.

Disponível em: <https://tinyurl.com/4m74r3tb>. Acesso em: 09/06/2023.

A respeito desse tema, marque a alternativa que descreve corretamente qual é o principal mecanismo da proposta do arcabouço fiscal.

- a) A redução das alíquotas de impostos para estimular o investimento e o crescimento econômico.
- b) O estabelecimento de um limite nos gastos públicos que atrela o crescimento das despesas ao crescimento da receita.
- c) A criação de programas de transferência de renda para combater a desigualdade social.
- d) A implementação de medidas de austeridade fiscal, como corte de gastos e aumento de impostos.
- e) A concessão de incentivos fiscais para atrair investimentos estrangeiros e estimular a competitividade.

23. Está em debate na sociedade brasileira a regulamentação das mídias sociais, em que se destaca o Projeto de Lei nº 2630, de 2020. Proposta pelo senador Alessandro Vieira (Cidadania/SE), a ementa institui a Lei Brasileira de Liberdade, Responsabilidade e Transparência na Internet.

Sobre esse assunto, julgue as afirmativas a seguir com V ou F (verdadeiro ou falso):

- () O Projeto tem sido popularmente denominado de PL das Fake News, por seus apoiadores, e PL da Censura, por aqueles que o são contra.
- () O ponto principal do projeto está em tornar obrigatória a moderação de conteúdos publicados na internet para que contas ou publicações com conteúdos considerados criminosos possam ser identificadas, excluídas ou sinalizadas.



() O projeto estabelece um limite de alcance a mensagens muito compartilhadas e proíbe a criação de contas falsas nas mídias sociais para simular a identidade uma pessoa.

() O projeto proíbe a veiculação de anúncios pagos de caráter político, partidário ou ideológico nas mídias sociais.

A ordem correta, de cima para baixo, é:

a) V-V-V-F.

b) F-V-V-F.

c) F-V-V-V.

d) V-F-F-V.

e) V-V-F-V.

24. O presidente Luiz Inácio Lula da Silva confirmou, no dia 1º de junho, a indicação de Cristiano Zanin, seu advogado pessoal, para ocupar uma cadeira de ministro no Supremo Tribunal Federal (STF). Para assumir a vaga na Corte, Zanin precisa ser aprovado pelo Senado Federal.

Se aprovado, ele assumirá a vaga deixada por:

a) Ricardo Lewandowski.

b) Gilmar Mendes.

c) Dias Toffoli.

d) Luiz Fux.

e) Rosa Weber.

25. “No dia 21 de maio, atacante brasileiro Vinícius Junior foi novamente alvo de ataques racistas em um jogo da La Liga, o campeonato espanhol, entre seu clube, o Real Madrid, e o Valencia.

Antes e durante a partida, a torcida do Valencia cantou músicas em que chama Vinícius Junior de ‘macaco’. Durante a partida, Vinícius Junior se dirigiu a torcedores do Valencia que o estavam xingando.”

Disponível em: <https://tinyurl.com/3rjynz7r>. Acesso em: 09/06/2023.

Sobre o caso de racismo contra Vinicius Junior, qual foi a reação do jogador ao incidente?



- a) Vinicius Junior se pronunciou publicamente, repudiando o ato de racismo e exigindo providências.
- b) O jogador decidiu se afastar temporariamente do futebol, como forma de protesto contra a discriminação racial.
- c) Vinicius Junior optou por ignorar o incidente e não se manifestou sobre o assunto.
- d) O jogador se envolveu em uma discussão acalorada com o autor do ato racista, tornando a situação ainda mais polêmica.
- e) O jogador aceitou o pedido de desculpas do autor do ato racista e optou por resolver o problema internamente.

26. “O Ibama (Instituto Brasileiro do Meio Ambiente e de Recursos Naturais Renováveis) vetou nesta 4ª feira (17.mai.2023) o pedido da Petrobras para realizar uma perfuração de teste no mar, a 179 km da costa do Amapá, na região da Margem Equatorial Brasileira.”

Disponível em: <https://tinyurl.com/ynkpkxwt>. Acesso em: 09/06/2023.

A negação de licença do Ibama para a Petrobras prospectar perfuração se deu por qual motivo?

- a) A Petrobras não apresentou os documentos necessários para obter a licença.
- b) O Ibama identificou riscos ambientais significativos relacionados à atividade de perfuração proposta.
- c) A Petrobras não cumpriu as regulamentações de segurança estabelecidas pelo Ibama.
- d) O Ibama decidiu priorizar outras demandas de licenciamento e, portanto, negou a solicitação da Petrobras.
- e) A recusa do Ibama foi baseada em questões políticas e não em aspectos técnicos.

27. “O Ministério da Agricultura declarou emergência zoonosológica por 180 dias por causa da gripe aviária. A medida foi publicada na edição extra do Diário Oficial da União desta segunda-feira (22).”

Disponível em: <https://tinyurl.com/5n782dn9>. Acesso em: 09/06/2023.

A respeito da gripe aviária, assinale a alternativa correta.

- a) A gripe aviária é uma doença transmitida exclusivamente de aves para humanos.
- b) A principal forma de transmissão da gripe aviária é por meio do consumo de carne de aves contaminadas.
- c) A gripe aviária não representa uma preocupação para a saúde pública, devido à baixa taxa de transmissão.
- d) A vacinação em massa é a medida mais eficaz para controlar a propagação da gripe aviária em humanos.



e) A gripe aviária apresenta sintomas semelhantes aos da gripe comum, como febre, tosse e dor de garganta.

28. “A cantora, compositora e escritora Rita Lee faleceu na noite desta segunda-feira (8 de maio) aos 75 anos de idade, em São Paulo. Considerada a rainha do rock nacional, Rita Lee iniciou sua carreira na década de sessenta como uma das primeiras mulheres a fazer sucesso a nível nacional dentro do rock.”

Disponível em: <https://tinyurl.com/3khy6m8z>. Acesso em: 06/09/2023.

Rita Lee fez parte de uma famosa banda brasileira, formada em meio ao movimento tropicalista, ativa nas décadas de 1960 e 1970 e muito influente no cenário musical brasileiro. Trata-se da banda:

- a) Secos & Molhados.
- b) Casa das Máquinas.
- c) Novos Baianos.
- d) Os Mutantes.
- e) Doces Bárbaros.

29. “A apresentadora Palmira Nery da Silva Onofre, a Vovó Palmirinha, morreu neste domingo (7 de maio), aos 91 anos.”

Disponível em: <https://tinyurl.com/5n72zvfs>. Acesso em: 06/09/2023.

Em qual programa de televisão Palmirinha estreou e ficou conhecida nacionalmente?

- a) TV Culinária.
- b) Note e Anote.
- c) Mulheres.
- d) Mais Você.
- e) Pra Você.

30. Em maio de 2023, dois importantes artistas da música brasileira e internacional faleceram. Morreram:

- a) Erasmo Carlos e David Crosby.



- b) Rita Lee e Tina Turner.
- c) Canisso e Lisa Presley.
- d) Gal Costa e Olivia Newton-John.
- e) Rolando Boldrin e Juca Chaves.

GABARITO



- | | | |
|-------|-------|-------|
| 1. D | 11. C | 21. D |
| 2. C | 12. B | 22. B |
| 3. D | 13. A | 23. A |
| 4. D | 14. C | 24. A |
| 5. C | 15. E | 25. A |
| 6. E | 16. E | 26. B |
| 7. E | 17. A | 27. E |
| 8. B | 18. C | 28. D |
| 9. E | 19. D | 29. A |
| 10. A | 20. A | 30. B |



SIMULADO DE ATUALIDADES – JUNHO 2023



1. “Uma explosão atingiu na madrugada desta terça-feira (06/06) a barragem de Nova Kakhovka, localizada em uma parte controlada pela Rússia no sul da Ucrânia.”

Disponível em: <https://tinyurl.com/zws4fdpu>. Acesso em 08/07/2023.

Sobre a explosão da represa na Ucrânia e suas consequências, assinale a opção correta:

- a) A explosão foi causada por um ataque terrorista de nacionalistas ucranianos do Batalhão de Azov.
- b) A autoria do ataque à represa ainda não foi determinada, mas documentos sigilosos norte-americanos que foram vazados indicam a autoria de mercenários russos do grupo Wagner.
- c) A autoria do ataque à represa já foi determinada, sendo os Estados Unidos o responsável pelo incidente.
- d) A Ucrânia e a Rússia se acusam mutuamente de planejar a explosão da represa, que representa riscos para a segurança da maior usina nuclear da Europa, a Usina de Zaporizhzhya.
- e) A explosão da represa foi causada por um acidente e causou grande impacto para as comunidades que residiam no seu entorno, que tiveram que ser deslocadas do local.

2. A Rússia viveu horas tensas entre os dias 23 e 24 de junho, quando um motim da milícia de mercenários do grupo Wagner tomou as instalações militares em Rostov, no sul do país, e avançou em direção a Moscou.

A respeito do grupo Wagner e do motim de mercenários na Rússia, assinale a opção correta:

- a) O estopim do motim foi um ataque realizado pelo ministério da Defesa russo contra uma base militar do grupo no sul da Rússia.
- b) O presidente de Belarus, Alexander Lukashenko, mediou um acordo entre o governo russo e o grupo Wagner para conter a ofensiva dos mercenários.
- c) O grupo Wagner é composto exclusivamente por ex-militares das forças armadas da Rússia e de países aliados.
- d) A Rússia é o único país a utilizar mercenários em conflitos armados pelo mundo.



e) O grupo Wagner surgiu em 2014, fundado por Yevgeny Prigozhin, um ex-oficial militar da extinta União Soviética.

3. A França foi abalada por uma nova onda de protestos no final do mês de junho e início de julho. Durante os protestos, veículos foram incendiados e prédios depredados. Houve confronto entre policiais e manifestantes. Mais de 6000 pessoas foram detidas e centenas de policiais ficaram feridos

Sobre os protestos na França, assinale a alternativa que apresenta o principal motivo que desencadeou a onda de manifestações:

- a) A morte de um jovem de origem argelina após sua abordagem pela polícia francesa.
- b) A insatisfação da população com a reforma previdenciária proposta pelo governo francês.
- c) A instituição de um novo imposto sobre os combustíveis para financiar a transição ecológica do país para uma economia de baixo carbono.
- d) A insatisfação com o sistema educacional francês e a falta de oportunidades para os jovens.
- e) A falta de controle por parte das autoridades e a ausência de medidas de segurança nas cidades francesas.

4. A Acnur, Agência da ONU para Refugiados, divulgou, no mês de junho de 2023, o relatório Tendências Globais sobre Deslocamento Forçado 2022, um relatório no qual traz dados atualizados sobre os refugiados e as migrações forçadas no mundo. Segundo esse relatório, qual é a principal causa dos deslocamentos forçados na atualidade?

- a) Mudanças climáticas e desastres naturais em diferentes regiões do mundo.
- b) A perseguição a minorias étnicas e religiosas em países com governos nacionalistas e teocráticos.
- c) O aumento da violência e conflitos armados, como a guerra na Ucrânia.
- d) O deslocamento voluntário de pessoas em busca de melhores condições de vida.
- e) O aumento da população mundial e a escassez de recursos nos países de origem.

5. “Mesmo com poucas esperanças de encontrar pessoas com vida, a operação de busca por vítimas do naufrágio do barco que naufragou na costa da Grécia continua mais de uma semana após a tragédia. O barco de pesca Adriana, que partiu da Líbia para a Europa com mais de 750 migrantes, naufragou na costa grega no último dia 14.”

Disponível em: <https://tinyurl.com/2y982d37>. Publicado em 22/06/2023. Acesso em 08/07/2023.



Sobre o panorama atual de migrações e refugiados no mundo, assinale a alternativa correta:

- a) Migrações e refugiados são fenômenos recentes e estão restritos a algumas regiões específicas.
- b) Refugiados são pessoas que decidem voluntariamente deixar seus países de origem em busca de melhores oportunidades econômicas.
- c) A imigração em massa sempre gera impactos negativos nos países de destino, incluindo aumento do desemprego e da criminalidade.
- d) O número de migrantes e refugiados no mundo tem diminuído constantemente nas últimas décadas.
- e) A maioria dos deslocamentos forçados e migrações pelo mundo ocorrem internamente nos próprios países.

6. “Os destroços do submersível Titan, que implodiu durante uma expedição que levava aos restos do Titanic, começaram a ser retirados do mar nesta 4ª feira (28.jun.2023). O descarregamento foi feito pelo navio Horizon Arctic, no píer da Guarda Costeira Canadense, na cidade de St. John’s, em Newfoundland.”

Disponível em: <https://tinyurl.com/ys5w2sbk>. Acesso em 08/07/2023.

Sobre o tema em questão e os diversos aspectos relacionados é correto afirmar que:

- a) A indústria do turismo extremo, que inclui o turismo do Titanic, tem diminuído em popularidade devido a recentes tragédias e às preocupações com segurança.
- b) As expedições para o Titanic são acessíveis a todos os interessados, independentemente de sua situação financeira, tornando-se uma atração turística de massa.
- c) A indústria de turismo extremo tem sido amplamente regulamentada e não apresenta riscos significativos.
- d) O submersível Titan, utilizado nas expedições aos destroços do Titanic, era controlado por um controle de videogame e a viagem turística custava US\$ 250 mil por hóspede.
- e) A tragédia do Titan deve frear o crescente interesse pelo “turismo sombrio”, em que turistas são atraídos para locais e atrações relacionadas à morte, tragédia e sofrimento.

7. O resgate de quatro crianças indígenas na selva amazônica após ficarem 40 dias desaparecidas ganhou as manchetes da imprensa internacional e mobilizou o país da América do Sul. As crianças tinham 13, 9, 5 e 1 ano e sobreviveram a queda de um pequeno avião Cessna 206. Na aeronave também estavam a sua mãe, o piloto e o líder indígena que morreram no acidente.

O acidente ocorreu:



- a) na Venezuela.
- b) Guiana.
- c) na Colômbia.
- d) no Peru.
- e) na Bolívia.

8. “O ex-primeiro-ministro do Reino Unido, Boris Johnson, renunciou nesta sexta-feira (9/06) ao cargo de deputado. Johnson deixou o posto no parlamento depois de receber os resultados da investigação que apura declarações enganosas feitas por ele sobre o caso das festas realizadas em seu gabinete, ainda quando era premiê, durante o lockdown provocado pela pandemia da Covid-19.”

Disponível em: <https://tinyurl.com/bdzbvaza>. Acesso em 08/07/2023. Com adaptações.

Boris Johnson possuiu um papel muito importante na política britânica nos anos recentes, em especial, em relação ao Brexit.

Qual foi o principal impacto do governo de Boris Johnson em relação ao Brexit?

- a) Saída do país do bloco com a implementação de um acordo comercial com a União Europeia.
- b) Realização de um segundo referendo para consolidar a decisão do Brexit.
- c) Saída do Reino Unido da União Europeia sem a assinatura de um acordo.
- d) Adiamento indefinido do processo de saída do Reino Unido da União Europeia.
- e) Enfraquecimento das relações diplomáticas entre o Reino Unido e a União Europeia.

9. “Sul-coreanos ficam 2 anos ‘mais jovens’ de um dia para o outro após mudança em contagem de idade

Mais de 50 milhões de pessoas na Coreia do Sul acordaram hoje e se sentiram um ou dois anos mais jovens – pelo menos, de acordo com a lei.”

Disponível em: <https://tinyurl.com/5xxsuvsn>. Publicado em 28/06/2023. Acesso em 08/07/2023.

A respeito da mudança na contagem de idade na Coreia do Sul, é correto afirmar que:

- a) Todos os sul-coreanos agora têm dois anos a menos em relação à sua idade anterior.



- b) A mudança está relacionada a utilização do sistema internacional de contagem, baseado na data de nascimento.
- c) A mudança terá um impacto limitado, pois apenas afetará aspectos administrativos, como idade no passaporte e idade de aposentadoria.
- d) O novo método de contagem atribui a mesma idade para pessoas nascidas em um mesmo ano, independentemente do dia em que a pessoa nasceu.
- e) A contagem da idade passará a ser baseada na gestação como parte da vida do cidadão.

10. “O primeiro-ministro do Japão, Fumio Kishida, anunciou na quinta-feira (01/06) um plano de ajuda para as famílias no valor de US\$ 25 bilhões (cerca de R\$ 127,3 bilhões na cotação atual) com o intuito de evitar a queda de natalidade no país.”

Disponível em: <https://tinyurl.com/musuwwe6>. Acesso em 08/07/2023.

Qual é a principal razão para a queda nas taxas de natalidade do Japão?

- a) A influência da religião no planejamento familiar, que desencoraja as pessoas a terem filhos.
- b) O aumento da imigração de japoneses jovens para outros países.
- c) A diminuição da expectativa de vida, o que afeta a decisão de ter filhos.
- d) A falta de acesso a serviços de saúde reprodutiva, o que limita a capacidade de ter filhos.
- e) O aumento da urbanização e a mudança de estilo de vida, levando a um maior foco na carreira profissional.

11. “O Discord, aplicativo online popular entre jovens e jogadores de videogames está envolvido em várias denúncias contra grupos que promovem conteúdo envolvendo exploração sexual, pedofilia, automutilação, racismo, maus tratos de animais e incitação a assassinatos, além de vazamento de informações secretas.

No domingo de 25 de junho, uma reportagem do Fantástico revelou casos de usuários brasileiros do Discord que violentaram e humilharam meninas menores de idade em transmissões ao vivo.”

Disponível em: <https://tinyurl.com/ye228cf8>. Acesso em 08/07/2023. Adaptada.

O aplicativo Discord tem como principal funcionalidade:

- a) edição e compartilhamento de fotos e vídeos.
- b) transmissão de séries, filmes e músicas em streamings e lives.



- c) chamadas de voz e vídeo por meio de comunidades virtuais.
- d) criação e compartilhamento de documentos e apresentações.
- e) compartilhamento de mídias sem rastreamento dos dados.

12. “A última segunda-feira, dia 3 de julho, foi o dia mais quente já registrado no planeta Terra, segundo o Centro Nacional de Previsão Ambiental dos Estados Unidos, ligado à Agência de Administração Oceânica e Atmosférica Nacional dos Estados Unidos (Noaa, na sigla em inglês). A temperatura média do planeta chegou a 17,01°C, superando o recorde anterior, de agosto de 2016, quando foram registrados 16,92°C.

O recorde é atingido 12 dias após o início do verão no hemisfério Norte e semanas após o início da formação do El Niño, fenômeno caracterizado pelo aumento da temperatura na superfície do oceano Pacífico, na região equatorial.”

Disponível em: <https://tinyurl.com/4j8mb25a>. Publicado em 04/07/2023. Acesso em 08/07/2023.

Utilizando o enunciado como base, assinale a alternativa correta a respeito desse assunto e seus múltiplos aspectos relacionados:

- a) O aumento da temperatura média global é um fenômeno recente e ainda não está relacionado às mudanças climáticas.
- b) As negociações climáticas têm obtido sucesso na redução das emissões de gases de efeito estufa.
- c) Os governos e as indústrias têm implementado medidas efetivas de redução de emissões de gases de efeito estufa.
- d) Os recordes de temperatura registrados recentemente são apenas eventos isolados e não indicam uma tendência de aquecimento global.
- e) O episódio atual do El Niño ocorre em um contexto de clima modificado pelas atividades humanas.

13. O ex-primeiro-ministro da Itália, morreu aos 86 anos na manhã desta segunda-feira (12/06). Ele foi protagonista da vida política do país nos últimos 30 anos. Governou a Itália por três vezes, entre os anos de 1994 e 1995, 2001 e 2006 e 2008 e 2011, sendo o recordista de tempo no poder no país na era republicana.

Disponível em: <https://tinyurl.com/5t4tf8wm>. Com adaptações. Acesso em 08/07/2023.

O político retratado pela notícia é:

- a) Aldo Moro.
- b) Romano Prodi.



- c) Sandro Pertini.
- d) Silvio Berlusconi.
- e) Francesco Cossiga.

14. “O ministro da Fazenda, Fernando Haddad, afirmou nesta 5ª feira (29.jun.2023) que o CMN (Conselho Monetário Nacional) decidiu por manter a meta para a inflação a 3% para 2024, 2025 e 2026. O conselho definiu ainda que, a partir de 2025, será adotado o modelo de meta contínua.”

Disponível em: <https://tinyurl.com/5n95wdzj>. Acesso em 08/07/2023.

Sobre o Conselho Monetário Nacional e o modelo de meta contínua, é correto afirmar que:

- a) O Conselho Monetário Nacional é formado pelos ministros da Economia, Planejamento e Orçamento, Casa Civil e presidente do Banco Central.
- b) A sistemática do regime contínuo estabelece período superior a um ano para o cumprimento da meta de inflação.
- c) O regime contínuo estabelece que a meta de inflação deve ser cumprida no período de janeiro a dezembro de cada ano.
- d) A margem de tolerância será maior que a estabelecida para os anos de 2023 e 2024.
- e) O Banco Central manifestou-se formalmente contrário a mudança e favorável ao modelo baseado no calendário gregoriano.

15. “A agência de classificação de risco S&P Global Ratings alterou a perspectiva de rating (nota de crédito) do Brasil de estável para positiva nesta quarta-feira (14/06). A classificação positiva para o país não acontecia desde 2019.”

Disponível em: <https://tinyurl.com/5c5jwspm>. Acesso em 08/07/2023.

Qual é o principal efeito esperado da elevação da perspectiva de rating do Brasil para positiva?

- a) Maior confiança dos investidores estrangeiros na economia brasileira.
- b) Redução das taxas de juros e dos índices de inflação no país.
- c) Elevação do país a categoria de grau de investimento em uma perspectiva de curto prazo.
- d) A implementação de políticas econômicas contracionistas pelo governo brasileiro.
- e) Estabilização das políticas monetária e fiscal do país.



16. “O presidente Luiz Inácio Lula da Silva (PT) assinou decreto na 3ª feira (13.jun.2023) que cria uma estrutura administrativa para que o Brasil possa exercer a presidência do G20, principal fórum de cooperação econômica internacional. O mandato terá início em 1º de dezembro deste ano e vai até novembro de 2024.”

Disponível em: <https://tinyurl.com/msdjraxw>. Acesso em 08/07/2023.

A liderança brasileira contará com mais de 100 reuniões, inclusive a reunião de cúpula do grupo, que será realizada:

- a) no Rio de Janeiro.
- b) no Distrito Federal.
- c) em São Paulo.
- d) em Manaus.
- e) em Belém.

17. “Conforme o mundo tenta intensificar o combate às mudanças climáticas, cresce a busca por novas fontes de energia que consigam ajudar na descarbonização da economia, ou seja, reduzir as emissões de gás carbônico.

E o hidrogênio tem ganhado espaço e atenção nesse processo.

O gás hidrogênio é visto como uma alternativa eficiente, tendo um grande potencial energético e aplicação em setores cuja descarbonização não passa por outras fontes de energia renovável, como a eólica e a solar.

Hoje, o gás ainda é produzido usando principalmente fontes de energia não renováveis e poluentes, mas há possibilidade de expansão do uso de fontes renováveis nessa produção, gerando o chamado hidrogênio verde.”

Disponível em: <https://tinyurl.com/5yfrzvjc>. Acesso em 08/07/2023.

O que é o hidrogênio verde e como ele pode ser utilizado como fonte de energia renovável?

- a) O hidrogênio verde é obtido por meio da queima de biomassa, como madeira e resíduos agrícolas, e pode ser utilizado como fonte de energia em processos industriais.
- b) O hidrogênio verde é um gás natural encontrado em reservatórios subterrâneos e pode ser utilizado como fonte de energia para gerar eletricidade em usinas termelétricas.
- c) O hidrogênio verde é obtido por meio da eletrólise da água utilizando eletricidade proveniente de fontes renováveis, como a energia solar e eólica. Pode ser utilizado como combustível em veículos, na produção de eletricidade e no armazenamento de energia.



d) O hidrogênio verde é um subproduto da produção de petróleo e gás natural, utilizado principalmente na indústria química.

e) O hidrogênio verde é uma forma de energia, obtida a partir do processo de fusão nuclear em usinas nucleares.

18. “Em julgamento no plenário do Tribunal Superior Eleitoral (TSE) encerrado nesta sexta-feira (30/06), o ex-presidente Jair Bolsonaro foi condenado, por 5 votos a 2, a oito anos de inelegibilidade, o que significa que o ex-chefe do Executivo só poderá concorrer novamente no pleito de 2030.”

Disponível em: <https://tinyurl.com/myxtmjdf>. Acesso em 08/07/2023. Com adaptações.

Assinale a alternativa que apresenta corretamente o fato que ensejou a condenação de Jair Bolsonaro por abuso de poder político e uso indevido dos meios de comunicação:

- a) Corrupção na aquisição de vacinas contra a covid-19.
- b) Ataques pessoais contra adversários políticos.
- c) Ordem de recusa no recebimento de refugiados venezuelanos pelo Brasil.
- d) Ataques ao sistema eletrônico de votação durante uma reunião com embaixadores.
- e) Favorecimento pela TV Brasil na cobertura da sua campanha eleitoral.

19. O plenário do Senado aprovou, no dia 21 de junho, a indicação do advogado Cristiano Zanin para o Supremo Tribunal Federal (STF). Ele ocupará a vaga deixada por Ricardo Lewandowski, que se retirou da suprema corte em maio. Neste ano de 2023, outro ministro deixará a suprema corte, pois deverá ser aposentado compulsoriamente. Trata-se de:

- a) Luiz Fux.
- b) Rosa Weber.
- c) Cármen Lucia.
- d) Gilmar Mendes.
- e) Luís Roberto Barroso.

20. “O presidente Lula (PT) decidiu nesta segunda-feira (19/06) elevar o mínimo existencial de R\$ 303 para R\$ 600.”



Disponível em: <https://tinyurl.com/mueepsn3>. Acesso em 08/07/2023. Com adaptações.

Sobre o mínimo existencial, é correto afirmar que se trata do:

- a) valor máximo que os bancos podem tomar de superendividados.
- b) valor mínimo de renda mensal que os bancos podem cobrar no crédito consignado.
- c) valor mínimo que os bancos devem oferecer como crédito para superendividados.
- d) valor mínimo que os superendividados devem pagar mensalmente aos bancos.
- e) valor mínimo da renda mensal que os bancos não podem tomar de superendividados.

21. “O presidente da República, Luiz Inácio Lula da Silva, sancionou a Lei 14.601/23, que recriou o programa Bolsa Família. A norma teve origem na Medida Provisória 1164/23, aprovada pela Câmara dos Deputados no final de maio e pelo Senado no início de junho. O texto foi publicado no Diário Oficial da União nesta terça-feira (20/06).”

Disponível em: <https://tinyurl.com/59b92w62>. Acesso em 08/07/2023. Com adaptações.

Para poderem receber e continuar com direito à Bolsa Família, devem ser cumpridas algumas condicionalidades. Dentre elas, NÃO se insere a (o):

- a) realização de pré-natal.
- b) cumprimento do calendário nacional de vacinação.
- c) acompanhamento do estado nutricional das crianças dos beneficiários.
- d) comprovação de frequência escolar mínima das crianças dos beneficiários.
- e) não participação em outros programas sociais do governo.

22. “O governo federal publicou nesta quarta-feira (28/06) as regras do Desenrola Brasil, o programa para renegociar dívidas de até R\$ 5.000 de pessoas físicas. O Desenrola será dividido em duas faixas, e débitos de até R\$ 100 devem ser perdoados já nos próximos 30 dias.”

Disponível em: <https://tinyurl.com/ymd9uz56>. Acesso em 08/07/2023. Com adaptações.

Sobre o programa Desenrola Brasil para renegociar dívidas, é correto afirmar que:

- a) O programa visa renegociar dívidas de até R\$ 5.000 de pessoas físicas e estabelece o perdão de dívidas de até R\$ 100 por parte dos bancos e instituições financeiras.



- b) Somente poderão ser renegociadas dívidas contraídas até 31 de dezembro de 2022.
- c) O perdão de dívidas é obrigatório para todos os credores, independentemente do valor.
- d) A renegociação de dívidas será feita exclusivamente através de canais bancários.
- e) As empresas que oferecerem as menores reduções de desconto poderão aderir ao programa.

23. “Durante as jornadas que fizeram o Brasil explodir em protestos em 2013, a noite de 13 de junho ficou marcada como um grande ponto de inflexão.

A reação violenta da polícia durante o ato em São Paulo, que terminou com mais de 100 feridos, inflamou a população e massificou as manifestações em todo o Brasil.

Ao mesmo tempo em que o movimento cresceu, ele se transformou: a pauta passou da oposição ao aumento de R\$ 0,20 na passagem de ônibus à insatisfação generalizada com os gastos para a Copa do Mundo de 2014, as denúncias de corrupção na política e o governo da então presidente Dilma Rousseff (PT).

E o mês de junho mudou o país para sempre.”

Disponível em: <https://tinyurl.com/ycytdaw4>. Publicado em 12/06/2023. Acesso em 08/07/2023.

Sobre as manifestações ocorridas em 13 de junho de 2013 no Brasil, é correto afirmar que:

- a) A violência policial registrada nesse dia resultou em uma diminuição da participação popular nos protestos subsequentes.
- b) As manifestações começaram de forma pacífica, mas se tornaram violentas devido à ação repressiva da polícia durante o primeiro e os subsequentes atos.
- c) Tiveram como estopim o anúncio de transferência de milhões de reais da construção de um hospital em São Paulo para a construção de obras da Copa do Mundo de 2014.
- d) A resposta do governo foi positiva, com atendimento às demandas dos manifestantes, como o aumento do salário mínimo e o controle de preços de produtos essenciais.
- e) A principal reivindicação das manifestações era contra a corrupção no país e o governo de Dilma Rousseff.

24. “A cantora morreu, na noite desta segunda-feira (5/6), aos 83 anos. O falecimento da artista foi comunicado pelo perfil da cantora nas redes sociais. Ela deu voz em inglês para a música Garota de Ipanema, o que popularizou a canção ao redor do mundo. Pela música, ela ganhou um Grammy em 1965, o primeiro dado a uma brasileira.”

Disponível em: <https://tinyurl.com/3hfyvak2>. Acesso em 08/07/2023.



O enunciado trata da cantora:

- a) Sylvia Telles.
- b) Nara Leão.
- c) Astrud Gilberto.
- d) Joyce Moreno.
- e) Wanda Sá.

25. “A cidade de Campinas, no interior de São Paulo, registra um surto de febre maculosa. Os casos foram registrados na Fazenda Santa Margarida, no distrito de Joaquim Egídio, região leste da cidade, área com risco de transmissão da doença.”

Disponível em: <https://tinyurl.com/3rjpde46>. Publicado em 14/06/2023. Acesso em 08/07/2023.

A febre maculosa é uma doença transmitida por:

- a) Mosquitos.
- b) Pulgas.
- c) Ácaros.
- d) Carrapatos.
- e) Abelhas.



GABARITO



- | | | |
|------|-------|-------|
| 1. D | 10. E | 19. B |
| 2. B | 11. C | 20. E |
| 3. A | 12. E | 21. E |
| 4. C | 13. D | 22. A |
| 5. E | 14. B | 23. B |
| 6. D | 15. A | 24. C |
| 7. C | 16. A | 25. D |
| 8. A | 17. C | |
| 9. B | 18. D | |



SIMULADO DE ATUALIDADES – JULHO 2023



1. “A Rússia suspendeu sua participação no acordo de exportação de grãos do Mar Negro, informou o Kremlin nesta segunda-feira (17/07).”

Disponível em: <https://tinyurl.com/3zd2d5sb>. Acesso em: 05/08/2023.

Com relação ao acordo de exportação de grãos entre Rússia e Ucrânia, assinale a alternativa INCORRETA:

- a) O acordo foi assinado em julho de 2022, mediado pela Turquia e pela ONU.
- b) A Rússia decidiu não renovar o acordo devido a preocupações sobre os interesses de Moscou não estarem sendo considerados.
- c) Uma das exigências da Rússia para continuar no acordo é a retirada de obstáculos financeiros que afetam o setor agrícola russo.
- d) O acordo, que permitiu a exportação de milhões de toneladas de cereais ucranianos, incluía também a retirada de obstáculos para as exportações de produtos agrícolas e fertilizantes russos.
- e) A decisão de não renovar o acordo não teve impacto significativo nos preços dos grãos, de acordo com a ONU.

2. No mês de julho de 2023, o líder russo, Vladimir Putin, e seu aliado Aleksandr Lukashenko, anunciaram a instalação de armas nucleares russas em Belarus. O anúncio gerou duras reações do Ocidente, inclusive um pedido do premiê Mateusz Morawiecki para que a Otan posicione armas nucleares dos EUA em seu território.

O país que fez o pedido foi:

- a) a Lituânia.
- b) a Polônia.
- c) a Finlândia.
- d) a Estônia.
- e) a Letônia.



3. “O Federal Reserve (Fed), o banco central dos Estados Unidos, aumentou os juros do país nesta quarta-feira (26/07) em 0,25 ponto percentual, para uma faixa de 5,25% a 5,50% ao ano.

A decisão, já esperada pelo mercado, veio após uma breve interrupção no ciclo de alta no mês passado.”

Disponível em: <https://tinyurl.com/mvn7a9s7>. Acesso em: 05/08/2023.

Com base no recente aumento das taxas de juros nos Estados Unidos e seus impactos econômicos, assinale a alternativa correta:

- a) A taxa de juros dos Estados Unidos está no índice mais alto da sua história.
- b) O aumento das taxas de juros nos Estados Unidos tende a resultar em uma desvalorização do dólar em relação a outras moedas.
- c) A alta dos juros nos Estados Unidos não tem impacto na economia mundial, pois os empréstimos e os investimentos permanecem estáveis.
- d) Um aumento nas taxas de juros nos Estados Unidos tende a estimular o consumo interno, contribuindo para um maior crescimento da economia.
- e) A elevação das taxas de juros nos Estados Unidos pode afetar a demanda por produtos e serviços brasileiros, contribuindo para uma possível redução da inflação no Brasil.

4. “A presidente da Comissão Europeia, Ursula von der Leyen, anunciou na manhã desta segunda (17/07) que a União Europeia vai investir mais € 45 bilhões (R\$ 242 bilhões) na América Latina e no Caribe, como parte do programa Global Gateway.

O anúncio aconteceu na abertura do fórum empresarial da cúpula Celac-UE, que acontece até essa terça em Bruxelas, na Bélgica.”

Disponível em: <https://tinyurl.com/ybp5jxdc>. Acesso em: 05/08/2023.

Com base nesse assunto, avalie as afirmativas a seguir:

- I. A CELAC, composta por países da América Latina, Caribe, Estados Unidos e Canadá, tem como objetivo promover a integração econômica e social das Américas.
- II. O Brasil se retirou do grupo em 2020, durante o governo de Jair Bolsonaro, por divergências políticas e ideológicas com Cuba e Venezuela, voltando a fazer parte em 2023, durante o governo de Lula.
- III. O programa Global Gateway visa a fortalecer as relações comerciais entre a América Latina e a Europa.
- IV. Os investimentos da União Europeia serão direcionados exclusivamente para projetos de combate às mudanças climáticas na América Latina.



Assinale a alternativa correta:

- a) Somente as afirmativas I e II estão corretas.
- b) Somente as afirmativas I e III estão corretas.
- c) Somente as afirmativas II e III estão corretas.
- d) Somente as afirmativas II e IV estão corretas.
- e) Somente as afirmativas III e IV estão corretas.

5. “Suécia autoriza manifestação para queima da Bíblia e da Torá

Após a queima pública de um Alcorão na Suécia há duas semanas, a polícia de Estocolmo autorizou uma manifestação na qual seriam queimadas cópias da Torá, o livro sagrado dos judeus, e da Bíblia, o livro sagrado dos cristãos.”

Disponível em: <https://tinyurl.com/2p8vrmpv>. Acesso em: 05/08/2023.

A queima pública do Alcorão, que desencadeou a decisão do governo da Suécia, foi feita:

- a) por um iraquiano em frente à principal mesquita de Estocolmo, durante a Festa Islâmica do Sacrifício.
- b) por uma ação promovida por grupos xenófobos na Suécia, que são contra a presença de migrantes islâmicos no país.
- c) após a decisão do governo sueco de estender benefícios aos refugiados islâmicos no país.
- d) em um protesto que defendia a liberdade total de expressão, independentemente das consequências.
- e) em um evento artístico controverso, organizado por artistas locais.

6. “O Parlamento de Israel aprovou nesta segunda (24/07) a primeira parte da controversa reforma judicial que limita os poderes da Suprema Corte. A medida é apontada como uma afronta à democracia e tem estimulado protestos massivos, numa das maiores crises da história local recente. “

Disponível em: <https://tinyurl.com/bdfyvuwj>. Acesso em: 05/08/2023.

A lei aprovada versa sobre o chamado “padrão de razoabilidade”. Assinale a alternativa que corresponde corretamente ao significado desse termo:

- a) Um critério subjetivo para avaliar a validade de decisões judiciais.
- b) Uma regra que define a idade de aposentadoria dos juízes da Suprema Corte.



- c) Um princípio criado que possibilita ao Parlamento anular decisões tomadas pela Suprema Corte do país.
- d) Um recurso utilizado por tribunais para invalidar decisões governamentais.
- e) Um critério para a escolha de candidatos para o Comitê de Seleção Judicial.

7. “Militares anunciaram na quarta-feira (26/07) que tomaram o poder no Níger, uma nação instável e empobrecida da África Ocidental, após soldados tomarem o palácio presidencial na capital, Niamey, e prenderem o presidente democraticamente eleito do país, Mohamed Bazoum, que estava no poder desde 2021.”

Disponível em: <https://tinyurl.com/bdevt2ep>. Acesso em: 05/08/2023.

No contexto recente do golpe militar no Níger, qual é a principal motivação alegada pelos militares para justificar a derrubada do governo democraticamente eleito de Mohamed Bazoum?

- a) Implementar reformas econômicas para melhorar a estabilidade do país.
- b) Combater a corrupção e melhorar a governança política.
- c) Prevenir a influência estrangeira na política interna do país.
- d) Garantir a segurança interna e conter a ação de grupos jihadistas.
- e) Restaurar a presença de forças ocidentais para combater o terrorismo.

8. “As autoridades do Talibã acenderam uma fogueira em uma província do oeste do Afeganistão neste fim de semana e jogaram instrumentos musicais e equipamentos nas chamas. O motivo alegado pelo regime foi por considerarem a música algo 'imoral'.”

Disponível em: <https://tinyurl.com/26ym38r6>. Acesso em: 05/08/2023.

Desde que chegou ao poder em agosto de 2021, o governo teocrático do Talibã impôs uma série de leis que refletem sua visão rigorosa do Islã, restringindo os direitos principalmente às mulheres. Assinale a alternativa que apresenta corretamente uma dessas restrições:

- a) Proibição de participar de manifestações políticas.
- b) Restrição de acesso a redes sociais e serviços de internet.
- c) Proibição de usar roupas coloridas em público.
- d) Exclusão de atividades esportivas e de lazer.
- e) Restrição de acesso a escolas de Ensino Médio e universidades.



9. “O Peru enfrenta um aumento de casos de síndrome de Guillain-Barré (SGB), uma doença pouco comum, mas que já afetou 191 pessoas e matou quatro, e levou o governo a acionar a emergência sanitária.”

Disponível em: <https://tinyurl.com/mw4s995p>. Acesso em: 05/08/2023.

Assinale a alternativa que descreve corretamente o que é a síndrome de Guillain-Barré (SGB):

- a) Uma doença contagiosa transmitida por contato direto entre pessoas.
- b) Uma doença genética que afeta principalmente crianças.
- c) Uma doença causada pela exposição prolongada a baixas temperaturas.
- d) Uma doença autoimune que afeta o sistema nervoso periférico.
- e) Uma doença viral que se espalha rapidamente pelo ar.

10. No mês de julho de 2023, a Meta, empresa dona do Facebook, lançou um aplicativo para concorrer com o Twitter, permitindo a publicação de textos curtos, links, fotos e vídeos de até 5 minutos, e que teve muitas inscrições logo após seu lançamento. Qual é o nome desse aplicativo?

- a) Threads.
- b) MetaChat.
- c) ThreadTalk.
- d) TweetZone.
- e) SnapTweet.

11. Recentemente, o Twitter passou por uma mudança em sua identidade visual, substituindo seu icônico pássaro azul por um novo símbolo. Qual foi o novo elemento adotado como logotipo pela plataforma?

- a) Uma abreviação de "Twitter" em letras maiúsculas.
- b) Um emoji de coração.
- c) A imagem de um cachorro da raça Shiba Inu.
- d) Um círculo colorido.



e) A letra "X".

12. Com base nas recentes preocupações com os direitos e proteções dos trabalhadores remotos, a União Europeia tem avançado na discussão sobre uma política conhecida como "direito de desconectar". Essa política busca:

a) estabelecer como modelo preferencial o trabalho "híbrido", baseado na conjugação do trabalho presencial com o trabalho remoto.

b) flexibilizar a carga horária de trabalho, com maiores horários de descanso durante o horário de expediente.

c) estabelecer diretrizes para promover pausas no uso constante de tecnologia durante o horário de trabalho.

d) garantir que os trabalhadores tenham um espaço de coworking disponível.

e) evitar que os trabalhadores tenham que lidar com atividades relacionadas ao trabalho fora do horário de expediente.

13. "Várias regiões do mundo devem registrar temperaturas recordes neste sábado (15/07), nos Estados Unidos, Europa e Japão, o que obriga as autoridades a adotar medidas drásticas diante dos riscos provocados pelas temperaturas extremas, que representam o exemplo mais recente da ameaça da mudança climática."

Disponível em: <https://tinyurl.com/2p8e436n>. Acesso em: 05/08/2023.

Sobre as consequências e os recordes dessas ondas de calor, são feitas as seguintes afirmativas:

I - A temperatura média global em junho de 2023 foi a mais alta dos últimos anos, o que indica que as preocupações com a mudança climática estão aumentando gradualmente.

II – Jovens a adultos são o segmento populacional mais vulnerável às ondas de calor extremo.

III - As ondas de calor são apenas um dos eventos climáticos extremos causados pela mudança climática, tendo impacto principalmente na economia global.

IV - O aumento das temperaturas e as ondas de calor têm contribuído para incêndios florestais de grandes proporções em várias regiões da Terra.

Está correto o que se afirma em:

a) I e II.



- b) II e III.
- c) II e IV.
- d) I e III.
- e) I e IV.

14. Ondas de calor extremas estão atingindo diversas partes do mundo no ano de 2023. Sobre esse fenômeno climático, analise as afirmativas a seguir e assinale a alternativa correta.

- a) A mudança climática tem pouca relação com as ondas de calor, uma vez que elas são fenômenos naturais que ocorrem esporadicamente em várias regiões do mundo.
- b) Os incêndios florestais associados às ondas de calor têm contribuído para a liberação significativa de dióxido de carbono, intensificando o impacto das mudanças climáticas.
- c) As altas temperaturas durante as ondas de calor não têm relação com o aumento das emissões de gases de efeito estufa, pois são influenciadas apenas por variações sazonais.
- d) As ondas de calor são eventos isolados e não têm impacto duradouro no meio ambiente, portanto, não são consideradas relevantes para entender as mudanças climáticas.
- e) As regiões do mundo que têm enfrentado as ondas de calor não têm buscado adotar medidas contundentes para mitigar os seus efeitos, pois acreditam que esses eventos são de curta duração.

15. “A indústria cinematográfica de Hollywood enfrenta a maior greve dos últimos 60 anos, depois que os atores iniciaram uma paralisação convocada na quinta-feira (13/07). ‘Deadpool 3’, ‘Gladiador 2’, ‘Stranger Things’ e ‘The Last of Us’ estão entre as produções afetadas.”

Disponível em: <https://tinyurl.com/5n8pfhvc>. Acesso em: 05/08/2023.

Assinale a alternativa que apresenta corretamente uma das reivindicações dos produtores e roteiristas na greve:

- a) Distribuição mais justa dos lucros provenientes das exibições de filmes em plataformas de streaming, levando em consideração a popularidade das produções.
- b) Criação de diretrizes para a escolha dos locais de filmagem que minimizem o impacto ambiental.
- c) Estabelecimento de um sistema de recompensas financeiras para os filmes que alcançarem altos índices de audiência em plataformas de streaming.



d) Aumento das medidas de segurança no set de filmagens, visando a proteger os profissionais da indústria de acidentes de trabalho.

e) Promoção de campanhas de conscientização sobre a importância da diversidade e inclusão nas produções cinematográficas.

16. “O romancista Milan Kundera morreu aos 94 anos, informou nesta quarta-feira (12) uma biblioteca com a qual o autor trabalhava. Nascido na República Tcheca, Kundera satirizou regimes totalitários e misturou ironia sombria com reflexões filosóficas para explorar a condição humana.”

Disponível em: <https://tinyurl.com/mptb9kty>. Acesso em: 05/08/2023.

Uma das principais e mais marcantes obras de Milan Kundera foi:

- a) O Pequeno Príncipe.
- b) A Insustentável Leveza do Ser.
- c) Dom Quixote.
- d) Guerra e Paz.
- e) A Metamorfose.

17. “Depois de 30 anos de discussão, a Câmara dos Deputados deu um passo histórico e aprovou, na tarde desta sexta-feira (7/07), a primeira fase da reforma tributária, que reformula a tributação sobre o consumo. O texto segue para o Senado, onde precisa ser aprovado em dois turnos por, pelo menos, três quintos dos parlamentares (49 senadores) para ser promulgado.”

Disponível em: <https://tinyurl.com/5n93bhzh>. Acesso em: 07/08/2023.

Assinale a alternativa que apresenta corretamente uma das principais mudanças propostas pela PEC 45/19, aprovada pela Câmara dos Deputados sobre a reforma tributária no Brasil:

- a) Criação de um Imposto sobre a Propriedade de Veículos Automotores (IPVA) progressivo com base no impacto ambiental.
- b) Substituição do Imposto de Renda Pessoa Física (IRPF) por um Imposto de Renda Progressivo sobre Consumo (IRPC).
- c) Instituição de um Imposto sobre o Valor Agregado (IVA) dual, substituindo PIS, Cofins, IPI, ICMS e ISS.
- d) Eliminação dos impostos municipais e estaduais, centralizando a arrecadação apenas na esfera federal.



e) Isenção total de impostos para produtos importados, visando a estimular o comércio exterior.

18. “A agência de classificação de risco Fitch elevou a nota de crédito do Brasil de BB- para BB, com perspectiva estável. O país havia sido rebaixado para o patamar BB- em 2018, em meio à crise nas contas públicas e pela não aprovação, na época, da reforma da Previdência no governo de Michel Temer.”

Disponível em: <https://tinyurl.com/2782z5j7>. Acesso em: 05/08/2023.

A nova classificação ainda indica um "grau especulativo" o qual, segundo as agências de risco,

a) aponta que o Brasil está menos vulnerável ao risco no curto prazo, mas segue enfrentando incertezas em relação a condições financeiras e econômicas adversas.

b) sugere uma recuperação econômica substancial a longo prazo, eliminando quaisquer incertezas.

c) indica que o Brasil é imune a choques econômicos externos devido à sua forte estrutura fiscal.

d) denota uma classificação de risco baixa, garantindo estabilidade financeira a longo prazo.

e) reflete uma perspectiva pessimista sobre a economia brasileira, ignorando os avanços recentes.

19. De acordo com os dados divulgados pelo Instituto Brasileiro de Geografia e Estatística (IBGE), o Índice Nacional de Preços ao Consumidor Amplo (IPCA) apresentou uma variação de -0,08% em junho de 2023. Essa queda de preços foi especialmente influenciada pelos grupos de Alimentação e bebidas, além de Transportes. Essa situação é conhecida como deflação, que significa:

a) o aumento generalizado dos preços de bens e serviços em um determinado período.

b) a estabilidade nos preços de bens e serviços, sem variações significativas.

c) a queda nos preços de bens e serviços, caracterizando uma redução na inflação.

d) a elevação moderada nos preços de bens e serviços, sem causar grande impacto na economia.

e) o acréscimo nos preços de bens de consumo básico, enquanto os preços de serviços permanecem constantes.

20. “O Brasil tem 1,3 milhão de pessoas que se autodeclaram quilombolas. É o que mostram dados do Censo de 2022 divulgados pelo IBGE nesta quinta-feira (27/07).

Estes dados são inéditos, já que é a primeira vez que o Censo incluiu em seus questionários perguntas para identificar pessoas que se autodenominam quilombolas.”



Disponível em: <https://tinyurl.com/yvvd8jm2>. Acesso em: 05/08/2023.

Conforme o Censo, a região brasileira que tem o maior percentual de quilombolas é:

- a) Sul.
- b) Sudeste.
- c) Centro-Oeste.
- d) Nordeste.
- e) Norte.

21. “A empresa de petroquímica Braskem firmou um acordo, nesta sexta-feira (21/07), com a Prefeitura de Maceió de R\$ 1,7 bilhão por causar o afundamento do solo em determinados bairros ao explorar minério na capital de Alagoas.”

Disponível em: <https://tinyurl.com/ys54z3s4>. Acesso em: 05/08/2023.

Esse afundamento ocorreu devido à exploração de:

- a) gás natural nas jazidas urbanas de Alagoas.
- b) minério de ferro nas áreas de subsolo de Maceió.
- c) sal-gema em jazidas urbanas de Alagoas.
- d) petróleo e derivados em áreas de mineração de Alagoas.
- e) rochas sedimentares nas áreas subterrâneas de Maceió.

22. “A presidente do Supremo Tribunal Federal (STF), ministra Rosa Weber, lançou nesta quarta-feira (19/07) a primeira Constituição da história do Brasil traduzida para uma língua indígena.”

Disponível em: <https://tinyurl.com/3mcnxfj>. Acesso em: 05/08/2023.

Essa tradução foi realizada para qual idioma?

- a) Guarani.
- b) Kaingang.
- c) Nheengatu.



- d) Pataxó.
- e) Tupiniquim.

23. “Tornar o invisível visível é uma das missões do colar de girassol aprovado no último dia 17 como símbolo nacional de identificação de pessoas com deficiências ocultas.

A lei que institui o símbolo foi sancionada pelo vice-presidente Geraldo Alckmin (PSB) e estabelece que o uso do cordão é opcional e sua ausência não prejudica o exercício de direitos e garantias previstos em lei.”

Disponível em: <https://tinyurl.com/665ajhzu>. Acesso em: 05/08/2023.

Além de ser utilizado como símbolo de identificação de pessoas com deficiências ocultas, essa iniciativa tem como objetivo:

- a) Conceder benefícios financeiros para pessoas com deficiências ocultas.
- b) Substituir a documentação oficial de identificação de pessoas com deficiências.
- c) Garantir prioridade em filas e atendimentos em locais públicos.
- d) Promover a conscientização, a empatia e o respeito às diferenças.
- e) Fornecer atendimento médico especializado a pessoas com deficiências ocultas.

24. O presidente da República, Luiz Inácio Lula da Silva, assinou, no dia 21 de julho, um decreto que aumenta o controle sobre a liberação de armas no país, que havia sido flexibilizado pelo ex-presidente Jair Bolsonaro.

Considerando os argumentos apresentados a favor e contra a posse de armas na sociedade brasileira, assinale a alternativa que apresenta um ponto frequentemente levantado pelos defensores da posse de armas.

- a) O aumento da posse de armas contribuiria para a redução das desigualdades sociais no país.
- b) A posse de armas aumentaria a sensação de segurança das pessoas, dissuadindo criminosos de cometerem crimes.
- c) A posse de armas levaria a uma diminuição do papel das forças de segurança do Estado.
- d) A liberação das armas resultaria na diminuição da fiscalização sobre produtos comercializados no mercado.
- e) A posse de armas é popular, sendo aprovada por mais de 70% da população, portanto, deve ser autorizada.



25. No dia 26 de julho, explosões sequenciais foram registradas em um silo de secagem de grãos da C.Vale, cooperativa agroindustrial de Palotina, no oeste do Paraná. O local é um grande reservatório onde são armazenados produtos agrícolas. Oito pessoas morreram no acidente, sendo um brasileiro e sete migrantes:

- a) argentinos.
- b) bolivianos.
- c) haitianos.
- d) sírios.
- e) venezuelanos

26. Pesquisas, como o Relatório Covitel, sobre hábitos de saúde dos brasileiros, mostram que uma mudança de hábitos noturnos está sendo observada na geração Z, composta por indivíduos nascidos entre 1995 e 2010. Entre as alterações identificadas, destaca-se:

- a) a busca por opções de bebidas com ingredientes naturais, mesmo que contenham teor alcoólico elevado.
- b) a escolha por opções de bebidas com baixo ou nenhum teor alcoólico, associada a um foco em saúde e bem-estar.
- c) a tendência de substituir o consumo de álcool por bebidas energéticas, visando a prolongar as horas de diversão noturna.
- d) o aumento expressivo no consumo de bebidas alcoólicas, como forma de lidar com o estresse.
- e) o crescimento significativo na preferência por cervejas artesanais feitas por produtores locais.

27. “Cinco pessoas morreram durante uma rebelião que durou mais de 24 horas no presídio de segurança máxima Antônio Amaro Alves em Rio Branco. O fim do motim foi anunciado nesta quinta (27/07) pela Secretaria de Estado de Justiça e Segurança Pública.”

A pasta afirmou ainda que dois reféns, um policial penal e um detento que trabalhava como faxineiro, foram liberados.”

Disponível em: <https://tinyurl.com/ykjbw36d>. Acesso em: 05/08/2023. Com adaptações.

A rebelião ocorreu:

- a) no Acre.



- b) no Amazonas.
- c) em Roraima.
- d) no Rio Grande do Norte.
- e) no Ceará.

28. “A Suíça anunciou nesta quarta-feira, 5, que fará contribuições ao Fundo Amazônia. O país se tornou, assim, o quarto novo doador anunciado em 2023. Representantes do governo suíço, no entanto, não revelaram os valores do aporte inicial, que vem sendo negociado entre o país europeu e o Brasil.”

Disponível em: <https://tinyurl.com/3hfuhnmw>. Acesso em: 05/08/2023.

A respeito do Fundo Amazônia, é correto afirmar que seu maior doador histórico é:

- a) a Alemanha.
- b) a Noruega.
- c) o Reino Unido.
- d) os Estados Unidos.
- e) a União Europeia.

29. Recentes dados divulgados pelo Instituto Nacional de Pesquisas Espaciais (Inpe) trouxeram informações importantes sobre o desmatamento na Amazônia e no Cerrado no primeiro semestre de 2023.

Com base nesses dados, é correto afirmar:

- a) As ações de fiscalização e de controle têm contribuído para a redução do desmatamento na Amazônia, mas as queimadas têm apresentado um aumento preocupante.
- b) As queimadas na Amazônia e no Cerrado estão diretamente relacionadas ao fenômeno La Niña, que causou o aumento da temperatura e o ressecamento das áreas.
- c) O desmatamento no Cerrado teve uma redução de aproximadamente 21% nos primeiros seis meses de 2023, se comparado a 2022.
- d) A área desmatada na Amazônia no primeiro semestre de junho 2023 foi a menor registrada para o período nos últimos 16 anos.



e) A maior área sob alerta de desmatamento no Cerrado no primeiro semestre de 2023 está concentrada no Centro-Oeste, no estado do Mato Grosso.

30. Faleceu, no dia 17 de julho, o cantor, compositor, arranjador e multi-instrumentista brasileiro João Donato, aos 88 anos.

Assinale a alternativa que descreve uma característica marcante da abordagem musical desse artista:

- a) Sua música priorizava complexas estruturas musicais, arranjos elaborados e inspirados na música clássica.
- b) A predileção por gêneros musicais tradicionais brasileiros, como o samba e o frevo.
- c) O uso predominante de instrumentos de corda em suas composições, sendo um dos grandes responsáveis por popularizar o cavaquinho na música popular brasileira.
- d) A fusão de ritmos latinos, como o mambo e a salsa, com elementos da bossa nova.
- e) A abordagem de temas críticos ligados à política e sociedade brasileira em suas letras.

GABARITO



- | | | |
|-------|-------|-------|
| 1. E | 12. E | 23. D |
| 2. B | 13. E | 24. B |
| 3. E | 14. B | 25. C |
| 4. C | 15. A | 26. B |
| 5. A | 16. B | 27. A |
| 6. D | 17. C | 28. B |
| 7. D | 18. A | 29. A |
| 8. E | 19. C | 30. D |
| 9. D | 20. D | |
| 10. A | 21. C | |
| 11. E | 22. C | |



SIMULADO DE ATUALIDADES – AGOSTO 2023



Recentemente, a Índia alcançou um marco na exploração espacial, tornando-se o primeiro país a realizar um pouso bem-sucedido no polo sul da Lua. Esse evento histórico ocorreu em 23 de agosto de 2023, quando a sonda Chandrayaan-3 pousou com sucesso na superfície lunar.

Acerca desse fato e de seus desdobramentos, julgue os itens a seguir em C ou E (certo ou errado):

1. O polo sul da Lua corresponde a região que fica no lado escuro do satélite, uma área até então inexplorada pelo ser humano.
2. Com o sucesso da missão, a Índia juntou-se ao seleto clube de países que buscam explorar o espaço e encontrar condições propícias para a vida humana.
3. A exploração indiana confirmou a presença de moléculas de água e outras substâncias, como enxofre, cálcio e ferro.
4. Os EUA, a antiga União Soviética e o Japão são outros países que já obtiveram sucesso em alunissar naves espaciais na Lua. Nenhum desses países, no entanto, liderou missões bem-sucedidas ao polo sul.
5. O renovado interesse pela exploração da Lua está inserido no contexto do estabelecimento de futuras bases habitadas por humanos e na sua utilização com apoio para a pesquisa, exploração e colonização de Marte.
6. A nova corrida espacial não reflete o interesse geopolítico de Estados nacionais, mas sim, a busca de um novo lar para os humanos no futuro, diante das incertezas sobre o equilíbrio ambiental do planeta Terra.

O BRICS, grupo composto atualmente por Brasil, Rússia, Índia, China e África do Sul, anunciou, em agosto de 2023, o início do seu processo de ampliação dos membros. Argentina, Arábia Saudita, Egito, Emirados Árabes Unidos, Etiópia e Irã integrarão o grupo em janeiro de 2024. A decisão foi tomada na 15ª Reunião de Cúpula, realizada em Joanesburgo, África do Sul.

A respeito desse tema, julgue os itens que se seguem:



7. **A expansão do grupo fortalecerá os laços entre os países emergentes, em um cenário internacional de crescentes ações geopolíticas e econômicas de distanciamento da China e da Rússia em relação aos Estados Unidos e à Europa Ocidental.**
8. **O processo de entrada de novos membros no grupo envolveu poucas negociações e foi bem aceito por todos os países do bloco.**
9. **Após intensas negociações com a China e os outros membros do BRICS, o Brasil conseguiu assegurar o apoio explícito à sua pretensão de se tornar membro permanente do Conselho de Segurança da ONU.**
10. **Com o ingresso dos novos membros, a China deixará de corresponder a mais da metade do produto interno bruto (PIB) do grupo diplomático.**
11. **“O chefe do grupo Wagner, Yevgeny Prigozhin, foi confirmado morto após análise genética dos corpos encontrados em acidente de avião ocorrido na quarta-feira (23/8), dizem autoridades russas.”**

Disponível em: <https://tinyurl.com/2p93wnpn>. Acesso em 06/09/2023.

Sobre o grupo Wagner, liderado por Yevgeny Prigozhin, cuja morte foi confirmada após um acidente de avião, é correto afirmar que se trata de:

- a) uma organização política russa de extrema direita.
- b) uma organização humanitária que presta assistência em zonas de conflito.
- c) um grupo de mercenários russos envolvidos em operações militares em vários países.
- d) uma organização de desenvolvimento de tecnologias bélicas russa.
- e) um grupo ativista pelos direitos humanos na Rússia.

12. **A África foi testemunha de sete golpes de Estado desde agosto de 2020. O mais recente deles foi no dia 30 de agosto, no Gabão. Também no mês de agosto, militares tomaram o poder no Níger.**

Uma característica em comum entre os golpes de estado ocorridos nessas duas nações africanas foi que os golpes militares:

- a) derrubaram regimes comunistas autoritários, estabelecidos na época da Guerra Fria.
- b) ocorreram em países que são ex-colônias francesas e se tornaram independentes no século XX.
- c) encerraram longevos governos, com mais de meio século de oligarquias familiares no poder.
- d) ocorreram com apoio internacional da China e da Rússia.



e) tiveram apoio unânime da população civil, que participou do processo de tomada do poder.

13. O ex-presidente Donald Trump tornou-se na Justiça norte-americana em quatro casos diferentes. Na ocasião mais recente, ele foi detido no estado da Geórgia, onde tirou um "mug shot" (foto de réu), que viralizou nas redes sociais. Nesse estado, um procedimento padrão é o de fotografar o réu antes de ele ser liberado sob fiança.



Na Geórgia, Trump foi detido sob acusação de:

- a) desacato e tentativa de suborno às autoridades locais.
- b) guardar intencionalmente documentos secretos do Departamento de Defesa.
- c) fraude financeira ao declarar um valor maior do que possui como patrimônio.
- d) ter tentado mudar os resultados das eleições presidenciais no estado da Georgia.
- e) tentar reverter de forma ilegal as eleições presidenciais com a tentativa de um golpe de Estado.

Sobre fatos da atualidade e a situação política, economia e social de países da América Latina, julgue os itens a seguir em C ou E (certo ou errado):

14. As eleições primárias realizadas na Argentina apontam para a tendência de manutenção no poder do segmento político ligado ao presidente Alberto Fernández, apesar da deteriorada situação socioeconômica do país, com aumento do nível de pobreza.

15. Na tentativa de conter a elevada inflação, o Banco Central da Argentina tem realizado sucessivos aumentos da taxa de juros do país no período recente, o que a posiciona, atualmente, como um dos países com as maiores taxas nominais de juros no mundo.

16. O Equador vive um cenário de aumento da violência e recordes nas taxas de homicídios, relacionado ao crescimento dos cartéis de drogas e a disputa pelas rotas internacionais do narcotráfico.



17. O assassinato do candidato à presidência Fernando Villavicencio no Equador suspendeu o processo eleitoral, que deveria ser realizado em 2023 devido à invocação de uma cláusula constitucional pelo presidente Guillermo Lasso.

18. Em referendo, a maioria da população equatoriana decidiu por suspender a exploração de petróleo em uma área de floresta amazônica nativa, numa zona ambientalmente sensível, uma medida que vai ao encontro dos princípios do desenvolvimento sustentável.

19. A instabilidade política no Equador é mais um episódio na história recente da América do Sul, na última década, marcada por mudanças traumáticas de poder e crises democráticas, em um contexto de significativas desigualdades socioeconômicas no continente.

Sobre a questão migratória, de refugiados e de pessoas que buscam asilo, bem como os desafios enfrentados pelos países europeus na gestão de migrantes, julgue os itens a seguir em C ou E (certo ou errado):

20. A embarcação Bibby Stockholm, que abrigará temporariamente solicitantes de asilo no Reino Unido, recebeu críticas de organizações e ativistas que a consideram cruel e desumana devido a preocupações com superlotação e falta de apoio à saúde mental dos ocupantes.

21. As tragédias ocorridas no mar Mediterrâneo, com milhares de mortes, devido ao naufrágio de embarcações precárias e superlotadas de imigrantes sensibilizou as autoridades europeias para uma mudança de postura e o pleno acolhimento dos refugiados que chegam aos seus países.

22. Após a retomada do poder pelo grupo extremista Talibã e a progressiva restrição dos direitos humanos no país, imposta sobretudo às mulheres, os fluxos migratórios de saída do Afeganistão se intensificaram de tal modo que hoje o país está entre as cinco nações com o maior contingente de refugiados em outros países.

23. “O Japão começou nesta quinta-feira, (24/8), a liberar no mar mais de 1 milhão de toneladas métricas de água radioativa tratada da usina nuclear de Fukushima, seguindo em frente com um plano criticado pela China, que já anunciou uma proibição imediata de frutos do mar e produtos marinhos vindos do Japão.”

Disponível em: <https://tinyurl.com/5a8srsap>. Acesso em 06/09/2023

Apesar das críticas internacionais ao Japão, o país argumenta que

- a) a liberação da água radioativa é a única maneira de evitar danos futuros à usina de Fukushima.
- b) a água radioativa foi completamente tratada e não representa riscos à saúde humana ou ambiental.
- c) pretende economizar dinheiro eliminando a necessidade de armazenar a água tratada.



- d) planeja utilizar a água radioativa para a irrigação de plantações na região de Fukushima.
- e) a água será utilizada apenas em reservatórios que não mantêm contato com o oceano, na geração de energia hidrelétrica.

24. “O fogo ocupa cada vez mais espaço nas notícias. Muitos incêndios nos últimos anos têm ganhado destaque nas manchetes, vez após vez, em todo o mundo.

Os incêndios de agora não são como os de antes. Eles tornaram-se mais agressivos e estão alterando profundamente o planeta, deixando-nos no alvorecer de uma era que poderíamos chamar de piroceno.”

Disponível em: <https://tinyurl.com/ysez3tn3>. Acesso em 06/09/2023.

A respeito do conceito de piroceno, analise as afirmativas a seguir.

- I. O piroceno se refere a era onde o fogo substitui o homem no papel de escultor de paisagens.
- II. O novo conceito explora as mudanças climáticas e as suas consequências.
- III. O termo ressalta que as ações do ser humano no meio ambiente estão se intensificando.

Está correto o que se afirma em

- a) I, apenas.
- b) I e II, apenas.
- c) I e III, apenas.
- d) II e III, apenas.
- e) I, II e III.

25. “O Comitê de Política Monetária (Copom) do Banco Central decidiu nesta quarta-feira (02/8) reduzir a taxa Selic de 13,75% para 13,25% ao ano.

Esse foi o primeiro corte da taxa básica de juros em três anos. A última queda havia acontecido em agosto de 2020, em meio à fase mais aguda da pandemia de Covid-19, quando a taxa Selic caiu de 2,5% para 2% ao ano.”

Disponível em: <https://tinyurl.com/4uynh3c7>. Acesso em 06/09/2023.

Sobre a redução da taxa básica de juros, assinale a alternativa que apresenta um dos principais fatores que baseou a decisão do Copom de reduzi-la:



- a) Reduzir o déficit fiscal do governo e impulsionar o mercado de ações.
- b) Combater a elevada taxa de inflação no país e estimular o crescimento econômico.
- c) Cumprir as metas de inflação para o ano vigente e combater a deflação no mercado.
- d) A necessidade de conter a valorização da moeda nacional, que vinha se desvalorizando frente ao dólar e o euro.
- e) A redução das expectativas de inflação e o cenário de desinflação.

26. A Câmara dos Deputados aprovou a primeira fase da reforma tributária, um marco, após décadas de discussões. Essa reforma visa, entre outras coisas, à simplificação e à unificação de tributos sobre o consumo.

Sobre a reforma tributária em questão, assinale a alternativa correta:

- a) Estabelece a redução das alíquotas para todos os setores da economia, buscando promover a competitividade e o crescimento de empresas de todos os portes.
- b) Prevê a extinção de cinco impostos federais, estaduais e municipais e a sua substituição por um imposto sobre o valor agregado.
- c) Acaba com a “guerra fiscal”, pois o imposto sobre os produtos e serviços serão cobrados na origem e não no local de consumo, como ocorre atualmente.
- d) Não prevê mudança na tributação sobre patrimônio.
- e) Cria um sistema de cashback para os contribuintes, em que parte do valor do imposto pago será devolvido, com o objetivo de reduzir as desigualdades de renda, raça e gênero.

O Banco Central do Brasil anunciou o nome da nova moeda digital do Brasil: Drex, que também tem sido popularmente chamado de ‘real digital’. Ela está em fase de testes e a previsão é de que até o fim de 2024 seu uso seja liberado à população.

A respeito das moedas digitais e de novas tecnologias do mercado financeiro, julgue os itens a seguir em C ou E (certo ou errado):

27. Uma moeda digital nada mais é do que uma representação digital de uma moeda específica, uma extensão das tradicionais cédulas físicas de dinheiro, mas transacionada exclusivamente no ambiente digital.

28. Ao lançar o Drex, o Banco Central tem como principais objetivos diminuir os custos de operações bancárias – como a emissão de papel-moeda – e ampliar o contingente de pessoas no mercado financeiro.



29. Apesar de não ser considerada uma criptomoeda, o real digital possuirá características em comum com essas, como a emissão e custódia descentralizadas cuja segurança é conferida pela rede distribuída de usuários denominada de blockchain.

30. Por terem a sua contabilidade totalmente rastreada pela tecnologia de blockchain, as moedas digitais tem se mostrado imunes aos roubos e a sua utilização em atividades criminosas.

Foram divulgados nesta segunda-feira (7/08) os primeiros dados do Censo 2022 sobre os povos indígenas, trabalho realizado pelo Instituto Brasileiro de Geografia e Estatística (IBGE) com o apoio da Fundação Nacional dos Povos Indígenas (Funai).

Disponível em: <https://tinyurl.com/538z96wb>. Acesso em 06/09/2023.

A respeito da população indígena do Brasil, julgue os itens a seguir em C ou E (certo ou errado):

31. O levantamento aponta que a população indígena do país chegou a 1,69 milhão pessoas, o que representa menos de 1% dos habitantes do Brasil.

32. Os números mostram um grande aumento da população indígena em relação aos dados do último Censo, em 2010. Esse aumento foi atribuído, entre outros fatores, ao crescimento vegetativo da população indígena.

33. Conforme o IBGE, mais da metade da população indígena vive fora dos territórios indígenas oficialmente delimitados, encontrando-se concentrada em áreas urbanas das regiões Sudeste e Centro-Oeste.

34. O território indígena com maior número de pessoas indígenas é a Terra Indígena Raposa Serra do Sol, localizada no estado de Roraima, que enfrenta uma situação de emergência de saúde pública, devido ao garimpo ilegal em suas terras.

35. A tese do marco temporal tem sido bem aceita pelos indígenas por reafirmar que as terras tradicionalmente ocupadas pelos índios são as por eles habitadas em caráter permanente, garantido os direitos originários nos termos da Constituição Federal.

36. O Supremo Tribunal Federal (STF) retomou em agosto o julgamento de uma ação relacionada à maconha, droga ilícita mais consumida no país. Assinale a alternativa que apresenta corretamente qual é um dos principais pontos discutidos nesse julgamento:

a) A legalização do uso recreativo da maconha e a regulamentação desse mercado, a exemplo do que ocorre em outros países.

b) A reintrodução da pena de prisão para usuários, por violar os princípios constitucionais da “intimidade” e da “vida privada”.



- c) A possibilidade de distinguir entre usuário e traficante com base na quantidade de maconha.
- d) A discussão sobre a legalização de todas as drogas atualmente proibidas.
- e) A legalidade do uso medicinal da planta no país.

37. Entre os dias 8 e 9 de agosto, foi realizada a Cúpula da Amazônia de 2023 em Belém (PA). Sobre esse tema, são feitas as seguintes afirmativas.

- I. Os países concordaram com a proposta brasileira de zerar o desmatamento da floresta até 2030.
- II. Na Cúpula da Amazônia de 2023, vários tópicos foram discutidos e acordados pelos países amazônicos, no entanto, a proposta de acabar com a exploração de petróleo na Amazônia não obteve avanços.
- III. A realização da Cúpula se insere nos movimentos recentes da diplomacia brasileira de maior integração da América do Sul e de reafirmação do Brasil como um protagonista ativo no debate ambiental internacional.

Está correto o que se afirma em

- a) I, apenas.
- b) I e II, apenas.
- c) I e III, apenas.
- d) II e III, apenas.
- e) I, II e III.

Gabarito: D

38. Recentemente, uma importante capital estadual brasileira instituiu um decreto que regulamenta a proibição do uso de aparelhos celulares dentro das salas de aula das escolas da rede municipal.

Assinale a alternativa que apresenta corretamente em qual capital foi tomada essa medida:

- a) Palmas (TO).
- b) Fortaleza (CE).
- c) Florianópolis (SC).
- d) Rio de Janeiro (RJ).



e) Goiânia (GO).

39. Foi realizado, no mês de agosto, a 51ª edição do Festival de Cinema de Gramado, no Rio Grande do Sul. O evento é um dos três principais festivais que promovem lançamentos do cinema brasileiro, ao lado da Mostra de Tiradentes, em Minas Gerais, e do Festival de Brasília.

O grande vencedor da noite, levando seis das categorias amplas, incluindo a de melhor filme, foi o longa-metragem:

- a) Uma Família Feliz
- b) Mais Pesado É o Céu
- c) Mussum, O Filmis
- d) Tia Virgínia
- e) O Barulho da Noite

40. Os fragmentos textuais a seguir retratam a vida e obra de duas importantes personalidades do meio cultural brasileiro, que faleceram no mês de agosto de 2023:

I. Historiador e membro da Academia Brasileira de Letras (ABL). Eleito imortal da ABL em 2004, sucedeu a escritora cearense Rachel de Queiroz e ocupava a cadeira nº 5. Autor de 19 livros, entre suas obras mais famosas estão A cidadania no Brasil e Os bestializados.

II. Atriz, filha de refugiados armênios, teve mais de 60 anos de carreira dedicados à TV, ao teatro e ao cinema. Marcou a televisão com papéis como Cassandra, em Sai de Baixo (1996-2002), e dona Armênia, em Rainha da Sucata (1990).

As descrições referem-se, respectivamente, a:

- a) José Murilo de Carvalho - Aracy Balabanian
- b) Paulo Niemeyer Filho – Eva Wilma
- c) José Murilo de Carvalho – Eva Wilma
- d) Ricardo Cavaliere - Aracy Balabanian
- e) Ricardo Cavaliere – Glória Menezes



GABARITO



- | | | |
|-------|-------|-------|
| 1. C | 15. C | 29. E |
| 2. C | 16. C | 30. E |
| 3. E | 17. E | 31. C |
| 4. E | 18. C | 32. C |
| 5. C | 19. C | 33. E |
| 6. E | 20. C | 34. E |
| 7. C | 21. E | 35. E |
| 8. E | 22. C | 36. C |
| 9. E | 23. B | 37. D |
| 10. E | 24. E | 38. D |
| 11. C | 25. E | 39. C |
| 12. B | 26. B | 40. A |
| 13. D | 27. C | |
| 14. E | 28. C | |



SIMULADO DE ATUALIDADES – SETEMBRO 2023



Foi realizada, no mês de setembro, a 18ª Cúpula de Líderes do G20, em Nova Délhi, capital da Índia, onde o bloco decidiu por incluir a União Africana (UA) como membro permanente do bloco.

Sobre essa decisão e outros acontecimentos relevantes dessa cúpula, julgue os itens a seguir em C ou E (certo ou errado):

1. O G20, ou Grupo dos Vinte, é uma organização internacional formada pelos principais países ricos e emergentes do mundo mais a União Europeia.
2. A presença da União Africana no G20 é reflexo do reconhecimento do peso econômico e geopolítico do continente africano, mas também uma novidade, já que a inclusão de países africanos em fóruns internacionais nunca foi discutida anteriormente.
3. A guerra entre Rússia e Ucrânia esteve entre os temas abordados na Cúpula e a posição do Brasil foi de pressionar a comunidade internacional para intervir no conflito, posicionando-se ao lado da Ucrânia.
4. O presidente da Rússia, Vladimir Putin, não compareceu à Cúpula, pois foi recentemente condenado pelo Tribunal Penal Internacional (TPI) por crimes de guerra e corria o risco de ser preso.
5. Brasil, Índia e Estados Unidos aproveitaram a reunião para lançar uma Aliança Global de Biocombustíveis a fim de estimular a produção e o uso desse tipo de combustível, especialmente o etanol, do qual são grandes produtores.
6. O Brasil assumirá a presidência rotativa do G20 em 1º de dezembro de 2023 para um mandato de um ano e a cúpula de 2024 será realizada em Belém, capital do estado do Pará.
7. “A 78ª Assembleia-Geral da ONU começa nesta terça-feira (19 set.) na sede da entidade em Nova York. Tradicionalmente, o Brasil abre a sequência de discursos de chefes de Estado e de governo.

O presidente Lula, que volta à ONU depois de 14 anos, deve fazer uma contundente defesa da reforma do sistema de governança global —demanda histórica da diplomacia brasileira.”

Disponível em: <https://tinyurl.com/48wzhzj5>.

Sobre a Assembleia-Geral da ONU, são feitas as seguintes afirmativas:



I - É formada pelos 193 países-membros que constituem a Organização das Nações Unidas (ONU), reunindo-se anualmente em Nova York, onde fica a sede da organização, entre os meses de setembro e dezembro.

II - Tem entre suas principais funções aprovar o orçamento anual da organização, aprovar a indicação do secretário-geral e dos países que ocuparão as vagas rotativas do Conselho de Segurança.

III - É conhecida pela sua condição desigual, uma vez que somente os membros permanentes do Conselho de Segurança tem direito ao voto nas decisões que são tomadas.

Está correto o que se afirma em:

- a) Apenas I.
- b) Apenas II.
- c) Apenas III.
- d) Apenas I e II.
- e) Apenas II e III.

8. “Os governos de Brasil e Estados Unidos vão lançar um comunicado conjunto nesta quarta-feira (20 set.), após a reunião bilateral entre os presidentes Luiz Inácio Lula da Silva e Joe Biden, em que defendem a necessidade de ‘colocar os trabalhadores no centro das decisões políticas’. Os dois líderes estão em Nova York, na Assembleia-Geral da ONU (Organização das Nações Unidas).”

Disponível em: <https://tinyurl.com/7fwea8ek>.

O comunicado conjunto lançado pelos presidentes Lula e Biden destaca:

- a) o princípio da não intervenção nas questões políticas internas dos países.
- b) a importância de eliminar barreiras tarifárias no comércio internacional que prejudicam a geração de empregos.
- c) a urgência de fortalecer as relações diplomáticas entre Brasil e Estados Unidos.
- d) o compromisso mútuo em promover medidas para a adoção de uma agenda sustentável.
- e) a preocupação com a crescente precarização do trabalho a nível global.

9. “O governo armênio de Nagorno-Karabakh anunciou nesta quinta-feira a dissolução de sua república separatista para janeiro de 2024, uma semana após a vitória militar do Azerbaijão, o que forçou



a fuga de mais da metade da população da região. A ofensiva da semana passada deixou 213 mortos do lado armênio e 192 soldados e um civil do lado azerbaijano, segundo Baku.”

O Globo, publicado em 29/09/2023. Disponível em: <https://tinyurl.com/mv3fxuhz>.

A origem do conflito entre Armênia e Azerbaijão está relacionada a questões:

- a) Neocolonialistas.
- b) Econômicas.
- c) Étnicas.
- d) Imperialistas.
- e) Ideológicas.

10. "A Câmara e o Senado dos Estados Unidos aprovaram no final do mês de setembro uma legislação que evita a ocorrência de “shutdown” por parte do governo norte-americano. A aprovação vem depois de semanas de entraves na Casa Baixa do Capitólio, controlada pelos republicanos.

O projeto foi aprovado por 335 votos a favor e 91 votos contrários na Câmara dos Representantes. No Senado, a legislação que evita o “shutdown” recebeu 88 votos favoráveis e 9 contrários."

Poder 360, com adaptações. Publicado em 30/09/2023. Disponível em: <https://tinyurl.com/a6fbbjzd>.

A respeito do ‘shutdown’ mencionado no fragmento de notícia, é correto afirmar que ele se trata:

- a) de uma paralisação temporária dos principais serviços públicos devido à falta de verbas.
- b) da impossibilidade de o Poder Executivo tomar decisões relacionadas à política externa.
- c) de uma situação de emergência nacional declarada pelo Congresso, com toque de recolher.
- d) de uma estratégia econômica de maior controle financeiro e contenção de gastos do governo norte-americano.
- e) de um mecanismo constitucional que prevê a dissolução do Congresso e convocação de novas eleições.

11. “A Índia expulsou um importante diplomata do Canadá nesta terça-feira, 19 de set., e acusou o Canadá de interferir nos seus assuntos internos, intensificando um confronto entre os dois países [...]”

Exame, 19/09/2023. Disponível em: <https://tinyurl.com/3eup9whw>. Adaptado.

A disputa diplomática entre o Canadá e a Índia está relacionada:



- a) à participação de Justin Trudeau em um evento separatista da região indiana do Punjab.
- b) a declarações xenofóbicas do primeiro-ministro canadense, Justin Trudeau, sobre imigrantes indianos.
- c) a alegações do primeiro-ministro canadense, Justin Trudeau, sobre o envolvimento do governo indiano no assassinato de um ativista sikh em solo canadense.
- d) à recusa do Canadá em se reunir com líderes indianos durante a reunião anual de cúpula do G20.
- e) à decisão do Canadá de interromper as negociações para um acordo comercial com a Índia.

12. Foi realizada no mês de setembro de 2023 em Havana, Cuba, a Cúpula que tem como objetivo discutir os desafios de desenvolvimento dos países do Sul Global. O tema da Cúpula de 2023 foi: “Os desafios atuais para o desenvolvimento: o papel da ciência, da tecnologia e da inovação”.

A respeito do G77 e de assuntos relacionados, assinale a alternativa INCORRETA:

- a) O Grupo dos 77 países, fundado em 1964, conta atualmente com 134 estados-membros que representam 80% da população mundial.
- b) Participam do grupo somente países do Hemisfério Sul, por isso, a denominação de Sul Global.
- c) A Austrália e a Nova Zelândia são países do chamado Norte Global.
- d) A China é listada como membro do grupo, porém, o governo chinês diz que não participa formalmente do bloco, mas o apoia.
- e) O grupo tem como objetivo fomentar a cooperação econômica entre os seus membros e promover o desenvolvimento.

13. “O Irã e a Arábia Saudita intercambiaram embaixadores e retomaram formalmente as relações diplomáticas nesta 4ª feira (6.set.2023). Os países, que defendem lados opostos em zonas de conflito no Oriente Médio, chegaram a um acordo em março para recuperar os vínculos bilaterais. Estavam rompidos desde 2016.”

Poder 360, 06/09/2023. Disponível em: <https://tinyurl.com/59tb5kxb>.

Qual é o principal contexto que levou ao rompimento das relações diplomáticas entre Irã e Arábia Saudita em 2016?

- a) Disputas territoriais na região do Golfo Pérsico.
- b) Conflitos étnicos entre a população saudita e iraniana na fronteira entre os dois países.



- c) A invasão de sedes diplomáticas sauditas por manifestantes iranianos.
- d) Conflitos comerciais relacionados ao petróleo e às suas exportações.
- e) Questões relacionadas à expansão de influência política na região do Oriente Médio.

14. Há 50 anos, no dia 11 de setembro de 1973, as Forças Armadas, lideradas pelo general Augusto Pinochet, deram um golpe de Estado, que encerrou o governo socialista e democrático de Salvador Allende.

A partir de então, durante 17 anos, o Chile passou por uma ditadura militar que se caracterizou por destruir o sistema democrático, encerrar os partidos políticos, dissolver o Congresso Nacional, restringir o quanto pode os direitos civis e políticos e por violar direitos humanos básicos.

Apesar da retomada democrática, as heranças desse período continuam a se fazer presentes na sociedade chilena. A principal é a sua Constituição, criada durante o governo de Pinochet e vigente até hoje.

O país tem buscado criar uma nova Carta Magna em substituição à herdada pela ditadura militar. O movimento mais recente ocorreu em 2021, quando uma nova Constituição foi elaborada e submetida à população para que aprovasse ou rejeitasse a nova Constituição.

Qual foi o resultado do plebiscito realizado em 2021 no Chile sobre a proposta de uma nova Constituição?

- a) A nova Constituição foi aprovada por maioria absoluta da população chilena.
- b) A população rejeitou a proposta de uma nova Constituição, tendo a maioria dos votos.
- c) O plebiscito foi cancelado devido a irregularidades no processo de votação.
- d) O novo texto obteve a maioria dos votos, mas não alcançou os dois terços necessários para a sua chancela como a nova Carta Magna do país.
- e) A proposta de uma nova Constituição foi adiada para ser decidida em um plebiscito futuro.

15. “O terremoto que atingiu a região central do Marrocos na 6ª feira (8.set.2023) foi o mais mortal na região desde 1960. O epicentro registrado na cidade de Marrakech marcou 6,8 pontos na escala Richter e já deixou mais de 2.000 mortos. A região não costuma ter abalos sísmicos dessa magnitude.”

Poder 360. Disponível em: <https://tinyurl.com/3ckdt74n>.

A respeito terremoto que atingiu a região central do Marrocos em setembro de 2023, assinale a alternativa correta:

- a) Foi causado por uma erupção vulcânica próxima à região de Marrakech.



- b) O epicentro estava localizado diretamente no limite entre as placas tectônicas.
- c) Ocorreu em uma região considerada estável, longe do limite entre as placas tectônicas.
- d) O terremoto foi classificado como "interplaca" devido à sua intensidade.
- e) O terremoto ocorreu em uma região com histórico de atividade sísmica frequente.

16. Fortes chuvas causadas pela tempestade mediterrânea Daniel, combinadas com o rompimento de duas barragens, causaram inundações fatais no país. Pelo menos 11.300 pessoas morreram e outras 10,1 mil estavam desaparecidas na cidade costeira de Derna, conforme relatório divulgado pela Organização das Nações Unidas (ONU).

O rompimento das barragens ocorreu na noite de domingo do dia 10 de setembro.

Assinale a alternativa que apresenta corretamente qual o país em que ocorreu o rompimento das barragens:

- a) Argélia.
- b) Líbia.
- c) Tunísia.
- d) Marrocos.
- e) Síria.

17. “A Índia registrou mais um surto do vírus Nipah. Segundo as últimas informações divulgadas, os cinco casos e as duas mortes aconteceram no Estado de Kerala, no sul do país. Esse é o quarto episódio de infecções relacionadas a esse patógeno nesta região indiana desde 2018.”

BBC News Brasil. Publicado em 15/09/2023. Disponível em: <https://tinyurl.com/3cedwc8t>.

Acerca do vírus Nipah, assinale a alternativa que apresenta corretamente qual é o seu principal reservatório natural e como ele é transmitido para os seres humanos:

- a) Os reservatórios naturais são os porcos e a transmissão ocorre pelo consumo de carne contaminada.
- b) Os reservatórios naturais são os roedores e a transmissão ocorre por meio de picadas de insetos vetores.
- c) Os reservatórios naturais são os morcegos e a transmissão ocorre por meio do contato direto com os morcegos ou seus fluidos corporais.
- d) Os reservatórios naturais são as aves e a transmissão ocorre pelo consumo de ovos contaminados.



e) Os reservatórios naturais são os primatas e a transmissão ocorre por contato com urina e fezes de primatas infectados.

18. “O presidente da Federação Espanhola de Futebol (RFEF), Luis Rubiales, anunciou, neste domingo (10/9), oficialmente a renúncia do cargo, após beijar, sem consentimento, a jogadora Jenni Hermoso durante cerimônia de entrega do prêmio de campeãs no título espanhol na Copa do Mundo Feminina realizada na Austrália e Nova Zelândia entre julho e agosto.”

Correio Braziliense. Disponível em: <https://tinyurl.com/3tn6ynnu>.

Com base nas informações fornecidas, qual das seguintes opções descreve a reação da jogadora sobre o fato?

- a) Ela inicialmente elogiou o gesto e considerou-o um ato de carinho entre amigos.
- b) Ela não expressou publicamente sua opinião sobre o beijo forçado.
- c) Ela repreendeu veementemente o presidente e exigiu ações exemplares.
- d) Ela minimizou a importância do incidente e afirmou que não foi um gesto inadequado.
- e) Ela rejeitou as críticas e se posicionou a favor do presidente da Federação.

19. Criador do conceito de "ócio criativo", autor de mais de 20 livros e um dos pensadores mais influentes do final do século XX, o sociólogo italiano Domenico De Masi morreu, no dia 9 de setembro, aos 85 anos, em Roma.

Ele foi professor emérito de Sociologia do trabalho na Universidade Sapienza, de Roma, e reitor da Faculdade de Ciências da Comunicação dessa mesma instituição.

Entre as suas obras, está o *best-seller* "O Ócio Criativo", de 1995, que defende a noção de que o tempo livre não é algo necessariamente negativo porque pode estimular a criatividade pessoal.

Com base nas ideias de Domenico De Masi, assinale a alternativa que reflete corretamente uma de suas principais crenças sobre o conceito de "ócio criativo" e o papel do trabalho na sociedade moderna:

- a) O trabalho é essencial para a produção de riqueza, mas o ócio criativo é uma forma de evitar a mecanização do trabalho e estimular a criatividade.
- b) O trabalho é uma atividade desnecessária na sociedade moderna e deveria ser eliminado em favor do estudo e do lazer.
- c) O ócio criativo é uma forma de inatividade que prejudica a produtividade e a economia, de acordo com a teoria de De Masi.



d) O estudo é a única atividade que pode estimular a criatividade, e o trabalho é uma atividade meramente mecânica que não permite o desenvolvimento individual.

e) A diversão e o lazer são as únicas atividades que podem proporcionar alegria na sociedade moderna, segundo a visão de Domenico De Masi.

20. O Instituto Brasileiro de Geografia e Estatística (IBGE) divulgou, no dia 1º de setembro, o resultado da economia brasileira no segundo trimestre de 2023. Sobre esse resultado, é correto afirmar que:

a) foi de 2,2%, o maior crescimento trimestral dos últimos três anos.

b) foi de 0,9%, um crescimento acima do esperado pelos analistas.

c) foi de 0,3%, um crescimento econômico baixo.

d) foi de -0,2%, o primeiro crescimento negativo nos últimos três anos.

e) foi de 0,1%, o que se considera um cenário de estagnação do crescimento econômico.

21. “O Comitê de Política Monetária (Copom) do Banco Central decidiu, nesta quarta-feira (20 set.), reduzir a taxa Selic de 13,25% ao ano para 12,75% ao ano.

A decisão foi unânime. Todos os diretores votaram pela redução.”

G1, 20/09/2023. Disponível em: <https://tinyurl.com/5n7nz7rf>.

A taxa Selic é um índice relacionado

a) à projeção da inflação para os 12 meses subsequentes.

b) à taxa de câmbio entre o real brasileiro e o dólar norte-americano.

c) ao balanço de pagamentos do setor público consolidado.

d) à taxa de desemprego atual no país.

e) à taxa básica de juros da economia brasileira.

22. A Câmara dos Deputados aprovou, em setembro de 2023, a Proposta de Emenda à Constituição (PEC) 16/21, que altera regras sobre a perda de nacionalidade brasileira para aqueles que obtêm outra nacionalidade.



A respeito das novas regras sobre nacionalidade estabelecidas por essa PEC, é correto afirmar que:

- a) A perda da nacionalidade brasileira se manterá automática para todos os casos de aquisição de outra cidadania.
- b) A nacionalidade brasileira será mantida mesmo para aqueles que renunciarem à cidadania brasileira.
- c) A múltipla cidadania será proibida para todos os brasileiros, independentemente das circunstâncias.
- d) A perda da nacionalidade brasileira só ocorrerá mediante sentença judicial específica.
- e) A nacionalidade brasileira será reconhecida apenas para aqueles que nasceram em território brasileiro.

23. O Brasil é um dos principais produtores agropecuários e exportadores de alimento do mundo. No mês de setembro de 2023, segundo dados do Departamento de Agricultura dos Estados Unidos (USDA), referentes à safra 2022/2023, o Brasil ultrapassou os Estados Unidos e se tornou o maior exportador mundial de:

- a) café.
- b) açúcar.
- c) soja.
- d) milho.
- e) carne bovina.

24. No dia 28 de setembro de 2023, foi empossado o novo presidente Supremo Tribunal Federal (STF), herdando o posto ocupado pela ministra Rosa Weber, que se aposentou após quase 12 anos na Corte.

Assume como novo presidente do STF:

- a) Alexandre de Moraes.
- b) Luís Roberto Barroso.
- c) Edson Fachin.
- d) Cármen Lúcia.
- e) Dias Toffoli.



25. “O brasileiro conquistou, neste sábado (9 set.), o bicampeonato da Liga Mundial de Surfe (WSL, pela sigla em inglês). Paulista de Ubatuba, o surfista de 28 anos venceu a etapa final do circuito (WSL Finals), disputada em Lower Trestles, nos Estados Unidos. Na decisão, ele superou o australiano Ethan Ewing duas vezes, em uma melhor de três baterias.”

Disponível em: <https://tinyurl.com/msas2555>.

O surfista brasileiro retratado pelo enunciado é:

- a) Gabriel Medina.
- b) Caio Ibelli
- c) Ítalo Ferreira.
- d) Filipe Toledo.
- e) Lucas Chumbo.

GABARITO



- | | | |
|------|-------|-------|
| 1. C | 10. A | 19. A |
| 2. E | 11. C | 20. B |
| 3. E | 12. B | 21. E |
| 4. C | 13. C | 22. B |
| 5. C | 14. B | 23. D |
| 6. E | 15. C | 24. B |
| 7. D | 16. B | 25. D |
| 8. E | 17. C | |
| 9. C | 18. C | |



SIMULADO DE ATUALIDADES – OUTUBRO 2023



No dia 7 de outubro de 2023, irrompeu mais um conflito armado entre Israel e o Hamas. Tel Aviv declarou guerra, após o grupo armado realizar um ataque terrorista que deixou em torno de 1.400 mortos no Sul do país. O Hamas também sequestrou mais de 200 israelenses. Após um mês de guerra, os números são dramáticos: 10 mil palestinos mortos pelos ataques israelenses, desses 2,6 mil mulheres e 4,6 mil crianças. A tragédia humanitária, econômica e social é imensa em várias áreas. Assim, segue o drama do povo palestino de Gaza, em meio a mais um capítulo de uma luta que se arrasta a pelo menos sete décadas, a de criação de um Estado Nacional Palestino.

Sobre o conflito entre Israel e Palestina e seus múltiplos aspectos relacionados, julgue os itens a seguir em C ou E (certo ou errado):

1. O Hamas se denomina como um movimento de resistência islâmica que surgiu após a Primeira Intifada (revolta palestina) contra a ocupação israelense na Cisjordânia e Faixa de Gaza. Além de lutar pela formação do Estado Independente da Palestina, o grupo se opõe à existência do Estado de Israel.
2. A proporção do ataque realizado pelo Hamas surpreendeu o Estado de Israel, deixando o primeiro-ministro Benjamin Netanyahu sob enorme pressão, culminando com a abertura de um processo de impeachment comandado pela oposição.
3. A comunidade internacional, por meio do Conselho de Segurança das Nações Unidas e a Assembleia Geral da ONU, repudiou os ataques do Hamas contra Israel e posicionou-se favorável à declaração de guerra e à ocupação israelense da Faixa de Gaza.
4. Após o início da invasão israelense aos territórios palestinos, os países da Liga Árabe impuseram sanções econômicas e diplomáticas ao estado de Israel, entendendo que a reação do país, embora justa, tem sido extremamente desproporcional.
5. No início da guerra, Israel impôs um bloqueio a entrada de água, comida e suprimentos à região, ação considerada um crime de guerra e proibida pela Organização das Nações Unidas (ONU).
6. O grupo xiita libanês Hezbollah declarou que participará do conflito, pois apoia a causa palestina e fornece armamentos ao Hamas. O grupo tem combatido a ofensiva israelense na Faixa de Gaza e realizado atentados terroristas em Israel.
7. A criação de Israel amplificou o conflito entre judeus e árabes palestinos que viviam na região. A criação do Estado judeu e a partilha da Palestina pela ONU não foi aceita pelos árabes, resultando na Guerra árabe-israelense de 1948.



8. O Hamas é considerado por boa parte dos países como um movimento de resistência legítimo, recebendo apoio considerável de nações que se opõe à influência de Israel e dos Estados Unidos no Oriente Médio, como o Irã, a Arábia Saudita e inclusive a Rússia e a China.

9. A Faixa de Gaza é um território palestino localizado em um estreito pedaço de terra na Costa Oeste de Israel, na fronteira com o Egito. A região foi tomada por Israel na Guerra dos Seis Dias e entregue aos palestinos em 2005 para fazer parte do Estado da Palestina.

10. A solução de referência da comunidade internacional para o fim das disputas entre os dois povos é a criação de um Estado palestino que coexista em paz com Israel. O conflito já resultou em muitas tentativas de paz, mas com poucos resultados práticos.

11. A ativista iraniana Narges Mohammadi foi laureada com o Prêmio Nobel da Paz 2023. Ela recebeu o prêmio devido à sua destacada atuação na:

- a) promoção da liberdade de imprensa no Irã.
- b) defesa dos direitos das crianças no Oriente Médio.
- c) contribuição para a resolução do conflito entre Israel e Palestina.
- d) implementação de medidas contra as mudanças climáticas no Oriente Médio.
- e) luta contra a opressão do regime iraniano e pelos direitos das mulheres.

12. O Prêmio Nobel de Física de 2023 foi concedido a Pierre Agostini, Ferenc Krausz e Anne L'Huillier por suas contribuições significativas para a comunidade científica. Eles foram reconhecidos :

- a) pelos avanços na exploração do espaço interestelar e descobertas relacionadas à origem do universo.
- b) pela exploração do mundo subatômico e compreensão dos processos rápidos nos átomos.
- c) pelas inovações em inteligência artificial aplicada à física teórica.
- d) pelos avanços na área chamada de medicina quântica, que trata da cura de doenças utilizando a luz.
- e) pelo desenvolvimento de novas tecnologias de energia limpa.

13. Os cientistas Katalin Karikó e Drew Weissman, laureados com o Prêmio Nobel de Medicina de 2023, foram reconhecidos pelo desenvolvimento revolucionário de vacinas contra a covid-19. A sua contribuição fundamental para a ciência se relaciona com:

- a) a manipulação do DNA humano diretamente nos ribossomos.



- b) a descoberta de um novo agente infeccioso para a produção de vacinas.
- c) a modificação do mRNA, possibilitando a produção rápida de vacinas sintéticas.
- d) a pesquisa sobre a estrutura do citoplasma das células.
- e) o isolamento e cultivo de vírus em laboratório para a produção de imunizantes.

14. A vencedora do Prêmio Nobel de Economia de 2023, Claudia Goldin, foi premiada pelos seus estudos relacionados:

- a) às mudanças climáticas e seu impacto negativo na economia global.
- b) ao desenvolvimento de modelos de inteligência artificial aplicados à previsão econômica.
- c) às desigualdades sociais e raciais no mercado de trabalho e à ausência de políticas governamentais para reduzir essas desigualdades.
- d) às disparidades de gênero no mercado de trabalho, destacando a influência das escolhas feitas por mulheres jovens em fases cruciais de suas carreiras.
- e) à promoção de políticas de comércio internacional para países em desenvolvimento.

15. "Sergio Massa, o candidato da coligação governista e atual ministro da Economia da Argentina, terminou na frente no primeiro turno das eleições do país neste domingo (22 out.). Ele não era o favorito, e o resultado é considerado surpreendente. Massa vai concorrer no segundo turno da disputa presidencial, marcado para 19 de novembro, com Javier Milei."

G1, 22/10/2023. Disponível em: <https://tinyurl.com/ye24f2sm>. Acesso em: 08/11/2023.

Considerando os resultados do primeiro turno das eleições presidenciais na Argentina, marque a opção que apresenta corretamente as características políticas e ideológicas dos dois candidatos à presidência que disputarão o segundo turno:

- a) Sergio Massa, um candidato de direita que defende privatizações e a redução da máquina pública, e Javier Milei, um candidato peronista de centro-esquerda.
- b) Sergio Massa, um candidato de esquerda que propõe a dolarização da economia, e Javier Milei, um candidato populista adepto do liberalismo econômico.
- c) Sergio Massa, um candidato peronista de centro-esquerda, e Javier Milei, um candidato de direita que se declara "anarcocapitalista".



d) Sergio Massa, um candidato de esquerda que defende a privatização dos sistemas de saúde e educação, e Javier Milei, um candidato peronista de extrema direita.

e) Sergio Massa, um candidato de direita que propõe a dolarização da economia, e Javier Milei, um candidato peronista de centro-esquerda.

16. "No último dia 22 (out.), políticos de oposição da Venezuela organizaram uma votação para decidir quem será o candidato nas eleições de 2024. A vencedora foi Maria Corina Machado."

Disponível em: <https://tinyurl.com/3rapfhz5>. Acesso em: 08/11/2023.

Considerando fatos recentes da política venezuelana, assinale a alternativa correta.

a) A Suprema Corte venezuelana validou os resultados das primárias da oposição, confirmando Maria Corina Machado como a candidata rival de Nicolás Maduro nas eleições à Presidência.

b) A Suprema Corte anulou as primárias da oposição, suspendendo o resultado e determinando a apresentação de documentos relacionados à sua realização.

c) O governo dos Estados Unidos anunciou a retirada temporária das sanções ao petróleo, gás e ouro venezuelanos, mas a suspendeu após a não libertação de presos políticos pelo regime de Maduro.

d) A negociação entre o governo e a oposição não envolveu a presença de observadores no pleito presidencial de 2024.

e) O governo dos Estados Unidos anunciou a suspensão do embargo ao petróleo venezuelano como uma resposta positiva às primárias da oposição, reconhecendo a transparência do processo.

17. Daniel Noboa foi eleito, no dia 15 de outubro de 2023, o novo presidente do Equador. Considerando as recentes eleições nesse país, assinale a alternativa correta sobre o novo presidente eleito e o contexto eleitoral do país:

a) Daniel Noboa foi apoiado pelo ex-presidente Rafael Correa e ao longo de sua campanha foram levantadas suspeitas de seu envolvimento em casos de corrupção.

b) A vitória de Daniel Noboa na eleição presidencial foi marcada por um ambiente pacífico, sem incidentes graves, refletindo a estabilidade política do Equador.

c) A campanha eleitoral deste ano foi marcada por casos de violência política, forçando a realização de eleições antecipadas.

d) Com 35 anos, Daniel Noboa tornou-se o presidente mais jovem da história do Equador, vencendo Luisa González por uma margem pequena de votos.



e) Guillermo Lasso, o presidente em exercício antes das eleições antecipadas, optou por concorrer novamente, mas enfrentou forte oposição do partido correísta, o que levou à sua derrota.

18. Está em curso no Mercosul — bloco econômico composto por Brasil, Argentina, Uruguai, Paraguai e Venezuela — o processo de união de um novo membro ao bloco. Recentemente, no mês de outubro, a Câmara dos Deputados aprovou a entrada desse novo membro ao bloco. Esse país é o(a):

- a) Bolívia.
- b) Chile.
- c) Peru.
- d) Equador.

19. "A Bélgica elevou ao nível máximo o alerta de terrorismo após o ataque, que aconteceu na segunda-feira (16 out.). Além dos dois mortos, o ataque deixou uma terceira pessoa ferida. O responsável pelo ataque seria um homem chamado Abdesalem Al Guilani, de 45 anos, segundo as autoridades."

G1, 17/10/2023. Disponível em: <https://tinyurl.com/bdphrz4w>. Acesso em: 08/11/2023.

O autor do ataque afirmou ser ligado ao grupo terrorista:

- a) Al Qaeda.
- b) Al Shabab.
- c) Hamas.
- d) Hezbollah.
- e) Estado Islâmico.

20. A Fifa anunciou, no mês de outubro, os locais de realização da Copa do Mundo de 2030. Considerando a decisão da Fifa sobre esse evento, marque a opção correta sobre a distribuição dos jogos inaugurais e a peculiaridade histórica relacionada à escolha das sedes:

- a) Os jogos inaugurais serão realizados na Espanha, Portugal e Marrocos, e a cerimônia de celebração do centenário ocorrerá na Argentina.
- b) A decisão da Fifa de realizar os jogos inaugurais na Argentina, Paraguai e Uruguai é baseada na ordem alfabética dos países.



- c) Argentina, Paraguai e Uruguai, países sul-americanos, sediarão os jogos inaugurais, e a cerimônia de celebração do centenário ocorrerá em Montevideu, capital do Uruguai.
- d) A Fifa optou por um formato inédito, com todos os jogos ocorrendo exclusivamente em países europeus.
- e) A cerimônia do centenário será realizada apenas na Espanha, pois foi o país que sediou a primeira Copa do Mundo em 1930.

21. "O Comitê Olímpico Internacional (COI) confirmou, na última semana, a inclusão de cinco novos esportes que estarão presentes nas Olimpíadas de 2028. Beisebol, Flag Football, Lacrosse, Squash e Críquete receberam a confirmação durante uma conferência na Índia."

O Povo, 16/10/2023. Disponível em: <https://tinyurl.com/msr5f4nd>. Acesso em: 08/11/2023.

Sobre as Olimpíadas de 2028, é correto afirmar que serão realizadas em:

- a) Los Angeles, Estados Unidos.
- b) Paris, França.
- c) Tóquio, Japão.
- d) Sidney, Austrália.
- e) Pequim, China.

22. "A primeira-ministra, Katrin Jakobsdottir, juntou-se a outras mulheres do país em uma greve para chamar a atenção para as desigualdades remanescentes na sociedade, mesmo que o país ocupe a posição mais alta no mundo em relação à igualdade de gênero."

O protesto consiste em fazer com que as mulheres parem de trabalhar por um dia inteiro e tem como objetivo destacar as dificuldades como a diferença salarial entre os gêneros, a carga desigual de trabalho doméstico não remunerado e a violência que ainda afeta desproporcionalmente as mulheres."

Folha de São Paulo, 24/10/2023. Disponível em: <https://tinyurl.com/4pbat4a2>. Acesso em: 08/11/2023.

O evento destacado pelo enunciado ocorreu em qual país?

- a) Austrália.
- b) Nova Zelândia.
- c) Dinamarca.
- d) Islândia.



e) Noruega.

23. Todos os anos, o dicionário inglês Collins elege sua palavra do ano, que representa uma palavra que se popularizou muito ao longo do ano presente. Para o ano de 2023, o dicionário Collins elegeu o termo:

- a) Nepo baby.
- b) Inteligência artificial.
- c) Ultraprocessados.
- d) Ebulição global.
- e) Permacrise.

24. "O Federal Reserve (Fed, o banco central dos Estados Unidos), manteve os juros do país inalterados nesta quarta-feira (1º nov.), em uma faixa de 5,25% a 5,50% ao ano. Esse continua sendo o maior nível das taxas desde 2001."

Disponível em: <https://tinyurl.com/3vc85sdf>. Acesso em: 08/11/2023.

A respeito da taxa de juros dos Estados Unidos, assinale a alternativa que apresenta corretamente um dos possíveis impactos da elevada taxa de juros norte-americana para a economia global:

- a) Redução da rentabilidade dos Treasuries (títulos públicos norte-americanos).
- b) Incentivo ao aumento dos investimentos em países com juros mais baixos.
- c) Aceleração do crescimento econômico global devido ao aumento dos empréstimos.
- d) Desestímulo à migração de investidores para os Estados Unidos.
- e) Indicação de uma tendência de desaceleração econômica global devido ao encarecimento de empréstimos e investimentos.

25. O ator americano Matthew Perry, foi encontrado morto no dia 28 de outubro, em sua casa, em Los Angeles, nos Estados Unidos.

Matthew Perry ficou famoso ao interpretar Chandler na série:

- a) Friends.



- b) Seinfeld.
- c) Como Eu Conheci Sua Mãe.
- d) A Feiticeira.
- e) The Office.

26. O Instituto Brasileiro de Geografia e Estatística (IBGE) divulgou novos dados sobre o Censo Demográfico de 2022 no dia 27 de setembro. Nesta quarta rodada de divulgação, foram divulgadas informações sobre a idade e o sexo da população. Sobre essas duas características, é correto afirmar que:

- a) a idade mediana do brasileiro manteve-se estável, e a maior parte da população é feminina.
- b) a idade mediana do brasileiro aumentou, e a maior parte da população é masculina.
- c) a idade mediana do brasileiro reduziu, e a maior parte da população é feminina.
- d) a idade mediana do brasileiro manteve-se estável, e a maior parte da população é masculina.
- e) a idade mediana do brasileiro aumentou, e a maior parte da população é feminina.

27. Sobre as características etárias da população brasileira registradas pelo Censo Demográfico de 2022, é correto afirmar que o Estado que possui a menor idade mediana e o Estado que possui a maior idade mediana são, respectivamente:

- a) Amazonas - Rio de Janeiro.
- b) Amapá - Minas Gerais.
- c) Roraima - Rio Grande do Sul.
- d) Paraíba - Santa Catarina.
- e) Acre - Espírito Santo.

28. "A balança comercial registrou um superávit de US\$ 80,2 bilhões de janeiro a outubro deste ano, informou o Ministério do Desenvolvimento, Indústria, Comércio e Serviços nesta quarta-feira (1º nov.).

De acordo com o MDIC, o superávit registrado no período também é o maior para os dez primeiros meses de um ano. A série histórica tem início em 1989. Até então, o maior saldo positivo havia sido registrado em 2021 (+US\$ 58,6 bilhões)."



Disponível em: <https://tinyurl.com/4y2fev2y>. Acesso em: 08/11/2023.

A respeito do comércio externo brasileiro, assinale a alternativa que apresenta, respectivamente, o principal produto de exportação e o principal destino das exportações brasileiras no período:

- a) Minério de ferro - China.
- b) Soja - China.
- c) Milho - União Europeia.
- d) Carne in natura - União Europeia.
- e) Óleos brutos de petróleo - China.

29. "O Bolsa Família, maior programa de transferência de renda na história do Brasil, completa 20 anos nesta 6ª feira (20.out.2023). Chega atualmente para 21,5 milhões de famílias."

Poder 360, 20/10/2023. Disponível em: <https://tinyurl.com/2p97kb>. Acesso em: 08/11/2023.

Sobre o programa Bolsa Família, considere as seguintes afirmativas:

I - O público-alvo do programa Bolsa Família são as famílias em situação de extrema pobreza e pobreza conforme critérios específicos e condicionantes, tais como a permanência das crianças na escola, o acompanhamento de saúde das gestantes e a vacinação em dia.

II - Durante o período de vigência do Bolsa Família, a fertilidade da população de baixa renda aumentou, mostrando que uma das ideias difundidas inicialmente para criticar o programa, a de que seria um incentivo para que as famílias passassem a ter mais filhos por terem mais renda, tem fundamento.

III - Ao longo da sua existência, o Bolsa Família apresentou resultados importantes para a sociedade brasileira, como a redução da pobreza e da pobreza extrema, a diminuição da mortalidade infantil e a melhoria dos indicadores de segurança alimentar entre os mais pobres.

Estão corretas as alternativas:

- a) I apenas.
- b) II apenas.
- c) III apenas.
- d) I e II apenas.
- e) I e III apenas.



30. "A Comissão Parlamentar Mista de Inquérito (CPMI) que investigou os atos antidemocráticos de 8 de janeiro aprovou nesta quarta-feira (18 nov.) o pedido de indiciamento do ex-presidente Jair Bolsonaro e de mais 60 pessoas, dos quais cinco ex-ministros e oito generais das Forças Armadas, todos acusados de tentativa de golpe de Estado durante a invasão das sedes dos Três Poderes."

Agência Brasil, 18/10/2023. Disponível em: <https://tinyurl.com/5n73b4wr>. Acesso em: 08/11/2023.

Dentro do contexto político abordado pelo enunciado, assinale a alternativa que apresenta corretamente uma das acusações específicas pela qual Jair Bolsonaro foi indiciado pela CPMI:

- a) Corrupção e desvio de recursos públicos.
- b) Violação dos direitos humanos com o uso das forças policiais do Distrito Federal.
- c) Tentativa de abolição violenta do Estado Democrático de Direito.
- d) Insubordinação militar e desrespeito às instituições.
- e) Manipulação do sistema eleitoral e uso indevido de recursos digitais.

31. A Academia Brasileira de Letras (ABL) elegeu recentemente seu novo membro, sendo esse o primeiro indígena eleito para a instituição. Trata-se de:

- a) Ailton Krenak.
- b) Raoni Metuktire.
- c) Daniel Munduruku.
- d) Joenia Wapichana.
- e) Sonia Guajajara.

32. Ao longo das últimas semanas, a região da Amazônia tem sido afetada por uma seca histórica, que tem causado diversos problemas, como a morte de animais, isolamento de comunidades, falta de água, dificuldades com transporte, queimadas descontroladas, interrupção na produção de energia e problemas de saúde da população.

Segundo climatologistas, além do aquecimento global e a degradação da Amazônia estarem entre as principais causas dessa seca extrema, a intensidade do fenômeno climático El Niño também está entre os fatores.



"Temos um El Niño particularmente forte, intensificado pelas mudanças climáticas, somado ao aquecimento global e aos eventos climáticos extremos," afirmou Paulo Artaxo, professor do Instituto de Física da Universidade de São Paulo (USP) e membro do Painel Intergovernamental sobre Mudanças Climáticas (IPCC).

Sobre o El Niño, assinale a alternativa que descreve corretamente o que é esse fenômeno climático:

- a) É um fenômeno caracterizado pelo resfriamento anormal das águas superficiais do Oceano Pacífico, levando a mudanças climáticas globais.
- b) Trata-se de um evento meteorológico que ocorre devido ao aumento da concentração de gelo na região polar, impactando principalmente o clima das áreas equatoriais.
- c) É uma situação em que há um aumento significativo na camada de ozônio, resultando em mudanças nos padrões de umidade na atmosfera.
- d) É uma oscilação climática que se manifesta pelo aquecimento anormal das águas superficiais do Oceano Pacífico, influenciando padrões atmosféricos em todo o mundo.
- e) Refere-se a um aumento repentino na atividade de furacões no Oceano Atlântico, afetando principalmente as Costas Leste dos continentes com redução da umidade.

33. "O governo do Rio Grande do Sul confirmou, nesta quinta-feira (5 out.), a 51ª morte em decorrência da chuva e das enchentes que atingiram o Estado no começo de setembro."

GZH, 05/10/2023. Disponível em: <https://tinyurl.com/3navau8t>. Acesso em: 08/11/2023.

A inundaç o que deixou mais de 50 mortos no Rio Grande do Sul ocorreu na regi o conhecida como:

- a) Vale do Taquari.
- b) Vale do Rio dos Sinos.
- c) Alto Jacu .
- d) Vale do Rio Uruguai.
- e) Fronteira Noroeste.

34. "O Rio de Janeiro viveu nesta segunda-feira (23/10) a maior onda de ataques a  nibus da hist ria da cidade. Ao menos 35  nibus e um trem foram incendiados por criminosos ligados   maior mil cia do munic pio."

Deutsche Welle, 24/10/2023. Disponível em: <https://tinyurl.com/2x7t74us>. Acesso em: 08/11/2023.



Conforme apurado por agentes de segurança pública, o que motivou a série de ataques aos ônibus foi:

- a) Uma disputa entre facções de tráfico de drogas na Zona Oeste do Rio.
- b) A morte de um miliciano durante uma operação policial na comunidade Três Pontes.
- c) Uma manifestação contra as condições precárias do transporte público na cidade.
- d) Um protesto contra a violência policial nas comunidades cariocas.
- e) Um ataque terrorista de fundamentalistas religiosos.

35. "A Câmara dos Deputados aprovou nesta quarta-feira (25 out.) o projeto de lei que prevê a taxaçaõ das offshores e dos fundos exclusivos. O texto vai ao Senado.

A proposta que trata da taxaçaõ das offshores e dos fundos exclusivos é considerada essencial pela equipe econômica do governo para aumentar a arrecadaçaõ federal em 2024 e zerar o déficit nas contas públicas."

CNN Brasil, 24/10/2023. Disponível em: <https://tinyurl.com/2nrmkpb>. Acesso em: 08/11/2023.

Com base no assunto em questão, assinale a alternativa que descreve corretamente o que são *offshores*:

- a) são fundos que têm apenas um cotista, destinados a investidores qualificados e/ou profissionais.
- b) são investimentos feitos no exterior, geralmente com sede em outro país, mas o gestor desse investimento deve obrigatoriamente estar no Brasil.
- c) são fundos exclusivos criados para investidores estrangeiros operarem no mercado brasileiro com rapidez e volatilidade.
- d) são empresas que têm parte de suas atividades voltadas para o desenvolvimento sustentável, e, por isso, recebem incentivos fiscais.
- e) são fundos de investimentos cuja sede fica em outro país, mas que podem contar com um gestor local.



GABARITO



- | | | |
|-------|-------|-------|
| 1. C | 13. C | 25. A |
| 2. E | 14. D | 26. E |
| 3. E | 15. C | 27. C |
| 4. E | 16. B | 28. B |
| 5. C | 17. D | 29. E |
| 6. E | 18. A | 30. C |
| 7. C | 19. E | 31. A |
| 8. E | 20. C | 32. D |
| 9. C | 21. A | 33. A |
| 10. C | 22. E | 34. B |
| 11. E | 23. B | 35. E |
| 12. B | 24. E | |



SIMULADO DE ATUALIDADES – NOVEMBRO 2023



1. "O economista ultraliberal Javier Milei, do partido A Liberdade Avança, venceu neste domingo (19 nov.) a eleição para a Presidência da Argentina."

G1, 19/11/2023. Disponível em: <https://tinyurl.com/mwh8ytnh>. Acesso em 09/12/2023.

A respeito do novo presidente da Argentina, Javier Milei, julgue as afirmativas a seguir.

I. Javier Milei, desde o início de sua campanha eleitoral, se posicionou com críticas em relação ao presidente Lula, do Brasil, e ao Mercosul, sugerindo que retiraria a Argentina do bloco econômico sul-americano.

II. A Liberdade Avança (La Libertad Avanza), partido liderado por Milei, tem como característica um certo conservadorismo em pautas sociais e o libertarianismo em pautas econômicas.

III. Milei concorreu contra Sergio Massa, então Ministro da Economia do governo do presidente Alberto Fernández, e obteve o maior número de votos da história argentina.

Pode-se afirmar que:

- a) somente I e II estão corretas.
- b) somente I e III estão corretas.
- c) somente II e III estão corretas.
- d) somente há uma afirmativa correta.
- e) todas estão corretas.

2. Tendo como referência o conflito que se desenrola no Oriente Médio, entre Israel e Hamas, e as suas conexões com o Brasil, assinale a opção correta:

- a) Entre as centenas de reféns capturados pelo Hamas na operação terrorista que desencadeou o atual conflito estão brasileiros, os quais foram libertados devido as negociações do Brasil com o grupo.
- b) O grupo de brasileiros que vivia na Faixa de Gaza esteve entre os primeiros que foram autorizados a deixar o território palestino devido às boas relações diplomáticas entre o Brasil e Israel.



- c) O Brasil não considera de modo oficial o Hamas como um grupo terrorista, pois segue entendimentos da Organização das Nações Unidas (ONU) sobre as entidades que são classificadas como terroristas.
- d) A Polícia Federal prendeu membros do Hamas que planejavam realizar ataques terroristas em sinagogas no Brasil.
- e) A posição do governo brasileiro em relação ao conflito tem sido de apoiar a Palestina e criticar Israel, tensionando para que a Organização das Nações Unidas (ONU) realize uma intervenção militar na Faixa de Gaza.

"Na sexta-feira 17 de novembro, o mundo bateu um marco considerado preocupante no cenário climático: pela 1ª vez, a média global de temperatura ultrapassou os 2°C de anomalia e atingiu exatos 2,07°C acima dos níveis pré-industriais (1850-1900)."

Disponível em: <https://tinyurl.com/35fvtn9v>. Acesso em 09/12/2023.

A respeito das mudanças climáticas na atualidade, julgue os itens a seguir em C ou E (certo ou errado):

3. O calor recorde ocorre em um ano marcado pela forte ação do fenômeno El Niño e pela intensificação de efeitos das mudanças climáticas provocadas pelas emissões de GEEs - gases de efeito estufa. Os GEE são resultado de atividades humanas, como a utilização de combustíveis fósseis ou as queimadas de áreas florestais.
4. Os países ricos e desenvolvidos são os principais responsáveis pela emissão de gases do efeito estufa no mundo, por isso, tem sido os pioneiros nas ações de diminuição da temperatura e ajuda humanitária em áreas mais vulneráveis.
5. O desmatamento das áreas de floresta ao longo das décadas, especialmente na Europa e no Brasil, é a principal causa do aquecimento global.
6. O principal gás intensificador do efeito estufa e responsável pelas mudanças climáticas é o gás carbono, representado pela fórmula química CO₂, que é liberado na queima de combustíveis fósseis, resíduos, árvores e reações químicas.
7. Na 27ª Convenção sobre Mudanças Climáticas, realizada ao final do ano de 2022 em Sharm El Sheikh, no Egito, estabeleceu-se a criação de um fundo para ajudar os países pobres que sofrem com os desastres causados pelas mudanças climáticas.
8. Para vencer os desafios impostos pelas mudanças climáticas, tem se sugerido a utilização do carvão em substituição ao gás natural nos países europeus.
9. Uma das consequências do aquecimento global é o degelo das áreas glaciais, que por sua vez, pode gerar o aumento do nível do mar. Com isso, pequenas ilhas localizadas em meio ao oceano podem desaparecer, como é o caso do arquipélago de Tuvalu, próximo à Austrália, que corre o risco de ser submerso pelas águas oceânicas.



10. Após um longo período de disputas territoriais, Venezuela e Guiana se confrontam pela posse do território conhecido como Essequibo, rico em recursos naturais. O recente anúncio de um referendo por parte do presidente Nicolás Maduro para decidir sobre a anexação da área intensificou as tensões entre os países.

Sobre esse assunto, é correto afirmar que as origens históricas dessa disputa estão relacionadas:

- a) ao Acordo de Genebra assinado em 1966, que estabeleceu bases para uma solução negociada.
- b) a uma sentença arbitral de 1899, emitida em um tribunal em Paris, que retirou da Venezuela todo o território do Essequibo.
- c) à descoberta, em 2015, de campos petrolíferos na região e as negociações da Guiana com a ExxonMobil para a sua exploração.
- d) à decisão da Corte Internacional de Justiça (CIJ), 2020, em não levar adiante o pedido da Venezuela de examinar o caso do território em litígio.
- e) à resistência da população da região de Essequibo com o governo guianense e a sua identificação com a Venezuela.

11. Leia o fragmento de texto a seguir, adaptado da rede de jornalismo CNN Brasil:

"_____ decidiu concorrer à eleição presidencial de março, um movimento que o manterá no poder até pelo menos 2030, uma vez que o chefe do Kremlin sente que precisa conduzir a _____ durante o período mais perigoso das últimas décadas, disseram seis fontes à Reuters."

CNN Brasil, 06/11/2023. Disponível em: <https://tinyurl.com/3wx8f5c3>. Acesso em 09/12/2023.

Assinale a alternativa que preenche corretamente as lacunas do texto:

- a) Recep Tayyip Erdoğan — Turquia.
- b) Aleksandr Lukashenko — Belarus.
- c) Kim Jong-un — Coreia do Norte.
- d) Xi Jinping — China.
- e) Vladimir Putin — Rússia.

12. No mês de novembro de 2023, Food and Drug Administration (FDA) dos Estados Unidos, aprovou a vacina Ixchiq, desenvolvida pela empresa austríaca Valneva, em parceria com o Instituto Butantan. Essa vacina é destinada para qual doença?



- a) Dengue.
- b) Malária.
- c) Chikungunya.
- d) Febre amarela.
- e) Zika vírus.

13. "Depois de 17 dias de incerteza, todos os 41 operários que haviam ficado presos em um túnel dentro do Himalaia foram resgatados nesta terça-feira (28 nov.). Durante as perfurações, parte do teto do túnel desabou, deixando o grupo isolado.

Nesta terça, as equipes de resgate conseguiram alcançar os operários, que foram puxados individualmente por macas com rodas através de um tubo de aço de 90 cm de largura."

G1, 28/11/2023. Disponível em: <https://tinyurl.com/fym65a9u>. Acesso em 09/12/2023.

O fato mencionado pelo enunciado ocorreu:

- a) no Paquistão.
- b) na Indonésia.
- c) na Malásia.
- d) na Índia.
- e) na China.

14. "O dicionário Cambridge anunciou nesta 6ª feira (24.nov.2023) a escolha do termo "Hallucinate" (alucinar, em tradução livre) como a palavra do ano de 2023."

Poder 360, 24/11/2023. Disponível em: <https://tinyurl.com/yhknc3ws>. Acesso em 09/12/2023.

Segundo o dicionário Cambridge, o significado e a popularidade do termo estão relacionados:

- a) à disseminação de novas substâncias alucinógenas e psicotrópicas no mundo.
- b) à produção de informações falsas pelas ferramentas de inteligência artificial.
- c) ao aumento dos problemas de saúde mental no período pós-pandemia.
- d) as novas tecnologias de realidade virtual aplicadas a videogames, como os óculos de realidade virtual.



e) ao elevado estresse gerado pelo trabalho e estudo excessivo, que desencadeiam episódios de alucinação.

15. O primeiro-ministro de Portugal, António Costa, do Partido Socialista, renunciou ao cargo no dia 7 de novembro. O principal motivo da renúncia de António Costa foi:

- a) o agravamento da crise imobiliária no país, com a escalada de preços em aluguéis.
- b) o atrito diplomático com a Ucrânia após declarações pró-Rússia do primeiro-ministro.
- c) seu suposto envolvimento em um esquema de corrupção e tráfico de influência.
- d) a política imigratória, considerada falha por grande parte dos portugueses.
- e) o desacordo com a política econômica da União Europeia.

16. "O diplomata norte-americano e vencedor do Prêmio Nobel da Paz, Henry Kissinger, morreu nesta quarta-feira (29 nov.) aos 100 anos, segundo a Kissinger Associates Inc. A causa da morte ainda não foi revelada.

O diplomata ganhou fama nos anos 1970 por sua forte atuação como Secretário de Estado e Conselheiro de Segurança Nacional dos Estados Unidos nos governos dos presidentes Richard Nixon e Gerald Ford.

Ele liderou conversas com a União Soviética para controlar a corrida nuclear durante o período; foi responsável por aproximar os Estados Unidos da China; e participou de negociações de paz para a Guerra do Vietnã. No entanto, também foi alvo de uma série de polêmicas, por ter apoiado ditaduras anticomunistas na América Latina."

Disponível em: <https://tinyurl.com/kkw5eh9v>. Acesso em 09/12/2023.

A atuação diplomática de Kissinger foi um de seus principais legados, servindo como influência para uma série de diplomatas e estadistas posteriores e influenciando o pensamento geopolítico atual.

A respeito desse assunto, assinale a alternativa que corresponde corretamente a abordagem diplomática de Henry Kissinger:

- a) promoção ativa de ideais democráticos em suas negociações.
- b) tendência a favorecer ações morais e éticas em suas políticas externas.
- c) desenvolvimento de estratégias de cooperação em oposição a confrontos.
- d) prática da realpolitik, enfocando objetivos práticos em detrimento de ideais.
- e) promoção de intervenções humanitárias em conflitos internacionais.



17. "A partir desta quinta-feira (30/11), governo do país fechará totalmente sua fronteira terrestre com a Rússia para evitar que refugiados de outros países continuem chegando através do território russo. A medida está prevista para ficar em vigor até 13 de dezembro."

O país acusa Moscou de enviar deliberadamente à fronteira cidadãos de países da África e do Oriente Médio, como Iraque, Síria, Iêmen, Turquia e Somália, aos quais permite a passagem sem os documentos necessários.

DW, 29/11/2023. Disponível em: <https://tinyurl.com/xmn2aupc>. Acesso em 09/12/2023. Adaptado.

O país que fechou as fronteiras com a Rússia, retratado no enunciado, é a:

- a) Finlândia.
- b) Letônia.
- c) Estônia.
- d) Noruega.
- e) Polônia.

18. No mês novembro, Canadá e o Google firmaram acordo para manter a exibição de notícias nos resultados de pesquisas do país. Qual é o teor do acordo firmado entre o Canadá e o Google?

- a) O Google se compromete a pagar 172 milhões de dólares canadenses por ano para veículos jornalísticos do país.
- b) O Canadá concede isenção de impostos ao Google em troca da exibição de notícias nos resultados de pesquisas do país.
- c) O Google concorda em compartilhar sua receita de publicidade com veículos de notícias canadenses no valor de 100 milhões de dólares canadenses por ano.
- d) O Canadá impõe multas ao Google caso a empresa não exiba notícias em sua plataforma.
- e) O Google bloqueia todas as notícias em sua plataforma em resposta à lei de notícias online do Canadá.

19. O Brasil desempenha um papel central no cenário global do desenvolvimento sustentável e na luta contra as mudanças climáticas. Com sua vasta extensão territorial e riqueza natural, o país possui uma responsabilidade significativa na preservação da biodiversidade e na redução das emissões de gases de efeito estufa. Sua contribuição vai além das fronteiras nacionais, influenciando acordos internacionais, como o Acordo de Paris, e assumindo compromissos para a proteção da Amazônia, uma peça-chave no equilíbrio climático mundial. No entanto, desafios persistem, e é fundamental encontrar um equilíbrio entre desenvolvimento econômico e a conservação ambiental para garantir um futuro sustentável.



A respeito desse assunto e seus múltiplos aspectos relacionados, julgue as afirmativas a seguir:

I. Apesar da elevada participação de fontes de energia renováveis e não poluentes em sua matriz energética, o Brasil se posiciona entre os dez principais emissores de gases do efeito estufa no mundo.

II. O setor que mais contribui para a emissão de poluentes na atmosfera no país é a mudança do uso da terra, seguida pelo setor de energia.

III. A redução do desmatamento na Amazônia não encontra-se entre os principais desafios do Brasil no cumprimento das metas apresentadas perante o Acordo de Paris.

IV. As mudanças climáticas tem o potencial de afetar com mais intensidade as populações de áreas periféricas dos centros urbanos, onde há menos infraestrutura e assistência para lidar com eventos climáticos extremos, como chuvas torrenciais ou calor extremo.

Está correto o que se afirma em:

a) I, II e III.

b) I, II e IV.

c) I, III e IV.

d) II, III e IV.

e) Todas estão corretas.

20. "A área desmatada na Amazônia foi de 9.001 km² entre agosto de 2022 e julho de 2023 (o equivalente ao tamanho da República de Chipre, no Mediterrâneo), de acordo com números oficiais do governo federal divulgados nesta quinta-feira (9 nov.) pelo Instituto Nacional de Pesquisas Espaciais (Inpe)."

G1, 09/11/2023. Disponível em: <https://tinyurl.com/anmj7fmf>. Acesso em 09/12/2023.

Entre as medidas que podem ser tomadas para reduzir o desmatamento na Floresta Amazônica, assinale a alternativa que NÃO representa uma dessas medidas:

a) Reforçar a fiscalização e aplicar multas mais severas para quem pratica o desmatamento ilegal.

b) Promover o desenvolvimento sustentável de comunidades locais, oferecendo alternativas econômicas viáveis.

c) Ampliar a regularização fundiária para incentivar a ocupação legal e ordenada de terras na região.

d) Incentivar a expansão de atividades agrícolas e pecuárias em áreas já desmatadas, evitando novos desmatamentos.



e) Apoiar projetos de conservação ambiental e manejo sustentável da floresta, como reservas extrativistas e áreas protegidas.

21. "O desmatamento no Cerrado aumentou pelo quarto ano seguido e o governo federal anunciou um plano de preservação do bioma."

Jornal Nacional, 28/11/2023. Disponível em: <https://tinyurl.com/yckjky8c>. Acesso em 09/12/2023.

Em relação ao crescimento do desmatamento do Cerrado, é correto afirmar que as maiores taxas de desmatamento na atualidade estão:

- a) na área do Matopiba, que abrange os estados do Maranhão, Tocantins, Piauí e Bahia.
- b) no Arco do Desmatamento, região de transição entre outras áreas naturais e a floresta amazônica.
- c) nos estados do Mato Grosso e de Mato Grosso do Sul, principais responsáveis pelo agronegócio no país.
- d) no estado do Pará, que registra vertiginoso crescimento agropecuário nos últimos anos.
- e) na Chapada dos Veadeiros no Planalto Central, que apresenta terrenos planos e propícios à atividade agropecuária.

22. "O Brasil recebeu nesta 5ª feira (30.nov.2023) um convite para integrar a Opep+ em janeiro de 2024. O formato estudado por autoridades brasileiras é que o país faça parte da entidade na condição de aliado, assim como a Rússia e o México."

Poder 360, 30/11/2023. Disponível em: <https://tinyurl.com/maf3esyf>. Acesso em 09/12/2023.

Sobre esse tema, assinale a alternativa que descreve corretamente o que é a Opep+:

- a) Uma organização que reúne países produtores de petróleo para estabelecer políticas de redução de consumo de energia.
- b) Um grupo formado por países exportadores de petróleo, aliados a outros produtores, que buscam controlar a produção e os preços do petróleo no mercado global.
- c) Uma coalizão de países consumidores de petróleo que negociam acordos de importação e exportação de energia.
- d) Uma aliança de países produtores de gás natural que visam à padronização de tarifas para o transporte do combustível.
- e) Uma organização internacional voltada para a regulação de fontes alternativas de energia renovável.



23. O presidente da República, Luiz Inácio Lula da Silva, sancionou o Projeto de Lei n. 5.384/2020, que atualiza a Lei n. 12.711/12 – Lei de Cotas. O programa tem como pré-requisito a reserva de vagas para estudantes egressos de escolas públicas

Qual das opções abaixo NÃO é uma alteração proposta pela atualização na Lei de Cotas?

- a) Redução da renda familiar exigida para o acesso às cotas.
- b) Inclusão de estudantes quilombolas como beneficiários das cotas.
- c) Estabelecimento de prioridade para os cotistas no recebimento do auxílio estudantil.
- d) Ampliação do valor do teto de renda familiar para os candidatos.
- e) Extensão das políticas afirmativas para a pós-graduação.

24. O presidente Luiz Inácio Lula da Silva indicou, no dia 27 de novembro, os nomes de Flávio Dino para ocupar vaga no Supremo Tribunal Federal (STF) e de Paulo Gonet para ser o novo procurador-geral da República.

Uma das principais críticas da sociedade e de movimentos organizados à indicação de Flávio Dino ao Supremo Tribunal Federal (STF) foi:

- a) a sua participação na Operação Lava Jato, que culminou com a prisão do presidente Lula.
- b) a escassa experiência e qualificação profissional de Flávio Dino.
- c) o fato de pertencer ao mesmo partido do presidente, o Partido dos Trabalhadores (PT).
- d) a ausência de mulheres, negros e indígenas entre os magistrados da Suprema Corte.
- e) ao seu posicionamento de ser favorável à legalização das drogas e do aborto.

25. "A Câmara dos Deputados aprovou na noite desta quarta-feira (29) o projeto de lei que torna o Dia da Consciência Negra, celebrado em 20 de novembro, feriado nacional. O texto já tinha sido aprovado pelo Senado e, agora, vai à sanção presidencial. Pelo projeto, a data será chamada Dia Nacional de Zumbi e da Consciência Negra."

Agência Brasil, 29/11/2023. Disponível em: <https://tinyurl.com/2c9j5223>. Acesso em 09/12/2023.

A data é uma homenagem a Zumbi dos Palmares. Quem foi essa personalidade e qual a sua importância histórica para o Brasil?

- a) foi um líder quilombola, símbolo de resistência contra a escravidão no Brasil colonial.



- b) foi um colonizador português que se destacou por sua atuação na libertação de escravos na região Sul do país.
- c) foi um político renomado, responsável por promulgar a lei de abolição da escravidão no país.
- d) foi um líder político que fundou as primeiras escolas para crianças negras no interior do Brasil.
- e) foi um artista renomado, responsável por difundir a cultura afro-brasileira nas grandes cidades do país.

26. "Imagina um computador que consegue resolver bilhões de contas matemáticas por segundo. Ele existe no Brasil e se chama supercomputador Santos Dumont, em homenagem ao famoso aviador brasileiro.

Em 2022, a máquina ficou na 178ª posição do ranking de computadores mais rápidos do mundo da TOP 500, uma associação sem fins lucrativos que analisa o desenvolvimento tecnológico deste setor há mais de 20 anos."

G1, 22/11/2023. Disponível em: <https://tinyurl.com/yc6fr3bf>. Acesso em 09/12/2023.

A respeito do supercomputador Santos Dumont, assinale a alternativa que apresenta corretamente sua importância para o cenário científico e tecnológico brasileiro?

- a) O supercomputador Santos Dumont é um dispositivo para armazenamento de dados online em larga escala, visando a facilitação de comunicação entre instituições científicas.
- b) A máquina desempenha um papel fundamental no avanço de pesquisas científicas, permitindo análises de dados, simulações e modelagens para solucionar problemas tecnológicos e científicos.
- c) O Santos Dumont é essencial para a realização de análises financeiras de grandes corporações no Brasil.
- d) O supercomputador Santos Dumont foi projetado exclusivamente para o processamento de dados meteorológicos em tempo real.
- e) O equipamento é um sistema usado principalmente para atividades de entretenimento, como jogos de alta resolução e realidade virtual.

27. "O plenário do Senado aprovou nesta terça-feira (28 nov.) o projeto de lei que flexibiliza a autorização ao uso de agrotóxicos, apelidado por ambientalistas de PL do Veneno. O texto vai à sanção presidencial."

Folha de São Paulo, 28/11/2023. Disponível em: <https://tinyurl.com/mpsfuv66>. Acesso em 09/12/2023.

Assinale a alternativa que apresenta corretamente o que estabelece o projeto de lei sobre agrotóxicos:



- a) Proíbe a comercialização de agrotóxicos sem avaliação prévia dos órgãos competentes.
- b) A proibição do uso de defensivos agrícolas em reanálise antes do final do processo.
- c) Estabelece a substituição do termo "agrotóxico" por "pesticida" na legislação.
- d) A delegação da coordenação da reanálise dos produtos ao Ibama e à Anvisa.
- e) A concentração do registro de novos produtos no Ministério da Agricultura.

28. A Câmara Municipal de Porto Alegre aprovou, no dia 23 de novembro, um projeto de lei que isenta moradores do município da cobrança pela substituição do medidor de consumo de água em caso de furto do objeto. Posteriormente, o projeto de lei foi sancionado pelo prefeito Sebastião Melo, e causou grande polêmica, relacionada ao fato de:

- a) não ter sido revisada pela Seção de Redação Legislativa da Câmara de Vereadores da cidade, contendo uma série de erros ortográficos.
- b) ter sido proposta por um autor anônimo, sem que a autoria da redação original tenha sido revelada ao longo do processo.
- c) beneficiar exclusivamente moradores de bairros específicos da cidade, gerando desigualdade de tratamento.
- d) introduzir um artigo na lei que não havia sido proposto pelo vereador proponente do projeto.
- e) ter sido redigido por uma ferramenta de inteligência artificial, sem qualquer intervenção humana.

29. O documentário "Retratos Fantasmas" foi escolhido para representar o Brasil na disputa por uma vaga na categoria de melhor filme internacional no Oscar do ano que vem. O filme tem a autoria de:

- a) Kléber Mendonça Filho.
- b) Claudio Borrelli.
- c) Guto Parente.
- d) Sergio de Carvalho.
- e) Eduardo Albergaria.



30. O MERCOSUL já conta com um novo membro. Com a aprovação do parlamento brasileiro, o último que faltava, o país passou a condição de Estado-Parte do bloco regional. Na 63ª Cúpula da aliança regional, no Rio de Janeiro, em dezembro de 2023, o bloco assinou um novo acordo de livre comércio externo, o primeiro em 12 anos.

O novo membro do Mercosul e o país/bloco com quem foi assinado o novo acordo comercial são respectivamente:

- a) Bolívia e Singapura.
- b) Chile e União Europeia.
- c) Peru e China.
- d) Equador e ASEAN.
- e) Colômbia e Comunidade Andina.

GABARITO



- | | | |
|-------|-------|-------|
| 1. E | 11. E | 21. A |
| 2. C | 12. C | 22. B |
| 3. C | 13. D | 23. D |
| 4. E | 14. B | 24. D |
| 5. E | 15. C | 25. A |
| 6. C | 16. D | 26. B |
| 7. C | 17. A | 27. E |
| 8. E | 18. C | 28. E |
| 9. C | 19. B | 29. A |
| 10. B | 20. D | 30. A |



SIMULADO DE ATUALIDADES – DEZEMBRO 2023



1. "Desde que tomou posse, no dia 10 de dezembro, o novo presidente da Argentina, Javier Milei, tem buscado implementar propostas polêmicas — e é alvo de protestos. Na quarta-feira (27/12), ele enviou ao Congresso um projeto com mais de 600 artigos que faz profundas mudanças no Estado."

Disponível em: Notícias Uol. Acesso em 13/01/2024.

As afirmativas a seguir relacionam medidas anunciadas pelo presidente argentino Javier Milei como parte de suas ações iniciais no cargo, **à exceção de uma**. Assinale-a.

- a) A criação de um observatório de preços para monitorar a inflação.
- b) A revogação da lei que proíbe privatizações, possibilitando a venda da Aerolíneas Argentinas.
- c) O aumento do período de experiência dos trabalhadores.
- d) A desvalorização do peso argentino em relação ao dólar.
- e) A implementação da jornada presencial em 100% para funcionários públicos.

2. "O governo da China decidiu suspender o financiamento de US\$ 6,5 bilhões (R\$ 31,6 bilhões) a partir de linha de swap cambial para a Argentina, parte de um acordo entre o então presidente argentino Alberto Fernández e seu homólogo chinês, Xi Jinping."

Disponível em: Brasil de Fato. Publicado em: 21/12/2023. Acesso em 13/01/2024.

A suspensão desse financiamento ocorreu em razão:

- a) do não pagamento das dívidas argentinas ao Fundo Monetário Internacional (FMI).
- b) da posse presidencial de Javier Milei, que rompeu relações com a "ditadura comunista" da China.
- c) do impacto diplomático causado pelas declarações ofensivas do presidente argentino sobre o governo chinês.
- d) das medidas econômicas adotadas por Javier Milei, consideradas insuficientes pelo governo chinês para dar seguimento ao acordo.
- e) do atraso na homologação do novo embaixador chinês na Argentina, gerando desconforto em Pequim.



3. Os chilenos foram às urnas no dia 17 de dezembro para decidir se irão adotar ou não uma nova Constituição. Considerando o processo constitucional no Chile, assinale a alternativa correta sobre o referendo recente:

- a) O novo texto da Constituição proposto no referendo foi amplamente apoiado por uma Assembleia Constituinte dominada pela esquerda.
- b) A atual Constituição chilena, herdada da ditadura de Pinochet, permanecerá em vigor, uma vez que a maioria dos chilenos votou contra a aprovação da nova proposta.
- c) A proposta de uma nova Constituição foi aprovada com mais de 60% dos votos, indicando um claro desejo da população por mudanças radicais nas instituições.
- d) O segundo texto constitucional proposto no referendo era progressista, eliminando o Senado e ampliando os direitos, o que gerou forte apoio da população.
- e) O presidente Gabriel Boric afirmou que, apesar do resultado, pretende continuar com um terceiro processo constituinte durante seu mandato até 2026.

4. Em 2024, os eleitores dos Estados Unidos vão escolher um presidente. O sistema eleitoral estadunidense é complexo e, diferentemente do Brasil, onde o presidente se elege com a maioria dos votos populares, nos Estados Unidos, o presidente se elege com a maioria dos votos do (a):

- a) assembleia popular.
- b) sistema eleitoral.
- c) congresso nacional.
- d) colégio eleitoral.
- e) caucus.

5. "O exército dos Estados Unidos afirmou neste domingo (31/12) que afundou três barcos de rebeldes houthis e matou dez deles em resposta aos ataques contra um navio de carga de uma companhia transportadora dinamarquesa."

Disponível em: G1 Globo. Acesso em 13/01/2024.

O movimento houthi está sediado e atua com força no:

- a) Irã.
- b) Omã.



- c) Iraque.
- d) Iêmen.
- e) Bahrein.

6. Foi realizada, entre os dias 30 de novembro e 13 de dezembro, a Conferência das Nações Unidas sobre as Mudanças Climáticas de 2023, também conhecida como COP-28. Essa conferência foi marcada por uma série de críticas e polêmicas, devido ao fato de:

- a) ocorrer em um ano que registrou uma série de eventos climáticos extremos.
- b) Estados Unidos e China, países mais poluentes do mundo, não participarem do evento.
- c) ser realizada nos Emirados Árabes, uma das maiores nações produtoras de petróleo do mundo.
- d) não serem abordadas questões de saúde, finanças e alimentação durante a conferência.
- e) emitir uma declaração final sem mencionar a redução no uso de combustíveis fósseis.

7. A "Pessoa do Ano" da revista norte-americana Time é uma tradição anual que começou em 1927. A revista destaca uma pessoa, grupo, ideia ou objeto que, de acordo com a Time, "para o bem ou para o mal, mais influenciou os eventos do ano".

Para o ano de 2023, a revista escolheu como pessoa do ano:

- a) Masha Amini.
- b) Elon Musk.
- c) Lionel Messi.
- d) Luiz Inácio Lula da Silva.
- e) Taylor Swift.

8. "A Argentina não fará parte do Brics, informou o presidente argentino, Javier Milei, em carta enviada aos chefes de Estado dos cinco países que integram o bloco, incluindo o Brasil."

Disponível em: Uol Notícias. Publicado em: 29/12/2023. Acesso em 13/01/2024.

Qual das seguintes afirmações melhor descreve a atuação e os objetivos do BRICs?



- a) uma aliança militar formada por países da Ásia e América do Sul para promover a segurança global.
- b) uma organização dedicada ao desenvolvimento de tecnologias espaciais para países em desenvolvimento.
- c) um grupo ambientalista dedicado à preservação da biodiversidade na região do oceano Índico.
- d) um grupo formado por países emergentes que busca estabelecer uma aliança estratégica em aspectos políticos, econômicos e de desenvolvimento.
- e) um bloco econômico regional dos países do Sul global, focado na cooperação comercial e na integração política para fortalecer a estabilidade financeira na região.

9. O Relatório Nosso Futuro Comum, também chamado de Relatório Brundtland, publicado em 1972, popularizou o conceito de Desenvolvimento Sustentável. A respeito desse assunto e a questão ambiental na atualidade, analise as afirmativas a seguir:

I. A Revolução Industrial foi um marco importante na história da humanidade, uma vez que intensificou os problemas ambientais devido à aceleração na extração de recursos naturais.

II. O conceito de desenvolvimento sustentável enfatiza a busca pela minimização dos impactos ambientais, independentemente do crescimento econômico.

III. A Pegada Ecológica é um indicador que mede a pressão das atividades humanas sobre os ecossistemas e demonstra se o nosso estilo de vida está em equilíbrio com a capacidade do planeta em oferecer e renovar seus recursos naturais.

Considerando as afirmativas, assinale a alternativa correta:

- a) Apenas a afirmativa I está correta.
- b) Apenas a afirmativa II está correta.
- c) Apenas as afirmativas I e II estão corretas.
- d) Apenas as afirmativas I e III estão corretas.
- e) Todas as afirmativas estão corretas.

10. Desenvolvido pela OpenAI, o ChatGPT é programado para responder a perguntas online usando uma linguagem que soe o mais próximo a de um humano. O nome dado a esse tipo de tecnologia, que tenta simular um ser humano na conversação com as pessoas, é:

- a) Chatbot.



- b) Machine learning.
- c) Big data.
- d) Bard.
- e) Internet das coisas.

11. "O IBGE (Instituto Brasileiro de Geografia e Estatística) apresentou os dados de identificação étnico-racial do Censo nesta sexta-feira (22/12) na sede do bloco afro Olodum, em Salvador, capital do estado com maior população preta do país – 22,5%."

Disponível em: Agência de Notícias IBGE. Acesso em 13/01/2024.

Uma das principais revelações dessa rodada de dados do Censo foi que:

- a) Os brancos continuam sendo o maior grupo étnico-racial no Brasil.
- b) A população amarela experimentou um aumento significativo em relação ao último censo.
- c) A população indígena é a que apresentou a menor variação percentual ao longo da última década.
- d) Os pardos se tornaram o maior grupo étnico-racial do Brasil, superando os de cor da pele branca.
- e) A distribuição étnico-racial pelo território brasileiro permaneceu inalterada em comparação ao censo anterior.

12. Ainda com base na nova rodada de dados do Censo Demográfico de 2022 divulgados pelo IBGE, a respeito da distribuição geográfica da população pelo território, são feitas as seguintes afirmativas:

I - A população branca está mais concentrada na região Sul, sendo o maior percentual no estado do Rio Grande do Sul.

II - O grupo étnico-racial predominante no Norte do Brasil é o indígena, representando cerca de 30% de sua população.

III - A região com maior percentual de população preta é o Nordeste, mas o grupo étnico-racial predominante na região é o de pardos.

Está correto o que se afirma em:

- a) Apenas I.
- b) Apenas II.



c) Apenas III.

d) I e II.

e) I e III.

13. "O Brasil foi convidado a integrar o grupo de países produtores de petróleo como membro associado. A iniciativa partiu da Arábia Saudita, a maior exportadora da commodity no mundo, em meio à agenda do presidente Luiz Inácio Lula da Silva (PT) pelo Oriente Médio."

Retirado de: CNN Brasil. Publicado em: 04/12/2023. Acesso em 13/01/2024.

O bloco em questão é conhecido pela sigla:

a) Asean.

b) Opep+.

c) G-20.

d) Apec.

e) Nafta.

14. Foi promulgada, no mês de dezembro de 2023, Emenda Constitucional 132, que estabelece a chamada "reforma tributária", a primeira realizada no sistema tributário desde a Constituição Federal de 1988.

Essa reforma tem, entre seus principais pontos:

a) a simplificação, por meio da unificação de tributos em uma cobrança única, que será dividida entre os níveis federal e estadual/municipal.

b) a criação de um novo imposto cuja taxaçoão será progressiva, de acordo com os rendimentos mensais declarados pela pessoa no Imposto de Renda.

c) o estabelecimento de novas alíquotas para produtos importados, sobretudo àqueles que são produzidos internamente, com o objetivo de aumentar a competitividade da indústria nacional.

d) A transição da competência de cobrança do Imposto sobre a Propriedade Predial e Territorial Urbana (IPTU) para os Estados.

e) a isenção total de impostos para empresas que contratarem um percentual mínimo de jovens aprendizes, visando incentivar a geração de empregos para essa faixa etária.



15.



O comércio exterior brasileiro fechou 2023 batendo recorde histórico de exportação, com saldo comercial próximo dos US\$ 100 bilhões e aumento no número de empresas exportadoras. Os números consolidados da balança comercial do ano passado foram divulgados nesta sexta-feira (5/1) pelo Ministério do Desenvolvimento, Indústria, Comércio e Serviços.

Disponível em: www.gov.br/mdic. Acesso em 13/01/2024.

Com base nos seus conhecimentos a respeito do cenário econômico brasileiro e dos dados divulgados sobre a balança comercial de 2023, são feitas as seguintes afirmativas:

- I – O segmento econômico com maior participação nas exportações foi a indústria de transformação.
- II - Os três produtos mais exportados foram a soja em grãos, o petróleo bruto e o minério de ferro.
- III - Os principais compradores de produtos brasileiros foram, respectivamente, China, União Europeia e Estados Unidos.

Estão corretas:

- a) Apenas I.
- b) Apenas II.
- c) Apenas III.
- d) I e III.
- e) II e III.

16. "A agência de classificação de risco S&P Global Ratings elevou a nota de crédito do Brasil de BB- para BB nesta terça-feira (19/12). Essa classificação ainda indica uma posição de "grau especulativo".

Disponível em: G1 Globo. Acesso em 13/01/2024.

A elevação da nota de crédito é importante porque:

- a) é um indicativo de que o país passa por um elevado, estável e progressivo crescimento econômico.
- b) quanto maior é essa classificação, mais confiável o país é para obter crédito no setor financeiro internacional.
- c) sinaliza que a inflação no país está controlada e que, portanto, o Banco Central que pode reduzir as taxas de juros.
- d) indica aos investidores internacionais que o Brasil é apresenta grau de investimento com qualidade alta e risco baixo.
- e) Indica que o Brasil não enfrenta mais incertezas em suas condições financeiras.

17. "Após o colapso parcial de uma mina de sal-gema da Braskem em Maceió, capital do Alagoas, a Polícia Federal (PF) deflagrou na manhã desta quinta-feira (21/12) uma operação contra a empresa petroquímica para investigar possíveis crimes relacionados à exploração do minério".

Disponível em: Deutsche Welle. Acesso em 13/01/2024.

As investigações são feitas com base na suspeita de que:

- a) a empresa não seguia as legislações trabalhistas adequadas, impondo jornadas de trabalho exaustivas aos seus funcionários.
- b) a empresa praticava sonegação fiscal na produção e exportação do minério.
- c) a Braskem não desativou as operações de mineração, mesmo com seguidos alertas feitos pelo Serviço Geológico Brasileiro e Ministério Público.
- d) para continuar minerando, a empresa apresentou dados falsos e omitiu informações relevantes aos órgãos fiscalizadores.
- e) a extração de sal-gema gerou danos ambientais classificados como crime ambiental, devido a emissão de gases tóxicos na atmosfera.



18. O Congresso Nacional derrubou, em sessão conjunta nesta quinta-feira (14/12), o veto do presidente Luiz Inácio Lula da Silva (PT) ao trecho de uma proposta que estabelece o marco temporal para a demarcação de terras indígenas.

Disponível em: G1 Globo. Com adaptações. Acesso em 13/01/2024.

Em relação a esse assunto, assinale a alternativa correta:

- a) O Congresso Nacional decidiu suspender completamente o processo de demarcação de terras indígenas.
- b) Os povos indígenas terão direito à demarcação de terras independentemente da data da promulgação da Constituição Federal.
- c) A derrubada do veto impede qualquer forma de exploração, garimpo, instalação militar ou expansão viária em terras indígenas, mesmo com autorização do Congresso Nacional.
- d) Os povos indígenas perderam o direito à demarcação de terras, independentemente da data da ocupação.
- e) A demarcação de terras indígenas ficará condicionada à comprovação da presença da comunidade em 5 de outubro de 1988.

19. A Noruega anunciou nesta segunda-feira (11/12) um aporte de US\$ 50 milhões para o Fundo Amazônia. O valor equivale a aproximadamente R\$ 245 milhões.

Disponível em: Agência Brasil. Acesso em 13/01/2024.

Assinale a alternativa que descreve corretamente o que é o Fundo Amazônia:

- a) Um fundo de investimento internacional destinado a financiar projetos de desenvolvimento em toda a América do Sul.
- b) Um programa de incentivo fiscal para empresas atuantes na região amazônica visando a preservação ambiental.
- c) Um fundo de cooperação internacional voltado para a conservação e o desenvolvimento sustentável da Amazônia.
- d) Um órgão governamental responsável por regular as atividades econômicas na bacia amazônica.
- e) Uma organização não governamental dedicada à pesquisa científica na região amazônica.

20. A Organização das Nações Unidas (ONU) divulgou recentemente o documento "Estudo Global Sobre Homicídios", onde apresenta uma série de dados sobre a questão da violência no mundo. No estudo, aponta que Brasil liderou ranking de homicídios em 2021, registrando 45.562 mortes naquele ano.



A respeito desse assunto, são feitas as seguintes afirmativas:

I - O Brasil apresenta a maior taxa de homicídios por 100 mil habitantes no mundo.

II - Mesmo liderando o ranking, o Brasil teve uma redução no número de homicídios nos últimos cinco anos.

III - A maioria das vítimas de homicídios no Brasil são homens adultos.

IV - A África é o continente com o maior número absoluto de homicídios.

Está correto o que se afirma em:

a) I e II.

b) I e III.

c) I e IV

d) II e III

e) II e IV.

Acerca da realidade atual do Brasil, julgue os itens de 21 a 30.

21. O filme "Retratos Fantasmas", de Kleber Mendonça Filho, vai representar o Brasil na categoria de melhor filme estrangeiro, na premiação do Oscar de 2024. Será a primeira vez, desde 1999, que um longa metragem brasileiro, volta a disputar esse prêmio. Naquele ano, o filme "Central do Brasil", foi o representante nacional.

22. O número de homicídios no Brasil teve queda nos anos recentes. Vários fatores podem ser apontados para essa queda, como mudanças demográficas, no policiamento e no crescente domínio de certos grupos do crime organizado.

23. O Brasil está entre os dez maiores emissores de gases do efeito estufa do mundo. O setor que mais contribui para essas emissões é a mudança do uso da terra, onde se incluem o desmatamento e as queimadas.

24. O Brasil recebeu o desonroso prêmio de Fóssil do Dia, na COP28, realizada em Dubai, nos Emirados Árabes Unidos. O prêmio é concedido de forma irônica, uma vez por dia, durante as conferências climáticas da ONU, por organizações não-governamentais. A premiação se deu pelo fato de o desmatamento na Amazônia ter aumentado no ano de 2023.

25. O afundamento do solo em bairros de Maceió, capital de Alagoas, demonstra como a exploração desenfreada de recursos naturais, pode gerar impactos negativos na natureza, na sociedade e na economia.



26. O ano de 2023 estabeleceu um novo recorde de exportação para um único parceiro comercial. O Brasil exportou mais de US\$ 100 bilhões para a China. Outros importantes parceiros comerciais do Brasil são a União Europeia, os Estados Unidos e a China.
27. Devido ao bom desempenho do crescimento do Produto Interno Bruto (PIB) em 2023, o Brasil voltou a estar entre as dez maiores economias do mundo, conforme ranking do FMI (Fundo Monetário Internacional). Os Estados Unidos seguem sendo a maior economia do mundo, seguidos da China.
28. Após cerca de três décadas de discussão, foi aprovada e promulgada pelo Congresso Nacional uma Emenda Constitucional sobre a reforma tributária. Uma das críticas sobre a reforma é o elevado número de isenções para diversos setores. Estima-se que com isso, o Brasil terá uma das maiores alíquotas de Imposto sobre o Valor Agregado (IVA) entre os países que adotam esse sistema.
29. O Censo Demográfico de 2022 revelou que os homens são maioria na população brasileira. O único grupo étnico-racial em que as mulheres são maioria é o dos pretos.
30. O fato de os pardos serem o maior grupo étnico-racial do país e dos indígenas terem o maior crescimento populacional se deve fundamentalmente as taxas de natalidade superiores em relação os brancos, pretos e amarelos no Brasil.

No que diz respeito a assuntos da atualidade no mundo, julgue os itens de 31 a 35.

31. A COP28 foi mais uma conferência do clima, da Organização das Nações Unidas (ONU), que fracassou ao não conseguir incluir na sua declaração final a necessidade de se abandonar o uso de combustíveis fósseis, necessário para a transição energética para uma economia de baixo carbono.
32. O Acordo do Clima de Paris estabeleceu como meta a limitação do aumento da temperatura média do planeta Terra em 1,5º C, em relação a era pré-industrial. Esse é considerado o limite seguro das mudanças climáticas. No entanto, vários estudos científicos, como os do IPCC, têm indicado que esse limite será superado se não houver mudanças nas políticas atuais de emissão de gases estufa pelos países.
33. O estreito de Bal-el-Mandeb, entre o Iêmen e a África, o mar Vermelho e o canal de Suez são estratégicos para o comércio mundial. Localizados no Iêmen, os Houthis têm realizado ataques a navios comerciais no mar Vermelho, como forma de protestar contra o intervencionismo dos Estados Unidos na política do Oriente Médio.
34. Entre 2021 e 2023, os chilenos realizaram dois processos para a elaboração de uma nova Constituição para o país. Com características políticas e socioeconômicas muito distintas, as duas propostas de texto de uma nova Constituição foram rejeitadas em plebiscitos pela população do Chile.
35. O novo presidente da Argentina, Javier Milei, reafirmou o interesse do país em participar do bloco mundial dos países emergentes, em detrimento do estabelecimento de relações comerciais favoráveis com os Estados Unidos e a União Europeia.



GABARITO



- | | | |
|-------|-------|-------|
| 1. A | 13. B | 25. C |
| 2. C | 14. A | 26. C |
| 3. B | 15. E | 27. C |
| 4. D | 16. B | 28. C |
| 5. D | 17. D | 29. E |
| 6. C | 18. E | 30. E |
| 7. E | 19. C | 31. E |
| 8. D | 20. E | 32. C |
| 9. D | 21. E | 33. E |
| 10. A | 22. C | 34. C |
| 11. D | 23. C | 35. E |
| 12. E | 24. E | |



SIMULADO DE ATUALIDADES – JANEIRO 2024



1. A Agência das Nações Unidas de Assistência aos Refugiados da Palestina (UNRWA) enfrenta uma crise financeira que ameaça suas operações, após a suspensão das doações por parte de diversos países.

Considerando essas informações, analise as afirmativas a seguir:

I - A UNRWA é uma agência humanitária das Nações Unidas dedicada a fornecer assistência e proteção aos refugiados palestinos exclusivamente nas regiões de Gaza e da Cisjordânia.

II - Recentemente, países suspenderam suas doações à agência após acusações israelenses de envolvimento de funcionários da UNRWA em ataque do Hamas a Israel.

III - Israel critica a agência de longa data e a classificou como uma organização terrorista infiltrada por membros do Hamas.

Está correto o que se afirma em:

- a) Apenas I.
- b) Apenas II.
- c) Apenas III.
- d) Apenas I e II.
- e) Apenas I e III.

A violência em todo o Oriente Médio vem crescendo desde os ataques de 7 de outubro do Hamas contra Israel, que mataram cerca de 1.300 pessoas, e a subsequente invasão dos israelenses na Faixa de Gaza, onde mais de 26.000 pessoas foram mortas. A instabilidade na região tem aumentado, com o conflito se desenrolando em diversas outras frentes.

Considerando a expansão do conflito no Oriente Médio para além da guerra entre Israel e o Hamas, julgue os itens a seguir em C ou E (certo ou errado):

2. Os Estados Unidos manifestaram apoio a intenção israelense de invadir o sul do Líbano para combater o Hezbollah que vem realizando ataques ao Estado de Israel.



3. **Grandes companhias de navegação suspenderam ou reduziram o tráfego de navios comerciais no Mar Vermelho, devido aos ataques do grupo Houthi, o que motivou a reação dos Estados Unidos e do Reino Unido com ataques a posições dessa milícia iemenita.**
4. **No Iraque, grupos radicais têm lançado drones e mísseis contra bases americanas, provocando retaliações dos Estados Unidos e contribuindo para um conflito indireto entre EUA e Irã.**
5. **O território da Síria está envolvido nas ramificações do conflito, com ataques americanos e israelenses contra alvos vinculados ao Irã, aumentando as tensões na região.**
6. **Analistas acreditam que um ataque direto dos Estados Unidos a alvos no Irã é iminente, escalando sobremaneira as preocupações de que uma guerra de grandes proporções pode eclodir no Oriente Médio.**
7. **"Agricultores espanhóis bloquearam o tráfego em algumas das principais rodovias do país nesta terça-feira (6 fev.), juntando-se a manifestantes de outros países europeus.**

'Com diferentes matizes, em toda a União Europeia, temos os mesmos problemas', disse Donaciano Dujo, vice-presidente da Asaja, uma das maiores associações de agricultores da Espanha, à emissora nacional TVE."

Disponível em: Agência Brasil. Acesso em 10/02/2024. Adaptado.

Os manifestantes reivindicam

- a) revisão das leis trabalhistas para garantir melhores condições de trabalho para os agricultores.
- b) redução da burocracia e dos custos, além de uma maior proteção contra a concorrência externa ao bloco econômico europeu.
- c) implementação de novas tecnologias agrícolas para aumentar a produtividade.
- d) maior representação política dos agricultores nos parlamentos europeus.
- e) reformulação das políticas de imigração para atrair mais trabalhadores para o setor agrícola.

8. O presidente francês, Emmanuel Macron, nomeou Gabriel Attal como primeiro-ministro do país, no dia 09 de fevereiro de 2024. A respeito do novo premier, é correto afirmar que:

- a) nunca esteve envolvido formalmente na vida política antes de sua nomeação, tendo ganhado relevância como professor universitário e líder sindical.
- b) foi o vice-presidente da França durante o primeiro governo de Emmanuel Macron.
- c) era cotado como o sucessor de Macron na presidência, mas renunciou a sua campanha presidencial para assumir o cargo.



d) pertence ao principal partido de direita da França, o Reunião Nacional, tendo sido escolhido como uma estratégia política de Macron.

e) é a pessoa mais jovem a assumir o cargo, e também a primeira abertamente gay.

9. "Pelo segundo ano consecutivo, a China viu sua população diminuir em 2023 para 1,409 bilhão de pessoas, contra 1,411 bilhão no ano anterior, segundo o Escritório Nacional de Estatísticas, em relatório divulgado na manhã de quarta-feira em Pequim (noite de terça em Brasília)."

Disponível em: Folha de S. Paulo. Acesso em 10/02/2024.

O principal fator apontado por pesquisadores que explica a redução da população chinesa é:

- a) o aumento das taxas de imigração.
- b) a queda nos índices de urbanização.
- c) a redução nas taxas de natalidade.
- d) o aumento nas taxas de mortalidade.
- e) a política vigente do filho único.

10. "O Parlamento do país aprovou uma lei que proíbe o consumo de carne de cachorro, nesta terça-feira (9). A nova regra deve começar a valer apenas a partir de 2027 e punirá infratores com pena de dois anos de prisão ou multa equivalente a R\$ 110 mil."

Disponível em: g1. Acesso em 10/02/2024. Adaptado.

O país retratado no enunciado é:

- a) Japão.
- b) Coreia do Norte.
- c) China.
- d) Vietnã.
- e) Coreia do Sul.



11. "Duas ativistas jogaram neste domingo (28/01) sopa contra a Mona Lisa, a obra-prima de Leonardo da Vinci exposta no Museu do Louvre, em Paris. A tela original está protegida por uma parede de vidro instalada em 2005."

Disponível em: DW. Acesso em 10/02/2024. Adaptado.

Nos últimos anos, muitos ativistas têm usado a arte como alvo, objetivando:

- a) aumentar a conscientização sobre as mudanças climáticas.
- b) criticar a indústria cultural e a arte feita para as massas.
- c) protestar contra o turismo cultural.
- d) denunciar a falta de investimentos em museus.
- e) manifestar-se contra o sistema econômico atual.

12. Em janeiro de 2023, o meio futebolístico mundial foi enlutado pela morte de duas importantes personalidades, vencedoras da Copa do Mundo como jogadores e treinadores. Faleceram

- a) Mario Jorge Lobo Zagallo e Diego Maradona.
- b) Mario Jorge Lobo Zagallo e Edson Arantes do Nascimento.
- c) Edson Arantes do Nascimento e Franz Beckenbauer.
- d) Roberto Rivellino e Diego Maradona.
- e) Mario Jorge Lobo Zagallo e Franz Beckenbauer.

"O novo salário mínimo nacional, de R\$ 1.412, passa a valer a partir desta segunda-feira (1º jan.). O valor responde por um aumento de quase 7% (R\$ 92 a mais) em comparação aos R\$ 1.320 válidos até dezembro de 2023."

Disponível em: g1. Acesso em 10/02/2024. Adaptado.

A respeito do salário mínimo, julgue os itens a seguir em C ou E (certo ou errado):

13. A decisão sobre o valor de reajuste do salário mínimo obedece a uma fórmula que leva em consideração o resultado do Produto Interno Bruto (PIB) de dois anos antes.

14. O salário mínimo é usado como referência para diversos benefícios sociais, como os do Instituto Nacional do Seguro Social (INSS) e o seguro desemprego.



15. O reajuste ocorreu na mesma proporção que a inflação medida em 2023 pelo INPC (Índice Nacional de Preços ao Consumidor), sem nenhum ganho real.

16. Todos os estados brasileiros possuem o salário mínimo regional e isso acarreta uma diferença de 0,2% a 3% do valor estabelecido em nível nacional.

17. O salário mínimo gera impactos indiretos na economia, como o aumento do "salário médio" dos brasileiros e a elevação do poder de compra do trabalhador.

18. A respeito da situação da economia brasileira na atualidade, julgue os itens a seguir com V ou F (verdadeiro ou falso):

() A taxa de juros básica (taxa Selic) foi sucessivamente reduzida ao longo do ano de 2023, o que impactou no aumento da inflação no país.

() A inflação no país no ano de 2023 fechou dentro do intervalo permitido pela meta de inflação.

() O governo federal fechou o ano de 2023 com déficit nas contas públicas.

A sequência correta, de cima para baixo, é:

a) F - V - V.

b) F - F - V.

c) F - F - F.

d) V - V - V.

e) V - F - V.

19. "O governo federal aprovou um plano de ações para estimular o desenvolvimento do setor industrial brasileiro. O plano tem, como centro, metas e ações que, até 2033, pretendem estimular o desenvolvimento do país por meio de estímulos à inovação e à sustentabilidade em áreas estratégicas para investimento."

Disponível em: Agência Brasil. Acesso em 10/02/2024. Adaptado.

O novo programa industrial do país chama-se:

a) Programa Mais Produção.

b) Política Industrial Renovada.

c) Nova Indústria Brasil.



- d) Brasil em Desenvolvimento.
- e) Projeto Nacional de Crescimento Sustentável.

20. “O Brasil já tem 217.481 casos prováveis de dengue e 15 mortes confirmadas e 149 em investigação, nas primeiras semanas de 2024, segundo dados do Ministério da Saúde divulgados nesta terça-feira (30 jan.).

A incidência de dengue no país é de 107,1 casos para cada grupo de 100 mil habitantes. Isso representa um aumento de mais de três vezes em relação ao mesmo período no ano passado, quando o Brasil registrou 65.366 casos prováveis da doença."

Disponível em: CNN Brasil. Acesso em 10/02/2024. Adaptado.

A respeito da dengue, analise as afirmativas a seguir:

I - Mudanças climáticas, com altas temperaturas e intensos períodos chuvosos, influenciam no aumento de casos de dengue.

II - O mosquito transmissor da dengue também é responsável por transmitir outras doenças, como a Zika e a Chikungunya.

III - O Instituto Butantan finalizou recentemente a produção de uma vacina para a dengue, a Qdenga, aplicada em dose única em pessoas que já contraíram ou não a doença.

Está correto o que se afirma em:

- a) Apenas I.
- b) Apenas II.
- c) Apenas III.
- d) Apenas I e II.
- e) Apenas I e III.

21. Entre os anos de 2017 e 2022, a renda da elite brasileira (0,01% da população) teve um crescimento médio de 96%, enquanto os ganhos da imensa maioria da população adulta (os 95% mais pobres) não avançaram mais do que 33%. Diante desse contexto, a concentração de renda atingiu níveis inéditos.

A conclusão está em nota técnica elaborada pelo economista Sérgio Gobetti, publicada pelo Observatório de Política Fiscal do FGV Ibre (Instituto Brasileiro de Economia da Fundação Getúlio Vargas).



Assinale a alternativa que apresenta corretamente os dois fatores principais destacados no estudo que responderam por esse crescimento da renda no topo da elite brasileira:

- a) O fim dos impostos sobre heranças e a desregulamentação das leis trabalhistas.
- b) Redução dos impostos sobre grandes fortunas e sobre dividendos e o aumento dos impostos sobre o consumo.
- c) Crescimento dos ganhos com a atividade rural e o aumento do valor distribuído em forma de lucros e dividendos.
- d) O crescimento do setor de serviços e a expansão da atividade industrial.
- e) O aumento da concentração fundiária e a efetivação da reforma da previdência e trabalhista.

22. O presidente Luiz Inácio Lula da Silva sancionou, no dia 17 de janeiro, a lei que institui a Política Nacional de Trabalho Digno e Cidadania para População em Situação de Rua (PNTC Pop Rua). Uma das medidas previstas nesta lei é a:

- a) concessão subsidiada de moradias para indivíduos em situação de rua que busquem capacitação profissional, financiada pelo governo federal.
- b) implementação de um programa de microcrédito exclusivo para empresas que contratarem pessoas em situação de rua.
- c) criação de uma bolsa de qualificação profissional para custear despesas com alimentação e transporte às pessoas em situação de rua que participarem de cursos técnicos ou que escolherem aprimorar seu nível de escolaridade
- d) construção de unidades de acolhimento temporário para abrigar a população em situação de rua durante a noite.
- e) instituição de um sistema de cotas para ingresso em universidades públicas destinado exclusivamente à população em situação de rua.

A respeito de acontecimentos recentes sobre a política e a sociedade brasileira, julgue os itens a seguir em C ou E (certo ou errado):

23. Foi sancionada lei que inclui os crimes de bullying e cyberbullying no Código Penal, definindo-os como crimes sem o benefício do indulto e da fiança.

24. Conforme dados divulgados pelo Ministério da Justiça e Segurança Pública (MJSP), o Brasil fechou o ano de 2023 com o menor registro de Crimes Violentos Letais Intencionais (CVLI) desde 2010.



25. O programa Pé de Meia, lançado pelo governo federal, proporcionará uma bolsa de incentivo à permanência no ensino médio para alunos de baixa renda, com o objetivo de evitar a evasão escolar, um grave problema desse nível da educação básica.

26. O desmatamento apresentou queda em todos os biomas brasileiros no ano de 2023, devido ao maior investimento em prevenção e fiscalização.

No ano de 2024, importantes eleições ocorrerão pelo mundo, cujos resultados podem gerar diferentes reflexos na política e nas relações internacionais. Sobre essas eleições julgue os itens a seguir em C ou E (certo ou errado):

27. A movimentação política norte-americana indica, até o presente, uma reedição da disputa presidencial de 2020 entre Joe Biden e Donald Trump.

28. A eleição de um presidente pró-China, em janeiro, pode levar a diminuição das tensões e a uma reaproximação entre Taiwan e a segunda maior economia do mundo, em detrimento de décadas de alinhamento dos taiwaneses para com os Estados Unidos.

29. A Rússia realizará eleições presidenciais livres e abertas a ampla participação da oposição, que não diverge em relação a guerra na Ucrânia, por compartilhar das preocupações do presidente Wladimir Putin sobre a segurança nacional do país.

30. As eleições para o Parlamento Europeu envolvem a participação de todos os países-membros da União Europeia, único bloco econômico a alcançar o estágio de união econômica e monetária.

GABARITO



- | | | |
|-------|-------|-------|
| 1. B | 12. E | 23. E |
| 2. E | 13. C | 24. C |
| 3. C | 14. C | 25. C |
| 4. C | 15. E | 26. E |
| 5. C | 16. E | 27. C |
| 6. E | 17. C | 28. E |
| 7. B | 18. A | 29. E |
| 8. E | 19. C | 30. C |
| 9. C | 20. D | |
| 10. E | 21. C | |
| 11. A | 22. C | |



SIMULADO DE ATUALIDADES – JANEIRO DE 2024

QUESTÕES COMENTADAS

1. A Agência das Nações Unidas de Assistência aos Refugiados da Palestina (UNRWA) enfrenta uma crise financeira que ameaça suas operações, após a suspensão das doações por parte de diversos países.

Considerando essas informações, analise as afirmativas a seguir:

I - A UNRWA é uma agência humanitária das Nações Unidas dedicada a fornecer assistência e proteção aos refugiados palestinos exclusivamente nas regiões de Gaza e da Cisjordânia.

II - Recentemente, países suspenderam suas doações à agência após acusações israelenses de envolvimento de funcionários da UNRWA em ataque do Hamas a Israel.

III - Israel critica a agência de longa data e a classificou como uma organização terrorista infiltrada por membros do Hamas.

Está correto o que se afirma em:

- a) Apenas I.
- b) Apenas II.
- c) Apenas III.
- d) Apenas I e II.
- e) Apenas I e III.

COMENTÁRIO:

I – Incorreto. A Agência das Nações Unidas de Assistência aos Refugiados da Palestina (UNRWA, na sigla em inglês) é uma agência do desenvolvimento e de assistência humanitária que proporciona cuidados de saúde, serviços sociais, de educação e ajuda de emergência aos mais de 4 milhões de refugiados palestinos que vivem na Faixa de Gaza, Cisjordânia, Jordânia, Líbano e Síria. A agência emprega 32.000 pessoas em sua área de operações, 13.000 delas em Gaza.

II – Correto. Em janeiro de 2024, vários países doadores anunciaram a suspensão ou o congelamento do envio de recursos para a agência, após Israel ter afirmado que 12 funcionários da UNRWA participaram do ataque do Hamas no sul do país, em outubro de 2023.

III – Incorreto. Israel critica a agência de longa data, mas não a classificou como uma organização terrorista, embora afirme que membros do Hamas estão infiltrados na UNRWA. O país há muito questiona a sua atuação exclusiva aos palestinos (e não a da agência geral para o tema, o Escritório do Alto Comissariado das Nações Unidas para Refugiados — ACNUR), classificando seus métodos como antiquados, sobretudo o fato de oferecer o status de refugiado a todos os palestinos, mesmo os que não estão instalados em campos de refugiados, algo que o governo israelense diz prolongar a guerra de independência de 1948 e legitimar o chamado "direito ao retorno" as terras palestinas ocupadas por Israel por sucessivas gerações.



Gabarito: B.

A violência em todo o Oriente Médio vem crescendo desde os ataques de 7 de outubro do Hamas contra Israel, que mataram cerca de 1.300 pessoas, e a subsequente invasão dos israelenses na Faixa de Gaza, onde mais de 26.000 pessoas foram mortas. A instabilidade na região tem aumentado, com o conflito se desenrolando em diversas outras frentes.

Considerando a expansão do conflito no Oriente Médio para além da guerra entre Israel e o Hamas, julgue os itens a seguir em C ou E (certo ou errado):

2. Os Estados Unidos manifestaram apoio a intenção israelense de invadir o Sul do Líbano para combater o Hezbollah, que vem realizando ataques ao Estado de Israel.

COMENTÁRIO:

Cabe inicialmente destacar o que se denomina de Eixo da Resistência contra Israel e a influência dos Estados Unidos no Oriente Médio. Esse eixo é composto pelo Irã, que o lidera, e aliados, a Síria e milícias armadas em vários países: Hezbollah, no Líbano, os Houthis, no Iêmen, Hamas e Jihad Islâmica, na Faixa de Gaza e milícias iraquianas, no Iraque.

A guerra entre Israel e Hamas, iniciada em 7 de outubro de 2023, se expandiu e envolve diretamente ou indiretamente outras regiões, países e organizações do Oriente Médio. Uma dessas organizações é o Hezbollah, milícia armada xiita, baseada no Sul do Líbano, que vem travando ataques e combates com Israel, ao Norte. Não há uma guerra declarada de parte a parte, mas os ataques controlados se sucedem entre ambos. Todavia, Israel não manifestou a intenção de invadir o Sul do Líbano para combater o Hezbollah. Também não houve manifestação de apoio dos Estados Unidos para com Israel nesse sentido.

Gabarito: Errado.

3. Grandes companhias de navegação suspenderam ou reduziram o tráfego de navios comerciais no Mar Vermelho, devido aos ataques do grupo Houthi, o que motivou a reação dos Estados Unidos e do Reino Unido com ataques a posições dessa milícia iemenita.

COMENTÁRIO:

O grupo Houthi, uma milícia armada baseada no Iêmen, declarou guerra à Israel em solidariedade ao Hamas. O estratégico estreito de Bab el-Mandeb, um canal com 32 km de largura que separa o Iêmen, na Península Arábica, do Nordeste da África é controlado pelo grupo. Por esse estreito passa boa parte do comércio mundial de petróleo e de mercadorias em geral. É uma rota estratégica em direção ao canal de Suez e para o comércio entre a Ásia e a Europa.

Os houthis passaram a lançar uma série de ataques com mísseis contra navios cargueiros do Ocidente. Os insurgentes afirmam que estão atacando navios ligados a Israel, como represália pela guerra na Faixa de Gaza. E, em resposta, os EUA e o Reino Unido lançaram sucessivas rodadas de ataques contra os houthis.



Os ataques da milícia iemenita fizeram com que grandes companhias de navegação suspendessem ou reduzissem o tráfego de navios comerciais no Mar Vermelho, por questões de segurança. Com isso, passaram a fazer uma rota contornando o continente africano, com tempo maior de viagem e custos maiores de frete.

Gabarito: Certo.

4. No Iraque, grupos radicais têm lançado drones e mísseis contra bases americanas, provocando retaliações dos Estados Unidos e contribuindo para um conflito indireto entre EUA e Irã.

COMENTÁRIO:

Vários grupos radicais são apoiados pelo Irã no Iraque. No mês de janeiro, esses grupos lançaram ataques com drones e mísseis contra bases americanas, como a base aérea de Asad, no Oeste do país. Em represália, os Estados Unidos lançaram uma série de ataques aéreos na sequência. Não foi a primeira vez que as partes se atacaram; essas ofensivas são consideradas parte do conflito indireto entre iranianos e americanos.

Gabarito: Certo.

5. O território da Síria está envolvido nas ramificações do conflito, com ataques americanos e israelenses contra alvos vinculados ao Irã, aumentando as tensões na região.

COMENTÁRIO:

A Síria é aliada do Irã e inimiga de Israel. Na Guerra dos Seis Dias, em 1967, Israel tomou as Colinas de Golan dos sírios e posteriormente anexou-as ao seu território. A Síria reclama a devolução do território. O país está envolvido nas ramificações do conflito, com ataques americanos e israelenses contra alvos vinculados ao Irã, que aumentam a tensão na região.

Gabarito: Certo.

6. Analistas acreditam que um ataque direto dos Estados Unidos a alvos no Irã é iminente, escalando sobremaneira as preocupações de que uma guerra de grandes proporções pode eclodir no Oriente Médio.

COMENTÁRIO:

Não há esse tipo de análise. As tensões entre Estados Unidos e Irã se prolongam há várias décadas, desde 1979. No entanto, nenhum dos dois países tem interesse em uma guerra direta entre ambos.

Gabarito: Errado.

7. "Agricultores espanhóis bloquearam o tráfego em algumas das principais rodovias do país nesta terça-feira (6 fev.), juntando-se a manifestantes de outros países europeus.

'Com diferentes matizes, em toda a União Europeia, temos os mesmos problemas', disse Donaciano Dujo, vice-presidente da Asaja, uma das maiores associações de agricultores da Espanha, à emissora nacional TVE.'

Disponível em: Agência Brasil. Acesso em: 10/02/2024. Adaptado.



Os manifestantes reivindicam

- a) a revisão das leis trabalhistas para garantir melhores condições de trabalho para os agricultores.
- b) a redução da burocracia e dos custos, além de uma maior proteção contra a concorrência externa ao bloco econômico europeu.
- c) a implementação de novas tecnologias agrícolas para aumentar a produtividade.
- d) uma maior representação política dos agricultores nos parlamentos europeus.
- e) a reformulação das políticas de imigração para atrair mais trabalhadores para o setor agrícola.

COMENTÁRIO:

As manifestações dos agricultores espanhóis, em fevereiro de 2024, foram motivadas por uma série de questões críticas que afetam o setor agrícola europeu. As manifestações também ocorreram em vários outros países europeus, incluindo a Itália, a Espanha, a Romênia, a Polônia, a Grécia, a Alemanha, Portugal e os Países Baixos. Na França, ocorreram alguns dos protestos mais intensos e dramáticos.

Entre as principais reivindicações, destacam-se a simplificação da Política Agrícola Comum (PAC) da União Europeia, a luta contra os elevados custos de produção, a seca e as exigências ambientais e de segurança alimentar que tornam os produtos europeus mais caros em comparação com os importados. Além disso, os agricultores e pecuaristas expressaram preocupações com a burocracia e a complexidade das normas europeias, bem como com a concorrência que consideram desleal dos produtos estrangeiros. Portanto, a opção que melhor reflete as reivindicações dos manifestantes, com base nas informações disponíveis, é a opção (b): redução da burocracia e dos custos, além de uma maior proteção contra a concorrência externa ao bloco econômico europeu.

Gabarito: B.

8. O presidente francês, Emmanuel Macron, nomeou Gabriel Attal como primeiro-ministro do país, no dia 9 de fevereiro de 2024. A respeito do novo premier, é correto afirmar que:

- a) ele nunca esteve envolvido formalmente na vida política antes de sua nomeação, tendo ganhado relevância como professor universitário e líder sindical.
- b) ele foi o vice-presidente da França durante o primeiro governo de Emmanuel Macron.
- c) ele era cotado como o sucessor de Macron na presidência, mas renunciou à sua campanha presidencial para assumir o cargo.
- d) ele pertence ao principal partido de direita da França, o Reunião Nacional, tendo sido escolhido como uma estratégia política de Macron.
- e) ele é a pessoa mais jovem a assumir o cargo e a primeira abertamente gay.

COMENTÁRIO:



Em fevereiro de 2024, o presidente Emmanuel Macron nomeou Gabriel Attal como novo primeiro-ministro, após a renúncia de Élisabeth Borne. A remodelação no governo da França ocorre em um momento em que Macron procura dar um novo impulso ao seu segundo mandato, antes das eleições para o Parlamento Europeu no final de 2024.

Attal é a pessoa mais jovem a assumir o cargo de primeiro-ministro na história moderna do país, com 34 anos. Além disso, ele é o primeiro ocupante abertamente gay do Hôtel Matignon, residência oficial do primeiro-ministro francês. Antes de sua nomeação, Attal teve uma ascensão rápida na política, tendo sido anteriormente porta-voz do governo e ministro da Educação. Ele também foi membro do parlamento e se destacou como um brilhante debatedor.

Gabarito: E.

9. "Pelo segundo ano consecutivo, a China viu sua população diminuir em 2023 para 1,409 bilhão de pessoas, contra 1,411 bilhão no ano anterior, segundo o Escritório Nacional de Estatísticas, em relatório divulgado na manhã de quarta-feira em Pequim (noite de terça em Brasília)."

Disponível em: Folha de S. Paulo. Acesso em: 10/02/2024.

O principal fator apontado por pesquisadores que explica a redução da população chinesa é:

- a) o aumento das taxas de imigração.
- b) a queda nos índices de urbanização.
- c) a redução nas taxas de natalidade.
- d) o aumento nas taxas de mortalidade.
- e) a política vigente do filho único.

COMENTÁRIO:

A população da China diminuiu pelo segundo ano consecutivo. De 2022 para 2023, o número de habitantes passou de 1,411 bilhão para 1,409 bilhão de pessoas, segundo o Escritório Nacional de Estatísticas, em relatório divulgado no mês de janeiro de 2024.

A queda foi o dobro da anterior, que havia sido a primeira desde 1961. É resultado da diminuição nos nascimentos, que ficaram em 9,02 milhões em 2023, contra 9,56 milhões no ano anterior, e do aumento das mortes, que chegaram a 11,1 milhões, contra 10,4 milhões no ano anterior.

A diminuição da população tem reflexo nas perspectivas para a economia, em aspectos como a demanda já frágil por imóveis e o consumo de maneira geral.

Segundo a BBC News Brasil, a queda na taxa de natalidade é um dos principais motivos para essa diminuição, com a taxa caindo para 6,39 a cada 1.000 pessoas. Esse declínio na taxa de natalidade é atribuído a fatores econômicos, como o alto custo de vida e as prioridades profissionais, especialmente após três anos da pandemia de covid-19. Além disso, apesar da suspensão da política do filho único em 2015 e a introdução de



incentivos para encorajar a formação de famílias, essas medidas estão tendo pouco impacto em incentivar os casais a terem filhos ou mais filhos.

A imigração para a China não é expressiva, a urbanização segue aumentando e as taxas de mortalidade continuam em queda.

Gabarito: C.

10. "O Parlamento do país aprovou uma lei que proíbe o consumo de carne de cachorro, nesta terça-feira (9). A nova regra deve começar a valer apenas a partir de 2027 e punirá infratores com pena de dois anos de prisão ou multa equivalente a R\$ 110 mil."

Disponível em: g1. Acesso em: 10/02/2024. Adaptado.

O país retratado no enunciado é:

- a) Japão.
- b) Coreia do Norte.
- c) China.
- d) Vietnã.
- e) Coreia do Sul.

COMENTÁRIO:

A nova legislação mencionada no enunciado refere-se à lei aprovada pelo Parlamento da Coreia do Sul, que proíbe o abate e venda de cães para consumo de sua carne, com a proibição total prevista para entrar em vigor a partir de 2027. Essa medida reflete uma mudança significativa na cultura e nas práticas do país, onde o consumo de carne de cachorro tem sido uma tradição por séculos, mas que vem perdendo popularidade, especialmente entre as gerações mais jovens.

Gabarito: E.

11. "Duas ativistas jogaram neste domingo (28/01) sopa contra a Mona Lisa, a obra-prima de Leonardo da Vinci exposta no Museu do Louvre, em Paris. A tela original está protegida por uma parede de vidro instalada em 2005."

Disponível em: DW. Acesso em: 10/02/2024. Adaptado.

Nos últimos anos, muitos ativistas têm usado a arte como alvo, objetivando:

- a) aumentar a conscientização sobre as mudanças climáticas.



- b) criticar a indústria cultural e a arte feita para as massas.
- c) protestar contra o turismo cultural.
- d) denunciar a falta de investimentos em museus.
- e) manifestar-se contra o sistema econômico atual.

COMENTÁRIO:

As ativistas que jogaram sopa na Mona Lisa no Museu do Louvre afirmaram ter agido pelo "direito à alimentação saudável e sustentável", denunciando um "sistema agrícola doente". Esse ato foi parte de uma campanha de resistência civil que visa a provocar uma mudança radical na sociedade no âmbito climático e social. Portanto, o objetivo da ação foi destacar a necessidade de proteger o ambiente e as fontes de alimentos, alinhando-se com a opção "a" da questão.

O protesto em Paris segue uma série de outras ações recentes promovidas por ativistas do clima em museus europeus, a fim de chamar atenção para a causa do clima. Os grupos por trás dos atos garantem que o objetivo não é danificar as obras, pois sabem que estão protegidas.

Em novembro de 2022, ativistas do clima jogaram um líquido preto sobre um quadro do pintor austríaco Gustav Klimt, em um museu na Áustria. No mesmo mês, jovens se colaram a quadros de Francisco de Goya no Museu do Prado, em Madri (Espanha), e ativistas que derramaram sopa de tomate em uma pintura de Vincent van Gogh na National Gallery, em Londres (Inglaterra), foram processados. Ainda em novembro, ambientalistas jogaram purê de batatas sobre uma obra de Claude Monet r, uma galeria em Potsdam (Alemanha).

Gabarito: A.

12. Em janeiro de 2024, o meio futebolístico mundial foi enlutado pela morte de duas importantes personalidades, vencedoras da Copa do Mundo como jogadores e treinadores. Faleceram:

- a) Mario Jorge Lobo Zagallo e Diego Maradona.
- b) Mario Jorge Lobo Zagallo e Edson Arantes do Nascimento.
- c) Edson Arantes do Nascimento e Franz Beckenbauer.
- d) Roberto Rivellino e Diego Maradona.
- e) Mario Jorge Lobo Zagallo e Franz Beckenbauer.

COMENTÁRIO:

A questão se refere ao falecimento de Mario Jorge Lobo Zagallo e de Franz Beckenbauer. Os dois esportistas, mais o francês Didier Deschamps, foram os únicos três futebolistas a ganhar uma Copa do Mundo de Futebol como jogadores e técnicos.



Mario Jorge Lobo Zagallo faleceu no dia 5 de janeiro de 2024 e Franz Beckenbauer no dia 7 de janeiro.

O brasileiro Zagallo foi campeão mundial como jogador em 1958 e 1962 e como técnico em 1970, além de ter sido coordenador técnico em 1994. É o único tetracampeão do mundo. O alemão Beckenbauer foi campeão mundial como jogador em 1974 e como técnico em 1990. O francês Didier Deschamps, ainda vivo, foi campeão como jogador em 1998, na França, e como técnico em 2018, na Rússia.

Gabarito: E.

"O novo salário mínimo nacional, de R\$ 1.412, passa a valer a partir desta segunda-feira (1º jan.). O valor responde por um aumento de quase 7% (R\$ 92 a mais) em comparação aos R\$ 1.320 válidos até dezembro de 2023."

Disponível em: g1. Acesso em: 10/02/2024. Adaptado.

A respeito do salário mínimo, julgue os itens a seguir em C ou E (certo ou errado):

13. A decisão sobre o valor de reajuste do salário-mínimo obedece a uma fórmula que leva em consideração o resultado do Produto Interno Bruto (PIB) de dois anos anteriores.

COMENTÁRIO:

No dia 1º de janeiro, entrou em vigência o novo salário- mínimo nacional, de R\$ 1.412,00. O valor responde por um aumento de quase 7% (R\$ 92,00 a mais) em comparação aos R\$ 1.320, 00 válidos até dezembro de 2023. Como o nome já indica, o salário-mínimo é a menor remuneração que um trabalhador formal pode receber no país.

A Constituição diz que trabalhadores urbanos e rurais têm direito a um salário-mínimo, fixado em lei, nacionalmente unificado.

Esse valor deve ser capaz de atender às necessidades vitais básicas — como moradia, alimentação, educação, saúde, lazer, vestuário, higiene, transporte e previdência social — e deve ter reajustes periódicos que lhe preservem o poder aquisitivo, "sendo vedada sua vinculação para qualquer fim".

Ou seja: pela Constituição, o salário-mínimo tem que ser reajustado ao menos pela inflação, para garantir a manutenção do chamado "poder de compra". Se a inflação é de 10%, o salário tem de subir pelo menos 10% para garantir que seja possível comprar, na média, os mesmos produtos.

Nos governos Michel Temer e Jair Bolsonaro, o reajuste do salário mínimo seguiu exatamente essa regra. Foi reajustado apenas pela inflação, sem ganho real.

Em agosto de 2023, o Congresso Nacional aprovou uma medida provisória, publicada pelo governo Lula, em abril, que instituiu um novo mecanismo de reajuste do salário-mínimo que leva em conta dois fatores:

- a inflação medida pelo Índice Nacional de Preços ao Consumidor (INPC) até novembro, como prevê a Constituição;
- o índice de crescimento real do Produto Interno Bruto (PIB) dos dois anos anteriores.



Com isso, além dos 3,85% de inflação, o salário-mínimo de 2024 crescerá 3% (ganho real) equivalente à expansão do PIB em 2022.

Gabarito: Certo.

14. O salário-mínimo é usado como referência para diversos benefícios sociais, como os do Instituto Nacional do Seguro Social (INSS) e o seguro-desemprego.

COMENTÁRIO:

O salário-mínimo serve como base para o cálculo de diversos benefícios sociais e serviços que o utilizam como referência. Vejamos:

- abono salarial Programa de Integração Social (PIS)/ Programa de Formação do Patrimônio do Servidor Público (Pasep);
- benefícios do Instituto Nacional do Seguro Social (INSS);
- Benefício de Prestação Continuada (BPC);
- seguro-desemprego;
- os valores que permitem a inscrição no Cadastro Único;
- seguro-defeso;
- os montantes pagos no trabalho intermitente;
- o teto permitido para ajuizar ações;
- contribuições mensais dos Microempreendedores Individuais (MEIs).

A atualização do salário-mínimo impacta diretamente na economia, pois afeta o poder de compra dos trabalhadores e pode influenciar a inflação e outras variáveis econômicas.

Gabarito: Certo.

15. O reajuste ocorreu na mesma proporção que a inflação medida em 2023 pelo Índice Nacional de Preços ao Consumidor (INPC), sem nenhum ganho real.

COMENTÁRIO:

O reajuste do salário-mínimo para R\$ 1.412,00 representa um aumento nominal de quase 7%. Para avaliar se houve ganho real, é necessário comparar esse aumento com a inflação do período. Segundo dados do IBGE, o INPC acumulado até novembro de 2023 foi de 3,85%. Portanto, o aumento do salário-mínimo superou a inflação medida pelo INPC, indicando um ganho real para os trabalhadores que recebem o piso nacional.

Assim, o reajuste do salário-mínimo foi superior à inflação do ano anterior.

Gabarito: Errado.



16. Todos os estados brasileiros têm o salário-mínimo regional e isso acarreta uma diferença de 0,2% a 3% do valor estabelecido em nível nacional.

COMENTÁRIO:

Apenas cinco estados brasileiros têm um salário-mínimo regional: São Paulo, Rio de Janeiro, Paraná, Santa Catarina e Rio Grande do Sul. Os pisos salariais regionais contemplam várias faixas, com valores que variam significativamente e podem exceder o mínimo nacional em mais de 3%. Por exemplo, em 2023, o Paraná estabeleceu faixas de salário-mínimo regional que variavam de R\$ 1.749,02 a R\$ 2.017,02, o que representa um aumento bem acima da margem de 0,2% a 3% mencionada na questão.

Gabarito: Errado.

17. O salário-mínimo gera impactos indiretos na economia, como o aumento do "salário médio" dos brasileiros e a elevação do poder de compra do trabalhador.

COMENTÁRIO:

O salário-mínimo impacta a economia de várias formas. O seu reajuste, principalmente em valores reais, gera um aumento do "salário médio" dos brasileiros, a elevação do poder de compra do trabalhador, mais dinheiro em circulação, o aumento do consumo retroalimentando toda a atividade econômica, principalmente no Brasil, onde os salários são baixos e parcela significativa dos trabalhadores ganha o salário-mínimo ou um pouco mais. De acordo com informações divulgadas em maio pelo Departamento Intersindical de Estatística e Estudos Socioeconômicos (Dieese), o salário-mínimo serve de referência para 54 milhões de pessoas no Brasil – um em cada quatro brasileiros. O Dieese calcula ainda que 22,7 milhões de pessoas são diretamente atingidas no bolso pelo patamar do salário-mínimo.

Gabarito: Certo.

18. A respeito da situação da economia brasileira na atualidade, julgue os itens a seguir com V ou F (verdadeiro ou falso):

- () A taxa de juros básica (taxa Selic) foi sucessivamente reduzida ao longo do ano de 2023, o que impactou no aumento da inflação no país.
- () A inflação no país no ano de 2023 fechou dentro do intervalo permitido pela meta de inflação.
- () O governo federal fechou o ano de 2023 com déficit nas contas públicas.

A sequência correta, de cima para baixo, é:

- a) F - V - V.
- b) F - F - V.
- c) F - F - F.
- d) V - V - V.



e) V - F - V.

COMENTÁRIO:

A taxa de juros básica (taxa Selic) passou a ser reduzida a partir de agosto de 2023, pelo Comitê de Política Monetária (Copom), do Banco Central (BC). A Selic caiu de 13,75% ao ano, em junho, para 11,75% a.a., em dezembro de 2023. Os cortes na taxa básica foram possíveis pela trajetória de queda da inflação ao longo do ano de 2023. Ou seja, os cortes não impactaram no aumento da inflação, que fechou o ano em 4,62%. O percentual ficou dentro do intervalo permitido pela meta de inflação, que era de 3,25% em 2023, com tolerância de 1,5% para cima ou para baixo. Assim, a inflação poderia variar de 1,75% até 4,75%.

Por fim, o governo federal fechou o ano de 2023 com déficit primário de R\$ 230,54 bilhões nas contas públicas. Isso significa que o governo federal gastou mais do que arrecadou na sua despesa operacional.

Gabarito: A.

19. "O governo federal aprovou um plano de ações para estimular o desenvolvimento do setor industrial brasileiro. O plano tem, como centro, metas e ações que, até 2033, pretendem estimular o desenvolvimento do país por meio de estímulos à inovação e à sustentabilidade em áreas estratégicas para investimento."

Disponível em: Agência Brasil. Acesso em: 10/02/2024. Adaptado.

O novo programa industrial do país chama-se:

- a) Programa Mais Produção.
- b) Política Industrial Renovada.
- c) Nova Indústria Brasil.
- d) Brasil em Desenvolvimento.
- e) Projeto Nacional de Crescimento Sustentável.

COMENTÁRIO:

O Brasil passa por um processo de desindustrialização acelerada. Para reverter esse cenário e mudar a trajetória, o governo federal lançou o programa "Nova Indústria Brasil", que visa à neoindustrialização da nossa economia.

Esse programa é uma política industrial ambiciosa que objetiva guiar o país até 2033, com foco em sustentabilidade e inovação em setores estratégicos para investimento. A Nova Indústria Brasil foi elaborada após extensas discussões entre o governo e o setor produtivo, e é uma resposta ao processo de desindustrialização e ao desenvolvimento insuficiente de produtos com complexidade tecnológica. Com um orçamento significativo destinado a financiamentos, o programa pretende fortalecer a indústria brasileira, tornando-a mais competitiva, capaz de gerar empregos, elevar a renda nacional e reduzir desigualdades. As metas específicas do programa abrangem seis missões principais, incluindo: infraestrutura, moradia e



mobilidade; agroindústria; complexo industrial de saúde; transformação digital; bioeconomia e transição energética; e tecnologia de defesa.

Gabarito: C.

20. “O Brasil já tem 217.481 casos prováveis de dengue e 15 mortes confirmadas e 149 em investigação, nas primeiras semanas de 2024, segundo dados do Ministério da Saúde divulgados nesta terça-feira (30 jan.).

A incidência de dengue no país é de 107,1 casos para cada grupo de 100 mil habitantes. Isso representa um aumento de mais de três vezes em relação ao mesmo período no ano passado, quando o Brasil registrou 65.366 casos prováveis da doença."

Disponível em: CNN Brasil. Acesso em: 10/02/2024. Adaptado.

A respeito da dengue, analise as afirmativas a seguir:

I - Mudanças climáticas, com altas temperaturas e intensos períodos chuvosos, influenciam o aumento de casos de dengue.

II - O mosquito transmissor da dengue também é responsável por transmitir outras doenças, como a Zika e a Chikungunya.

III - O Instituto Butantan finalizou recentemente a produção de uma vacina para a dengue, a Qdenga, aplicada em dose única em pessoas que já contraíram ou não a doença.

Está correto o que se afirma em:

- a) Apenas I.
- b) Apenas II.
- c) Apenas III.
- d) Apenas I e II.
- e) Apenas I e III.

COMENTÁRIO:

I – Correto. Estudos indicam que as mudanças climáticas, com o aumento de temperaturas e períodos chuvosos mais intensos, estão diretamente relacionadas à elevação dos casos de dengue. O mosquito transmissor se reproduz em águas paradas e limpas. O calor acelera a sua reprodução. Em climas frios, a doença é praticamente inexistente. Um planeta mais quente é um planeta mais úmido, com mais chuvas e mais possibilidades de proliferação do mosquito e disseminação do vírus da dengue. O aquecimento global também está ampliando a área de abrangência geográfica do mosquito.



II – Correto. Além da dengue, o mosquito *Aedes aegypti* é o vetor responsável pela transmissão de outras doenças: Zika, Chikungunya e febre amarela urbana.

III – Incorreto. A vacina Qdenga foi desenvolvida pelo laboratório japonês Takeda Phama. O imunizante pode ser aplicado em pessoas que nunca contraíram e em pessoas que já contraíram a dengue. O esquema vacinal é em duas doses. Em dezembro de 2023, a Qdenga foi incorporada ao Sistema Único de Saúde (SUS), tornando o Brasil o primeiro país do mundo a oferecê-lo no sistema público universal. A vacina, no entanto, não é produzida em larga escala, limitando o número de doses que serão entregues ao SUS e a amplitude da imunização no Brasil. É a segunda vacina desenvolvida contra a dengue, a primeira foi a Dengvaxia, do laboratório francês Sanofi-Pasteur, aplicada em dose única, apenas para quem já contraiu a dengue. O Instituto Butantan está desenvolvendo uma vacina contra a dengue.

Gabarito: D.

21. Entre os anos de 2017 e 2022, a renda da elite brasileira (0,01% da população) teve um crescimento médio de 96%, enquanto os ganhos da imensa maioria da população adulta (os 95% mais pobres) não avançaram mais do que 33%. Diante desse contexto, a concentração de renda atingiu níveis inéditos.

A conclusão está em nota técnica elaborada pelo economista Sérgio Gobetti, publicada pelo Observatório de Política Fiscal do Instituto Brasileiro de Economia da Fundação Getúlio Vargas (FGV Ibre).

Assinale a alternativa que apresenta corretamente os dois fatores principais destacados no estudo que responderam por esse crescimento da renda no topo da elite brasileira:

- a) O fim dos impostos sobre heranças e a desregulamentação das leis trabalhistas.
- b) A redução dos impostos sobre grandes fortunas e dividendos e o aumento dos impostos sobre o consumo.
- c) O crescimento dos ganhos com a atividade rural e o aumento do valor distribuído em forma de lucros e dividendos.
- d) O crescimento do setor de serviços e a expansão da atividade industrial.
- e) O aumento da concentração fundiária e a efetivação da reforma da previdência e trabalhista.

COMENTÁRIO:

De acordo com a pesquisa realizada pelo economista Sérgio Gobetti, publicada pelo Observatório de Política Fiscal do Instituto Brasileiro de Economia da Fundação Getúlio Vargas (FGV Ibre), a renda de 15 mil pessoas pertencentes ao topo da pirâmide social no Brasil cresceu nos últimos anos até o triplo do ritmo observado entre o restante da população. Entre essa elite, que representa 0,01% da população, o crescimento médio da renda praticamente dobrou (96%) entre 2017 e 2022.

Ao ampliar a análise para identificar a renda do grupo 0,1% mais rico, formado por cerca de 154 mil pessoas, Gobetti constatou que ela cresceu em média 87% entre 2017 e 2022. O ganho mensal desses brasileiros subiu de R\$ 236 mil para R\$ 441 mil nos cinco anos do levantamento.

Na fatia 1% mais rica, o crescimento também foi alto, de 67%. Entre os 5% com mais ganhos, de 51%.



Gobetti ressalta que a proporção do bolo da renda nacional apropriada pelo 1% mais rico da sociedade brasileira cresceu de 20,4% para 23,7%; ou seja, mais de três pontos percentuais, o que é considerado muito para um período tão curto de tempo.

Segundo o estudo, a concentração de renda ocorre principalmente entre aqueles que ganham acima de R\$ 140 mil mensais líquidos. A fatia do bolo que fica com esse grupo cresceu de 9,2% para 11,9% entre 2017 e 2022.

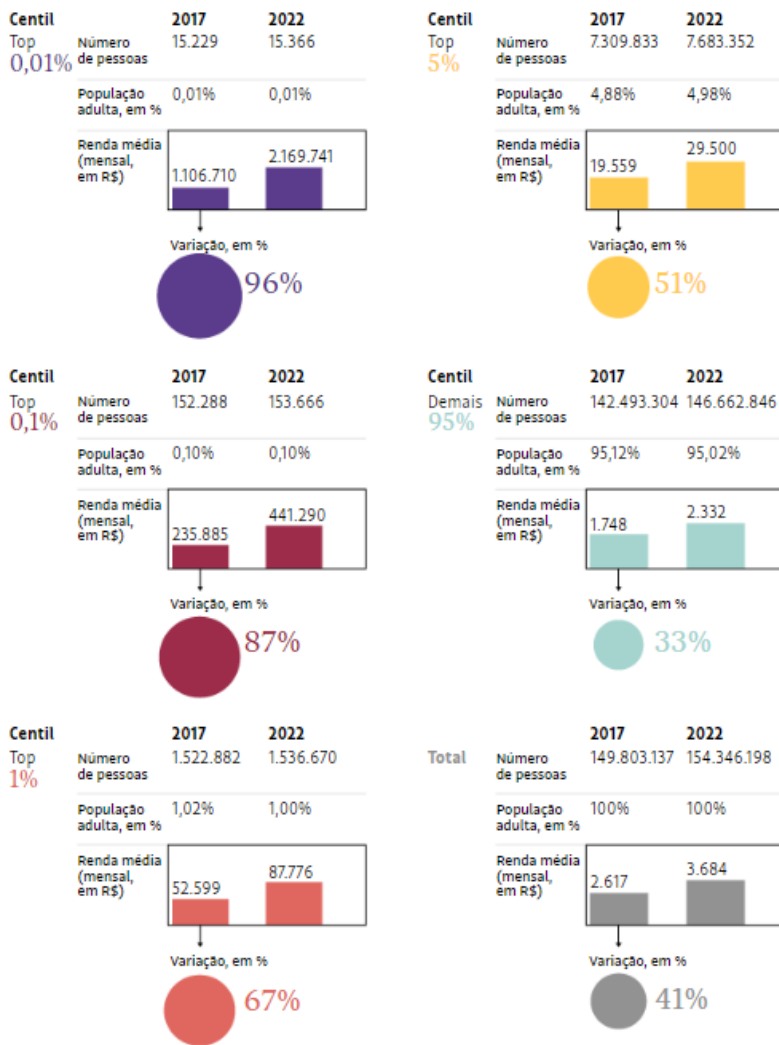
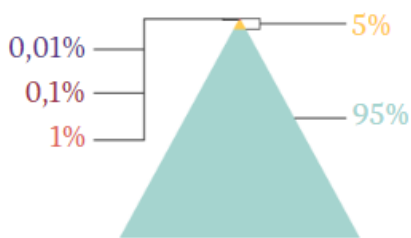
Os dois principais fatores que contribuíram para o crescimento da renda no topo da elite brasileira entre 2017 e 2022 foram o crescimento dos ganhos com a atividade rural e o aumento do valor distribuído em forma de lucros e dividendos.

Dentre os fatores que explicam o crescimento da renda na elite, Gobetti destaca dois em especial: os ganhos com a atividade rural (parcialmente isentas), que cresceu especialmente entre os mais ricos, e o aumento do valor distribuído em forma de lucros e dividendos, que passou de R\$ 371 bilhões, em 2017, para R\$ 830 bilhões, em 2022.

O gráfico a seguir ilustra a pesquisa citada na questão:



Evolução da renda dos mais ricos no Brasil



Fonte: Economista Sérgio Gobetti, com base em dados da Receita Federal

Gabarito: C.

22. O presidente Luiz Inácio Lula da Silva sancionou, no dia 17 de janeiro, a lei que institui a Política Nacional de Trabalho Digno e Cidadania para População em Situação de Rua (PNTC Pop Rua). Uma das medidas previstas nessa lei é:

a) a concessão subsidiada de moradias para indivíduos em situação de rua que busquem capacitação profissional, financiada pelo governo federal.



b) a implementação de um programa de microcrédito exclusivo para empresas que contratarem pessoas em situação de rua.

c) a criação de uma bolsa de qualificação profissional para custear despesas com alimentação e transporte às pessoas em situação de rua que participarem de cursos técnicos ou que escolherem aprimorar seu nível de escolaridade.

d) a construção de unidades de acolhimento temporário para abrigar a população em situação de rua durante a noite.

e) a instituição de um sistema de cotas para ingresso em universidades públicas destinado exclusivamente à população em situação de rua.

COMENTÁRIO:

O presidente Lula sancionou a Lei nº 14.821, de 16 de janeiro de 2024, que institui a Política Nacional de Trabalho Digno e Cidadania para População em Situação de Rua (PNTC Pop Rua).

Uma das medidas previstas pela legislação é a criação de uma bolsa de qualificação profissional para custear despesas com alimentação e transporte de pessoas em situação de rua que participarem de cursos técnicos ou que escolherem aprimorar seu nível de escolaridade.

Portanto, o gabarito é a letra “C”.

Segundo a lei, pessoas em situação de rua são aquelas que têm em comum a falta de moradia e que vivem em áreas públicas urbanas e/ou em unidades de acolhimento para pernoite eventual ou provisório.

Para que a política alcance o seu objetivo, foram estabelecidos três eixos estratégicos de organização:

- incentivar a geração de empregos e a contratação de pessoas em situação de rua;
- promover iniciativas de estímulo e apoio à permanência para qualificação profissional e elevação da escolaridade;
- e facilitar o acesso à renda por meio da implantação de uma política de acesso ao microcrédito para assim incentivar o associativismo e o empreendedorismo solidário.

Vejamos as demais alternativas:

a) incorreta. A lei não faz referência à concessão subsidiada de moradias para indivíduos em situação de rua que busquem capacitação profissional, financiada pelo governo federal. O Art. 21 da lei dispõe que a PNTC PopRua deverá garantir o acesso imediato à moradia dos beneficiários, por meio de políticas de habitação ou por programas específicos para a população em situação de rua, com o objetivo de promover a sustentabilidade do acesso ao trabalho, respeitadas a autonomia e a autodeterminação da pessoa em situação de rua.

b) incorreta. Não há a previsão na lei de implementação de um programa de microcrédito exclusivo para empresas que contratarem pessoas em situação de rua. A legislação estabelece que a política deverá criar incentivos à contratação da população em situação de rua, por meio da criação de um selo para empresas parceiras, e estimular a produção de circuitos de economia solidária.



d) incorreto. Uma das medidas de acolhimento adotadas para a população em situação de rua é o acolhimento. A PNTC PopRua deverá garantir o acesso imediato à moradia dos beneficiários, por meio de políticas de habitação ou por programas específicos para a população em situação de rua. Isso até pode resultar na construção de unidades de acolhimento temporário para abrigar a população em situação de rua durante a noite, porém, de forma expressa, essa determinação não conta da legislação, que é mais genérica.

e) incorreto. Não houve nenhuma alteração da lei de cotas nesse sentido e nem a criação de um sistema de cotas para ingresso em universidades públicas destinado exclusivamente à população em situação de rua.

Gabarito: C.

A respeito de acontecimentos recentes sobre a política e a sociedade brasileira, julgue os itens a seguir em C ou E (certo ou errado):

23. Foi sancionada lei que inclui os crimes de bullying e cyberbullying no Código Penal, definindo-os como crimes sem o benefício do indulto e da fiança.

COMENTÁRIO:

O presidente Lula sancionou a Lei nº 14.811, de 12 janeiro de 2024, que promoveu alterações no Código Penal e ao Estatuto da Criança e do Adolescente (ECA). A principal mudança é a inclusão dos crimes de *bullying* e *cyberbullying* no Código Penal.

O texto define *bullying* como a prática de intimidar sistematicamente, individualmente ou em grupo, uma ou mais pessoas, por meio de violência física ou psicológica, de forma intencional e repetitiva, sem motivação evidente. O *cyberbullying*, por sua vez, é caracterizado como o *bullying* praticado em ambiente virtual.

A lei também inclui quatro crimes praticados contra crianças e adolescentes no rol de crimes hediondos:

- Agenciar, facilitar, recrutar, coagir ou intermediar a participação de criança ou adolescente em imagens pornográficas;
- Adquirir, possuir ou armazenar imagem pornográfica com criança ou adolescente;
- Sequestrar ou manter em cárcere privado crianças e adolescentes;
- Traficar pessoas menores de 18 anos.

É importante ressaltar que os condenados por crimes hediondos, além das penas já previstas na legislação, não poderão receber benefícios de anistia, de indulto ou de fiança.

No entanto, essa inclusão como crimes hediondos é para o *bullying* e *cyberbullying* praticado contra crianças e adolescentes listados nos casos acima. Nos casos de *bullying* e *cyberbullying* contra adultos e outros tipos contra crianças e adolescentes pode caber sim os benefícios do indulto e da fiança no cumprimento da pena, nos termos da legislação.

Gabarito: Errado.



24. Conforme dados divulgados pelo Ministério da Justiça e Segurança Pública (MJSP), o Brasil fechou o ano de 2023 com o menor registro de Crimes Violentos Letais Intencionais (CVLI) desde 2010.

COMENTÁRIO:

Conforme dados divulgados pelo Ministério da Justiça e Segurança Pública (MJSP), em janeiro de 2024, por meio do Sistema Nacional de Informações de Segurança Pública (SINESP), no ano de 2023, o Brasil registrou o menor número de Crimes Violentos Letais Intencionais (CVLI) desde 2010. Em 2023, foram contabilizados 40.464 CVLIs, representando uma redução de 4,09% em comparação com o ano anterior, que teve 42.190 casos. Essa queda nos números é um indicativo de quase 2 mil vidas poupadas em relação a 2022.

Gabarito: Certo.

25. O programa Pé de Meia, lançado pelo governo federal, proporcionará uma bolsa de incentivo à permanência no Ensino Médio para alunos de baixa renda, com o objetivo de evitar a evasão escolar, um grave problema desse nível da Educação Básica.

COMENTÁRIO:

O Governo Federal lançou no mês de janeiro de 2024, o Programa Pé de Meia, que visa a combater a evasão escolar no Ensino Médio oferecendo uma bolsa de incentivo para alunos de baixa renda.

Dados do Instituto Nacional de Estudos e Pesquisas Educacionais Anísio Teixeira (Inep) de 2019 a 2020 mostram que a taxa de evasão no Ensino Médio é de 7,5%. Ou seja, 480 mil jovens estão fora das salas de aula no Brasil.

O programa Pé de Meia concederá uma bolsa de permanência no Ensino Médio para 2,5 milhões de alunos de baixa renda – com renda familiar de até R\$ 218,00 por pessoa. Os estudantes passarão a receber a bolsa já no 1º ano do Ensino Médio. Logo, quem concluir toda a etapa, terá direito a uma poupança de R\$ 9.200,00.

A poupança também terá um incentivo para que os estudantes se inscrevam e realizem o Exame Nacional do Ensino Médio (Enem).

A bolsa do Ensino Médio funcionará da seguinte forma:

- R\$ 200,00 – efetivação da matrícula no início do ano letivo;
- 9 parcelas de R\$ 200,00 – frequência comprovada no mês ou na média do período letivo transcorrido;
- R\$ 1.000,00 – parcela única a ser paga com a aprovação no ano letivo; e
- R\$ 200,00 – participação no Enem.

Gabarito: Certo.

26. O desmatamento apresentou queda em todos os biomas brasileiros no ano de 2023, devido ao maior investimento em prevenção e fiscalização.

COMENTÁRIO:



De acordo com o Relatório Anual de Desmatamento (RAD 2023) do MapBiomas, houve uma redução geral de 11,6% na taxa de desmatamento no Brasil em comparação com o ano anterior. Os dois biomas mais extensos do Brasil, a Amazônia e o Cerrado, somam mais de 85% da área total desmatada no país.

No entanto, pela primeira vez desde o início da série histórica do MapBiomas Alerta, em 2019, o Cerrado ultrapassou a Amazônia em área desmatada.

Em 2023, o Cerrado foi responsável por 61% do desmatamento no país, enquanto a Amazônia respondeu por 25%. No Cerrado, 1.110.326 hectares foram desmatados em 2023, um aumento de 68% em relação a 2022. Segundo o relatório, a expansão agropecuária foi o principal motor do desmatamento no Brasil, representando 97% do total.

Gabarito: Errado.

No ano de 2024, importantes eleições ocorrerão pelo mundo, cujos resultados podem gerar diferentes reflexos na política e nas relações internacionais. Sobre essas eleições julgue os itens a seguir em C ou E (certo ou errado):

27. A movimentação política norte-americana indica, até o presente, uma reedição da disputa presidencial de 2020 entre Joe Biden e Donald Trump.

COMENTÁRIO:

As eleições presidenciais nos Estados Unidos ocorrerão no dia 5 de novembro de 2024. Os candidatos dos dois partidos que dominam a política norte-americana já estão definidos, embora ainda não estejam oficializados pelas suas agremiações.

O ex-presidente Donald Trump será o candidato do Partido Republicano. O atual presidente Joe Biden vai concorrer à reeleição pelo Partido Democrata. Serão os mesmos candidatos das eleições de 2020, vencida de forma apertada pelo atual presidente.

Gabarito: Certo.

28. A eleição de um presidente pró-China, em janeiro, pode levar à diminuição das tensões e a uma reaproximação entre Taiwan e a segunda maior economia do mundo, em detrimento de décadas de alinhamento dos taiwaneses para com os Estados Unidos.

COMENTÁRIO:

A autodenominada República da China, mais conhecida como Taiwan, realizou eleições presidenciais em janeiro de 2024, vencidas por William Lai, do Partido Progressista Democrático (PDP).

O novo presidente e o seu partido são pró-soberania, defendem que Taiwan declare formalmente a sua independência, o que confronta a República Popular da China, que deseja que a ilha volte a fazer parte do país.

A eleição de Lai pode levar a um aumento das tensões com a China continental. Também vai seguir com o ativo alinhamento da ilha com os Estados Unidos, que são absolutamente decisivos no apoio político e segurança militar contra a China continental.



Gabarito: Errado.

29. A Rússia realizará eleições presidenciais livres e abertas a ampla participação da oposição, que não diverge em relação a guerra na Ucrânia, por compartilhar das preocupações do presidente Wladimir Putin sobre a segurança nacional do país.

COMENTÁRIO:

A Rússia realizará eleições em março de 2024. O país é governado pelo regime autoritário de Vladimir Putin, que é o favorito para vencer o pleito. O mandatário está no poder desde o final de 1999 e não terá candidatos opositores com reais chances de vitória. Os principais opositores do presidente estão inabilitados de concorrer, a liberdade política é controlada e a oposição é reprimida. Os outros três candidatos à presidente, todos deputados, são considerados fantoches; eles votaram a favor da guerra na Ucrânia no Parlamento e já fizeram declarações públicas de apoio a Putin.

Gabarito: Errado.

30. As eleições para o Parlamento Europeu envolvem a participação de todos os países-membros da União Europeia, único bloco econômico a alcançar o estágio de união econômica e monetária.

COMENTÁRIO:

A União Europeia é o único bloco regional a alcançar o estágio de união econômica e monetária. O bloco é formado por 29 países e tem uma moeda comum, o euro, que é adotado por 19 de seus países membros. Alcançou uma significativa integração política, tendo vários órgãos administrativos, orçamento próprio e um poder legislativo, o Parlamento da União Europeia. Em junho de 2024, serão realizadas as próximas eleições parlamentares, que envolvem todos os países-membros, que elegem deputados para o parlamento europeu.

Gabarito: Certo.



SIMULADO DE ATUALIDADES - FEVEREIRO DE 2024



1.



No mês de março de 2024, ocorreu a cerimônia do Oscar, a mais importante premiação da indústria cinematográfica dos Estados Unidos. Sobre os agraciados com a estatueta, assinale a alternativa correta:

- (A) O "Menino e a Garça" venceu na categoria de melhor filme internacional.
- (B) "Zona de Interesse" venceu na categoria de melhor filme de animação.
- (C) "Oppenheimer" venceu na categoria de melhor filme.
- (D) "War is Over!" venceu na categoria de melhor documentário.
- (E) "20 dias em Mariupol" venceu na categoria de melhor documentário de curta-metragem.



2.



Um clipe do líder da oposição russa Alexey Navalny, morto este ano, é reproduzido no palco durante o 96º Oscar Foto: Patrick T. Fallon/AFP

Oscar 2024: In Memoriam destaca Navalny e lembra de Tina Turner e Matthew Perry

O tradicional “in memoriam” do Oscar começou diferente em 2024. A Academia decidiu exibir um trecho do documentário Navalny, em que o principal opositor de Putin, morto este ano, fala sobre a possibilidade de morrer.

“Eu tenho algo bem óbvio para dizer. Vocês não têm autorização para desistir. Se eles decidirem me matar, isso significa que nós somos incrivelmente fortes. A única coisa necessária para o triunfo do mal é boas pessoas não fazerem nada”, diz Alexei Navalny, em russo, na gravação.

Estadão, publicado em 10 de março de 2024. Acesso em: 12/03/2024. Com adaptações.

Sobre a cerimônia do Oscar e assuntos relacionados na reportagem, analise as afirmativas a seguir:

I - Pelo segundo ano consecutivo, o Oscar de melhor documentário é vencido por um filme crítico ao presidente da Rússia, Vladimir Putin.

II - Com o filme "20 dias em Mariupol", do cineasta Mstyslav Chernov, a Ucrânia conquistou pela primeira vez uma premiação do Oscar.

III - O filme britânico "Zona de Interesse" retrata a vida de uma família nazista alemã que vivia ao lado do campo de concentração de Auschwitz.

IV - "Oppenheimer" conta a história do "pai da bomba atômica" e o desenvolvimento dessa arma de guerra.

Estão corretas as seguintes afirmativas:

(A) I, II e IV.



- (B) II, III e IV.
- (C) I, II e IV.
- (D) III e IV.
- (E) I, II, III e IV.

3. Fevereiro de 2024 marcou o nono mês consecutivo de recordes de calor na Terra, anunciaram cientistas do observatório europeu Copernicus nesta quinta-feira (7 mar.). O dado considera a temperatura média do ar.

G1, 07/03/2024. Acesso em: 12/03/2024. Com adaptações.

Sobre o tema em questão, assinale a alternativa incorreta.

- (A) O mês em questão assinalou o recorde de temperatura média na superfície terrestre e nos mares e oceanos.
- (B) Ao longo do ano de 2023, o planeta Terra bateu sucessivos recordes de dia mais quente da história, desde que começaram a ter medições regulares sobre a sua temperatura.
- (C) Para cientistas climáticos, o aquecimento contínuo do sistema climático continuará a conduzir o planeta a novos extremos climáticos.
- (D) Os recordes de temperaturas registrados nos últimos meses decorrem exclusivamente do aquecimento global, não tendo relações com fenômenos climáticos naturais.
- (E) O clima responde às concentrações reais de gases do efeito de estufa na atmosfera terrestre.

4. O Estado publicou uma nova lei que obriga estabelecimentos de saúde a exibirem um cartaz destacando a responsabilidade dos médicos em produzir receitas claras e legíveis. A iniciativa abrange estabelecimentos de saúde em todas as suas formas, incluindo hospitais, clínicas, laboratórios, farmácias e consultórios. A legibilidade das receitas é considerada obrigatória desde 1973.

Em nota, o Conselho Federal de Farmácia (CFF) afirmou que apoia qualquer medida que venha a contribuir “para que a legislação, flagrantemente desrespeitada por décadas, seja cumprida”. A medida, segundo a entidade, simplifica também o trabalho dos farmacêuticos no momento da dispensação dos medicamentos, garantindo que os pacientes recebam o tratamento adequado.

Estadão, publicado em 11 de março em 2024. Acesso em: 12/03/2024. Com adaptações.

A lei foi publicada pelo estado



- (A) do Rio de Janeiro.
- (B) da Bahia.
- (C) de São Paulo.
- (D) do Espírito Santo.
- (E) do Paraná.

5. A capital do estado foi a que mais esquentou no país em 2023. Os dados são do Centro Nacional de Monitoramento e Alerta de Desastres Naturais (Cemaden), do Governo Federal. A cidade chegou a registrar 4,2°C acima da média. Brasília (4°C) e Goiânia (3,6°C) aparecem em seguida. De acordo com a Cemaden, o El Niño foi a causa desta anomalia.

A capital que mais esquentou no ano de 2023 foi:

- (A) Palmas (TO).
- (B) Belo Horizonte (MG).
- (C) Cuiabá (MT).
- (D) Porto Velho (RO).
- (E) Teresina (PI).

6. A guerra entre a Rússia e a Ucrânia completou dois anos em fevereiro de 2024. Sobre o conflito, desde o seu início até o período atual, assinale a alternativa correta:

- (A) A economia da Rússia não entrou em colapso, conforme chegou a se prever, devido às duras sanções econômicas aplicadas contra o país.
- (B) A Ucrânia reconquistou novos territórios às vésperas do conflito completar dois anos, após longo período de estagnação de avanços territoriais no curso da guerra.
- (C) A União Europeia não conseguiu superar a crise energética devido ao corte do fornecimento do gás russo, embora tenha acelerado os planos de transição energética.
- (D) Com relação ao início da guerra, em geral, aumentou o apoio popular nos Estados Unidos e demais países da OTAN para o fornecimento de ajuda militar e financeira à Ucrânia.



(E) A guerra redesenhou o mapa da geopolítica mundial, a Índia, oficialmente neutra no início do conflito, passou a apoiar a Rússia posteriormente, beneficiada pelos generosos descontos na compra de petróleo russo.

7. O opositor estava preso desde 2021, quando retornou ao seu país depois de receber tratamento médico na Alemanha. Em 2020, a imprensa noticiou largamente no mundo o seu envenenamento, que o deixou em estado grave. À época, o governo alemão disse que ele foi envenenado com um agente químico nervoso chamado Novichok, conclusão que foi posteriormente apoiada por outros dois laboratórios na França e na Suécia.

Em fevereiro de 2023, veio a falecer na prisão. O serviço penitenciário do seu país alegou que ele “se sentiu mal depois de uma caminhada” e perdeu a consciência “quase imediatamente”, tendo uma morte súbita.

CNN Brasil, publicado em 17 de fevereiro de 2024. Acesso em: 10/03/2024. Com adaptações.

O país do opositor citado no texto é:

- (A) Coreia do Norte.
- (B) Cuba.
- (C) Belarus.
- (D) Venezuela.
- (E) Rússia.

8. O grupo rebelde Houthi, baseado no Iêmen, tem realizado, desde novembro de 2023, ataques a navios comerciais dos Estados Unidos e do Reino Unido com destino a Israel. Essa é uma forma de demonstrar apoio aos palestinos e ao Hamas, grupo extremista que controla a Faixa de Gaza e está em guerra com Israel.

Segundo os Estados Unidos, em fevereiro de 2023, o grupo atacou um navio que transportava milho do Brasil para o Irã, país que é seu principal aliado e líder do autodenominado "Eixo da Resistência". Os houthis disseram que realizaram o ataque por se tratar de um navio norte-americano.

Poder 360, publicado em 13 de fevereiro de 2024. Acesso em: 10/02/2024. Com adaptações.

Não faz parte do autodenominado "Eixo da Resistência":

- (A) O Estado Islâmico.
- (B) A Síria.



- (C) O Hezbollah.
- (D) A Jihad Islâmica da Palestina.
- (E) A Força Quds.

9. Desde o início do seu governo na Argentina, em dezembro de 2023, o presidente Javier Milei instaurou medidas de forte impacto no país. Sobre esse governo e a situação atual da Argentina, assinale a alternativa correta.

- (A) A inflação desacelerou rapidamente, mas a pobreza e o desemprego aumentaram no país.
- (B) O presidente conseguiu formar uma maioria no Congresso, o que permitiu aprovar a privatização da maior estatal do país, a petrolífera YPF.
- (C) O severo corte da gastos públicos fizeram com que a Argentina tivesse o primeiro superávit fiscal em 12 anos, no mês de janeiro de 2024.
- (D) O projeto de "lei ônibus" foi aprovado pela Câmara dos Deputados, após intensas negociações e modificações substanciais no seu texto.
- (E) O governo anunciou formalmente que desistiu de privatizar o Banco Central.

10. Duas tragédias impactaram o país no início de 2024. O ex-presidente por dois mandatos (de 2010 a 2014 e de 2018 a 2022) morreu na queda de um helicóptero em um lago, que ele mesmo pilotava. A outra tragédia foram os incêndios florestais que mataram mais de 130 pessoas, sendo a região turística Viña del Mar a mais atingida.

O ex-presidente e o país citados no texto são, respectivamente:

- (A) Hugo Chávez, Venezuela.
- (B) Sebastián Piñera, Chile.
- (C) Néstor Kirchner, Argentina.
- (D) Fidel Castro, Cuba.
- (E) Silvio Berlusconi, Itália.



Com relação a fatos ocorridos recentemente no mundo, julgue os itens a seguir em (C) certo ou (E) errado.

11. O presidente de El Salvador, Nayib Bukele, foi reeleito com ampla votação. O seu governo ganhou grande popularidade após suas duras medidas de repressão as gangues, que reduziu drasticamente a violência no país. Por outro lado, o governo está envolvido em controvérsias devido à concentração de poderes no executivo, levantando preocupações a respeito da erosão da democracia no país.

12. Uma empresa norte-americana fracassou na sua tentativa de ser a primeira a pousar um veículo privado na Lua, o módulo Odysseus. Se tivesse obtido sucesso, marcaria a primeira alunissagem dos Estados Unidos desde a missão tripulada Apollo no início da década de 1970.

13. A cantora Taylor Swift se tornou a primeira artista a ser tetracampeã da categoria Álbum do Ano no Grammy, principal prêmio da indústria fonográfica dos Estados Unidos. Swift também foi eleita a Pessoa do Ano de 2023 pela Revista Time. A turnê "The Eras Tour", da cantora, está movimentando a economia dos países mundo afora, incluindo o Brasil.

Durante uma entrevista coletiva em Adis Abeba, na Etiópia, o presidente Lula afirmou que o conflito entre Israel contra o grupo terrorista Hamas em Gaza "não é uma guerra, mas um genocídio", comparando a ação israelense ao Holocausto. Lula ainda reforçou a defesa histórica da diplomacia brasileira por uma solução de dois Estados e condenou Israel por desobedecer a todas as decisões das Nações Unidas.

"O que está acontecendo em Gaza não aconteceu em nenhum outro momento histórico, só quando Hitler resolveu matar os judeus", disse Lula na ocasião.

O Globo, publicado em 22 de fevereiro de 2024. Acesso em: 10/03/2024.

Sobre o tema em questão, julgue os itens a seguir em (C) certo ou (E) errado.

14. A fala do presidente brasileiro gerou uma dura reação do governo israelense, que declarou Lula "persona non grata" em Israel até que se retrate.

15. A declaração de Lula gerou um intenso debate entre governo e oposição no Brasil e inflamou os ânimos de apoiadores e opositores do presidente na sociedade brasileira. Em nível internacional, a fala não gerou grandes repercussões nos demais países, nem na imprensa internacional, como as ocorridas no Brasil e em Israel.

16. Diante da escalada das tensões diplomáticas, o Brasil retirou o seu embaixador de Israel por considerar que o diplomata recebeu tratamento humilhante da diplomacia israelense. Por outro lado, expulsou o embaixador israelense do país.

17. O G20 é um importante grupo diplomático de países quem tem o Brasil na sua presidência rotativa no ano de 2024. O grupo realizou duas importantes reuniões no mês de fevereiro: de chanceleres, no Rio de Janeiro, e de ministros de finanças e presidentes de bancos centrais, em São Paulo. Sobre essas reuniões, seus desdobramentos e temas relacionados, assinale a alternativa correta:



- (A) O grupo solicitou um imediato cessar-fogo na guerra entre Israel e Hamas.
- (B) De forma inédita, o grupo declarou apoio as pretensões do Brasil, Alemanha, Índia e Japão de ocuparem um assento como membros permanentes do Conselho de Segurança da ONU.
- (C) Por falta de apoio, o grupo financeiro abandonou as discussões sobre a criação de uma taxa mínima sobre os rendimentos dos super-ricos no mundo.
- (D) A origem do G20 atual está nas reuniões realizadas por ministros de finanças e presidentes de bancos centrais de países do grupo, conhecidas como o G20 financeiro.
- (E) Entre os temas em debate no grupo político, não se encontra a reforma na estrutura de organizações multilaterais como o FMI, Banco Mundial e OMC.

18. A escola de samba sagrou-se campeã do carnaval do Rio de Janeiro de 2024. A agremiação levou para o desfile o enredo “Arroboboi, Dangbé”, que homenageia a cobra sagrada dos africanos de Benin. O desfile mostrou a força da mulher negra ao representar um exército de mulheres, para desmistificar a batalha que transformou uma cobra em deusa na África.

A vice-campeã desfilou com o enredo “Com a sorte virada pra lua segundo o testamento da cigana Esmeralda”, que faz referência a um cordel escrito por um poeta paraibano. O poema narra a história de uma cigana que morre e deixa um testamento, e o documento se torna um manual da sorte para o povo cigano.

G1, publicado em 14 de fevereiro de 2024. Acesso em: 12/03/2024. Com adaptações.

A campeã e vice-campeã do carnaval do Rio de Janeiro foram, respectivamente:

- (A) Beija Flor e Portela.
- (B) Unidos do Viradouro e Imperatriz Leopoldinense.
- (C) Grande Rio e Mangueira.
- (D) Unidos da Tijuca e Império Serrano.
- (E) Salgueiro e Unidos da Tijuca.

19. Vencedora em 2023, a Mocidade Alegre é novamente campeã do carnaval de São Paulo de 2024, somando 12 títulos e despontando como segunda maior vencedora do desfile paulistano.

A escola de samba Vai-Vai, que terminou em 8º lugar, segue sendo a maior vencedora do carnaval paulistano, com 15 campeonatos. Após o retorno do acesso, chamou a atenção neste ano com um desfile dedicado ao hip-hop e marcado por críticas sociais.



O Globo, publicado em 14 de fevereiro de 2024. Acesso em: 11/03/2024. Com adaptações.

A Mocidade Alegre foi vencedora com o enredo

(A) “África, uma constelação de reis e rainhas”, com narrativas sobre reis e rainhas que marcaram o mundo com suas histórias de luta e de coragem e serviram de inspiração para a humanidade.

(B) “ADENLA - O Imperador nas terras do Rei”, que tem como personagens principais o orixá Oxossi, Rei de Ketu e o ex-jogador Adriano Imperador.

(C) “Do nosso solo para o mundo: o campo que preserva, o campo que produz, o campo que alimenta” com abordagem sobre as mudanças climáticas, sustentabilidade e preservação ambiental.

(D) “Brasiléia Desvairada: a busca de Mário de Andrade por um país”, sobre as expedições que o intelectual e escritor fez pelo Brasil.

(E) “A cabocla mística em rituais da floresta”, em homenagem à cantora paraense Fafá de Belém.

Autoridades sanitárias confirmaram 363 mortes por dengue no Brasil, em 2024. Há ainda 763 óbitos em investigação e que podem ter sido causados pela doença, totalizando 1.126 mortes confirmadas ou suspeitas até o momento. Os dados, divulgados hoje (11 mar.) em Brasília, são do Painel de Monitoramento das Arboviroses do Ministério da Saúde.

Até a última sexta-feira (8 mar.), quando os dados foram atualizados, o país contabilizava 1.342.086 casos de dengue e um coeficiente de incidência da doença de 660,9 casos para cada grupo de 100 mil habitantes.

Agência Brasil, publicado em 11 de março de 2024. Acesso em: 12/03/2024. Com adaptações.

Com relação ao atual surto de dengue, julgue os itens a seguir em (C) certo ou (E) errado.

20. Já foram identificados criadouros do mosquito em água contaminada com matéria orgânica e em água salobra, o que mostra grande capacidade do *Aedes aegypti* em se adaptar ao ambiente criado pelo homem.

21. As alterações climáticas estão mudando o período de preferência de circulação do mosquito transmissor do dia para a noite.

22. As mudanças climáticas também têm se revelado um fator que está contribuindo para a circulação do mosquito em locais antes considerados desfavoráveis para a espécie, como lugares mais frios e mais altos, aumentando ainda mais o número de casos de infecção em seres humanos.

23. Alguns países da América Latina e do Caribe também registraram casos de dengue, mas em baixa quantidade, não se configurando surtos, a exemplo do que ocorre no Brasil.



24. Os dois detentos que fugiram da penitenciária federal de Mossoró (RN) completam um mês foragidos nesta semana. Em 14 de fevereiro, Deibson Cabral Nascimento e Rogerio da Silva Mendonça conseguiram escapar durante a madrugada.

Mais de 600 agentes estão à procura dos detentos. Os investigadores concentram as buscas entre Mossoró e Baraúna, cidades separadas por uma distância de cerca de 35 km.

R7, publicado em 11 de março de 2024. Acesso em: 12/03/2024. Com adaptações.

Os dois fugitivos são suspeitos de pertencerem à facção criminosa

(A) Família do Norte.

(B) Primeiro Comando da Capital.

(C) Comando Vermelho.

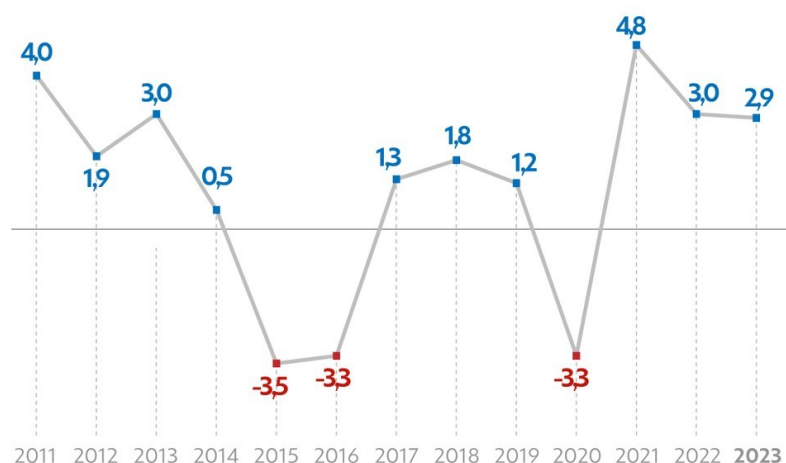
(D) Terceiro Comando Puro.

(E) Cartel de Sinaloa.

25.

Evolução do PIB

Ano a ano, em %



g1

Fonte: IBGE
Infográfico elaborado em: 01/03/2024

O Instituto Brasileiro de Geografia e Estatística (IBGE) divulgou que o Produto Interno Bruto (PIB) do Brasil cresceu 2,9% em 2023. O setor que mais contribuiu para esse resultado foi

(A) Serviços.



- (B) Mineração.
- (C) Indústria.
- (D) Exportações.
- (E) Agropecuária.

26. O Brasil voltou ao grupo das 10 maiores economias do mundo, segundo levantamento da agência de classificação de risco Austin Rating, divulgada após o resultado do PIB em 2023.

O cálculo é feito com base nas projeções do Fundo Monetário Internacional (FMI). No ano passado, o país estava na 11ª posição.

Essa é a primeira vez que o Brasil volta ao top 10 desde 2020. A economia brasileira chegou a ser a 7ª maior do mundo entre 2010 e 2014.

UOL, publicado em 1 de março de 2024. Acesso em: 05/03/2024. Com adaptações.

As projeções sobre a economia dos países também indicaram que, recentemente, o Japão perdeu o posto de 3ª maior economia do mundo para a/o:

- (A) França.
- (B) Coreia do Sul.
- (C) Índia.
- (D) Alemanha.
- (E) Reino Unido.

27. O Tribunal Superior Eleitoral aprovou, na última terça-feira (27 fev.), 12 resoluções eleitorais com as regras finais para a eleição municipal de outubro. O passo é obrigatório e deve ser realizado até 5 de março, no ano do pleito.

Foram aprovadas várias regras relacionadas à inteligência artificial, como a identificação dos conteúdos manipulados por IA e à restrição ao uso de programas de computador e avatares para intermediar a comunicação de campanha que simulem conversas com o candidato ou outro avatar que aparente ser uma pessoa real.

Também foi proibido de forma absoluta a utilização de conteúdo fabricado em formato de áudio, vídeo ou combinação de ambos e que tenha sido gerado ou manipulado digitalmente para criar, substituir ou alterar imagem ou voz de pessoa viva, falecida ou fictícia. Esse tipo de tecnologia é denominado:



- (A) Deep Web.
- (B) Chatbot.
- (C) Voice Clones.
- (D) Shallowfake.
- (E) Deepfake.

28. O país se tornou o primeiro do mundo a incluir o direito ao aborto na sua Constituição nacional.

A proposta foi aprovada por 780 votos favoráveis a 72 contrários em sessão conjunta das duas casas legislativas. Eram necessários três quintos de votos a favor para a aprovação.

O direito ao aborto já era garantido por lei desde 1975. Segundo a Lei Simone Veil, é permitido que as mulheres abortem até a 14ª semana de gestação. Pesquisas de opinião mostram a ampla aceitação do tema, com o apoio de mais de 80% dos seus habitantes.

A decisão de incluí-lo na Constituição foi tomada após a Suprema Corte dos Estados Unidos reverter, no ano de 2022, o julgamento Roe v. Wade, que havia reconhecido o direito das mulheres ao aborto no ano de 1973.

G1, publicado em 4 de março de 2024. Com adaptações.

O país em questão é

- (A) o Japão.
- (B) a França.
- (C) o Reino Unido.
- (D) o México.
- (E) a Dinamarca.

29. A Venezuela realizará eleições presidenciais em 28 de julho, disse o chefe do conselho eleitoral nacional, Elvis Amoroso, nesta terça-feira (5 mar.).

Espera-se que o presidente Nicolás Maduro concorra à reeleição, mas não está claro quem ele enfrentará como desafiante da oposição.



Maria Corina Machado, que venceu por esmagadora maioria as primárias da oposição em outubro, teve a proibição de concorrer a cargos públicos mantida pelo Supremo Tribunal venezuelano em janeiro, levando ao restabelecimento das sanções pelos Estados Unidos.

Reuters, publicado em 5 de março de 2024. Com adaptações.

A data da eleição coincide com

- (A) o Dia da Independência do país.
- (B) o aniversário da Proclamação da República venezuelana.
- (C) o aniversário do nascimento de Hugo Chávez.
- (D) a comemoração da data alusiva à refundação bolivariana.
- (E) o aniversário de nascimento de Simón Bolívar, o libertador da Grã-Colômbia.

30. O IBGE divulgou os dados do Censo Demográfico referente às características dos domicílios no país. Oito em cada dez brasileiros moram em casas, mas cresce a proporção de moradores que residem em apartamentos. O maior percentual de moradores em apartamentos segue no Sudeste (16,7%), seguido pelo Sul (14,4%). Na outra ponta, aparece o Norte (5,2%). O Piauí tem a maior proporção de pessoas residindo em casas. Já o Distrito Federal lidera a proporção em apartamentos. Apenas três municípios têm mais pessoas residindo em apartamentos do que em casas, que são:

- (A) Santos (SP), Balneário Camboriú (SC) e São Caetano do Sul (SP).
- (B) Brasília (DF), São Paulo (SP) e Rio de Janeiro (RJ).
- (C) Taboão da Serra (SP), Diadema (SP) e São João do Meriti (RJ).
- (D) Osasco (SP), Carapicuíba (SP) e Olinda (PE).
- (E) Fortaleza (CE), Nilópolis (RJ) e Senador Canedo (GO).



GABARITO



- | | | |
|-------|-------|-------|
| 1. C | 11. C | 21. E |
| 2. E | 12. E | 22. C |
| 3. D | 13. C | 23. E |
| 4. A | 14. C | 24. C |
| 5. B | 15. C | 25. E |
| 6. A | 16. E | 26. D |
| 7. E | 17. D | 27. E |
| 8. A | 18. B | 28. B |
| 9. C | 19. D | 29. C |
| 10. B | 20. C | 30. A |



SIMULADO DE ATUALIDADES – MARÇO DE 2024

Caro Aluno,

É com muita satisfação que disponibilizo este simulado de Atualidades com questões relacionadas aos principais fatos ocorridos no Brasil e no mundo no mês de março de 2024.

Antes de resolvê-lo, sugiro que você assista à aula de **Atualidades – Retrospectiva de Março de 2024**, que pode ser encontrada na Aula 08 ou na Aula Extra 01, nos meus cursos de Atualidades e Conhecimentos Gerais no site do Estratégia Concursos.

Após assistir à aula, você pode fazer o simulado.

Bons estudos!

Professor Leandro Signori.



LISTA DE QUESTÕES

O pequeno país caribenho do Haiti está à beira do colapso. Gangues armadas, violência e saques tornaram a vida cotidiana punitiva na nação de 11 milhões de habitantes, com escassez de alimentos e remédios. A crise política sem precedentes escalou com a renúncia do primeiro-ministro Ariel Henry, no dia 11 de março, mergulhando a nação ainda mais no caos.

Estadão, 12/03/2024. Adaptado.

Considerando a crise política e social atual no Haiti, julgue os itens a seguir em C ou E (Certo ou Errado):

1. A renúncia do primeiro-ministro Ariel Henry teve como principal motivo as pressões de países vizinhos devido às preocupações de transbordamento da escalada da violência do Haiti para os seus territórios.
2. O Haiti não tem um governante eleito desde o assassinato ainda não solucionado do presidente Jovenel Moïse, em 2021.
3. A violência e a pobreza já deslocaram centenas de milhares de haitianos para outros países próximos da América Latina, sendo essa a maior corrente migratória na atualidade.
4. País de colonização francesa, o Haiti foi a primeira nação latino-americano a declarar independência, em uma rebelião iniciada pelas pessoas escravizadas contra os colonizadores.
5. O Haiti é especialmente vulnerável aos desastres naturais devido à sua própria geografia. O país se encontra no caminho dos furacões do Oceano Atlântico e repousa sobre falhas geológicas que o tornam um território com alta atividade sísmica frequente.
6. Em decisão histórica, o Parlamento da França aprovou a inclusão do direito ao aborto em sua Constituição nacional, tornando-se o primeiro país do mundo a garantir constitucionalmente esse direito. A respeito dessa decisão, assinale a alternativa correta:
 - a) A decisão foi duramente criticada pela sociedade francesa em geral, que, na atualidade, o rejeita majoritariamente.
 - b) O direito ao aborto na França era garantido por lei desde 1975, tendo agora sido incluído na Constituição nacional.
 - c) Segundo o novo dispositivo constitucional, será permitido que as mulheres na França abortem até a 20ª semana de gestação.
 - d) A inclusão do direito ao aborto na Constituição francesa foi aprovada por unanimidade pelas duas câmaras do Parlamento.



e) A decisão do Parlamento francês foi influenciada por um julgamento da Suprema Corte estadunidense em 2022, que também reconheceu o aborto como um direito constitucional.

7. Vladimir Putin venceu as eleições presidenciais russas com 87% dos votos, segundo resultados preliminares divulgados neste domingo (17/03).

Agence France Presse (AFP), 17/03/2024. Adaptado.

Considerando a recente reeleição de Vladimir Putin para seu quinto mandato como presidente da Rússia, assinale a alternativa correta:

a) As eleições presidenciais russas foram consideradas legais, livres e justas pela comunidade internacional.

d) Apesar do elevado percentual de votos recebidos, esse foi o pior desempenho eleitoral de Putin ao longo das eleições em que venceu, o que reflete a queda de sua popularidade diante da população russa.

c) Embora a usual repressão política do governo de Vladimir Putin, os seus reais oponentes políticos tiveram oportunidade de concorrer nessas eleições presidenciais.

d) Como ocorre nos Estados Unidos, o presidente da Rússia é eleito de forma indireta, nesse caso, por um sistema parlamentar, que conta apenas com votos dos integrantes do Poder Legislativo russo.

e) Putin está no poder na Rússia desde o final de 1999 e, se completar um novo mandato, terá permanecido no poder por mais tempo do que qualquer outro líder russo desde Catarina, a Grande.

8. A Rússia diz ter prendido neste sábado (23/03) 11 pessoas, incluindo os quatro atiradores do atentado a uma casa de show em Moscou que deixou 133 mortos.

O atentado, reivindicado por um braço do grupo terrorista Estado Islâmico, aconteceu na casa de shows Crocus City Hall, na noite de sexta-feira (22/03), e é o pior dos últimos 20 anos na Rússia.

G1, 23/03/2024. Adaptado.

O Estado Islâmico considera a Rússia como inimiga devido:

a) ao apoio ao governo sírio de Bashar Al-Assad, que combateu o Estado Islâmico em seu território.

b) a uma aliança estratégica da Rússia com os Estados Unidos, país líder na luta contra o Estado Islâmico.

c) ao apoiar ao Talibã no Afeganistão, principal rival do Estado Islâmico na região.

d) à Rússia protagonizar uma longa história de conflitos religiosos com os islâmicos no Oriente Médio.

e) aos interesses econômicos russos no Afeganistão, onde atua o Estado Islâmico-Khorasan.



9. A embaixada da Venezuela pediu uma reunião ao governo de Luiz Inácio Lula da Silva (PT) após o presidente e o Itamaraty fazerem críticas ao processo eleitoral no país.

Veja, 29/03/2024.

A crítica do presidente brasileiro estava relacionada:

- a) ao desinteresse do povo venezuelano nas eleições presidenciais.
- b) à falta de representatividade dos partidos de oposição na Venezuela.
- c) ao impedimento de candidaturas opositoras.
- d) à não participação de observadores internacionais nas eleições.
- e) à influência excessiva de países estrangeiros nas eleições venezuelanas.

Paz parece mais distante que nunca nos seis meses de guerra entre Israel e Hamas.

Agence France Presse (AFP), 05/04/2024.

Com relação aos acontecimentos recentes ocorridos na Palestina e no Estado de Israel, julgue os itens a seguir em C ou E (Certo ou Errado):

10. Em meio à guerra entre Israel e Hamas, voltaram a ocorrer grandes protestos em Israel contra o governo de Benjamin Netanyahu, com reivindicações de novas eleições e contra as isenções do serviço militar concedidas a homens judeus ultraortodoxos.

11. O agravamento da fome e da entrada muito aquém do necessário de ajuda humanitária na Faixa de Gaza leva a situações dramáticas como a de palestinos que morreram afogados ao tentar alcançar alimentos e insumos lançados de paraquedas no mar nas últimas semanas.

12. A aprovação de uma resolução, pelo Conselho de Segurança da Organização das Nações Unidas, determinando um cessar-fogo durante o Ramadã, não impediu que Israel iniciasse um ataque de larga escala em Rafah, último reduto do Hamas na Faixa de Gaza.

13. A guerra entre Israel e Hamas levou a um significativo aumento do antissemitismo, ao passo em que diminuiu a intolerância antimuçulmana no mundo.

14. Um ataque aéreo israelense levou à morte de pessoas de vários países que atuavam em uma organização não governamental estadunidense de fornecimento de alimentos para os civis palestinos da Faixa de Gaza, o que aumentou as críticas sobre a utilização da fome como arma de guerra por parte de Israel.



15. A ponte Francis Scott Key, uma das principais pontes de Baltimore, cidade no estado de Maryland, nos Estados Unidos, desabou na madrugada de terça-feira (26/03). Oito pessoas caíram no Rio Patapsco, das quais duas foram resgatadas pelos bombeiros.

Associated Press (AP), 26/03/2024. Com adaptações.

Com base no assunto, assinale a alternativa que descreve corretamente a causa do colapso da ponte:

- a) Um ataque terrorista realizado por um grupo extremista causou a destruição da ponte.
- b) Uma falha estrutural devido à idade avançada da ponte foi responsável pelo desabamento.
- c) Uma explosão de um grande navio cargueiro nas proximidades da ponte afetou a estrutura e resultou no seu desabamento.
- d) A perda de energia de um cargueiro levou o navio a perder a rota e a atingir um dos pilares da ponte em alta velocidade.
- e) Um terremoto de grande magnitude atingiu a região, causando danos estruturais à ponte.

16. Sob oposição de conservadores e algumas associações médicas, entrou em vigor no país a lei que permite o uso da maconha para fins recreativos. A legislação, aprovada em fevereiro, estipula que pessoas com mais de 18 anos podem transportar 25 gramas de maconha em vias públicas, cultivar até 50 gramas e ter três plantas de *cannabis* por adulto em sua residência.

O governo do chanceler social-democrata Olaf Scholz, que está no poder em uma aliança com liberais e ecologistas, argumenta que a legalização vai ajudar a conter o crescimento do mercado clandestino da maconha. Mas as organizações de saúde alertaram que a legalização pode provocar o aumento do consumo entre os jovens.

G1, 01/04/2024. Com adaptações.

O país retratado pelo enunciado é a:

- a) Holanda.
- b) Alemanha.
- b) Espanha.
- c) Noruega.
- d) Suécia.



17. "O comitê da União Internacional de Ciências Geológicas organizou uma votação para decidir se o antropoceno pode ser aceito como época geológica. O resultado foi divulgado na terça-feira (5/03) e concluiu, por 12 votos a 4, que ainda não.

Desde 2009, os cientistas avaliam as possibilidades de oficializar o antropoceno como a época atual. Ela daria fim ao holoceno, que marca o último período da era glacial, 11 mil anos atrás."

Nexo Jornal, 08/03/2024.

Considerando essa discussão, qual das seguintes opções melhor descreve o Antropoceno?

- a) Uma era geológica caracterizada pela predominância do *homo sapiens* como principal espécie em escala planetária.
- b) Um período em que a humanidade começou a explorar outros planetas do sistema solar com o objetivo de colonização futura.
- c) Uma fase geológica marcada pela deterioração das condições ambientais terrestres causadas pelo aquecimento e resfriamento natural do planeta Terra.
- d) Uma época geológica proposta para descrever o impacto significativo da atividade humana nas mudanças climáticas e ambientais globais.
- e) Um intervalo de tempo marcado pelo surgimento da agricultura em larga escala e a domesticação de animais.

18. Representantes da Associação Europeia de Livre Comércio (Efta), bloco comercial formado por quatro países europeus, estiveram em visita oficial à América do Sul durante o mês de março para tratar de um acordo de livre comércio com o Mercosul. No Brasil, os representantes do bloco se reuniram com o vice-presidente e ministro do Desenvolvimento, Indústria, Comércio e Serviços, Geraldo Alckmin (PSB), e com os presidentes do Senado, senador Rodrigo Pacheco (PSD-MG), e da Câmara, deputado Arthur Lira (PP-AL).

Poder 360°, 20/03/2024. Adaptado.

O bloco comercial mencionado é formado por:

- a) Islândia, Liechtenstein, Noruega e Suíça.
- b) Alemanha, França, Itália e Bélgica.
- c) Noruega, Suécia, Finlândia e Islândia.
- d) Reino Unido, Irlanda, Escócia e País de Gales.
- e) Dinamarca, Holanda, Áustria e Portugal.



Sobre fatos recentes da economia brasileira, julgue os itens a seguir em C ou E (Certo ou Errado):

19. O Produto Interno Bruto (PIB) brasileiro registrou crescimento no ano de 2023, sendo o terceiro ano de crescimento positivo desde 2020, quando a pandemia de covid-19 foi responsável pelo crescimento negativo da economia.
20. Em 2023, o setor econômico que apresentou maior crescimento foi a agropecuária, em decorrência de uma safra excepcional de grãos com desempenho recorde da produção de soja e milho.
21. A progressiva redução na taxa de juros básica do país tem impactado positivamente a economia e favorecido o setor de investimentos no país, que registrou o primeiro aumento em três anos.
22. O Brasil se posiciona atualmente entre as 10 maiores economias do mundo, situando-se na nona posição. Em sua melhor posição histórica, entre os anos de 2010 e 2014, o país chegou a ser a 7ª maior economia do mundo.
23. Em sua última reunião para decidir sobre o futuro da Selic, a taxa de juros básica da economia brasileira, o Comitê de Política Monetária (Copom), do Banco Central, novamente deliberou pela sua redução, o que pode impactar positivamente a entrada de capitais estrangeiros no país buscando rentabilidade no mercado financeiro.
24. O Supremo Tribunal Federal (STF) fez 11 votos a 0 para esclarecer, em uma ação apresentada pelo PDT, os limites para a atuação das Forças Armadas. A decisão, unânime, contou com o aval dos ministros André Mendonça e Kassio Nunes Marques, que foram indicados à Corte pelo ex-presidente Jair Bolsonaro (PL).

Correio do Povo, 08/04/2024. Adaptado.

A respeito dessa decisão, assinale a alternativa que apresenta corretamente a decisão da maioria do STF:

- a) O Tribunal concluiu que a Constituição prevê um "poder moderador" das Forças Armadas sobre os poderes Executivo, Legislativo e Judiciário.
- b) Os ministros decidiram que a Constituição não permite uma "intervenção militar constitucional" ou o uso das Forças Armadas como poder moderador entre os poderes.
- c) A Corte formou o entendimento de que as Forças Armadas podem intervir em questões de política interna para garantir o equilíbrio entre os poderes.
- d) O STF autorizou que o presidente da República recorra às Forças Armadas contra o Congresso e o próprio STF em situações de crise institucional.
- e) Os ministros do STF decidiram que as Forças Armadas têm autonomia para agir em situações excepcionais em que a instabilidade política interna ameace a soberania nacional.



25. A noite do dia 23 e a madrugada do dia 24 de março entraram para a história do estado após uma enxurrada deixar rastros de destruição em 13 cidades. O temporal arrastou veículos, quebrou muros e imóveis, deixando ao menos 20 mortos e mais de 15,7 mil pessoas fora de casa. Uma semana após a tragédia, completada nesta sexta (29), milhares de pessoas ainda tentam reconstruir suas vidas e não sabem como vão retornar à rotina.

G1, 24/03/2024. Adaptado.

A tragédia causada pelo temporal ocorreu no estado:

- a) de Alagoas.
- b) da Bahia.
- c) do Espírito Santo.
- d) do Rio Janeiro.
- e) do Paraná.

26. A Câmara dos Deputados aprovou, no dia 20 de março, o projeto de lei que acaba com as saídas temporárias de presos em feriados e datas comemorativas, conhecido popularmente como "saidinha". A lei, entretanto, mantém uma autorização excepcional, para que detentos em regime semiaberto possam sair.

A saída temporária será permitida:

- a) somente para condenados que estejam cumprindo penas de até 4 anos de prisão em regime semiaberto.
- b) apenas para aqueles cujas famílias entrarem com recurso administrativo e se for aprovado.
- c) para participar de atividades de ressocialização, como palestras e cursos de cidadania e direitos humanos.
- d) caso o detento estudar fora da prisão, em supletivo profissionalizante, ensino médio ou superior.
- e) para realização de trabalho externo, porém, com vigilância da equipe prisional.

27. O mês de março de 2024 foi o mais quente já registrado no mundo e o 10º mês consecutivo de recorde de calor, com temperaturas máximas que também foram registradas nos oceanos.

Os recordes mensais de calor são registrados desde junho de 2023, e o mês de março não foi uma exceção. O Serviço de Mudança Climática Copernicus, da União Europeia, informou que a temperatura média de março de 2024 foi 1,68°C superior à registrada em um mês de março típico durante o período pré-industrial (1850-1900).



AFP, 09/04/2024. Adaptado.

Sobre o tema em questão, assinale a alternativa incorreta:

- a) Os sucessivos recordes levaram o planeta Terra a superar o limite de aquecimento de 1,5°C estabelecido na Cúpula do Clima de Paris em 2015.
- b) Os oceanos absorvem grande parte do excesso de calor produzido pelas atividades humanas e o seu aquecimento ameaça a sobrevivência de muitas espécies da vida marinha.
- c) Os recordes de temperatura foram influenciados pela anomalia climática El Niño.
- d) Segundo o Painel Intergovernamental sobre Mudanças Climáticas (IPCC) da ONU, o limite de aquecimento de 1,5°C do Acordo do Clima de Paris será superado no início da próxima década.
- e) Na atualidade, países em desenvolvimento são os que mais emitem gases estufa no mundo, embora as emissões *per capita* desses gases sejam superiores nos países desenvolvidos.

GABARITO

GABARITO



- | | | |
|------|-------|-------|
| 1. E | 10. C | 19. C |
| 2. C | 11. C | 20. C |
| 3. E | 12. E | 21. E |
| 4. C | 13. E | 22. C |
| 5. C | 14. C | 23. E |
| 6. B | 15. D | 24. B |
| 7. E | 16. B | 25. C |
| 8. A | 17. D | 26. D |
| 9. C | 18. A | 27. A |



SIMULADO DE ATUALIDADES - ABRIL DE 2024



Analise os textos a seguir:

"Big techs, capitalismo selvagem e o ataque de Elon Musk à democracia

A polêmica recente envolvendo o magnata Elon Musk e suas declarações que afrontam o Judiciário brasileiro expõe complexidades da era digital, com desafios e graves ameaças da tecnologia às democracias e à governança global."

Le Monde Diplomatique Brasil. Acesso em: 11 de maio de 2024.

"O conceito de democracia evoluiu (e segue evoluindo) de acordo com a busca pela superação de determinados desafios políticos do momento, como durante o controle aristocrático das cidades-Estado na Grécia Antiga, a monarquia absolutista na Europa moderna e os governos autoritários (militares, fascistas e nazistas) no século XX. Na Era Digital em que vivemos não seria diferente, sendo a internet e, particularmente, as mídias sociais um novo desafio imposto para o pensamento da democracia."

Os desafios impostos pelas mídias sociais à democracia, Beatriz Walid de Magalhães Naddi. Disponível em: <https://edisciplinas.usp.br>. Acesso em: 11 de maio de 2024.

As redes sociais configuram uma parte crítica da discussão e do debate público contemporâneo. Sendo assim, é de interesse público entender como essas plataformas afetam o debate democrático. A respeito desse assunto, julgue os itens a seguir em C ou E (certo ou errado):

- 1. No fato que serve como base para o primeiro texto, o empresário e dono da rede social X, antigo Twitter, Elon Musk, ameaçou descumprir decisões judiciais brasileiras sobre o bloqueio de perfis suspeitos de envolvimento em iniciativas atentatórias ao Estado Democrático de Direito, demonstrando o poder que grandes empresários têm sobre as instituições estatais.**
- 2. A regulamentação rígida das redes sociais por parte dos governos é apontada como a única forma eficaz de combater a disseminação de *fake news* e a manipulação da opinião pública, pois garante o controle estatal sobre a informação.**
- 3. A falta de uma legislação específica no Brasil para lidar com os desafios trazidos pelas redes sociais têm sido compensada pela atuação eficaz do Marco Civil da Internet, que estabelece regras claras sobre a responsabilidade das plataformas online.**
- 4. Uma das formas de manipulação da opinião pública nas redes sociais é o uso de *bots*, que são contas controladas por *softwares* que buscam imitar o comportamento humano e interferir em debates espontâneos, minando a confiança nas instituições democráticas.**



5. A disseminação de *fake news*, definidas como informações fabricadas e publicadas deliberadamente para enganar e induzir terceiros a acreditar em falsidades ou colocar em dúvida fatos verificáveis, é um fenômeno exclusivo das redes sociais modernas, não tendo precedentes históricos de manipulação da opinião pública por meio da desinformação.

6. O jornalismo ético e profissional não desempenha um papel relevante na luta contra a desinformação e a manipulação da opinião pública nas redes sociais, uma vez que sua credibilidade está em declínio e sua influência é limitada.

7. A educação digital pode contribuir significativamente para formar cidadãos digitalmente conscientes, capacitando-os a discernir informações verdadeiras de *fake news* e a participar de forma responsável nas redes sociais, promovendo, assim, uma cultura democrática de participação informada.

8. A ascensão das *fake news* e da pós-verdade tem sido associada à intensificação de discursos extremistas na sociedade, como exemplificado pelos resultados do referendo do Brexit e das eleições presidenciais nos Estados Unidos em 2016.

9. "Mais de 1.000 manifestantes pró-Palestina foram presos nas últimas duas semanas em universidades americanas em diversos Estados como Texas, Utah, Virgínia, Carolina do Norte, Novo México, Connecticut, Louisiana, Califórnia e Nova Jersey, alguns após confrontos com policiais."

Disponível em: g1.globo. Acesso em: 11 de maio de 2024.

O que motivou os protestos pró-Palestina nas universidades americanas?

- A) A discriminação de estudantes e professores judeus nos *campi* universitários.
- B) A proibição da entrada de palestinos e outros países muçulmanos nos Estados Unidos.
- C) A resposta à ofensiva de Israel em Gaza, desencadeada após um ataque do grupo Hamas.
- D) O financiamento militar e o apoio político dos Estados Unidos à Gaza na guerra com Israel.
- E) A crescente censura governamental sobre as críticas que têm sido feitas à Israel e suas políticas de guerra.

10. "O presidente dos EUA, Joe Biden, sancionou nesta quarta-feira (24/4) um projeto de lei que determina a proibição do TikTok, a menos que seu proprietário chinês, a ByteDance, venda a operação americana da empresa em um prazo de até nove meses."

Disponível em: BBC Brasil. Acesso em: 11 de maio de 2024.

Quais são as principais preocupações que levaram os legisladores dos Estados Unidos a pressionarem por uma lei que proíba o TikTok?



- A) Possíveis ameaças à concorrência no mercado de aplicativos de mídia social.
- B) Preocupações com a segurança dos dados dos usuários e suas ligações com o governo chinês.
- C) Problemas relacionados à qualidade e ao conteúdo dos vídeos compartilhados no aplicativo.
- D) Desconfiança com relação à capacidade da empresa-mãe, ByteDance, de manter a operação do TikTok nos EUA.
- E) Receios de que o TikTok prejudique a liberdade de expressão e a diversidade de opiniões nos Estados Unidos.

Portugal tem sido alvo de discussões sobre a sua responsabilidade histórica com relação à escravidão no Brasil durante o período Colonial. Recentemente, o presidente português, Marcelo Rebelo de Sousa, afirmou que seu país deve pagar pelos danos causados pela escravidão e pelos crimes cometidos durante esse período.

Diante desse contexto, julgue os itens a seguir em C ou E (certo ou errado):

- 11. O presidente Marcelo Rebelo de Sousa sugeriu que Portugal poderia pagar uma indenização em dinheiro aos descendentes das vítimas da escravidão no Brasil.**
- 12. O movimento de reconhecimento e de reparação pelo envolvimento histórico e atuação na escravidão cresceu ao longo dos anos, com diversos outros países europeus se manifestando publicamente sobre o tema.**
- 13. Apesar de ter sido o principal responsável pelo tráfico transatlântico de escravos africanos para o Brasil, lucrando com a venda e exploração desses indivíduos, Portugal também foi responsável por abolir a escravidão no Brasil logo após a independência do país, em 1822, garantindo a liberdade para todos os escravos.**
- 14. A criação de museus, centros de memórias e outros equipamentos públicos que reconheçam os impactos da colonização pode ser considerada como uma importante medida de reparação aos danos causados pela escravidão.**
- 15. O ensino da História e Cultura Afro-Brasileira e Africana nas escolas brasileira, que foi tornado obrigatório por meio de lei sancionada em 2003, ainda enfrenta dificuldades, pois exige um esforço para a formação de professores, produção de materiais didáticos e uma reorganização das próprias escolas.**
- 16. A recente invasão da embaixada do México no Equador gerou uma crise diplomática entre os dois países. Acerca desse contexto, assinale a alternativa correta:**
 - A) A ação foi desencadeada após o México conceder asilo político ao ex-vice-presidente equatoriano Jorge Glas, que estava refugiado na embaixada em meio a investigações que o acusavam de corrupção.



- B) A invasão foi uma resposta das forças policiais equatorianas às acusações de que o México estava conduzindo atividades ilegais em território equatoriano, violando a soberania nacional.
- C) A invasão ocorreu devido à suspeita de que a embaixada estava sendo usada como esconderijo por um criminoso internacional procurado pela Interpol.
- D) A medida foi tomada em retaliação ao México por sua recusa em cooperar com investigações sobre o narcotráfico e a elevada criminalidade que assolam o Equador.
- E) A invasão foi uma ação coordenada entre o Equador e os Estados Unidos para deter membros de um cartel de drogas que estavam escondidos na embaixada, que não contou com apoio do México.

17. O país do Oriente Médio se somou aos mais de 70 países que criminalizam a homossexualidade no mundo.

A nova lei promulgada impõe penas de até 15 anos de prisão para indivíduos que mantêm relações homoafetivas. A justificativa do Parlamento se apoia na “proteção dos valores religiosos” e da “moralidade social”, conforme expresso na própria legislação, levantando questões amplas sobre os impactos dessas escolhas legislativas na vida milhares de pessoas e na imagem do país perante outros países.

A resposta global foi rápida e amplamente crítica. Muitos países e organizações internacionais viram essa decisão como um ataque direto aos direitos da comunidade LGBT nacional.

Disponível em: O Antagonista. Com adaptações. Acesso em: 11 de maio de 2024.

A legislação em questão foi aprovada

- A) no Paquistão.
- B) no Afeganistão.
- C) na Maurtânia.
- D) no Iraque.
- E) na Nigéria.

Os temporais que atingem o Rio Grande do Sul desde 29 de abril já deixaram 148 pessoas mortas, até o dia 14 de maio, segundo dados da Defesa Civil acrescida de órgãos locais, como Corpo de Bombeiros, prefeituras e Brigada Militar. As áreas mais atingidas são as regiões Central, dos Vales, Serra e Metropolitana de Porto Alegre.

A respeito desse assunto, julgue os itens a seguir em C ou E (certo ou errado):



18. Na capital do estado, Porto Alegre, e em municípios próximos, pertencentes à sua região metropolitana, como Canoas e Eldorado do Sul, grandes áreas foram alagadas em decorrência da elevação do nível do Lago Guaíba para um recorde acima dos 5 metros de altura.
19. Apesar do elevado número de óbitos, desaparecidos e desabrigados e os incontáveis prejuízos à infraestrutura do estado, a elevada precipitação potencializará a safra agrícola do estado, que, segundo pesquisadores, alcançará uma produção recorde em 2024.
20. As causas das chuvas extremas e das enchentes no Rio Grande do Sul são multifatoriais, envolvendo não apenas o aquecimento global, mas também o fenômeno *El Niño*, que contribui para o bloqueio de frentes frias e a intensificação da instabilidade sobre o estado.
21. Em razão da falta de evidências científicas confiáveis, muitos cientistas acreditam que não há razão para acreditar que o ser humano e suas atividades econômicas sejam causadores das mudanças climáticas globais e, portanto, que o fenômeno dos eventos climáticos extremos, como as chuvas torrenciais ou secas prolongadas, deve ser combatido sob outro viés e perspectiva.
22. A impermeabilização do solo em áreas urbanas é apontada como uma das principais causas do aumento das enchentes que ocorreram no Rio Grande do Sul e que têm ocorrido frequentemente no Brasil, pois diminui a capacidade de escoamento e infiltração da água das chuvas.
23. Devido à falta de planejamento urbano e a ocupação de áreas de risco em função da segregação socioespacial, as enchentes e os deslizamentos de encostas são fenômenos que ocorrem apenas em áreas urbanas.
24. A retificação e a canalização dos cursos d'água são apontadas como soluções possíveis para amenizar o efeito devastador das enchentes em áreas urbanas, pois contribuem para amenizar a velocidade das águas, diminuindo a força da correnteza.
25. Considerando que as chuvas extremas e as enchentes ocorridas no Rio Grande do Sul são eventos climáticos extremos, é possível afirmar que fazem parte do novo normal climático, conceito elaborado por climatólogos e que caracteriza o aumento da frequência e da intensidade desses eventos.
26. O desmatamento dos biomas brasileiros, em especial o Cerrado e a Floresta Amazônica, pode influenciar indiretamente o aumento das chuvas extremas no Rio Grande do Sul e em outras regiões brasileira, devido à redução da evapotranspiração e à modificação do clima regional, ao mesmo tempo em que pode potencializar a aridez em outras regiões.
27. "O IBGE (Instituto Brasileiro de Geografia e Estatística) lançou na última 3ª feira (9.abr.2024) um mapa-múndi em que o Brasil aparece no centro do mundo. O documento faz parte da 9ª edição do Atlas Geográfico Escolar, publicação do instituto com informações sobre geografia, estatística e cartográfica voltada para o público escolar"

Disponível em: Poder 360. Acesso em: 11 de maio de 2024.

A respeito do novo mapa-múndi publicado pelo IBGE, analise as afirmativas a seguir:



I - A mudança é vista como simbólica dentro da geopolítica, pois a ideia de posicionar o Brasil no centro rompe com a ideia eurocentrista do mapa-múndi tradicional.

II - O mapa indica que as Ilhas Malvinas e as Ilhas Geórgia do Sul e Sandwich do Sul, alvos de disputa entre Argentina e Reino Unido, aparecem como territórios britânicos, o que está de acordo com a posição do Itamaraty de apoio ao Reino Unido.

III - A nova versão também inclui a marcação dos países que compõem o G20 e dos com representação diplomática brasileira.

Está correto o que se afirma em:

- A) Apenas I.
- B) Apenas I e II.
- C) Apenas I e III.
- D) Apenas II e III.
- E) Todas estão corretas.

28. "Um incêndio em uma pensão na região central da cidade provocou a morte de dez pessoas e deixou outras 15 feridas na madrugada desta sexta-feira (26/04). Até o início da noite, sete feridos permaneciam internados em hospitais, dois em estado grave. A origem das chamas ainda é investigada. A Pousada Garoa, onde ocorreu o incêndio, oferece vagas a pessoas em situação de rua por meio de uma parceria com a prefeitura do município."

Disponível em Folha de São Paulo. Acesso em: 11 de maio de 2024. Adaptado.

O fato descrito ocorreu na cidade de:

- A) Florianópolis (SC).
- B) Curitiba (PR).
- C) Ponta Grossa (PR).
- D) Porto Alegre (RS).
- E) Caxias do Sul (RS).



29. O cartunista Ziraldo morreu na tarde do dia 6 de abril, em sua casa, no Rio de Janeiro, aos 91 anos, de falência múltipla dos órgãos. Ziraldo teve uma carreira profícua e criou charges, cartuns, pinturas, cartazes, murais, histórias em quadrinhos, livros infantis e crônicas.

Ziraldo foi o criador do célebre personagem:

- A) Mafalda.
- B) O Menino Maluquinho.
- C) Hagar, o horrível.
- D) Garfield.
- E) Zé Carioca.

30. Analise a charge a seguir:



Fonte: <https://www.espacovital.com.br/noticias/a-cavalo-resgatado-olha-se-as-evidencias-13-05-2024>.

Tendo a charge como referência inicial, julgue os itens a seguir sobre a tragédia climática ocorrida no Rio Grande do Sul.

I - A solidariedade humana foi fundamental para a organização, para o resgate e para o acolhimento de pessoas em situação de risco diante de poderes públicos federal, estadual e municipais que não dispunham de estrutura necessária para a dimensão dos impactos das chuvas extremas.



II - A tragédia humana e animal poderia ter sido minimizada, se, historicamente, as cidades fossem planejadas e ocupadas preservando os fundos de vale, as margens e áreas naturais de inundação dos cursos d'água, as encostas dos morros e as áreas de infiltração dos lençóis freáticos.

III - A crítica ao negacionismo na charge é uma referência à descrença na ciência e nas soluções apresentadas para o progresso da humanidade diante de teorias catastrofistas que não encontram amparo no ciclo natural do planeta Terra.

IV - Os eventos climáticos extremos mais frequentes e intensos já afetam todas as classes sociais, porém, os pobres são os mais impactados e os que mais necessitam da ação estatal de mitigação, adaptação e redução de danos das mudanças climáticas.

Estão corretas as seguintes afirmativas:

A) I, II e IV.

B) I, II e III.

C) I, III e IV.

D) I e II.

E) I, II, III e IV.

GABARITO



1. C	11. E	21. E
2. E	12. C	22. C
3. E	13. E	23. E
4. C	14. C	24. E
5. E	15. C	25. C
6. E	16. A	26. C
7. C	17. D	27. C
8. C	18. C	28. D
9. C	19. E	29. B
10. B	20. C	30. A



SIMULADO DE ATUALIDADES - ABRIL DE 2024

QUESTÕES COMENTADAS

Analise os textos a seguir:

"Big techs, capitalismo selvagem e o ataque de Elon Musk à democracia

A polêmica recente envolvendo o magnata Elon Musk e suas declarações que afrontam o Judiciário brasileiro expõe complexidades da era digital, com desafios e graves ameaças da tecnologia às democracias e à governança global."

Le Monde Diplomatique Brasil. Acesso em: 11 de maio de 2024.

"O conceito de democracia evoluiu (e segue evoluindo) de acordo com a busca pela superação de determinados desafios políticos do momento, como durante o controle aristocrático das cidades-Estado na Grécia Antiga, a monarquia absolutista na Europa moderna e os governos autoritários (militares, fascistas e nazistas) no século XX. Na Era Digital em que vivemos não seria diferente, sendo a internet e, particularmente, as mídias sociais um novo desafio imposto para o pensamento da democracia."

Os desafios impostos pelas mídias sociais à democracia, Beatriz Walid de Magalhães Naddi. Disponível em: <https://edisiplinas.usp.br>. Acesso em: 11 de maio de 2024.

As redes sociais configuram uma parte crítica da discussão e do debate público contemporâneo. Sendo assim, é de interesse público entender como essas plataformas afetam o debate democrático. A respeito desse assunto, julgue os itens a seguir em C ou E (certo ou errado):

1. No fato que serve como base para o primeiro texto, o empresário e dono da rede social X, antigo Twitter, Elon Musk, ameaçou descumprir decisões judiciais brasileiras sobre o bloqueio de perfis suspeitos de envolvimento em iniciativas atentatórias ao Estado Democrático de Direito, demonstrando o poder que grandes empresários têm sobre as instituições estatais.

COMENTÁRIO:

Em abril de 2024, o bilionário Elon Musk, dono do X (antigo Twitter), fez uma série de críticas e ataques ao ministro Alexandre de Moraes, do Supremo Tribunal Federal (STF), acusando o magistrado de censura e ameaçando descumprir decisões judiciais.

Musk atacou decisões de Moraes em postagens no seu perfil do X, dizendo que reativaria os perfis dos usuários que haviam sido bloqueados por decisão da Justiça brasileira, mesmo que isso custasse o fechamento da empresa no Brasil.

Devido a isso, Moraes determinou a inclusão do bilionário no inquérito das milícias digitais que investiga a existência de supostos grupos criminosos que se articulam na internet para atentar contra a democracia, as instituições brasileiras e o Estado de Direito. O ministro é o relator do inquérito e lidera a investigação das práticas de grupos que considera como milícias digitais antidemocráticas.



Alexandre de Moraes justificou a decisão pela “dolosa instrumentalização da rede”, além de Musk ter disseminado desinformação e discurso de ódio sobre a atuação do STF e do TSE. Moraes interpreta que isso tenha instigado a desobediência e a obstrução à Justiça.

A controvérsia envolvendo Elon Musk e o Judiciário brasileiro destaca a tensão entre as grandes empresas de tecnologia e os governos nacionais. A capacidade de uma única entidade de desafiar decisões judiciais levanta questões sobre o equilíbrio de poder e a responsabilidade das plataformas digitais no cumprimento das leis locais. Além disso, demonstra a influência de figuras empresariais proeminentes na política e na governança global. Musk agitou o debate político no Brasil, demonstrando o poder que grandes empresários historicamente têm sobre as instituições estatais e a política brasileira.

Gabarito: Certo.

2. A regulamentação rígida das redes sociais por parte dos governos é apontada como a única forma eficaz de combater a disseminação de *fake news* e a manipulação da opinião pública, pois garante o controle estatal sobre a informação.

COMENTÁRIOS:

Nas sociedades democráticas, o objetivo da regulamentação das redes sociais não é garantir o controle estatal sobre a informação. A circulação da informação é livre, no âmbito dos parâmetros dos valores democráticos e dos direitos humanos. A regulamentação das redes sociais visa ao combate à prática de crimes virtuais, à disseminação de *fake news*, ao discurso de ódio e ao atentatório ao Estado Democrático de Direito. Objetiva também impedir a grande concentração de poder pelas *big techs* em um mundo cada vez mais digital. No entanto, para alcançar esses objetivos, é necessária uma sociedade consciente e ativa na defesa da democracia e dos direitos humanos.

Gabarito: Errado.

3. A falta de uma legislação específica no Brasil para lidar com os desafios trazidos pelas redes sociais têm sido compensada pela atuação eficaz do Marco Civil da Internet, que estabelece regras claras sobre a responsabilidade das plataformas online.

COMENTÁRIO:

Falta ao Brasil uma legislação para lidar com os desafios trazidos pelas redes sociais. A União Europeia e vários países democráticos já têm legislação nesse sentido. O Congresso Nacional debate o tema há alguns anos. O Marco Civil da Internet (Lei nº 12.964/2014) regula o uso da internet no Brasil. É uma legislação fundamental, mas o seu foco não está na regulação do uso das redes sociais.

O Marco Civil estabelece princípios, garantias, direitos e deveres para o uso da internet no país. Entre os pontos-chave da legislação estão a neutralidade da rede, a privacidade e proteção de dados, a liberdade de expressão e responsabilidade dos provedores.

Segundo o artigo 19 da referida lei, os provedores de aplicações de internet só podem ser responsabilizados civilmente por danos decorrentes de conteúdo gerado por terceiros, se, após notificação judicial, não tomarem as medidas para a remoção desse conteúdo. Isso significa que, embora o Marco Civil forneça um quadro legal para a atuação das plataformas, ele não cobre todas as nuances relacionadas à responsabilidade civil, especialmente em um cenário em constante evolução como o das redes sociais.



Gabarito: Errado.

4. Uma das formas de manipulação da opinião pública nas redes sociais é o uso de *bots*, que são contas controladas por *softwares* que buscam imitar o comportamento humano e interferir em debates espontâneos, minando a confiança nas instituições democráticas.

COMENTÁRIO:

Robots significa robôs na língua inglesa. *Bots*, abreviação de robôs, são programas de computador projetados para realizar tarefas automaticamente. Eles podem imitar ou substituir ações humanas, executando funções repetitivas de forma mais rápida do que seria possível para uma pessoa. Alguns *bots* são benéficos, como os que fornecem atendimento ao cliente ou ajudam na indexação de conteúdo para motores de busca. No entanto, existem *bots* mal-intencionados que podem realizar atividades prejudiciais, como ataques cibernéticos ou envio de *spam*. A complexidade dos *bots* varia desde simples *chatbots* até sofisticados sistemas de inteligência artificial.

Os *bots* operam a partir de instruções de seus programadores e nos casos de manipulação da opinião pública são utilizados para a formação de opiniões baseada em informações distorcidas, prejudicando o debate democrático e a autenticidade das interações online.

Gabarito: Certo.

5. A disseminação de *fake news*, definidas como informações fabricadas e publicadas deliberadamente para enganar e induzir terceiros a acreditar em falsidades ou colocar em dúvida fatos verificáveis, é um fenômeno exclusivo das redes sociais modernas, não tendo precedentes históricos de manipulação da opinião pública por meio da desinformação.

COMENTÁRIO:

A disseminação de informações falsas é um fenômeno que existe há séculos, muito antes da existência das redes sociais modernas. Historicamente, a desinformação foi utilizada como uma ferramenta para influenciar a opinião pública e os resultados políticos. No entanto, as redes sociais digitais amplificaram o alcance e a velocidade com que as *fakes news* podem se espalhar, representando um desafio contemporâneo significativo para a integridade das democracias e a governança global.

Gabarito: Errado.

6. O jornalismo ético e profissional não desempenha um papel relevante na luta contra a desinformação e a manipulação da opinião pública nas redes sociais, uma vez que sua credibilidade está em declínio e sua influência é limitada.

COMENTÁRIO:

O jornalismo ético e profissional desempenha, sim, um papel crucial na luta contra a desinformação e a manipulação da opinião pública nas redes sociais. A imprensa não é neutra, ninguém é neutro, porém, o jornalismo ético e profissional busca expor as diversas abordagens dos acontecimentos. Embora o jornalismo tenha enfrentado muitos desafios na atualidade, a sua relevância e influência continuam ampla e são essenciais na luta contra a desinformação e a manipulação nas redes sociais.



Gabarito: Errado.

7. A educação digital pode contribuir significativamente para formar cidadãos digitalmente conscientes, capacitando-os a discernir informações verdadeiras de *fake news* e a participar de forma responsável nas redes sociais, promovendo, assim, uma cultura democrática de participação informada.

COMENTÁRIO:

A educação digital desempenha um papel fundamental na formação de cidadãos conscientes e responsáveis no ambiente on-line. Por meio da educação digital, pode se proporcionar a alfabetização digital, o desenvolvimento da capacidade de discernir informações verdadeiras de *fake news*, a conscientização sobre privacidade e segurança na internet, a participação responsável e o combate a desinformação.

Gabarito: Certo.

8. A ascensão das *fake news* e da pós-verdade tem sido associada à intensificação de discursos extremistas na sociedade, como exemplificado pelos resultados do referendo do Brexit e das eleições presidenciais nos Estados Unidos em 2016.

COMENTÁRIO:

De fato, estudos em ciência política relacionam a ascensão das *fake news* e da pós-verdade a intensificação de discursos extremistas na sociedade. Dois exemplos clássicos onde foram utilizados, que são marcos desse debate, são o referendo do Brexit e as eleições presidenciais nos Estados Unidos em 2016.

Gabarito: Certo.

9. "Mais de 1.000 manifestantes pró-Palestina foram presos nas últimas duas semanas em universidades americanas em diversos Estados como Texas, Utah, Virgínia, Carolina do Norte, Novo México, Connecticut, Louisiana, Califórnia e Nova Jersey, alguns após confrontos com policiais."

Disponível em: g1.globo.com. Acesso em: 11 de maio de 2024.

O que motivou os protestos pró-Palestina nas universidades americanas?

- A) A discriminação de estudantes e professores judeus nos *campi* universitários.
- B) A proibição da entrada de palestinos e outros países muçulmanos nos Estados Unidos.
- C) A resposta à ofensiva de Israel em Gaza, desencadeada após um ataque do grupo Hamas.
- D) O financiamento militar e o apoio político dos Estados Unidos à Gaza na guerra com Israel.
- E) A crescente censura governamental sobre as críticas que têm sido feitas à Israel e suas políticas de guerra.

COMENTÁRIO:

Os protestos pró-Palestina nas universidades americanas foram motivados pela resposta à ofensiva de Israel em Gaza, desencadeada após um ataque do grupo Hamas. Esse movimento começou na Universidade de



Columbia, em Nova York, e se espalhou por várias outras instituições em resposta aos eventos violentos que ocorreram em outubro de 2024, quando o Hamas lançou um ataque que resultou em um número significativo de mortes civis e a captura de reféns.

Em retaliação e defesa, Israel lançou uma grande operação militar na Faixa de Gaza, resultando na morte de mais de 30.000 palestinos até o final do mês de abril de 2024. Os protestos nas universidades são uma crítica a desproporcionalidade e a extrema brutalidade dos ataques de Israel e ao apoio e envio de armas do governo dos Estados Unidos a Israel, além de uma manifestação de apoio a causa palestina, como o da criação de um Estado nacional da Palestina. Embora tenha havido acusações de antissemitismo contra os manifestantes, os organizadores afirmam que o movimento é pacífico e inclui membros da comunidade judaica que apoiam a causa palestina.

Gabarito: C.

10. "O presidente dos EUA, Joe Biden, sancionou nesta quarta-feira (24/4) um projeto de lei que determina a proibição do TikTok, a menos que seu proprietário chinês, a ByteDance, venda a operação americana da empresa em um prazo de até nove meses."

Disponível em: BBC Brasil. Acesso em: 11 de maio de 2024.

Quais são as principais preocupações que levaram os legisladores dos Estados Unidos a pressionarem por uma lei que proíba o TikTok?

- A) Possíveis ameaças à concorrência no mercado de aplicativos de mídia social.
- B) Preocupações com a segurança dos dados dos usuários e suas ligações com o governo chinês.
- C) Problemas relacionados à qualidade e ao conteúdo dos vídeos compartilhados no aplicativo.
- D) Desconfiança com relação à capacidade da empresa-mãe, ByteDance, de manter a operação do TikTok nos EUA.
- E) Receios de que o TikTok prejudique a liberdade de expressão e a diversidade de opiniões nos Estados Unidos.

COMENTÁRIO:

As principais preocupações que motivaram os legisladores dos Estados Unidos a pressionarem por uma lei que proíba o TikTok estão relacionadas à segurança nacional e à proteção de dados. Os legisladores expressaram temores de que a ByteDance, empresa-mãe do TikTok, pudesse ser compelida pelas autoridades chinesas a entregar dados de usuários americanos ou influenciar o público americano, suprimindo ou promovendo certos conteúdos na plataforma. Além disso, há preocupações de que o aplicativo possa ser usado como uma ferramenta de espionagem internacional, com o governo chinês potencialmente pressionando a ByteDance para acessar os dados dos usuários americanos.

Essas questões de segurança de dados e a possível influência sobre o conteúdo são vistas como ameaças significativas à segurança nacional dos EUA. Todavia, esse tema está no contexto da crescente disputa econômica e geopolítica entre os Estados Unidos e a China, em que os norte-americanos buscam conter a



ascensão econômica chinesa como a maior economia do mundo. Nesse sentido, gradativamente os Estados Unidos têm aplicado mais e mais sanções econômicas a China e a empresas do país.

Portanto, a opção correta entre as fornecidas é a letra B, que se refere às preocupações com a segurança dos dados dos usuários e suas ligações com o governo chinês.

Gabarito: B.

Portugal tem sido alvo de discussões sobre a sua responsabilidade histórica com relação à escravidão no Brasil durante o período Colonial. Recentemente, o presidente português, Marcelo Rebelo de Sousa, afirmou que seu país deve pagar pelos danos causados pela escravidão e pelos crimes cometidos durante esse período.

Diante desse contexto, julgue os itens a seguir em C ou E (certo ou errado):

11. O presidente Marcelo Rebelo de Sousa sugeriu que Portugal poderia pagar uma indenização em dinheiro aos descendentes das vítimas da escravidão no Brasil.

COMENTÁRIO:

O presidente Marcelo Rebelo de Sousa reconheceu pela primeira vez a culpa de Portugal pelo massacre de indígenas e pela escravidão indígena e negra no Brasil. Souza afirmou que Portugal foi responsável por uma série de crimes contra escravos e indígenas no Brasil na era colonial e deve pagar por isso. O presidente falou em reparação, mas não disse como isso poderia ser feito e não propôs, nem fez nenhuma menção a Portugal pagar uma indenização em dinheiro aos descendentes das vítimas da escravidão no Brasil.

Gabarito: Errado.

12. O movimento de reconhecimento e de reparação pelo envolvimento histórico e atuação na escravidão cresceu ao longo dos anos, com diversos outros países europeus se manifestando publicamente sobre o tema.

COMENTÁRIO:

A ideia de pagar reparações ou tomar outras medidas pela escravidão transatlântica vem ganhando força em todo o mundo, incluindo esforços para estabelecer um tribunal especial sobre a questão. Países como a Holanda, Alemanha e Bélgica já reconheceram os males causados pela escravidão nas suas ex-colônias.

Gabarito: Certo.

13. Apesar de ter sido o principal responsável pelo tráfico transatlântico de escravos africanos para o Brasil, lucrando com a venda e exploração desses indivíduos, Portugal também foi responsável por abolir a escravidão no Brasil logo após a independência do país, em 1822, garantindo a liberdade para todos os escravos.

COMENTÁRIO:



Portugal foi o país que mais traficou africanos na era colonial. O negócio mais lucrativo de Portugal durante esse período não foi a produção de açúcar, nem o ouro, mas o comércio de escravos. Foram quase 6 milhões deles, particularmente a metade do total de pessoas escravizadas à época pelos países europeus.

O Brasil se tornou independente em 7 de setembro de 1822, mesmo assim, a escravidão perdurou por mais 66 anos. A escravidão só foi abolida em 13 de maio de 1888, com a assinatura da Lei Áurea pela Princesa Isabel. O Brasil foi o último país das Américas a abolir a escravidão.

Gabarito: Errado.

14. A criação de museus, centros de memórias e outros equipamentos públicos que reconheçam os impactos da colonização pode ser considerada como uma importante medida de reparação aos danos causados pela escravidão.

COMENTÁRIO:

A criação de museus e centros de memória é amplamente reconhecida como uma forma significativa de reconhecer e reparar os danos causados por períodos históricos de injustiça, como a escravidão. Essas instituições servem como locais de preservação cultural, educação e reflexão, permitindo que as sociedades enfrentem seu passado e promovam reparações, equidade e conciliação. Ao abrigar e exibir artefatos e narrativas, os museus desempenham um papel crucial na manutenção da memória coletiva e na promoção do respeito à diversidade e aos direitos humanos. Além disso, eles podem atuar como espaços de diálogo e conscientização, contribuindo para a construção de uma sociedade mais justa e inclusiva. Portanto, a criação desses espaços pode ser vista como um passo positivo e necessário na direção da reparação histórica e da reconciliação.

Gabarito: Certo.

15. O ensino da História e Cultura Afro-Brasileira e Africana nas escolas brasileira, que foi tornado obrigatório por meio de lei sancionada em 2003, ainda enfrenta dificuldades, pois exige um esforço para a formação de professores, produção de materiais didáticos e uma reorganização das próprias escolas.

COMENTÁRIO:

A implementação do ensino da História e Cultura Afro-Brasileira e Africana, conforme estabelecido pela Lei nº 10.639/03, é um passo significativo para a educação no Brasil. No entanto, apesar dos 20 anos desde sua sanção, ainda existem desafios significativos para sua efetivação plena nas escolas. Especialistas apontam a necessidade de uma formação adequada de professores, atualização de materiais didáticos e uma reestruturação curricular que incorpore de maneira substancial esses conteúdos. Essas medidas são fundamentais para superar a abordagem superficial e estereotipada que ainda prevalece em muitos contextos educacionais.

Gabarito: Certo.

16. A recente invasão da embaixada do México no Equador gerou uma crise diplomática entre os dois países. Acerca desse contexto, assinale a alternativa correta:



- A) A ação foi desencadeada após o México conceder asilo político ao ex-vice-presidente equatoriano Jorge Glas, que estava refugiado na embaixada em meio a investigações que o acusavam de corrupção.
- B) A invasão foi uma resposta das forças policiais equatorianas às acusações de que o México estava conduzindo atividades ilegais em território equatoriano, violando a soberania nacional.
- C) A invasão ocorreu devido à suspeita de que a embaixada estava sendo usada como esconderijo por um criminoso internacional procurado pela Interpol.
- D) A medida foi tomada em retaliação ao México por sua recusa em cooperar com investigações sobre o narcotráfico e a elevada criminalidade que assolam o Equador.
- E) A invasão foi uma ação coordenada entre o Equador e os Estados Unidos para deter membros de um cartel de drogas que estavam escondidos na embaixada, que não contou com apoio do México.

COMENTÁRIO:

A invasão da embaixada do México no Equador foi desencadeada após o México conceder asilo político a Jorge Glas, ex-vice-presidente do Equador que estava refugiado na embaixada em meio a investigações de corrupção. Glas havia sido condenado por suborno e corrupção e estava sob investigação por outros crimes potenciais. Após a concessão do asilo político, a polícia equatoriana invadiu a embaixada para prendê-lo, o que resultou no rompimento das relações diplomáticas entre o México e o Equador.

A ação foi amplamente condenada como uma violação da Convenção de Viena sobre Relações Diplomáticas de 1961 e da Convenção de Caracas sobre Asilo Diplomático de 1954. As embaixadas são representações de um país em outro país. São espaços invioláveis, nelas só podendo entrar uma força de segurança do país onde está instalada se a embaixada autorizar, exceto em casos de emergência, como para socorro e incêndio.

Gabarito: A.

17. O país do Oriente Médio se somou aos mais de 70 países que criminalizam a homossexualidade no mundo.

A nova lei promulgada impõe penas de até 15 anos de prisão para indivíduos que mantêm relações homoafetivas. A justificativa do Parlamento se apoia na “proteção dos valores religiosos” e da “moralidade social”, conforme expresso na própria legislação, levantando questões amplas sobre os impactos dessas escolhas legislativas na vida milhares de pessoas e na imagem do país perante outros países.

A resposta global foi rápida e amplamente crítica. Muitos países e organizações internacionais viram essa decisão como um ataque direto aos direitos da comunidade LGBT nacional.

Disponível em: O Antagonista. Com adaptações. Acesso em: 11 de maio de 2024.

A legislação em questão foi aprovada

- A) no Paquistão.
- B) no Afeganistão.



C) na Mauritânia.

D) no Iraque.

E) na Nigéria.

COMENTÁRIO:

O Iraque é o país onde a legislação foi aprovada e promulgada. Essa medida legislativa gerou uma resposta global crítica, sendo vista por muitos como um ataque aos direitos da comunidade LGBT. A justificativa do Parlamento iraquiano, baseada na proteção dos valores religiosos e da moralidade social, levanta questões significativas sobre os impactos na vida das pessoas afetadas e na percepção internacional do país.

A questão também se referiu a um país do Oriente Médio e o único citado nas afirmativas é o Iraque. Os demais países mencionados na questão criminalizam as relações homoafetivas. Na Nigéria, pode ser punido com a pena de morte.

Gabarito: D.

Os temporais que atingem o Rio Grande do Sul desde 29 de abril já deixaram 148 pessoas mortas, até o dia 14 de maio, segundo dados da Defesa Civil acrescida de órgãos locais, como Corpo de Bombeiros, prefeituras e Brigada Militar. As áreas mais atingidas são as regiões Central, dos Vales, Serra e Metropolitana de Porto Alegre.

A respeito desse assunto, julgue os itens a seguir em C ou E (certo ou errado):

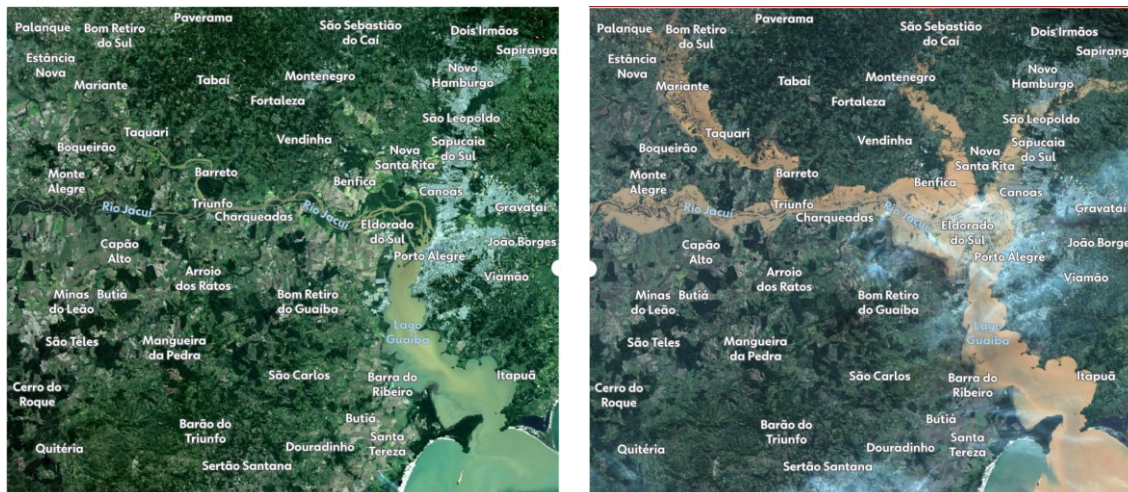
18. Na capital do estado, Porto Alegre, e em municípios próximos, pertencentes à sua região metropolitana, como Canoas e Eldorado do Sul, grandes áreas foram alagadas em decorrência da elevação do nível do Lago Guaíba para um recorde acima dos 5 metros de altura.

COMENTÁRIO:

De acordo com as informações disponíveis, o nível do Lago Guaíba em Porto Alegre atingiu um recorde de 5,35 metros, bem acima dos 3 metros da cota de transbordamento. Os rios Gravataí, dos Sinos e Jacuí também transbordaram na região metropolitana de Porto Alegre. Vários outros rios e cursos d'água menores também transbordaram e inundaram extensas áreas no estado.

As imagens de satélite, a seguir, mostram o antes (a esquerda) e durante a inundaç o (direita), registrada nos primeiros dias do m s de maio de 2024. Observem que o munic pio de Eldorado do Sul, citado na quest o, ficou praticamente inundado pelas enchentes.





Gabarito: Certo.

19. Apesar do elevado número de óbitos, desaparecidos e desabrigados e os incontáveis prejuízos à infraestrutura do estado, a elevada precipitação potencializará a safra agrícola do estado, que, segundo pesquisadores, alcançará uma produção recorde em 2024.

COMENTÁRIO:

As chuvas extremas destruíram lavouras, instalações rurais e mataram milhares de animais. A safra do Rio Grande foi significativamente afetada. Não haveria e não haverá produção recorde na agricultura.

A Confederação Nacional dos Municípios (CNM) estimou os prejuízos para a agropecuária do Rio Grande do Sul com as enchentes até o momento: mais de R\$ 3,3 bilhões. Nas lavouras, os prejuízos somam R\$ 3,1 bilhões, enquanto na pecuária as perdas chegaram a R\$ 272,4 milhões.

O prejuízo total estimado pela confederação é de R\$ 11 bilhões. O setor habitacional é o mais afetado, totalizando um prejuízo de R\$ 4,6 bilhões, sendo mais de 109,7 mil casas danificadas ou destruídas. Já R\$ 2,5 bilhões se referem ao setor público e R\$ 3,9 bilhões ao setor privado.

Os dados são do dia 29 de maio de 2024 e conforme a CNM são parciais.

Gabarito: Errado.

20. As causas das chuvas extremas e das enchentes no Rio Grande do Sul são multifatoriais, envolvendo não apenas o aquecimento global, mas também o fenômeno *El Niño*, que contribui para o bloqueio de frentes frias e a intensificação da instabilidade sobre o estado.

COMENTÁRIO:

Conforme meteorologistas as chuvas intensas registradas no estado do Rio Grande do Sul são consequência de uma combinação de três principais fatores:

- Presença de um cavado (corrente intensa de vento) em atuação na região proporcionando a formação de tempo bastante instável;



- Presença do corredor de umidade vindo da Amazônia, que potencializou a intensidade de precipitação;
- Presença de uma onda de calor na região central do país.

Vejamos o que disse Dayse Moraes, meteorologista do Instituto Nacional de Meteorologia (Inmet), em entrevista ao site BBC Brasil:

“Essa massa de ar quente sobre a área central do país bloqueou a frente fria que está na região Sul impedindo-a de avançar e se espalhar para outras localidades. A junção desses fatores faz com que essa instabilidade fique sobre o estado, causando chuvas intensas e contínuas”.

Aliado a isso, o período entre o final de abril e o início de maio de 2024 ainda tem influência do fenômeno El Niño, que é responsável por aquecer as águas do oceano Pacífico, contribuindo para que áreas de instabilidade fiquem sobre o estado. Essa combinação de diversos fatores de uma única vez é considerada rara pelos especialistas.

As chuvas catastróficas do Sul têm relação direta com a onda de calor registrada na região Centro-Oeste e Sudeste, onde as temperaturas estão cerca de 5°C acima da média neste outono.

Segundo Rafael de Ávila Rodrigues, professor e climatologista do Instituto de Geografia da Universidade Federal de Catalão (UFCAT), “com a intensificação das mudanças climáticas globais os eventos climáticos extremos serão mais frequentes e intercorrentes”.

O gráfico a seguir, do site Climatempo, explica meteorologicamente o bloqueio atmosférico que causou as chuvas extremas no Rio Grande do Sul:





Gabarito: Certo.

21. Em razão da falta de evidências científicas confiáveis, muitos cientistas acreditam que não há razão para acreditar que o ser humano e suas atividades econômicas sejam causadores das mudanças climáticas globais e, portanto, que o fenômeno dos eventos climáticos extremos, como as chuvas torrenciais ou secas prolongadas, deve ser combatido sob outro viés e perspectiva.

COMENTÁRIO:

A vasta maioria da comunidade científica concorda que as atividades humanas, principalmente a queima de combustíveis fósseis e as mudanças no uso da terra, são as principais responsáveis pelo aumento dos gases de efeito estufa na atmosfera, o que está causando o aquecimento global. Esse consenso é apoiado por uma extensa pesquisa científica e por relatórios de organizações respeitadas, como o Painel Intergovernamental sobre Mudanças Climáticas (IPCC), da Organização das Nações Unidas (ONU).

Portanto, é fundamental reconhecer o papel das atividades humanas nas mudanças climáticas para poder implementar políticas eficazes de mitigação e adaptação. Combatendo as mudanças climáticas sob uma



perspectiva que ignora a contribuição humana, corre-se o risco de não abordar as causas fundamentais do problema.

Gabarito: Errado.

22. A impermeabilização do solo em áreas urbanas é apontada como uma das principais causas do aumento das enchentes que ocorreram no Rio Grande do Sul e que têm ocorrido frequentemente no Brasil, pois diminui a capacidade de escoamento e infiltração da água das chuvas.

COMENTÁRIO:

A água infiltra no solo poroso. A impermeabilização do solo pelo concreto e o asfalto das nossas cidades impede essa infiltração. Por isso que as cidades precisam investir volumosas quantias financeiras em sistemas de drenagem da água das chuvas. De fato, a excessiva impermeabilização do solo foi mais um fator humano que aumentou a tragédia da enchente em cidades gaúchas. A ocupação de áreas que deveriam ter sido preservadas e sistemas deficientes de contenção e de drenagem da água foram os outros fatores, além do principal, a grande quantidade de chuvas.

Gabarito: Certo.

23. Devido à falta de planejamento urbano e a ocupação de áreas de risco em função da segregação socioespacial, as enchentes e os deslizamentos de encostas são fenômenos que ocorrem apenas em áreas urbanas.

COMENTÁRIO:

As enchentes e os deslizamentos de encostas ocorrem em áreas urbanas e rurais, no campo e na cidade. A falta de planejamento urbano adequado amplifica o problema das enchentes. A segregação socioespacial se refere a desigualdade socioeconômica nas cidades. No Brasil, elas são profundas. As áreas mais pobres das cidades são as mais afetadas pelas enchentes, deslizamentos de terra etc.

Gabarito: Errado.

24. A retificação e a canalização dos cursos d'água são apontadas como soluções possíveis para amenizar o efeito devastador das enchentes em áreas urbanas, pois contribuem para amenizar a velocidade das águas, diminuindo a força da correnteza.

COMENTÁRIO:

A retificação e a canalização dos cursos d'água são obras comuns em áreas urbanas para tentar controlar as enchentes. Essas medidas podem, de fato, aumentar a velocidade do fluxo de água e reduzir a ocorrência de enchentes localizadas.

No entanto, estudos indicam que essas intervenções podem ter efeitos adversos a jusante, ou seja, nas áreas mais baixas no sentido do fluxo do rio. A canalização pode levar a uma maior velocidade da água, o que potencialmente aumenta o risco de enchentes em áreas não canalizadas.

Além disso, a impermeabilização do solo e a redução da capacidade de infiltração da água podem contribuir para o aumento do volume e da velocidade das águas pluviais, exacerbando o risco de enchentes e inundações. Portanto, enquanto a retificação e a canalização podem oferecer benefícios imediatos em certas



áreas, é importante considerar os impactos potenciais em toda a bacia hidrográfica e desenvolver uma abordagem mais integrada e sustentável para o manejo das águas urbanas.

Soluções urbanísticas que vêm sendo implementadas em cidades pelo mundo indicam a renaturalização dos cursos d'água, com a recomposição dos fundos de vale e das áreas de inundação natural em períodos de enchentes.

As "cidades esponja" também são um conceito inovador de urbanismo para combater os problemas de enchentes e escassez de água em áreas urbanas. Elas são projetadas para absorver e reter água da chuva, como uma esponja, por meio de soluções baseadas na natureza, como áreas verdes e sistemas de drenagem sustentáveis. Esse modelo já está sendo implementado em várias partes do mundo, incluindo a China, que lidera o movimento com mais de 16 cidades adaptadas desde 2012. No Brasil, a transformação para cidades esponja pode ser uma estratégia valiosa, especialmente em regiões propensas a inundações e variações climáticas intensas.

Gabarito: Errado.

25. Considerando que as chuvas extremas e as enchentes ocorridas Rio Grande do Sul são eventos climáticos extremos, é possível afirmar que fazem parte do novo normal climático, conceito elaborado por climatólogos e que caracteriza o aumento da frequência e da intensidade desses eventos.

COMENTÁRIO:

Na ciência da climatologia, as normais climatológicas são valores médios de variáveis meteorológicas calculados para um período relativamente longo e uniforme, compreendendo no mínimo três décadas consecutivas, e representam as características médias do clima em um determinado local.

Como as variáveis meteorológicas vêm mudando no Planeta Terra, os padrões climáticos também estão sendo alterados. Diferente dos filmes, em que as mudanças climáticas ocorrem de forma muito rápida, em poucas semanas ou meses, no mundo real, as mudanças climáticas estão em andamento há algumas décadas e seguirão pelas próximas décadas, porém, estão se acelerando.

A face mais visível e sentida da mudança do clima é que eventos climáticos de grande intensidade, antes considerados raros, agora ocorrem com maior frequência, tornando-se normais, o que tem sido denominado pela ciência climatológica de "novo normal" climático.

Gabarito: Certo.

26. O desmatamento dos biomas brasileiros, em especial o Cerrado e a Floresta Amazônica, pode influenciar indiretamente o aumento das chuvas extremas no Rio Grande do Sul e em outras regiões brasileira, devido à redução da evapotranspiração e à modificação do clima regional, ao mesmo tempo em que pode potencializar a aridez em outras regiões.

COMENTÁRIO:

As árvores absorvem e armazenam carbono (CO₂) e liberam oxigênio pelo processo da fotossíntese. O desmatamento elimina reservatórios de carbono e emite carbono para a atmosfera. O gás carbônico (CO₂) é o principal gás que intensifica o efeito estufa. O desmatamento contribui para o aumento da concentração desses gases na atmosfera. A intensificação do efeito estufa leva ao aquecimento global, que, por sua vez,



provoca a mudança do clima, resultando em uma intensificação dos fenômenos climáticos extremos no planeta Terra, como as chuvas extremas que ocorreram no Rio Grande do Sul no final do mês de abril e início do mês de maio de 2024. Os eventos climáticos extremos estão se acentuando e os climas regionais se modificando. Entre as múltiplas consequências das mudanças climáticas atuais e futuras, podemos citar as secas mais frequentes, longas e severas, que podem potencializa a aridez em regiões do Nordeste brasileiro.

Gabarito: Certo.

27. "O IBGE (Instituto Brasileiro de Geografia e Estatística) lançou na última 3ª feira (9.abr.2024) um mapa-múndi em que o Brasil aparece no centro do mundo. O documento faz parte da 9ª edição do Atlas Geográfico Escolar, publicação do instituto com informações sobre geografia, estatística e cartográfica voltada para o público escolar"

Disponível em: Poder 360. Acesso em: 11 de maio de 2024.

A respeito do novo mapa-múndi publicado pelo IBGE, analise as afirmativas a seguir:

I - A mudança é vista como simbólica dentro da geopolítica, pois a ideia de posicionar o Brasil no centro rompe com a ideia eurocentrista do mapa-múndi tradicional.

II - O mapa indica que as Ilhas Malvinas e as Ilhas Geórgia do Sul e Sandwich do Sul, alvos de disputa entre Argentina e Reino Unido, aparecem como territórios britânicos, o que está de acordo com a posição do Itamaraty de apoio ao Reino Unido.

III - A nova versão também inclui a marcação dos países que compõem o G20 e dos com representação diplomática brasileira.

Está correto o que se afirma em:

- A) Apenas I.
- B) Apenas I e II.
- C) Apenas I e III.
- D) Apenas II e III.
- E) Todas estão corretas.

COMENTÁRIO:

I – Correto. O novo mapa-múndi lançado pelo IBGE coloca o Brasil no centro, uma mudança simbólica que se afasta da tradicional visão eurocêntrica e pode ser interpretada como um passo em direção a uma perspectiva mais global e inclusiva.

II – Incorreto. As Ilhas Malvinas, para a Argentina, e Falklands, para os britânicos, e as ilhas Geórgia do Sul e Sandwich do Sul são territórios ultramarinos do Reino Unido, o que antigamente se denominavam de colônias. No mapa-múndi, aparecem como territórios argentinos, alinhando-se com a posição do Ministério



das Relações Exteriores (Itamaraty) brasileiro de apoio à Argentina na disputa com o Reino Unido por esses territórios.

III – Correto. O mapa destaca os países do G20 e aqueles com representação diplomática brasileira.

Gabarito: C.

28. "Um incêndio em uma pensão na região central da cidade provocou a morte de dez pessoas e deixou outras 15 feridas na madrugada desta sexta-feira (26/04). Até o início da noite, sete feridos permaneciam internados em hospitais, dois em estado grave. A origem das chamas ainda é investigada. A Pousada Garoa, onde ocorreu o incêndio, oferece vagas a pessoas em situação de rua por meio de uma parceria com a prefeitura do município."

Disponível em Folha de São Paulo. Acesso em: 11 de maio de 2024. Adaptado.

O fato descrito ocorreu na cidade de:

- A) Florianópolis (SC).
- B) Curitiba (PR).
- C) Ponta Grossa (PR).
- D) Porto Alegre (RS).
- E) Caxias do Sul (RS).

COMENTÁRIO:

O fato descrito ocorreu na cidade de Porto Alegre (RS). O incêndio na Pousada Garoa resultou na trágica perda de 10 vidas e deixou outras 15 pessoas feridas. Essa pousada fazia parte de uma rede de pousadas contratada pela Prefeitura Municipal para o abrigo de população de rua. De acordo com o Corpo de Bombeiros, a Pousada Garoa estava em situação irregular. Em nota, a corporação informou que não foi protocolado o Plano de Prevenção e Proteção Contra Incêndio (PPCI) nem emitido o alvará para atividade residencial, pousada ou hotelaria. Em 2013, um incêndio na boate Kiss, em Santa Maria, também no Rio Grande do Sul, ocasionou a morte de 242 pessoas e 636 feridos. Tragédias diferentes, mas que demonstram os mesmos problemas: negligência na segurança e proteção contra incêndio e na fiscalização e controle por parte do poder público.

Gabarito: D.

29. O cartunista Ziraldo morreu na tarde do dia 6 de abril, em sua casa, no Rio de Janeiro, aos 91 anos, de falência múltipla dos órgãos. Ziraldo teve uma carreira profícua e criou charges, cartuns, pinturas, cartazes, murais, histórias em quadrinhos, livros infantis e crônicas.

Ziraldo foi o criador do célebre personagem:



É uma menina decidida, espevitada e esperta, que namora o Menino Maluquinho. Conhecida por ser fofoqueira, costuma liderar todas as brincadeiras das quais participa.

A marca registrada da menina é sua blusa vermelha com o desenho de um raio.

A personagem integra o livro “O menino Maluquinho” tem a sua própria obra: “As aventuras de Julieta”.

Supermãe

Da obra “The Supermãe”, a personagem surgiu no universo das histórias em quadrinhos e retrata o comportamento das mães zelosas, exageradas e, por vezes, melodramáticas.

O termo “Supermãe” é como o autor se refere à personagem Dona Clotildes, cuja relação com o filho Carlinhos é contada na obra.

Dona Clotildes foi inspirada na mãe do autor, Dona Zizinha.

Juvenal

Da obra “O joelho Juvenal”, a personagem é o joelho de uma criança muito levada. Apesar de estar sempre machucado, ralado e esfolado, Juvenal era um joelho muito feliz.

Bichinho da maçã

É o narrador de uma coletânea de livros infantis de mesmo nome, que costuma contar e inventar histórias e anedotas.

Professora maluquinha

Professora que apresenta novas formas de transmitir conhecimentos aos alunos, explorando, principalmente, o lúdico e a criatividade.

Sobre as demais alternativas da questão:

Mafalda é uma personagem criada pelo cartunista argentino Quino.

Hagar, o Horrível, Hagar, o Terrível é uma personagem criada pelo cartunista estadunidense Dik Browne.

O gato Garfield é uma personagem criada pelo cartunista estadunidense Jim Davis.

Zé Carioca é o apelido do papagaio José Carioca, personagem fictícia desenvolvida no começo da década de 1940 pelos estúdios Walt Disney.

Gabarito: B.



30. Analise a charge a seguir:



Fonte: <https://www.espacovital.com.br/noticias/a-cavalo-resgatado-olha-se-as-evidencias-13-05-2024>.

Tendo a charge como referência inicial, julgue os itens a seguir sobre a tragédia climática ocorrida no Rio Grande do Sul.

I - A solidariedade humana foi fundamental para a organização, para o resgate e para o acolhimento de pessoas em situação de risco diante de poderes públicos federal, estadual e municipais que não dispunham de estrutura necessária para a dimensão dos impactos das chuvas extremas.

II - A tragédia humana e animal poderia ter sido minimizada, se, historicamente, as cidades fossem planejadas e ocupadas preservando os fundos de vale, as margens e áreas naturais de inundação dos cursos d'água, as encostas dos morros e as áreas de infiltração dos lençóis freáticos.

III - A crítica ao negacionismo na charge é uma referência à descrença na ciência e nas soluções apresentadas para o progresso da humanidade diante de teorias catastrofistas que não encontram amparo no ciclo natural do planeta Terra.

IV - Os eventos climáticos extremos mais frequentes e intensos já afetam todas as classes sociais, porém, os pobres são os mais impactados e os que mais necessitam da ação estatal de mitigação, adaptação e redução de danos das mudanças climáticas.

Estão corretas as seguintes afirmativas:

- A) I, II e IV.
- B) I, II e III.
- C) I, III e IV.

D) I e II.

E) I, II, III e IV.

COMENTÁRIO:

O Rio Grande do Sul foi extremamente afetado por intensas chuvas ocorridas no final do mês de abril e início do mês de maio de 2024. Segundo o Governo estadual, foi a “maior catástrofe climática” da história do estado. Conforme dados da Defesa Civil do governo gaúcho (consulta realizada em 05/06/2024), 476 dos 497 municípios foram afetados. Outros números são: 2.393.000 pessoas afetadas, 172 mortes, 41 desaparecidos e 805 feridos. No auge da tragédia, 876.000 pessoas tiveram que deixar as suas casas, entre desalojados e desabrigados. Somente pelas forças de segurança do estado foram resgatadas 77.875 pessoas e 12.543 animais.

Vejamos as afirmativas:

I – Correta. A solidariedade humana foi fundamental com relação à tragédia climática. Não há números oficiais sobre a mobilização do povo gaúcho nos municípios diretamente afetados pelas enchentes e por pessoas que vieram de fora do estado para ajudar. Os resgates foram realizados, em maioria, por voluntários. Os abrigos organizados para receber as pessoas que foram resgatadas ou deixaram as suas casas foram implementados principalmente pela sociedade. O poder público estadual, dos municípios e federal atuou incessantemente, porém, o que a dimensão da tragédia demonstrou é que o poder público em todas as esferas não dispunha de organização e estrutura necessária para o seu enfrentamento. O povo foi determinante para o seu próprio salvamento e para que a tragédia humana não fosse ainda maior.

II - Correta. Essa é uma realidade da urbanização mundial em maior ou menor dimensão nos países e continentes. É o caso brasileiro também. Uma urbanização em que muitas áreas de inundação natural em enchentes, áreas úmidas e banhados foram aterrados e ocupados pelas cidades. Margens de cursos d'água, encostas dos morros, áreas de infiltração dos lençóis freáticos e outras diversas áreas que deveriam ser preservadas foram ocupadas pelas cidades e pela agropecuária. A tragédia humana e animal poderia ter sido minimizada se o território tivesse sido ocupado de forma racional e ambientalmente sustentável.

III - Incorreta. A charge retrata um cavalo popularmente denominado de caramelo. O cavalo Caramelo ficou cerca de quatro dias ilhado, em pé, parado, em um telhado de uma casa no município de Canoas. O resgate do cavalo mobilizou internautas, a imprensa e pessoas da sociedade em geral. Ele foi resgatado em uma complexa operação por uma equipe do Corpo de Bombeiros. A crítica ao negacionismo na charge é uma referência aos que negam as evidências científicas de que as mudanças climáticas têm como causas as ações humanas, aos denominados céticos do clima ou negacionistas do clima.

IV - Correta. Os eventos climáticos extremos mais frequentes e intensos já afetam todas as classes sociais. Ricos e pobres, empresários e trabalhadores estão sendo afetados. Os pobres, contudo, são os mais impactados no Brasil e no mundo. Eles são os que mais necessitam da ação estatal de mitigação, adaptação e redução de danos das mudanças climáticas. Mitigar é agir para conter as mudanças climáticas, o que implica rápidas e drásticas reduções de gases intensificadores do efeito estufa. Sendo as mudanças climáticas uma realidade, é preciso ações de adaptação, ou seja, medidas de prevenção e de redução dos impactos dos seus efeitos. Por fim, a redução de danos é quando a tragédia acontece, medidas de socorro, resgate, acolhimento e apoio para a retomada da vida e com os prejuízos sofridos.

Gabarito: A.



SIMULADO DE ATUALIDADES - MAIO DE 2024



1. A Assembleia Geral da Organização das Nações Unidas (ONU) aprovou nesta sexta-feira (10/05) uma resolução que abre caminho para que a Palestina se torne membro das Nações Unidas e concede "novos direitos e privilégios" aos palestinos.

Disponível em: G1. Publicado em: 10/05/2024. Acesso em: 08/06/2024. Com adaptações.

Considerando o tema em questão, assinale a alternativa correta:

- a) Com a decisão da Assembleia Geral, a Palestina tornou-se membro da ONU, sem a necessidade de concordância do seu Conselho de Segurança.
- b) A resolução aprovada determina que a Palestina entrará na ONU como um "Estado membro pleno", com direito a voto.
- c) A Argentina, representada por seu ministro das relações exteriores, votou a favor da resolução, o que gerou críticas de seu presidente Javier Milei, que se posiciona abertamente favorável ao Estado de Israel.
- d) O Brasil votou a favor da resolução, alinhando-se aos votos da União Europeia e Estados Unidos.
- e) Como protesto pela aprovação da resolução, o embaixador de Israel nas Nações Unidas triturou uma versão de bolso carta da ONU no púlpito da assembleia.

2. "O primeiro-ministro de Israel, Benjamin Netanyahu, disse nesta segunda-feira (27/05) que o ataque a um acampamento de refugiados foi um "erro trágico".

Segundo o Ministério da Saúde de Gaza, controlado pelo Hamas, cerca de 45 pessoas morreram durante o ataque, na noite de domingo (26/05). Há relatos de mulheres, crianças e idosos entre as vítimas, muitas delas carbonizadas. Israel admitiu que pode ter havido um incêndio no acampamento."

Disponível em: G1. Publicado em: 27/05/2024. Acesso em: 08/06/2024. Com adaptações.

O ataque ocorreu na cidade de:

- a) Gaza.
- b) Rafah.
- c) Khan Yunis.
- d) Jabalia.



e) Erez.

3. "O promotor do TPI (Tribunal Penal Internacional), Karim Khan, anunciou nesta 2ª feira (20.mai.2024) que solicitou mandados de prisão contra o primeiro-ministro de Israel, Benjamin Netanyahu, e líderes do grupo extremista Hamas."

PODER360. Publicado em: 20/05/2024. Acesso em: 08/06/2024. Com adaptações.

Sobre o fato em questão, assinale a alternativa incorreta:

- a) A ação tem pouca efetividade prática, pois Israel não é signatário do Estatuto de Roma, fundador do tribunal em Haia, na Holanda.
- b) A solicitação de prisão ainda terá que ser avaliada por juízes do Tribunal.
- c) A promotoria acusa os envolvidos por supostos crimes de guerra e contra a humanidade no conflito na Faixa de Gaza.
- d) O TPI não possui autoridade para emitir mandados de prisão contra líderes de estados soberanos.
- e) O Brasil é um país membro do Tribunal Penal Internacional.

4. Três países europeus anunciaram reconhecerem o Estado Palestino a partir de 28 de maio. Com o anúncio, o número de países membros da ONU que reconhecem formalmente a Palestina como um Estado, chegou a 143, incluindo o Brasil.

Israel reagiu, no entanto, com fúria à decisão dos três países, chamando de volta seus embaixadores. O país não reconhece e o atual governo se opõe à criação de um Estado palestino na Cisjordânia e na Faixa de Gaza. O argumento é que tal Estado seria uma ameaça à existência de Israel.

BBC News. Publicado em: 22/05/2024. Acesso em: 11/06/2024. Com adaptações.

Os países que europeus que reconheceram a Palestina como Estado foram

- a) Espanha, Irlanda e Noruega.
- b) Reino Unido, França e Portugal.
- c) Alemanha, Áustria e Suíça.
- d) Bélgica, Holanda e Luxemburgo.
- e) Áustria, Itália e Eslovênia.



5. "O presidente do Irã, Ebrahim Raisi, morreu em um acidente de helicóptero no domingo (19/5), conforme noticiado pela imprensa estatal iraniana. A aeronave caiu em uma região montanhosa no noroeste do país, enquanto voava em meio a uma densa neblina. Além de Raisi, o helicóptero também transportava o ministro das Relações Exteriores, Hossein Amir-Abdollahian."

BBC, 20/05/2024.

Sobre o fato descrito e o governo de Ebrahim Raisi analise as afirmativas a seguir:

I - A queda do helicóptero foi atribuída pelo governo iraniano e por sua imprensa oficial ao Estado de Israel.

II - O mandato de Raisi foi marcado por protestos contra o governo em 2022, desencadeados pela morte da jovem Mahsa Amini, que morreu sob custódia policial após ser presa pela polícia da moralidade iraniana por supostamente não usar o véu islâmico corretamente.

III - Ebrahim Raisi era cotado como um possível sucessor do aiatolá Ali Khamenei, líder supremo do Irã desde 1989 e quem de fato determina os rumos da República iraniana.

IV - Com a morte do presidente, assumirá em seu lugar o vice-presidente, que completará o mandato presidencial.

Estão corretas as afirmativas:

- a) I e II.
- b) I e IV.
- c) II e III.
- d) II e IV.
- e) III e IV.

6. Em maio de 2024, o mandato de 5 anos do presidente da Ucrânia, Volodymyr Zelensky, chegou ao fim. Contudo, ele permanece no cargo devido a uma situação especial no país.

A respeito desse assunto, assinale a alternativa que descreve corretamente o motivo pelo qual Zelensky continua na presidência e as implicações dessa situação:

- a) Zelensky permanece no cargo porque as novas eleições foram canceladas devido a um acordo internacional que prorrogou seu mandato indefinidamente.
- b) A permanência de Zelensky na presidência se deve à declaração de lei marcial no país, que suspendeu as eleições até que a situação de conflito com a Rússia seja normalizada.
- c) A continuidade de Zelensky na presidência é resultado de um plebiscito nacional que decidiu, por maioria, manter o atual governo até o fim das hostilidades com a Rússia.



d) Volodymyr Zelensky foi reeleito automaticamente para um novo mandato de 5 anos devido à lei marcial, sem necessidade de novas eleições.

e) Zelensky continua como presidente porque o Parlamento ucraniano aprovou uma emenda constitucional que estendeu automaticamente o mandato presidencial em tempos de guerra e a necessidade de estabilidade no governo

7. "O primeiro-ministro do Reino Unido, Rishi Sunak, dissolveu nesta quarta-feira, 22, o Parlamento e anunciou eleições antecipadas no país. De acordo com Sunak, as novas eleições ocorrerão em 4 de julho. Pelo calendário atual, o pleito estava previsto para janeiro de 2025."

Exame, 22/05/2024.

A decisão de Rishi Sunak ocorreu porque

- a) a oposição exigiu novas eleições devido a escândalos políticos envolvendo o governo.
- b) a popularidade de Sunak estava em queda e ele buscava consolidar seu poder antes de novas crises.
- c) houve uma moção de censura bem-sucedida contra o governo de Sunak no Parlamento.
- d) o Partido Trabalhista pressionou por novas eleições, ameaçando paralisar o governo.
- e) novos dados econômicos positivos foram divulgados, beneficiando seu governo.

8. Após mais de duas décadas, a Europa viu novamente um ataque a tiros contra o líder de um país. Em 15 de maio de 2024, Robert Fico, primeiro-ministro de uma nação da Europa Oriental foi alvo de um ataque a tiros, mas sobreviveu a tentativa de assassinato.

Antes da tentativa de assassinato contra Robert Fico, o último líder europeu que sofreu um ataque semelhante foi Zoran Djindjic, primeiro-ministro da Sérvia. Djindjic foi assassinado em 12 de março de 2003, em Belgrado, após uma série de medidas contra o crime organizado no país. Ele era um dos principais opositores de Slobodan Milosevic e sua morte foi um evento marcante na história recente da Europa.

Robert Fico é primeiro-ministro da

- a) Chéquia.
- b) Polônia.
- c) Croácia.
- d) Eslováquia.
- e) Eslovênia.



9. "A Espanha anunciou nesta terça-feira (21/05) que vai retirar de forma definitiva sua embaixadora na Argentina, em um gesto que escala e aprofunda a crise diplomática entre os dois países."

G1, 21/05/2024. Com adaptações.

A crise diplomática entre os dois países se iniciou

- a) após o presidente argentino, Javier Milei, chamar a esposa do primeiro-ministro espanhol, Pedro Sánchez, de corrupta.
- b) com a recusa do presidente argentino em se encontrar com o premiê e o rei da Espanha durante sua visita a Madri.
- c) com a participação do presidente argentino, Javier Milei, em um evento da extrema direita espanhola que critica abertamente o governo espanhol.
- d) após a imposição de tarifas de exportação de produtos agrícolas da Argentina para a União Europeia.
- e) após a declarações do presidente argentino, Javier Milei, de apoio ao regime totalitário de Francisco Franco.

10. "A Assembleia-Geral das Nações Unidas declarou o dia 11 de julho como o dia internacional da lembrança do genocídio de Srebrenica, ocorrido em 1995, ao adotar resolução nesta quinta-feira (23/05)."

CNN Brasil, 23/05/2024. Com adaptações.

O Dia Internacional da Lembrança do Genocídio de Srebrenica está relacionado ao massacre de cerca de 8.000 homens e meninos muçulmanos

- a) albaneses.
- b) bósnios.
- c) croatas.
- d) húngaros.
- e) sérvios.

11. "Os brasileiros enfrentaram quase três meses a mais de dias quentes nos últimos doze meses por causa da mudança climática. É o que mostra um relatório publicado nesta terça-feira (28/05) por entidades internacionais que analisaram dados de 2023 e de 2024 em comparação com a média de décadas anteriores."

Os últimos 12 meses foram os mais quentes já registrados no planeta. O que os pesquisadores apontam é que o calor extremo é resultado das mudanças climáticas, reflexo da queima de combustíveis fósseis."



G1, 28/05/2024. Com adaptações.

O aquecimento global tem como principal fator:

- a) a destruição da camada de ozônio pela emissão de clorofluorocarbonetos (CFCs), que permite a entrada de radiação ultravioleta nociva, aumentando as temperaturas globais e resultando em mudanças climáticas.
- b) a poluição dos oceanos devido ao despejo de resíduos plásticos, que altera a composição química das águas marinhas e contribui para o aquecimento das correntes oceânicas, impactando o clima global.
- c) o aumento da concentração na atmosfera de gases, como o dióxido de carbono (CO₂) e o metano (CH₄), principalmente devido à queima de combustíveis fósseis e mudanças no uso da terra.
- d) a diminuição da biodiversidade e a extinção de espécies, o que altera os ciclos biogeoquímicos e provoca desequilíbrios nos ecossistemas que contribuem diretamente para o aumento das temperaturas globais.
- e) o movimento das placas tectônicas que aumenta a atividade vulcânica, liberando grandes quantidades de dióxido de enxofre e outros aerossóis na atmosfera, que refletem a luz solar e contribuem para o aumento global de calor a longo de prazo.

12. O calor intenso do verão no hemisfério norte que causou incêndios no Mediterrâneo, fechou estradas no Texas e rompeu redes elétricas na China no ano passado fizeram com que não fosse apenas o verão mais quente já registrado – mas o mais quente em cerca de 2 mil anos, aponta uma nova pesquisa.

A descoberta vem de um dos dois novos estudos divulgados nesta terça-feira (14/05).

Os cientistas rapidamente declararam o período de junho a agosto do ano passado como o mais quente desde o início dos registros na década de 1940.

CNN Brasil: Verão de 2023 foi o mais quente em 2 mil anos no hemisfério norte, diz estudo. Publicado em 14/05/2024. Acesso em 11/06/2024. Com adaptações.

O calor intenso registrado no ano passado é explicado pelas mudanças nos padrões de temperaturas derivados do aquecimento global, mas também foi intensificado pelo fenômeno climático natural denominado de:

- a) Anomalia Magnética do Atlântico Sul.
- b) La Niña.
- c) El Niño.
- d) Deriva Continental.
- e) Derretimento das geleiras.



13. "O número de desaparecidos após um enorme deslizamento de terra é estimado em milhares, segundo uma agência governamental local.

O diretor interino do Centro Nacional de Desastres do país, Lusete Laso Mana, afirmou em um comunicado que os pareceres atuais apontam que provavelmente mais de 2.000 pessoas tenham sido soterradas após o desastre de sexta-feira (24/5 do horário local, quinta-feira 23 do Brasil).

No entanto, tem sido difícil estabelecer um número exato de vítimas e as estimativas variam muito, uma vez que os esforços de resgate estão caminhando muito lentamente.

Os escombros deixados pelo desabamento em algumas áreas chegam a 10 metros de profundidade e as equipes de resgate não possuem equipamento adequado para acessar as vítimas. Menos de 12 corpos foram recuperados até agora."

BBC News, 27/05/2024. Com adaptações.

Em que país ocorreu os episódios descritos acima?

- a) Austrália.
- b) Indonésia.
- c) Mianmar.
- d) Papua Nova Guiné.
- e) Bornéu.

14. O Papa Francisco reconheceu o segundo milagre do beato italiano Carlos Acutis, que faleceu em 2006, de leucemia, aos 15 anos de idade. Após o reconhecimento, é esperado que Acutis possa ser santificado pela Igreja Católica, segundo o site Vatican News, principal veículo de notícias do Vaticano.

Sobre o beato Carlo Acutis é incorreto afirmar que

- a) fazia evangelização pela web .
- b) o segundo milagre reconhecido pelo Vaticano aconteceu no Brasil.
- c) é conhecido como o beato "millenial".
- d) ficou conhecido como "padroeiro da internet" entre os fiéis.
- e) tinha um conhecimento de ciência da computação muito acima da média para garotos da sua idade.

15. Foi realizado, entre os dias 14 e 25 de maio, a 77ª edição do Festival de Cannes. A Palma de Ouro, prêmio de maior prestígio do festival, entregue ao melhor filme exibido no evento, foi concedido nesta edição para o filme:



- a) Anora, de Sean Baker.
- b) Megalopolis, de Francis Ford Coppola.
- c) Furiosa: Uma Saga Mad Max, de George Miller.
- d) Motel Destino, de Karim Aïnouz.
- e) Oh, Canadá, de Leonard Fifea.

16. A área desmatada no Brasil apresentou uma queda de 11,6% em 2023, aponta a edição mais recente do Relatório Anual do Desmatamento (RAD) no Brasil, do MapBiomas, lançado nesta terça-feira (28/05). No ano passado, a área de vegetação nativa suprimida somou 1.829.597 hectares. Em 2022, esse total chegou a 2.069.695 hectares.

Agência Brasil, 28/05/2024. Com adaptações.

Com base nas informações divulgadas sobre o desmatamento no Brasil em 2023, assinale a alternativa correta:

- a) O Cerrado ultrapassou a Amazônia em área desmatada, correspondendo, em 2023, a mais da metade da área suprimida.
- b) A urbanização e as atividades industriais são as atividades responsáveis pela maior parte do desmatamento no país.
- c) A região de Amacro, que inclui Amazonas, Acre e Rondônia, apresentou o maior crescimento em área desmatada.
- d) A redução do desmatamento na Amazônia foi impulsionada pela queda na região do Matopiba.
- e) O município de São Desidério, no Piauí, foi o mais desmatado.

17. Ministério da Saúde monitora o aumento de casos suspeitos da doença no Rio Grande do Sul e reforça que a população deve buscar atendimento médico logo nos primeiros sinais da doença. Pacientes que tenham tido contato com água parada ou lama das enchentes, inclusive no processo de limpeza dos ambientes, e apresentem febre, dores musculares, dor de cabeça ou mesmo sintomas semelhantes à gripe, devem buscar atendimento médico em qualquer ponto da rede de atenção à saúde, incluindo os hospitais de campanha da Força Nacional do SUS.

Publicado em www.gov.br, 25/05/2024. Acesso em 11/06/2024.

A doença em questão, que tem levado a preocupação das autoridades de saúde em meio ao contexto das enchentes no Rio Grande do Sul, é a (o):

- a) meningite.



- b) tuberculose.
- c) tétano.
- d) leptospirose.
- e) hanseníase.

18. Em resposta à crise provocada pelas inundações no Estado do Rio Grande do Sul, o presidente Luiz Inácio Lula da Silva (PT) criou o ministério extraordinário de Apoio à Reconstrução do Rio Grande do Sul. Para chefiar a pasta, o presidente escolheu como ministro:

- a) Paulo Paim.
- b) Paulo Pimenta.
- c) Tarso Genro.
- d) Maria do Rosário.
- e) Edegar Pretto.

19. "O Ministério da Saúde fez um alerta para o aumento e a disseminação da febre do oropouche no Brasil. Segundo o órgão, até o dia 13 de março, o País contabilizava 5.102 casos da doença, número cinco vezes maior do que o registrado no ano passado (832). Neste cenário, a pasta chama a atenção de profissionais da saúde para a importância do diagnóstico correto dos pacientes."

Disponível em terra.com.br. Publicado em: 17/05/2024. Acesso em 12/06/2024. Com adaptações.

Sobre a febre do oropouche no Brasil, assinale a alternativa incorreta:

- a) O vírus causador da doença é considerado endêmico - ou seja, típico -, da região amazônica.
- b) Autoridades de saúde consideram que o principal motivo por trás do aumento no número de casos é a descentralização da distribuição dos testes para diagnóstico do vírus em laboratório.
- c) Os sintomas da febre do oropouche incluem dor abdominal intensa e hemorragias internas, semelhantes aos observados em casos graves de dengue.
- d) O vírus é transmitido aos seres humanos principalmente pela picada do mosquito conhecido como maruim ou mosquito-pólvora.
- e) Amazonas e Rondônia estão entre os estados com o maior número de casos diagnosticados no Brasil.



20. "O Brasil é o país com maior número de casos e mortes por dengue neste ano, segundo informe da OMS (Organização Mundial de Saúde) divulgado nesta 5ª feira (30.mai.2024). São 6,2 milhões de casos suspeitos e 3 milhões confirmados – o que corresponde a 88,2% dos casos no mundo no período.

Até 30 de abril, a soma dos casos notificados mundialmente foi de 7,6 milhões. Desses, 3,4 milhões foram confirmados. Ao todo, foram registradas 3.680 mortes –sendo 77% desse total (2.846) no Brasil."

PODER360, 30/05/2024. Com adaptações.

As alternativas a seguir apresentam fatores que contribuem significativamente para o alto número de casos de dengue no Brasil no período recente, **com exceção de uma**. Assinale-a:

- a) A baixa disponibilidade de vacinas contra a dengue no mercado, o que impede a imunização em massa da população, resultando em surtos recorrentes da doença, especialmente em áreas urbanas densamente povoadas.
- b) A presença dos quatro sorotipos do vírus da dengue circulando simultaneamente, o que aumenta a complexidade da resposta imunológica e a probabilidade de infecções sucessivas e mais graves, agravando o número de casos confirmados.
- c) A falta de saneamento básico e o acúmulo de lixo nas cidades, que cria ambientes propícios para a proliferação dos mosquitos *Aedes aegypti*, principais vetores da doença, aumentando a taxa de transmissão e incidência da dengue.
- d) As mudanças climáticas globais, que alteram os padrões de temperatura e precipitação, criando condições ambientais mais favoráveis para a sobrevivência e reprodução dos mosquitos transmissores, resultando em um aumento dos casos de dengue.
- e) A mobilidade urbana e a migração de pessoas infectadas entre regiões e países, que facilita a disseminação do vírus e torna difícil o controle local dos surtos, levando a um aumento significativo dos casos de dengue.

21. O Instituto Brasileiro de Geografia e Estatística (IBGE) divulgou, no dia 17 de maio, dados do Censo Demográfico de 2022 relativos à alfabetização no país. Os dados mostram quais as taxas de alfabetização da população em cada um dos municípios do Brasil.

A respeito desses dados, é correto afirmar que:

- a) O analfabetismo está reduzindo-se progressivamente nas últimas décadas, mas ainda é alto, situando-se na casa dos 15%.
- b) Na análise das faixas etárias, o grupo de 65 anos ou mais apresenta a maior taxa de analfabetismo.
- c) Entre as cinco grandes regiões, o Sudeste apresenta o maior índice de alfabetizados, enquanto o percentual de alfabetização da Região Norte permaneceu o mais baixo do país.
- d) O Distrito Federal é a unidade da federação com o menor percentual de alfabetizados e o Piauí com o maior percentual de analfabetos.



e) Entre os grupos de cor, os pardos apresentam a maior taxa de analfabetismo.

22. A agência classificadora de risco de crédito Austin Rating divulgou um levantamento sobre o crescimento do Produto Interno Bruto (PIB) brasileiro em comparação com outros países no mundo no primeiro trimestre de 2024. Os dados divulgados mostram que o crescimento do PIB brasileiro foi de 0,8% no 1º trimestre em relação ao anterior. Com isso, o país se tornou a 8ª maior economia do mundo, ultrapassando, no ranking

a) a França.

b) a Itália.

c) o Canadá.

d) a Austrália.

e) a Rússia.

23. "O Comitê de Política Monetária (Copom) do Banco Central decidiu, nesta quarta-feira (8/05), reduzir a taxa Selic em 0,25 ponto percentual, de 10,75% ao ano para 10,50% ao ano. Este foi o sétimo corte seguido na taxa básica de juros, que começou a recuar em agosto de 2023. No início do ciclo de cortes, a Selic estava em 13,75% ao ano.

Desde então, o comitê vinha reduzindo a Selic no mesmo ritmo: 0,5 ponto percentual a cada encontro. Com a decisão desta quarta, de cortar a Selic para 10,50%, o BC mudou esse ritmo. Mesmo assim, a taxa chegou ao menor nível desde fevereiro de 2022, quando estava em 9,25% ao ano."

G1, 08/05/2024. Com adaptações.

Sobre a redução da taxa básica de juros, assinale a alternativa que apresenta um dos principais fatores que baseou a decisão do Copom de reduzi-la:

a) A queda significativa no índice de preços ao consumidor, indicando uma deflação consistente no mercado interno, o que justifica a necessidade de uma política monetária mais expansionista.

b) A estabilização dos preços dos combustíveis e a redução das tarifas de energia elétrica, que diminuiram a pressão inflacionária sobre os custos de produção e permitiram a flexibilização da política monetária.

c) A proposta de mudança da meta fiscal e a demora na redução dos juros nos Estados Unidos, que criaram um cenário econômico desafiador e exigiram um ajuste na política monetária brasileira.

d) O aumento expressivo das exportações de commodities, que melhorou a balança comercial e trouxe maior estabilidade econômica, permitindo ao Banco Central reduzir a taxa Selic.

e) A diminuição da taxa de desemprego, que gerou um aumento significativo no consumo das famílias, exigindo a adoção de uma política monetária mais restritiva para conter a inflação.



24. "O banco ultrapassou o Itaú Unibanco e se tornou o banco mais valioso da América Latina. Com um valor de mercado de R\$ 297 bilhões, o banco agora é a segunda maior empresa listada na B3, atrás apenas da Petrobras.

O crescimento do banco também reflete uma mudança mais ampla no setor bancário, onde instituições financeiras digitais estão ganhando terreno sobre os bancos tradicionais. Com operações simplificadas e uso intensivo de tecnologia, esses bancos conseguem oferecer serviços mais ágeis e personalizados, atraindo especialmente os consumidores mais jovens e tecnicamente inclinados."

G1, 29/05/2024. Com adaptações.

Qual é o banco descrito acima?

- a) Inter.
- b) Bradesco.
- c) C6.
- d) Santander.
- e) Nubank.

25. "Ele foi classificado como ilegal pela prefeitura da maior cidade da América Latina, tornou-se alvo de protestos violentos, despertava receio entre os usuários mais preocupados com segurança. Dez anos depois, está consolidado como principal serviço de transporte por automóveis nas metrópoles do país.

O aplicativo Uber completa, neste mês, uma década de atividade no Brasil. Conquistou posição confortável em termos financeiros e presença no mercado, mas passou seus primeiros anos na clandestinidade."

Folha de São Paulo, 18/05/2024. Com adaptações.

Após dez anos de atuação no país, o aplicativo Uber trouxe mudanças importantes para a sociedade e a economia brasileira. Considerando esse contexto, assinale a alternativa incorreta.

- a) Com um atendimento considerado de luxo no seu período inicial, a qualidade do serviço decaiu com o passar dos anos.
- b) A popularização do Uber levou a um declínio do serviço de táxis e a intensificação do uso dos automóveis nas cidades.
- d) O nome da empresa está associado ao termo "uberização" caracterizado pela prestação de serviços intermediada por aplicativos de celular e precarização das relações de trabalho.
- e) O crescimento da empresa ocorreu em um contexto das profundas mudanças tecnológicas da sociedade atual.
- e) A ascensão do Uber no Brasil coincidiu com um período de aumento nas vagas formais de emprego.



26. "O presidente Luiz Inácio Lula da Silva demitiu nesta terça-feira (14/05) o ex-senador Jean Paul Prates do comando da Petrobras."

Uol, 14/05/2024. Com adaptações.

Para assumir o cargo de presidente da Petrobras, Lula indicou

- a) Magda Chambriard.
- b) Aloizio Mercadante.
- c) Graça Foster.
- d) Alexandre Silveira.
- e) Guido Mantega.

27. No dia 23 de maio de 2024, o Supremo Tribunal Federal (STF) tomou uma decisão importante sobre a forma como as mulheres vítimas de crimes sexuais devem ser tratadas em audiências judiciais e investigações policiais. Com base nessa decisão, analise as afirmações a seguir e assinale a alternativa correta:

- a) A vida sexual pregressa da vítima poderá ser usada de forma consentida moralmente desqualificada para a instrução processual em delegacias, audiências e decisões judiciais.
- b) A tese de legítima defesa da honra pelo réu, acusado de crime sexual, poderá ser utilizada para justificar a violência e pedir a absolvição, desde que não haja provas adicionais de agressão.
- c) As vítimas de crimes sexuais não podem ser desqualificadas com base em sua vida sexual pregressa, nas decisões e audiências judiciais e nas investigações policiais, visando impedir a revitimização e favorecer as denúncias de casos de estupro.
- d) A decisão do STF permite que policiais e advogados utilizem argumentos relacionados à vida sexual pregressa da vítima, desde que essas informações sejam consideradas relevantes para o caso.
- e) Segundo a decisão do STF, apenas em casos onde o réu alegue legítima defesa da honra, poderá ser utilizado o histórico de vida sexual da vítima como parte da argumentação da defesa.

28. A Câmara dos Deputados aprovou, no dia 8 de maio, um projeto de lei que impacta diretamente o transporte de animais de estimação por companhias aéreas no país. A proposta ficou popularmente conhecida como "Lei Joca", em homenagem ao cachorro Joca, que morreu durante um transporte aéreo.

O projeto de lei aprovado prevê que

- a) as companhias aéreas devem fornecer alimentação e cuidados veterinários durante o voo para animais de estimação.



- b) as companhias aéreas são obrigadas a fornecer um serviço de rastreamento de cães e gatos durante as viagens, assegurando que os donos possam acompanhar o trajeto dos seus animais de estimação.
- c) os donos de animais de estimação devem assinar um termo de responsabilidade, isentando as companhias aéreas de qualquer dano ocorrido durante o transporte.
- d) as companhias aéreas ofereçam compensação financeira aos donos dos animais em casos de extravio ou morte durante o transporte aéreo.
- e) as companhias aéreas não podem recusar o transporte de cães e gatos, exceto se considerarem que as condições de voo não são seguras para os animais.

29. No dia 25 de março de 2024, o Brasil comemorou os 200 anos da promulgação de sua primeira Constituição, um marco histórico que estabeleceu os fundamentos do Estado brasileiro.

A respeito da Constituição de 1824, é correto afirmar que:

- a) Foi promulgada pela Assembleia Constituinte que a elaborou.
- b) Instituiu três Poderes: Moderador, que era o Poder Executivo, o Legislativo e o Judiciário.
- c) Foi a Constituição mais longeva, depois da primeira da Carta Magna republicana.
- d) O texto estabeleceu o Poder Legislativo unicameral, composto pela Assembleia Nacional.
- e) Conferia amplos poderes ao imperador, que exercia o Poder Moderador, situado acima dos demais Poderes.

30. O Brasil perdeu, no mês de maio, um grande ícone da crônica esportiva, o narrador criador de bordões como "Olho no lance" e "Pelo amor dos meus filhinhos". Trata-se de:

- a) Luciano do Valle.
- b) Antero Greco.
- c) Washington Rodrigues.
- d) Silvio Luiz.
- e) Paulo Stein.



GABARITO



- | | | |
|-------|-------|-------|
| 1. E | 11. C | 21. B |
| 2. B | 12. C | 22. B |
| 3. D | 13. D | 23. C |
| 4. A | 14. B | 24. E |
| 5. C | 15. A | 25. E |
| 6. B | 16. A | 26. A |
| 7. E | 17. D | 27. C |
| 8. D | 18. B | 28. B |
| 9. A | 19. C | 29. E |
| 10. B | 20. E | 30. D |



SIMULADO DE ATUALIDADES - JUNHO DE 2024



1. O Plano Real completou 30 anos no dia 1º de julho de 2024, pondo fim a uma era de hiperinflação e constantes trocas de moeda corrente do Brasil. No contexto do amplo plano econômico, o Real sucedeu ao Cruzeiro Real, o qual, por sua vez, sucedeu o

- a) Cruzeiro.
- b) Cruzado Novo.
- c) Cruzado.
- d) Cruzeiro Novo.
- e) Réis.

2. Há 30 anos, em 1º de julho de 1994, o real era colocado em circulação. Apesar de ser a maior marca do Plano Real, essa foi só a ponta final de um extenso plano econômico que pôs fim a uma era de hiperinflação e constantes trocas da moeda corrente do Brasil.

Sobre o plano Real e o contexto da época, assinale a alternativa correta.

- a) O plano foi implantado no governo de Fernando Henrique Cardoso.
- b) Uma das etapas de implantação do plano foi a criação da Unidade Real de Valor (URV).
- c) O dólar foi sobrevalorizado e utilizado como moeda de referência.
- d) Houve um congelamento temporário de preços de produtos essenciais.
- e) O confisco da poupança foi adotado para conter a demanda e as pressões sobre a inflação.

3. O presidente Lula tem criticado o órgão e o seu presidente pelas decisões tomadas sobre a taxa básica de juros da economia brasileira. Em uma de suas críticas, disse Lula em entrevista à rádio CBN (18 jun.): "*Só temos uma coisa desajustada neste país: é o comportamento do Banco Central. Essa é uma coisa desajustada. Presidente que tem lado político, que trabalha para prejudicar o país. Não tem explicação a taxa de juros estar como está*".

Lula critica o

- a) Conselho Monetário Nacional.
- b) Conselho Nacional de Política Fazendária.
- c) Comitê de Valores Mobiliários.
- d) Comitê de Política Monetária.
- e) Comitê Executivo de Economia e Moeda.



4. A Polícia Federal (PF) afirmou, em seu pedido de prisões e buscas e apreensões contra ex-executivos da varejista, que a cúpula da empresa não “media esforços para enganar o mercado financeiro” por meio de fraudes contábeis que escondiam os resultados negativos da companhia e garantiam lucros aos seus diretores.

G1, 26/06/2024. Com adaptações.

A ação da Polícia Federal teve como alvo ex-executivos da varejista

- a) Casas Bahias.
- b) Havan.
- c) Lojas Americanas.
- d) Magalu.
- e) Lojas Renner.

Após nove anos de sucessivas interrupções, por 6 votos a 3, o Supremo Tribunal Federal (STF) finalizou, nesta quarta-feira (26 jun.), o julgamento que descriminalizou o porte de maconha para uso pessoal e fixou uma quantia de posse da droga para diferenciar usuários de traficantes.

Agência Brasil, 26/06/2024. Com adaptações. Acesso em: 19/07/2024.

Sobre o tema em questão, julgue os itens a seguir em certo (C) ou errado (E).

5. Pela decisão do STF, não comete infração penal quem adquirir, guardar, tiver em depósito, transportar ou trazer consigo até 40 gramas ou seis plantas fêmeas de maconha para consumo pessoal.

6. A decisão do Supremo descriminaliza o porte de maconha para uso pessoal que passa a ser lícito, embora permaneça proibido fumar a droga em local público, postura sujeita a sanções como prestação de serviços comunitários, advertência sobre os efeitos das drogas e medidas educativas comparecimento a programas ou cursos educativos.

7. A decisão do Tribunal terá validade até que o Congresso Nacional legisle sobre a critério de diferenciação entre usuários e traficantes. Tramita no Poder Legislativo Proposta de Emenda à Constituição (PEC) no sentido contrário da decisão tomada pelo STF.

8. Entre os argumentos utilizados pelos defensores da descriminalização do uso pessoal da maconha, está a de um novo enfoque para a política de combate às drogas, como a importância de se dar à questão um tratamento voltado para a saúde pública.

9. Com base na recente decisão do Supremo Tribunal Federal (STF) sobre o porte de maconha para uso pessoal, considere as seguintes afirmações e marque a opção correta:

- a) O porte de maconha para uso comprovadamente pessoal deixou de configurar ilegalidade, tornando-se um ilícito administrativo.
- b) A posse de até 40 gramas ou seis plantas fêmeas de maconha para consumo pessoal é presumida como uso, não tráfico.
- c) A presença de balanças de precisão e anotações de venda não influenciam na classificação de um indivíduo como usuário ou traficante.



- d) A autoridade policial está impedida de realizar prisão em flagrante por tráfico de drogas, mesmo para quantidades inferiores a 40 gramas.
- e) A decisão do STF permite o porte de maconha para uso pessoal sem qualquer tipo de sanção ou penalidade.

10. O Pantanal está enfrentando desde 2019 o período mais seco das últimas quatro décadas, o que agrava a situação dos incêndios que anualmente ocorrem no bioma. Esse ecossistema é essencial para a biodiversidade brasileira, pois abriga uma vasta gama de espécies de fauna e flora, além de ser uma importante fonte de sustento para comunidades locais. A devastação causada pelos incêndios não só ameaça a biodiversidade, mas também a economia e a vida das pessoas que dependem desse ecossistema.

Sobre o Pantanal e os incêndios que estão ocorrendo no ano de 2024, assinale a alternativa CORRETA.

- a) A maior parte da área queimada localiza-se no Mato Grosso, seguida do Mato Grosso do Sul, os dois estados brasileiros em que se localiza o bioma.
- b) Os incêndios deste ano só não foram superados em hectares pelos ocorridos no ano de 2020, no auge da pandemia de covid-19.
- c) O fogo de turfa foi considerado a causa principal do início dos incêndios no bioma.
- d) O Paraná é o principal rio do bioma pantaneiro.
- e) A longa estiagem enfrentada pelo bioma e às mudanças climáticas anteciparam a temporada de fogo no ano de 2024.

11. O Amazonas vive uma seca intensa, e a avaliação é a de que ela vai ser ainda mais dramática que a estiagem histórica de 2023. Para se ter noção da gravidade atual, as autoridades pediram que pessoas estoquem água e comida para enfrentarem a baixa dos rios em algumas regiões.

G1, publicado em 25/06/2024.

Com relação à seca na região Norte e seus impactos no país, assinale a alternativa incorreta.

- a) Como o Norte já é uma região de clima quente, o aquecimento do Atlântico Tropical Norte não teve influência na situação de estiagem.
- b) O transporte fluvial que é essencial para a economia do Amazonas foi fortemente impactado por essa situação climática extrema.
- b) A seca aumenta os fatores que tornam os incêndios mais severos no bioma Pantanal.
- c) A expectativa é de que com o fim do El Niño e a chegada da La Niña haja mais chuva na região, apacando a situação atual de segura.
- e) Preços de produtos comercializados no país foram afetados pela seca na bacia amazônica.

12. Dois parques brasileiros foram incluídos no top 10 dos melhores do mundo, segundo o site Trip Advisor. A lista é liderada pela Disneyland Paris, na França. No entanto, o ranking da empresa de turismo é visto como controverso por outras companhias do setor. Segundo o Trip Advisor, o ranking é baseado nas avaliações dos turistas, justificando o nome "Travelers' Choice" (a "Escolha dos Viajantes", em inglês).

Os parques brasileiros que estão na quarta e sexta posição do ranking são, respectivamente:



- a) Parque Terra Mágica Florybal e Parque Unipraias Camboriú.
- b) Snowland e Thermas dos Laranjais – Olimpia.
- c) Território Selvagem Canoar e Blue Park Foz.
- d) Beto Carrero World e Beach Park.
- e) Acquamotion e Eco Parque Arraial d'Ajuda.

13. Pela primeira vez, a Justiça da Espanha condenou torcedores por insultos racistas em um estádio de futebol no país. No julgamento, três torcedores do Valencia foram condenados a oito meses de prisão por terem cometido racismo contra um jogador brasileiro do Real Madrid.

O trio – que proferiu xingamentos contra o atleta durante uma partida do campeonato espanhol no estádio Mestalla, em maio de 2023 – se declarou culpado. Os homens também ficarão dois anos sem poder frequentar estádios de futebol.

Nexo Jornal. Publicado em: 10/06/2024. Acesso em: 19/07/2024. Com adaptações.

Os insultos racistas foram proferidos contra

- a) Endrick.
- b) Eder Militão.
- c) Neymar.
- d) Rodrygo.
- e) Vinícius Júnior.

14. Diante de uma Academia Brasileira de Letras (ABL) lotada, com discursos marcados pela pauta antirracista, a historiadora tomou posse como imortal. Com a sua eleição, a Academia passou a ter cinco mulheres e 35 homens como integrantes.

Folha de São Paulo. Publicado em: 14/06/2024. Acesso em: 19/07/2024. Com adaptações.

A nova “imortal” da Academia Brasileira de Letras é

- a) Rosiska Darcy de Oliveira.
- b) Fernanda Montenegro.
- c) Lilia Schwarcz.
- d) Ana Maria Machado
- e) Heloisa Teixeira.

15. O escritor João do Rio será o homenageado da 22ª edição de um dos principais festivais literários do Brasil e da América do Sul, que será realizado entre os dias 9 e 13 de outubro. É o quarto escritor negro homenageado pelo festival desde sua criação, em 2003, depois de Maria Firmina dos Reis, Lima Barreto e Machado de Assis.

Qual o nome desse festival?

- a) Festival Literário Internacional de Petrópolis (Flipetrópolis).



- b) Bienal Internacional do Livro do Rio de Janeiro.
- c) Bienal Internacional do Livro de São Paulo.
- d) Festival Internacional Literário de Gramado.
- e) Festa Literária Internacional de Paraty (Flip).

16. Qual das seguintes afirmações sobre a tentativa de golpe de Estado na Bolívia em junho de 2024 é correta?

- a) A tentativa de golpe foi bem-sucedida e resultou na mudança do governo boliviano.
- b) O ex-comandante do Exército, Juan José Zúñiga, foi preso após a falha da tentativa de golpe.
- c) A tentativa de golpe foi apoiada pela Organização dos Estados Americanos (OEA).
- d) O próprio general golpista refutou a acusação de membros da oposição de orquestração de um autogolpe por parte do presidente Luis Arce.
- e) O ex-presidente, Evo Morales, não estava entre os políticos envolvidos, de alguma forma, com a tentativa de golpe de estado.

17. Considerando as políticas econômicas implementadas durante o governo de Javier Milei, na Argentina, assinale a alternativa que descreve corretamente os efeitos observados no país.

- a) A inflação anual diminuiu significativamente, resultando em um aumento do poder de compra da população.
- b) As medidas de austeridade resultaram em um superávit fiscal, com um impacto significativo na redução da pobreza.
- c) A Lei de Bases – Lei Ônibus – foi aprovada sem alterações e resultou em uma ampla privatização de empresas estatais.
- d) O PIB argentino cresceu consistentemente, refletindo uma recuperação econômica robusta e sustentável.
- e) A recessão técnica e o aumento da pobreza estão entre as consequências das políticas de corte de gastos públicos e desregulamentação econômica.

18. Pelo menos 50 pessoas foram mortas nos protestos liderados por jovens contra as propostas de aumentos de impostos que eclodiram em todo o país há um mês e continuaram mesmo depois de o Presidente William Ruto ter retirado a legislação e demitido quase todo o seu gabinete.

As manifestações começaram de forma pacífica, mas depois tornaram-se violentas.

Na capital, Nairobi, os manifestantes chegaram inclusive a invadir o parlamento e atearam fogo no hall de entrada.

Os protestos ocorreram no:

- a) Egito.
- b) Mali.
- c) Quênia.



- d) Burkina Fasso.
- e) Sudão.

19. O G7, grupo diplomático formado por países ricos e desenvolvidos, divulgou a declaração final da cúpula dos líderes nesta sexta-feira (14 jun.), realizada em Borgo Egnazia, na Puglia, Itália. A reunião teve como anfitriã a primeira-ministra italiana, Giorgia Meloni.

Folha de São Paulo. Publicado em: 14/06/2024. Acesso em: 19/07/2024. Com adaptações.

Na declaração final da cúpula, os membros do G7:

- a) Reforçaram o apoio aos ataques militares de Israel na Faixa de Gaza até a eliminação total do Hamas.
- b) Implementaram uma nova rodada de sanções à China pelo seu apoio à Rússia na guerra com a Ucrânia.
- c) Enfatizaram a importância de investimentos para alcançar os Objetivos do Desenvolvimento Sustentável (ODS) por meio do Fundo Monetário Internacional (FMI).
- d) Aprovaram a utilização de receitas de ativos russos congelados em instituições ocidentais para viabilizar um novo auxílio financeiro à Ucrânia.
- e) Rejeitaram a proposta de implementar um Código de Conduta Internacional para Organizações que Desenvolvem Sistemas Avançados de IA.

Acerca de recentes eleições ocorridas no mundo, julgue os itens a seguir em certo (C) ou errado (E).

20. O primeiro-ministro da Índia, Narendra Modi, saiu-se derrotado nas eleições parlamentares do país, não alcançando o objetivo de um histórico terceiro mandato na maior democracia do mundo.

21. Partidos da denominada extrema direita foram os principais derrotados nas eleições para o Parlamento da União Europeia, que também registrou a perda de espaço dos conservadores, a direita tradicional. Siglas de esquerda cresceram, mas o maior avanço foi o de partidos ecologistas/ambientalistas.

22. A extrema direita foi a mais votada no primeiro turno das eleições parlamentares francesas. O segundo turno foi marcado por uma aliança vitoriosa entre a esquerda e o centro, que travou a vitória do grupo político liderado por Marine Le Pen, do Reagrupamento Nacional.

23. Pela primeira vez após o fim do regime do apartheid, na África do Sul, o partido de Nelson Mandela, Congresso Nacional Africano (ANC), não obteve maioria nas eleições parlamentares. Em uma coalização sem precedentes, o principal partido de oposição, a Aliança Democrática (AD), vai liderar o país, que terá Cyril Ramaphosa como próximo presidente.

24. Claudia Scheinbaun fez história ao ser eleita a primeira mulher presidente do México. A candidata governista sucederá o esquerdista López Obrador, que conseguiu debelar um dos principais problemas do país, a criminalidade e a violência das poderosas organizações do narcotráfico.

Acerca de assuntos atuais do Brasil e do mundo, julgue os itens a seguir em certo (C) ou errado (E).

25. As migrações para países da União Europeia são um dos principais temas em debate na política regional.



26. Coreia do Norte e Coreia do Sul protagonizaram mais um momento de tensão entre os dois países no episódio que ficou conhecido com a guerra dos balões. Ativistas contrários ao regime norte-coreano lançaram balões contendo pen drives com músicas de k-pop, material com críticas ao ditador Kim Jong-un, grãos de arroz, notas de dólar entre outros objetos. A Coreia do Norte considerou como lixo o material enviado pelos balões ao seu país. Como resposta, enviou à Coreia do Sul balões contendo fezes, papel higiênico usado e outros tipos de lixo.

27. O governo do primeiro-ministro Benjamin Netanyahu aceitou a proposta de cessar fogo na guerra com o Hamas, que foi aprovada pelo Conselho de Segurança da Organização das Nações Unidas (ONU). A decisão gerou grandes protestos em Israel e levou a renúncia do representante da oposição no Gabinete de Guerra, Benny Gantz.

28. Em um mundo intensamente conectado, as pessoas têm viajado mais, aumentando a renda gerada pelo turismo. No entanto, esse setor ainda não se recuperou dos efeitos avassaladores da pandemia de covid-19. Como medida de incentivo, diversas cidades europeias, como Barcelona e Veneza, estão revogando medidas de controle de fluxo de turistas, por exemplo, a proibição de aluguéis por temporada e a cobrança de ingresso para entrar nas cidades.

29. Pela primeira vez, um brasileiro vai chefiar a Organização Internacional de Polícia Criminal (Interpol), a maior organização policial do mundo, que conta com 196 países membros.

30. A ministra do Supremo Tribunal Federal Rosa Weber é a atual presidente do Tribunal Superior Eleitoral (TSE). A ministra comandará o processo das eleições municipais no ano de 2024.

31. A rede social anunciou a atualização das suas regras para permitir oficialmente a divulgação de conteúdo adulto explícito. A publicação de materiais pornográficos já não era proibida, pois já circulavam livremente na plataforma, mas agora eles estão formalmente liberados.

As novas diretrizes permitem que usuários publiquem "nudez adulta ou comportamento sexual produzido e distribuído consensualmente". A rede social de Elon Musk exige que esse conteúdo seja sinalizado e proíbe a sua exibição de forma destacada, como em fotos de perfil.

G1. Publicado em: 03/06/2024. Acesso em: 23/07/2024. Com adaptações.

A rede social de Elon Musk é o:

- a) Instagram.
- b) WhatsApp.
- c) Youtube.
- d) X.
- e) Threads.

32. A Arábia Saudita disse no domingo (23/06) que mais de 1.300 pessoas morreram na peregrinação do Hajj deste ano, com "inúmeros casos" devido ao estresse por calor e viagens "não autorizadas", respondendo por mais de quatro em cada cinco das fatalidades.

O comunicado disse que 83% dos que morreram "não estavam autorizados a realizar o Hajj" e "caminharam longas distâncias sob luz solar direta, sem abrigo ou conforto adequados."

CNN Brasil. Publicado em: 23/06/2024. Acesso em: 23/07/2024. Adaptado.



O Haaj constitui-se em um dos cinco pilares do Islamismo, pelo qual todos os muçulmanos aptos devem fazer a peregrinação à cidade sagrada ao menos uma vez em suas vidas. A peregrinação se concentra em visitar a Kaaba e caminhar ao seu redor sete vezes. A peregrinação ocorre no 12º mês do Calendário Islâmico.

Khan Academy. Os Cinco Pilares do Islã. Disponível em: <https://tinyurl.com/y6xc7946>. Adaptado.

A cidade sagrada do Islamismo é:

- a) Medina.
- b) Meca.
- c) Jerusalém.
- d) Hebron.
- e) Cairo.

33. Considerando os eventos recentes e históricos associados a Julian Assange e ao WikiLeaks, qual das seguintes afirmações é correta?

- a) Julian Assange foi preso em 2019 e permaneceu em custódia até 2024 sem enfrentar acusações.
- b) O WikiLeaks surgiu como uma ferramenta digital em que documentos secretos pudessem ser vazados.
- c) Julian Assange foi acusado de vazar documentos confidenciais dos Estados Unidos e teve todos os seus pedidos de asilo negados por embaixadas estrangeiras.
- d) O WikiLeaks ficou famoso em 2010 pelo vazamento de um vídeo sigiloso que mostrava um ataque de helicóptero dos Estados Unidos no Afeganistão que deixou 12 civis mortos.
- e) Julian Assange declarou-se culpado de acusações criminais nos Estados Unidos como parte de um acordo que não permitiu sua libertação da prisão.

34. O primeiro-ministro holandês, em fim de mandato, foi formalmente escolhido como o próximo secretário-geral da Otan (Organização do Tratado do Atlântico Norte). A partir de 1º de outubro de 2024, o político substituirá o norueguês Jens Stoltenberg, atual ocupante do cargo. Ele recebeu o apoio de apoio de integrantes-chave da aliança na sua nomeação, como os Estados Unidos, Reino Unido, França e Alemanha.

PODER360. Publicado em: 26/06/2024. Acesso em: 23/07/2024. Com adaptações.

O novo secretário geral da OTAN será:

- a) Mark Rutte.
- b) Keir Starmer.
- c) Rishi Sunak.
- d) Olaf Scholz.
- e) J.D. Vance.



35. A fabricante de chips e semicondutores conseguiu ultrapassar a Microsoft e se tornou a empresa listada em bolsa de valores mais valiosa do mundo. A companhia encerrou o dia valendo US\$ 3,335 trilhões (o equivalente a R\$ 18 trilhões).

A tendência positiva dos papéis da empresa já vem desde o ano passado, com o crescente impulso da inteligência artificial (IA) generativa ao redor do planeta.

G1. Publicado em: 18/06/2024. Acesso em: 23/07/2024. Com adaptações.

Qual a empresa citada na questão?

- a) Alphabet Inc.
- b) Apple Inc.
- c) NVIDIA Corporation.
- d) Huawei.
- e) Tesla.

GABARITO



- | | | |
|-------|-------|-------|
| 1. A | 13. E | 25. C |
| 2. B | 14. C | 26. C |
| 3. D | 15. E | 27. E |
| 4. C | 16. B | 28. E |
| 5. C | 17. E | 29. C |
| 6. E | 18. C | 30. E |
| 7. C | 19. D | 31. D |
| 8. C | 20. E | 32. B |
| 9. B | 21. E | 33. B |
| 10. E | 22. C | 34. A |
| 11. A | 23. E | 35. C |
| 12. D | 24. E | |



SIMULADO DE ATUALIDADES – JULHO DE 2024

Caro Aluno,

É com muita satisfação que disponibilizo este simulado de Atualidades com questões relacionadas aos principais fatos ocorridos no Brasil e no mundo no mês de julho de 2024.

Antes de resolvê-lo, sugiro que você assista à aula de **Atualidades – Retrospectiva de Julho de 2024**, que pode ser encontrada nos meus cursos de Atualidades e Conhecimentos Gerais no site do Estratégia Concursos.

Após assistir à aula, você pode fazer o simulado.

Bons estudos!

Professor Leandro Signori.



LISTA DE QUESTÕES

A França sediou os Jogos Olímpicos de Verão de 2024, denominados de Jogos da XXXIII Olimpíada, tendo como cidade sede a sua capital, Paris. Os Jogos Olímpicos foram realizados de 26 de julho a 11 de agosto de 2024.

Sobre as Olimpíadas de 2024, julgue os itens a seguir em C ou E (certo ou errado):

1. A Cerimônia de Abertura do evento esportivo foi a primeira na história dos Jogos Olímpicos a ocorrer fora de um estádio, sendo realizada ao ar livre e tendo o rio Sena como palco central para o desfile das delegações.
2. Uma das principais polêmicas da cerimônia de abertura dos Jogos Olímpicos de Paris 2024 foi a inclusão de uma performance acusada de zombar da 'Última Ceia', gerando críticas de grupos religiosos e de políticos de extrema-direita.
3. A França foi o país escolhido para sediar os Jogos Olímpicos de 2024 como uma forma de comemorar os 100 anos da realização dos primeiros Jogos Olímpicos modernos, que ocorreram em 1924, também em Paris.
4. Os Jogos Olímpicos de 2024 foram os primeiros jogos completamente paritários, com o mesmo número de atletas homens e mulheres. Essa edição também marca a primeira vez que quatro modalidades adicionais - escalada, *breaking*, skate e surfe - foram introduzidas ao programa olímpico.
5. Nos Jogos Olímpicos de 2024, o Comitê Olímpico Internacional estabeleceu uma nova política de premiação em dinheiro para todos os atletas que conquistarem medalhas, sem a necessidade de apoio de comitês nacionais ou patrocinadores.
6. "O ex-presidente dos Estados Unidos, Donald Trump, foi alvo de tiros enquanto discursava em um comício neste sábado (13/07). Após o ataque, era possível ver sangue escorrendo no rosto de Trump. Seus assessores afirmaram que ele passa bem."

Folha de São Paulo. 13/07/2024. Acesso em: 19/08/2024. Adaptado.

O atentado contra Donald Trump ocorreu na cidade de:

- a) Butler, no estado da Pensilvânia.
- b) Trenton, no estado de Nova Jérsei.
- c) Dallas, no estado do Texas.
- d) Columbus, no estado de Ohio.



e) Charleston, no estado da Virgínia Ocidental.

7. “O presidente dos Estados Unidos Joe Biden anunciou neste domingo (21/07) que desistiu de concorrer à reeleição e disse apoiar a vice-presidente Kamala Harris para liderar chapa democrata. Em um comunicado no X, Biden disse que cumprirá o seu mandato até janeiro de 2025.”

G1, 21/07/2024. Acesso em: 19/08/2024. Adaptado.

O principal fator que contribuiu para a desistência de Biden em concorrer à reeleição foi:

- A) A decisão de Donald Trump de não se candidatar, influenciando a confiança de Biden em sua própria candidatura.
- B) O apoio explícito de Barack Obama à candidatura de Michelle Obama, enfraquecendo a posição de Biden.
- C) A crise cognitiva e física enfrentada por Biden, intensificada por um desempenho fraco em um debate contra Trump.
- D) A falta de recursos financeiros na campanha de Biden, que dificultou a manutenção da candidatura.
- E) A crescente popularidade de Kamala Harris, que superou Biden em todas as pesquisas internas do Partido Democrata.

8. No dia 4 de julho de 2024, após uma vitória significativa de seu partido nas eleições gerais, Keir Starmer assumiu o cargo de primeiro-ministro do Reino Unido.

Qual é o partido político ele lidera e que se tornou o maior no Parlamento britânico?

- a) Partido Conservador.
- b) Partido Liberal Democrata.
- c) Partido Nacional Escocês.
- d) Partido Trabalhista.
- e) Reform UK.



9. “A CIJ (Corte Internacional de Justiça) decidiu nesta sexta-feira (19/07), após um pedido de análise da Assembleia-Geral da ONU, que a ocupação de Israel sobre os territórios palestinos viola o direito internacional e que precisa terminar ‘o mais rápido possível’.”

Folha de São Paulo. Publicado em 19/07/2024. Acesso em: 19/08/2024. Adaptado.

Nessa decisão, a principal recomendação da CIJ para Israel foi:

- a) Implementar a solução de dois Estados de forma imediata.
- b) Retirar todos os colonos dos assentamentos nos territórios ocupados.
- c) Reconhecer a soberania palestina sobre Jerusalém Oriental.
- d) Interromper o fornecimento de armas para os territórios palestinos.
- e) Reconstruir toda infraestrutura física destruída no atual conflito.

10. “Um apagão cibernético na madrugada desta sexta-feira (19/07) atingiu computadores e afetou vários setores, incluindo o aeroportuário, serviços bancários e de saúde por todo o mundo. As principais companhias aéreas dos Estados Unidos cancelaram todos os voos. Problemas técnicos foram reportados em aeroportos da Europa, da Índia, de Hong Kong e Singapura.

No Reino Unido e na Austrália, algumas das principais redes de televisão ficaram fora do ar. O serviço de saúde foi afetado em países como Reino Unido e Alemanha, onde cirurgias eletivas chegaram a ser canceladas em dois hospitais. O mercado de ações, commodities e câmbio também foi afetado, com bolsas prejudicadas ao redor do planeta.”

G1, 19/07/2024. Acesso em: 19/08/2024. Adaptado.

O problema estava relacionado:

- a) a um ataque hacker direcionado aos sistemas de telecomunicações.
- b) a uma falha na atualização do software utilizado.
- c) a um problema com a infraestrutura de internet global.
- d) a um erro de configuração nos sistemas operacionais dos computadores afetados.
- e) a uma falha nos sistemas de segurança dos aeroportos internacionais.



A Venezuela realizou eleições presidenciais em 28 de julho de 2024. Segundo o Conselho Nacional Eleitoral (CNE), o presidente Nicolás Maduro foi reeleito com 51,2% dos votos, contra 44% do candidato da oposição, Edmundo González Urrutia. A posse presidencial ocorrerá em janeiro de 2025.

A respeito desse assunto e seus múltiplos aspectos relacionados, julgue os itens a seguir em C ou E (certo ou errado):

11. Ao longo da atual disputa eleitoral, Nicolás Maduro impossibilitou duas candidatas de concorrerem contra ele: María Corina Machado e Corina Yoris. Acusadas de corrupção e formação de quadrilha, ambas se exilaram e buscaram refúgio na Argentina.

12. Ainda que não exista a obrigatoriedade do voto no país, a participação eleitoral nas eleições presidenciais de 2024 na Venezuela foi elevada, refletindo um alto engajamento dos eleitores e fortalecimento da oposição.

13. A legitimidade das eleições foi questionada pela oposição, especialistas e autoridades de muitos países no mundo, inclusive os Estados Unidos, que declararam apoio a Edmundo González Urrutia. Apesar disso, oficialmente, Maduro foi reeleito.

14. Embora tenha recebido uma série de críticas internacionais, a vitória de Nicolás Maduro nas eleições de 2024 foi reconhecida por vários países e organismos internacionais que estão ideologicamente alinhados com seu governo, incluindo China, Rússia e o Supremo Tribunal Eleitoral Brasileiro, que participou como observador nas eleições e confirmou a legitimidade do pleito.

15. O presidente da Argentina, Javier Milei, acusou diretamente Maduro de cometer “fraude eleitoral”. Em resposta, a Venezuela ordenou a expulsão do diplomata argentino no país, além dos diplomatas de outros países latino-americanos que questionaram a vitória de Maduro.

16. A relação entre o Brasil e a Venezuela se intensificou durante o terceiro mandato de Lula, com o Brasil se tornando um apoiador irrestrito das práticas eleitorais e autoritárias de Maduro.

17. O presidente Nicolás Maduro assumiu o cargo em 2013, após a morte de Hugo Chávez, e desde então controla o Supremo Tribunal de Justiça do país e reprime duramente a oposição. A sua reeleição em 2024 estenderá seu mandato até 2030, totalizando 17 anos no poder.

18. Apesar das acusações de autoritarismo e das dificuldades econômicas, o chavismo, movimento político iniciado por Hugo Chávez, ainda mantém uma base significativa de apoio na Venezuela, o que contribuiu para a reeleição de Nicolás Maduro.

19. A economia da Venezuela, sob a presidência de Nicolás Maduro, foi fortemente impactada pela queda do preço do petróleo, o que contribuiu para uma crise econômica prolongada com elevadas taxas de inflação.



20. A reeleição de Nicolás Maduro não deve impactar significativamente as relações comerciais entre a Venezuela e os demais países do Mercosul, uma vez que o principal objetivo do bloco é a integração econômica entre os seus países-membros.

21. “Dados divulgados pela OMM (Organização Meteorológica Mundial), ligada à ONU (Organização das Nações Unidas), revelam que os três dias mais quentes da história recente da Terra aconteceram nesta semana.

O recorde de calor foi documentado em 22 de julho, última segunda-feira, que teve temperatura média de 17,16°C. O resultado superou o recorde anterior, que havia sido catalogado apenas 24 horas antes, no domingo (21/07), com média de 17,09°C.”

Folha de São Paulo, 25/07/2024. Acesso em: 19/08/2024. Adaptado.

Sobre as mudanças climáticas na atualidade, é INCORRETO afirmar que:

- a) A ocorrência de fenômenos meteorológicos extremos, como ondas de calor, seca e chuvas torrenciais, está aumentando em intensidade e frequência devido ao aquecimento gerado pelo ser humano.
- b) Os gases responsáveis pelo superaquecimento do planeta são liberados fundamentalmente quando combustíveis fósseis são queimados para gerar energia.
- c) As previsões mais otimistas da comunidade científica estimam que, nos próximos anos, nos aproximaremos da erradicação da emissão de gases poluentes pela consciência social e política do problema.
- d) O Acordo de Paris, assinado em 2015, fixou como objetivo principal reduzir as emissões de gases estufa para que o aumento da temperatura global ficasse entre 1,5 e 2 graus Celsius acima da era pré-industrial.
- e) Conforme o Painel Intergovernamental sobre Mudanças Climáticas (IPCC) da ONU, a concentração de dióxido de carbono (CO₂) na atmosfera é a mais elevada dos últimos dois milênios.

22. “Uma pintura rupestre de um grande javali e três figuras humanas ao seu redor seria a obra de arte mais antiga do mundo, com cerca de 51.000 anos, segundo uma equipe de cientistas.

A descoberta arqueológica foi anunciada pelo grupo, que em 2019 já havia encontrado a pintura de uma cena de caça em outra caverna próxima então estimada em 44.000 anos.

Este novo achado, feito com pigmentos de cor vermelha, “é a evidência mais antiga de uma narrativa”, afirma à AFP Maxime Aubert, arqueólogo da Griffith University, na Austrália. “É a primeira vez que ultrapassamos a barreira dos 50.000 anos”, acrescentou o co-autor do estudo publicado na revista científica Nature nesta quarta-feira.”



AFP, 03/07/2024. Acesso em: 19/08/2024. Adaptado.

A descoberta ocorreu em uma caverna:

- a) na Alemanha.
- b) na Croácia.
- c) na Etiópia.
- d) no Egito.
- e) na Indonésia.

23. A Câmara dos Deputados aprovou, no dia 10 de julho, o primeiro projeto que regulamenta a reforma tributária em curso no país.

Dentre seus diversos pontos, o projeto aprovado pela Câmara dos Deputados discutiu a aplicação do chamado Imposto Seletivo, apelidado de "imposto do pecado". Sobre esse tributo, é correto afirmar que:

- a) visa a incentivar o consumo de produtos essenciais, como alimentos da cesta básica, reduzindo as suas alíquotas.
- b) trata-se de um imposto adicional sobre produtos considerados prejudiciais à saúde ou ao meio ambiente, como cigarros, bebidas alcoólicas e produtos de apostas online.
- c) é uma alíquota reduzida aplicada sobre produtos tecnológicos de alto valor, como smartphones e computadores, para promover a inclusão digital.
- d) seu objetivo é aumentar a carga tributária sobre os combustíveis fósseis, incentivando o uso de energias renováveis no país.
- e) foi criado para taxar exclusivamente os produtos de luxo, como carros esportivos e joias, visando a redistribuir a renda.

24. No dia 1º de julho de 2024, a Agência Brasil divulgou a seguinte notícia:

“O desempenho da safra 2023/2024, com a colheita de mais de 3,7 milhões de toneladas, elevou o Brasil ao posto de maior produtor do mundo. O país também se tornou, oficialmente, e pela primeira vez na história, o maior exportador do mundo, superando os Estados Unidos.”

Agência Brasil, 01/07/2024. Acesso em: 19/08/2024. Adaptado.

O produto agrícola do qual trata a manchete acima é:



- a) o algodão.
- b) a soja.
- c) o café.
- d) a carne bovina.
- e) o milho.

25. “A Câmara dos Deputados aprovou nesta 4ª feira (3.jul.2024) o PL (projeto de lei) 5.665 de 2023, que estabelece a prorrogação do PNE (Plano Nacional de Educação) até 31 de dezembro de 2025. A votação foi simbólica, ou seja, sem registro nominal. O texto segue à sanção presidencial.”

PODER360, 03/07/2024. Acesso em: 19/08/2024. Adaptado.

O atual PNE traz 20 metas para gestores públicos da Educação Infantil ao Ensino Superior, mas só três foram parcialmente cumpridas. Assinale a alternativa que descreve corretamente quais foram essas metas parcialmente cumpridas:

- a) Redução da evasão escolar, universalização do Ensino Médio e ampliação das creches.
- b) Formação de mestres, aumento de professores com mestrado no Ensino Superior e ampliação da rede pública na oferta de educação profissional.
- c) Inclusão digital, universalização da pré-escola e formação continuada de professores.
- d) Expansão do ensino técnico, aumento do financiamento público e melhorias na infraestrutura escolar.
- e) Aumento do número de escolas em tempo integral, redução do analfabetismo e formação de doutores.

26. “A Câmara dos Deputados finalizou nesta terça-feira (9/07) a votação da lei que cria o Novo Ensino Médio. O texto segue para a sanção presidencial.”

G1, 09/07/2024. Acesso em: 19/08/2024. Adaptado.

O Novo Ensino Médio, no Brasil, implementado a partir de 2022, trouxe mudanças significativas na estrutura curricular, com o objetivo de oferecer uma formação mais flexível e adaptada às necessidades dos estudantes. Uma das principais inovações foi a introdução dos Itinerários Formativos, que permitem aos alunos aprofundar seus estudos em áreas de seu interesse. No entanto, essa reforma tem gerado debates intensos sobre as suas implicações na equidade educacional, qualidade de ensino e preparação para o mercado de trabalho.



Diante desse contexto, analise as seguintes afirmativas:

I. O Novo Ensino Médio reduz a carga horária de disciplinas tradicionais, como Matemática e Português, para dar espaço a novas disciplinas eletivas, o que pode comprometer a formação básica dos estudantes.

II. A flexibilidade do currículo permite uma personalização da educação, alinhando os estudos aos interesses dos estudantes, o que pode aumentar a sua motivação e o engajamento.

III. Os Itinerários Formativos são oferecidos de forma igualitária em todas as escolas públicas e privadas do país, garantindo a mesma qualidade de ensino para todos os estudantes.

IV. Uma das críticas ao Novo Ensino Médio é de que ele pode aprofundar as desigualdades educacionais, uma vez que as escolas em regiões mais carentes podem ter dificuldades em oferecer uma ampla gama de Itinerários Formativos.

V. A nova estrutura curricular busca preparar melhor os estudantes para o Exame Nacional do Ensino Médio (ENEM), focalizando em competências e habilidades em detrimento da memorização de conteúdos.

Quais das afirmativas acima estão corretas?

- A) I, II e III, apenas.
- B) I, III e IV, apenas.
- C) II, IV e V, apenas.
- D) I, II, IV e V, apenas.
- E) Todas estão corretas.

27. O Brasil está enfrentando um surto de febre Oropouche, que já resultou em milhares de casos confirmados e as primeiras mortes pela doença registradas no mundo até então, incluindo a de um feto.

A principal forma de transmissão da febre Oropouche para os seres humanos é:

- a) a picada do mosquito *Culicoides paraensis*.
- b) o contato direto com fluidos corporais de pessoas infectadas.
- c) a ingestão de alimentos contaminados.
- d) a transmissão sexual entre indivíduos.
- e) o contato com animais silvestres infectados.



28. A unidade de conservação da natureza foi reconhecida como Patrimônio Natural da Humanidade, título concedido pela Organização das Nações Unidas para a Educação, a Ciência e a Cultura (Unesco). Entre os critérios avaliados que levaram o destino turístico a conquistar o reconhecimento estão sua beleza excepcional e o fato de ser um fenômeno natural único no mundo. O anúncio foi feito nesta sexta-feira (27/07) pelo comitê da Unesco. Dessa forma, o atrativo se junta a outras sete áreas que ostentam a chancela no Brasil.

EBC, 26/07/2024. Acesso em: 19/08/2024. Adaptado.

O mais novo patrimônio natural da humanidade localizado no Brasil é o

- a) Pantanal.
- b) Parque Nacional do Iguaçu.
- c) Vale do Ribeira.
- d) Parque Nacional dos Lençóis Maranhenses.
- e) Complexo Chapada dos Veadeiros/Parque Nacional das Emas.

29. J. Borges, um renomado artista pernambucano, faleceu recentemente, deixando um legado significativo para a arte popular brasileira. Qual das seguintes características é mais associada ao seu trabalho?

- a) Pintura a óleo.
- b) Escultura em mármore.
- c) Xilogravura.
- d) Fotografia digital.
- e) Cerâmica.

30. “A Meta, empresa dona das redes sociais Facebook e Instagram, não pode usar dados de usuários brasileiros para treinar suas plataformas de inteligência artificial (IA). A medida preventiva foi anunciada hoje (02/07) pela Autoridade Nacional de Proteção de Dados (ANPD).”

TecMundo, 02/07/2024. Acesso em: 19/08/2024. Adaptado.

A principal justificativa da ANPD para essa medida foi:



- a) A Meta estava utilizando os dados para fins de propaganda política sem o consentimento dos usuários.
- b) A nova política da Meta foi considerada ilegal pela ANPD por estar em desacordo com a legislação europeia.
- c) A nova política de privacidade da Meta violava os direitos autorais dos conteúdos postados pelos usuários.
- d) A Meta estava coletando dados de usuários apenas para fins de venda a terceiros.
- e) A Meta não foi transparente ao informar os usuários sobre o tratamento dos dados, e a nova política gerava riscos de dano grave e de difícil reparação.

GABARITO

GABARITO



- | | | |
|-------|-------|-------|
| 1. C | 11. E | 21. C |
| 2. C | 12. E | 22. E |
| 3. E | 13. C | 23. B |
| 4. E | 14. E | 24. A |
| 5. E | 15. C | 25. B |
| 6. A | 16. E | 26. C |
| 7. C | 17. C | 27. A |
| 8. D | 18. C | 28. D |
| 9. B | 19. C | 29. C |
| 10. B | 20. E | 30. E |



SIMULADO DE ATUALIDADES – AGOSTO A OUTUBRO DE 2024

Caro Aluno,

É com muita satisfação que disponibilizo este simulado de Atualidades com questões relacionadas aos principais fatos ocorridos no Brasil e no mundo nos meses de agosto a outubro de 2024.

Antes de resolvê-lo, sugiro que você assista às aulas de Retrospectiva de Atualidades desses meses, que podem ser encontradas nos meus cursos de Atualidades e Conhecimentos Gerais.

Após assistir à aula, você pode fazer o simulado.

Bons estudos!

Professor Leandro Signori.



LISTA DE QUESTÕES

Julgue os itens a seguir em certo (C) ou errado (E), relativos aos conflitos bélicos que ocorrem no Oriente Médio na atualidade.

1. O Oriente Médio é uma região historicamente marcada por uma multiplicidade de conflitos. As guerras civis da Síria, do Iêmen, a guerra no Iraque e as guerras entre Israel, o Hamas e o Hezbollah são conflitos bélicos ocorridos na região no século XXI.
2. A guerra entre Israel e o Hamas, iniciada em 7 de outubro de 2023, se expandiu regionalmente e passou a envolver outros grupos e países, incluindo o Hezbollah no Líbano e os Houthis no Iêmen, com o Irã sendo apontado como o financiador dessas milícias armadas.
3. O líder do Hezbollah, Hassan Nasrallah, continua à frente do grupo, mesmo após as recentes ofensivas israelenses no Líbano.
4. O Irã, um dos principais financiadores de grupos como o Hamas e o Hezbollah, mantém uma política verbal de eliminação de Israel desde a Revolução Islâmica de 1979.
5. Os ataques iranianos contra Israel, em outubro de 2024, foram uma resposta ao assassinato de líderes importantes de grupos extremistas aliados do Irã, como Hassan Nasrallah do Hezbollah.
6. O Hezbollah exerce grande influência política e militar no Líbano, e suas forças de combate estão concentradas principalmente no Sul do país, onde enfrentam operações terrestres de Israel.
7. O chamado "Eixo da Resistência" é uma aliança informal liderada pelo Irã, que inclui países e grupos do Oriente Médio, como Síria, Hezbollah, no Líbano, Hamas, na Palestina e os Houthis, no Iêmen, que se opõem à influência de Israel e dos Estados Unidos na região.
8. O movimento xiita Hezbollah é amplamente financiado e apoiado pela Arábia Saudita, principal rival do Irã na região.



9. Os Houthis, rebeldes xiitas no Iêmen, se posicionaram a favor do Hamas na guerra contra Israel e realizaram ataques à navegação no Mar Vermelho como parte de suas ofensivas.
10. Desde o início do conflito entre Israel e Hamas, em outubro de 2023, o Irã tem se mantido neutro, sem apoiar diretamente qualquer grupo envolvido nos combates.
11. Em outubro de 2023, o ataque do grupo Hamas contra Israel resultou na escalada de um conflito que já envolvia outros atores no Oriente Médio. Entre os grupos que passaram a se envolver diretamente nas hostilidades está o Hezbollah, que tem grande influência política e militar em um país específico.

Em qual país o Hezbollah exerce grande poder político e militar?

- A) Síria.
- B) Jordânia.
- C) Iêmen.
- D) Líbano.
- E) Egito.

12. O termo "Eixo da Resistência" é utilizado para descrever uma aliança de grupos e países que se opõem à influência de Israel e dos Estados Unidos no Oriente Médio. Um dos principais atores dessa aliança é o Irã, que financia e apoia diversos grupos.

Que grupo NÃO faz parte do chamado "Eixo da Resistência"?

- A) Hamas.
- B) Iraque.
- C) Houthis.
- D) Hezbollah.
- E) Síria.



13. O movimento libanês Hezbollah confirmou neste sábado (28/09) a morte de seu líder Hassan Nasrallah e prometeu uma "guerra santa" — ou jihad — contra o "inimigo" Israel. Nasrallah foi atingido por um "ataque aéreo sionista traiçoeiro" no sul da capital Beirute e, segundo o Hezbollah, agora "se juntou a seus grandes e imortais companheiros mártires".

UOL, publicado em 29/09/2024. Acesso em: 24/10/2024. Com adaptações.

Sobre o conceito da jihad, no Islamismo, e as várias interpretações sobre o termo, assinale a alternativa **incorreta**:

- A) Refere-se a qualquer tipo de esforço para que a vida pessoal e social esteja em conformidade com as orientações de Deus.
- B) A luta interna de uma pessoa contra o mal dentro de si mesmo ou para defender o Islã são exemplos de tipos de jihad.
- C) Pode ser associado à milícia armada Jihad Islâmica, baseada na Faixa de Gaza.
- D) As concepções de jihad variam muito entre muçulmanos, podendo incluir desde viver de maneira justa e promover a paz até lutar contra opositores.
- E) Pode ser entendida como uma 'guerra santa' contra os inimigos do Islã.

14. Em setembro de 2024, o grupo Hezbollah foi alvo de uma série de explosões que atingiram dispositivos de comunicação usados por seus membros. Essas explosões resultaram em dezenas de mortes e milhares de feridos, sendo atribuídas a possíveis sabotagens por parte do Estado de Israel.

De acordo com relatos, quais foram os dispositivos de comunicação que explodiram causando mortes entre os membros do Hezbollah?

- A) Pagers e walkie-talkies.
- B) Dispositivos GPS.
- C) Telefones celulares.
- D) Computadores portáteis.
- E) Tablets de comunicação militar.

15. O governo de Israel declarou António Guterres, secretário-geral da ONU, "persona non grata". Além disso, proibiu Guterres de entrar no país e disse que ele será lembrado "como uma mancha na história da ONU", segundo informações do jornal britânico The Guardian.



Nas redes sociais, o ministro das Relações Exteriores de Israel, Israel Katz, postou: “Hoje, declarei o secretário-geral da ONU, António Guterres, persona non grata em Israel e o proibi de entrar no país. Qualquer um que não possa condenar inequivocamente o ataque hediondo do Irã a Israel, como quase todos os países do mundo fizeram, não merece pisar em solo israelense”.

Metrópolis, 02/10/2024. Acesso em: 24/10/2024. Com adaptações.

Qual foi a principal crítica de Israel ao Secretário-Geral da ONU, António Guterres, que resultou na sua declaração como "persona non grata"?

- A) A defesa explícita do Hamas em discursos na Assembleia Geral da ONU.
- B) Alegação de que não condenou inequivocamente o ataque do Hamas realizado em 7 de outubro de 2023.
- C) O reconhecimento da independência da Palestina sem negociação com Israel.
- D) A imposição de sanções econômicas internacionais contra Israel.
- E) O pedido de retirada total de Israel dos territórios ocupados na Cisjordânia.

A Venezuela realizou eleições presidenciais em julho de 2024 com desdobramentos posteriores que dividiram a comunidade internacional com relação ao reconhecimento do resultado eleitoral. Alguns países se posicionaram contra o resultado, outros favoráveis e outros ainda mantiveram uma postura mais neutra.

Sobre as eleições na Venezuela e os diversos aspectos relacionados, julgue os itens a seguir em certo (C) ou errado (E):

16. A oposição venezuelana, liderada por Edmundo González, contestou o resultado das eleições presidenciais de 2024, alegando fraude e falta de transparência no processo eleitoral.

17. Respeitadas organizações internacionais, como o Centro Carter, consideraram as eleições presidenciais de 2024 na Venezuela como um exemplo de processo democrático que atendeu a todos os padrões internacionais.

18. O Brasil reconheceu a vitória de Nicolás Maduro nas eleições presidenciais de 2024 e condenou as alegações de fraude feitas pela oposição venezuelana.



19. Maria Corina Machado, principal liderança da oposição, foi impedida de concorrer por uma decisão do Poder Judiciário da Venezuela. A política indicada para concorrer no seu lugar, Corina Yoris, não conseguiu formalizar a candidatura por causa de uma suposta falha no sistema eleitoral de inscrições de candidatos.

20. Após as eleições presidenciais de 2024 na Venezuela, a comunidade internacional se dividiu com relação ao reconhecimento do resultado eleitoral. Alguns países se posicionaram contra o resultado, enquanto outros mantiveram uma postura mais neutra.

Qual das seguintes opções melhor descreve a postura do Brasil sobre as eleições presidenciais na Venezuela em 2024?

- A) O Brasil reconheceu prontamente a vitória de Nicolás Maduro.
- B) O Brasil liderou a condenação internacional contra as eleições.
- C) O Brasil não reconheceu o resultado eleitoral com a vitória de Nicolás Maduro.
- D) O Brasil propôs uma intervenção militar na Venezuela.
- E) O Brasil se alinhou com os EUA na condenação ao governo de Maduro.

21. O presidente do país, Daniel Noboa, decretou toque de recolher noturno em 20 cidades do país, com o objetivo de conter a violência dos grupos criminosos, informou a agência France Presse. Seis das 24 províncias do país estiveram sob estado de exceção de 2 de julho até o final de agosto.

Desde que assumiu a presidência, em novembro do ano passado, Noboa decretou medidas excepcionais para tentar conter a violência dos grupos criminosos, que chama de terroristas.

Qual o país em questão, que vem enfrentando um aumento expressivo da violência desde meados de 2023?

- A) Uruguai.
- B) Chile.
- C) Costa Rica.
- D) Espanha.
- E) Equador.



22. Em agosto de 2024, a primeira-ministra de Bangladesh, Sheikh Hasina, renunciou e fugiu do país em meio a intensos protestos que resultaram na morte de 300 pessoas. O país é um dos mais populosos do mundo e nos últimos anos enfrenta condições econômicas difíceis, incluindo inflação alta, aumento do desemprego e esgotamento das reservas estrangeiras. Hasina estava no poder há 15 anos.

Os manifestantes protestavam principalmente contra qual política controversa implementada pelo governo?

- A) O aumento das tarifas de energia elétrica para a população de baixa renda.
- B) As cotas de empregos públicos para parentes de veteranos da guerra de independência.
- C) A reforma agrária impopular, com confisco de terras de grandes proprietários.
- D) As eleições fraudulentas com a reeleição da presidente.
- E) A privatização de empresas estatais de petróleo, de saneamento e de saúde.

23. O boletim anual da Organização Meteorológica Mundial (OMM) sobre o Ozônio e Radiação Ultravioleta (UV) aponta que a camada de ozônio está no caminho certo para uma recuperação a longo prazo, com uma previsão de reparação.

Segundo a agência meteorológica da ONU, a *camada de ozônio* pode se recuperar a índices de 1980 — quando não haviam buracos — até 2066 sob a Antártica, se as políticas de preservação dela se mantiverem. Além disso, o texto prevê uma recuperação a camada sob o Ártico até 2045 e no resto do mundo até 2040.

Correio Braziliense, 17/09/2024. Acesso em: 24/10/2024. Com adaptações.

O buraco na camada de ozônio tem como causa:

- A) As emissões na atmosfera de dióxido de carbono (CO₂).
- B) As emissões na atmosfera de clorofluorcarbonos (CFCs)
- C) O aumento do metano (CH₄) na atmosfera.
- D) As queimadas florestais.
- E) As emissões de gases dos veículos automotores.



24. Na madrugada deste domingo (15 set.), a tripulação da Polaris Dawn da SpaceX retornou à Terra após cinco dias em órbita. A cápsula Crew Dragon, transportando quatro astronautas, pousou na costa de Dry Tortugas, Flórida, Estados Unidos.

CNN Brasil. Publicado em: 15/09/2024. Acesso em: 25/10/2024. Com adaptações.

A missão Polaris Dawn da SpaceX fez história como

- A) Foi a primeira missão a aterrissar na Lua desde a Apollo 17.
- B) Realizou o primeiro pouso tripulado em Marte.
- C) Realizou a primeira caminhada espacial comercial da história.
- D) Testou um novo sistema de propulsão para viagens interestelares.
- E) Construiu a primeira estação espacial privada em órbita.

25. O MTV Video Music Awards (VMA) é uma premiação musical estadunidense apresentada pelo canal MTV, tendo sido criada em 1984, para enaltecer os melhores videoclipes do ano. Originalmente concebido como uma alternativa irreverente aos Grammy Awards, o VMA se mantém há décadas como uma das premiações mais populares no mundo.

Sobre a premiação de 2024, ocorrida no mês de setembro, assinale a alternativa incorreta.

- A) A cantora brasileira Anitta venceu pela terceira vez consecutiva na categoria de melhor clipe latino.
- B) Taylor Swift venceu na categoria principal, de melhor "vídeo do ano".
- C) As mulheres conquistaram a maioria dos prêmios.
- D) Beyoncé continua sendo a maior vencedora de todas as edições da premiação.
- E) Fortnight foi eleito como melhor vídeo do ano.

26. O Produto Interno Bruto (PIB) do Brasil cresceu 1,4% no 2º trimestre de 2024, na comparação com os três meses imediatamente anteriores, informou o Instituto Brasileiro de Geografia e Estatística (IBGE) nesta terça-feira (3 set.).

Este é o 12º resultado positivo consecutivo do indicador em bases trimestrais. O saldo vem depois de a atividade econômica brasileira crescer 1% no 1º trimestre. O resultado anterior, de 0,8%, foi revisado pelo IBGE.



G1, publicado em: 03/09/2024. Acesso em: 24/10/2024. Com adaptações.

Sobre o desempenho do PIB brasileiro no segundo trimestre de 2024, assinale a alternativa incorreta:

- A) O setor de serviços é o de maior participação no PIB brasileiro, seguido da indústria e da agropecuária.
- B) Esse crescimento marcou o 12º trimestre consecutivo de resultados positivos do PIB, demonstrando consistência na recuperação econômica do país.
- C) A taxa de crescimento do segundo trimestre indica que o desempenho econômico do Brasil foi melhor no trimestre anterior em comparação com o atual.
- D) A agropecuária teve queda, o que já era previsto por conta dos problemas climáticos do final de 2023.
- E) O setor de serviços apresentou o maior crescimento, seguido da indústria.

27. O Índice Nacional de Preços ao Consumidor (IPCA), indicador que mede a inflação oficial do Brasil, fechou o mês de setembro com alta de 0,44%, uma aceleração após o recuo de 0,02% em agosto. Os dados foram divulgados nesta quarta-feira, 9 out., pelo Instituto Brasileiro de Geografia e Estatística (IBGE).

O IPCA acumula alta de 3,31% no ano e, nos últimos 12 meses, de 4,42%, acima dos 4,24% observados nos 12 meses imediatamente anteriores. Em setembro de 2023, a variação havia sido de 0,26%.

Exame, publicado em: 09/10/2024. Acesso em: 24/10/2024. Com adaptações.

Com relação à inflação do mês de setembro e do Brasil em geral, assinale a alternativa incorreta.

- A) A inflação acumulada dos últimos 12 meses estourou o teto da meta do regime de metas de inflação do Brasil.
- B) O IPCA é calculado com base em uma amostra de produtos e serviços que representam os gastos das famílias brasileiras.
- C) O índice oficial da inflação mede a variação dos preços de um conjunto de produtos e serviços consumidos pelas famílias brasileiras.
- D) O IPCA acumulado mede a variação dos preços de um conjunto de produtos e serviços ao longo de um determinado período sendo divulgado mensalmente.
- E) A alta da inflação em setembro foi influenciada pelos preços da energia elétrica, alimentação e bebidas.



28. O presidente Lula indicou o atual diretor de Política Econômica do Banco Central (BC) para a presidência da instituição. O futuro presidente vai assumir a cadeira de Roberto Campos Neto, que encerra o mandato em 31 de dezembro. Ele terá, a partir de 2025, um mandato de quatro anos à frente do BC.

O nome indicado por Lula para a presidência do BC é

- A) Guido Mantega.
- B) Gabriel Galípolo.
- C) Aloizio Mercadante.
- D) Fernando Haddad.
- E) Paulo Guedes.

29. A disparidade salarial entre homens e mulheres no Brasil aumentou no período de um ano, e mulheres receberam, em média, 20,7% menos do que homens em 2023, mostra novo levantamento do governo de Luiz Inácio Lula da Silva (PT).

O segundo relatório de transparência salarial, que será divulgado pelo Ministério do Trabalho e Emprego e pelo Ministério das Mulheres nesta quarta-feira (18 set.), foi compilado a partir de informações enviadas por 50.692 empresas, todas com cem ou mais empregados. O envio dos dados está previsto na lei de igualdade salarial aprovada em 2023.

No primeiro documento, divulgado pelo governo em março, a remuneração das mulheres era 19,4% menor do que a dos homens, com base em números de 2022.

Folha de São Paulo, 17/09/2024. Acesso em: 24/10/2024. Com adaptações.

Sobre a desigualdade salarial entre homens e mulheres no Brasil, assinale a alternativa incorreta.

- A) O desequilíbrio no mercado de trabalho reflete o fato de as mulheres geralmente ocuparem postos que pagam salários menores.
- B) Em posições de chefia, a discrepância de renda média entre homens e mulheres é ainda maior do que a média geral da desigualdade.
- C) A remuneração média dos homens negros é maior do que a das mulheres não negras.
- D) A maior disparidade salarial está nas mulheres negras, que recebem, na média, cerca da metade dos rendimentos médios dos homens brancos.



E) O número de vínculos empregatícios dos homens é superior ao das mulheres no Brasil.

As apostas esportivas, ou "bets", ganharam popularidade significativa nos últimos anos no Brasil, movendo grandes cifras e atraindo um público amplo. Com o crescimento desse mercado, surgem desafios econômicos e sociais que impactam tanto os jogadores quanto a sociedade em geral. Em um cenário de regulamentação em desenvolvimento, discute-se a necessidade de controle sobre a publicidade, os efeitos do vício em jogos de azar e os potenciais ganhos fiscais para o governo.

Com relação a essa temática e à diversidade de aspectos envolvidos, julgue os itens a seguir em certo (C) ou errado (E).

30. As plataformas de apostas esportivas *online*, conhecidas como "bets", têm atraído uma quantidade crescente de usuários no Brasil, em parte pela ausência de regulamentação específica que trate dos limites de propaganda e operação desses serviços no país.

31. O crescimento do setor de apostas esportivas no Brasil é impulsionado exclusivamente pela demanda por entretenimento e não tem relação com a situação econômica do país ou com o aumento da procura por ganhos financeiros rápidos.

32. A ausência de uma política pública voltada para a educação sobre apostas esportivas no Brasil contribui para a vulnerabilidade dos jogadores que, muitas vezes, não têm consciência dos riscos financeiros e psicológicos envolvidos.

33. De acordo com especialistas, a regulamentação das "bets" no Brasil contribuiria exclusivamente para a arrecadação tributária, sem impactos sociais significativos, uma vez que o jogo *online* não influencia a vida dos indivíduos de maneira direta.

34. A popularização das plataformas de apostas esportivas tem contribuído para um aumento significativo de problemas de saúde mental e vícios comportamentais, especialmente entre jovens, que são o principal público-alvo dessas plataformas.

35. No Brasil, a regulamentação do setor de apostas esportivas já foi completamente implementada e assegura controle sobre a tributação das empresas, reduzindo a informalidade no setor e gerando arrecadação para o governo.



GABARITO

GABARITO



1. C
2. C
3. E
4. C
5. C
6. C
7. C
8. E
9. C
10. E
11. D
12. B

13. C
14. A
15. B
16. C
17. E
18. E
19. C
20. C
21. E
22. B
23. B
24. C

25. D
26. C
27. A
28. B
29. C
30. C
31. E
32. C
33. E
34. C
35. E



SIMULADO DE ATUALIDADES – OUTUBRO DE 2024

Caro Aluno,

É com muita satisfação que disponibilizo este simulado de Atualidades com questões relacionadas aos principais fatos ocorridos no Brasil e no mundo no mês de outubro de 2024.

Antes de resolvê-lo, sugiro que você assista à aula de **Atualidades – Retrospectiva de Outubro de 2024**, que pode ser encontrada nos meus cursos de Atualidades e Conhecimentos Gerais no site do Estratégia Concursos.

Após assistir à aula, você pode fazer o simulado.

Bons estudos!

Professor Leandro Signori.



LISTA DE QUESTÕES

01. O Prêmio Nobel é anualmente concedido a pessoas ou organizações que deram grandes contribuições para humanidade. A distribuição deste prêmio começou quando o químico, engenheiro, inventor, empresário e filantropo sueco, Alfred Nobel, morreu em 1896. A premiação abrange às áreas de física, química, fisiologia ou medicina, literatura, paz e economia.

As descobertas sobre os microRNAs foi a pesquisa premiada no Nobel de Medicina em 2024, que teve como laureados

- a) Katalin Karikó e Drew Weissman
- b) John J. Hopfield e Geoffrey E. Hinton
- c) David Baker, Demis Hassabis e John M. Jumper
- d) Victor Ambros e Gary Ruvkun
- e) Han Kang

02. Os cientistas John Hopfield e Geoffrey Hinton são os ganhadores do Nobel 2024 em Física, anunciou a Academia Real das Ciências da Suécia nesta terça-feira (8 out.).

Eles dividirão o prêmio que totaliza 11 milhões de coroas suecas (cerca de R\$ 5,8 milhões). Hopfield é norte-americano e Hinton, britânico.

G1, publicado em 08/10/2024. Acesso em 18/11/2024. Com adaptações.

Os laureados receberam a premiação por

- a) estudos que exploram o mundo dos elétrons.
- b) pesquisas sobre redes neurais artificiais e aprendizado de máquina.
- c) avanços na predição de estruturas proteicas usando inteligência artificial.
- d) descobertas sobre a mecânica quântica.
- e) descobertas que contribuíram para a elaboração de modelos sobre o aquecimento global

03. O Nobel de Literatura de 2024 premiou um autor com obras que exploram a experiência humana em face da violência e do trauma. Com uma prosa poética e intensa, as obras abordam temas como a memória coletiva, a dor, e o desejo de redenção. Em obras como A Vegetariana e Atos Humanos, o autor retrata o impacto dos traumas históricos e pessoais na identidade e na sociedade, confrontando tabus culturais e oferecendo uma visão profundamente sensível sobre a fragilidade da vida humana.

O Nobel de Literatura foi concedido para

- a) o escritor norueguês Jon Fosse.
- b) a escritora sul-coreana Han Kang.
- c) a francesa Annie Ernaux.
- d) o romancista inglês Abdulrazak Gurnah.



e) a poeta norte-americana Louise Glück.

04. O Prêmio Nobel é anualmente concedido a pessoas ou organizações que deram grandes contribuições para humanidade. A distribuição deste prêmio começou quando o químico, engenheiro, inventor, empresário e filantropo sueco, Alfred Nobel, morreu em 1896. A premiação abrange às áreas de física, química, fisiologia ou medicina, literatura, paz e economia.

O Prêmio Nobel da Paz de 2024 foi atribuído

- a) a iraniana Narges Mohammadi.
- b) ao defensor dos direitos humanos Ales Bialiatski, de Belarus, a organização russa de direitos humanos Memorial e a organização ucraniana de direitos humanos Centro para Liberdades Cívicas.
- c) as jornalistas Maria Ressa e Dmitry Muratov.
- d) a organização japonesa Nihon Hidankyo.
- e) ao Programa Mundial de Alimentos da ONU (Organização das Nações Unidas).

05. Nobel de Química 2024 vai para trio que decifrou segredos por trás das proteínas com inteligência artificial

Eles levam a láurea deste ano por decifrarem os segredos das proteínas (moléculas fundamentais para as nossas células e, conseqüentemente, para a vida) por meio da inteligência artificial (IA) e da computação.

G1, disponível em: <https://encurtador.com.br/Wez5G>. Com adaptações.

O Nobel de Química de 2024 foi concedido para

- a) Marie Curie.
- b) David Baker, Demis Hassabis e John M. Jumper.
- c) Mounqi G. Bawendi, Louis E. Brus e Alexei I. Ekimov.
- d) Carolyn R. Bertozzi, Morten Meldal e K. Barry Sharpless.
- e) Benjamin List e David MacMillan.

06. A recente reforma judicial aprovada no México trouxe mudanças significativas para o sistema jurídico do país. Entre os principais pontos dessa reforma está a possibilidade de eleição de juizes por voto popular. Sobre essa medida, é correto afirmar que:

- a) Inclui a criação de um órgão disciplinar para monitorar sentenças judiciais, além da redução do número de ministros da Suprema Corte.
- b) Busca aprimorar a independência do Poder Judiciário por meio de um modelo amplamente adotado em países desenvolvidos.
- c) Foi aprovada com amplo apoio da oposição, destacando o consenso político em torno da modernização do sistema judiciário.
- d) É uma proposta que se alinha aos padrões internacionais e foi elogiada pela ONU e por associações internacionais de advogados.



e) Não afeta o número de membros da Suprema Corte nem a duração dos seus mandatos, focando apenas na nomeação de juízes de primeira instância.

07. Em 29 de outubro de 2024, a Espanha enfrentou uma das maiores tragédias naturais de sua história recente: a "enchente do século". Chuvas torrenciais, equivalentes ao volume anual de precipitação, caíram em apenas oito horas em várias regiões do sudeste do país, incluindo a Comunidade Valenciana, Castela-Mancha e Andaluzia. O resultado foi devastador: mais de 200 mortes, dezenas de desaparecidos e comunidades inteiras submersas.

O que ocasionou a enchente?

- a) o fenômeno El Niño, com o aquecimento anormal das águas do Pacífico, que altera padrões climáticos regionais.
- b) as queimadas no Brasil, cuja fumaça atravessou o Oceano Atlântico, gerando uma espessa frente fria, que resultou em uma das maiores tragédias naturais, na Espanha.
- c) chuvas torrenciais, cujas inundações foram desencadeadas por um fenômeno meteorológico chamado DANA (Depressão Isolada em Níveis Altos).
- d) o fenômeno La Niña, em que o resfriamento das águas do Pacífico, altera padrões climáticos globais.
- e) o aquecimento global, com a redução dos fenômenos climáticos extremos.

08. O BRICS realizou a sua Cúpula anual em outubro de 2024, em Kazan, na Rússia. O encontro aprovou a criação de uma nova categoria de membros, a dos "Estados-parceiros" dos BRICS. 13 países foram aprovados nesta condição de parceiros. Mas dois países candidatos foram excluídos da lista prévia por solicitação do Brasil.

Os países vetados são

- a) Venezuela e Nicarágua.
- b) Cuba e Bolívia.
- c) Cuba e Nicarágua.
- d) Venezuela e Bolívia.
- e) Bolívia e Cuba.

09. O BRICS, composto por Brasil, Rússia, Índia, China e África do Sul, ganhou novos Estados-membros no início de 2024 – Egito, Irã, Etiópia, Emirados Árabes Unidos e Arábia Saudita, esse ainda em processo de adesão. A Argentina também foi convidada, mas o presidente Javier Milei declinou a oferta.

Na Cúpula realizada na Rússia em outubro de 2024, o BRICS aprovou mais uma ampliação com a criação de uma nova categoria de países denominada de

- a) Estados-fundadores
- b) Estados-parceiros
- c) Estados-rotativos
- d) Estados-membros
- e) Estados-observadores



10. O Irã realizou pela segunda vez um ataque direto a Israel, com o lançamento de 200 mísseis contra o país. O ataque motivou, também, pela segunda vez uma resposta de Israel, com ataques diretos em solo iraniano. Esses ataques ocorridos em outubro de 2024 escalaram a tensão histórica entre os dois países.

Conforme analistas de política internacional, o ataque do Irã decorreu como resposta

- a) aos bombardeios israelenses ao Houthis no Iêmen, grupo aliado do Irã.
- b) a troca de presos entre Irã e Israel, não cumprida por Israel.
- c) a mortes de aliados do governo iraniano, como Hassan Nasrallah, que era chefe do grupo extremista Hezbollah
- d) ao ataque de Israel contra a embaixada do Irã em Damasco, na Síria.
- e) a um ataque cibernético de Israel que levou a explosão de reatores nucleares iranianos.

11. O Exército israelense confirmou nesta quinta-feira, 17 de outubro, a morte do líder do Hamas, arquiteto do atentado de 7 de outubro do ano passado. A troca de tiros que eliminou o comandante do grupo palestino ocorreu na quarta-feira, 16 de outubro, em Rafah, no sul da Faixa de Gaza.

Estadão. Publicado em 18/10/2024. Acesso em 18/11/2024. Com adaptações.

O líder do Hamas eliminado por Israel é

- a) Ismail Haniyeh
- b) Ahmed Yassin
- c) Benjamin Netanyahu
- d) Yahya Sinwar
- e) Mohamed Deif

12. A guerra entre Rússia e Ucrânia passa por uma nova escalada de tensões. Segundo a Ucrânia e os Estados Unidos, um país aliado da Rússia enviou milhares de soldados ao território russo e já estariam participando do conflito. Trata-se

- a) da China.
- b) da Coreia do Norte.
- c) de Belarus.
- d) do Irã.
- e) da Mongólia.

13. A Coreia do Norte explodiu partes de duas grandes estradas conectadas à parte sul da península nesta terça-feira (15 out.), disseram autoridades sul-coreanas, depois que Pyongyang alertou que tomaria medidas para cortar completamente suas ligações com o território do Sul.

CNN Brasil, 15/10/2024. Acesso em 21/11/2024. Com adaptações.

Acerca de mais um capítulo do conflito entre as duas Coreias, o que motivou a Coreia do Norte a explodir estradas próximas à fronteira com a Coreia do Sul?



- a) um armistício proposto recentemente, não cumprido pela Coreia do Sul.
- b) o fracasso com a reconciliação e reunificação com a Coreia do Sul.
- c) Envio de drones com propaganda antirregime para a capital norte-coreana, Pyongyang.
- d) tornar inviável o uso dessas estradas, único contato entre as duas fronteiras.
- e) o apoio da Rússia à Coreia do Norte.

14. “Suíça e Itália redesenham fronteira devido ao derretimento de geleiras”

Na última sexta-feira, (27 set.), a Suíça aprovou oficialmente o novo acordo, enquanto a Itália ainda aguarda concluir seu processo de aprovação. Esse avanço segue um esboço de acordo elaborado por uma comissão conjunta entre os dois países em maio de 2023.

A Suíça informou que o processo de aprovação já está em andamento na Itália.

Exame, 01/10/2024. Acesso em 21/11/2024. Com adaptações.

O que motivou o ajuste dos limites territoriais entre os dois países?

- a) derretimento acelerado das geleiras no Monte Everest.
- b) mero acordo burocrático entre Suíça e Itália.
- c) controle da migração ilegal no Espaço Schengen.
- d) soerguimento dos Alpes, modificando a formação territorial da região.
- e) derretimento das geleiras nos Alpes, resultado das mudanças climáticas.

15. O país é um dos mais pobres do mundo, assolado pela miséria e pela violência. O Brasil já chegou a comandar uma missão da ONU de estabilização da nação caribenha, de 2004 a 2017. Gangues armadas são consideradas mais poderosas que as forças de segurança do país.

Em mais um episódio bárbaro, pelo menos 70 pessoas, incluindo três crianças, foram mortas na quinta-feira (3 out.), depois que integrantes da gangue Gran Grif usaram fuzis automáticos para atirar a esmo contra moradores da cidade de Pont-Sonde, conforme relato do Escritório de Direitos Humanos da ONU.

Folha de São Paulo, 4/10/2024. Acesso em: 21/11/2024. Com adaptações.

O país em questão é o (a)

- a) México.
- b) República Dominicana.
- c) Haiti.
- d) El Salvador.
- e) Barbados.

16. Ano de 2023 foi o mais seco da história para os rios do planeta, diz relatório

Dados divulgados pela Organização Meteorológica Mundial revelaram que Bacia do rio Amazonas está entre os mais afetados das últimas três décadas”

CNN Brasil, 07/10/2024. Acesso em 26/11/2024. Disponível em: <https://encurtador.com.br/Jnbhm>.



Sobre o tema em questão, os desafios e o contexto atual das mudanças climáticas no Brasil e no mundo, assinale a alternativa correta

- a) O rio Negro, importante afluente do Rio Amazonas, atingiu em 2023 a maior cheia de sua história.
- b) O fenômeno El Niño, foi um dos fatores que contribuiu para as graves secas e reduções de níveis fluviais no Brasil em 2023.
- c) A amplitude da seca grave restringiu-se à América do Sul, não tendo impactado outros países.
- d) El Niño e o La Niña são fenômenos climáticos que se caracterizam por alterações na temperatura das águas do Oceano Atlântico.
- e) O ano de 2023 registrou a maior perda de massa de geleiras das últimas cinco décadas, sendo que as maiores perdas aconteceram durante o inverno.

17. O debate sobre o fim da escala 6 × 1 ganhou força no Brasil em 2024.

A proposta que iniciou com o Movimento Vida Além do Trabalho (VAT), organizado por Rick Azevedo, está ganhando espaço no debate público com a deputada federal Erika Hilton (PSOL-RJ) que elaborou uma Proposta de Emenda à Constituição (PEC) sobre o tema.

Politize. Disponível em: <https://encurtador.com.br/splQa>.

A PEC sobre o fim da escala 6x1

- a) define que o profissional tenha direito a um dia de descanso a cada seis dias de trabalho, escolhido pelo trabalhador.
- b) constitui-se em uma proposta inédita no mundo do trabalho atual, já que nenhum país implantou tal medida até hoje.
- c) propõe reduzir a jornada laboral, também diminuindo o salário.
- d) reflete a nova legislação trabalhista, aprovada em 2017 no governo de Michel Temer.
- e) propõe reduzir a jornada laboral, sem diminuir o salário.

18. A Proposta de Emenda à Constituição (PEC) elaborada pela deputada federal Erika Hilton (PSOL-RJ) relacionada à escala 6x1 propõe

- a) a adoção do modelo 4x2, 2 dias de folga para cada 4 dias trabalhados.
- b) a redução da jornada de trabalho de 44 horas semanais para 36 horas semanais.
- c) interdição de empresas que não promoverem uma jornada de trabalho mais equilibrada.
- d) a obrigatoriedade de folgas semanais aos domingos.
- e) diminuir os casos de burnout, já que o Brasil é o país com mais casos no mundo.

Considerando os temas relacionados ao mundo do trabalho e aos debates sobre o fim da escala 6x1 no Brasil, julgue os itens a seguir em certo (C) ou (E) errado.



19. O Brasil é um dos países com mais casos de burnout (doença ocupacional decorrente do esgotamento físico, emocional e mental), com quase metade dos brasileiros sofrendo com a doença.

20. Entre os principais motivos que levaram ao início do movimento pelo fim da escala 6x1 está a busca por um maior equilíbrio entre a vida profissional e pessoal, desconsiderando propostas sobre a flexibilidade da jornada de trabalho, pois tal mudança acarretaria na diminuição dos salários.

21. O projeto de fim da escala 6x1 enfrenta resistência de setores econômicos que argumentam que a redução da carga horária pode aumentar custos empresariais e prejudicar a competitividade no mercado.

22. As experiências internacionais e estudos científicos são taxativos em demonstrar que a diminuição da carga horária e dias de trabalho não implicaram em uma melhor qualidade de vida dos trabalhadores, nem ao aumento da produtividade.

23. Em outubro de 2024, a agência de classificação de risco Moody's elevou a nota de crédito do Brasil de Ba2 para Ba1, mantendo a perspectiva positiva.

Sobre o tema, analise as afirmativas abaixo e assinale a alternativa correta:

- a) A elevação da nota de crédito do Brasil pela Moody's significa que o país recuperou o grau de investimento, sinalizando menor risco para investidores.
- b) A nova classificação coloca o Brasil ainda em grau especulativo, mas indica uma redução da vulnerabilidade do país a condições financeiras adversas.
- c) A Moody's justificou a elevação da nota com base exclusivamente no aumento das reservas internacionais do Brasil.
- d) O Brasil nunca teve o selo de bom pagador na história, estando na categoria "grau de investimento".
- e) A perspectiva positiva da Moody's reflete a estabilidade econômica do Brasil, apesar de o país ter enfrentado uma piora na governança das estatais.

24. "Pastagem é principal causa de mais de 90% do desmatamento da Amazônia, diz estudo"

CNN Brasil, 3/10/2024. Acesso em 21/11/2024. Disponível em: <https://encurtador.com.br/496sh>.

Acerca do fato em questão e aspectos relacionados, assinale a alternativa incorreta:

- a) A pastagem foi a principal causa do desmatamento da Amazônia, prática responsável por mais de 90% da devastação.
- b) As áreas úmidas da região também foram afetadas pelas pastagens, com milhares de hectares convertidos em pastagens.
- c) A quase totalidade da área agrícola corresponde às lavouras temporárias, com predomínio da soja.
- d) As áreas mais atingidas por queimadas na Amazônia estão nos estados do Mato Grosso, Rondônia e Pará, região conhecida como Arco de Fogo.



e) A perda de vegetação nativa já ocorrida e a continuidade do desmatamento preocupa a comunidade científica, pois pode levar a Amazônia ao “ponto de não retorno”, com a degradação irreversível da floresta.

25. O Instituto Brasileiro de Geografia e Estatística (IBGE) divulgou novos dados sobre o Censo Demográfico de 2022 com informações sobre as pessoas responsáveis pelos domicílios, que refletem as continuadas mudanças sobre as estruturas familiares no Brasil.

Sobre as informações em questão, assinale a alternativa correta:

- a) O percentual das pessoas responsáveis pelas unidades domésticas continua equilibrado entre homens e mulheres.
- b) Houve um aumento do percentual das unidades domésticas formadas por responsável e cônjuge de sexo diferente.
- c) Segue a tendência de redução das unidades domésticas compostas por pessoa responsável e cônjuge ou companheiro do mesmo sexo.
- d) O número de óbitos de pessoas do sexo masculino é maior, sobretudo devido à violência e falta de maiores perspectivas.
- e) A espécie de unidade doméstica mais comum é a unipessoal.

26. O governo federal apresentou uma Proposta de Emenda à Constituição (PEC) para a Segurança Pública, que propõe mudanças estruturais no sistema de segurança pública do Brasil.

Segundo o Ministro da Justiça e Segurança Pública, Ricardo Lewandowski, é preciso fazer "mudanças estruturais" na área porque o desenho estabelecido pela Constituição de 1988 "está absolutamente superado pela dinâmica da criminalidade", que deixou de ser local para ser nacional e transnacional.

G1, 31/10/2024. Acesso em 21/11/2024. Com adaptações.

Sobre o tema em questão, os desafios e o contexto atual da segurança pública no Brasil, assinale a alternativa correta:

- a) O Sistema Único de Segurança Pública (SUSP) tem como objetivo principal descentralizar as ações de segurança pública, priorizando exclusivamente a autonomia de estados e municípios.
- b) A criação de uma "PM da União", proposta pela PEC da Segurança Pública, visa substituir integralmente as Polícias Militares estaduais por uma única força nacional.
- c) A violência no Brasil é distribuída de maneira homogênea, com taxas equivalentes de homicídios em todas as regiões do país, demonstrando que os problemas são independentes de fatores regionais.
- d) A PEC da Segurança Pública propõe reduzir os investimentos em segurança para ações de combate à criminalidade de menor impacto econômico.
- e) O aumento das facções criminosas em âmbito nacional e transnacional tem gerado pressão para a reestruturação das forças de segurança e maior integração entre União, estados e municípios.

27. "Temporal na Grande SP deixou 2,1 milhões de clientes da Enel sem energia, diz empresa"

G1, 12/10/2024. Disponível em: <https://encurtador.com.br/JBWUj>.



Com base em seus conhecimentos sobre o fato em questão, assinale a alternativa correta sobre a origem do apagão ocorrido em São Paulo:

- a) uma tempestade intensa que atingiu São Paulo.
- b) a falha na infraestrutura elétrica da Enel, gerando um colapso no sistema.
- c) a expiração da concessão atual em 2028, com redução de gastos em pessoal e tecnologia por parte da Enel.
- d) um raio que inutilizou boa parte das linhas de transmissão da Enel, criticada pela infraestrutura precária.
- e) somente o consumo de luz foi afetado, não atingido outras áreas.

28. Sobre a vida e a recente morte do poeta e filósofo Antonio Cícero assinale a alternativa correta:

- a) O poeta sofria de demência, por isso optou pelo suicídio assistido.
- b) No Brasil, tanto a eutanásia quanto o suicídio assistido, são proibidos por lei e considerados crimes.
- c) Suicídio assistido é quando o médico provoca a morte do paciente por algum motivo.
- d) a morte assistida é permitida em países desenvolvidos como Holanda e Bélgica, mas não em países mais carentes, como Cuba.
- e) O escritor era membro fundador da ABL (Academia Brasileira de Letras).

29. Lenda do boxe brasileiro, morre aos 66 anos em SP

Ex-boxeador morava em Itu, no interior paulista, e sofria demência pugilística, uma doença incurável.

G1, 24/10/2024. Acesso em 21/11/2024. Com adaptações.

A notícia refere-se ao pugilista

- a) Esquiva Falcão
- b) Éder Jofre
- c) Popó
- d) Maguila
- e) Robson Conceição

30. O jornalista e locutor foi um ícone do telejornalismo brasileiro, fez carreira na TV Globo, onde esteve à frente do Jornal Nacional por 26 anos. Veio a falecer aos 97 anos, na manhã desta quinta-feira (3 out.), no Hospital Santa Teresa, em Petrópolis, na região serrana do Rio de Janeiro.

Poder 360, 3/10/2024. Acesso em 21/11/2024. Adaptado.

Trata-se de

- a) Glória Maria
- b) João Leite Neto
- c) Cid Moreira
- d) Gugu Liberato



e) Ricardo Boechat

GABARITO

GABARITO



1. D
2. B
3. B
4. D
5. B
6. A
7. C
8. A
9. B
10. C

11. D
12. B
13. C
14. E
15. C
16. B
17. B
18. B
19. Errado
20. Errado

21. Certo
22. Errado
23. B
24. D
25. D
26. E
27. A
28. B
29. D
30. C



CULTURA BRASILEIRA

A cultura brasileira é uma síntese da influência dos vários povos e etnias que formaram o povo brasileiro. Não existe uma cultura brasileira perfeitamente homogênea, e sim um mosaico de diferentes vertentes culturais que formam, juntas, a cultura do Brasil.

Após mais de cinco séculos de colonização portuguesa, a cultura do Brasil é, majoritariamente, de raiz lusitana. É justamente essa herança cultural lusa que compõe a unidade do Brasil: apesar do povo brasileiro ser um mosaico étnico, todos falam a mesma língua (o português) e, quase todos, são cristãos, com largo predomínio de católicos.

Embora, colonizado por portugueses, outros grupos étnicos deixaram influências profundas na cultura nacional, destacando-se os povos indígenas, os africanos, os italianos e os alemães. As influências indígenas e africanas deixaram marcas no âmbito da música, da culinária, do folclore, do artesanato, dos caracteres emocionais e das festas populares do Brasil, assim como centenas de palavras à língua portuguesa. Algumas regiões receberam maior contribuição desses povos: os estados do Norte têm forte influência das culturas indígenas, enquanto algumas regiões do Nordeste têm uma cultura bastante africanizada, sendo que, em outras, principalmente no sertão, há uma intensa e antiga mescla de caracteres lusitanos e indígenas, com menor participação africana.

No Sul do país as influências de imigrantes italianos e alemães são evidentes, seja na língua, culinária, música e outros aspectos. Outras etnias, como os árabes, espanhóis, poloneses e japoneses contribuíram também para a cultura do Brasil, porém, de forma mais limitada.

Literatura

Quinhentismo

Com o advento da expansão marítima de Espanha e Portugal, a cultura europeia chegou ao Brasil por volta de 1500. Pensar em algum tipo de literatura brasileira nessa época é quase que tarefa impossível, pois a “literatura” produzida nesse período não era necessariamente brasileira, uma vez que os índios não possuíam literatura, portanto, a produção era do próprio europeu. No entanto, consideramos dois tipos de produção nesse período, uma chamada de Literatura de informação e outra chamada de Literatura dos jesuítas.

Literatura de informação - Esse tipo de produção foi destinada à comunicação dos viajantes europeus com seu país de origem. Por meio desses textos, os estrangeiros que no Brasil desembarcavam informavam o que haviam encontrado, como era o aspecto dos nativos e do ambiente brasileiro de forma geral.

Literatura dos jesuítas - Muitos jesuítas vieram às terras brasileiras com a missão de catequizar os indígenas ensinando a eles os valores da igreja católica. Inicialmente, uma das primeiras dificuldades era a comunicação, pois a língua portuguesa e a língua indígena eram entraves para estabelecer a comunicação.



Dessa forma, os jesuítas buscavam maneiras outras de ensinar os índios, por meio de peças teatrais, por exemplo, ou até mesmo ensinando o português para depois ensinar a doutrina católica.

Barroco

Movimento nascido na Europa que se manifesta nas artes plásticas, na literatura, na música e no teatro nos séculos XVII e XVIII. Em um período no qual a Igreja Católica se bate para recuperar o espaço perdido com a Reforma Protestante, a arte barroca busca conciliar a espiritualidade da Idade Média com a racionalidade do Renascimento. Sua característica marcante, portanto, é o contraste e a contradição, com obras rebuscadas, que expressam exuberância e emoções extremas.

Na literatura brasileira, seu marco inicial foi a publicação, em 1601, de **“Prosopopeia” de Bento Teixeira**.

O barroco literário, enquanto reflexo do conflito entre o terreno e o celestial, Deus e o Homem, levam ao rebuscamento formal: o que se pode perceber no cultismo: linguagem rebuscada, culta e extravagante; e conceptismo: jogo de ideias, conceitos, seguindo um raciocínio lógico que utiliza uma retórica aprimorada. Das características literárias percebe-se ainda:

Conhecimento e realidade através dos sentidos; Metáfora; Antítese; Paradoxo; Hipérbole; Prosopopeia; Presença de palavras semelhantes quanto à sonoridade; Símbolos que traduzem a efemeridade, a instabilidade das coisas; Emprego da ordem inversa.

Gregório de Matos (1636-1696) foi o principal expoente da literatura barroca. Sua poesia está muito ligada à realidade brasileira, transitando entre a poesia sacra, burlesca, erótica e satírica. Com relação a essas duas últimas vertentes, Gregório documenta valores da vida social e política da capital, além de mencionar os chamados valores morais. Praticamente toda a sociedade foi representada em seus poemas, desde padres, freiras, militares, funcionários do governo, donos de terra, comerciantes, judeus, nobres, até mesmo escravos e índios; ninguém escapou de sua língua afiada.

Arcadismo ou Neoclassicismo

Estilo do século XVIII que resgata os valores greco-romanos da Antiguidade Clássica, tendência já ocorrida na Europa do século XIV ao XVI. Surge em contraposição ao barroco. É muito influenciado pelos ideais humanistas, que põem o homem como centro do universo. Reproduz o mundo real, mas moldado ao que se considera ideal. A razão é mais importante que a emoção.

O marco inicial do Arcadismo no Brasil é a publicação de Obras poéticas, em 1768, de **Claudio Manuel da Costa** (1729 - 1789). Principal expoente deste gênero, foi muito influenciado pelo arcadismo português de Luiz Vaz de Camões. Em muitos de seus sonetos é possível perceber traços da escrita camoniana. Nasceu em Minas Gerais e cursou o colégio dos jesuítas no Rio de Janeiro; formou-se em Direito em Coimbra e exerceu a profissão no Brasil.

Romantismo

Enquanto movimento literário, o Romantismo vem à tona ao mesmo tempo em que a independência política de 1822, apesar de ter como marco o ano de 1836. Considera-se como marco histórico desse período a obra **Suspiros poéticos e saudades de Gonçalves de Magalhães**.



O Romantismo está ligado à Revolução Francesa, à Revolução Industrial, à ascensão da burguesia e o momento histórico mostra as contradições do período. Em nosso país, vê-se que o Brasil tinha como base da economia a agricultura, carecendo de indústrias. Os trabalhadores eram, em sua grande massa, escravos negros, denotando uma contradição do liberalismo brasileiro – pregar a liberdade do Brasil e negá-la aos escravos, por exemplo, ou ainda manter a desigualdade no país quando se agitava a bandeira da igualdade e os ideários da Revolução Francesa com as palavras de ordem: Liberté, Égalité, Fraternité.

Primeira fase: a primeira fase do Romantismo no Brasil teve um caráter mais político que literário. Devido à independência política de Portugal, a busca dos autores passa a ser a de representar os valores nacionais. Gonçalves Dias (1823-1864), sendo visto como indianista, sua poesia toma aspectos do mito do bom selvagem (a bondade natural dos primitivos) e, é claro, mostra sua valentia, seu poder bélico, pois o índio idealizado pelo poeta nunca foge à luta, ao contrário, se preciso for, morre nela.

Segunda fase: Há uma introspecção do poeta que se volta para seus próprios dilemas existenciais. Percebe-se uma grande influência do modelo europeu, alemão, britânico e francês, pois os dissabores do homem europeu passam a ser os dissabores do poeta brasileiro.

Álvares de Azevedo (1831-1852) que, mesmo com sua passagem breve pelo mundo, é um dos grandes expoentes da segunda geração romântica no Brasil. A obra Noite na Taverna é a mais fiel representação do mal-do-século nas letras brasileiras. Obra composta por alguns capítulos que podem ser vistos como contos, representam a derrocada do homem, o sofrimento, o desejo pela dama que não se concretiza.

Terceira fase: Há uma mudança de tom. Enquanto a segunda geração do romantismo era uma geração egocêntrica, nesse novo período há a preocupação com o outro. O poeta deixa de se preocupar com seus próprios problemas e passa a observar a realidade que o cerca. É possível perceber nos poemas uma mudança de tonalidade, o sentimentalismo anterior abre passagem para um tom mais viril, mais sério. Castro Alves (1847-1871): chamado também de o poeta dos escravos, preocupou-se em denunciar a condição do negro no Brasil, pois era comprometido com a abolição da escravatura. Mesmo morrendo aos 24 anos, foi amado e aclamado como o representante dos escravos.

Realismo e Naturalismo

O Realismo e o Naturalismo acontecem quase que simultaneamente, pois ambos são composições que se opõem ao Romantismo. Enquanto que no Romantismo havia a idealização do amor, nesse outro momento da literatura, as relações eram baseadas no interesse, no dinheiro. A ideia que se propagava era a de que não se casava por amor, mas por interesse, com outras intenções que não eram sentimentais.

O Realismo/Naturalismo era objetivo, centrado no objeto, bem diferente do modelo subjetivo do Romantismo. De forma bem crua, pode-se dizer que no Romantismo pregava o casamento, e o Realismo, a traição. O objetivo era mostrar a realidade, o interesse por trás das relações, o comportamento real da sociedade, sem idealizações. O egocentrismo romântico se transforma na preocupação social do realista.

Machado de Assis (1839-1908) é o maior nome do período e considerado por muitas pessoas o maior escritor da literatura brasileira. Mulato e de origem humilde, trabalhou desde muito cedo, mas ainda assim construiu uma das carreiras literárias de maior importância para a história. Escreveu romances, contos, novelas, peças de teatro e crônicas, além de fazer traduções para muitos idiomas. Além disso, **foi fundador e o primeiro presidente da Academia Brasileira de Letras.**



Parnasianismo

No início da década de 1860, surgiu na França um grupo de poetas que defendia a ideia de que a verdadeira literatura não poderia ter engajamento social. Acreditavam no ideal da Arte pela Arte, pois a poesia tinha uma beleza inerente aos versos, independente do plano do conteúdo. O próprio nome do movimento já remete ao clássico, pois Parnaso era a morada dos poetas na mitologia. Assim, a poesia parnasiana se afastava da realidade social para se aproximar dos ideais estéticos. **Olavo Bilac** (1865-1918) tornou-se um ícone no movimento não apenas pela qualidade de seus versos, mas também por sua disposição na criação de poemas didáticos, que se tornaram lições poéticas.

Simbolismo

Na mesma época do Realismo-Naturalismo e Parnasianismo, surgiu um grupo de artistas inconformados com os rumos filosóficos e estéticos da cultura ocidental. Somado à Revolução Industrial e todas as demais transformações sociais e econômicas, um certo pessimismo começou a tomar conta da época. Esse movimento deu origem ao que foi chamado de decadentismo, pois a sensação de decadência da sociedade era evidente para esses poetas.

Cruz e Sousa (1861-1896) é o maior poeta simbolista do Brasil. Seus versos retratam religiosidade, espiritualidade e misticismo, fazendo com que o poeta demonstrasse uma compreensão superior do mundo. Fazia uso da exuberância verbal, com o uso de palavras sugestivas e de significado impreciso, usadas, muitas vezes, com letras maiúsculas.

Pré-modernismo

Movimento literário concebido nas duas primeiras décadas do séc. XX, anterior ao movimento modernista de 1922. Esse momento na literatura não corresponde exatamente a uma escola literária, mas se deve aos escritores que, não correspondendo a nenhuma das estéticas de fins do século XIX, tiveram uma produção impactante, apresentando novas vertentes estilísticas e/ou temáticas em nossa literatura.

Monteiro Lobato (1882-1948): homem muito crítico, para quem certos hábitos brasileiros eram insuportáveis: a supervalorização de tudo que era estrangeiro; o nacionalismo cego; a falta de consciência política do povo. Em termos de linguagem, a aspiração maior de Lobato foi aproximar o texto literário da fala coloquial.

Modernismo

O período de 1922 a 1930 é o mais radical do movimento modernista, justamente em consequência da necessidade de definições e do rompimento de todas as estruturas do passado. Daí o caráter anárquico desta primeira fase modernista e seu forte sentido destruidor.

Ao mesmo tempo em que se procura o moderno, o original e o polêmico, o nacionalismo se manifesta em suas múltiplas facetas: uma volta às origens, à pesquisa das fontes quinhentistas, à procura de uma língua brasileira.

Em 1928, **Mario de Andrade** (1893–1945) publica **Macunaíma**, a sua obra mais importante. Ela foi classificada pelo autor não como romance, mas como rapsódia. A obra resulta da utilização de lendas, ditos,



provérbios, máximas, em resumo, fragmentos da cultura popular sul-americana, reunidos em torno do personagem central – Macunaíma, o herói sem nenhum caráter.

Prosa urbana - As grandes cidades, com seus tipos e problemas característicos, seriam a temática de Érico Veríssimo. **Prosa intimista** - na esteira das sugestões da psicanálise, alguns autores preocupam-se com o desvendamento do mundo interior de suas personagens, analisando angústias e conflitos internos.

Carlos Drummond de Andrade (1902–1987): Toda a trajetória do poeta – qualquer que seja o assunto tratado – marca-se por uma tentativa de conhecer-se a si mesmo e aos outros homens, por meio da volta ao passado, da adesão ao presente e da projeção num futuro possível. Esse é um dos aspectos que concede unidade à poesia de Drummond: o tempo passado, o presente e o futuro como tema.

A partir de 1945 temos a chamada terceira geração modernista. Os escritores da geração de 45 romperam com o padrão estético anterior de busca de identidade, apresentando inovações na estética e nos modos de expressão literária. Os escritores passaram a priorizar a pesquisa em torno da própria linguagem e exploraram mais atentamente a forma literária, tanto na prosa quanto na poesia. Um dos autores de destaque é Clarice Lispector (1920-1977), com a sondagem psicológica das personagens e a introdução de inovações nas técnicas narrativas, quebrando a frequência e a estrutura do gênero narrativo, canonizado na fórmula “começo, meio e fim”.

Artes

No Brasil, antes da colonização portuguesa tinha-se a arte indígena. Os índios produziam uma rica cultura de arte plumária, cestaria e pintura, ainda que fossem considerados selvagens pelos colonizadores. Sua principal forma de manifestação era a ornamentação corporal à base de três cores: vermelho – extraído das sementes do urucum; preto – extraído do sumo do jenipapo e o branco extraído da tabatinga. Essas pinturas serviam como uma forma de identificação entre os grupos, divididos em: nobres, guerreiros ou povo.

A cerâmica também é uma arte indígena, pois confeccionavam objetos para uso comum, estatuetas e figuras. Entretanto, para a visão do colonizador, a arte indígena não era arte, pois a intenção do homem-branco era expropriar e encontrar riquezas, desconsiderando o patrimônio cultural indígena.

Arte indígena



Os jesuítas também são importantes para a história da arte no Brasil. Os seminários e colégios foram as primeiras escolas de belas artes brasileiras. Partindo da temática religiosa na pintura de afrescos (em paredes), têmpera (mistura de pigmento em água) e pintura a óleo, a influência do Barroco europeu foi evidente. As primeiras obras eram cópias de estampas que chegavam de Portugal; gravuras, desenhos de irmandades religiosas, tudo era reproduzido por artistas autodidatas, pois não havia escolas.

Em 1637, chegou ao Brasil o holandês Maurício Nassau. Trazendo artistas de sua terra, procurou melhorar o ambiente cultural da colônia, por isso, trouxe consigo artistas cultos, protestantes, com o objetivo de retratarem as belezas brasileiras. Mas não foram bem vistos pelos jesuítas. Frans Post e Albert Eckhout foram os principais pintores desta missão.

Posteriormente, desenvolveu-se do século XVIII ao início do século XIX o **Barroco**.

Nas regiões que enriqueceram com a extração do ouro, principalmente, as obras dessa fase são bem detalhadas, têm refinamento e foram produzidas por artistas importantes.

A arte barroca era ensinada pelos frades e jesuítas e não se dava importância para a autoria, por esse motivo, muitas obras são anônimas. Assim, também, predominavam os temas religiosos em uma pintura arquitetônica.

Quanto às imagens, eram feitas de pedra-sabão, argila e madeira. E as igrejas pareciam simples do lado externo, enquanto que internamente eram ricamente ornamentadas até mesmo com folhas de ouro. Minas Gerais é o maior exemplo de arte barroca no Brasil.

Manoel da Costa Ataíde, **Mestre Ataíde**, destacou-se na **Pintura**.

Antônio Francisco Lisboa, Aleijadinho, destacou-se na **escultura**, foi autodidata. Teve a fase da saúde e a da doença - A fase da saúde é marcada pela clareza, pela serenidade e pelo magistral equilíbrio na ornamentação leve. A fase da doença foi marcada pelo expressionismo de suas obras. Aleijadinho conseguiu imprimir a sensação de nobreza deformando as figuras para incutir-lhes expressão íntima, de vida calma ou agitada, atribulada ou serena. Por motivo de sua doença, foi obrigado a andar de joelhos e perdeu os dedos das mãos, no entanto, continuou seu trabalho amarrando os instrumentos nos braços para esculpir a pedra-sabão e a madeira.



Arte barroca




No século XIX temos o chamado **Neoclassicismo** nas artes. A chegada da família real em 1808 efetuou mudanças no cenário cultural da colônia. D. João, em 1816, trouxe para o Brasil, pintores e escultores que tinham comprometimento com o ideal neoclassicista. Assim, destacavam-se na Missão Artística Francesa: Nicolas-Antoine Taunay, Jean-Baptiste Debret, Félix-Émile, Le Breton. Estes artistas retrataram a colônia de uma forma romântica, idealizaram a figura do índio e destacaram o nacionalismo, assim como as paisagens naturais.

No início do século XX, dois artistas **expressionistas** se destacam: Lasar Segall e Anita Malfatti. Lasar Segall apresenta sua pintura cheia de cores tropicais e repleta de cenas da realidade do Brasil, na sua primeira exposição em São Paulo. Anita Malfatti cria desconforto à sociedade tradicional com suas obras expressionistas como, O homem Amarelo e O Japonês. Nas artes plásticas, o **expressionismo** defende o distanciamento da representação figurativa e o uso arbitrário de cores e traços fortes, com formas contorcidas e dramáticas.

A **Semana de Arte Moderna** realizada em São Paulo, em fevereiro de 1922, foi um marco na arte. Muitos artistas comprometidos em mudar o cenário da arte nacional se apresentaram e chocaram a sociedade. A quebra dos padrões europeus e a busca pela valorização da identidade nacional com imagens realmente nacionais, de sua natureza e de seu povo, foi uma característica das obras. Foi o rompimento com o tradicionalismo rumo à inovação. Destacam-se como artistas modernistas: Di Cavalcanti, Vicente do Rêgo, Anita Malfatti, Lasar Segall, Tarsila do Amaral e Ismael Nery.

Arte expressionista




Abaporu de Tarsila do Amaral – Semana de Arte Moderna



Já o **Concretismo** ocorreu nas décadas de 1950 e 1960, e pode ser caracterizado por um movimento de arte abstrata e fazia uso de figuras geométricas combinadas ao raciocínio em sua apresentação, uma espécie de leitura a ser decifrada. Destacam-se os nomes de Haroldo de Campos, Geraldo de Barros e Valdemar cordeiro.

Arte concretista



Em época muito próxima surge o **informalismo** e a **arte abstrata**, em 1960-1970, que tem como temática os meios de comunicação. Ainda na década de 1970, a tecnologia começa a se misturar com a arte, pois novos sistemas e meios passam a ser utilizados nas obras de arte. É o surgimento do grafite, das performances e do uso de instalações que interajam com o espectador. Destacam-se nesta época: Siron Franco, Antônio Lizárraga, Luiz Paulo Baravelli, Cláudio Tozzi, Takashi Fukushima, Alex Vallauri, Regina Silveira, Evandro Jardim, Mira Schendel e José Roberto Aguilar.

O **neoexpressionismo**, na década de 1980, busca resgatar os meios artísticos mais tradicionais, embora não se percam as mudanças na ideia de arte. A tecnologia mais uma vez se faz presente e surge a chamada videoarte; a intervenção urbana dá origem à arte pública na junção da obra de arte com o espaço público. Importantes nomes neoexpressionistas são: Guto Lacaz, Cildo Meireles, Tunga, Carmela Gross, Dudi Maia Rosa, Rafael França, Ivald Granato, Marcelo Nitsche, Mário Ramiro, Hudnilson Junior, Daniel Senise e Alex Flemming.

O **pós-modernismo** da arte, a partir de 1990, é marcado pelo uso das tecnologias, da desconstrução da arte, das aproximações dessa com o mundo real, a globalização da arte. A arte dos brasileiros nomeados **Os Gêmeos** (irmãos **Gustavo e Otávio Pandolfo**) é um exemplo da arte contemporânea moderna.



Arte pós-moderna – Os Gêmeos



Rádio

A história do rádio no Brasil não se separa da história da música brasileira. No entanto, para que fique melhor compreendida a evolução desses dois elementos, vamos separá-los para analisar melhor cada um de seus pontos.

Inicialmente, temos o rádio. A história do rádio no Brasil começa com um primeiro teste realizado em 1893 por um padre, cientista e engenheiro chamado Roberto Landell de Moura. Devido a seus testes, em 1905, a Marinha brasileira realizou experimentos com o uso de mensagens telegráficas.

Em 1923, surge a primeira emissora de rádio no Brasil chamada **Rádio Sociedade do Rio de Janeiro** (capital do Brasil na época). Experimentalmente, um ano antes, a rádio havia realizado um discurso do Presidente da República, Epitácio Pessoa, em razão dos cem anos da Independência do país. Edgar Roquete Pinto é considerado o “pai do rádio brasileiro”, pois foi ele quem idealizou a Rádio Sociedade. Entretanto, existe uma polêmica que diz ser a **Rádio Clube de Pernambuco** a primeira rádio brasileira com uma transmissão 4 anos antes da Rádio Sociedade.

Na década de 20, o rádio não tinha fins comerciais, não existiam as chamadas de publicidade, que ocorreriam apenas em 1927. Os programas eram elitistas, pois eram organizados por pessoas da burguesia, uma vez que ganhavam seus fundos dessa classe, como os discos.

Em 1936, ocorre o surgimento da **Rádio Nacional** na cidade do Rio de Janeiro e se torna um marco na história do rádio, devido aos seus programas de auditório, comédias e radionovelas. Tornou-se líder de audiência do final dos anos 30 até metade dos anos 50. Nesses programas de auditório, as pessoas iam aos teatros para assistir ao vivo à programação.



A Rádio Globo do Rio de Janeiro surge em 1938 e torna-se veículo estratégico da política, pois Getúlio Vargas tenta cativar a população com as marchinhas de carnaval para estimular o ufanismo brasileiro, afinal era época do Estado Novo.

Foi também em 1938 que ocorreu a primeira transmissão esportiva em rede nacional. A Copa de 1938 entraria, assim, para a história do rádio brasileiro.

Foi na década de 40 que surgiram alguns ídolos do rádio, entre eles, podemos citar Ary Barroso com seu programa na Rádio Nacional; Luiz Gonzaga, que fazia programas de música regional; Henrique Foréis Domingues, conhecido como Almirante, com o programa “Caixa de Perguntas”; e Noel Rosa.

Em 1941 surge o Repórter Esso que divulgava as informações dos fatos internacionais, principalmente a Segunda Guerra Mundial e a Guerra do Vietnam.

Com a chegada da Televisão na década de 50, o rádio é obrigado a se transformar e os programas das rádios migram para a tv. A primeira emissora de tv foi a Tupi de São Paulo.

A transmissão FM de rádio ocorreu em 1955, pela Rádio Imprensa, no Rio de Janeiro. Sua transmissão era feita com base em músicas e informações. Na década de 60 o rádio AM assume características mais contemporâneas, os programas de auditório dão espaço aos programas de variedades, programas esportivos e programas policiais.

Durante a derrubada do presidente João Goulart em 1964, muitas rádios do país tentam convencer o povo a se manifestar contra o regime, o que acabou se tornando difícil com a intervenção militar. Foi nessa época também que muitos músicos fizeram uso de suas músicas para se posicionarem-se contra o regime, e faziam uso do rádio para propagação de suas músicas. Assim, em 1969 o Ministério das Comunicações considera a rádio AM uma das instituições “subversivas”. Dessa forma, o Ato Institucional N°5 determinou censura total à imprensa.

Nos anos posteriores a 1974, quando a ditadura “afrouxou” no governo de Ernesto Geisel, o rádio AM que era considerado “subversivo”, passou a ser considerado “brega”. Assim, passa a ganhar força a rádio FM, com o perfil “rádio rock” e o perfil “pop eclético”. O perfil popular dos programas de auditório (Chacrinha, Bolinha, Raul Gil, Silvio Santos) passava a ser adaptado ao formato FM.

Desse modo, nos anos 80, cresce a popularidade do rádio FM, principalmente entre os jovens. A segmentação das FM em estilos musicais é uma realidade, aprovada pelo público jovem, principalmente. O rádio AM tinha seu público consolidado também e sua própria programação. Essa popularidade da FM chega aos anos 90 e é clara a separação entre a AM e a FM, principalmente em relação à qualidade do som.

Entre 1990 e 2000, emissoras de rádio AM passam a ser compradas por grupos religiosos dos mais diversos, desde a Igreja Católica até grupos cristãos independentes. O rádio, principalmente o FM, passa a ser um mercado, repletos de propagandas e com programação segmentada nacional e internacional.

A partir de 2000 a tecnologia desponta como elemento fundamental nas transmissões, seja AM ou FM. Não é o fim do rádio, mas uma nova adaptação a essa que foi uma das primeiras ferramentas da comunicação.



Música

A expressão Música Popular Brasileira, também conhecida pela abreviação MPB, refere-se a todos os gêneros musicais criados ou cultivados no país no decorrer de sua história, a partir da musicalidade inerente à cultura dos diferentes componentes de sua população e dos ritmos e tradições das diversas regiões do Brasil. O **samba** é, por excelência, a mais forte manifestação musical popular brasileira, como também o choro, a seresta, a marcha-rancho, o baião, a música sertaneja e o frevo. Desde sua origem, a MPB mistura elementos da música folclórica e incorpora as influências de ritmos estrangeiros. Nestas páginas, abordamos também a evolução da música clássica no Brasil.

A história da música brasileira passa também pelo rádio. Mas, antes disso é preciso mencionar a influência africana trazida pelos escravos, assim como a contribuição dos europeus com suas danças de salão e música erudita e religiosa. Essa miscigenação foi fundamental para a formação cultural do país e para o que conhecemos como música brasileira.

Oficialmente, o primeiro ritmo musical foi o **maxixe** que seria uma mistura de “lundu” (dos escravos) com a “modinha” (dos portugueses). Apenas em 1880, no subúrbio carioca surgia uma forma chorosa de tocar músicas populares, esse estilo de música começou a ser chamado de “choro”. Era mais uma forma musical que um gênero de fato. A improvisação e a habilidade dos músicos se tornaram marcas do “choro”, e era tocado por um grupo formado de flautistas, violinistas, cavaquistas que se reuniam em um estabelecimento comercial. Um nome importante dessa época foi Joaquim Antônio da Silva Calado, responsável pela formação de diversos conjuntos musicais.

Em 1900, surgiram as primeiras gravações musicais que impulsionaram a música como negócio. Em 1910 e 1920, surgiu a música feita longe dos grandes centros, a chamada música sertaneja, diferente daquele que temos hoje.

Depois da abolição da escravatura muitos negros passaram a viver no Rio de Janeiro, esse movimento foi importante para o surgimento do samba em meados de 1910. Nome que merece destaque é o de Ernesto Joaquim Maria dos Santos, o Donga, responsável pelo primeiro samba gravado: Pelo telefone.

A profissão de músico tornou-se uma realidade no final dos anos 20. As rádios tinham orquestras e tocavam ao vivo nos programas; havia concursos que elegiam as melhores e mais charmosas cantoras, tornou-se uma forma de entretenimento. Surgiram, assim, nomes como os de Carmem Miranda, Ary Barroso e Pixinguinha.

Foi quando a televisão tomou o país em lugar do rádio na década de 50. Surge o nome de Elizabeth Cardoso como pioneiro da **Bossa Nova**, seguido por João Gilberto, Vinícius de Moraes e Tom Jobim, esses inovaram a música brasileira. Suas músicas exaltavam a beleza, tinham elaboração harmônica diferente, abusavam das sonoridades e escalas.

A televisão proporcionava festivais em que a apresentação de artistas era o ponto principal. Foi a formação da MPB, tanto como movimento cultural quanto movimento puramente musical. A consolidação da MPB foi marcada na década de 1970 com a sofisticação do estilo. Destacamos os nomes de Chico Buarque, Geraldo Vandré, Edu Lobo, Caetano Veloso, Gilberto Gil, Gal Costa, Elis Regina e Maria Bethânia.

Outros movimentos também surgiram, como a **Tropicália** e o **lê-lê-lê**. O primeiro associava elementos da cultura pop nas vozes, principalmente, de Caetano Veloso e Gilberto Gil; enquanto o segundo estava mais



próximo do rock produzido no exterior, com os nomes de Roberto Carlos, Erasmo Carlos, Tim Maia, Wanderléia, José Ricardo, Wanderley Cardoso.

Nos anos 80 surgiu um novo movimento dentro do rock brasileiro com artistas como Blitz, Paralamas do Sucesso, Titãs, Ultraje a Rigor e Legião Urbana. A partir de 1980 outros gêneros mais regionais como o sertanejo, o pagode e o axé music passaram a ganhar espaço considerável nas emissoras de rádio e televisão, o que marca mais uma transição.

Desde então, a música não mais parou. Muitos desses nomes citados migraram para outros gêneros e continuam a fazer sucesso até hoje.

Jornais

A história da imprensa no Brasil tem início com a chegada da família real em 1808. O primeiro jornal impresso foi a Gazeta do Rio de Janeiro que circulou pela primeira vez em setembro de 1808. No começo era um jornal semanal, mas que passou a ser publicado duas vezes por semana, divulgando notícias sobre os príncipes da Europa, festas e tudo o que estivesse relacionado à corte.

Existia também o Correio Brasiliense que era de fora do país e livre de censura. Sua publicação era mensal e vinha de Londres, para chegar ao Brasil, de navio, levava cerca de um mês. Seu conteúdo era voltado a atacar “os defeitos da administração do Brasil”, seu criador foi o brasileiro Hipólito José da Costa, exilado em Londres.

A imprensa sofria de censura, e isso perdurou até 1827, apesar de sua liberdade estar garantida na primeira Constituição em 1824. A partir de 1822 até 1840, surgiram muitas tipografias, panfletos e jornais no país. Destacam-se Gazeta de Notícias, O Paiz, o Diário de Notícias, o Correio do Povo, a Cidade do Rio, o Diário do Commercio, a Tribuna Liberal, o Jornal do Commercio e a Gazeta da Tarde.

A partir da segunda metade do século XIX, o desenvolvimento dos jornais foi mais evidente, pois os títulos passaram a ser mais marcantes e o tamanho não era o pequeno. Passaram a ser mais segmentados, surgiram temáticas políticas, periódicos voltados ao público feminino e outros para os imigrantes. Quanto à ideologia, existiam aqueles que apoiavam a monarquia, a república; alguns defendiam a abolição da escravidão, outros eram abolicionistas. Os debates das causas ocorriam por meio dos jornais.

A construção de ferrovias facilitou a distribuição dos jornais, assim como as linhas telegráficas, pois possibilitaram que as informações chegassem mais rapidamente às redações. Mesmo o envio de mensagens sendo caro, possibilitava que os principais acontecimentos fossem informados aos grandes centros.

Novas transformações ocorreram entre 1889-1930, na República Velha. A censura e os atos de violência eram uma constante contra os jornais chamados de monarquistas, mas ainda com a repressão surgiram publicações voltadas às comunidades imigrantes e à classe operária.

Um decreto baixado pelo Governo Provisório, em 23 de dezembro de 1889, alertava: “os indivíduos que conspirarem contra a República e o seu governo; que aconselharem ou promoverem por palavras escritas



ou atos a revolta civil ou a indisciplina militar... serão julgados por uma comissão militar... e punidos com as penas militares de sedição”.

Nessa época também foram incorporadas às redações as máquinas de escrever e novos linotipos para melhorar a tiragem e a qualidade da impressão. Nessa mesma época surgiram os jornais: O Globo e Monitor Mercantil, no Rio de Janeiro, Folha da Noite (hoje Folha de S. Paulo), e Gazeta Mercantil, em São Paulo.

Em 1937, a imprensa passou novamente a ser perseguida. O Estado passou a controlar melhor as publicações, pois tornou a imprensa um serviço público fazendo, assim, que fosse controlada pelo Estado. Em 1939, foi criado o Departamento de Imprensa e Propaganda (DIP) com o objetivo de censurar a produção e controlar as informações. Os funcionários eram vigiados pela polícia e obrigados a publicar propaganda estatal. Muitos jornais e revistas, nessa época, tiveram sua circulação vetada.

Entre 1945-1964, o Brasil passou novamente por transformações e a imprensa foi influenciada pelos acontecimentos. O suicídio de Getúlio Vargas em 1954, em meio a uma crise política ocasionada pelo atentado contra o jornalista Carlos Lacerda, fez com que vários jornais que se opunham ao presidente fossem invadidos e tivessem seus equipamentos destruídos. Outra notícia importante na época foi a renúncia à presidência de Jânio Quadros e a chegada do vice, João Goulart. Esses dois acontecimentos contribuíram para tornar o jornalismo político o destaque da imprensa na época.

Com o governo de Juscelino Kubitschek, entre 1956 e 1961, houve mais liberdade de imprensa e as relações entre governo e imprensa eram consideradas cordiais. Nessa mesma época houve o crescimento da publicidade privada no faturamento jornalístico.

Com o golpe militar em 1964, tem início um novo ciclo de autoritarismo contra a imprensa. À medida que o autoritarismo aumentava, os jornais assumiam uma postura mais crítica. Os conteúdos relacionados às condições políticas, sociais ou econômicas eram restringidos. Mas o maior golpe veio com o Ato Institucional nº5 (AI-5) e a censura apregoada por esse ato, pois a circulação dos jornais dependia da permissão do governo militar.

Na década de 70, novas transformações aconteceram. O governo do general Ernesto Geisel possibilitou uma lenta e gradativa abertura política. Assim, o número de títulos foi diminuindo, os jornais se modernizaram tecnologicamente. Houve também um aumento do noticiário crítico ao governo que exigia mais liberdade da imprensa.

Em 1985, com a redemocratização do Brasil, somada à Constituição de 1988, foi consolidada a liberdade de expressão da imprensa. Desse modo a importância da imprensa pôde ser constatada com a cobertura de denúncias de corrupção ligadas à imprensa durante o governo de Fernando Collor de Mello, primeiro presidente eleito após a redemocratização.

O surgimento de novas mídias modificou a ideia do jornalismo. Os jornais tiveram que se adaptar à mudança e ao mesmo tempo fazer com que os leitores continuassem a prestigiar as publicações. Surgiram, assim, edições online dos mesmos jornais, ampliando o alcance das notícias e possibilitando uma maior faixa de público.

Mesmo com a modernidade, o jornal impresso não desapareceu. Mesmo que alguns jornais tenham perdido a sua versão impressa, a versão online existe. Essa estratégia permite, também, um custo menor às empresas, sem que o caráter jornalístico do veículo de comunicação se perca.



Revistas

Assim como aconteceu com o jornal, as primeiras revistas chegaram ao Brasil no século XIX com a família real. A primeira revista brasileira era chamada “As Variedades ou Ensaio de Literatura”, e foi lançada em 1812 em Salvador. Aos moldes das revistas estrangeiras, trazia as novelas, discursos sobre costumes e valores sociais, estudos científicos e textos clássicos de autores portugueses.

A elite intelectual trouxe outras revistas como “O Patriota” em 1813 e “Anais Fluminenses de Ciências, Artes e Literatura”, em 1822. Começaram a surgir também os segmentos variados que se especializavam em um gênero específico de publicação como “O Propagador das Ciências Médicas” com assuntos do contexto médico e “Espelho de Diamantino”, esta a primeira revista feminina brasileira.

Houve uma evolução no século XX com a publicação de fotos nas edições, o que abre espaço para as revistas ilustrativas. Surge, então, no ano de 1928, a revista “Cruzeiro”, de Assis Chateaubriand, de caráter mensal. Essa revista apresentava os fatos mais marcantes da semana, variedades, inovações do mundo após a primeira guerra, ilustrações convidativas. Poucos meses depois de sua estreia, a revista já atraía um grande número de leitores.

A revista “Manchete” surge no ano de 1952 e tinha como prioridade a ilustração e a fotografia. Diferente da “Cruzeiro”, seu conteúdo era destinado ao grande público urbano, pois apresentava fatos curiosos da cultura brasileira, mas sem muitos detalhes.

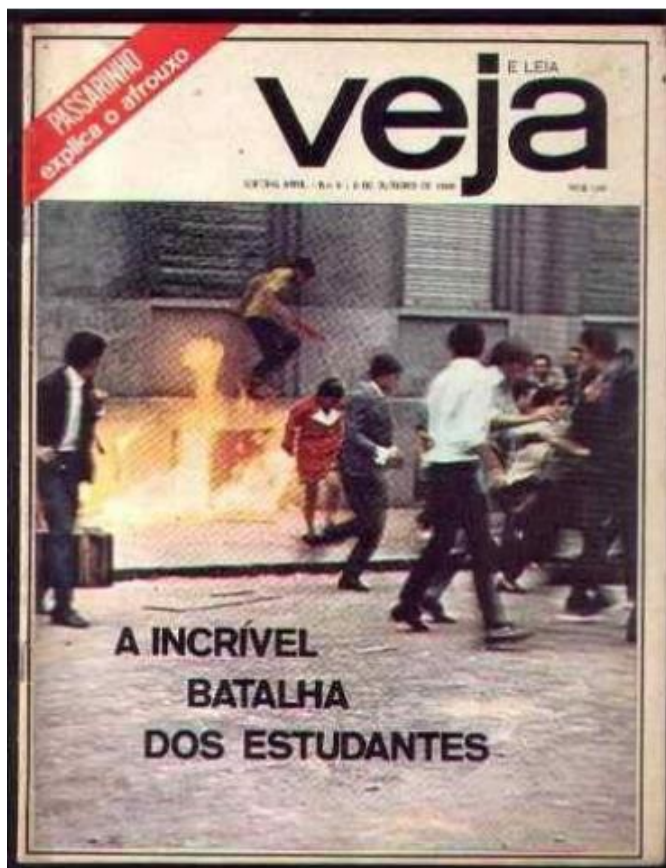


No ano de 1966 surge a revista “Realidade” como um marco para a imprensa brasileira, pois suas reportagens visavam à objetividade da informação e voltada para as classes A e B. Seus jornalistas (a maioria deles) eram militantes de partidos de esquerda em busca de um editorial de abordagem democrática sem defender partidarismo. No entanto, a revista não sobreviveu à crise do mercado editorial brasileiro quando somado ao AI-5 e suas restrições. Sua última edição foi em 1976, mas a revista é um marco na história das revistas brasileiras.

Foi nessa mesma época, em 1968, que Victor Civita, fundador da revista “Realidade”, criou a revista “Veja”, mas apenas depois de 10 anos de sua primeira publicação é que a revista gerou lucro. Os gastos foram sempre bancados pela revista “Realidade”. Após a “Veja”, foi criada a “Isto é”, “Senhor”, “Isto é Senhor”, “Afinal” “Época” e “Carta Capital”.

As fotonovelas nas décadas de 50 e 60 impulsionaram a vendagem das revistas, pois tinham uma linguagem fácil e cativavam o gosto popular. Assim, destaca-se a revista “Capricho” em 1952 e suas publicações quinzenais que depois se direcionou para público adolescente em 1970.

A partir desse período as publicações passam a ser cada vez mais segmentadas, pois passam a ser direcionadas para públicos mais específicos. Entre 1950 e 1960, surgem as revistas de Histórias em Quadrinhos com Ziraldo e Maurício de Souza, por exemplo; em 1959, surge a revista “Manequim” e, em 1961, a revista “Claudia”, ambas voltadas para o público feminino; também surge, na mesma década, a revista “Quatro Rodas”, voltada para o automobilismo. Assim, atendendo a demandas de grupos específicos, as revistas se multiplicaram no contexto brasileiro.





Televisão

Em 18 de setembro de 1950, é inaugurada, em São Paulo, a TV Tupi-Difusora, canal 3, a primeira emissora da América Latina. A iniciativa é do empresário Assis Chateaubriand, fundador e proprietário dos Diários e Emissoras Associados, então a maior rede de jornais e rádios do país. Outras emissoras seriam fundadas nos anos seguintes. Na década de 1960, são criados os teleteatros da TV Tupi, com Lima Duarte, Fernanda Montenegro, Paulo Autran, entre outros. Vários programas da Tupi criaram fórmulas que se repetem, com modificações, até hoje: *O Sítio do Pica-Pau Amarelo*, *O Céu É o Limite* (programa de perguntas e respostas com premiação), *Clube dos Artistas* (o casal Airton e Lolita Rodrigues recebe convidados) e o telejornal *Repórter Esso*, com os apresentadores Heron Domingues e Gontijo Teodoro. A primeira telenovela foi *Tua Vida Me Pertence*, estrelada por Vida Alves e Walter Forster, exibida uma vez por semana. Estreiam também os primeiros seriados brasileiros, produzidos e dirigidos por Ary Fernandes: *Vigilante Rodoviário* (policial, 1961) e *Águias de Fogo* (militar, 1968).

Em 1960, havia 15 emissoras de TV no Brasil. As maiores eram a TV Tupi, a TV Record (aberta em 1953) e a TV Excelsior (1960). Elas conquistam audiência com novelas, seriados norte-americanos e programas de auditório ao vivo, como *Os Adoráveis Trapalhões*, com Renato Aragão, na Excelsior. Em 1960, a TV Record faz a primeira gravação em videotape do país, da inauguração de Brasília. Em 1961, Chico Anysio veicula os primeiros programas em que ele contracenava com ele mesmo, no *Chico Anysio Show*, na TV Rio. Em 1963, a Excelsior exibe a primeira telenovela em capítulos diários, *2-5499 Ocupado* (1963), com Tarcísio Meira e Glória Menezes. A emissora apresentaria 53 telenovelas até seu fechamento, em 1970. A partir de 1965, tem início uma era de festivais de MPB, que revela importantes nomes para a música brasileira.

Em 1965, é inaugurada no Rio de Janeiro a TV Globo. O proprietário é o jornalista Roberto Marinho, dono do jornal carioca *O Globo*. A emissora compra a TV Paulista, que tinha entre suas atrações um programa em horário comercializado ao empresário e apresentador Silvio Santos. Ele se tornará uma das principais atrações e audiência da emissora até 1975. Em 1969, entra no ar a TV Cultura de São Paulo, primeira **TV pública**. As telenovelas se tornam o grande filão de audiência das TVs Excelsior, Tupi e Globo, de autores como Bráulio Pedroso, Ivani Ribeiro, Glória Magadan, Janete Clair e Jorge de Andrade.

Em 1970, a Copa do México é transmitida ao vivo por um pool de emissoras para 25 milhões de telespectadores, com as primeiras transmissões em cores no país. Em 1972, a Globo já é a maior rede de TV nacional, com 36 emissoras afiliadas e centenas de retransmissoras. O Grupo Silvio Santos ganha sua primeira concessão de um canal de TV, no Rio, e o apresentador deixa a TV Globo em 1975.

Em 1980, a TV Tupi encerra suas atividades, e Silvio Santos ganha concessões de emissoras que pertenciam à Rede Tupi, incluindo o canal 4, em São Paulo, e cria o Sistema Brasileiro de Televisão (SBT). Em agosto do ano seguinte, os empresários Adolpho Bloch e Silvio Santos assinam, em Brasília, a concessão de suas novas redes de TV, mas a Rede Manchete só entra no ar em 1983. Em 1989, o bispo Edir Macedo, líder da Igreja Universal do Reino de Deus, compra e expande a Rede Record.

A TV por assinatura tem início, em 1991, com a abertura da Globosat, pelas Organizações Globo, e da TVA, pelo Grupo Abril. Em 1995, a Rede Globo inaugura o Projac, o maior centro de produção audiovisual da América Latina, em Jacarepaguá, no Rio. Em 1999, a TV Manchete sai do ar.



Em São Paulo, em 2/12/2007 acontece a primeira transmissão oficial de sinal digital de televisão no Brasil. Em julho de 2013, o Decreto nº 8.061/13 define o fim do sinal analógico no país a partir de 1/1/2015 e até 31/12/2018, em cronograma de etapas a ser definido, para capitais e regiões de interior.

Teatro

As manifestações teatrais no Brasil têm como marco inicial a catequização jesuíta no século XVI. Os padres jesuítas faziam uso dessa forma de pregação para instruir os indígenas e os colonos de acordo com os preceitos cristãos.

O padre José de Anchieta é um nome que merece destaque nessas representações que eram chamadas de teatro de catequese. Por ter como objetivo a catequização, esse tipo de teatro tinha como foco a pregação religiosa, questões estéticas ou artísticas não eram uma preocupação para os jesuítas. Dessa forma, as encenações eram realizadas em espaços que não eram projetados para o espetáculo, os atores eram amadores, as encenações acabavam ocorrendo nas ruas, praças ou colégios. Esse era o início do teatro no Brasil.

É no século XVII que o teatro ganha um tom mais artístico no Brasil, pois surgem as peças que celebram as festas populares e os acontecimentos políticos. A população vestia-se com adereços e saía às ruas para as comemorações, muitas vezes tocando até instrumentos.

Foi com a chegada da família real em 1808 que o teatro torna-se uma atração. Em 1810, D. João assina um decreto visando à construção de teatros, pois esses passaram a ser considerados necessários à diversão da nobreza. Assim, espetáculos grandes começam a ser produzidos no Brasil, mas eram voltados à aristocracia da época, e refletiam os valores europeus da época. Não existia uma identidade brasileira nas peças e excluía a participação da camada mais popular.

Em 1838, as mudanças começam a acontecer. A encenação da tragédia Antônio José ou O Poeta e a Inquisição foram um marco para a história do teatro no Brasil, pois o drama foi representado por uma equipe brasileira, essa era formada por atores com ideais nacionalistas.

Começam, então, a surgir as Comédias de Costume escritas por Luiz Carlos Martins Pena que traziam os fatos da época na intenção de levar graça ao público. Foi o surgimento de autores que destinaram obras ao teatro, como Antônio Gonçalves Dias, Manuel Antônio, Álvares de Azevedo, Casimiro de Abreu, Castro Alves, Luís Antônio Burgain, Manuel de Araújo Porto Alegre, Joaquim Norberto da Silva, Antônio Gonçalves Teixeira e Souza, Agrário de Menezes, Barata Ribeiro, Luigi Vincenzo de Simoni e Francisco José Pinheiro Guimarães.

No ano de 1885 tem início o teatro realista brasileiro. A intenção é deixar no passado os dramas com o intuito de apresentar temas atuais, problemas sociais e conflitos psicológicos. Assim, o objetivo era revelar o cotidiano da sociedade, denunciando o adultério, a falsidade e o egoísmo humanos. Como nome de destaque dessa época está Joaquim Manoel de Macedo, autor de A Moreninha.

Mais adiante no tempo, um marco essencial para as artes foi a Semana de Arte Moderna em São Paulo que ocorreu em 1922. No entanto, esse marco não envolveu o teatro, que permaneceu adormecido por muitos anos.



Um marco real para o teatro chegou em 1945 com a estreia da peça Vestido de Noiva de Gianfrancesco Guarnieri e Nelson Rodrigues. A peça causou grande alarde e modernizou a visão do teatro nacional. Outra peça que merece destaque é O Auto da Compadecida de Ariano Suassuna.

A comédia também teve seu espaço e tem como destaque os nomes de Cacilda Becker, Tônia Carrero, Sérgio Cardoso, Paulo Autran, Fernanda Montenegro, entre outros. Surge, também, o Teatro de Arena (1956), importante para a propagação dessa arte, com a peça Eles não Usam Black-Tie, mais uma vez de Gianfrancesco Guarnieri, em 1958.

Devido ao golpe militar em 1964, a censura proíbe um grande número de peças. As obras que conseguiam ser apresentadas faziam uso de algumas estratégias como o grotesco, as hipérboles, as metáforas ou apenas refletiam a passividade da burguesia da época, conformada com a degradação dos valores. Apenas a partir de 1970 o teatro ressurgiu com produções mais constantes.

Assim, em 1980, após a “abertura política”, surgiu uma nova gama de diretores, pautados em experimentalismo e investigação, surge um teatro multifacetado esteticamente, com preocupações relacionadas à linguagem teatral dramática e cênica.

O eixo teatral inicial que era entre Rio e São Paulo passa a se espalhar pelo Brasil com dezenas de espetáculos para todos os tipos de público, de diferentes autores, clássicos ou modernos, para gêneros e tendências de todos os tipos. Atualmente existem mais de 5 mil grupos teatrais no Brasil, sem contar festivais, encontros e eventos que se multiplicam pelo país.

Cinema

A primeira exibição no Brasil foi em 1896, no lugar em que hoje funciona o teatro Glauber Rocha na cidade do Rio de Janeiro. Já o primeiro cinema foi inaugurado em 1909 e chamado Cine Soberano, também na cidade do Rio de Janeiro. O primeiro filme exibido chamava-se “Saída dos Trabalhadores da Fábrica Lumière”, produzido pelos irmãos Lumière.

As primeiras filmagens brasileiras foram realizadas por imigrantes italianos, os irmãos Segreto. Eles filmaram a Baía de Guanabara a bordo de um navio. Depois, filmaram a visita do Presidente da República ao cruzador Benjamin Constant, e vários outros eventos políticos.

Em 1898, o cinema vai para São Paulo e grava uma celebração da colônia dos imigrantes italianos, assim, começa a espalhar-se por outras regiões.

Em 1907, com a inauguração da usina Ribeirão Lages, no Rio de Janeiro, são inauguradas 18 salas de cinema. Em 1908, na chamada “Bela época” acontece o apogeu da produção cinematográfica e surge a ficção nacional com "Os Estranguladores", de Antônio Leal e a comédia "Nhô Anastácio Chegou de Viagem", de Júlio Ferrez.

Em 1911, empresários norte-americanos visitaram o Brasil para verificar o mercado cinematográfico, e abriram o Cinema Avenida para exibir filmes da Vitagraph. Devido à Primeira Guerra Mundial, as produções da Europa perdem a força, e os EUA passam a se destacar no mercado mundial.



Com o início da Primeira Guerra Mundial, a produção cinematográfica é abalada. Os exibidores nacionais, que apoiavam a produção no país, passam a aderir à locação de filmes estrangeiros, europeus e americanos. A política de exibição de filmes estrangeiros termina por enfraquecer o cinema nacional.

Em 1917, surge no Brasil a primeira animação brasileira, O Kaiser, do desenhista Álvaro "Seth" Marins. A obra veio ao público como um marco histórico do cinema de animação no Brasil.

A expansão do cinema nacional ocorre em 1923 e 1933 com a produção de 120 novos títulos, nos chamados ciclos regionais. Cidades em Minas Gerais, na Amazônia e no Rio Grande do Sul passam a realizar algumas filmagens.

A divulgação dos chamados mitos de Hollywood, por revistas especializadas da época, leva à queda de produção nacional e surge a preferência pelo cinema norte-americano.

Nos anos 30, o cinema brasileiro é praticamente norte-americano. As distribuidoras brasileiras passam a investir em publicidade e na aparelhagem de som dos cinemas. Rapidamente o público se adapta à leitura das legendas. Assim, em 1934, nenhum longa é produzido no país, em 1942, dos 409 filmes lançados no país, somente 1 é brasileiro.

A partir de 1940, surgem produções como "Moleque Tião" (1941), drama baseado na vida do comediante Grande Otelo. Essa obra dá início à era da **Chanchada**. Passa-se a produzir comédias musicais de fácil interação com o público, tendo como mote o Carnaval. Destacam-se os nomes de Oscarito, Grande Otelo, Ankito e Mesquitinha (comediantes), Cyll Farney e Anselmo Duarte (galãs), Eliana (mocinha), José Lewgoy (vilão) e os cantores Sílvio Caldas, Marlene, Emilinha Borba e Linda Batista.

O chamado "**Cinema Novo**" surge na década de 50. As obras tinham filmes com baixo orçamento e temática popular, era a busca por um realismo brasileiro. Em 1963, destacam-se os filmes: "Os Fuzis", de Ruy Guerra; "Deus e o diabo na terra do sol", de Glauber Rocha; e "Vidas secas", de Nelson Pereira dos Santos. Nessas obras evidencia-se um Brasil com conflitos sociais e políticos.

Com o golpe militar de 64, tem início a segunda fase do Cinema Novo com as obras: "O Desafio" (1965), de Paulo César Saraceni; "Terra em transe" (1967), de Glauber Rocha; e "O Bravo guerreiro" (1968), de Gustavo Dahl.

Após o AI-5 em 1968, chega a terceira fase do Cinema Novo com as obras: "O Dragão da maldade contra o santo guerreiro" (1969), de Glauber Rocha; "Os Herdeiros" (1969), de Cacá Diegues; "Macunaíma" (1969), de Joaquim Pedro de Andrade; "Os Deuses e os mortos" (1970), de Ruy Guerra.

Com a intenção de alcançar o mercado do cinema, em 1997, as Organizações Globo criam sua produtora (Globo Filmes) que se torna, em um tempo curto, a empresa de maior destaque do ramo.

Entre 1998 e 2003 a empresa se consolidou com a obtenção de mais de 90% da receita da bilheteria cinematográfica nacional e mais de 20% desse mercado no país. Obras com temática atual despontaram como: Cidade de Deus (2002) de Fernando Meirelles, Carandiru (2003) de Hector Babenco e Tropa de Elite (2007) de José Padilha. Essas obras se destacaram e atingiram até mesmo o mercado internacional.



Em 2009, a comédia *Se Eu Fosse Você 2*, de Daniel Filho, alcança 6,1 milhões de espectadores e quebra o recorde de público da década. Em 2010, *Tropa de Elite 2*, de José Padilha, bate o recorde histórico de bilheteria do cinema brasileiro, com 11 milhões de espectadores no ano.

O sucesso de filmes brasileiros gera a participação de artistas do Brasil em produções norte-americanas, com destaque para Alice Braga, Rodrigo Santoro e Wagner Moura. O público total de cinema no país cresce de 72 milhões de espectadores em 2000 para 149 milhões em 2013, dos quais 27,8 milhões para filmes brasileiros. O total de filmes brasileiros lançados cresce de 83 em 2012 para 127 em 2013.

Arquitetura

A arquitetura do Brasil desenvolveu a maior parte de sua história sob inspiração europeia. Território conquistado por povos indígenas, que praticamente não possuíam arquitetura a não ser a habitacional, e, mesmo assim, de caráter tradicional, mais ou menos imutável, ao receber os conquistadores portugueses, o Brasil passou a integrar uma cultura nova.

Transformado em uma colônia destinada à exploração, ao longo de séculos, o Brasil sustentou parte significativa do florescimento político, econômico e cultural português. Muitos conquistadores acabariam se enraizando, criando uma cultura com características progressivamente originais, embora sempre dependendo dos usos e costumes da metrópole portuguesa, a fonte ou o filtro de todas as referências.

Apesar dessa estreita dependência, a arquitetura civil foi sempre a expressão mais livre e descompromissada, buscando antes a satisfação de necessidades básicas do que o luxo e o conforto, abrindo-se ao improvisado e a materiais da terra, e mesmo a alguma influência de hábitos indígenas, e, por isso, é a parte mais diversificada do conjunto.

A cultura brasileira, especialmente a da elite, durante muitos séculos, foi a cultura do provisório, predominando a ideia de que a vida que realmente importava e valia a pena viver era em Portugal. Para lá, seguia a maior parte das riquezas, requisitadas pela Coroa ou pela nobreza, e lá se ancoravam os projetos de futuro, vivendo-se na colônia com o menor gasto possível. Mesmo os edifícios públicos, como as Casas de Câmara e os palácios de governo, ou os palacetes de grandes senhores, eram pobres e acanhados em comparação a congêneres europeus.

Situação diferente foi a da **arquitetura sacra**. Mesmo que se entendesse o Brasil como um bem a ser explorado com os olhos postados na Europa, a colonização também significou a formação de uma população nova, no início flutuante, mas crescentemente radicada. Para esse povo, era preciso dar assistência religiosa, e os índios também precisavam ser salvos para Cristo, na óptica dos colonizadores católicos, para quem a religião tinha importância central, determinando muito do estilo de vida da época.

Para cumprir aquelas metas, a Coroa enviou inúmeros missionários, e, com o tempo, fundaram-se mosteiros e igrejas. Paralelamente, a Igreja patrocinou a construção de muitos colégios, hospitais e outras estruturas. Como os religiosos em geral se distinguiam pela sua boa formação cultural, sendo muitos deles artistas de primeira linha, acabaram praticamente por monopolizar os projetos de arquitetura de grande porte pelo menos até o século XIX, encarregando-se também da decoração interna.



O litoral brasileiro, a região que concentrou a urbanização, possui ainda um rico acervo de arquitetura religiosa colonial, com muitos exemplares de grande significado e beleza. Além disso, toda vila interiorana tinha pelo menos uma capela; muitas delas tinham mais, cujas irmandades, da mesma forma que nas cidades grandes, rivalizavam na ostentação de pompa e luxo até onde as condições locais permitissem.

Esse espírito ostensivamente decorativo foi uma característica típica e marcante do estilo **Barroco**, que **predominou durante a maior parte do período colonial**, assimilando, em sua fase derradeira, traços do Rococó. O estilo encontrou sua manifestação mais interessante na arquitetura sacra da região de Minas Gerais, considerada por muitos autores como a primeira síntese erudita tipicamente brasileira.

A arquitetura barroca é caracterizada pela complexidade na construção do espaço e pela busca de efeitos impactantes e teatrais, uma preferência por plantas axiais ou centralizadas, pelo uso de contrastes entre cheios e vazios, entre formas convexas e côncavas, pela exploração de efeitos dramáticos de luz e sombra, e pela integração entre a arquitetura e a pintura, a escultura e as artes decorativas em geral.

O Rococó foi um movimento artístico que se preocupava em expressar sentimentos agradáveis a técnica de uma execução perfeita. Na arquitetura, manifestou-se principalmente na decoração de espaços interiores, que se revestiram de abundante e delicada ornamentação. As salas e os salões têm, de preferência a forma oval e as paredes são cobertas com pinturas de cores claras e suaves, espelhos e ornamentos com motivos florais feitos com estuque.

Em oposição a esse interior rico em elementos decorativos, a fachada dos edifícios reflete um barroco sem exageros ou o estilo clássico dos renascentistas italianos.





Igreja de São Francisco em Ouro Preto, um dos mais conhecidos ícones arquitetônicos da arquitetura barroca-rococó do Brasil.

Entre fins do século XVIII e meados do século XIX, a arquitetura passou a mostrar os traços do **Neoclassicismo**, segundo padrões franceses, primando pela regularidade e simplicidade de linhas e pela economia decorativa. Foi uma escola que deixou escasso legado em suas formas mais puras, tornando-se mais frutífera à medida em que se combinava, no fim do século XIX, a **elementos românticos e historicistas**, e a um gosto renovado pela decoração abundante, formando-se uma fértil **escola eclética**, que deixou grande número de imponentes edifícios nas maiores capitais e se disseminou até entre os mais distantes povoados em suas versões populares.

Num tempo em que a influência da religião estava em declínio e a cultura laica se afirmava, essa expansão foi favorecida pela crescente profissionalização dos arquitetos e pela multiplicação de escolas, e também pelos avanços nos meios de comunicação e transporte, pela formação de uma nova ideia de conforto habitacional e de urbanismo, por novos conceitos de higiene e novos hábitos de socialização.

Além disso, a industrialização em passo acelerado desenvolvia novos materiais que facilitavam o trabalho, o barateavam, ou possibilitavam inovações técnicas e formais, verificando-se, a partir de então, progressiva verticalização das cidades e o desenvolvimento de projetos urbanísticos e arquitetônicos de envergadura inédita.



O Teatro Municipal de São Paulo, um dos mais conhecidos e importantes exemplos da arquitetura eclética brasileira.

No começo do século XX, o **Art Nouveau** e o **Art Deco** aparecem na arquitetura brasileira. O *art nouveau* de forma bastante restrita. Exemplo desse tipo de arquitetura é o prédio da Faculdade de Arquitetura e Urbanismo da USP.

O *art déco* é marcado pelo rigor geométrico e predominância de linhas verticais, havendo a tendência de tornar, através da percepção, o edifício mais alto. Goiânia reúne grande número de exemplares de edifícios *art deco*, a começar pelo traçado da cidade, realizado pelo arquiteto Atilio Correa Lima. São Paulo também tem grandes exemplos como o edifício do Banco de São Paulo. Outros exemplos são a Torre do Relógio da Central do Brasil e o Cristo Redentor no Rio de Janeiro.

A partir da segunda década do século XX, teve grande importância e ganhou projeção internacional a **arquitetura modernista** brasileira. Não é uma escola brasileira, mas estrangeira, que teve com principal expoente, o arquiteto francês **Le Corbusier**.

Os arquitetos modernistas buscavam o racionalismo e funcionalismo em seus projetos, sendo que as obras deste estilo apresentavam como características comuns formas geométricas definidas, sem ornamentos; separação entre estrutura e vedação; uso de pilotis a fim de liberar o espaço sob o edifício; painéis de vidro contínuos nas fachadas ao invés de janelas tradicionais; integração da arquitetura com o entorno pelo paisagismo, e com as outras artes plásticas através do emprego de painéis de azulejo decorados, murais e esculturas.

Os principais elementos da estética de Corbusier se resumem nos seus "Cinco Pontos":



- *Planta livre*: elaboração de uma estrutura independente que permita a livre distribuição das paredes, já sem exercerem função estrutural.
- *Fachada livre*: resulta igualmente da independência da estrutura. Assim, a fachada pode ser projetada sem impedimentos.
- *Pilotis*: sistema de pilares que elevam o prédio do chão, permitindo o trânsito por debaixo do mesmo.
- *Terraço-jardim*: recupera a área ocupada pelo edifício transferindo-a para cima do prédio na forma de um jardim.
- *Janelas em fita*: possibilitadas pela fachada livre, permitem uma relação desimpedida com a paisagem.

O edifício-ícone do modernismo no Brasil não foi o primeiro, mas certamente aquele que contou com a melhor propaganda foi o Ministério da Saúde e Educação no Rio de Janeiro (fotos a seguir).

No entanto, a principal expressão dessa arquitetura no Brasil é **Brasília, com seus prédios modernistas e o traçado do Plano Piloto**. Outros exemplos são o Edifício Copan, em São Paulo, a Igreja da Pampulha, em Minas Gerais, o Museu de Arte Contemporânea, de Niterói e centenas de edificações construídas no Brasil. O principal expoente do modernismo no Brasil foi **Oscar Niemeyer**.



CULTURA INTERNACIONAL

Meio de expressão dos sentimentos e aspirações do ser humano, a arte surge no período pré-histórico. Há dezenas de milhares de anos, o homem pintou, em paredes de cavernas, imagens que chegaram aos nossos dias.

As artes plásticas surgem como manifestação cultural muito antes da escrita. Desde a Antiguidade, as escolas artísticas tentaram, com os recursos disponíveis à época, abarcar a complexidade da cultura humana.

Atualmente, a humanidade conta com diversas formas de manifestação, além das **seis artes clássicas – música, dança, pintura, escultura, literatura e teatro**. No mundo moderno, surgiram outras, como o **cinema** (conhecido como sétima arte), a **fotografia**, a **animação e a arte digital**.

Nesta parte do curso, vamos estudar, por meio de uma breve periodização, os movimentos artísticos mais significativos da cultura ocidental.

Arte Grega

O conceito de arte que dá a base para a produção no mundo ocidental surge na Grécia, especialmente durante os períodos clássico (480 a.C. a 323 a.C.) e helenístico (323 a.C. a 146 a.C.). Associado à ideia de mimese (em grego, imitação), considera a manifestação artística uma busca do ideal feita a partir da imitação da perfeição da natureza.

Na arte grega não existia separação entre arte, ciência, matemática e filosofia, e os gregos usavam a mesma palavra (*tekne*) para arte e para designar qualquer técnica ou ofício. Na sua constante busca pela perfeição, o artista grego cria uma arte de elaboração intelectual na qual predominam o ritmo, o equilíbrio e a harmonia idealizada, sendo essa produção centrada no interesse pelo homem, visto como “a medida de todas as coisas”.

Arte Romana

Mais realistas e práticos que os gregos, de quem obtiveram influência decisiva, os escultores romanos buscavam uma representação mais fiel das pessoas, e não de um ideal de beleza. Assim, retratavam os imperadores e os homens da sociedade com ênfase mais realista do que idealista, como os gregos. Para eles, “as coisas belas deviam ser úteis”, enquanto para os gregos “as coisas úteis deviam ser belas”.

Arte Bizantina

O nome desse período artístico faz menção ao Império Bizantino ou Império Romano do Oriente, instalado em 395 d.C., cuja capital, Constantinopla, foi erguida no local da antiga Bizâncio. É a arte surgida no período final da Antiguidade, quando o Império Romano se cristianizava.

A arte bizantina absorve influências vindas de Roma, da Grécia e do Oriente, expressando a interação de diversos elementos culturais, que resulta em um estilo repleto de técnica e cor. Estando intimamente relacionada com a religião cristã, obedece a um clero fortalecido que possui, além de suas funções naturais,



as de organizar também as artes. A arte bizantina vive seu apogeu no século VI, durante o reinado do imperador Justiniano I.

Arte Medieval

Com o declínio do Império Romano e sua queda, em 476 d.C., muitas das técnicas artísticas desenvolvidas na Grécia antiga foram perdidas, o que levou a pintura medieval a ser predominantemente bidimensional.

Na Idade Média, a arte europeia sofre forte controle da Igreja Católica, que detém grande poder político e econômico no período. Como a vasta maioria da população era analfabeta, as artes visuais tornaram-se um importante meio usado pela Igreja para levar as ideias religiosas aos fiéis. No período medieval, distinguem-se dois estilos artísticos principais: o românico (até meados do século XII) e o gótico (de meados do século XII em diante).

Renascimento

Movimento europeu de renovação intelectual e artística em ruptura com a arte medieval, o Renascimento atinge o apogeu no século XVI, sobretudo na Itália.

O ideal renascentista se alicerça na restauração dos valores do mundo greco-romano e é marcado pela crença em uma capacidade ilimitada na criação humana. Sua origem remonta aos valores do humanismo, surgido na Itália dois séculos antes, e impulsionado pelo progresso econômico das cidades italianas, dominadas na época por uma rica burguesia interessada nas letras e nas artes. O Renascimento italiano é favorecido por uma tradição clássica, já que o país abrigou o centro do Império Romano.

Barroco

Movimento nascido na Europa que se manifesta nas artes plásticas, na literatura, na música e no teatro nos séculos XVII e XVIII. Em um período no qual a Igreja Católica se bate para recuperar o espaço perdido com a Reforma Protestante, a arte barroca busca conciliar a espiritualidade da Idade Média com a racionalidade do Renascimento. Sua característica marcante, portanto, é o contraste e a contradição, com obras rebuscadas, que expressam exuberância e emoções extremas.

Neoclassicismo

Estilo do século XVIII que resgata os valores greco-romanos da Antiguidade Clássica, tendência já ocorrida na Europa do século XIV ao XVI. Surge em contraposição ao barroco. É muito influenciado pelos ideais humanistas, que põem o homem como centro do universo. Reproduz o mundo real, mas moldado ao que se considera ideal. A razão é mais importante que a emoção.

Romantismo

Tendência que se manifesta nas artes plásticas, na música e na literatura do fim do século XVIII até o fim do XIX. Privilegia a liberdade de criação e a emoção, com obras que valorizam o individualismo, o sofrimento amoroso, a natureza e o passado.



O movimento é influenciado pela tese do filósofo Jean-Jacques Rousseau de que o homem nasce bom e a sociedade o corrompe. O alemão Felix Mendelssohn e o húngaro Franz Liszt estão entre os principais nomes na música. Na literatura, destacam-se o alemão Johann Goethe e os ingleses William Blake e Lord Byron.

Realismo

Estilo artístico da segunda metade do século XIX, caracteriza-se por uma abordagem objetiva da realidade e pelo interesse por temas sociais. Na pintura, as obras privilegiam cenas de grupos sociais menos favorecidos. Na literatura, o romance social é a principal forma de expressão do período. São destaques o francês Gustave Flaubert, o russo Fiodor Dostoiévski e Machado de Assis, que inicia o estilo no Brasil com o romance *Memórias Póstumas de Brás Cubas*.

Naturalismo

Movimento artístico surgido na França na segunda metade do século XIX, com base na ideia de que só as leis da natureza explicam o mundo e na de que o homem está submetido ao condicionamento biológico e social. Influenciados pelo positivismo, os naturalistas apresentam a realidade com rigor quase científico. A pintura retrata fielmente paisagens e personagens. Na literatura, a linguagem é coloquial e predominam as descrições, com as emoções em segundo plano. Destaca-se o francês Émile Zola.

Impressionismo

Movimento artístico que surge na França, na segunda metade do século XIX, nas artes plásticas e na música. Constitui-se no marco da arte moderna, com o início da dissolução da representação figurativa. Em suas paisagens, os impressionistas dão enorme importância à luz natural e à decomposição das cores. Entre seus expoentes estão os franceses Claude Monet e Edgar Degas. Na música, o francês Claude Debussy é considerado o pioneiro do movimento.

Simbolismo

Surgido no fim do século XIX, o movimento se caracteriza pelo subjetivismo, individualismo e misticismo. O simbolismo rejeita a abordagem da realidade e a valorização do social feitas pelo realismo e pelo naturalismo. O poeta francês Charles Baudelaire é considerado precursor com sua obra *As Flores do Mal*, de 1857.

Nas artes plásticas, busca-se uma síntese entre a percepção dos sentidos e a reflexão intelectual, como fez o austríaco Gustav Klimt. O belga Maurice Maeterlinck é o maior nome do teatro simbolista. Na literatura, destacam-se também os franceses Arthur Rimbaud e Stéphane Mallarmé.

Expressionismo

Tendência estética surgida no fim do século XIX, caracterizada pela ênfase na subjetividade. Nas artes plásticas, defende o distanciamento da representação figurativa e o uso arbitrário de cores e traços fortes, com formas contorcidas e dramáticas.



O grande precursor do movimento é o pintor holandês Vincent van Gogh. O nome de destaque é o norueguês Edvard Munch. O movimento espalhou-se no cinema, com os filmes sombrios, de cenários fantasmagóricos, do alemão Friedrich Murnau e do austríaco Fritz Lang.

Cubismo

Tendência das artes plásticas, sobretudo da pintura, que a partir do início do século XX rompe com as perspectivas adotadas anteriormente. No cubismo, os artistas decompõem as figuras (vivas ou inanimadas) em formas geométricas, como cubos e cilindros, rompendo definitivamente com o ideal de retratar a realidade de forma fiel. As obras trazem os objetos achatados e eliminam a ilusão de tridimensionalidade (a perspectiva). Seu expoente é o pintor espanhol Pablo Picasso.

Dadaísmo

Surgido na Europa, em 1916, tem teor anárquico e provocativo e caracteriza-se pelo desejo de destruir as formas de arte institucionalizadas. Objetos do cotidiano são retirados de contexto e elevados à categoria de arte. Um exemplo é a obra *Fonte*, provocação criada pelo francês Marcel Duchamp, que expôs um mictório comum assinado. Destacam-se no movimento, o poeta romeno Tristan Tzara e o escultor francês Hans Arp.

Futurismo

Iniciado em 1909 pelo poeta italiano Filippo Marinetti, o movimento rejeita o moralismo e o passado e propõe um novo tipo de beleza, baseada na velocidade da industrialização. Na literatura, a linguagem é espontânea, e as frases são fragmentadas para sugerir o ritmo veloz. Na Rússia, o futurismo se alinharia à Revolução de 1917, tendo como expoente o poeta Vladimir Maiakovski. Marinetti alinha-se com o fascismo, que surge na Itália na década de 1920.

Construtivismo

Escola das artes plásticas, do cinema e do teatro que ocorre basicamente na Rússia logo após a Revolução Russa, em 1917. Defende a arte funcional, que deve atender às necessidades do povo e divulgar os ideais revolucionários. Nas artes plásticas, o pioneiro é o pintor Vladímir Tatlin. No cinema, o grande nome é o cineasta russo Serguei Eisenstein.

Abstracionismo

Tendência de vanguarda das artes plásticas do início do século XX. As obras abandonam a representação do real, o figurativismo, para concentrar-se em formas e cores. Há dois tipos de abstracionismo: o informal (ou subjetivo), que privilegia as formas livres; e o geométrico (ou objetivo), de técnica mais rigorosa. Entre os ícones da tendência estão o russo Wassily Kandinsky e o holandês Piet Mondrian.

Surrealismo

Escola artística e literária que surge na França na década de 1920. Fortemente influenciada pela psicanálise, enfatiza o papel do inconsciente na criação. Propõe uma arte livre das exigências da lógica e da razão, que expresse o inconsciente e os sonhos. Destacam-se os escritores franceses André Breton e Paul Éluard,



Antonin Artaud (no teatro), o cineasta espanhol Luis Buñuel e, na pintura, o belga René Magritte, o alemão Max Ernst e o espanhol Salvador Dalí.

Concretismo

Movimento na música erudita e nas artes plásticas que surge na Europa nos anos 1950. Prega a elaboração formal precisa, com foco na racionalidade, em obras que ambicionam acabar com a distinção entre forma e conteúdo. Os precursores são o suíço Max Bill, nas artes plásticas, e, na música, o francês Pierre Schaeffer. Na literatura, a primeira manifestação ocorre no Brasil, com o Grupo Noigandres, formado pelos poetas Augusto de Campos, Haroldo de Campos e Décio Pignatari.

Pop Art

Estilo das artes plásticas que surge nos anos 1950 no Reino Unido e ganha força nos Estados Unidos na década seguinte. Explora elementos da cultura de massa e da sociedade de consumo, a linguagem da publicidade, da televisão e das embalagens de produtos. O principal expoente é o norte-americano Andy Warhol.

Minimalismo

Movimento do início dos anos 1960, nos Estados Unidos, que se caracteriza por criar obras com um mínimo de recursos. Nas artes plásticas, restringe o uso das cores e privilegia formas geométricas e sua repetição. Na música, uma obra pode resumir-se à execução de variações tonais. Destaque para os compositores norte-americanos Philip Glass e Steve Reich.

Op Art

Op Art é uma abreviação inglesa para “Arte Óptica”. Trata-se de movimento das décadas de 1960 e 1970 que enfatiza a percepção com base no movimento do olhar sobre a superfície da tela. Os artistas privilegiam efeitos ópticos e ilusões visuais que afetam a percepção e dialogam com o mundo da indústria e das mídias.

Arte Conceitual

Movimento das décadas de 1960 e 1970 que privilegia o conceito como base para produzir uma obra, acima da importância dada a materiais e técnicas. Propõe um rompimento conceitual, a desmaterialização da obra, materiais não convencionais e instalações.



QUESTÕES COMENTADAS – CULTURA BRASILEIRA - MULTIBANCAS

1. (CEBRASPE/FUB/2022) Julgue o item subsequente, levando em consideração temas diversos da atualidade.

Em 2022, comemora-se o centenário da Semana de Arte Moderna, evento de relevante impacto na cultura e na produção cultural do Brasil.

COMENTÁRIOS:

A Semana de Arte Moderna ocorreu entre os dias 13 e 18 de fevereiro de 1922. O evento deu visibilidade para uma das correntes artísticas mais inovadoras e importantes da história da brasileira – o modernismo. A arte modernista tinha como objetivo romper com os padrões artísticos vigentes até então.

Em 2022, comemora-se o centenário da Semana de Arte Moderna, evento de relevante impacto na cultura e na produção cultural do Brasil.

Gabarito: Certo.

(QUADRIX/CFT/2021 – ASSISTENTE ADMINISTRATIVO)



Internet: <<http://exerciteopensamento.blogspot.com>>.

No que se refere à cultura brasileira e às suas multiplicidades, julgue os itens a seguir.

2. A diversidade regional é característica predominante na cultura brasileira, mas a falta de conhecimento e aceitação das diferenças por uma parcela da população leva tal multiplicidade a diversos tipos de preconceito.



COMENTÁRIOS:

O Brasil é um país multiétnico, formado por diferentes povos e culturas. É um país com enorme diversidade cultural e cada região tem suas peculiaridades culturais.

O preconceito se origina em um juízo de valor sobre algo ou alguém feito sem a reflexão ou conhecimento do assunto e, por essa razão, não tem fundamentação. É quase sempre baseado em um estereótipo negativo. No âmbito da cultura, o preconceito ocorre com a discriminação da origem cultural de uma pessoa, situação em que a cultura de um indivíduo é considerada melhor que a outra.

Dessa forma, a falta de conhecimento e de aceitação das diferentes culturas, por uma parcela da população, leva a diversos tipos de preconceitos.

Gabarito: Certo

3. O conjunto de tradições, de manifestações culturais, de costumes, da culinária e da religião que compõe a cultura brasileira contemporânea é o resultado da miscigenação entre o indígena, o colonizador europeu e os povos africanos.

COMENTÁRIOS:

A cultura brasileira tem suas origens na miscigenação entre o indígena, o colonizador europeu português e os povos africanos.

Contudo, ao longo do tempo, novos atores contribuíram para a formação cultural do Brasil. Como exemplo, podemos citar os imigrantes ucranianos, árabes e japoneses, que vieram para o Brasil ao longo do século XX e imprimiram em suas regiões parte de seus costumes originários.

Ainda temos que considerar o processo de globalização, que produziu significativas modificações culturais no Brasil, de maneira que, na contemporaneidade, nossa cultura recebe também influências de culturas de todos os continentes e regiões do mundo. Por exemplo, é muito forte a presença de símbolos culturais norte-americanos no Brasil, que se manifestam na música, na culinária e em outros aspectos.

Dessa forma, não se pode dizer que a cultura contemporânea do Brasil é resultado apenas da miscigenação entre o indígena, o colonizador europeu e os povos africanos. Esses povos estão na base de nossa cultura, mas ela foi e é substancialmente modificada.

Gabarito: Errado

4. A fluidez da comunicação na atualidade influencia a cultura moderna, já que a conectividade entre os povos gera similaridades em alguns princípios sociais da sociedade contemporânea.

COMENTÁRIOS:

Uma cultura é também marcada pelos instrumentos e ferramentas que utiliza. Assim, a fluidez da comunicação, derivada das inovações tecnológicas, influencia a cultura moderna, na medida em que permite a comunicação instantânea entre locais muito distantes entre si. Esse processo é responsável pela disseminação de culturas locais pelo mundo, sendo denominado de globalização da cultura. Da mesma forma



em que a globalização expande culturas locais pelo mundo, também cria uma espécie de cultura homogênea, global, com certas similaridades em alguns princípios sociais da sociedade contemporânea.

Também vivemos na cultura do imediatismo, uma característica do mundo moderno, mesmo em países que têm culturas muito diferentes.

Gabarito: Certo

5. O grafite, a charge, o funk e as músicas bregas e caipiras são culturas periféricas, de cunho popular e subordinadas à cultura brasileira mais requintada.

COMENTÁRIOS:

O grafite e o funk são considerados culturas periféricas, isto é, derivados das periferias, de bairros marginalizados e com população de menor poder aquisitivo.

A charge e as músicas bregas e caipiras são consideradas manifestações da cultura popular brasileira. Não são necessariamente relacionadas a pessoas de bairros marginalizados e de menor poder aquisitivo, mas também não estão relacionadas às altas classes sociais.

Ambas se inserem na categoria de **cultura popular**, como expressões culturais das classes baixas e médias, apartadas do poder político e econômico.

Em oposição, temos a cultura erudita, que pode ser definida como uma produção artística elaborada por e para as pessoas da elite social.

Gabarito: Errado

6. A desigualdade social restringe o acesso à cultura e dificulta a possibilidade de elevação do nível cultural, pois, para os materialmente desabastados, a falta de recursos é um importante fator restritivo.

COMENTÁRIOS:

A desigualdade social restringe o acesso à cultura, uma vez que, para se ter acesso a determinadas manifestações culturais, é necessário pagar para ir a teatros, cinemas, shows musicais, exposições e outros eventos culturais, ou simplesmente pegar uma condução para se deslocar para uma feira de rua ou um museu no centro da cidade. Para os mais pobres da população, a falta de recursos é um impeditivo para o acesso à cultura.

Gabarito: Certo

7. (CONSULPLAN/PREFEITURA DE CASCAVEL/2014) Observe as gravuras.





Tendo em vista o conceito de “cultura” e sua classificação em cultura material e imaterial, marque V para as afirmativas verdadeiras e F para as falsas.

() Nas figuras, tem-se a preponderância de elementos da cultura imaterial, ou seja, ligados às tradições e costumes.

() Os elementos culturais em questão são resultados da confluência de várias culturas diferentes.

() Não há, nas figuras em destaque, referência à cultura material.

() A cultura brasileira pode ser vista como o resultado do predomínio lusitano, tanto na miscigenação quanto na colonização.

() A cultura tem que ser vista numa perspectiva de identidade coletiva, como resultado da interação de pessoas e povos.

A sequência está correta em

a) V, V, V, F, F.

b) V, V, F, F, V.

c) V, V, F, V, F.

d) V, F, V, F, V.

e) F, F, F, V, V.

COMENTÁRIOS:

Primeira afirmativa: Verdadeira. Das quatro figuras, a primeira mostra a produção de uma peça de artesanato. As outras três mostram o frevo, uma cerimônia indígena e o samba, que são elementos da cultura imaterial ou intangível, aquela que se refere aos saberes, aos modos de fazer, às formas de expressão, celebrações, às festas e danças populares, lendas, músicas, costumes e outras tradições.

Segunda afirmativa: Verdadeira. O Brasil foi colonizado por portugueses. Antes da colonização, habitavam, e ainda habitam o país, os índios. Os nativos, os índios, não eram somente um povo, mas constituíam-se em dezenas de nações indígenas, com culturas diferentes. Os negros vieram depois, inicialmente como escravos. Os saberes dessas três raças em muito se miscigenaram na formação da cultura brasileira. Na música, dança, artesanato, culinária, idiomas e em tantos outros elementos da cultura brasileira, encontra-se a confluência de várias culturas diferentes.

Terceira afirmativa: Falsa. O artesanato é um elemento da cultura material.

Quarta afirmativa: Falsa. A cultura brasileira **NÃO** pode ser vista como o resultado do predomínio lusitano. Na formação cultural brasileira estão presentes com grande influência elementos da cultura negra, indígena e lusitana.

Quinta afirmativa: Verdadeira. A cultura tem que ser vista numa perspectiva de identidade coletiva, como resultado da interação de pessoas e povos.

Gabarito: B (V, V, F, F, V)

8. (CESGRANRIO/IBGE/2014 – AGENTE DE PESQUISAS E MAPEAMENTO) SONETO DE FIDELIDADE

De tudo, ao meu amor serei atento
Antes, e com tal zelo, e sempre, e tanto
Que mesmo em face do maior encanto
Dele se encante mais meu pensamento

Quero vivê-lo em cada vão momento
E em seu louvor hei de espalhar meu canto
E rir meu riso e derramar meu pranto
Ao seu pesar ou seu contentamento

E assim quando mais tarde me procure
Quem sabe a morte, angústia de quem vive
Quem sabe a solidão, fim de quem ama

Eu possa me dizer do amor (que tive):



Que não seja imortal, posto que é chama
Mas que seja infinito enquanto dure

Escrito por um dos mais consagrados poetas brasileiros, nascido no Rio de Janeiro, onde se inspirou para compor inúmeras canções e que completaria seu centenário em 2013, o soneto acima é de autoria de

- a) Carlos Drummond de Andrade
- b) Tom Jobim
- c) João Cabral de Melo Neto
- d) Manuel Bandeira
- e) Vinicius de Moraes

COMENTÁRIOS:

As bancas gostam de perguntar sobre datas comemorativas de personalidades ilustres das artes. Exemplos são os 200 anos da morte do Aleijadinho, em 2014, e aqui nesta questão o Centenário do Nascimento de Vinicius de Moraes, também em 2014. Fique atento a estas datas, acompanhe na imprensa, elas sempre são noticiadas. Assim, fica mais fácil de responder este tipo de questão.

Gabarito: E

9. (CESGRANRIO/IBGE/2014 – AGENTE DE PESQUISAS E MAPEAMENTO) Observe a imagem abaixo:



Disponível em: www.sossegodapampulha.com.br/wp_content/uploads/2012/05/igreja-da-pampulha2.jpg. Acesso em: 20 dez. 2013.

A Figura acima mostra a Igreja São Francisco de Assis ou Igreja da Pampulha, uma das obras do arquiteto Oscar Niemeyer.

Essa obra arquitetônica encontra-se em



- a) Rio de Janeiro
- b) Brasília
- c) Belo Horizonte
- d) São Paulo
- e) Florianópolis

COMENTÁRIOS:

A Igreja da Pampulha encontra-se em Belo Horizonte, Minas Gerais.

Gabarito: C

10. (UEPA/SEFA PA/2013 – AUDITOR FISCAL DE RECEITAS ESTADUAIS) O surgimento da canção de protesto em fins dos anos 1960 e seu sucesso televisivo nos Festivais de Música Popular expressava uma tendência da consciência política de parte das camadas médias urbanas brasileiras que se opunham ao fim das liberdades democráticas no regime militar. Por outro lado, o concorrente sucesso televisivo de canções de perfil bossanovista no universo da MPB, sem qualquer engajamento político, significava:

- a) a permanência do papel alienante das canções populares urbanas, que procuravam desviar-se dos temas políticos do momento.
- b) a existência de uma vertente lírica da canção brasileira associada às autênticas criações musicais das camadas populares urbanas.
- c) a invasão e a cooptação cultural norte-americana promovida pela difusão do Jazz, que se impôs ao samba de morro e produziu a Bossa Nova.
- d) a variedade do espectro musical da MPB e o desdobramento da experimentação com a canção popular promovida pela Bossa Nova.
- e) o sucesso deste tipo de canção entre as massas populares urbanas, que compunham a maior parte da audiência dos festivais televisivos de música brasileira.

COMENTÁRIOS:

A Bossa Nova surgida no final dos anos 1950 e na década de 1960 é um movimento da música popular brasileira, derivado do samba e com forte influência do jazz. De início, o termo era apenas relativo a um novo modo de cantar e tocar samba naquela época, ou seja, a uma reformulação estética dentro do moderno samba carioca urbano.

Com o passar dos anos, a Bossa Nova tornou-se um dos movimentos mais influentes da história da música popular brasileira, conhecido em todo o mundo. Exemplo disso é a música Garota de Ipanema composta em 1962 por Vinícius de Moraes e Antônio Carlos Jobim.



Na Era dos Festivais, além da bossa nova, viu-se o surgimento da jovem guarda e do tropicalismo, o que revela a diversidade do espectro musical da MPB. O espaço aberto pelos festivais de TV propicia o surgimento de uma nova geração de artistas e uma grande diversidade musical a partir da década de 1970.

Gabarito: D

11. (UEPA/SEFA PA/2013 – AUDITOR FISCAL DE RECEITAS ESTADUAIS) O projeto estético modernista desenvolvido por artistas da vanguarda brasileira dos anos 1920 e 1930 propugnava a busca de uma linguagem nacional para as artes, numa espécie de emancipação estética relativa aos padrões clássicos europeus consagrados no século XIX. De todo modo, o conteúdo brasileiro das obras da geração modernista esteve, em certa medida, atrelado à(s):

- a) tradição artística do século anterior, como expressa nas obras de Carlos Gomes e de Machado de Assis.
- b) produções artísticas de Mário de Andrade, personagem catalisador e orientador da produção dos integrantes do movimento.
- c) atuação de vanguardas literárias regionais brasileiras, que orientaram o perfil inicial do projeto modernista.
- d) pesquisa folclorística das manifestações da cultura brasileira, demarcando incisivamente a “brasilidade” da arte nacional em contraste com a europeia e suas estéticas.
- e) influências das vanguardas europeias das primeiras décadas do século XX e ao desenvolvimento de escolas estéticas e de pensamento como o futurismo e a psicanálise.

COMENTÁRIOS:

O Modernismo Brasileiro é um movimento de amplo espectro cultural, desencadeado tardiamente nos anos 20, nele convergindo elementos das vanguardas acontecidas na Europa antes da Primeira Guerra Mundial como o Cubismo e o Futurismo.

A Semana de Arte Moderna de 1922 é o ápice deste processo que visava à atualização das artes, e a sua identidade nacional. Essa Semana proporcionaria as bases teóricas que contribuirão muito para o desenvolvimento artístico e intelectual da Primeira Geração Modernista e o seu encaminhamento, nos anos 30 e 40, na fase da Modernidade Brasileira.

Gabarito: E

12. (FGV/SUDENE/2013 – ANALISTA TÉCNICO ADMINISTRATIVO)





As xilogravuras acima são ilustrações de folhetos de cordel. Elas capturam cenas emblemáticas de festas populares que fazem parte dos calendários festivo e cultural brasileiro.

Assinale a sequência que relaciona corretamente cada imagem à festa correspondente.

- a) 1- Folia de Reis; 2- Maracatu; 3- São João; 4- Bumba-meu-boi.
- b) 1- Bumba-meu-boi; 2- Maracatu; 3- São João; 4-Folia de Reis.
- c) 1- Bumba-meu-boi; 2-Folia de Reis; 3- São João; 4-Maracatu.
- d) 1- Maracatu; 2-Folia de Reis; 3- São João; 4- Bumba-meu-boi.
- e) 1- Bumba-meu-boi; 2-São João; 3-Folia de Reis; 4-Maracatu.

COMENTÁRIOS:

Socorro professor, eu não sou ligado e não estudei as festas populares do Brasil! E agora, o que eu faço!? 😞

Ehehehe...vamos resolver esta questão pela análise das imagens, sem precisar de um maior conhecimento sobre a cultura popular brasileira. 😊

A imagem 1 está fácil, pois tem um boi, assim só pode ser o Bumba-meu-boi. A imagem 3 tem balões, o que é típico das festas juninas, nesse caso de São João. E a imagem 4? Reparem que tem um homem segurando um estandarte com uma cruz, o que indica ser uma festa cristã. Só pode ser a Folia de Reis, festa católica que celebra os três reis magos.

Sobrou a imagem 2, o Maracatu, festejo folclórico de origem afro-brasileira, típica do estado de Pernambuco.

Gabarito: B

13. (IESES/TJ RS/2013 – NOTÁRIO E REGISTRADOR) Em sua última edição de 2011, a Revista Veja divulgou uma lista com 50 personalidades que marcaram o Brasil. Quem foi apontado por Ronaldo Vainfas, como um grande historiador brasileiro – autor do livro “Raízes do Brasil” (1936), uma crítica à herança ibérica na formação da cultura nacional?

- a) Anísio Teixeira
- b) Miguel Reale
- c) Sergio Buarque de Holanda
- d) Gilberto Freire

COMENTÁRIOS:

a) **Incorreta.** O baiano **Anísio Teixeira** foi um personagem central na história da educação no Brasil, nas décadas de 1920 e 1930. Difundiu os pressupostos do movimento da **Escola Nova**, que tinha como princípio a ênfase no desenvolvimento do intelecto e na capacidade de julgamento, em preferência à memorização. Reformou o sistema educacional da Bahia e do Rio de Janeiro, exercendo vários cargos executivos. Foi um dos mais destacados signatários do **Manifesto dos Pioneiros da Educação Nova**, em defesa do ensino público, gratuito, laico e obrigatório, divulgado em 1932. Na ideia de **educação para todos**, expressa por Anísio Teixeira, está a base de sua atuação como educador e sua contribuição para a educação no Brasil, importante até hoje.

b) **Incorreta.** **Miguel Reale** foi um dos líderes do integralismo no Brasil e ideólogo da Ação Integralista Brasileira. É pai do também jurista Miguel Reale Júnior.

c) **Correta.** **Sergio Buarque de Holanda** é um dos mais importantes historiadores brasileiros. Em 1936, publicou o ensaio "**Raízes do Brasil**", que foi seu primeiro trabalho de grande fôlego e que, ainda hoje, é o seu escrito mais conhecido. A obra é uma crítica à herança ibérica na formação da cultura nacional.

d) **Incorreta.** O pernambucano Gilberto Freyre é autor de um dos grandes clássicos da historiografia brasileira, a obra "**Casa-Grande & Senzala**", publicada em 1933. Em 1971, a Rainha Elizabeth II lhe conferiu o título de Sir (Cavaleiro do Império Britânico).

Gabarito: C

14. (CETRO/CREF 4/2013 – AGENTE ADMINISTRATIVO) Este movimento cultural brasileiro surgiu na década de 60, a partir de um programa televisivo, que mesclava música, comportamento e moda. O estilo musical ligava-se basicamente ao *rock* americano e inglês, mas de uma forma mais romântica. Seus maiores representantes são Roberto Carlos, Erasmo Carlos e Wanderléa. O aparecimento desses artistas acabou formando o movimento chamado de

- a) Jovem Guarda.
- b) Tropicalismo.



- c) Clube da Esquina.
- d) Pilantragem.
- e) Mangue Beat.

COMENTÁRIOS:

a) **Correta.** A **Jovem Guarda** surgiu em 1965, a partir de um programa televisivo exibido pela TV Record, em São Paulo. O programa era apresentado pelo cantor e compositor Roberto Carlos, conjuntamente com o também cantor e compositor Erasmo Carlos e da cantora Wanderléa. A Jovem Guarda deu origem a toda uma nova linguagem musical e comportamental no Brasil.

b) **Incorreta.** O **Tropicalismo** surgiu no festival de música da TV Record, em 1967, com os baianos Caetano Veloso e Gilberto Gil. O movimento teve grande influência da cultura pop brasileira e internacional e de correntes de vanguarda como, por exemplo, o concretismo. Inovou no cenário cultural brasileiro, ao mesclar aspectos tradicionais da cultura nacional com inovações estéticas como, por exemplo, a pop art.

c) **Incorreta.** O **Clube da Esquina** foi um movimento musical surgido no final da década de 1960 em Minas Gerais. Seus principais expoentes foram Milton Nascimento, Lô Borges, Beto Guedes e o grupo 14 Bis.

d) **Incorreta.** A **Pilantragem** foi um estilo musical criado por Wilson Simonal e Carlos Imperial, no final da década de 1960.

e) **Incorreta.** O **Mangue Beat** é um movimento contracultura surgido na década de 1990 em Recife. O estilo mistura ritmos regionais, como o maracatu, com rock, hip hop, funk rock e música eletrônica. O movimento tem como principais críticas o abandono econômico-social do mangue, da desigualdade de Recife e tem como ícone o músico Chico Science, falecido vocalista da banda Nação Zumbi.

Gabarito: A

15. (CESGRANRIO/IBGE/2013 – TÉCNICO EM INFORMAÇÕES GEOGRÁFICAS E ESTATÍSTICAS A I)





Disponível em: <<http://observarte.zip.net/>> Acesso em: 05 set. 2013.

O cartaz apresentado anuncia um dos mais importantes acontecimentos das artes no Brasil no século XX. Um dos seus méritos foi apresentar uma geração de artistas cujas obras estavam sintonizadas com as vanguardas artísticas europeias e, ao mesmo tempo, identificadas com a realidade cultural brasileira.

A primeira fase do Movimento Modernista no Brasil, que se estende de 1922 a 1930, tem a proposta de marcar posição, de forma a buscar, especialmente na Literatura, a(o)

- a) inspiração na sintaxe clássica
- b) introdução de um vocabulário vago
- c) incentivo à pesquisa formal de linguagem
- d) caráter de consolidação dos valores do regionalismo
- e) rompimento radical com as estruturas estéticas do passado

COMENTÁRIOS:

A Semana de Arte Moderna de 1922, realizada em São Paulo, no Teatro Municipal, de 11 a 18 de fevereiro, teve como principal propósito renovar, transformar o contexto artístico e cultural urbano, tanto na literatura, quanto nas artes plásticas, na arquitetura e na música. Mudar, subverter uma produção artística, criar uma



arte essencialmente brasileira, embora em sintonia com as novas tendências europeias, essa era basicamente a intenção dos modernistas.

Durante uma semana a cidade entrou em plena ebulição cultural, sob a inspiração de novas linguagens, de experiências artísticas, de uma liberdade criadora sem igual, com o conseqüente rompimento com o passado. Novos conceitos foram difundidos e despontaram talentos como os de Mário e Oswald de Andrade na literatura, Víctor Brecheret na escultura e Anita Malfatti na pintura.

Gabarito: E

16. (CETRO/CREF 4/2013 – AGENTE ADMINISTRATIVO) Assinale a alternativa que apresenta o nome do primeiro canal brasileiro, surgido no ano de 1950, trazido ao ar por Assis Chateaubriand.

- a) TV Paulista.
- b) TV Record.
- c) TV Tupi.
- d) TV Itacolomi.
- e) TV Piratini.

COMENTÁRIOS:

A TV Tupi foi a primeira emissora de televisão do Brasil, da América do Sul e a quarta do mundo. Fundada em 1950, em São Paulo, por Assis Chateaubriand, fez parte do Grupo Diários Associados. A TV encerrou suas atividades em 1980, com a cassação de sua concessão, depois de uma turbulenta história de glórias e decadência, toda ela centralizada em Chateaubriand.

Gabarito: C

(CESPE/TRT 17ª REGIÃO/2009 – TÉCNICO JUDICIÁRIO) Com relação ao tema das artes e da literatura nacionais e suas vinculações históricas ao contexto brasileiro, julgue os itens a seguir.

17. A literatura no Brasil sempre ignora aspectos do desenvolvimento social e econômico do país.

COMENTÁRIOS:

“Sempre ignora”, palavras mágicas do Cespe com sentido de certeza, exclusividade, cujas questões invariavelmente estão erradas. A literatura brasileira não ignora os aspectos do desenvolvimento econômico e social do país. Inclusive, há períodos literários onde os aspectos socioeconômicos estão bastante presentes na literatura brasileira, como o Pré-Modernismo e o Modernismo.

Gabarito: Errado

18. O modernismo arquitetônico no Brasil não obteve projeção mundial ao ficar acanhado nos experimentos urbanos do país.



COMENTÁRIOS:

O modernismo arquitetônico brasileiro obteve projeção mundial, cuja principal referência é o Plano Piloto de Brasília. Extrapolou a área estrita da arquitetura ao influenciar e integrar-se com o paisagismo, e com as outras artes plásticas através do emprego de painéis de azulejo decorados, murais e esculturas.

Gabarito: Errado

19. A literatura brasileira e as artes em geral acompanharam as tendências mundiais, mas criaram versões próprias adaptadas ao seu meio.

COMENTÁRIOS:

A literatura brasileira e as artes em geral acompanharam e acompanham as tendências mundiais do mundo cultural. O Barroco, Arcadismo, Romantismo, Naturalismo, Pré-Modernismo, Modernismo, Pós-Modernismo e tantas outras tendências que surgiram na arte mundial se fizeram presentes e foram adaptadas ao meio e a realidade brasileira do seu período histórico. A cultura do Brasil é uma síntese da influência dos vários povos e etnias que formaram o povo brasileiro. Não existe uma cultura brasileira perfeitamente homogênea, e sim um mosaico de diferentes vertentes culturais que formam, juntas, a cultura do Brasil.

Gabarito: Certo

20. Carlos Drummond de Andrade deixou obra poética acessível e de grande utilidade à formação das artes e da cultura nacionais.

COMENTÁRIOS:

Carlos Drummond de Andrade tornou-se, pelo conjunto de sua obra, um dos principais representantes da literatura brasileira do século XX. Seus poemas abordam assuntos do dia a dia, e contam com uma boa dose de pessimismo e ironia diante da vida. Em suas obras, há ainda uma permanente ligação com o meio e obras politizadas. Além das poesias, escreveu diversas crônicas e contos. Os principais temas retratados nas poesias de Drummond são: conflito social, a família e os amigos, a existência humana, a visão sarcástica do mundo e das pessoas e as lembranças da terra natal. O escritor deixou uma obra poética acessível e de grande utilidade à formação das artes e da cultura nacionais.

Gabarito: Certo

21. Primeira mulher a entrar na Academia Brasileira de Letras, a escritora Rachel de Queiroz soube reagir à generalização que empobrece o entendimento da cultura nordestina e à avaliação medíocre do sertão.

COMENTÁRIOS:

Rachel de Queiroz foi a primeira mulher a ingressar na Academia Brasileira de Letras em 1977. Autora de destaque na ficção social nordestina, demonstra preocupação com questões sociais e sobressai-se no desenvolvimento do romance nordestino.

Gabarito: Certo



22. (CESPE/TRT 17ª REGIÃO/2009 – TÉCNICO JUDICIÁRIO) Com relação ao tema das artes e da literatura nacionais e suas vinculações históricas ao contexto brasileiro, julgue o item a seguir.

A escultura barroca de Aleijadinho tem modesta relevância para o estudo das artes sacras no país e até mesmo fora dele.

COMENTÁRIOS:

O barroco é um estilo artístico criado e produzido entre os séculos XVI e XVIII em toda a Europa. A manifestação mais intensa e profícua do barroco no Brasil aconteceu em Minas Gerais, no qual o estilo se apresenta de forma intensa, exuberante e densa. O maior conjunto arquitetônico do barroco no país está na antiga Vila Rica, hoje Ouro Preto, fundada em 1711 e, é desse pequeno município, Patrimônio Mundial pela UNESCO, o maior artista do barroco mineiro e nacional, Antônio Francisco Lisboa, o **Aleijadinho**, do qual se lembra em 2014 os 200 anos de sua morte.

Principais obras:

- Igreja de São Francisco de Assis (considerada uma das maiores realizações de Aleijadinho. Ele esculpiu, talhou e ornamentou a parte interna da igreja)
- Igreja de Nossa Senhora do Carmo.
- Os Passos da Paixão: são esculturas em madeira feitas por Aleijadinho e pintadas por Ataíde que representam o calvário de Cristo. Estão dispostas em 6 capelas ao longo do Morro do Maranhão, diante da Basílica do Senhor Bom Jesus de Matosinhos (em Congonhas do Campo). Na frente desta igreja estão as famosas estátuas d'Os Doze Profetas, esculpido em pedra-sabão, em tamanho natural.
- Igreja de São Francisco de Paula (imagem do padroeiro).

A escultura barroca de Aleijadinho tem grande relevância para o estudo das artes sacras no Brasil e em diversos países do mundo.

Gabarito: Errado



QUESTÕES COMENTADAS – CULTURA INTERNACIONAL - MULTIBANCAS

1. (IDECAN/PREFEITURA DE MARILÂNDIA/2016) Arte é a atividade humana ligada a manifestações de ordem estética, feita por artistas a partir de percepção, emoções, ideias, com o objetivo de estimular esse interesse de consciência em um ou mais espectadores, e cada obra de arte possui um significado único e diferente.

(Disponível em: <http://www.significados.com.br>.)

Da afirmativa anterior subentende-se que a arte possui, EXCETO:

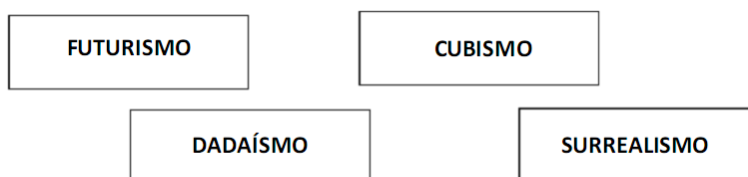
- A) Identidade.
- B) Globalização.
- C) Humanidade.
- D) Intencionalidade.

COMENTÁRIOS:

A arte e o artista são influenciados pelo mundo contemporâneo globalizado que vivemos. Mas a arte, é única, particular de cada artista ou grupo artístico. Não é uma produção global, globalizada e globalizante. A arte possui identidade, humanidade e intencionalidade.

Gabarito: B

2. (IDECAN/PREFEITURA DE MARILÂNDIA/2016)



Os quadros anteriores mostram nomes de movimentos

- A) políticos.
- B) artísticos.
- C) mecânicos.
- D) migratórios.



COMENTÁRIOS:

Os quadros mostram nomes de movimentos artísticos do século XX.

Gabarito: B

3. (IDECAN/PREFEITURA DE MARILÂNDIA/2016) Paixão

De vez em quando Deus me tira a poesia.
Olho pedra, vejo pedra mesmo.
O mundo, cheio de departamentos, não é
a bola bonita caminhando solta no espaço.
(Adélia Prado.)

Na poesia, quando a autora fala que “Deus tira a poesia”, ela quer dizer que:

- A) Deus não gosta de arte.
- B) Deus quer que vejamos a realidade.
- C) A poesia é uma forma de ver o mundo.
- D) É necessário maior conhecimento astronômico.

COMENTÁRIOS:

A autora quer dizer que a poesia é uma forma de ver o mundo. O poeta vê objetos, coisas, pessoas e se inspira, a sua imaginação o leva para além do que realmente vê. Transcreve isto, em forma de poesia. Exemplo é quando a poeta diz que olha pedra e vê pedra mesmo. Não enxerga, mentalmente e na imaginação, algo mais, algo além do que a pedra amorfa. Ali diz que Deus, de vez em quando, lhe tira a poesia. Ou seja, não se expressa a sua forma poética de ver o mundo.

Gabarito: C

4. (UEPA/SEFA PA/2013 – AUDITOR FISCAL DE RECEITAS ESTADUAIS) Leia o Texto para responder à questão.

Texto

“Uma jarra de vidro, uma cesta de palha, um vestido rústico de musselina, uma bandeja de madeira: objetos belos, não apesar de sua utilidade, mas por causa dela. Sua beleza lhes é inerente, como o perfume ou a cor das flores. É inseparável de sua função: são coisas belas porque são coisas úteis. O artesanato pertence a um mundo anterior à distinção entre o útil e o belo. Tal distinção é mais recente do que se imagina. Muitos dos artefatos que chegaram até nossos museus e coleções particulares pertenciam a um mundo no qual a beleza não era um valor isolado e autônomo. A sociedade era dividida em dois grandes domínios: o profano e o sagrado. Em ambos, a beleza era uma qualidade subordinada: no domínio do profano, subordinada à



utilidade do objeto em questão, e no domínio do sagrado, ao seu poder mágico. Um utensílio, um talismã, um símbolo: a beleza era a aura em torno do objeto, resultante – quase sempre involuntariamente – da relação secreta entre sua forma e seu significado. Forma: o modo como uma coisa é fabricada; significado: o propósito para o qual é fabricada.”

PAZ, Octavio. O Artesanato. Arte na Omaguás. Disponível em: <http://arteomaguas.wordpress.com/o-artista-e-o-artesao-feiraomaguas-artesanato-arte-feira-de-artesanato-norma-nacsapinheiros-passeios-merleau-ponty/o-artesanato-otavio-paz/> Acesso em 15/08/2013

O Texto, do escritor mexicano Octavio Paz, aborda a noção de artesanato num sentido que não a distancia da noção corrente de arte, enquanto criação associada ao universo estético. Artefatos, *souvenirs* e coleções vendidos nas feiras e nas praças das grandes cidades brasileiras, nos finais de semana, compõem esse universo, mas são normalmente considerados por seus consumidores como obras de valor inferior àquelas da “grande arte”. Isto se justifica:

- a) por corresponder a uma separação consagrada numa hierarquização social e cultural contemporânea que distingue, de forma arbitrária, a cultura erudita da cultura popular.
- b) porque o belo não pode depender da utilidade. Qualquer obra com intenção artística e característica funcional perde estatuto de arte e fica relegada ao campo do artesanato.
- c) por ser a grande arte dotada de elevação estilística que a separa de modo abissal das criações artesanais, que são produções realizadas por não especialistas sem qualquer formação acadêmica.
- d) porque as obras artesanais têm somente um valor cultural e antropológico. Isso explica a existência de coleções em museus de artefatos de civilizações antigas que são apresentadas como sua cultura.
- e) pelo sentido sagrado, a aura transcendental de objetos artesanais que os remetem ao domínio da experiência religiosa, separando os do universo mundano e antropocêntrico das artes.

COMENTÁRIOS:

A cultura popular seria aquela que é produto de um saber não institucionalizado, que não se aprende em colégios ou academias. Exemplos da cultura popular são o carnaval, frevo, samba, artesanato e a literatura de cordel. A cultura erudita, por outro lado, pressupõe uma elaboração maior e por isso uma institucionalização do saber. Isto é: o domínio da cultura erudita não passa pela tradição familiar, mas por academias, bibliotecas, conservatórios musicais, etc., que selecionam o material e impõem regras rígidas e complexas elaborações. Bach, na música, e Ingres, na pintura, são exemplos disso.

A cultura popular e cultura erudita podem ter a mesma sofisticação, mas na sociedade não possuem o mesmo status social. Cultura erudita seria aquela legitimada e transmitida pelas escolas e outras instituições. É importante ressaltar que os produtores da cultura popular não têm consciência de que o que fazem têm um ou outro nome. Já os produtores de cultura erudita têm consciência de que o que fazem tem essa denominação e é assunto de discussões.

Geralmente, os intelectuais que discutem os conceitos de cultura popular e cultura erudita, são agentes da cultura erudita que estudam e pesquisam sobre a cultura popular. Nos seus estudos chegam a essas definições e a separação e hierarquização entre essas culturas.



Gabarito: A

5. (CETRO/CREF 4/2013 – AGENTE ADMINISTRATIVO) Conjunto de estilos de dança que se originou nos EUA, em 1929, época da quebra da bolsa de Nova York e da grande crise econômica. Músicos e dançarinos dos cabarés americanos urbanos, desempregados como consequência da crise, passaram a realizar suas *performances*. Mais do que um estilo de dança influenciado por vários ritmos, essa dança sempre foi associada à cultura e à identidade negra, sobretudo a partir da década de 1970. Com base nisso, é correto afirmar que se trata da dança

- a) de salão.
- b) moderna.
- c) de rua.
- d) contemporânea.
- e) capoeira.

COMENTÁRIOS:

A dança de rua originou-se nos Estados Unidos, em 1929, época da quebra da bolsa de Nova York e da grande crise econômica. Músicos e dançarinos dos cabarés americanos urbanos, desempregados como consequência da crise, passaram a realizar suas performances nas ruas. Mais do que um estilo de dança influenciado por vários ritmos, a dança de rua sempre foi associada à cultura e a identidade negra, sobretudo a partir da década de 1970.

Gabarito: C

6. (CETRO/CREF 4/2013 – AGENTE ADMINISTRATIVO) Ícone do cinema mudo, foi ator, diretor e produtor. O personagem mescla a comédia sentimental, a sátira social e o “patético” da natureza humana. O personagem que mais marcou sua carreira foi “O Vagabundo”, oprimido e engraçado. Esse personagem denunciava as injustiças sociais. As informações acima se referem a

- a) Buster Keaton.
- b) Douglas Fairbanks.
- c) Georges Méliès.
- d) Louis Lumière.
- e) Charles Chaplin.

COMENTÁRIOS:

Charles Chaplin, cineasta e ator inglês, foi um dos maiores comediantes do cinema. Em 1915 cria na comédia *O Vagabundo* seu mais famoso personagem: o vagabundo **Carlitos**, de bengala, chapéu-de-coco e calças



largas. Alguns de seus filmes são considerados obras-primas da cinematografia mundial, como *O Garoto* (1921), ainda no tempo do cinema mudo. Depois do advento do cinema sonoro, realiza obras-primas como *Luzes da Cidade* (1931), em que Carlitos se apaixona por uma florista cega; *Tempos Modernos* (1936), que satiriza a mecanização da modernidade; e *O Grande Ditador* (1940), em que toma partido contra Hitler e contra as perseguições raciais na Europa.

Gabarito: E

7. (CETRO/CREF 4/2013 – ATENDENTE DA UNIDADE MÓVEL) Inspirada e guiada pela religião, essa arquitetura alcançou sua expressão mais perfeita na construção de igrejas; e foi precisamente nas edificações religiosas que se manifestaram as diversas influências absorvidas pela sua arte. Houve um afastamento da tradição greco-romana, sendo criadas, sob influência da arquitetura persa, novas formas de templos, diferentes dos ocidentais. Um exemplo dessa arquitetura é a Catedral de Santa Sofia. As características acima dizem respeito à arquitetura

- a) Gótica.
- b) Bizantina.
- c) Islâmica.
- d) Modernista.
- e) Renascentista.

COMENTÁRIOS:

A arquitetura bizantina possui inspiração helenística e orientalista. Suas basílicas são célebres pelas linhas curvas, a exemplo da Igreja de Santa Sofia, em Constantinopla (atual Istambul). A célebre igreja de Santa Sofia (532/37), dominada por seu grande domo, foi um modelo para as obras cristãs posteriores e para os arquitetos turcos. Outras igrejas bizantinas podem ser vistas em Ravena, Itália e em Dafne, perto de Atenas. A Catedral de São Marcos, em Veneza, é inspirada na arte bizantina.

Gabarito: B



LISTA DE QUESTÕES – CULTURA BRASILEIRA – MULTIBANCAS

1. (CEBRASPE/FUB/2022) Julgue o item subsequente, levando em consideração temas diversos da atualidade.

Em 2022, comemora-se o centenário da Semana de Arte Moderna, evento de relevante impacto na cultura e na produção cultural do Brasil.

(QUADRIX/CFT/2021 – ASSISTENTE ADMINISTRATIVO)



Internet: <<http://exerciteopensamento.blogspot.com>>.

No que se refere à cultura brasileira e às suas multiplicidades, julgue os itens a seguir.

2. A diversidade regional é característica predominante na cultura brasileira, mas a falta de conhecimento e aceitação das diferenças por uma parcela da população leva tal multiplicidade a diversos tipos de preconceito.
3. O conjunto de tradições, de manifestações culturais, de costumes, da culinária e da religião que compõe a cultura brasileira contemporânea é o resultado da miscigenação entre o indígena, o colonizador europeu e os povos africanos.
4. A fluidez da comunicação na atualidade influencia a cultura moderna, já que a conectividade entre os povos gera similaridades em alguns princípios sociais da sociedade contemporânea.
5. O grafite, a charge, o funk e as músicas bregas e caipiras são culturas periféricas, de cunho popular e subordinadas à cultura brasileira mais requintada.



6. A desigualdade social restringe o acesso à cultura e dificulta a possibilidade de elevação do nível cultural, pois, para os materialmente desabastados, a falta de recursos é um importante fator restritivo.

7. (CONSULPLAN/PREFEITURA DE CASCAVEL/2014) Observe as gravuras.



Tendo em vista o conceito de “cultura” e sua classificação em cultura material e imaterial, marque V para as afirmativas verdadeiras e F para as falsas.

() Nas figuras, tem-se a preponderância de elementos da cultura imaterial, ou seja, ligados às tradições e costumes.

() Os elementos culturais em questão são resultados da confluência de várias culturas diferentes.

() Não há, nas figuras em destaque, referência à cultura material.

() A cultura brasileira pode ser vista como o resultado do predomínio lusitano, tanto na miscigenação quanto na colonização.

() A cultura tem que ser vista numa perspectiva de identidade coletiva, como resultado da interação de pessoas e povos.

A sequência está correta em

a) V, V, V, F, F.

b) V, V, F, F, V.

c) V, V, F, V, F.

d) V, F, V, F, V.

e) F, F, F, V, V.

8. (CESGRANRIO/IBGE/2014 – AGENTE DE PESQUISAS E MAPEAMENTO) SONETO DE FIDELIDADE

De tudo, ao meu amor serei atento
Antes, e com tal zelo, e sempre, e tanto
Que mesmo em face do maior encanto
Dele se encante mais meu pensamento

Quero vivê-lo em cada vão momento
E em seu louvor hei de espalhar meu canto
E rir meu riso e derramar meu pranto
Ao seu pesar ou seu contentamento

E assim quando mais tarde me procure
Quem sabe a morte, angústia de quem vive
Quem sabe a solidão, fim de quem ama

Eu possa me dizer do amor (que tive):
Que não seja imortal, posto que é chama
Mas que seja infinito enquanto dure

Escrito por um dos mais consagrados poetas brasileiros, nascido no Rio de Janeiro, onde se inspirou para compor inúmeras canções e que completaria seu centenário em 2013, o soneto acima é de autoria de

a) Carlos Drummond de Andrade

b) Tom Jobim

c) João Cabral de Melo Neto

d) Manuel Bandeira

e) Vinicius de Moraes

9. (CESGRANRIO/IBGE/2014 – AGENTE DE PESQUISAS E MAPEAMENTO) Observe a imagem abaixo:





Disponível em: www.sossegodapampulha.com.br/wp_content/uploads/2012/05/igreja-da-pampulha2.jpg. Acesso em: 20 dez. 2013.

A Figura acima mostra a Igreja São Francisco de Assis ou Igreja da Pampulha, uma das obras do arquiteto Oscar Niemeyer.

Essa obra arquitetônica encontra-se em

- a) Rio de Janeiro
- b) Brasília
- c) Belo Horizonte
- d) São Paulo
- e) Florianópolis

10. (UEPA/SEFA PA/2013 – AUDITOR FISCAL DE RECEITAS ESTADUAIS) O surgimento da canção de protesto em fins dos anos 1960 e seu sucesso televisivo nos Festivais de Música Popular expressava uma tendência da consciência política de parte das camadas médias urbanas brasileiras que se opunham ao fim das liberdades democráticas no regime militar. Por outro lado, o concorrente sucesso televisivo de canções de perfil bossanovista no universo da MPB, sem qualquer engajamento político, significava:

- a) a permanência do papel alienante das canções populares urbanas, que procuravam desviar-se dos temas políticos do momento.
- b) a existência de uma vertente lírica da canção brasileira associada às autênticas criações musicais das camadas populares urbanas.
- c) a invasão e a cooptação cultural norte-americana promovida pela difusão do Jazz, que se impôs ao samba de morro e produziu a Bossa Nova.
- d) a variedade do espectro musical da MPB e o desdobramento da experimentação com a canção popular promovida pela Bossa Nova.



e) o sucesso deste tipo de canção entre as massas populares urbanas, que compunham a maior parte da audiência dos festivais televisivos de música brasileira.

11. (UEPA/SEFA PA/2013 – AUDITOR FISCAL DE RECEITAS ESTADUAIS) O projeto estético modernista desenvolvido por artistas da vanguarda brasileira dos anos 1920 e 1930 propugnava a busca de uma linguagem nacional para as artes, numa espécie de emancipação estética relativa aos padrões clássicos europeus consagrados no século XIX. De todo modo, o conteúdo brasileiro das obras da geração modernista esteve, em certa medida, atrelado à(s):

- a) tradição artística do século anterior, como expressa nas obras de Carlos Gomes e de Machado de Assis.
- b) produções artísticas de Mário de Andrade, personagem catalisador e orientador da produção dos integrantes do movimento.
- c) atuação de vanguardas literárias regionais brasileiras, que orientaram o perfil inicial do projeto modernista.
- d) pesquisa folclórica das manifestações da cultura brasileira, demarcando incisivamente a “brasilidade” da arte nacional em contraste com a europeia e suas estéticas.
- e) influências das vanguardas europeias das primeiras décadas do século XX e ao desenvolvimento de escolas estéticas e de pensamento como o futurismo e a psicanálise.

12. (FGV/SUDENE/2013 – ANALISTA TÉCNICO ADMINISTRATIVO)



As xilogravuras acima são ilustrações de folhetos de cordel. Elas capturam cenas emblemáticas de festas populares que fazem parte dos calendários festivo e cultural brasileiro.

Assinale a sequência que relaciona corretamente cada imagem à festa correspondente.

- a) 1- Folia de Reis; 2- Maracatu; 3- São João; 4- Bumba-meu-boi.
- b) 1- Bumba-meu-boi; 2- Maracatu; 3- São João; 4-Folia de Reis.
- c) 1- Bumba-meu-boi; 2-Folia de Reis; 3- São João; 4-Maracatu.
- d) 1- Maracatu; 2-Folia de Reis; 3- São João; 4- Bumba-meu-boi.
- e) 1- Bumba-meu-boi; 2-São João; 3-Folia de Reis; 4-Maracatu.

13. (IESES/TJ RS/2013 – NOTÁRIO E REGISTRADOR) Em sua última edição de 2011, a Revista Veja divulgou uma lista com 50 personalidades que marcaram o Brasil. Quem foi apontado por Ronaldo Vainfas, como um grande historiador brasileiro – autor do livro “Raízes do Brasil” (1936), uma crítica à herança ibérica na formação da cultura nacional?

- a) Anísio Teixeira
- b) Miguel Reale
- c) Sergio Buarque de Holanda
- d) Gilberto Freire

14. (CETRO/CREF 4/2013 – AGENTE ADMINISTRATIVO) Este movimento cultural brasileiro surgiu na década de 60, a partir de um programa televisivo, que mesclava música, comportamento e moda. O estilo musical ligava-se basicamente ao *rock* americano e inglês, mas de uma forma mais romântica. Seus maiores representantes são Roberto Carlos, Erasmo Carlos e Wanderléa. O aparecimento desses artistas acabou formando o movimento chamado de

- a) Jovem Guarda.
- b) Tropicalismo.
- c) Clube da Esquina.
- d) Pilantragem.
- e) Mangue Beat.

15. (CESGRANRIO/IBGE/2013 – TÉCNICO EM INFORMAÇÕES GEOGRÁFICAS E ESTATÍSTICAS A I)





Disponível em: <<http://observarte.zip.net/>> Acesso em: 05 set. 2013.

O cartaz apresentado anuncia um dos mais importantes acontecimentos das artes no Brasil no século XX. Um dos seus méritos foi apresentar uma geração de artistas cujas obras estavam sintonizadas com as vanguardas artísticas europeias e, ao mesmo tempo, identificadas com a realidade cultural brasileira.

A primeira fase do Movimento Modernista no Brasil, que se estende de 1922 a 1930, tem a proposta de marcar posição, de forma a buscar, especialmente na Literatura, a(o)

- a) inspiração na sintaxe clássica
- b) introdução de um vocabulário vago
- c) incentivo à pesquisa formal de linguagem
- d) caráter de consolidação dos valores do regionalismo
- e) rompimento radical com as estruturas estéticas do passado

16. (CETRO/CREF 4/2013 – AGENTE ADMINISTRATIVO) Assinale a alternativa que apresenta o nome do primeiro canal brasileiro, surgido no ano de 1950, trazido ao ar por Assis Chateaubriand.

- a) TV Paulista.



- b) TV Record.
- c) TV Tupi.
- d) TV Itacolomi.
- e) TV Piratini.

(CESPE/TRT 17ª REGIÃO/2009 – TÉCNICO JUDICIÁRIO) Com relação ao tema das artes e da literatura nacionais e suas vinculações históricas ao contexto brasileiro, julgue os itens a seguir.

- 17. A literatura no Brasil sempre ignora aspectos do desenvolvimento social e econômico do país.
- 18. O modernismo arquitetônico no Brasil não obteve projeção mundial ao ficar acanhado nos experimentos urbanos do país.
- 19. A literatura brasileira e as artes em geral acompanharam as tendências mundiais, mas criaram versões próprias adaptadas ao seu meio.
- 20. Carlos Drummond de Andrade deixou obra poética acessível e de grande utilidade à formação das artes e da cultura nacionais.
- 21. Primeira mulher a entrar na Academia Brasileira de Letras, a escritora Rachel de Queiroz soube reagir à generalização que empobrece o entendimento da cultura nordestina e à avaliação medíocre do sertão.
- 22. (CESPE/TRT 17ª REGIÃO/2009 – TÉCNICO JUDICIÁRIO) Com relação ao tema das artes e da literatura nacionais e suas vinculações históricas ao contexto brasileiro, julgue o item a seguir.

A escultura barroca de Aleijadinho tem modesta relevância para o estudo das artes sacras no país e até mesmo fora dele.

GABARITO



- | | | |
|------|-------|-------|
| 1. C | 9. C | 17. E |
| 2. C | 10. D | 18. E |
| 3. E | 11. E | 19. C |
| 4. C | 12. B | 20. C |
| 5. E | 13. C | 21. C |
| 6. C | 14. A | 22. E |
| 7. B | 15. E | |
| 8. E | 16. C | |



LISTA DE QUESTÕES – CULTURA INTERNACIONAL – MULTIBANCAS

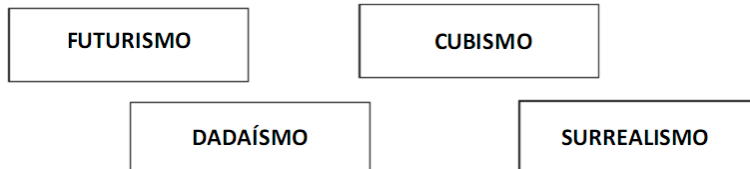
1. (IDECAN/PREFEITURA DE MARILÂNDIA/2016) Arte é a atividade humana ligada a manifestações de ordem estética, feita por artistas a partir de percepção, emoções, ideias, com o objetivo de estimular esse interesse de consciência em um ou mais espectadores, e cada obra de arte possui um significado único e diferente.

(Disponível em: <http://www.significados.com.br>.)

Da afirmativa anterior subentende-se que a arte possui, EXCETO:

- A) Identidade.
- B) Globalização.
- C) Humanidade.
- D) Intencionalidade.

2. (IDECAN/PREFEITURA DE MARILÂNDIA/2016)



Os quadros anteriores mostram nomes de movimentos

- A) políticos.
- B) artísticos.
- C) mecânicos.
- D) migratórios.

3. (IDECAN/PREFEITURA DE MARILÂNDIA/2016) Paixão

De vez em quando Deus me tira a poesia.
Olho pedra, vejo pedra mesmo.
O mundo, cheio de departamentos, não é
a bola bonita caminhando solta no espaço.



(Adélia Prado.)

Na poesia, quando a autora fala que “Deus tira a poesia”, ela quer dizer que:

- A) Deus não gosta de arte.
- B) Deus quer que vejamos a realidade.
- C) A poesia é uma forma de ver o mundo.
- D) É necessário maior conhecimento astronômico.

4. (UEPA/SEFA PA/2013 – AUDITOR FISCAL DE RECEITAS ESTADUAIS) Leia o Texto para responder à questão.

Texto

“Uma jarra de vidro, uma cesta de palha, um vestido rústico de musselina, uma bandeja de madeira: objetos belos, não apesar de sua utilidade, mas por causa dela. Sua beleza lhes é inerente, como o perfume ou a cor das flores. É inseparável de sua função: são coisas belas porque são coisas úteis. O artesanato pertence a um mundo anterior à distinção entre o útil e o belo. Tal distinção é mais recente do que se imagina. Muitos dos artefatos que chegaram até nossos museus e coleções particulares pertenciam a um mundo no qual a beleza não era um valor isolado e autônomo. A sociedade era dividida em dois grandes domínios: o profano e o sagrado. Em ambos, a beleza era uma qualidade subordinada: no domínio do profano, subordinada à utilidade do objeto em questão, e no domínio do sagrado, ao seu poder mágico. Um utensílio, um talismã, um símbolo: a beleza era a aura em torno do objeto, resultante – quase sempre involuntariamente – da relação secreta entre sua forma e seu significado. Forma: o modo como uma coisa é fabricada; significado: o propósito para o qual é fabricada.”

PAZ, Octavio. O Artesanato. Arte na Omaguás. Disponível em: <http://arteomaguas.wordpress.com/o-artista-e-o-artesao-feiraomaguas-artesanato-arte-feira-de-artesanato-norma-nacsapinheiros-passeios-merleau-ponty/o-artesanato-otavio-paz/Acesso em 15/08/2013>

O Texto, do escritor mexicano Octavio Paz, aborda a noção de artesanato num sentido que não a distancia da noção corrente de arte, enquanto criação associada ao universo estético. Artefatos, *souvenirs* e coleções vendidos nas feiras e nas praças das grandes cidades brasileiras, nos finais de semana, compõem esse universo, mas são normalmente considerados por seus consumidores como obras de valor inferior àquelas da “grande arte”. Isto se justifica:

- a) por corresponder a uma separação consagrada numa hierarquização social e cultural contemporânea que distingue, de forma arbitrária, a cultura erudita da cultura popular.
- b) porque o belo não pode depender da utilidade. Qualquer obra com intenção artística e característica funcional perde estatuto de arte e fica relegada ao campo do artesanato.
- c) por ser a grande arte dotada de elevação estilística que a separa de modo abissal das criações artesanais, que são produções realizadas por não especialistas sem qualquer formação acadêmica.



d) porque as obras artesanais têm somente um valor cultural e antropológico. Isso explica a existência de coleções em museus de artefatos de civilizações antigas que são apresentadas como sua cultura.

e) pelo sentido sagrado, a aura transcendental de objetos artesanais que os remetem ao domínio da experiência religiosa, separando os do universo mundano e antropocêntrico das artes.

5. (CETRO/CREFA 4/2013 – AGENTE ADMINISTRATIVO) Conjunto de estilos de dança que se originou nos EUA, em 1929, época da quebra da bolsa de Nova York e da grande crise econômica. Músicos e dançarinos dos cabarés americanos urbanos, desempregados como consequência da crise, passaram a realizar suas *performances*. Mais do que um estilo de dança influenciado por vários ritmos, essa dança sempre foi associada à cultura e à identidade negra, sobretudo a partir da década de 1970. Com base nisso, é correto afirmar que se trata da dança

a) de salão.

b) moderna.

c) de rua.

d) contemporânea.

e) capoeira.

6. (CETRO/CREFA 4/2013 – AGENTE ADMINISTRATIVO) Ícone do cinema mudo, foi ator, diretor e produtor. O personagem mescla a comédia sentimental, a sátira social e o “patético” da natureza humana. O personagem que mais marcou sua carreira foi “O Vagabundo”, oprimido e engraçado. Esse personagem denunciava as injustiças sociais. As informações acima se referem a

a) Buster Keaton.

b) Douglas Fairbanks.

c) Georges Méliès.

d) Louis Lumière.

e) Charles Chaplin.

7. (CETRO/CREFA 4/2013 – ATENDENTE DA UNIDADE MÓVEL) Inspirada e guiada pela religião, essa arquitetura alcançou sua expressão mais perfeita na construção de igrejas; e foi precisamente nas edificações religiosas que se manifestaram as diversas influências absorvidas pela sua arte. Houve um afastamento da tradição greco-romana, sendo criadas, sob influência da arquitetura persa, novas formas de templos, diferentes dos ocidentais. Um exemplo dessa arquitetura é a Catedral de Santa Sofia. As características acima dizem respeito à arquitetura

a) Gótica.

b) Bizantina.



- c) Islâmica.
- d) Modernista.
- e) Renascentista.

GABARITO



- 1. B
- 2. B
- 3. C

- 4. A
- 5. C
- 6. E

- 7. B



ÉTICA E CIDADANIA

A palavra ética origina-se do grego *ethos*, significando **modo de ser ou caráter**. A ética deve ser entendida como a **ciência da conduta humana perante o ser e seus semelhantes**. É difícil estabelecer um único significado para a palavra ética. Algumas definições contribuem para compreender o que significa ética:

- Ética é a ciência do comportamento adequado dos homens em sociedade, em consonância com a virtude.
- A ética é uma disciplina normativa, não por criar normas, mas por descobri-las e elucidá-las. Seu conteúdo mostra às pessoas os valores e princípios que devem nortear sua existência.
- Ética é a doutrina do valor do bem e da conduta humana que tem por objetivo realizar este valor.
- A ética é justamente saber discernir entre o devido e o indevido, o bom e o mau, o bem e o mal, o correto e o incorreto, o certo e o errado.
- A ética nos fornece as regras fundamentais da conduta humana. Delimita o exercício da atividade livre. Fixa os usos e abusos da liberdade.
- Ética é a doutrina do valor do bem e da conduta humana que o visa realizar.

A ética tem como características a **imutabilidade** e a **validade universal**. Quanto a sua imutabilidade, a mesma ética de séculos atrás está vigente hoje, por exemplo, respeitar ao próximo nunca será considerada uma atitude antiética. A sua validade universal, delimita o agir humano para todos, não há uma ética conforme cada época, cultura ou civilização. A ética é uma só, válida para todos, de forma imutável e definitiva, por mais que possam surgir novas perspectivas a respeito de sua aplicação prática.

As leis éticas dirigem o comportamento humano e delimitam os abusos à liberdade, estabelecendo deveres e direitos de ordem moral, sendo exemplos dessas leis o respeito à dignidade das pessoas e aos princípios do direito natural, a exigência de solidariedade e a prática da justiça.

Na Grécia antiga, o conceito de ética aparece sempre ligado ao de virtude. Na Idade Média, os ideais éticos se identificaram com os religiosos. Com o Iluminismo, é a razão que determina o agir ético, mais do que não fazer ao outro o que não gostaria que fosse feito a você, a máxima prescreve que o homem deve agir de tal modo que cada uma de suas atitudes reflita aquilo que se espera de todas as pessoas que vivem em sociedade. Com o término da Segunda Guerra Mundial, reforçou-se a dimensão coletiva da ética. Com a Declaração Universal de Direitos Humanos de 1948, a atitude ética deve ser considerada de maneira coletiva. Atualmente é quase universal a retomada dos estudos e exigências da ética na vida pública e na vida privada, na administração e nos negócios, nas empresas e na escola, no esporte, na política, na justiça, na comunicação.

Há uma divisão entre a moral e o Direito, que constituem dimensões do conceito de ética, embora a tendência seja que cada vez mais estas dimensões se juntem, caminhando lado a lado. Uma das vertentes da ética é a moral, e a outra é o Direito.

Ética e moral são conceitos interligados, mas não são sinônimos. A primeira é mais abrangente que a segunda, porque pode abarcar outros elementos, como o Direito e os costumes. Moral é uma parte da ética,



entendida como a prática, como a realização efetiva e cotidiana dos valores. Ética é entendida como uma “filosofia moral”, ou seja, como a reflexão sobre a moral.

Todas as regras éticas são passíveis de alguma sanção, sendo que as incorporadas pelo Direito aceitam a coação, que é a sanção aplicada pelo Estado. Sob o aspecto do conteúdo, muitas das regras jurídicas são compostas por postulados morais, isto é, envolvem os mesmos valores e exteriorizam os mesmos princípios.

A norma ética precisa estar viva na consciência dos homens, presente em todas as esferas da vida de um indivíduo e da sociedade que ele compõe. A obediência à ética também deve-se dar no âmbito da atuação profissional, preservar valores pessoais e institucionais, principalmente se tal atuação se der no âmbito estatal.

A origem da palavra **cidadania** vem do latim *civitas*, que quer dizer cidade, usada na Roma antiga para indicar a situação política de uma pessoa e os direitos que essa pessoa tinha ou podia exercer.

Embora a palavra cidadania possa ter vários sentidos, atualmente, sua essência é única e significa o **direito de viver com dignidade e liberdade**. A cidadania tem como objetivo a priorização do homem na sociedade.

Segundo Dalmo Dallari (2008), "*a cidadania expressa um conjunto de direitos que dá à pessoa a possibilidade de participar ativamente da vida e do governo de seu povo. Quem não tem cidadania está marginalizado ou excluído da vida social e da tomada de decisões, ficando numa posição de inferioridade dentro do grupo social*".

A cidadania é a condição de ser e de agir do cidadão, refere-se às relações entre os cidadãos. Ser cidadão é ser chamado à responsabilidade para lutar pela defesa da vida com qualidade e do bem-estar geral.

A cidadania está diretamente vinculada aos direitos humanos, uma conquista da humanidade que teve seu reconhecimento formal com a Declaração Universal dos Direitos Humanos, aprovada em 1948 pela Organização das Nações Unidas (ONU). Entre os princípios: "*Todos os seres humanos nascem livres e iguais em dignidade e direitos*"; e "*Todo ser humano tem direito à alimentação, vestuário, habitação e cuidados médicos*".

O conceito de cidadania abrange três dimensões: **política, civil e social**. Cidadania é o exercício dos direitos e deveres civis, políticos e sociais estabelecidos na constituição.

Cidadão, segundo o dicionário Aurélio, é aquele indivíduo no gozo dos direitos civis e políticos de um Estado, ou no desempenho de seus deveres para com este, ou habitante da cidade, indivíduo, homem, sujeito. Os direitos e deveres de um cidadão devem andar sempre juntos, uma vez que ao cumprirmos nossas obrigações permitimos que o outro exerça também seus direitos.

Exercer a cidadania é ter consciência de seus direitos e obrigações e lutar para que sejam colocados em prática. Exercer a cidadania é estar em pleno gozo das disposições constitucionais.

Nos termos da Constituição de 1988, de acordo com o art. 1º, inciso II, a cidadania é um dos fundamentos da República Federativa do Brasil, conforme a seguir:



Constituição Federal de 1988

Art. 1º A República Federativa do Brasil, formada pela união indissolúvel dos Estados e Municípios e do Distrito Federal, constitui-se em Estado Democrático de Direito e tem como fundamentos:

I - A soberania;

II - A cidadania;

III - A dignidade da pessoa humana;

IV - Os valores sociais do trabalho e da livre iniciativa;

V - O pluralismo político.



A cidadania comporta, genericamente, três dimensões: Civil, Política e Social.

Civil: direitos inerentes à liberdade individual, liberdade de expressão e de pensamento; direito de propriedade e direito à justiça;

Política: direito de participação no exercício do poder político, como eleito ou eleitor, no conjunto das instituições de autoridade pública;

Social: conjunto de direitos relativos ao bem-estar econômico e social, desde a segurança até o direito de partilhar do nível de vida segundo os padrões prevalentes na sociedade.

Segundo Covre (1995), a prática da cidadania pode ser a estratégia, por excelência, para a construção de uma sociedade melhor. Não basta o desenvolvimento tecnológico e científico para que a sociedade fique melhor, é preciso haver igualdade e justiça social, é preciso haver respeito à condição humana dos indivíduos.

Mas esse é apenas um dos lados da moeda. Cidadania pressupõe também deveres. O cidadão tem de ser cômico das suas responsabilidades como parte integrante de um grande e complexo organismo que é a coletividade, a nação, o Estado que, para bom funcionamento, todos têm de dar sua parcela de contribuição.

Neste sentido, podemos pensar a cidadania também como um dever. Dever para com o próximo, dever com a minha comunidade, dever com o meu país. Exercer a cidadania significa ser possuidor de direitos, mas também assumir deveres, significa participar da vida comunitária e política da sua cidade, do seu estado e do seu país.

Existem direitos formais (civis, políticos e sociais) que nem sempre se realizam como direitos reais. A cidadania nem sempre é uma realidade efetiva e nem sempre é para todos. A efetivação da cidadania e a consciência coletiva dessa condição são indicadores do desenvolvimento moral e ético de uma sociedade.



Para a ética, não basta que exista um elenco de princípios fundamentais e direitos definidos nas Constituições. O desafio ético para uma nação é o de universalizar os direitos reais, permitindo a todos cidadania plena, cotidiana e ativa.

É preciso fundar a responsabilidade individual numa ética construída e instituída tendo em mira o bem comum, visando à formação do sujeito ético. Desse modo, será possível a síntese entre ética e cidadania, na qual possa prevalecer muito mais uma ética de princípios do que uma ética do dever. A responsabilidade individual deverá ser portadora de princípios e não de interesses particulares.



QUESTÕES COMENTADAS - ÉTICA E CIDADANIA - MULTIBANCAS

1. (FAURGS/SES-RS/2022) O conceito de cidadania envolve a aquisição e o exercício de direitos civis, políticos e sociais, assim como dos deveres inerentes ao pertencimento a uma comunidade política. Nesse contexto, NÃO se pode afirmar que

- A) manifestações de rua e mobilizações populares são um exemplo de exercício de cidadania.
- B) o exercício da cidadania pressupõe a transparência do Estado, por meio da publicação de dados e informações de interesse público e da prestação de contas sobre as ações do poder público.
- C) a cidadania representa um conjunto de direitos que permite que a pessoa, entre outras coisas, possa participar ativamente da condução da gestão pública.
- D) entre os direitos e os deveres inerentes ao exercício da cidadania está o de resistência ao recolhimento de impostos, pelo caráter abusivo que geralmente caracteriza a arrecadação pelo fisco para a manutenção das estruturas do Estado.
- E) o exercício dos direitos sociais, como o acesso à saúde e à educação, é imprescindível para que se reconheça a cidadania, tal como conceituada nas democracias contemporâneas.

COMENTÁRIOS:

a) Correto. As manifestações de rua e mobilizações populares são formas legítimas de exercício da cidadania, pois demonstram a participação ativa dos cidadãos na vida política e social do país.

b) Correto. A transparência do Estado é fundamental para o exercício pleno da cidadania, pois permite que os cidadãos tenham acesso às informações necessárias para tomar decisões informadas e participar ativamente da vida política.

c) Correto. Um dos aspectos fundamentais da cidadania é o direito de participar ativamente da vida política, incluindo a condução da gestão pública por meio do voto, da participação em processos de consulta popular e outras formas de engajamento cívico.

d) Incorreto. O dever de pagar impostos é uma das obrigações básicas dos cidadãos em uma sociedade democrática. Os impostos são fundamentais para financiar as atividades do Estado, incluindo a prestação de serviços públicos e a manutenção das estruturas governamentais, que por sua vez, contribuem para a manutenção do Estado Democrático de Direito e da efetivação da cidadania.

e) Correto. Os direitos sociais, como acesso à saúde, educação, moradia e assistência social, são componentes essenciais da cidadania nas democracias contemporâneas. Eles garantem condições mínimas de dignidade e igualdade para todos os cidadãos.

Gabarito: D



2. (FADESP/BANPARÁ/2018) Neste ano de 2018, a Constituição Federal brasileira completa trinta anos de existência. Elaborada por uma Assembleia Nacional Constituinte instalada em 1987, no ocaso da Ditadura Militar, coordenada pelo deputado Ulysses Guimarães, a Carta Magna ainda hoje é lembrada pelo seu apelido de Constituição

- a) Transformadora.
- b) Transitiva.
- c) Cidadã.
- d) Civil.
- e) Antiautoritária.

COMENTÁRIOS:

O ano de 2018 marca o trigésimo aniversário da atual Constituição da República Federativa do Brasil que foi promulgada em 5 de outubro de 1988 e tornou-se o principal símbolo do processo de redemocratização nacional. Essa Constituição foi definida por Ulysses Guimarães como “Constituição cidadã” porque ampliou os direitos e as garantias individuais em várias áreas. Além disso, contou na sua elaboração com a participação efetiva da população.

Gabarito: C

3. (UERJ/2015) O professor Alcino Salazar, secretário de justiça da Guanabara, declarou a O Globo que a extensão do voto ao analfabeto é perigosa concessão aos inimigos do regime democrático, fundado na verdade e na pureza do princípio da representação.

Adaptado de O Globo, 21/02/1964.

Em sua mensagem ao Congresso Nacional em 15 de março de 1964, o presidente João Goulart escreveu: “Outra discriminação inaceitável atinge milhões de cidadãos que, embora investidos de todas as responsabilidades (...) e integrados à força de trabalho, com seu contingente mais numeroso, são impedidos de votar por serem analfabetos”.

ALEIXO, J. C. B; KRAMER, Paulo. Os analfabetos e o voto: da conquista da alistabilidade ao desafio da elegibilidade. Senatus, Brasília, outubro/2000.

As declarações do professor Alcino Salazar e do presidente João Goulart foram feitas em um momento de polarização na sociedade brasileira, que culminou na instauração do regime autoritário em 31 de março de 1964.

Ambas as declarações expressavam, naquele momento, visões antagônicas relacionadas à seguinte dimensão da cidadania:

- a) direitos políticos



- b) reparações étnicas
- c) benefícios sociais
- d) oportunidades econômicas

COMENTÁRIOS:

A cidadania corresponde ao direito de participação política, compreendendo os direitos políticos do cidadão, que inclui o direito ao voto e de representação política.

Gabarito: A

4. (UNEB/2014)



Com base na análise da charge e nos conhecimentos sobre a organização do espaço mundial e brasileiro e a questão da cidadania, marque V nas afirmativas verdadeiras e F, nas falsas.

- () O sistema econômico se manteve intacto, interferindo, desde o período colonial, na construção da cidadania e, conseqüentemente, a única solução para mudar esse quadro seria a adoção de um novo sistema econômico.
- () A cidadania objetiva, entre outros, a priorização do homem na sociedade, enquanto o sistema econômico empurra o homem para a sua periferia.
- () O sistema econômico adotado no país impede a participação estatal no processo produtivo, razão pela qual ocorre a excludência.
- () As interferências do sistema econômico nos direitos do cidadão só ocorrem nas regiões periféricas do país, pois nas regiões centrais o positivo processo produtivo inibe as desigualdades sociais.
- () O capitalismo contemporâneo promove a exclusão e a desigualdade, retardando o processo de consolidação da cidadania plena.

A alternativa que indica a sequência correta, de cima para baixo, é a

- a) F – V – F – F – V



- b) F – V – V – F – V
- c) V – F – V – F – F
- d) F – F – V – V – V
- e) V – F – F – V – F

COMENTÁRIOS:

I- Falso: O sistema econômico não se manteve intacto ao longo do tempo, sofreu mudanças.

II- Verdadeiro: A cidadania engloba um conjunto de garantias sociais, contudo, o sistema econômico limita as condições de vida da população, conforme indica a charge.

III- Falso: O capitalismo, sistema econômico adotado no país, não impede a participação estatal no processo produtivo. Tanto é que o Estado brasileiro regula e, em alguns casos, atua diretamente na atividade econômica. A exclusão social é fruto de um modelo de capitalismo injusto e excludente.

IV- Falso: As desigualdades sociais se manifestam em todas as regiões do país. Mesmo na cidade mais rica e mais desenvolvida do Brasil, ocorre a desigualdade social.

V- Verdadeiro: A exclusão e a desigualdade social são características do sistema econômico capitalista, produzindo problemas de ordem social que prejudicam a ampliação e a consolidação plena da cidadania.

Gabarito: A

5. (IADES/CAU-BR/2013) Os 25 anos da Constituição brasileira, que se comemoram hoje, talvez contenham em si mesmos – pela mera menção de sua durabilidade – o maior elogio ao texto atualmente em vigor.

Quando foi promulgada, em 5 de outubro de 1988, não faltaram advertências quanto aos riscos de inviabilidade que a nova Carta projetava sobre os governos do futuro, dado seu detalhismo e sua prodigalidade ao acomodar demandas das mais distintas corporações.

< www.folha.uol.com.br/opiniao >. Seção: Editorial – Constituição em vigor, 05 de outubro de 2013.

Assinale a alternativa que, dentre os diversos fatores, aquele que justifica a denominação “Constituição Cidadã” dada para a atual Carta Magna do Brasil.

- A) As leis que previam a licença-maternidade e a demarcação de terras indígenas pelos estados e municípios.
- B) A multa de 50% no ato da demissão de um trabalhador e o direito à greve para os funcionários públicos e privados.
- C) O direito à titularidade da terra para as mulheres trabalhadoras rurais e o conceito restrito de família.



D) A aprovação de leis a qual também contava com audiências públicas que preparavam emendas com a participação da sociedade civil na busca dos próprios interesses.

E) A transição entre o período da ditadura militar e a afirmação do regime democrático no País, marcada pela Constituição, tendo total respaldo dos militares desde o movimento Diretas Já.

COMENTÁRIOS:

A principal justificativa para a Constituição de 1988 ser chamada de "Constituição Cidadã" é o amplo processo participativo que a envolveu. Durante a elaboração da Constituição, houve a realização de audiências públicas, debates e consultas populares, permitindo que diversos setores da sociedade civil participassem ativamente na formulação das leis e na defesa de seus interesses. Desse modo, está correta a alternativa "D". As demais alternativas estão incorretas ou parcialmente incorretas.

Gabarito: D

6. (CEBRASPE/ANTT/2013) Os elementos caracterizadores da cidadania são, atualmente, os direitos políticos, os sociais e os civis.

COMENTÁRIOS:

Para o sociólogo britânico Thomas Humphrey Marshall, a cidadania apresenta três fatores principais: os direitos políticos, os direitos sociais e os direitos civis.

Os direitos políticos dizem respeito à participação do cidadão na vida política do país. Incluem, por exemplo, o direito ao voto, o direito de ser votado, a liberdade de expressão política e o direito de associação para fins políticos. Os direitos políticos são fundamentais para garantir a representatividade e a democracia em um sistema político.

Os direitos sociais são os direitos que visam assegurar condições mínimas de vida digna para todos os cidadãos. Incluem direitos como o acesso à saúde, à educação, à previdência social, ao trabalho digno, à moradia, à alimentação e à assistência social. Os direitos sociais são essenciais para promover a igualdade social e combater as desigualdades econômicas.

Já os direitos civis referem-se aos direitos individuais, garantindo a liberdade e a autonomia do cidadão perante o Estado. Englobam direitos como a liberdade de expressão, de pensamento, de religião, de ir e vir, o direito à privacidade, o direito à propriedade e o direito à igualdade perante a lei. Os direitos civis são fundamentais para proteger a integridade e a dignidade das pessoas.

Gabarito: Certo

7. (UERN/2013) Cidadania e cidadão são palavras que vêm do latim "civitas". O termo indicava a convivência das pessoas que participavam das decisões sobre os rumos da sociedade.

(Cotrim, Gilberto. 1955. História Global – Brasil e Geral. Volume único. 8ª Ed. São Paulo: Saraiva, 2005. p. 81.)

A história cumpre o papel de educar as novas gerações com concepções, ideias e informações consideradas válidas, adequadas ou corretas, segundo consensos mínimos que vão se construindo nas gerações anteriores



e se legitimando ao longo do tempo. O conceito e a prática de cidadania são exemplos disso. Acerca do sentido atual do conceito de cidadania e do papel da história na construção desse conceito, assinale a afirmativa correta.

a) Ao longo do século passado, através das mudanças sociopolíticas ocorridas principalmente no Brasil, o conceito de cidadania se destituiu totalmente do sentido social, passando a ser um ato puramente individual.

b) Ser cidadão hoje é apenas estar em dia com suas obrigações eleitorais, mantendo-se informado sobre os pleitos e os trâmites das eleições, já que a palavra cidadania é sinônimo de “política” enquanto forma de governo.

c) Na atual conjuntura, a partir de discussões constantes e uma educação mais intensa e democrática, o termo cidadania ganha um sentido mais amplo de participação na vida social e, principalmente, de legitimidade de direitos e deveres.

d) A partir dos conceitos históricos que vão sendo deflagrados a cada período e em cada cultura específica, o conceito de cidadania perde o sentido inicial e passa a ser sinônimo de condição socioeconômica, ou seja, o cidadão é quem detém poder.

COMENTÁRIOS:

a) Incorreta. O conceito de cidadania está vinculado as relações sociais do indivíduo, portanto não é um ato puramente individual.

b) Incorreta. Ser cidadão não é somente cumprir seus deveres eleitorais. Ser cidadão é ter direitos e deveres. A cidadania está vinculada a direitos políticos, civis e sociais, ou seja, vai muito além dos deveres eleitorais. De uma certa forma, pode-se associar a cidadania à forma de governo. Um governo autoritário que não permite ou restringe os direitos políticos do seu povo, não possibilita o pleno exercício dos direitos políticos.

c) Correta. O conceito de cidadania compreende a participação plena dos indivíduos na sociedade, não se restringe a sua participação política, está vinculado aos seus direitos e deveres.

d) Incorreta. O conceito de cidadania não é sinônimo de condição socioeconômica e o exercício da cidadania não se restringe a quem detém o poder, deve ser garantida a todos no acesso aos seus direitos e no cumprimento de seus deveres.

Gabarito: C

8. (UNICENTRO/2012) O termo cidadania é explicado pelo seguinte conceito:

A) Exprime a afirmação de um indivíduo diante da sociedade e do Estado.

B) É a condição de um indivíduo como membro de um Estado e portador de direitos e de obrigações.

C) Encerra uma ação recíproca de ideias, atos ou sentimentos entre indivíduos, entre grupo, ou entre ambos.

D) Expressa maneiras de agir, sentir e pensar, próprias de um grupo, da sociedade ou da civilização a que um indivíduo pertence.



E) Constitui um agrupamento de indivíduos envolvidos em um esforço organizado para promover ou resistir a mudanças na sociedade.

COMENTÁRIOS:

O conceito de cidadania corresponde ao conjunto de direitos e deveres dos cidadãos, enquanto membros de um Estado.

Gabarito: B

9. (FCC/TJ-PE/2012) A construção de políticas de proteção social nasce da contradição entre uma ordem econômica que reproduz miséria e uma ordem política que afirma a igualdade entre os cidadãos. Cidadania plena

- a) é um projeto de redefinição das relações sociais em direção à redistribuição da renda, à equidade e justiça social.
- b) é parte do processo de consolidação do Estado e de sua democratização na garantia prioritária de direitos difusos.
- c) refere-se a um Estado em que se reconhecem as políticas assistenciais, pois elas se constituem na grande novidade da seguridade social contributiva.
- d) estrutura-se na proteção social com base na segurança social dirigida à população assalariada.
- e) efetiva-se pelo acesso da população de extrema pobreza ao Programa Comunidade Solidária.

COMENTÁRIOS:

A cidadania é o exercício dos direitos e deveres do cidadão. Entre os direitos, estão os direitos sociais, garantidos pela Constituição de 1988. Para o exercício da cidadania, ao cidadão de fato devem ser assegurados direitos necessários a uma vida digna, como a renda, o acesso a serviços públicos de qualidade e a justiça social. Entre os objetivos fundamentais da República Federativa do Brasil estabelecidos pela Constituição de 1988, está: “Erradicar a pobreza e a marginalização e reduzir as desigualdades sociais e regionais”.

Gabarito: A

10. (FGV/TRE-PA/2011) A Constituição brasileira apresenta como seus fundamentos

- a) o respeito à liberdade de qualquer cidadão de ser candidato a cargo político.
- b) a defesa da cidadania, soberania e dignidade da pessoa humana.
- c) a existência de partidos políticos que possam disputar eleições pelo critério majoritário.
- d) a construção de uma sociedade que valorize o capital intelectual do ser humano.



e) a construção de uma sociedade que seja uniforme no que diz respeito à composição de sua população.

COMENTÁRIOS:

Nos termos da Constituição Federal, a cidadania, a soberania e a dignidade da pessoa humana constituem fundamentos da República Federativa do Brasil.

Gabarito: B

11. (UNICENTRO/2011) A respeito da cidadania, está correto o que afirma em

- a) A cidadania plena é exercida quando se vota em eleições diretas e democráticas.
- b) A cidadania, na Grécia e na Roma antiga, era atribuída somente aos homens e às mulheres livres.
- c) Na sociedade brasileira, apenas os indivíduos com idade superior a 18 anos são considerados cidadãos.
- d) Ser cidadão é ter consciência de seus direitos e deveres, ou seja, é ter consciência de que possui responsabilidades e limites dentro da sociedade.
- e) É um conceito que pressupõe dependência dos indivíduos moradores de uma nação em relação ao Estado.

COMENTÁRIOS:

A cidadania é o exercício dos direitos e deveres civis, políticos e sociais estabelecidos na Constituição, é ter consciência do desempenho de seus deveres na sociedade e do gozo de seus direitos.

Gabarito: D

12. (UEG/2010)



NOVAES, Carlos Eduardo, *Cidadania para principiantes: a história dos direitos do homem*, São Paulo: Ática, 2003, p. 19.

SENE, Eustáquio de; MOREIRA, João Carlos, *Geografia para o Ensino Médio: geografia geral e do Brasil*, São Paulo: Scipione, 2007, p. 401.

Segundo a análise do cartum, é CORRETO afirmar:

a) o Estado brasileiro assegura em lei o direito à educação, saúde e habitação, dentre outros, mas na prática, apesar dos direitos assegurados, o que ocorre é a intensa desigualdade social e a falta de recursos básicos de sobrevivência aos indivíduos.

b) é possível viver com dignidade independentemente da ação do Estado, uma vez que a cidadania plena estabelece a execução dos deveres em detrimento dos direitos, os quais, por sua vez, não são assegurados.

c) a degradação ambiental, a violência e a falta de infraestrutura básica tem sido objeto de preocupação e planejamento por parte do Estado nas grandes favelas brasileiras.

d) a atuação do Estado, no sentido de garantir a segurança do cidadão, tem sido mais eficaz em virtude das políticas públicas voltadas para esse fim.

COMENTÁRIOS:

a) Correto. O Estado brasileiro, nos termos da Constituição brasileira e da legislação assegura direitos ao cidadão. Contudo, mesmo com garantias legais, a realidade, ainda, demonstra que há uma intensa desigualdade social e a falta de recursos básicos de sobrevivência para largas parcelas da população brasileira.

b) Incorreto. A cidadania depende da ação do Estado e ainda não é plena. Por outro lado, cidadania plena é o exercício dos deveres e ter os seus direitos assegurados. Sem direitos assegurados, somente com o cumprimento dos deveres, não há cidadania plena.

c) Incorreto. O Estado brasileiro tem promovido políticas e ações para reduzir a degradação ambiental, a violência e a falta de infraestrutura básica nas grandes favelas brasileiras. Ocorre, que essas ações não têm sido suficientes para uma melhoria significativa das condições de vida e de cidadania dos seus habitantes. Não se pode afirmar que o Estado brasileiro é omissivo, não é. O que se pode dizer é que ele precisa planejar mais, melhor e investir mais e de forma mais eficiente, eficaz e efetiva. Destaca-se o problema da violência, em que pese a ampliação dos recursos públicos, a violência tem aumentado no país.

d) Incorreto. Como citamos no comentário anterior, a violência cresceu no Brasil, nas últimas décadas, mesmo com a ampliação dos investimentos públicos. Ou seja, os recursos destinados e as ações desenvolvidas não tem sido suficientemente eficaz para a redução da violência no país.

Gabarito: A

13. (CEFET-BA/PC-BA/2008) “Cidadania, portanto, engloba mais que direitos humanos, porque, além de incluir os direitos que a todos são atribuídos (em virtude da sua condição humana), abrange, ainda, os direitos políticos. Correto, por conseguinte, falar-se numa dimensão política, numa dimensão civil e numa dimensão social da cidadania”. (Prof. J. J. Calmon de Passos)

Ao alargar a compreensão da cidadania para as três dimensões supra-referidas, o prof. Calmon de Passos

A) inova, ao focar somente o caráter educacional da cidadania plena na Grécia.



B) contribui, doutrinariamente, para que a noção da cidadania ultrapasse a clássica concepção que a restringia tão-somente ao exercício dos direitos políticos.

C) restringe o entendimento da cidadania ao exercício dos direitos de primeira geração – especialmente quanto à igualdade.

D) promove reflexão crítica em torno dos interditos proibitivos à construção de uma sociedade respeitosa para com as nuances de sexo, gênero, raça e idade.

E) contradiz a noção fundamental de extensão da cidadania a todos sem distinção – mulheres especialmente.

COMENTÁRIOS:

A cidadania possui uma dimensão política, civil e social, logo, não se restringe ao exercício dos direitos políticos. Ao alargar a compreensão da cidadania para as três dimensões supra referidas, o prof. Calmon de Passos contribui, doutrinariamente, para que a noção da cidadania ultrapasse a clássica concepção que a restringia tão-somente ao exercício dos direitos políticos.

Gabarito: B

14. (ESAF/CGU/2004) Numere a segunda coluna de acordo com a primeira. Em seguida, assinale a opção que contém a sequência correta.

(1) Conjunto de decisões e ações relativas à alocação de recursos públicos visando a mitigar ou eliminar desigualdades permanentes e auto reproduzidas, bem como assistir e fortalecer os segmentos mais vulneráveis da sociedade.

(2) Direitos necessários ao exercício da liberdade individual, como por exemplo, o de ir e vir, de contratar, de empreender e de possuir propriedades.

(3) Relação jurídico-política que define direitos e deveres de cada indivíduo, frente aos outros indivíduos e frente ao Estado.

(4) Direitos que possibilitam a participação igualitária dos membros de uma sociedade nos seus padrões básicos de vida.

(5) Conjunto de procedimentos formais e informais que expressam relações de poder e que se destinam à resolução pacífica dos conflitos quanto a bens públicos.

(6) Direitos que asseguram o exercício da capacidade de influir nas decisões políticas, seja diretamente por meio de atividade governamental ou associativa, seja indiretamente, por meio do voto.

() Cidadania política

() Política social

() Cidadania social



() Cidadania civil

a) 6, 5, 4, 3

b) 6, 1, 4, 2

c) 3, 5, 2, 4

d) 5, 1, 4, 2

e) 5, 1, 2, 4

COMENTÁRIOS:

(6) Cidadania política: compreende os direitos políticos que asseguram o exercício de participar das tomadas de decisões políticas.

(1) Política social: é uma política fundamental para o bem-estar dos cidadãos com o objetivo de diminuir as desigualdades sociais.

(4) Cidadania social: os direitos sociais possibilitam a participação igualitária dos membros de uma sociedade e o atendimento das necessidades básicas do ser humano.

(2) Cidadania civil: direitos inerentes à liberdade individual, liberdade de expressão e de pensamento;

Gabarito: B



LISTA DE QUESTÕES - ÉTICA E CIDADANIA - MULTIBANCAS

1. (FAURGS/SES-RS/2022) O conceito de cidadania envolve a aquisição e o exercício de direitos civis, políticos e sociais, assim como dos deveres inerentes ao pertencimento a uma comunidade política. Nesse contexto, NÃO se pode afirmar que

- A) manifestações de rua e mobilizações populares são um exemplo de exercício de cidadania.
- B) o exercício da cidadania pressupõe a transparência do Estado, por meio da publicação de dados e informações de interesse público e da prestação de contas sobre as ações do poder público.
- C) a cidadania representa um conjunto de direitos que permite que a pessoa, entre outras coisas, possa participar ativamente da condução da gestão pública.
- D) entre os direitos e os deveres inerentes ao exercício da cidadania está o de resistência ao recolhimento de impostos, pelo caráter abusivo que geralmente caracteriza a arrecadação pelo fisco para a manutenção das estruturas do Estado.
- E) o exercício dos direitos sociais, como o acesso à saúde e à educação, é imprescindível para que se reconheça a cidadania, tal como conceituada nas democracias contemporâneas.

2. (FADESP/BANPARÁ/2018) Neste ano de 2018, a Constituição Federal brasileira completa trinta anos de existência. Elaborada por uma Assembleia Nacional Constituinte instalada em 1987, no ocaso da Ditadura Militar, coordenada pelo deputado Ulysses Guimarães, a Carta Magna ainda hoje é lembrada pelo seu apelido de Constituição

- a) Transformadora.
- b) Transitiva.
- c) Cidadã.
- d) Civil.
- e) Antiautoritária.

3. (UERJ/2015) O professor Alcino Salazar, secretário de justiça da Guanabara, declarou a O Globo que a extensão do voto ao analfabeto é perigosa concessão aos inimigos do regime democrático, fundado na verdade e na pureza do princípio da representação.

Adaptado de O Globo, 21/02/1964.

Em sua mensagem ao Congresso Nacional em 15 de março de 1964, o presidente João Goulart escreveu: "Outra discriminação inaceitável atinge milhões de cidadãos que, embora investidos de todas as responsabilidades (...) e integrados à força de trabalho, com seu contingente mais numeroso, são impedidos de votar por serem analfabetos".



ALEIXO, J. C. B.; KRAMER, Paulo. Os analfabetos e o voto: da conquista da alistabilidade ao desafio da elegibilidade. Senatus, Brasília, outubro/2000.

As declarações do professor Alcino Salazar e do presidente João Goulart foram feitas em um momento de polarização na sociedade brasileira, que culminou na instauração do regime autoritário em 31 de março de 1964.

Ambas as declarações expressavam, naquele momento, visões antagônicas relacionadas à seguinte dimensão da cidadania:

- a) direitos políticos
- b) reparações étnicas
- c) benefícios sociais
- d) oportunidades econômicas

4. (UNEB/2014)



Com base na análise da charge e nos conhecimentos sobre a organização do espaço mundial e brasileiro e a questão da cidadania, marque V nas afirmativas verdadeiras e F, nas falsas.

- () O sistema econômico se manteve intacto, interferindo, desde o período colonial, na construção da cidadania e, conseqüentemente, a única solução para mudar esse quadro seria a adoção de um novo sistema econômico.
- () A cidadania objetiva, entre outros, a priorização do homem na sociedade, enquanto o sistema econômico empurra o homem para a sua periferia.
- () O sistema econômico adotado no país impede a participação estatal no processo produtivo, razão pela qual ocorre a excludência.
- () As interferências do sistema econômico nos direitos do cidadão só ocorrem nas regiões periféricas do país, pois nas regiões centrais o positivo processo produtivo inibe as desigualdades sociais.
- () O capitalismo contemporâneo promove a exclusão e a desigualdade, retardando o processo de consolidação da cidadania plena.



A alternativa que indica a sequência correta, de cima para baixo, é a

- a) F – V – F – F – V
- b) F – V – V – F – V
- c) V – F – V – F – F
- d) F – F – V – V – V
- e) V – F – F – V – F

5. (IADES/CAU-BR/2013) Os 25 anos da Constituição brasileira, que se comemoram hoje, talvez contenham em si mesmos – pela mera menção de sua durabilidade – o maior elogio ao texto atualmente em vigor.

Quando foi promulgada, em 5 de outubro de 1988, não faltaram advertências quanto aos riscos de inviabilidade que a nova Carta projetava sobre os governos do futuro, dado seu detalhismo e sua prodigalidade ao acomodar demandas das mais distintas corporações.

< www.folha.uol.com.br/opiniao >. Seção: Editorial – Constituição em vigor, 05 de outubro de 2013.

Assinale a alternativa que, dentre os diversos fatores, aquele que justifica a denominação “Constituição Cidadã” dada para a atual Carta Magna do Brasil.

- A) As leis que previam a licença-maternidade e a demarcação de terras indígenas pelos estados e municípios.
- B) A multa de 50% no ato da demissão de um trabalhador e o direito à greve para os funcionários públicos e privados.
- C) O direito à titularidade da terra para as mulheres trabalhadoras rurais e o conceito restrito de família.
- D) A aprovação de leis a qual também contava com audiências públicas que preparavam emendas com a participação da sociedade civil na busca dos próprios interesses.
- E) A transição entre o período da ditadura militar e a afirmação do regime democrático no País, marcada pela Constituição, tendo total respaldo dos militares desde o movimento Diretas Já.

6. (CEBRASPE/ANTT/2013) Os elementos caracterizadores da cidadania são, atualmente, os direitos políticos, os sociais e os civis.

7. (UERN/2013) Cidadania e cidadão são palavras que vêm do latim “civitas”. O termo indicava a convivência das pessoas que participavam das decisões sobre os rumos da sociedade.

(Cotrim, Gilberto. 1955. História Global – Brasil e Geral. Volume único. 8ª Ed. São Paulo: Saraiva, 2005. p. 81.)

A história cumpre o papel de educar as novas gerações com concepções, ideias e informações consideradas válidas, adequadas ou corretas, segundo consensos mínimos que vão se construindo nas gerações anteriores



e se legitimando ao longo do tempo. O conceito e a prática de cidadania são exemplos disso. Acerca do sentido atual do conceito de cidadania e do papel da história na construção desse conceito, assinale a afirmativa correta.

a) Ao longo do século passado, através das mudanças sociopolíticas ocorridas principalmente no Brasil, o conceito de cidadania se destituiu totalmente do sentido social, passando a ser um ato puramente individual.

b) Ser cidadão hoje é apenas estar em dia com suas obrigações eleitorais, mantendo-se informado sobre os pleitos e os trâmites das eleições, já que a palavra cidadania é sinônimo de “política” enquanto forma de governo.

c) Na atual conjuntura, a partir de discussões constantes e uma educação mais intensa e democrática, o termo cidadania ganha um sentido mais amplo de participação na vida social e, principalmente, de legitimidade de direitos e deveres.

d) A partir dos conceitos históricos que vão sendo deflagrados a cada período e em cada cultura específica, o conceito de cidadania perde o sentido inicial e passa a ser sinônimo de condição socioeconômica, ou seja, o cidadão é quem detém poder.

8. (UNICENTRO/2012) O termo cidadania é explicado pelo seguinte conceito:

A) Exprime a afirmação de um indivíduo diante da sociedade e do Estado.

B) É a condição de um indivíduo como membro de um Estado e portador de direitos e de obrigações.

C) Encerra uma ação recíproca de ideias, atos ou sentimentos entre indivíduos, entre grupo, ou entre ambos.

D) Expressa maneiras de agir, sentir e pensar, próprias de um grupo, da sociedade ou da civilização a que um indivíduo pertence.

E) Constitui um agrupamento de indivíduos envolvidos em um esforço organizado para promover ou resistir a mudanças na sociedade.

9. (FCC/TJ-PE/2012) A construção de políticas de proteção social nasce da contradição entre uma ordem econômica que reproduz miséria e uma ordem política que afirma a igualdade entre os cidadãos. Cidadania plena

a) é um projeto de redefinição das relações sociais em direção à redistribuição da renda, à equidade e justiça social.

b) é parte do processo de consolidação do Estado e de sua democratização na garantia prioritária de direitos difusos.

c) refere-se a um Estado em que se reconhecem as políticas assistenciais, pois elas se constituem na grande novidade da seguridade social contributiva.

d) estrutura-se na proteção social com base na segurança social dirigida à população assalariada.



e) efetiva-se pelo acesso da população de extrema pobreza ao Programa Comunidade Solidária.

10. (FGV/TRE-PA/2011) A Constituição brasileira apresenta como seus fundamentos

- a) o respeito à liberdade de qualquer cidadão de ser candidato a cargo político.
- b) a defesa da cidadania, soberania e dignidade da pessoa humana.
- c) a existência de partidos políticos que possam disputar eleições pelo critério majoritário.
- d) a construção de uma sociedade que valorize o capital intelectual do ser humano.
- e) a construção de uma sociedade que seja uniforme no que diz respeito à composição de sua população.

11. (UNICENTRO/2011) A respeito da cidadania, está correto o que afirma em

- a) A cidadania plena é exercida quando se vota em eleições diretas e democráticas.
- b) A cidadania, na Grécia e na Roma antiga, era atribuída somente aos homens e às mulheres livres.
- c) Na sociedade brasileira, apenas os indivíduos com idade superior a 18 anos são considerados cidadãos.
- d) Ser cidadão é ter consciência de seus direitos e deveres, ou seja, é ter consciência de que possui responsabilidades e limites dentro da sociedade.
- e) É um conceito que pressupõe dependência dos indivíduos moradores de uma nação em relação ao Estado.

12. (UEG/2010)



NOVAES, Carlos Eduardo, Cidadania para principiantes: a história dos direitos do homem, São Paulo: Ática, 2003, p. 19.

SENE, Eustáquio de; MOREIRA, João Carlos, Geografia para o Ensino Médio: geografia geral e do Brasil, São Paulo: Scipione, 2007, p. 401.

Segundo a análise do cartum, é CORRETO afirmar:



a) o Estado brasileiro assegura em lei o direito à educação, saúde e habitação, dentre outros, mas na prática, apesar dos direitos assegurados, o que ocorre é a intensa desigualdade social e a falta de recursos básicos de sobrevivência aos indivíduos.

b) é possível viver com dignidade independentemente da ação do Estado, uma vez que a cidadania plena estabelece a execução dos deveres em detrimento dos direitos, os quais, por sua vez, não são assegurados.

c) a degradação ambiental, a violência e a falta de infraestrutura básica tem sido objeto de preocupação e planejamento por parte do Estado nas grandes favelas brasileiras.

d) a atuação do Estado, no sentido de garantir a segurança do cidadão, tem sido mais eficaz em virtude das políticas públicas voltadas para esse fim.

13. (CEFET-BA/PC-BA/2008) “Cidadania, portanto, engloba mais que direitos humanos, porque, além de incluir os direitos que a todos são atribuídos (em virtude da sua condição humana), abrange, ainda, os direitos políticos. Correto, por seguinte, falar-se numa dimensão política, numa dimensão civil e numa dimensão social da cidadania”. (Prof. J. J. Calmon de Passos)

Ao alargar a compreensão da cidadania para as três dimensões supra-referidas, o prof. Calmon de Passos

A) inova, ao focar somente o caráter educacional da cidadania plena na Grécia.

B) contribui, doutrinariamente, para que a noção da cidadania ultrapasse a clássica concepção que a restringia tão-somente ao exercício dos direitos políticos.

C) restringe o entendimento da cidadania ao exercício dos direitos de primeira geração – especialmente quanto à igualdade.

D) promove reflexão crítica em torno dos interditos proibitivos à construção de uma sociedade respeitosa para com as nuances de sexo, gênero, raça e idade.

E) contradiz a noção fundamental de extensão da cidadania a todos sem distinção – mulheres especialmente.

14. (ESAF/CGU/2004) Numere a segunda coluna de acordo com a primeira. Em seguida, assinale a opção que contém a sequência correta.

(1) Conjunto de decisões e ações relativas à alocação de recursos públicos visando a mitigar ou eliminar desigualdades permanentes e auto reproduzidas, bem como assistir e fortalecer os segmentos mais vulneráveis da sociedade.

(2) Direitos necessários ao exercício da liberdade individual, como por exemplo, o de ir e vir, de contratar, de empreender e de possuir propriedades.

(3) Relação jurídico-política que define direitos e deveres de cada indivíduo, frente aos outros indivíduos e frente ao Estado.

(4) Direitos que possibilitam a participação igualitária dos membros de uma sociedade nos seus padrões básicos de vida.



(5) Conjunto de procedimentos formais e informais que expressam relações de poder e que se destinam à resolução pacífica dos conflitos quanto a bens públicos.

(6) Direitos que asseguram o exercício da capacidade de influir nas decisões políticas, seja diretamente por meio de atividade governamental ou associativa, seja indiretamente, por meio do voto.

() Cidadania política

() Política social

() Cidadania social

() Cidadania civil

a) 6, 5, 4, 3

b) 6, 1, 4, 2

c) 3, 5, 2, 4

d) 5, 1, 4, 2

e) 5, 1, 2, 4



1. D
2. C
3. A
4. A
5. D

6. C
7. C
8. B
9. A
10. B

11. D
12. A
13. B
14. B



COPA DO MUNDO DE FUTEBOL DE 2022

A Copa do Mundo de Futebol de 2022 ocorreu entre os dias 20 de novembro a 18 de dezembro, no **Catar**. Pelo fato de ser um megaevento esportivo, um dos maiores do mundo, é um tema de grande relevância e que pode ser cobrado em provas, assim como já foi cobrado nas épocas de copas passadas. Nesse tópico, vamos passar por alguns temas importantes e que podem aparecer nas provas.

Data de realização

O evento é comumente realizado no meio do ano, entre os meses de junho a setembro. Contudo, por conta do forte calor que faz na região em que se situa o Catar (no Oriente Médio) durante esse período, os jogos foram remarcados para o final do ano e ocorreram entre os meses de novembro e dezembro de 2022, quando as temperaturas são mais baixas.

Na primeira fase, foram realizados quatro jogos por dia, nos horários das 13h, 16h, 19h e 22h (horário do Catar).

Mascote

A mascote dessa edição foi o La'eeb. De acordo a FIFA, o nome escolhido significa "jogador habilidoso" em árabe, e o formato da mascote é inspirado na "ghutra", lenço de cabeça característico da cultura árabe. Ainda, segundo a FIFA, o propósito do La'eeb é inspirar todos a acreditarem em si mesmos.



Formato

O formato de disputa se manteve semelhante ao das últimas copas, com 32 participantes divididos em oito grupos. Os dois primeiros de cada grupo avançam para a fase eliminatória. O Brasil começou no grupo G, junto com Sérvia, Suíça e Camarões. Esse foi o último Mundial com 32 seleções. Na edição de 2026, que será realizada nos Estados Unidos, Canadá e México, serão 48 seleções.

Catar

O Catar está localizado no Oriente Médio, que é uma região do continente asiático com grande relevância na história e geopolítica mundial. Será a primeira vez na história em que a Copa do Mundo é realizada no Oriente Médio.





O Catar faz fronteira com a Arábia Saudita, ao Sul, ao passo que o Golfo Pérsico e o Golfo de Barein envolvem o resto do país. Com apenas 11.437 km², é um dos menores países do mundo em área territorial. Sua capital é a cidade de **Doha**. Foi somente em 1971 que o Catar conquistou sua independência. Antes disso, o país era um protetorado britânico.

Com uma população estimada em 2,8 milhões de habitantes, apenas 313 mil são nativos catarianos. Os demais são trabalhadores estrangeiros de outras nações árabes, do subcontinente indiano, sudeste asiático e outros países. Esses estrangeiros chegaram ao Catar para trabalhar em todas as obras do país, tanto as da Copa do Mundo quanto de outras infraestruturas e edificações.

De idioma árabe e islâmico, o sistema político do país é o **emirado**, semelhante à monarquia, sendo o país governado pelo Emir Tamim bin Hamad Al Thani, que está no trono desde 2013. Não há legislatura independente no país e os partidos políticos são proibidos. De acordo com a Constituição do Catar, a **Sharia** é a principal fonte da legislação do país.

Um dos pontos que chama atenção sobre o Catar e que serviu para credenciar o país a receber a Copa do Mundo é a sua economia, que apresentou vertiginoso crescimento nas décadas recentes. Com grandes reservas de **petróleo e gás natural** (recurso o qual o país possui a terceira maior reserva do mundo), o Catar se solidificou como uma potência financeira. Na candidatura para a Copa do Mundo 2022, superou os Estados Unidos na rodada final da votação.

As grandes receitas obtidas com a exportação de petróleo e gás natural foram responsáveis pelo salto econômico do país, servindo, desse modo, para financiar obras faraônicas, como os estádios que serão utilizados para os jogos da copa do mundo.

Uma das principais críticas feitas ao Qatar são as severas restrições aos direitos humanos, em especial, para as mulheres e para a população LGBTQIA+. Além disso, vários veículos de imprensa e ONGs denunciaram as condições precárias de trabalho nas obras da copa, com muitos mortos inclusive. Devido às rígidas regras muçulmanas sobre o consumo de álcool, também foi proibida a venda de cerveja dentro dos estádios.

Devido a essas questões, esse tem sido um dos torneios mais controversos da história da Fifa, com questionamentos sobre como o Catar conquistou o direito de ser sede da Copa e se o país é um local adequado.

Apesar dessas polêmicas, uma coisa é incontestável sobre a Copa do Catar: o país investiu em uma moderna e inovadora infraestrutura, que foi construída em um curto espaço de tempo e de forma muito bem planejada.

O orçamento despendido pelo país para a copa ultrapassou os 200 bilhões de dólares, sendo essa a Copa do Mundo mais cara da história. Grande parte desses custos atribuídos à Copa do Mundo de 2022 fazem parte de um plano mais amplo do Catar para se consolidar como um país turístico, investindo em uma infraestrutura moderna e sofisticada com hotéis, transporte subterrâneo, estádios e aeroportos.

Os estádios foram todos concebidos segundo o que há de mais moderno e inovador na arquitetura e engenharia moderna, contando inclusive com sistemas de resfriamento para minimizar o forte calor local.

Globalização e Multiculturalidade

A Copa do Mundo atrai pessoas de todos os continentes que vão para acompanhar o evento, que é global e transmitido para o mundo todo, com grande audiência e movimentando grandes quantidades monetárias. Conta com a livre circulação de pessoas e capitais. Além disso, durante a sua realização, o país que sedia a copa torna-se um espaço multiétnico. Por isso, é geralmente utilizada como um exemplo de como a globalização se manifesta, e é uma relação que pode aparecer sendo feita em uma questão.

Geopolítica da Copa

Um aspecto curioso e que sempre é levantado nas copas é o confronto entre países com rivalidades históricas e geopolíticas nos jogos, algo que pode ser utilizado pelas bancas avaliadoras.

Um grande exemplo na Copa de 2022 foi o jogo entre **Estados Unidos e Irã**, que estiveram no mesmo grupo da copa, o grupo B. Os dois países têm relações conturbadas há décadas e, na atualidade, estão em luta para a implementação de um acordo nuclear.

Outro encontro curioso foi o da **Sérvia e Suíça**, pelo grupo G, pois têm diferenças políticas devido à questão do Kosovo, território no Sudeste da Europa que busca reconhecimento internacional da independência justamente dos sérvios. A Suíça conta com alguns jogadores originários de famílias que fugiram da Guerra da Iugoslávia (1991-2001), conflito que deixou 140 mil mortos e a Sérvia foi um dos países a não aceitar Kosovo como um país independente – situação que se mantém até hoje.

Outro ponto importante a se destacar é a exclusão da **Rússia** da fase classificatória para a copa, devido à invasão da Ucrânia. A equipe do país disputaria a repescagem europeia para o mundial, e uma dentre as várias sanções ao país foi sua expulsão do evento.





Copa do Mundo de Futebol de 2022

A Copa do Mundo de Futebol de 2022 ocorreu entre os dias 20 de novembro a 18 de dezembro, no **Catar**. Devido ao forte calor que faz na região em que se situa o Catar (no Oriente Médio) durante esse período, os jogos foram remarcados para o final do ano e ocorreram entre os meses de novembro e dezembro de 2022, quando as temperaturas são mais baixas. Essa foi a primeira vez na história em que a Copa do Mundo é realizada na região.

Mascote - a mascote dessa edição foi o La'eeb. Seu formato é inspirado na "ghutra", lenço de cabeça característico da cultura árabe

Formato - o formato de disputa se manteve semelhante ao das últimas copas, com 32 participantes divididos em oito grupos.

Catar - o Catar é um país de pequena área territorial, que faz fronteira com a Arábia Saudita. Seu sistema político é o **emirado** e a **Sharia** é a principal fonte da legislação do país.

As descobertas de grandes reservas de **petróleo e gás natural** (o país possui a terceira maior reserva do mundo) impulsionaram a economia do país, que se solidificou como uma potência financeira.

Uma das principais críticas feitas ao Qatar são as severas restrições aos direitos humanos, em especial, para as mulheres e para a população LGBTQIA+. Além disso, vários veículos de imprensa e ONGs denunciaram as condições de precárias de trabalho nas obras da copa e muitas mortes.

Globalização e Multiculturalidade - a Copa do Mundo atrai pessoas de todos os continentes para o país sede, para acompanhar os jogos. É um evento global, transmitido para o mundo todo, com grande audiência e movimentando grandes quantidades monetárias. Conta com a livre circulação de pessoas e capitais. Além disso, durante a sua duração, o país que sedia a copa torna-se um espaço multiétnico. Por isso, é geralmente utilizada como um exemplo de como a globalização se manifesta.

Geopolítica da Copa - um aspecto curioso e que sempre é levantado nas copas é o confronto entre países que possuem rivalidades históricas e geopolíticas nos jogos.

Um grande exemplo nesse ano de 2022 foi o jogo entre **Estados Unidos e Irã** pelo grupo B. Os dois países têm relações conturbadas há décadas e, na atualidade, estão em negociação para a implementação de um novo acordo sobre o programa nuclear iraniano. Outro encontro curioso foi entre **Sérvia e Suíça**, pelo grupo G, pois têm diferenças políticas devido à questão do Kosovo.

Outro ponto importante a se destacar é a exclusão da **Rússia** da fase classificatória para a copa, devido à invasão da Ucrânia.



QUESTÕES COMENTADAS – COPA DO MUNDO DE FUTEBOL DE 2022 – MULTIBANCAS

1. (AVANÇA-SP/PREFEITURA DE SÃO MIGUEL ARCANJO-SP/2023) Como se sabe, as Copas do Mundo são realizadas a cada quatro anos, nos meses de junho e julho. No ano de 2022, a Copa do Mundo realizada no Catar teve início em novembro. Assinale a alternativa que apresenta o motivo para tal alteração no calendário:

- A) Covid-19.
- B) temperatura/clima.
- C) guerra na Ucrânia.
- D) terrorismo.
- E) atraso nas obras.

COMENTÁRIOS:

Por conta do forte calor que faz na região em que se situa o Catar (no Oriente Médio) durante o período natural de realização da Copa do Mundo (junho e julho), os jogos foram remarcados para o final do ano e ocorreram entre os meses de novembro e dezembro de 2022, quando as temperaturas são mais baixas.

Gabarito: B

2. (FGV/TRT-PB/2022) A Copa do Mundo de futebol está se realizando no Catar. Em relação ao tema, analise as afirmativas a seguir e assinale V para a verdadeira e F para a falsa.

- I. O fato de o Catar ter sido escolhido como sede da competição foi muito criticado por ser o país árabe um nada democrático emirado absolutista.
- II. Por ter o Catar clima muito quente nos meses de julho e agosto, este ano a Copa não se realiza nesses meses, como é tradicional, mas em novembro e dezembro, quando as temperaturas são ainda altas, mas mais amenas.
- III. Países muito tradicionais no futebol, como Inglaterra e França, recusaram-se, por motivos políticos, a disputar esta Copa.

As afirmativas são, respectivamente,

- (A) V, V e V.
- (B) V, V e F.
- (C) V, F e V.



(D) F, V e F.

(E) F, F e F.

COMENTÁRIOS:

I - Verdadeiro. O Catar ter sido escolhido como sede da competição foi muito criticado por esse ser um emirado absolutista, em que há grandes restrições à liberdade de expressão e aos direitos humanos. Em sua escolha como sede dos jogos, pesam acusações de suborno do país sobre os membros da FIFA.

II - Verdadeiro. Considerando que, no Catar, o clima é muito quente nos meses em que tradicionalmente se realiza a Copa do Mundo, o campeonato aconteceu em novembro e dezembro, quando as temperaturas são mais amenas. Contudo, há uma imprecisão nessa alternativa: a Copa do Mundo é tradicionalmente realizada entre os meses de junho a julho. O examinador deixou esse erro passar batido e não alterou o gabarito da questão, que deveria ser falso.

III - Falso. Inglaterra e França não se recusaram a disputar a copa. Na realidade, nenhum país se recusou. Em função da guerra com a Ucrânia, a Rússia foi excluída da fase das eliminatórias europeias. Entretanto, antes e durante os jogos houve críticas ao Catar e protestos específicos por parte de torcedores durante alguns jogos.

Gabarito: B

3. (QUADRIX/2022/CRP 11ª REGIÃO-CE – ASSISTENTE ADMINISTRATIVO) Pela primeira vez na história, a Copa do Mundo de futebol está prevista para acontecer em novembro, o que se deve às condições climáticas do país que vai sediar o evento, Catar, o qual registra altas temperaturas nos meses de junho e julho, quando geralmente ocorre essa competição.

COMENTÁRIOS:

A Copa do Mundo de Futebol de 2022 ocorrerá entre os dias 20 de novembro a 18 de dezembro, no Catar. O evento é comumente realizado no meio do ano, entre os meses de junho a setembro. Contudo, por conta do forte calor que faz no Catar durante esse período, os jogos foram remarcados para o final do ano e ocorrerão entre os meses de novembro e dezembro de 2022, quando as temperaturas são mais amenas.

Gabarito: Certo



LISTA DE QUESTÕES – COPA DO MUNDO DE FUTEBOL DE 2022 – MULTIBANCAS

1. (AVANÇA-SP/PREFEITURA DE SÃO MIGUEL ARCANJO-SP/2023) Como se sabe, as Copas do Mundo são realizadas a cada quatro anos, nos meses de junho e julho. No ano de 2022, a Copa do Mundo realizada no Catar teve início em novembro. Assinale a alternativa que apresenta o motivo para tal alteração no calendário:

- A) Covid-19.
- B) temperatura/clima.
- C) guerra na Ucrânia.
- D) terrorismo.
- E) atraso nas obras.

2. (FGV/TRT-PB/2022) A Copa do Mundo de futebol está se realizando no Catar. Em relação ao tema, analise as afirmativas a seguir e assinale V para a verdadeira e F para a falsa.

I. O fato de o Catar ter sido escolhido como sede da competição foi muito criticado por ser o país árabe um nada democrático emirado absolutista.

II. Por ter o Catar clima muito quente nos meses de julho e agosto, este ano a Copa não se realiza nesses meses, como é tradicional, mas em novembro e dezembro, quando as temperaturas são ainda altas, mas mais amenas.

III. Países muito tradicionais no futebol, como Inglaterra e França, recusaram-se, por motivos políticos, a disputar esta Copa.

As afirmativas são, respectivamente,

- (A) V, V e V.
- (B) V, V e F.
- (C) V, F e V.
- (D) F, V e F.
- (E) F, F e F.

3. (QUADRIX/2022/CRP 11ª REGIÃO-CE – ASSISTENTE ADMINISTRATIVO) Pela primeira vez na história, a Copa do Mundo de futebol está prevista para acontecer em novembro, o que se deve às



condições climáticas do país que vai sediar o evento, Catar, o qual registra altas temperaturas nos meses de junho e julho, quando geralmente ocorre essa competição.



1. B
2. B
3. C



CHUVAS EXTREMAS, ENCHENTES E DESLIZAMENTOS DE ENCOSTAS NO BRASIL

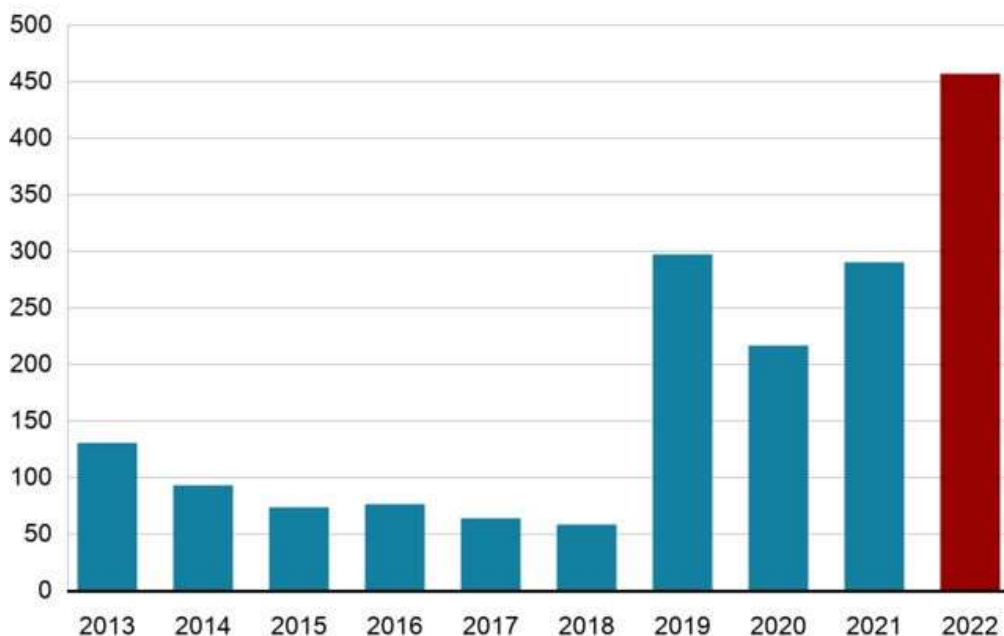
Ao longo dos anos recentes, uma série de tragédias relacionadas à ocorrência de chuvas em níveis extremos tem ocorrido no Brasil, gerando um elevado número de mortes, de feridos e de danos materiais.

Em fevereiro de 2023, um forte temporal castigou a região do litoral Norte do estado de São Paulo, em especial a **Vila Sahy**, um núcleo habitacional localizado no município de São Sebastião. A Vila Sahy está situada em uma região de encostas, assim, as chuvas ocasionaram deslizamentos de terras, destruindo as edificações e soterrando os habitantes. Foram registradas, ao menos, 60 mortes e centenas de feridos, de desalojados e de desabrigados.

Em 2022, uma tragédia semelhante ocorreu na cidade de **Petrópolis (RJ)**, quando mais de 200 pessoas morreram. Nesse mesmo ano, estados do Nordeste foram castigados com chuvas extremas e elevados números de mortes, sobretudo na cidade de **Recife (PE)**. Nos anos de 2019 a 2021, o número de mortes devido às chuvas extremas também foi elevado no país. Em 2020, a região mais atingida foi a cidade de Belo Horizonte, onde 60 pessoas foram mortas e viralizou a cena de uma grande cratera se abrindo em meio a uma rodovia do município.

O que se verifica é que, desde 2019, o número de mortes pela chuva está crescendo em relação aos anos anteriores. O gráfico a seguir, elaborado pela BBC em junho 2022, elucida esses dados:

Mortes por excesso de chuva no Brasil



Fonte: Confederação Nacional dos Municípios / Defesas Cívicas

BBC



Essas catástrofes têm sido recorrentes no Brasil e todas apresentam elementos em comum. Vejamos a seguir as suas causas:

- **Chuvas extremas:** é normal que, durante os primeiros meses do ano, a chuva seja mais frequente, afinal, é verão. Essa é estação mais quente do ano e, com o aumento de temperatura, a evaporação ocorre em grande quantidade, transformando-se em chuva. Apesar disso, as precipitações registradas ao longo dos anos recentes têm sido em um número muito superior à média verificada ao longo das últimas décadas.

Em São Sebastião (SP), no fim de semana em que ocorreu a tragédia o volume de chuva foi de 640 mm em 24 horas — três vezes maior do que o evento mais extremo documentado na cidade até então, em 2014, quando choveu 179 mm em 10 horas. Em Petrópolis (RJ), no ano de 2022, também havia sido a pior chuva registrada desde 1932.

O volume de chuvas muito acima da média indica que esses eventos foram anormais, extremos. O aumento da frequência e da intensidade dos fenômenos climáticos extremos tem sido observado em outras partes do mundo, logo, não se trata mais de uma exceção. Para designar esse novo modelo de comportamento do clima, os climatologistas utilizam o termo de “**novo normal climático**”, o qual a humanidade já está vivenciando. O novo normal climático, cuja ocorrência de eventos extremos já não é tão rara quanto no passado, caracteriza-se por vários tipos de condições climáticas adversas, além das chuvas intensas, como as secas prolongadas, as temperaturas extremas, maior ocorrência e intensidade de rajadas de ventos, de ciclones, de furacões e de tufões.

Para a grande maioria dos cientistas do clima, o novo normal climático é uma das consequências do processo de mudanças climáticas, causadas pelas ações do ser humano no meio ambiente, sobretudo com a emissão de gases do efeito estufa na atmosfera.

- **Deslizamentos de encostas:** nos deslizamentos do litoral Norte do estado de São Paulo e em outros casos ocorridos no Brasil, a tragédia para as pessoas nas áreas afetadas teve maior dimensão devido a antigos problemas da urbanização brasileira.

Os deslizamentos de terra são fenômenos naturais e comuns na natureza, especialmente em áreas de encosta e de relevo acidentado. São geralmente ocasionados em épocas de chuvas, quando o solo, saturado de água, não consegue suportar e se rompe, movendo-se encosta abaixo.

No Brasil, muitas pessoas, geralmente de baixa renda, ocupam essas áreas por serem uma das únicas alternativas de locais possíveis para residirem, devido ao seu baixo custo. Ao ocuparem as encostas, também se retira a vegetação, que ajuda a absorver parte da água do solo e lhe dar consistência. Sem a vegetação, o solo perde a resistência, tornando-se ainda mais suscetível aos deslizamentos. Foi o que ocorreu na Vila Sahy, local de ocupação irregular, por estar em área de proteção ambiental, suscetível a deslizamentos.

No contexto urbano brasileiro, chamamos isso de **segregação socioespacial**, termo que as bancas gostam muito de utilizar em questões sobre a realidade brasileira. A segregação socioespacial é o processo no qual camadas da população — mormente os grupos sociais de baixa renda — são levadas a morar em lugares distantes, periféricos, desprovidos de equipamentos públicos, com baixa infraestrutura e em locais de risco, como nas encostas.



Na Vila Sahy, é possível constatar muito bem essa realidade urbana, uma vez que próximo dali está a Barra do Sahy, uma praia frequentada por pessoas de alta renda que buscam refúgio no litoral Norte de São Paulo. A Vila Sahy e a Barra do Sahy são separadas pela Rodovia Rio-Santos.

Do lado da Barra, onde fica a praia, são oferecidas suítes de luxo, casas em condomínios com piscina e quadra de tênis que chegam a ser valoradas em milhões de reais. Do lado oposto, separada pela rodovia, está a Vila Sahy, um núcleo habitacional que surgiu na década de 1990 a partir de ocupações feitas por famílias pobres que buscavam emprego na Barra.

O ideal seria não ocupar essas áreas de risco, contudo, existem uma série de ações que o poder público poderia tomar para reduzir o impacto das chuvas extremas e dos deslizamentos de terra, tais como:

- Reassentar ao máximo as ocupações existentes nessas áreas. Devido à realidade do Brasil, muitas vezes isso não é possível, assim, busca-se a regularização fundiária com a normatização dessas ocupações e a implantação da urbanização possível e do que for possível preservar.;
- A realização frequente de estudos que avaliem a suscetibilidade a deslizamentos das encostas ocupadas, a preservação da vegetação, a concretização de obras que permitam uma drenagem adequada e o despejo correto do lixo, de modo a não bloquear as saídas de água e aumentar o peso sobre o solo.

No caso da Vila Sahy, há anos o Ministério Público de São Paulo (MP-SP) pressiona a prefeitura de São Sebastião para realizar a regularização fundiária do local. Desde 2016, a prefeitura proibiu, por força de lei, a expansão da área. Estabeleceu-se, para tanto, um perímetro: dentro dele, ninguém poderia ampliar as casas já existentes. Fora, ninguém poderia construir. Na prática, porém, a expansão da área continuou.

Mais recentemente, em 2021, o MP-SP moveu uma ação específica contra a Prefeitura de São Sebastião para obrigá-la a impedir novas ocupações e a oferecer moradias dignas e seguras para quem já morava na região de alto risco. Contudo, pouco foi feito nesse sentido, de tal forma que, de acordo com a opinião de alguns agentes públicos, o que aconteceu na Vila Sahy foi uma tragédia anunciada.

No infográfico a seguir, podemos ver a região do litoral Norte onde ocorreram os desastres ambientais e a topografia do local. Observem que a Vila Sahy está encravada na encosta dos morros da Serra do Mar, em área de alto risco. Do outro lado da Rodovia Rio-Santos, estão as casas da praia do Sahy, em um espaço com menos riscos de tragédias ambientais.



Áreas mais afetadas pela chuva



Topografia da região



Ilustração fora de escala e medidas aproximadas
Infográfico Luciano Veronezi

Fonte: encurtador.com.br/BOQU6





Chuvas extremas, enchentes e deslizamentos de encostas no Brasil

Nos últimos anos, uma série de tragédias relacionadas à ocorrência de chuvas em níveis extremos tem ocorrido no Brasil, gerando elevado número de mortes, de feridos e de danos materiais.

Em fevereiro de 2023, um forte temporal atingiu o litoral Norte do estado de São Paulo, especialmente a **Vila Sahy**, que está localizada em uma região de encostas e sofreu deslizamentos de terra, destruindo edificações e soterrando habitantes. Foram registradas pelo menos 60 mortes e centenas de feridos, desalojados e desabrigados.

Em 2022, tragédia semelhante ocorreu na cidade de Petrópolis (RJ), quando mais de 200 pessoas morreram. Nesse mesmo ano, estados do Nordeste foram castigados com chuvas extremas e elevados números de mortes, sobretudo na cidade de Recife (PE). Nos anos de 2019 a 2022, o número de mortes relacionado a chuvas extremas também foi elevado no país.

Essas catástrofes recorrentes no Brasil têm em comum dois elementos: **o aumento do volume de chuva em níveis extremos e os deslizamentos de encostas**.

O volume de chuvas muito superior à média registrada ao longo das últimas décadas indica que esses eventos foram anormais e extremos. O aumento da frequência e da intensidade dos fenômenos climáticos extremos tem ocorrido também em outras partes do mundo, não podendo mais ser considerado uma exceção.

Para muitos cientistas, isso é uma das consequências do processo de mudanças climáticas, causadas pelas ações humanas no meio ambiente. Para designar esse novo modelo de comportamento do clima, os climatologistas utilizam o termo de **“novo normal climático”**, o qual a humanidade já está vivenciando.

Os deslizamentos de terra, por sua vez, são fenômenos naturais e comuns na natureza, especialmente em áreas de encosta e de relevo acidentado. Contudo, a ocupação dessas áreas agrava a situação, já que retira a vegetação e torna o solo mais suscetível a deslizamentos. No Brasil, muitas pessoas, geralmente de baixa renda, povoam essas áreas por serem uma das únicas alternativas possíveis para residência devido ao baixo custo.

O ideal seria não ocupar espaços de risco, porém, existem uma série de ações que o poder público poderia tomar para reduzir o impacto das chuvas extremas e dos deslizamentos de terra, por exemplo:

- Reassentar ao máximo as ocupações existentes nessas áreas. Devido à realidade do Brasil, muitas vezes isso não é possível, assim, busca-se a regularização fundiária com a normatização dessas ocupações e a implantação da urbanização possível e do que for possível preservar.
- A realização frequente de estudos que avaliem a suscetibilidade a deslizamentos das encostas ocupadas, a preservação da vegetação, a concretização de obras que permitam uma drenagem adequada e o despejo correto do lixo para que não bloqueiem as saídas de água e aumentem o peso sobre o solo.



ELEIÇÕES DE 2022 NO BRASIL

No ano de 2022, os cidadãos brasileiros foram às urnas votar nas chapas para Presidente da República e Vice-Presidente da República, Governador e Vice-Governador, Senador, Deputado Federal e Deputado Estadual ou Distrital.

O primeiro turno das eleições ocorreu em 2 de outubro, e o segundo no dia 30 de outubro. As datas correspondem ao primeiro e último domingo do mês, conforme prevê a Constituição Federal.

A seguir, vamos discorrer sobre alguns tópicos relevantes das eleições deste ano.

Sistema Eleitoral

O voto no Brasil é permitido a cidadãos maiores de 16 anos, e obrigatório entre 18 e 70 anos. Aqueles que não votarem em uma eleição e depois não apresentarem uma justificativa aceitável, como estar ausentes de seu lugar de votação na data, devem pagar uma multa de R\$ 3,51. Os cidadãos brasileiros que residem fora do Brasil só podem votar para a eleição presidencial.

Eleições majoritárias

As eleições para presidente, vice-presidente, governador e vice-governador dos estados e do Distrito Federal são feitas de acordo com o sistema **majoritário**. Assim, são eleitas as chapas (com titular e vice) que receberem mais votos. Caso alguma não obtenha a maioria absoluta (50% +1 dos votos válidos, o que exclui os brancos e os nulos), as duas chapas mais votadas concorrem entre si no segundo turno.

As eleições para senador também são majoritárias, mas, nesse caso, vence o mais votado (no caso de se eleger apenas um senador, como em 2022), ou os dois mais votados (quando há abertura de duas vagas), independentemente de quantidade de votos, sem possibilidade de segundo turno. Os mandatos dos senadores são de oito anos, de forma que, em cada eleição, são eleitos, alternadamente, um ou dois senadores.

Em 2022, um terço dos 81 membros do Senado Federal foram eleitos, os outros dois terços dos senadores foram escolhidos em 2018.

Eleições proporcionais

Nas eleições proporcionais (para deputados federais, estaduais e distritais), o sistema eleitoral é o voto proporcional por lista aberta. Nesse caso, o total de votos recebidos pelo partido (incluindo a possibilidade do voto em legenda, ou seja, apenas nos números do partido, sem indicação de candidato) define a quantidade de vagas que o partido recebe, e a ordem de preenchimento das vagas ocorre pela ordem decrescente do número de votos de cada um dos candidatos do partido.



Até as eleições gerais no Brasil em 2014, havia a possibilidade da formação de coligação partidária. O sistema de coligações para as eleições proporcionais foi extinto pela reforma eleitoral de 2017, e, nas eleições gerais de 2018, a distribuição de vagas foi apenas por partido. No entanto, a legislação continuou a permitir a união de partidos em torno de uma única candidatura nas eleições majoritárias (para os cargos presidente, senador, governador e prefeito). A partir das eleições de 2022, passou a valer o sistema da **federação partidária**, que se difere das coligações proporcionais, como veremos a seguir.

Federações Partidárias

A Lei nº 14.208, de 28 de setembro de 2021, é a responsável por regulamentar a criação de Federações Partidárias no Brasil. Seu conceito está expresso no artigo 11-A:

Art. 11-A: Dois ou mais partidos políticos poderão reunir-se em federação, a qual, após sua constituição e respectivo registro perante o Tribunal Superior Eleitoral, atuará como se fosse uma única agremiação partidária.

A Federação Partidária permite que dois ou mais partidos políticos se unam não somente nas eleições, mas também durante a legislatura. A união dos partidos na federação partidária tem abrangência nacional e duração mínima de quatro anos. Todos os partidos da federação partidária terão que apoiar os mesmos candidatos majoritários em nível nacional, estadual e municipal. Haverá uma única chapa de candidaturas proporcionais, como se fosse uma coligação, para as eleições de deputados e vereadores.

As Federações Partidárias podem ser equiparadas a partidos políticos. Isso significa que elas funcionarão por meio de uma bancada dentro das Casas Legislativas, o que resulta em uma diminuição no número de bancadas nos Legislativos.

Além disso, o objetivo é unir partidos com afinidade ideológica e, dessa forma, facilitar para o eleitor acompanhar o seu voto, visto que há muitos partidos ativos atualmente com mais ou menos os mesmos ideais e princípios.

E ainda, as federações ajudam os partidos menores, ou com uma força parlamentar mais singela no Congresso Nacional, a alcançarem a cláusula de barreira, regra legal que limita a atuação de partidos políticos que não obtêm determinada porcentagem de votos no país.

Na hipótese de desligamento de um ou mais partidos, a federação poderá ter continuidade, desde que nela permaneçam ao menos duas agremiações. Contudo, a legenda que se desvincular antes do prazo mínimo de quatro anos poderá sofrer sanções, como a proibição de ingressar em nova federação, de celebrar coligação nas duas eleições seguintes e de utilizar recursos do Fundo Partidário até que seja completado o tempo remanescente.

O partido que se desligar da federação poderá participar da eleição isoladamente, se a ruptura ocorrer até seis meses antes do pleito. Caso a extinção da federação seja motivada pela fusão ou pela incorporação entre os partidos, nenhuma das penalidades será aplicada.



Qual a diferença entre Federação Partidária e Coligação Partidária?

As coligações partidárias são alianças que partidos fazem para aumentar as chances de vitória em uma eleição. As coligações têm uma natureza apenas eleitoral e temporária, sendo realizadas somente no período das eleições, posteriormente são extintas.

Já no caso das federações partidárias, dois ou mais partidos políticos podem se unir como se fossem um único partido, e essa união terá que ter uma duração mínima de quatro anos.

Cláusula de Barreira

A Emenda Constitucional 103 nº 97, de 4 de outubro de 2017 (também conhecida como mini reforma política), estabeleceu, dentre várias alterações, que os partidos precisam atingir um desempenho eleitoral mínimo para que tenham direito ao tempo de propaganda e acesso ao fundo partidário, que aumentará gradativamente até o ano de 2030. É a chamada "**cláusula de barreira**" ou "cláusula de desempenho".

Nas eleições deste ano, para que tenham acesso ao tempo de propaganda gratuita no rádio e na TV, além dos recursos do fundo partidário, as legendas deveriam alcançar, na eleição para a Câmara dos Deputados:

- no mínimo 2% dos votos válidos, distribuídos em pelo menos um terço das unidades da Federação, com um mínimo de 1% dos votos válidos em cada uma delas; ou
- eleger pelo menos 11 deputados federais distribuídos em pelo menos um terço das unidades da federação.

No caso das federações partidárias, para a verificação da cláusula de desempenho, deverão ser consideradas a soma da votação e a representação dos partidos unidos na federação.

Biometria

A justiça eleitoral tem gradualmente implantado a identificação e a verificação biométrica da impressão digital para votar. O objetivo é ter mais segurança e evitar fraudes, como um eleitor votar no lugar de outra pessoa com uma identidade falsa ou que alguém vote no lugar de um eleitor morto.

Nas eleições de 2018, mais de 50% dos eleitores brasileiros estavam aptos a votar por meio da identificação biométrica. A expectativa era de aumentar esse percentual para as eleições de 2020, para que, em 2022, fosse obrigatória em todo o país. Porém, devido à pandemia da covid-19, não houve identificação biométrica do eleitorado nas eleições de 2020. Pelo mesmo motivo, os cartórios eleitorais de todo o país suspenderam o cadastramento de novas biometrias até que a situação de emergência sanitária se regularize. O Tribunal Superior Eleitoral (TSE) reviu seu planejamento e passou a ter como meta que a identificação biométrica alcance quase 100% do eleitorado apto a votar até as eleições de 2026.



Minirreforma Eleitoral

Foi promulgada, no mês de setembro de 2021, a Emenda Constitucional 111, de 2021, também conhecida como “Minirreforma Eleitoral”, que contempla mudanças nas regras para as eleições no país. Vejamos algumas das principais alterações para a legislação eleitoral já vigentes nas eleições de 2022:

- **Fidelidade partidária:** pela nova regra, deputados federais, estaduais e distritais e vereadores que saírem do partido pelo qual tenham sido eleitos não perderão o mandato se a legenda concordar com a saída. Antes, vereadores e deputados só poderiam mudar de partido sem perder o mandato em caso de “justa causa”;
- **Incentivos a candidaturas de negros e mulheres:** votos dados a mulheres e pessoas negras serão contados em dobro para efeito da distribuição dos recursos dos fundos partidário e eleitoral nas eleições de 2022 a 2030;
- **Incorporação:** a Emenda Constitucional prevê uma regra para impedir que, em caso de incorporação de partidos, eventuais sanções aplicadas ao partido incorporado não sejam transferidas para o partido incorporador nem aos seus novos dirigentes, exceto aos que já integravam o partido incorporado;
- **Nova data de posse:** a partir das eleições de 2026, a posse do presidente da República será em 5 de janeiro. Já os governadores serão empossados no dia 6 de janeiro. Atualmente, ambas as cerimônias ocorrem em 1º de janeiro. Os candidatos eleitos para a Presidência da República e para os governos estaduais em 2022 tomarão posse normalmente em 1º de janeiro de 2023, entretanto, seus mandatos durarão até a posse de seus sucessores, em 5 e 6 de janeiro de 2027;
- **Consultas populares:** a PEC definiu regras para a realização de consultas populares sobre aspectos locais, que devem ser feitas junto com as eleições municipais. Essas consultas terão que ser aprovadas pelas câmaras municipais e encaminhadas à Justiça Eleitoral até 90 dias antes da data das eleições, e as manifestações dos candidatos sobre essas questões não poderão ser exibidas durante a propaganda gratuita no rádio e na televisão.

-

Balanço das Eleições

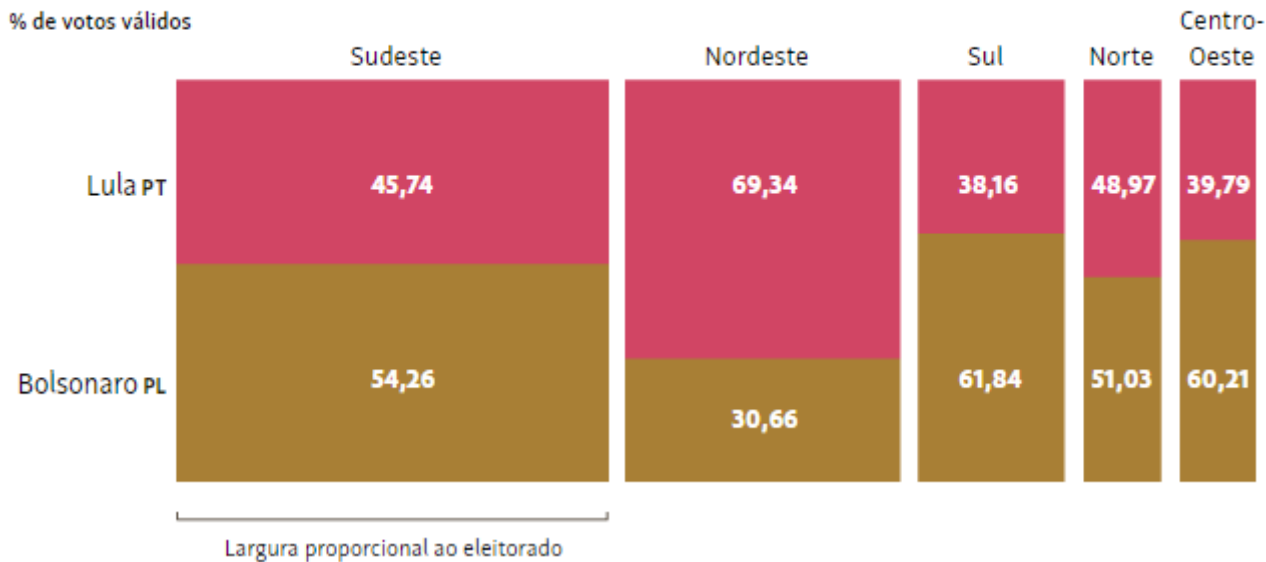
Lula (PT) venceu as eleições presidenciais de 2022, em segundo turno. Com 100% das urnas apuradas, Lula recebeu 60.345.999 votos (50,9% dos votos válidos) e Jair Bolsonaro (PL) 58.206.354 votos (49,1% dos votos válidos). É a menor diferença da história brasileira desde a redemocratização da década de 1980, após o regime militar.

Lula venceu em 13 estados, Bolsonaro também venceu em 13 estados mais o Distrito Federal. O Nordeste foi decisivo para a vitória de Lula, sendo a única das cinco grandes regiões em que o petista superou Bolsonaro. No geral, Lula e Bolsonaro mantiveram os percentuais de votos no Nordeste, nas eleições de 2018 e 2022. Para alguns analistas políticos, o Sudeste foi decisivo para a vitória de Lula e a derrota de Bolsonaro, já que o candidato do PT cresceu nessa região em comparação a 2018, enquanto o candidato do PL diminuiu



a sua votação. Vejamos nos infográficos, a seguir, mais informações sobre o resultado da eleição presidencial:

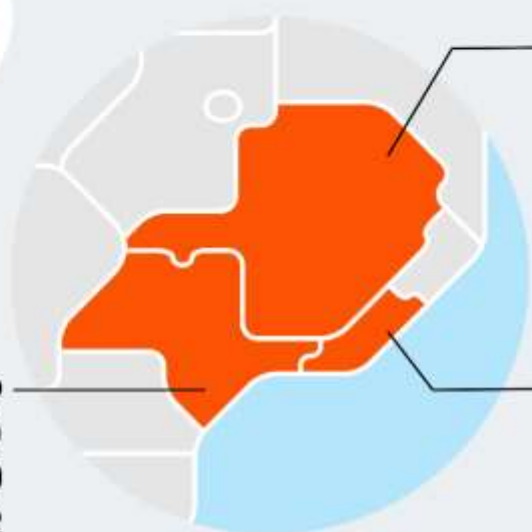
Como votou cada região



RESULTADOS 2º TURNO - 2018 X 2022

O TRIÂNGULO DAS BERMUDAS DE BOLSONARO

em 2022, o presidente teve 11,4 pontos percentuais dos votos válidos a menos na soma das 3 regiões



São Paulo
(% votos válidos)

2018	68,0
2022	55,2

variação **-12,7 p.p.**

Minas Gerais
(% votos válidos)

2018	58,2
2022	49,8

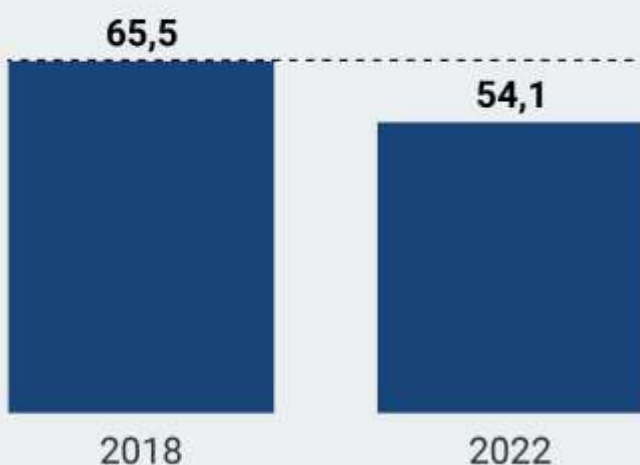
variação **-8,4 p.p.**

Rio de Janeiro
(% votos válidos)

2018	68,0
2022	56,5

variação **-11,5 p.p.**

placar somado dos votos válidos em SP, RJ e MG



11,4

p.p. a menos

equivalente a **5,4 milhões** de votos válidos que Bolsonaro poderia ter tido se **repetisse percentual de 2018**

fonte: TSE (Tribunal Superior Eleitoral)



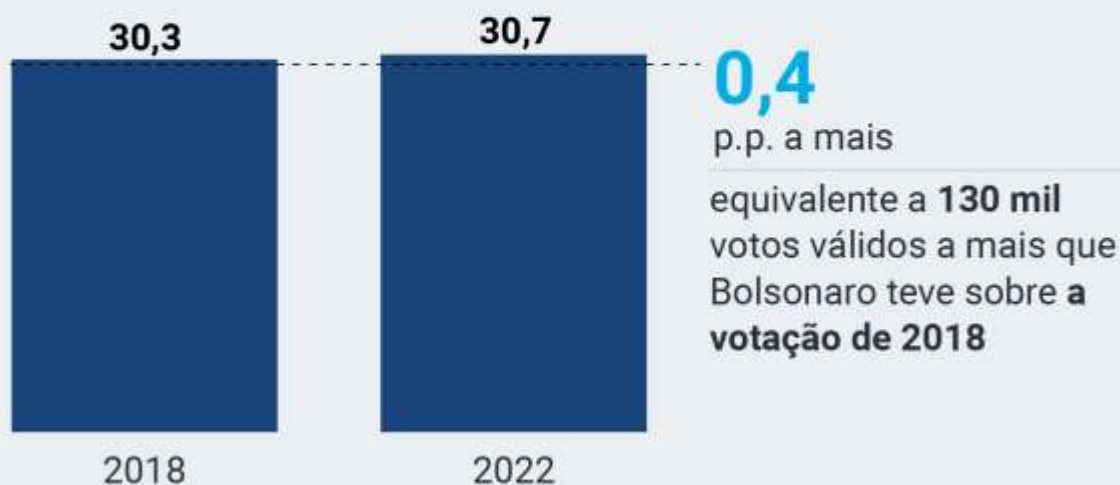
RESULTADOS 2º TURNO - 2018 X 2022

O NORDESTE DE BOLSONARO

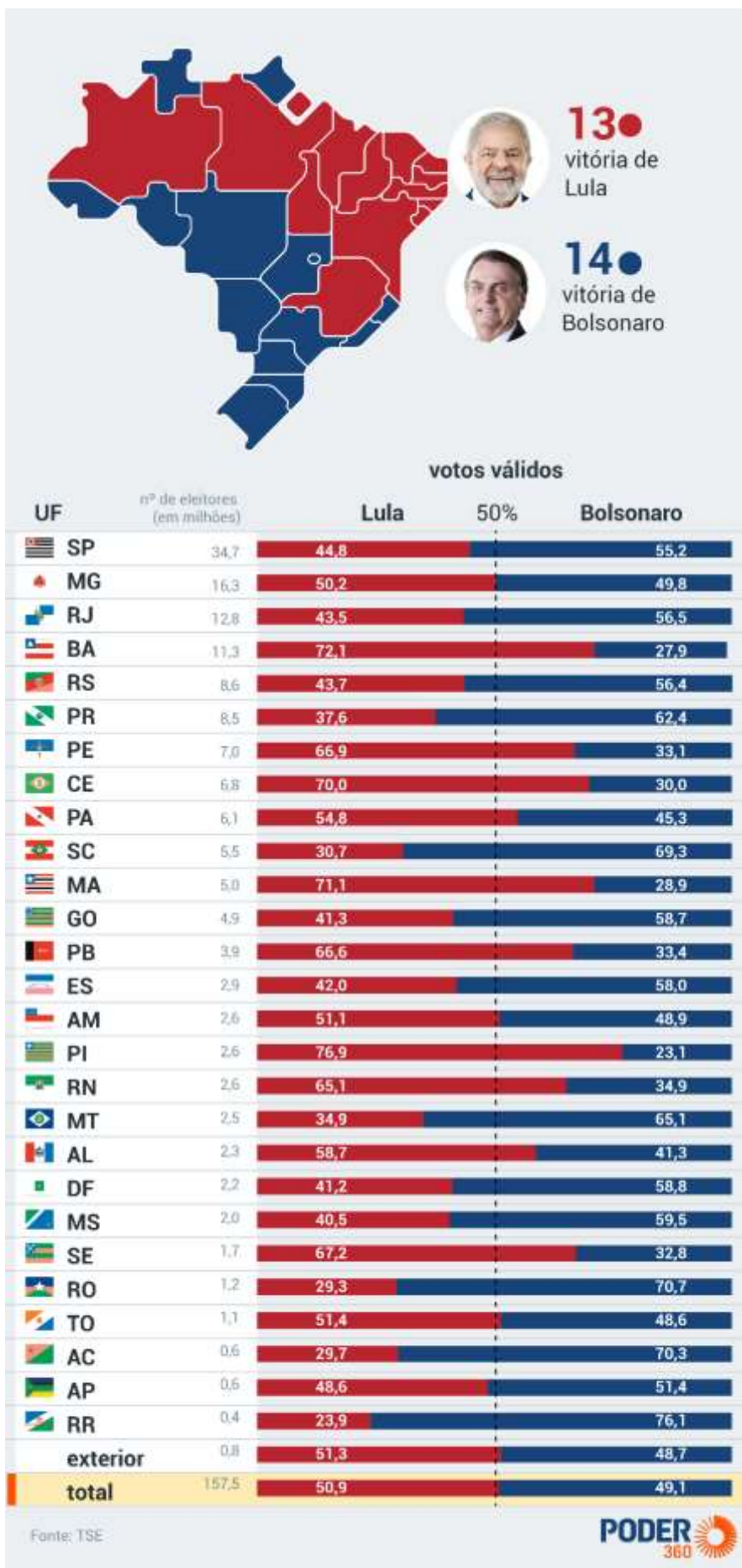
percentual de apoio ao presidente foi maior em 2022 ante 2018



placar somado dos votos válidos no Nordeste



Fonte: TSE



Lula assumiu, em janeiro de 2023, aos 77 anos, sendo o mais velho ocupante do cargo na história. É sua terceira passagem pelo governo, pois já liderou em dois mandatos anteriores (2003-2010).

Essa foi também a primeira vez que o pleito foi decidido entre dois nomes que já comandaram o país.

As abstenções no segundo turno das eleições presidenciais chegaram a 20,58% do total de eleitores aptos a voto, o menor registrado desde 2006. **Esta é a primeira vez que a abstenção no segundo turno foi menor que a do primeiro turno (20,95%).** Números do Tribunal Superior Eleitoral (TSE) evidenciam que as taxas de abstenção tendem a crescer entre o primeiro e o segundo turno, histórico interrompido nesse pleito.

Senado Federal

O **Partido Liberal (PL)**, de Jair Bolsonaro, elegeu o maior número de Senadores e, com isso, terá a maior bancada no Senado Federal, com oito senadores eleitos em 2022.

A sigla passou a ocupar 14 das 81 cadeiras do Senado na legislatura que começou em 2023. É o partido que apresentou maior crescimento de bancada nessas eleições. Em seguida, o **União Brasil**, com 11 senadores, será a segunda maior bancada.

O **MDB**, por sua vez, foi quem mais perdeu no Senado: passou de 12 para nove senadores, e de primeira para quarta maior bancada. O **PT**, de Luiz Inácio Lula da Silva, passou de sete para nove senadores, empatando com o MDB na quarta posição.

Vejamos no infográfico a seguir como está a composição do Senado Federal após as eleições de 2023:



Câmara dos Deputados

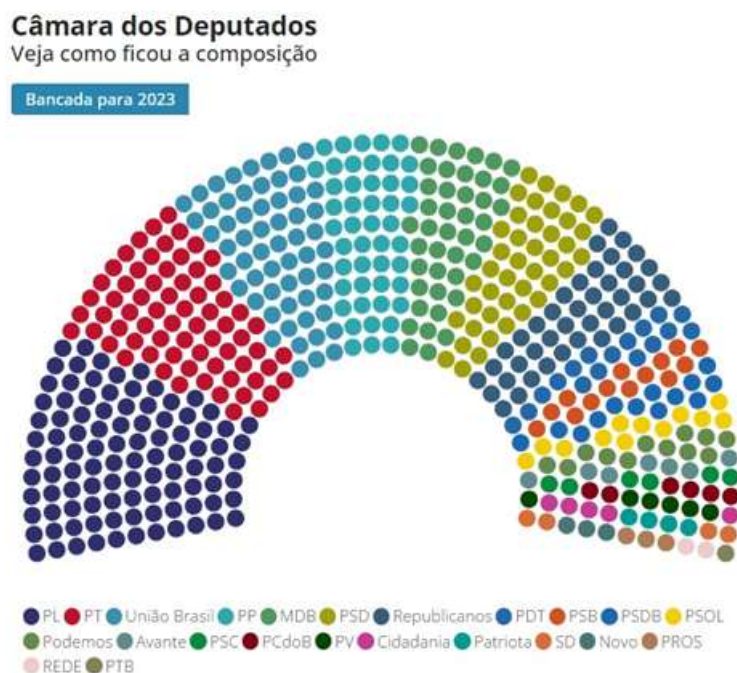
O **PL** também elegeu a maior bancada na Câmara dos Deputados. A legenda conseguiu 99 vagas para deputado, fiando à frente do **PT** (68), do **União Brasil** (59), do **PP** (47) e do **MDB** (42).

No comparativo com a atual bancada da Câmara dos Deputados, o **PL** foi o partido que mais aumentou o número de deputados, somando 22 parlamentares a mais. O **PT** vem em seguida, com 12 deputados a mais.

Por outro lado, o **PSDB** foi o partido que teve a maior redução na bancada, saindo dos atuais 23 deputados para 13. Esse foi o pior resultado, ao menos, desde 1998, último ano em que os dados estão disponíveis no site da Câmara dos Deputados. O **PP** também teve redução de 10 vagas: em 2018 eram 57 deputados, agora foram eleitos 47.

Além disso, foram reduzidos o número de partidos com representantes na Câmara. Foram eleitos deputados de 23 partidos para a legislatura 2023-2026, número menor que o registrado em 2018, quando 30 siglas conseguiram eleger ao menos um deputado.

Vejamos no infográfico a seguir como está a composição da Câmara dos Deputados após as eleições de 2023:



Partidos	Bancada para 2023	Bancada atual (titulares)
● PL	99	77
● PT	68	56
● União Brasil	59	52
● PP	47	57
● MDB	42	37
● PSD	42	46
● Republicanos	41	43
● PDT	17	19
● PSB	14	23
● PSDB	13	23
● PSOL	12	8
● Podemos	12	8
● Avante	7	6
● PSC	6	9
● PCdoB	6	8
● PV	6	4
● Cidadania	5	6
● Patriota	4	5
● SD	4	8
● Novo	3	8
● PROS	3	4
● REDE	2	2

g1

Fonte: TSE

O Brasil elegeu um número recorde de mulheres e negros. A partir de 2023, a Câmara passou a ter 91 deputadas federais e 135 parlamentares negros, pardos ou pretos, segundo a denominação do IBGE. **O número de negros e de mulheres na Câmara tem aumentado progressivamente no país ao longo dos últimos anos.**

A Câmara dos Deputados também tem pela primeira vez na história duas mulheres **trans** como deputadas federais: Erika Hilton (PSOL-SP) e Duda Salabert (PDT-MG).

Também foram eleitas, pela primeira vez, duas mulheres **indígenas** como deputadas federais no Brasil. Sonia Guajajara (PSOL) conquistou o marco em São Paulo, com mais de 156 mil votos, e Célia Xakriabá (PSOL) recebeu 101 mil votos, ganhando em Minas Gerais.

Os deputados federais mais votados foram: 1º Nikolas Ferreira (PL-MG), vereador de Belo Horizonte que tem 26 anos e contou com o apoio de 1.492.047 de eleitores; 2º Guilherme Boulos (PSOL-SP), com 1.001.472 votos; 3ª Carla Zambelli (PL-SP), com 946.244 votos; 4º Eduardo Bolsonaro (PL-SP), com 741.701; 5º Ricardo Salles (PL-SP), ex-ministro do Meio Ambiente na gestão Bolsonaro, eleito com 640.918 votos.

Governos Estaduais

Nas eleições de 2022, quinze estados decidiram o governador no primeiro turno e 15 no segundo turno.



Essas eleições bateram recorde de governadores reeleitos desde 2006: dos 20 candidatos, 18 confirmaram o segundo mandato. Apenas em dois estados, São Paulo e Santa Catarina, os eleitores escolheram em não dar continuidade ao governo atual.

Com quatro estados, PT e União Brasil são os partidos com mais estados sob comando. Outros três partidos elegeram três governadores cada um: MDB, PSB e PSDB. Quatro partidos elegeram dois governadores: PL, PP, PSD e Republicanos. Dois partidos elegeram apenas um representante cada: Novo e Solidariedade.

É possível conferir a seguir a lista de governadores eleitos:



PT E UNIÃO BRASIL SÃO OS PARTIDOS COM MAIS ESTADOS EM 2023

governadores eleitos em 2022

partidos

- PT
- PTB
- PSB
- PP
- MDB
- PL
- PSDB
- Novo
- União
- Solidariedade
- PSD
- Republicanos



UF	governador eleito	milhões de eleitores
AC	Gladson Cameli (PP)	0,6
AL	Paulo Dantas (MDB)	2,3
AM	Wilson Lima (União Brasil)	2,6
AP	Clécio Luis (Solidariedade)	0,6
BA	Jerônimo Rodrigues (PT)	11,3
CE	Elmano de Freitas (PT)	6,8
DF	Ibaneis Rocha (MDB)	2,2
ES	Renato Casagrande (PSB)	2,9
GO	Ronaldo Caiado (União B.)	4,9
MA	Carlos Brandão (PSB)	5,0
MG	Romeu Zema (Novo)	16,3
MS	Eduardo Riedel (PSDB)	2,0
MT	Mauro Mendes (União B.)	2,5
PA	Helder Barbalho (MDB)	6,1
PB	João Azevêdo (PSB)	3,1
PE	Raquel Lyra (PSDB)	7,0
PI	Rafael Fonteles (PT)	2,6
PR	Ratinho Jr. (PSD)	8,5
RJ	Cláudio Castro (PL)	12,8
RN	Fátima Bezerra (PT)	2,6
RO	Marcos Rocha (União Brasil)	1,2
RR	Antonio Denarium (PP)	0,4
RS	Eduardo Leite (PSDB)	8,6
SC	Jorginho Melo (PL)	5,5
SE	Fábio Mitidleri (PSD)	1,7
SP	Tarcísio de Freitas (Republicanos)	34,7
TO	Wanderlei Barbosa (Republicanos)	1,1

fonte: TSE





Eleições de 2022 no Brasil

No ano de 2022, os cidadãos brasileiros foram às urnas votar para nas chapas para Presidente e Vice-Presidente da República, Governador e Vice-Governador, Senador, Deputado Federal e Deputado Estadual ou Distrital.

As eleições para presidente, vice-presidente, governador e vice-governador dos estados e do Distrito Federal são feitas de acordo com o sistema **majoritário**, no qual são eleitas as chapas (com titular e vice) que receberem mais votos. As eleições para senador também são majoritárias, mas, nesse caso, vence o mais votado. Em 2022, um terço dos 81 membros do Senado Federal foram eleitos, tendo os outros dois terços sido escolhidos em 2018.

Para as eleições de 2022, valeu o sistema da **federação partidária**, o qual permite que dois ou mais partidos políticos se unam não somente nas eleições, mas também durante a legislatura. A união dos partidos na federação partidária tem abrangência nacional e uma duração mínima de quatro anos. Todos os partidos da federação partidária terão que apoiar os mesmos candidatos majoritários em nível nacional, estadual e municipal. Haverá uma única chapa de candidaturas proporcionais, como se fosse uma coligação, para as eleições de deputados e vereadores.

A Emenda Constitucional 103 nº 97, de 4 de outubro de 2017 (também conhecida como mini reforma política), estabeleceu, dentre várias alterações, que os partidos precisam atingir um desempenho eleitoral mínimo para que tenham direito ao tempo de propaganda e acesso ao fundo partidário, que aumentará gradativamente até o ano de 2030. É a chamada "**cláusula de barreira**" ou "cláusula de desempenho".

Nas eleições de 2018, mais de 50% dos eleitores brasileiros estavam aptos a votar por meio da **identificação biométrica**. A expectativa era de aumentar esse percentual para as eleições de 2020, para que, em 2022, fosse obrigatória em todo o país. Todavia, devido à pandemia da covid-19, não houve identificação biométrica do eleitorado nas eleições de 2020 e, pelo mesmo motivo, os cartórios eleitorais de todo o país suspenderam o cadastramento de novas biometrias até que a situação de emergência sanitária se regularize.

Minirreforma Eleitoral

As principais mudanças implementadas pela Emenda Constitucional 111, de 2021, foram:

- **Fidelidade partidária:** deputados federais, estaduais e distritais e vereadores que saírem do partido pelo qual tenham sido eleitos não perderão o mandato se a legenda concordar com a saída;
- **Incentivos a candidaturas de negros e mulheres:** votos dados a mulheres e pessoas negras serão contados em dobro para efeito da distribuição dos recursos dos fundos partidário e eleitoral nas eleições de 2022 a 2030;



- **Incorporação:** em caso de incorporação de partidos, eventuais sanções aplicadas ao partido incorporado sejam transferidas para o partido incorporador nem aos seus novos dirigentes, exceto aos que já integravam o partido incorporado;
- **Nova data de posse:** a partir das eleições de 2026, a posse do presidente da República será em 5 de janeiro. Já os governadores serão empossados no dia 6 de janeiro;
- **Consultas populares:** a realização de consultas populares sobre questões locais deve ser feita junto com as eleições municipais, e terão que ser aprovadas pelas câmaras municipais e encaminhadas à Justiça Eleitoral até 90 dias antes da data das eleições. As manifestações dos candidatos sobre essas questões não poderão ser exibidas durante a propaganda gratuita no rádio e na televisão.

Veto: O Senado rejeitou a volta das coligações para as eleições proporcionais, as quais haviam sido aprovadas na Câmara dos Deputados e extintas na Reforma Eleitoral de 2017.

Balanço das Eleições

A eleição para presidente da república foi disputada em um segundo turno, entre Lula (PT) e Jair Bolsonaro (PL). Com 100% das urnas apuradas, Lula recebeu 50,9% dos votos e Bolsonaro, 49,1%.

Lula venceu em 13 Estados, e Bolsonaro também venceu em 13 estados mais o Distrito Federal. O Nordeste foi decisivo para a vitória de Lula, sendo a única das cinco grandes regiões nas quais o petista superou Bolsonaro.

Senado Federal - O Partido Liberal (PL) elegeu o maior número de Senadores e, com isso, terá a maior bancada no Senado Federal: 14 senadores. Em seguida, o **União Brasil**, com 11 senadores, será a segunda maior bancada. A terceira maior bancada será do **MDB** e **PSD**, ambos com 10 senadores. O **PT** ficará com a quinta maior bancada, com nove senadores.

Câmara dos Deputados - O PL também elegeu a maior bancada na Câmara dos Deputados. A legenda conseguiu 99 vagas para deputado, ficando à frente de **PT** (68), do **União Brasil** (59), do **PP** (47) e do **MDB** (42).

Na Câmara dos Deputados, o Brasil elegeu um número recorde de mulheres e negros. Também terá pela primeira vez na história duas mulheres trans como deputadas federais, além de serem eleitas, pela primeira vez, duas mulheres indígenas como deputadas federais no Brasil.

Governos Estaduais - Essas eleições bateram recorde de governadores reeleitos desde 2006: dos 20 candidatos, 18 confirmaram o segundo mandato. Apenas em dois estados, São Paulo e Santa Catarina, os eleitores escolheram em não dar continuidade ao governo atual.

Com quatro estados, PT e União Brasil são os partidos com mais governos estaduais sob comando. Outros três partidos elegeram três governadores cada um: MDB, PSB e PSDB. Quatro partidos elegeram dois governadores: PL, PP, PSD e Republicanos. Dois partidos elegeram apenas um representante cada: Novo e Solidariedade.



QUESTÕES COMENTADAS – ELEIÇÕES DE 2022 NO BRASIL – MULTIBANCAS

1. (FGV/TRT-PB/2022) Nas eleições deste ano, elegemos nosso futuro Presidente, nossos futuros Governadores de estado, senadores, deputados federais e deputados estaduais. Desses, são representantes do Poder Legislativo

- (A) os governadores e os senadores.
- (B) o Presidente e os senadores.
- (C) os governadores, os deputados e os senadores.
- (D) os senadores, apenas.
- (E) os deputados federais, os deputados estaduais e os senadores.

COMENTÁRIOS:

Os representantes do Poder Legislativo no Brasil são os deputados federais, os deputados estaduais e os senadores.

O presidente e os governadores, que também foram eleitos em 2022, são representantes do Poder Executivo.

Gabarito: E

2. (QUADRIX/PREFEITURA DE BARREIRAS-BA/2022) A respeito do sistema eleitoral brasileiro e dos vários aspectos relacionados a esse assunto, assinale a alternativa correta.

- (A) Nas eleições que ocorrerão no Brasil em 2022, estarão em disputa cargos para as três esferas de poder: a eleição de presidente e governadores dar-se-á na esfera do Poder Executivo; a eleição de deputados ocorrerá no âmbito do Poder Legislativo; e a eleição de senadores configurará uma disputa para o Poder Judiciário.
- (B) O sistema adotado no Brasil na eleição para o Poder Legislativo é o distrital misto, o que significa que os candidatos mais votados não serão, necessariamente, os eleitos.
- (C) No Brasil, o mandato de senador é de oito anos, com direito à reeleição, podendo concorrer a esse cargo somente os brasileiros com mais de 35 anos de idade.
- (D) O sistema brasileiro é semelhante ao estadunidense: em ambos os sistemas, o mandato de presidente é de quatro anos, e o mandatário pode ser reeleito apenas uma vez, não podendo voltar a concorrer ao cargo em uma eleição futura.

COMENTÁRIOS:



a) Incorreta. Nas eleições de 2022, estiveram em disputa os cargos para duas esferas de poder. A eleição de presidente e governadores se deu na esfera do Poder Executivo. Já a eleição de deputados e senadores ocorreu no âmbito do Poder Legislativo. Os membros do Poder Judiciário não são escolhidos por meio de eleições, mas, em geral, são selecionados por concurso público.

b) Incorreta. O sistema adotado no Brasil na eleição para o Poder Legislativo (deputados e senadores) é chamado de sistema proporcional, em que o total de votos recebidos pelo partido define a quantidade de vagas que essa organização política recebe, e o preenchimento das vagas é definido pela ordem decrescente do número de votos de cada um dos candidatos do partido.

c) Correta. No Brasil, o mandato de senador é de oito anos, com direito à reeleição, podendo concorrer a esse cargo somente os brasileiros com mais de 35 anos de idade.

d) Incorreta. O sistema eleitoral brasileiro é bastante diferente do estadunidense. No Brasil, o presidente se elege com a maioria dos votos populares; nos Estados Unidos, o presidente se elege com a maioria dos votos do colégio eleitoral, que é formado pelos delegados eleitos pelos estados.

Todavia, em ambos os sistemas, o mandato de presidente é de quatro anos e o mandatário pode ser reeleito apenas uma vez. Se reeleito, não poderá concorrer na eleição seguinte, mas poderá voltar a concorrer ao cargo em uma eleição futura.

Gabarito: C

(QUADRIX/CREMEGO/2022) A respeito das eleições que ocorrerão no Brasil em outubro deste ano e de assuntos correlatos, julgue os itens.

3. Os cargos que serão disputados nas eleições deste ano são os seguintes: cargo de presidente da República; cargos de governador; cargos de senador; cargos de deputados federais; e cargos de deputados estaduais (ou distritais, no caso do Distrito Federal).

COMENTÁRIOS:

Nas eleições de 2022 no Brasil, foram disputados os cargos de Presidente da República e Vice-Presidente da República, de Governador e Vice-Governador, de Senador, de Deputado Federal e Deputado Estadual ou Distrital, no caso do Distrito Federal.

Gabarito: Certo

4. Nas próximas eleições, menos da metade do eleitorado brasileiro deverá exercer o seu direito ao voto com identificação biométrica.

COMENTÁRIOS:

A justiça eleitoral tem gradualmente implantado a identificação e a verificação biométrica da impressão digital para votar. Quando se iniciou o processo, a estimativa era de que, nas eleições de 2022, 100% do eleitorado brasileiro estivesse com o cadastro biométrico e ela fosse obrigatória em todo o país. Contudo, devido à pandemia de covid-19, o processo de cadastramento dos eleitores no sistema biométrico ficou suspenso.



Uma estimativa divulgada pelo TSE no mês de agosto informou que 118.151.816 (75,52%) dos eleitores estavam com as digitais cadastradas para as eleições gerais de 2022, o que representa mais da metade do eleitorado brasileiro.

Gabarito: Errado

5. O atual presidente da República concorrerá pelo mesmo partido pelo qual se elegeu no pleito de 2018.

COMENTÁRIOS:

O ex-Presidente da República, Jair Bolsonaro, foi eleito pelo Partido Social Liberal (PSL). Em 2022, concorreu pelo Partido Liberal (PL).

Gabarito: Errado

(QUADRIX/CREMEGO/2022) Em 2022, o Brasil comemora uma importante data cívica. Além disso, serão realizadas eleições para o Poder Executivo e para o Poder Legislativo. Relativamente a esse quadro, julgue os itens.

6. Quem coordena as eleições brasileiras, em âmbito nacional, é o Tribunal Superior Eleitoral (TSE).

COMENTÁRIOS:

Quem coordena as eleições brasileiras, em âmbito nacional, é o Tribunal Superior Eleitoral (TSE), sendo a instância jurídica máxima da Justiça Eleitoral brasileira, com jurisdição nacional. As demais instâncias são representadas nos momentos de eleição pelos Tribunais Regionais Eleitorais, juízes eleitorais e juntas eleitorais espalhados pelo Brasil.

Gabarito: Certo

7. Diferentemente do que ocorria no Regime Militar, a eleição do presidente da República, dos governadores e dos prefeitos se faz, atualmente, pelo voto indireto.

COMENTÁRIOS:

O voto indireto é aquele em que os candidatos políticos são eleitos por meio de um colegiado eleitoral, sem a participação direta do povo na escolha dos seus representantes. Foi o sistema eleitoral utilizado durante o período do Regime Militar para a eleições do presidente da república e dos governadores. Os prefeitos eram indicados. Em 1972, foram restauradas as eleições diretas para prefeito, exceto para as capitais e municípios considerados áreas de segurança nacional.

Atualmente, a eleição do presidente da República, dos governadores e dos prefeitos se faz pelo **voto direto**. O voto direto é dado pelo eleitor sem intermediação de nenhum agente, escolhendo o candidato que quiser, votar em branco ou anular seu voto.

Gabarito: Errado



8. Cada estado brasileiro e o Distrito Federal elegem um único senador para exercer o mandato por quatro anos.

COMENTÁRIOS:

No total, o Brasil tem 81 senadores. Cada um dos 26 estados e o Distrito Federal elegem três senadores.

O mandato dos senadores é de oito anos, mas as eleições para o Senado acontecem de quatro em quatro anos. Assim, a cada eleição, a casa renova, alternadamente, um terço e dois terços de suas 81 cadeiras.

No ano de 2022, cada estado elegeu um senador, já que, em 2018, 2/3 do Senado foi renovado.

Gabarito: Errado

9. (QUADRIX/CRA-PR/2022 – ANALISTA DE SISTEMA) Desde a redemocratização, em 1985, que encerrou duas décadas de regime autoritário, o Brasil tem ido regularmente às urnas para escolher, por eleições diretas, seus representantes no Legislativo e no Executivo, nos três níveis: municipal; estadual; e federal.

COMENTÁRIOS:

O Brasil viveu um regime autoritário, militar-civil, de 1964 a 1985. Após a redemocratização, em 1985, o país passou a ter eleições diretas regulares para eleger os seus representantes no Legislativo e no Executivo, nos três níveis: municipal, estadual e federal. As primeiras eleições presidenciais livres e diretas no Brasil ocorreram em 1989, quando Fernando Collor de Mello, do Partido da Reconstrução Nacional (PRN), foi eleito.

O período democrático atual, apesar de existir a pouco mais de três décadas, é o mais longo já vivido no Brasil em toda a sua história. Ou seja, grande parte da história brasileira foi de regimes autoritários. A democracia é um dos pilares fundamentais da nossa República.

Gabarito: Certo

10. (QUADRIX/CRA-PR/2022 – ANALISTA DE SISTEMA) No Brasil, a eleição de prefeitos, governadores e senadores e do presidente da República dá-se pelo voto proporcional; já vereadores e deputados federais, estaduais e distritais são eleitos pelo voto majoritário.

COMENTÁRIOS:

A questão fez uma inversão dos conceitos.

As eleições para presidente, governadores, prefeitos e senadores são feitas de acordo com o sistema **majoritário**. Nesse sistema, são eleitas as chapas (com titular e vice) que receberem mais votos. No caso dos senadores, vence o mais votado (nas eleições em que há eleição de apenas um senador, como em 2022), ou os dois mais votados (nas eleições em que há abertura de duas vagas).

As eleições para vereadores, deputados federais, estaduais e distritais ocorrem pelo sistema de voto **proporcional**. Nesse sistema, o total de votos recebidos pelo partido define a quantidade de vagas que o



partido recebe, e a ordem de preenchimento das vagas é estabelecida pela ordem decrescente do número de votos de cada um dos candidatos do partido.

Gabarito: Errado

11. (QUADRIX/CRP-10/2022 – ASSISTENTE ADMINISTRATIVO) Neste 2022, o Brasil tem marcadas eleições para a presidência da República, os governos estaduais e senadores e deputados federais e estaduais.

COMENTÁRIOS:

No ano de 2022, os cidadãos brasileiros foram às urnas votar para Presidente da República, Governador, Senador, Deputado Federal e Deputado Estadual ou Distrital.

Gabarito: Certo



LISTA DE QUESTÕES – ELEIÇÕES DE 2022 NO BRASIL – MULTIBANCAS

1. (FGV/TRT-PB/2022) Nas eleições deste ano, elegemos nosso futuro Presidente, nossos futuros Governadores de estado, senadores, deputados federais e deputados estaduais. Desses, são representantes do Poder Legislativo

- (A) os governadores e os senadores.
- (B) o Presidente e os senadores.
- (C) os governadores, os deputados e os senadores.
- (D) os senadores, apenas.
- (E) os deputados federais, os deputados estaduais e os senadores.

2. (QUADRIX/PREFEITURA DE BARREIRAS-BA/2022) A respeito do sistema eleitoral brasileiro e dos vários aspectos relacionados a esse assunto, assinale a alternativa correta.

(A) Nas eleições que ocorrerão no Brasil em 2022, estarão em disputa cargos para as três esferas de poder: a eleição de presidente e governadores dar-se-á na esfera do Poder Executivo; a eleição de deputados ocorrerá no âmbito do Poder Legislativo; e a eleição de senadores configurará uma disputa para o Poder Judiciário.

(B) O sistema adotado no Brasil na eleição para o Poder Legislativo é o distrital misto, o que significa que os candidatos mais votados não serão, necessariamente, os eleitos.

(C) No Brasil, o mandato de senador é de oito anos, com direito à reeleição, podendo concorrer a esse cargo somente os brasileiros com mais de 35 anos de idade.

(D) O sistema brasileiro é semelhante ao estadunidense: em ambos os sistemas, o mandato de presidente é de quatro anos, e o mandatário pode ser reeleito apenas uma vez, não podendo voltar a concorrer ao cargo em uma eleição futura.

(QUADRIX/CREMEGO/2022) A respeito das eleições que ocorrerão no Brasil em outubro deste ano e de assuntos correlatos, julgue os itens.

3. Os cargos que serão disputados nas eleições deste ano são os seguintes: cargo de presidente da República; cargos de governador; cargos de senador; cargos de deputados federais; e cargos de deputados estaduais (ou distritais, no caso do Distrito Federal).

4. Nas próximas eleições, menos da metade do eleitorado brasileiro deverá exercer o seu direito ao voto com identificação biométrica.



5. O atual presidente da República concorrerá pelo mesmo partido pelo qual se elegeu no pleito de 2018.

(QUADRIX/CREMEGO/2022) Em 2022, o Brasil comemora uma importante data cívica. Além disso, serão realizadas eleições para o Poder Executivo e para o Poder Legislativo. Relativamente a esse quadro, julgue os itens.

6. Quem coordena as eleições brasileiras, em âmbito nacional, é o Tribunal Superior Eleitoral (TSE).

7. Diferentemente do que ocorria no Regime Militar, a eleição do presidente da República, dos governadores e dos prefeitos se faz, atualmente, pelo voto indireto.

8. Cada estado brasileiro e o Distrito Federal elegem um único senador para exercer o mandato por quatro anos.

9. (QUADRIX/CRA-PR/2022 – ANALISTA DE SISTEMA) Desde a redemocratização, em 1985, que encerrou duas décadas de regime autoritário, o Brasil tem ido regularmente às urnas para escolher, por eleições diretas, seus representantes no Legislativo e no Executivo, nos três níveis: municipal; estadual; e federal.

10. (QUADRIX/CRA-PR/2022 – ANALISTA DE SISTEMA) No Brasil, a eleição de prefeitos, governadores e senadores e do presidente da República dá-se pelo voto proporcional; já vereadores e deputados federais, estaduais e distritais são eleitos pelo voto majoritário.

11. (QUADRIX/CRP-10/2022 – ASSISTENTE ADMINISTRATIVO) Neste 2022, o Brasil tem marcadas eleições para a presidência da República, os governos estaduais e senadores e deputados federais e estaduais.

GABARITO



1. E
2. C
3. C
4. E

5. E
6. C
7. E
8. E

9. C
10. E
11. C



MOVIMENTOS SOCIAIS

Movimentos sociais são **formas de organização coletiva** que buscam **promover mudanças sociais, políticas ou culturais em uma sociedade**. Eles surgem a partir da mobilização de pessoas que compartilham interesses, valores ou objetivos comuns e atuam em prol de causas comuns, em resposta a problemas específicos, injustiças percebidas ou necessidades não atendidas a uma parcela da sociedade.

Os movimentos sociais podem abordar uma variedade de questões, como direitos civis, questões ambientais, justiça social, igualdade de gênero, direitos humanos, entre outros. Dessa forma, são meios de a população se mobilizar para manifestar seus anseios e reivindicar seus direitos. Ao longo da história, a prática dos movimentos sociais proporcionou transformações profundas em várias esferas da sociedade, como os direitos das mulheres, dos negros, dos trabalhadores, dentre outros.

Para alcançar seus objetivos, os movimentos sociais utilizam diversas estratégias, como protestos, manifestações, greves, campanhas de conscientização e pressão política, sempre visando mudanças em relação a alguma questão que envolve a sociedade como um todo ou parcelas da população que possuem certa demanda social.

Os movimentos sociais podem ser divididos em dois tipos:

- Movimentos conjunturais:** surgem a partir de uma demanda imediata da sociedade, que visa defender uma pauta atual, com duração curta e objetivos que podem ser alcançados a curto prazo. Um exemplo seria um movimento que busca a diminuição de preços de itens da sociedade, como combustível, passagem entre outros.
- Movimentos estruturais:** são movimentos que pretendem conquistar objetivos a longo prazo. Geralmente tratam de temáticas que envolvem muitos fatores e que a resolução do problema demanda uma alteração na estrutura social. Como exemplos, podemos citar o movimento sindical, estudantil, dos trabalhadores sem-terra, negro, feminista etc.

No Brasil, a história dos movimentos sociais é antiga e são registrados desde o período colonial, e, posteriormente, no período imperial, como, por exemplo, a Insurreição Pernambucana (1645), Inconfidência Mineira (1789), e a Revolução Farroupilha (1845). Para alguns historiadores, a própria Proclamação da República, em 1889, pode ser considerada como um movimento social, uma vez que foi motivada pela insatisfação de diferentes grupos da sociedade, sobretudo os militares, com a monarquia, representando um movimento de ruptura com a ordem vigente e uma busca por novos arranjos políticos e sociais.

Contudo, é na segunda metade do século XX que os movimentos sociais ganham força e grande relevância no país, ao se oporem ao regime militar em vigência durante os anos de 1964 a 1985. Destaca-se o **Movimento Estudantil**, que organizou grandes manifestações, como a Passeata dos Cem Mil e participou ativamente das Diretas Já e o impeachment de Fernando Collor, no movimento chamado de Caras Pintadas, nas décadas seguintes.

Mais recentemente, em junho de 2013, o **Movimento Passe Livre (MPL)** ganhou notoriedade ao liderar protestos contra o aumento das tarifas de transporte público. Essas manifestações, conhecidas como "Jornadas de Junho", deram início a uma nova fase dos movimentos sociais, abordando temas contemporâneos e a organização em rede.



Vamos ver, na sequência, alguns dos principais movimentos sociais brasileiros:

☐ **Movimento trabalhista:** Surge no Brasil no final do século XIX e início do século XX, com as greves de operários principalmente em São Paulo. A nascente industrialização brasileira, formou uma classe operária inicial que se mobilizou na reivindicação de direitos contra as parcas condições de salário e trabalho

No final da década de 1970 e no decorrer da década seguinte, o movimento trabalhista viveu seu auge, pois o Brasil estava num momento importante: saindo do regime militar para o democrático. O “novo sindicalismo” - como foi denominado - tinha como uma de suas características principais uma atuação reivindicatória, ao invés de apenas prestar assistência.

A sua principal expressão se deu com o movimento dos trabalhadores das indústrias do ABCD Paulista, que acabaram enfraquecendo o regime militar e contribuíram para a formação da Central Única dos Trabalhadores (CUT) e do Partido dos Trabalhadores (PT).

Com a chegada da década de 1990 vieram muitas mudanças (políticas, sociais, econômicas e até mesmo tecnológicas) todas estas mudanças – incluindo os avanços da globalização - arrefeceram as lutas trabalhistas.

Hoje, mesmo com todos estes avanços e inovações, o movimento trabalhista continua na luta por melhores condições de trabalho para tentar proporcionar ao trabalhador uma vida mais digna.

☐ **Movimento dos Trabalhadores Rurais Sem Terra (MST),** de base camponesa que surgiu em 1984. Os principais objetivos são a realização da reforma agrária, a prática da agricultura sustentável e a melhoria das condições de vida para os trabalhadores rurais sem terra.

O movimento busca chamar a atenção para a concentração de terras no país e a falta de acesso à terra para muitas famílias. Ao ocupar terras improdutivas, os membros do MST buscam pressionar o governo para efetivar a reforma agrária, promovendo a distribuição mais equitativa de terras.

☐ **Movimento dos Trabalhadores Sem Teto (MTST):** Fundado em 1997, o MTST é um movimento social que tem sua origem na luta por moradia digna. Sua atuação inicial concentrou-se na região metropolitana de São Paulo, mas ao longo dos anos expandiu suas atividades para outras partes do Brasil. O contexto que impulsionou a formação do MTST está relacionado à crise habitacional e à crescente urbanização no Brasil. O movimento se apoia no princípio da função social da terra, estabelecida pela Constituição Federal e Estatuto das Cidades (2001). E grande parte de suas ações objetivam pressionar pelo cumprimento dessas leis.

☐ **Movimento Feminista:** De modo geral, o movimento feminista busca a igualdade entre homens e mulheres em todas as esferas da sociedade, incluindo direitos legais, oportunidades de trabalho, e representação política. Contudo, esse movimento costuma ser dividido em três fases, ou ondas, cada uma com suas reivindicações específicas.

A primeira onda, que podemos localizar temporalmente do fim do século XIX até meados do século XX, foi caracterizada pela reivindicação, por parte das mulheres, dos diversos direitos que já estavam sendo debatidos — e conquistados — por homens de seu tempo.



A segunda onda tem seu início em meados dos anos 50 e se estende até meados dos anos 90 do século XX. Foi nessa época que foram iniciados uma série de estudos focados na condição da mulher, onde começou-se a construir uma teoria-base sobre a opressão feminina.

Geralmente, o início da terceira onda é associado ao surgimento de movimentos punk femininos, cuja ideologia girava em torno da negação a corporativismos e da defesa do “faça você mesmo” (*do it yourself*).

☐ **Movimento Negro**: Apesar de já ser um movimento presente desde a época da escravidão, o movimento negro ganha força no Brasil influenciado pela luta antirracismo nos Estados Unidos e na África do Sul, crescendo na década de 1970 com a criação do Movimento Negro Unificado (1978).

Desde então, várias organizações e coletivos têm trabalhado ativamente para combater o racismo e promover a igualdade racial no Brasil, buscando melhorias para a população negra. Algumas conquistas do movimento negro no país foram a criação do Dia Nacional da Consciência Negra, demarcação de terras quilombolas, as leis de cotas nas universidades, dentre outras.

☐ **Movimento LGBTQIA+**: O movimento LGBTQIA+ (sigla que significa: Lésbicas, Gays, Bissexuais, Travestis, Transexuais, Transgêneros, Queer, Intersexo e Assexual e mais), mais conhecido pela sociedade como Movimento LGBT, atua em busca da igualdade social e de direitos e contra o preconceito.

No Brasil, o surgimento mais visível aconteceu nas décadas de 1970 e 1980, durante o regime militar, quando a repressão política também se estendia à comunidade LGBTQIA+. O ativismo cresceu, principalmente nas grandes cidades, e ganhou destaque com a criação de organizações e grupos voltados para a defesa dos direitos LGBTQIA+.

O movimento ganhou ainda mais força nas décadas de 1990 e 2000, com avanços significativos na legislação. A conquista mais marcante foi a criminalização da homofobia pelo Supremo Tribunal Federal em 2019, reconhecendo-a como uma forma de discriminação. O Brasil também foi um dos primeiros países a aprovar o casamento entre pessoas do mesmo sexo.

☐ **Movimento Ecológico**: concentra-se nos projetos voltados a estudar o impacto do capitalismo no meio ambiente, reivindicando medidas de proteção ambiental. Visa a conscientização da população e a fiscalização dos órgãos governamentais responsáveis por tratar dos assuntos ligados ao meio ambiente. O grande aprendizado que os ambientalistas buscam trazer é a consciência sobre o impacto das ações de hoje nas gerações futuras.

☐ **Movimento Indígena**: começou a se manifestar de maneira mais organizada a partir da década de 1970, em virtude na necessidade de proteger de suas terras no período de ditadura militar. Em 1973 foi publicado o "Estatuto do Índio", no qual o "índio" era considerado tutela do Estado por ser considerado "relativamente incapaz" a sua cultura era tratada como "transitória". Somente com a Constituição de 1988, foi assegurado aos povos indígenas o direito à sua própria cultura, direito processual e direito às terras tradicionalmente ocupadas, impondo a União o dever de zelar pelo cumprimento dos seus direitos.



Movimentos Sociais Tradicionais X Contemporâneos

Em princípio, os movimentos tradicionais se organizavam através de uma identidade de classe social, consistindo basicamente como movimentos operário-sindicais, dispostos a partir do trabalho e da produção. Nos movimentos sociais tradicionais os protagonistas principais eram os trabalhadores pobres e assalariados.

Os "Novos Movimentos Sociais", também denominados de "Movimentos Sociais Contemporâneos" são aqueles que atuam na luta por direitos políticos em diversos âmbitos. Esses movimentos incorporam tanto segmentos da classe média quanto pessoas à margem do mercado de trabalho e da sociedade, ou seja, situa-se para além da esfera imediata do trabalho e da produção, dando vez a diversas formas de identificação social como negros, gays, ambientalistas, ruralistas, feministas, pacifistas, veganistas, imigrantes, indígenas, consumidores, ativistas antiglobalização, atingidos por barragens e inúmeros outros.

Vejamos as principais características dos Novos Movimentos Sociais (NMS) conforme apresentadas por Jhonston, Larana e Gussfield (1994, apud Gohn, 19977):

1. Não há clara definição do papel estrutural dos participantes:

- Os NMS não seguem uma estrutura rígida de papéis e hierarquias.
- A participação é mais fluida, e os membros podem desempenhar diferentes funções ao longo do tempo.

2. Tendência para a base social dos NMS transcender a estrutura de classes:

- Os NMS não se limitam apenas à luta de classes.
- Eles abrangem uma pluralidade de identidades e interesses, indo além das divisões tradicionais de classe.

3. Emergência de novas dimensões da identidade:

- Os NMS envolvem questões de identidade, como gênero, orientação sexual, etnia, cultura etc.
- Essas dimensões pessoais e coletivas são centrais para os NMS.

4. Relação entre o indivíduo e o coletivo é obscurecida:

- Os NMS exploram a interação entre o individual e o coletivo.
- A noção de identidade pessoal influencia a ação coletiva.

5. Aspectos pessoais e íntimos da vida humana:

- Os NMS abordam questões que afetam a vida cotidiana das pessoas.
- Isso inclui aspectos pessoais, emocionais e sociais.

6. Uso de táticas radicais de mobilização de ruptura e resistência:



- Os NMS frequentemente adotam táticas como não violência e desobediência civil.
- Essas táticas diferem das abordagens tradicionais dos movimentos da classe trabalhadora.

7. Organização descentralizada e segmentada:

- Os NMS se formam em resposta à crise de confiança nos canais convencionais de participação política.
- Sua organização é mais difusa, segmentada e descentralizada, ao contrário dos partidos de massa tradicionais, centralizados e burocráticos.

Em resumo, os NMS são caracterizados por sua diversidade, foco em identidades e táticas inovadoras, bem como por sua organização descentralizada.



TERREMOTO NA TURQUIA E SÍRIA

No dia 6 de fevereiro de 2023, fortes sismos atingiram o Sul e o Centro da Turquia e o Norte e Oeste da Síria. Esse foi um dos terremotos mais fortes e letais já registrados na história, com inúmeras perdas de vidas e danos materiais.

Na verdade, não foi apenas um, mas dois sismos que ocorreram em um intervalo de algumas horas, seguidos também por centenas de réplicas (terremotos menores que sucederam o principal) e que chegaram a ser sentidos em países próximos, como Líbano, Israel, Iraque e Chipre.



Os termos **sismo**, **terremoto** ou **abalo sísmico** são formas diferentes para se referir ao mesmo fenômeno, isto é, tremores que ocorrem no interior da terra e se manifestam em seu exterior.

O epicentro do primeiro sismo foi registrado na cidade turca de **Gaziantep**. No local, os tremores alcançaram 7,8 na escala Richter. Já o epicentro do segundo abalo sísmico ocorreu próximo à cidade de **Kahramanmaras**, também na Turquia, e foi de 7,5 na escala Richter. Na figura a seguir é possível visualizar essas localizações:





Fonte: INGV

BBC

Quando um terremoto de elevada magnitude acontece, é comum nos referirmos ao seu epicentro para descrever exatamente onde ele ocorreu. Para entender o que é o epicentro de um terremoto, é necessário saber também o que é hipocentro. Esse ponto se refere ao local exato dentro da crosta terrestre em que houve a liberação de energia responsável pelo abalo sísmico. O epicentro, por sua vez, é a projeção desse ponto na superfície da Terra. O fato de o hipocentro ter sido muito próximo do epicentro nesses sismos fez com que a sua força fosse muito elevada.

O que causa um terremoto?

O interior do nosso planeta é dividido em três grandes partes: crosta, manto e núcleo. A crosta terrestre é a camada mais externa e próxima à superfície, enquanto o manto é a camada intermediária e o núcleo a mais profunda.

A crosta terrestre é composta por enormes placas de rocha, chamadas de **placas tectônicas**. Elas estão em constante movimento e, ao se chocarem ou se friccionarem, geram os tremores.



Por isso, nas zonas de encontro entre as placas tectônicas (também chamadas de zonas de falha tectônica), os terremotos são mais frequentes e mais intensos.

As duas cidades onde foram registrados os epicentros - Gaziantep e Kahramanmaraş – estão localizadas muito próximas a falhas tectônicas, em um local em que há o encontro de três placas tectônicas: a Placa da Anatólia, a Placa Africana e a Placa Arábica.

A figura a seguir demonstra as placas tectônicas da Terra e a sua distribuição pelo globo. Observe como o Brasil está longe das zonas de colisão de placas, o que faz com que não sejam registrados abalos sísmicos de magnitude expressiva no país.



Danos e vítimas

Até 19 de fevereiro de 2023, pelo menos 45 mil mortes foram relatadas, sendo 39 mil na Turquia e 6 mil na Síria. Mais de 100 mil pessoas ficaram feridas.

O frio do inverno que ocorre nessa época do ano na região agravou ainda mais a situação, prejudicando os esforços de resgate. Devido às temperaturas congelantes na área, os sobreviventes, especialmente aqueles presos sob os escombros, correram grande risco de hipotermia.

Já os danos materiais decorrentes da destruição de estruturas físicas causada pelos terremotos podem chegar a US\$ 25 bilhões (R\$ 130 bilhões na conversão atual), segundo o banco norte-americano JP Morgan. O valor corresponde a 2,5% do PIB turco.

O fato de terem sido dois fortíssimos sismos consecutivos contribuiu para a grande destruição, uma vez que o primeiro foi responsável por fragilizar muitas edificações, que se mantiveram parcialmente estáveis, mas sucumbiram após o segundo sismo.

Foi destruído também o **Castelo de Ganziatep**, uma edificação de relevante valor histórico construído há pelo menos 2 mil anos durante o Império Romano.

Na Síria, os impactos foram mais sentidos nas proximidades da fronteira com a Turquia, uma região marcada por elevados índices de pobreza. A fronteira turco-síria é a região da população **curda** e onde, na Turquia, se concentra boa parte dos refugiados da guerra civil da Síria.

Ajuda internacional

A tragédia mobilizou a comunidade internacional. Estados Unidos, União Europeia e muitos outros países anunciaram o envio de ajuda e equipes de resgate. Até mesmo a Grécia, rival histórico da Turquia, colaborou com ajudas ao país. O Brasil também encaminhou uma equipe especializada em busca e resgate urbano para localizar e dar suporte às vítimas, além de itens emergenciais para atendimento da população.

Terremotos mais fortes da história

Os tremores de 2023 foram os mais fortes registrados na Turquia desde 1939, quando o país registrou tremores também de 7,8 de magnitude na cidade de Erzincan, ao Leste do país, e 32 mil mortes.

No mundo, os cinco maiores terremotos já registrados foram:

1. no Chile (9,5 na escala Richter), em 1960;
2. no Estado norte-americano do Alasca (9,2), em 1964;
3. na Indonésia (9,1), em 2004;
4. no Japão (9,0), em 2011;
5. e na Rússia (9,0), em 1952.



Com relação ao número de mortos, o terremoto de 2010 no Haiti é o mais mortal na lista do Serviço Geológico dos EUA: 316 mil vítimas.



Terremoto na Turquia e Síria

Em 6 de fevereiro de 2023, dois fortes terremotos atingiram o Sul e o Centro da Turquia e o Norte e o Oeste da Síria, causando numerosas mortes e danos materiais.

O epicentro do primeiro terremoto foi registrado na cidade turca de **Gaziantep**, onde os tremores atingiram 7,8 na escala Richter. O epicentro do segundo evento sísmico ocorreu perto da cidade de **Kahramanmaras**, também na Turquia, e teve magnitude de 7,5 na escala Richter.

Os terremotos foram seguidos por centenas de réplicas que foram sentidas em países próximos, como Líbano, Israel, Iraque e Chipre. Pelo menos 45.000 mortes foram relatadas, com 39.000 na Turquia e 6.000 na Síria, e mais de 100.000 pessoas ficaram feridas.

As causas de um terremoto estão relacionadas ao movimento das **placas tectônicas da Terra**. A crosta terrestre é composta por enormes placas rochosas que estão em constante movimento e, quando se chocam ou se roçam umas nas outras, ocorrem os tremores. Portanto, os terremotos são mais frequentes e intensos nas zonas de encontro entre placas tectônicas, também chamadas de zonas de falha tectônica. As duas cidades onde os epicentros foram localizados - Gaziantep e Kahramanmaras - estão muito próximas de falhas tectônicas, em um lugar em que três placas tectônicas se encontram: a Placa da Anatólia, a Placa Africana e a Placa Arábica.

A tragédia mobilizou a comunidade internacional e muitos países anunciaram o envio de ajuda e equipes de resgate. Os Estados Unidos, a União Europeia, o Brasil e até a Grécia, um país rival, anunciaram suas intenções de fornecer ajuda. O inverno rigoroso na região exacerbou a situação, tornando os esforços de resgate mais difíceis. Os danos materiais causados pela destruição de estruturas físicas dos terremotos poderiam chegar a US \$ 25 bilhões, ou 2,5% do PIB da Turquia, de acordo com o JP Morgan.



VARIOLA DOS MACACOS

A varíola dos macacos é uma doença transmitida pelo vírus *Monkeypox*, que pertence ao gênero *Orthopoxvirus*. É considerada uma **zoonose viral** (o vírus é transmitido aos seres humanos a partir de animais).

A varíola dos macacos é uma doença antiga. O primeiro caso humano foi identificado em uma criança na República Democrática do Congo, em 1970. Contudo, encontrado e descrito pela primeira vez em 1958, em macacos de cativeiro que estavam na Dinamarca; por isso, leva o nome de varíola dos macacos.

Apesar do nome, os macacos não são os principais transmissores da doença e não têm nada a ver com o surto atual. A doença é encontrada em vários animais e mais frequentemente em roedores, como ratos e cão-da-pradaria. Embora o vírus possa passar de animais para humanos, o crescimento de casos do surto atual se deve ao contato próximo entre humanos.

Sintomas

Os sintomas da doença são muito semelhantes aos observados em pacientes com varíola, embora seja clinicamente menos grave, tais como:

- erupções ou lesões na pele que normalmente se iniciam no rosto e se espalham por todo o corpo;
- dores de cabeça, nas costas ou musculares;
- gânglios linfáticos inchados;
- fraqueza;
- febre.

As lesões cutâneas surgem de um a três dias após o início da febre, podem ser planas ou um pouco elevadas e estão cheias de líquido claro ou amarelo. Após alguns dias, as lesões se tornam crostas, secam e caem, como ocorre em ferimentos.

Tratamento

A doença geralmente se resolve sozinha e os sintomas costumam durar de duas a quatro semanas. Não há tratamentos específicos para infecções por vírus da varíola dos macacos.

No entanto, o vírus da varíola dos macacos e o da varíola são geneticamente semelhantes, o que significa que medicamentos e vacinas para proteção da varíola também podem ser usados para prevenir e tratar a varíola dos macacos.

Vacinas

A vacinação contra a varíola tradicional também é eficaz para a varíola dos macacos. Todavia, de acordo com a Organização Mundial de Saúde (OMS), a vacinação em massa para varíola dos macacos não é possível, já que não existe uma quantidade suficiente para toda a população.



A vacinação é indicada, desse modo, apenas para pessoas com risco de exposição ao vírus, incluindo trabalhadores da saúde com possível contato, pessoas que trabalham em laboratório ou em pesquisas com o *Orthopoxvirus*.

A prevenção e o controle dependem da conscientização das comunidades e da educação dos profissionais de saúde para prevenir a infecção e interromper a transmissão.

Transmissão

A varíola dos macacos é transmitida, de acordo com a OMS, por meio de:

- contato próximo com as lesões de pele;
- secreções respiratórias ou
- objetos usados por uma pessoa que está infectada.

Ao contrário da covid-19, em que há transmissão por meio de pequenas gotículas suspensas no ar, o entendimento atual com relação à varíola dos macacos é que o vírus causador da doença se espalha pelo contato próximo com uma pessoa infectada, que pode passar o vírus pelas lesões características na pele ou por gotículas grandes expelidas pelo sistema respiratório, como as presentes nos espirros.

Surto atual

Historicamente, a ocorrência da doença em humanos limitava-se principalmente a casos esporádicos e epidemias ocasionais, principalmente na África. Contudo, no surto atual, registraram-se casos em países de fora do continente, sobretudo, na Europa e na América do Norte.

O número de casos confirmados fora da África desde maio de 2022 ultrapassou o acumulado nos últimos 50 anos, com registros em países onde a doença não é endêmica.

Em meio a esse cenário, a OMS declarou que o surto de varíola dos macacos em 2022 é uma **emergência de saúde pública de interesse internacional**.

O número de casos de pessoas infectadas e de óbitos, entretanto, não pode ser comparado com os da covid-19, pois é geometricamente menor.

A primeira morte de uma pessoa fora da África, no surto atual, ocorreu no Brasil, no dia 29 de julho de 2022. A vítima era um homem de 41 anos, com imunidade baixa e comorbidades, incluindo câncer. Foi também o **primeiro óbito registrado fora do continente africano, desde que a doença passou a ser conhecida pelo homem.**

Foram notificados casos principalmente em homens que fazem sexo com homens, mas a varíola dos macacos deve ser considerada em qualquer pessoa que apresente erupção cutânea consistente com a varíola dos macacos.

Acredita-se que o aumento recente na incidência da doença seja decorrente da interrupção da vacinação contra a varíola em 1980. As pessoas que receberam a vacina contra a varíola, mesmo que isso tenha ocorrido há 25 anos, têm menor risco de contrair a varíola dos macacos. Casos da doença na África também



estão aumentando porque as pessoas têm invadido cada vez mais os habitats dos animais portadores do vírus.

Antes de 2022, casos fora da África eram diretamente ligados a viagens para a África Ocidental e Central ou animais importados da região. Nos Estados Unidos, em 2003, ocorreu uma epidemia de varíola dos macacos quando roedores infectados, importados da África como animais de estimação, disseminaram o vírus para cães de estimação que, por sua vez, contaminaram pessoas no Meio Oeste. Essa epidemia teve 37 casos confirmados e 10 prováveis em seis estados, mas não houve mortes.



Varíola dos Macacos

Doença transmitida pelo vírus **Monkeypox**, que pertence ao gênero *Orthopoxvirus*. É considerada uma **zoonose viral** (o vírus é transmitido aos seres humanos a partir de animais).

A doença é encontrada em vários animais e mais frequentemente em roedores, como ratos e cão-da-pradaria. Embora o vírus possa passar de animais para humanos, o crescimento de casos do surto atual deve-se ao contato próximo entre humanos.

Os sintomas da doença são muito semelhantes aos observados em pacientes com varíola, embora seja clinicamente menos grave: erupções ou lesões na pele que normalmente se iniciam no rosto e se espalham por todo o corpo, dores de cabeça, nas costas ou musculares, gânglios linfáticos inchados, fraqueza e febre.

A doença geralmente se resolve sozinha e os sintomas costumam durar de duas a quatro semanas. Não há tratamentos específicos para infecções por vírus da varíola dos macacos, porém, a vacinação contra a varíola tradicional é eficaz para a varíola dos macacos.

De acordo com a OMS, a varíola dos macacos é transmitida por meio de contato próximo com as lesões de pele, por secreções respiratórias ou objetos usados por uma pessoa que está infectada.

O primeiro caso humano foi identificado na República Democrática do Congo, na África, em 1970, mas foi encontrado e descrito pela primeira vez, em 1958, em macacos de cativeiro que estavam na Dinamarca. Por isso, a doença leva o nome de varíola dos macacos.

Historicamente, a ocorrência da doença em humanos limitava-se principalmente a casos esporádicos e epidemias ocasionais, principalmente na África. Contudo, no surto atual, registraram-se casos em países de fora do continente, sobretudo, na Europa e na América do Norte.

A OMS declarou que o surto de varíola dos macacos em 2022 é uma **emergência de saúde pública de interesse internacional**.

O número de casos de pessoas infectadas e de óbitos não pode ser comparado com os da covid-19, pois é geometricamente menor.

A primeira morte de uma pessoa fora da África, no surto atual, ocorreu no Brasil, no dia 29 de julho de 2022. Foi também o **primeiro óbito registrado fora do continente africano, desde que a doença passou a ser conhecida pelo homem.**



Foram notificados casos principalmente em homens que fazem sexo com homens, mas a varíola dos macacos deve ser considerada em qualquer pessoa que apresente erupção cutânea consistente com a varíola dos macacos.



QUESTÕES COMENTADAS – VARÍOLA DOS MACACOS - MULTIBANCAS

(QUADRIX/CRP-18/2022) A varíola dos macacos é uma zoonose silvestre, ou seja, um vírus que infecta macacos, mas que, incidentalmente, pode contaminar humanos. O uso de máscaras, o distanciamento e a higienização das mãos são formas de evitar o contágio. A Agência Nacional de Vigilância Sanitária (Anvisa) reforçou a adoção dessas medidas, frisando que elas também servem para proteger contra a covid-19.

Internet: <<https://g1.globo.com>> (com adaptações).

Em relação à varíola dos macacos, julgue os itens.

1. Após a pandemia de covid-19, a Organização Mundial de Saúde declarou que a varíola dos macacos se tornou a nova emergência de saúde global.

COMENTÁRIOS:

Em julho de 2022, a Organização Mundial de Saúde declarou que o atual surto de varíola dos macacos constitui uma emergência de saúde global. No início do seu surto, a covid-19 também havia sido declarada como uma emergência de saúde global. Entretanto, em função das características de transmissão da varíola dos macacos, é muito provável que não se torne uma pandemia.

Gabarito: Certo

2. O vírus da varíola dos macacos se espalhou mais rápido que o coronavírus, tendo conseguido atingir, nos primeiros seis meses deste ano, a totalidade de países do planeta.

COMENTÁRIOS:

O vírus da varíola dos macacos tem uma taxa de transmissão bem menor que o Coronavírus. Até os primeiros seis meses de 2022, o vírus não havia atingido a totalidade de países do planeta.

Gabarito: Errado

3. A vacinação da população brasileira contra a varíola dos macacos provavelmente ocorrerá de forma mais rápida que a vacinação contra a covid-19, porque o Brasil já possui um estoque de imunizantes contra a varíola dos macacos.

COMENTÁRIOS:

A vacina contra a varíola dos macacos é a mesma utilizada contra a varíola comum, de forma que já existia no Brasil um pequeno estoque de vacinas contra a doença. Contudo, não têm sido feitas campanhas de vacinação em massa no país, pelo fato da doença ainda não ser considerada uma ameaça tão grande quanto o Coronavírus. A vacina tem sido aplicada em pessoas que entram em contato com infectados, principalmente os trabalhadores do sistema de saúde.



Gabarito: Errado

4. Os casos graves de infecção da varíola dos macacos concentram-se nos continentes asiático e americano.

COMENTÁRIOS:

Os principais casos graves de infecção da varíola dos macacos concentram-se nas Américas e na Europa.

Gabarito: Errado

5. O anúncio oficial do nível de alerta máximo acerca da varíola dos macacos está calcado na preocupação com a disseminação da doença e na ideia de que os países devem agir de forma conjunta para combater a doença.

COMENTÁRIOS:

O anúncio oficial de que a varíola dos macacos passou a ser considerada uma emergência de saúde global foi feito com base na preocupação com a disseminação da doença e na ideia de que os países devem agir de forma conjunta para combater a doença. É uma forma de alertar o mundo para que tomem medidas a fim de evitar a propagação da doença e que não desprezem a sua gravidade.

Gabarito: Certo



LISTA DE QUESTÕES – VARÍOLA DOS MACACOS – MULTIBANCAS

(QUADRIX/CRP-18/2022) A varíola dos macacos é uma zoonose silvestre, ou seja, um vírus que infecta macacos, mas que, incidentalmente, pode contaminar humanos. O uso de máscaras, o distanciamento e a higienização das mãos são formas de evitar o contágio. A Agência Nacional de Vigilância Sanitária (Anvisa) reforçou a adoção dessas medidas, frisando que elas também servem para proteger contra a covid-19.

Internet: <<https://g1.globo.com>> (com adaptações).

Em relação à varíola dos macacos, julgue os itens.

1. Após a pandemia de covid-19, a Organização Mundial de Saúde declarou que a varíola dos macacos se tornou a nova emergência de saúde global.
2. O vírus da varíola dos macacos se espalhou mais rápido que o coronavírus, tendo conseguido atingir, nos primeiros seis meses deste ano, a totalidade de países do planeta.
3. A vacinação da população brasileira contra a varíola dos macacos provavelmente ocorrerá de forma mais rápida que a vacinação contra a covid-19, porque o Brasil já possui um estoque de imunizantes contra a varíola dos macacos.
4. Os casos graves de infecção da varíola dos macacos concentram-se nos continentes asiático e americano.
5. O anúncio oficial do nível de alerta máximo acerca da varíola dos macacos está calcado na preocupação com a disseminação da doença e na ideia de que os países devem agir de forma conjunta para combater a doença.

GABARITO



1. C
2. E

3. E
4. E

5. C



ESSA LEI TODO MUNDO CONHECE: PIRATARIA É CRIME.

Mas é sempre bom revisar o porquê e como você pode ser prejudicado com essa prática.



1 Professor investe seu tempo para elaborar os cursos e o site os coloca à venda.



2 Pirata divulga ilicitamente (grupos de rateio), utilizando-se do anonimato, nomes falsos ou laranjas (geralmente o pirata se anuncia como formador de "grupos solidários" de rateio que não visam lucro).



3 Pirata cria alunos fake praticando falsidade ideológica, comprando cursos do site em nome de pessoas aleatórias (usando nome, CPF, endereço e telefone de terceiros sem autorização).



4 Pirata compra, muitas vezes, clonando cartões de crédito (por vezes o sistema anti-fraude não consegue identificar o golpe a tempo).



5 Pirata fere os Termos de Uso, adultera as aulas e retira a identificação dos arquivos PDF (justamente porque a atividade é ilegal e ele não quer que seus fakes sejam identificados).



6 Pirata revende as aulas protegidas por direitos autorais, praticando concorrência desleal e em flagrante desrespeito à Lei de Direitos Autorais (Lei 9.610/98).



7 Concurseiro(a) desinformado participa de rateio, achando que nada disso está acontecendo e esperando se tornar servidor público para exigir o cumprimento das leis.



8 O professor que elaborou o curso não ganha nada, o site não recebe nada, e a pessoa que praticou todos os ilícitos anteriores (pirata) fica com o lucro.



Deixando de lado esse mar de sujeira, aproveitamos para agradecer a todos que adquirem os cursos honestamente e permitem que o site continue existindo.