

1. Questões Guarda Civil Municipal – Pref. Salvador (Tipo I)	2
1.1. <i>Lista de Questões – Prova de guarda Civil Municipal/Salvador</i>	2
1.2. <i>Questões Comentadas – Prova de guarda Civil Municipal/Salvador</i>	5
1.3. <i>Gabarito</i>	9
2. Questões Agente de Trânsito – Pref. Salvador (Tipo I)	10
2.1. <i>Lista de Questões – Prova Agente de Trânsito e Transporte/Salvador</i>	10
2.3. <i>Questões Comentadas – Prova de Agente de Trânsito e Transporte/Salvador</i>	16
6.3. <i>Gabarito</i>	26

1. QUESTÕES GUARDA CIVIL MUNICIPAL – PREF. SALVADOR (TIPO I)

1.1. LISTA DE QUESTÕES – PROVA DE GUARDA CIVIL MUNICIPAL/SALVADOR

61. [FGV – GUARDA CIVIL MUNICIPAL – PREF. SALVADOR/BA – 2019]

O Sistema Nacional de Trânsito é composto por diferentes órgãos e entidades, que possuem competências diversas.

Assinale a opção que apresenta uma competência dos órgãos e entidades executivos de trânsito dos municípios.

- (A) Implantar, manter e operar o sistema de sinalização, os dispositivos e os equipamentos de controle viário.
- (B) Expedir e cassar Carteira Nacional de Habilitação.
- (C) Expedir o Certificado de Registro e o Licenciamento Anual de veículos.
- (D) Comunicar ao órgão executivo da União a suspensão e a cassação do direito de dirigir.
- (E) Julgar os recursos interpostos por infratores de trânsito

62. [FGV – GUARDA CIVIL MUNICIPAL – PREF. SALVADOR/BA – 2019]

Com relação à obrigatoriedade de expedição de um novo Certificado de Registro para um Veículo (CRV), analise as afirmativas a seguir.

I. É necessária a expedição de novo CRV quando for alterada qualquer característica do veículo.

II. No caso de transferência de propriedade do veículo, o prazo para o proprietário adotar as providências necessárias para efetivação de novo CRV é de 45 dias.

III. Para a expedição de novo CRV, é exigido o Certificado de Licenciamento Anual do veículo.

Está correto o que se afirma em:

- (A) I, apenas.
- (B) II, apenas.
- (C) III, apenas.
- (D) II e III, apenas.
- (E) I e III, apenas.

63. [FGV – GUARDA CIVIL MUNICIPAL – PREF. SALVADOR/BA – 2019]

Um condutor possui 25 anos e está habilitado há dois anos na categoria B. Além disso, não cometeu nenhuma infração grave ou gravíssima, nem é reincidente em infrações médias nos últimos 12 meses.

Nesse caso, esse condutor, mediante também aprovação em curso especializado e em curso de treinamento de prática veicular em situação de risco, pode habilitar-se.

- (A) à categoria C, somente.
- (B) à categoria D, somente.
- (C) às categorias C e D, somente.
- (D) às categorias C e E, somente.
- (E) às categorias D e E, somente.

64. [FGV – GUARDA CIVIL MUNICIPAL – PREF. SALVADOR/BA – 2019]

As opções a seguir apresentam alguns crimes de trânsito dispostos no Código de Trânsito Brasileiro, à exceção de uma. Assinale-a.


- (A) Entregar a direção de veículo automotor a pessoa não habilitada.
- (B) Deixar o condutor do veículo, na ocasião do acidente, de prestar imediato socorro à vítima.
- (C) Trafegar em velocidade incompatível com a segurança nas proximidades de hospitais, gerando perigo de dano.
- (D) Dirigir sob a influência de álcool em qualquer quantidade no sangue, mesmo sem sinais que indiquem alteração da capacidade psicomotora.
- (E) Participar, na direção de veículo automotor, de disputa automobilística não autorizada pela autoridade competente.

65. [FGV – GUARDA CIVIL MUNICIPAL – PREF. SALVADOR/BA – 2019]

As figuras a seguir apresentam um sinal de advertência (1) e um sinal de regulamentação (2).



Os sinais (1) e (2) indicam, respectivamente:

- 
- (A) Ponte estreita e Peso bruto total máximo permitido.
 - (B) Ponte estreita e Peso máximo por eixo.
 - (C) Estreitamento de pista ao centro e Tara máxima permitida.
 - (D) Estreitamento de pista ao centro e Peso bruto total máximo permitido.
 - (E) Estreitamento de pista ao centro e Peso máximo por eixo.

1.2. QUESTÕES COMENTADAS – PROVA DE GUARDA CIVIL MUNICIPAL/SALVADOR

61. [FGV – GUARDA CIVIL MUNICIPAL – PREF. SALVADOR/BA – 2019]

O Sistema Nacional de Trânsito é composto por diferentes órgãos e entidades, que possuem competências diversas.

Assinale a opção que apresenta uma competência dos órgãos e entidades executivos de trânsito dos municípios.

- (A) Implantar, manter e operar o sistema de sinalização, os dispositivos e os equipamentos de controle viário.
- (B) Expedir e cassar Carteira Nacional de Habilitação.
- (C) Expedir o Certificado de Registro e o Licenciamento Anual de veículos.
- (D) Comunicar ao órgão executivo da União a suspensão e a cassação do direito de dirigir.
- (E) Julgar os recursos interpostos por infratores de trânsito.

Comentário:

A – Certo. **Compete aos órgãos e entidades executivos de trânsito dos Municípios**, no âmbito de sua circunscrição: **implantar, manter e operar o sistema de sinalização, os dispositivos e os equipamentos de controle viário** (Art. 24, III).

B – Errado. Compete aos **órgãos ou entidades executivos de trânsito dos Estados e do Distrito Federal, no âmbito de sua circunscrição**: realizar, fiscalizar e controlar o processo de formação, aperfeiçoamento, reciclagem e suspensão de condutores, **expedir e cassar** Licença de Aprendizagem, Permissão para Dirigir e **Carteira Nacional de Habilitação**, mediante delegação do órgão federal competente (Art. 22, II).

C – Errado. Compete ao **órgão máximo executivo de trânsito da União: expedir a Permissão para Dirigir, a Carteira Nacional de Habilitação, os Certificados de Registro e o de Licenciamento Anual** mediante delegação aos órgãos executivos dos Estados e do Distrito Federal (Art. 19, VII).

D – Errado. Compete **aos órgãos ou entidades executivos de trânsito dos Estados e do Distrito Federal, no âmbito de sua circunscrição**: comunicar ao órgão executivo de trânsito da União a suspensão e a cassação do direito de dirigir e o recolhimento da Carteira Nacional de Habilitação (Art. 22, VII).

E- Errado. **Compete às JARI**: julgar os recursos interpostos pelos infratores (Art. 17, I).

Gabarito: A

62. [FGV – GUARDA CIVIL MUNICIPAL – PREF. SALVADOR/BA – 2019]

Com relação à obrigatoriedade de expedição de um novo Certificado de Registro para um Veículo (CRV), analise as afirmativas a seguir.

I. É necessária a expedição de novo CRV quando for alterada qualquer característica do veículo.

II. No caso de transferência de propriedade do veículo, o prazo para o proprietário adotar as providências necessárias para efetivação de novo CRV é de 45 dias.

III. Para a expedição de novo CRV, é exigido o Certificado de Licenciamento Anual do veículo.

Está correto o que se afirma em:

(A) I, apenas.

(B) II, apenas.

(C) III, apenas.

(D) II e III, apenas.

(E) I e III, apenas.

Comentário:

As assertivas I e III estão corretas, segundo o Código de Trânsito Brasileiro (CTB). Confira:

Art. 123. Será obrigatória a expedição de novo Certificado de Registro de Veículo quando:

*III - **for alterada qualquer característica do veículo**;*

Art. 124. Para a expedição do novo Certificado de Registro de Veículo serão exigidos os seguintes documentos:

*II - **Certificado de Licenciamento Anual**;*

Apenas a alternativa II está em desacordo com o texto do CTB, conforme o art. 123, parágrafo 2º:

*§ 2º No caso de transferência de domicílio ou residência no mesmo Município, o proprietário comunicará o novo endereço **num prazo de 30 dias** e aguardará o novo licenciamento para alterar o Certificado de Licenciamento Anual.*

Gabarito: E

63. [FGV – GUARDA CIVIL MUNICIPAL – PREF. SALVADOR/BA – 2019]

Um condutor possui 25 anos e está habilitado há dois anos na categoria B. Além disso, não cometeu nenhuma infração grave ou gravíssima, nem é reincidente em infrações médias nos últimos 12 meses.

Nesse caso, esse condutor, mediante também aprovação em curso especializado e em curso de treinamento de prática veicular em situação de risco, pode habilitar-se.

(A) à categoria C, somente.

(B) à categoria D, somente.

(C) às categorias C e D, somente.

(D) às categorias C e E, somente.

(E) às categorias D e E, somente.

Comentário:

A resposta para a nossa questão está nos artigos 143 e 145, do CTB, abaixo:

Art. 143 (...)

§ 1º **Para habilitar-se na categoria C, o condutor deverá estar habilitado no mínimo há um ano na categoria B e não ter cometido nenhuma infração grave ou gravíssima, ou ser reincidente em infrações médias, durante os últimos doze meses.**

Art. 145 (...)

no mínimo **há dois anos na categoria B**, ou no mínimo há um ano na categoria C, quando pretender habilitar-se na **categoria D**; e

III - não ter cometido nenhuma infração grave ou gravíssima ou ser reincidente em infrações médias durante os últimos doze meses;

IV - ser aprovado em curso especializado e em curso de treinamento de prática veicular em situação de risco, nos termos da normatização do CONTRAN.

Gabarito: C

64. [FGV – GUARDA CIVIL MUNICIPAL – PREF. SALVADOR/BA – 2019]

As opções a seguir apresentam alguns crimes de trânsito dispostos no Código de Trânsito Brasileiro, à exceção de uma. Assinale-a.

- (A) Entregar a direção de veículo automotor a pessoa não habilitada.
- (B) Deixar o condutor do veículo, na ocasião do acidente, de prestar imediato socorro à vítima.
- (C) Trafegar em velocidade incompatível com a segurança nas proximidades de hospitais, gerando perigo de dano.
- (D) Dirigir sob a influência de álcool em qualquer quantidade no sangue, mesmo sem sinais que indiquem alteração da capacidade psicomotora.
- (E) Participar, na direção de veículo automotor, de disputa automobilística não autorizada pela autoridade competente.

Comentário:

A – Certo. A resposta está no art. 310, do CTB:

Art. 310. Permitir, confiar ou entregar a direção de veículo automotor a pessoa não habilitada, com habilitação cassada ou com o direito de dirigir suspenso, ou, ainda, a quem, por seu estado de saúde, física ou mental, ou por embriaguez, não esteja em condições de conduzi-lo com segurança:

Penas - detenção, de seis meses a um ano, ou multa.

B – Certo. Deixar o condutor envolvido em acidente com vítima: de prestar ou providenciar socorro à vítima, podendo fazê-lo. Infração – gravíssima. Penalidade - multa (cinco vezes) e suspensão do direito de dirigir. Medida administrativa - recolhimento do documento de habilitação. (Art. 176, I).

C – Certo. O Art. 311 nos dá a resposta:

Art. 311. Trafegar em velocidade incompatível com a segurança nas proximidades de escolas, hospitais, estações de embarque e desembarque de passageiros, logradouros estreitos, ou onde haja grande movimentação ou concentração de pessoas, gerando perigo de dano:

Penas - detenção, de seis meses a um ano, ou multa.

D – Errado. Veja o que diz o art. 306, parágrafo 1º:

Art. 306. Conduzir veículo automotor com capacidade psicomotora alterada em razão da influência de álcool ou de outra substância psicoativa que determine dependência:

§ 1º **As condutas previstas no caput serão constatadas por:**

I - concentração igual ou superior a 6 decigramas de álcool por litro de sangue ou igual ou superior a 0,3 miligrama de álcool por litro de ar alveolar; ou


II - sinais que indiquem, na forma disciplinada pelo Contran, alteração da capacidade psicomotora.

E – Certo. Participar, na direção de veículo automotor, em via pública, de corrida, disputa ou competição automobilística ou ainda de exibição ou demonstração de perícia em manobra de veículo automotor, não autorizada pela autoridade competente, gerando situação de risco à incolumidade pública ou privada (Art. 308).

Gabarito: D

65. [FGV – GUARDA CIVIL MUNICIPAL – PREF. SALVADOR/BA – 2019]

As figuras a seguir apresentam um sinal de advertência (1) e um sinal de regulamentação (2).



Os sinais (1) e (2) indicam, respectivamente:

- (A) Ponte estreita e Peso bruto total máximo permitido.
- (B) Ponte estreita e Peso máximo por eixo.
- (C) Estreitamento de pista ao centro e Tara máxima permitida.
- (D) Estreitamento de pista ao centro e Peso bruto total máximo permitido.
- (E) Estreitamento de pista ao centro e Peso máximo por eixo.

Comentário:

A resposta está no Anexo II, do CTB, aprovado pela Resolução CONTRAN nº 160/2004, segundo o qual:



Gabarito: A

1.3. GABARITO

61	62	63	64	65
A	E	C	D	A

2. QUESTÕES AGENTE DE TRÂNSITO – PREF. SALVADOR (TIPO I)

2.1. LISTA DE QUESTÕES – PROVA AGENTE DE TRÂNSITO E TRANSPORTE/SALVADOR

51. [FGV – AGENTE DE TRÂNSITO E TRANSPORTE – PREF. SALVADOR/BA- 2019]

Com relação ao Sistema Nacional de Trânsito, analise as afirmativas a seguir e assinale V para a verdadeira e F para a falsa.

- () Conselho Nacional de Trânsito é o coordenador do Sistema e órgão máximo normativo e consultivo.
- () O recolhimento da Carteira Nacional de Habilitação de motoristas infratores é competência dos órgãos e entidades executivos do trânsito dos municípios.
- () Os órgãos colegiados responsáveis pelo julgamento dos recursos interpostos contra penalidades de trânsito são conhecidos como Cetran (Conselhos Estaduais de Trânsito).

As afirmativas são, na ordem apresentada, respectivamente,

- (A) V – V – V.
- (B) V – F – V.
- (C) V – F – F.
- (D) F – V – V.
- (E) F – F – F.

52. [FGV – AGENTE DE TRÂNSITO E TRANSPORTE – PREF. SALVADOR/BA- 2019]

De acordo com o Código de Trânsito Brasileiro, é obrigatória a expedição de novo Certificado de Registro de Veículo (CRV) quando o proprietário muda de domicílio ou residência.

Quando essas mudanças ocorrem no mesmo Município, o proprietário deve comunicá-las ao órgão executivo de trânsito do Estado, para fins de alteração do CRV, no prazo de:

- (A) 15 dias.
- (B) 30 dias.
- (C) 45 dias.
- (D) 60 dias.
- (E) 90 dias.

53. [FGV – AGENTE DE TRÂNSITO E TRANSPORTE – PREF. SALVADOR/BA- 2019]

A condução de veículos automotores sob a influência de álcool é considerado crime de trânsito se o condutor apresentar concentração igual ou superior a:

- (A) 0,0 miligramas de álcool por litro de ar alveolar.
- (B) 0,1 miligramas de álcool por litro de ar alveolar.
- (C) 0,2 miligramas de álcool por litro de ar alveolar.
- (D) 0,3 miligramas de álcool por litro de ar alveolar.
- (E) 0,4 miligramas de álcool por litro de ar alveolar.

55. [FGV – AGENTE DE TRÂNSITO E TRANSPORTE – PREF. SALVADOR/BA- 2019]

Avalie as situações a seguir, nas quais há um cruzamento de dois fluxos em um local não sinalizado.

- I. Cruzamento entre uma rodovia e uma via local.
- II. Encontro de uma via com uma rotatória.
- III. Encontro entre duas vias locais.

Em cada uma dessas situações, a preferência será:

- (A) I. de quem está circulando pela rodovia;
II. de quem está na rotatória;
III. de quem vier à direita do condutor.
- (B) I. de quem está circulando pela rodovia;
II. de quem está na via;
III. de quem vier à direita do condutor.
- (C) I. de quem está circulando pela rodovia;
II. de quem está na rotatória;
III. de quem vier à esquerda do condutor.
- (D) I. de quem está circulando pela via local;
II. de quem está na via;
III. de quem vier à esquerda do condutor.
- (E) I. de quem está circulando pela via local;
II. de quem está na rotatória;
III. de quem vier à esquerda do condutor.

56. [FGV – AGENTE DE TRÂNSITO E TRANSPORTE – PREF. SALVADOR/BA- 2019]

Em relação às ordens de prevalência para as diferentes formas de sinalização em uma via, assinale a afirmativa correta:

- (A) As normas gerais de circulação e outros sinais prevalecem sobre as normas do agente de trânsito, e as indicações do semáforo prevalecem sobre os demais sinais.
- (B) As ordens do agente de trânsito prevalecem sobre as normas de circulação e outros sinais, e as indicações dos sinais prevalecem sobre as do semáforo.
- (C) As indicações do semáforo prevalecem sobre os demais sinais e as demais normas de trânsito prevalecem sobre as indicações dos sinais.
- (D) As ordens do agente de trânsito prevalecem sobre as normas de circulação e outros sinais, e as indicações dos sinais prevalecem sobre as demais normas de trânsito.
- (E) As indicações dos sinais prevalecem sobre as demais normas de trânsito e sobre as indicações do semáforo.

57. [FGV – AGENTE DE TRÂNSITO E TRANSPORTE – PREF. SALVADOR/BA- 2019]

As opções a seguir apresentam infrações de trânsito consideradas gravíssimas, à exceção de uma. Assinale-a

- (A) Transitar com validade da Carteira Nacional de Habilitação vencida há mais de trinta dias.
- (B) Transportar crianças em veículo automotor sem observância das normas de segurança especiais.
- (C) Dirigir sob a influência de álcool ou de qualquer outra substância psicoativa.
- (D) Estacionar o veículo na pista de rolamento das estradas, das rodovias, das vias de trânsito rápido e das vias dotadas de acostamento.
- (E) Ficar o condutor ou passageiro sem usar o cinto de segurança.

58. [FGV – AGENTE DE TRÂNSITO E TRANSPORTE – PREF. SALVADOR/BA- 2019]

Assinale a opção que indica as velocidades máximas nas rodovias e nas vias urbanas de trânsito rápido, respectivamente, caso não haja sinalização regulamentadora:

- (A) 110km/h e 80 km/h.
- (B) 90 km/h e 80km/h.
- (C) 80 km/h e 80 km/h.
- (D) 80 km/h e 50 km/h.
- (E) 60 km/h e 50 km/h.

65. [FGV – AGENTE DE TRÂNSITO E TRANSPORTE – PREF. SALVADOR/BA- 2019]

Analise a descrição a seguir, de um tipo de via em um sistema rodoviário.

"Via caracterizada por acessos especiais com trânsito livre, sem interseções em nível, sem acessibilidade direta aos lotes lindeiros e sem travessia de pedestres em nível".

Esta descrição caracteriza uma via do tipo:

- (A) rural.
- (B) local.
- (C) de trânsito rápido.
- (D) arterial.
- (E) coletora.

66. [FGV – AGENTE DE TRÂNSITO E TRANSPORTE – PREF. SALVADOR/BA- 2019]

Sobre os sinais sonoros utilizados por agentes de trânsito, analise as afirmativas a seguir e assinale V para a verdadeira e F para a falsa.



- () Um silvo breve é utilizado para liberar o trânsito em direção/sentido indicado pelo agente.
- () Dois silvos breves indicam parada obrigatória.
- () Um silvo longo é empregado quando for necessário fazer diminuir a marcha dos veículos.


As afirmativas são, na ordem apresentada, respectivamente:

- (A) V – V – V.
- (B) V – F – F.
- (C) F – V – V.
- (D) F – F – V.
- (E) F – F – F.

67. [FGV – AGENTE DE TRÂNSITO E TRANSPORTE – PREF. SALVADOR/BA- 2019]

Dentre os sinais apresentados a seguir, assinale o que indica a existência de uma pista irregular:

- (A) 
- (B) 

- 
- (C)
- (D)
- (E)

68. [FGV – AGENTE DE TRÂNSITO E TRANSPORTE – PREF. SALVADOR/BA- 2019]

Sobre o uso de luzes em veículos, o Código de Trânsito Brasileiro estabelece que o condutor deve:

- (A) manter os faróis do veículo, utilizando luz baixa, durante a noite e durante o dia em toda as vias públicas.
- (B) usar sempre luz alta nas vias não iluminadas.
- (C) manter os faróis em luz alta quando sob chuva forte, neblina ou cerração.
- (D) manter acesas as luzes de posição do veículo para o embarque ou desembarque de passageiros, tanto de dia quanto à noite.
- (E) usar a troca de luz baixa e alta, de forma intermitente, para indicar a intenção de ultrapassar um veículo que segue à frente.

69. [FGV – AGENTE DE TRÂNSITO E TRANSPORTE – PREF. SALVADOR/BA- 2019]

Sobre as normas gerais de circulação e conduta indicadas no Código de Trânsito Brasileiro, analise as afirmativas a seguir.

- I. Todo condutor tem, antes de efetuar uma ultrapassagem, que se certificar de que nenhum condutor que venha atrás haja começado uma manobra para ultrapassá-lo.
- II. Ao efetuar uma ultrapassagem, o condutor deve indicar, com antecedência, a manobra pretendida acionando a luz indicadora de direção do veículo ou por meio de gesto convencional de braço.
- III. Todo condutor, ao perceber que o outro que o segue tem o propósito de ultrapassá-lo, deverá, qualquer que seja a faixa de circulação, manter-se nela, sem acelerar a marcha.

Está correto o que se afirma em:

- (A) I, somente.
- (B) II, somente.

- (C) III, somente
- (D) I e II, somente.
- (E) I e III, somente.

70. [FGV – AGENTE DE TRÂNSITO E TRANSPORTE – PREF. SALVADOR/BA- 2019]

A figura a seguir apresenta um gesto usual empregado por agentes de trânsito:



Esse gesto indica ordem de

- (A) diminuição de velocidade.
- (B) parada de todos os veículos em todas as direções, qualquer que seja o sentido.
- (C) parada para todos os veículos que venham de direções que cortem ortogonalmente a direção indicada pelos braços estendidos, qualquer que seja o sentido de seu deslocamento.
- (D) parada para todos os veículos que venham na direção indicada pelos braços estendidos, qualquer que seja o sentido de seu deslocamento.
- (E) parada para todos os veículos que venham de direções que cortem ortogonalmente a direção indicada pelos braços estendidos, apenas para os veículos cujo sentido o agente esteja observando

2.3. QUESTÕES COMENTADAS – PROVA DE AGENTE DE TRÂNSITO E TRANSPORTE/SALVADOR

51. [FGV – AGENTE DE TRÂNSITO E TRANSPORTE – PREF. SALVADOR/BA – 2019]

Com relação ao Sistema Nacional de Trânsito, analise as afirmativas a seguir e assinale V para a verdadeira e F para a falsa.

() Conselho Nacional de Trânsito é o coordenador do Sistema e órgão máximo normativo e consultivo.

() O recolhimento da Carteira Nacional de Habilitação de motoristas infratores é competência dos órgãos e entidades executivos do trânsito dos municípios.

() Os órgãos colegiados responsáveis pelo julgamento dos recursos interpostos contra penalidades de trânsito são conhecidos como Cetran (Conselhos Estaduais de Trânsito).

As afirmativas são, na ordem apresentada, respectivamente,

(A) V – V – V.

(B) V – F – V.

(C) V – F – F.

(D) F – V – V.

(E) F – F – F.

Comentário:

A sequência de respostas está descrita nos artigos do CTB, abaixo:

Art. 7º Compõem o Sistema Nacional de Trânsito os seguintes órgãos e entidades:

I - o Conselho Nacional de Trânsito - CONTRAN, coordenador do Sistema e órgão máximo normativo e consultivo; (Item I, Verdadeiro).

*Art. 22. Compete aos **órgãos ou entidades executivos de trânsito dos Estados e do Distrito Federal**, no âmbito de sua circunscrição:*

VIII - comunicar ao órgão executivo de trânsito da União a suspensão e a cassação do direito de dirigir e o recolhimento da Carteira Nacional de Habilitação; (Item II, Falso).

*Art. 16. Junto a cada órgão ou entidade executivos de trânsito ou rodoviário funcionarão **Juntas Administrativas de Recursos de Infrações - JARI**, órgãos colegiados responsáveis pelo julgamento dos recursos interpostos contra penalidades por eles impostas. (Item III, falso)*

Gabarito: C

52. [FGV – AGENTE DE TRÂNSITO E TRANSPORTE – PREF. SALVADOR/BA- 2019]

De acordo com o Código de Trânsito Brasileiro, é obrigatória a expedição de novo Certificado de Registro de Veículo (CRV) quando o proprietário muda de domicílio ou residência.

Quando essas mudanças ocorrem no mesmo Município, o proprietário deve comunicá-las ao órgão executivo de trânsito do Estado, para fins de alteração do CRV, no prazo de:

- (A) 15 dias.
- (B) 30 dias.
- (C) 45 dias.
- (D) 60 dias.
- (E) 90 dias.

Comentário:

A resposta está no art. 123, parágrafo 1º:

§ 1º No caso de transferência de propriedade, o prazo para o proprietário adotar as providências necessárias à efetivação da expedição do novo Certificado de Registro de Veículo é de **30 dias**, sendo que nos demais casos as providências deverão ser imediatas.

Gabarito: B

53. [FGV – AGENTE DE TRÂNSITO E TRANSPORTE – PREF. SALVADOR/BA- 2019]

A condução de veículos automotores sob a influência de álcool é considerado crime de trânsito se o condutor apresentar concentração igual ou superior a:

- (A) 0,0 miligramas de álcool por litro de ar alveolar.
- (B) 0,1 miligramas de álcool por litro de ar alveolar.
- (C) 0,2 miligramas de álcool por litro de ar alveolar.
- (D) 0,3 miligramas de álcool por litro de ar alveolar.
- (E) 0,4 miligramas de álcool por litro de ar alveolar.

Comentário:

A resposta está no art. 306, parágrafo 1º:

§ 1º As condutas previstas no caput serão constatadas por:

I - concentração igual ou superior a 6 decigramas de álcool por litro de sangue ou igual **ou superior a 0,3 miligrama de álcool por litro de ar alveolar**.

Gabarito: D

55. [FGV – AGENTE DE TRÂNSITO E TRANSPORTE – PREF. SALVADOR/BA- 2019]

Avalie as situações a seguir, nas quais há um cruzamento de dois fluxos em um local não sinalizado.

- I. Cruzamento entre uma rodovia e uma via local.
- II. Encontro de uma via com uma rotatória.
- III. Encontro entre duas vias locais.

Em cada uma dessas situações, a preferência será:

- (A) I. de quem está circulando pela rodovia;
II. de quem está na rotatória;
III. de quem vier à direita do condutor.
- (B) I. de quem está circulando pela rodovia;
II. de quem está na via;
III. de quem vier à direita do condutor.
- (C) I. de quem está circulando pela rodovia;
II. de quem está na rotatória;
III. de quem vier à esquerda do condutor.
- (D) I. de quem está circulando pela via local;
II. de quem está na via;
III. de quem vier à esquerda do condutor.
- (E) I. de quem está circulando pela via local;
II. de quem está na rotatória;
III. de quem vier à esquerda do condutor.

Comentário:

Temos as respostas no art. 29, do CTB:

Art. 29. O trânsito de veículos nas vias terrestres abertas à circulação obedecerá às seguintes normas:

III - quando veículos, transitando por fluxos que se cruzem, se aproximarem de local não sinalizado, terá preferência de passagem:

- a) **no caso de apenas um fluxo ser proveniente de rodovia, aquele que estiver circulando por ela;***
- b) **no caso de rotatória, aquele que estiver circulando por ela;***
- c) **nos demais casos, o que vier pela direita do condutor;***

Gabarito: A

56. [FGV – AGENTE DE TRÂNSITO E TRANSPORTE – PREF. SALVADOR/BA- 2019]

Em relação às ordens de prevalência para as diferentes formas de sinalização em uma via, assinale a afirmativa correta:

- (A) As normas gerais de circulação e outros sinais prevalecem sobre as normas do agente de trânsito, e as indicações do semáforo prevalecem sobre os demais sinais.
- (B) As ordens do agente de trânsito prevalecem sobre as normas de circulação e outros sinais, e as indicações dos sinais prevalecem sobre as do semáforo.
- (C) As indicações do semáforo prevalecem sobre os demais sinais e as demais normas de trânsito prevalecem sobre as indicações dos sinais.

(D) As ordens do agente de trânsito prevalecem sobre as normas de circulação e outros sinais, e as indicações dos sinais prevalecem sobre as demais normas de trânsito.

(E) As indicações dos sinais prevalecem sobre as demais normas de trânsito e sobre as indicações do semáforo.

Comentário:

A resposta está no art. 89 do CTB:

Art. 89. A sinalização terá a seguinte ordem de prevalência:

I - as ordens do agente de trânsito sobre as normas de circulação e outros sinais;

II - as indicações do semáforo sobre os demais sinais;

III - as indicações dos sinais sobre as demais normas de trânsito.

Gabarito: D

57. [FGV – AGENTE DE TRÂNSITO E TRANSPORTE – PREF. SALVADOR/BA- 2019]

As opções a seguir apresentam infrações de trânsito consideradas gravíssimas, à exceção de uma. Assinale-a

(A) Transitar com validade da Carteira Nacional de Habilitação vencida há mais de trinta dias.

(B) Transportar crianças em veículo automotor sem observância das normas de segurança especiais.

(C) Dirigir sob a influência de álcool ou de qualquer outra substância psicoativa.

(D) Estacionar o veículo na pista de rolamento das estradas, das rodovias, das vias de trânsito rápido e das vias dotadas de acostamento.

(E) Ficar o condutor ou passageiro sem usar o cinto de segurança.

Comentário:

A - Transitar com validade da Carteira Nacional de Habilitação vencida há mais de trinta dias (**gravíssima** – art. 162, V) - **Ok**

B - Transportar crianças em veículo automotor sem observância das normas de segurança especiais (**gravíssima** – art. 168) - **Ok**

C - Dirigir sob a influência de álcool ou de qualquer outra substância psicoativa (**gravíssima** – art. 165) - **Ok**

D - Estacionar o veículo na pista de rolamento das estradas, das rodovias, das vias de trânsito rápido e das vias dotadas de acostamento (**gravíssima** – art. 181,V) - **Ok**

E - Ficar o condutor ou passageiro sem usar o cinto de segurança (**grave** – art. 167) - **Errado**

Gabarito: E (cabe recuso, pois gabarito preliminar foi letra B)

58. [FGV – AGENTE DE TRÂNSITO E TRANSPORTE – PREF. SALVADOR/BA- 2019]

Assinale a opção que indica as velocidades máximas nas rodovias e nas vias urbanas de trânsito rápido, respectivamente, caso não haja sinalização regulamentadora:

- (A) 110km/h e 80 km/h.
- (B) 90 km/h e 80km/h.
- (C) 80 km/h e 80 km/h.
- (D) 80 km/h e 50 km/h.
- (E) 60 km/h e 50 km/h.

Comentário:

A resposta está no art. 61, parágrafo 1º, do CTB:

§ 1º Onde não existir sinalização regulamentadora, a velocidade máxima será de:

I - nas vias urbanas:

a) oitenta quilômetros por hora, nas vias de trânsito rápido:

a) nas rodovias de pista dupla:

1. **110 km/h** (cento e dez quilômetros por hora) **para automóveis, camionetas e motocicletas;**

2. **90 km/h** (noventa quilômetros por hora) **para os demais veículos;**

b) nas rodovias de pista simples:

1. **100 km/h** (cem quilômetros por hora) **para automóveis, camionetas e motocicletas;**

2. **90 km/h** (noventa quilômetros por hora) **para os demais veículos;**

Como se pode ver pelo que está marcado acima, o problema da questão foi não ter especificado a que tipo de rodovia ela estava se referindo, se de pista simples ou de pista dupla, e nem qual tipo de veículo nela estaria trafegando, informações essenciais para a correta resposta, pois sem esses dados, tanto as alternativas A e D poderiam estar corretas.

Se via for uma rodovia de pista **dupla** e o veículo citado no enunciado fosse um **automóvel**, por exemplo, a **letra "A"** estaria certa; se a rodovia for de pista simples ou de pista dupla, mas o veículo citado fosse um **caminhão**, por exemplo, aí teríamos como correta **letra "B"**.

Diante do exposta, pede-se a anulação da questão

Gabarito: Nula (passível de recurso, pois o gabarito preliminar foi a letra A)

65. [FGV – AGENTE DE TRÂNSITO E TRANSPORTE – PREF. SALVADOR/BA- 2019]

Analise a descrição a seguir, de um tipo de via em um sistema rodoviário.

"Via caracterizada por acessos especiais com trânsito livre, sem interseções em nível, sem acessibilidade direta aos lotes lindeiros e sem travessia de pedestres em nível".

Esta descrição caracteriza uma via do tipo:

- (A) rural.
- (B) local.
- (C) de trânsito rápido.
- (D) arterial.

(E) coletora.

Comentário:

A resposta para a questão está no Anexo I, do CTB:

VIA DE TRÂNSITO RÁPIDO - aquela caracterizada por acessos especiais com trânsito livre, sem interseções em nível, sem acessibilidade direta aos lotes lindeiros e sem travessia de pedestres em nível.

Gabarito: C

66. [FGV – AGENTE DE TRÂNSITO E TRANSPORTE – PREF. SALVADOR/BA- 2019]

Sobre os sinais sonoros utilizados por agentes de trânsito, analise as afirmativas a seguir e assinale V para a verdadeira e F para a falsa.

- () Um silvo breve é utilizado para liberar o trânsito em direção/sentido indicado pelo agente.
- () Dois silvos breves indicam parada obrigatória.
- () Um silvo longo é empregado quando for necessário fazer diminuir a marcha dos veículos.

As afirmativas são, na ordem apresentada, respectivamente:

- (A) V – V – V.
- (B) V – F – F.
- (C) F – V – V.
- (D) F – F – V.
- (E) F – F – F.

Comentário:

As assertivas estão todas corretas e as respostas estão no Anexo II, CTB, aprovado pela Resolução CONTRAN 160/2004:

7. SINAIS SONOROS

Sinais de apito	Significado	Emprego
um silvo breve	siga	liberar o trânsito em direção / sentido indicado pelo agente.
dois silvos breves	pare	indicar parada obrigatória.
um silvo longo	diminuir a marcha	quando for necessário fazer diminuir a marcha dos veículos.

Gabarito: A

67. [FGV – AGENTE DE TRÂNSITO E TRANSPORTE – PREF. SALVADOR/BA- 2019]

Dentre os sinais apresentados a seguir, assinale o que indica a existência de uma pista irregular:



Comentário:

De acordo com o Anexo II do CTB, Resolução CONTRAN nº 160/04, a placa que indica uma pista irregular é a seguinte:



A letra A representa “Depressão”; a letra C “Saliência ou Lombada”; a letra D “Declive Acentuado” e a letra E “Ponte Móvel”.

Gabarito: B

68. [FGV – AGENTE DE TRÂNSITO E TRANSPORTE – PREF. SALVADOR/BA- 2019]

Sobre o uso de luzes em veículos, o Código de Trânsito Brasileiro estabelece que o condutor deve:

- (A) manter os faróis do veículo, utilizando luz baixa, durante a noite e durante o dia em toda as vias públicas.
- (B) usar sempre luz alta nas vias não iluminadas.
- (C) manter os faróis em luz alta quando sob chuva forte, neblina ou cerração.

(D) manter acesas as luzes de posição do veículo para o embarque ou desembarque de passageiros, tanto de dia quanto à noite.

(E) usar a troca de luz baixa e alta, de forma intermitente, para indicar a intenção de ultrapassar um veículo que segue à frente.

Comentário:

A – Errado. Veja o que estabelece o art. 40, do CTB, abaixo:

*I - o condutor manterá acesos os faróis do veículo, utilizando luz baixa, durante a noite e **durante o dia nos túneis providos de iluminação pública e nas rodovias;***

B – Errado. Nas vias não iluminadas o condutor deve usar luz alta, **exceto ao cruzar com outro veículo ou ao segui-lo** (Art. 40, II).

C – Errado. O condutor manterá acesas **pelo menos as luzes de posição do veículo** quando sob chuva forte, neblina ou cerração (Art. 40, IV).

D – Errado. O condutor manterá acesas, **à noite, as luzes de posição** quando o veículo estiver parado para fins de embarque ou desembarque de passageiros e carga ou descarga de mercadorias (Art. 40, VII).

E – Certo. A resposta está no art. 40, inciso III:

Art. 40. O uso de luzes em veículo obedecerá às seguintes determinações:

*III - a troca de luz baixa e alta, de forma intermitente e por curto período de tempo, com o objetivo de advertir outros motoristas, só poderá ser utilizada **para indicar a intenção de ultrapassar o veículo que segue à frente** ou para indicar a existência de risco à segurança para os veículos que circulam no sentido contrário;*

Gabarito: E

69. [FGV – AGENTE DE TRÂNSITO E TRANSPORTE – PREF. SALVADOR/BA- 2019]

Sobre as normas gerais de circulação e conduta indicadas no Código de Trânsito Brasileiro, analise as afirmativas a seguir.

I. Todo condutor tem, antes de efetuar uma ultrapassagem, que se certificar de que nenhum condutor que venha atrás haja começado uma manobra para ultrapassá-lo.

II. Ao efetuar uma ultrapassagem, o condutor deve indicar, com antecedência, a manobra pretendida acionando a luz indicadora de direção do veículo ou por meio de gesto convencional de braço.

III. Todo condutor, ao perceber que o outro que o segue tem o propósito de ultrapassá-lo, deverá, qualquer que seja a faixa de circulação, manter-se nela, sem acelerar a marcha.

Está correto o que se afirma em:

(A) I, somente.

(B) II, somente.

(C) III, somente

(D) I e II, somente.

(E) I e III, somente.

Comentário:

As resposta estão destacada nos artigos 29 e 30 do CTB. Confira:

Art. 29. O trânsito de veículos nas vias terrestres abertas à circulação obedecerá às seguintes normas:

X - todo condutor deverá, antes de efetuar uma ultrapassagem, certificar-se de que:

a) **nenhum condutor que venha atrás haja começado uma manobra para ultrapassá-lo; (item I, ok)**

XI - todo condutor ao efetuar a ultrapassagem deverá:

a) **indicar com antecedência a manobra pretendida, acionando a luz indicadora de direção do veículo ou por meio de gesto convencional de braço; (Item II, ok)**

Art. 30. Todo condutor, ao perceber que outro que o segue tem o propósito de ultrapassá-lo, deverá:

I - **se estiver circulando pela faixa da esquerda, deslocar-se para a faixa da direita, sem acelerar a marcha; (Item III, errado)**

II - se estiver circulando pelas demais faixas, manter-se naquela na qual está circulando, sem acelerar a marcha.

Gabarito: D

70. [FGV – AGENTE DE TRÂNSITO E TRANSPORTE – PREF. SALVADOR/BA- 2019]

A figura a seguir apresenta um gesto usual empregado por agentes de trânsito:



Esse gesto indica ordem de

(A) diminuição de velocidade.

(B) parada de todos os veículos em todas as direções, qualquer que seja o sentido.

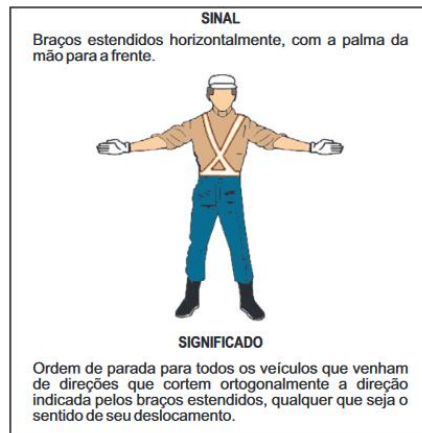
(C) parada para todos os veículos que venham de direções que cortem ortogonalmente a direção indicada pelos braços estendidos, qualquer que seja o sentido de seu deslocamento.

(D) parada para todos os veículos que venham na direção indicada pelos braços estendidos, qualquer que seja o sentido de seu deslocamento.

(E) parada para todos os veículos que venham de direções que cortem ortogonalmente a direção indicada pelos braços estendidos, apenas para os veículos cujo sentido o agente esteja observando

Comentário:

Para ilustrar e já responder, estabelece o Anexo II do CTB o seguinte:



Gabarito: C

6.3. GABARITO

51	52	53	55	56
C	B	D	A	D
57	58	65	66	67
B	A	C	A	B
68	69	70		
E	D	C		